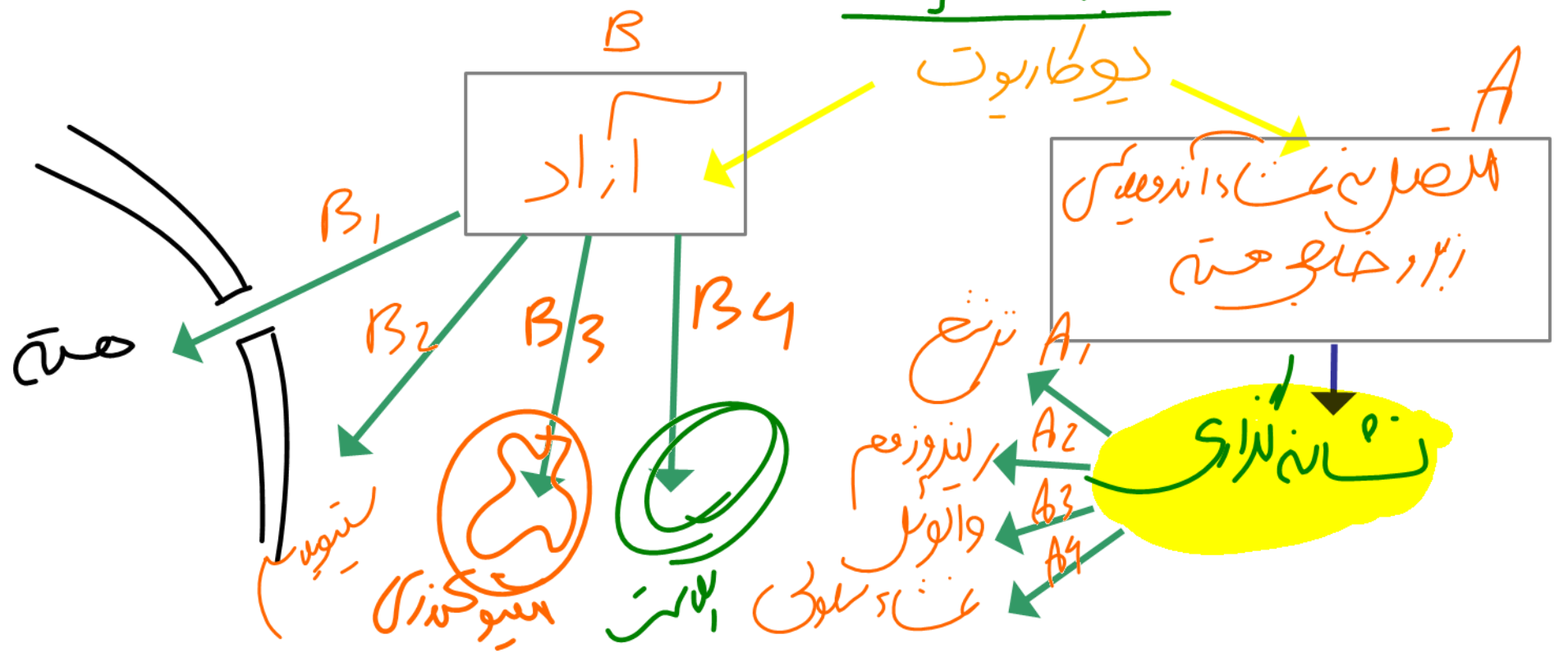
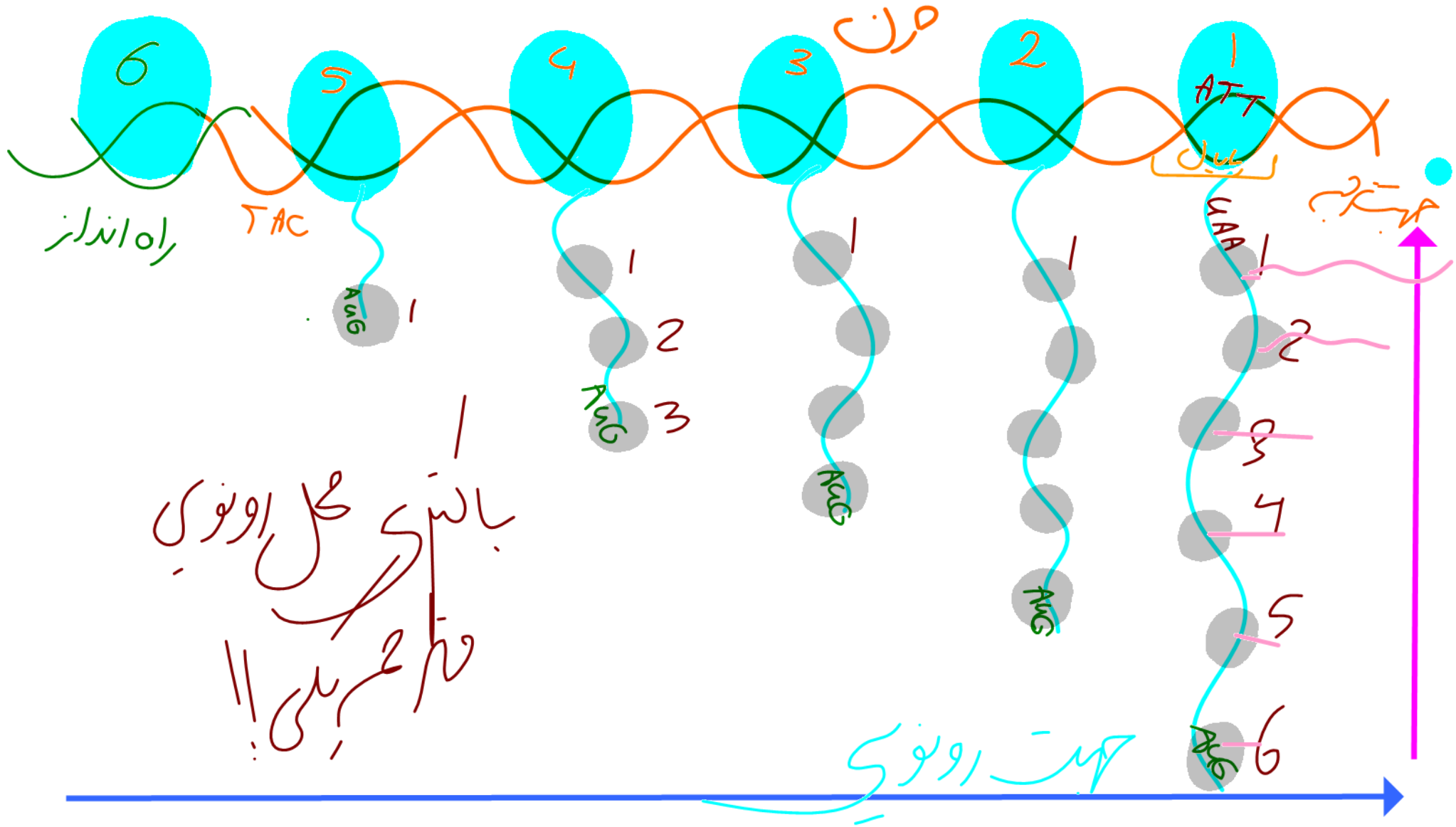


الفواص البيوزوم ← سانه رنوحد
 بائتری / بساته و متیونتری

← mRNA حاصل از DNA مقرب
 (معننه) / فینه / آجره کین

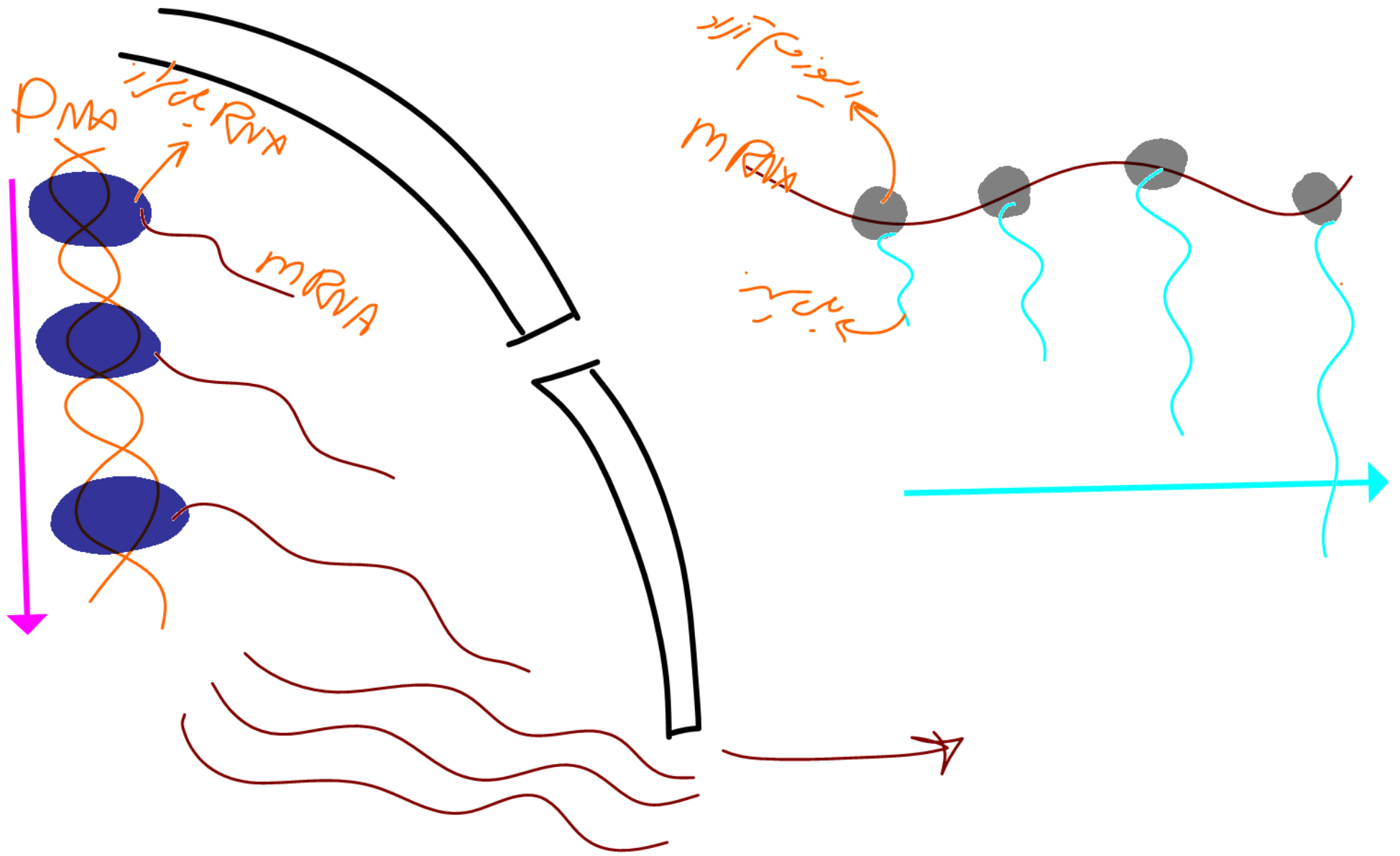
نزرک و کیره
 دیو طابوت

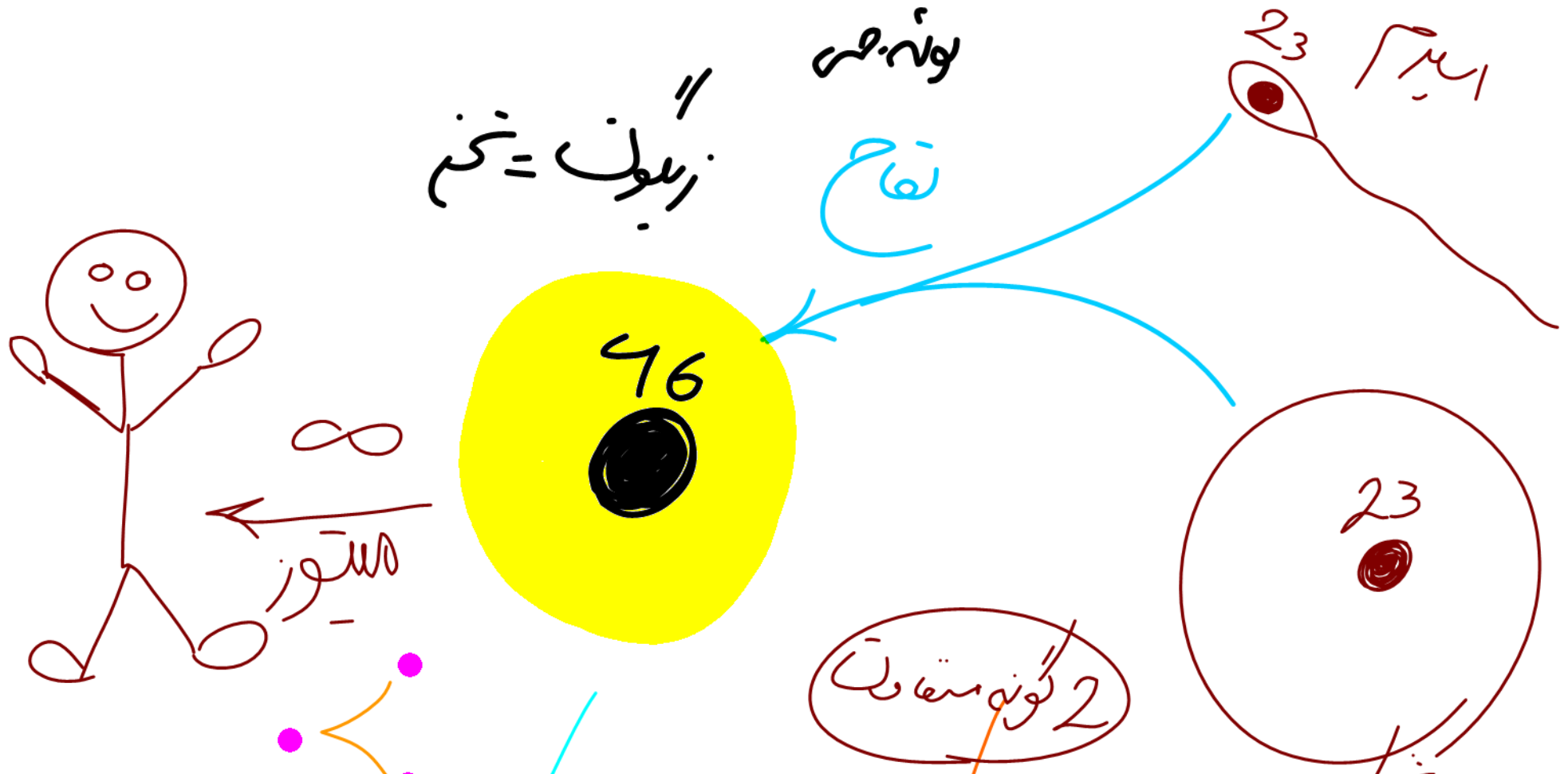




پایه‌های کل اونی
 قطر هسته‌ای!!

جهت رونویسی





نوع: هر

اسپرم 23

تخم

زایون = تخم

46

23

8

مستور

2 گونه متفاوت

کامل

تفاوت اسپرم یا تخم

$$2n=46$$

مختلاف زایون

با اسپرم

2 فرد در یک نوع

علت تفاوت سلول عصبی اسپرمن با سلول بوقشی؟

2 سلول در افراد

گرد / جنده بین

مغز برای جنس

۲۵ پروتئین

نمونه بین آن



1 ن،^ه

OFF



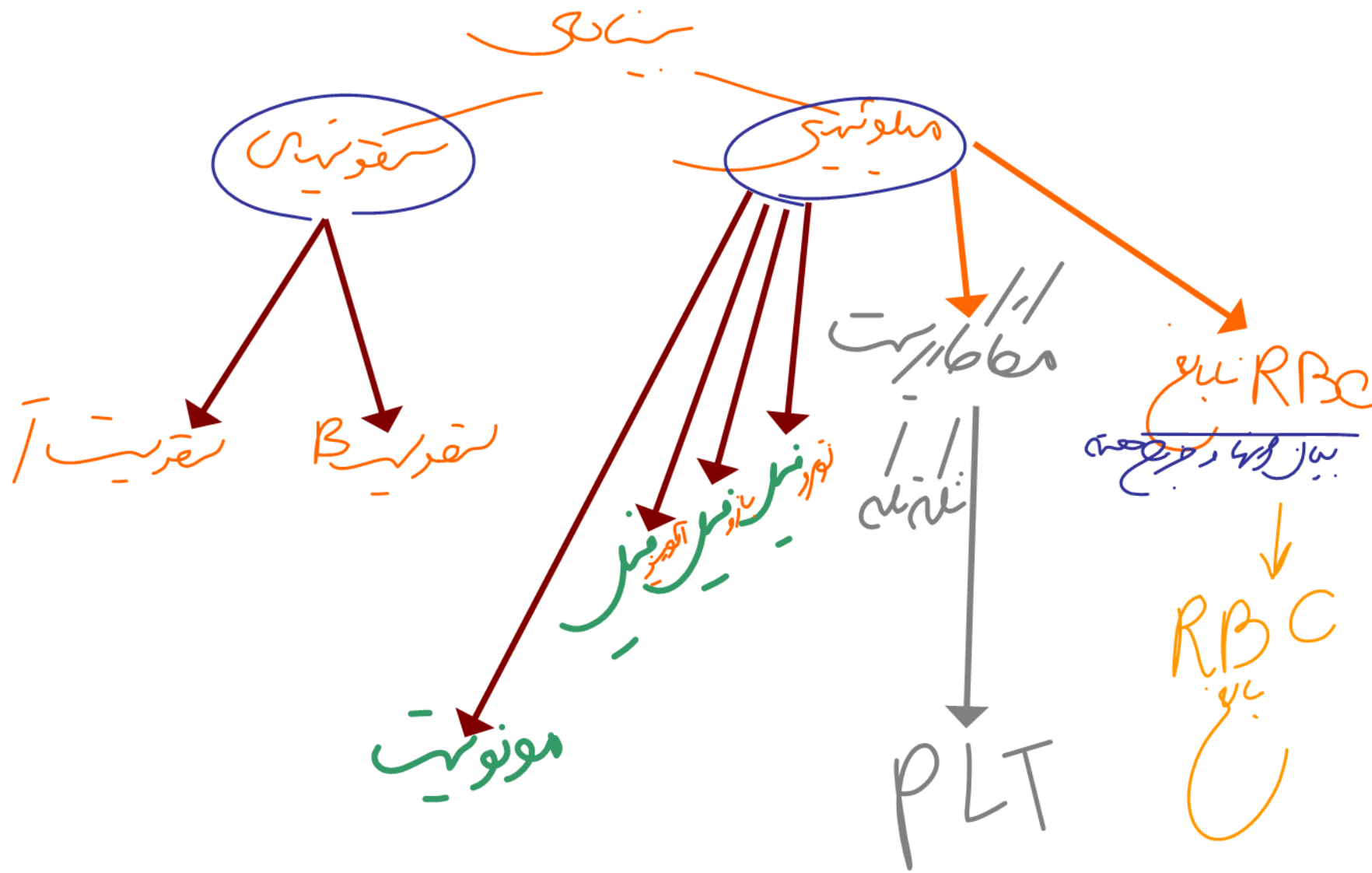
2 ن،^ه

اؤفوس



تۈۋرۈۋ

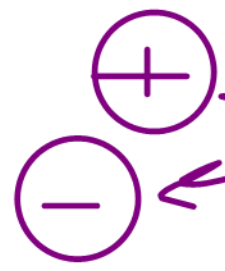




در رونویسی

mRNA تولید می کند

اغلب



عدد رونویسی

تغییر طول عمر mRNA

↑ پرو ← ↑
↓ پرو ← ↓

عدد ترجمه

تغییر طول عمر پرو

زمان تنظیم بیان
در پروتئین



در لنهه گلوکز و همنه گلیکولیز

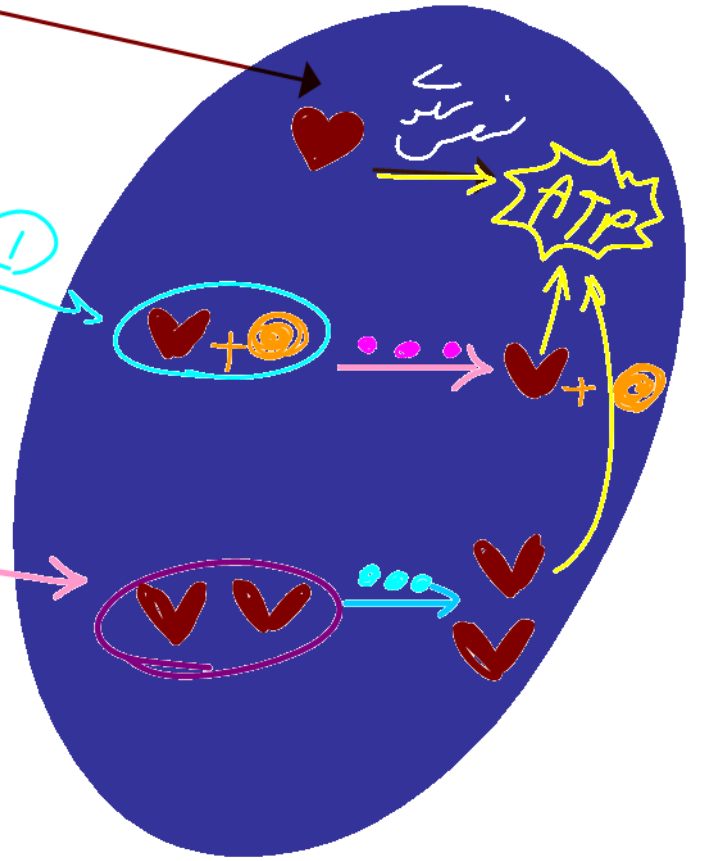
گلیکولیز ①
لاکتوز جذب مریه



مالتوز



2 برابر گلوکز و مالتوز /
در نهایت انرژی تولید می‌شود



E. coli

اَلتَّوْرُ



كَلَامُ التَّوْرِ + تَوْرٍ

اَلتَّوْرُ
اَلتَّوْرُ
اَلتَّوْرُ
اَلتَّوْرُ

مِائَتُوْر



كَلَامُ التَّوْرِ + تَوْرٍ

اَلتَّوْرُ
اَلتَّوْرُ
اَلتَّوْرُ

توانی سنتزی



1
ژن مسکاتاز

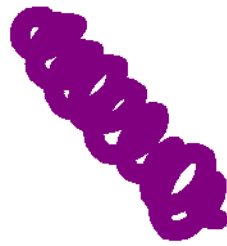
2
ژن مسکاتاز

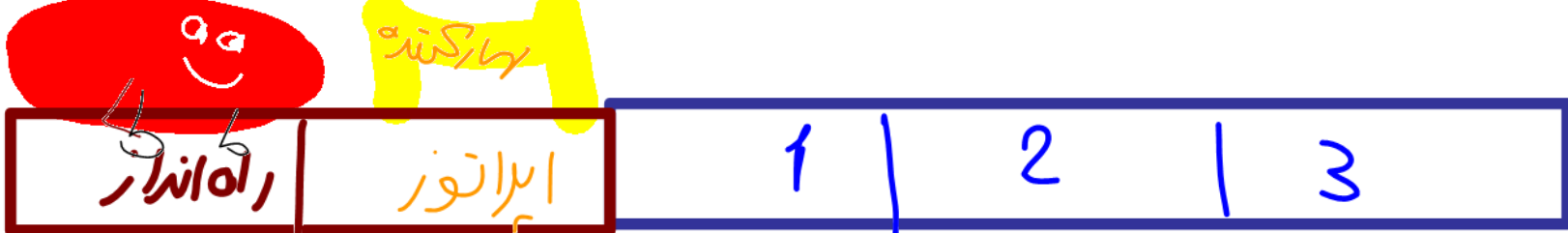
3
ژن مانزاتاز

mRNA سنتزی



3 پلی پپتید






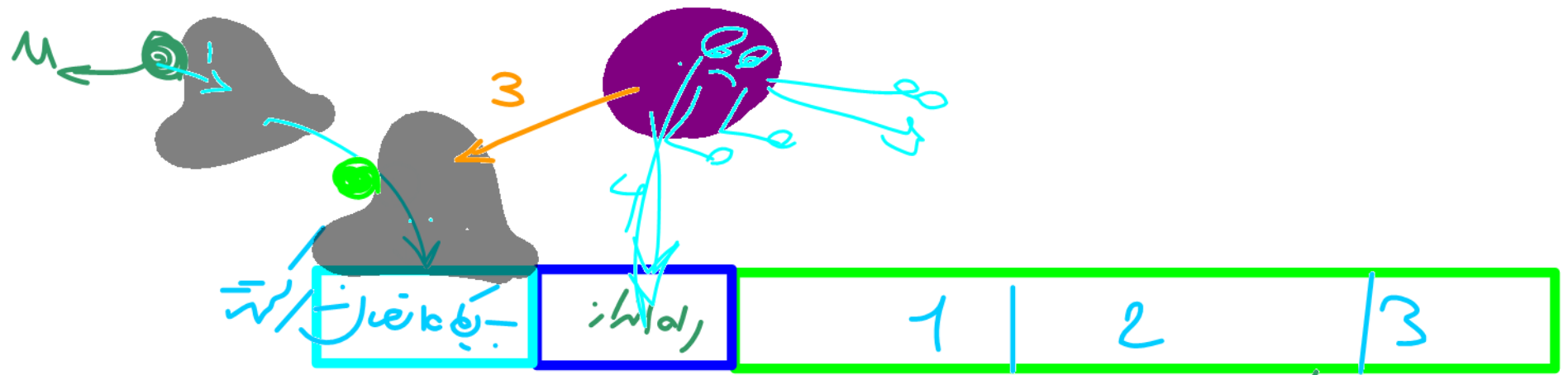
مانع - حملو راه انداز - مبارکتده ←



لا توفز



هول ندیم - پست - راه انداز - فعال کنده = (+) میان توفز



1- تغییر سلول‌دستی ← مالتوز + فاکتور 21 ← 21

2- تغییر گلیکونوسولوریز DNA + پروتئین + مالتوز ← 24

3- پروتئین در گلیکونوسولوریز

فصل ۲ (جریان اطلاعات دریاخت)

کفتار ۱: رونومسی

کفتار ۲: به سوی پروتین

کفتار ۳: تنظیم بیان ژن

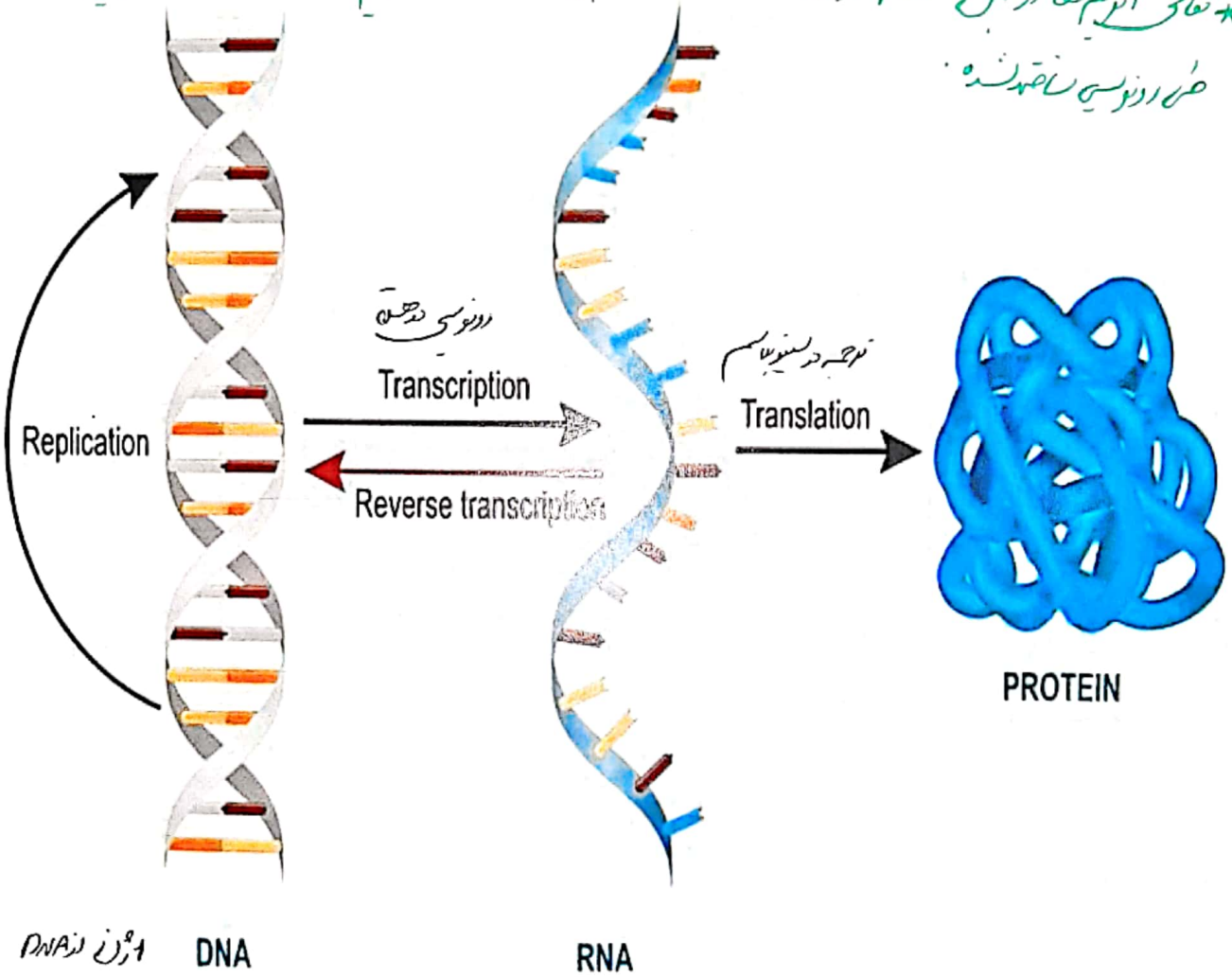
مولف: دکتر زهراسادات پایلونی

* دوقه قرمز الخوان از تقسیم سلولهای مینوید (تحت تاثیر اندروینوس ترشح شده از سوراخ دیواره دیواره دیواره) حصول قشر نایب تولید
 ویریه که حفره در با استخوان در لخته دیواره حفره خود پروتئینها خود نیاز خود را بیان میکنند (Hb - اندروینوس
 اینها در RBC و ABO و RH در مواد لازم) و RBC شکل خود را (توسط دیواره فروری) بدانه و در

Transcription and Translation

حفره از خارج
 می شود و دیواره نایب در می آید

* تمامی اینها در جن پروتئین rRNA (ساخته شده در اندروینوس rRNA توسط پروتئین (rRNA می خواند)
 در اندروینوس ساخته شده



VectorStock

VectorStock.com/21211393

مؤلف: دکتر زحر اسادات هایونی

فصل ۲ دوازدهم

گفتار: رونویسی

نوع بیماری ارثی است

ارتباط بین ژن و بیماری ارثی است
بیماری کم خونی داسی شکل:

ژن در DNA

علت بیماری: نوعی تغییر ژنی که باعث می‌شود پروتئین هموگلوبین حاصل از آن دچار تغییر شود

شود که نتیجه آن تغییر شکل RBC از حالت گرد به داسی شکل است. شکل RBC های از Hb

بسیار تغییر ژنی: جزئی است و در آن تنها یک جفت نوکلئوتید در DNA تغییر می‌کند (جهش)

شماره ۲۲

باعث نشان دادن رابطه DNA و پروتئین می‌شود: (نشان) در واقع دستورهایی موجود در DNA هسته به صورت pro درآمده و آن proها تمام دستورات

DNA رو انجام می‌دهند. در واقع دستورهایی موجود در DNA هسته به صورت pro درآمده و آن proها تمام دستورات

سؤال مهم: مگه همه سلول‌های بدن حاصل از میتوز زیگوت اولیه نیستند؟ پس باید همگی مشابه

یکدیگر باشند (بر اساس اصل میتوز) پس چرا یکی مثل RBC یکی مانند سلول‌های پوششی؟ به دلیل بیان ژن

تفاوت در سلول‌های بدن

تفاوت در سلول‌های بدن

تفاوت در سلول‌های بدن

تفاوت در سلول‌های بدن

تفاوت در سلول‌های بدن

تفاوت در سلول‌های بدن

تفاوت در سلول‌های بدن

تفاوت در سلول‌های بدن

تفاوت در سلول‌های بدن

تفاوت در سلول‌های بدن

تفاوت در سلول‌های بدن

تفاوت در سلول‌های بدن

تفاوت در سلول‌های بدن

تفاوت در سلول‌های بدن

تفاوت در سلول‌های بدن

تفاوت در سلول‌های بدن

تفاوت در سلول‌های بدن

تفاوت در سلول‌های بدن

تفاوت در سلول‌های بدن

تفاوت در سلول‌های بدن

تفاوت در سلول‌های بدن

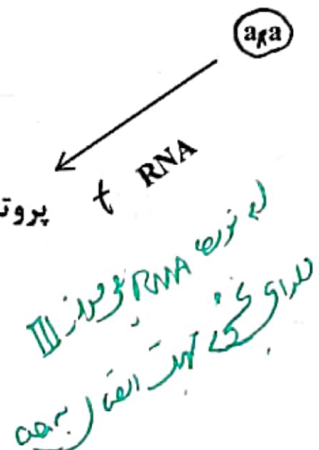
تفاوت در سلول‌های بدن

DNA نسخه‌های مختلف می‌سازد

سؤال پیش آمد که یکی باید باشد که اطلاعات را از DNA هسته به ریبوزوم سیتوپلاسم برسوند و این وظیفه رو نوعی RNA به عهده می‌گیرد. زیرا RNA هم در هسته و هم در سیتوپلاسم است.

RNA در هسته تولید می‌شود ولی عمدتاً فعالیت آن در سیتوپلاسم است

mRNA
نوع RNA در سیتوپلاسم به عهده از راه مقصدش



حامل انرژی RNA یونیداز I دارای خاصیت آنزیمی (فسفرلنده) ایجاد می‌کنند

هر توالی 3 تایی از نوکلئوتیدها بیانگر یک آمینو اسید aa به همین ترتیب از روی توالی از DNA، پلی پپتید ساخته می‌شود.

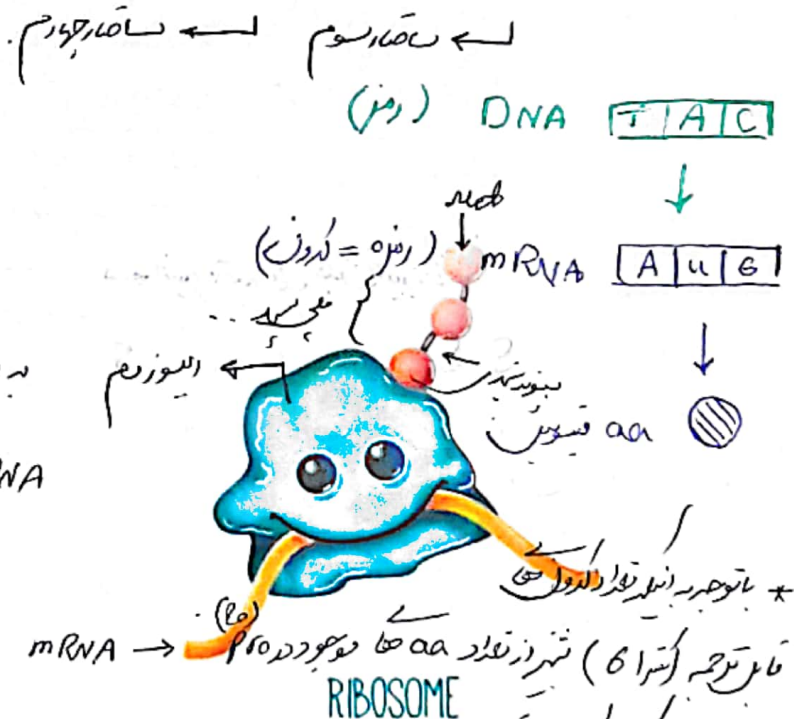
گاهی 1 پلی پپتید و گاهی چند پلی پپتید تشکیل دهنده یک پرو.

4 نوع نوکلئوتید

$$4 \times 4 \times 4 = 64$$

توالی 3 تایی نوکلئوتید

به برای هر نوع نوکلئوتید موجود در پرو، یک ژن در DNA وجود دارد.



$$4 \rightarrow 64$$

$$4 \rightarrow 64$$

$$4 \rightarrow 61$$

مولف: دکتر مراد سادات پایانی

$$4 \rightarrow 20$$

دنا از ۴ نوع نوکلئوتید تشکیل شده است که تفاوت آن‌ها در بازهای آلی است. ← G, C, T, A
 توالی ۳ تایی از نوکلئوتیدها بیانگر نوعی آمینو اسید (۲۰ نوع آمینو اسید) است. ← رمز (DNA)
 با ۴ نوع نوکلئوتید ۶۴ توالی ۳ نوکلئوتیدی مختلف ایجاد می‌شود.

به هر یک از این توالی‌های سه تایی (سه نوکلئوتیدی) در دنا رمز می‌گویند.
 رونویسی ← به ساخته شدن مولکول رنا از روی بخشی از یک رشته دنا می‌گویند.

رنا نقش مولکول میانجی را دارد که اطلاعات دنا را باری ساخت پلی پپتید به رانان در سیتوپلاسم انتقال می‌دهد. ← عبور از پوشش روکش هسته → توسط منفذ

اساس رونویسی شبیه همانندسازی است (با توجه به نوکلئوتیدهای رشته دنا، نوکلئوتیدهای مکمل در زنجیره رنا قرار می‌گیرند و به هم متصل می‌شوند).
 برخلاف همانندسازی که در هر چرخه یاخته‌ای یک بار انجام می‌شود، رونویسی یک ژن می‌تواند در هر چرخه بارها انجام شود. ← یک دستور العمل

نوکلئوتید پوراسیل دار رنا به عنوان مکمل در برابر نوکلئوتید آدنین دار دنا قرار می‌گیرد. (تساوی دنا با رنا)
 ریبوزوم به صورت کامل و فعال در هسته وجود ندارد ولی درون میتوکندری، پلاست ها، روی شبکه آندوپلاسمی و ماده زمینه‌ای سیتوپلاسم وجود دارند و پروتئین‌سازی می‌کنند.

رونویسی برخلاف همانندسازی، فرایندی یک جهت و فاقد دوراهی می‌باشد. ← صرفاً یک طرفه
 به از راه انزیم‌ها، پپتیدازها، ریبوزوم‌ها، آمینو اسیدها، پروتئین‌ها.

* در واقع ما ۶۴ نوع دستور برای aaها داریم و با توجه به اینکه aa ۲۰ ضروری داریم می‌توان فهمید گاهی هر aa چندین دستور دارد. ← معجزه و شگفتی بی‌امثال
 آنزیم‌های مورد نیاز جهت رونویسی ← توسط رنا ساخته می‌شوند.
 (تحت عنوان کلی رنا سپاراز)

↓
 محو کننده (RNase) (تولید کننده RNase)
 یوکاریوت ← رنا سپاراز ۲ ← سنتز رنا بیک (mRNA) + SRNA (تولید کننده رنا)
 باکتری و پلانودا → رنا سپاراز ۳ ← سنتز رنا ناقل (tRNA)


در سیتوپلاسم پروکاریوت‌ها انجام می‌شود.
 محل فرایند رونویسی درون میتوکندری و کلروپلاست صورت می‌گیرد.

در هسته یوکاریوت‌ها انجام می‌شود.
 رنا I، رنا II، رنا III، rRNA، mRNA و tRNA در سیتوپلاسم توسط ریبوزوم تولید می‌شوند.

در سیتوپلاسم یوکاریوت‌ها انجام می‌شود.
 rRNA، mRNA و tRNA در سیتوپلاسم توسط ریبوزوم تولید می‌شوند.

در رابطه با رونویسی بدانیس
 خواننده لطفاً به این
 U در RNA: همگام
 T در DNA: همگام

این ریبوزوم‌ها در سیتوپلاسم و میتوکندری تولید می‌شوند.



1- RNA پویمر ...
 2- ...
 3- ...

فرایند رونویسی ...
 مراحل رونویسی ...
 (فرایندی پیوسته)

این فرایند در ...
 RNA پویمر ...
 (DNA) ...

نویسنده ...
 ...
 ...

مرحله آغاز ...
 ...
 ...

مرحله پایان ...
 ...
 ...

فقط در مرحله آغاز ...
 در هر سه مرحله ...
 رابسه‌آزاد برخلاف ...

1- رابسه‌آزاد توالی‌های نوکلئوتیدی ویژه‌ای در دنا به نام راانداز را برای رونویسی ژن از محل صحیح خود شناسایی می‌کند ...
 2- راه‌انداز موجب می‌شود رابسه‌آزاد اولین نوکلئوتید مناسب را به طور دقیق پیدا و تولید رنا را از آنجا آغاز کند.
 3- RNA پلیمراز (رابسه‌آزاد)، بخش کوچکی از مولکول دنا را باز می‌کند ...
 4- نوکلئوتیدهای سه فسفات با قند ریبوز روی رشته الگوی دنا قرار می‌گیرند.
 5- دو فسفات نوکلئوتید جدید با شکستن پیوند اشتراکی جدا می‌شود و سپس به نوکلئوتید قدیم یا پیوند فسفودی‌استر متصل می‌شود.
 6- زنجیره کوتاهی از رنا در این مرحله ساخته می‌شود.
 7- در این مرحله، پیوند هیدروژنی بین دو رشته دنا شکسته و بین رنا و دنا تشکیل می‌شود.
 8- در این مرحله، پیوند اشتراکی بین فسفات‌های هر نوکلئوتید شکسته می‌شود.
 9- در این مرحله، تعداد کمی پیوند فسفودی‌استر بین نوکلئوتیدهای ریبوزدار متصل می‌شود.

1- رنا بسپاراز ساخت رنا را ادامه می‌دهد.
 2- دو رشته دنا در جلوی آن باز و RNA سازی ادامه می‌یابد و در چندین نوکلئوتید عقب‌تر، رنا در حال تولید از دنا جدا می‌شود.
 3- دو رشته دنا مجدداً به هم می‌پیوندند.
 4- در این مرحله پیوند هیدروژنی بین رنا و دنا، هم تشکیل و هم شکسته می‌شود.
 5- بیشترین پیوند فسفودی‌استر رنا در این مرحله تشکیل می‌شود.
 6- در دنا توالی‌های ویژه‌ای به نام پایان رونویسی وجود دارد که موجب پایان رونویسی توسط آنزیم رابسه‌آزاد می‌شود.
 7- توالی پایان نیز توسط رابسه‌آزاد رونویسی می‌شود.
 8- رنا تولید شده ابتدا از دنا و رابسه‌آزاد جدا می‌شود.
 9- آنزیم از مولکول دنا جدا می‌شود.
 10- دو رشته دنا با پیوند هیدروژنی به هم متصل می‌شوند.
 همانند مرحله قبل پیوندهای هیدروژنی بین رنا و دنا هم تولید و هم تخریب می‌شوند.
 فقط در مرحله آغاز، پیوند هیدروژنی بین رنا و دنا تجزیه نمی‌شود.
 در هر سه مرحله، شکستن پیوند اشتراکی بین فسفات‌های هر نوکلئوتید و تشکیل پیوند هیدروژنی و فسفودی‌استر صورت می‌گیرد.
 رابسه‌آزاد برخلاف دنباسپاراز، قدرت ویرایش و تجزیه پیوند فسفودی‌استر ندارد.

فرایند رونویسی ...
 ...
 ...

اجزای چهارگانه سلولهای زی → سکه پاز (2) ↑ اندازه مهاراد * فیلیند سلولهای زی رونویسی و فیلیند های شری بوده

رونویسی ← RNA مولد در اندازه ثابت و دیگر

سکه پاز فاصله نسبی محل قرار سوند

رشته الگوی رونویسی

جهت رونویسی

رنا باسپاراز رشته الگو

در حال رونویسی

در جهت رونویسی

در جهت رونویسی

در جهت رونویسی

انواع	شکل	آغاز
DNA سلول → H ✓	سیس دورشته DNA → X H	سیس دورشته DNA → X H
RNA و DNA → X H	سیس دورشته DNA و RNA → ✓ H	سیس دورشته RNA و DNA → ✓ H
گوناگون سیس سیس اندام	F ✓ (زیاد)	F ✓ (کم)
F اندام	گوناگون سیس سیس اندام X	گوناگون سیس سیس اندام X

* چهارگانه سلولهای زی :

- از جمله → سکه پاز H سیس دورشته DNA (نوع RNA مولد)
- از میان → اجزای H سیس دورشته DNA (نوع سلول)
- در میان → سکه پاز H سیس دورشته DNA و RNA

حیطه آغاز سلولهای زی → DNA مولد

حیطه پایان سلولهای زی → DNA مولد

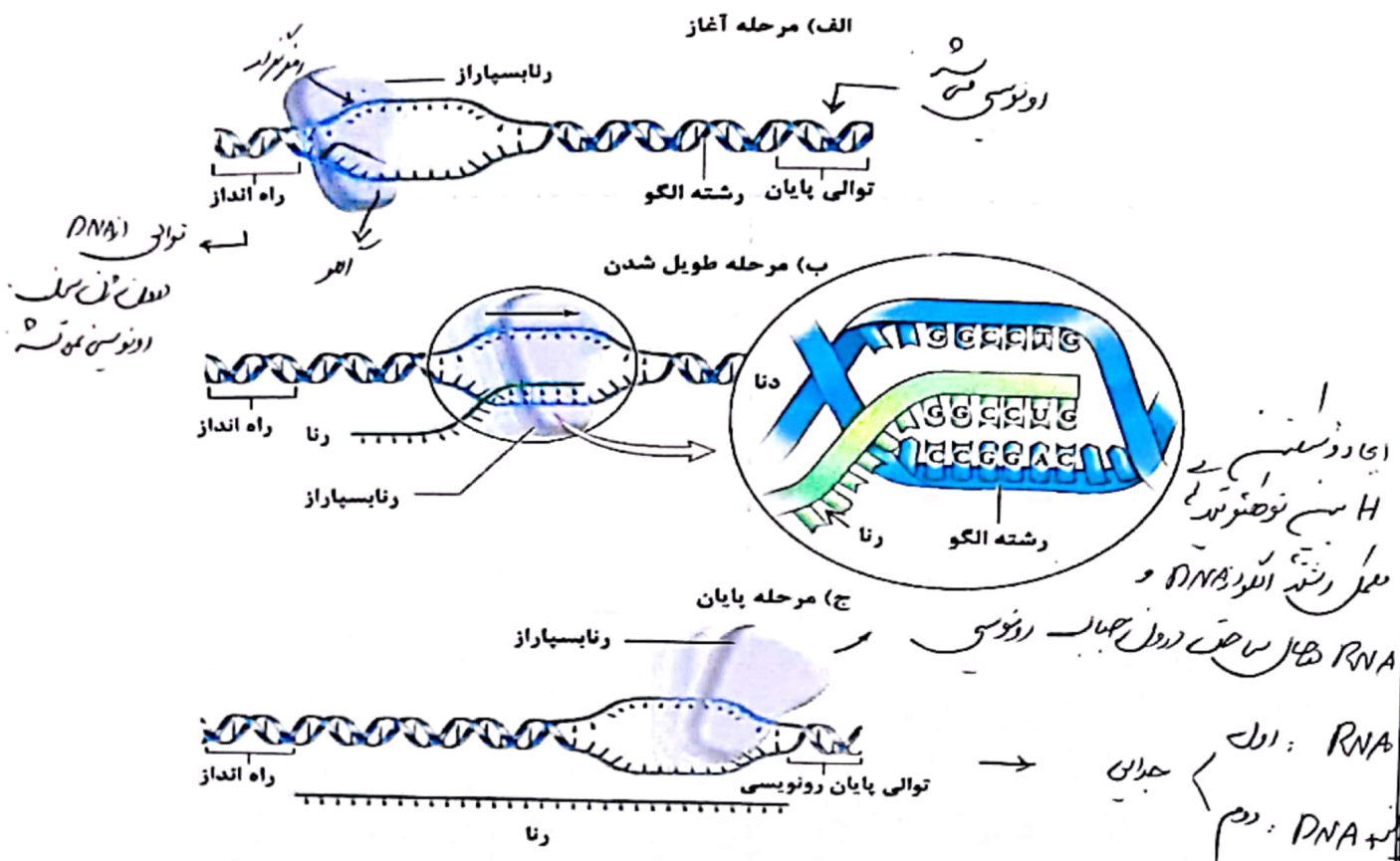
راه انداز → DNA قبل از (در رشته زی - رونویسی) در صورت

حیطه آغاز رونویسی → DNA مولد (در رشته زی) در صورت

حیطه پایان رونویسی → DNA مولد (توانی) رونویسی در جهت مولد: دیگر تراکها سادات پایانی

از جهت → RNA مولد

از جهت → DNA (توانی) رونویسی در جهت



نکات شکل حساب رونویسی

انواع پیریمیدین ۳ (Pro, RNA, DNA)

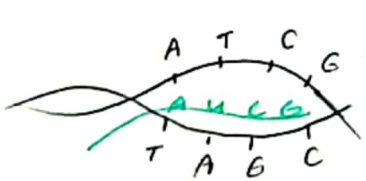
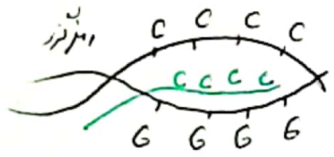
انواع نوکلئوسید ۲۸ (۲۱ ریبونوکلئوسید + ۴ دیسینوکلئوسید + ۳ آسینوکلئوسید)

حداقل انواع بازهای ۲ (G, C)

نوکلئوسید ۳ (C, G, C)

حداکثر انواع بازهای ۵ (U, T, A, G, C)

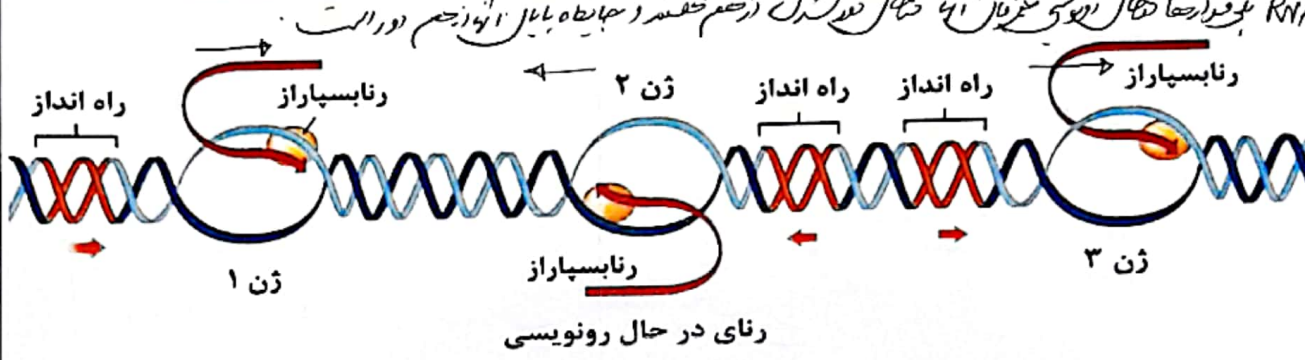
حداکثر انواع نوکلئوسید ۸ (A, U, C, G, A, T, C, G)



* مسیر راه انداز و جدا کننده آغاز رونویسی ضد نوکلئوسید هستند.
 با حاصله یوز راه انداز و جدا کننده ای در هسته و با حاصله RNA ای در خارج هسته.
 از آنم نوکلئوسید حاصله در خارج هسته رونویسی، رونویسی غیر هسته.

نویسه‌های مختلف هر دو RNA پیوند H را در ترکیب خود

- ۱- رشته دنا که مکمل رنای رونویسی شده است را رشته الگو می‌گویند.
 - در یک مولکول دنا رشته مورد رونویسی یک زن، ممکن است با رشته مورد رونویسی زن‌های دیگر یکسان یا متفاوت باشد.
 - ۲- به رشته مکمل رشته الگو در مولکول دنا، رشته رمزگذار گفته می‌شود.
 - توالی نوکلئوتیدی آن شبیه رشته رنایی است که از روی رشته الگوی آن ساخته می‌شود.
 - تفاوتی با رنا در نوکلئوتیدهای آن از نظر قند دارد ولی در مورد باز آلی، فقط به جای نوکلئوتید تیمین در دنا، نوکلئوتید یوراسیل در رنا قرار دارد.
- دو نوع رشته دنا در هر زن در زمان رونویسی
- توالی بیان ژنیک هر کدام هم ترجمه می‌شود
- RNA پویمازها ۱۵ سال رونویسی می‌شوند ۱۴ سال در بدن زخم حفره در جبهه پایله از جسم دور است
- در یک مولکول دنا، زن‌هایی که رشته الگوی یکسانی دارند، جهت رونویسی یکسانی هم دارند (مثل زن ۱ و ۳). RNA پویمازها ۱۵ سال رونویسی می‌شوند ۱۴ سال در بدن زخم حفره در جبهه پایله از جسم دور است
 - اگر بین دو زن، راه‌اندازی وجود نداشته باشد (مثل زن ۱ و ۲) ← جهت رونویسی آن‌ها متفاوت است ← رشته الگوی متفاوت دارند.
 - اگر بین دو زن، دو راه‌انداز وجود داشته باشد (مثل زن ۲ و ۳) ← جهت رونویسی آن‌ها متفاوت است ← رشته الگوی متفاوت دارند.
 - اگر بین دو زن، یک راه‌انداز وجود داشته باشد ← جهت رونویسی یکسانی دارند ← رشته الگوی یکسانی نیز دارند.



* تفاوت‌های همانندسازی و رونویسی:

رونویسی (۱) (الگو) (نخستی)	همانندسازی (۲) (نهم)
۱ RNA	۲ DNA
RNA	DNA
ریبونوکلئوتید	دئوکسی ریبونوکلئوتید
یک جهتی	دوجتهی
بخشی از مولکول (زن)	کل مولکول
u	T
RNA پلی‌مراز	DNA پلی‌مراز - هلیکاز
چند بار	۱ بار 10^8

مؤلف: دکتر مرزا سادات پایونی

تکات مربوط به حساب رنوویسی

حساب رنوویسی

حساب پرتو شماری ↑ اندازه مرده

دما و دقت

حساب جریان غمگین

دور شده DNA مجدد با هم پیوند H غمگین

سختی H به عمده خطی

از نظر حساب

PNA پوزیو داشته پوزیو شماری

فعالیت " هم همراه با تولید آب هم همراه

تفاوت حساب رنوویسی و حساب رنوویسی

رنوویسی

حساب پرتو شماری اندازه ثابت و درجه بیان

تجزیه و تحلیل

حساب جفت مرده

دور شده PNA مجدد پیوند برقرار

" به همراه RNA پوزیو

" از نظر صرف و صرف و صرف و صرف H

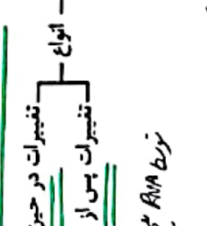
RNA پوزیو 3 رشته در برگیرنده

" هم همراه با تولید آب

شکلها رنوویسی و حساب رنوویسی

- ✓ عدد و دمای بیشتر هستند ✓ ترمیم همگام ۲۱۵ درجه و تولید آب
- ✓ با ۵ H بیشتر هستند ✓ فعالیت آزاد دمای بیشتر هستند (ازاد رنوویسی)

در یوکاریوتها، رنا ساخته شده در هسته با رنا فعال سیتوپلاسمی آن، تفاوت‌هایی دارد.



mRNA

تغییرات در حین رونویسی
تغییرات پس از رونویسی

mRNA

تغییرات رنا بیک
تغییرات رنا بیک

mRNA

تغییرات رنا بیک
تغییرات رنا بیک

در بعضی ژن‌ها مشاهده می‌شود که RNA یک سیتوپلاسمی از نمونه هسته‌ای آن کوتاه‌تر است.

در حقیقت برخی قسمت‌های رونویسی شده، در هسته طی فرآیندی به نام پیرایش حذف می‌شوند.

محققین با مجاور قرار دادن قطعه‌های mRNA با رشته‌های رنا بیک

رنا بیک اولیه رونویسی شده هسته با رشته‌های رنا بیک ثانویه رونویسی شده در سیتوپلاسم آن‌ها وجود دارد تفاوت‌هایی دارد.

رنا بیک ثانویه رونویسی شده در سیتوپلاسم آن‌ها وجود دارد تفاوت‌هایی دارد.

رنا بیک ثانویه رونویسی شده در سیتوپلاسم آن‌ها وجود دارد تفاوت‌هایی دارد.

اینترون (میان) - بخشی از ژن در مولکول دنا که رونویسی آن در رنا بیک سیتوپلاسمی حذف شده است.

اگزون (میان) - سایر بخش‌های ژن مولکول دنا که رونویسی آن‌ها حذف نمی‌شوند.

رنا بیک ثانویه رونویسی شده در سیتوپلاسم آن‌ها وجود دارد تفاوت‌هایی دارد.

رنا بیک ثانویه رونویسی شده در سیتوپلاسم آن‌ها وجود دارد تفاوت‌هایی دارد.

رنا بیک ثانویه رونویسی شده در سیتوپلاسم آن‌ها وجود دارد تفاوت‌هایی دارد.

رنا بیک ثانویه رونویسی شده در سیتوپلاسم آن‌ها وجود دارد تفاوت‌هایی دارد.

برای حذف هر رونویسی اینترون، دو پیوند فسفودی‌استر در رنا بیک اولیه شکسته می‌شود و بقیه بین رونویسی‌های اگزون مجاور ایجاد می‌شود.




اینترون‌ها و اگزون‌ها توالی‌هایی از یک ژن با اندازه‌های متفاوت می‌باشند.

تمام نوکلئوتیدهای رشته اگزون و اگزون رونویسی می‌شوند ولی سپس، تمام بخش‌های رونویسی‌های اگزون با پیرایش حذف می‌شوند.

عمل پروتئین‌سازی از روی بخش‌هایی از اگزون‌های باقی‌مانده در رنا بیک بالغ صورت می‌گیرد.

تعداد میان‌هم‌بندی‌ها در سیتوپلاسم.

تعداد میان‌هم‌بندی‌ها در سیتوپلاسم.



تعداد میان‌هم‌بندی‌ها در سیتوپلاسم.

تعداد میان‌هم‌بندی‌ها در سیتوپلاسم.

تعداد میان‌هم‌بندی‌ها در سیتوپلاسم.

تعداد میان‌هم‌بندی‌ها در سیتوپلاسم.

تعداد میان‌هم‌بندی‌ها در سیتوپلاسم.

تعداد میان‌هم‌بندی‌ها در سیتوپلاسم.

← سبب پدید آمدن ریزش آنتروم و نوزاد مجاور □ - □

- برای حذف هر رونوشت اینترون، دو پیوند فسفودی استر در رنای پیک اولیه شکسته می شود و یکی بین رونویسی رونوشت آنتروم مجاور برقرار می شود. سبب پدید آمدن ریزش آنتروم
- اینترون ها و آگزون ها، توالی هایی از یک ژن با اندازه های متفاوت می باشند.
- تمام نوکلئوتیدهای رشته الگوی اینترون و آگزون، رونویسی می شوند ولی سپس، تمام بخش های رونوشت اینترون حذف شده و به سبب باقیمانده آن رونوشت برقرار می شود.
- عمل پروتئین سازی از روی بخش هایی از آگزون های باقی مانده در رنای پیک بالغ صورت می گیرد.

* در واقع کدون ها، توالی 3 نوسوتندی در رونوشت آنتروم است. (رمز 3 نوسوتندی آنتروم)

- میزان رونویسی از یک ژن به مقدار نیاز یاخته به فراورده های حاصل آن بستگی دارد.

- مثال: ژن های سازنده رنای رناتنی در یاخته های تازه تقسیم شده بسیار فعال اند ← این

یاخته ها باید rRNA زیادی بسازند. rRNA نوع RNA مهم در سازندگی سلول است. RNA Pro نوع RNA مهم در سازندگی سلول است.

- ساخته شدن همزمان چندین رتا از روی ژن باعث می شود که در زیر میکروسکوپ

الکترونی، اندازه رناها از اندازه کوتاه به بلند دیده شود. رناها کوتاه به بلند دیده شود.

- در رونویسی همزمان تعداد زیادی از یک نوع رنا از یک ژن، رناهایی که اندازه بلندتری

دارند به توالی پایان نزدیک ترند. رناها کوتاه تر در پایان ژن دیده شود !! (راه اندازه کردن رناها با میکروسکوپ)

- جهت رونویسی در تمام رناها از RNA کوتاه به بلند است.

- در تمام رناها → رنا کوتاه به بلند دیده شود + رنا کوتاه به بلند دیده شود + رنا کوتاه به بلند دیده شود

نکته

در تمام رناها → 4 نوع نوکلئوتید DNA
4 نوع نوکلئوتید RNA
4 نوع نوکلئوتید Pro

توجه داشته باشید که در بیماری کم خونی داسی شکل تغییر در ظاهر یاخته های فاقد هسته بدن به وجود می آید.

RBC
← 199 سلولهای خون
← نوکلئوتیدها

نوکلئوتیدها
← RBC

مؤلف: دکتر زهراسادات بیانی

نکته

افراد مبتلا به کم خونی داسی شکل در یک جفت نوکلئوتید که متعلق به ژن هموگلوبین می باشد با افراد سالم دارای تفاوت اند.

SS (خاص مغز) ← aa ششم ژن ژن B

← به جای aa طویل اسید، واسن دارد! ← تعداد در صفا، اول P10 با علت ایجاد تفاوت در صفا، 2 و 3 و 4
شده ← تعداد در صفا، P10 ← تفاوت در صفا، سول
RBC Hb

نکته

در بدن یک فرد سالم ژن سازنده هموگلوبین فقط در گویچه های قرمز که جزء یاخته های فاقد هسته

بدن هست بیان شده است. ← دارای ژن در جهت تولید Hb

← و ژن Hb در تمام سلولها وجود دارد و در بیان نمی شود.
مطرح در دوران جنین می شود.

↓
قبل از درخت دانه
ژن Hb بیان می شود

RBC بعد از تولید در مغز استخوان حاوی ژنهای در بیان می کند و بعد خارج می شود !!

نکته

در بیماری کم خونی داسی شکل، به دلیل تغییر ژنی بسیار جزئی که سبب تفاوت فرد بیمار با فرد سالم در یک جفت نوکلئوتید می شود، پروتئین هموگلوبین دچار تغییر می شود و در پاسخ به آن گویچه های

قرمز از حالت گرد به داسی شکل تغییر می یابند.

← سطح سول RBC نسبت به P10 مطابقت دارد.

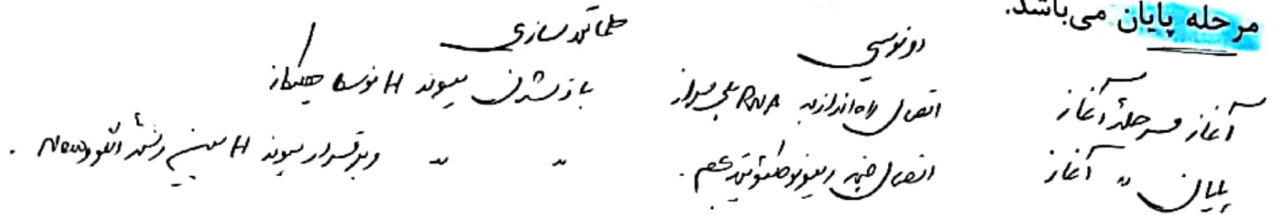
نکته

در مولکول دنا 4 نوع نوکلئوتید وجود دارد که تفاوتشان در نوع بازهای آلی آن هاست و این 4 نوع نوکلئوتید می تواند در قالب توالی های 3 نوکلئوتیدی، 64 حالت ایجاد کند که این حالتها می توانند رمز ساخت پلی پپتیدهایی با 20 نوع آمینواسید را داشته باشند.

↑
در بخش های انزیم !!

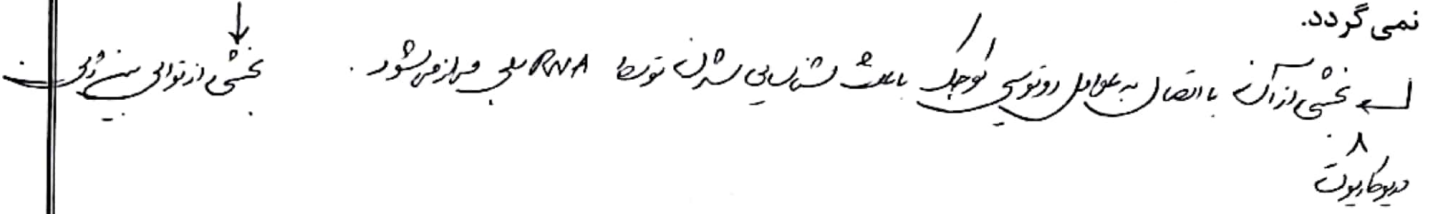
نکته

جدا شدن دو رشته دنا در محل توالی پایان رونویسی و بسته شدن این رشته‌ها در این محل، مربوط به مرحله پایان می‌باشد.



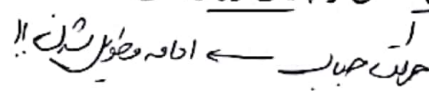
نکته

راه انداز برخلاف توالی پایان دو رشته‌اش از هم جدا نشده، رونویسی نمی‌شود و جزء ژن محسوب نمی‌گردد.



نکته

تشکیل حباب رونویسی مربوط به مرحله آغاز و بسته شدن دو رشته دنا که قبلاً باز شده بودند، مربوط به مرحله طویل شدن و پایان رونویسی است.



نکته

در هر ژن، یک رشته مشخص الگوی رونویسی است و در ژن‌های مختلف یک مولکول دنا، الگوی رونویسی می‌تواند متفاوت باشد و با تغییر رشته الگو، جهت رونویسی نیز تغییر می‌کند.

نکته

توجه داشته باشید که هر ژن دارای یک رشته الگو و یک رشته رمزگذار است که هر دو رشته دارای ۴ نوع دنوکسی‌ریبونوکلوئوتید با بازهای آدنین، تیمین، سیتوزین و گوانین می‌باشند که با پیوندهای فسفودی‌استر به یکدیگر وصل شده‌اند و مکمل یکدیگر می‌باشند با این تفاوت که رشته الگو به عنوان الگوی رونوسی رنا مورد استفاده قرار می‌گیرد اما روی رشته رمزگذار، ساخته رنا صورت نمی‌پذیرد.

لم بانو صو تهرها RNA، سونر H (ک در سته)

نکته

توالی بازهای آلی رشته رمزگذار یک ژن کاملاً مشابه با توالی رنای ساخته شده از روی آن ژن است با این تفاوت که به جای باز آلی تیمین در رشته رمزگذار، باز آلی یوراسیل در رنا وجود دارد

تعداد در بازهای مختلف بازگفتاری A

نکته

توجه داشته باشید که در هر ژن فقط یکی از دو رشته به عنوان الگوی رونوسی مورد استفاده قرار می‌گیرد. اما در یک مولکول دنا چنین چیزی صادق نیست یعنی برای تعدادی از ژن‌ها، یک رشته و برای سایر ژن‌ها، رشته دیگر، الگو محسوب می‌شود.

نکته

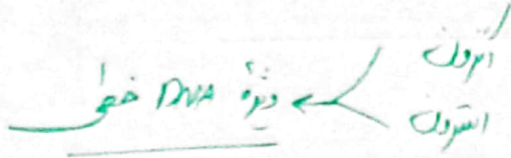
جهت رونویسی در هر ژن یک سویه و از سمت راه‌انداز به سمت توالی پایان رونویسی است. اما در یک مولکول دنا جهت رونویسی، می‌تواند در جهات متفاوتی باشد.

مولف: دکتر زهراسادات پایونی

در آزمون داتون هر دو عدد اول و دوم به هم می‌زنند و در آزمون داتون هر دو عدد اول و دوم به هم می‌زنند

نکته

در هسته یوکاریوت‌ها، RNA رونویسی شده از رشته الگو، در ابتدا دارای رونوشت‌های میانه دنا است. به این RNA، RNA نابالغ یا اولیه گفته می‌شود. با حذف این رونوشت‌ها از RNA اولیه و بیوستن بخش‌های باقی‌مانده به هم که پیرایش نامیده می‌شود و در هسته صورت می‌پذیرد، RNA بالغ ساخته می‌شود.



نکته

بهر حال، نتایج آزمون داتون و آزمون سینگل - بیان نمیشود!!

توجه داشته که فرایند پیرایش یکی از فرایندهایی است که به منظور بلوغ RNA پیک صورت می‌پذیرد و این مولکول‌ها به منظور بلوغ شدن تغییرات دیگری نیز می‌یابند.

نکته

به منظور وقوع پیرایش RNA اولیه، برای حذف رونوشت هر میانه (اینترون) و اتصال رونوشت بیانه‌ها (اکزون) به یکدیگر دو پیوند فسفودی‌استر شکسته شده و یکی تشکیل می‌شود.

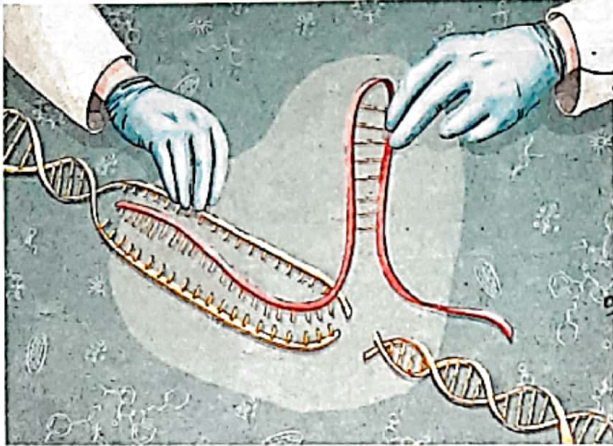
نکته



اگر یک RNA پیک بالغ را در مجاورت رشته الگوی آن قرار دهیم، بخش‌های مکمل دو رشته در کنار هم قرار می‌گیرند و بخش‌هایی که همان میانه‌ها هستند و فاقد مکمل می‌باشند به صورت حلقه‌هایی بیرون از مولکول دو رشته‌ای قرار می‌گیرند.

نکته

فرایند بلوغ رنا یعنی تبدیل رنا نابالغ یا اولیه به رنا بالغ، در هسته یاخته‌های یوکاریوتی صورت می‌پذیرد. بنابراین رناهای نابالغ فقط در هسته و رناهای بالغ در هسته و سیتوپلاسم یاخته‌های یوکاریوتی دیده می‌شوند.




- ✓ سبب نوشته DNA
 - ✓ سبب نوشته DNA و RNA همان است
 - ✓ سبب نوشته tRNA و mRNA
 - ✓ سبب نوشته tRNA (بند)
 - ✓ سبب نوشته DNA و tRNA
- امکان برقراری H
قطع بردهای
توانسته پس

نکته

پیرایش: ۱- روی RNA است. ۲- هم تخریب و هم تشکیل پیوند فسفودی‌استر دارد. ۳- مخصوص یوکاریوت‌هاست. ۴- فقط در هسته است.

اما ویرایش: ۱- روی DNA است. ۲- فقط تخریب پیوند فسفودی‌استر دارد. ۳- در پروکاریوت‌ها و یوکاریوت‌هاست. ۴- هم در هسته و هم در سیتوپلاسم است.



نکته

اگر گفته شود در ژن‌های یوکاریوتی حذف اینترون‌ها فقط در هسته صورت می‌پذیرد، جمله غلطی مطرح شده است چون در پیرایش رونوشت اینترون‌ها در RNA حذف می‌شود، نه اینترون‌های DNA.

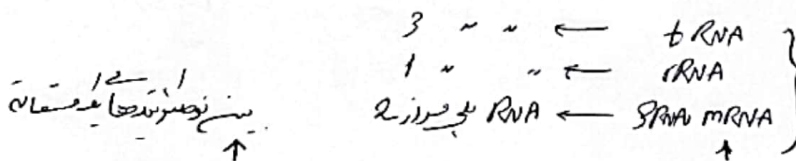
نکته

اکثر آنزیم‌ها از جنس پروتئین بوده، توسط ریبوزوم ساخته می‌شوند، دارای پیوند پپتیدی و ۲۰ نوع آمینواسید به عنوان مونومر هستند؛ اما بعضی از آنزیم‌ها از جنس رنا می‌باشند، توسط رنابسپاراز ساخته می‌شوند، دارای پیوندهای فسفودی‌استر و ۴ نوع نوکلئوتید به عنوان مونومرند.

* آنزیم‌های پرو توسط آنزیم‌های رنا و آنزیم‌های رنا توسط پرو ساخته می‌شوند.

نکته

در مراحل طویل شدن و پایان رونویسی دو رشته دنا از هم باز و به هم متصل می‌شوند [شکسته شدن و تشکیل پیوند هیدروژنی]، همچنین رشته رنای در حال ساخت و نیز رشته الگوی دنا نیز به هم متصل و از هم جدا می‌شوند [تشکیل و شکسته شدن پیوند هیدروژنی] اما در مرحله آغاز رونویسی دو رشته دنا در بخش کوچکی از یکدیگر جدا می‌شوند [شکسته شدن پیوند هیدروژنی] و رشته رنای کوتاه در حال ساخته و رشته دنا در بخش کوتاهی به هم متصل می‌شوند [تشکیل پیوند هیدروژنی] اما جدا شدن آنها از یکدیگر در مرحله بعدی صورت می‌گیرد.



نکته

توجه داشته باشید که همه رناها محصول رونویسی‌اند، پیوند فسفودی‌استر، قند ریبوز و بازهای آلی آدنین، سیتوزین، گوانین و یوراسیل دارند و همگی توسط آنزیم رنابسپاراز ساخته می‌شوند اما نمی‌توان گفت همه رناها خاصیت آنزیمی دارند یا همه آنها قابل ترجمه‌اند و یا هر رنا، دارای کدون (رمزه) یا



مؤلف: دکتر زهراسادات پایانی

نکته

RNA
DNA
Protein
↓
ترجمه می شود

با صادر پروتئین جهت سرعت رونویسی از رونویسی

جنس ساختاری که در زمان ساخته شدن همزمان چند رنا از روی یک ژن به وجود می آید نوکلئوپروتئینی است و از ۲۸ نوع مونومر تشکیل شده است [۴ نوع مونومرهای دنا + ۴ نوع مونومرهای رناهای در حال تشکیل + ۲۰ نوع آمینوسیدهای رنابسپارازها] در این ساختار رناهای در حال ساخته همگی از یک نوع هستند و با سرعت یکسانی ساخته می شوند ولی چون رونویسی شان در زمان های متفاوتی نسبت به هم آغاز شده است طول های مختلفی دارند به گونه ای که راه انداز به رناهای کوتاه تر و توالی پایان رونویسی به رناهای بلندتر، نزدیک تر است.

فاصله RNA با فرارضا ثابت است

نکته

ترجمه می شود فاصله بیشتر است سرعت رونویسی کمتر و هر چه فاصله کمتر است سرعت رونویسی بیشتر

در همه یاخته های هوهسته ای فقط بخش هایی از انواع محصولات اولیه یک نوع از رنابسپارازها، ترجمه می شوند.

↓
رونویسی از رناها

نکته

محل ساخت و فعالیت رنابسپارازهای پروکاریوتی مشابه و محل ساخت و فعالیت رنابسپارازهای ۱، ۲ و ۳ متفاوت است و از آنجا که رونویسی ژن هر پروتئین یوکاریوتی با رنابسپاراز ۲ صورت می گیرد بنابراین رنابسپاراز ۲ و رنابسپاراز پروکاریوتی، آنزیم هایی هستند که رونویسی ژن های خودشان را انجام می دهند.

نکته

رنابسپاراز های ۱ و ۲ و ۳ جزء پروتئین هایی اند که توسط ریبوزوم های آزاد دریاخته ساخته می شوند نه ریبوزوم های متصل به شبکه آندوپلاسمی!

← نمانند تدریسی توسط همگونی می شود

همه فعالیت بیرون از سلول (پوسته غشایی) عبور می کند

سر باز = aa
سر بازه : ریبوزوم می شود
فشارده : RNA

محصول

نکته

توجه داشته باشید هر چند محصول همه رنابسپارازها جنس ریبونوکلئوتیدی دارند اما همه این محصولات ترجمه نمی شوند در واقع رناهای حاصل از عملکرد رنابسپارازهای ۱ و ۳ یعنی رناهای رنانتی و رناهای ناقل، ترجمه نمی شوند و تنها رناهای پیک (mRNA) که محصول عملکرد رنابسپاراز ۲ هستند، قابل ترجمه می باشند

به اما در ترجمه برای رونویسی از رناها نقش دارند

مؤلف: دکتر زهراسادات بایونی

A

B

جهت و جهت RNA و جهت H سمت راست DNA و سمت چپ RNA جهت چپ
 جهت RNA و جهت H سمت راست DNA و سمت چپ RNA جهت چپ

جهت RNA جهت چپ
 جهت RNA جهت چپ

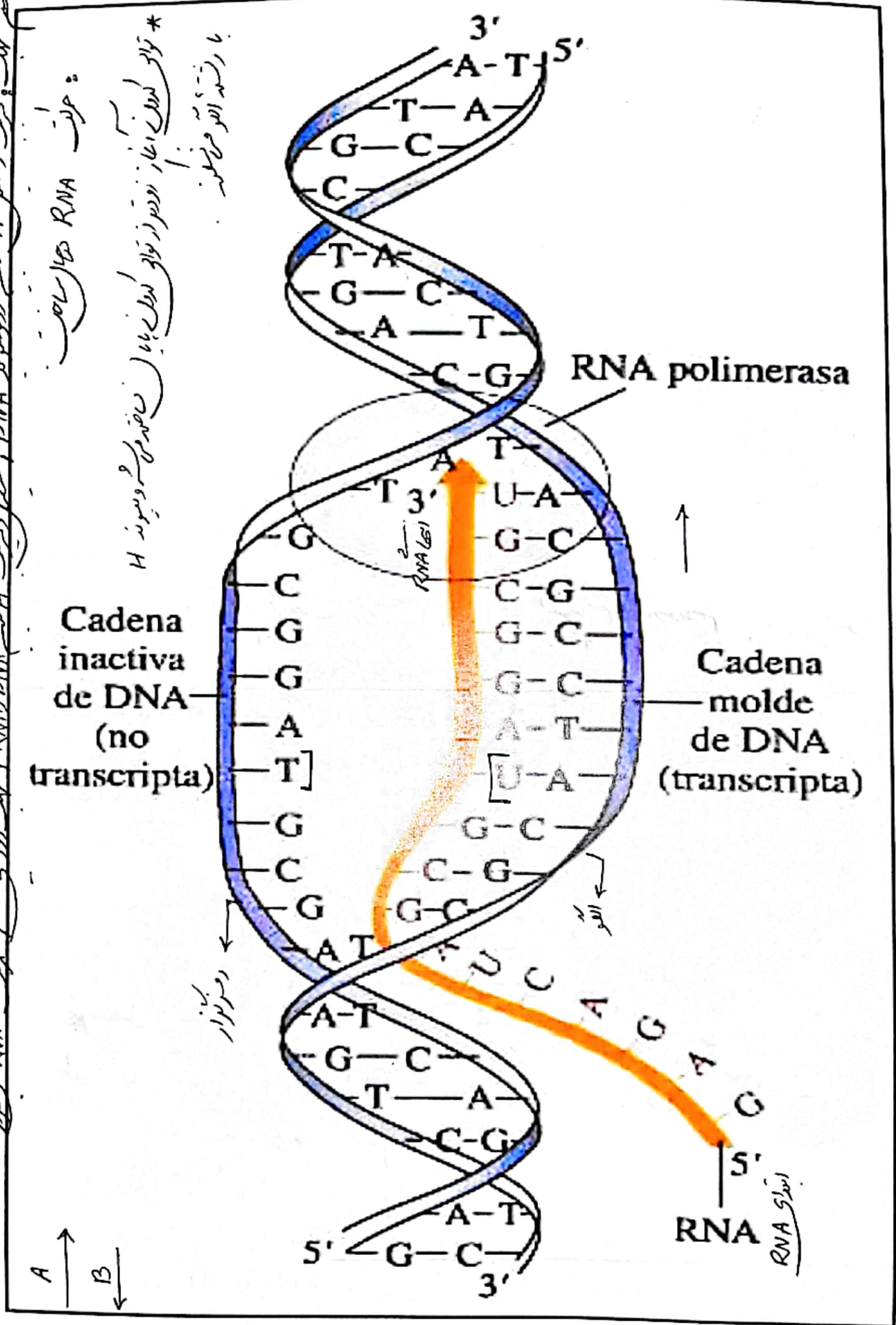
* توالی اولی آغاز، زودتر از توالی اولی به پایان می رسد و پس از آن H با رشته آنتی موازی می پیوندد

Cadena inactiva de DNA (no transcripta)

Cadena molde de DNA (transcripta)

RNA polimerasa

A ↑
 B ↓

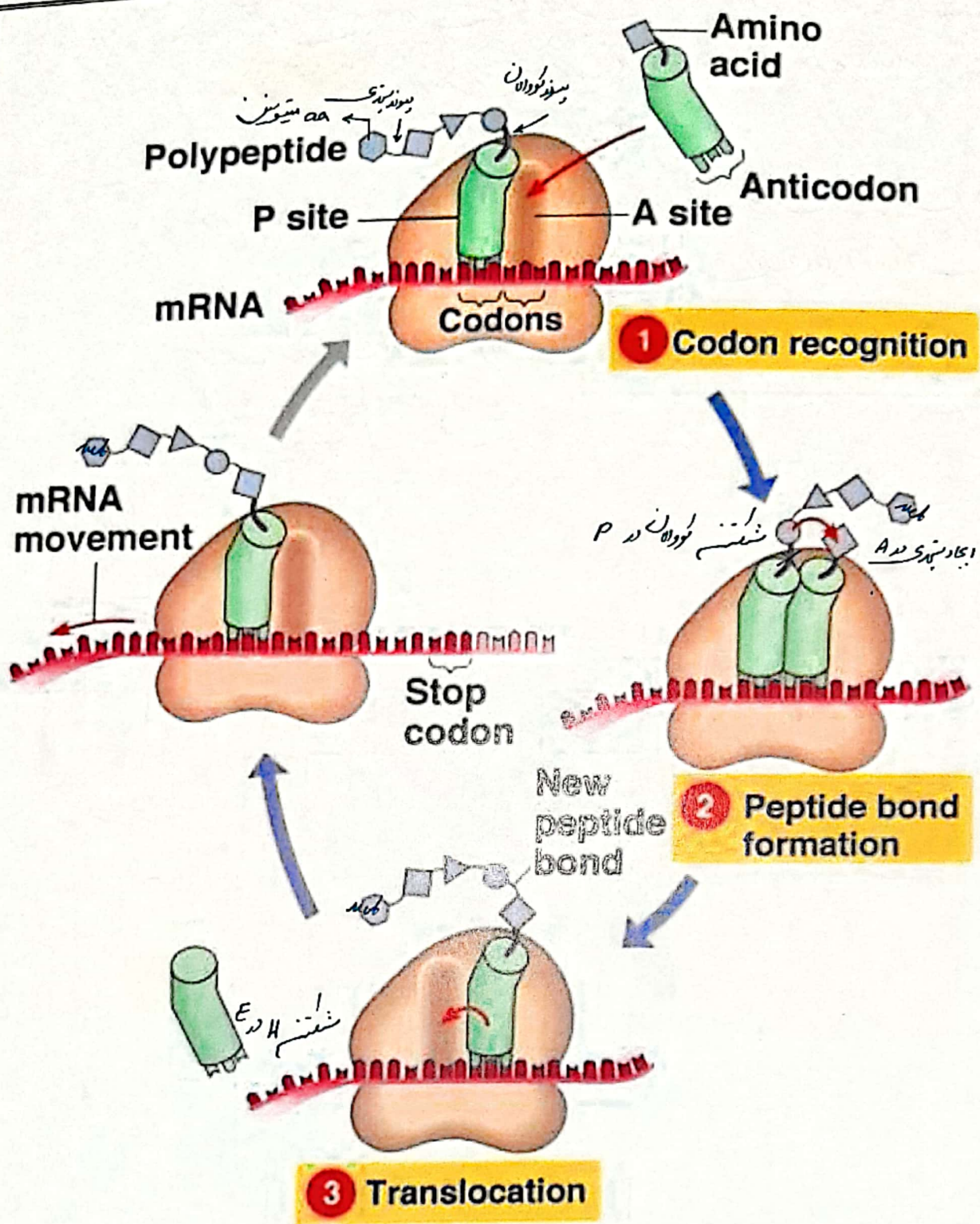


مولف: دکتر مراد سادات بیانی

RNA پوراز ← مجموعه آنزیمی ← حاوی چندین Pro آنزیمی - فیران Pro (تعداد رشته‌های موجود)
 بتیوژن‌های رشته‌های پروتئین در DNA سول کلانده خود است.
 (DNA همگنی یا همی)

تولید در سیتوپلاسم در اثر ترجمه - آنزیم Pro در سازندش آنزیم توسط الیدی همت (tRNA)
 فعالیت در سیتوپلاسم (سیتوپلاسم) فعالیت آن آنزیمی زاد تولید H₂O (تشریح)
 فعالیت آن باعث ↓ ریبوسوم‌ها در سیره همت (↓ مونومر - ↑ پلیمر)
 ↓ نوسوم‌ها 3 ساخته در ... توانایی اکادمی سوند سوند استرلا
 ↑ فسفات آزاد در ... توانایی سوند سوند سوند سوند
 دانشنامه سوند سوند





©Addison Wesley Longman, Inc

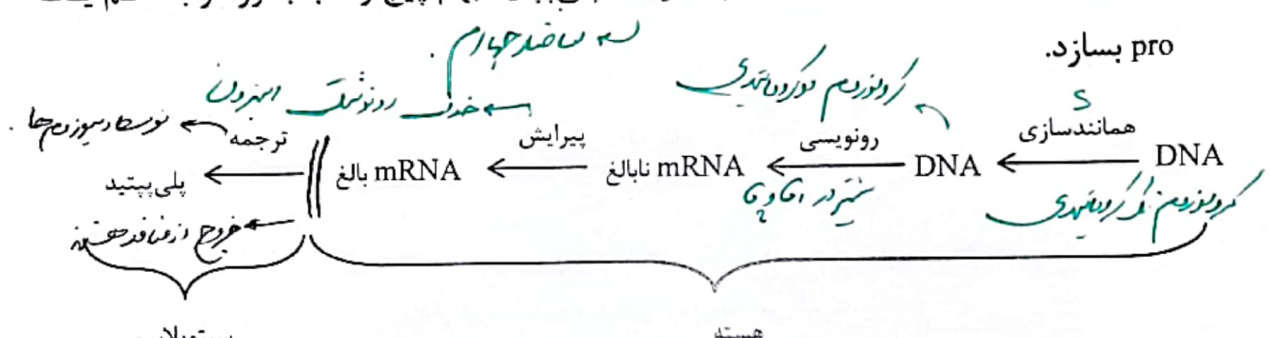
مؤلف: دکتر زهراسادات هایوانی

فصل ۲ دوازدهم گفتار ۲: به سوی پروتئین

«اصل فرایند ترجمه و تعاریف مربوط به آن»

- ترجمه: به ساخته شدن پلی پپتید از روی اطلاعات RNA پیک یا mRNA ترجمه گفته می شود.
 ← *درون سیتوپلاسم*
 ← *ابزار سوزنده‌ی توسط rRNA*

✓ پلی پپتیدها از مهمترین فرآورده‌های ژن (DNA) هستند. *نشان داده‌شده*
 ✓ پلی پپتید یعنی یک پلی مر که از تکرار آمینواسیدها بوجود آمده ← ممکن است یک رشته پلی پپتید خودش یک pro بسازد یا چند رشته پلی پپتید بهم پیچ و تاب بخورد و با هم یک pro بسازد.



- کدون (رمزه): توالی‌های ۳ نوکلئوتیدی mRNA که تعیین کننده یک آمینواسید خاص بوده و این کدون‌ها در جاندارن یکسانند به معنی این می باشد که آمینواسیدها در جانداران یکسانند اما اتصال‌های متفاوت آنها در زنجیره پلی پپتید بر اساس دستورات DNA تعیین کننده تفاوت آنهاست.

در سلول ۶۴ نوع کدون وجود دارد.

$$\frac{4}{A} \times \frac{4}{U} \times \frac{4}{C} = 64$$

A	A	A
U	U	U
C	C	C
G	G	G

۱۶۱ نوع قابل ترجمه

مؤلف: دکتر زهراسادات بایانی

- کدون پایان: رمزهایی که هیچ آمینواسیدی را رمز نمی کنند و حضور آنها در mRNA باعث پایان یافتن عمل ترجمه می شود.

در درون کدونها به جایگاه A ریبوزوم به نظر آغاز می آید

✓ کدون های قابل ترجمه ۶۱ کدون می باشد. ^{تقریباً}

UGA }
 UAG } ← با هم می گن یوهاها
 UAA }

۶۴ - ۳ = ۶۱

- کدون آغاز یا AUG: کدونی که ترجمه از آن آغاز می شود و خودش معرف و حامل میتونین نیز می باشد.

UAC
↑
مضاد tRNA با آن می گزیند

✓ اگر به بیشتر بدانید ص ۲۸ کتاب دقت کنید، گاهی چند کدون (که اکثراً در حرف آخر فقط فرق دارند) معرف یک آمینواسید می باشد.

← همگی جانشین در تضاد ۳ نوکثرند هم غلطه !!

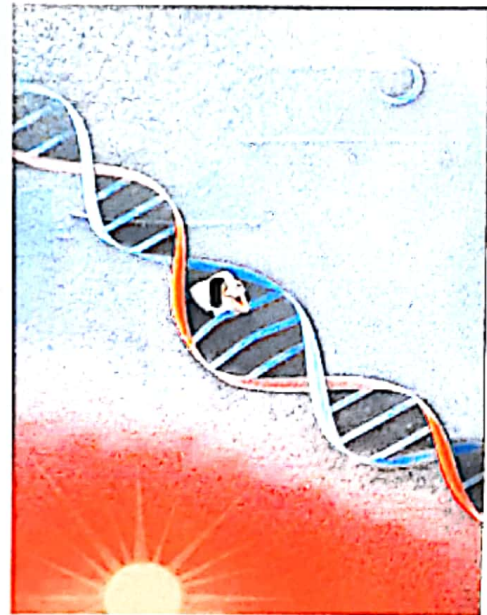
پلی پپتیدها از مهم ترین فراورده های ژن ها هستند که اعمال مختلفی را در بدن انجام می دهند.
 از روی توالی دنا، رونویسی رنا و از روی رنا با فرایند ترجمه، پلی پپتید حاصل می شود.
 ترجمه ← به ساخته شدن پلی پپتید از روی اطلاعات رنای پیک گفته می شود.

بدانیم

پروتئین سازی در مناطق دارای ریبوزوم فعال صورت می گیرد.

- بستره راکیزه
- بستره سبزیسه
- ماده زمینه ای سیتوپلاسم
- روی شبکه آندوپلاسمی زبر

ریبوزوم غیر فعال در حفره می باشد



tRNA ← شرفا + aa

که سر از آن خوشبند

فراورده رشد می بند

تا خوردن رشد می بند

tRNA
 بیان ژن در DNA
 مولف: دکتر عباس اداوات پایانی



عوامل لازم در ترجمه

مؤلف: دکتر مرزا سادات باقویی

امینواسیدها
سرنانه RNA

نوع آن‌ها در ساختار پلی‌پپتیدها به کار می‌روند.
پس از رونویسی دچار تغییراتی می‌شود.

تا خوردگی اولیه
با تشکیل پیوند هیدروژنی روی خود تا می‌خورد.

برخی مناطق آن پیوند هیدروژنی دارد.
بر اساس توانایی عملکرد

در مرکز عملی آنجا
در دو ساختار توأالی محل اتصال امینواسید وجود دارد.
تولید CCA ریبوزیم ۲۸S دارد.

ناحای ناقل
تولید حامل ریبوزی
قابلیت در سنتز پروتئین

محل اتصال امینواسید در یک سمت آن می‌باشد.
ساختار پادرمزه (آنتی کدون)

۶۱ نوع مختلف می‌باشند.
عامل تمایز tRNA می‌باشند.
حاری سه نوکلئوتید هستند.
روبروی رمزهای مربوط به امینواسیدها قرار می‌گیرند و با آن‌ها پیوند هیدروژنی تشکیل می‌دهند.

تعداد انواع پادرمزه از رمزه کمتر است (برای رمزه‌های پایان، رای ناقل وجود ندارد).
هر نوع امینواسید، به هر نوع رای ناقل متصل نمی‌شود.
اتصال امینواسید به tRNA نیازمند انرژی می‌باشد.

در سنتز پروتئین
تولید CCA ریبوزیم ۲۸S دارد.
تولید CCA ریبوزیم ۲۸S دارد.
تولید CCA ریبوزیم ۲۸S دارد.


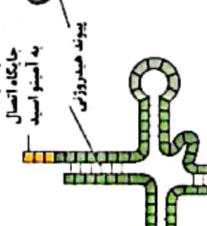
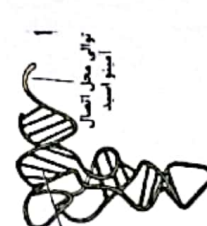
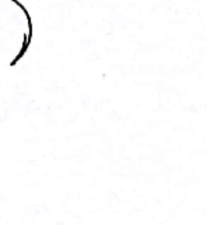
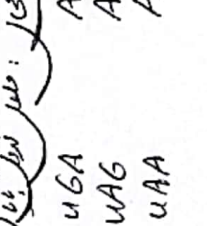
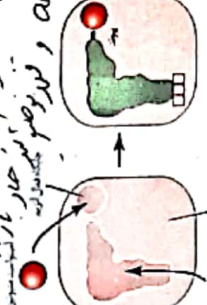
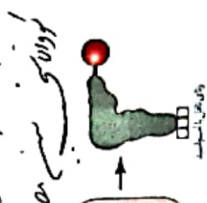
رلایون
رای پیک
تولید ایزوالان

درون میتوکندری، کلروپلاست روی شبکه اندپلاسمی و ماده زمینه‌ای سیتوپلاسم وجود دارد و فعال است.
از دو زیرواحد کوچک و بزرگ تشکیل شده‌اند.
هر زیرواحد از رنا و پروتئین تشکیل شده است.
در ساختار کامل خود، سه جایگاه به نام P، E و A دارد.

توالی‌های سه نوکلئوتیدی رای پیک را رمزه (کدون) می‌گویند.
۶۴ نوع رمزه وجود دارد که سه تای آن رمزه پایان هستند (UAG, UAA, UGA).
رمزه پایان هیچ امینواسیدی را رمز نمی‌کند.
رمزه آغاز با AUG معرف امینواسید متیونین است.

برای تهیه پلی‌پپتید به مولکول‌های پرانرژی مانند ATP نیاز است.
به صورت متنوع در ریبوزوم به فعالیت می‌پردازند.

تولید ایزوالان
تولید ایزوالان
تولید ایزوالان



تولید ایزوالان
تولید ایزوالان
تولید ایزوالان

تولید ایزوالان
تولید ایزوالان
تولید ایزوالان

تولید ایزوالان
تولید ایزوالان
تولید ایزوالان

تولید ایزوالان
تولید ایزوالان
تولید ایزوالان

تولید ایزوالان
تولید ایزوالان
تولید ایزوالان

تولید ایزوالان
تولید ایزوالان
تولید ایزوالان

تولید ایزوالان
تولید ایزوالان
تولید ایزوالان

تولید ایزوالان
تولید ایزوالان
تولید ایزوالان

تولید ایزوالان
تولید ایزوالان
تولید ایزوالان

تولید ایزوالان
تولید ایزوالان
تولید ایزوالان

تولید ایزوالان
تولید ایزوالان
تولید ایزوالان

تولید ایزوالان
تولید ایزوالان
تولید ایزوالان

تولید ایزوالان
تولید ایزوالان
تولید ایزوالان

تولید ایزوالان
تولید ایزوالان
تولید ایزوالان

تولید ایزوالان
تولید ایزوالان
تولید ایزوالان

تولید ایزوالان
تولید ایزوالان
تولید ایزوالان

تولید ایزوالان
تولید ایزوالان
تولید ایزوالان

تولید ایزوالان
تولید ایزوالان
تولید ایزوالان

تولید ایزوالان
تولید ایزوالان
تولید ایزوالان

تولید ایزوالان
تولید ایزوالان
تولید ایزوالان

تولید ایزوالان
تولید ایزوالان
تولید ایزوالان

تولید ایزوالان
تولید ایزوالان
تولید ایزوالان

تولید ایزوالان
تولید ایزوالان
تولید ایزوالان

تولید ایزوالان
تولید ایزوالان
تولید ایزوالان

تولید ایزوالان
تولید ایزوالان
تولید ایزوالان

تولید ایزوالان
تولید ایزوالان
تولید ایزوالان

تولید ایزوالان
تولید ایزوالان
تولید ایزوالان

تولید ایزوالان
تولید ایزوالان
تولید ایزوالان

تولید ایزوالان
تولید ایزوالان
تولید ایزوالان

تولید ایزوالان
تولید ایزوالان
تولید ایزوالان

تولید ایزوالان
تولید ایزوالان
تولید ایزوالان

تولید ایزوالان
تولید ایزوالان
تولید ایزوالان

تولید ایزوالان
تولید ایزوالان
تولید ایزوالان

تولید ایزوالان
تولید ایزوالان
تولید ایزوالان

تولید ایزوالان
تولید ایزوالان
تولید ایزوالان

تولید ایزوالان
تولید ایزوالان
تولید ایزوالان

تولید ایزوالان
تولید ایزوالان
تولید ایزوالان

تولید ایزوالان
تولید ایزوالان
تولید ایزوالان

تولید ایزوالان
تولید ایزوالان
تولید ایزوالان

تولید ایزوالان
تولید ایزوالان
تولید ایزوالان

تولید ایزوالان
تولید ایزوالان
تولید ایزوالان

تولید ایزوالان
تولید ایزوالان
تولید ایزوالان

تولید ایزوالان
تولید ایزوالان
تولید ایزوالان

تولید ایزوالان
تولید ایزوالان
تولید ایزوالان

تولید ایزوالان
تولید ایزوالان
تولید ایزوالان

تولید ایزوالان
تولید ایزوالان
تولید ایزوالان

تولید ایزوالان
تولید ایزوالان
تولید ایزوالان

تولید ایزوالان
تولید ایزوالان
تولید ایزوالان

تولید ایزوالان
تولید ایزوالان
تولید ایزوالان

تولید ایزوالان
تولید ایزوالان
تولید ایزوالان

تولید ایزوالان
تولید ایزوالان
تولید ایزوالان

تولید ایزوالان
تولید ایزوالان
تولید ایزوالان

تولید ایزوالان
تولید ایزوالان
تولید ایزوالان

تولید ایزوالان
تولید ایزوالان
تولید ایزوالان

تولید ایزوالان
تولید ایزوالان
تولید ایزوالان

تولید ایزوالان
تولید ایزوالان
تولید ایزوالان

تولید ایزوالان
تولید ایزوالان
تولید ایزوالان

تولید ایزوالان
تولید ایزوالان
تولید ایزوالان

تولید ایزوالان
تولید ایزوالان
تولید ایزوالان

تولید ایزوالان
تولید ایزوالان
تولید ایزوالان

تولید ایزوالان
تولید ایزوالان
تولید ایزوالان

تولید ایزوالان
تولید ایزوالان
تولید ایزوالان

تولید ایزوالان
تولید ایزوالان
تولید ایزوالان

تولید ایزوالان
تولید ایزوالان
تولید ایزوالان

نکته

در هر یاخته تنوع آمینواسیدها از تنوع کدون‌ها، آنتی کدون‌ها و tRNAها کمتر است. ضمناً نمی‌توان گفت هر کدون لزوماً با یک آنتی کدون شناسایی می‌شود چون کدون‌های پایان با هیچ آنتی کدونی شناسایی نمی‌شوند. به علاوه بسیاری از آمینواسیدها بیش از یک کدون و بعضی تنها یک کدون دارند.

نوع و

کدون < آنتی کدون < آمینواسید

نکته

هر رنای ناقل (tRNA) تنها مسئول حمل یک نوع آمینواسید به درون ریبوزوم است اما یک آمینواسید می‌تواند توسط رنای ناقل مختلفی به درون ریبوزوم، حمل شود.

← زیرا به سه کدون مختلف در پایان
برای هر کدون یک tRNA دارد !!

نکته

درون هیچ یاخته‌ای پادرمزه‌های (آنتی کدون‌های) مکمل رمزه‌های پایان یعنی آنتی کدون‌های AUU، AUC و ACU وجود ندارند. آنتی کدون‌های مکمل

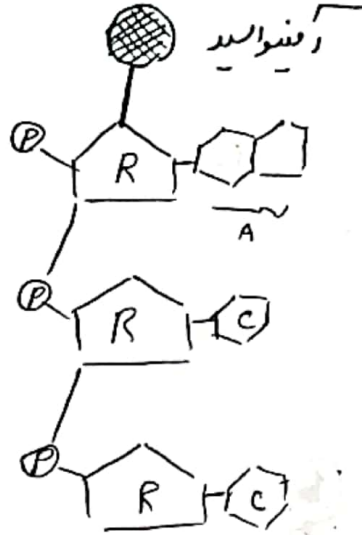
نکته

ساختارهای تاخوردگی اولیه و سه بعدی رنای ناقل، با تاخوردن رنای تک‌رشته‌ای و به دلیل تشکیل پیوندهای هیدروژنی بین نوکلئوتیدهای مکمل آن به وجود می‌آیند. سه درون تک‌رشته !!

مؤلف: دکتر زهرا سادات بیابانی



در بسیاری از موارد، به دلیل عدم رعایت اصول طراحی، در محل اتصال توالی بین زنی، به دلیل عدم رعایت اصول طراحی، به دلیل عدم رعایت اصول طراحی...



نکته

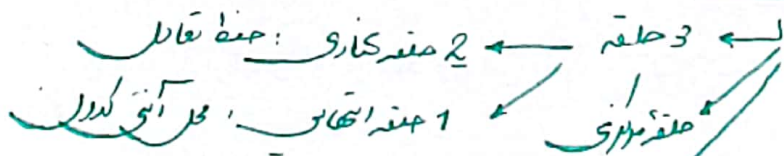
توجه داشته باشید که ساختار رنای ناقل در حالت فعال، ساختار سه بعدی است که به دنبال تاخوردگی‌های مجدد، پس از تاخوردگی اولیه ایجاد می‌شود.

سوزن H در محل بازوها

نکته

بازو اصلی

در ساختارهای تاخوردگی اولیه و سه بعدی رنای ناقل در محل‌هایی که دو رشته‌ای هستند پیوندهای هیدروژنی وجود دارند اما محل‌هایی که تک رشته‌ای‌اند مثل توالی محل اتصال آمینواسید و یا محل‌هایی که حالت حلقه مانند ایجاد کرده‌اند مثل توالی پادرمزه، فاقد پیوند هیدروژنی‌اند.



نکته

رنای ناقل در ساختار تاخوردگی اولیه دارای سه بازوی اصلی و بزرگ شامل ساقه، حلقه و یک بازوی کوچک اضافه و همچنین محلی برای اتصال آمینواسید می‌باشند که بازوی کوچک در امتداد محل اتصال آمینواسید قرار می‌گیرد.

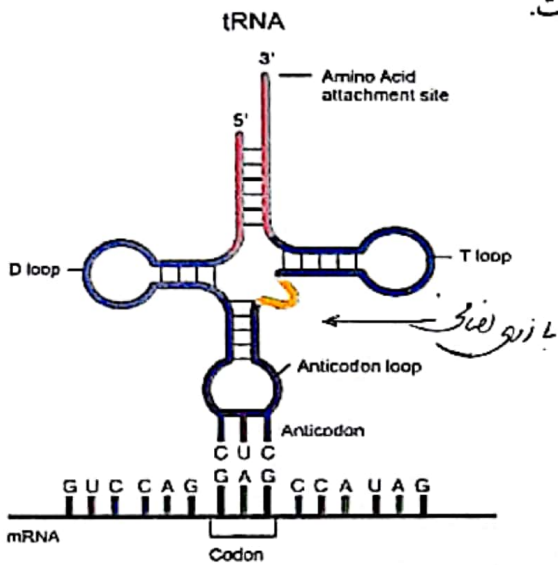
سوزن H در

نکته

در هر یاخته ۶۱ نوع آنزیم ویژه برای اتصال آمینواسید به رنای ناقل وجود دارد که براساس نوع توالی آنتی کدون، آمینواسید مناسب را به رنای ناقل متصل می کند ← دفعه ۵۸ پیوند کووالانسی برقرار می کنند
حاصل از A

نکته

هر یک از زیرواحدهای ریبوزوم دارای رنا و پروتئین می باشند بنابراین در تشکیل هر یک از این زیرواحدها در یاخته های یوکاریوتی رنابسیار از ۱ نقش داشته است.



← تولید tRNA

نکته

در ساختار رنای ناقل بیشترین فاصله بین محل قرارگیری آمینواسید و توالی پادرمزه (آنتی کدون) وجود دارد.
CCA
بسیار بیشتر
بسیار کمتر

نکته

در یاخته های یوکاریوتی هم محل تشکیل پیوند بین آمینواسید و رنای ناقل و هم محل شکسته شدن این پیوند درون سیتوپلاسم می باشد.
توسط آنزیم ها در سیتوپلاسم

مؤلف: دکتر زهرا سادات هایونی

درون سیتوپلاسم در یاخته P

نکته

هر رنای حامل آمینواسید دارای ۵ نوع مونومر است [۴ نوع نوکلئوتید + ۱ نوع آمینواسید]

tRNA

← دارد جایگاه A ریبوزوم می‌شد.

نکته

توجه داشته باشید که هر یک از انواع رنا از جمله رنای ناقل، مستقیماً از روی دنا ساخته می‌شوند

← اصل رونویسی

بنابراین الگوی ساخت آنتی کدون رنای ناقل حامل آمینواسید متیونین، ATG است.

↑

دنا DNA

نکته

در تشکیل ساختارهای تاخوردگی اولیه و سه بعدی RNA، پیوندهای هیدروژنی نقش دارند. ضمناً در هر

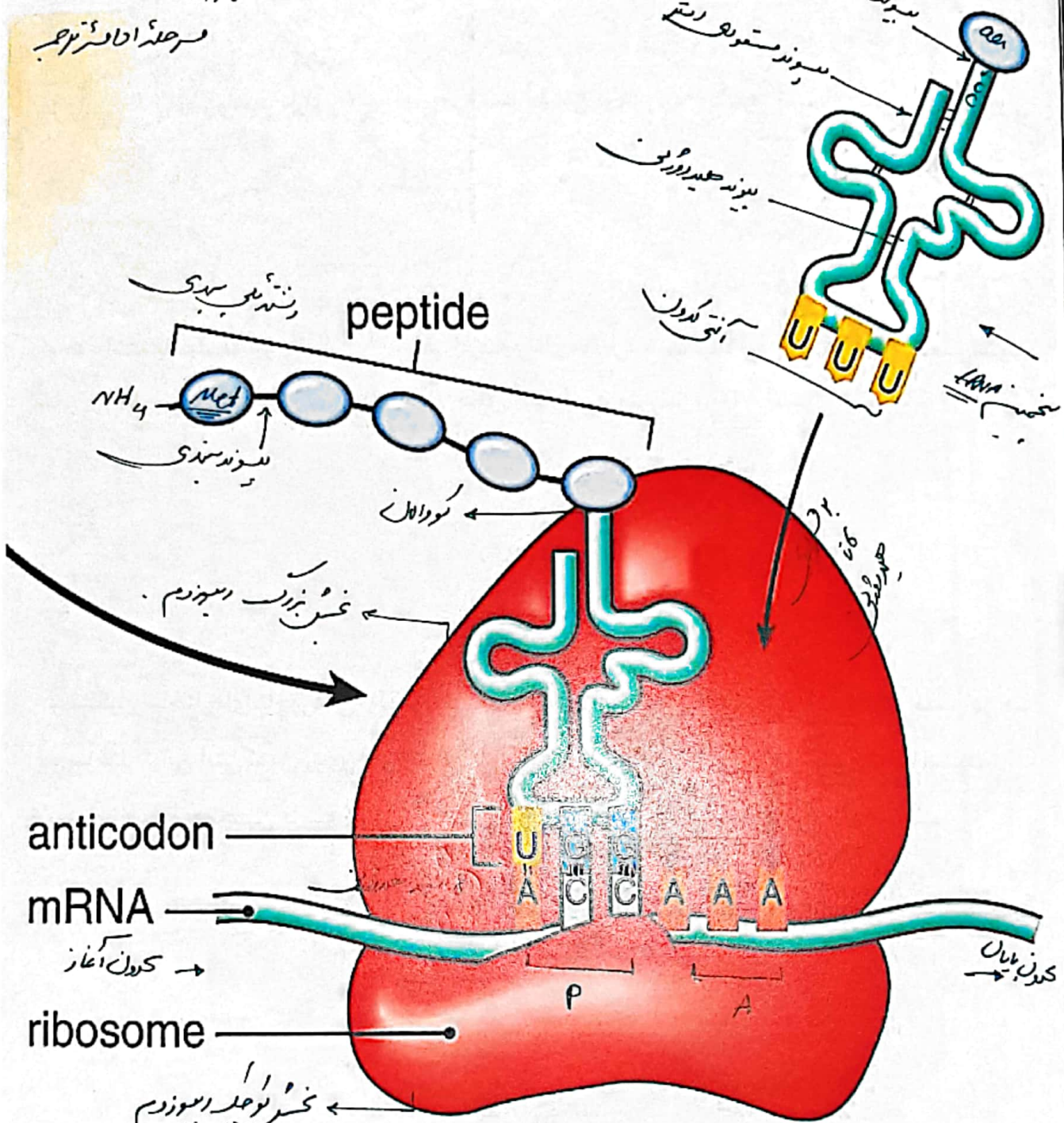
دو ساختار توالی آنتی کدون روی حلقه است و در هر دو ساختار RNA در محل اتصال آمینواسید، تک

رشته‌ای است و همچنین فاصله بین آنتی کدون و محل اتصال آمینواسید، بیشترین فاصله است.



مؤلف: دکتر زهرا سادات پایانی

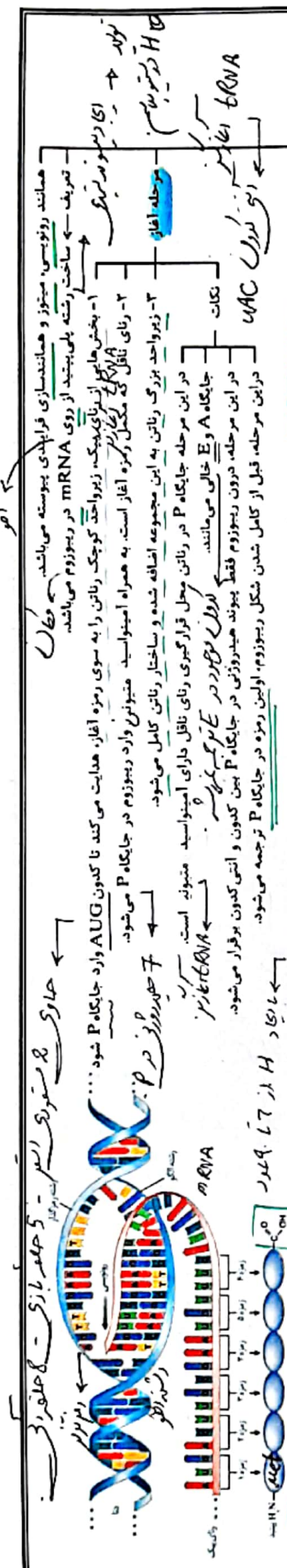
مرحله اول ترجمه



tRNA-amino acid at ribosome

ریبوزوم در جهت چهارم !!
 کدون بعد از کدون آغاز

مؤلف: دکتر زهرا سادات هایونی



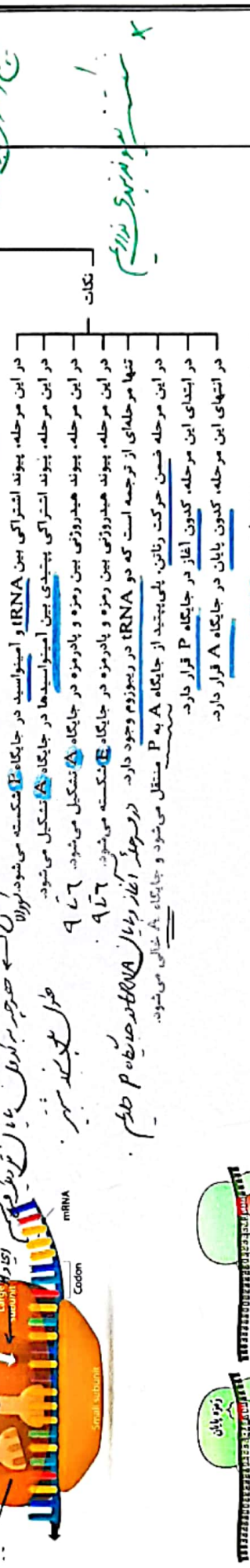
مراحل ترجمه (فرایندی پیوسته)

مرحله اول: **تاریخچه**
 - ساخت رشته پلی پپتید از روی mRNA در ریبوزوم می باشد.
 - بخشهایی از mRNA یکدیگر را به سوی ریمز آغاز هدایت می کند تا کدون AUG وارد جایگاه P شود.
 - ریمز آغاز هدایت می کند تا کدون AUG وارد جایگاه P شود.

مرحله دوم: **تاریخچه**
 - پیوستن ریمز به این مجموعه اضافه شده و ساختار راتن کامل می شود.
 - در این مرحله جایگاه A در راتن ریمز قرارگیری راتن ناقص آمینوسید متوقف است.
 - جایگاه E و A خالی می ماند.
 - در این مرحله درون ریبوزوم فقط پیوند هیدروژنی در جایگاه P بین کدون و انتی کدون برقرار می شود.
 - در این مرحله، قبل از کامل شدن شکل ریبوزوم، اولین ریمز در جایگاه P ترجمه می شود.

مرحله سوم: **تاریخچه**
 - راتن می شود ولی فقط راتنی که تکامل ریمز جایگاه A است، استقرار پیدا می کند.
 - ریبوزوم راتن را رها می کند.
 - ریبوزوم راتن را رها می کند.
 - ریبوزوم راتن را رها می کند.
 - ریبوزوم راتن را رها می کند.

مرحله چهارم: **تاریخچه**
 - راتن می شود ولی فقط راتنی که تکامل ریمز جایگاه A است، استقرار پیدا می کند.
 - ریبوزوم راتن را رها می کند.
 - ریبوزوم راتن را رها می کند.
 - ریبوزوم راتن را رها می کند.
 - ریبوزوم راتن را رها می کند.



تکات

- ۱- زندهای ناقص وارد جایگاه A راتن می شوند ولی فقط راتنی که تکامل ریمز جایگاه A است، استقرار پیدا می کند.
- ۲- آمینوسید جایگاه P از راتن ناقص جدا خود جدا می شود و با آمینوسید جایگاه A پیوند پپتیدی برقرار می کند.
- ۳- راتن به اندازه یک ریمز به سوی ریمز پایانی پیش می رود.
- ۴- راتن ناقص رشته دی پپتیدی در جایگاه P قرار می گیرد.
- ۵- جایگاه A خالی می شود تا پذیرای راتن ناقص بعدی باشد.
- ۶- راتن ناقص بدون آمینوسید نیز در جایگاه E قرار می گیرد و سپس از این جایگاه با شکستن پیوند هیدروژنی خارج می شود.
- ۷- این مراحل تکرار می شود و طول زنجیره آمینوسیدی بیشتر می شود تا راتن به یکی از ریمزهای پایانی برسد.

تاریخچه
 - در این مرحله، پیوند اشتراکی بین IRNA و آمینوسید در جایگاه E شکسته می شود.
 - در این مرحله، پیوند اشتراکی بین آمینوسیدها در جایگاه A تشکیل می شود.
 - در این مرحله، پیوند هیدروژنی بین ریمز و پاد ریمز در جایگاه A تشکیل می شود.
 - در این مرحله، پیوند هیدروژنی بین ریمز و پاد ریمز در جایگاه E شکسته می شود.
 - تنها مرحله ای از ترجمه است که در IRNA در ریبوزوم وجود دارد. ریبوزوم آغاز راتن را در mRNA هدایت می کند.
 - در این مرحله ضمن حرکت راتن، پلی پپتید از جایگاه A به P منتقل می شود و جایگاه A خالی می شود.
 - در ابتدای این مرحله، کدون آغاز در جایگاه P قرار دارد.
 - در انتهای این مرحله، کدون پایان در جایگاه A قرار دارد.

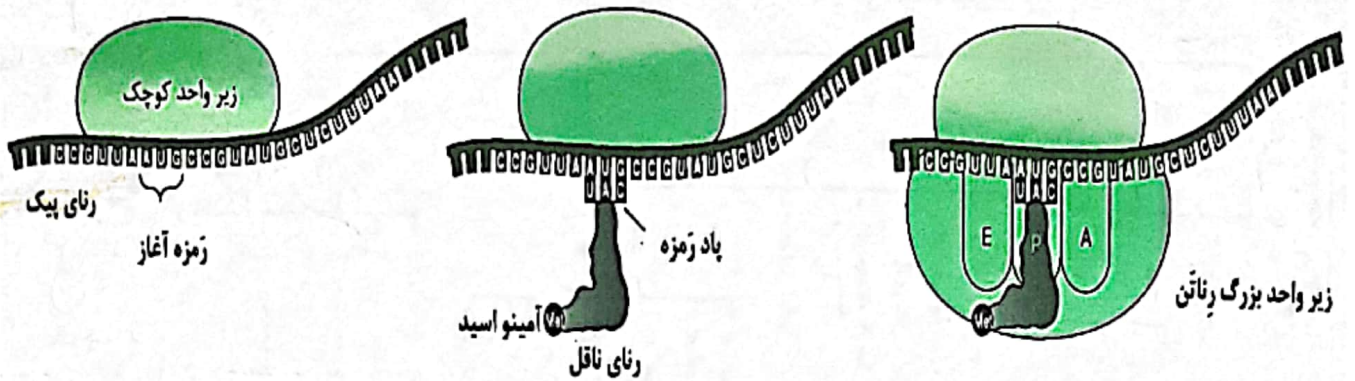
مرحله پایان

- ۱- راتن ناقص جدیدی وارد جایگاه A که ریمز پایان دارد، نمی شود.
- ۲- عوامل پروتئینی آزاد کننده وارد جایگاه A می شوند و ریمز پایان را شناسایی می کنند.
- ۳- پلی پپتید، توسط عوامل آزاد کننده از راتن ناقصی در جایگاه P جدا می شود.
- ۴- در نهایت زیر واحدهای راتن ها از هم جدا می شوند.
- ۵- زیر واحدهای راتن دوباره بر حسب نیاز یاخته می شوند از روی این mRNA به ترجمه پروتئین.

تکات

در این مرحله پیوند پپتیدی و هیدروژنی جدید تشکیل نمی شود.
 در این مرحله، IRNA انتهایی با شکسته شدن پیوند هیدروژنی از جایگاه P خارج می شود.
 همانند مرحله آغاز، فقط جایگاه P حاوی IRNA می باشد.
 در این مرحله، پیوند هیدروژنی بین ریمز و پاد ریمز و پیوند اشتراکی IRNA و آمینوسید در جایگاه P شکسته می شود.

تاریخچه
 - همانند مرحله آغاز، فقط جایگاه P حاوی IRNA می باشد.
 - در این مرحله، پیوند هیدروژنی بین ریمز و پاد ریمز و پیوند اشتراکی IRNA و آمینوسید در جایگاه P شکسته می شود.



نکات مرحله آغازین

- شروع مرحله آغاز ← اتصال بخش کوچک ریبوزوم

- پایان مرحله آغاز ← " " " " " "

* توالی از mRNA در حادو AUG باعث نشود تا بخش کوچک ریبوزوم وصل شود.

- ریبوزوم ← سرزود و نوصونند (حدود 15 تا)

- حادو ها ریبوزوم ← 3 کدول (9 نوصونند)

- زیر واحد کوچک ابتدا سرزود واحد بزرگ نوصونند کسری در برزودند

- اتصال ریبوزوم کامل ← بیان و جمله آغاز


* جمله آغاز کدول میخورد E و دارد اندک معنی سال aa شروع میخورد

" بیان " " بیان " " A بیان شده aa میخورد

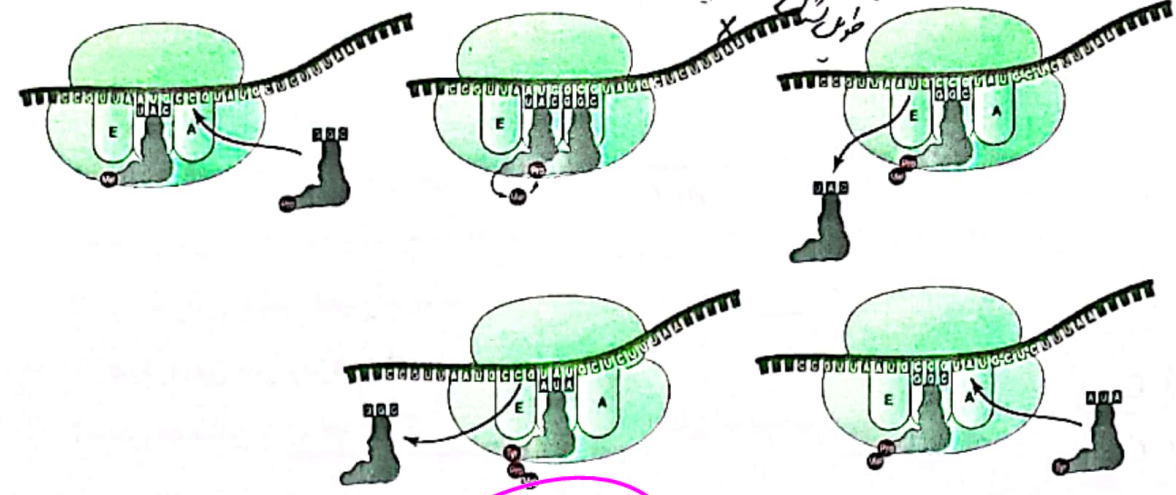
* ادرسی tRNA در ریبوزوم با کابل قهوه ای میخورد

* اتصال aa به قند نوصونند حادو باز ادرسی tRNA ← از بخش کربوسیل

* سرزود کربوسیل aa نوصونند حادو کده در بخش NH₂ در تار



* در هر aa به جانب A ← طول کردن ← tRNA A
 * در هر aa به جانب P ← آغاز: متز-tRNA H



نکات مرحله طول شدن

- شروع مرحله طول کردن ← در هر دو tRNA در بخش خاص (کد) با tRNA در بخش A
 - پایان مرحله طول کردن ← خروج آخرین tRNA از بخش E

(E) (H) X

- شروع مرحله پایان ← در هر دو tRNA در جانب A

(P) (H) X

- پایان مرحله پایان ← جدایی آخرین tRNA در جانب P از mRNA

- زمان ای ای در کدی در جانب A ← پروتئین در پیوسته

تصرف H₂O در جانب P تولید H₂O در جانب A

X کووالانس پیوسته

خروج tRNA حامل aa از آغاز

(سپین کد H)

در پیوسته از

طول کردن (تایمینگ پیوسته)

تولید tRNA حامل پیوسته در جانب P

طول کردن

تولید

تولید

مولف: دکتر زهراسادات پایانی

با این صیاد بی کسی می‌ده !!

به خلاصه می‌گیم سرعتی:

الف) وقایع مرحله آغاز:

- ۱- اتصال زیرواحد کوچک رناتن به رنای پیک ← حدود 15 نوسان بر ثانیه
- ۲- هدایت زیرواحد کوچک رناتن به سوی رمزه آغاز توسط بخش‌هایی از رنای پیک
- ۳- ورود رنای حامل آمینواسید متیونین و دارای پادرمزه UAC به جایگاه P رناتن و تشکیل Y هیدروژنی بین رمزه و پادرمزه

u A C
" " "
A u G

- ۴- افزوده شدن زیرواحد بزرگ رناتن به مجموعه قبلی و تشکیل ساختار رناتن.

ب) وقایع مرحله طویل شدن:

- ۱- ورود رنای ناقل مختلف به جایگاه A رناتن و ترک این جایگاه در صورت عدم وجود رابطه مکملی ← نوع مترنر دارد به نوع مترنر سوبر H
 - ۲- استقرار رنای ناقلی که پادرمزه آن مکمل رمزه جایگاه A است.
 - ۳- جدا شدن آمینواسید جایگاه P از رنای ناقل خود ← از غیر بر پس
 - ۴- برقراری پیوند پپتیدی بین آمینواسید [های] جدا شده از رنای ناقل جایگاه P با آمینواسید متصل به رنای ناقل جایگاه A رناتن ← بر پس
 - ۵- حرکت رناتن به اندازه یک رمزه به سوی رمزه پایان که همزمان با آن رنای ناقل حامل پپتید از جایگاه A خارج شده و در جایگاه P قرار می‌گیرد و جایگاه A خالی می‌شود ضمناً رنای ناقل بدون آمینواسید نیز در جایگاه E قرار می‌گیرد.
 - ۶- خروج رنای بدون آمینواسید از جایگاه E، [شکسته شدن پیوند هیدروژنی]
- ۱) ورود رنای ناقل مختلف به جایگاه A رناتن و ترک این جایگاه در صورت عدم وجود رابطه مکملی
- ۲) استقرار رنای ناقلی که پادرمزه آن مکمل رمز جایگاه A است.
- ۳) و ...

ج) وقایع مرحله پایان: uAA, uGA, uAG

- ۱- ورود یکی از رمزه‌های پایان ترجمه به جایگاه A
- ۲- اشغال جایگاه A توسط پروتئین‌هایی به نام عامل آزادکننده

در نقش ریوسر ← در جبهه P

۳- جدا شدن پلی پتید از آخرین رنای ناقل و همچنین جدا شدن زیرواحدهای رناتن از هم و آزاد شدن رنای پیک توسط عامل آزادکننده.
Last
Pro ←

نکته

وقایع زیر مخصوص به مرحله آغاز است:

- ۱- تکمیل ساختار رناتن ← اتصال در نقش ریوسر
- ۲- تشکیل پیوند هیدروژنی در جایگاه P رناتن
- ۳- ورود رنای ناقل از بیرون رناتن به جایگاه P آن ترجمه رمزه آغاز
H ← ایگایسوند

نکته

وقایع زیر مخصوص به مرحله طویل شدن است:

- ۱- ورود رنای ناقل به جایگاه A رناتن ← انواع در مرحله و انواع پیوند هیدروژنی
 - ۲- تشکیل پیوند هیدروژنی در جایگاه A رناتن
 - ۳- حرکت رناتن در امتداد رنای پیک ← اندازه و خصوصیت
 - ۴- برقراری پیوند پتیدی در جبهه A
 - ۵- قرارگیری همزمان دو پادرمزه درون رناتن در جبهه A و P
 - ۶- ترجمه همه رمزه‌های قابل ترجمه، به جز رمزه آغاز در مرحله آغاز
 - ۷- خروج رنای ناقل از جایگاه E ریوسوم ← تحریک پیوند H
 - ۸- شکسته شدن پیوند هیدروژنی در جایگاه E رناتن
- تشکیل و شکسته شدن پیوند هیدروژنی بین رمزه و پادرمزه ۱۰ خروج رنای ناقل از جایگاه A ریوسوم [منظور رنای ناقلی است که وارد جایگاه A می‌شود اما چون مکمل رمزه موجود در این جایگاه نیست، خارج می‌گردد].

نکته

وقایع زیر مخصوص به مرحله پایان است:

- 1- قرارگیری هر یک از رمزهای پایان در جایگاه A رناتن
 - 2- ورود عامل آزادکننده به جایگاه A رناتن و عملکرد آن
 - 3- خروج رنای ناقل از جایگاه P تخریب پیوند H
 - 4- شکسته شدن پیوند هیدروژنی در جایگاه P رناتن وجود همزمان ۲ پروتئین در جایگاههای P و A
- عمل آزادکننده*
تخریب پیوند هیدروژنی

نکته

فرایند ترجمه رمز [ها] هم در مرحله آغاز و هم در مرحله طویل شدن صورت می پذیرد.

هم آغاز و هم طویل شدن

Aug کردن

روشنایی پایان صورت نمی پذیرد.

نکته

پیوند هیدروژنی بین رمزه و پادرمزه، در مرحله آغاز ترجمه فقط ^{mRNA} ^{tRNA} و در مرحله پایان ترجمه فقط ^{عدد 7} شکسته می شود. اما در مرحله طویل شدن ترجمه، پیوندهای هیدروژنی هم تشکیل و هم شکسته می شوند.

نکته

① در مرحله طویل شدن، خروج tRNA از جایگاه A به دو صورت امکان پذیر است، یکی اینکه ریبوزوم حرکت کند که سبب می شود tRNA موجود در جایگاه A از آن خارج شده به جایگاه P برود و دیگر اینکه، tRNA که وارد جایگاه A می شود، توالی پادرمزیه مکمل با رمز جایگاه A را نداشته باشد و از آن خارج شود پس جمله «خروج tRNA از جایگاه A ریبوزوم تنها با حرکت ریبوزوم در امتداد mRNA مقدر است» نادرست می باشد، اما جمله «ورود tRNA متصل به دو یا چند آمینواسید، به جایگاه P تنها به دنبال حرکت ریبوزوم در امتداد mRNA مقدر است.» صحیح می باشد.

نکته

از آنجا که ساخت هر پروتئین با آمینواسید متیونین شروع می شود می توان گفت در مرحله طویل شدن ترجمه هر tRNA در اتصال با چند آمینواسید، ناقل متیونین محسوب می شود.

نکته

ورود RNAی ناقل به جایگاه P رناتن هم در مرحله آغاز و هم در مرحله طویل شدن صورت می پذیرد.
tRNA آغاز
UAG
حامل آمینواسید متیونین

نکته

در زمان ترجمه قبل از تکمیل ساختار رناتن، یک RNAی ناقل به جایگاه P رناتن و پس از تکمیل شدن ساختار آن، یک RNAی ناقل به جایگاه A رناتن وارد می شود.
تفاوت در شکل در مرحله طویل شدن

مؤلف: دکتر زهرا سادات پایانی

نکته

در مرحله آغاز
در مرحله طول کردن

در زمان ترجمه، تشکیل پیوند هیدروژنی هم در جایگاه P و هم در جایگاه A صورت می پذیرد و شکسته شدن این پیوند هم در جایگاه P و هم در جایگاه E صورت می پذیرد اما شکسته شدن پیوند اشتراکی بین آمینواسید و رنای ناقل همواره در جایگاه P و تشکیل پیوند پپتیدی همواره در جایگاه A رناتن صورت می پذیرد.

در مرحله طول کردن

نکته

در درجه E به همراه سایر جایی میوزوم

خروج رنای ناقل فاقد آمینواسید از رناتن در مرحله طویل شدن همواره از جایگاه E و در مرحله پایان از جایگاه P صورت می پذیرد.

خروج از E با استفاده هیدروژن

نکته

اصطلاحات A، P و E به ترتیب مربوط به آمینواسید، پپتید و اگزیت (به معنای خروج) می باشد.
Exit Peptid Amino Acid

نکته

آمینواسید متورین

در مرحله آغاز ترجمه فقط یک رمزه [یعنی رمزه آغاز] ترجمه می شود ضمناً نه پیوند پپتیدی تشکیل می شود و نه رناتن در امتداد رنای پیک حرکت می کند همچنین در انتهای این مرحله سه رمزه و یک پادرمزه درون جایگاه های رناتن خواهیم داشت.
P در AUG
P در UAC

در مرحله طول کردن

مؤلف: دکتر مراد سادات هایونی

نکته

← 3 نوسون

← حرارت

در هنگام حرکت رناتن به اندازه یک کدون به سمت کدون پایان، پیوند هیدروژنی شکسته یا تشکیل نمی شود و تنها رناهای ناقلی که در جایگاه های A و P قرار داشتند به ترتیب به جایگاه های P و E منتقل می شوند اما بلافاصله پس از تکمیل حرکت رناتن، رنای ناقل موجود در جایگاه E با شکسته شدن پیوند هیدروژنی از این جایگاه خارج می شود. ← توقف ریزوزوم

نکته

حالت قرار پیوند A در جایگاه E همان قرار پیوند H است

در زمان ترجمه همه رمزه ها از جایگاه A رناتن وارد شده و از جایگاه E آن خارج می شوند به جز رمزه آغازین که نمی تواند وارد جایگاه A ریبوزوم شود، رمزه پایان که وارد جایگاه های P و E رناتن نخواهد شد و رمزه ما قبل رمزه پایان که تنها وارد جایگاه E رناتن نخواهد شد. ← فقط وارد A می شود

UAG
UGA
UAA

نکته

هر 64 نوع رمزه قابل شناسایی در جایگاه A می باشند اما رمزه هایی که در جایگاه های P و E شناسایی می شوند شامل 61 نوع رمزه اند. ← کدونهای پایان را در A می شوند

نکته

در همه ی یوکاریوت ها فقط بخش هایی از انواعی از محصولات اولیه ی یک نوع از RNA پلی مرزها، ترجمه می شوند. ← ریزوسوم اکترن ها. ← mRNA اولیه ← RNA پلمریز II

نکته

اما 3' نرسوندن آن در جایگاه E
ریبوزوم قرار میگیرد.
Start ترجمه در جایگاه P

ابتدا و انتهای mRNA غیر قابل ترجمه است؛ یعنی قسمت‌های قبل از رمزه آغاز و قسمت‌های بعد از رمزه پایان، ترجمه نمی‌شوند. پس تمامی طول mRNA ترجمه نمی‌شود.

↑
به بعضی ورود به جایگاه A تمام می‌شود.

تعداد آکسینوسیدها حاصل از ترجمه یک mRNA می‌تواند از ۵
سینه AUG و کدون پایان کمتر است..

نکته

در هر یاخته فعال و زنده ۳ نوع RNA وجود دارد که ۲ نوع آن‌ها یعنی rRNA و tRNA ترجمه نمی‌شود.

m, t, r

اما در ترجمه mRNA, rRNA و tRNA مترجمند.

نکته

در مرحله طویل شدن ترجمه، امکان خارج شدن tRNA از جایگاه A امکان پذیر است چون ممکن است tRNA ای که مکمل کدون موجود در جایگاه A نباشد، وارد این جایگاه شود و در این صورت از همان جایگاه از ریبوزوم خارج می‌شود.

← در صورت عدم ایجاد پیوند صحیح

نکته

← با ایجاد پیوند H
← به دنبال حرکت ریبوزوم

هم در مرحله آغاز و هم در مرحله طویل شدن ترجمه ورود tRNA به جایگاه P صورت می‌پذیرد که در مرحله آغاز از بیرون و در مرحله طویل شدن از درون ریبوزوم و از جایگاه A است.

← حامل رتس‌تیلو می‌بند
← حامل

نکته

با حامل جایب ریبوزوم tRNA بدون aa

P ← با تحریک پیوند هیدروژنی

در مرحله طویل شدن tRNA می تواند از درون ریبوزوم و از جایگاه های A^V و E خارج شود، در مرحله پایان

← با حرکت ریبوزوم

نیز tRNA می تواند از جایگاه P از ریبوزوم خارج شود.

tRNA منقل aa

← با تحریک پیوند هیدروژنی

قبل از ایجاد پیوند هیدروژنی

نکته

tRNA انانتر دارد آنتی کدون UAC حامل امینو اسید متیونین

در مرحله آغاز tRNA، از بیرون ریبوزوم به جایگاه P و در طویل شدن از بیرون ریبوزوم به جایگاه A وارد

← یکار 7 پیوند H

می شود اما در هیچ مرحله ای ممکن نیست tRNA از بیرون ریبوزوم به جایگاه E وارد شود.

↓ یکار 2 H

← درود ریبوزوم فاقد aa به E بر ریبوزوم حرکت می دهد.

نکته

همواره آخرین آنتی کدون هایی که به جایگاه P و A ریبوزوم وارد می شوند، یکسان اند.

به چون آخرین کدون کد به A میاد، کدون پایان بوده و آنتی کدون

ندارد.



مؤلف: دکتر مرزا سادات هایونی

نکات ترجمه

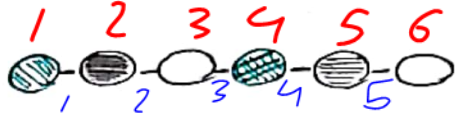
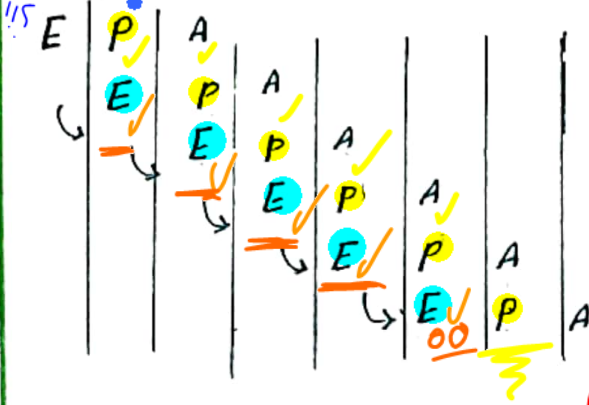
رشته سنتز
رشته القو

ATGCCATTAGTCTCCCTTAAACTTATCCT
TACGGTAAATCAGAGGGAATTTGAATAGGA

توالی ژن

توالی mRNA

AUG CCA UUU AGU CUC CCU UAA ACU UAU CCU



توالی پلی پپتید

تعداد کدون مونو پپتید: $n = 7$

تعداد کدون قابل ترجمه: $(n-1) = 6$ به عنوان مثال

3×7

تعداد نوکلئوتید mRNA: $n < 21$ تعداد نوکلئوتیدها بیشتر از تعداد کدونها

تعداد نوکلئوتید مونو پپتید pro: $3 \times 7 = 21$



تعداد کدونها

تعداد نوکلئوتید موجود در کدون قابل ترجمه: $3 \times 6 = 18$

تعداد مستورد استرین کدونها: $n-1 = 6$ تعداد مستورد استرین کدونها به عنوان تعداد آمینو اسیدها

تعداد مستورد استرین نوکلئوتیدها: تعداد مستورد استرین نوکلئوتیدها کدون: $20 < n$

تعداد مستورد استرین کدونها در پروتئین: $n < 23$ (20 استرین نوکلئوتیدها کدون + 3 کدون در دسترس آغازنده + تعدادی که پروتئین را می‌سازند)

تعداد پیوند هیدروژنی در mRNA: X

تعداد مستورد استرین کدونها: 2 عدد

تعداد پلی پپتیدها: 23

تعداد کدونها موجود در رشته پلی پپتید: $n-1 = 6$ نام کدونها به عنوان مثال

مونو پپتید pro

RNA

تعداد مولکول زینتی حاصل از ترجمه: 1

انواع مولکول زینتی حاصل از ترجمه: 1

مؤلف: دکتر مرزا سادات پیاوینی

$\delta < H < \epsilon$

محل ورود tRNA ← علیه A (طول شش)

H ✓ P (آغاز) ← tRNA ← طول شش (A) آغاز (P) H 7

" " " " ← tRNA ← طول شش (A)

" " " " ← tRNA ← طول شش (P)

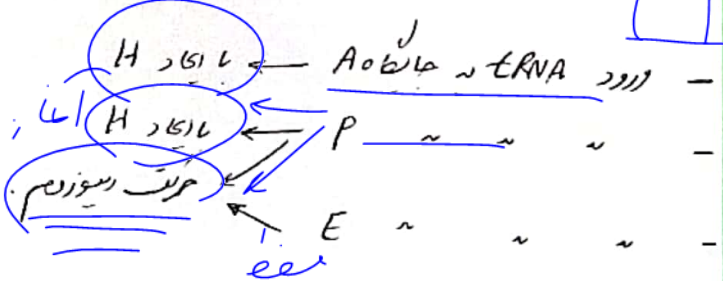
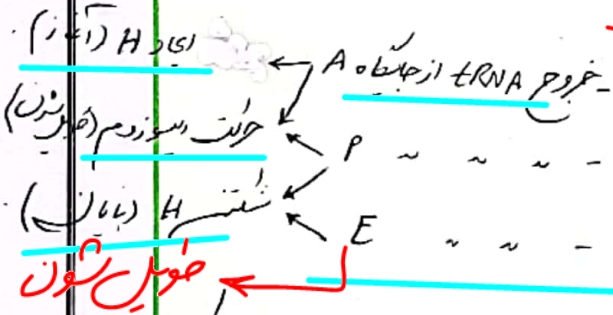
تسلیم می‌کند ← طول شش (A)

" " " " ← tRNA ← طول شش (A)

خروج می‌کند ← tRNA ← طول شش از جایگاه P

" " " " ← tRNA ← طول شش از جایگاه P

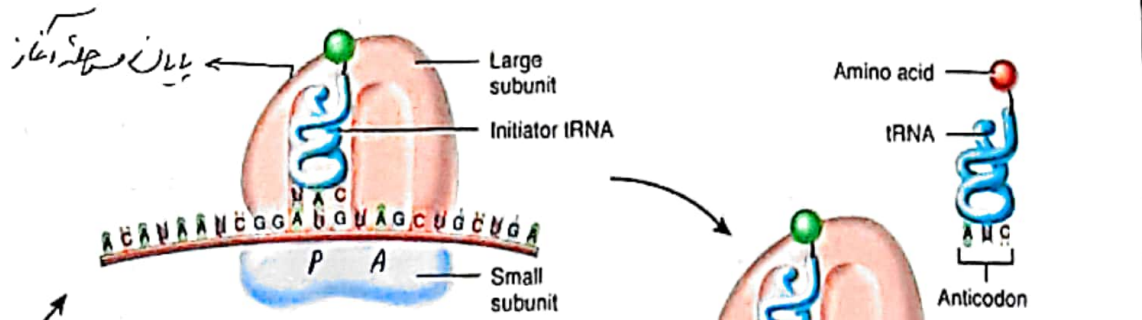
ورود tRNA ← tRNA ← طول شش با اکاد H



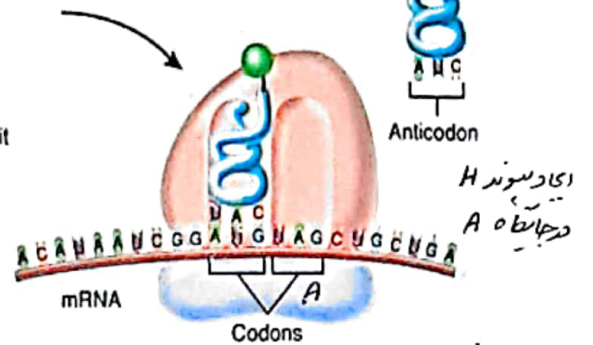
* خروج tRNA فصل به بعد با سلسله میوزوم
 دریم !!
 * تنها کسی که tRNA فصل به بعد با سلسله میوزوم
 به میوزوم وارد می‌شود ← E (با حالت میوزوم)

✓ محل اکاد H ← P (آغاز), A (طول شش)
 ✓ تیر H ← P (باز), E (طول شش)
 ✓ اکاد کوادسی (پهلو) ← A (طول شش)
 ✓ سلسله کوادسی ← P (طول شش و بیان)
 ✓ سلسله کدی ← X

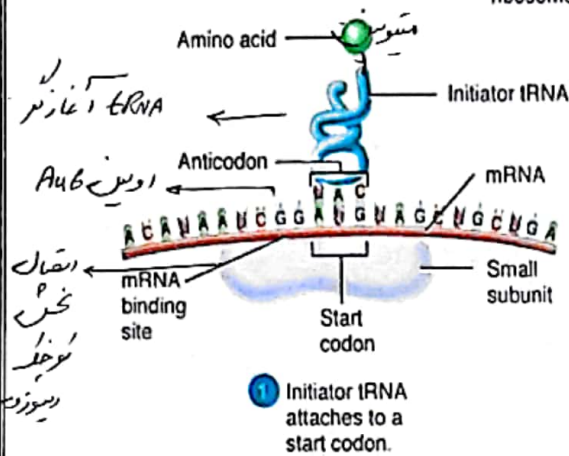
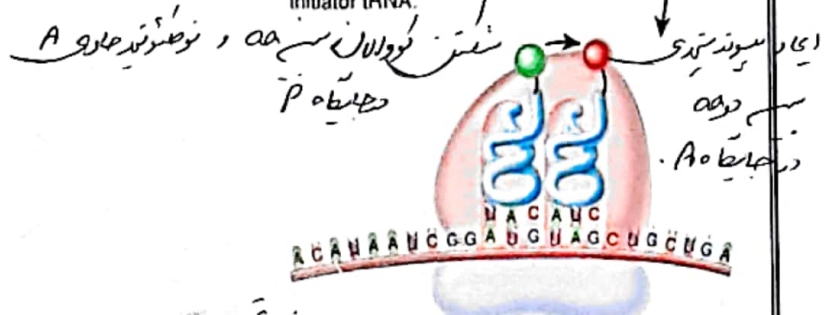
ما برای فصل بعدی



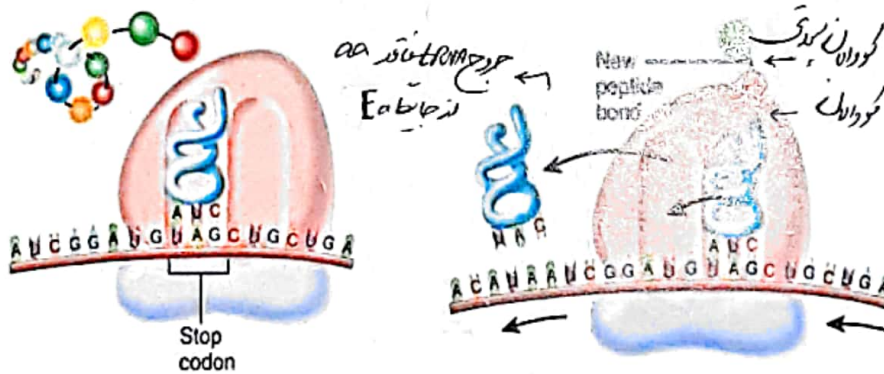
2 Large and small ribosomal subunits join to form a functional ribosome.



3 Anticodon of incoming tRNA pairs with next mRNA codon beside initiator tRNA.



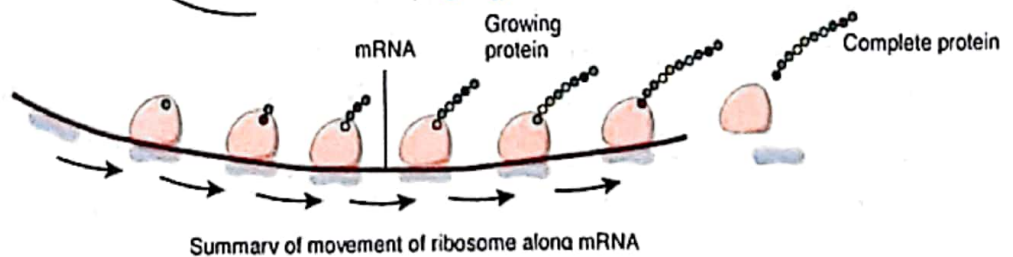
4 Amino acid on initiator tRNA forms a peptide bond with the amino acid beside it.



6 Protein synthesis stops when the ribosome reaches the stop codon on mRNA.

5 Initiator tRNA leaves the ribosome; ribosome shifts by one codon; tRNA binds to newly exposed codon; steps 3 - 5 repeat.

- Key:
- █ = Adenine
 - █ = Guanine
 - █ = Cytosine
 - █ = Uracil



نوع کدونها

کدونها

تعداد کدونها به عدد درخته یونی کدی : $n-2=5$ به واسطه تعداد اسیدهای

انواع کدونها در ساختار ترجمه : انواع - عدد پ - مستوی است - نوع کدی
 تعداد tRNA که امکان ورود به ریبوزوم دارد : 61 نوع
 انواع کدونها موجود در mRNA : 64 نوع



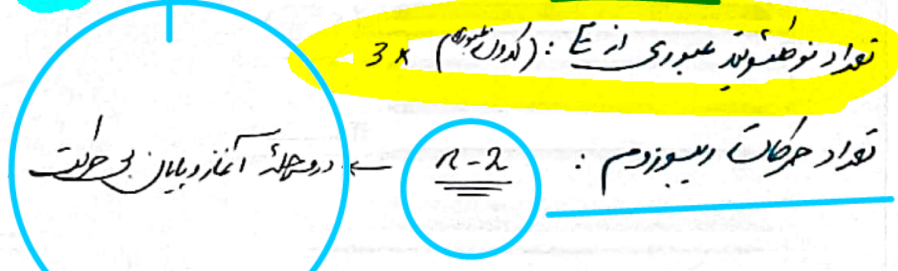
انواع اسیدهای کربوکسی در امکان ورود به ریبوزوم یونی کدی : 61 نوع

تعداد کدونها ورودی به A : $n-1$ (بجز AUG) تعداد کدونها خروجی به A : $n-2$ (کدونها بیان به A در سر رشته خارج می شود)
 تعداد کدونها " " " " به A : $n-2$ (بجز آغاز بیان) تعداد کدونها " " " " : $n-2$

تعداد کدونها ورودی به P : $n-1$ (بجز بیان) تعداد کدونها خروجی به P : $n-2$ (کدونها یونی کدی به آخر وارد P می شود خارج می شود)
 تعداد کدونها " " " " به P : $n-1$ " " " " " " : $n-1$

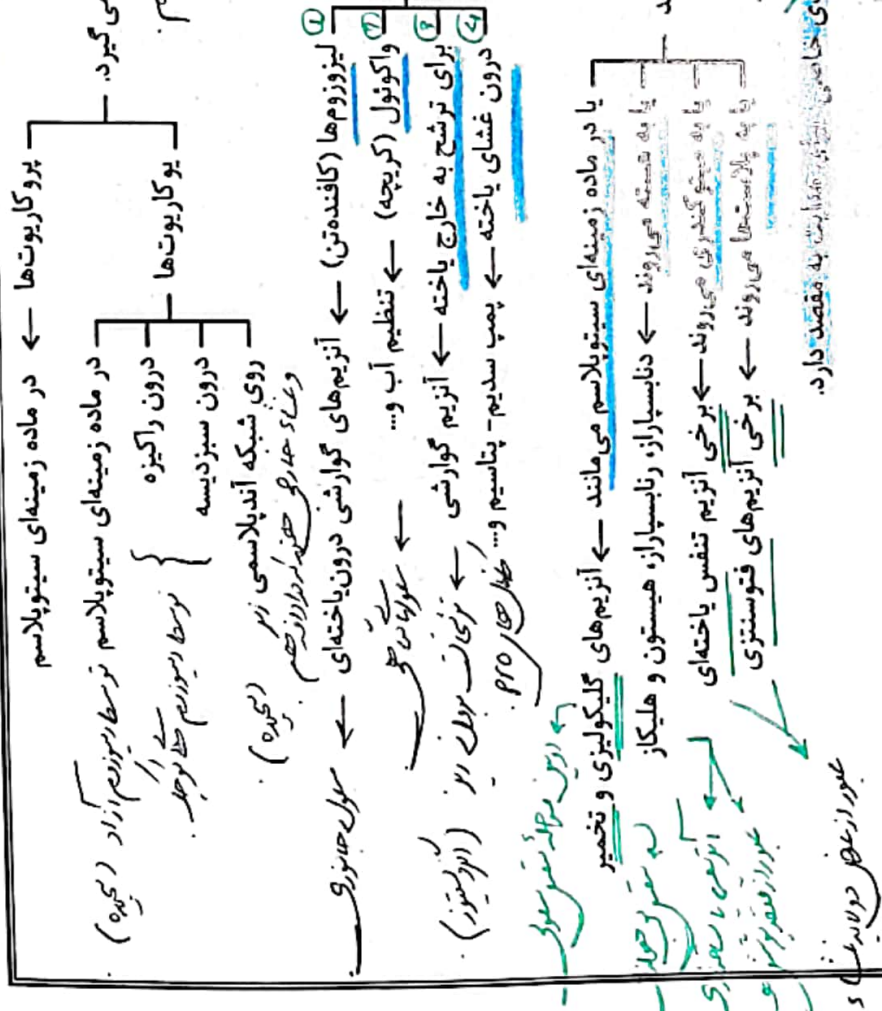
تعداد کدونها ورودی به E : $n-2$ (بجز یونی کدی به آخر وارد E می شود در آغاز)
 تعداد کدونها " " " " به E : $n-2$ " " " " " " : $n-2$

تعداد کدونها ورودی به A : $n-2$ تمام aaها به جز met
 تعداد کدونها خروجی از A : $n-2$ تمام aaها
 " " " " " " " " به P : $n-1$ تمام aaها
 " " " " " " " " به E : $n-2$ تمام aaها



تعداد نقطه اتصال عبوری از E : $(n-2) \times 3$

تعداد حلقه ریبوزوم : $n-2$



در ماده زمینه‌ای سیتوپلاسم

درون راکتیزه

درون سبزیسه

روی شبکه آندپلاسمی زیر (مجربه)

و غایا

لیزوزومها (کافندهتن) ← آنزیمهای گوارشی درون یاخته‌ای ← سولها جازوزوم

واکوتول (گریچه) ← تنظیم آب و ... ← سولها جازوزوم

برای ترشح به خارج یاخته ← آنزیم گوارشی ← تریزات برول زیر (ایزوتوزوم)

درون غشای یاخته ← پمپ سدیم-پتاسیم و ... ظاهر صحر پرو

یا در ماده زمینه‌ای سیتوپلاسم می مانند ← آنزیمهای گلیکولیزی و تخمیر

یا به شبکه می روند ← دانساپاراز، رابساپاراز، هیستون و هلیکاز

یا به میوگنتری می روند ← برخی آنزیم تنفس یاخته‌ای

یا به پاراستها می روند ← برخی آنزیمهای فتوسنتزی

عوامل از بعضی در لایه 5

۱- بعضی از پروتئینها، در ریبوزومهای روی شبکه آندپلاسمی ساخته شده و وارد این شبکه و دستگاه گلژی می شوند و بعد از بسته بندی به سوی موارد مقابل می روند.

حزب نیرط

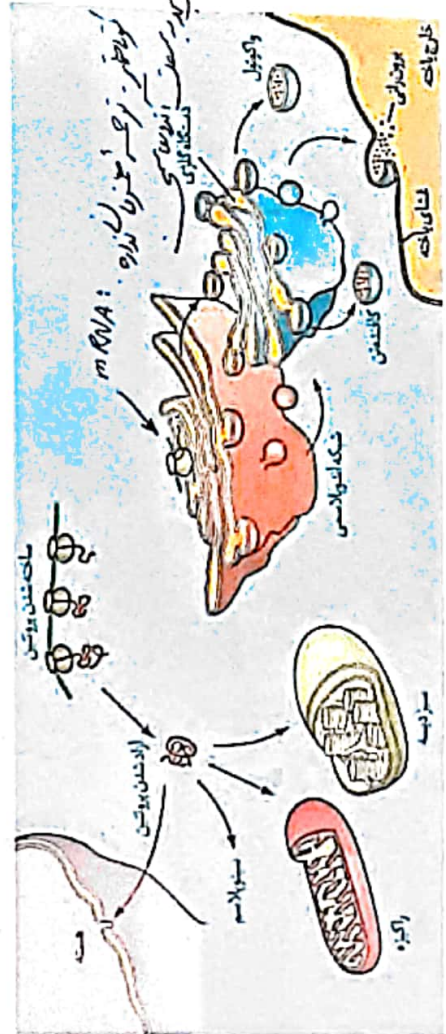
نصرت بن خیره

۲- بعضی از این پروتئینها که در ماده زمینه‌ای سیتوپلاسم تولید می شوند

بازیرت اندری لدر

صحر پرو نیرط

۳- مر پروتئین، بر اساس مقصدی که در یاخته دارد به توانائی های آمینواسیدی خاص می باشد.



مولف: دکتر مرزا سادات پایانی

بسته به نیاز هر یاخته تنظیم می شود.

① به دلیل عدم وجود غشای هسته، پروتئین سازی ممکن است پیش از پایان رونویسی رنای بیک آغاز شود ← رونویسی و ترجمه به صورت همزمان دیده می شود. دید همزمان!

② طول عمر رنای بیک کم است ← در مواردی یاخته آن را پایدارتر می کند. وقتی به محصول نیاز داریم بیشتر

برای پروتئینی که به مقدار زیادی مورد نیاز است، ساخت پروتئین به طور همزمان و پشت سر هم توسط مجموعه ای از راننده ها انجام می شود تا تعداد پروتئین بیشتری در واحد زمان ساخته شود. سرعت ↑↑


در هر جاندار، می توان هم زمانی فعالیت چند مجموعه راننده را از روی یک رنای بیک مشاهده کرد ← افزایش سرعت پروتئین سازی

به ریسورم ها از یاد

تجمع راننده ها در این یاخته ها هم دیده می شوند.

سازگارهایی برای حفاظت رنای بیک در برابر تخریب وجود دارد ← طولانی تر شدن عمر رنای بیک ← فرصت بیشتر برای پروتئین سازی

در این جانداران نمی توان هم زمان فرایند رونویسی و ترجمه را از روی یک رنای بیک مشاهده کرد (به جز در راکتوز و سبزیسیه).



انواع mRNA: انواع mRNA با دارنده ها مختلف سازگارند. انواع آن که نیاز به 490+

انواع mRNA: انواع mRNA با دارنده ها مختلف سازگارند. انواع آن که نیاز به 490+

انواع mRNA: انواع mRNA با دارنده ها مختلف سازگارند. انواع آن که نیاز به 490+

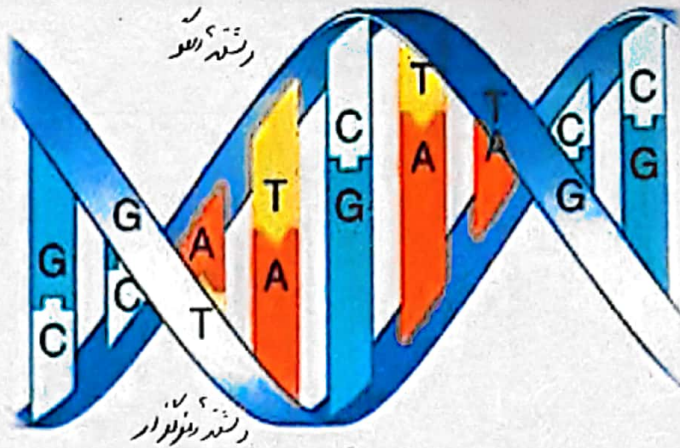
انواع mRNA: انواع mRNA با دارنده ها مختلف سازگارند. انواع آن که نیاز به 490+

انواع mRNA: انواع mRNA با دارنده ها مختلف سازگارند. انواع آن که نیاز به 490+

مؤلف: دکتر مرزا سادات باغبانی

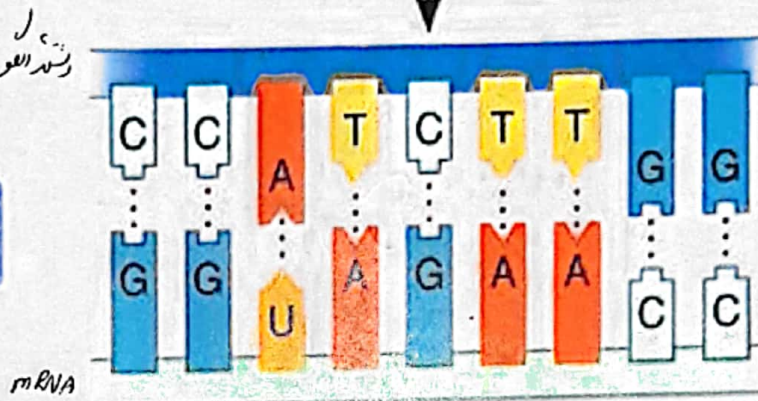
Nucleus

DNA double helix



Transcription

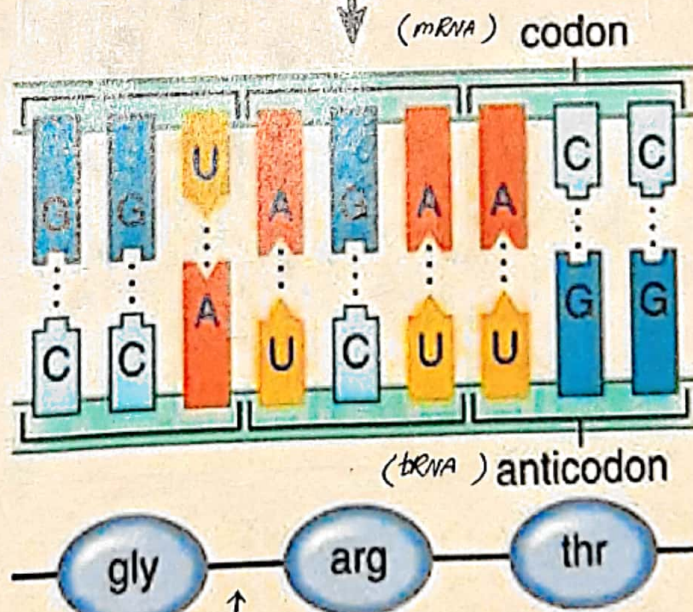
mRNA



Cytoplasm

Translation

Polypeptide



مولف: دکتر زهراسادات بیانی

انواع بافت‌ها در سلولها

سلولها انرژی = سولر $2n = 46$

سلولهای = طالت $n = 23$

$(44A + 44B)$

$(22A + 22B)$

فصل ۲ دوازدهم گفتار ۳: تنظیم بیان ژن

میتوز - نوعی تقسیم هسته سلول که از بدنه سلول، دو سلول جدید تولید می‌کند.

باخته‌های بیکری بدین از تقسیم میتوز باخته تخم منشا می‌گیرند.

باخته‌های حاصل از تقسیم تخم، نظر فام‌تی و ژن‌ها یکسانند - تفاوت آن‌ها در نوع بیان ژن‌های آن‌هاست.

در ادامه تقسیمات و رشد جنین، باخته‌های متفاوت با اعمال مختلف حاصل می‌شوند (شکل و عملکرد متفاوت) - این عمل در اثر تفاوت در صورت می‌گیرد.

روشن شدن ژن (بیان شدن ژن) - هرگاه اطلاعات ژنی در یک باخته مورد استفاده قرار بگیرد، می‌گوییم آن ژن بیان شده است.

خاموش شدن ژن (بیان نشدن ژن) - ژنی که در باخته مورد استفاده قرار نمی‌گیرد و رونویسی نمی‌شود، خاموش است.

دلیل تفاوت باخته‌ها با فام‌تن‌های یکسان - در هر باخته، تعدادی از ژن‌ها فعال و سایر ژن‌ها غیرفعال اند.

مقدار، بازه و زمان استفاده از ژن در باخته‌های مختلف یک جاندار ممکن است فرق داشته باشد.

تنظیم بیان ژن - فرایندی بسیار دقیق و پیچیده است و عوامل متعددی ممکن است بر آن اثر بگذارد - سبب پاسخ جانداران به تغییرات محیطی و سازش آن‌ها می‌شود.

مثال: در گیاه - نور باعث فعال شدن ژن سازنده آنژیومین می‌شود که در فتوسنتز مورد استفاده قرار می‌گیرد - در نبود نور - این ژن رونویسی و بیان نمی‌شود.

مثال: تنظیم بیان ژن متفاوت باعث می‌شود که باخته‌های متفاوتی از باخته‌های بنیادی منفر استخوان ایجاد شود.

محصول ژن، رنا و پروتئین است - تنظیم بیان ژن - می‌تواند باعث افزایش بیان و رونویسی و یا کاهش آن شود.

تنظیم بیان ژن - بیان ژن - سبب افزایش رونویسی می‌شود.

تنظیم بیان ژن در پرکاریوت‌ها - در مواردی ممکن است باخته با تغییر در پایداری رنا و پروتئین، فعالیت آن را تنظیم کند.

عواملی به بیوستن رابسیاراز به توانی راه‌انداز کمک می‌کند (تنظیم مثبت) و یا مانع حرکت رابسیاراز می‌شود (تنظیم منفی).

قند مصرفی ترجیحی باکتری اشریشیا کلاهی، گلوکز است، در صورتی که گلوکز در محیط وجود نداشته باشد و لاکتوز در اختیار

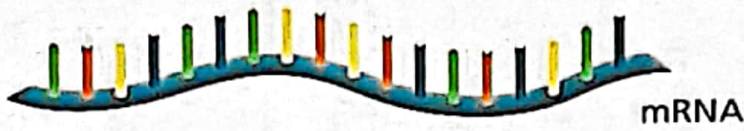
باکتری قرار بگیرد، باکتری می‌تواند از این قند استفاده کند.

ATP - تنفس هوازی - گلوکز - قلب - تنفس

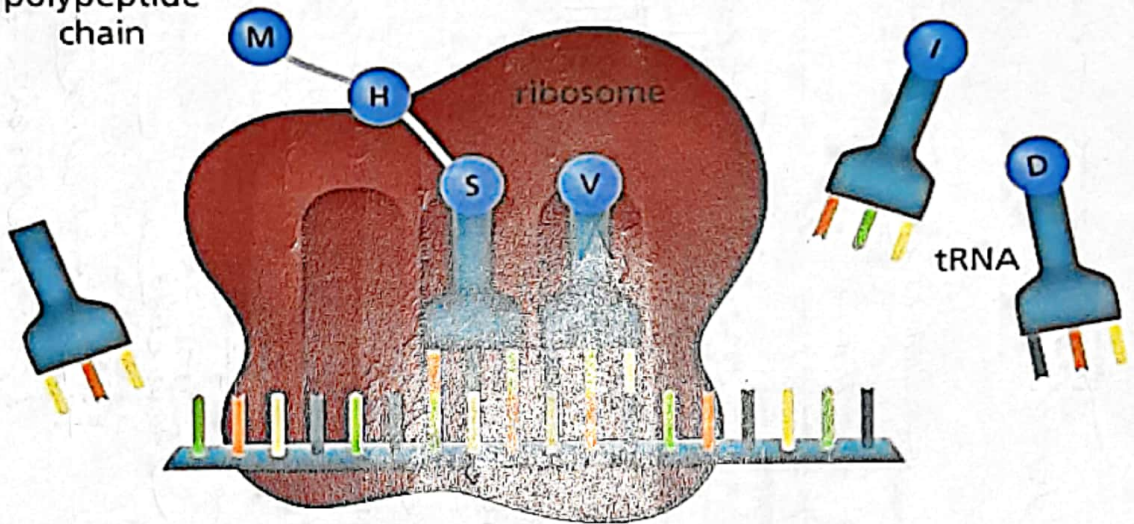
مولف: دکتر مرزا سادات باولیان

cytoplasm






nucleus



polypeptide chain

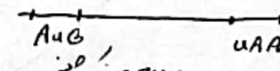
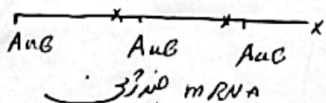


M H S V I D protein

-  Adenine (A)
-  Cytosine (C)
-  Guanine (G)
-  Uracil (U)
-  Amino acid

☆ بدون کد کتران ایتو تو نسی
(بهرت، بهریت)

☆ بدون کد کتران ایتو تو نسی
(بهرت، بهریت)



مولف: دکتر زهراسادات هایونی

صفر 3 درین زمینه اقلویسیان دارند !!

صفر 3 درین فصل نوالی گولای آغاز دیانای پروکس در درجه اولیون

صفر 3 درین نوالی = نوالی عمومی

اپراتور ← نوالی 2 رندهای DNA
 \sqrt{H}
 \sqrt{F}

انواع تنظیم بیان در پروکاریوتها


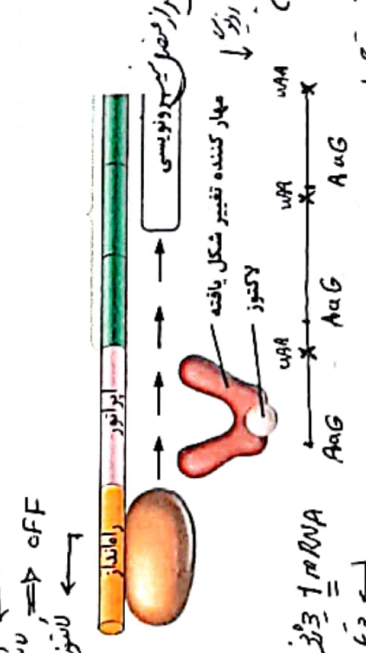
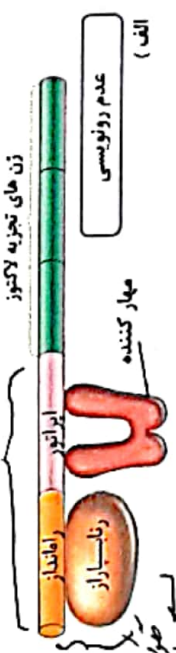
انصال اپراتور

بهارکننده
 ↓
 موصوف بر ریش
 (24)

- 1- در این تنظیم بیان، بین راهانداز و اولین ژن، نوالی اپراتور وجود دارد. اپراتور
- 2- در این نوع تنظیم بیان، پروتئین‌هایی به نام بهارکننده با تمایل زیاد به اپراتور وجود دارند.
- 3- اگر مانعی (بهارکننده) بر سر راه رابسیاراز وجود داشته باشد، رونویسی انجام نمی‌شود.
 \leftarrow Pfo سطحی سرزن آن DNA محتملی
 \leftarrow RNA موصوف بر ریش
- 4- مانع پیش‌روی رابسیاراز نوعی پروتئین به نام بهارکننده است که به اپراتور (نوالی خاصی از دنا) متصل می‌شود.
 \leftarrow RNA موصوف بر ریش
- 5- در این ژن‌ها، رابسیاراز به تنهایی راهانداز را شناسایی می‌کند و مستقیماً به آن متصل می‌شود.
 \leftarrow RNA موصوف بر ریش
- 6- ژن‌های مربوط به تجزیه لاکتوز، به صورت سه ژن مجاور هم بوده که ژن وسط، فاقد نقطه آغاز نوالی بیان رونویسی است.
- 7- این ژن‌ها در صورتی رونویسی و بیان می‌شوند که گلوکوکوس محیط باکتری کنترل لاکتوز در محیط زیاد شود.
 \leftarrow ژن اول صادرگ
 \leftarrow $mRNA$ تکثیر یافته
- 8- در صورت عدم وجود لاکتوز کافی، بهارکننده به اپراتور متصل می‌شود و مانع حرکت رابسیاراز روی دنا می‌شود.
 \leftarrow $mRNA$ تکثیر یافته
- 9- در صورت وجود لاکتوز کافی و کمبود گلوکوکوس، ابتدا مقداری لاکتوز وارد باکتری می‌شود.
 \leftarrow oFf بیان رونویسی
 \leftarrow $mRNA$ تکثیر یافته
- 10- لاکتوز موجود در باکتری، با اتصال به بهارکننده، شکل آن را تغییر می‌دهد.
 \leftarrow oFf بیان رونویسی
- 11- تغییر شکل بهارکننده، آن را از اپراتور جدا می‌کند و مانع اتصال آن‌ها به اپراتور می‌شود.
 \leftarrow oFf بیان رونویسی
- 12- در این حالت رونویسی ادامه می‌یابد و رابسیاراز روی دنا حرکت کرده و از ابتدای ژن اول شروع به رونویسی می‌کند.
 \leftarrow oFf بیان رونویسی
- 13- ابتدا یک مولکول رابسیاراز یک ساخته می‌شود که رونویست هر سه ژن را در خود دارد.
 \leftarrow oFf بیان رونویسی
- 14- محصولات ترجمه این ژن‌ها از جمله مستند که با هیدرولیز تجزیه لاکتوز را ممکن می‌کند تا مقداری گلوکوکوس و گالاکتوز ایجاد شود.
 \leftarrow oFf بیان رونویسی

* جریان oFf ← موصوف بر ریش
 * oFf ← موصوف بر ریش

۱۰ صفر 3 درین موصوف بر ریش موصوف بر ریش



مولف: دکتر مرآتادات پایانی
 تولید موصوف بر ریش (Pfo + Pfo)
 (24) نوع موصوف بر ریش

* نشان می‌دهد به نحوی راه انداز توسط RNA می‌وزار ← تنظیم معنی در پروتئین‌ها!

* نشان می‌دهد به نحوی راه انداز توسط RNA می‌وزار به وسیله Pro (عوامل تنظیمی) : پروتئین‌ها
 تنظیم و تنظیم مثبت پروتئین (فعال کننده پروتئین)

ژن Pro تنظیمی مهارکننده

ژن Pro تنظیمی فعال کننده

حیله در DNA جفتی وجود دارد
 حاصل ترجمه در سوزوم کوچک

حیله در DNA جفتی وجود دارد
 حاصل ترجمه در سوزوم کوچک

ON : زمان حضور طولانی یا عدم حضور لاکتوز

زمان روشن شدن : زمان حضور لاکتوز و فقدان طولانی
 در محیط باکتری

انداژن Pro مهارکننده ON و مس یا انتقال به ابراتور
 باعث OFF شدن ژن لاکتاز می‌شود

(بعد از ورود لاکتوز به باکتری - سبک پروتئین فعال
 شده ژن مانع از بیان می‌شود)

OFF : عدم حضور طولانی و حضور لاکتوز در محیط باکتری
 و لاکتوز وارد باکتری و باعث روشن شدن
 ژن لاکتاز می‌شود !!
 بعد ژن Pro مهارکننده OFF

ژن OFF : زمان حضور طولانی یا فقدان لاکتوز
 انداژن لاکتاز OFF و سبک پروتئین
 فعال شده (OFF)

انداژن ON ژن مهارکننده بعد OFF ژن لاکتاز
 انداژن ON ژن لاکتاز بعد OFF ژن مهارکننده

ON : اول ژن Pro فعال شده ON بعد ژن Pro مانع از ON
 " " مانع از OFF " " فعال شده OFF

اول حادوی تولید جایگاه آغاز سمندرت در اول بیان حادوی تولید بیان در DNA جنوری

- ۱. ریشه آلومینیوم
- ۲. هر یک از آغاز بیان در ریشه آلومینیوم
- ۳. بیان بیان
- ۴. اتصال اتصال

تنظیم مثبت رونویسی

۱- در این روش، پروتئین‌های خاصی به نام فعال کننده به رانسباراز کمک می‌کنند تا بتواند به راه انداز متصل شود و رونویسی را شروع کند. RNA پلی سرانجکتی که اندر به نام بیان

۲- در این زن ها، راه انداز به اولین زن متصل است و فاصله ای بین آن ها وجود ندارد. راه انداز

۳- در این روش، مانعی در سر راه رانسباراز متصل به دنا وجود نخواهد داشت.

۴- در این زن ها، قبل از راه انداز، جایگاه اتصال پروتئین فعال کننده روی دنا وجود دارد.

۵- زن های مربوط به تجزیه مالتوز، به صورت سه زن مجاور هم می باشد که هدف آن ها تجزیه مالتوز است.

۶- این زن ها در حالتی بیان می شوند که مالتوز در محیط باکتری زیاد و گلوکز کم باشد.

۷- قند مالتوز مثالی از آن است که با حضور این قند در محیط باکتری، آنزیم‌هایی در درون آن ساخته می شود که قند مالتوز را تجزیه کند.

۸- در حضور قند مالتوز نوعی از پروتئین‌ها به نام فعال کننده وجود دارند که به توانی های خاصی از دنا در قبل از راه انداز متصل می شوند.

۹- این توانی خاصی جایگاه اتصال فعال کننده نام دارد که به راه انداز متصل است و ولنی یا زن ها فاصله دارد.

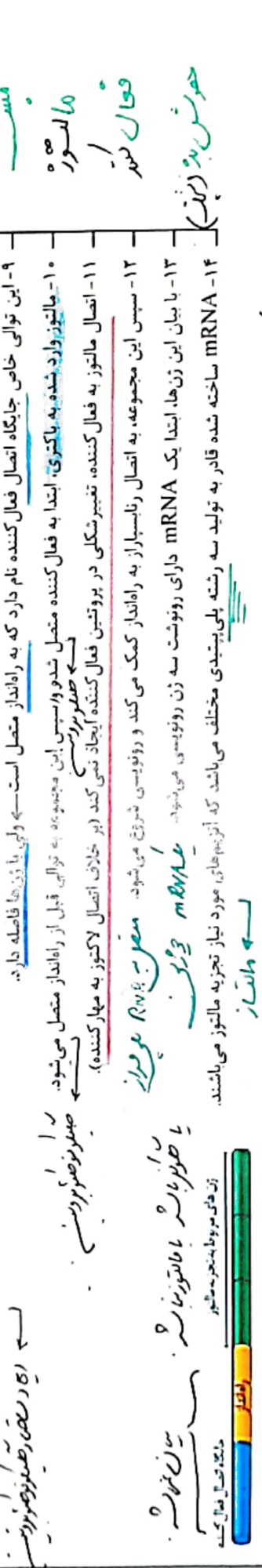
۱۰- مالتوز وارد شده به باکتری، ابتدا به فعال کننده متصل شده و سپس این مجموعه به توانی قبل از راه انداز متصل می شود.

۱۱- اتصال مالتوز به فعال کننده، تغییر شکلی در پروتئین فعال کننده ایجاد نمی کند (بر خلاف اتصال لاکتوز به مهار کننده).

۱۲- سپس این مجموعه، به اتصال رانسباراز به راه انداز کمک می کند و رونویسی شروع می شود. معرف RBS بیان

۱۳- با بیان این زن ها، ابتدا یک mRNA دارای رونوشت سه زن رونویسی می شود. عبارت mRNA و ژن یا ظهور بیان

۱۴- mRNA ساخته شده قادر به تولید سه رشته پلی پپتیدی مختلف می باشد که آنزیم های مورد نیاز تجزیه مالتوز می باشد.



- 1- مالتوز + فعال کننده = ظهور بیان (1)
 - 2- ظهور بیان + حیطه اتصال فعال کننده = ظهور ظهور بیان (2.5) B
 - 3- اتصال اتصال ظهور ظهور بیان = RNA پلی سرانج = اتصال پروتئین ظهور ظهور بیان
 - 4- رانسباراز باعث اتصال ظهور ظهور بیان = RNA پلی سرانج - راه انداز
- ۵۴

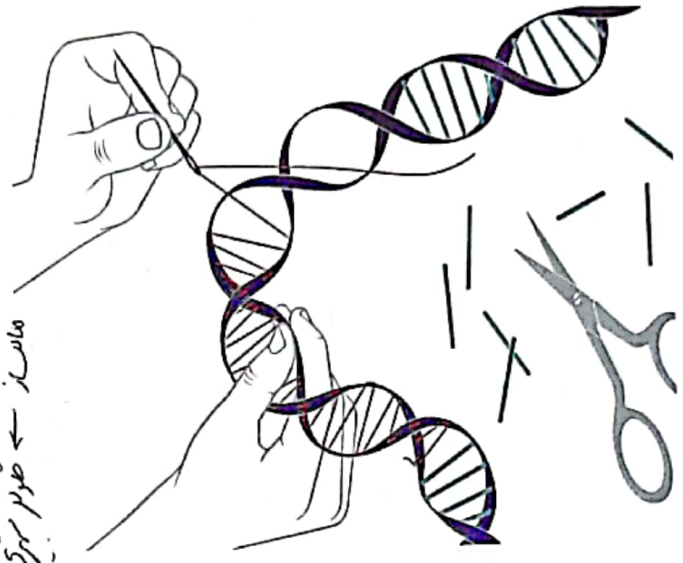
در هر دو مورد، سه زن مجاور هم وجود دارد که همگی توسط یک راه انداز بیان می شوند. اینجا در توالی mRNA سه کدون آغاز بیان (زن دوم آن‌ها فاقد نقطه آغاز و توالی پایان رونویسی می باشد) از پس از صورت زرد رنگ اول این سه زن، فقط یک نقطه آغاز رونویسی در ابتدای زن اول و یک توالی پایان رونویسی در انتهای زن سوم دارند. در زن ششمی با بیان آن‌ها، ابتدا یک رشته پلی نوکلئوتیدی mRNA رونویسی می شود. ← mRNA سفید رنگ

هر mRNA آن‌ها، سه رمز آغاز و سه رمز پایان ترجمه دارد. ← بزرگی صورت زرد رنگ آغاز بیان در mRNA از روی mRNA آن‌ها، سه رشته پلی پپتید ایجاد می شود که سه آنزیم تک رشته‌ای با ساختار نهایی سوم پروتئینی می باشد. ← لنتها و ملتهارها محصولات آن‌ها، آنزیم‌های هیدرولیز کننده دی ساکاریدها می باشند که در کمبود گلوکز ایجاد شده‌اند. ← آنزیم‌های نهایی آن‌ها در کمبود گلوکز ایجاد شده‌اند ولی سبب افزایش گلوکز درون باکتری می شوند.

مانند ← صورت سبز تولید کنند

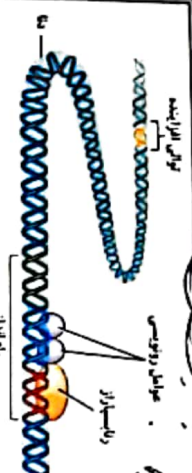
مانند ← تولید سریع میوزوم : صورت زرد رنگ

مانند ← 1 و 2 و 3

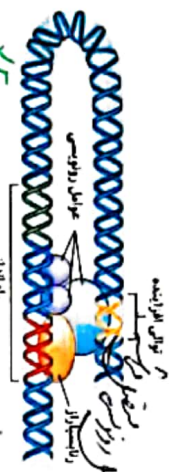


مؤلف: دکتر مرزا سادات پالویی

دوره‌های RNA



در یوکاریوت، رانسپاز نمی‌تواند به تنهایی راه‌انداز را شناسایی کند و نیازمند پروتئین‌هایی به نام عوامل رونویسی است. عوامل رونویسی با اتصال به نواحی خاصی از راه‌انداز، رانسپاز را به محل راه‌انداز هدایت می‌کند.



چون اتصال پروتئین عوامل رونویسی به راه‌انداز در اثر عواملی تغییر می‌کند، مقدار رونویسی ژن هم تغییر می‌کند. ممکن است عوامل رونویسی دیگری به بخش‌های خاصی از دنا در پشت راه‌انداز و با فاصله‌ای به نام توالی افزایشده متصل شوند. با پیوستن این پروتئین‌ها به توالی افزایشده و ایجاد خمیدگی در دنا، عوامل رونویسی در کنار هم قرار می‌گیرند. با کنار هم قرار گرفتن این عوامل سرعت رونویسی و افزایش می‌دهد. توالی‌های افزایشده ممکن است نزدیک و با در فاصله دورتری از ژن قرار داشته باشند. اتصال این پروتئین‌های عامل رونویسی بر سرعت و مقدار رونویسی ژن مؤثر است.

عوامل رونویسی روی افزایشده بعد از ایجاد خمیدگی، به عوامل و رانسپاز روی راه‌انداز متصل می‌شوند. امکان رونویسی در کروموزوم فشرده و حاوی هیستون زیاد، درگاه‌های بیرون‌زدگی کروموزوم ضروری است. کمتر از سایر کروموزومهاست - در هنگام تقسیم باخته احتمال رونویسی کمتر می‌شود. با تغییر در میزان فشردگی فامین در بخش‌های خاصی، میزان دسترسی رانسپاز حاصل رونویسی RNA میسر می‌گردد. ۱- از کار رفتن در پیلان کردن رونو آغاز ترجمه جلوگیری می‌کند. ۲- با تجربی رای یک، عمل ترجمه را متوقف می‌کند -> تحول عمر، رای یک را کاهش می‌دهد.

پیشن از رونویسی - در سطح فامینی است - حاصل رونویسی RNA میسر می‌گردد. به آن مورد نظرت تنظیم می‌کند - امکان رونویسی و بیان ژن در اینترنار تقسیم بیشتر است. حاصل رونویسی RNA میسر می‌گردد. به آن مورد نظرت تنظیم می‌کند - امکان رونویسی و بیان ژن در اینترنار تقسیم بیشتر است. حاصل رونویسی RNA میسر می‌گردد. به آن مورد نظرت تنظیم می‌کند - امکان رونویسی و بیان ژن در اینترنار تقسیم بیشتر است.

تنظیم بیان ژن در یوکاریوتها، پیچیده‌تر از پروکاریوتهاست و می‌تواند در مراحل بیشتری انجام شود. در این باخته‌ها، تنظیم بیان ژن‌ها در هیپت و برخی در اگریه و دیسه قرار دارند. باخته‌های آن‌ها به وسیله نشانها به بخش‌های مختلفی تقسیم شده‌اند. باخته در هسته، اگریه و پلاست می‌تواند بر بیان ژن‌ها نظارت کند. یوکاریوتها تنظیم بیان ژن در هیپت و پلاست می‌تواند بر بیان ژن‌ها نظارت کند. یوکاریوتها تنظیم بیان ژن در هیپت و پلاست می‌تواند بر بیان ژن‌ها نظارت کند.

تنظیم بیان ژن در پروکاریوتها، پیچیده‌تر از پروکاریوتهاست و می‌تواند در مراحل بیشتری انجام شود. در این باخته‌ها، تنظیم بیان ژن‌ها در هیپت و برخی در اگریه و دیسه قرار دارند. باخته‌های آن‌ها به وسیله نشانها به بخش‌های مختلفی تقسیم شده‌اند. باخته در هسته، اگریه و پلاست می‌تواند بر بیان ژن‌ها نظارت کند. یوکاریوتها تنظیم بیان ژن در هیپت و پلاست می‌تواند بر بیان ژن‌ها نظارت کند.

تنظیم بیان ژن در پروکاریوتها، پیچیده‌تر از پروکاریوتهاست و می‌تواند در مراحل بیشتری انجام شود. در این باخته‌ها، تنظیم بیان ژن‌ها در هیپت و برخی در اگریه و دیسه قرار دارند. باخته‌های آن‌ها به وسیله نشانها به بخش‌های مختلفی تقسیم شده‌اند. باخته در هسته، اگریه و پلاست می‌تواند بر بیان ژن‌ها نظارت کند. یوکاریوتها تنظیم بیان ژن در هیپت و پلاست می‌تواند بر بیان ژن‌ها نظارت کند.

تنظیم بیان ژن در پروکاریوتها، پیچیده‌تر از پروکاریوتهاست و می‌تواند در مراحل بیشتری انجام شود. در این باخته‌ها، تنظیم بیان ژن‌ها در هیپت و برخی در اگریه و دیسه قرار دارند. باخته‌های آن‌ها به وسیله نشانها به بخش‌های مختلفی تقسیم شده‌اند. باخته در هسته، اگریه و پلاست می‌تواند بر بیان ژن‌ها نظارت کند. یوکاریوتها تنظیم بیان ژن در هیپت و پلاست می‌تواند بر بیان ژن‌ها نظارت کند.

مولف و کترمز اطلاعات بافتی

اندازه مستعدی و ضرورت

✓ در باکتری‌ها، DNA حلقوی ممکن است چندین ژن تحت نظارت یک راه‌انداز و اپراتور باشد که از توالی جمعاً یک اپران چند ژنی را بسازند. در صورت رونویسی اپران یک mRNA ساخته می‌شود که به تعداد ژن‌ها کدون آغاز و پایان دارد و پس از ترجمه به تعداد ژن‌ها پلی‌پپتید ساخته می‌شود.

مسئله‌سازی

۱- چند نوع کدون فاقد یوراسیل در سلول قابل تصور است؟ $3 \times 3 \times 3 = 27$ در محیط اول توسط نوع در محیط اول

۲- چند نوع کدون در سلول قابل تصور است که نوکلئوتید اول u می‌باشد؟ $1 \times 4 \times 4 = 16$ در محیط اول توسط سایر

۳- چند نوع کدون در سلول قابل تصور است که فقط نوکلئوتید اول آن u باشد؟ $1 \times 3 \times 3 = 9$ یا در محیط اول یا دوم یا سوم

۴- چند نوع کدون در سلول قابل تصور است که تنها دارای ۱ نوکلئوتید u دار باشد؟ $(1 \times 3 \times 3) = 9$

۵- چند نوع کدون در سلول قابل تصور است که حداقل دارای ۱ نوکلئوتید u دار باشد؟ $1 \times 3 \times 3 + 1 \times 3 \times 1 + 1 \times 1 \times 1 = 27$

$1 \times 3 \times 3 + 1 \times 3 \times 1 + 1 \times 1 \times 1 = 27$

۶- به کمک بازهای آلی تک حلقه‌ای بکار رفته در DNA چند نوع کدون می‌توان ساخت؟ CCC

۷- چند نوع کدون قابل ترجمه فاقد نوکلئوتیدی C دار در سلول قابل تصور است؟ $3 \times 3 \times 2 = 27 - 3 = 24$ به جز اینها

۸- چند نوع کدون قابل ترجمه در سلول قابل تصور است که نوکلئوتید اول آن دارای باز u باشد؟ $1 \times 4 \times 4 = 16 - 3 = 13$ به جز اینها

۹- چند نوع کدون قابل ترجمه در سلول قابل تصور است که نوکلئوتید وسط آن دارای باز A باشد؟ $4 \times 1 \times 4 = 16 - 2 = 14$ به جز اینها


۱۰- چند نوع کدون قابل ترجمه در سلول قابل تصور است که فقط نوکلئوتید آخر آن دارای باز A باشد؟ $3 \times 3 \times 1 = 9 - 1 = 8$ به جز اینها

۱۱- چند نوع آنتی کدون در سلول قابل تصور است که نوکلئوتید وسط آن دارای u باشد؟ $4 \times 1 \times 4 = 16 - 2 = 14$ { AUC, AUU } نداریم

۱۲- چند نوع کدون در سلول قابل تصور است که فقط دارای دو نوکلئوتید u دار باشد؟ $(1 \times 1 \times 3) = 3$ یا دو تایی اول، یا دو تایی آخر، یا دو تایی میانی

Amino acids

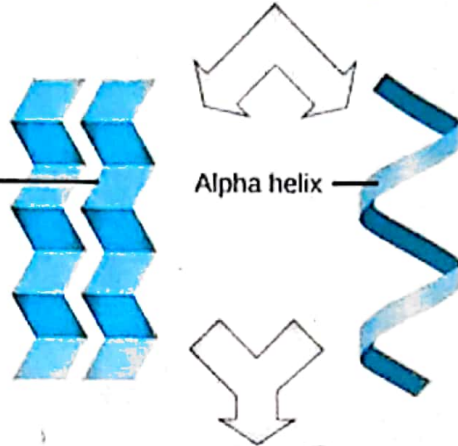
ساختار اول



Primary protein structure
sequence of a chain of amino acids

Pleated sheet

ساختار دوم



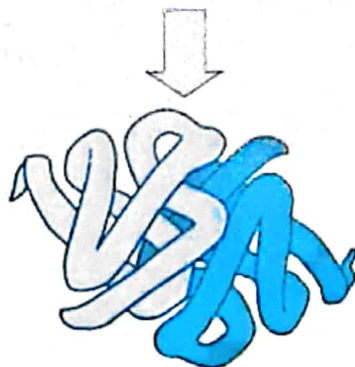
Secondary protein structure
hydrogen bonding of the peptide backbone causes the amino acids to fold into a repeating pattern

ساختار سوم



Tertiary protein structure
three-dimensional folding pattern of a protein due to side chain interactions

ساختار چهارم



Quaternary protein structure
protein consisting of more than one amino acid chain

زیست‌شناسی ۳

فصل ۲ (جرمان اطلاعات دریاخته)

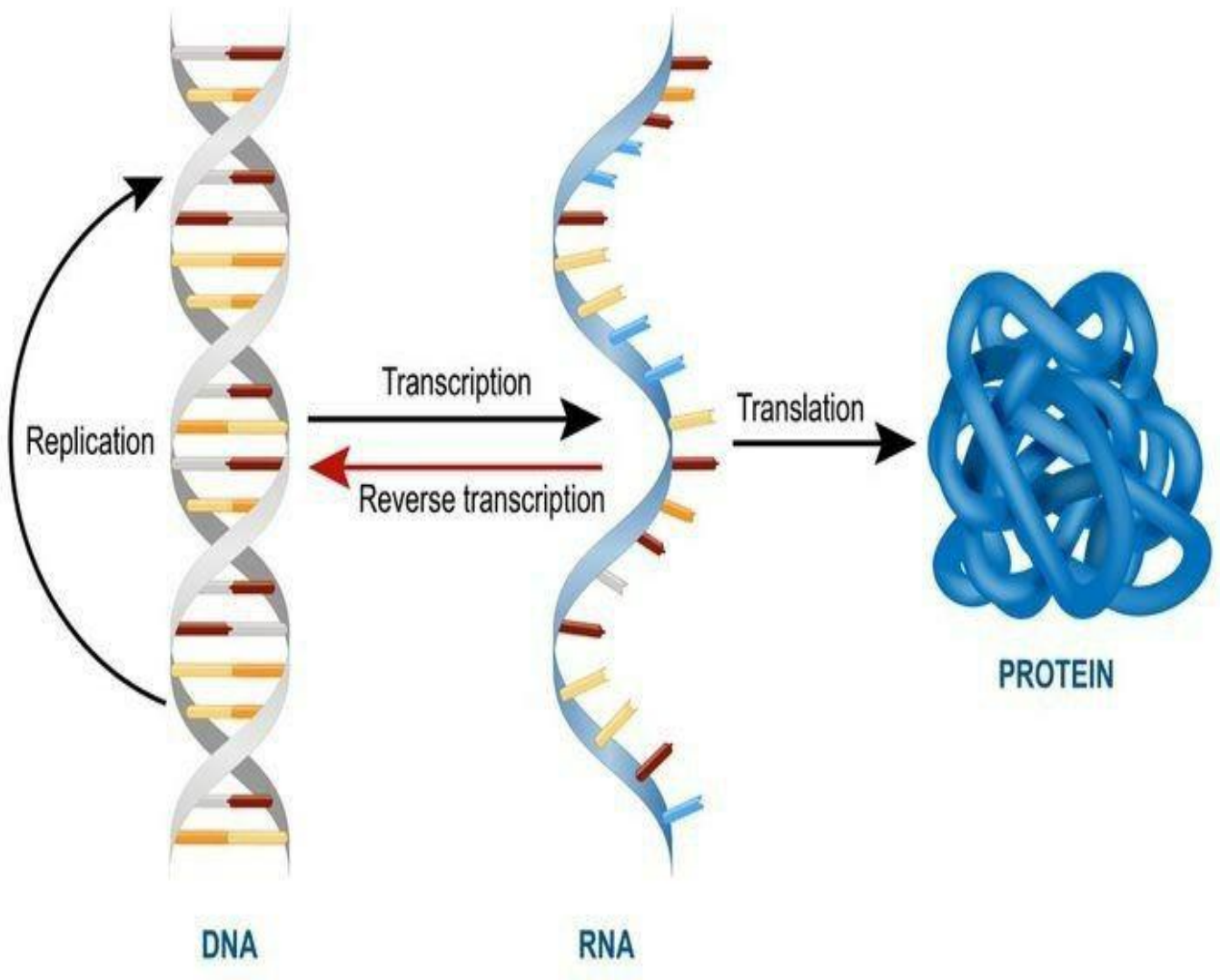
• گفتار ۱: رونویسی

• گفتار ۲: به سوی پروتئین

• گفتار ۳: تنظیم بیان ژن

مولف: دکتر زهرا سادات هایونی

Transcription and Translation



فصل ۲

گفتار ۱: رونویسی

* بیماری کم خونی داسی شکل:

- ✓ علت بیماری: نوعی تغییر ژنی که باعث می‌شود پروتئین هموگلوبین حاصل از آن دچار تغییر شود که نتیجه آن تغییر شکل RBC از حالت گرد به داسی شکل است.
- بسیار تغییر ژنی: جزئی است و در آن تنها یک جفت نوکلئوتید در DNA تغییر می‌کند (جهش)
- ✓ باعث نشان دادن رابطه DNA و پروتئین می‌شود:
- * در واقع دستورهایی موجود در DNA هسته به صورت pro درآمده و آن proها تمام دستورات DNA را انجام می‌دهند.
- ✓ سؤال مهم: مگه همه سلول‌های بدن حاصل از میتوز زیگوت اولیه نیستند؟ پس باید همگی مشابه یکدیگر باشند (بر اساس اصل میتوز) پس چرا یکی مثل RBC یکی مانند سلول‌های پوششی؟

بیماری کم‌خونی داسی شکل

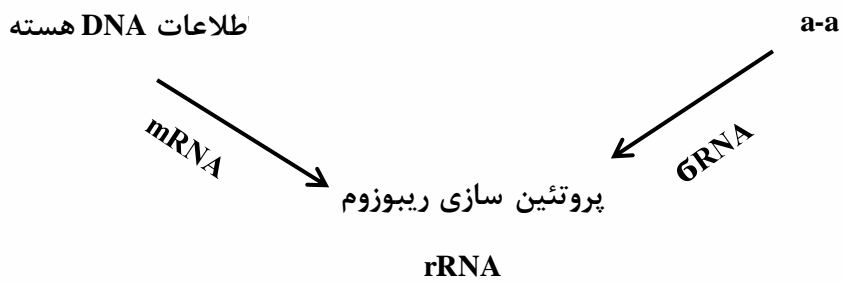
- نوعی بیماری ارثی مستقل از جنس نهفته می‌باشد که به صورت $Hb^S Hb^S$ در فرد بروز می‌یابد.
- جهش ژنی جانشینی کوچک در یک جفت نوکلئوتید دارند.
- فقط در ششمین آمینواسید زنجیره بتای هموگلوبین با نوع طبیعی تفاوت دارند ← والین به جای گلوتامیک اسید دارند.
- این بیماری ارتباط بین ژن و پروتئین را نشان می‌دهد.
- هموگلوبین و گویچه قرمز این افراد به جای گرد بودن، به صورت داسی شکل می‌باشد.
- افراد بیمار ($Hb^S Hb^S$) و ناقل سالم ($Hb^A Hb^S$) بر خلاف افراد فاقد ال بیماری $Hb^A Hb^A$ ، نسبت به مالاریا مقاوم هستند.
- افراد بیمار معمولاً به سن بلوغ نمی‌رسند و می‌میرند.

* علت وجود ساختاری بنام rRNA؟!*

- ✓ دانشمندان اطلاع داشتند که تمامی دستورات در DNA موجود در هسته یک سلول یوکاریوت می‌باشد. از طرفی فرایند پروتئین‌سازی توسط ریبوزوم‌های موجود در سیتوپلاسم اتفاق می‌افتد.



سؤال پیش آمد که یکی باید باشد که اطلاعات را از DNA هسته به ریبوزوم سیتوپلاسم برسونه و این وظیفه رو نوعی RNA به عهده می‌گیرد. زیرا RNA هم در هسته و هم در سیتوپلاسم است.




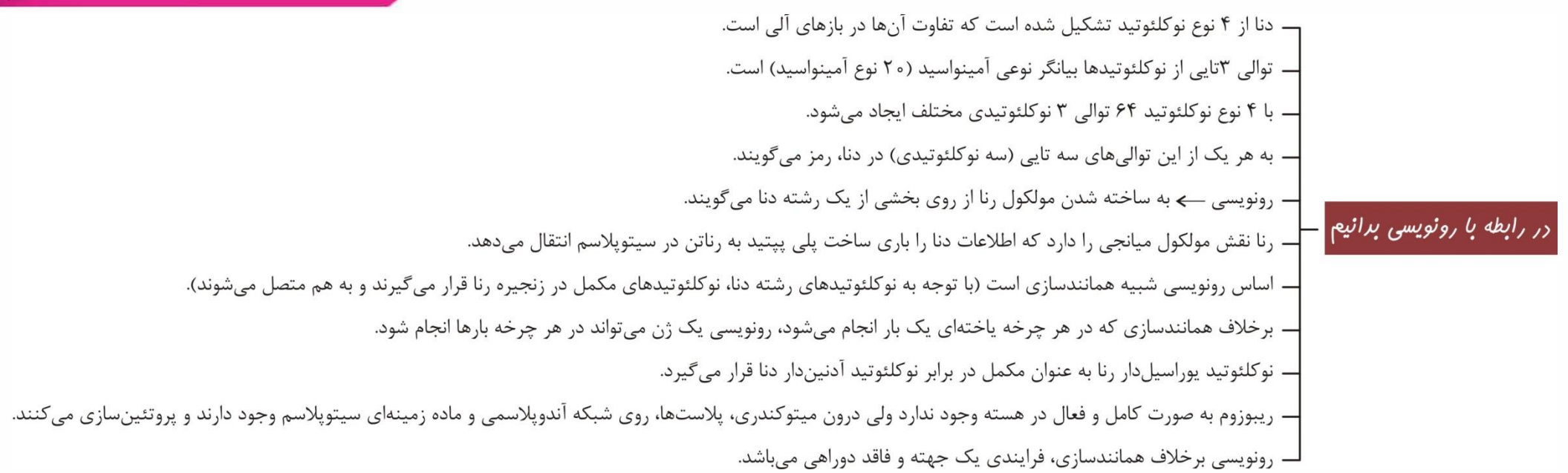
- هر توالی ۳ تایی از نوکلئوتیدها بیانگر یک آمینو اسید aa \Leftarrow به همین ترتیب از روی توالی از DNA، پلی‌پپتید ساخته می‌شود.
- \Leftarrow گاهی ۱ پلی‌پپتید و گاهی چند پلی‌پپتید تشکیل دهنده یک pro.

۴ نوع نوکلئوتید

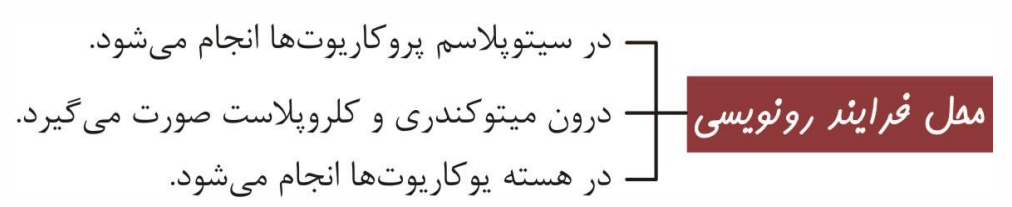
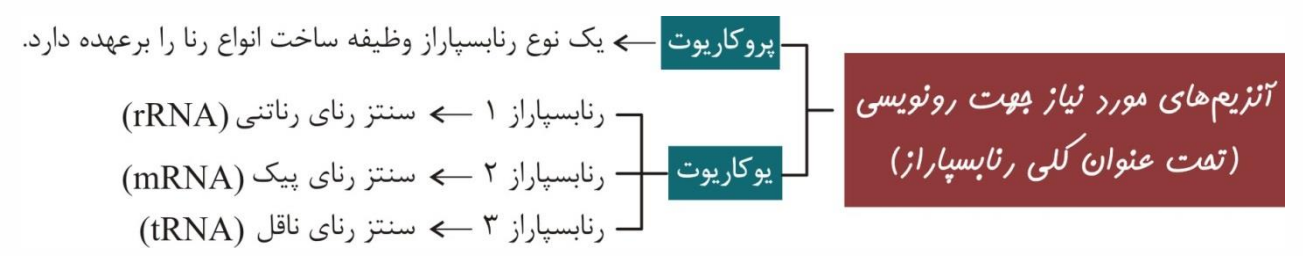
$$\begin{array}{c} \uparrow \\ 4 \quad 4 \quad 4 = 64 \\ \downarrow \end{array}$$

توالی ۳ تایی نوکلئوتید





* در واقع ما ۶۴ نوع دستور برای aaها داریم و با توجه به اینکه ۲۰ aa ضروری داریم می‌توان فهمید گاهی هر aa چندین دستور دارد.



همانند عمل همانندسازی به صورت پیوسته صورت می‌گیرد.

مرحله آغاز

- ۱- رنابسپاراز توالی‌های نوکلئوتیدی ویژه‌ای در دنا به نام راه‌انداز را برای رونویسی ژن از محل صحیح خود شناسایی می‌کند ← آنزیم روی هر دو رشته دنا قرار می‌گیرد.
- ۲- راه‌انداز موجب می‌شود رنابسپاراز اولین نوکلئوتید مناسب را به طور دقیق پیدا و تولید رنا را از آنجا آغاز کند.
- ۳- RNA پلیمراز (رنابسپاراز)، بخش کوچکی از مولکول دنا را باز می‌کند.
- ۴- نوکلئوتیدهای سه فسفات با قند ریبوز روبه‌روی رشته الگوی دنا قرار می‌گیرند.
- ۵- دو فسفات نوکلئوتید جدید با شکستن پیوند اشتراکی جدا می‌شود و سپس به نوکلئوتید قدیم یا پیوند فسفودی‌استر متصل می‌شود.
- ۶- زنجیره کوتاهی از رنا در این مرحله ساخته می‌شود.
- ۷- در این مرحله، پیوند هیدروژنی بین دو رشته دنا شکسته و بین رنا و دنا تشکیل می‌شود.
- ۸- در این مرحله، پیوند اشتراکی بین فسفات‌های هر نوکلئوتید شکسته می‌شود.
- ۹- در این مرحله، تعداد کمی پیوند فسفودی‌استر بین نوکلئوتیدهای ریبوزدار متصل می‌شود.

مراحل رونویسی
(فرایندی پیوسته)

مرحله طویل شدن

- ۱- رنا بسپاراز ساخت رنا را ادامه می‌دهد.
- ۲- دو رشته دنا در جلوی آن باز و RNA سازی ادامه می‌یابد و در چندین نوکلئوتید عقب‌تر، رنای در حال تولید از دنا جدا می‌شود.
- ۳- دو رشته دنا مجدداً به هم می‌پیوندند.
- ۴- در این مرحله پیوند هیدروژنی بین رنا و دنا، هم تشکیل و هم شکسته می‌شود.
- ۵- بیشترین پیوند فسفودی‌استر رنا در این مرحله تشکیل می‌شود.

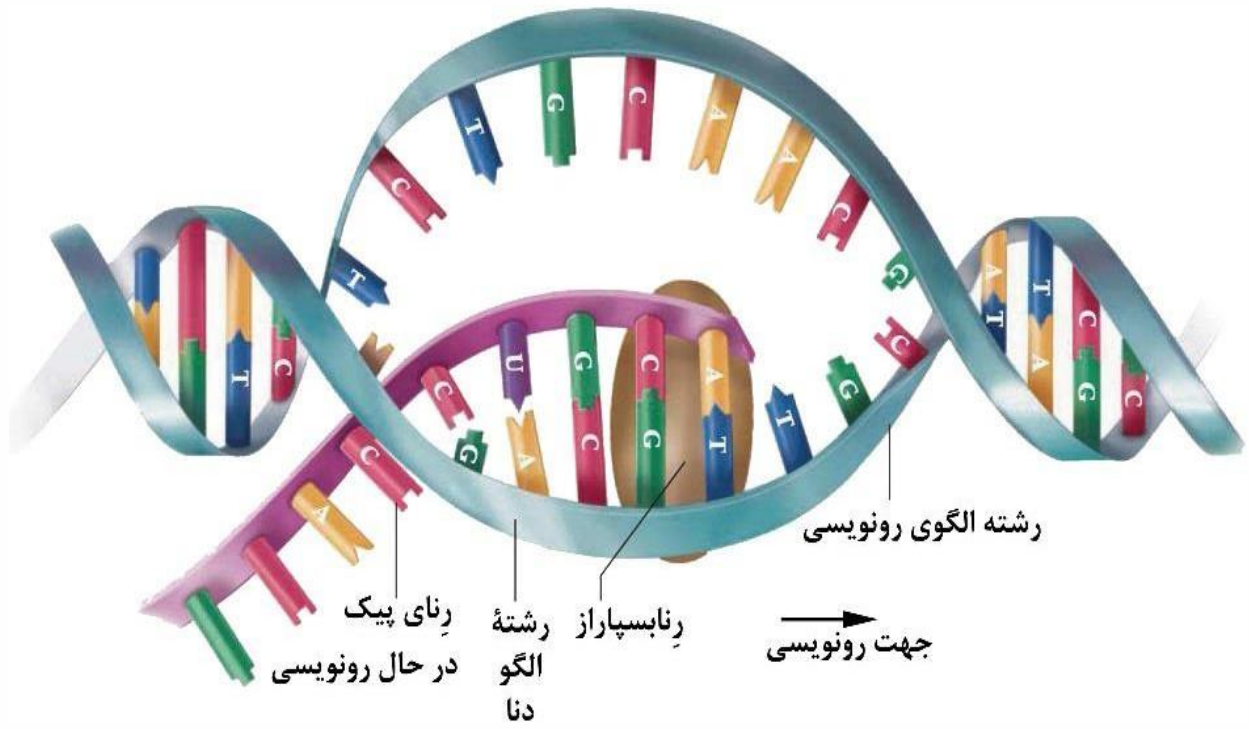
مرحله پایان

- در دنا توالی‌های ویژه‌ای به نام پایان رونویسی وجود دارد که موجب پایان رونویسی توسط آنزیم رنابسپاراز می‌شود.
- توالی پایان نیز توسط رنابسپاراز رونویسی می‌شود.
 - رنای تولید شده ابتدا از دنا و رنابسپاراز جدا می‌شود.
 - آنزیم از مولکول دنا جدا می‌شود.
 - دو رشته دنا با پیوند هیدروژنی به هم متصل می‌شوند.
- همانند مرحله قبل پیوندهای هیدروژنی بین رنا و دنا هم تولید و هم تخریب می‌شوند.

فقط در مرحله آغاز، پیوند هیدروژنی بین رنا و دنا تجزیه نمی‌شود.

در هر سه مرحله، شکستن پیوند اشتراکی بین فسفات‌های هر نوکلئوتید و تشکیل پیوند هیدروژنی و فسفودی‌استر صورت می‌گیرد. رنابسپاراز برخلاف دنابسپاراز، قدرت ویرایش و تجزیه پیوند فسفودی‌استر ندارد.

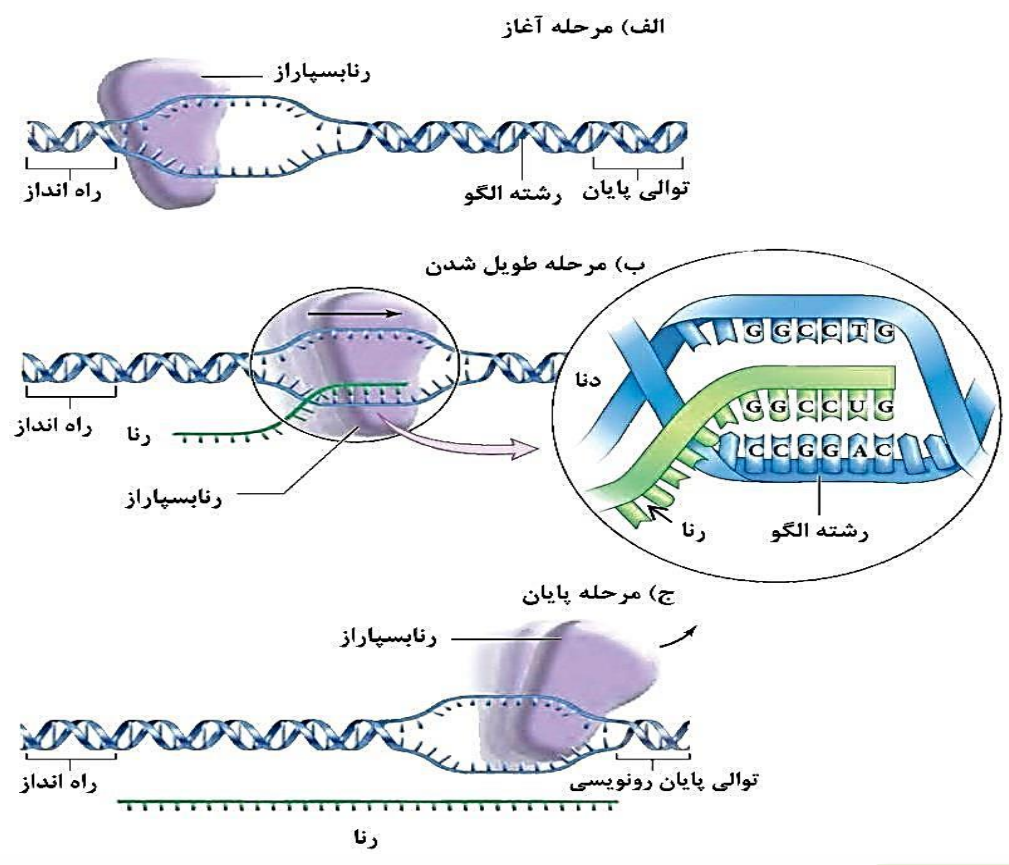




نکات شکل

Blank area for notes.

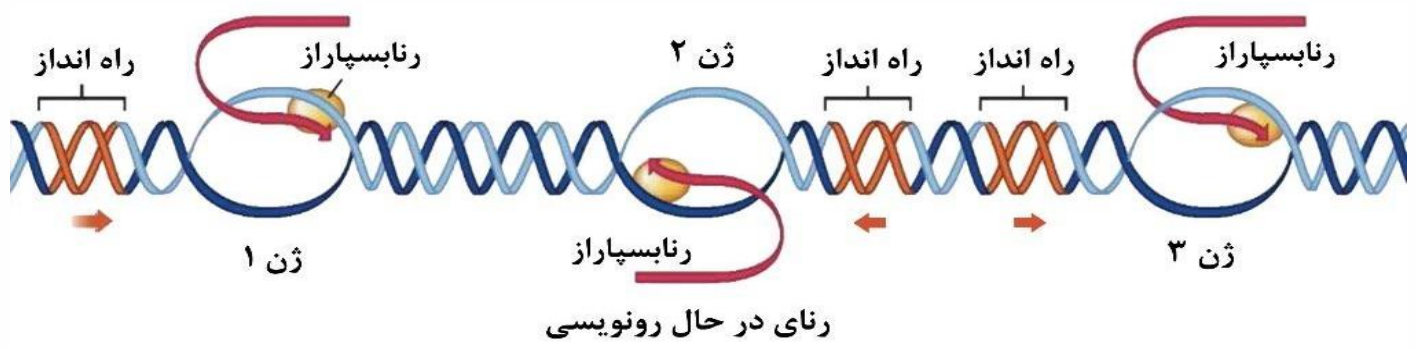




تکات شکل



- رشته الگو** رشته دنا که مکمل رنای رونویسی شده است را رشته الگو می گویند. در یک مولکول دنا رشته مورد رونویسی یک ژن، ممکن است با رشته مورد رونویسی ژن های دیگر یکسان یا متفاوت باشد.
- رشته رمزگذار** به رشته مکمل رشته الگو در مولکول دنا، رشته رمزگذار گفته می شود. توالی نوکلئوتیدی آن شبیه رشته رنایی است که از روی رشته الگوی آن ساخته می شود. تفاوتی با رنا در نوکلئوتیدهای آن از نظر قند دارد ولی در مورد باز آلی، فقط به جای نوکلئوتید تیمین در دنا، نوکلئوتید یوراسیل دار در رنا قرار دارد.
- دو نوع رشته دنا در هر ژن در زمان رونویسی**
- در یک مولکول دنا، ژن هایی که رشته الگوی یکسانی دارند، جهت رونویسی یکسانی هم دارند (مثل ژن ۱ و ۳).
 - اگر بین دو ژن، راه اندازی وجود نداشته باشد (مثل ژن ۱ و ۲) ← جهت رونویسی آن ها متفاوت است ← رشته الگوی متفاوت دارند.
 - اگر بین دو ژن، دو راه انداز وجود داشته باشد (مثل ژن ۲ و ۳) ← جهت رونویسی آن ها متفاوت است ← رشته الگوی متفاوت دارند.
 - اگر بین دو ژن، یک راه انداز وجود داشته باشد ← جهت رونویسی یکسانی دارند ← رشته الگوی یکسانی نیز دارند.



* تفاوت های همانندسازی و رونویسی:

رونویسی	همانندسازی
۱	۲
۱	۲
RNA	DNA
ریبونوکلئوتید	دئوکسی ریبونوکلئوتید
یک جهتی	دوجهتی
بخشی از مولکول	کل مولکول
u	T
RNA پلی مرز	DNA پلی مرز - هلیکاز
چند بار	۱ بار s



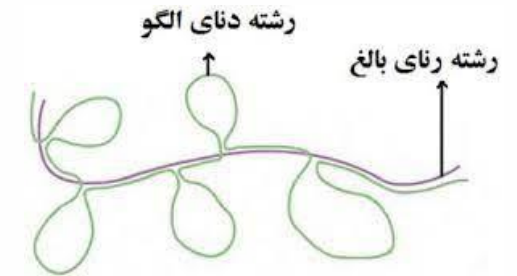
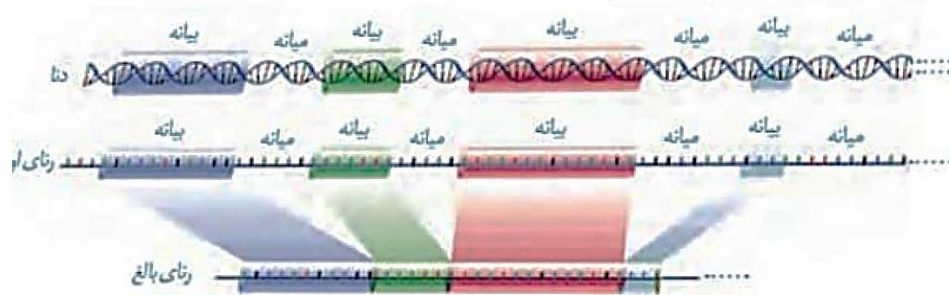
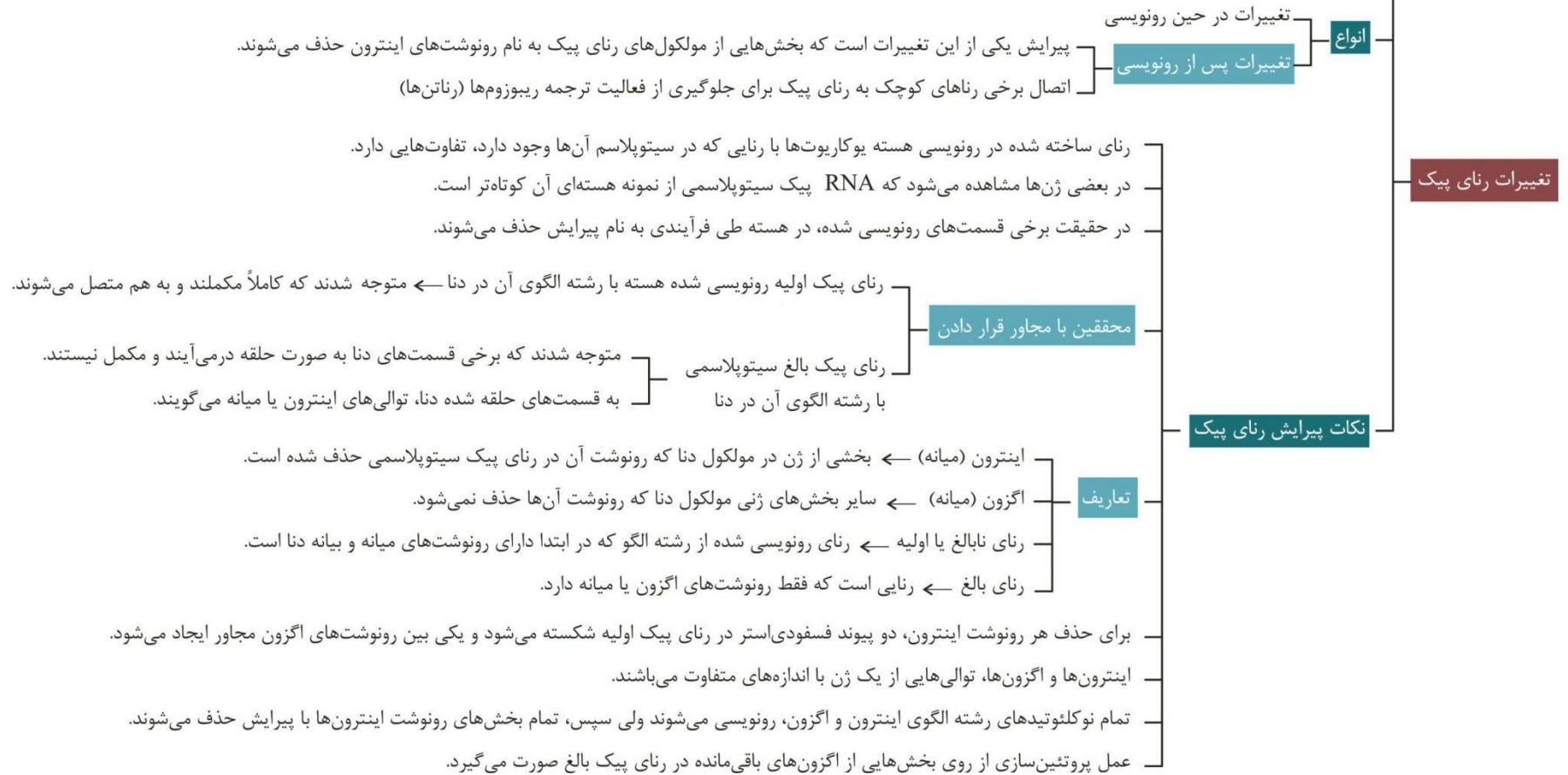


نکات مربوط به هباب رونویسی

Blank area for notes related to transcription points.



در یوکاریوت‌ها، رنای ساخته شده در هسته با رنای فعال سیتوپلاسمی آن، تفاوت‌هایی دارد.



- برای حذف هر رونوشت اینترون، دو پیوند فسفودی استر در رنای پیک اولیه شکسته می شود و یکی بین رونویسی
- اینترون ها و اگزون ها، توالی هایی از یک ژن با اندازه های متفاوت می باشند.
- تمام نوکلئوتیدهای رشته الگوی اینترون و اگزون، رونویسی می شوند ولی سپس، تمام بخش های رونوشت اینترون
- عمل پروتئین سازی از روی بخش هایی از اگزون های باقی مانده در رنای پیک بالغ صورت می گیرد.
- میزان رونویسی از یک ژن به مقدار نیاز یاخته به فراورده های حاصل آن بستگی دارد.
- مثال: ژن های سازنده رنای رناتی در یاخته های تازه تقسیم شده بسیار فعال اند ← این یاخته ها باید rRNA زیادی بسازند.
- ساخته شدن هم زمان چندین رنا از روی ژن باعث می شود که در زیر میکروسکوپ الکترونی، اندازه رناها از اندازه کوتاه به بلند دیده شود.
- در رونویسی هم زمان تعداد زیادی از یک نوع رنا از یک ژن، رناهایی که اندازه بلندتری دارند به توالی پایان نزدیک ترند.

نکته

توجه داشته باشید که در بیماری کم خونی داسی شکل تغییر در ظاهر یاخته های فاقد هسته بدن به وجود می آید.



نکته

افراد مبتلا به کم‌خونی داسی شکل در یک جفت نوکلئوتید که متعلق به ژن هموگلوبین می‌باشد با افراد سالم دارای تفاوت‌اند.

نکته

در بدن یک فرد سالم ژن سازنده هموگلوبین فقط در گویچه‌های قرمز که جزء یاخته‌های فاقد هسته بدن هست بیان شده است.

نکته

در بیماری کم‌خونی داسی شکل، به دلیل تغییر ژنی بسیار جزئی که سبب تفاوت فرد بیمار با فرد سالم در یک جفت نوکلئوتید می‌شود، پروتئین هموگلوبین دچار تغییر می‌شود و در پاسخ به آن گویچه‌های قرمز از حالت گرد به داسی شکل تغییر می‌یابند

نکته

در مولکول دنا ۴ نوع نوکلئوتید وجود دارد که تفاوتشان در نوع بازهای آلی آن‌هاست و این ۴ نوع نوکلئوتید می‌تواند در قالب توالی‌های ۳ نوکلئوتیدی، ۶۴ حالت ایجاد کند که این حالت‌ها می‌توانند رمز ساخت پلی‌پپتیدهایی با ۲۰ نوع آمینواسید را داشته باشند.



نکته

جدا شدن دو رشته دنا در محل توالی پایان رونویسی و بسته شدن این رشته‌ها در این محل، مربوط به مرحله پایان می‌باشد.

نکته

راه انداز برخلاف توالی پایان دو رشته‌اش از هم جدا نشده، رونویسی نمی‌شود و جزء ژن محسوب نمی‌گردد.

نکته

تشکیل حباب رونویسی مربوط به مرحله آغاز و بسته شدن دو رشته دنا که قبلاً باز شده بودند، مربوط به مرحله طویل شدن و پایان رونویسی است.

نکته

در هر ژن، یک رشته مشخص الگوی رونویسی است و در ژن‌های مختلف یک مولکول دنا، الگوی رونویسی می‌تواند متفاوت باشد و با تغییر رشته الگو، جهت رونویسی نیز تغییر می‌کند.



نکته

توجه داشته باشید که هر ژن دارای یک رشته الگو و یک رشته رمزگذار است که هر دو رشته دارای ۴ نوع دئوکسی ریبونوکلوئوتید با بازهای آدنین، تیمین، سیتوزین و گوانین می‌باشند که با پیوندهای فسفودی‌استر به یکدیگر وصل شده‌اند و مکمل یکدیگر می‌باشند با این تفاوت که رشته الگو به عنوان الگوی رونویسی رنا مورد استفاده قرار می‌گیرد اما روی رشته رمزگذار، ساخته رنا صورت نمی‌پذیرد.

نکته

توالی بازهای آلی رشته رمزگذار یک ژن کاملاً مشابه با توالی رنای ساخته شده از روی آن ژن است با این تفاوت که به جای باز آلی تیمین در رشته رمزگذار، باز آلی یوراسیل در رنا وجود دارد.

نکته

توجه داشته باشید که در هر ژن فقط یکی از دو رشته به عنوان الگوی رونویسی مورد استفاده قرار می‌گیرد. اما در یک مولکول دنا چنین چیزی صادق نیست یعنی برای تعدادی از ژن‌ها، یک رشته و برای سایر ژن‌ها، رشته دیگر، الگو محسوب می‌شود.

نکته

جهت رونویسی در هر ژن یک سویه و از سمت راه‌انداز به سمت توالی پایان رونویسی است. اما در یک مولکول دنا جهت رونویسی، می‌تواند در جهات متفاوتی باشد.



نکته

در هسته یوکاریوت‌ها، رنای رونویسی شده از رشته الگو، در ابتدا دارای رونوشت‌های میانه دنا است. به این رنا، رنای نابالغ یا اولیه گفته می‌شود. با حذف این رونوشت‌ها از رنای اولیه و پیوستن بخش‌های باقی‌مانده به هم که پیرایش نامیده می‌شود و در هسته صورت می‌پذیرد، رنای بالغ ساخته می‌شود.

نکته

توجه داشته که فرایند پیرایش یکی از فرایندهایی است که به منظور بلوغ رنای پیک صورت می‌پذیرد و این مولکول‌ها به منظور بالغ شدن تغییرات دیگری نیز می‌یابند.

نکته

به منظور وقوع پیرایش رنای اولیه، برای حذف رونوشت هر میانه (اینترون) و اتصال رونوشت بیانه‌ها (اگزون) به یکدیگر دو پیوند فسفودی‌استر شکسته شده و یکی تشکیل می‌شود.

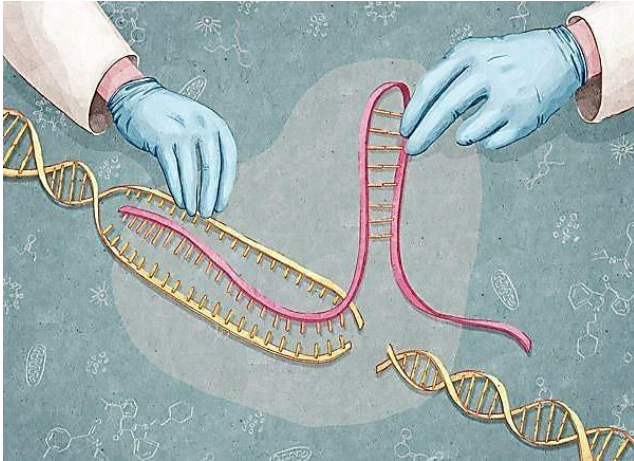
نکته

اگر یک رنای پیک بالغ را در مجاورت رشته الگوی آن قرار دهیم، بخش‌های مکمل دو رشته در کنار هم قرار می‌گیرند و بخش‌هایی که همان میانه‌ها هستند و فاقد مکمل می‌باشند به صورت حلقه‌هایی بیرون از مولکول دو رشته‌ای قرار می‌گیرند.



نکته

فرایند بلوغ رنا یعنی تبدیل رنا نابالغ یا اولیه به رنا بالغ، در هسته یاخته‌های یوکاریوتی صورت می‌پذیرد. بنابراین رناهای نابالغ فقط در هسته و رناهای بالغ در هسته و سیتوپلاسم یاخته‌های یوکاریوتی دیده می‌شوند.



نکته

پیرایش: ۱- روی RNA است. ۲- هم تخریب و هم تشکیل پیوند فسفودی‌استر دارد. ۳- مخصوص یوکاریوت‌هاست. ۴- فقط در هسته است.
اما ویرایش: ۱- روی DNA است. ۲- فقط تخریب پیوند فسفودی‌استر دارد. ۳- در پروکاریوت‌ها و یوکاریوت‌هاست. ۴- هم در هسته و هم در سیتوپلاسم است.

نکته

اگر گفته شود در ژن‌های یوکاریوتی حذف اینترون‌ها فقط در هسته صورت می‌پذیرد، جمله غلطی مطرح شده است چون در پیرایش رونوشت اینترون‌ها در RNA حذف می‌شود، نه اینترون‌های DNA.



نکته

اغلب آنزیم‌ها از جنس پروتئین بوده، توسط ریبوزوم ساخته می‌شوند، دارای پیوند پپتیدی و ۲۰ نوع آمینواسید به عنوان مونومر هستند؛ اما بعضی از آنزیم‌ها از جنس رنا می‌باشند، توسط رنابسپاراز ساخته می‌شوند، دارای پیوندهای فسفودی‌استر و ۴ نوع نوکلئوتید به عنوان مونومرند.

نکته

در مراحل طولی شدن و پایان رونویسی دو رشته دنا از هم باز و به هم متصل می‌شوند [شکسته شدن و تشکیل پیوند هیدروژنی]، همچنین رشته رنای در حال ساخت و نیز رشته الگوی دنا نیز به هم متصل و از هم جدا می‌شوند [تشکیل و شکسته شدن پیوند هیدروژنی] اما در مرحله آغاز رونویسی دو رشته دنا در بخش کوچکی از یکدیگر جدا می‌شوند [شکسته شدن پیوند هیدروژنی] و رشته رنای کوتاه در حال ساخته و رشته دنا در بخش کوتاهی به هم متصل می‌شوند [تشکیل پیوند هیدروژنی] اما جدا شدن آنها از یکدیگر در مرحله بعدی صورت می‌گیرد.

نکته

توجه داشته باشید که همه رناها محصول رونویسی‌اند، پیوند فسفودی‌استر، قند ریبوز و بازهای آلی آدنین، سیتوزین، گوانین و یوراسیل دارند و همگی توسط آنزیم رنابسپاراز ساخته می‌شوند اما نمی‌توان گفت همه رناها خاصیت آنزیمی دارند یا همه آنها قابل ترجمه‌اند و یا هر رنا، دارای کدون (رمزه) یا آنتی کدون (پادرمزه) می‌باشد.



نکته

جنس ساختاری که در زمان ساخته شدن همزمان چند رنا از روی یک ژن به وجود می‌آید نوکلئوپروتئینی است و از ۲۸ نوع مونومر تشکیل شده است [۴ نوع مونومرهای دنا + ۴ نوع مونومرهای رناهای در حال تشکیل + ۲۰ نوع آمینوسیدهای رنابسپارازها] در این ساختار رناهای در حال ساخته همگی از یک نوع هستند و با سرعت یکسانی ساخته می‌شوند ولی چون رونویسی‌شان در زمان‌های متفاوتی نسبت به هم آغاز شده است طول‌های مختلفی دارند به گونه‌ای که راه‌انداز به رناهای کوتاه‌تر و توالی پایان رونویسی به رناهای بلندتر، نزدیک‌تر است.

نکته

در همه یاخته‌های هوهسته‌ای فقط بخش‌هایی از انواع محصولات اولیه یک نوع از رنابسپارازها، ترجمه می‌شوند.

نکته

محل ساخت و فعالیت رنابسپارازهای پروکاریوتی مشابه و محل ساخت و فعالیت رنابسپارازهای ۱، ۲ و ۳ متفاوت است و از آنجا که رونویسی ژن هر پروتئین یوکاریوتی با رنابسپاراز ۲ صورت می‌گیرد بنابراین رنابسپاراز ۲ و رنابسپاراز پروکاریوتی، آنزیم‌هایی هستند که رونویسی ژن‌های خودشان را انجام می‌دهند.

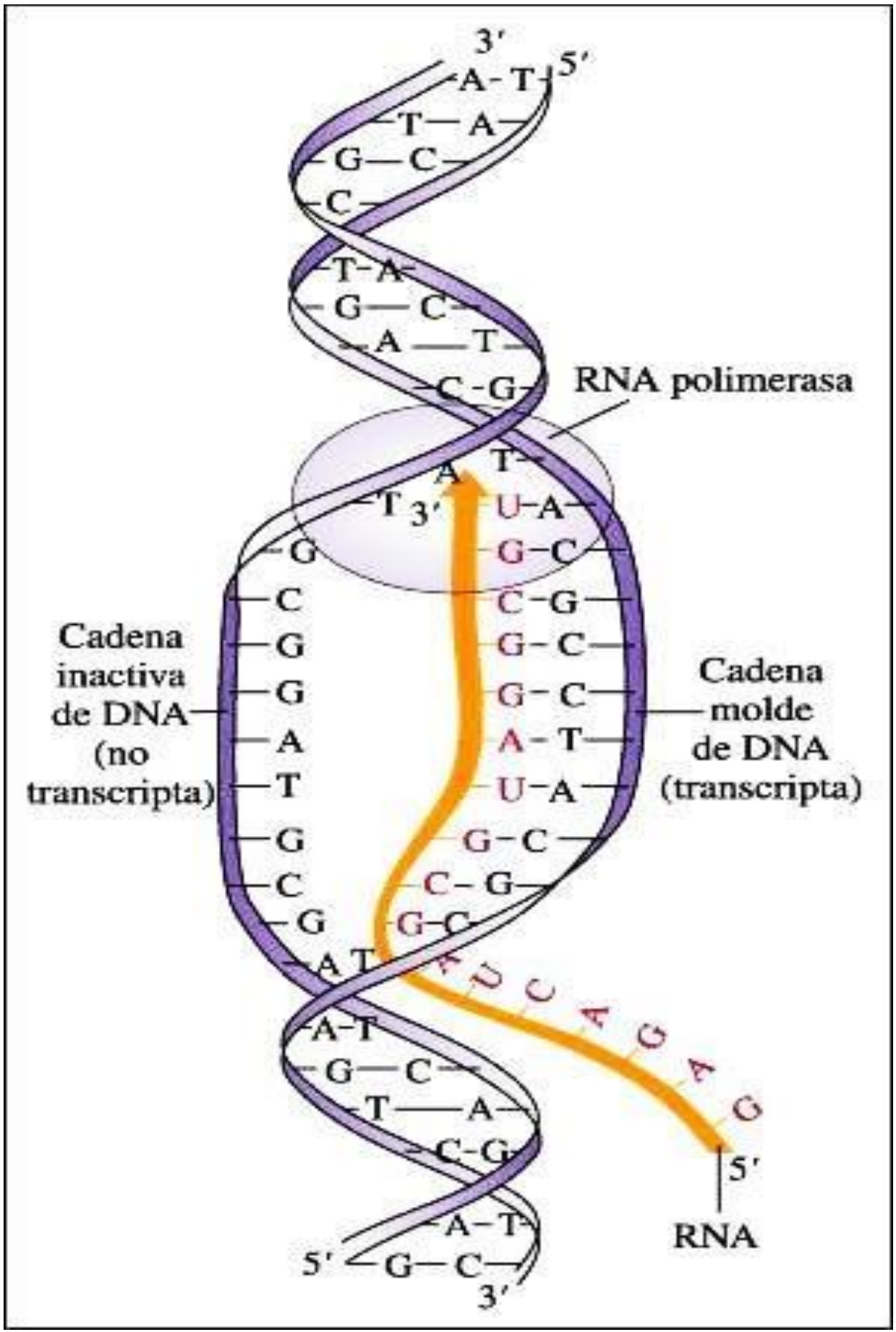
نکته

رنابسپارازهای ۱ و ۲ و ۳ جزء پروتئین‌هایی‌اند که توسط ریبوزوم‌های آزاد دریاخته ساخته می‌شوند نه ریبوزوم‌های متصل به شبکه آندوپلاسمی!

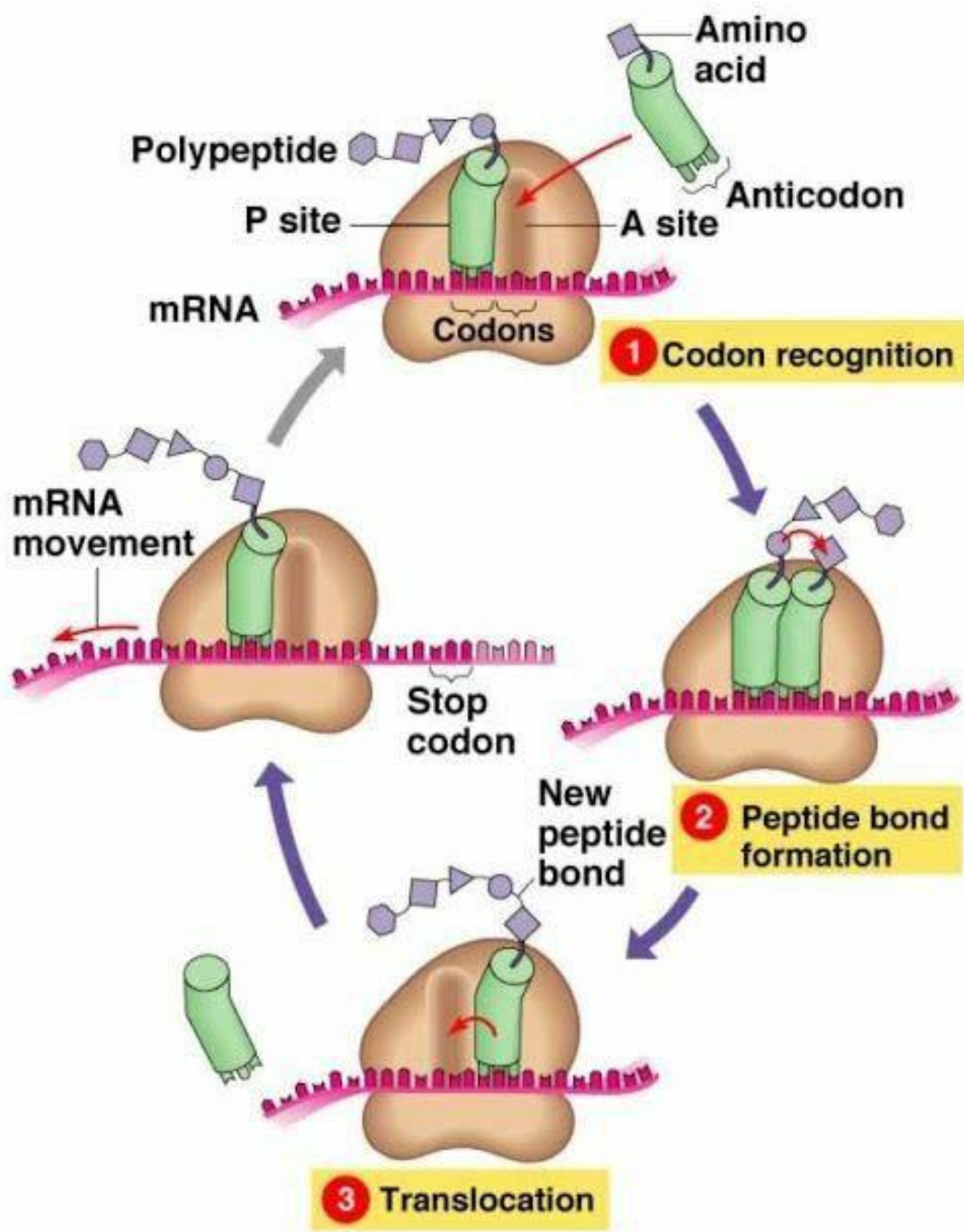
نکته

توجه داشته باشید هر چند محصول همه رنابسپارازها جنس ریبونوکلئوتیدی دارند اما همه این محصولات ترجمه نمی‌شوند در واقع رناهای حاصل از عملکرد رنابسپارازهای ۱ و ۳ یعنی رناهای رنانتی و رناهای ناقل، ترجمه نمی‌شوند و تنها رناهای پیک (mRNA) که محصول عملکرد رنابسپاراز ۲ هستند، قابل ترجمه می‌باشند









©Addison Wesley Longman, Inc



فصل ۲

گفتار ۲: به سوی پروتئین

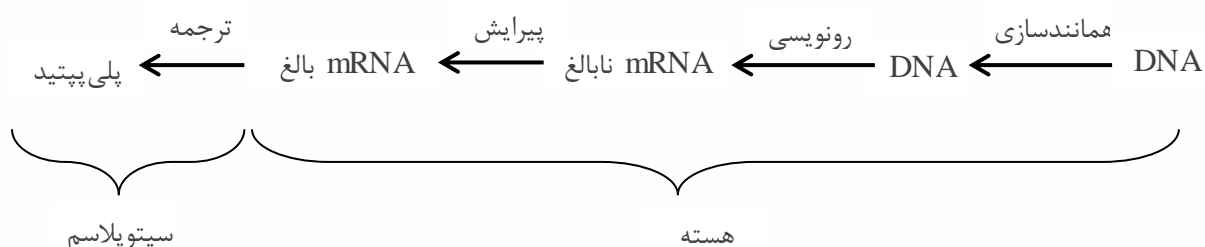
«اصل فرایند ترجمه و تعاریف مربوط به آن»

- ترجمه: به ساخته شدن پلی‌پپتید از روی اطلاعات RNA پیک یا mRNA ترجمه گفته می‌شود.

✓ پلی‌پپتیدها از مهمترین فرآورده‌های ژن (DNA) هستند.

✓ پلی‌پپتید یعنی یک پلی‌مر که از تکرار آمینواسیدها بوجود آمده ← ممکن است یک رشته

پلی‌پپتید خودش یک pro بسازد یا چند رشته پلی‌پپتید بهم پیچ و تاب بخورد و با هم یک pro بسازد.



- کدون (رمزه): توالی‌های ۳ نوکلئوتیدی mRNA که تعیین‌کننده یک آمینواسید خاص بوده و این کدون‌ها در جاندارن یکسانند به معنی این می‌باشد که آمینواسیدها در جانداران یکسانند اما اتصال‌های متفاوت آنها در زنجیره پلی‌پپتید براساس دستورات DNA تعیین‌کننده تفاوت آنهاست.

در سلول ۶۴ نوع کدون وجود دارد.

$$\begin{array}{l} \underline{4} \times \underline{4} \times \underline{4} = 64 \\ A \quad A \quad A \\ U \quad U \quad U \\ C \quad C \quad C \\ G \quad G \quad G \end{array}$$



- کدون پایان: رمزهایی که هیچ آمینواسیدی را رمز نمی کنند و حضور آنها در mRNA باعث پایان یافتن عمل ترجمه می شد.
- ✓ کدون های قابل ترجمه ۶۱ کدون می باشد.

$$\left. \begin{array}{l} \text{UGA} \\ \text{UAG} \\ \text{UAA} \end{array} \right\} \leftarrow \text{با هم می گن یوهاها} \quad 64 - 3 = 61$$

- کدون آغاز یا AUG: کدونی که ترجمه از آن آغاز می شود و خودش معرف و حامل میتونین نیز می باشد.
- ✓ اگر به بیشتر بدانید ص ۲۸ کتاب دقت کنید، گاهی چند کدون (که اکثراً در آخر فقط فرق دارند) معرف یک آمینواسید می باشد.

پلی پپتیدها از مهم ترین فراورده های ژن ها هستند که اعمال مختلفی را در بدن انجام می دهند. از روی توالی دنا، رونویسی رنا و از روی رنا با فرایند ترجمه، پلی پپتید حاصل می شود. ترجمه ← به ساخته شدن پلی پپتید از روی اطلاعات رنای پیک گفته می شود.

بدانیم

- بستره راکیزه
- بستره سبزدیسه
- ماده زمینه ای سیتوپلاسم
- روی شبکه آندوپلاسمی

پروتئین سازی در مناطق دارای ریبوزوم فعال صورت می گیرد.



آمینواسیدها

۲۰ نوع آن‌ها در ساختار پلی‌پپتیدها به کار می‌روند.

پس از رونویسی دچار تغییراتی می‌شود

- تاخوردگی اولیه — برخی مناطق آن پیوند هیدروژنی دارد.
- با تشکیل پیوند هیدروژنی روی خود تا می‌خورد.
- ساختار سه بعدی ← تاخوردگی بیشتر
- هر دو ساختار دارای توالی آنتی‌کدون بدون پیوند هیدروژنی می‌باشند.
- در هر دو ساختار توالی محل اتصال آمینواسید وجود دارد.

رناهای ناقل

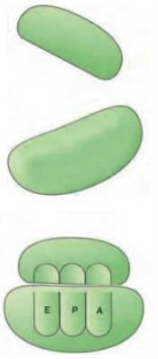
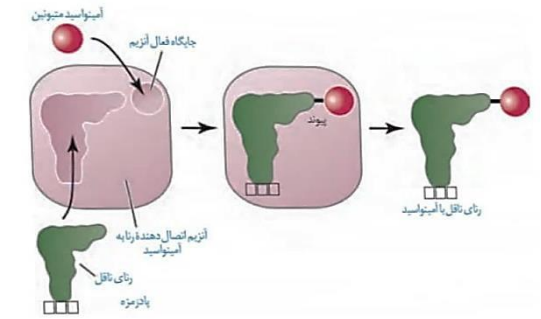
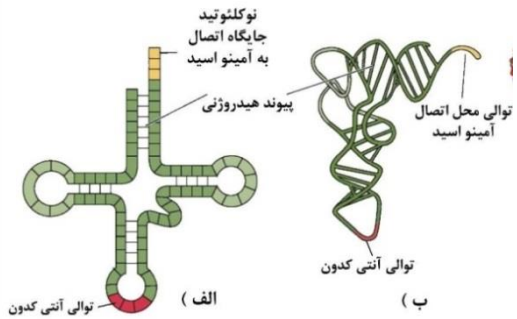
ساختار

- محل اتصال آمینواسید در یک سمت آن می‌باشد.
- ۶۱ نوع مختلف می‌باشند.
- عامل تمایز tRNAها می‌باشند.
- حای سه نوکلئوتید هستند.
- روبه‌روی روزه‌های مربوط به آمینواسیدها قرار می‌گیرند و با آن‌ها پیوند هیدروژنی تشکیل می‌دهند.
- به جز توالی پادرمزه (آنتی کدون) سایر قسمت‌ها در همه tRNAها، توالی مشابهی دارند.
- تعداد انواع پادرمزه از روزه کمتر است (برای روزه‌های پایان، رنای ناقل وجود ندارد).

نحوه عمل

- هر نوع آمینواسید، به هر نوع رنای ناقل متصل نمی‌شود.
- آنزیم‌های ویژه‌ای وجود دارد که با تشخیص توالی پادرمزه، آمینواسید مناسب را در سیتوپلاسم به رنای ناقل متصل می‌کنند.
- اتصال آمینواسید به tRNA، نیازمند انرژی می‌باشد.

عوامل لازم در ترجمه



رناتین

- درون میتوکندری، کلروپلاست روی شبکه آندپلاسمی و ماده زمینه‌ای سیتوپلاسم وجود دارد و فعال است.
- محل ساخت پلی‌پپتید می‌باشد.
- از دو زیرواحد کوچک و بزرگ تشکیل شده‌اند.
- هر زیرواحد از رنا و پروتئین تشکیل شده است ← rRNA و پروتئین ریبوزومی دارد.
- در ساختار کامل خود، سه جایگاه به نام E، P، A دارد.

رنای پیک

- توالی‌های سه نوکلئوتیدی رنای پیک را روزه (کدون) می‌گویند ← این توالی‌ها تعیین می‌کنند که کدام آمینواسید در ساختار پلی‌پپتید قرار بگیرد.
- ۶۴ نوع روزه وجود دارد که سه تایی آن روزه پایان هستند (UAG, UAA, UGA).
- روزه پایان هیچ آمینواسیدی را رمز نمی‌کند.
- روزه آغاز با AUG معرف آمینواسید متیونین است.

منبع انرژی واکنش — برای تهیه پلی‌پپتید به مولکول‌های پرا انرژی مانند ATP نیاز است.
 آنزیم‌ها — به صورت متنوع در ریبوزوم به فعالیت می‌پردازند.



نکته

در هر یاخته تنوع آمینواسیدها از تنوع کدون‌ها، آنتی کدون‌ها و tRNAها کمتر است. ضمناً نمی‌توان گفت هر کدون لزوماً با یک آنتی کدون شناسایی می‌شود چون کدون‌های پایان با هیچ آنتی کدونی شناسایی نمی‌شوند. به علاوه بسیاری از آمینواسیدها بیش از یک کدون و بعضی تنها یک کدون دارند.

نکته

هر رنای ناقل (tRNA) تنها مسئول حمل یک نوع آمینواسید به درون ریبوزوم است اما یک آمینواسید می‌تواند توسط رنای ناقل مختلفی به درون ریبوزوم، حمل شود.

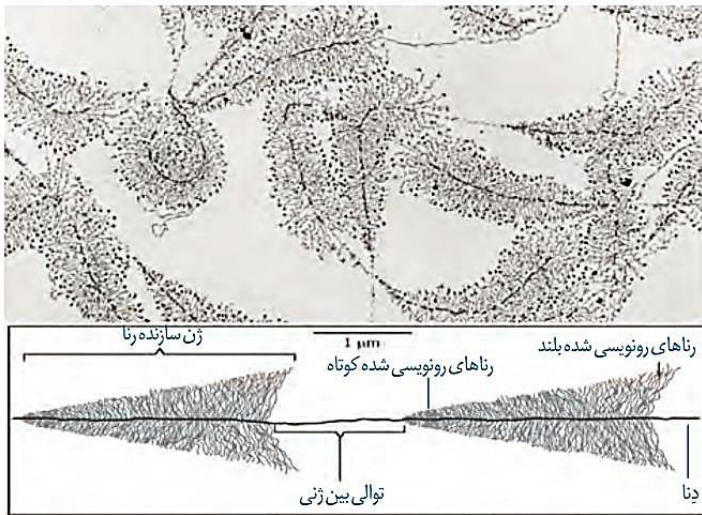
نکته

درون هیچ یاخته‌ای پادرمزهای (آنتی کدون‌های) مکمل رمزه‌های پایان یعنی آنتی کدون‌های AUU، AUC و ACU وجود ندارند.

نکته

ساختارهای تاخوردگی اولیه و سه بعدی رنای ناقل، با تاخوردن رنای تکرشته‌ای و به دلیل تشکیل پیوندهای هیدروژنی بین نوکلئوتیدهای مکمل آن به وجود می‌آیند.





نکته

توجه داشته باشید که ساختار رنای ناقل در حالت فعال، ساختار سه بعدی است که به دنبال تاخوردگی‌های مجدد، پس از تاخوردگی اولیه ایجاد می‌شود.

نکته

در ساختارهای تاخوردگی اولیه و سه بعدی رنای ناقل در محل‌هایی که دو رشته‌ای هستند پیوندهای هیدروژنی وجود دارند اما محل‌هایی که تک‌رشته‌ای‌اند مثل توالی محل اتصال آمینواسید و یا محل‌هایی که حالت حلقه مانند ایجاد کرده‌اند مثل توالی پادرمزه، فاقد پیوند هیدروژنی‌اند.

نکته

رنای ناقل در ساختار تاخوردگی اولیه دارای سه بازوی اصلی و بزرگ شامل ساقه، حلقه و یک بازوی کوچک اضافه و همچنین محلی برای اتصال آمینواسید می‌باشند که بازوی کوچک در امتداد محل اتصال آمینواسید قرار می‌گیرد.

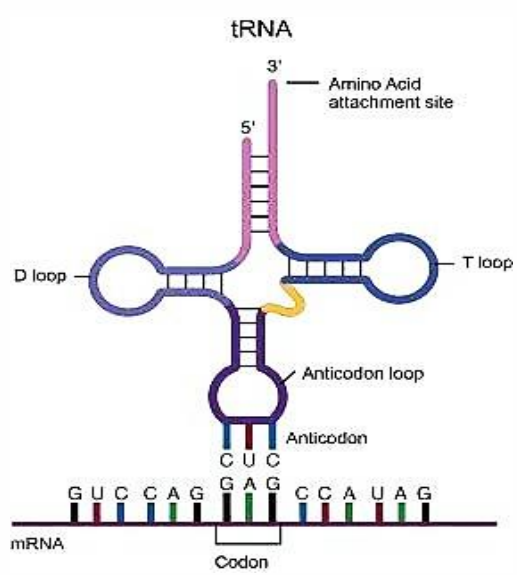


نکته

در هر یاخته ۶۱ نوع آنزیم ویژه برای اتصال آمینواسید به رنای ناقل وجود دارد که براساس نوع توالی آنتی کدون، آمینواسید مناسب را به رنای ناقل متصل می کند

نکته

هر یک از زیرواحدهای ریبوزوم دارای رنا و پروتئین می باشند بنابراین در تشکیل هر یک از این زیرواحدها در یاخته های یوکاریوتی رنابسپاراز ۱ نقش داشته است.



نکته

در ساختار رنای ناقل بیشترین فاصله بین محل قرارگیری آمینواسید و توالی پادرمزه (آنتی کدون) وجود دارد.

نکته

در یاخته های یوکاریوتی هم محل تشکیل پیوند بین آمینواسید و رنای ناقل و هم محل شکسته شدن این پیوند درون سیتوپلاسم می باشد.



نکته

هر RNA حامل آمینواسید دارای ۵ نوع مونومر است [۴ نوع نوکلئوتید + ۱ نوع آمینواسید]

نکته

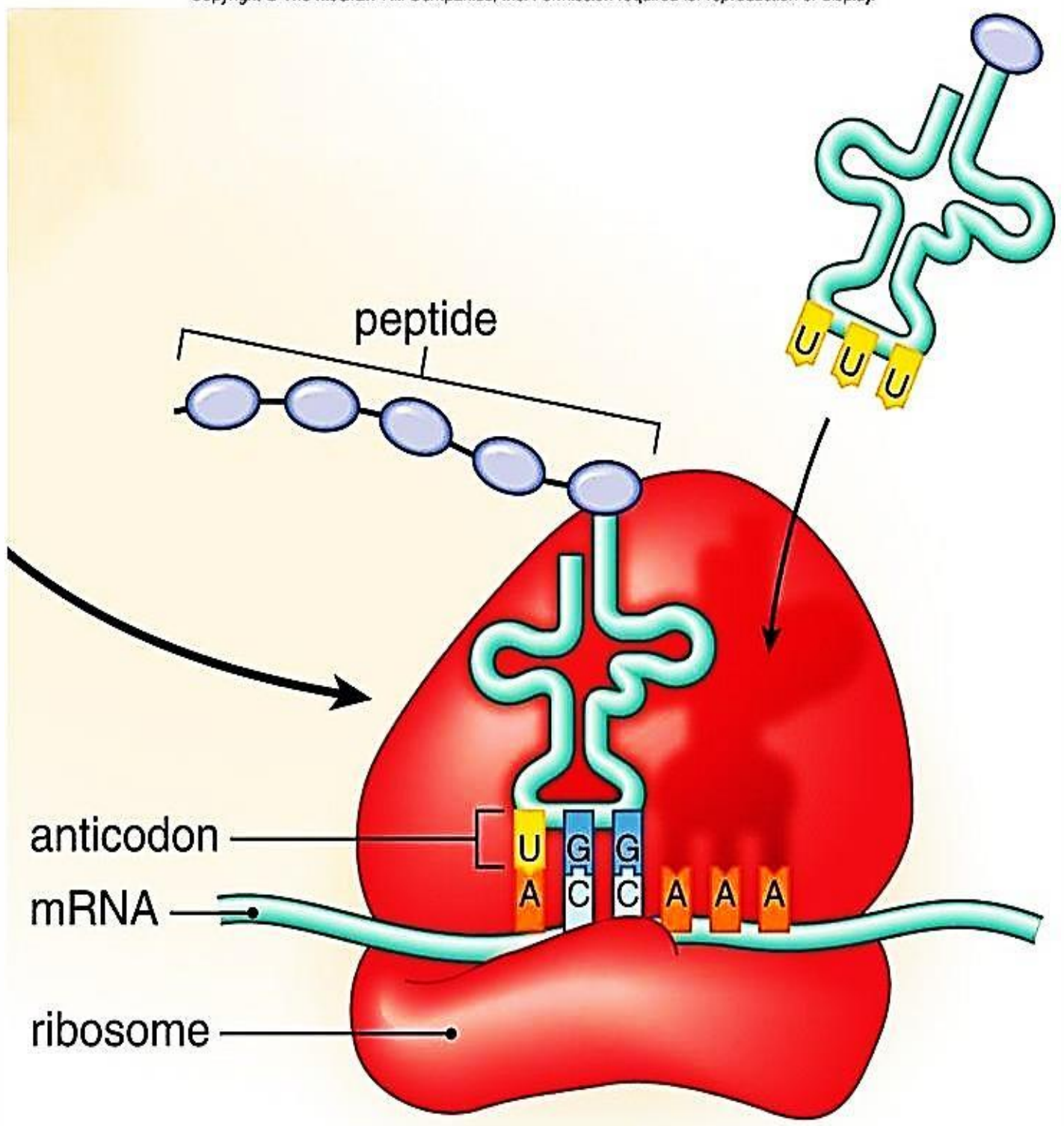
توجه داشته باشید که هر یک از انواع RNA از جمله RNA ناقل، مستقیماً از روی دنا ساخته می‌شوند بنابراین الگوی ساخت آن‌تی کدون RNA ناقل حامل آمینواسید متیونین، ATG است.

نکته

در تشکیل ساختارهای تاخوردگی اولیه و سه بعدی tRNA، پیوندهای هیدروژنی نقش دارند. ضمناً در هر دو ساختار توالی آن‌تی کدون روی حلقه است و در هر دو ساختار RNA در محل اتصال آمینواسید، تک رشته‌ای است و همچنین فاصله بین آن‌تی کدون و محل اتصال آمینواسید، بیشترین فاصله است.



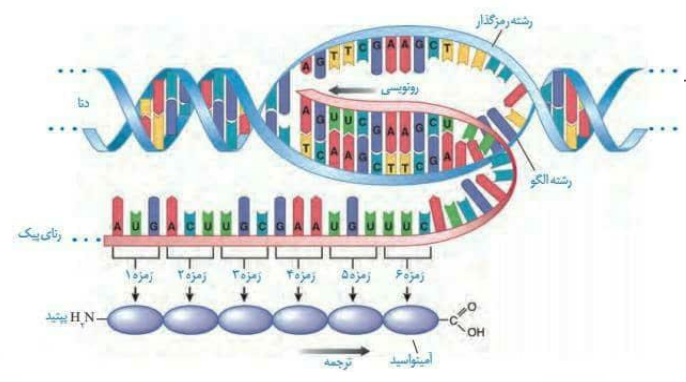
Copyright © The McGraw-Hill Companies, Inc. Permission required for reproduction or display.



tRNA–amino acid at ribosome



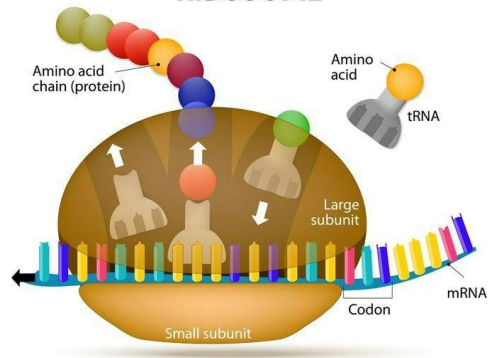
الض



- همانند رونویسی، میتوز و همانندسازی فرایندی پیوسته می باشد.
 تعریف ← ساخت رشته پلی پپتید از روی mRNA در ریبوزوم می باشد.
- ۱- بخش هایی از رنا بیک، زیرواحد کوچک رناتن را به سوی رمزه آغاز، هدایت می کند تا کدون AUG وارد جایگاه P شود.
 - ۲- رنا بیک ناقل که مکمل رمزه آغاز است. به همراه آمینواسید متیونین وارد ریبوزوم در جایگاه P می شود.
 - ۳- زیرواحد بزرگ رناتن به این مجموعه اضافه شده و ساختار رناتن کامل می شود.
- نکات**
- در این مرحله جایگاه P در رناتن محل قرارگیری رنا بیک ناقل دارای آمینواسید متیونین است.
 - جایگاه A و E خالی می ماند.
 - در این مرحله، درون ریبوزوم فقط پیوند هیدروژنی در جایگاه P بین کدون و آنتی کدون برقرار می شود.
 - در این مرحله، قبل از کامل شدن شکل ریبوزوم، اولین رمزه در جایگاه P ترجمه می شود.

مرحله آغاز

RIBOSOME



- ۱- رناهای ناقل مختلفی وارد جایگاه A رناتن می شوند ولی فقط رنا بیک که مکمل رمزه جایگاه A است، استقرار پیدا می کند.
- ۲- آمینواسید جایگاه P از رنا بیک ناقل خود جدا می شود و با آمینواسید جایگاه A پیوند پپتیدی برقرار می کند.
- ۳- رناتن به اندازه یک رمزه به سوی پایان پیش می رود.
- ۴- رنا بیک ناقل حامل رشته دی پپتیدی در جایگاه P قرار می گیرد.
- ۵- جایگاه A خالی می شود تا پذیرای رنا بیک ناقل بعدی باشد.
- ۶- رنا بیک ناقل بدون آمینواسید نیز در جایگاه E قرار می گیرد و سپس از این جایگاه با شکستن پیوند هیدروژنی خارج می شود.
- ۷- این مراحل تکرار می شود و طول زنجیره آمینواسیدی بیشتر می شود تا رناتن به یکی از رمزهای پایان برسد.

مرحله
طولیل شدن

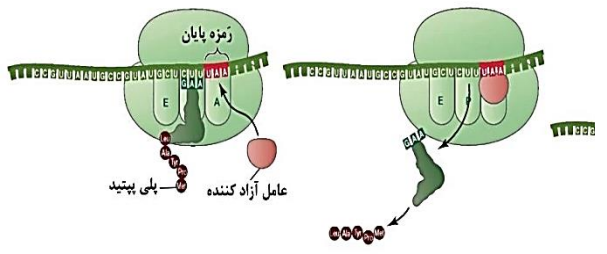
مراحل ترجمه
(فرایندی پیوسته)

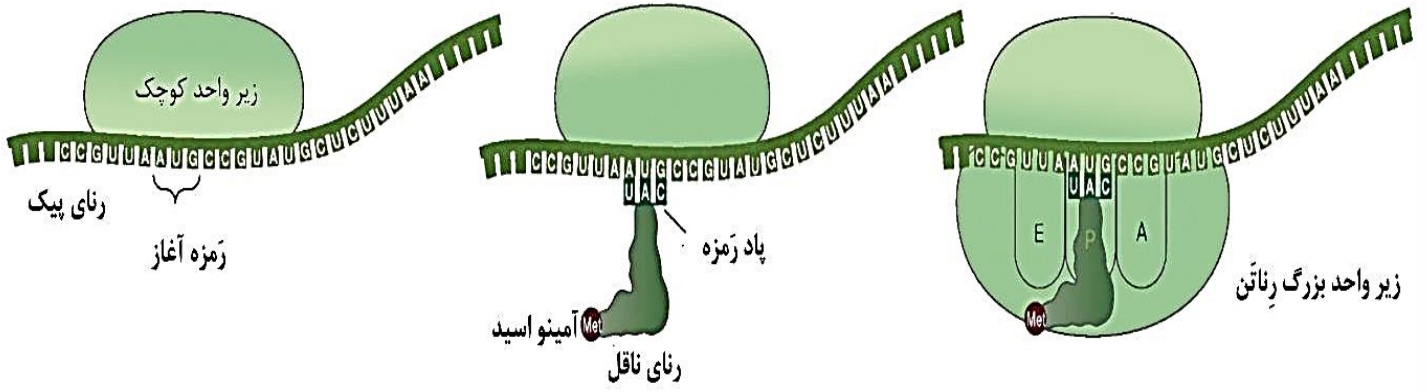
- نکات**
- در این مرحله، پیوند اشتراکی بین tRNA و آمینواسید در جایگاه P شکسته می شود.
 - در این مرحله، پیوند اشتراکی پپتیدی بین آمینواسیدها در جایگاه A تشکیل می شود.
 - در این مرحله، پیوند هیدروژنی بین رمزه و پادرمزه در جایگاه A تشکیل می شود.
 - در این مرحله، پیوند هیدروژنی بین رمزه و پادرمزه در جایگاه E شکسته می شود.
 - تنها مرحله ای از ترجمه است که دو tRNA در ریبوزوم وجود دارد.
 - در این مرحله ضمن حرکت رناتن، پلی پپتید از جایگاه A به P منتقل می شود و جایگاه A خالی می شود.
 - در ابتدای این مرحله، کدون آغاز در جایگاه P قرار دارد.
 - در انتهای این مرحله، کدون پایان در جایگاه A قرار دارد.

- ۱- رنا بیک ناقل جدیدی وارد جایگاه A که رمزه پایان دارد، نمی شود.
- ۲- عوامل پروتئینی آزادکننده وارد جایگاه A می شوند و رمزه پایان را شناسایی می کنند.
- ۳- پلی پپتید، توسط عوامل آزادکننده از رنا بیک ناقلی در جایگاه P جدا می شود.
- ۴- در نهایت زیر واحدهای رناتن ها از هم جدا و رنا بیک آزاد جدا می شوند.
- ۵- زیرواحدهای رناتن دوباره برحسب نیاز یاخته می توانند از روی این mRNA به ترجمه بپردازند.

مرحله پایان

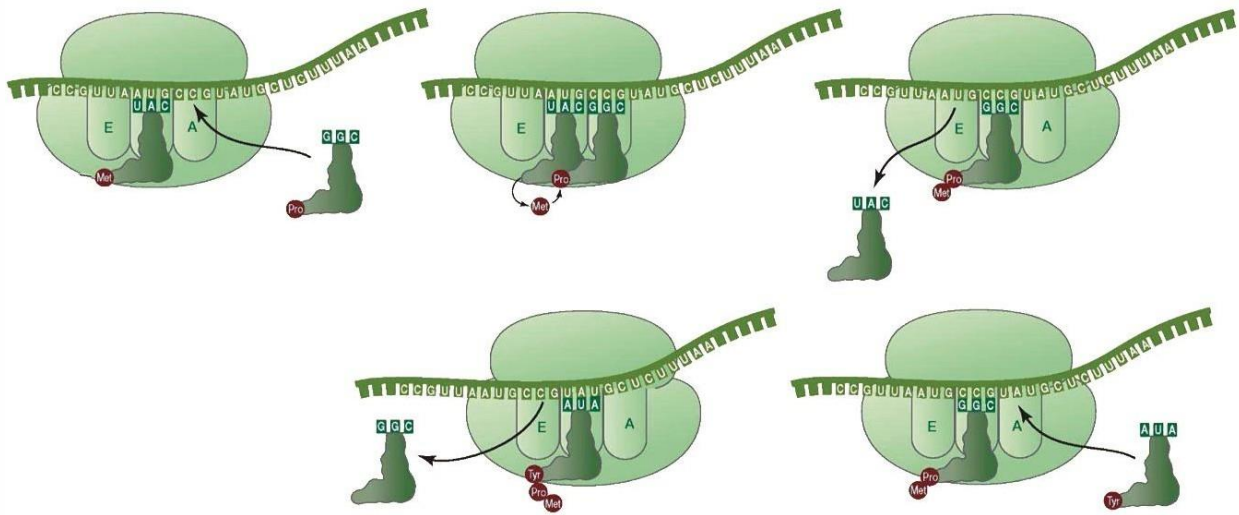
- نکات**
- در این مرحله پیوند پپتیدی و هیدروژنی جدید تشکیل نمی شود.
 - در این مرحله، tRNA انتهایی با شکسته شدن پیوند هیدروژنی از جایگاه P خارج می شود.
 - همانند مرحله آغاز، فقط جایگاه P حاوی tRNA می باشد.
 - در این مرحله، پیوند هیدروژنی بین رمزه و پادرمزه و پیوند اشتراکی tRNA و آمینواسید در جایگاه P شکسته می شود.





نکات مرحله اغازین





نکات مرحله طویل شدن



به خلاصه می‌گیریم سرعتی:**الف) وقایع مرحله آغاز:**

- ۱- اتصال زیرواحد کوچک رناتن به رنای پیک
- ۲- هدایت زیرواحد کوچک رناتن به سوی رمزه آغاز توسط بخش‌هایی از رنای پیک
- ۳- ورود رنای حامل آمینواسید متیونین و دارای پادرمزه UAC به جایگاه P رناتن و تشکیل ۷ هیدروژنی بین رمزه و پادرمزه
- ۴- افزوده شدن زیرواحد بزرگ رناتن به مجموعه قبلی و تشکیل ساختار رناتن.

ب) وقایع مرحله طویل شدن:

- ۱- ورود رنای ناقل مختلف به جایگاه A رناتن و ترک این جایگاه در صورت عدم وجود رابطه مکملی
- ۲- استقرار رنای ناقلی که پادرمزه آن مکمل رمزه جایگاه A است.
- ۳- جداسدن آمینواسید جایگاه P از رنای ناقل خود
- ۴- برقراری پیوند پپتیدی بین آمینواسید [های] جدا شده از رنای ناقل جایگاه P با آمینواسید متصل به رنای ناقل جایگاه A رناتن
- ۵- حرکت رناتن به اندازه یک رمزه به سوی رمزه پایان که همزمان با آن رنای ناقل حامل پپتید از جایگاه A خارج شده و در جایگاه P قرار می‌گیرد و جایگاه A خالی می‌شود ضمناً رنای ناقل بدون آمینواسید نیز در جایگاه E قرار می‌گیرد.
- ۶- خروج رنای بدون آمینواسید از جایگاه E، [شکسته شدن پیوند هیدروژنی]
- ۱) ورود رنای ناقل مختلف به جایگاه A رناتن و ترک این جایگاه در صورت عدم وجود رابطه مکملی
- ۲) استقرار رنای ناقلی که پادرمزه آن مکمل رمز جایگاه A است.
- ۳) و...

ج) وقایع مرحله پایان:

- ۱- ورود یکی از رمزه‌های پایان ترجمه به جایگاه A
- ۲- اشغال جایگاه A توسط پروتئین‌هایی به نام عامل آزادکننده



۳- جدا شدن پلی پپتید از آخرین رنای ناقل و همچنین جدا شدن زیرواحدهای رناتن از هم و آزاد شدن رنای پیک توسط عامل آزادکننده.

نکته

وقایع زیر مخصوص به مرحله آغاز است:

- ۱- تکمیل ساختار رناتن
- ۲- تشکیل پیوند هیدروژنی در جایگاه P رناتن
- ۳- ورود رنای ناقل از بیرون رناتن به جایگاه P آن ترجمه رمزه آغاز

نکته

وقایع زیر مخصوص به مرحله طویل شدن است:

- ۱- ورود رنای ناقل به جایگاه A رناتن
- ۲- تشکیل پیوند هیدروژنی در جایگاه A رناتن
- ۳- حرکت رناتن در امتداد رنای پیک
- ۴- برقراری پیوند پپتیدی
- ۵- قرارگیری همزمان دوپادرمزه درون رناتن
- ۶- ترجمه همه رمزه‌های قابل ترجمه، به جز رمزه آغاز
- ۷- خروج رنای ناقل از جایگاه E ریبوزوم
- ۸- شکسته شدن پیوند هیدروژنی در جایگاه E رناتن

تشکیل و شکسته شدن پیوند هیدروژنی بین رمزه و پادرمزه ۱۰ خروج رنای ناقل از جایگاه A ریبوزوم [منظور رنای ناقلی است که وارد جایگاه A می‌شود اما چون مکمل رمزه موجود در این جایگاه نیست، خارج می‌گردد].



نکته

وقایع زیر مخصوص به مرحله پایان است:

- ۱- قرارگیری هر یک از رمزه‌های پایان در جایگاه A رناتن
- ۲- ورود عامل آزادکننده به جایگاه A رناتن و عملکرد آن
- ۳- خروج رنای ناقل از رناتن از جایگاه P
- ۴- شکسته شدن پیوند هیدروژنی در جایگاه P رناتن وجود همزمان ۲ پروتئین در جایگاه‌های A و P.

نکته

فرایند ترجمه رمزه [ها] هم در مرحله آغاز و هم در مرحله طویل شدن صورت می‌پذیرد.

نکته

پیوند هیدروژنی بین رمزه و پادرمزه، در مرحله آغاز ترجمه فقط تشکیل و در مرحله پایان ترجمه فقط شکسته می‌شود. اما در مرحله طویل شدن ترجمه، پیوندهای هیدروژنی هم تشکیل و هم شکسته می‌شوند.



نکته

در مرحله طویل شدن، خروج tRNA از جایگاه A به دو صورت امکان پذیر است، یکی اینکه ریبوزوم حرکت کند که سبب می شود tRNA موجود در جایگاه A از آن خارج شده به جایگاه P برود و دیگر اینکه، tRNA که وارد جایگاه A می شود، توالی پادرمزه مکمل با رمزه جایگاه A را نداشته باشد و از آن خارج شود پس جمله «خروج tRNA از جایگاه A ریبوزوم تنها با حرکت ریبوزوم در امتداد mRNA مقدور است» نادرست می باشد، اما جمله «ورود tRNA متصل به دو یا چند آمینواسید، به جایگاه P تنها به دنبال حرکت ریبوزوم در امتداد mRNA مقدور است.» صحیح می باشد.

نکته

از آنجا که ساخت هر پروتئین با آمینواسید متیونین شروع می شود می توان گفت در مرحله طویل شدن ترجمه هر tRNA در اتصال با چند آمینواسید، ناقل متیونین محسوب می شود.

نکته

ورود رنای ناقل به جایگاه P رناتن هم در مرحله آغاز و هم در مرحله طویل شدن صورت می پذیرد.

نکته

در زمان ترجمه قبل از تکمیل ساختار رناتن، یک رنای ناقل به جایگاه P رناتن و پس از تکمیل شدن ساختار آن، یک رنای ناقل به جایگاه A رناتن وارد می شود.



نکته

در زمان ترجمه، تشکیل پیوند هیدروژنی هم در جایگاه P و هم در جایگاه A صورت می‌پذیرد و شکسته شدن این پیوند هم در جایگاه P و هم در جایگاه E صورت می‌پذیرد اما شکسته شدن پیوند اشتراکی بین آمینواسید و رنای ناقل همواره در جایگاه P و تشکیل پیوند پپتیدی همواره در جایگاه A رناتن صورت می‌پذیرد.

نکته

خروج رنای ناقل فاقد آمینواسید از رناتن در مرحله طویل شدن همواره از جایگاه E و در مرحله پایان از جایگاه P صورت می‌پذیرد.

نکته

اصطلاحات A، P و E به ترتیب مربوط به آمینواسید، پپتید و اگزیت (به معنای خروج) می‌باشد.

نکته

در مرحله آغاز ترجمه فقط یک رمزه [یعنی رمزه آغاز] ترجمه می‌شود ضمناً نه پیوند پپتیدی تشکیل می‌شود و نه رناتن در امتداد رنای پیک حرکت می‌کند همچنین در انتهای این مرحله سه رمزه و یک پادرمزه درون جایگاه‌های رناتن خواهیم داشت.



نکته

در هنگام حرکت رناتن به اندازه یک کدون به سمت کدون پایان، پیوند هیدروژنی شکسته یا تشکیل نمی‌شود و تنها رناهای ناقلی که در جایگاه‌های A و P قرار داشتند به ترتیب به جایگاه‌های P و E منتقل می‌شوند اما بلافاصله پس از تکمیل حرکت رناتن، رنای ناقل موجود در جایگاه E با شکسته شدن پیوند هیدروژنی از این جایگاه خارج می‌شود.

نکته

در زمان ترجمه همه رمزه‌ها از جایگاه A رناتن وارد شده و از جایگاه E آن خارج می‌شوند به جز رمزه آغازین که نمی‌تواند وارد جایگاه A ریبوزوم شود، رمزه پایان که وارد جایگاه‌های P و E رناتن نخواهد شد و رمزه ما قبل رمزه پایان که تنها وارد جایگاه E رناتن نخواهد شد.

نکته

هر ۶۴ نوع رمزه قابل شناسایی در جایگاه A می‌باشند اما رمزه‌هایی که در جایگاه‌های P و E شناسایی می‌شوند شامل ۶۱ نوع رمزه‌اند.

نکته

در همه‌ی یوکاریوت‌ها فقط بخش‌هایی از انواعی از محصولات اولیه‌ی یک نوع از RNA پلی‌مرازها، ترجمه می‌شوند.



نکته

ابتدا و انتهای mRNA غیرقابل ترجمه است؛ یعنی قسمت‌های قبل از رمزه آغاز و قسمت‌های بعد از رمزه پایان، ترجمه نمی‌شوند. پس تمامی طول mRNA ترجمه نمی‌شود.

نکته

در هر یاخته فعال و زنده ۳ نوع RNA وجود دارد که ۲ نوع آن‌ها یعنی rRNA و tRNA ترجمه نمی‌شود.

نکته

در مرحله طویل شدن ترجمه، امکان خارج شدن tRNA از جایگاه A امکان‌پذیر است چون ممکن است tRNA ای که مکمل کدون موجود در جایگاه A نباشد، وارد این جایگاه شود و در این صورت از همان جایگاه از ریبوزوم خارج می‌شود.

نکته

هم در مرحله آغاز و هم در مرحله طویل شدن ترجمه ورود tRNA به جایگاه P صورت می‌پذیرد که در مرحله آغاز از بیرون و در مرحله طویل شدن از درون ریبوزوم و از جایگاه A است.



نکته


در مرحله طویل شدن tRNA می‌تواند از درون ریبوزوم و از جایگاه‌های A و E خارج شود، در مرحله پایان نیز tRNA می‌تواند از جایگاه P از ریبوزوم خارج شود.

نکته

در مرحله آغاز tRNA، از بیرون ریبوزوم به جایگاه P و در طویل شدن از بیرون ریبوزوم به جایگاه A وارد می‌شود اما در هیچ مرحله‌ای ممکن نیست tRNA از بیرون ریبوزوم به جایگاه E وارد شود.

نکته

همواره آخرین آنتی‌کدون‌هایی که به جایگاه P و A ریبوزوم وارد می‌شوند، یکسان‌اند.



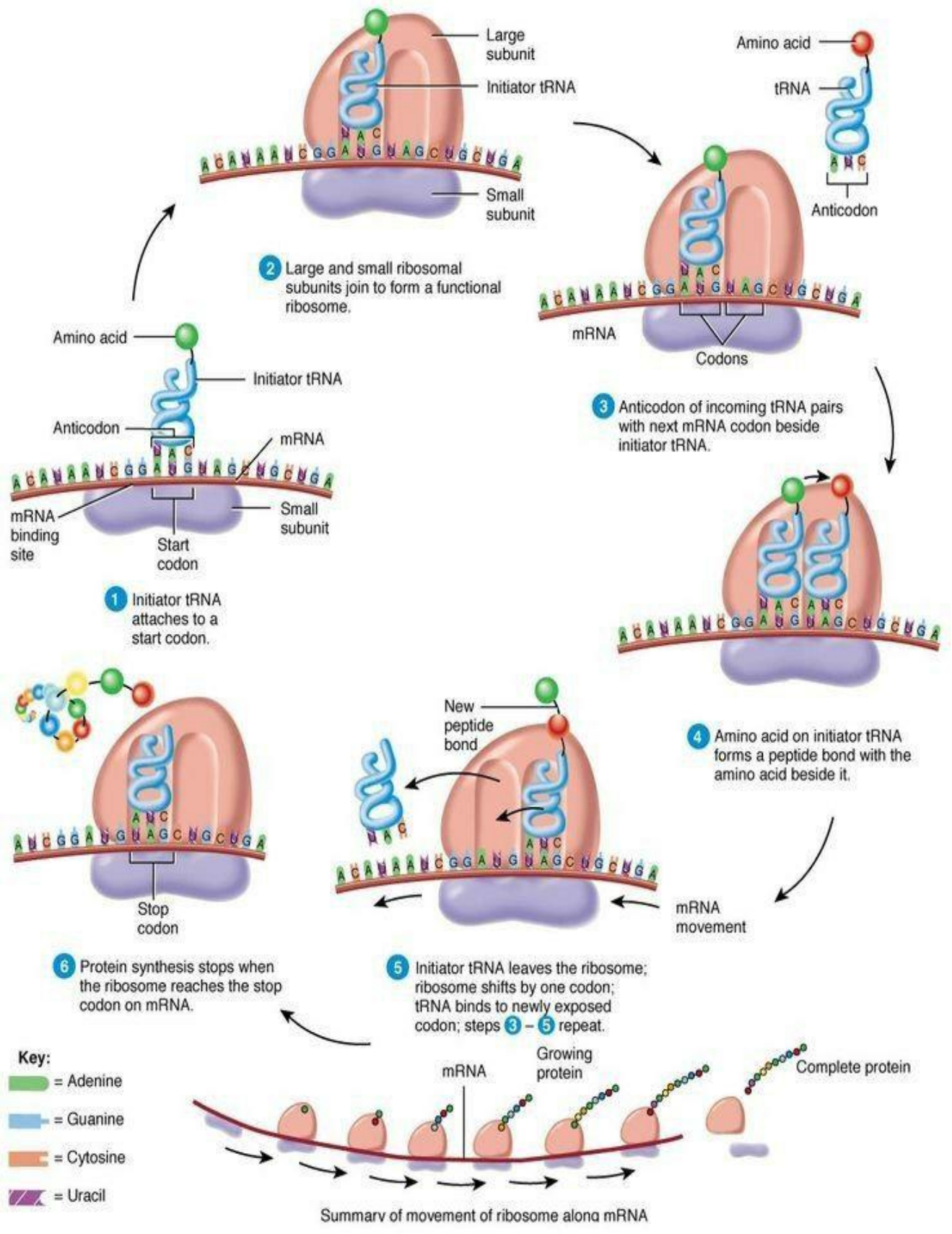
نکات ترجمه


Blank area for notes.



نکات ترجمه







مرحله پروتئین سازی و سر نوشت آن‌ها

در هر محلی از یاخته که ریبوزوم فعال وجود دارد، پروتئین سازی صورت می گیرد.

- پروکاریوت‌ها ← در ماده زمینه‌ای سیتوپلاسم
- در ماده زمینه‌ای سیتوپلاسم
- درون راکیزه
- درون سبزدیسه
- روی شبکه آندوپلاسمی

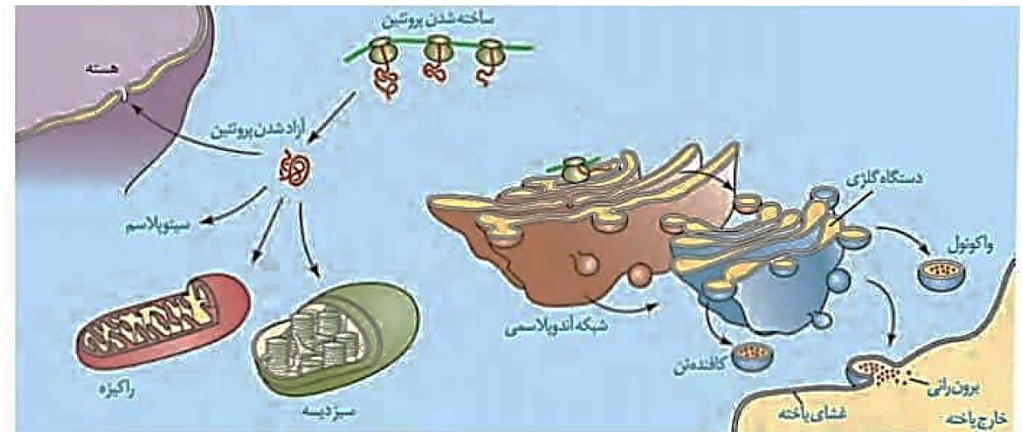
۱- بعضی از پروتئین‌ها، در ریبوزوم‌های روی شبکه آندوپلاسمی ساخته شده و وارد این شبکه و دستگاه گلژی می‌شوند و بعد از بسته‌بندی به سوی موارد مقابل می‌روند.

- لیزوزوم‌ها (کافنده‌تن) ← آنزیم‌های گوارشی درون یاخته‌ای
- واکوئول (کریچه) ← تنظیم آب و...
- برای ترشح به خارج یاخته ← آنزیم گوارشی
- درون غشای یاخته ← پمپ سدیم-پتاسیم و...

۲- بعضی از این پروتئین‌ها که در ماده زمینه‌ای سیتوپلاسم تولید می‌شوند

- یا در ماده زمینه‌ای سیتوپلاسم می‌مانند ← آنزیم‌های گلیکولیزی و تخمیر
- یا به هسته می‌روند ← دنابسپاراز، رنابسپاراز، هیستون و هلیکاز
- یا به میتوکندری می‌روند ← برخی آنزیم تنفس یاخته‌ای
- یا به پلاست‌ها می‌روند ← برخی آنزیم‌های فتوسنتزی

هر پروتئین، براساس مقصدی که در یاخته دارد ← توالی‌های آمینواسیدی خاصی برای هدایت به مقصد دارد.



بسته به نیاز هر یاخته تنظیم می شود.

سرعت و مقدار پروتئین سازی

پروکاریوت ها

به دلیل عدم وجود غشای هسته، پروتئین سازی ممکن است پیش از پایان رونویسی RNA پیک آغاز شود ← رونویسی و ترجمه به صورت همزمان دیده می شود.

طول عمر RNA پیک کم است ← در مواردی یاخته آن را پایدارتر می کند.

برای پروتئینی که به مقدار زیادی مورد نیاز است، ساخت پروتئین به طور همزمان و پشت سر هم توسط مجموعه ای از رناتن ها انجام می شود تا تعداد پروتئین بیشتری در واحد زمان ساخته شود.

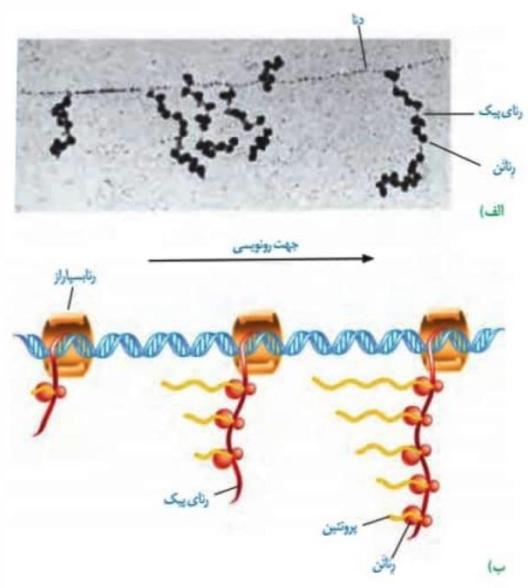
یوکاریوت ها

در هر جاندار، می توان همزمانی فعالیت چند مجموعه رناتن را از روی یک پیک مشاهده کرد ← افزایش سرعت پروتئین سازی

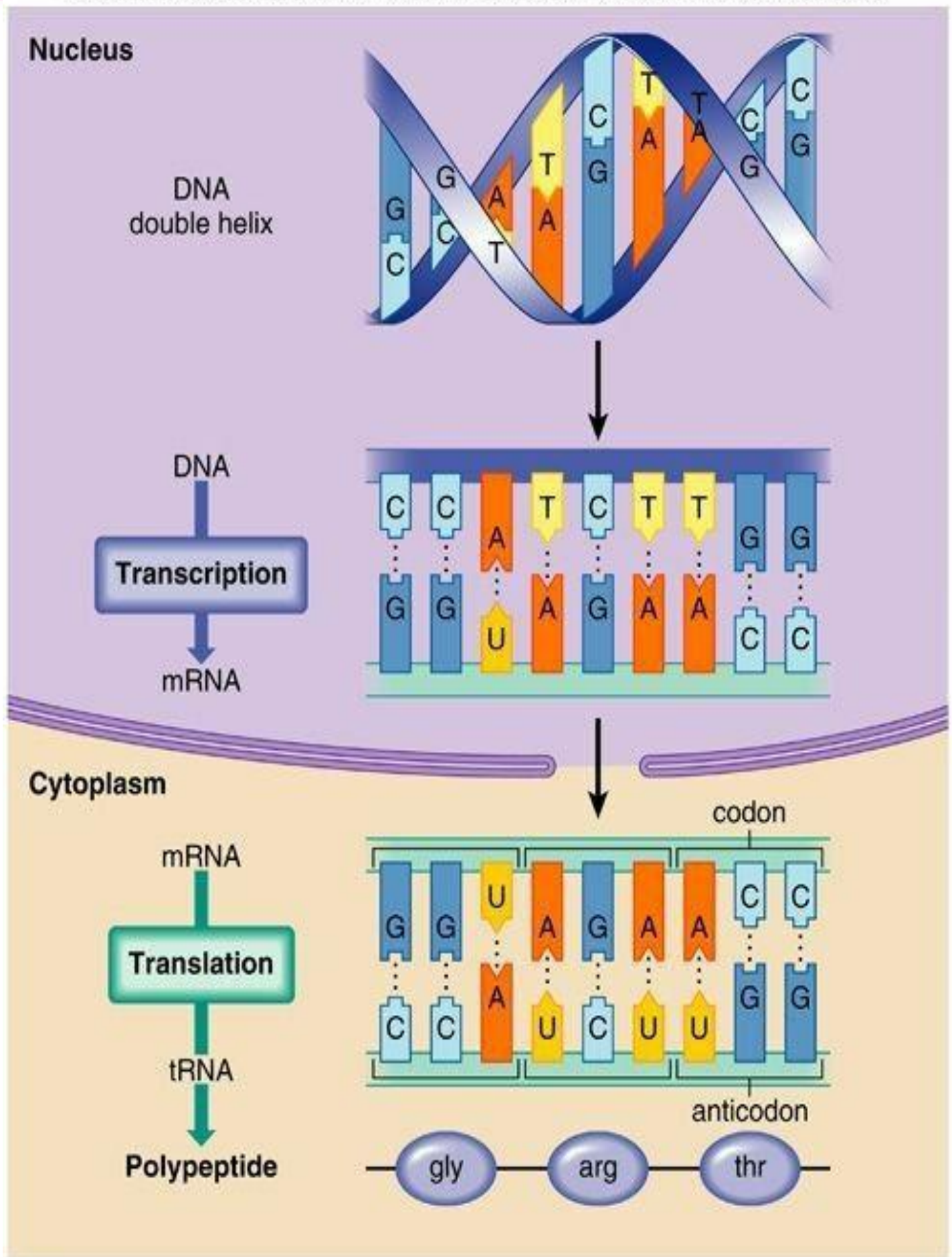
تجمع رناتن ها در این یاخته ها هم دیده می شوند.

سازوکارهایی برای حفاظت RNA پیک در برابر تخریب وجود دارد ← طولانی تر شدن عمر RNA پیک ← فرصت بیشتر برای پروتئین سازی

در این جانداران نمی توان همزمان فرایند رونویسی و ترجمه را از روی یک RNA پیک مشاهده کرد (به جز در راکیزه و سبزدیسه).





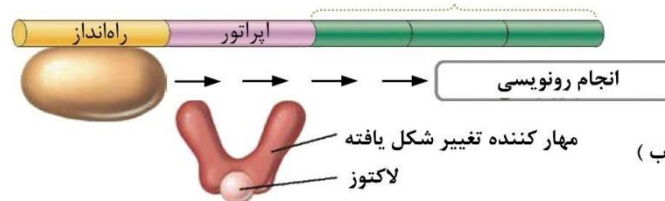
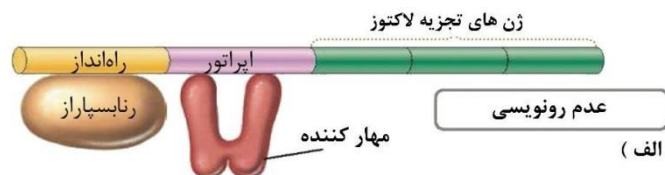


فصل ۲

گفتار ۳: تنظیم بیان ژن



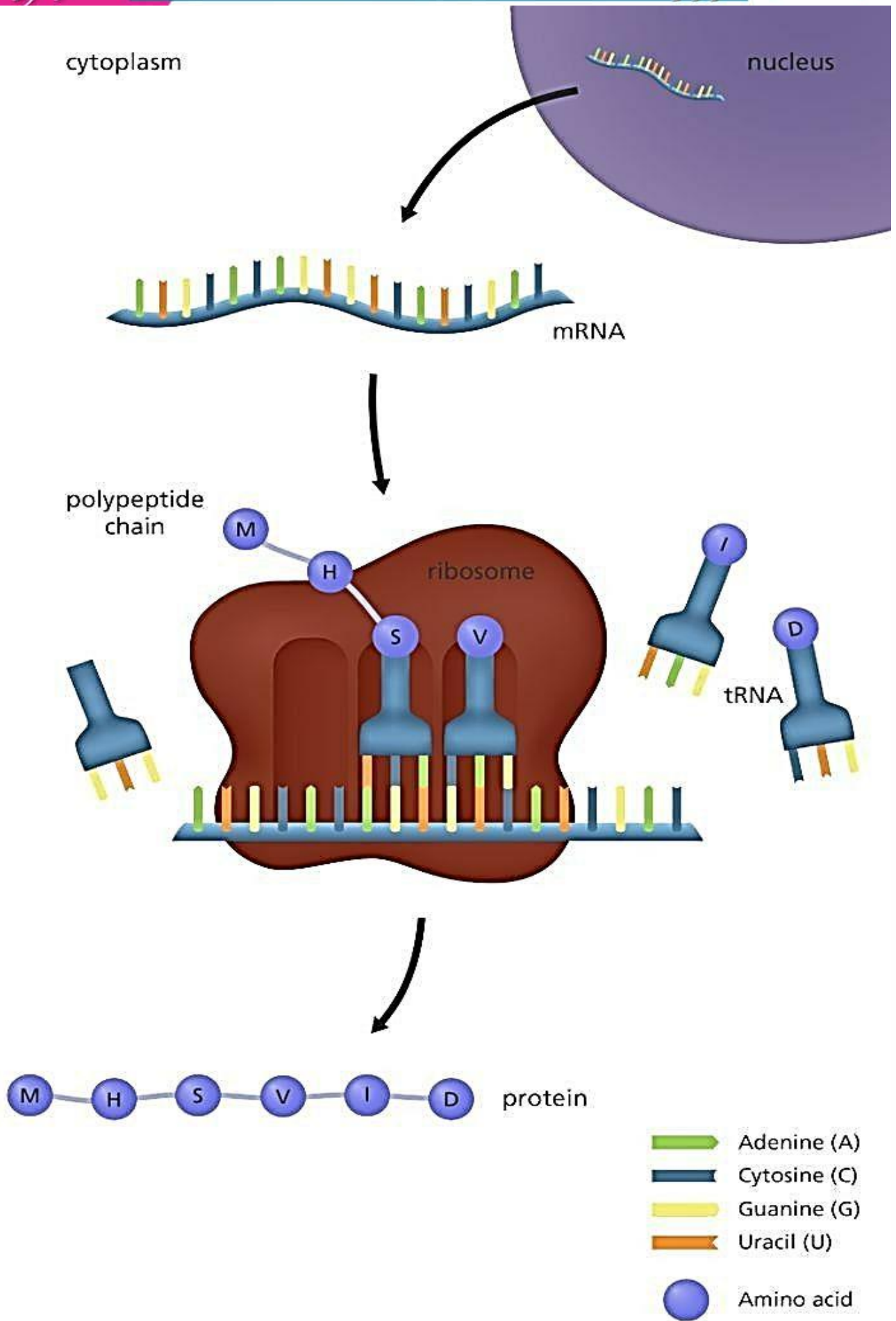
انواع تنظیم بیان ژن در پروکاریوت‌ها




- ۱- در این تنظیم بیان، بین راه‌انداز و اولین ژن، توالی اپراتور وجود دارد.
- ۲- در این نوع تنظیم بیان، پروتئین‌هایی به نام مهارکننده با تمایل زیاد به اپراتور وجود دارند.
- ۳- اگر مانعی (مهارکننده) بر سر راه رنابسپاراز وجود داشته باشد، رونویسی انجام نمی‌شود.
- ۴- مانع پیش‌روی رنابسپاراز نوعی پروتئین به نام مهارکننده است که به اپراتور (توالی خاصی از دنا) متصل می‌شود.
- ۵- در این ژن‌ها، رنابسپاراز به تنهایی راه‌انداز را شناسایی می‌کند و مستقیماً به آن متصل می‌شود.
- ۶- ژن‌های مربوط به تجزیه لاکتوز، به صورت سه ژن مجاور هم بوده که ژن وسط، فاقد نقطه آغاز و توالی پایان رونویسی است.
- ۷- این ژن‌ها در صورتی رونویسی و بیان می‌شوند که گلوکز محیط باکتری کم باشد ولی لاکتوز در محیط زیاد شود.
- ۸- در صورت عدم وجود لاکتوز کافی، مهارکننده به اپراتور متصل می‌شود و مانع حرکت رنابسپاراز روی دنا می‌شود.
- ۹- در صورت وجود لاکتوز کافی و کمبود گلوکز، ابتدا مقداری لاکتوز وارد باکتری می‌شود.
- ۱۰- لاکتوز موجود در باکتری، با اتصال به مهارکننده، شکل آن را تغییر می‌دهد.
- ۱۱- تغییر شکل مهارکننده، آن را از اپراتور جدا می‌کند و یا مانع اتصال آن‌ها به اپراتور می‌شود.
- ۱۲- در این حالت رونویسی ادامه می‌یابد و رنابسپاراز روی دنا حرکت کرده و از ابتدای ژن اول شروع به رونویسی می‌کند.
- ۱۳- ابتدا یک مولکول RNA پیک ساخته می‌شود که رونوشت هر سه ژن را در خود دارد.
- ۱۴- محصولات ترجمه این ژن‌ها آنزیم‌هایی هستند که با هیدرولیز، تجزیه لاکتوز را ممکن می‌کند تا مقداری گلوکز و گالاکتوز ایجاد شود.

تنظیم منفی رونویسی



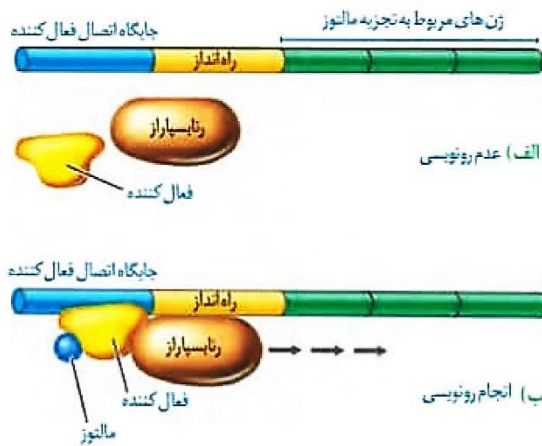


نکات شکل



تنظیم مثبت رونویسی

- ۱- در این روش، پروتئین‌های خاصی به نام فعال‌کننده به رنابسپاراز کمک می‌کنند تا بتواند به راه‌انداز متصل شود و رونویسی را شروع کند.
- ۲- در این ژن‌ها، راه‌انداز به اولین ژن متصل است و فاصله‌ای بین آن‌ها وجود ندارد.
- ۳- در این روش، مانعی در سر راه رنابسپاراز متصل به دنا وجود نخواهد داشت.
- ۴- در این ژن‌ها، قبل از راه‌انداز، جایگاه اتصال پروتئین فعال‌کننده روی دنا وجود دارد.
- ۵- ژن‌های مربوط به تجزیه مالتوز، به صورت سه ژن مجاور هم می‌باشند که هدف آن‌ها تجزیه مالتوز است.
- ۶- این ژن‌ها در حالتی بیان می‌شوند که مالتوز در محیط باکتری زیاد و گلوکز کم باشد.
- ۷- قند مالتوز مثالی از آن است که با حضور این قند در محیط باکتری، آنزیم‌هایی در درون آن ساخته می‌شود که قند مالتوز را تجزیه کند.
- ۸- در حضور قند مالتوز انواعی از پروتئین‌ها به نام فعال‌کننده وجود دارند که به توالی‌های خاصی از دنا در قبل از راه‌انداز متصل می‌شوند.
- ۹- این توالی خاص جایگاه اتصال فعال‌کننده نام دارد که به راه‌انداز متصل است ← ولی با ژن‌ها فاصله دارد.
- ۱۰- مالتوز وارد شده به باکتری، ابتدا به فعال‌کننده متصل شده و سپس این مجموعه به توالی قبل از راه‌انداز متصل می‌شود.
- ۱۱- اتصال مالتوز به فعال‌کننده، تغییرشکلی در پروتئین فعال‌کننده ایجاد نمی‌کند (بر خلاف اتصال لاکتوز به مهارکننده).
- ۱۲- سپس این مجموعه، به اتصال رنابسپاراز به راه‌انداز کمک می‌کند و رونویسی شروع می‌شود.
- ۱۳- با بیان این ژن‌ها، ابتدا یک mRNA دارای رونوشت سه ژن رونویسی می‌شود.
- ۱۴- mRNA ساخته شده قادر به تولید سه رشته پلی‌پپتیدی مختلف می‌باشد که آنزیم‌های مورد نیاز تجزیه مالتوز می‌باشند.



کارگاه نکته‌سازی

Blank area for note-taking.



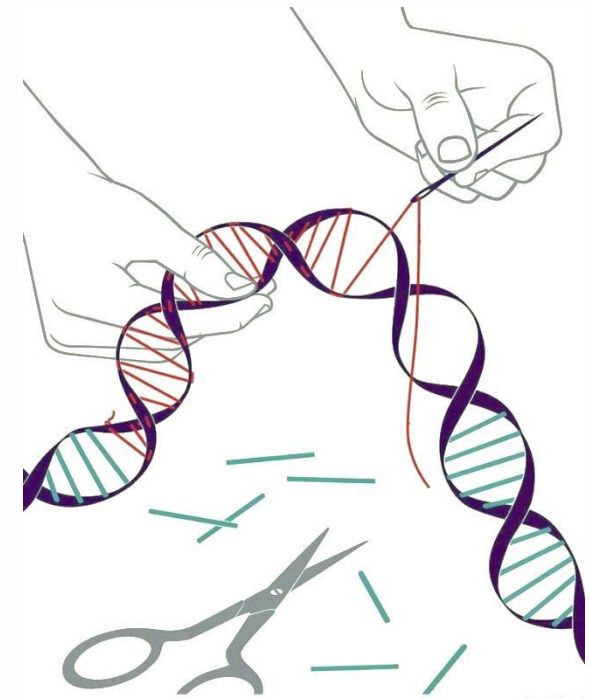
مقایسه مثبت و منفی

Blank area for writing or drawing.



در هر دو مورد، سه ژن مجاور هم وجود دارد که همگی توسط یک راه انداز بیان می شوند. ژن دوم آن ها فاقد نقطه آغاز و توالی پایان رونویسی می باشد. این سه ژن، فقط یک نقطه آغاز رونویسی در ابتدای ژن اول و یک توالی پایان رونویسی در انتهای ژن سوم دارند. با بیان آن ها، ابتدا یک رشته پلی نوکلئوتیدی mRNA رونویسی می شود. هر mRNA آن ها، سه رمزه آغاز و سه رمزه پایان ترجمه دارد. از روی mRNA آن ها، سه رشته پلی پپتید ایجاد می شود که سه آنزیم تک رشته ای با ساختار نهایی سوم پروتئینی می باشد. محصولات آن ها، آنزیم های هیدرولیز کننده دی ساکاریدها می باشند که در کمبود گلوکز ایجاد شده اند. آنزیم های نهایی آن ها در کمبود گلوکز ایجاد شده اند ولی سبب افزایش گلوکز درون باکتری می شوند.

نکات مشترک ژن های تهیزه کننده
لاکتوز و مالتوز در باکتری اشرشیا کلاهی



تنظیم بیان ژن در یوکاریوت‌ها

تنظیم بیان ژن در یوکاریوت‌ها، پیچیده‌تر از پروکاریوت‌هاست و می‌تواند در مراحل بیشتری انجام شود. در این یاخته‌ها بیشتر ژن‌ها در هسته و برخی در راکیزه و دیسه قرار دارند. یاخته‌های آن‌ها به وسیله غشاها به بخش‌های مختلفی تقسیم شده‌اند. یاخته در هسته، راکیزه و پلاست می‌تواند بر بیان ژن‌ها نظارت کند.

مراحل مختلف تنظیم بیان ژن

در مرحله رونویسی

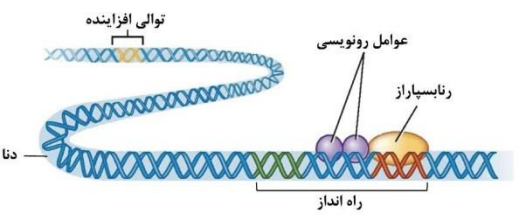
در یوکاریوت رنابسپاراز نمی‌تواند به تنهایی راه‌انداز را شناسایی کند و نیازمند پروتئین‌هایی به نام عوامل رونویسی است. عوامل رونویسی با اتصال به نواحی خاصی از راه‌انداز، رنابسپاراز را به محل راه‌انداز هدایت می‌کند. چون تمایل پیوستن عوامل رونویسی به راه‌انداز در اثر عواملی تغییر می‌کنند، مقدار رونویسی ژن هم تغییر می‌کند. ممکن است عوامل رونویسی دیگری به بخش‌های خاصی از دنا در پشت راه‌انداز و با فاصله‌ای به نام توالی افزایشده متصل شوند. با پیوستن این پروتئین‌ها به توالی افزایشده و با ایجاد خمیدگی در دنا، عوامل رونویسی در کنار هم قرار می‌گیرند. با کنار هم قرار گرفتن این عوامل سرعت رونویسی را افزایش می‌دهد. توالی‌های افزایشده ممکن است نزدیک و یا در فاصله دورتری از ژن قرار داشته باشد. اتصال این پروتئین‌های عامل رونویسی بر سرعت و مقدار رونویسی ژن مؤثر است. عوامل رونویسی روی افزایشده، بعد از ایجاد خمیدگی، به عوامل و رنابسپاراز روی راه‌انداز متصل می‌شود.

در مراحل غیررونویسی

امکان رونویسی در کروموزوم فشرده‌تر و حاوی هیستون زیاد، کمتر از سایر کروموزوم‌هاست ← در هنگام تقسیم یاخته احتمال رونویسی کمتر می‌شود. پیش از رونویسی ← در سطح فام‌تنی است. با تغییر در میزان فشردگی فام‌تن در بخش‌های خاصی، میزان دسترسی رنابسپاراز را به ژن مورد نظر تنظیم می‌کند ← امکان رونویسی و بیان ژن در اینترفاز تقسیم بیشتر است. پس از رونویسی

- از کار رناتن در پیدا کردن رمز آغاز ترجمه جلوگیری می‌کند.
- با تجزیه‌ی رنای پیک، عمل ترجمه را متوقف می‌کند ← طول عمر رنای پیک را کاهش می‌دهد.

افزایش طول عمر رنای پیک ← مدت زمان ترجمه بیشتر می‌شود ← مقدار محصول زیاد می‌شود.



✓ در باکتری‌ها، DNA حلقوی ممکن است چندین ژن تحت نظارت یک راه‌انداز و اپراتور باشد که جمعاً یک اپران چند ژنی را بسازند. در صورت رونویسی اپران یک mRNA ساخته می‌شود که به تعداد ژن‌ها کدون آغاز و پایان دارد و پس از ترجمه به تعداد ژن‌ها پلی‌پپتید ساخته می‌شود.

مسئله‌سازی

۱- چند نوع کدون فاقد یوراسیل در سلول قابل تصور است؟ $3 \times 3 \times 3 = 27$

۲- چند نوع کدون در سلول قابل تصور است که نوکلئوتید اول u می‌باشد؟ $1 \times 4 \times 4 = 16$

۳- چند نوع کدون در سلول قابل تصور است که فقط نوکلئوتید اول آن u باشد؟ $1 \times 3 \times 3 = 9$

۴- چند نوع کدون در سلول قابل تصور است که تنها دارای ۱ نوکلئوتید u دار باشد؟ $(1 \times 3 \times 3) \times 3 = 27$

۵- چند نوع کدون در سلول قابل تصور است که حداقل دارای ۱ نوکلئوتید u دار باشد؟

$$1 \times 3 \times 3 + (1 \times 3 \times 1) + (1 \times 1 \times 1) = 37$$

۶- به کمک بازهای آنتی تک حلقه‌ای بکار رفته در DNA چند نوع کدون می‌توان ساخت؟ CCC

۷- چند نوع کدون قابل ترجمه فاقد نوکلئوتیدی C دار در سلول قابل تصور است؟

$$3 \times 3 \times 3 = 27 - 3 = 24$$

۸- چند نوع کدون قابل ترجمه در سلول قابل تصور است که نوکلئوتید اول آن دارای باز u باشد؟

$$1 \times 4 \times 4 = 16 - 3 = 13$$

۹- چند نوع کدون قابل ترجمه در سلول قابل تصور است که نوکلئوتید وسط آن دارای باز A باشد؟

$$4 \times 1 \times 4 = 16 - 2 = 14$$

۱۰- چند نوع کدون قابل ترجمه در سلول قابل تصور است که فقط نوکلئوتید آخر آن دارای باز A باشد؟

$$3 \times 3 \times 1 = 9 - 1 = 8$$

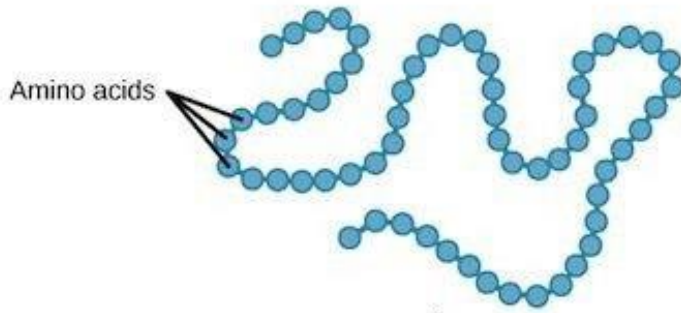
۱۱- چند نوع آنتی کدون در سلول قابل تصور است که نوکلئوتید وسط آن دارای u باشد؟

$$4 \times 1 \times 4 = 16 - 2 = 14$$

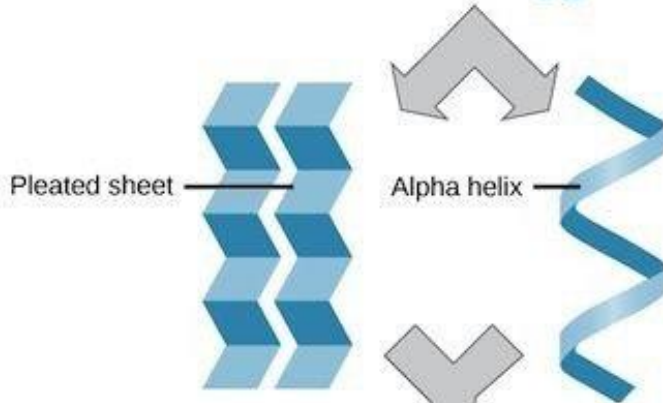
۱۲- چند نوع کدون در سلول قابل تصور است که فقط دارای دو نوکلئوتید u دار باشد؟

$$(1 \times 1 \times 3) \times 3 = 9$$

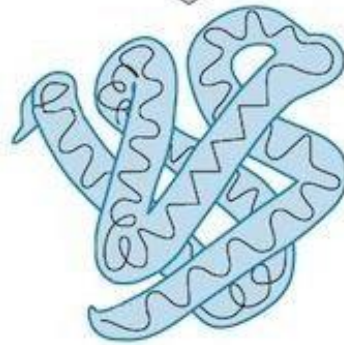




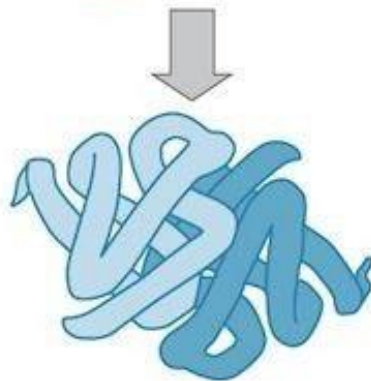
Primary protein structure
sequence of a chain of amino acids



Secondary protein structure
hydrogen bonding of the peptide backbone causes the amino acids to fold into a repeating pattern



Tertiary protein structure
three-dimensional folding pattern of a protein due to side chain interactions



Quaternary protein structure
protein consisting of more than one amino acid chain



تست کده

۱- عاملی که وجود آن سبب افزایش رونویسی در تنظیم منفی رونویسی ژن های تجزیه

لاکتوز اشرشیا کلای می شود، (سراسری خارج از کشور - ۸۷ با تغییر)

(۱) محصول بخش تنظیمی قبل از ژن هاست.

(۲) در ساختار خود، آمینواسید دارد.

(۳) ماهیت هیدرات کربنی دارد.

(۴) توانایی شناسایی راه انداز را دارد.

۲- در فرایند ترجمه ژن اکتین (نوعی پروتئین تک رشته ای) در یاخته های عضلانی

انسان پس از جابه جایی رناتن بر روی mRNA (سراسری - ۸۷ با تغییر)

(۱) جایگاه A، همواره پذیرای tRNA حامل آمینواسید می گردد.

(۲) tRNA وارد شده به جایگاه E، رناتن را ترک می کند.

(۳) پیوند پپتیدی بین آمینواسیدها در جایگاه A برقرار شود.

(۴) tRNA حامل یک آمینواسید خاص به جایگاه P منتقل می شود.

۳- در فرایند ترجمه، نسبت به سایرین در جایگاه متفاوتی از رناتن رخ

می دهد. (سراسری خارج از کشور - ۹۰)

(۱) استقرار عامل آزادکننده بر روی mRNA

(۲) تشکیل پیوند پپتیدی بین دو آمینواسید

(۳) جفت شدن tRNA حامل آمینواسید با رمزه UGA

(۴) آزاد شدن زنجیره پلی پپتیدی از آخرین tRNA



۴- هنگام حضور لاکتوز در اشرشیا گلای، اگر جهشی در صورت گرفته باشد، مانع اتصال نمی شود. (سراسری خارج از کشور - ۹۰ با تغییر)

(۱) اپراتور - رنابسپاراز به راه انداز

(۲) راه انداز - عوامل رونویسی به توالی افزایشده

(۳) ژن ساخت مهارکننده - پروتئین خاص به اپراتور

(۴) ژن ساخت مهارکننده - لاکتوز به پروتئین مهارکننده

۵- در مگس سرکه (سراسری - ۹۱)

(۱) تنظیم بیان ژن، نمی تواند در خارج از هسته صورت بگیرد.

(۲) تنها یک راه انداز، رونویسی از چند ژن مجاور را ممکن می کند.

(۳) یک نوع آنزیم رونویسی کننده، مسئول تولید انواع RNAها می باشند.

(۴) علاوه بر راه انداز از توالی های دیگری از DNA در رونویسی دخالت دارند.

۶- اگر در محیط باکتری اشرشیا گلای، لاکتوز یافت شود، حتی پس از اتصال (سراسری - ۹۲ با کمی تغییر)

(۱) عامل محیطی به پروتئین مهارکننده mRNA چند ژنی ساخته خواهد شد.

(۲) پروتئین مهارکننده به اپراتور، تجزیه لاکتوز ادامه خواهد داشت.

(۳) مهارکننده با اپراتور، رونویسی از ژن ساخت مهارکننده ادامه پیدا خواهد کرد.

(۴) عوامل رونویسی به راه انداز، سدی در مقابل حرکت رنابسپاراز ایجاد خواهد شد.

۷- چند مورد از عبارات های زیر در مورد باکتری استرپتوکوکوس نومونیا درست است؟ «در مرحله» (سراسری - ۹۳ با تغییر)

(الف) آغاز رونویسی، آنزیم رونویسی کننده به نوکلئوتید مناسبی برای آغاز فعالیت متصل می شود.
(ب) طویل شدن رونویسی، پیوند بین بازهای آلی دو رشته الگو و غیرالگوی DNA، گسسته می شود.

(ج) طویل شدن ترجمه، با آخرین جابه جایی رنانتی، رمزه پایان به جایگاه A رناتن منتقل می شود.
(د) آغاز ترجمه، پس از اتصال دو زیرواحد رناتن به یکدیگر، tRNA آغازی با نخستین رمزه جفت می شود.

(۴) ۴ مورد

(۳) ۱ مورد

(۲) ۳ مورد

(۱) ۲ مورد



۸- نوعی جاندار تک‌یاخته‌ای می‌تواند طی چرخه یاخته‌ای خود و با گذشت از نقاط واریسی، در بدن موریانه تولید مثل نماید. کدام عبارت، درباره این جاندار، درست است؟ (سراسری خارج از کشور - ۹۴)

(۱) به منظور تولید یک پروتئین ساختاری، رنابسپاراز به مجموعه راه‌انداز- پروتئین هدایت می‌شود.

(۲) راه‌انداز ژن‌های tRNA و mRNA، توسط یک آنزیم رنابسپاراز شناسایی می‌گردد.

(۳) فقط بخش‌هایی از محصول اولیه هر آنزیم رنابسپاراز، مورد ترجمه قرار می‌گیرد.

(۴) محصول اولیه فعالیت رنابسپاراز، همواره الگوی ساختن یک پروتئین را دارد.

۹- در بعضی از یاخته‌ها، پروتئین‌های سیتوپلاسمی بدون داشتن سانتربول، رشته‌های دوک را می‌سازند. کدام عبارت، درباره همه این یاخته‌ها درست است؟ (سراسری خارج از کشور - ۹۵)

(۱) مولکول‌های حاصل از رونویسی، با رشته غیرالگوی ژن مکمل هستند.

(۲) آنزیم‌هایی که جزء مونوساکاریدی دارند، در سیتوپلاسم آن‌ها فعالیت می‌کنند.

(۳) به دنبال وقوع تغییراتی، از طول همه مولکول‌های حاصل از رونویسی کاسته می‌شود.

(۴) به دنبال مبادله قطعاتی از فام‌تن‌های هم‌تا، گامت‌های نوترکیب تشکیل می‌شوند.

۱۰- کدام گزینه، عبارت مقابل را به طور مناسب کامل می‌کند؟ «در اثر شیاکلای عامل مولد بیماری» (سراسری خارج از کشور - ۹۷)

(۱) برخلاف - سینه پهلو، فرصت بیشتری برای تنظیم بیان ژن وجود دارد.

(۲) همانند - کزاز، ژن‌های مختلف با بیش از یک نوع پروتئین رونویسی می‌شوند.

(۳) برخلاف - مالاریا، در بین توالی‌های مؤثر در رونویسی، نوکلئوتیدهای زیادی وجود دارد.

(۴) همانند - جیبرلا در گیاهان، وقوع هر جهش کوچک در ژن، بر مولکول حاصل از رونویسی تأثیر می‌گذارد.



۱۱- چند مورد می‌تواند از پیامدهای وقوع جهش در دنا (DNA) ی باکتری اشرشیاکلاهی باشد؟ (سراسری - ۹۸)

- الف) تغییر در جایگاه فعال آنزیم تجزیه‌کننده لاکتوز
- ب) عدم اتصال مهارکننده به بخشی از ژن
- ج) عدم اتصال لاکتوز به نوعی پروتئین
- د) افزایش فعالیت رنابسپاراز (RNA پلیمراز)

- ۱) ۱ مورد
- ۲) ۲ مورد
- ۳) ۳ مورد
- ۴) ۴ مورد

۱۲- کدام عبارت در ارتباط با یوکارها نادرست است؟ (سراسری - ۹۸)

- ۱) رناتنها، می‌توانند رنا (RNA)های در حال رونویسی را ترجمه نمایند.
- ۲) اولین آمینواسید در انتهای آمینی پلی‌پپتیدهای تازه ساخته شده، متیونین است.
- ۳) در یک مولکول دنا (DNA)، رشته مورد رونویسی برای دو ژن می‌تواند متفاوت باشد.
- ۴) رنا (RNA)های پیک، ممکن است در حین رونویسی و یا پس از آن دستخوش تغییراتی کردند.

۱۳- کدام گزینه، عبارت زیر را به طور مناسب کامل می‌کند؟ (سراسری - ۹۸)

«در صورت حضور قند مالتوز در محیط باکتری اشرشیاکلاهی و به دنبال اتصال فعال‌کننده به.....»

- ۱) راه‌انداز، عوامل رونویسی بر روی توالی افزایشده قرار می‌گیرند.
- ۲) مالتوز، مهارکننده تغییر شکل می‌دهد و از اپراتور جدا می‌گردد.
- ۳) رنابسپاراز (RNA پلیمراز)، ژنهای مربوط به سنتز مالتوز رونویسی می‌شوند.
- ۴) توالی خاصی از دنا (DNA)، اولین نوکلئوتید مناسب برای رونویسی مورد شناسایی قرار می‌گیرد.



۱۴- چند مورد، درباره همه جاندارانی صادق است که در محیط‌های متفاوت خشکی و آبی زندگی می‌کنند و انجام بخش عمده فتوسنتز را برعهده دارند؟ (سراسری خارج از کشور - ۹۸)

- (الف) رناتن‌ها، عمل ترجمه را قبل از پایان رونویسی آغاز می‌کنند.
 (ب) محصولات اولیه رونویسی همه ژن‌ها، پیش‌سازهای رنا (RNA) ی پیک هستند.
 (ج) با قرار گرفتن عوامل رونویسی در کنار هم، سرعت رونویسی افزایش می‌یابد.
 (د) پروتئین‌ها می‌توانند به طور هم‌زمان و پشت سر هم توسط مجموعه‌ای از رناتن‌ها ساخته شوند.

(۱) مورد ۱ (۲) مورد ۲ (۳) مورد ۳ (۴) مورد ۴

۱۵- کدام گزینه، عبارت زیر را به طور مناسب کامل می‌کند؟ (سراسری خارج از کشور - ۹۸)

«در همه جانداران، هر رنا (RNA) یی که دارد. فقط»

- (۱) در ساختار خود پیوندهای اشتراکی - از رونویسی یک ژن حاصل شده است.
 (۲) در ساختار خود رمزه پایان - در درون هسته یاخته پیرایش می‌شود.
 (۳) به رشته پلی‌پپتیدی در حال ساخت اتصال - توسط یک رنابسپاراز (RNA پلیمراز) ساخته شده است.
 (۴) به رشته رمزگذار شباهت بسیار - از طریق رمزه‌های خود با پادرمزه‌ها ارتباط برقرار می‌کند.

۱۶- کدام عبارت، در مورد یوکاریوت‌ها، صادق است؟ (سراسری خارج از کشور - ۹۸)

- (۱) رنا (RNA) ی پیک فقط در حین رونویسی دستخوش تغییراتی می‌شود.
 (۲) سمتی از رنا (RNA) ی پیک که زودتر ساخته شده، دیرتر ترجمه می‌گردد.
 (۳) اولین آمینواسید در انتهای کربوکسیل همه پلی‌پپتیدهای تازه ساخته شده، متیونین است.
 (۴) در یک مولکول دنا (DNA)، رشته مورد رونویسی می‌تواند از یک ژن به ژن دیگر تغییر نماید.



۱۷- با توجه به ژن های تجزیه کننده لاکتوز در باکتری E.Coli، کدام گزینه برای تکمیل عبارت زیر مناسب است؟ (سراسری - ۹۹)

- ۱) مهارکننده - به توالی خاصی از DNA بیش از نوعی قند تمایل دارد.
- ۲) آنزیم ویژه رونویسی - نیازمند پروتئین هایی برای شناسایی راه انداز است.
- ۳) فعال کننده - پس از اتصال به نوعی قند، به جایگاه ویژه خود اتصال می یابد.
- ۴) محرک فعالیت رنابسپاراز (RNA پلیمراز) - نوعی دی ساکارید به حساب می آید.

۱۸- در انسان، به منظور تولید یک پروتئین ترشحی توسط لنفوسیت B، پس از برقرار شدن دومین پیوند پپتیدی، کدام اتفاق رخ می دهد؟ (سراسری - ۹۹)

- ۱) tRNA بدون آمینواسید در جایگاه E رناتن قرار می گیرد.
- ۲) پیوند بین زنجیره پلی پپتیدی و دومین tRNA سست می شود.
- ۳) آمینواسید جایگاه A از رنای ناقل (tRNA) خود جدا می شود.
- ۴) tRNA حامل سومین آمینواسید به جایگاه A رناتن وارد می گردد.

۱۹- در انسان، به منظور تولید یک پلی پپتید ترشحی تولید لنفوسیت B، لازم است تا هر زمان که رنای ناقل (tRNA) از جایگاه E خارج می شود «ترکیبی که به عنوان شناخته می شود» (سراسری خارج از کشور - ۹۹)

- ۱) tRNA حاوی بیش از یک آمینواسید در جایگاه P مستقر شود.
- ۲) آمینو جایگاه A، از RNA ناقل خود جدا گردد.
- ۳) tRNA حامل آمینواسید، جایگاه A را اشغال نماید.
- ۴) پیوند پپتیدی در جایگاه P برقرار گردد.

۲۰- در یوکاریوت ها، چند مورد را می توان مربوط به تنظیم بیان ژن پیش از رونویسی دانست؟ (سراسری - ۱۴۰۰)

- الف) میزان دسترسی پیش ماده به آنزیم
- ب) اتصال رناهای کوچک به نوعی ریبونوکلئیک اسید
- ج) تغییر در فشردگی واحدهای تکراری در رشته کروماتین
- د) خمیدگی یا عدم خمیدگی در بخشی از مولکول دنا (DNA)

۴ (۴)

۳ (۳)

۲ (۲)

۱ (۱)



۲۱- چند مورد، در ارتباط با مراحل ترجمه و یوکاریوت‌ها درست است؟ (سراسری - ۱۴۰۰)

الف) هر tRNA که فقط حامل یک آمینواسید است، ابتدا به جایگاه A رناتن (ریبوزوم) وارد می‌شود.

ب) هر tRNA که وارد جایگاه A رناتن (ریبوزوم) می‌شود، با رمزه (کدون) ارتباط مکملی برقرار می‌کند.

ج) هر tRNA که ارتباط خود را با زنجیره‌ای از آمینواسیدها قطع می‌کند، به جایگاه E رناتن (ریبوزوم) منتقل می‌شود.

د) هر tRNA که پس از تکمیل رناتن (ریبوزوم) در جایگاه خود مستقر می‌شود، می‌تواند به توالی‌ای از آمینواسیدها متصل گردد.

۱ (۱)

۲ (۲)

۳ (۳)

۴ (۴)

۲۲- وجه مشترک هر دو نوع تنظیم مثبت و منفی رونویسی در باکتری اشرشیا گلای کدام است؟

۱) هر پروتئینی که بر روی توالی خاصی از DNA قرار می‌گیرد، ژن یا ژن‌های سازنده آن با نوع دیگری رنابسپاراز، رونویسی شده است.

۲) هر پروتئینی که آنزیم رونویسی‌کننده را به سمت راه‌انداز حرکت می‌دهد، می‌تواند به قند دی‌ساکاریدی اتصال یابد.

۳) هر پروتئینی که ژن‌های مربوط به تجزیه قند را رونویسی می‌کند، توسط فعال‌کننده به راه‌انداز متصل می‌شود.

۴) هر پروتئینی که به قندی متفاوت از گلوکز متصل می‌گردد، در شروع حرکت آنزیم رونویسی‌کننده نقش دارد.



پاسخنامه

۱ (۱۲)

۴ (۱۳)

۱ (۱۴)

۳ (۱۵)

۴ (۱۶)

۴ (۱۷)

۱ (۱۸)

۱ (۱۹)

۳ (۲۰)

۱ (۲۱)

۴ (۲۲)

۳ (۱)

۲ (۲)

۴ (۳)

۱ (۴)

۴ (۵)

۳ (۶)

۲ (۷)


۱ (۸)

۲ (۹)

۴ (۱۰)

۲ (۱۱)





بِسْمِ اللّٰهِ الرَّحْمٰنِ الرَّحِیْمِ

اَللّٰهُمَّ صَلِّ عَلٰی مُحَمَّدٍ وَّآلِ مُحَمَّدٍ وَّعَجِّلْ فَرَجَهُمْ

زیست شناسی (۱)

رشته علوم تجربی

پایه دهم

دوره دوم متوسطه






وزارت آموزش و پرورش سازمان پژوهش و برنامه‌ریزی آموزشی

- زیست‌شناسی (۱) - پایه دهم دوره دوم متوسطه - ۱۱۰۲۱۶
- سازمان پژوهش و برنامه‌ریزی آموزشی
- دفتر تألیف کتاب‌های درسی عمومی و متوسطه نظری
- سیدعلی آل محمد، محمد ابراهیمی، مریم انصاری، علیرضا ساری، الهه علوی، بهمن فخریان و محمد کرام‌الدینی (اعضای شورای برنامه‌ریزی و تألیف)
- بهمن فخریان (ویراستار علمی) - محمد دانشگر، علیرضا کاهه (ویراستار ادبی)
- اداره کل نظارت بر نشر و توزیع مواد آموزشی
- مدیریت آماده‌سازی هنری:
- شناسه افزوده آماده‌سازی:
- احمدرضا امینی (مدیر امور فنی و چاپ) - جواد صفری (مدیر هنری) - احسان رضوانی (طراح گرافیک، طراح جلد) - مریم وثوقی انباردان (صفحه‌آرا) - الهه بهین (تصویرگر) - عزیز عذار (عکاس تشریح اندام‌ها) - مرضیه اخلاقی، سیده فاطمه طباطبایی، رعنا فرج‌زاده دروئی، شاداب ارشادی، فریبا سیر، مریم دهقان زاده، فاطمه رئیسیان فیروزآباد (امور آماده‌سازی)
- تهران: خیابان ایرانشهر شمالی - ساختمان شماره ۴ آموزش و پرورش (شهید موسوی)
- تلفن: ۹-۱۱۶۱۱۶۱، ۸۸۸۳۱۱۶۱، دورنگار: ۸۸۳۰۹۲۶۶، کد پستی: ۱۵۸۴۷۴۷۳۵۹
- وبگاه: www.chap.sch.ir و www.irtextbook.ir
- شرکت چاپ و نشر کتاب‌های درسی ایران تهران - کیلومتر ۱۷ جاده مخصوص کرج - خیابان ۶۱ (داروپخش)
- تلفن: ۵-۴۴۹۸۵۱۶۱، دورنگار: ۴۴۹۸۵۱۶۰، صندوق پستی: ۱۳۹-۳۷۵۱۵
- شرکت چاپ و نشر کتاب‌های درسی ایران «سهامی خاص»
- چاپ ششم ۱۴۰۰
- مدیریت آماده‌سازی هنری:
- شناسه افزوده آماده‌سازی:
- نشانی سازمان:
- ناشر:
- چاپخانه:
- سال انتشار و نوبت چاپ:

شابک ۹۷۸-۹۶۴-۰۵-۲۵۱۵-۹

ISBN: 978-964-05-2515-9



جوان‌ها قدر جوانی‌شان
را بدانند و آن را در علم و
تقوی و سازندگی خودشان
صرف کنند که اشخاصی
امین و صالح بشوند.
مملکت ما با اشخاص امین
می‌تواند مستقل باشد.
امام خمینی «قَدِّسَ سِرُّهُ»

کلیه حقوق مادی و معنوی این کتاب متعلق به سازمان پژوهش و برنامه‌ریزی آموزشی وزارت آموزش و پرورش است و هرگونه استفاده از کتاب و اجزای آن به صورت چاپی و الکترونیکی و ارائه در پایگاه‌های مجازی، نمایش، اقتباس، تلخیص، تبدیل، ترجمه، عکس‌برداری، نقاشی، تهیه فیلم و تکثیر به هر شکل و نوع، بدون کسب مجوز از این سازمان ممنوع است و متخلفان تحت پیگرد قانونی قرار می‌گیرند.

توانمندسازی زبان فارسی در همهٔ زمینه‌ها از جمله علم و فناوری، آرمان تمام ایرانیان است. از این رو در این کتاب از واژگان مصوب فرهنگستان زبان و ادب فارسی به جای واژگان بیگانه استفاده شده است. دبیران ارجمند و دانش‌آموزان عزیز می‌توانند برای پی بردن به ریشهٔ این واژگان به توضیحاتی که در وبگاه گروه زیست‌شناسی دفتر تألیف کتاب‌های درسی آمده است، مراجعه کنند.

۱	فصل ۱- دنیای زنده
۲	گفتار ۱. زیست‌شناسی چیست؟
۷	گفتار ۲. گسترهٔ حیات
۱۱	گفتار ۳. یاخته و بافت در بدن انسان
۱۷	فصل ۲- گوارش و جذب مواد
۱۸	گفتار ۱. ساختار و عملکرد لولهٔ گوارش
۲۵	گفتار ۲. جذب مواد و تنظیم فعالیت دستگاه گوارش
۳۰	گفتار ۳. تنوع گوارش در جانداران
۳۳	فصل ۳- تبادلات گازی
۳۴	گفتار ۱. سازوکار دستگاه تنفس در انسان
۴۰	گفتار ۲. تهویهٔ ششی
۴۵	گفتار ۳. تنوع تبادلات گازی
۴۷	فصل ۴- گردش مواد در بدن
۴۸	گفتار ۱. قلب
۵۵	گفتار ۲. رگ‌ها
۶۱	گفتار ۳. خون
۶۵	گفتار ۴. تنوع گردش مواد در جانداران
۶۹	فصل ۵- تنظیم اسمزی و دفع مواد زائد
۷۰	گفتار ۱. هم‌ایستایی و کلیه‌ها
۷۳	گفتار ۲. تشکیل ادرار و تخلیهٔ آن
۷۶	گفتار ۳. تنوع دفع و تنظیم اسمزی در جانداران
۷۹	فصل ۶- از یاخته تا گیاه
۸۰	گفتار ۱. ویژگی‌های یاختهٔ گیاهی
۸۶	گفتار ۲. سامانهٔ بافتی
۹۰	گفتار ۳. ساختار گیاهان
۹۷	فصل ۷- جذب و انتقال مواد در گیاهان
۹۸	گفتار ۱. تغذیهٔ گیاهی
۱۰۲	گفتار ۲. جانداران مؤثر در تغذیهٔ گیاهی
۱۰۵	گفتار ۳. انتقال مواد در گیاهان

مقدمه

کتاب زیست‌شناسی ۱ اولین کتاب زیست‌شناسی از دوره دوم متوسطه است که برای پایه دهم و رشته تجربی تألیف و چاپ شده است. این کتاب ادامه اجرای برنامه ۱۲ ساله حوزه تربیتی و یادگیری علوم تجربی است که از دوره ابتدایی آغاز و در سه سال اول متوسطه در قالب کتاب‌های علوم تجربی ادامه یافته و به دوره دوم متوسطه رسیده است. در این دوره، علوم تجربی به صورت ۴ کتاب مجزا تعریف شده است. درس زیست‌شناسی برای رشته علوم تجربی در سه پایه دهم، یازدهم و دوازدهم ارائه می‌شود. برنامه زیست‌شناسی براساس راهنمای برنامه حوزه تربیت و یادگیری علوم تجربی و منطبق با برنامه درسی ملی تدوین شده است. اهداف این برنامه مطابق با برنامه درسی ملی در سه عرصه ارتباطی یعنی ارتباط انسان با خود، خلق و خلقت که مبتنی بر ارتباط او با خداوند متعال است، تعریف شده و در جهت تقویت پنج عنصر (تفکر و تعقل، ایمان، علم، عمل و اخلاق) پیش خواهد رفت. بر این اساس مهم‌ترین شایستگی‌های مدنظر حوزه علوم تجربی که درس زیست‌شناسی تلاش می‌کند در دانش‌آموز تحقق یابد، عبارت‌اند از:

- ۱- نظام‌مندی طبیعت را براساس درک و تحلیل مفاهیم، الگوها و روابط بین پدیده‌های طبیعی به عنوان آیات الهی کشف و گزارش می‌کند و نتایج آن را برای حل مسائل حال و آینده در ابعاد فردی و اجتماعی در قالب ایده یا ابزار ارائه می‌دهد / به کار می‌گیرد.
 - ۲- با ارزیابی رفتارهای متفاوت در ارتباط با خود و دیگران در موقعیت‌های گوناگون زندگی، رفتارهای سالم را انتخاب می‌کند / گزارش می‌کند / به کار می‌گیرد.
 - ۳- با درک ماهیت، روش و فرایند علم تجربی، امکان به‌کارگیری این علم را در حل مسائل واقعی زندگی (حال و آینده)، تحلیل و محدودیت‌ها و توانمندی‌های علوم تجربی را در حل این مسائل گزارش می‌کند.
 - ۴- با استفاده از منابع علمی معتبر و بهره‌گیری از علم تجربی، می‌تواند ایده‌هایی مبتنی بر تجارب شخصی، برای مشارکت در فعالیت‌های علمی ارائه دهد و در این فعالیت‌ها با حفظ ارزش‌ها و اخلاق علمی مشارکت کند.
- با توجه به زمینه انتخاب شده برای این کتاب یعنی کسب ماده و انرژی و نیز تأکید برنامه درسی ملی بر آموزش زمینه محور و لزوم ارائه محتوایی که با زندگی حال و آینده دانش‌آموزان ارتباط داشته باشد، موضوع‌های زیر در این کتاب گنجانده شده‌اند:

- معرفی زیست‌شناسی، محدوده علوم تجربی، مرزهای حیات؛
 - زیست‌شناسی در خدمت جامعه انسانی از جمله تهیه غذای سالم و کافی، حفظ محیط زیست و تأمین سلامت انسان؛
 - آشنایی با دستگاه‌های مختلف بدن انسان، بعضی از بیماری‌های مرتبط با آنها و مقایسه دستگاه‌های بدن انسان با جانوران دیگر؛
 - آشنایی با ساختار گیاهان و چگونگی جذب و دفع در آنها.
- در تألیف این کتاب چند نکته مدنظر مؤلفان و شورای تألیف بوده است:
- سعی شده حجم کتاب با ساعت اختصاص یافته به آن متناسب باشد.
 - مباحث مطرح شده در دوره اول متوسطه در این کتاب کامل‌تر شده و به صورت تخصصی‌تر به آن پرداخته شده است البته سعی شده از تکرار مطالب دوره اول خودداری شود.
 - به بعضی از مباحث زیست‌شناسی فصل جداگانه‌ای اختصاص داده نشده و در هر قسمت بسته به نیاز درباره موضوع توضیح مشخصی داده شده است.
 - سعی شده مباحث گیاهی و جانوری جداگانه مطرح شوند تا دانش‌آموزان انگیزه بیشتری برای یادگیری داشته باشند.
- گروه زیست‌شناسی لازم می‌داند از دبیران منتخب و سرگروه‌های آموزشی محترم استان‌های اصفهان و گیلان که در اعتبارسنجی این کتاب با ما همکاری داشته‌اند تشکر و قدردانی نماید.

گروه زیست‌شناسی

دفتر تألیف کتاب‌های درسی عمومی و متوسطه نظری

مطالب «بیشتر بدانید» و «واژه‌شناسی» در این کتاب، صرفاً جنبه آگاهی بخشی دارد و نباید در ارزشیابی، آزمون‌ها و آزمون سراسری ورود به دانشگاه (کنکور) مورد پرسش قرار گیرد.



فصل ۱

دنیای زنده

پروانه‌های موناک یکی از شگفت‌انگیزترین مهاجرت‌ها را به نمایش می‌گذارند. جمعیت این پروانه‌ها هر سال هزاران کیلومتر را از مکزیک تا جنوب کانادا و بالعکس می‌پیماید. چگونه پروانه‌های موناک مسیر خود را پیدا می‌کنند و راه را به اشتباه نمی‌روند؟ زیست‌شناسان پس از سال‌ها پژوهش، به تازگی این معما را حل کرده‌اند. آنان در بدن پروانه موناک، یاخته‌های عصبی (نورون‌هایی) یافته‌اند که پروانه‌ها با استفاده از آنها، جایگاه خورشید در آسمان و جهت مقصد را تشخیص می‌دهند و به سوی آن پرواز می‌کنند.

آیا علم زیست‌شناسی قادر است همه رازهای حیات را بیابد؟ زیست‌شناسان علاوه بر تلاش برای پی‌بردن به رازهای آفرینش، سعی می‌کنند یافته‌های خود را در بهبود زندگی انسان به کار برند.

موجودات زنده چه ویژگی‌هایی دارند که آنها را از موجودات غیرزنده متمایز می‌کند. در این فصل به پاسخ چنین پرسش‌هایی می‌پردازیم.



- چگونه می‌توان گیاهانی پرورش داد که در مدتی کوتاه‌تر، مواد غذایی بیشتری تولید کنند؟
 - چرا باید تنوع زیستی حفظ شود؟ چرا باید حیات وحش حفظ شود؟
 - چرا بعضی از یاخته‌های بدن انسان سرطانی می‌شوند؟ چگونه می‌توان یاخته‌های سرطانی را در مراحل اولیه سرطانی شدن شناسایی و نابود کرد؟
 - چگونه می‌توان سوخت‌های زیستی مانند الکل را جانشین سوخت‌های فسیلی، مانند مواد نفتی کرد؟
 - چگونه می‌توان از بیماری‌های ارثی، پیشگیری، و یا آنها را درمان کرد؟
- اینها فقط چند پرسش از میان انبوه پرسش‌هایی است که زیست‌شناسان تلاش می‌کنند پاسخ‌های آنها را بیابند تا علاوه بر پی‌بردن به رازهای آفرینش، به حل مسائل و مشکلات زندگی انسان امروزی نیز کمک کنند و در این راه به موفقیت‌هایی هم رسیده‌اند. زیست‌شناسی، شاخه‌ای از علوم تجربی است که به بررسی علمی جانداران و فرایندهای زیستی می‌پردازد.

فعالیت

یک روزنامه خبری معمولی تهیه کنید. خبرهای مربوط به زیست‌شناسی را انتخاب کنید (برای تعیین خبرهای مربوط به زیست‌شناسی از معلم خود کمک بخواهید).

در روزنامه‌ای که انتخاب کرده‌اید، چند درصد از خبرها به زیست‌شناسی مربوط است؟ از این خبرها، چند خبر خوب و چند خبر بد هستند؟

می‌توانید به جای روزنامه از وبگاه‌های خبری در بازه زمانی خاصی استفاده و درصد خبرهای زیستی آن را پیدا کنید.



محدوده علم زیست‌شناسی

امروزه بسیاری از بیماری‌ها مانند بیماری قند و افزایش فشارخون که حدود صد سال پیش به مرگ منجر می‌شدند، مهار شده‌اند و به علت روش‌های درمانی و داروهای جدید، دیگر مرگ‌آور نیستند. ممکن است با مشاهده پیشرفت‌ها و آثار علم زیست‌شناسی، این تصور در ذهن ما شکل بگیرد که این علم به اندازه‌ای توانا و گسترده است که می‌تواند به همه پرسش‌های انسان پاسخ دهد و همه مشکلات زندگی ما را حل کند؛ درحالی‌که این تصور نیست. به‌طور کلی علم تجربی، محدودیت‌هایی دارد و نمی‌تواند به همه پرسش‌های ما پاسخ دهد و از حل برخی مسائل بشری ناتوان است.

دانشمندان و پژوهشگران علوم تجربی فقط در جست‌وجوی علت‌های پدیده‌های طبیعی و قابل مشاهده‌اند. مشاهده، اساس علوم تجربی است؛ بنابراین، در زیست‌شناسی، فقط ساختارها و یا

فرایندهایی را بررسی می‌کنیم که برای ما به طور مستقیم یا غیر مستقیم قابل مشاهده و اندازه‌گیری اند. پژوهشگران علوم تجربی نمی‌توانند دربارهٔ زشتی و زیبایی، خوبی و بدی، ارزش‌های هنری و ادبی نظر بدهند.

فعالیت

مجری یک برنامهٔ تلویزیونی گفته است «زیست‌شناسان ثابت کرده‌اند که شیر، مایعی خوشمزه است». این گفته درست است یا نادرست؟

زیست‌شناسی نوین

امروزه زیست‌شناسی ویژگی‌هایی دارد که آن را به رشته‌ای مترقی، توانا، پویا و امیدبخش تبدیل کرده است. در ادامه به این ویژگی‌ها می‌پردازیم.

کل‌نگری: جورچینی (پازلی) را در نظر بگیرید که از قطعات بسیار زیادی تشکیل شده است. ممکن است هر یک از قطعات آن به تنهایی بی‌معنی به نظر آید؛ اما اگر قطعه‌های آن را یکی یکی در جای درست در کنار همدیگر قرار دهیم، مشاهده می‌کنیم که اجزای جورچین، به تدریج نمایی بزرگ، کلی و معنی‌دار پیدا می‌کنند و تصویری از شیئی آشنا به ما نشان می‌دهند.

پیکر هر یک از جانداران نیز از اجزای بسیاری تشکیل شده است. هر یک از این اجزا، بخشی از یک سامانهٔ بزرگ را تشکیل می‌دهد که در نمای کلی برای ما معنی پیدا می‌کند. بنابراین، جانداران را نوعی سامانه می‌دانند که اجزای آن باهم ارتباط دارند؛ به همین علت ویژگی‌های سامانه را نمی‌توان فقط از طریق مطالعهٔ اجزای سازندهٔ آن توضیح داد و ارتباط بین اجزا نیز مانند خود اجزا در تشکیل جاندار، مؤثر و کلی سامانه، چیزی بیشتر از مجموع اجزای آن است.

نگرش بین‌رشته‌ای: زیست‌شناسان امروزی برای شناخت هر چه بیشتر سامانه‌های زنده از اطلاعات رشته‌های دیگر نیز کمک می‌گیرند؛ مثلاً برای بررسی ژن‌های جانداران، علاوه بر اطلاعات زیست‌شناختی، از فنون و مفاهیم مهندسی، علوم رایانه، آمار و بسیاری رشته‌های دیگر هم استفاده می‌کنند.

فناوری‌های نوین: این فناوری‌ها نقش مهمی در پیشرفت علم زیست‌شناسی داشته و دارند. در ادامه به نمونه‌هایی از این فناوری‌ها می‌پردازیم.

فناوری‌های اطلاعاتی و ارتباطی: امروزه بیشتر از هر زمان دیگر به جمع‌آوری، بایگانی و تحلیل اطلاعات حاصل از پژوهش‌های زیست‌شناختی نیاز داریم؛ دستاوردها و تحولات بیست‌سالهٔ اخیر فناوری اطلاعات و ارتباطات در پیشرفت زیست‌شناسی، تأثیر بسیاری داشته است. این فناوری‌ها امکان انجام محاسبات را در کوتاه‌ترین زمان ممکن فراهم کرده‌اند (شکل ۱).

بیشتر بدانید

زیست‌شناسی مصنوعی

زیست‌شناسی مصنوعی موضوع‌های مختلفی، مانند زیست‌فناوری، زیست‌شناسی مولکولی، زیست‌شناسی سامانه‌ها، مهندسی رایانه و مهندسی ژنتیک را به هم مرتبط می‌کند. متخصصان این علم می‌کوشند سامانه‌هایی طراحی و اجرا کنند که به‌طور طبیعی یافت نمی‌شوند. طراحی و تولید آنزیم‌هایی با کارایی بهینه و کاربرد آنها مثلاً برای تولید مواد پاک‌کننده، یک نمونه از کاربردهای این رشته است. رعایت اخلاق زیستی در زیست‌شناسی مصنوعی، اهمیت فراوان دارد.



شکل ۱- راست: انتقال حافظه ۵ مگابایتی شرکت آی بی ام، پیشرفته‌ترین سخت‌افزار روز جهان در سال ۱۹۵۶؛ این حافظه را از نظر اندازه، ظرفیت و قیمت با حافظه‌های امروزی مقایسه کنید. چپ: یک حافظه ۲ ترابایتی امروزی

مهندسی ژنتیک: مدت‌هاست که زیست‌شناسان می‌توانند ژن‌های یک جاندار را به بدن جانداران دیگر وارد کنند، به گونه‌ای که ژن‌های منتقل شده بتوانند اثرهای خود را ظاهر کنند. این روش که باعث انتقال صفت یا صفاتی از یک جاندار به جانداران دیگر می‌شود، **مهندسی ژنتیک** نام دارد.

اخلاق زیستی: پیشرفت‌های سریع علم زیست‌شناسی، به‌ویژه در مهندسی ژنتیک، زمینه سوء استفاده‌هایی را در جامعه فراهم کرده است. محرمانه بودن اطلاعات ژنی و نیز اطلاعات پزشکی افراد و حقوق جانوران از موضوع‌های اخلاق زیستی هستند.

یکی از سوء استفاده‌ها از علم زیست‌شناسی، تولید سلاح‌های زیستی است. چنین سلاحی مثلاً می‌تواند عامل بیماری‌زایی باشد که نسبت به داروهای رایج مقاوم است یا فراورده‌های غذایی و دارویی با عواقب زیانبار برای افراد باشند. بنابراین وضع قوانین جهانی برای جلوگیری از چنین سوء استفاده‌هایی از علم زیست‌شناسی ضروری است.

زیست‌شناسی در خدمت انسان

امروزه با مسائل فراوانی در زمینه‌های متفاوت مواجه هستیم. زیست‌شناسی به حل این مسائل چه کمکی می‌تواند بکند؟ در ادامه مروری بر نقش زیست‌شناسی در حل این مسائل داریم.

تأمین غذای سالم و کافی: گفته می‌شود که هم‌اکنون حدود یک میلیارد نفر در جهان از گرسنگی و سوء تغذیه رنج می‌برند؛ چگونه غذای سالم و کافی برای جمعیت‌های رو به افزایش انسانی فراهم کنیم؟

می‌دانیم غذای انسان به‌طور مستقیم یا غیرمستقیم از گیاهان به دست می‌آید؛ پس شناخت بیشتر گیاهان یکی از راه‌های تأمین غذای بیشتر و با مواد مغذی بیشتر است.

از راه‌های افزایش کمیت و کیفیت غذای انسان، شناخت روابط گیاهان و محیط زیست است. گیاهان مانند همه جانداران دیگر در محیطی پیچیده، شامل عوامل غیرزنده مانند دما، رطوبت، نور و عوامل زنده شامل باکتری‌ها، قارچ‌ها، حشرات و مانند آنها رشد می‌کنند و محصول می‌دهند.

بنابراین، شناخت بیشتر تعامل‌های سودمند یا زیانمند بین این عوامل و گیاهان، به افزایش محصول کمک می‌کند.

حفاظت از بوم‌سازگان‌ها، ترمیم و بازسازی آنها: انسان، جزئی از دنیای زنده است و لذا نمی‌تواند بی‌نیاز و جدا از موجودات زنده دیگر و در تنهایی به زندگی ادامه دهد. به‌طورکلی منابع و سودهایی را که هر بوم‌سازگان دربردارد، خدمات بوم‌سازگان می‌نامند. میزان خدمات هر بوم‌سازگان به میزان تولیدکنندگان آن بستگی دارد. پایدار کردن بوم‌سازگان‌ها به‌طوری که حتی در صورت تغییر اقلیم، تغییر چندانی در مقدار تولیدکنندگی آنها روی ندهد، موجب ارتقای کیفیت زندگی انسان می‌شود.

شکل ۲- یکی از بوم‌سازگان‌های آسیب‌دیده ایران، دریاچه ارومیه است.



بیشتر بدانید

دریاچه ارومیه

دریاچه ارومیه بزرگ‌ترین دریاچه داخلی ایران است و در سال ۱۳۵۲ در فهرست پارک‌های ملی ایران به ثبت رسیده است. پارک ملی دریاچه ارومیه از زیستگاه‌های طبیعی ایران است. بررسی تصاویر ماهواره‌ای نشان می‌دهد که این دریاچه تا سال ۱۳۹۴ مقدار زیادی از مساحت خود را از دست داده است. خشکسالی، حفر بی‌حساب‌چاه‌های کشاورزی در اطراف آن، بی‌توجهی به قوانین طبیعت، احداث بزرگراه روی دریاچه، استفاده غیرعلمی از آب‌های رودخانه‌هایی که به این دریاچه می‌ریزند و سدسازی در مسیر این رودها، از عوامل این خشکی هستند.

دریاچه ارومیه چندین سال است که در خطر خشک شدن قرار گرفته است. زیست‌شناسان کشورمان با استفاده از اصول علمی بازسازی بوم‌سازگان‌ها، راهکارهای لازم را برای احیای آن ارائه کرده‌اند و امید دارند که در آینده از نابودی این میراث طبیعی جلوگیری کنند (شکل ۲).

قطع درختان جنگل‌ها برای استفاده از چوب یا زمین جنگل، مسئله محیط‌زیستی امروز جهان است. پژوهش‌ها نشان داده‌اند که در سال‌های اخیر، مساحت بسیار گسترده‌ای از جنگل‌های ایران و جهان تخریب و بی‌درخت شده‌اند. از بین رفتن جنگل‌ها پیامدهای بسیار بدی برای سیاره زمین دارد. تغییر آب‌وهوا، سیل، کاهش تنوع زیستی و فرسایش خاک از آن جمله‌اند.

تأمین انرژی‌های تجدیدپذیر: نیاز مردم جهان به انرژی در حال افزایش است. بیشترین نیاز کنونی جهان به انرژی از منابع فسیلی، مانند نفت، گاز و بنزین تأمین می‌شود؛ اما می‌دانیم که سوخت‌های فسیلی موجب افزایش کربن دی‌اکسید جو، آلودگی هوا و درنهایت باعث گرمایش زمین

بیشتر بدانید

نانوفناوری در خدمت بینایی انسان

بیماری تحلیل شبکیه چشم، یکی از علت‌های نابینایی کهن سالان است. در این بیماری که ممکن است از ۶۵ سالگی به بعد در افراد ظاهر شود، یاخته‌های حساس به نور در شبکیه به تدریج از بین می‌روند، یا نمی‌توانند به درستی کار کنند.

برای کمک به این بیماران، شبکیه مصنوعی ساخته شده است. می‌توان عصب‌هایی را که از یاخته‌های عصبی مسئول بینایی در شبکیه خارج می‌شوند و به مغز می‌روند به ریزتراشه‌هایی شامل مجموعه‌ای از چشم‌های الکترونیکی میکروسکوپی متصل کرد که می‌توانند اثر نور را به پیام عصبی تبدیل کنند، در نتیجه، بیمارانی که نابینا هستند، می‌توانند اشیا را ببینند و خطوط درشت روزنامه‌ها را بخوانند.

می‌شوند. بدین لحاظ، انسان باید در پی منابع پایدار، مؤثرتر و پاک‌تر انرژی برای کاهش وابستگی به سوخت‌های فسیلی باشد. زیست‌شناسان می‌توانند به بهبود و افزایش تولید سوخت‌های زیستی مانند گازوئیل زیستی که از دانه‌های روغنی به دست می‌آید، کمک کنند.

فعالیت

اگرچه سوخت‌های فسیلی نیز منشأ زیستی دارند و از تجزیه پیکر جانداران به وجود آمده‌اند؛ اما امروزه سوخت زیستی به سوخت‌هایی می‌گویند که از جانداران امروزی به دست می‌آیند. مزایا و زیان‌های سوخت‌های فسیلی و زیستی را از دید محیط زیستی با هم مقایسه کنید.

سلامت و درمان بیماری‌ها: به تازگی، روشی برای تشخیص و درمان بیماری‌ها در حال گسترش است که پزشکی شخصی نام دارد. پزشکان در پزشکی شخصی برای تشخیص و درمان بیماری‌ها علاوه بر بررسی وضعیت بیمار، با بررسی اطلاعاتی که در دنا (DNA) هر فرد وجود دارد، روش‌های درمانی و دارویی خاص هر فرد را طراحی می‌کنند.

فعالیت

با مراجعه به منابع معتبر درباره زمینه‌های فعالیت زیست‌شناسان در ایران و جهان اطلاعاتی جمع‌آوری و در کلاس ارائه دهید.

واژه‌شناسی

دنا (DNA / دی.ان.ای)

دی اکسی‌ریبونوکلیئیک اسید با نام اختصاری DNA و تلفظ دی.ان.ای شناخته می‌شود. فرهنگستان زبان و ادب فارسی به جای حروف تک‌تک (د) و (ن) و (آ) کلمه «دنا» را معرفی می‌کند که در تلفظ و ترکیب سهل‌تر و خوش‌آوا تر است.

زیست‌شناسی، علم بررسی حیات است؛ اما حیات چیست؟ تعریف حیات بسیار دشوار است و شاید حتی غیرممکن باشد. بنابراین، معمولاً به جای تعریف حیات، ویژگی‌های آن و یا ویژگی‌های جانداران را بررسی می‌کنیم. گسترهٔ حیات، از یاخته شروع می‌شود و باز یست کره پایان می‌یابد. جانداران همهٔ این هفت ویژگی زیر را باهم دارند:

نظم و ترتیب: یکی از ویژگی‌های جالب حیات، سطوح سازمان‌یابی آن است (شکل ۳). همهٔ جانداران، سطحی از سازمان‌یابی دارند و منظم‌اند.

هم‌ایستایی (هومئوستازی): محیط جانداران همواره در تغییر است؛ اما جاندار می‌تواند وضع درونی پیکر خود را در محدودهٔ ثابتی نگه دارد؛ مثلاً وقتی سدیم خون افزایش می‌یابد، دفع آن از طریق ادرار زیاد می‌شود. مجموعه اعمالی را که برای پایدار نگه داشتن وضعیت درونی جاندار انجام می‌شود **هم‌ایستایی (هومئوستازی)** می‌نامند. هم‌ایستایی از ویژگی‌های اساسی همهٔ جانداران است.

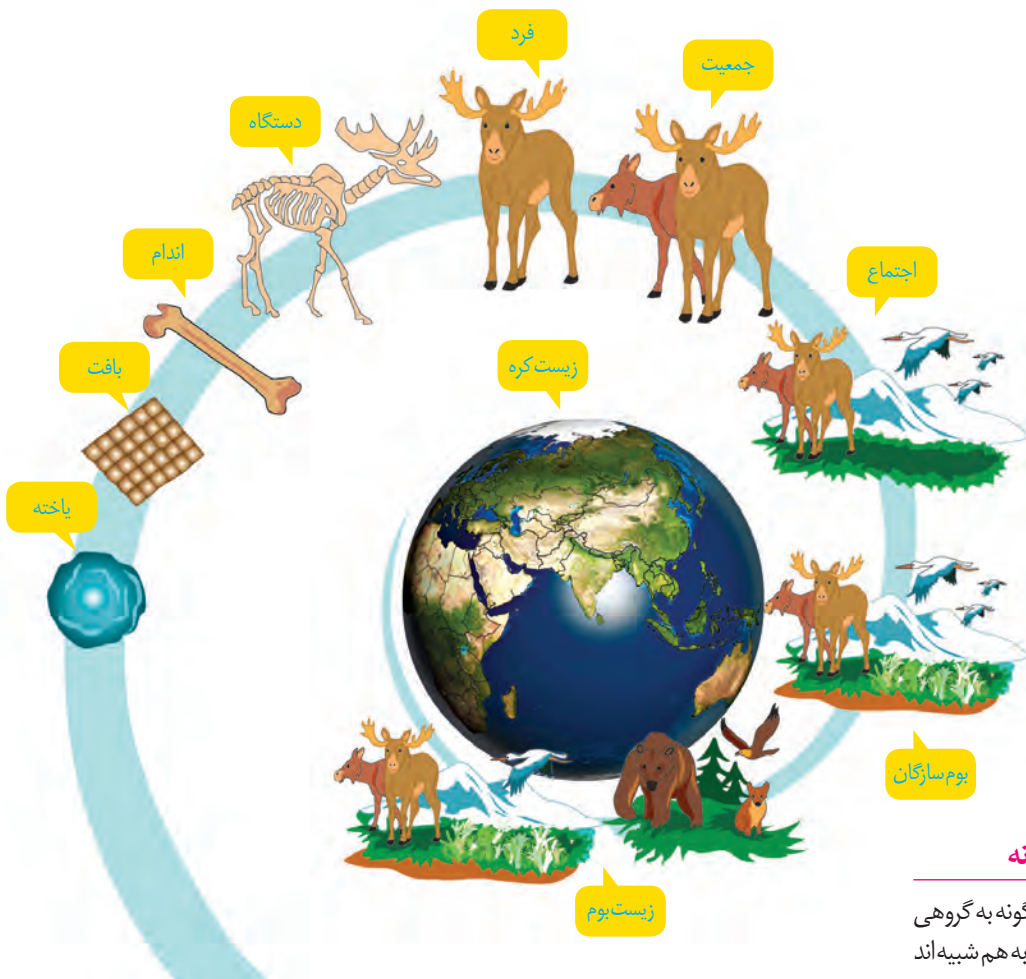
رشد و نمو: جانداران رشد و نمو می‌کنند. رشد به معنی بزرگ شدن و شامل افزایش برگشت‌ناپذیر ابعاد یا تعداد یاخته‌هاست. نمو به معنی عبور از مرحله‌ای به مرحلهٔ دیگری از زندگی است؛ مثلاً تشکیل گل در گیاه، نمونه‌ای از نمو است.

فرایند جذب و استفاده از انرژی: جانداران انرژی می‌گیرند؛ از آن برای انجام فعالیت‌های زیستی خود استفاده می‌کنند و بخشی از آن را به صورت گرما از دست می‌دهند؛ مثلاً گنجشک غذا می‌خورد و از انرژی آن برای گرم کردن بدن و نیز برای پرواز و جست‌وجوی غذا استفاده می‌کند.

پاسخ به محیط: همهٔ جانداران به محرک‌های محیطی پاسخ می‌دهند؛ مثلاً ساقهٔ گیاهان به سمت نور خم می‌شود.

تولیدمثل: جانداران موجوداتی کم و بیش شبیه خود را به وجود می‌آورند. یوزپلنگ همیشه از یوزپلنگ زاده می‌شود.

سازش با محیط: جانداران ویژگی‌هایی دارند که برای سازش و ماندگاری در محیط، به آنها کمک می‌کنند؛ مانند موهای سفید خرس قطبی.



یادآوری تعریف گونه

همان طور که می‌دانید گونه به گروهی از جانداران می‌گویند که به هم شبیه‌اند و می‌توانند از طریق تولیدمثل زاده‌هایی شبیه خود با قابلیت زنده ماندن و تولید مثل به وجود آورند.

شکل ۳- سطوح سازمان‌یابی حیات

- ۱- یاخته پایین‌ترین سطح سازمان‌یابی حیات است. همه جانداران از یاخته تشکیل شده‌اند.
- ۲- تعدادی یاخته یک بافت را به وجود می‌آورند.
- ۳- هر اندام از چند بافت مختلف تشکیل می‌شود؛ مانند استخوانی که در اینجا نشان داده شده است.
- ۴- هر دستگاه از چند اندام تشکیل شده است؛ مثلاً دستگاه حرکتی از ماهیچه‌ها و استخوان‌ها تشکیل شده است.
- ۵- جاندارانی مانند این گوزن، فردی از جمعیت گوزن‌هاست.
- ۶- افراد یک گونه که در زمان و مکانی خاص زندگی می‌کنند، یک جمعیت را به وجود می‌آورند.
- ۷- جمعیت‌های گوناگونی که با هم تعامل دارند، یک اجتماع را به وجود می‌آورند.
- ۸- عوامل زنده (اجتماع) و غیرزنده محیط و تأثیرهایی که بر هم می‌گذارند، بوم‌سازگان را می‌سازند.
- ۹- زیست‌بوم از چند بوم‌سازگان تشکیل می‌شود که از نظر اقلیم (آب و هوا) و پراکندگی جانداران مشابه‌اند.
- ۱۰- زیست‌کره شامل همه زیست‌بوم‌های زمین است.

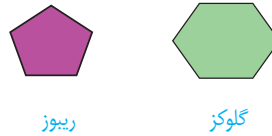
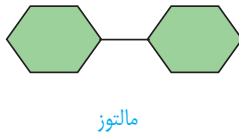
مولکول‌های زیستی

در جانداران مولکول‌هایی وجود دارند که در دنیای غیر زنده دیده نمی‌شوند. کربوهیدرات‌ها، لیپیدها، پروتئین‌ها و نوکلئیک‌اسیدها چهار گروه اصلی مولکول‌های تشکیل‌دهنده

یاخته‌اند و در جانداران ساخته می‌شوند. این مولکول‌ها، مولکول‌های زیستی نیز نامیده می‌شوند. در ادامه به بررسی آنها می‌پردازیم.

کربوهیدرات‌ها

این مولکول‌ها از سه عنصر کربن (C)، هیدروژن (H) و اکسیژن (O) ساخته شده‌اند. **مونوساکاریدها** ساده‌ترین کربوهیدرات‌ها هستند. گلوکز و فروکتوز مونوساکاریدهایی با شش کربن‌اند. ریبوز مونوساکاریدی با پنج کربن است (شکل ۴).



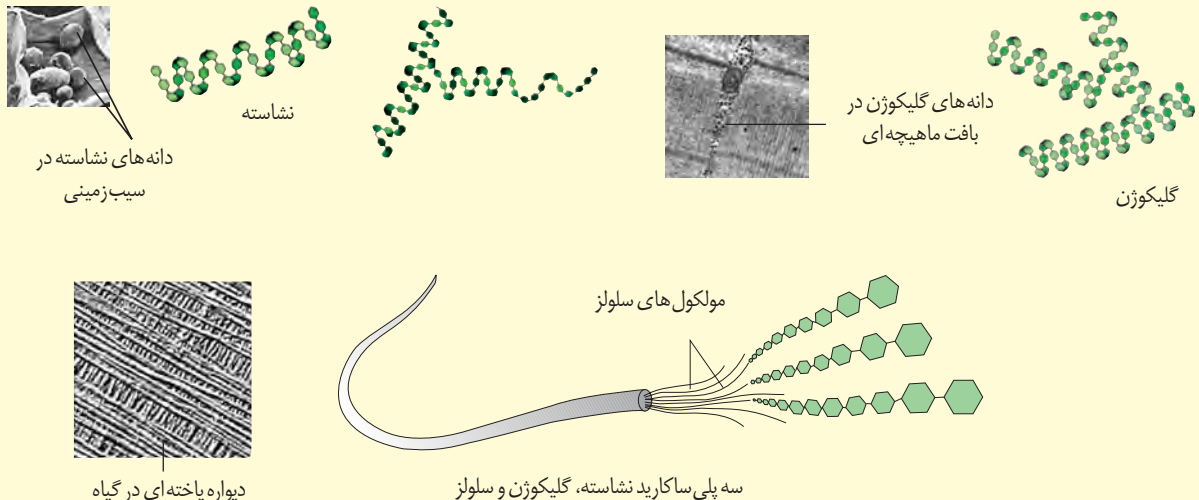
شکل ۴- مونوساکارید واحد ساختاری قندهاست.

شکل ۵- مالتوز نوعی دی‌ساکارید است.

دی‌ساکاریدها از ترکیب دو مونوساکارید تشکیل می‌شوند. شکر و قندی که می‌خوریم، دی‌ساکاریدی به نام ساکارز هستند. ساکارز از پیوند بین گلوکز و فروکتوز تشکیل می‌شود. مالتوز دی‌ساکارید دیگری است که از دو گلوکز تشکیل می‌شود. این قند در جوانه گندم و جو وجود دارد (شکل ۵). لاکتوز دی‌ساکارید دیگری است که به قند شیر نیز معروف است.

پلی‌ساکاریدها از ترکیب چندین مونوساکارید ساخته می‌شوند. نشاسته، سلولز و گلیکوژن پلی‌ساکاریدند. این پلی‌ساکاریدها از تعداد فراوانی مونوساکارید گلوکز تشکیل شده‌اند. نشاسته مثلاً در سیب‌زمینی و غلات وجود دارد. آیا روش تشخیص نشاسته را به یاد می‌آورید؟ سلولز از پلی‌ساکاریدهای مهم در طبیعت است. سلولز ساخته شده در گیاهان در کاغذسازی و تولید انواعی از پارچه‌ها به کار می‌رود.

بیشتر بدانید



گلیکوژن در جانوران و قارچ‌ها ساخته می‌شود. این پلی ساکارید در کبد و ماهیچه وجود دارد و منبع ذخیره گلوکز در جانوران است.

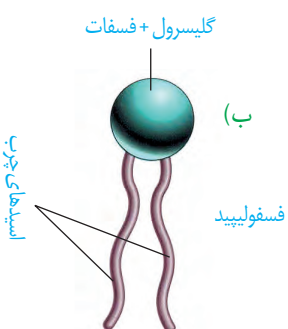
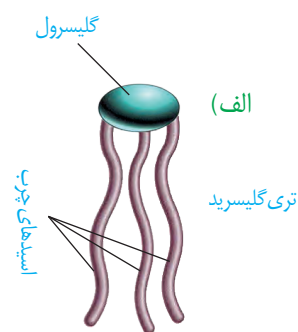
لیپیدها

این ترکیبات نیز از سه عنصر کربن، هیدروژن و اکسیژن ساخته شده‌اند؛ گرچه نسبت این عناصر در لیپیدها با نسبت آنها در کربوهیدرات‌ها فرق می‌کند.

تری گلیسریدها از انواع لیپیدها هستند. هر تری گلیسرید از یک مولکول **گلیسرول** و سه **اسید چرب** تشکیل شده است (شکل ۶-الف). روغن‌ها و چربی‌ها انواعی از تری گلیسریدها هستند. تری گلیسریدها در ذخیره انرژی نقش مهمی دارند. انرژی تولید شده از یک گرم تری گلیسرید حدود دو برابر انرژی تولید شده از یک گرم کربوهیدرات است.

فسفولیپیدها گروه دیگری از لیپیدها و بخش اصلی تشکیل دهنده غشای یاخته‌ای هستند. ساختار فسفولیپیدها شبیه تری گلیسریدها است، با این تفاوت که مولکول گلیسرول در فسفولیپیدها به دو اسید چرب و یک گروه فسفات متصل می‌شود (شکل ۶-ب).

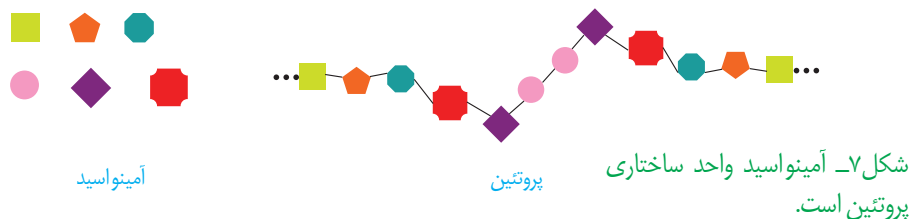
کلسترول لیپید دیگری است که در ساخت غشای یاخته‌های جانوری و نیز انواعی از هورمون‌ها شرکت می‌کند.



شکل ۶-الف) تری گلیسرید
ب) فسفولیپید

پروتئین‌ها

این مولکول‌ها علاوه بر کربن، هیدروژن و اکسیژن، نیتروژن (N) نیز دارند. پروتئین‌ها از به هم پیوستن واحدهایی به نام آمینواسید، تشکیل می‌شوند (شکل ۷).



پروتئین‌ها کارهای متفاوتی انجام می‌دهند. انقباض ماهیچه، انتقال مواد در خون و کمک به عبور مواد از غشای یاخته و عملکرد آنزیمی از کارهای پروتئین‌هاست. آنزیم‌ها مولکول‌های پروتئینی‌اند که سرعت واکنش‌های شیمیایی را افزایش می‌دهند.

نوکلئیک اسیدها

مولکول دنا (DNA) که در سال‌های قبل با آن آشنا شده‌اید، یک نوع نوکلئیک اسید است. اطلاعات وراثتی در دنا ذخیره می‌شود (شکل ۸). این مولکول‌ها علاوه بر کربن، هیدروژن و اکسیژن، نیتروژن و فسفر نیز دارند.



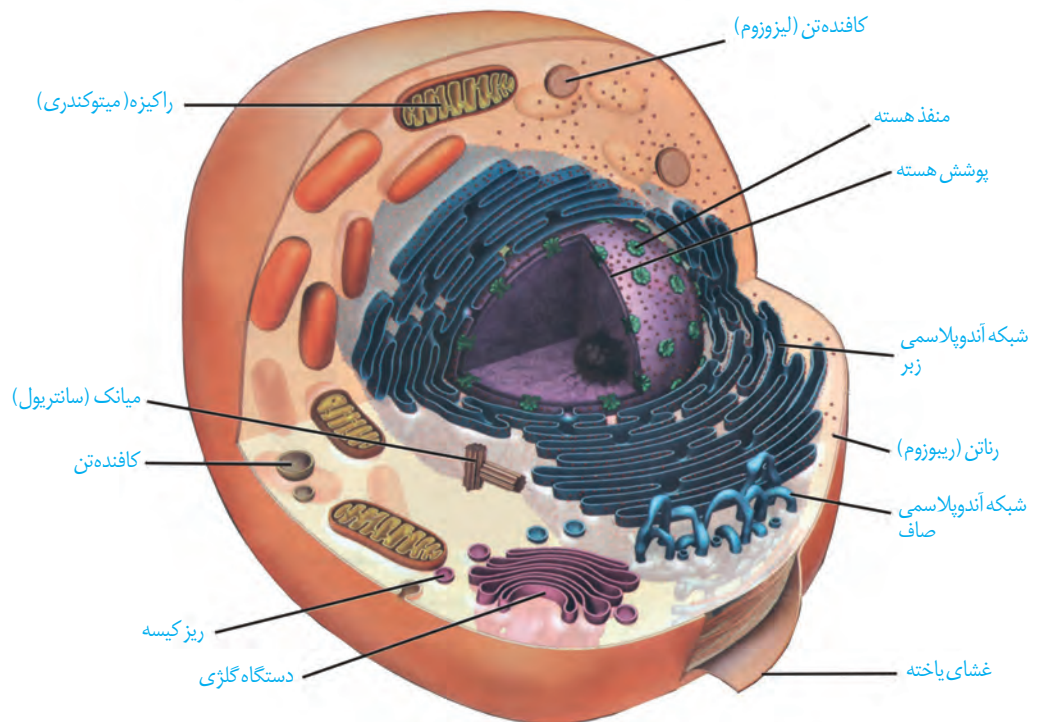
شکل ۸-دنا

واژه‌شناسی

یاخته (Cell / سلول)

به واحد ساختاری و کارکردی جانداران سلول گفته می‌شود. کلمه سلول به معنای خانه است. برای این کلمه، یاخته انتخاب شده که یکی از معانی آن در لغت‌نامه دهخدا همان خانه است.

یاخته، واحد ساختار و عملکرد در جانداران است. در شکل ۹ بخش‌های تشکیل دهنده یک یاخته جانوری را می‌بینید. هر یک از بخش‌های یاخته چه کاری انجام می‌دهند؟ می‌توان به سادگی گفت که این یاخته از سه بخش هسته، سیتوپلاسم و غشا تشکیل شده است.



شکل ۹- یاخته جانوری و اندامک‌های آن:

رتانتن (ریبوزوم): کار آن ساختن پروتئین است.

شبکه آندوپلاسمی: شبکه‌ای از لوله‌ها و کیسه‌ها که در سراسر سیتوپلاسم گسترش دارند و بر دو نوع زبر (دارای رتانتن) و صاف (بدون رتانتن) است. شبکه آندوپلاسمی زبر در ساختن پروتئین‌ها و شبکه آندوپلاسمی صاف در ساختن لیپیدها نقش دارد.

دستگاه گلژی: از کیسه‌هایی تشکیل شده است که روی هم قرار می‌گیرند. در بسته‌بندی مواد و ترشح آنها به خارج از یاخته نقش دارد.

راکیزه (میتوکندری): دو غشادارد و کار آن تأمین انرژی برای یاخته است.

کافنده تن (لیوزوم): کیسه‌ای است که انواعی از آنزیم‌ها برای تجزیه مواد دارد.

میانک (سانتریول): ساختار استوانه‌ای شکلی است که در سلول به تعداد دو عدد عمود برهم دیده می‌شود و نقش آنها در تقسیم سلولی است.

ریزکیسه (وزیکول): کیسه‌ای است که در جابه‌جایی مواد در یاخته نقش دارد.

هسته

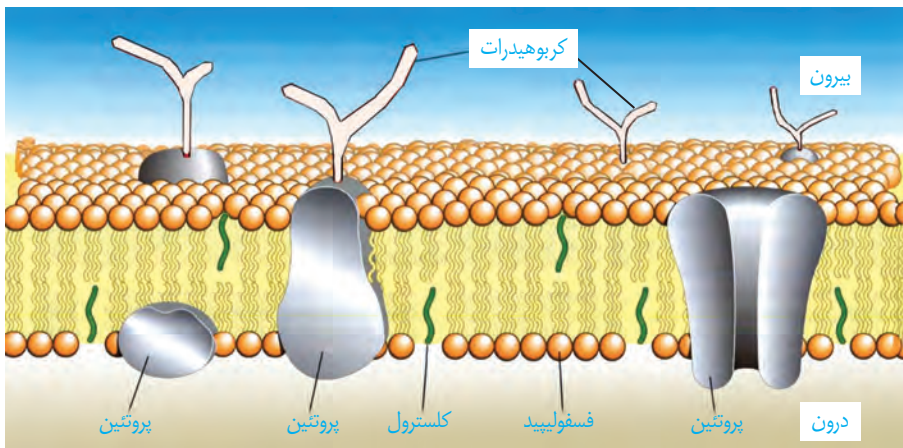
هسته شکل، اندازه و کار یاخته را مشخص و فعالیت های آن را کنترل می کند. در هسته، دنا قرار دارد. دنا دارای اطلاعات لازم برای تعیین صفات است. هسته پوششی دو لایه (غشای داخلی، غشای بیرونی) دارد. در این پوشش منافذی وجود دارند که از طریق آنها ارتباط بین هسته و سیتوپلاسم برقرار می شود.

سیتوپلاسم

سیتوپلاسم فاصله بین غشای یاخته و هسته را پر می کند. سیتوپلاسم از اندامک ها و ماده زمینه تشکیل شده است. ماده زمینه شامل آب و مواد دیگر است. هر یک از اندامک ها در سیتوپلاسم کار ویژه ای دارند (شکل ۹). در سال های بعد با بعضی از این اندامک ها بیشتر آشنا می شوید.

غشای یاخته ای

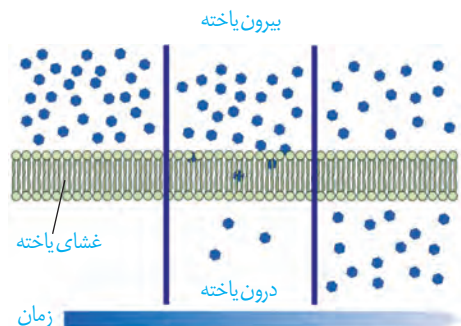
اطراف یاخته را غشای یاخته ای احاطه کرده است. این غشا مرز بین درون یاخته و بیرون آن است. مواد گوناگون برای ورود به یاخته یا خروج از آن باید از این غشا عبور کنند. غشای یاخته، نفوذپذیری انتخابی یا تراوایی نسبی دارد؛ یعنی فقط برخی از مواد می توانند از آن عبور کنند. غشای یاخته از دو لایه مولکول های فسفولیپید تشکیل شده است که در آن مولکول های پروتئین و کلسترول قرار دارند. همچنین انواعی از کربوهیدرات ها به مولکول های فسفولیپیدی و پروتئینی متصل اند (شکل ۱۰).



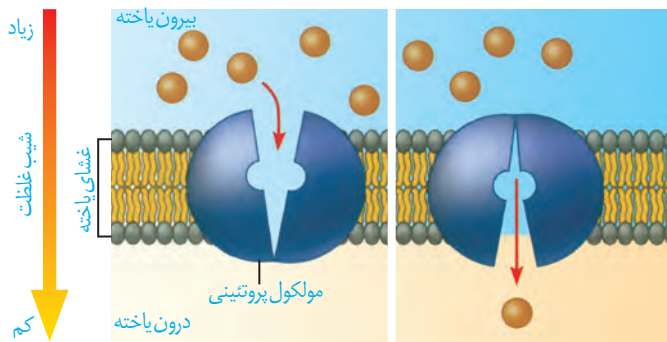
شکل ۱۰- غشای یاخته

ورود مواد به یاخته و خروج از آن

انتشار ساده: جریان مولکول ها از جای پر غلظت به جای کم غلظت (در جهت شیب غلظت) انتشار نام دارد. نتیجه نهایی انتشار هر ماده، یکسان شدن غلظت آن در محیط است. مولکول ها به دلیل داشتن انرژی جنبشی می توانند منتشر شوند. بنابراین در صورتی که مواد به روش انتشار از غشا عبور کنند، یاخته انرژی مصرف نمی کند. مولکول هایی مانند اکسیژن و کربن دی اکسید با این روش از غشا عبور می کنند (شکل ۱۱).

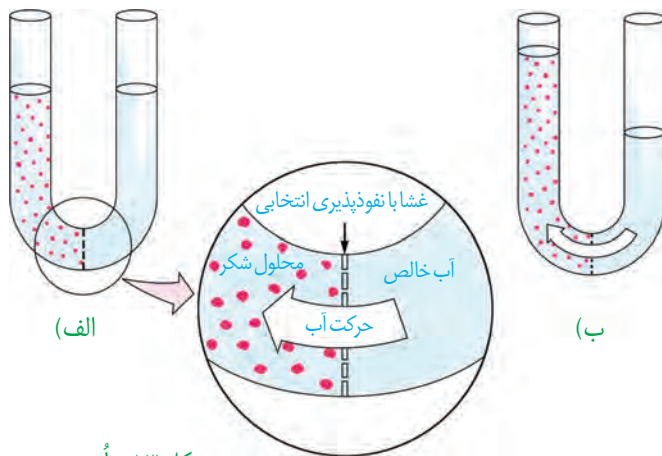


شکل ۱۱- انتشار ساده



شکل ۱۲- انتشار تسهیل شده

انتشار تسهیل شده: در این روش پروتئین های غشا، انتشار مواد را تسهیل می کنند و مواد را در جهت شیب غلظت آنها، از غشا عبور می دهند (شکل ۱۲).



شکل ۱۳- اُسمز

گذردگی (اُسمز): شکل ۱۳ را ببینید. در یک طرف غشای نازکی که نفوذ پذیری انتخابی یا تراوایی نسبی دارد، آب خالص و در طرف دیگر آن، محلول شکر وجود دارد. حجم مواد در دو طرف غشا یکسان است. فقط مولکول های آب می توانند از غشا عبور کنند؛ در این حالت، تعداد مولکول های آب در واحد حجم، در سمت راست بیشتر است و این مولکول ها بیشتر به سمت چپ منتشر می شوند. به انتشار آب از غشایی با تراوایی نسبی، اُسمز می گویند. فشار لازم برای توقف کامل اُسمز، فشار اُسمزی محلول نام دارد. هرچه تفاوت تعداد مولکول های آب در واحد حجم،

در دو سوی غشا بیشتر باشد، فشار اُسمزی بیشتر است و آب سریع تر جابه جایی شود. جابه جایی خالص آب از محیطی با فشار اُسمزی کمتر به محیطی با فشار اُسمزی بیشتر است.

همان طور که در شکل می بینید در اثر اُسمز، حجم محلول سمت چپ افزایش می یابد. آیا این پدیده برای یاخته ها در بدن ما هم رخ می دهد؟ آیا ممکن است ورود آب به درون یاخته در اثر اُسمز موجب ترکیدن یاخته های بدن ما شود؟ خیر. فشار اُسمزی مایع اطراف یاخته ها تقریباً مشابه درون آنهاست، در نتیجه آب بیش از حد وارد نمی شود و یاخته ها از خطر تورم و ترکیدن حفظ می شوند.

فعالیت

الف) در این فعالیت با چگونگی اُسمز از پرده ای با تراوایی نسبی آشنا می شوید.

وسایل و مواد لازم: ظرف شیشه ای (یا بشر) با دهانه کوچک، مقداری آب مقطر (یا آب جوشیده سرد شده)، نی نوشابه خوری شفاف، تخم مرغ خام، مقداری خمیر بازی، قاشق فلزی

روش کار:

۱- $\frac{3}{4}$ ظرف شیشه ای را آب بریزید.

۲- با لبه قاشق، به انتهای مدور تخم مرغ آهسته ضربه بزنید و با ناخن تکه کوچکی به اندازه نوک انگشت از پوسته آهکی را

جدا کنید. مراقب باشید که پرده نازک زیر پوسته آسیب نبیند.

۳- تخم مرغ را روی ظرف شیشه‌ای طوری قرار دهید که پوسته نازک آن با آب در تماس باشد.
 ۴- در طرف مقابل تخم مرغ، سوراخی به اندازه قطر نی ایجاد کنید و نی را تا ۲/۵ سانتیمتر درون سوراخ و غشای نازک زیر آن فرو ببرید.

۵- فضای بین نی و پوسته تخم مرغ را با خمیر بازی پر کنید.

۶- ظرف را یک شب در جای مناسبی قرار دهید و پس از آن، تغییرات درون نی را مشاهده کنید.

۷- مشاهده‌های خود را یادداشت کنید، و در صورت امکان از آنها عکس تهیه کنید.

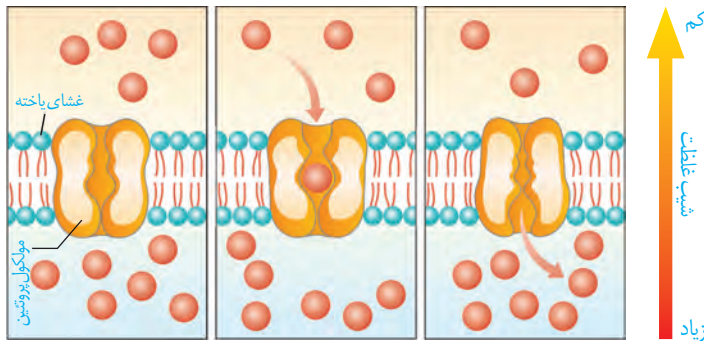
توضیح دهید چرا مایع درون نی حرکت می‌کند؟

ب) اگر پوسته آهکی یک تخم مرغ را با قرار دادن آن در سرکه از بین ببریم و تخم مرغ بدون پوسته را یک بار در آب مقطر و

بار دیگر در محلول نمک غلیظ قرار دهیم، پیش بینی کنید چه تغییری در تخم مرغ ایجاد می‌شود؟ با توجه به آنچه آموختید برای پیش بینی خود دلیل بیاورید.

انتقال فعال: فرایندی که در آن، یاخته، مواد را برخلاف شیب غلظت منتقل

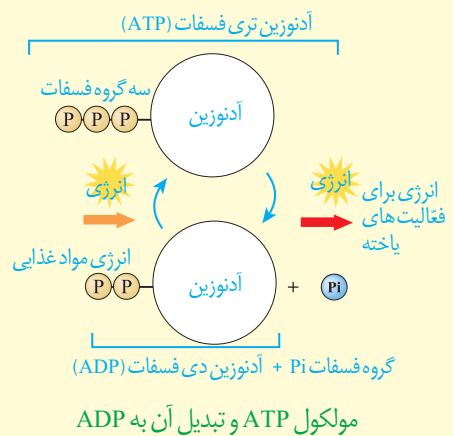
می‌کند، انتقال فعال نام دارد. در این فرایند، مولکول‌های پروتئین با صرف انرژی، ماده‌ای را برخلاف شیب غلظت منتقل می‌کنند. این انرژی می‌تواند از مولکول «ATP» به دست آید. مولکول ATP شکل رایج انرژی در یاخته است (شکل ۱۴).



شکل ۱۴- انتقال فعال

بیشتر بدانید

در پیوندهای شیمیایی مولکول‌هایی مانند نشاسته، گلیکوژن و لیپید، انرژی وجود دارد. یاخته از این انرژی برای ساخت مولکول ATP (آدنوزین تری فسفات) استفاده می‌کند. همان‌طور که در شکل می‌بینید، مولکول ATP از سه بخش تشکیل شده است. یاخته ATP را به ADP (آدنوزین دی فسفات) تبدیل می‌کند و انرژی ذخیره شده در این مولکول آزاد می‌شود تا یاخته از آن استفاده کند.



واژه‌شناسی

واژه درون‌بری برای آندوسیتوز (endocytosis) و واژه برون‌رانی برای اگزوسیتوز (exocytosis) انتخاب شده‌اند. در آندوسیتوز، آندو به معنای درون و سیتوز به معنای یاخته اشاره می‌کند. اگزو نیز در اگزوسیتوز به معنای بیرون است.

درون‌بری (آندوسیتوز) و برون‌رانی (اگزوسیتوز): بعضی یاخته‌ها می‌توانند ذره‌های بزرگ را با فرایندی به نام درون‌بری جذب کنند. برون‌رانی فرایند خروج ذره‌های بزرگ از یاخته است. این فرایندها با تشکیل ریز کیسه‌ها همراه است و به انرژی ATP نیاز دارد (شکل ۱۵).

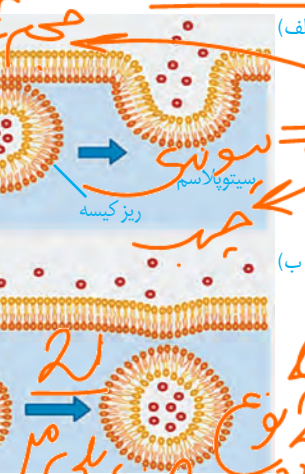
بافت‌های بدن انسان

می‌دانید بافت‌های بدن انسان را می‌توان به چهار نوع پوششی، پیوندی، ماهیچه‌ای و عصبی دسته‌بندی کرد. در اندام‌ها و دستگاه‌های بدن انواع بافت‌ها به نسبت‌های متفاوت وجود دارند.


بافت پوششی: بافت پوششی، سطح بدن و سطح حفره‌ها و مجاری درون بدن (مانند دهان، معده، روده‌ها و رگ‌ها) را می‌پوشاند. یاخته‌های این بافت، به یکدیگر بسیار نزدیک‌اند و بین آنها فضای بین یاخته‌ای اندکی وجود دارد. در زیر یاخته‌های این بافت، بخشی به نام غشای پایه وجود دارد که این یاخته‌ها را به یکدیگر و به بافت‌های زیر آن، متصل نگه می‌دارد. غشای پایه، شبکه‌ای از رشته‌های پروتئینی و گلیکوپروتئینی (ترکیب کربوهیدرات و پروتئین) است. یاخته‌های بافت پوششی به شکل‌های متفاوتی مانند سنگ فرشی، مکعبی و استوانه‌ای در یک یا چند لایه سازمان می‌یابند (شکل ۱۶).

بافت پیوندی: بافت پیوندی از انواع یاخته‌ها، رشته‌های پروتئینی، مانند رشته‌های کلاژن و رشته‌های کشسان (ارتجاعی) و ماده زمینه‌ای تشکیل شده است. ماده زمینه‌ای بافت پیوندی، ممکن است مایع جامد و یا نیمه جامد باشد. در ادامه به انواع بافت پیوندی می‌پردازیم.

در بافت پیوندی سست ماده زمینه‌ای شفاف بی‌رنگ، چسبنده و مخلوطی از انواع مولکول‌های درشت، مانند گلیکوپروتئین است. این بافت معمولاً بافت پوششی را پشتیبانی می‌کند. در بافت پیوندی متراکم میزان رشته‌های کلاژن از بافت پیوندی سست بیشتر، تعداد یاخته‌های آن کمتر و ماده زمینه‌ای آن نیز اندک است؛ بنابراین مقاومت این بافت از بافت پیوندی سست بیشتر است. در زردپی و رباط بافت پیوندی متراکم وجود دارد. بافت چربی نیز نوعی بافت پیوندی است که در آن یاخته‌های سازنده از چربی فراوان است. این بافت بزرگ‌ترین ذخیره انرژی در بدن است. بافت چربی نقش ضربه‌گیری دارد و به عنوان عایق حرارتی نیز عمل می‌کند.



شکل ۱۵- الف) برون‌رانی، ب) درون‌بری

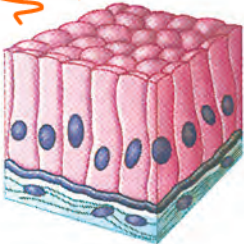


غشای پایه

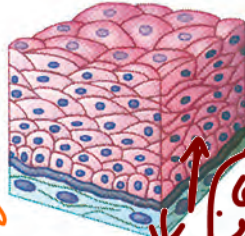
سنگ فرشی یک لایه‌ای (دیواره مویرگ)



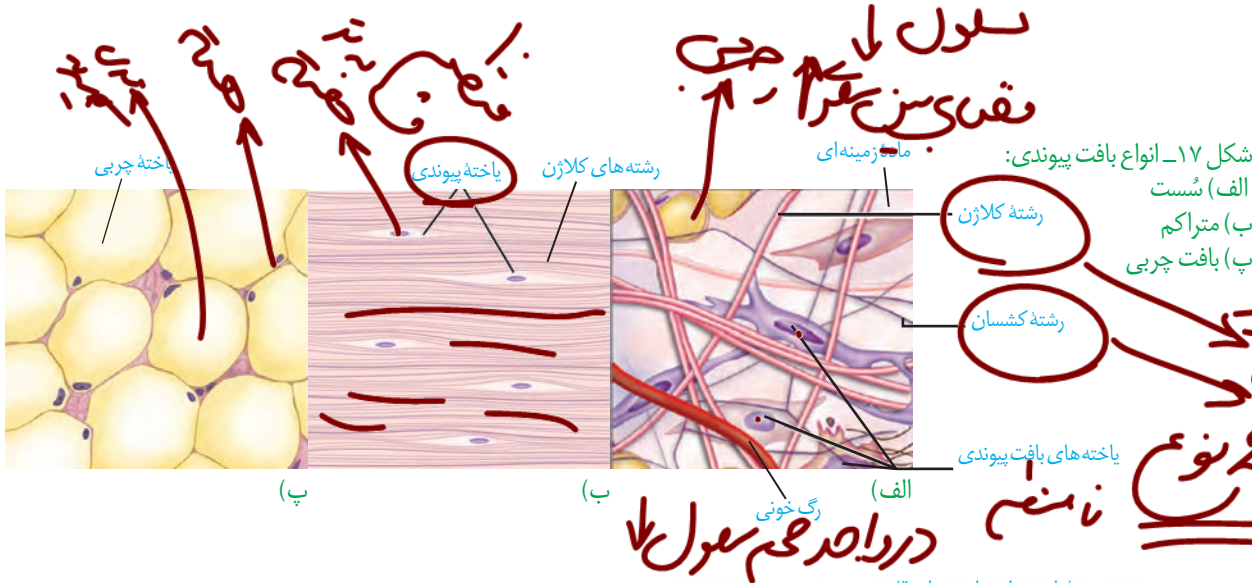
مکعبی یک لایه‌ای گردبزرگ (نفرون)



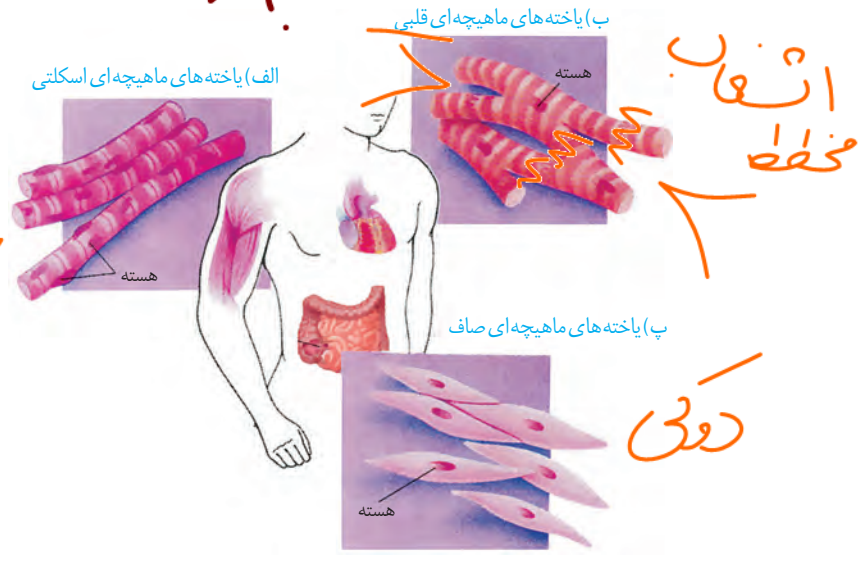
استوانه‌ای یک لایه‌ای (روده)



سنگ فرشی چند لایه‌ای (مری)



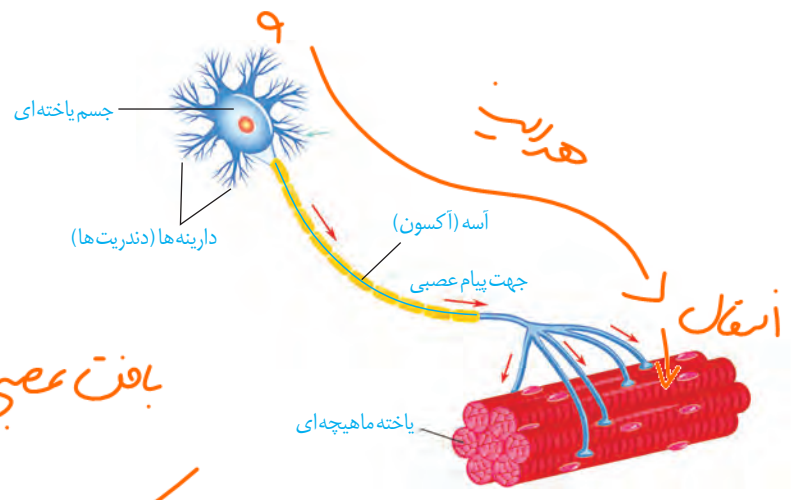
بافت ماهیچه ای: در گذشته، با انواع بافت های ماهیچه ای در بدن انسان آشنا شدید (شکل ۱۸).



شکل ۱۸- انواع بافت ماهیچه ای:
 الف) مخطط (اسکلتی)
 ب) قلبی
 پ) صاف

فعالیت ساختار و کار انواع بافت های ماهیچه ای بدن را در یک جدول فهرست کنید.

بافت عصبی: می دانید یاخته های عصبی (نورون ها)، یاخته های اصلی بافت عصبی هستند (شکل ۱۹). این یاخته ها با یاخته های بافت های دیگر مانند یاخته های ماهیچه ارتباط دارند. یاخته های عصبی یاخته های ماهیچه را تحریک می کنند تا منقبض شوند.



بافت عصبی ← نورون حجم ↑
 نورون تعداد ↑

شکل ۱۹- یاخته عصبی



تصویر ریز پرز روده باریک با میکروسکوپ الکترونی

فصل ۲

گوارش و جذب مواد

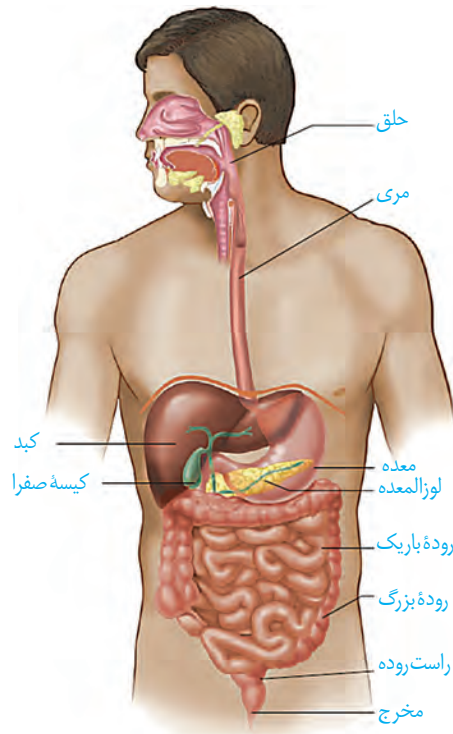
غذا خوردن یکی از لذت‌های زندگی است؛ اما فراتر از آن، غذایی که می‌خوریم، در گذر از دستگاه گوارش به شکلی در می‌آید که می‌تواند مواد و انرژی لازم برای سالم ماندن، درست عمل کردن و رشد و نمو یاخته‌های بدن را فراهم کند. البته غذای نامناسب و یا اضافه بر نیاز، مشکلاتی را برای بدن ایجاد می‌کند. اضافه وزن و چاقی، یکی از مسائلی است که سلامت جمعیت کنونی و آینده ما را به خطر می‌اندازد.

- بدن ما چگونه انواع غذاها را برای ورود به یاخته‌ها آماده می‌کند؟
 - اضافه وزن چگونه به وجود می‌آید و چه مشکلاتی را برای بدن ایجاد می‌کند؟
 - چرا برخی افراد با اینکه غذای کافی و گوناگون می‌خورند، دچار کمبود مواد مغذی هستند؟
 - گوارش در سایر جانداران چه شباهت‌ها و تفاوت‌هایی با گوارش انسان دارد؟
- برای پاسخ به این پرسش‌ها، با دستگاه گوارش آشنا می‌شویم و عملکرد آن را در انسان و برخی جانوران بررسی می‌کنیم.

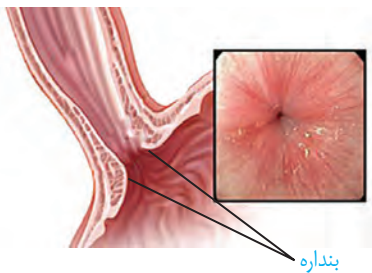


در گذشته آموختید دستگاه گوارش از لوله گوارش و اندام‌های دیگر مرتبط با آن تشکیل شده است. لوله گوارش چه قسمت‌هایی دارد (شکل ۱)؟

لوله گوارش، لوله پیوسته‌ای است که از دهان تا مخرج ادامه دارد. در قسمت‌هایی از لوله گوارش ماهیچه‌های حلقوی به نام **بنداره** (اسفنکتر) وجود دارد. بنداره‌ها در تنظیم عبور مواد نقش دارند (شکل ۲).



شکل ۱- لوله گوارش و اندام‌های مرتبط با آن

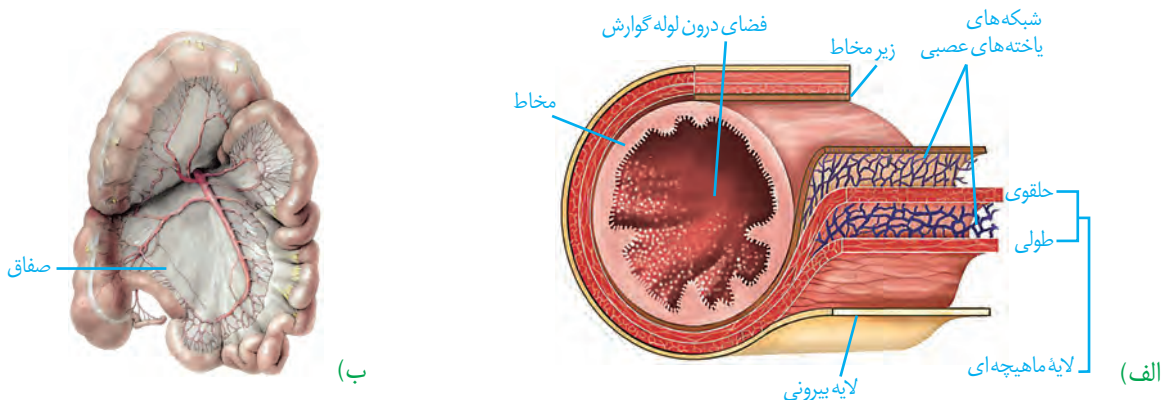


شکل ۲- بنداره انتهایی مری

غده‌های بزاقی؛ پانکراس (لوزالمعده)، کبد (جگر) و کیسه صفرا با لوله گوارش مرتبط‌اند و در گوارش غذا نقش دارند.

ساختار لوله گوارش: دیواره بخش‌های مختلف لوله گوارش، ساختار تقریباً مشابهی دارند. این لوله از خارج به داخل، چهار لایه دارد: لایه بیرونی، ماهیچه‌ای، زیر مخاطی و مخاطی. هر لایه، از انواع بافت‌ها تشکیل شده است (شکل ۳- الف). در همه این لایه‌ها بافت پیوندی سست وجود دارد. **لایه بیرونی**، بخشی از صفاق است. صفاق پرده‌ای است که اندام‌های درون شکم را به هم وصل می‌کند (شکل ۳- ب).

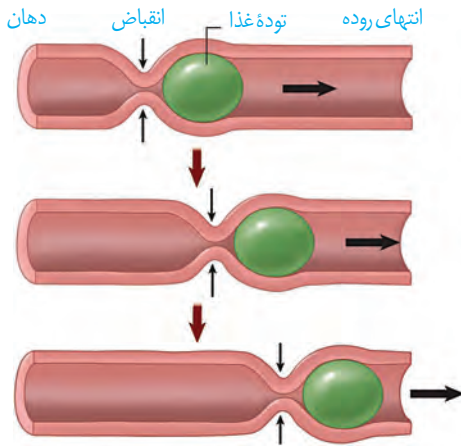
شکل ۳- الف) ساختار لایه‌های لوله گوارش (ب) بخشی از صفاق مربوط به روده‌ها



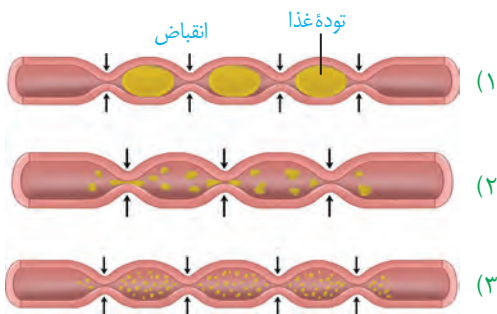
واژه‌شناسی

بنداره (Sphincter / اسفنکتر)

اسفنکتر به معنای ماهیچه حلقوی شکل گرداگرد یک دهانه است که با انقباض خود سبب بسته یا تنگ شدن آن می‌شود. برای آن در فارسی کلمه بنداره (صفت بندار + پسوند ه) انتخاب شده است. بنداره به معنای بند آورنده است.



شکل ۴- حرکات کرمی



شکل ۵- حرکت‌های قطعه‌قطعه کننده

لایه ماهیچه‌ای در دهان، حلق، ابتدای مری و بنداره خارجی مخرج از نوع مخطط است. این لایه در بخش‌های دیگر لوله گوارش شامل یاخته‌های ماهیچه‌ای صاف است که به شکل حلقوی و طولی سازمان یافته‌اند. دیواره معده یک لایه ماهیچه‌ای موّب نیز دارد.

زیر مخاط (لایه زیر مخاطی) موجب می‌شود مخاط، روی لایه ماهیچه‌ای بچسبد و به راحتی روی آن بلغزد یا چین بخورد. در لایه ماهیچه‌ای و زیر مخاط، شبکه‌ای از یاخته‌های عصبی وجود دارد.

مخاط (لایه مخاطی) یاخته‌هایی از بافت پوششی دارد که در بخش‌های مختلف لوله گوارش، کارهای متفاوتی مثل جذب و ترشح را انجام می‌دهند.

حرکات لوله گوارش: انقباض ماهیچه‌های دیواره لوله گوارش، حرکات منظمی را در آن به وجود می‌آورد. لوله گوارش، دو حرکت کرمی و قطعه‌قطعه کننده دارد.

در حرکات کرمی، ورود غذا لوله گوارش را گشاد و یاخته‌های عصبی دیواره لوله را تحریک می‌کند. یاخته‌های عصبی، ماهیچه‌های دیواره را به انقباض وادار می‌کنند. در نتیجه، یک حلقه انقباضی در لوله ظاهر می‌شود که غذا را به حرکت درمی‌آورد (شکل ۴).

حرکات کرمی نقش مخلوط‌کنندگی نیز دارند؛ به ویژه وقتی که حرکت محتویات لوله با برخورد به یک بنداره، متوقف شود؛ مثل وقتی که محتویات معده به پیلور برخورد می‌کنند. پیلور بنداره بین معده و روده باریک است. در این حالت، حرکات کرمی فقط می‌توانند محتویات لوله را مخلوط کنند.

در حرکات قطعه‌قطعه کننده بخش‌هایی از لوله به صورت یک در میان منقبض می‌شوند. سپس این بخش‌ها از حالت انقباض خارج و بخش‌های دیگر منقبض می‌شوند. تداوم این حرکات در لوله گوارش موجب می‌شود محتویات لوله، ریزتر و بیشتر با شیرهای گوارشی مخلوط شوند (شکل ۵).

فعالیت

مری یک گوسفند یا گاو را تهیه و لایه‌های آن را مشاهده کنید.

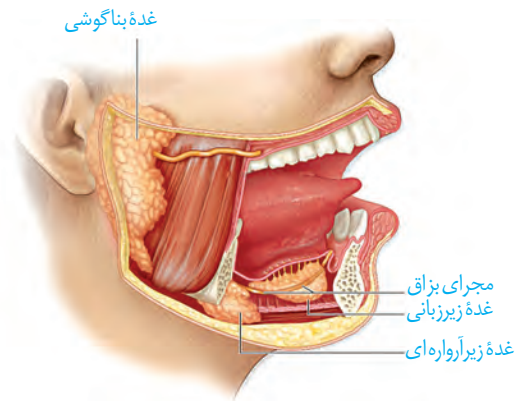
گوارش غذا

دستگاه گوارش طی فرایند گوارش مکانیکی، غذا را آسیاب می‌کند و با فرایند گوارش شیمیایی، مولکول‌های بزرگ را به مولکول‌های کوچک تبدیل می‌کند. این فرایندها چگونه انجام می‌شوند؟ چه عواملی در آنها نقش دارند؟

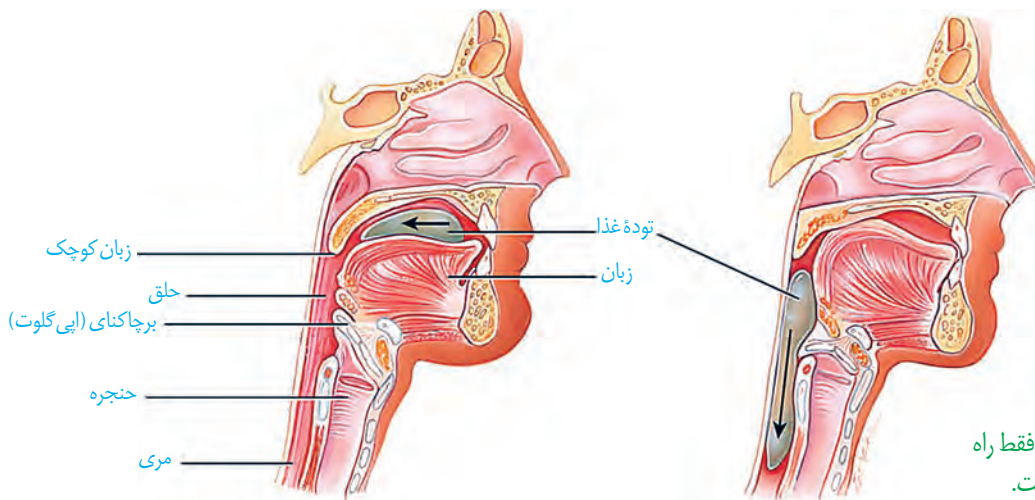
واژه‌شناسی

آمیلاز از ترکیب واژه آمیلوم (به معنای نشاسته) و آز (پسوند نشان دهنده آنزیم) تشکیل شده است. لیپاز و پروتئاز هم به ترتیب آنزیم‌های تجزیه کننده لیپید و پروتئین هستند.

گوارش در دهان: با ورود غذا به دهان، جویدن غذا و گوارش مکانیکی آن آغاز می‌شود. آسیاب شدن غذا به ذره‌های بسیار کوچک برای فعالیت بهتر آنزیم‌های گوارشی، و اثر بزاق بر آن لازم است. سه جفت غده بزاقی بزرگ و غده‌های بزاقی کوچک، بزاق ترشح می‌کنند (شکل ۶). بزاق، ترکیبی از آب، یون‌ها، انواعی از آنزیم‌ها و موسین است. آنزیم آمیلاز بزاق به گوارش نشاسته کمک می‌کند. لیپوزیم، آنزیمی است که در از بین بردن باکتری‌های درون دهان نقش دارد. موسین، گلیکوپروتئینی است که آب فراوانی جذب و ماده مخاطی ایجاد می‌کند. ماده مخاطی دیواره لوله گوارش را از خراشیدگی حاصل از تماس غذا یا آسیب شیمیایی (بر اثر اسید یا آنزیم) حفظ می‌کند و ذره‌های غذایی را به هم می‌چسباند و آنها را به توده لغزنده‌ای تبدیل می‌کند.



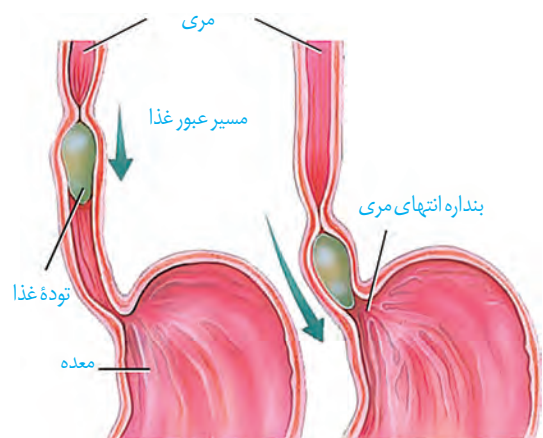
شکل ۶- غده‌های بناگوشی، زیرآرواره‌ای و زیربانی، بزاق ترشح می‌کنند.



شکل ۷- الف) هنگام بلع فقط راه مری برای عبور غذا باز است.

بلع غذا: هنگام بلع با فشار زبان، توده غذا به عقب دهان و داخل حلق رانده می‌شود. با رسیدن غذا به حلق، بلع به شکل غیرارادی، ادامه پیدا می‌کند. همان طور که می‌دانید حلق را به چهارراه تشبیه می‌کنند. با استفاده از شکل ۷- الف، توضیح دهید هنگام بلع چگونه راه‌های دیگر حلق بسته می‌شوند؟

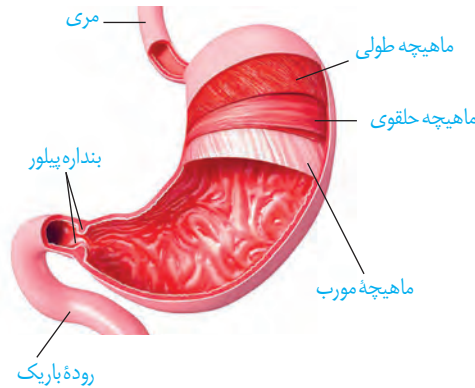
در ادامه دیواره ماهیچه‌ای حلق منقبض می‌شود و حرکت کرمی آن، غذا را به مری می‌راند. حرکت کرمی در مری ادامه پیدا می‌کند و با شل شدن بنداره انتهایی مری، غذا وارد معده می‌شود (شکل ۷- ب). غده‌های مخاط مری، ماده مخاطی ترشح می‌کنند تا حرکت غذا آسان تر شود.



شکل ۷- ب) حرکات کرمی، غذا را در طول مری حرکت می‌دهند.

گوارش در معده: معده، بخش کیسه‌ای شکل لوله گوارش است. دیواره معده، چین خوردگی‌هایی دارد که با پرشدن معده باز می‌شوند تا غذای بلع شده در آن انبار شود. گوارش غذا در معده در اثر شیرۀ

معدۀ و حرکات آن انجام می‌شود. در پایان گوارش در معدۀ مخلوط حاصل از گوارش که **کیموس** نام دارد، با باز شدن بندارۀ پیلور وارد ابتدای رودهٔ باریک می‌شود (شکل ۸). به ابتدای رودهٔ باریک **دوازدهه** می‌گویند.



شکل ۸- حرکات معدۀ در اثر انقباض ماهیچه‌های آن ایجاد می‌شوند. باخته‌های لایهٔ ماهیچه‌ای دیوارهٔ معدۀ در سه جهت طولی، حلقوی و مورب قرار گرفته‌اند.

شیرۀ معدۀ: یاخته‌های پوششی مخاط معدۀ در بافت پیوندی زیرین فرو رفته‌اند و حفره‌های معدۀ را به وجود می‌آورند. مجاری غده‌های معدۀ، به این حفره‌ها راه دارند. یاخته‌های پوششی سطحی مخاط معدۀ و برخی از یاخته‌های غده‌های آن، مادهٔ مخاطی فراوان ترشح می‌کنند که به شکل

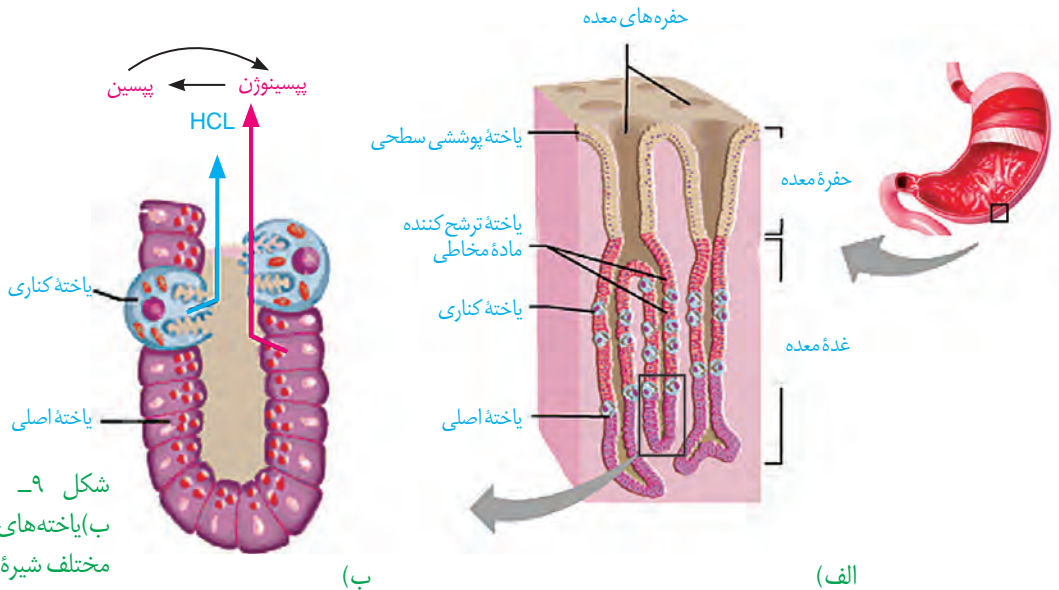
لایهٔ ژله‌ای چسبناکی، مخاط معدۀ را می‌پوشاند. یاخته‌های پوششی سطحی، بیکربنات (HCO_3^-) نیز ترشح می‌کنند که لایهٔ ژله‌ای حفاظتی را قلیایی می‌کند (شکل ۹). به این ترتیب سد حفاظتی محکمی در مقابل اسید و آنزیم به وجود می‌آید.

یاخته‌های اصلی غده‌ها، آنزیم‌های معدۀ را ترشح می‌کنند. پیش ساز پروتئازهای معدۀ را به طور کلی **پپسینوژن** می‌نامند. پپسینوژن بر اثر کلریدریک اسید به **پپسین** تبدیل می‌شود. پپسین خود با اثر بر پپسینوژن، تولید پپسین را بیشتر می‌کند (شکل ۹). آنزیم پپسین، پروتئین‌ها را به مولکول‌های کوچک‌تر تجزیه می‌کند. یاخته‌های کناری غده‌های معدۀ، کلریدریک اسید و عامل (فاکتور) داخلی معدۀ ترشح می‌کنند. **عامل داخلی معدۀ**، برای ورود ویتامین B_{12} به یاخته‌های رودهٔ باریک ضروری است. اگر این یاخته‌ها تخریب شوند یا معدۀ برداشته شود، علاوه بر ساختن کلریدریک اسید، فرد به کم‌خونی خطرناکی دچار می‌شود؛ زیرا ویتامین B_{12} که برای ساختن گویچه‌های قرمز در مغز استخوان لازم است، جذب نمی‌شود و زندگی فرد به خطر می‌افتد.

بیشتر بدانید

فرصت شناسی یک پژوهشگر

دکتر بومون در قرن ۱۹ میلادی، جوانی را درمان کرد که پهلویش با گلوله سوراخ شده بود. طی التیام زخم، سوراخ کوچکی در بدن جوان باقی ماند که داخل معدۀ را نشان می‌داد. بومون از این سوراخ، چین‌های سطح معدۀ و مادهٔ مخاطی روی سطح آن را مشاهده و با لوله‌ای لاستیکی مقداری از اسید معدۀ را خارج کرد. او با آزمایش غذاهای گوناگون، نتیجه گرفت معدۀ با ترشح اسید، به غذای بلع شده پاسخ می‌دهد. بومون نتایج آزمایش‌های خود را در کتابی منتشر کرد.



شکل ۹- الف) غده‌های معدۀ ب) یاخته‌های غده‌های معدۀ، مواد مختلف شیرۀ معدۀ را ترشح می‌کنند.

بیشتر بدانید

زخم پپتیک

ترشح بیش از حد اسید و آنزیم در شیره گوارشی و کاهش توانایی سد حفاظتی ماده مخاطی در مخاط معده یا دوازدهه، زخم پپتیک ایجاد می‌کند. بسیاری از افراد مبتلا به زخم پپتیک، عفونت مزمن ناشی از باکتری به نام هلیکوباکتر پیلوری دارند. این باکتری می‌تواند سد حفاظتی ماده مخاطی را تخریب کند. از علامت‌های این بیماری، احساس درد در بخش بالایی معده است که ممکن است تا چند ساعت پس از خوردن غذا ادامه پیدا کند. تنش مداوم، سیگار کشیدن، الکل و برخی داروها مانند آسپرین نیز ماده مخاطی را تخریب می‌کنند.

با ورود غذا، معده اندکی انبساط می‌یابد و انقباض‌های معده، آغاز می‌شوند. این انقباض‌ها غذا را با شیره معده می‌آمیزند که نتیجه آن تشکیل کیموس معده است. همان‌طور که گفتیم با باز شدن بنداره پیلور، کیموس وارد دوازدهه می‌شود.

برگشت اسید معده (ریفلاکس): اگر انقباض بنداره انتهایی مری کافی نباشد، فرد دچار برگشت اسید می‌شود. در این حالت در اثر برگشت شیره معده به مری، به تدریج، مخاط مری آسیب می‌بیند؛ زیرا حفاظت دیواره آن به اندازه معده و روده باریک، نیست. سیگار کشیدن، الکل، رژیم غذایی نامناسب و استفاده بیش از اندازه از غذاهای آماده، تنش و اضطراب، از علت‌های برگشت اسید معده‌اند.

فعالیت

آزمایشی طراحی کنید که نشان دهد آنزیم پپسین در حضور کلریدریک اسید، پروتئین سفیده تخم مرغ را گوارش می‌دهد. توجه کنید که آنزیم‌ها در دمای ویژه‌ای فعالیت می‌کنند.

گوارش در روده باریک: کیموس به تدریج وارد روده باریک می‌شود تا مراحل پایانی گوارش به ویژه در دوازدهه انجام شود. صفرا، شیره‌های روده و لوزالمعده که به دوازدهه می‌ریزند به کمک حرکات روده، در گوارش نهایی کیموس نقش دارند (شکل ۱۰).

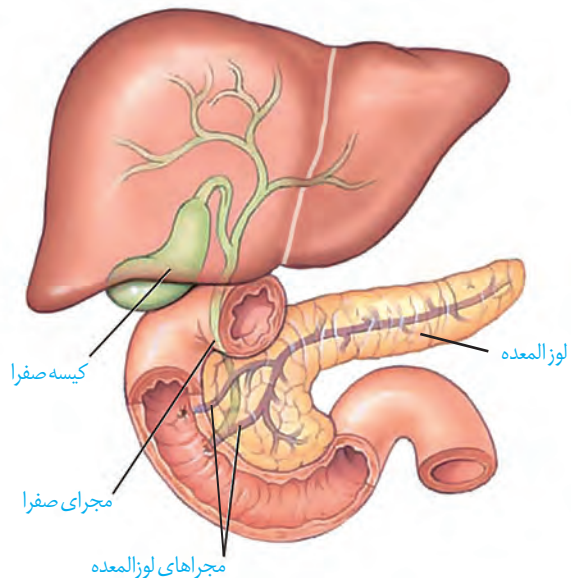
حرکت‌های روده باریک: حرکت‌های روده باریک، علاوه بر گوارش مکانیکی و پیش بردن کیموس در طول روده، کیموس را در سراسر مخاط روده می‌گستراند تا تماس آن با شیره‌های گوارشی و نیز یاخته‌های پوششی مخاط، افزایش یابد.

شیره روده: روده باریک این شیره را ترشح می‌کند. شیره روده شامل مومین، آب، یون‌های مختلف از جمله بیکرینات و آنزیم است.

صفرا: کبد، صفرا را می‌سازد. صفرا آنزیم ندارد و ترکیبی از نمک‌های صفراوی، بیکرینات، کلسترول و فسفولیپید است. صفرا به دوازدهه می‌ریزد و به گوارش چربی‌ها کمک می‌کند. همچنین بیکرینات صفرا به خنثی کردن حالت اسیدی کیموس معده کمک می‌کند.

گاهی ترکیبات صفرا در کیسه صفرا رسوب می‌کنند و سنگ ایجاد می‌شود. رژیم غذایی پرچرب در ایجاد سنگ کیسه صفرا نقش دارد (شکل ۱۱).

شکل ۱۱- سنگ کیسه صفرا



شکل ۱۰- صفرا از راه مجاری صفراوی کبد به یک مجرای مشترک وارد و در کیسه صفرا ذخیره می‌شود.

بیشتر بدانید

آنزیم‌های شیره لوزالمعده و کار آنها

نام آنزیم	مولکول مورد اثر	نتیجه کار آنزیم
تریپسین	پروتئین	تشکیل پپتید
کربوکسی پپتیداز	پروتئین و پپتید	جدا کردن آمینواسید از انتهای زنجیره
لیپاز	لیپید (چربی)	ایجاد گلیسرول و اسید چرب
فسفولیپاز	فسفولیپید	جدا کردن اسید چرب از فسفولیپید
آمیلاز	نشاسته، گلیکوژن	دی ساکارید، تری ساکارید
نوکلئاز (آنزیم تجزیه کننده نوکلئیک اسیدها)	نوکلئیک اسیدها مانند DNA	تبدیل به واحدهای سازنده

شیره لوزالمعده: آنزیم‌ها و بیکر بنات لوزالمعده به دوازده می‌ریزند. لوزالمعده، آنزیم‌های لازم برای گوارش شیمیایی انواع مواد را تولید می‌کند. پروتئازهای لوزالمعده درون روده باریک فعال می‌شوند. بیکر بنات اثر اسید معده را خنثی می‌کند. به این ترتیب دیواره دوازدهه از اثر اسید حفظ و محیط مناسب برای فعالیت آنزیم‌های لوزالمعده فراهم می‌شود.

فعالیت

پروتئازهای لوزالمعده قوی و متنوع اند و

می‌توانند خود لوزالمعده را نیز تجزیه کنند.

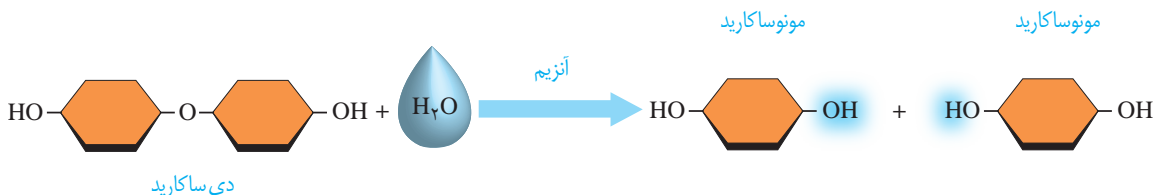
فکر می‌کنید بدن چگونه از این مسئله جلوگیری می‌کند؟

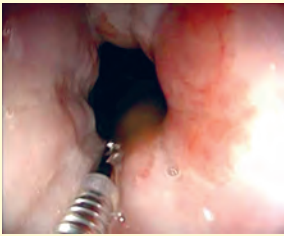
گوارش کربوهیدرات‌ها: رژیم غذایی ما شامل انواع گوناگون کربوهیدرات‌هاست. مونوساکاریدها بدون گوارش جذب می‌شوند. دی‌ساکاریدها و پلی‌ساکاریدها برای جذب شدن باید گوارش یابند و به مونوساکارید تبدیل شوند.

آنزیم‌های گوارشی با واکنش آب کافت (هیدرولیز)، مولکول‌های درشت را به مولکول‌های کوچک تبدیل می‌کنند. در آب کافت همراه با مصرف آب، پیوند بین مولکول‌ها شکسته می‌شود. شکل ۱۲ واکنش آب کافت را در تبدیل دی‌ساکارید به مونوساکارید نشان می‌دهد. دستگاه گوارش ما آنزیم مورد نیاز برای گوارش همه کربوهیدرات‌ها را نمی‌سازد، مثلاً آنزیم مورد نیاز برای تجزیه سلولز را نمی‌سازد.

گوارش پروتئین‌ها: پپسین گوارش پروتئین‌ها را در معده آغاز می‌کند. در روده باریک در نتیجه فعالیت پروتئازهای لوزالمعده و آنزیم‌های روده باریک، پروتئین‌ها به آمینواسیدها، تجزیه می‌شوند. **گوارش تری‌گلیسریدها:** فراوان‌ترین لیپیدهای رژیم غذایی، تری‌گلیسریدها هستند. آنزیم لیپاز، تری‌گلیسریدها را به واحدهای سازنده آن تجزیه می‌کند. صرفاً حرکات مخلوط کننده روده باریک موجب ریز شدن چربی‌ها می‌شوند. گوارش چربی‌ها، بیشتر در اثر فعالیت لیپاز لوزالمعده در دوازدهه انجام می‌شود.

شکل ۱۲- آب کافت یک دی‌ساکارید





مشاهده درون لوله گوارش

مشاهده درون دستگاه گوارش

با استفاده از درون بینی (آندوسکوپی؛ آندو به معنای درون و اسکوپ به معنی دیدن) می توان درون مری، معده و دوازدهه را مشاهده کرد. درون بین (آندوسکوپ / Endoscope) لوله ای باریک و انعطاف پذیر با دوربینی بر یک سر آن است. درون بینی برای تشخیص زخم ها، سرطان و عفونت به کار می رود. درون بین در نمونه برداری نیز استفاده می شود. کولون بینی (کولونوسکوپی) روشی برای بررسی کولون یا روده بزرگ است که به کمک آن روده بزرگ را تا محل اتصال به روده کوچک بررسی می کنند تا اختلال های احتمالی آن را مشاهده کنند.

فعالیت

اثر آمیلاز بزاق بر نشاسته

- مواد و وسایل لازم:** یک گرم نشاسته، محلول لوگول، آب، ۳ لوله آزمایش، جا لوله ای، سه ظرف شیشه ای با حجم ۱۵۰، ۱۰۰ و ۵۰ میلی لیتر، دماسنج، شعله گاز آزمایشگاه، توری و سه پایه
- روش کار**
- ۱- یکی از افراد گروه، دهان خود را دو یا سه مرتبه با آب بشوید و سپس بزاق خود را درون ظرف شیشه ای تمیزی بریزد.
 - ۲- در یک ظرف شیشه ای ۱۵۰ میلی لیتری، یک گرم نشاسته بریزید و به آن ۱۰۰ میلی لیتر آب اضافه کنید.
 - ۳- سه لوله آزمایش تمیز بردارید و آنها را شماره گذاری کنید.
 - ۴- در لوله آزمایش شماره ۱، دو میلی لیتر از محلول نشاسته و در لوله آزمایش شماره ۲، یک میلی لیتر بزاق بریزید؛ سپس به محتویات هر لوله، یک قطره لوگول بیفزایید.
 - ۵- در لوله آزمایش شماره ۳، دو میلی لیتر محلول نشاسته و دو میلی لیتر بزاق و یک قطره لوگول بریزید.
 - ۶- هر سه لوله آزمایش را با استفاده از حمام آب گرم، در دمای ۳۷ درجه قرار دهید.
- تغییرات را مشاهده و یادداشت کنید.
- علت تغییراتی را که مشاهده کردید، توضیح دهید.

باکتری های همزیست روده بزرگ و انتهای روده باریک، آنزیم آب کافت کننده سلولز دارند و گلوکز تولید می کنند، اما بافت پوششی روده بزرگ نمی تواند این گلوکز را جذب کند. این باکتری ها، انواعی از ویتامین های گروه B و ویتامین «K» می سازند که روده بزرگ می تواند آنها را جذب کند. بخشی از گازهای روده از فعالیت این باکتری ها به وجود می آیند. علاوه بر آن، این باکتری ها با ترشح مواد سمی، باکتری های بیماری زا را می کشند و از یاخته های پوششی روده بزرگ حفاظت می کنند. مصرف آنتی بیوتیک ممکن است، این باکتری های مفید را از بین ببرد. امروزه مواد غذایی مانند ماست، با باکتری های مفید غنی سازی شده اند تا تعداد این باکتری ها را در لوله گوارش افزایش دهند. این محصولات را **زیست یار** (پروبیوتیک) می نامند.

مواد مغذی برای رسیدن به یاخته‌های بدن باید از یاخته‌های بافت پوششی لوله گوارش عبور کنند و وارد محیط داخلی شوند. ورود مواد به محیط داخلی بدن، جذب نام دارد. خون، لنف و مایع بین یاخته‌ای محیط داخلی را تشکیل می‌دهند. در دهان و معده، جذب اندک است و جذب اصلی در روده باریک انجام می‌شود.

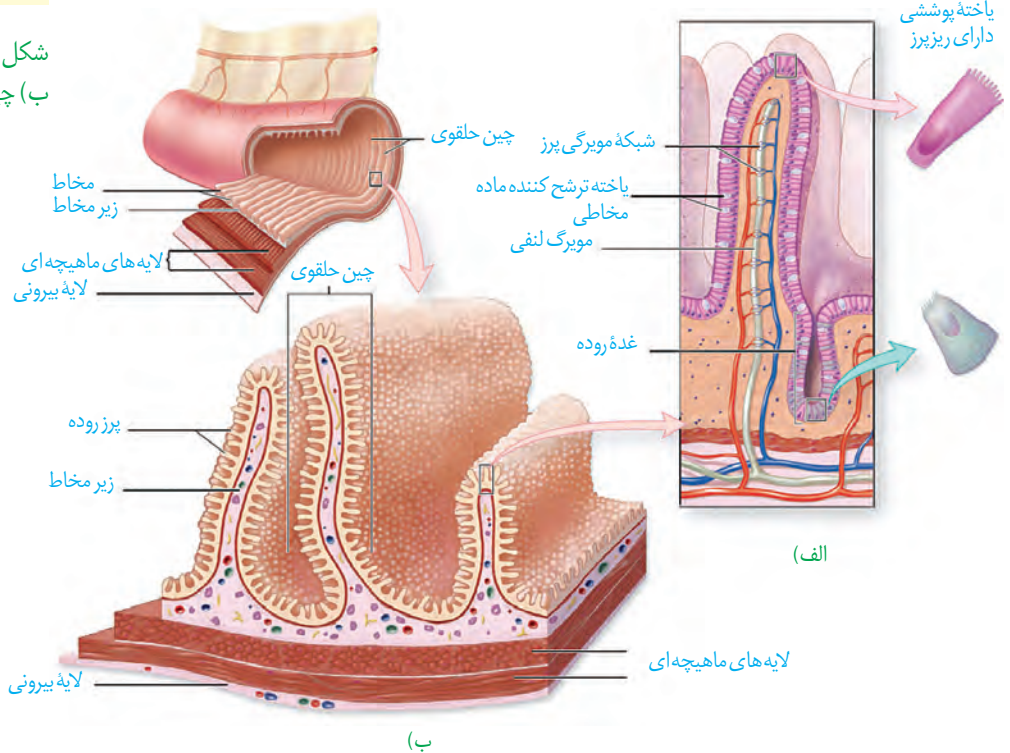
جذب مواد در روده باریک

پس از گوارش در فضای روده باریک، مولکول‌های گوناگونی وجود دارند که باید از غشای یاخته‌های پوششی دیواره روده بگذرند و به این یاخته‌ها و پس از آن به محیط داخلی وارد شوند. در دیواره داخلی روده، چین‌های حلقوی وجود دارند؛ روی این چین‌ها، پرزهای فراوانی دیده می‌شوند. غشای یاخته‌های پوششی روده باریک نیز در سمت فضای روده، چین خورده است. به این چین‌های میکروسکوپی، ریزپرز می‌گویند. مجموعه چین‌ها، پرزها و ریزپرزها سطح داخلی روده باریک را که در تماس با کیموس است چندین برابر افزایش می‌دهند. در بیماری سلیاک بر اثر پروتئین گلوتن (که در گندم و جو وجود دارد) یاخته‌های روده تخریب می‌شوند و ریزپرزها و حتی پرزها از بین می‌روند. در نتیجه، سطح جذب مواد، کاهش شدیدی پیدا می‌کند و بسیاری از مواد مغذی مورد نیاز بدن جذب نمی‌شوند.

بیشتر بدانید

ابوالقاسم خلف ابن العباس زهراوی نخستین کسی بود که از نخ‌های تهیه‌شده از روده جانوران، برای جراحی استفاده کرد. این نخ تنها ماده طبیعی است که بدن آن را می‌پذیرد و در بدن تجزیه می‌شود. ابوالحسن احمد بن محمد طبری، پزشک و دانشمند ایرانی سده چهارم هجری و مؤلف کتاب «المعالجات البقرایه» برای اولین بار در تاریخ پزشکی، برای شست‌وشوی معده افرادی که دچار مسمومیت می‌شدند، از لوله استفاده کرد.

شکل ۱۳- الف) پرز
ب) چین‌های حلقوی



مواد گوناگون به روش‌های متفاوتی که در فصل قبل خواندید، از یاخته‌های پوششی هر پرز عبور می‌کنند و به شبکه مویرگی درون پرز و سپس جریان خون وارد می‌شوند. همان‌طور که در شکل ۱۳-الف می‌بینید، در هر پرز، مویرگ بسته لنفی نیز وجود دارد. لنف از آب و ترکیبات دیگر تشکیل شده و در رگ‌های لنفی جریان دارد. مولکول‌های حاصل از گوارش لیپیدها به مویرگ لنفی و سپس به خون وارد می‌شوند (در فصل دستگاه گردش مواد در بدن، با ساختار مویرگ خونی و لنفی بیشتر آشنا می‌شوید). این مولکول‌ها در کبد یا بافت چربی ذخیره می‌شوند. در کبد از این لیپیدها، مولکول‌های لیپوپروتئین (ترکیب لیپید و پروتئین) ساخته می‌شود.

گروهی از لیپوپروتئین‌ها کلسترول زیادی دارند و به آنها **لیپوپروتئین کم چگال (LDL)** می‌گویند. در گروهی دیگر، پروتئین از کلسترول بیشتر است که **لیپوپروتئین پر چگال (HDL)** نام دارند. زیاد بودن لیپوپروتئین پر چگال نسبت به کم چگال، احتمال رسوب کلسترول در دیواره سرخرگ‌ها را کاهش می‌دهد. چاقی، کم‌تحركی و مصرف بیش از حد کلسترول، میزان لیپوپروتئین‌های کم چگال را افزایش می‌دهد.

فعالیت

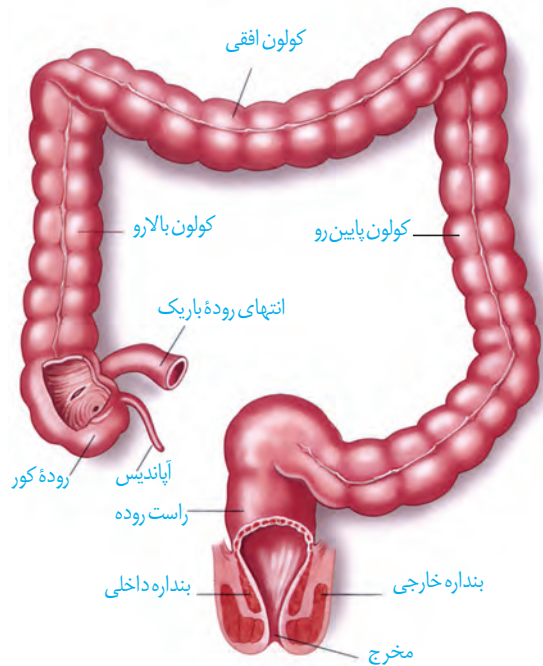
یک برگه آزمایش خون را که مواد موجود خون در آن ثبت شده است، بررسی کنید. میزان طبیعی لیپوپروتئین پر چگال (HDL)، لیپوپروتئین کم چگال (LDL)، نسبت HDL/LDL و تری گلیسرید

در خون چقدر است؟

روده بزرگ و دفع

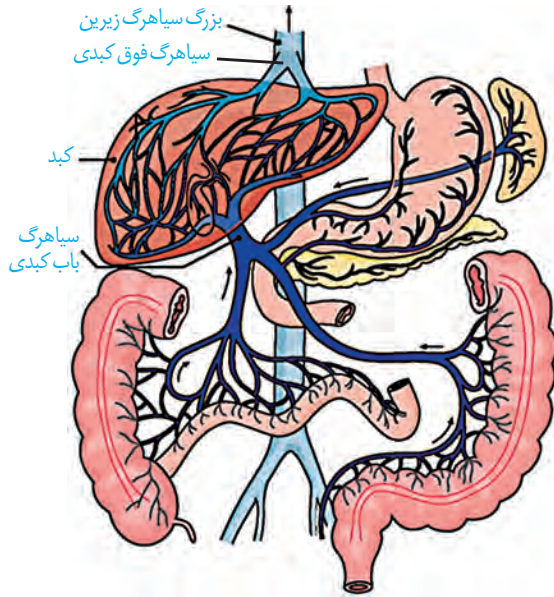
ابتدای روده بزرگ **روده کور** نام دارد که به آپاندیس ختم می‌شود. ادامه روده بزرگ از کولون بالارو، کولون افقی و کولون پایین رو، تشکیل شده است. روده بزرگ، پرز ندارد و یاخته‌های پوششی مخاط آن، ماده مخاطی ترشح می‌کنند ولی آنزیم گوارشی ترشح نمی‌کنند. بعد از روده بزرگ، راست روده قرار دارد (شکل ۱۴). در انتهای راست روده، بنداره‌های داخلی (ماهیچه صاف) و خارجی (ماهیچه مخطط) قرار دارند (شکل ۱۴).

مواد جذب نشده و گوارش نیافته، یاخته‌های مرده و باقی مانده شیره‌های گوارشی، وارد روده بزرگ می‌شوند. روده بزرگ، آب و یون‌ها را جذب می‌کند؛ در نتیجه، مدفوع به شکل جامد در می‌آید. حرکات روده بزرگ، آهسته انجام می‌شوند. مدفوع به راست روده وارد و سرانجام دفع به صورت ارادی انجام می‌شود.



شکل ۱۴- بخش‌های انتهایی لوله گوارش

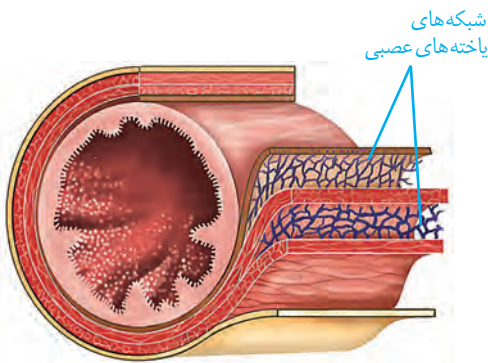
گردش خون دستگاه گوارش



شکل ۱۵- سیاهرگ باب و فوق کبدی

خون بخش‌هایی از بدن مانند خون لوله گوارش به طور مستقیم به قلب برنمی‌گردد؛ بلکه از راه سیاهرگ باب، ابتدا به کبد و سپس از راه سیاهرگ‌های دیگر به قلب می‌رود (شکل ۱۵). پس از خوردن غذا، میزان جریان خون دستگاه گوارش افزایش می‌یابد تا نیاز آن برای فعالیت بیشتر تأمین شود و مواد مغذی جذب شده، به کبد منتقل شوند. در کبد، از مواد جذب شده، گلیکوژن و پروتئین ساخته می‌شود و موادی مانند آهن و برخی ویتامین‌ها نیز در آن ذخیره می‌شوند.

تنظیم فرایندهای گوارشی



شکل ۱۶- شبکه‌های یاخته‌های عصبی لوله گوارش در زیر مخاط و لایه ماهیچه‌ای

دستگاه گوارش یک مرحله خاموشی نسبی (فاصله بین خوردن وعده‌های غذایی) و یک مرحله فعالیت شدید (بعد از ورود غذا) دارد. این دستگاه باید به ورود غذا پاسخ مناسبی بدهد؛ یعنی شیره‌های گوارشی به موقع و به اندازه کافی ترشح و حرکات لوله گوارش به موقع انجام شوند تا غذا را با شیره‌ها مخلوط کند و در طول لوله با سرعت مناسب حرکت دهد. فعالیت بخش‌های دیگر بدن از جمله گردش خون نیز باید با فعالیت دستگاه گوارش هماهنگ باشد. فعالیت دستگاه گوارش را مانند بخش‌های دیگر بدن، دستگاه‌های عصبی و هورمونی تنظیم می‌کنند. تنظیم عصبی دستگاه گوارش را بخشی از دستگاه عصبی به نام **دستگاه**

عصبی خودمختار انجام می‌دهد. فعالیت این دستگاه، ناخودآگاه است؛ مثلاً وقتی به غذا فکر می‌کنیم، بزاق ترشح می‌شود. با فعالیت دستگاه عصبی خودمختار، پیام عصبی به غده‌های بزاقی می‌رسد و بزاق ترشح می‌شود. دیدن غذا و بوی آن نیز باعث افزایش ترشح بزاق می‌شوند.

انجام فعالیت‌های گوارشی با فعالیت‌های بخش‌های دیگر بدن نیز باید هماهنگ شود. مثلاً هنگام بلع و عبور غذا از حلق، مرکز بلع در بصل النخاع، فعالیت مرکز تنفس را که در نزدیک آن قرار دارد، مهار می‌کند؛ در نتیجه، نای بسته و تنفس برای زمانی کوتاه، متوقف می‌شود.

همان‌طور که در ساختار لوله گوارش دیدیم، در دیواره این لوله (از مری تا مخرج) شبکه‌های یاخته‌های عصبی، وجود دارند (شکل ۱۶). این شبکه‌ها تحرک و ترشح را در لوله گوارش، تنظیم می‌کنند. شبکه‌های عصبی روده‌ای می‌توانند مستقل از دستگاه عصبی خودمختار، فعالیت کنند.

اما دستگاه عصبی خود مختار با آنها ارتباط دارد و بر عملکرد آنها تأثیر می‌گذارد.

در بخش‌های مختلف معده و روده، یاخته‌هایی وجود دارند که هورمون می‌سازند. این هورمون‌ها

بیشتر بدانید

سکرتین به معنی ماده ترشح شده است. سکرتین نخستین هورمون کشف شده است.

گاسترین: گاستر واژه‌ای یونانی به معنی معده است و گاسترین به معنای ماده‌ای است که معده آن را ترشح می‌کند.

به خون می‌ریزند و همراه با دستگاه عصبی، فعالیت‌های دستگاه گوارش را تنظیم می‌کنند. **سکرتین** و **گاسترین** از این هورمون‌ها هستند. سکرتین، از دوازدهه به خون ترشح می‌شود و با اثر بر لوزالمعده موجب می‌شود ترشح بیکربنات افزایش یابد. گاسترین از معده ترشح و باعث افزایش ترشح اسید معده و پپسینوژن می‌شود.

وزن مناسب

از دلایل چاقی در جوامع امروزی، استفاده از غذاهای پر انرژی (غذاهای پرچرب و شیرین)، عوامل روانی مانند غذا خوردن برای رهایی از تنش و شیوه زندگی کم تحرک است. البته چاقی در برخی از افراد به ژن‌ها مربوط است. چاقی، سلامت فرد را به خطر می‌اندازد و احتمال ابتلا به بیماری‌هایی مانند دیابت نوع ۲، انواعی از سرطان، تنگ شدن سرخرگ‌ها، سکته قلبی و مغزی را افزایش می‌دهد. از سوی دیگر، افرادی که کمتر از نیاز غذا می‌خورند و در نتیجه، لاغر می‌شوند؛ به علت کاهش دریافت مواد مغذی دچار مشکلاتی مانند کم‌خونی و کاهش استحکام استخوان‌ها می‌شوند. تبلیغات و فشار اجتماعی در تمایل افراد به کاهش وزن بیش از حد نقش دارد. برای تعیین وزن مناسب، از شاخص توده بدنی استفاده می‌کنند. این شاخص از رابطه زیر محاسبه می‌شود:

$$\text{شاخص توده بدنی} = \frac{\text{جرم (Kg)}}{\text{مربع قد (m}^2\text{)}}$$

شاخص توده بدنی کمتر از ۱۹، نشان‌دهنده کمبود وزن و بیشتر از ۳۰ به معنی چاقی است. اگر این شاخص بین ۱۹ تا ۲۵ باشد، نشان‌دهنده وزن مناسب و بین ۲۵ تا ۳۰ به معنی داشتن وزن اضافه است.

تعیین وزن مناسب بر اساس شاخص توده بدنی برای افراد بیشتر از بیست سال است. از آنجا که افراد کمتر از بیست سال در سن رشد قرار دارند، برای بررسی مناسب بودن وزن این افراد، شاخص توده بدنی آنها را با افراد هم سن و هم جنس، مقایسه می‌کنند. البته وزن هر فرد به تراکم استخوان، مقدار بافت ماهیچه و چربی بدن او بستگی دارد. بنابراین فقط افراد متخصص می‌توانند درباره مناسب بودن وزن فرد، قضاوت کنند.

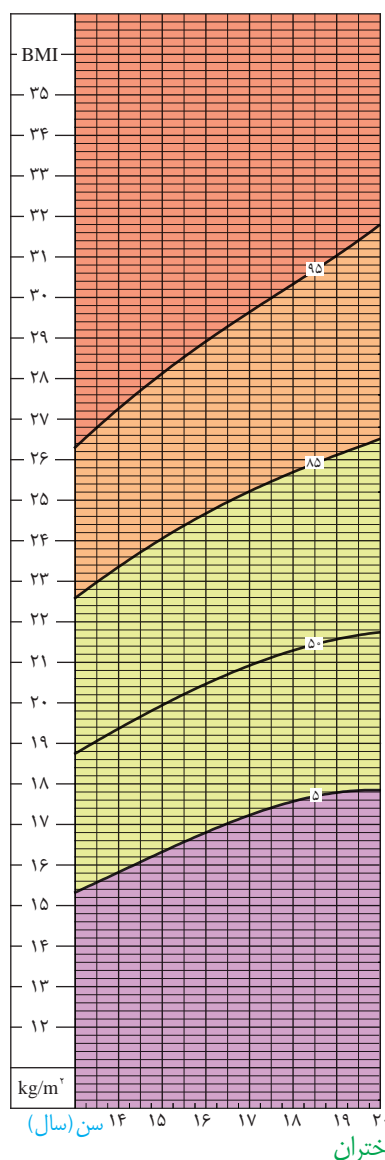
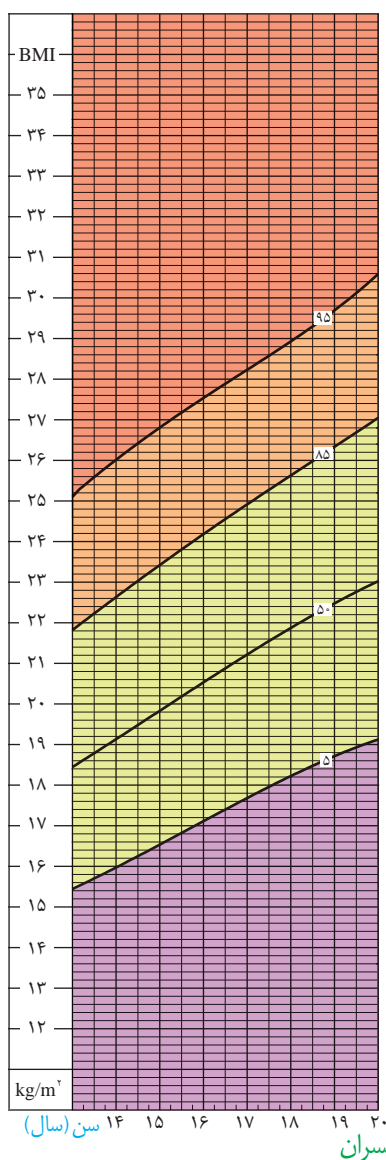
فعالیت

ذخیره بیش از اندازه چربی در کبد موجب بیماری «کبد چرب» می‌شود. چگونه می‌توان از این بیماری پیشگیری کرد؟ در این باره اطلاعاتی جمع‌آوری کنید و به کلاس ارائه دهید.

با استفاده از نمودارها و جدول زیر می‌توان مشخص کرد آیا افراد بین ۱۴ تا ۲۰ سال اضافه وزن یا چاقی احتمالی دارند یا نه. اما برای بررسی دقیق موضوع باید به متخصص مراجعه کرد.

جدول درصد نمایه توده بدنی برای افراد کمتر از ۲۰ سال، براساس نمودار روبه‌رو

وضعیت وزن	درصد نمایه توده بدنی
چاق	۹۵ و بیشتر از آن
اضافه وزن	۸۵ تا ۹۵
وزن طبیعی	۵ تا ۸۵
کمبود وزن	کمتر از ۵



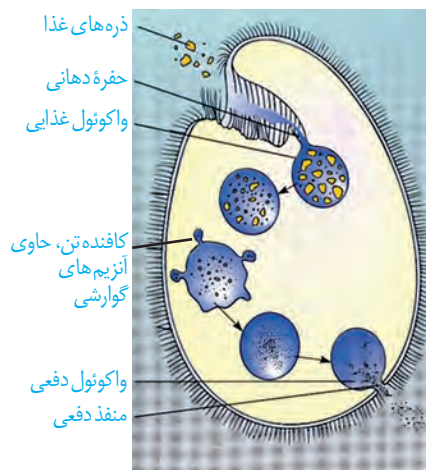
نمودار نمایه توده بدنی بر اساس سن برای دختران و پسران بین ۱۴ تا ۲۰ سال



شکل ۱۷- کرم کدو

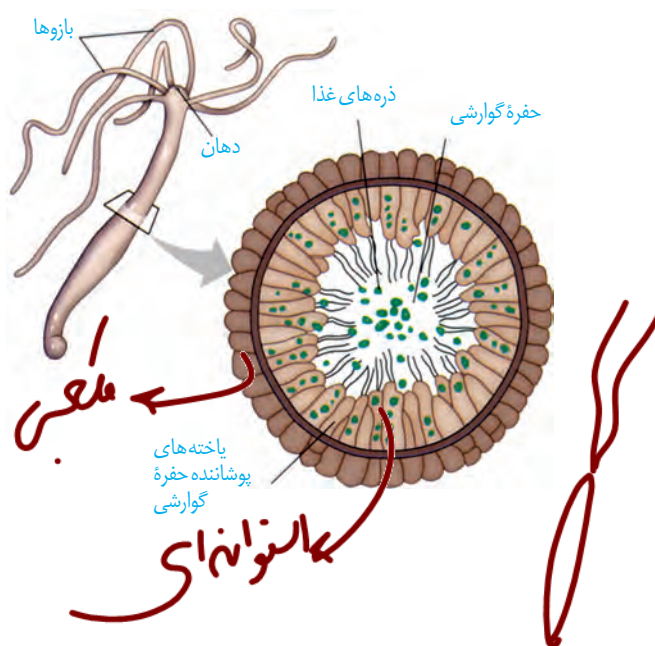
برخی جانداران، مواد مغذی را از سطح یاخته یا بدن و به طور مستقیم از محیط، دریافت می‌کنند. این محیط، آب دریا، دستگاه گوارش یا مایعات بدن جانوران میزبان است. کرم کدو که فاقد دهان و دستگاه گوارش است، مواد مغذی را از سطح بدن جذب می‌کند (شکل ۱۷).

واکوئول گوارشی: پارامسی از آغازیان است و با حرکت مژک‌ها غذا را از محیط به حفره دهانی منتقل می‌کند. در انتهای حفره، کیسه‌ای غشایی به نام **واکوئول غذایی** تشکیل می‌شود. واکوئول غذایی درون سیتوپلاسم حرکت می‌کند. کافنده تن (لیزوزوم) به واکوئول می‌پیوندد و آنزیم‌های خود را به درون آن آزاد می‌کند. در نتیجه، **واکوئول گوارشی** تشکیل می‌شود. مواد گوارش یافته از این واکوئول خارج می‌شوند و مواد گوارش نیافته در آن باقی می‌مانند. به این واکوئول، **واکوئول دفعی** می‌گویند. محتویات این واکوئول از راه منفذ دفعی یاخته خارج می‌شود (شکل ۱۸).



شکل ۱۸- گوارش درون یاخته‌ای در پارامسی از آغازیان

حفره گوارشی: گوارش در جانوری مانند هیدر در کیسه‌ای به نام **حفره گوارشی** انجام می‌شود. این حفره فقط یک سوراخ برای ورود و خروج مواد دارد. یاخته‌هایی در این حفره، آنزیم‌هایی ترشح می‌کنند که فرایند گوارش به صورت برون یاخته‌ای را آغاز می‌کنند. یاخته‌های این حفره، ذره‌های غذایی را با درون بری دریافت می‌کنند. سپس فرایند گوارش به صورت درون یاخته‌ای در حفره گوارشی ادامه می‌یابد (شکل ۱۹).

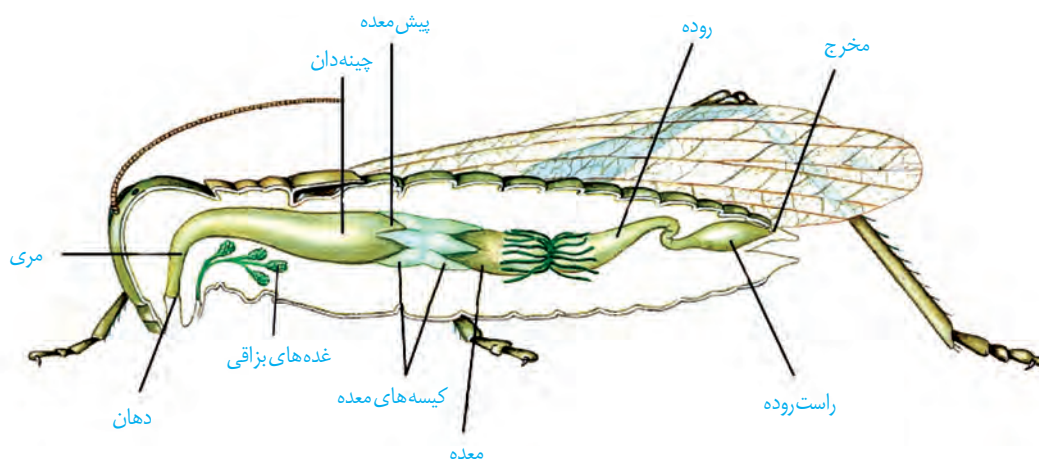


شکل ۱۹- حفره گوارشی در هیدر

لوله گوارش: این لوله در اثر تشکیل مخرج، شکل می‌گیرد و امکان جریان یک طرفه غذا را فراهم می‌کند. در ادامه نمونه‌هایی از لوله گوارش در جانوران را بررسی می‌کنیم.

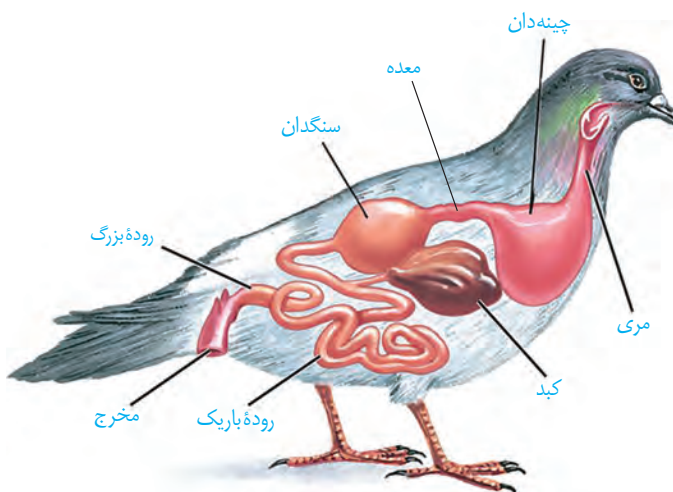
ملخ، حشره‌ای گیاه‌خوار است و با استفاده از آرواره‌ها، مواد غذایی را خرد و به دهان منتقل می‌کند. غذای خرد شده از طریق مری به **چینه‌دان** وارد می‌شود. چینه‌دان بخش حجیم انتهایی مری است که در آن غذا ذخیره و نرم می‌شود. سپس غذا به بخش کوچکی به نام **پیش‌معد** وارد می‌شود. دیواره پیش‌معد دندانه‌هایی دارد که به خرد شدن بیشتر مواد غذایی کمک می‌کنند. معد و کیسه‌های معد، آنزیم‌هایی ترشح می‌کنند که به پیش‌معد وارد می‌شوند. جذب، در معد صورت می‌گیرد. مواد گوارش نیافته پس از عبور از روده، به راست‌روده وارد و سپس از مخرج دفع می‌شوند (شکل ۲۰).

شکل ۲۰- لوله گوارش ملخ



جانوران دیگری مانند پرندگان دانه‌خوار نیز چینه‌دان دارند. شکل ۲۱ لوله گوارش در این پرندگان را نشان می‌دهد.

بخش عقبی معد در این پرندگان ساختاری ماهیچه‌ای است و **سنگدان** نامیده می‌شود. سنگریزه‌هایی که پرند می‌بلعد، فرایند آسیاب کردن غذا را تسهیل می‌کنند.

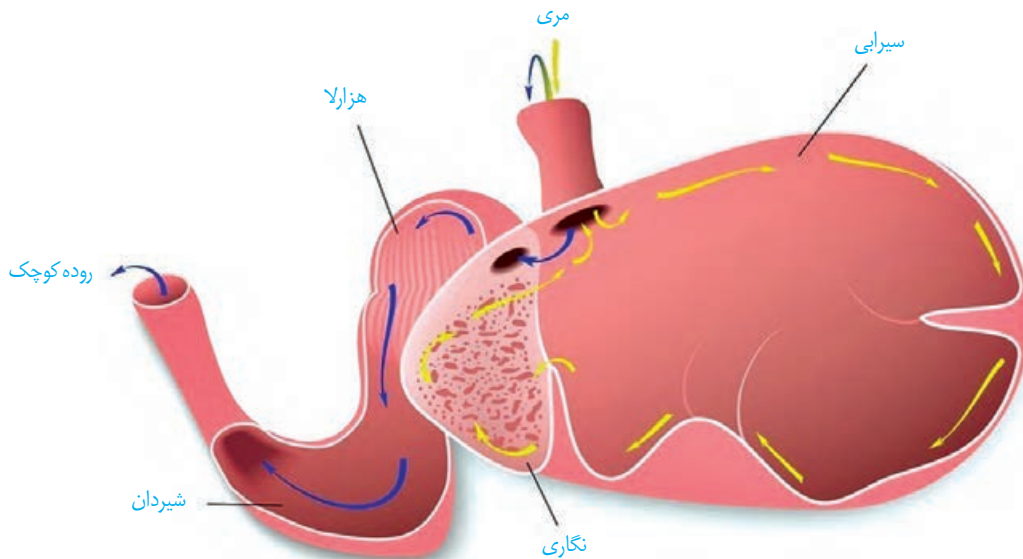


شکل ۲۱- لوله گوارش پرند دانه‌خوار

پستانداران نشخوارکننده، نظیر گاو و گوسفند، معدهٔ چهار قسمتی دارند (شکل ۲۲). در این جانوران، معده، شامل کیسهٔ بزرگی به نام **سیرابی**؛ بخشی به نام **نگاری**؛ یک اتاقلک لایه لایه به نام **هزارلا** و معدهٔ واقعی یا **شیردان** است. این جانوران به سرعت غذا می‌خورند تا در فرصت مناسب یا مکانی امن، غذا را با نشخوارکردن به دهان برگردانند و بچوند. ابتدا غذای نیمه جویده بلعیده و وارد سیرابی می‌شود و در آنجا به کمک میکروب‌ها تا حدی گوارش می‌یابد. در نشخوارکنندگان، وجود میکروب‌ها برای گوارش سلولز ضروری است. سلولز مقدار زیادی انرژی دارد ولی اغلب جانوران فاقد توانایی تولید آنزیم لازم برای گوارش آن هستند.

توده‌های غذا سپس به نگاری وارد و به دهان برمی‌گردند. در این زمان غذا به طور کامل، جویده و دوباره به سیرابی وارد می‌شود؛ بیشتر حالت مایع پیدامی‌کند و سپس به نگاری جریان می‌یابد. مواد از آنجا به هزارلا رفته، تا حدودی آبیگری و سرانجام به شیردان وارد می‌شوند. در این محل آنزیم‌های گوارشی وارد عمل می‌شوند و گوارش ادامه پیدا می‌کند (شکل ۲۲).

شکل ۲۲- معدهٔ چهار قسمتی



فعالیت

در بارهٔ ارتباط بین گوارش نشخوارکنندگان با گرم شدن کرهٔ زمین اطلاعاتی جمع‌آوری کنید و در کلاس ارائه دهید.



فصل ۳

تبادلات گازی

نفس کشیدن، یکی از ویژگی‌های آشکار در بسیاری از جانوران است. اما آیا در همهٔ جانوران به یک شکل انجام می‌شود؟ هدف از آن چیست؟

در ذهن بسیاری از ما، نفس کشیدن به معنای زنده بودن است. برای تشخیص اینکه آیا فردی زنده است یا نه، غالباً نگاه می‌کنیم که آیا نفس می‌کشد یا خیر. به نظر می‌رسد این فرایند، کاری حیاتی را برای ما انجام می‌دهد. اما این کار حیاتی چیست؟

هوای آلوده به کدام بخش دستگاه تنفسی آسیب می‌رساند؟ افرادی که به دخانیات روی می‌آورند، چگونه به بدن خود آسیب می‌رسانند؟ اینها فقط بخشی از پرسش‌هایی است که پاسخ آنها را با مطالعهٔ این فصل به دست خواهیم آورد.



چرا نفس می کشیم؟

ارسطو، معتقد بود که نفس کشیدن باعث خنک شدن قلب می شود. او نمی دانست که هوا خود مخلوطی از چند نوع گاز است. بنابر این هوای دمی و بازدمی را از نظر ترکیب شیمیایی یکسان می دانست. اما آیا واقعاً چنین است؟

مقایسه هوای دمی و بازدمی نشان می دهد که این دو هوا با هم متفاوت اند. هوای دمی، اکسیژن بیشتری دارد اما در هوای بازدمی، کربن دی اکسید نسبت به هوای دمی بیشتر است. بنابراین، اهمیت فرایند تنفس از آنچه که ارسطو می پنداشت فراتر است. درک این اهمیت، زمانی ممکن شد که آدمی توانست ارتباط دستگاه تنفس و دستگاه گردش خون را بیابد.

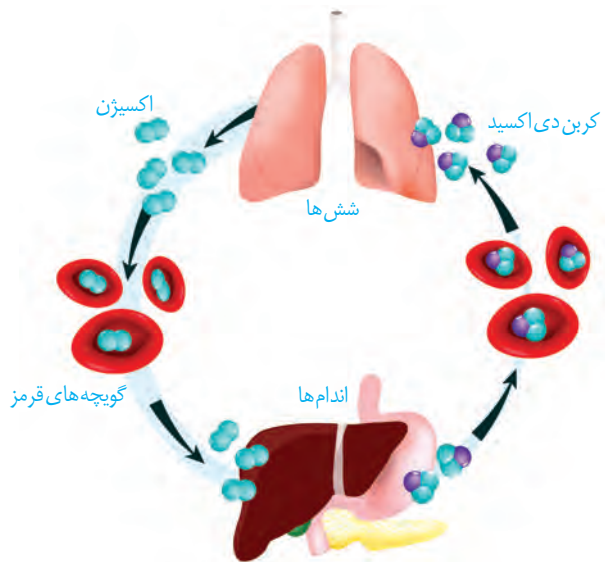
دستگاه گردش خون، خون را از اندام های بدن جمع آوری می کند و به سوی شش ها می آورد. این خون که به خون تیره معروف است اکسیژن کم، اما کربن دی اکسید زیادی دارد. در شش ها خون، کربن دی اکسید را از دست می دهد و از هوا اکسیژن می گیرد و به خون روشن تبدیل می شود. خون روشن توسط دستگاه گردش خون به اندام ها و یاخته ها فرستاده می شود (شکل ۱). به این ترتیب، همواره به یاخته های بدن، اکسیژن می رسد و کربن دی اکسید از آنها دور می شود. اما این کار چه ضرورتی دارد؟

در فصل قبل دیدیم که یاخته ها چگونه مواد مغذی را به دست می آورند. انرژی مواد مغذی، مثل گلوکز، باید ابتدا به انرژی ذخیره شده در ATP تبدیل شود. واکنش خلاصه شده این تبدیل، به این صورت است:



این واکنش که تنفس یاخته ای نام دارد، علت نیاز به اکسیژن را توجیه می کند. اما کربن دی اکسید چرا باید دور شود؟ یکی از علل زیان بار بودن کربن دی اکسید این است که می تواند با آب واکنش داده، کربنیک اسید تولید کند و pH را کاهش دهد. این تغییر pH باعث تغییر ساختار پروتئین ها می شود که می تواند عملکرد پروتئین ها را مختل کند. از آنجا که بسیاری از فرایندهای یاخته ای از پروتئین ها انجام می دهند؛ از بین رفتن عملکرد آنها اختلال گسترده ای را در کار یاخته ها و بافت ها ایجاد می کند. در واقع، افزایش کربن دی اکسید، خطرناک تر از کاهش اکسیژن است.

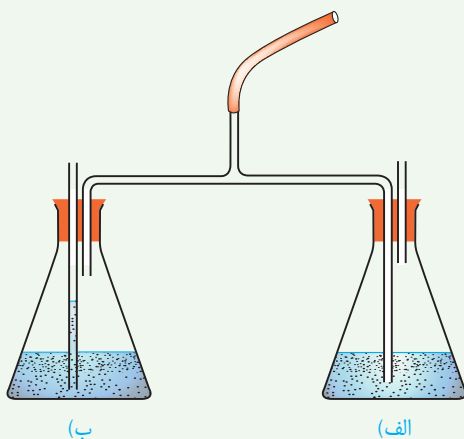
شکل ۱- یاخته های بدن، گازهای تنفسی را با خون و خون این گازها را در شش ها با هوا مبادله می کند.



آیا هوای دمی با هوای بازدمی متفاوت است؟

پژوهش‌های دانشمندان در ابتدا، وجود سه گاز نیتروژن، اکسیژن و کربن دی‌اکسید را در هوا نشان داد. در این آزمایش، هوای دمی و بازدمی را از نظر مقدار نسبی کربن دی‌اکسید بررسی می‌کنیم. اما چگونه می‌توان مقدار کربن دی‌اکسید را در هوا تشخیص داد؟

برای انجام این آزمایش می‌توان از محلول آب آهک (بی‌رنگ) یا برم تیمول بلو رقیق (آبی‌رنگ) که معرّف کربن دی‌اکسید هستند استفاده کرد. با دمیدن کربن دی‌اکسید به درون این محلول‌ها، آب آهک شیری‌رنگ و برم تیمول بلو، زرد رنگ می‌شود.



۱- دستگاه را مطابق شکل سوار کنید. انتهای لوله بلند را درون محلول و انتهای لوله کوتاه را در بالای محلول قرار دهید.

۲- به آرامی از طریق لوله مرکزی، عمل دم و بازدم را انجام دهید. در هنگام دم، در کدام ظرف، حباب‌ها مشاهده می‌شود؟ هنگام بازدم چطور؟
۳- دم و بازدم را ادامه دهید تا رنگ معرّف در یکی از ظرف‌ها تغییر کند. آن را یادداشت کنید.

۴- چند دقیقه دیگر نیز به دم و بازدم ادامه دهید و تغییرات بعدی رنگ را در هر دو ظرف مشاهده، و یادداشت کنید.
۵- اکنون به پرسش‌های زیر پاسخ دهید:

(الف) چرا هوای دمی، به یک ظرف و هوای بازدمی، به ظرف دیگر وارد می‌شود؟

(ب) نخست در کدام ظرف تغییر رنگ مشاهده کردید؟

(پ) آیا معرّف در هر دو ظرف سرانجام تغییر رنگ داد؟ این موضوع چه چیزی را برای ما روشن می‌کند؟

بخش‌های عملکردی دستگاه تنفس

از نظر عملکردی، می‌توان دستگاه تنفس را به دو بخش اصلی به نام‌های **بخش هادی** و **بخش مبادله‌ای تقسیم کرد**.

بخش هادی

بخش هادی، از مجاری تنفسی‌ای تشکیل شده است که هوا را به درون و بیرون دستگاه تنفسی هدایت می‌کنند و آن را از ناخالصی‌ها، مثل میکروب‌های بیماری‌زا و ذرات گرد و غبار، پاک‌سازی و نیز، گرم و مرطوب می‌کنند تا برای مبادله گازها با خون آماده شود. از بینی تا نایزک انتهایی به بخش هادی تعلق دارد.

ابتدای مسیر ورود هوا در بینی، از پوست نازکی پوشیده شده است که موهای آن، مانعی در برابر ورود ناخالصی‌های هوا ایجاد می‌کند. با پایان یافتن این پوست، مخاط مزک‌دار در بینی آغاز می‌شود که در سراسر مجاری هادی ادامه پیدا می‌کند. این مخاط، یاخته‌های مزک‌دار فراوان و ترشحات

بیشتر بدانید

عوامل مختلفی بر عملکرد یاخته‌های مزک‌دار اثر می‌گذارند. هوای خیلی سرد، حرکت مزک‌های لایه مخاطی را کند می‌کند. دود سیگار و قلیان و بعضی از آلاینده‌های شیمیایی موجود در هوا، باعث مرگ یاخته‌های مزک‌دار می‌شوند.

مخاطی دارد. در این ترشحات مواد ضد میکروبی وجود دارد. (شکل ۲).

ترشحات مخاطی، ناخالصی‌های هوا را ضمن عبور به دام می‌اندازد. مژک‌ها با حرکت ضربانی خود، ترشحات مخاطی و ناخالصی‌های دام افتاده در آن را به سوی حلق می‌رانند. در آنجا یا به دستگاه گوارش وارد شده، شیرۀ معده آنها را نابود می‌کند یا به خارج از بدن هدایت می‌شوند.

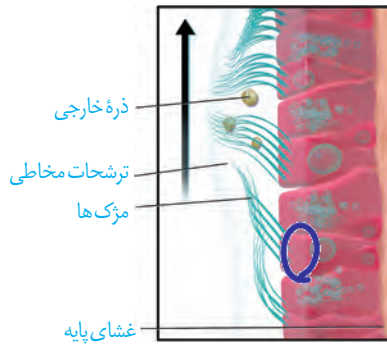
ترشحات مخاطی، هوا را مرطوب می‌کنند. مرطوب کردن هوا برای تبادل گازها ضرورت دارد. گازهای تنفسی تنها در صورتی که محلول در آب باشند، می‌توانند بین شش‌ها و خون مبادله شوند.

در بینی، شبکه‌ای وسیع از رگ‌هایی با دیواره نازک وجود دارد که هوا را گرم می‌کند. این شبکه به سطح درونی بینی بسیار نزدیک است، بنابراین آسیب‌پذیری بیشتری دارد و آسان‌تر از دیگر نقاط، دچار خون‌ریزی می‌شود.

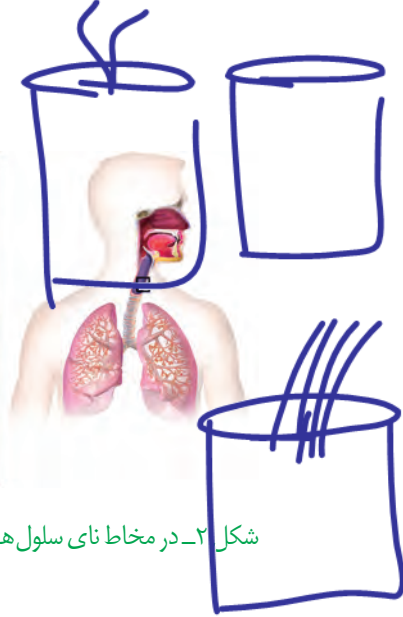
هوا با عبور از بینی، دهان، یا هر دو، به حلق وارد می‌شود (شکل ۳). حلق، گذرگاهی ماهیچه‌ای است که هم هوا و هم غذا از آن عبور می‌کند. انتهای حلق به یک دو راهی ختم می‌شود. در این دوراهی، حنجره در جلو و مری در پشت قرار دارد.

حنجره در ابتدای نای واقع است و در تنفس، دو کار مهم انجام می‌دهد. یکی آنکه دیواره غضروفی آن، مجرای عبور هوا را باز نگه می‌دارد و دیگر آنکه در پوشی به نام **برچاکنای (اپی‌گلوت)** دارد که مانع ورود غذا به مجرای تنفسی می‌شود.

دیواره نای، حلقه‌های غضروفی شبیه به نعل اسب یا حرف C دارد که مجرای نای را همیشه باز نگه می‌دارند (شکل ۴). دهانه غضروف (دهانه حرف C) به سمت مری قرار دارد. در نتیجه حرکت لقمه‌های بزرگ غذا در مری با مانعی روبه‌رو نمی‌شود. ساختار دیواره نای در شکل ۵ نشان داده شده است.



شکل ۲- در مخاط نای سلول‌های استوانه‌ای مژک‌دار قرار دارند.

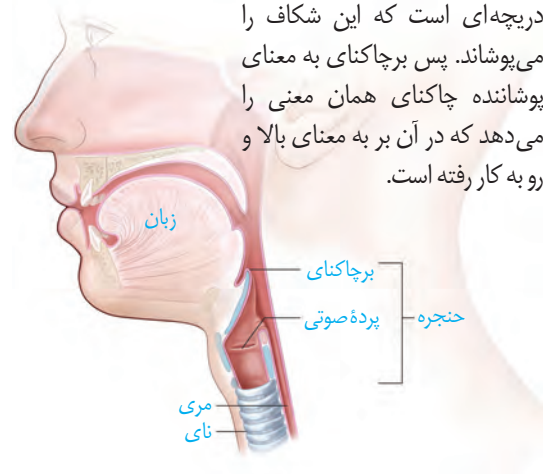


واژه‌شناسی

برچاکنای

(اپی‌گلوت / اپی‌گلوت)

اپی‌گلوت زبانه‌ای است که در بالای حنجره قرار دارد و مانع ورود غذا به نای می‌شود. چاکنای به معنای شکاف میان تارهای صوتی است که در حنجره وجود دارد. اپی‌گلوت در پیچه‌ای است که این شکاف را می‌پوشاند. پس برچاکنای به معنای پوشاننده چاکنای همان معنی را می‌دهد که در آن بر به معنای بالا و رو به کار رفته است.

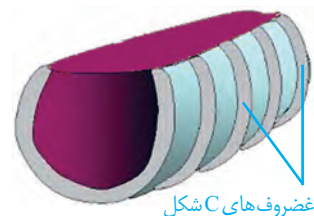
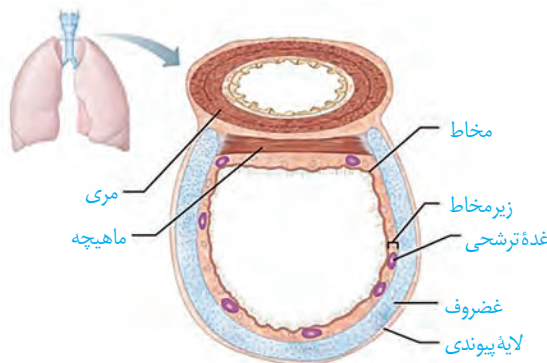


شکل ۳- حلق و حنجره

شکل ۵- ساختار بافتی دیواره نای.

دیواره نای از بیرون به درون شامل چهار لایه است:

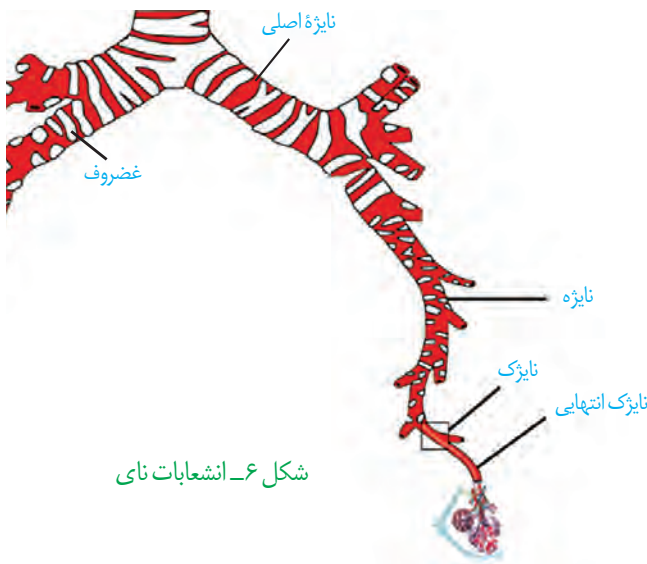
- ۱- پیوندی
- ۲- غضروفی ماهیچه‌ای
- ۳- زیر مخاط
- ۴- مخاط



شکل ۴- حلقه‌های غضروفی نای

نای، در انتهای خود، به دو شاخه تقسیم می‌شود و **نایژه‌های اصلی** را پدید می‌آورد. هر نایژه اصلی به یک شش وارد شده، در آنجا به نایژه‌های باریک‌تر تقسیم می‌شود (شکل ۶). همچنان که از نایژه اصلی به سمت نایژه‌های باریک‌تر پیش می‌رویم، از مقدار غضروف کاسته می‌شود. انشعابی از نایژه که دیگر غضروفی ندارد، **نایژک** نامیده می‌شود. به علت نداشتن غضروف، نایژک‌ها می‌توانند تنگ و گشاد شوند. این ویژگی نایژک‌ها به دستگاه تنفس امکان می‌دهد تا بتواند مقدار هوای ورودی یا خروجی را تنظیم کند. آخرین انشعاب نایژک در بخش هادی، **نایژک انتهایی** نام دارد.

بخش مبادله‌ای

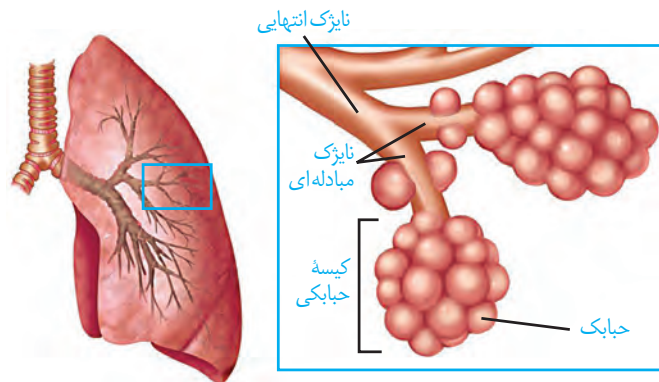


شکل ۶- انشعابات نای

بخش مبادله‌ای، با حضور اجزای کوچکی به نام **حبابک** مشخص می‌شود (شکل ۷). نایژکی را که روی آن حبابک وجود دارد، **نایژک مبادله‌ای** می‌نامیم. نایژک مبادله‌ای در انتهای خود به ساختاری شبیه به خوشه انگور ختم می‌شود که از اجتماع حبابک‌ها پدید آمده است. هر یک از این خوشه‌ها را یک **کیسه حبابکی** می‌نامند.

مخاط مزک‌دار در طول نایژک مبادله‌ای به پایان می‌رسد، بنابراین در محل حبابک‌ها، این مخاط وجود ندارد.

در حبابک‌ها، گروهی از یاخته‌های دستگاه ایمنی بدن به نام **درشت‌خوار (ماکروفاژ)** مستقر شده‌اند (شکل ۸). این یاخته‌ها، باکتری‌ها و ذرات گرد و غباری را که از مخاط مزک‌دار گریخته‌اند نابود می‌کنند. درشت‌خوارها یاخته‌هایی با ویژگی بیگانه‌خواری و توانایی حرکت‌اند. این یاخته‌ها، نه فقط در کیسه‌های حبابکی شش‌ها، بلکه در دیگر نقاط بدن نیز حضور دارند.



شکل ۷- بخش مبادله‌ای دستگاه تنفس

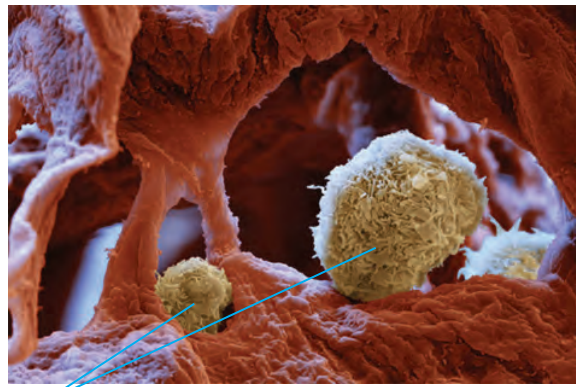
هنگام نفس کشیدن، حجم کیسه‌های حبابکی تغییر می‌کند. لایه نازکی از آب، سطحی از حبابک را که در تماس با هواست پوشانده است؛ بنابراین حبابک به علت وجود نیروی کشش سطحی آب، در برابر باز شدن مقاومت می‌کند. ماده‌ای به نام **عامل سطح فعال (سورفاکتانت)** که از بعضی یاخته‌های

حبابک‌ها ترشح می‌شود، با کاهش نیروی کشش سطحی، باز شدن حبابک‌ها را آسان می‌کند (شکل ۹). در بعضی از نوزادانی که زود هنگام به دنیا آمده‌اند، عامل سطح فعال به مقدار کافی ساخته نشده است و بنابراین به زحمت نفس می‌کشند.

اطراف حبابک‌ها را مویرگ‌های خونی فراوان، احاطه کرده‌اند و به این ترتیب، امکان تبادل گازها بین هوا و خون فراهم شده است (شکل ۱۰).

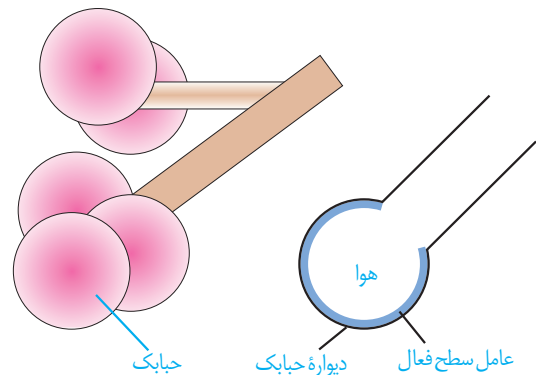
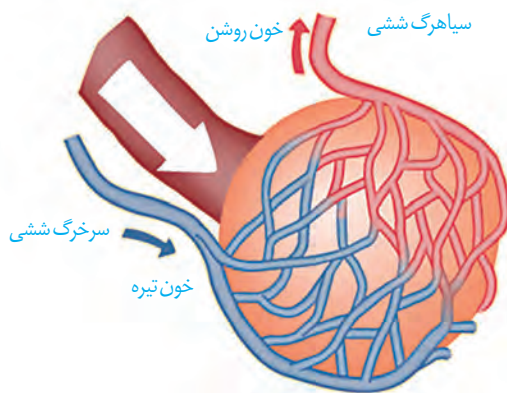
دیواره حبابک از دو نوع یاخته ساخته شده است. نوع اول، سنگ‌فرشی و فراوان‌تر است. نوع دوم، با ظاهری کاملاً متفاوت، به تعداد خیلی کمتر دیده می‌شود و ترشح عامل سطح فعال را بر عهده دارد (شکل ۱۱). درشت‌خوارها را جزء یاخته‌های دیواره حبابک، طبقه‌بندی نمی‌کنند.

برای اینکه اکسیژن و کربن دی‌اکسید بین هوا و خون مبادله شوند، این مولکول‌ها باید از ضخامت دیواره حبابک‌ها و دیواره مویرگ‌ها عبور کنند. هر دو دیواره، از بافت پوششی سنگ‌فرشی یک لایه ساخته شده‌اند که بسیار نازک است. در جاهای متعدد، بافت پوششی حبابک و مویرگ هر دو غشای پایه مشترک دارند؛ در نتیجه مسافت انتشار گازها به حداقل ممکن رسیده است (شکل ۱۱).



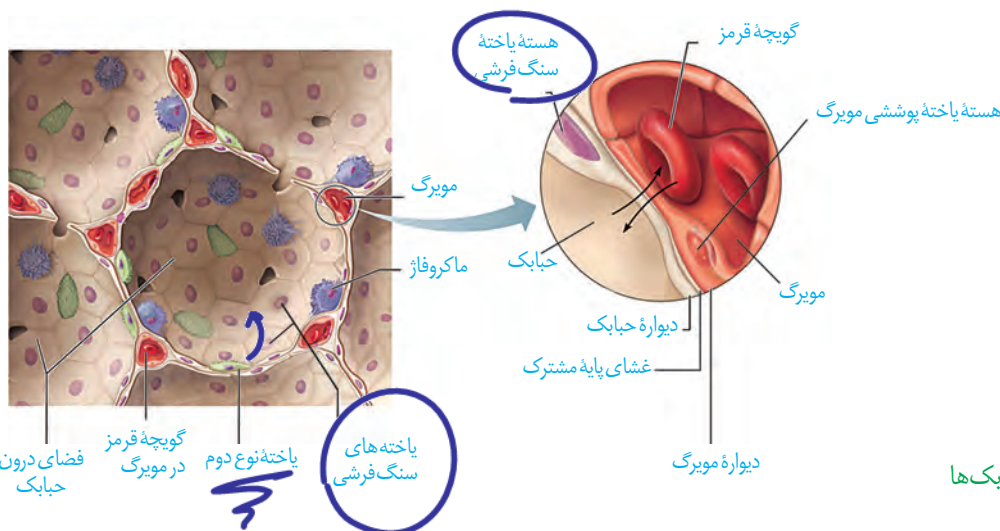
یاخته‌های درشت‌خوار

شکل ۸- یاخته‌های درشت‌خوار در حبابک‌ها



شکل ۱۰- مویرگ‌های خونی فراوان، اطراف حبابک‌ها را احاطه کرده‌اند.

شکل ۹- عامل سطح فعال در سطحی که مجاور هواست ترشح می‌شود.



شکل ۱۱- ساختار حبابک‌ها

حمل گازها در خون

کار دستگاه تنفس با همکاری دستگاه گردش خون، کامل می‌شود. خون، اکسیژن را به یاخته‌ها می‌رساند و کربن دی‌اکسید را از آنها می‌گیرد و به سمت شش‌ها می‌آورد تا از بدن خارج شود. با توجه به اینکه بخش اندکی از این گازها به صورت محلول در خوناب جابه‌جا می‌شوند، بنابراین به سازوکارهای دیگری برای حمل این مولکول‌ها در خون نیاز است.

گویچه قرمز سرشار از **هموگلوبین** است. غلظت اکسیژن خونی که از قلب به شش‌ها می‌رود، کمتر از غلظت اکسیژن در هوای حبابک‌ها است؛ در نتیجه در شش‌ها اکسیژن به هموگلوبین می‌پیوندد و در مجاورت بافت‌ها، که غلظت اکسیژن به علت مصرف شدن توسط یاخته‌ها کاهش یافته است، اکسیژن از هموگلوبین جدا و به یاخته‌ها داده می‌شود. پیوستن کربن دی‌اکسید به هموگلوبین و یا گسستن از آن نیز تابع غلظت کربن دی‌اکسید است. در بافت‌ها، کربن دی‌اکسید به هموگلوبین متصل و در شش‌ها از آن جدا می‌شود.

کربن مونوکسید، مولکول دیگری است که می‌تواند به هموگلوبین متصل شود با این تفاوت که وقتی متصل شد، به آسانی جدا نمی‌شود. محل اتصال این مولکول به هموگلوبین، همان محل اتصال اکسیژن است. بنابراین کربن مونواکسید با اتصال به هموگلوبین، مانع پیوستن اکسیژن می‌شود و چون به آسانی جدا نمی‌شود ظرفیت حمل اکسیژن را در خون کاهش می‌دهد. این وضعیت ممکن است چنان شدید باشد که به مرگ منجر شود. از این رو کربن مونواکسید گازی سمی به شمار می‌رود. تنفس این گاز باعث مسمومیت می‌شود و به گاز گرفتگی شهرت دارد.

بیشترین مقدار حمل اکسیژن در خون به وسیله هموگلوبین انجام می‌شود؛ اما هموگلوبین در ارتباط با حمل کربن دی‌اکسید نقش کمتری دارد.

بیشترین مقدار کربن دی‌اکسید به صورت یون بیکربنات در خون حمل می‌شود. در گویچه قرمز، آنزیمی به نام **کربنیک انیدراز** هست که کربن دی‌اکسید را با آب ترکیب می‌کند و کربنیک اسید پدید می‌آورد. کربنیک اسید به سرعت به یون بیکربنات و هیدروژن تجزیه می‌شود. یون بیکربنات از گویچه قرمز خارج و به خوناب وارد می‌شود. با رسیدن به شش‌ها، کربن دی‌اکسید از ترکیب یون بیکربنات آزاد می‌شود و از آنجا به هوا انتشار می‌یابد.

بیشتر بدانید

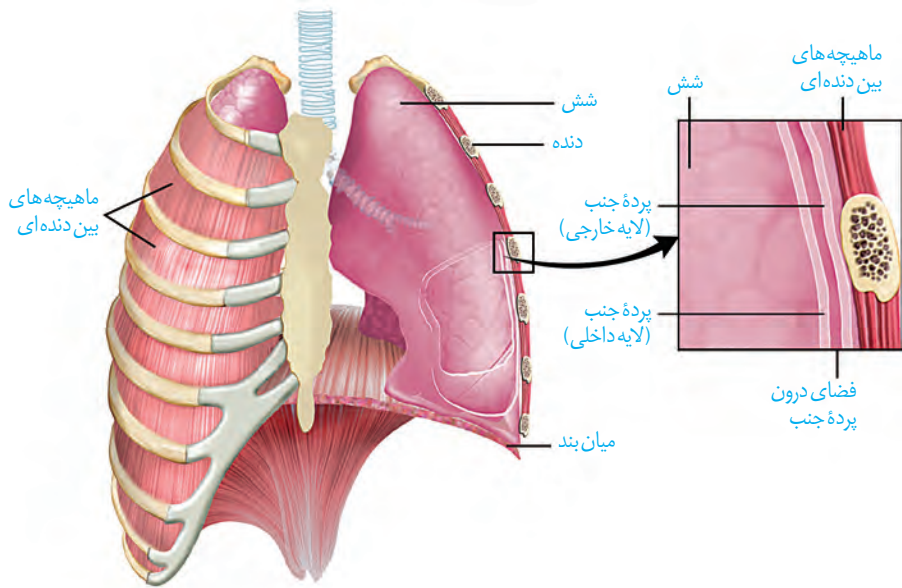
گاز کربن مونوکسید، بدون رنگ، بوی طعم است و بنابراین وجود آن در محیط، قابل تشخیص نیست؛ به همین علت آن را **قاتل خاموش** می‌نامند. این گاز در دود حاصل از سوختن ناقص سوخت‌های فسیلی مثل نفت و گاز پدید می‌آید. به همین علت، اطمینان پیدا کردن از خروج دود از وسایلی که از سوخت فسیلی، به‌ویژه گاز استفاده می‌کنند کاملاً ضرورت دارد.

تهویه ششی شامل دو فرایند دم و بازدم است. برای درک چگونگی دم و بازدم، لازم است ابتدا با ساختار و عمل شش‌ها آشنا شویم.

شش‌ها

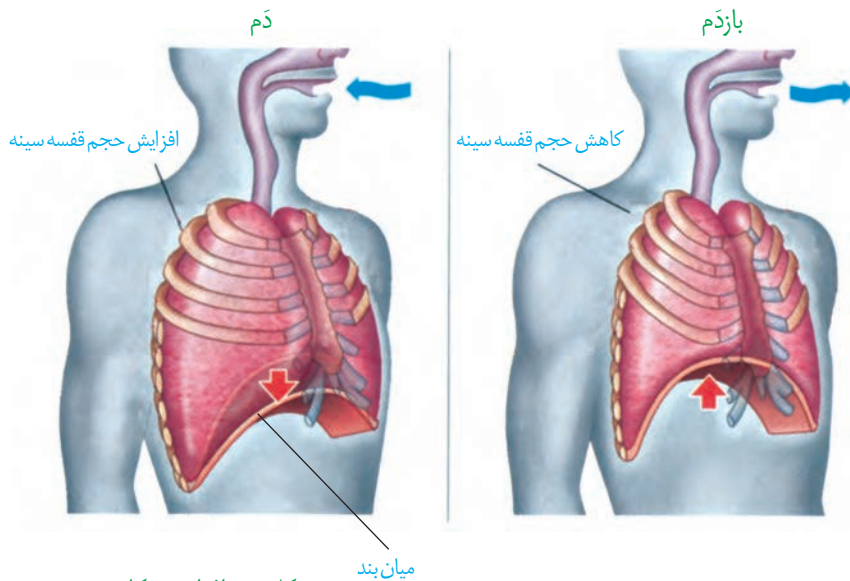
شش‌ها درون قفسه سینه و روی پرده ماهیچه‌ای میان‌بند قرار دارند. شش چپ به علت مجاورت با قلب، از شش راست قدری کوچک‌تر است. بیشتر حجم شش‌ها را کیسه‌های حبابکی به خود اختصاص داده‌اند و ساختاری اسفنج‌گونه را به شش می‌دهند. مویرگ‌های خونی فراوان، که اطراف کیسه‌های حبابکی را همچون تار عنکبوت احاطه کرده، دیگر بخش فراوان در شش‌ها است. بنابراین شش را می‌توان عمدتاً مجموعه‌ای از نایزه‌ها، نایزک‌ها، کیسه‌های حبابکی و رگ‌ها دانست که از بیرون بافت پیوندی آن را احاطه می‌کند.

هر یک از شش‌ها را پرده‌ای دولایه به نام **پرده جنب** فراگرفته است (شکل ۱۲). یکی از لایه‌های این پرده، به سطح شش چسبیده و لایه دیگر به سطح درونی قفسه سینه متصل است. درون پرده جنب، فضای اندکی است که از مایعی به نام **مایع جنب**، پر شده است. فشار این مایع از فشار جو کمتر است و باعث می‌شود شش‌ها در حالت بازدم، کاملاً جمع نشوند، در صورتی که قسمتی از قفسه سینه سوراخ شود، شش‌ها جمع می‌شوند.



شکل ۱۲- شش‌ها و قفسه سینه

شش‌ها دو ویژگی مهم دارند: یکی **پیروی از حرکات قفسه سینه** و دیگری **ویژگی کشسانی**. هنگامی که حجم قفسه سینه افزایش می‌یابد، شش‌ها باز می‌شوند. در نتیجه، فشار هوای درون شش‌ها کم شده، هوای بیرون به درون شش‌ها کشیده می‌شود. اما باید توجه داشت که به علت ویژگی کشسانی، شش‌ها در برابر کشیده شدن، مقاومت نیز نشان می‌دهند و تمایل دارند به وضعیت اولیه خود بازگردند. ویژگی کشسانی شش‌ها در بازدم نقش مهمی دارد.



شکل ۱۳- افزایش و کاهش حجم قفسه سینه در دم و بازدم عادی

دم، فرایندی است که در نتیجه افزایش حجم قفسه سینه رخ می‌دهد. در این رویداد، دو عامل دخالت دارد. اول، ماهیچه میان‌بند (دیافراگم) که در حالت استراحت، گنبدی شکل است، اما وقتی منقبض می‌شود، به حالت مسطح در می‌آید. دوم، انقباض ماهیچه‌های بین دنده‌ای خارجی که دنده‌ها را به سمت بالا و جلو جابه‌جا می‌کند و جناغ را به جلو می‌راند (شکل ۱۳). در تنفس آرام و طبیعی، میان‌بند نقش اصلی را بر عهده دارد. در دم عمیق، انقباض ماهیچه‌های ناحیه گردن نیز، به افزایش حجم قفسه سینه کمک می‌کند.

با به استراحت در آمدن ماهیچه میان‌بند و ماهیچه‌های بین دنده‌ای خارجی، و بر اثر ویژگی کشسانی شش‌ها، حجم قفسه سینه و در نتیجه، حجم شش‌ها کاهش می‌یابد و هوای درون آنها به بیرون رانده می‌شود. در بازدم عمیق، انقباض ماهیچه‌های بین دنده‌ای داخلی و نیز ماهیچه‌های شکمی، به کاهش حجم قفسه سینه کمک می‌کند.

فعالیت

تشریح شش گوسفند

- ۱- ویژگی ظاهری: شش به علت دارا بودن کیسه‌های حبابکی فراوان، حالتی اسفنج گونه دارد. شش راست از شش چپ بزرگ‌تر است. شش راست از سه قسمت یا لپ (لوب) و شش چپ از دو قسمت تشکیل شده است.
 - ۲- تشخیص شش راست و چپ: اگر در نمونه‌ای که تهیه کرده‌اید مری نیز وجود دارد، به محل قرارگیری آن توجه کنید. نای در جلو و مری در پشت قرار گرفته است و به این ترتیب می‌توانید سطح جلویی و پشتی نای و شش‌ها (و در نتیجه راست و چپ آنها) را نیز مشخص کنید.
- مری را جدا کنید. برای تشخیص سطح جلویی و پشتی نای در حالتی که مری از آن جدا شده است، کافی است به یاد داشته باشید که غضروف‌های نای C شکل اند. این وضعیت باعث می‌شود که در نای، قسمت دهانه حرف C از سایر قسمت‌ها نرم‌تر باشد. بالمس کردن، این قسمت را پیدا کنید.



این قسمت، محل اتصال نای به مری و بنابراین سطح پشتی نای است.

۳- بررسی ویژگی کشسانی شش‌ها: با یک تلمبه از نای به درون شش‌ها بدمید و قابلیت کشسانی شش‌ها را مشاهده کنید.

۴- بررسی ساختارهای درونی: نای را از قسمت نرم آن (دهانه حرف C) در طول، برش دهید تا به نزدیکی شش‌ها برسید. در نای گوسفند، قبل از دو نایژه اصلی، یک انشعاب سوم هم مشاهده می‌شود که به شش راست می‌رود. مدخل این انشعاب و سپس نایژه‌های اصلی را مشاهده کنید.

برش طولی نای را از مدخل نایژه اصلی ادامه دهید. دقت کنید که بریدن نایژه اصلی به سادگی نای نیست و این به علت ساختار غضروف‌های نایژه است که در ابتدا به صورت حلقه کامل و بعد به صورت قطعه قطعه است. در طول نای، مدخل‌های نایژه‌های بعدی قابل مشاهده است.

اگر تکه‌ای از شش را ببرید، در مقطع آن سوراخ‌هایی را مشاهده می‌کنید که به سه گروه قابل تقسیم‌اند. نایژه‌ها، سرخرگ‌ها و سیاهرگ‌ها. لبه نایژه‌ها به علت دارا بودن غضروف، زبر است و به این ترتیب از رگ‌ها قابل تشخیص است. سرخرگ‌ها دیواره محکم‌تری نسبت به سیاهرگ‌ها دارند و به همین علت، برخلاف سیاهرگ‌ها دهانه آنها حتی در نبود خون هم باز است اما دهانه سیاهرگ‌ها در نبود خون بسته است.

اگر تکه‌ای از شش را ببرید و در ظرفی پر از آب بیندازید خواهید دید که روی سطح آب شناور می‌ماند. چرا؟

حجم‌های تنفسی

مقدار هوایی که به شش‌ها وارد یا از آن خارج می‌شود به چگونگی دم و بازدم ما بستگی دارد. بنابراین، حجم‌های مختلفی از هوا را می‌توان به شش وارد و یا از آن خارج کرد. حجم‌های تنفسی را با دستگاه دم‌سنج (اسپیرومتر) اندازه می‌گیرند. نموداری که دم‌سنج از دم و بازدم‌های فرد رسم می‌کند، دم‌نگاره (اسپیروگرام) نامیده می‌شود (شکل ۱۴). تحلیل دم‌نگاره در تشخیص درست بیماری‌های ششی کاربرد دارد.

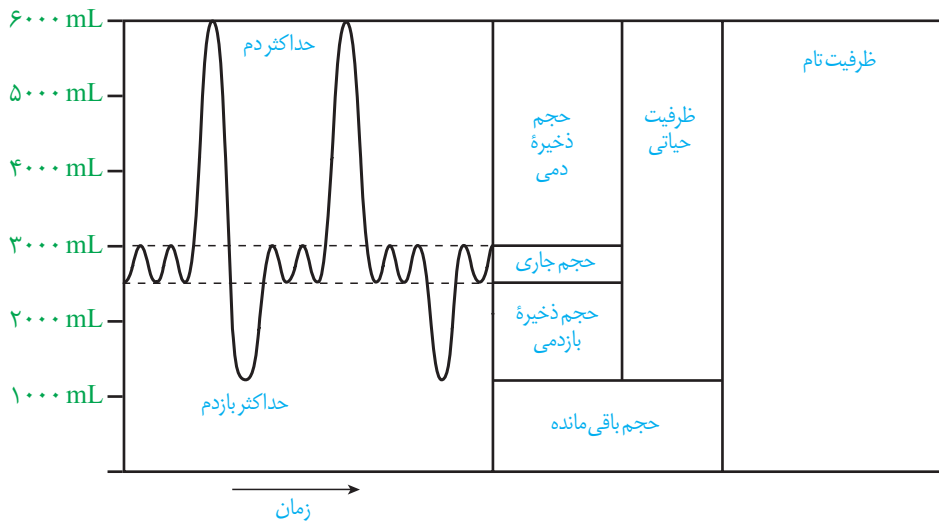
به مقدار هوایی که در یک دم عادی وارد یا در یک بازدم عادی خارج می‌شود **حجم جاری** می‌گویند. حجم جاری حدود ۵۰۰ mL است. از حاصل ضرب حجم جاری در تعداد تنفس در دقیقه، **حجم تنفسی در دقیقه** به دست می‌آید.

اما می‌دانیم که با دم یا بازدم عمیق می‌توانیم مقدار بیشتری هوا را به شش‌ها وارد یا از آنها خارج کنیم. **حجم ذخیره دمی**، به مقدار هوایی گفته می‌شود که می‌توان پس از یک دم معمولی، با یک دم عمیق به شش‌ها وارد کرد. **حجم ذخیره بازدمی**، به مقدار هوایی گفته می‌شود که می‌توان پس از یک بازدم معمولی با یک بازدم عمیق از شش‌ها خارج کرد. حتی بعد از یک بازدم عمیق، مقداری هوا در شش‌ها باقی می‌ماند و نمی‌توان آن را خارج کرد. این مقدار را **حجم باقی مانده** می‌نامند. حجم باقی مانده، اهمیت زیادی دارد؛ چون باعث می‌شود حبابک‌ها همیشه باز بمانند؛ همچنین تبادل گازها را در فاصله بین دو تنفس ممکن می‌کند.

باید توجه کرد که بخشی از هوای دم در بخش هادی دستگاه تنفس می ماند و به بخش مبادله ای نمی رسد. به این هوا که در حدود ۱۵۰ میلی لیتر است، **هوای مرده** می گویند. مقدار حجم ها در فرد سالم، به سن و جنسیت او بستگی دارد.

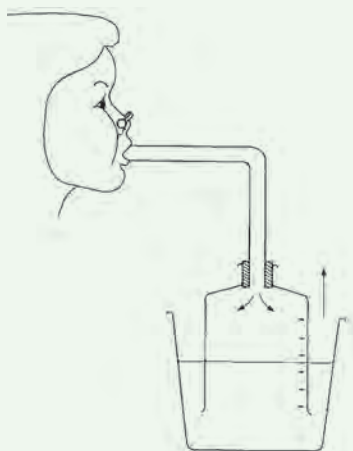
ظرفیت های تنفسی

ظرفیت تنفسی، مجموع دو یا چند حجم تنفسی است. ظرفیت حیاتی مقدار هوایی است که پس از یک دم عمیق و با یک بازدم عمیق می توان از شش ها خارج کرد و برابر با مجموع حجم های جاری، ذخیره دمی و ذخیره بازدمی است. **ظرفیت تام**، حداکثر مقدار هوایی است که شش ها می توانند در خود جای دهند و برابر است با مجموع ظرفیت حیاتی و حجم باقی مانده.



شکل ۱۴- دم سنج و دم نگاره

ظرفیت شش های افراد مختلف مساوی نیست. با ساختن دستگاهی مانند شکل زیر، می توانید گنجایش شش های خود و هم کلاسی هایتان را اندازه بگیرید. گنجایش ظرف وارونه، حداقل باید پنج لیتر باشد. در



ابتدا، ظرف را از آب پر و سپس در تشت وارونه کنید.

ابتدا نفس بسیار عمیقی بکشید و بعد تا جایی که می توانید در لوله فوت کنید. هنگام فوت کردن بینی خود را بگیرید.

۱- آیا عددی که در اینجا نشان داده می شود، ظرفیت واقعی شش های شماست؟

دلیل بیاورید.

۲- چگونه می توانید به کمک این دستگاه، مقدار هوای دم و بازدم خود را نیز اندازه

بگیرید؟

فعالیت

سایر اعمال دستگاه تنفس

تکلم: حنجره محل قرارگیری پرده‌های صوتی است. این پرده‌ها حاصل چین خوردگی مخاط به سمت داخل اند. پرده‌های صوتی صدا را تولید می‌کنند. شکل دهی به صدا به وسیلهٔ بخشی‌هایی مانند لب‌ها و دهان صورت می‌گیرد.

سرفه و عطسه: چنانچه ذرات خارجی یا گازهایی که ممکن است مضر یا نامطلوب باشند به مجاری تنفسی وارد شوند، باعث واکنش سرفه یا عطسه می‌شود؛ در این حالت هوا با فشار از راه دهان (سرفه) یا بینی و دهان (عطسه) همراه با مواد خارجی به بیرون رانده می‌شود (شکل ۱۵). در افرادی که دخانیات مصرف می‌کنند، به علت از بین رفتن یاخته‌های مؤکدار مخاط تنفسی، سرفه راه مؤثرتری برای بیرون راندن مواد خارجی است و به همین علت این‌گونه افراد به سرفه‌های مکرر مبتلا هستند.

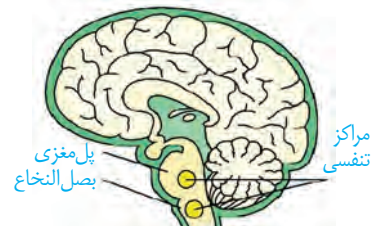


شکل ۱۵- عطسه یکی از سازوکارهای بیرون راندن مواد خارجی است.

تنظیم تنفس

دم، با انقباض میان بند و ماهیچه‌های بین دنده‌ای خارجی آغاز می‌شود. انقباض این ماهیچه‌ها با دستوری انجام می‌شود که از طرف مرکز تنفس در بصل النخاع صادر شده است (شکل ۱۶). با پایان یافتن دم، بازدم بدون نیاز به پیام عصبی، با بازگشت ماهیچه‌ها به حالت استراحت و نیز ویژگی کشسانی شش‌ها انجام می‌شود.

تنفس، مرکز دیگری هم دارد که در پل مغز، واقع است و با اثر بر مرکز تنفس در بصل النخاع، دم را خاتمه می‌دهد. مرکز تنفس در پل مغز می‌تواند مدت زمان دم را تنظیم کند. افزایش کربن دی اکسید و کاهش اکسیژن خون نیز از عوامل مؤثر در تنظیم تنفس اند.

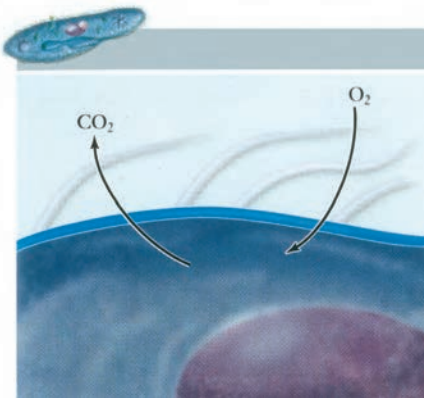


شکل ۱۶- مراکز عصبی تنفس

بیشتر بدانید

سکسکه دم عمیقی است که در نتیجه انقباض ناگهانی میان بند ایجاد می‌شود. این فرایند در نتیجه تحریک میان بند یا عصب مرتبط با آن آغاز می‌شود. صدای سکسکه وقتی ایجاد می‌شود که هوای دمی با پرده‌های صوتی برخورد می‌کند.

خمیازه دم بسیار عمیقی است که با باز شدن آرواره همراه است و نتیجه آن تهویه همهٔ حبابک‌هاست (در تنفس عادی طبیعی لزوماً چنین چیزی اتفاق نمی‌افتد). افزایش کربن دی اکسید از عوامل ایجاد خمیازه است.



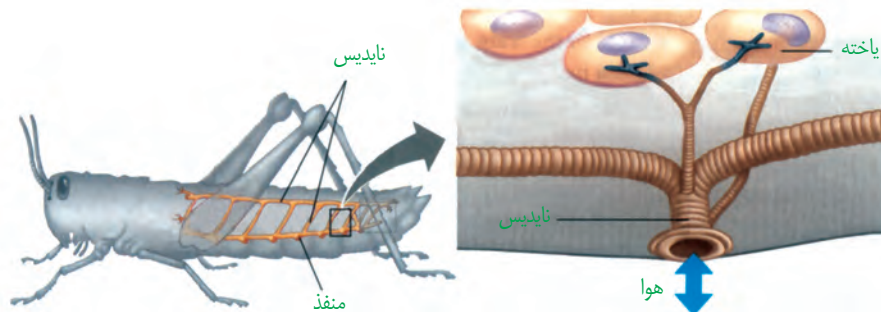
شکل ۱۷- تنفس از طریق انتشار در تک یاخته‌ای‌ها (پارامسی)

در تک یاخته‌ای‌ها (شکل ۱۷) و جانورانی مانند هیدر که همه یاخته‌های بدن می‌توانند با محیط تبادلات گازی داشته باشند، ساختار ویژه‌ای برای تنفس وجود ندارد؛ اما در سایر جانوران، ساختارهای تنفسی ویژه‌ای مشاهده می‌شود که ارتباط یاخته‌های بدن را با محیط فراهم می‌کنند. در این جانوران، چهار روش اصلی برای تنفس مشاهده می‌شود که عبارت‌اند از تنفس ناییدیسی، تنفس پوستی، تنفس آبششی و تنفس ششی.

تنفس ناییدیسی

نایدیس‌ها، لوله‌های منشعب و مرتبط به هم هستند که از طریق منافذ تنفسی به خارج راه دارند (شکل ۱۸). منافذ تنفسی در ابتدای نایدیس قرار دارند. نایدیس به انشعابات کوچک‌تری تقسیم می‌شود. انشعابات پایانی، که در کنار همه یاخته‌های بدن قرار می‌گیرند، بن بست بوده و دارای مایعی است که

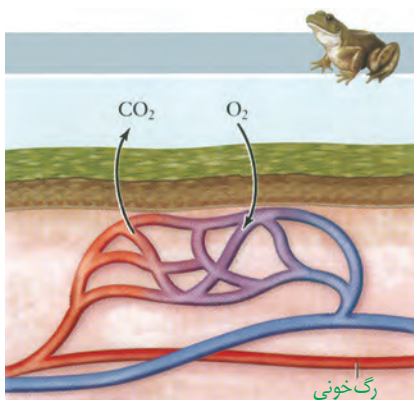
تبادلات گازی را ممکن می‌کند؛ حشرات چنین تنفسی دارند. در این جانوران دستگاه گردش مواد، نقشی در انتقال گازهای تنفسی ندارد.



شکل ۱۸- تنفس ناییدیسی

تنفس پوستی

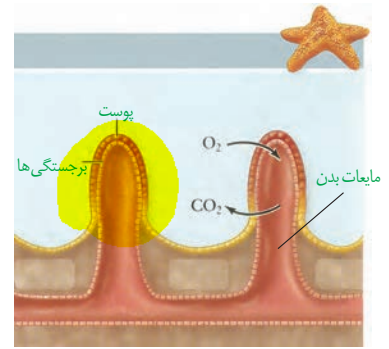
در تنفس پوستی شبکه مویرگی زیرپوستی با مویرگ‌های فراوان وجود دارد و گازها با محیط اطراف از طریق پوست مبادله می‌شوند. سطح پوست در جانورانی که تنفس پوستی دارند، مرطوب نگه داشته می‌شود. کرم خاکی تنفس پوستی دارد. تنفس پوستی در دوزیستان نیز وجود دارد (شکل ۱۹).



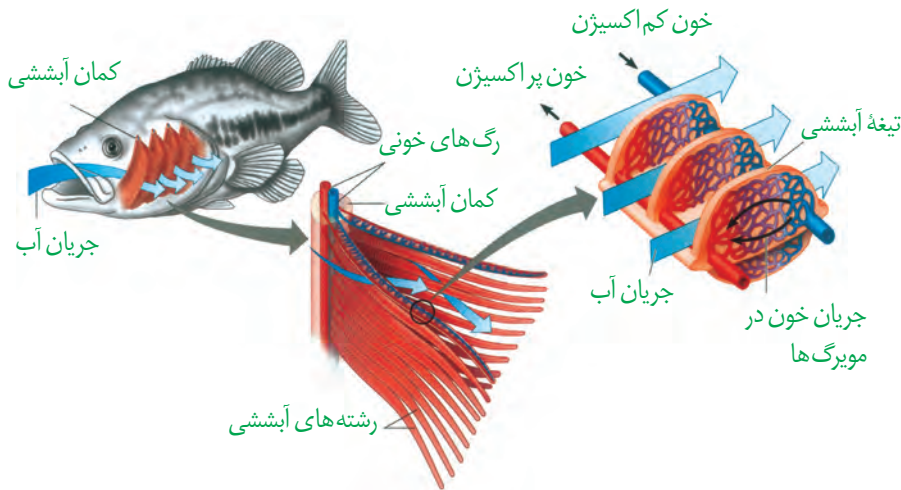
شکل ۱۹- تنفس پوستی

تنفس آبششی

ساده‌ترین آبشش‌ها، برجستگی‌های کوچک و پراکنده پوستی هستند، مانند آبشش‌های ستاره دریایی (شکل ۲۰). در سایر بی‌مهرگان، آبشش‌ها به نواحی خاص محدود می‌شوند. ماهیان و نوزاد دوزیستان نیز آبشش دارند (شکل ۲۱). تبادل گاز از طریق آبشش، بسیار کارآمد است. جهت حرکت خون در مویرگ‌ها، و عبور آب در طرفین تیغه‌های آبششی، برخلاف یکدیگر است.




شکل ۲۰- ساده‌ترین آبشش در ستاره دریایی



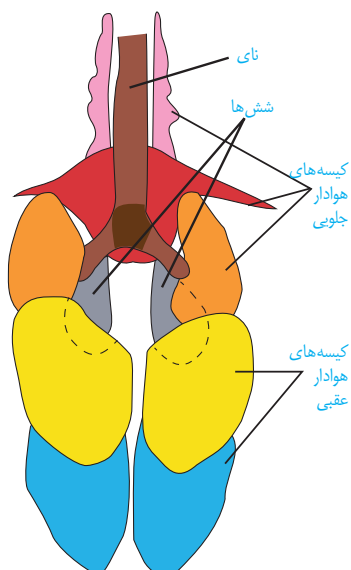
شکل ۲۱- تنفس آبششی در ماهی. به تفاوت جهت حرکت آب و خون دقت کنید.

تنفس شش

حلزون‌ازبی‌مهرگان خشکی‌زی است که برای تنفس، از شش استفاده می‌کند. در مهره‌داران شش‌دار ساز و کارهایی وجود دارد که باعث می‌شود جریان پیوسته‌ای از هوای تازه در مجاورت بخش مبادله‌ای برقرار شود. این ساز و کارها به ساز و کارهای تهویه‌ای شهرت دارند. مهره‌داران دو نوع ساز و کار متفاوت در تهویه دارند؛ مثلاً قورباغه به کمک ماهیچه‌های

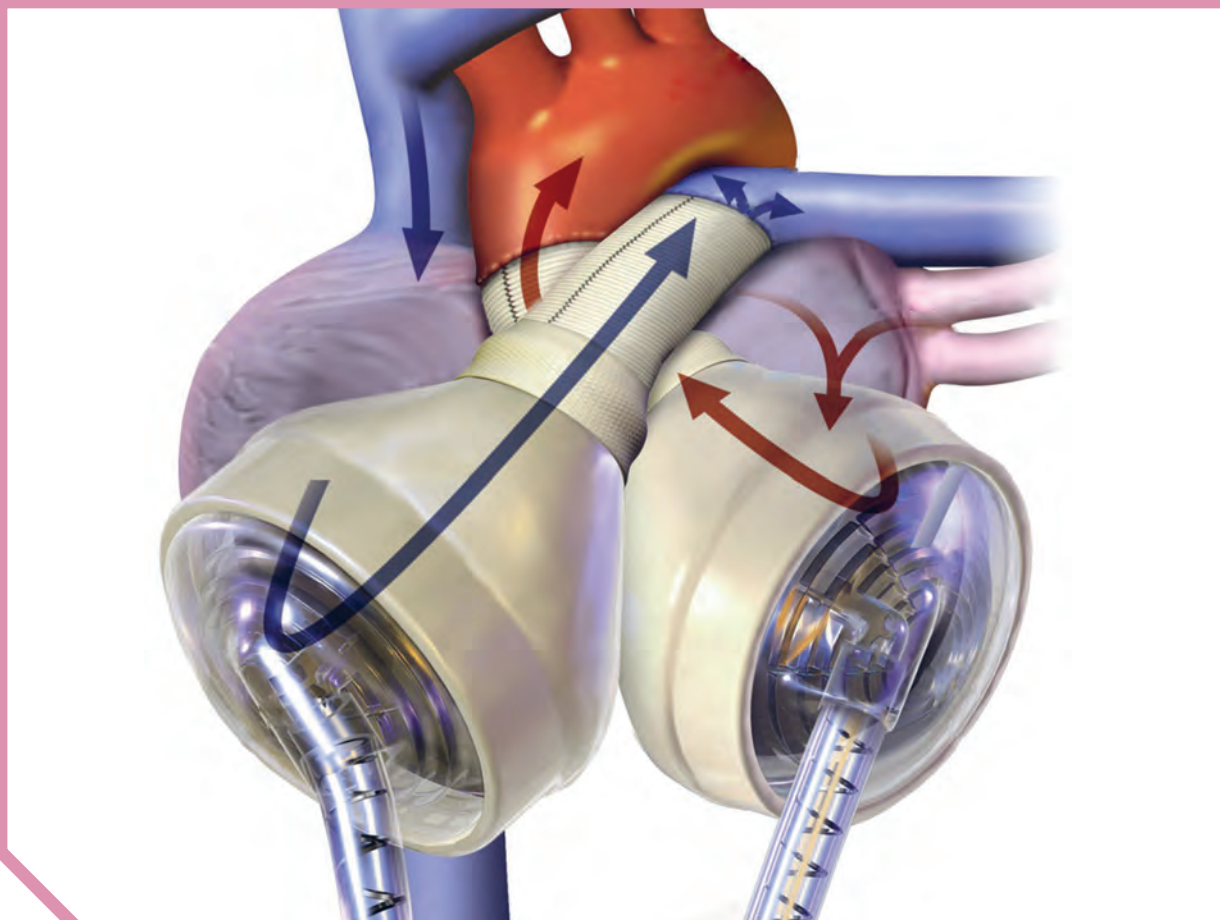


شکل ۲۲- پمپ فشار مثبت در قورباغه



دهان و حلق، با حرکتی شبیه «قورت دادن» هوا را با فشار به شش‌ها می‌رانند؛ به این ساز و کار پمپ فشار مثبت می‌گویند (شکل ۲۲). در انسان ساز و کار فشار منفی وجود دارد که در آن، هوا به وسیله مکش حاصل از فشار منفی قفسه سینه، به شش‌ها وارد می‌شود. پرنندگان به علت پرواز، نسبت به سایر مهره‌داران انرژی بیشتری مصرف می‌کنند و بنابراین به اکسیژن بیشتری نیاز دارند. پرنندگان علاوه بر شش، دارای ساختارهایی به نام کیسه‌های هوادار هستند که کارایی تنفس آنها را نسبت به پستانداران افزایش می‌دهد (شکل ۲۳).

شکل ۲۳- دستگاه تنفسی در پرنندگان



فصل ۴

گردش مواد در بدن

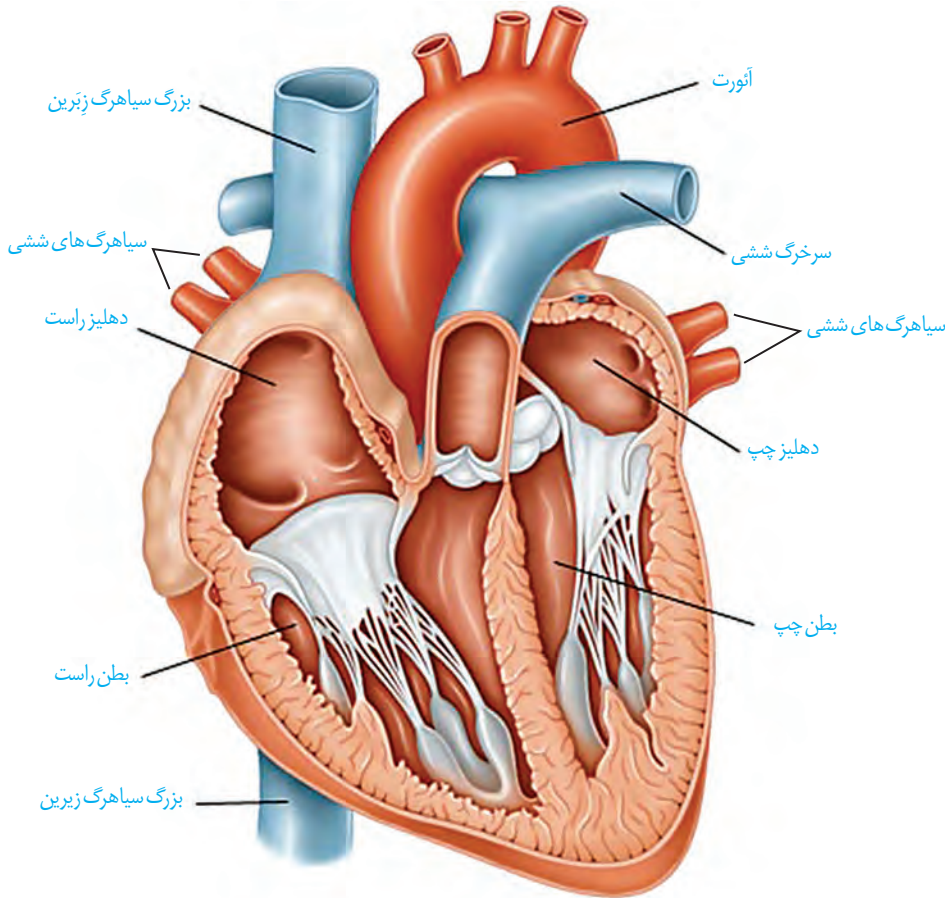
دومین عمل موفقیت آمیز پیوند قلب مصنوعی در ایران در سال ۱۳۹۴ در بیمارستان قلب شهید رجایی تهران روی مردی ۵۹ ساله انجام شد که سه بار سکتته کرده و برون ده قلبی او به ۱۰ درصد رسیده بود. فشار خون و چگونگی اندازه گیری آن در بیشتر خانواده ها مطرح است. شاید شما هم این جملات را شنیده باشید: شخصی پس از مراجعه برای رگ نگاری (آنژیوگرافی)، متوجه شده است که چند تا از رگ های اکلیلی (کرونر) قلبش گرفته است و باید عمل کند. رفتم آزمایش خون دادم چربی خونم بالاست. خون بهر (هماتوکریت) من طبیعی است.

منظور از رگ نگاری، رگ های اکلیلی، قلب مصنوعی، برون ده قلب و... چیست؟ آیا همه جانداران گردش مواد دارند؟ گردش مواد در انسان با بقیه مهره داران چه تفاوتی دارد؟ در این فصل با آشنایی بیشتر با دستگاه گردش مواد در انسان و بعضی جانوران، پاسخ بسیاری از پرسش ها را خواهید یافت.



گفتار ۱ قلب

در سال‌های گذشته آموختید که دستگاه گردش مواد در انسان، از قلب، رگ‌ها و خون تشکیل شده است. در شکل ۱، بخش‌های تشکیل دهنده قلب و رگ‌های متصل به آن را می‌بینید.

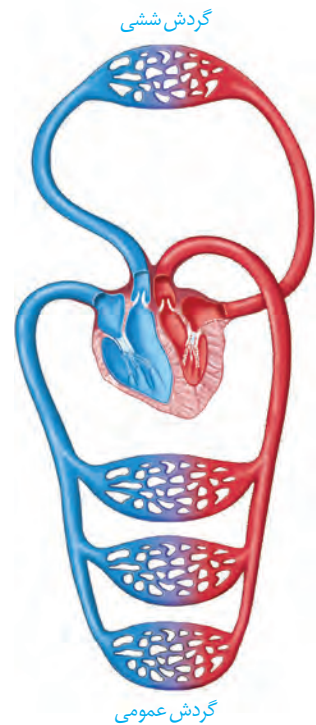


واژه‌شناسی

اکلیلی (Coronary / کرونر)

کلمه کرونر به معنای تاجی است و به رگ‌های غذا دهنده قلب گفته می‌شود. کلمه اکلیلی نیز به همین معنی است و در آن از کلمه اکلیل به معنای تاج و پسوند (ی) استفاده شده است.

شکل ۱- قلب و رگ‌های متصل به آن



شکل ۲- گردش خون عمومی و ششی

با گردش خون عمومی و ششی آشنا هستید. با توجه به شکل ۲، مسیر هر کدام را در بدن مشخص، و هدف دو نوع گردش خون را با هم مقایسه کنید. با توجه به آنچه قبلاً آموختید، در گروه‌های درسی خود در مورد پرسش‌های زیر با همدیگر گفت‌وگو کنید و پاسخ مناسبی برای آنها بیابید:

- هر دهلیز خون را از کجا دریافت می‌کند؟
- هر بطن خون را به کجا می‌فرستد؟
- خون طرف چپ و راست قلب، با هم چه تفاوت‌هایی دارد؟
- چرا ضخامت دیواره بطن‌های چپ و راست با هم متفاوت است؟

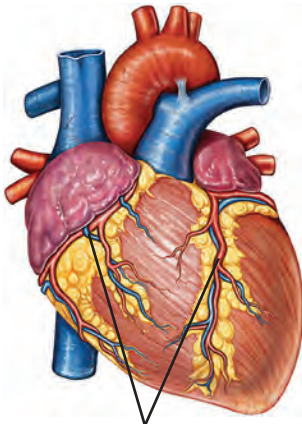
تأمین اکسیژن و مواد مغذی قلب

خونی که از درون قلب عبور می‌کند، نمی‌تواند نیازهای تنفسی و غذایی قلب را برطرف کند. به همین دلیل ماهیچه قلب با رگ‌های ویژه‌ای به نام سرخرگ‌های اکلیلی (کرونی) که از آئورت منشعب شده‌اند، تغذیه می‌شود. این رگ‌ها پس از رفع نیاز یاخته‌های قلبی، با هم یکی می‌شوند و به صورت سیاهرگ اکلیلی به دهلیز راست متصل می‌شوند. بسته شدن این سرخرگ‌ها توسط لخته یا سخت شدن دیواره آنها (تصلب شریین)، ممکن است باعث سکته قلبی شود؛ چون در این حالت به بخشی از ماهیچه قلب، اکسیژن نمی‌رسد و یاخته‌های آن می‌میرند (شکل ۳).

دریچه‌های قلب

وجود دریچه‌ها در هر بخشی از دستگاه گردش مواد باعث یک طرفه شدن جریان خون در آن قسمت می‌شود. در ساختار دریچه‌ها، بافت ماهیچه‌ای به کار نرفته بلکه همان بافت پوششی است که چین خورده است و دریچه‌ها را می‌سازد؛ وجود بافت پیوندی در این دریچه‌ها به استحکام آنها کمک می‌کند. ساختار خاص دریچه‌ها و تفاوت فشار در دو طرف آنها، باعث باز یا بسته شدن دریچه‌ها می‌شود.

بین دهلیز و بطن دریچه‌ای هست که در هنگام انقباض بطن؛ از بازگشت خون به دهلیز، جلوگیری می‌کند. دریچه بین دهلیز و بطن چپ را دریچه دولختی می‌گویند، زیرا از دو قطعه آویخته تشکیل شده است. بین دهلیز و بطن راست، دریچه سه‌لختی قرار دارد. در ابتدای سرخرگ‌های خروجی از بطن‌ها، دریچه‌های سینی قرار دارند که از بازگشت خون به بطن‌ها جلوگیری می‌کنند (شکل ۴).



سرخرگ و سیاهرگ اکلیلی

شکل ۳- رگ‌های اکلیلی قلب

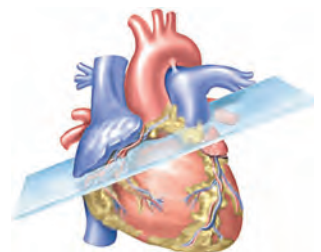
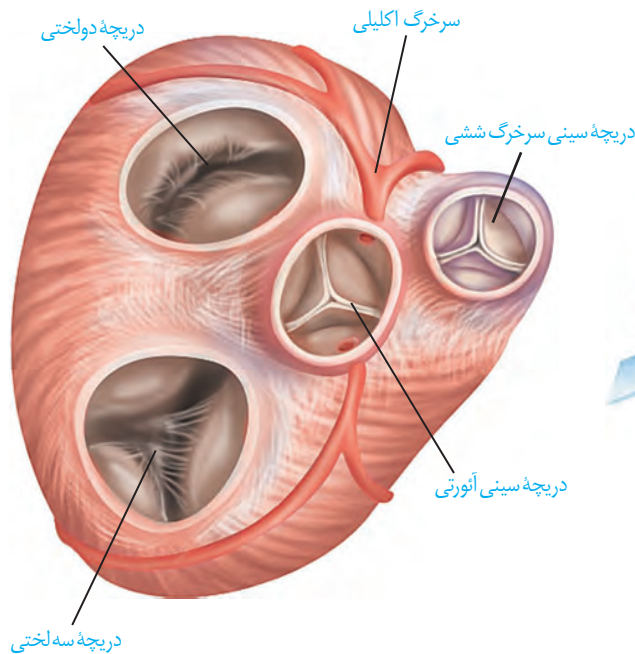
بیشتر بدانید

پژواک نگاری قلب (اکوکاردیوگرافی)

با استفاده از پژواک نگاری قلب می‌توان نمایی از دیواره‌های قلبی، دریچه‌ها و ابتدای سرخرگ‌های بزرگ را به دست آورد.

در این روش، از امواج صوتی ساده استفاده می‌شود و هیچ‌گونه پرتو یا موج خطرناکی به فرد انتقال پیدا نمی‌کند. در نوع ساده پژواک نگاری از زوایای مختلف قلب، تصویری ساده تهیه می‌شود. در پژواک نگاری دو بُعدی تصویر با جزئیات بیشتری مشخص می‌شود و برای اندازه‌گیری اندازه قلب، اجزا و میزان کارایی آنها مورد استفاده قرار می‌گیرد.

پژواک نگاری دوپلر برای اندازه‌گیری سرعت جریان خون در داخل قلب و رگ‌های بزرگ، تصاویر رنگی (قرمز و آبی) ایجاد می‌کند که شاید بهترین و دقیق‌ترین روش در ارزیابی ناهنجاری‌های مادرزادی قلبی و اشکالات دریچه‌ای باشد.



شکل ۴- دریچه‌های قلب

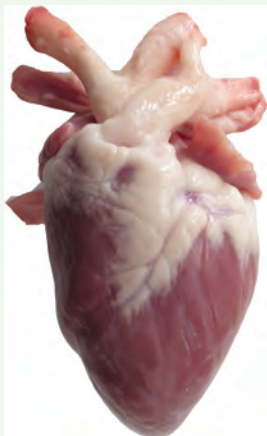
صداهای قلب

اگر گوش خود را به سمت چپ قفسه سینه کسی بچسبانید یا گوشی پزشکی را روی قفسه سینه خود یا شخصی دیگر قرار دهید، صداهای قلب را می شنوید.

صدای اول (پوم) قوی، گنگ و طولانی تر است و به بسته شدن دریچه های دولختی و سه لختی هنگام شروع انقباض بطن ها مربوط است. صدای دوم (تاک) واضح و کوتاه تر و مربوط به بسته شدن دریچه های سینی ابتدای سرخرگ ها است که با شروع استراحت بطن، همراه است و زمانی شنیده می شود که خون وارد شده به سرخرگ های ائورت و ششی، قصد برگشت به بطن ها را دارد و با بسته شدن دریچه های سینی، جلوی آن گرفته می شود. متخصصان با گوش دادن دقیق به صداهای قلب و نظم آنها، از سالم بودن قلب آگاه می شوند. در برخی بیماری ها به ویژه اختلال در ساختار دریچه ها، بزرگ شدن قلب یا نقایص مادرزادی مثل کامل نشدن دیواره میانی حفره های قلب، ممکن است صداهای غیرعادی شنیده شود.

فعالیت

تشریح قلب گوسفند



سطح شکمی قلب



سطح پشتی قلب

وسایل و مواد لازم: قلب سالم گوسفند، تشتک تشریح، قیچی،

گمانه (سوند) شیاردار

الف) مشاهده شکل ظاهری: سطح پشتی، شکمی، چپ و راست قلب را مشخص کنید.

ضخامت دیواره قلب در بطن ها را با هم مقایسه کنید. چرا بطن چپ، دیواره قطورتری دارد؟

– رگ های اکیلی را مشاهده و آنها را در جلو و عقب قلب، مقایسه کنید.

– در بالای قلب، سرخرگ ها و سیاهرگ ها قابل مشاهده اند. دیواره سرخرگ ها و

سیاهرگ ها را با هم مقایسه کنید.

– با وارد کردن سوند یا مداد به داخل رگ ها و اینکه به کجا می روند، می توان آنها را از

یکدیگر تمیز داد.

ب) مشاهده بخش های درونی قلب

– سوند شیاردار را از دهانه سرخرگ ششی به بطن راست وارد کنید. دیواره سرخرگ و بطن

را در امتداد سوند، با قیچی ببرید. با باز کردن آن، دریچه سینی، سه لختی، برآمدگی های

ماهیچه ای و طناب های ارتجاعی را می توان دید.

– به همین روش، سرخرگ ائورت و بطن چپ را شکاف دهید و جزئیات بطن چپ را

مشاهده کنید.

– در ابتدای سرخرگ ائورت، بالای دریچه سینی، می توانید دو ورودی سرخرگ های

اکیلی را ببینید.

– با عبور دادن سوند از میان دریچه‌های دولختی و سه‌لختی به سمت بالا و بریدن دیواره در مسیر سوند، می‌توانید دیواره داخلی دهلیزها و سیاهرگ‌های متصل به آنها را بهتر ببینید.
به دهلیز چپ، چهار سیاهرگ ششی و به دهلیز راست، سیاهرگ‌های زیرین، زیرین و سیاهرگ اکلیلی وارد می‌شود. اگر رگ‌های قلب از ته بریده نشده باشد، با سوند به راحتی می‌توان آنها را تشخیص داد.

ساختار بافتی قلب

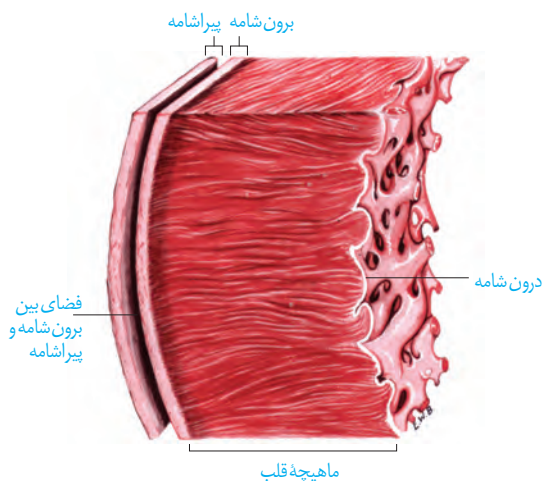
قلب اندامی ماهیچه‌ای است و دیواره آن سه لایه دارد (شکل ۵). داخلی‌ترین لایه آن **درون شامه** و شامل یک لایه نازک بافت پوششی است که زیر آن، بافت پیوندی وجود دارد. این بافت درون شامه را به لایه میانی یا ماهیچه‌ای قلب می‌چسباند. درون شامه در تشکیل دریچه‌های قلب نیز شرکت می‌کند.

لایه میانی ضخیم‌ترین لایه قلب است که **ماهیچه قلب** نیز نامیده می‌شود. این لایه بیشتر از یاخته‌های ماهیچه‌ای قلبی تشکیل شده است. بین این یاخته‌ها، بافت پیوندی متراکم نیز قرار دارد. بسیاری از یاخته‌های ماهیچه‌ای قلب به رشته‌های کلاژن موجود در این بافت پیوندی متصل هستند. بافت پیوندی متراکم باعث استحکام دریچه‌های قلبی می‌شود.

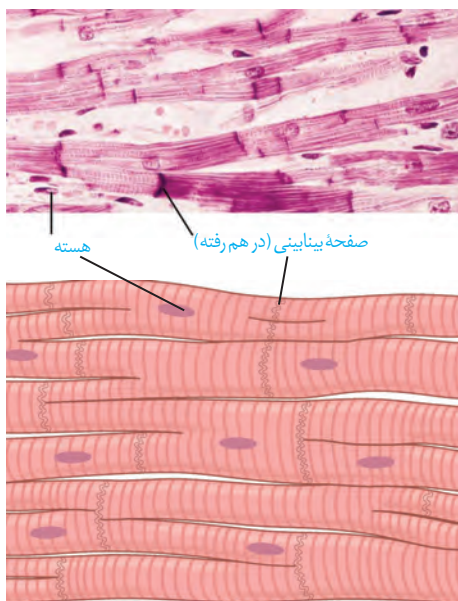
بیرونی‌ترین لایه دیواره قلب **برون شامه** است. این لایه روی خود برمی‌گردد و **پیراشامه** را به وجود می‌آورد. برون شامه و پیراشامه از بافت پوششی سنگ فرشی و بافت پیوندی متراکم تشکیل شده‌اند. بین برون شامه و پیراشامه فضایی وجود دارد که با مایع پر شده است. این مایع ضمن محافظت از قلب، به حرکت روان آن کمک می‌کند.

ساختار ماهیچه قلب

ماهیچه قلبی، ترکیبی از ویژگی‌های ماهیچه اسکلتی و صاف دارد. همانند ماهیچه اسکلتی، دارای ظاهری مخطط است. از طرف دیگر همانند یاخته‌های ماهیچه صاف، به طور غیرارادی منقبض می‌شوند. یاخته‌های آن بیشتر یک هسته‌ای و بعضی دو هسته‌ای‌اند. یکی از ویژگی‌های یاخته‌های ماهیچه‌ای قلب ارتباط آنها از طریق **صفحات بینابینی** (در هم رفته) است. ارتباط یاخته‌ای در این صفحات به گونه‌ای است که باعث می‌شود پیام انقباض و استراحت به سرعت بین یاخته‌های ماهیچه قلب منتشر شود و قلب در انقباض و استراحت مانند یک توده یاخته‌ای واحد عمل کند (شکل ۶). البته در محل ارتباط ماهیچه‌دهلیزها به ماهیچه بطن‌ها، بافت پیوندی عایقی وجود دارد که مانع از انقباض هم‌زمان دهلیزها و بطن‌ها می‌شود.

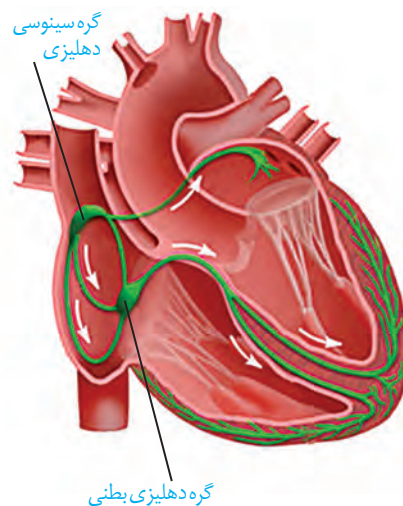


شکل ۵- ساختار بافتی قلب



شکل ۶- ساختار ماهیچه قلب و ارتباط‌های یاخته‌ای آن

شبکه هادی قلب



شکل ۷- شبکه هادی قلب؛ شبکه هادی به رنگ سبز نمایش داده شده است.

بعضی یاخته‌های ماهیچه قلب ویژگی‌هایی دارند که آنها را برای تحریک خودبه‌خودی قلب اختصاصی کرده است. پراکندگی این یاخته‌ها به صورت شبکه‌ای از رشته‌ها و گره‌ها در بین سایر یاخته‌هاست که به مجموع آنها شبکه هادی قلب می‌گویند. یاخته‌های این شبکه با دیگر یاخته‌های ماهیچه قلبی ارتباط دارند. در این شبکه پیام‌های الکتریکی برای شروع انقباض ماهیچه قلبی ایجاد می‌شوند و به سرعت در همه قلب گسترش می‌یابند.

شبکه هادی قلب شامل دو گره و دسته‌هایی از تارهای تخصص یافته برای ایجاد و هدایت سریع جریان الکتریکی است. گره اول یا گره سینوسی - دهلیزی در دیواره پستی دهلیز راست و زیر منفذ بزرگ سیاهرگ زبرین قرار دارد. این گره بزرگ‌تر و شروع‌کننده پیام‌های الکتریکی است، به همین دلیل به آن پیشاهنگ یا ضربان‌ساز می‌گویند. گره دوم یا گره دهلیزی - بطنی در دیواره پستی دهلیز راست، و در عقب دریچه سه لختی است. ارتباط بین این دو گره از طریق رشته‌های شبکه هادی انجام می‌شود که جریان الکتریکی ایجاد شده در گره پیشاهنگ را به گره دوم منتقل می‌کند. پس از گره دهلیزی بطنی رشته‌هایی از بافت هادی که در دیواره بین دو بطن وجود دارند به دو مسیر راست و چپ تقسیم می‌شوند و جریان الکتریکی را در بطن‌ها پخش می‌کنند. در نتیجه پیام الکتریکی به یاخته‌های ماهیچه قلبی منتقل می‌شود و بطن‌ها به طور هم‌زمان منقبض می‌شوند (شکل ۷).

فعالیت

با توجه به شکل بافت گرهی در قلب، اهمیت دو مورد زیر را در کار

قلب توضیح دهید:

- ۱- فرستادن پیام از گره دهلیزی بطنی به درون بطن، با فاصله زمانی انجام می‌شود.
- ۲- انقباض بطن‌ها از قسمت پایین آنها شروع می‌شود و به سمت بالا ادامه می‌یابد.

چرخه ضربان قلب

قلب تقریباً در هر ثانیه، یک ضربان دارد و ممکن است در یک فرد با عمر متوسط در طول عمر، نزدیک به سه میلیارد بار منقبض شود، بدون اینکه مانند ماهیچه‌های اسکلتی بتواند استراحتی پیوسته داشته باشد.

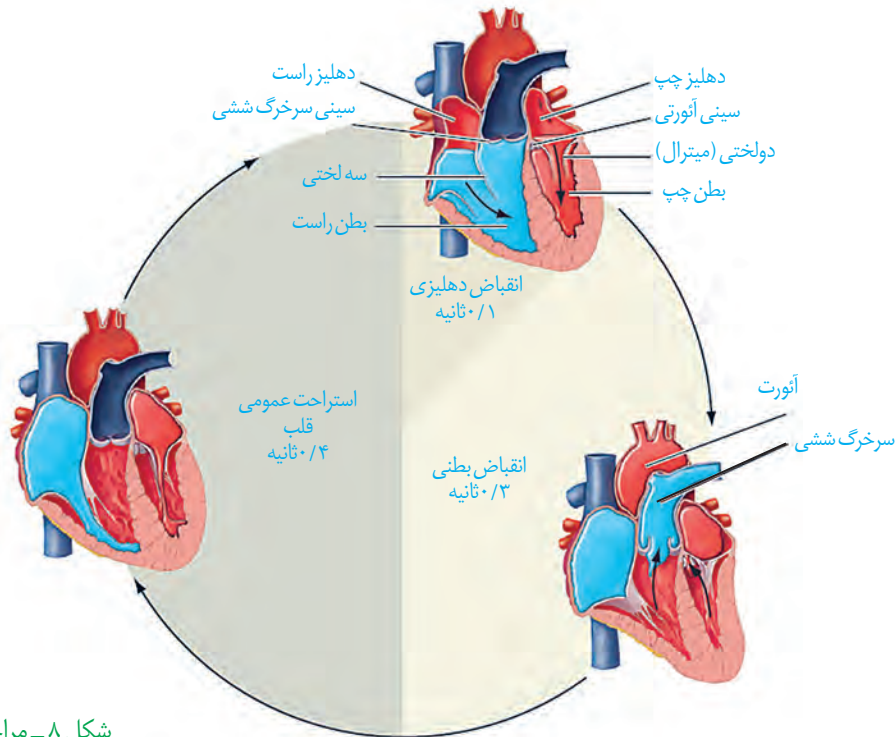
استراحت (دیاستول) و انقباض (سیستول) قلب را، که به طور متناوب انجام می‌شود، چرخه یا دوره قلبی می‌گویند. در هر چرخه، قلب با خون سیاهرگ‌ها پر، و سپس منقبض می‌شود و خون را به سراسر بدن می‌فرستد. در هر چرخه، این مراحل دیده می‌شود (شکل ۸).

بیشتر بدانید

آزمون ورزش (تست ورزش)

یکی از راه‌های بررسی عملکرد قلب آزمون ورزش است. در این روش فعالیت راه رفتن و یا دویدن بر روی یک نقاله متحرک، شبیه‌سازی می‌شود. فشارخون و نوار قلب فرد را در این حالت اندازه‌گیری و ثبت می‌کنند. پزشک متخصص با بررسی و تفسیر نتایج به سالم بودن قلب یا وجود تنگی در رگ‌های اکلیلی قلب پی می‌برد و با انجام روش‌های دیگر راتوصیه می‌کند.

- ۱- استراحت عمومی:** تمام قلب در حال استراحت است. خون بزرگ سیاهرگ‌ها وارد دهلیز راست و خون سیاهرگ‌های ششی به دهلیز چپ وارد می‌شود. زمان: حدود ۰/۴ ثانیه
- ۲- انقباض دهلیزی:** بسیار زودگذر است و انقباض دهلیزها صورت می‌گیرد و با انجام آن، بطن‌ها به طور کامل با خون پر می‌شوند. زمان: حدود ۰/۱ ثانیه
- ۳- انقباض بطنی:** انقباض بطن‌ها صورت می‌گیرد و خون از طریق سرخرگ‌ها به همه قسمت‌های بدن ارسال می‌شود. زمان: حدود ۰/۳ ثانیه



شکل ۸- مراحل چرخه ضربان قلب

فعالیت

با توجه به چرخه ضربان قلب، به موارد زیر پاسخ دهید:
 الف) در هر مرحله از چرخه قلبی، وضعیت دریچه‌های قلبی را بررسی، و باز یا بسته بودن آنها را مشخص کنید.

ب) با توجه به زمان‌های مشخص شده در چرخه قلبی، تعداد ضربان طبیعی قلب را در دقیقه محاسبه کنید.

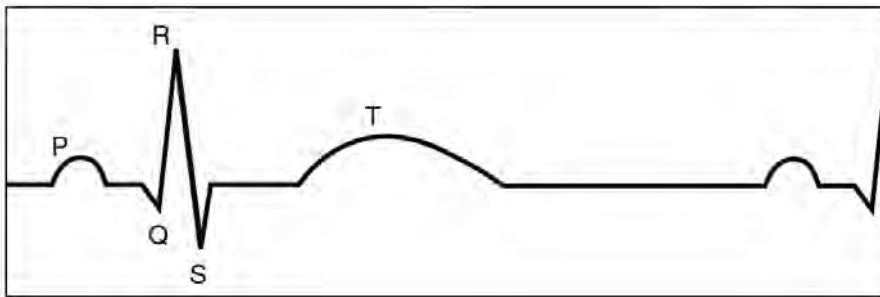
برون‌ده قلبی

حجم خونی که در هر انقباض بطنی از یک بطن خارج و وارد سرخرگ می‌شود، **حجم ضربه‌ای** نامیده می‌شود. اگر این مقدار را در تعداد ضربان قلب در دقیقه ضرب کنیم، **برون‌ده قلبی** به دست می‌آید. برون‌ده قلبی متناسب با سطح فعالیت بدن تغییر می‌کند و عواملی مانند سوخت و ساز پایه بدن، مقدار فعالیت بدنی، سن و اندازه بدن، در آن مؤثر است. میانگین برون‌ده قلبی در بزرگسالان در حالت استراحت حدود پنج لیتر در دقیقه است.

گفتیم که برون‌ده قلبی در بزرگسالان، در حالت استراحت حدود پنج لیتر در دقیقه است. با توجه به تعداد ضربان قلب در دقیقه، حجم ضربه‌ای را بر حسب میلی لیتر محاسبه کنید.

نوار قلب چه می‌گوید؟

شاید تا به حال نوار قلب کسی را دیده باشید. منحنی رسم شده، نشانگر چیست؟
 یاخته‌های ماهیچه قلبی در هنگام چرخه ضربان قلب، فعالیت الکتریکی را نشان می‌دهند. جریان الکتریکی حاصل از فعالیت قلب را می‌توان در سطح پوست دریافت و به صورت نوار قلب ثبت کرد.
 نوار قلب شامل سه موج P، QRS و T است (شکل ۹). فعالیت الکتریکی دهلیزها به شکل موج P و فعالیت الکتریکی بطن‌ها به شکل موج QRS ثبت می‌شود. انقباض هریک از این بخش‌ها، اندکی پس از شروع فعالیت الکتریکی آن بخش است. موج T اندکی پیش از پایان انقباض بطن‌ها و بازگشت آنها به حالت استراحت ثبت می‌شود.
 بررسی تغییراتی که در نوار قلب رخ می‌دهد، می‌تواند به متخصصان در تشخیص بیماری‌های قلبی کمک کند.



شکل ۹- نوار قلب

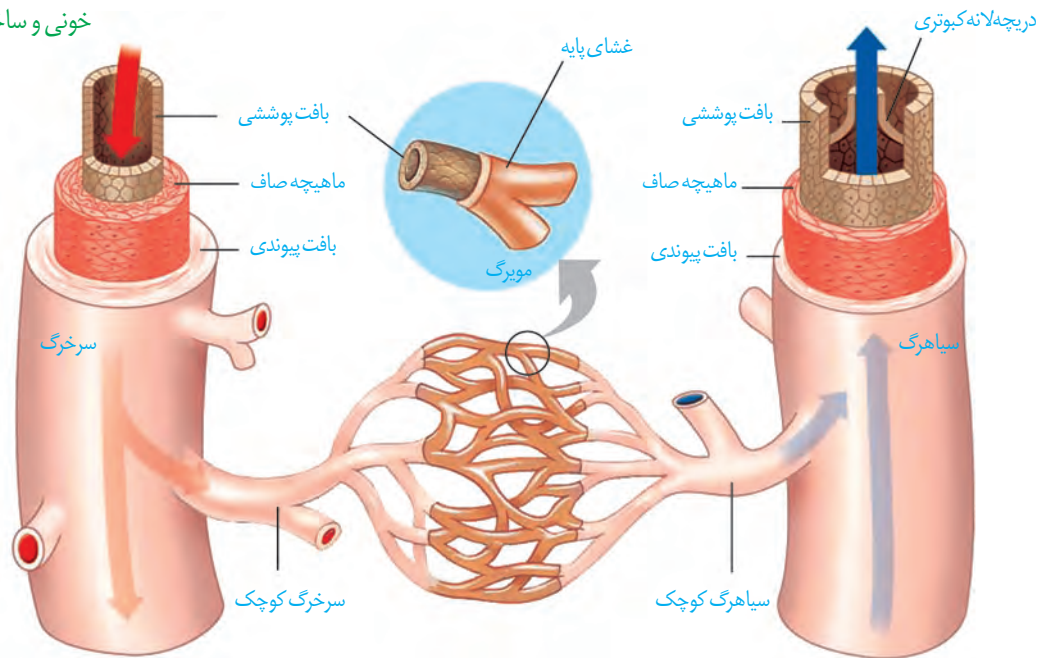
بیشتر بدانید

اسکن قلب

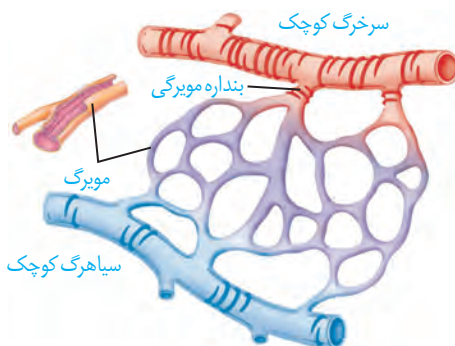
این روش برای تشخیص خون‌رسانی سرخرگ‌های اکلیلی قلب در دو حالت همراه با آزمون ورزش و استراحت انجام می‌شود. فرد مدتی بر روی نقاله متحرک می‌دود، سپس یک رادیودارو به یکی از سیاهرگ‌های او تزریق می‌شود. دستگاه آشکارساز پرتوهای حاصل از رادیو دارو را به صورت تصاویر رنگی ثبت می‌کند. در مرحله دوم، بدون انجام ورزش به بیمار رادیودارو تزریق و تصویربرداری انجام می‌شود. تصاویرهای دو مرحله را مقایسه و تفسیر می‌کنند. در این روش، آسیب‌های قلبی و تنگی موجود در رگ‌های آن مشخص می‌شوند.

در دستگاه گردش خون، سه نوع رگ در شبکه‌ای مرتبط به هم وجود دارد. این شبکه، که از قلب شروع می‌شود و پس از عبور از بافت‌ها به قلب باز می‌گردد، از **سرخرگ‌ها، مویرگ‌ها و سیاهرگ‌ها** تشکیل شده است. ساختار هر یک از این رگ‌ها متناسب با کاری است که انجام می‌دهد. دیواره همه سرخرگ‌ها و سیاهرگ‌ها از سه لایه اصلی تشکیل شده است (شکل ۱۰). لایه داخلی آنها بافت پوششی سنگ فرشی است که در زیر آن، غشای پایه قرار گرفته است. لایه میانی آن، ماهیچه‌ای صاف است که همراه این لایه رشته‌های کشسان (الاستیک) زیادی وجود دارد. آخرین لایه، بافت پیوندی است که لایه خارجی آنها را می‌سازد.

شکل ۱۰- مقایسه انواع رگ‌های خونی و ساختار آنها



اگرچه ساختار پایه‌ای سرخرگ‌ها با سیاهرگ‌ها شباهت دارد، ضخامت لایه ماهیچه‌ای و پیوندی در سرخرگ‌ها بیشتر است تا بتوانند فشار زیاد وارد شده از سوی قلب را تحمل و هدایت کنند. به همین دلیل سرخرگ‌ها در برش عرضی، بیشتر گرد دیده می‌شوند، در حالی که سیاهرگ‌های هم‌اندازه آنها، دیواره‌ای نازک‌تر دارند و حفره داخلی آنها بزرگ‌تر است. در عین حال، بسیاری از سیاهرگ‌ها دریچه‌هایی دارند که جهت حرکت خون را یک طرفه می‌کنند.



شکل ۱۱- ساختار مویرگ و بنداره مویرگی

مویرگ‌ها فقط یک لایه بافت پوششی همراه با غشای پایه دارند. این ساختار با وظیفه آنها که تبادل مواد بین خون و مایع میان‌بافتی است، هماهنگی دارد. در دیواره مویرگ‌ها لایه ماهیچه‌ای نیست ولی در ابتدای بعضی از آنها حلقه‌ای ماهیچه‌ای هست که میزان جریان خون در آنها را تنظیم می‌کند و به آن **بنداره مویرگی** گویند.

اگرچه تنظیم اصلی جریان خون در مویرگ‌ها بر اساس نیاز بافت به اکسیژن و مواد مغذی با تنگ و گشاد شدن سرخرگ‌های کوچک انجام می‌شود که قبل از مویرگ‌ها قرار دارند (شکل ۱۱).

سرخرگ‌ها

همان‌طور که می‌دانید سرخرگ‌ها خون را از قلب خارج می‌کنند و به بافت‌های بدن می‌رسانند. علاوه بر این باعث حفظ پیوستگی جریان خون و هدایت آن در این رگ‌ها می‌شوند. دیواره سرخرگ قدرت کشسانی زیادی دارد. وقتی بطن منقبض می‌شود، ناگهان مقدار زیادی خون از آن به درون سرخرگ پمپ می‌شود. سرخرگ‌ها در این حالت گشاد می‌شوند تا خون رانده شده از بطن را در خود جای دهند. در هنگام استراحت بطن یعنی وقتی که دیگر خونی از قلب خارج نمی‌شود، دیواره کشسان سرخرگ‌ها به حالت اولیه باز می‌گردد و خون را با فشار به جلو می‌راند. این فشار باعث هدایت خون در رگ‌ها و پیوستگی جریان خون در هنگام استراحت قلب می‌شود. تغییر حجم سرخرگ، به دنبال هر انقباض بطن، به صورت موجی در طول سرخرگ‌ها پیش می‌رود و به صورت نبض احساس می‌شود. در سرخرگ‌های کوچک‌تر، میزان رشته‌های کشسان، کمتر و میزان ماهیچه‌های صاف، بیشتر است. این ساختار باعث می‌شود با ورود خون، قطر این رگ‌ها تغییر زیادی نکند و در برابر جریان خون مقاومت کنند. میزان این مقاومت در زمان انقباض ماهیچه صاف دیواره، بیشتر و در هنگام استراحت، کمتر می‌شود. کم و زیاد شدن این مقاومت، میزان ورود خون به مویرگ‌ها را تنظیم می‌کند.

فشار خون: بیشتر سرخرگ‌های بدن در قسمت‌های عمقی هر اندام قرار گرفته‌اند، در حالی که سیاهرگ‌ها بیشتر در سطح قرار دارند. به نظر شما مزیت آن چیست؟

می‌دانید فشار خون، نیرویی است که از سوی خون بر دیواره رگ وارد می‌شود و ناشی از انقباض دیواره بطن‌ها یا سرخرگ‌ها است. اگر سرخرگی در بدن بریده شود، خون با سرعت زیاد از آن بیرون خواهد ریخت و بسیار خطرناک است. این خون‌ریزی، ناشی از فشار خون زیاد درون سرخرگ است. چنین فشاری برای کار طبیعی دستگاه گردش خون لازم است.

بیشتر بدانید

رگ‌نگاری (آنژیوگرافی)

تصویربرداری از رگ‌های اندام‌های مختلف بدن با استفاده از پرتو ایکس، رگ‌نگاری نام دارد. در این روش در قسمتی از سطح بدن که یک سرخرگ زیر آن قرار دارد، شکافی ایجاد و لوله‌ای را به درون سرخرگ وارد و به سوی رگ مورد نظر هدایت می‌کنند. سپس از طریق لوله، ماده جذب‌کننده پرتو ایکس را به درون رگ، تزریق و با تاباندن این پرتو، از رگ تصویربرداری می‌کنند. یکی از کاربردهای این روش، بررسی وجود تنگی در رگ‌های اکلیلی قلب است. پس از آن برای برطرف کردن تنگی، درون رگ بسته شده، یک بادکنک کوچک قرار می‌دهند و آن را باد می‌کنند و چند ثانیه در این حالت نگاه می‌دارند تا رگ باز شود. گاهی هم لازم است با قرار دادن یک لوله مشبک فنری، از بسته شدن دوباره رگ جلوگیری کنند.

فعالیت

اندازه‌گیری فشار خون

دستگاه‌های اندازه‌گیری فشار خون انواع زیادی دارند، از جمله عقربه‌ای و جیوه‌ای که انواع

رقمی (دیجیتال) هم به آنها اضافه شده است. یکی از انواع آن را به کلاس بی‌اورید و با کمک معلم خود فشار خون هم کلاس را اندازه‌گیری کنید.

معمولاً فشار خون را با دو عدد (مثلاً ۱۲۰ روی ۸۰) بیان می‌کنند. این دو عدد به ترتیب، معرف فشار بیشینه و فشار کمینه برحسب میلی‌متر جیوه است. فشار بیشینه فشاری است که انقباض بطن روی سرخرگ وارد می‌کند و فشار کمینه در هنگام استراحت قلب، فشاری است که دیواره سرخرگ باز شده، در هنگام بسته شدن به خون وارد می‌کند.

عوامل مختلفی می‌تواند روی فشار خون تأثیر بگذارد، از جمله: چاقی، تغذیه نامناسب به ویژه مصرف چربی و نمک زیاد، دخانیات، استرس (فشار روانی) و سابقه خانوادگی.

فعالیت

در مورد اینکه آیا نوشیدن قهوه بر فشارخون افراد تأثیر می‌گذارد یا نه، پژوهشی را طراحی کنید و با همکاری گروه درسی خود، آن را انجام دهید و نتیجه را در کلاس ارائه کنید.

مویرگ‌ها

بیشتر بدانید

در یک فرد سالم و معمولی، فشار بیشینه بین ۱۱۰ تا ۱۴۰ و فشار کمینه بین ۷۰ تا ۹۰ میلی‌متر جیوه است.

فشار خون پایین: به فشار بیشینه کمتر از ۱۱۰ گفته می‌شود و در بعضی افراد ممکن است ناشی از فقر غذایی یا بی‌نظمی در کارکرد غدد تیروئید یا فوق کلیه باشد.

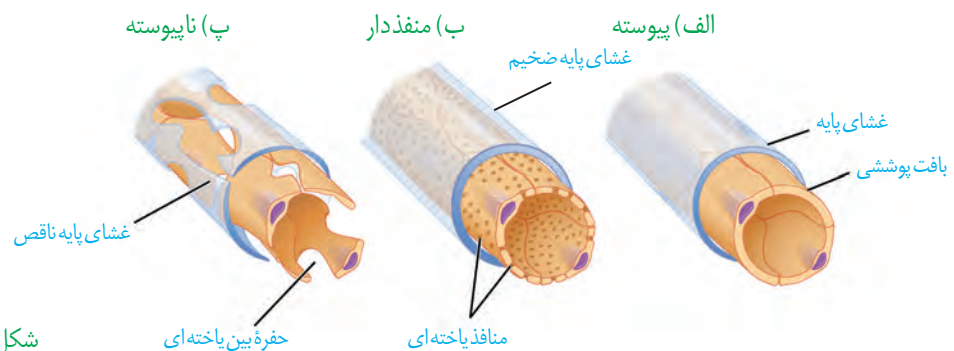
فشار خون بالا: به فشار خون بیشینه بیش از ۱۴۰ و فشار کمینه بیش از ۹۰ گفته می‌شود که عامل مهمی است در بروز بیماری‌های قلبی و می‌تواند به قلب فشار وارد کند و ماهیچه قلب به‌طور زودرس به مرحله فرسودگی برسد یا در بافت پوششی رگ‌ها شکاف‌هایی ایجاد کند که احتمال رسوب مواد و بستن رگ‌ها را افزایش دهد.

سرخرگ‌های کوچک به مویرگ‌هایی منتهی می‌شوند که کوچک‌ترین رگ‌های بدن هستند. تبادل مواد بین خون و یاخته‌های بدن، در این رگ‌ها انجام می‌شود. دیواره نازک و جریان خون کند، امکان تبادل مناسب مواد را در مویرگ‌ها فراهم می‌کند. در عین حال مویرگ‌ها شبکه وسیعی را در بافت‌ها ایجاد می‌کنند به طوری که فاصله بیشتر یاخته‌های بدن تا مویرگ‌ها حدود ۰/۰۲ میلی‌متر (۲۰ میکرومتر) است. این فاصله کم، مبادله سریع مولکول‌ها را از طریق انتشار، آسان‌تر می‌کند. دیواره مویرگ‌ها، فقط از یک لایه یاخته‌های پوششی سنگ‌فرشی ساخته شده است و ماهیچه صاف ندارد.

سطح بیرونی مویرگ‌ها را غشای پایه، احاطه می‌کند و نوعی صافی برای محدود کردن عبور مولکول‌های بسیار درشت به وجود می‌آورد. مویرگ‌های بدن در سه گروه قرار می‌گیرند: در **مویرگ‌های پیوسته** یاخته‌های بافت پوششی با همدیگر ارتباط تنگاتنگی دارند. چنین مویرگ‌هایی به‌عنوان مثال در دستگاه عصبی مرکزی یافت می‌شوند که ورود و خروج مواد در آنها به شدت تنظیم می‌شود (شکل ۱۲ - الف).

مویرگ‌های منفذدار منافذ فراوانی در غشای سلول‌های پوششی دارند. غشای پایه در این مویرگ‌ها ضخیم است که، عبور مولکول‌های درشت مثل پروتئین‌ها را محدود می‌کند (شکل ۱۲ - ب). این مویرگ‌ها به‌عنوان مثال در کلیه یافت می‌شوند.

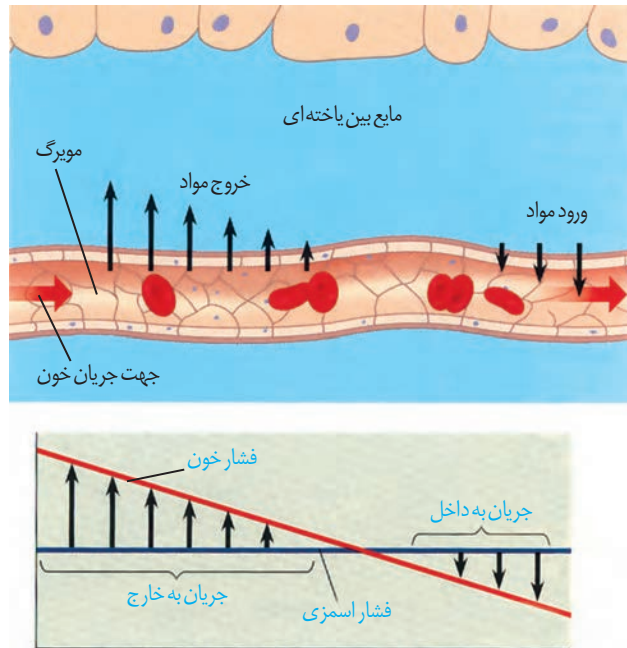
در **مویرگ‌های ناپیوسته** فاصله یاخته‌های بافت پوششی آن قدر زیاد است که به صورت حفره‌هایی در دیواره مویرگ دیده می‌شود (شکل ۱۲ - پ). چنین مویرگ‌هایی به‌عنوان مثال در جگر یافت می‌شوند.



شکل ۱۲ - انواع مویرگ

تبادل مواد در مویرگ‌ها

تبادل مواد بین خون و بافت‌ها در مویرگ‌ها انجام می‌شود. مولکول‌های مواد ممکن است از غشای یاخته‌های پوششی مویرگ و یا از فاصله‌های بین این یاخته‌ها عبور کنند. در ابتدای سرخرگی مویرگ، فشار خون که به آن **فشار تراوشی** می‌گویند و نسبت به فشار اسمزی بیشتر است، باعث خروج مواد از مویرگ می‌شود. در اینجا بخشی از خوناب به جز مولکول‌های درشت از مویرگ خارج و به بافت وارد می‌شوند. در نتیجه خروج خوناب، فشار اسمزی درون مویرگ نسبت به فشار تراوشی به تدریج افزایش می‌یابد؛ به طوری که در بخش سیاهرگی مویرگ، فشار اسمزی درون مویرگ از فشار تراوشی بیشتر است. در نتیجه آب همراه با مولکول‌های متفاوت از جمله مواد دفعی یاخته‌ها، وارد مویرگ می‌شوند (شکل ۱۳).



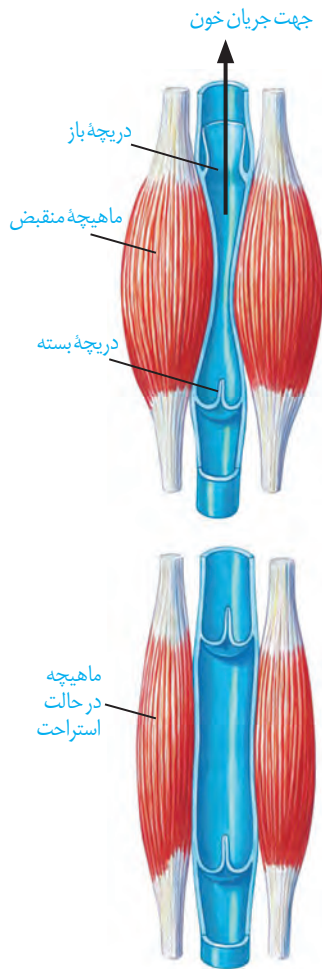
شکل ۱۳- تبادل مواد در مویرگ‌ها

کمبود پروتئین‌های خون و افزایش فشار خون درون سیاهرگ‌ها می‌تواند سرعت بازگشت مایعات از بافت به خون را کاهش دهد. در نتیجه، بخش‌هایی از بدن، متورم می‌شوند که به این حالت «خیز» یا «ادم» می‌گویند. مصرف زیاد نمک و مصرف کم مایعات نیز می‌تواند به خیز منجر شود.

سیاهرگ‌ها

همان‌طور که در شکل ۱۰ دیدید، سیاهرگ‌ها با داشتن فضای داخلی وسیع و دیواره‌ای با مقاومت کمتر، می‌توانند بیشتر حجم خون را در خود جای دهند. باقیمانده فشار سرخرگی باعث ادامه جریان خون در سیاهرگ‌ها می‌شود اما به علت کاهش شدید فشار خون و جهت حرکت خون در سیاهرگ‌ها که در بیشتر آنها به سمت بالا است لازم است عواملی به جریان خون در سیاهرگ‌ها کمک کند.

تلمبه ماهیچه‌اسکلتی: حرکت خون در سیاهرگ‌ها به ویژه در اندام‌های پایین‌تر از قلب، به مقدار زیادی به انقباض ماهیچه‌های اسکلتی وابسته است. انقباض ماهیچه‌های دست و پا، شکم و میان‌بند، به سیاهرگ‌های مجاور خود فشاری وارد می‌کنند که باعث حرکت خون در سیاهرگ به سمت قلب می‌شود (شکل ۱۴).



شکل ۱۴- تلمبه ماهیچه اسکلتی و عملکرد دریچه‌های لانه کبوتری


دریچه‌های لانه کبوتری: در سیاهرگ‌های دست و پا، جریان خون را یک طرفه و به سمت بالا هدایت می‌کنند. در هنگام انقباض هر ماهیچه در سیاهرگ مجاور آن، دریچه‌های بالایی باز و دریچه‌های پایینی، بسته می‌شوند (شکل ۱۴).

فشار مکشی قفسه سینه: هنگام دم به وجود می‌آید، که قفسه سینه باز می‌شود. در این حالت فشار از روی سیاهرگ‌های نزدیک قلب برداشته می‌شود و درون آنها فشار مکشی ایجاد می‌شود که خون را به سمت بالا می‌کشد.

مشاهده گردش خون در باله دمی ماهی

فعالیت

بدن یک ماهی کوچک را در پنبه خیس بیچید به طوری که فقط باله دمی آن بیرون باشد. ماهی را در ظرف پتری قرار دهید که مقداری آب دارد. روی باله دمی، یک تیغه بگذارید تا باله دمی گسترده شود و ماهی تکان نخورد. مجموعه را روی صفحه میکروسکوپ طوری قرار دهید که نور از باله دمی عبور کند. ابتدا با بزرگ‌نمایی کم و سپس با بزرگ‌نمایی متوسط، آن را مشاهده کنید.



– با توجه به معکوس بودن تصویر در میکروسکوپ، چگونه می‌توانید سرخرگ و سیاهرگ را در باله دمی، تشخیص دهید؟

– گزارشی از آنچه مشاهده می‌کنید به معلم خود ارائه کنید.
– پس از پایان کار، ماهی را به آب برگردانید.

دستگاه لنفی

دستگاه لنفی شامل لنف، رگ‌های لنفی، مجاری لنفی، گره‌های لنفی و اندام‌های لنفی است. کار اصلی آن، تصفیه و بازگرداندن آب و مواد دیگری است که از مویرگ‌ها به فضای میان بافتی نشت پیدا می‌کنند و به مویرگ‌ها برنمی‌گردند. نشت این مواد در جریان ورزش و بعضی بیماری‌ها، افزایش قابل توجهی پیدا می‌کند. لنف مایعی تشکیل شده از مواد متفاوت و گویچه‌های سفید است. کار دیگر دستگاه لنفی، انتقال چربی‌های جذب شده از دیواره روده باریک به خون و همچنین از بین بردن میکروب‌های بیماری‌زا و یاخته‌های سرطانی است.

لنف بعد از عبور از مویرگ‌ها و رگ‌های لنفی از طریق دو رگ بزرگ لنفی به نام **مجرای لنفی** به سیاهرگ‌های زیر ترقوه‌ای چپ و راست می‌ریزد. بنابراین، لنف پس از تصفیه شدن به دستگاه گردش خون برمی‌گردد (شکل ۱۵).

لوزه‌ها، تیموس، طحال، آپاندیس و مغز استخوان اندام‌های لنفی نامیده می‌شوند.

تنظیم دستگاه گردش خون

گره ضربان‌ساز، تکانه‌های منظمی را ایجاد و در قلب منتشر می‌کند تا چرخه ضربان قلب به‌طور منظم تکرار شود. در حالت عادی این ضربان و برون ده قلبی ناشی از آن، نیاز اکسیژن و مواد مغذی اندام‌های بدن را برطرف می‌کند. اما در هنگام فعالیت ورزشی یا در حالت استراحت، برون ده قلب باید تغییر یابد. این تنظیم‌ها با ساز و کارهای مختلفی انجام می‌شود:

نقش دستگاه عصبی خود مختار:

افزایش و کاهش فعالیت قلب متناسب با شرایط، به‌وسیله اعصاب دستگاه عصبی خود مختار انجام می‌شود. مرکز هماهنگی این اعصاب در بصل النخاع و پل مغزی و در نزدیکی مرکز تنظیم تنفس قرار دارد و همکاری این مراکز، نیاز بدن به مواد مغذی و اکسیژن را در شرایط خاص به خوبی تأمین می‌کند.

نقش هورمون‌ها: وقتی در فشار روانی مثل نگرانی، ترس و استرس امتحان قرار می‌گیریم،

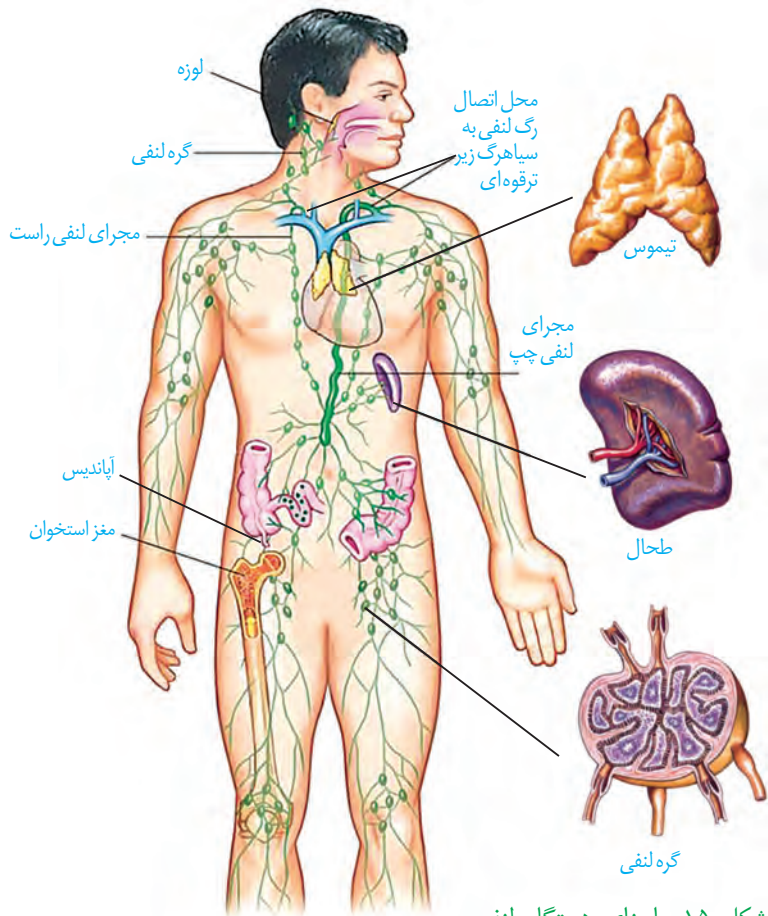
ترشح بعضی هورمون‌ها از غدد درون‌ریز مثل فوق کلیه، افزایش می‌یابد. این هورمون‌ها مثلاً با اثر بر قلب، ضربان قلب و فشارخون را افزایش می‌دهند.

تنظیم موضعی جریان خون در بافت‌ها: افزایش کربن دی‌اکسید، باگشاد کردن سرخرگ‌های

کوچک میزان جریان خون را در آنها افزایش می‌دهد.

نقش گیرنده‌ها در حفظ فشار سرخرگی: گیرنده‌های حساس به فشار، گیرنده‌های حساس

به کمبود اکسیژن و گیرنده‌های حساس به افزایش کربن دی‌اکسید و یون هیدروژن پس از تحریک، به مراکز عصبی پیام می‌فرستند تا فشار سرخرگی در حد طبیعی حفظ، و نیازهای بدن در شرایط خاص تأمین شود.

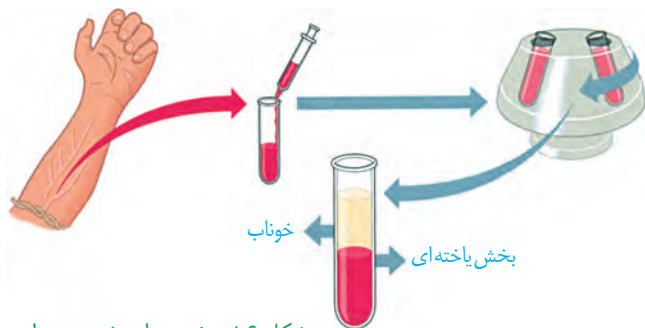


شکل ۱۵- اجزای دستگاه لنفی، مسیر لنف و چگونگی اتصال آن به دستگاه گردش خون

بیشتر بدانید

ثبات فعالیت‌های دستگاه گردش خون در یک دوره زمانی (مانیتورینگ)

متخصصان با متصل کردن دستگاه‌های الکترونیکی ویژه‌ای به بدن فرد، فشارخون و فعالیت الکتریکی قلب او را در مدت ۲۴ تا ۴۸ ساعت تحت نظر قرار می‌دهند. در این حالت فرد فعالیت‌های معمول خود را انجام می‌دهد. پزشکان با بررسی نمودارهای حاصل، به‌چگونگی کار قلب و رگ‌ها در شرایط مختلف پی می‌برند.

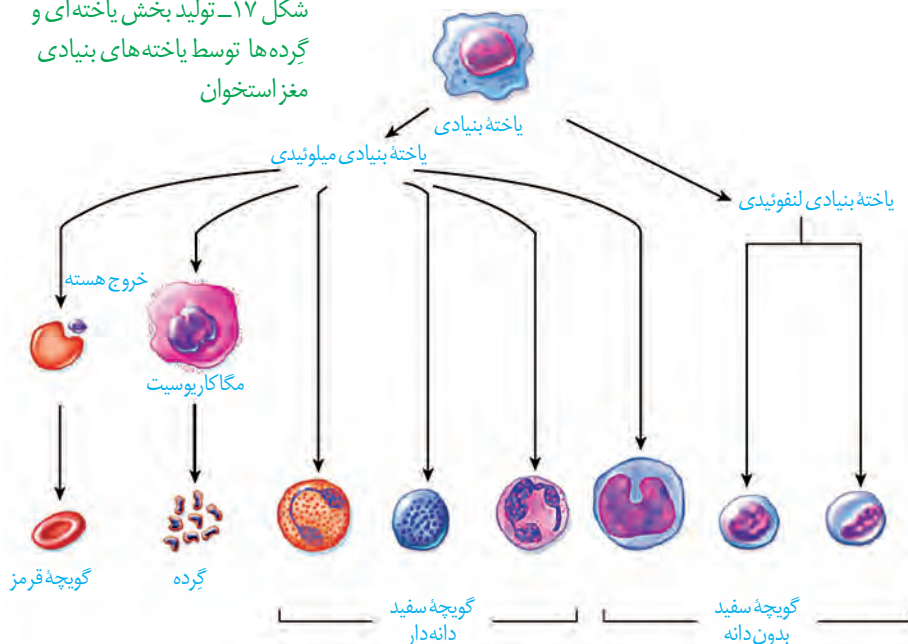


شکل ۱۶- بخش های خون پس از گریزانه

خون، نوعی بافت پیوندی است که به طور منظم و یک طرفه در رگ های خونی جریان دارد و دارای دو بخش است: خوناب که حالت مایع دارد و بخش یاخته ای که گویچه های قرمز، گویچه های سفید و گرده (پلاکت) ها را شامل می شود. اگر مقداری از خون را گریزانه (سانتریفیوژ) کنیم، دو بخش خون از هم جدا می شود و می توان درصد هر کدام را مشخص کرد. معمولاً در فرد سالم و بالغ ۵۵ درصد حجم خون را خوناب (پلازما) و ۴۵ درصد را بخش یاخته ای تشکیل می دهند (شکل ۱۶).

از کارهای خون، انتقال مواد غذایی، اکسیژن، کربن دی اکسید، هورمون ها و مواد دیگر است. خون ارتباط شیمیایی بین یاخته های بدن را امکان پذیر می سازد و به تنظیم دمای بدن و یکسان کردن دما در نواحی مختلف بدن کمک می کند. همچنین در ایمنی و دفاع در برابر عوامل خارجی نقش اساسی دارد و در هنگام خون ریزی، به کمک عواملی، از هدر رفتن خون جلوگیری می کند. بیش از ۹۰ درصد خوناب، آب است و بقیه آن را موادی مانند پروتئین ها، مواد غذایی، یون ها و مواد دفعی تشکیل می دهند. پروتئین های خوناب نقش های گوناگونی دارند از جمله حفظ فشار اسمزی خون، انتقال مواد، تنظیم pH، انعقاد خون و ایمنی بدن. آلبومین، فیبرینوژن و گلوبولین از پروتئین های خوناب اند. آلبومین، در حفظ فشار اسمزی خون و انتقال بعضی داروها مثل پنی سیلین نقش دارد. فیبرینوژن، در انعقاد خون و گلوبولین ها در ایمنی و مبارزه با عوامل بیماری زا اهمیت دارند.

شکل ۱۷- تولید بخش یاخته ای و گرده ها توسط یاخته های بنیادی مغز استخوان



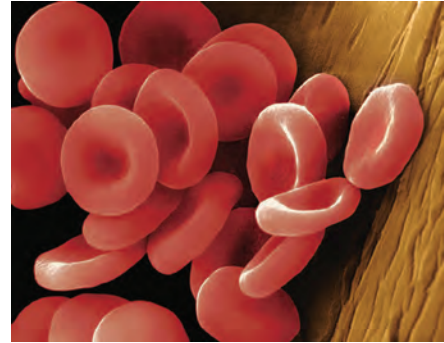
وجود یون های پتاسیم و سدیم در خوناب، اهمیت زیادی دارد؛ چون در فعالیت یاخته های بدن نقش کلیدی دارند.

بخش دوم خون شامل گویچه های قرمز، گویچه های سفید و گرده ها هستند که دو گروه اول، یاخته های خونی و گرده ها، قطعاتی از یاخته هستند. در یک فرد بالغ، تولید یاخته های خونی و گرده ها در مغز قرمز استخوان انجام می شود.

در مغز استخوان **یاخته‌های بنیادی** وجود دارند که با تقسیمات خود، این بخش خون را تولید می‌کنند. البته در دوران جنینی، یاخته‌های خونی و گرده‌ها در اندام‌های دیگری مثل کبد و طحال نیز ساخته می‌شود. یاخته‌های بنیادی مغز استخوان، یاخته‌هایی هستند که توانایی تقسیم و تولید چندین نوع یاخته را دارند. ابتدا این یاخته‌ها تقسیم می‌شوند و دو نوع یاخته را ایجاد می‌کنند: یاخته‌های بنیادی **لنفوئیدی** که در جهت تولید لنفوسیت‌ها عمل می‌کنند و یاخته‌های بنیادی **میلوئیدی** که منشأ بقیه یاخته‌های خونی و گرده‌ها هستند (شکل ۱۷).

یاخته‌های خونی قرمز

در انسان بیش از ۹۹ درصد یاخته‌های خونی را گویچه‌های قرمز تشکیل می‌دهند که به خون، ظاهری قرمز رنگ می‌دهند. این یاخته‌های کروی که از دو طرف، حالت فرو رفته دارند، در هنگام تشکیل در مغز استخوان، هسته خود را از دست می‌دهند و سیتوپلاسم آنها از هموگلوبین پر می‌شود (شکل ۱۸). نسبت حجم گویچه‌های قرمز خون به حجم خون که به صورت درصد بیان می‌شود، **خون بهر (هماتوکریت)** گفته می‌شود.



شکل ۱۸- یاخته‌های خونی قرمز

واژه شناسی

خون بهر

(Hematocrit / هماتوکریت)
بهر در خون بهر به معنی بهره و نسبت است.

نقش اصلی گویچه‌های قرمز، انتقال گازهای تنفسی است. متوسط عمر گویچه‌های قرمز ۱۲۰ روز است. تقریباً یک درصد از گویچه‌های قرمز، روزانه تخریب می‌شود و باید جایگزین شود. تخریب یاخته‌های خونی قرمز آسیب‌دیده و مرده در طحال و کبد انجام می‌شود. آهن آزاد شده در این فرایند یا در کبد ذخیره می‌شود و یا همراه خون به مغز استخوان می‌رود و در ساخت دوباره گویچه‌های قرمز مورد استفاده قرار می‌گیرد.

فعالیت

– به نظر شما چرا در انسان و بسیاری از پستانداران، گویچه‌های قرمز، هسته و بیشتر اندامک‌های خود را از دست می‌دهند؟

– چرا غشای گویچه‌های قرمز در دو طرف، حالت فرورفته دارد؟

– محصور بودن هموگلوبین در غشای گویچه‌های قرمز چه اهمیتی دارد؟

برای ساخته شدن گویچه‌های قرمز در مغز استخوان، علاوه بر وجود آهن، ویتامین «B_{۱۲}» و فولیک اسید نیز لازم است.

فولیک اسید، نوعی ویتامین از خانواده B است که برای تقسیم طبیعی یاخته‌ای لازم است. کمبود آن باعث می‌شود یاخته‌ها به ویژه در مغز استخوان، تکثیر نشوند و تعداد گویچه‌های قرمز کاهش یابد. سبزیجات با برگ سبز تیره، حبوبات، گوشت قرمز و جگر از منابع آهن و فولیک اسیدند. کارکرد صحیح

بیشتر بدانید

کاهش تعداد گویچه‌های قرمز و نیز کاهش مقدار هموگلوبین را **آنمی** یا **کم خونی** می‌گویند. ضعف و خستگی زودرس و پریدگی رنگ، ممکن است از نشانه‌های کم خونی باشد ولی تشخیص آن با آزمایش خون و تعیین میزان هموگلوبین انجام می‌شود. استفاده از گوشت، جگر و سبزیجات تیره تازه، برای جلوگیری از آن توصیه می‌شود.

فولیک اسید به وجود ویتامین «B_{۱۲}» وابسته است. این ویتامین فقط در غذاهای جانوری وجود دارد. البته در روده بزرگ مقداری ویتامین B_{۱۲} تولید می‌شود.

تنظیم تولید گویچه‌های قرمز: اگرچه تولید گویچه‌های قرمز به وجود آهن، فولیک اسید و ویتامین «B_{۱۲}» وابسته است؛ در بدن ما تنظیم میزان گویچه‌های قرمز، به ترشح هورمونی به نام **اریتروپوئیتین** بستگی دارد. این هورمون توسط گروه ویژه‌ای از یاخته‌های کلیه و کبد به درون خون ترشح می‌شود و روی مغز استخوان اثر می‌کند تا سرعت تولید گویچه‌های قرمز را زیاد کند. این هورمون به طور طبیعی به مقدار کم ترشح می‌شود تا کاهش معمولی تعداد گویچه‌های قرمز را جبران کند. اما هنگام کاهش مقدار اکسیژن خون، این هورمون افزایش می‌یابد که این حالت در کم‌خونی، بیماری‌های تنفسی و قلبی، ورزش‌های طولانی یا قرار گرفتن در ارتفاعات، ممکن است رخ دهد.

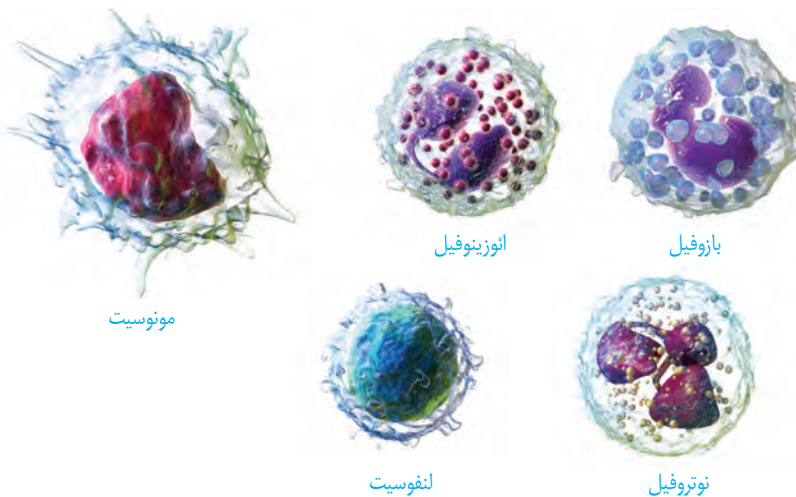
فعالیت

شاید برگه‌های جواب آزمایش خون را دیده باشید. در این برگه‌ها اطلاعات زیادی در مورد یاخته‌ها و ترکیبات خون وجود دارد. یکی از این برگه‌ها را بررسی کنید و با توجه به آن، به سؤالات زیر پاسخ دهید:

- ۱- تعداد طبیعی هر یک از یاخته‌های خونی (WBC و RBC) و گرده‌ها (PLT) را در واحد اندازه‌گیری میکرو لیتر (μL) مشخص کنید.
- ۲- میزان انواع لیبدهایی را که در آزمایش خون سنجیده می‌شود؛ مشخص کنید.
- ۳- گفتیم که روزانه تقریباً یک درصد گویچه‌های قرمز تخریب می‌شود. با توجه به تعداد RBC اگر حجم کل خون ما پنج لیتر باشد، روزانه چه تعداد از این یاخته‌ها تخریب می‌شوند و باید جایگزین شوند؟

یاخته‌های خونی سفید

یاخته‌های خونی، که ضمن گردش در خون، در بافت‌های مختلف بدن نیز پراکنده می‌شوند، گویچه‌های سفید هستند. نقش اصلی آنها، دفاع از بدن در برابر عوامل خارجی است. این یاخته‌ها هسته دارند. انواع و ویژگی‌های آنها را در شکل ۱۹ مشاهده می‌کنید.

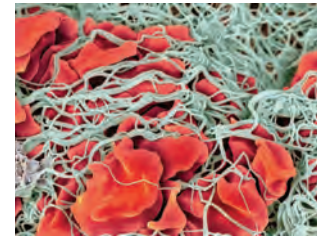


شکل ۱۹- یاخته‌های خونی سفید

- ۱- بازوفیل: هسته دو قسمتی روی هم افتاده - سیتوپلاسم با دانه‌های تیره
- ۲- نوتروفیل: هسته دو قسمتی دمبلی - سیتوپلاسم با دانه‌های روشن درشت
- ۳- نوتروفیل: هسته چند قسمتی - سیتوپلاسم با دانه‌های روشن ریز
- ۴- مونوسیت: هسته تکی خمیده یا لوبیایی - سیتوپلاسم بدون دانه
- ۵- لنفوسیت: هسته تکی گرد یا بیضی - سیتوپلاسم بدون دانه

بیشتر بدانید

تعداد یاخته‌های خونی و گرده‌ها در میلی‌متر مکعب خون	
RBC	5.6×10^6
WBC	6.7×10^3
PLT	250×10^3



شکل ۲۰- رشته‌های پروتئینی فیبرین که یاخته‌های خونی و گرده‌ها را دربرگرفته و لخته را تشکیل داده‌اند.

فعالیت

مشاهده یاخته‌های خونی قرمز و سفید

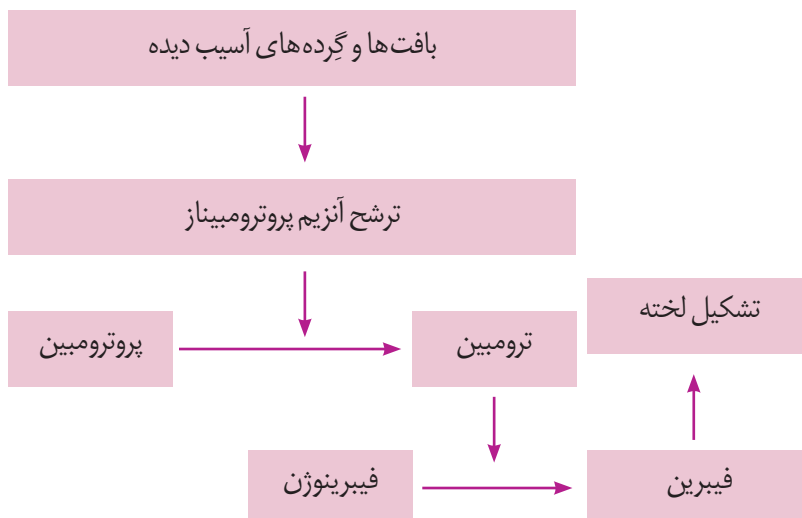
- با کمک معلم و رعایت نکات ایمنی، گسترش خونی تهیه کنید.
- در صورتی که امکانات لازم برای رنگ‌آمیزی یاخته‌های خونی در آزمایشگاه شما وجود دارد، گسترش خونی تهیه شده را رنگ‌آمیزی کنید.
- همچنین می‌توانید از نمونه‌های آماده یاخته‌های خونی که رنگ‌آمیزی شده‌اند، نیز استفاده کنید و انواع یاخته‌های خونی را با استفاده از میکروسکوپ در آن تشخیص دهید.

گرده‌ها

گرده‌ها قطعات یاخته‌ای بی‌رنگ و بدون هسته‌ای هستند که درون خود دانه‌های زیادی دارند و از گویچه‌های خون کوچک‌ترند. گرده‌ها در مغز استخوان، زمانی تولید می‌شوند که یاخته‌های بزرگی به نام **مگا کاربوسیت** قطعه‌قطعه و وارد جریان خون می‌شوند (شکل ۱۷). درون هر یک از قطعات، دانه‌های کوچک پر از ترکیبات فعال وجود دارند. گرده‌ها به چند طریق از هدر رفتن خون جلوگیری می‌کنند. در خون‌ریزی‌های محدود، که دیواره رگ‌ها آسیب جزئی می‌بیند، در محل آسیب، گرده‌ها دور هم جمع می‌شوند، به هم می‌چسبند و ایجاد **درپوش** می‌کنند. این درپوش جلوی خروج خون از رگ آسیب‌دیده را می‌گیرد.

در خون‌ریزی‌های شدیدتر، گرده‌ها در تولید **لخته خون**، نقش اصلی دارند. آنها با آزاد کردن مواد و با کمک پروتئین‌های خوناب مثل فیبرینوژن، لخته را ایجاد می‌کنند. تشکیل لخته در محل زخم، جلوی خون‌ریزی را می‌گیرد (شکل ۲۰). وجود ویتامین K و یون Ca در انجام روند انعقاد خون و تشکیل لخته لازم است.

مراحل انعقاد خون با کمک گرده‌ها و عوامل انعقادی دیگر را در نمودار زیر می‌بینید.

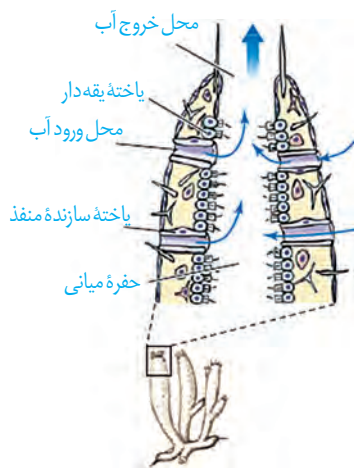


بیشتر بدانید

آزمایش PT (Prothrombin Time)

یکی از آزمایش‌های تعیین‌کننده سلامت گرده‌ها و چگونگی عمل آنها در انعقاد خون، آزمایش PT یا زمان پروترومبین است که در آن، زمان لازم برای انعقاد خون را می‌سنجند.

PT طبیعی تقریباً ۱۲ ثانیه است. اگر این مدت در فردی کم یا زیاد باشد میزان گرده یا کارکرد آنها طبیعی نیست. در استفاده از داروهای ضد انعقاد مثل وارفارین نیز معیار سنجش تأثیر دارو، تعیین PT شخص است که از روی آن میزان دارو را تغییر می‌دهند.



شکل ۲۱- گردش آب در بدن نوعی اسفنج



شکل ۲۲- شکل نوعی اسفنج

در تک یاخته‌ای‌ها تبادل گاز، تغذیه و دفع بین محیط و یاخته از سطح آن انجام می‌شود. در جانداران پریاخته‌ای به دلیل زیاد بودن تعداد یاخته‌ها، همه یاخته‌ها با محیط بیرون ارتباط ندارند و لازم است در آنها دستگاه گردش موادی به وجود آید تا یاخته‌ها نیازهای غذایی و دفع مواد زائد خود را با کمک آن برطرف کنند. دستگاه‌های گردش مواد در جانوران مختلف به صورت‌های زیر است:

سامانه گردش آب: در اسفنج‌ها، آب از محیط بیرون از طریق سوراخ‌های دیواره به حفره یا حفره‌هایی وارد و پس از آن از سوراخ یا سوراخ‌های بزرگ‌تری خارج می‌شود. عامل حرکت آب، یاخته‌های یقه‌دار هستند که تاژک دارند (شکل‌های ۲۱ و ۲۲).

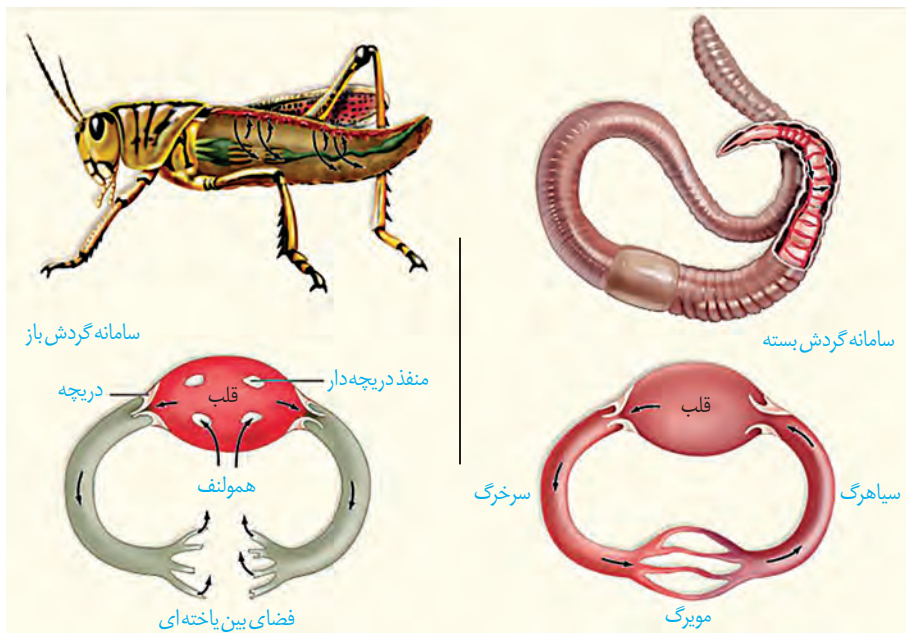
حفره گوارشی: حفره گوارشی در هیدر پر از مایعات است و علاوه بر گوارش، وظیفه گردش مواد را نیز بر عهده دارد. در کرم‌های پهن آزادی مثل پلاناریا، انشعابات حفره گوارشی به تمام نواحی بدن نفوذ می‌کنند به طوری که فاصله انتشار مواد تا یاخته‌ها بسیار کوتاه است. در این جانوران حرکات بدن به جابه‌جایی مواد کمک می‌کند.

در جانوران پیچیده‌تر، دستگاه اختصاصی برای گردش مواد شکل می‌گیرد که در آن مایعی برای جابه‌جایی مواد وجود دارد. در این جانوران، دو نوع **سامانه گردش مواد** مشاهده می‌شود.

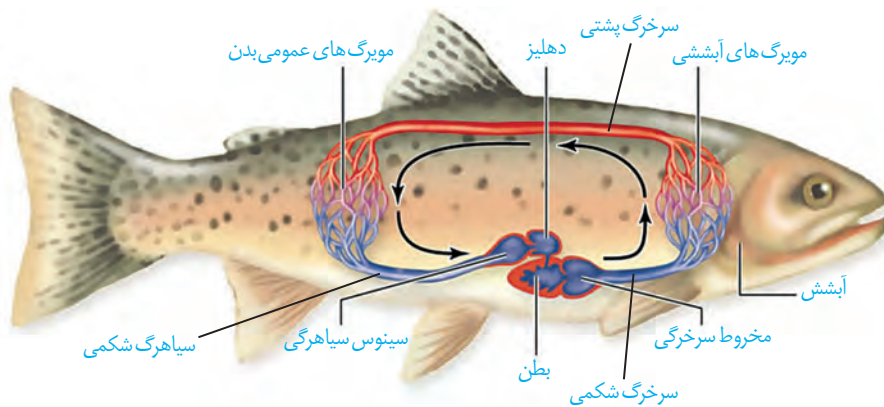
سامانه گردش باز: قلب در سامانه باز، مایعی به نام **همولنف** را به حفره‌های بدن پمپ می‌کند. همولنف نقش‌های خون، لنف و آب میان بافتی را بر عهده دارد. جانورانی که سامانه گردش باز دارند، مویرگ ندارند و همولنف مستقیماً به فضای بین یاخته‌های بدن آنها وارد می‌شود و در مجاورت آنها جریان می‌یابد. بندپایانی مانند ملخ سامانه گردش باز دارند.

سامانه گردش بسته: ساده‌ترین سامانه گردش بسته در کرم‌های حلقوی، نظیر کرم‌خاکی وجود دارد. در این سامانه مویرگ‌ها در کنار یاخته‌ها و با کمک آب میان بافتی، تبادل مواد غذایی، دفعی و گازها را انجام می‌دهند (شکل ۲۳).

تمام مهره‌داران، سامانه گردش بسته دارند. گردش خون در مهره‌داران به صورت **ساده** و یا **مضاعف** است. در گردش ساده مثل ماهی و نوزاد دوزیستان، خون، ضمن یک بار گردش در بدن، یک بار از قلب دو حفره‌ای آن عبور می‌کند. مزیت این سیستم، انتقال یکباره خون اکسیژن دار به تمام مویرگ‌های اندام‌هاست (شکل ۲۴).



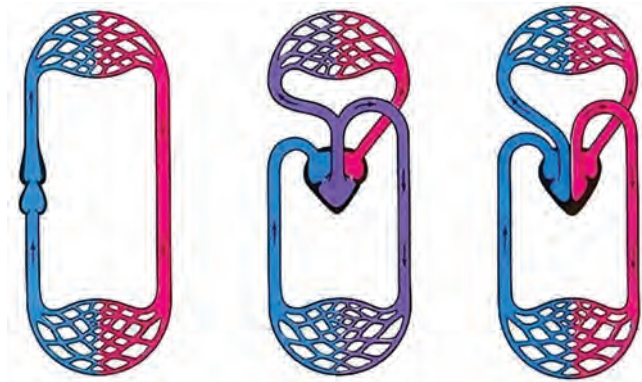
شکل ۲۳- مقایسه سامانه گردش باز و بسته در کرم خاکی و ملخ



شکل ۲۴- گردش خون ماهی - خون همه بدن از طریق سیراهرگ شکمی به دهلیز و سپس به بطن وارد می شود. انقباض بطن، خون را از طریق سرخگ شکمی به آبشش ها می فرستد. پس از تبادل گازهای تنفسی، خون از طریق سرخگ پشتی به تمام بدن و پس از تبادل مویرگی با باخته های بدن وارد سیراهرگ شکمی می شود و به قلب برمی گردد. قبل از دهلیز، سینوس سیراهرگی و بعد از بطن، مخروط سرخگی قرار دارد.

در گردش مضاعف، که در سایر مهره داران دیده می شود، خون ضمن یک بار گردش در بدن، دو بار از قلب عبور می کند. در این سامانه، قلب به صورت دو تلمبه عمل می کند: یک تلمبه با فشار کمتر برای تبادلات گازی و تلمبه دیگر با فشار بیشتر برای گردش عمومی فعالیت می کند.

سامانه گردش مضعف، از دوزیستان به بعد شکل گرفته است. دوزیستان، قلب سه حفره ای با دو دهلیز و یک بطن دارند که بطن خون را یک بار به شش‌ها و پوست و سپس به بقیه بدن تلمبه می‌کند (شکل ۲۵).



ماهی
قلب دو حفره‌ای،
گردش خون ساده

دوزیست
قلب سه حفره‌ای،
گردش خون مضعف

پستاندار
قلب چهار حفره‌ای،
گردش خون مضعف

شکل ۲۵- قلب در انواع مهره داران

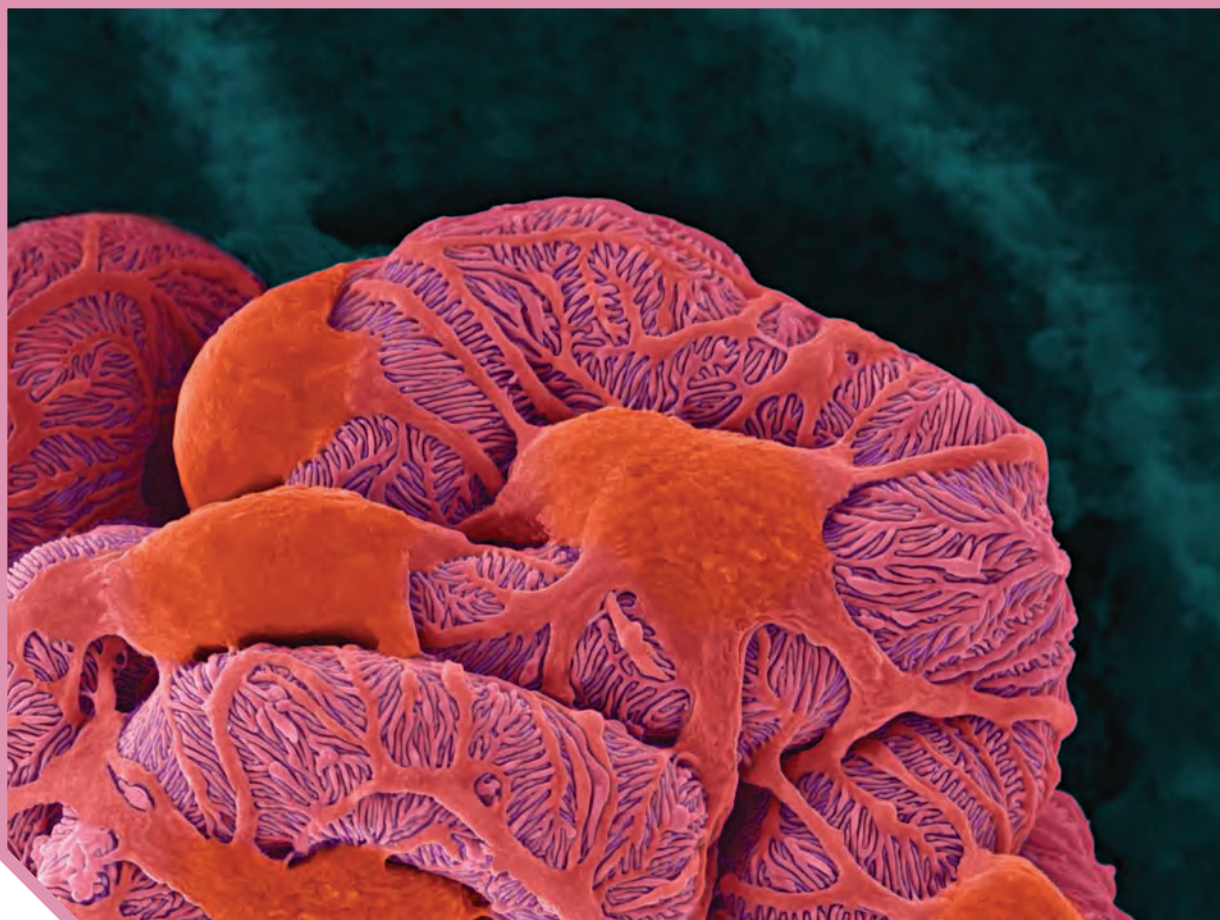
بیشتر بدانید

در سه گروه خزندگان (مارها، لاک‌پشت‌ها و سوسمارها) قلب چهار حفره‌ای است ولی دیواره بین دو بطن کامل نشده است.

قلب و سامانه‌های گردش در پرندگان و پستانداران

جدایی کامل بطن‌ها در پرندگان و پستانداران و برخی خزندگان مثل کروکودیل‌ها رخ می‌دهد. این حالت، حفظ فشار در سامانه گردش مضعف را آسان می‌کند. فشار خون بالا برای رساندن سریع مواد غذایی و خون غنی از اکسیژن به بافت‌ها در جانورانی با نیاز زیاد به انرژی مهم است.





فصل ۵

تنظیم اسمزی و دفع مواد زائد

گرچه ما انسان‌ها در خشکی زندگی می‌کنیم اما یاخته‌های ما با محیط مایع در ارتباط‌اند. آنچه درباره‌ی این محیط مایع حائز اهمیت است، مشابه بودن غلظت آن با غلظت درون یاخته‌ها یا به عبارت دقیق‌تر مشابه بودن فشار اسمزی آنهاست. اگر غلظت مایع اطراف یاخته‌ها رقیق‌تر یا غلیظ‌تر از یاخته‌ها باشد، تهدیدی جدی برای ادامه‌ی حیات ما خواهد بود؛ چون ممکن است به ورود بیش از حد آب به یاخته یا خروج آب از آن منجر شود. بدن ما چگونه فشار اسمزی مایع اطراف یاخته‌ها را تنظیم می‌کند؟ چگونه ترکیب شیمیایی آن را ثابت نگه می‌دارد؟ آیا روش‌هایی که بدن انسان به کار می‌گیرد، در سایر جانوران هم دیده می‌شوند؟ ادرار چگونه تشکیل می‌شود؟ ترکیب شیمیایی ادرار چه اطلاعاتی را درباره‌ی وضعیت درونی بدن فراهم می‌کند؟ اینها نمونه پرسش‌هایی است که پاسخ آنها را در این فصل خواهیم یافت.



واژه‌شناسی

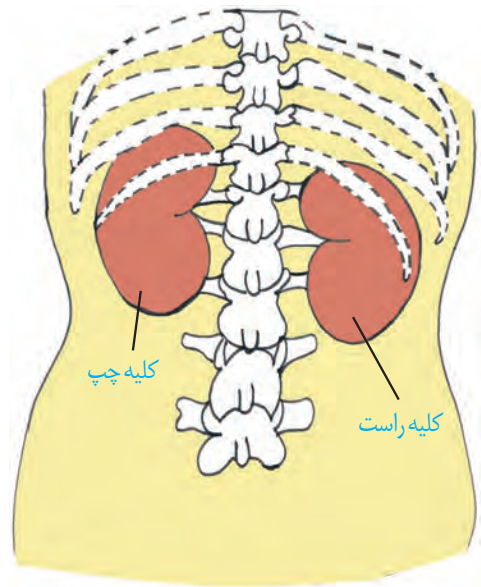
هم‌ایستایی (Homeostasis) / هومئوستازی

هومئو به معنای هم یا همان و ستازی به معنی وضعیت ثابت و ایستا است و برای حفظ تعادل و پایداری وضعیت طبیعی بدن به کار می‌رود. هم‌ایستایی کلمه‌ای است که از ترکیب هم با صفت فاعلی ایستا به معنی ایستادن تشکیل شده است.

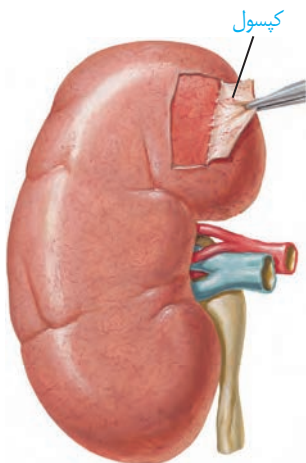
اگر در یک روز گرم تابستانی ورزش کنید، عرق می‌کنید و احتمالاً متوجه خواهید شد که از مقدار ادرار شما کاسته خواهد شد. می‌دانید چرا؟ چون بدن شما در نتیجه عرق کردن، آب از دست می‌دهد و بنابراین مقدار ادرار را کاهش می‌دهد تا آب از دست رفته را جبران کند. کمبود آب، اکسیژن و مواد مغذی یا انباشته شدن مواد دفعی یاخته‌ها مثل کربن دی‌اکسید و مواد دفعی نیتروژن دار از جمله مواردی اند که ادامه حیات را تهدید می‌کنند. حفظ وضعیت درونی بدن در محدوده‌ای ثابت (هم‌ایستایی)، برای تداوم حیات، ضرورت دارد. اگر وضعیت درونی بدن از تعادل خارج شود، بعضی مواد، بیش از حد لازم یا کمتر از حد لازم به یاخته‌ها می‌رسند. بسیاری از بیماری‌ها در نتیجه برهم خوردن هم‌ایستایی پدید می‌آیند. کلیه‌ها در هم‌ایستایی نقش اساسی دارند. حفظ تعادل آب، اسید-باز، یون‌ها و نیز دفع مواد سمی و مواد زائد نیتروژن دار، از جمله وظایف کلیه‌اند.

کلیه‌ها

ساختار بیرونی کلیه و حفاظت از آن: کلیه‌ها، اندام‌هایی لوبیایی شکل اند و به تعداد دو عدد در طرفین ستون مهره‌ها و پشت محوطه شکمی قرار دارند. اندازه کلیه در فرد بالغ، تقریباً به اندازه مشت بسته اوست. به علت موقعیت قرارگیری و شکل کبد، کلیه راست قدری پایین‌تر از کلیه چپ واقع است (شکل ۱). دنده‌ها از بخشی از کلیه محافظت می‌کنند. علاوه بر این، پرده‌ای از جنس بافت پیوندی به نام **کپسول کلیه**، هر کلیه را در بر گرفته است (شکل ۲). چربی اطراف کلیه، علاوه بر اینکه کلیه را از ضربه محافظت می‌کند در حفظ موقعیت کلیه نقش مهمی دارد. تحلیل بیش از حد این چربی در افرادی که برنامه کاهش وزن سریع و شدید به کار می‌گیرند ممکن است سبب افتادگی کلیه و تا خوردگی میزنا می‌شود. در این صورت، فرد با خطر بسته شدن میزنا و عدم تخلیه مناسب ادرار از کلیه روبه‌رو می‌شود که در نهایت به نارسایی کلیه خواهد انجامید.



شکل ۱- موقعیت کلیه‌ها در انسان از نمای پشت



شکل ۲- کپسول کلیه

واژه شناسی

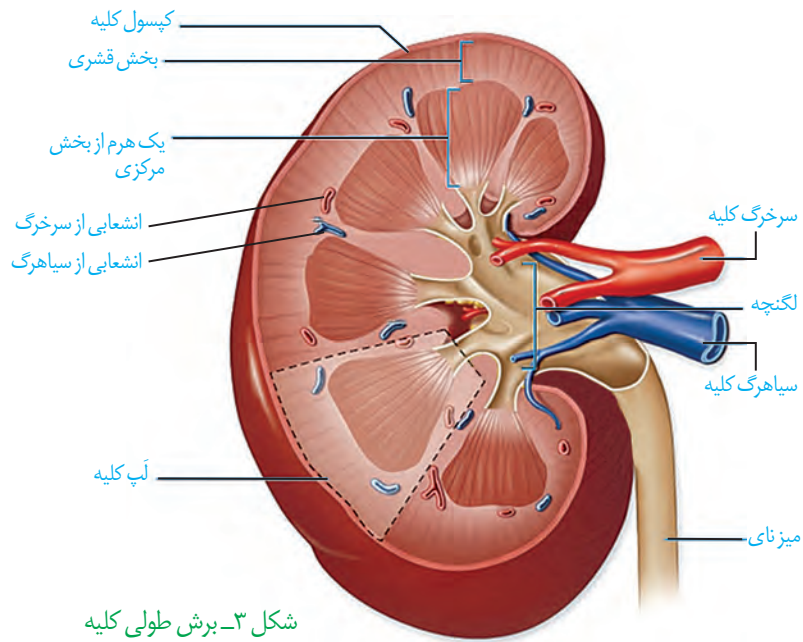
لپ (Lobe / لوب)

لوب به هریک از بخش‌های متمایز اندام‌هایی نظیر مغز و شش و کبد گفته می‌شود و معادل آن لپ است که همان معنی بخش یا قطعه را در زبان فارسی دارد.

بیشتر بدانید

از کلیه‌های خود چگونه مراقبت کنیم؟

- فعالیت بدنی داشته باشید.
- قند و فشار خون را کنترل کنید.
- از غذاهای آماده کمتر استفاده کنید.
- وزن خود را کنترل کنید.
- آب کافی بنوشید.
- سیگار نکشید.
- هیچ دارویی را خودسرانه مصرف نکنید.



شکل ۳- برش طولی کلیه

ساختار درونی کلیه: در برش طولی کلیه، سه بخش مشخص دیده می‌شود که از بیرون به درون عبارت‌اند از بخش قشری، بخش مرکزی و لگنچه (شکل ۳). در بخش مرکزی، تعدادی ساختار هرمی شکل دیده می‌شود که **هرم‌های کلیه** نام دارند. قاعده هرم‌ها به سمت بخش قشری و رأس آنها به سمت لگنچه است. هر هرم و ناحیه قشری مربوط به آن را، یک **لپ کلیه** می‌نامند. لگنچه، ساختاری شبیه به قیف دارد. ادرار تولید شده، به آن وارد و به میزنای هدایت می‌شود تا کلیه را ترک کند.

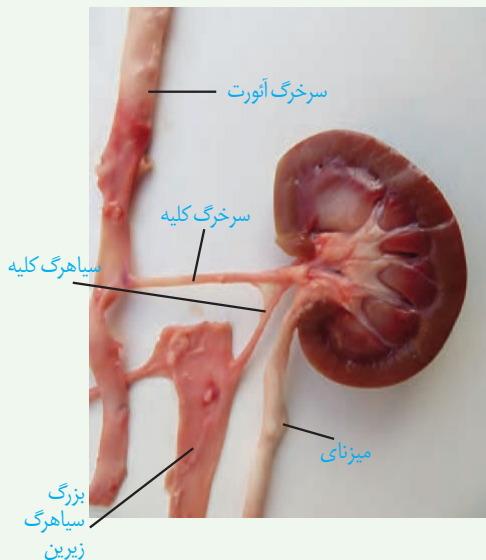
فعالیت

تشریح کلیه گوسفند

وسایل لازم: کلیه گوسفند، قیچی، چاقوی جراحی،

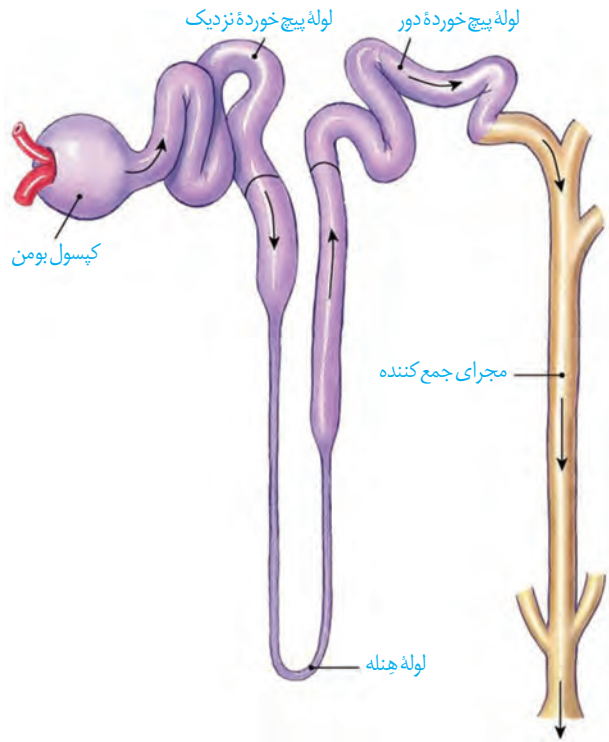
گمانه

- ۱- یک عدد کلیه گوسفند تهیه کنید. اگر چربی‌های اطراف آن کنده نشده باشد بهتر است.
- ۲- در بین چربی‌ها میزنای، سرخرگ و سیاهرگ کلیه را تشخیص دهید.
- ۳- کپسول کلیه با بریدن قسمتی از آن، به راحتی جدا می‌شود.
- ۴- با یک برش طولی در سطح محدب کلیه، آن را باز کنید و مطابق شکل روبه‌رو بخش‌های مختلف آن را تشخیص دهید.
- ۵- در وسط لگنچه، منفذ میزنای مشخص است. با وارد کردن گمانه و جلو بردن آن درون میزنای، می‌توانید اطمینان پیدا کنید که میزنای را درست تشخیص داده‌اید.



گردیزه (نفرون)ها

هر کلیه از حدود یک میلیون گردیزه تشکیل شده است که فرایند تشکیل ادرار در آنها انجام می‌شود. ابتدای گردیزه شبیه قیف است و کپسول بومن نام دارد. ادامه گردیزه، لوله‌ای شکل است و در قسمت‌هایی از طول خود، پیچ خوردگی‌هایی دارد و بر این اساس، به قسمت‌های مختلفی نام‌گذاری می‌شود (شکل ۴). این قسمت‌ها به ترتیب عبارت‌اند از **لوله پیچ خورده نزدیک**، **قوس هنله** که U شکل است و **لوله پیچ خورده دور** که گردیزه را به **مجرای جمع‌کننده** متصل می‌کند.



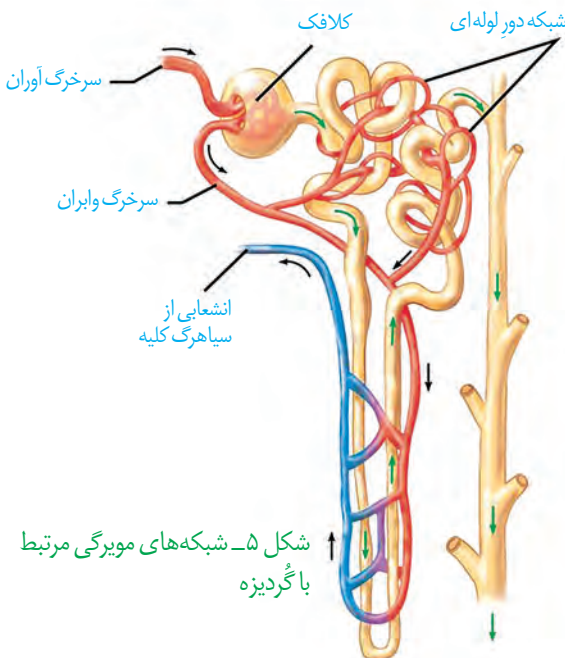
شکل ۴- گردیزه و مجرای جمع‌کننده

گردش خون در کلیه

منشأ ادرار از خون است و بنابراین بین گردیزه و رگ‌های خونی، ارتباط تنگاتنگی وجود دارد. با توجه به اینکه تبادل مواد از طریق مویرگ‌ها رخ می‌دهد در اینجا نیز شبکه‌های مویرگی را می‌بینیم. دو شبکه مویرگی در ارتباط با گردیزه مشاهده می‌شود. اولی به نام **کلافک (گلوبمرول)** که درون کپسول بومن قرار دارد و دومی به نام **دور لوله‌ای** که اطراف قسمت‌های دیگر گردیزه را فرا گرفته است.

به هر کلیه، یک سرخرگ وارد می‌شود. انشعابات این سرخرگ از فواصل بین هرم‌ها عبور می‌کند و در بخش قشری به سرخرگ‌های کوچک‌تری تقسیم می‌شود. انشعاب انتهایی این سرخرگ‌ها، **سرخرگ آوران** نامیده می‌شود. خون از طریق سرخرگ آوران به کلافک وارد می‌شود و از طریق **سرخرگ وایران** آن را ترک می‌کند. سرخرگ وایران در اطراف لوله‌های پیچ خورده و قوس هنله، شبکه

مویرگی دور لوله‌ای را می‌سازد. این مویرگ‌ها به یکدیگر می‌پیوندند و سیاهرگ‌های کوچکی به وجود می‌آورند که پس از عبور از فواصل بین هرم‌ها سرانجام سیاهرگ کلیه را می‌سازند. این سیاهرگ، خون را از کلیه بیرون می‌برد (شکل ۵).



شکل ۵- شبکه‌های مویرگی مرتبط با گردیزه

واژه‌شناسی

گردیزه (Nephron / نفرون)

نفرون به معنی واحد ساختاری و کارکردی کلیه در مهره‌داران است و معادل آن گردیزه انتخاب شده است که از اسم گرده و پسوند ایزه تشکیل شده است. گرده در فرهنگ دهخدا به معنی کلیه و قلوه و ایزه پسوند تصغیر است و همان معنی کوچک‌ترین واحد ساختاری کلیه را دارد.

کلافک

(Glomerulus / گلوبمرول)

گلوبمرول به شبکه مویرگی اول واقع در کپسول بومن در کلیه مهره‌داران گفته می‌شود. به دلیل در هم پیچیده بودن مویرگ‌ها به صورت کلاف کوچکی دیده می‌شود که واژه کلافک برای آن مناسب است.

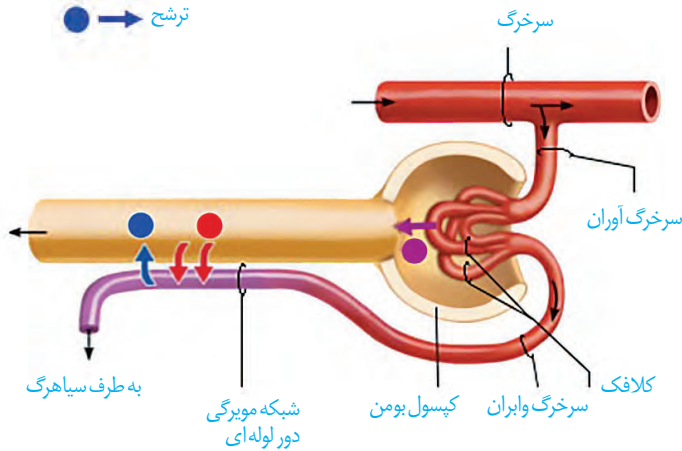
فرایند تشکیل ادرار، شامل سه مرحله **تراوش**، **بازجذب** و **ترشح** است (شکل ۶).

تراوش: تراوش، نخستین مرحله تشکیل ادرار است. در این مرحله بخشی از خونابه در نتیجه فشار خون از کلافک خارج شده به کپسول بومن وارد می‌شوند. این فرایند را **تراوش** می‌نامند. هم ساختار کلافک و هم ساختار کپسول بومن برای تراوش متناسب شده است. مویرگ‌های کلافک از نوع منفذدار هستند و بنابراین امکان خروج مواد از آنها به خوبی فراهم است. مولکول‌های بزرگ نمی‌توانند وارد کپسول بومن شوند. برای اینکه فشار تراوشی به حد کافی زیاد باشد سازوکار ویژه‌ای در نظر گرفته شده است. قطر سرخرگ آوران بیشتر از قطر سرخرگ وایبران است و این، فشار تراوشی را در مویرگ‌های کلافک افزایش می‌دهد (شکل ۷).

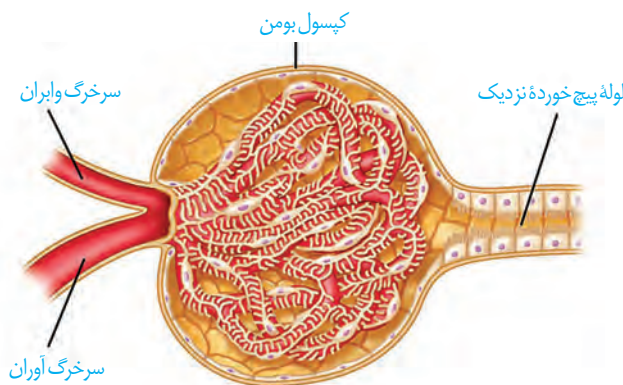
اطراف کلافک را کپسول بومن احاطه کرده است. کپسول بومن شامل دو دیواره است؛ یکی بیرونی و دیگری درونی. دیواره بیرونی از یاخته‌های پوششی سنگ‌فرشی ساده و دیواره درونی که با کلافک در تماس است، از یاخته‌هایی به نام **پودوسیت** تشکیل شده است (شکل ۸). هریک از پودوسیت‌ها رشته‌های کوتاه و پاماند فراوانی دارد. پودوسیت‌ها با پاهای خود اطراف مویرگ‌های کلافک را احاطه کرده‌اند.

شکاف‌های باریک متعددی که در فواصل بین پاها وجود دارد به خوبی امکان نفوذ مواد را به دیواره درونی فراهم می‌کند.

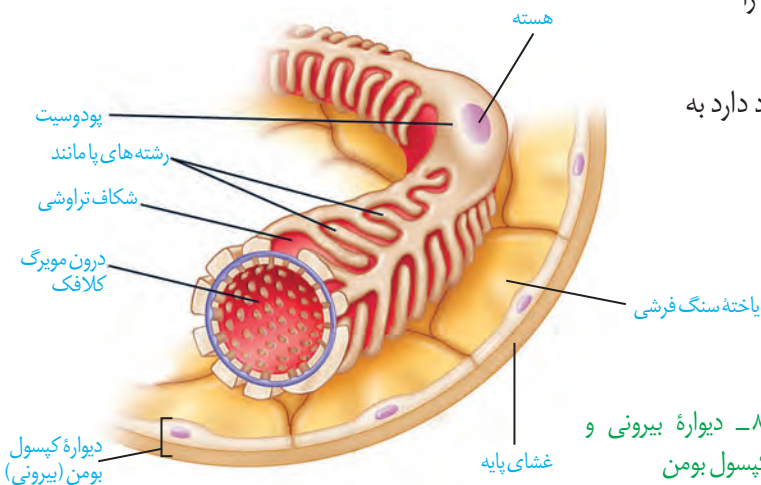
- تراوش
- بازجذب
- ترشح



شکل ۶- فرایند تشکیل ادرار

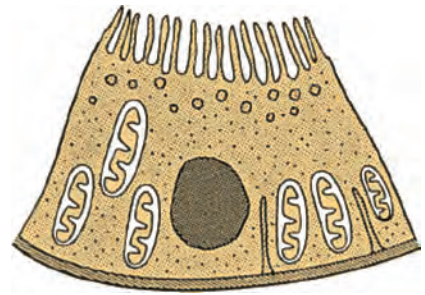


شکل ۷- کلافک درون کپسول بومن



شکل ۸- دیواره بیرونی و درونی کپسول بومن

باز جذب: در تراوش، مواد براساس اندازه وارد گردیزه می‌شوند و هیچ انتخاب دیگری صورت نمی‌گیرد. بنابراین، هم مواد دفعی مثل اوره و هم مواد مفید مثل گلوکز و آمینواسیدها به گردیزه وارد می‌شوند. مواد مفید دوباره باید به خون بازگردند. این مواد از طریق مویرگ‌های دورلوله‌ای، دوباره جذب و به این ترتیب به خون وارد می‌شوند. این فرایند را **بازجذب** می‌نامند.



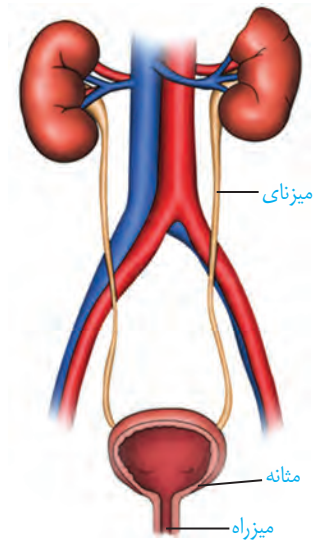
شکل ۹- یاخته‌های ریزپرز دار لوله پیچ‌خورده نزدیک

به محض ورود مواد تراوش شده به لوله پیچ‌خورده نزدیک، بازجذب آغاز می‌شود. دیواره لوله پیچ‌خورده نزدیک از یک لایه بافت پوششی مکعبی تشکیل شده است که ریزپرز دارند. ریزپرزها سطح بازجذب را افزایش می‌دهند. به علت وجود ریزپرزهای فراوان در لوله پیچ‌خورده نزدیک، مقدار مواد بازجذب شده در این قسمت از گردیزه، بیش از سایر قسمت‌هاست (شکل ۹).

در بیشتر موارد، بازجذب فعال است و با صرف انرژی انجام می‌گیرد؛ گرچه بازجذب ممکن است غیرفعال باشد مثل بازجذب آب که با اسمز انجام می‌شود.

ترشح: ترشح در جهت مخالف بازجذب رخ می‌دهد و در آن موادی که لازم است دفع شوند از مویرگ‌های دورلوله‌ای یا خود یاخته‌های گردیزه به درون گردیزه ترشح می‌شوند. این فرایند را **ترشح** می‌نامند. ترشح در بیشتر موارد به روش فعال و با صرف انرژی زیستی انجام می‌گیرد.

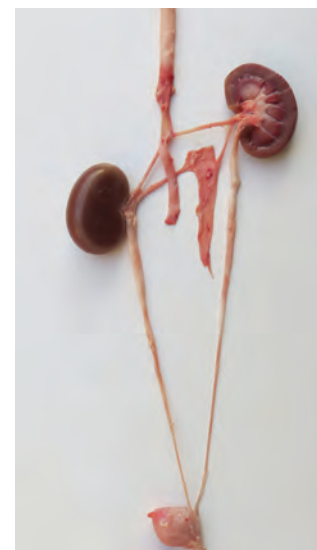
ترشح در تنظیم میزان pH خون، نقش مهمی دارد. اگر pH خون کاهش یابد، کلیه‌ها یون هیدروژن را ترشح می‌کنند. اگر pH خون افزایش یابد، کلیه بیکربنات بیشتری دفع می‌کند و به این ترتیب pH خون را در محدوده ثابتی نگه می‌دارد. بعضی سموم و داروها به وسیله ترشح دفع می‌شوند.



تخلیه ادرار

ادرار پس از ساخته شدن در کلیه، از طریق میزنای به مثانه وارد می‌شود (شکل ۱۰). حرکت کرمی دیواره میزنای، که نتیجه انقباضات ماهیچه صاف دیواره آن است، ادرار را به پیش می‌راند. پس از ورود به مثانه، درچه‌ای که حاصل چین خوردگی مخاط مثانه روی دهانه میزنای است، مانع بازگشت ادرار به میزنای می‌شود.

مثانه، کیسه‌ای است ماهیچه‌ای که ادرار را موقتاً ذخیره می‌کند. چنانچه حجم ادرار جمع شده در آن از حد مشخصی فراتر رود، کشیدگی دیواره مثانه باعث فعال شدن سازوکار تخلیه ادرار می‌شود. در محل اتصال مثانه به میزراه، بنداره‌ای قرار دارد که به هنگام ورود ادرار باز می‌شود. این بنداره، که **بنداره داخلی میزراه** نام دارد، از نوع ماهیچه صاف و غیرارادی است. بعد از این بنداره، بنداره دیگری به نام **بنداره خارجی میزراه** وجود دارد که از نوع ماهیچه مخطط و ارادی است. در نوزادان و کودکانی که هنوز ارتباط مغز و نخاع آنان به طور کامل شکل نگرفته است، تخلیه مثانه به صورت غیرارادی صورت می‌گیرد.



شکل ۱۰- دستگاه دفع ادرار- آیا می‌توانید اجزای شکل را نام گذاری کنید؟

ترکیب شیمیایی ادرار: دو فرایند بازجذب و ترشح، ترکیب مایع تراوش شده را هنگام عبور از گردیزه و مجرای جمع کننده، تغییر می دهند و آنچه به لگنچه می ریزد، ادرار است.

حدود ۹۵ درصد ادرار را آب تشکیل می دهد. دفع آب از طریق ادرار، راهی است برای تنظیم مقدار آب بدن. یون ها نیز بخش مهمی از ادرار را تشکیل می دهند که دفع آنها برای حفظ تعادل یون ها صورت می گیرد.

فراوان ترین ماده دفعی آلی در ادرار، **اوره** است. اوره چرا و چگونه تشکیل می شود؟ در نتیجه تجزیه موادی مانند آمینو اسیدها، آمونیاک تولید می شود که بسیار سمی است. تجمع آمونیاک در خون به سرعت به مرگ می انجامد. کبد، آمونیاک را از طریق ترکیب آن با کربن دی اکسید به اوره تبدیل می کند. ویژگی سمی بودن اوره از آمونیاک بسیار کمتر است و بنابراین، امکان انباشته شدن آن و دفع با فواصل زمانی امکان پذیر است. کلیه ها اوره را از خون می گیرند و همراه با ادرار از بدن دفع می کنند.

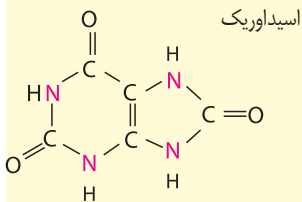
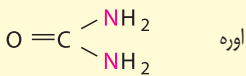
دیگر ماده دفعی نیتروژن دار در ادرار **اوریک اسید** است. اوریک اسید انحلال پذیری زیادی در آب ندارد؛ بنابراین تمایل آن به رسوب کردن و تشکیل بلور زیاد است. رسوب بلورهای اوریک اسید در کلیه ها باعث ایجاد سنگ کلیه و در مفاصل باعث بیماری نقرس می شود. نقرس یکی از بیماری های مفصلی است که با دردناک شدن مفاصل و التهاب آنها همراه است.

تنظیم آب: تنظیم آب تحت تنظیم عوامل مختلفی مثل هورمون ها قرار دارد. یکی از سازوکارها به غلظت مواد حل شده در خوناب ارتباط دارد. اگر غلظت این مواد از حد مشخصی فراتر رود، مرکز تشنگی در هیپوتالاموس تحریک می شود که نتیجه آن فعال شدن مرکز تشنگی و تمایل به نوشیدن آب و از طرف دیگر ترشح هورمون **ضد ادراری** است. این هورمون با اثر بر کلیه ها، بازجذب آب را افزایش می دهد و به این ترتیب دفع آب از راه ادرار کاهش پیدا می کند.

اگر بنا به عللی هورمون ضد ادراری ترشح نشود، مقدار زیادی ادرار رقیق از بدن دفع می شود. چنین حالتی به **دیابت بی مزه** معروف است. مبتلایان به این بیماری احساس تشنگی می کنند و مایعات زیادی می نوشند. این بیماری به علت برهم زدن توازن آب و یون ها در بدن، نیازمند توجه جدی است.

بیشتر بدانید

آمونیاک NH_3



بیشتر بدانید

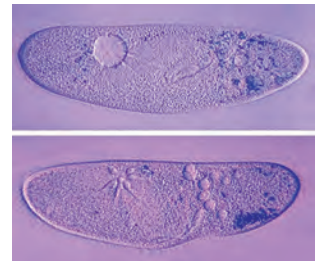
دیابت و کلیه ها

دیابت به رگ های کلیه آسیب می رساند. در نتیجه کلیه ها نمی توانند خون را به درستی تصفیه کنند. نمک و آب بیشتری در بدن می ماند که در نهایت به افزایش وزن و تجمع مواد دفعی در خون می انجامد.

دیابت همچنین باعث آسیب دیدن اعصاب مثانه و ایجاد مشکلاتی در تخلیه ادرار می شود. اگر مثانه به موقع تخلیه نشود کلیه ها آسیب می بینند. علاوه بر این، از آنجا که در دیابت، ادرار حاوی قند است تجمع طولانی مدت ادرار در مثانه امکان رشد باکتری ها و عفونت مثانه را فراهم می آورد.

گفتار ۳ تنوع دفع و تنظیم اسمزی در جانداران

در بسیاری از تک یاخته‌ای‌ها تنظیم اسمزی با کمک انتشار انجام می‌شود. ولی در برخی دیگر مانند پارامسی، آبی که در نتیجه اسمز وارد می‌شود به همراه مواد دفعی توسط واکوئول‌های انقباضی دفع می‌شود (شکل ۱۱).



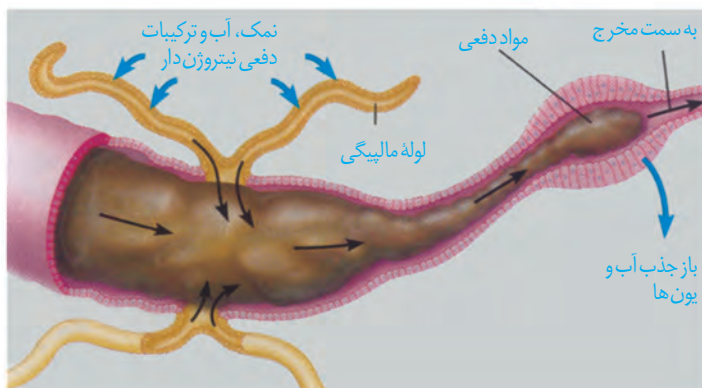
شکل ۱۱- واکوئول انقباضی در پارامسی

در بی مهرگان

نفریدی: بیشتر بی مهرگان دارای ساختار مشخصی برای دفع هستند. یکی از این ساختارها نفریدی است که برای دفع، تنظیم اسمزی یا هر دو مورد به کار می‌رود. نفریدی لوله‌ای است که با منفذی به بیرون باز و دفع از طریق آن انجام می‌شود.

آبشش: در سخت پوستان، مواد دفعی نیتروژن دار با انتشار ساده، از آبشش‌ها دفع می‌شوند.

لوله‌های مالپیگی: حشرات سامانه دفعی متصل به روده به نام لوله‌های مالپیگی دارند (شکل ۱۲). ماده دفعی در حشرات، اوریک اسید است. اوریک اسید همراه با آب به لوله‌های مالپیگی وارد می‌شود. محتوای لوله‌های مالپیگی به روده، تخلیه و با عبور مایعات در روده، آب و یون‌ها بازجذب می‌شوند. اوریک اسید از طریق روده به همراه مواد دفعی دستگاه گوارش دفع می‌شود.



شکل ۱۲- لوله‌های مالپیگی

مه‌ره داران

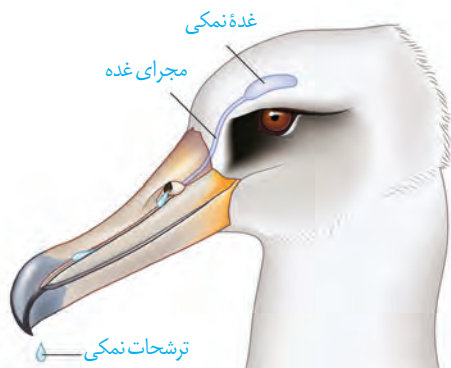
همه مه‌ره‌داران کلیه دارند. ماهیان غضروفی (مثل کوسه‌ها و سفره ماهی‌ها) که ساکن آب شور هستند، علاوه بر کلیه‌ها، دارای غده راست روده‌ای هستند که محلول نمک (سدیم کلرید) بسیار غلیظ را به روده ترشح می‌کنند.

در ماهیان آب شیرین، فشار اسمزی مایعات بدن از محیط بیشتر است؛ بنابراین آب می‌تواند وارد بدن شود. برای مقابله با چنین مشکلی، ماهیان آب شیرین معمولاً آب زیادی نمی‌نوشند (باز و بسته شدن دهان در ماهی‌ها تنها به منظور عبور آب و تبادل گازها در آبشش‌هاست). این ماهی‌ها حجم زیادی از آب را به صورت ادرار رقیق دفع می‌کنند.

در ماهیان آب شور فشار اسمزی مایعات بدن کمتر از فشار اسمزی محیط است؛ بنابراین آب، تمایل به خروج از بدن دارد. در نتیجه، ماهیان دریایی مقدار زیادی آب می‌نوشند. در این ماهیان برخی یون‌ها توسط کلیه به صورت ادرار غلیظ و برخی از طریق یاخته‌های آبشش دفع می‌شوند.

مثانه دوزیستان محل ذخیره آب و یون‌هاست. به هنگام خشک شدن محیط، دفع ادرار کم، و مثانه برای ذخیره بیشتر آب بزرگ‌تر می‌شود و سپس با جذب آب از مثانه به خون افزایش پیدا می‌کند.

کلیه در خزندگان و پرندگان توانمندی زیادی در بازجذب آب دارد. برخی خزندگان و پرندگان دریایی و بیابانی که آب دریا یا غذای نمک‌دار مصرف می‌کنند، می‌توانند نمک اضافه‌را از طریق غده نمکی نزدیک چشم یا زبان، به صورت قطره‌های غلیظ دفع کنند (شکل ۱۳).



شکل ۱۳- غده نمکی





درخت انجیر معابد

فصل ۶

از یاخته تا گیاه

امروزه نهان دانگان بیشترین گونه‌های گیاهی روی زمین را تشکیل می‌دهند. این گیاهان گرچه در جای خود ثابت‌اند؛ اما مانند جانوران به ماده و انرژی نیاز دارند. گیاهان برخلاف جانوران نمی‌توانند برای تأمین ماده و انرژی مورد نیاز خود از جایی به جای دیگر بروند و با احساس خطر، فرار یا به عامل خطر حمله کنند. چه ویژگی‌هایی به گیاهان کمک می‌کند تا بتوانند بر محدودیت ساکن بودن در محیط غلبه کنند؟ چگونه گیاهان می‌توانند در محیط‌های متفاوت، زندگی کنند؟ از طرفی گیاهان افزون بر اینکه منبع غذا برای مردم‌اند، تأمین‌کننده مواد اولیه صنعتی، مانند داروسازی و پوشاک نیز هستند. گیاهان چه ویژگی‌هایی دارند که مواد اولیه چنین صنعتی را تأمین می‌کنند؟ اولین قدم برای یافتن پاسخ چنین پرسش‌هایی، دانستن ویژگی‌های یاخته گیاهی و چگونگی سازمان‌یابی یاخته‌ها در گیاهان آوندی و شکل‌گیری پیکر آنهاست.



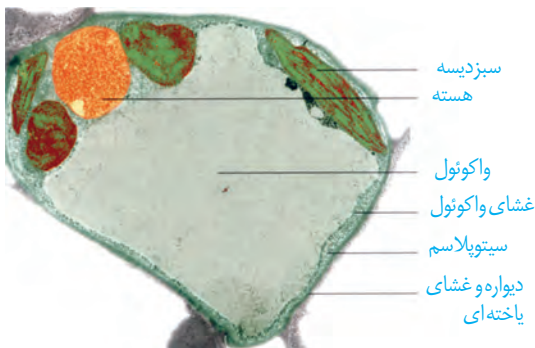
دیواره یاخته‌ای

اگر از شما بپرسند که یاخته در گیاهان چه تفاوتی با یاخته در جانوران دارد، احتمالاً علاوه بر سبزدیسه (کلروپلاست)، دیواره را نیز نام می‌برید. یاخته، اولین بار در بافت چوب‌پنبه، مشاهده شد (شکل ۱). چوب پنبه از یاخته‌های مرده تشکیل شده است. یاخته‌های این بافت در مشاهده با میکروسکوپ به صورت مجموعه حفره‌هایی دیده می‌شوند که دیواره‌هایی آنها را از یکدیگر جدا کرده‌اند. این دیواره‌ها، دیواره یاخته‌ای و تنها بخش باقی مانده از یاخته گیاهی در بافتی مرده‌اند. دیواره یاخته‌ای در بافت‌های زنده گیاه، بخشی به نام **پروتوپلاست** را دربر می‌گیرد. پروتوپلاست شامل غشا، سیتوپلاسم و هسته است (شکل ۲).

دیواره عملکردهای متفاوتی دارد. حفظ شکل و استحکام یاخته‌ها و در نتیجه استحکام پیکر گیاه، کنترل تبادل مواد بین یاخته‌ها و جلوگیری از ورود عوامل بیماری‌زا؛ از کارهای دیواره یاخته‌ای است. برای پی بردن به نقش دیواره در هر یک از این کارها ابتدا باید ساختار دیواره را بشناسیم.

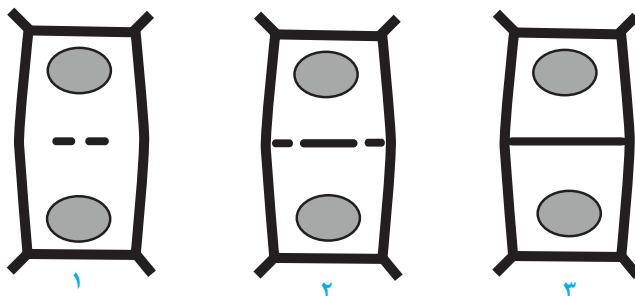
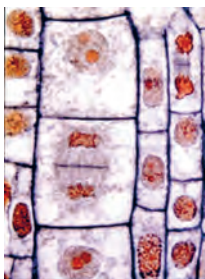


شکل ۱- میکروسکوپ ابتدایی رابرت هوک و آنچه مشاهده کرد.



شکل ۲- نوعی یاخته گیاهی

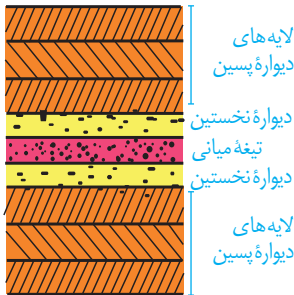
به شکل ۳ توجه کنید! در تقسیم یاخته گیاهی بعد از تقسیم هسته، لایه‌ای به نام **تیغه میانی** تشکیل می‌شود. این لایه، سیتوپلاسم را به دو بخش تقسیم می‌کند و در نتیجه، دو یاخته ایجاد می‌شود. تیغه میانی از **پکتین** ساخته شده است. پکتین مانند چسب عمل می‌کند و دو یاخته را در کنار هم نگه می‌دارد.



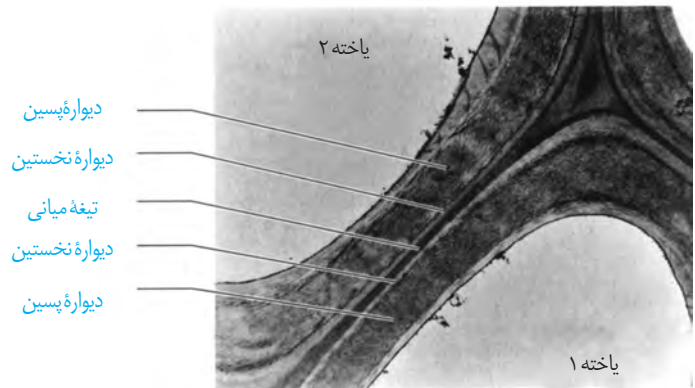
شکل ۳- تشکیل تیغه میانی

پروتوپلاست هر یک از یاخته‌های تازه تشکیل شده، **دیواره نخستین** را می‌سازد. در این دیواره، علاوه بر پکتین رشته‌های سلولز وجود دارند. دیواره نخستین، مانند قالبی، پروتوپلاست را در

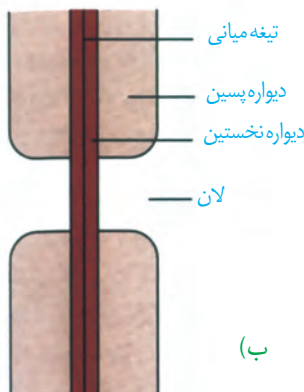
برمی‌گیرد؛ اما مانع رشد آن نمی‌شود؛ زیرا قابلیت گسترش و کشش دارد و همراه با رشد پروتوپلاست و اضافه شدن ترکیبات سازنده دیواره، اندازه آن نیز افزایش می‌یابد. در بعضی یاخته‌های گیاهی، لایه‌های دیگری نیز ساخته می‌شود که به مجموع آنها **دیوارهٔ پسین** می‌گویند. رشته‌های سلولزی در هر لایه از دیواره پسین با هم موازی و با لایهٔ دیگر زاویه دارند. استحکام و تراکم این دیواره از دیوارهٔ نخستین بیشتر است (شکل ۴). دیوارهٔ پسین مانع از رشد یاخته می‌شود.



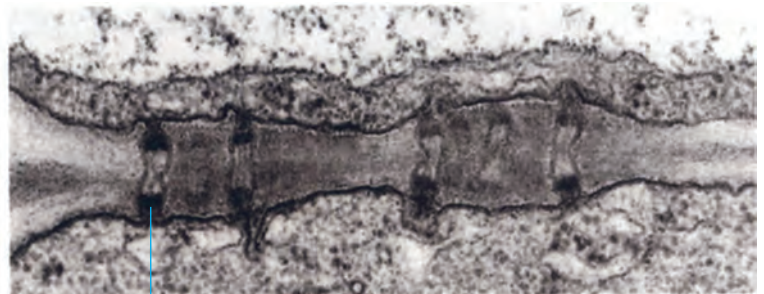
شکل ۴- چگونگی تشکیل دیوارهٔ یاخته‌ای. باتشکیل دیواره‌های نخستین و پسین، تیغهٔ میانی از پروتوپلاست دور می‌شود.



دیدیم که دیوارهٔ یاخته‌ای، دور تا دور یاخته را می‌پوشاند. آیا این دیواره، یاخته‌ها را به‌طور کامل از هم جدا می‌کند؟ مشاهدهٔ بافت‌های گیاهی با میکروسکوپ الکترونی نشان می‌دهد که کانال‌های سیتوپلاسمی از یاخته‌ای به یاختهٔ دیگر کشیده شده‌اند. به این کانال‌ها، **پلاسمودسم** می‌گویند (شکل ۵). مواد مغذی و ترکیبات دیگر می‌توانند از راه پلاسمودسم‌ها از یاخته‌ای به یاختهٔ دیگر بروند. پلاسمودسم‌ها در مناطقی از دیواره به نام **لان**، به فراوانی وجود دارند. لان به منطقه‌ای گفته می‌شود که دیوارهٔ یاخته‌ای در آنجا نازک مانده است.



(ب)



پلاسمودسم

(الف)

شکل ۵- تصویر پلاسمودسم با میکروسکوپ الکترونی (الف)، لان در دیوارهٔ یاخته‌ای (ب)

با استفاده از ابزار و مواد مناسب، نمونه‌ای از یاختهٔ گیاهی بسازید. در این نمونه، لایه‌های دیواره و ارتباط بین یاخته‌های گیاهی را نیز نشان دهید.


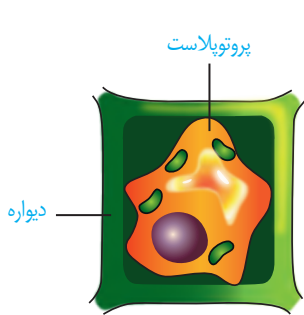
فعالیت

واکوئول، محلی برای ذخیره

چگونه گیاه پژمرده بعد از آبیاری شاداب می‌شود؟ برای پاسخ به این پرسش باید نگاهی دقیق به یاخته گیاه داشته باشیم. می‌دانیم یکی از ویژگی‌های یاخته‌های گیاهی، داشتن اندامکی به نام **واکوئول** است. در این اندامک، مایعی به نام شیره واکوئولی قرار دارد. شیره واکوئولی ترکیبی از آب و مواد دیگر است. مقدار و ترکیب این شیره، از گیاهی به گیاه دیگر و حتی از بافتی به بافت دیگر فرق می‌کند.

بعضی یاخته‌های گیاهی واکوئول درشتی دارند که بیشتر حجم یاخته را اشغال می‌کند (شکل ۲). به شکل ۶ نگاه کنید! وقتی تعداد مولکول‌های آب در واحد حجم در محیط بیشتر از یاخته باشد، آب وارد یاخته می‌شود، در نتیجه پروتوپلاست حجیم و به دیواره فشار می‌آورد. در این حالت واکوئول‌ها پر آب و حجیم‌اند. دیواره یاخته‌ای در برابر این فشار تا حدی کشیده می‌شود، اما پاره نمی‌شود. یاخته در این وضعیت در حالت **تورژسانس** یا تورم است. حالت تورم یاخته‌ها در بافت‌های گیاهی سبب می‌شود که اندام‌های غیر چوبی، مانند برگ و گیاهان علفی استوار بمانند.

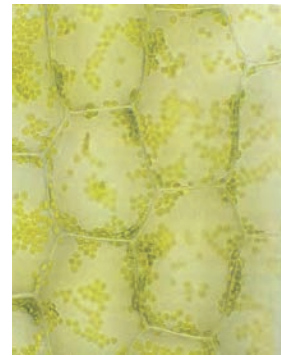
اگر به هر علتی تراکم آب کم شود، پروتوپلاست جمع می‌شود و از دیواره فاصله می‌گیرد. این وضعیت، **پلاسمولیز** نامیده می‌شود. اگر پلاسمولیز طولانی مدت باشد، پژمردگی حتی با آبیاری فراوان نیز رفع نمی‌شود و گیاه به دنبال مرگ یاخته‌هایش، می‌میرد.



پلاسمولیز



پروتوپلاست



تورژسانس

شکل ۶- تورژسانس و پلاسمولیز در یاخته گیاهی

تورژسانس و پلاسمولیز در یاخته‌های گیاه

آب بر اساس اسمزی می‌تواند از غشای پروتوپلاست و واکوئول، آزادانه و بدون صرف انرژی عبور کند.

الف) برای مشاهده تورژسانس و پلاسمولیز در یاخته گیاهی آزمایشی طراحی و اجرا کنید.

ب) گفتیم که یاخته‌های گیاه بر اساس تفاوت فشار اسمزی پروتوپلاست و محیط اطراف، به حالت تورژسانس یا پلاسمولیز در

می‌آیند. آیا پلاسمولیز و تورژسانس یاخته‌ها، سبب تغییر در اندازه یا وزن بافت گیاهی می‌شود؟ چگونه با روش علمی به این پرسش

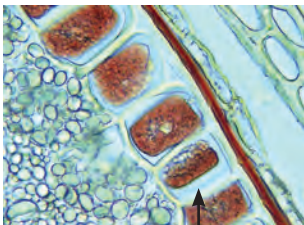
پاسخ می‌دهید؟

فعالیت

به جز آب، واکوئول محل ذخیره ترکیبات پروتئینی، اسیدی و رنگی است که در گیاه ساخته می‌شوند؛ **آنتوسیانین** یکی از ترکیبات رنگی است که در واکوئول ذخیره می‌شود. آنتوسیانین در ریشه چغندر قرمز، کلم بنفش و میوه‌هایی مانند پرتقال توسرخ، به مقدار فراوانی وجود دارد. جالب است که رنگ آنتوسیانین در pH‌های متفاوت تغییر می‌کند.

فعالیت

غشای واکوئول مانند غشای یاخته، ورود مواد به واکوئول و خروج از آن را کنترل می‌کند. برگ کلم بنفش را چند دقیقه در آب معمولی قرار دهید، چه اتفاقی می‌افتد؟ اکنون آن را به مدت چند دقیقه بجوشانید. چه می‌بینید؟ مشاهده خود را تفسیر کنید.



شکل ۷- یاخته‌هایی که گلوتن در واکوئول آنها ذخیره شده است.

پروتئین، یکی دیگر از ترکیباتی است که در واکوئول ذخیره می‌شود. گلوتن یکی از این پروتئین‌هاست که در گندم و جو ذخیره می‌شود و برای رشد و نمو رویان به مصرف می‌رسد (شکل ۷).

رنگ‌ها در گیاهان

گیاهان را به سبز بودن می‌شناسیم؛ در حالی که انواعی از رنگ‌ها در گیاهان دیده می‌شود. دانستیم که بعضی رنگ‌ها به علت وجود مواد رنگی در واکوئول است. آیا رنگ زرد یا نارنجی ریشه هویج، و رنگ قرمز میوه گوجه فرنگی مربوط به ترکیبات رنگی در واکوئول‌هاست؟ پاسخ منفی است. یکی دیگر از ویژگی‌های یاخته‌های گیاهی، داشتن اندامکی به نام **دیسه (پلاست)** است. انواعی از دیسه‌ها در گیاهان وجود دارد (شکل ۸). **سبز دیسه (کلروپلاست)** به مقدار فراوانی سبزینه دارد. به همین علت گیاهان، سبز دیده می‌شوند.



نوع دیگری دیسه وجود دارد که در آن، رنگیزه‌هایی با نام **کاروتنوئیدها** ذخیره می‌شوند. به این دیسه‌ها، **رنگ دیسه (کروموپلاست)** می‌گویند؛ مثلاً رنگ دیسه‌ها در یاخته‌های ریشه گیاه هویج، مقدار فراوانی **کاروتن** دارند که نارنجی است.

مشخص شده است که ترکیبات رنگی در واکوئول و رنگ دیسه، پاداکسنده (آنتی اکسیدان) اند. ترکیبات پاداکسنده در پیشگیری از سرطان و نیز بهبود کارکرد مغز و اندام‌های دیگر نقش مثبتی دارند.

بعضی دیسه‌ها رنگیزه ندارند، مثلاً در دیسه‌های یاخته‌های بخش خوراکی سیب زمینی، به مقدار فراوانی نشاسته ذخیره شده است که به همین علت به آن **نشادیسه (آمیلوپلاست)** می‌گویند. وجود نشادیسه در بخش خوراکی سیب زمینی را چگونه نشان می‌دهید؟

ذخیره نشاسته، هنگام رویش جوانه‌های سیب زمینی، برای رشد جوانه‌ها و تشکیل پایه‌های جدید از گیاه سیب زمینی مصرف می‌شود. سبز دیسه‌ها کاروتنوئید هم دارند که با رنگ سبزینه پوشیده می‌شوند؛ در پاییز با کاهش طول روز و کم شدن نور، ساختار سبز دیسه‌ها در بعضی گیاهان

بیشتر بدانید

شیر با چای یا چای با شیر؟

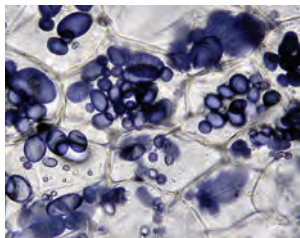
چرا اگر در شیر چای بریزید، شیر کدر می‌شود؟ در واکوئول یاخته‌های برگ چای، اگرالیک اسید وجود دارد. انواعی از سنگ‌های کلیه از نوع اگرالات هستند. اگرالیک اسید با کلسیم شیر تشکیل بلورهای جامد کلسیم اگرالات می‌دهد که رسوب می‌کنند. بنابراین اگر می‌خواهید کلسیم شیر به بدن شما برسد، چای به شیر اضافه نکنید. درباره افزودن شیر به چای چه نظری دارید؟

واژه‌شناسی

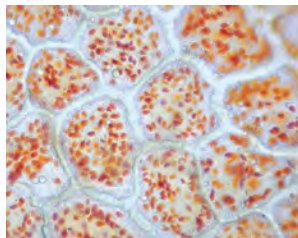
دیسسه (Plastide / پلاست)

پلاست اندامکی است که توسط غشا محصور و در یاخته‌های گیاهی ساخته شدن و ذخیره‌سازی مواد را برعهده دارد. معادل آن دیسه است که از مصدر دیسیدن به معنی شکل دادن و ساختن گرفته شده است. همراه این واژه سبز دیسه - رنگ دیسه و نشادیسسه نیز ساخته شده است.

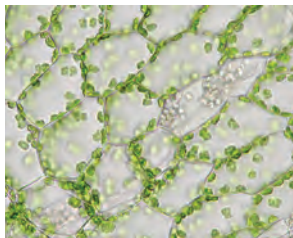
تغییر می‌کند و به رنگ دیسه تبدیل می‌شوند. در این هنگام سبزینه در برگ تجزیه می‌شود و مقدار کاروتنوئیدها افزایش می‌یابد.



پ) نشادیسسه



ب) رنگ دیسه



الف) یاخته‌های دارای سبز دیسه

شکل ۸- دیسه در یاخته‌های گیاهان

فعالیت

مشاهده رنگ دیسه

وسایل و مواد لازم: تیغه و تیغک، میکروسکوپ نوری، تیغ، آب مقطر، پوست

گوجه فرنگی.

روش کار: برای مشاهده رنگ دیسه، با استفاده از تیغ، سمت داخلی پوست گوجه فرنگی را خراش دهید و از آن نمونه میکروسکوپی تهیه و با میکروسکوپ مشاهده کنید. گوجه فرنگی در ابتدا سبز رنگ و با گذشت زمان رنگ آن تغییر می‌کند. چه توضیحی برای این رویداد دارید؟ چگونه می‌توانید به طور تجربی، درستی توضیح خود را تأیید کنید؟

ترکیبات دیگر در گیاهان

معمولاً گیاهان را به عنوان جانداران غذا ساز می‌شناسیم، اما گیاهان ترکیبات دیگری می‌سازند که استفاده‌هایی به غیر از غذا دارند (شکل ۹)؛ مثلاً قبل از تولید رنگ‌های شیمیایی، گیاهان از منابع اصلی تولید رنگ برای رنگ آمیزی الیاف بودند. آیا می‌دانید قبل از تولید رنگ‌های شیمیایی از چه گیاهانی برای رنگ آمیزی الیاف فرش استفاده می‌شد؟

شکل ۹- گیاهان استفاده‌های متفاوتی دارند.



روناس

نعنا

گل محمدی

اگر دمبرگ انجیر را ببرید یا اینکه میوه تازه انجیر را از شاخه جدا کنید، از محل برش، شیره سفید رنگی خارج می شود که به آن شیرابه می گویند. ترکیب شیرابه، در گیاهان متفاوت، فرق می کند. لاستیک برای اولین بار از شیرابه نوعی درخت ساخته شد.



شکل ۱۰- خروج شیرابه از گیاهان

بیشتر بدانید

آکالوئیدها در گیاهان

آکالوئیدها ترکیبات نیتروژن دارند. در ارتباط با ساخته شدن این ترکیبات در گیاهان سه نظر وجود دارد: راهی برای دفع نیتروژن اضافی، ذخیره نیتروژن و استفاده از آن در هنگام نیاز و در امان ماندن از گیاه خواران.

آکالوئیدها از ترکیبات گیاهی اند و در شیرابه بعضی گیاهان به مقدار فراوانی وجود دارند. نقش آنها دفاع از گیاهان در برابر گیاه خواران است. آکالوئیدها را در ساختن داروهایی مانند مسکن ها، آرام بخش ها و داروهای ضد سرطان به کار می برند. اما بعضی آکالوئیدها اعتیاد آورند. امروزه مصرف مواد اعتیادآور، از معضلات بسیاری از کشورهاست که سلامت و امنیت آنها را تهدید می کند. آیا گیاهی بودن یک ترکیب به معنی بی ضرر بودن آن است؟ شرکت های تجاری در تبلیغ محصولات خود و تشویق مردم برای خرید، عبارت محصول کاملاً گیاهی است و هیچ ضرری ندارد! را به کار می برند. در حالی که ترکیباتی در گیاهان ساخته می شود که در مقادیر متفاوت، ممکن است سرطان زا، مسموم کننده یا حتی کشنده باشند.



فعالیت

برگ بعضی گیاهان بخش های

غیر سبز، مثلاً سفید، زرد، قرمز

یا بنفش دارد. دیده می شود که کاهش نور در چنین

گیاهانی، سبب افزایش مساحت بخش های سبز

می شود. چه توضیحی برای این مشاهده دارید؟ این

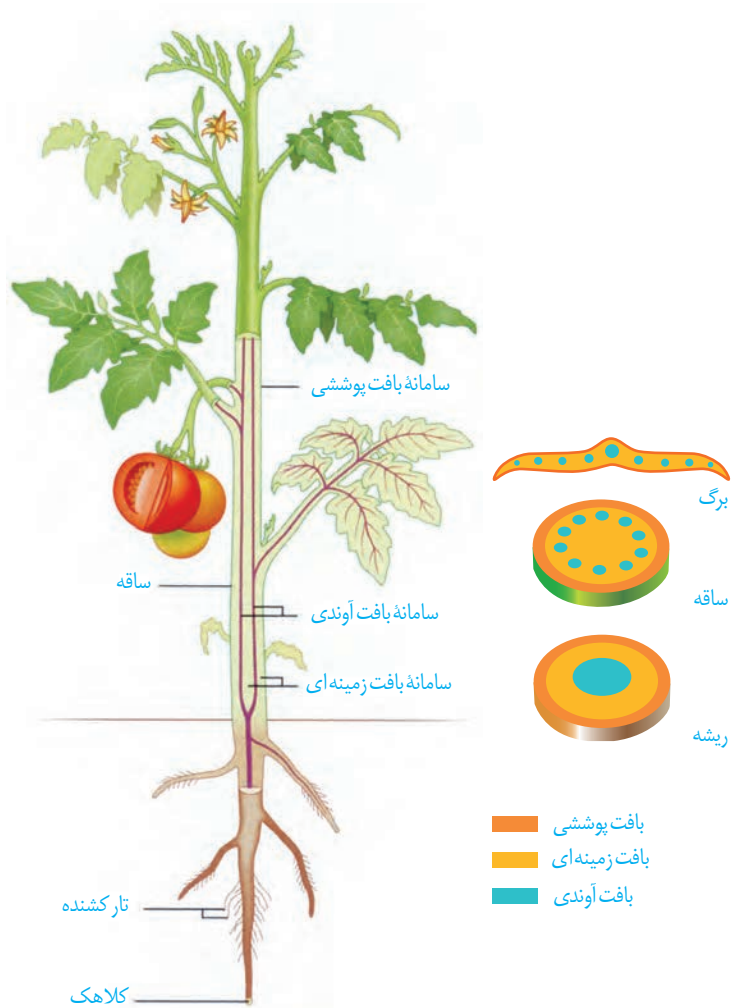
تغییر رنگ در برگ چه اهمیتی در ماندگاری گیاه دارد؟

اگر ریشه، ساقه و برگ را در نهان دانگان برش دهیم، سه بخش در آنها قابل تشخیص است؛ به هر یک از این بخش‌ها **سامانه بافتی** می‌گویند؛ زیرا هر سامانه از بافت‌ها و یاخته‌های گوناگونی تشکیل شده است؛ بنابراین پیکر گیاهان نهان دانه (گل دار) از سه سامانه بافتی به نام‌های **پوششی، زمینه‌ای و آوندی** تشکیل می‌شود (شکل ۱۱). هر سامانه بافتی، عملکرد خاصی دارد؛ مثلاً سامانه بافت پوششی، اندام‌ها را در برابر خطرهایی حفظ می‌کند که در محیط بیرون قرار دارند. به نظر شما عملکرد دو سامانه دیگر چیست؟ ادامه، به توضیح هر یک از این سامانه‌ها می‌پردازیم.

سامانه بافت پوششی

این سامانه سراسر اندام گیاه را می‌پوشاند و آن را در برابر عوامل بیماری‌زا و تخریب‌گر، حفظ می‌کند؛ بنابراین عملکردی شبیه پوست در جانوران دارد. سامانه بافت پوششی در برگ‌ها، ساقه‌ها و ریشه‌های جوان **روپوست** نامیده می‌شود و معمولاً از یک لایه یاخته تشکیل شده است (شکل ۱۲). سامانه بافت پوششی در اندام‌های مسن گیاه، **پیراپوست (پریدرم)** نامیده می‌شود و با آن در گفتار ۳، آشنا می‌شوید.

یکی از کارهای روپوست، کاهش تبخیر آب از اندام‌های هوایی گیاه است؛ اما روپوست چگونه این کار را انجام می‌دهد؟ در شکل ۱۲ می‌بینید که لایه‌ای روی سطح بیرونی یاخته‌های روپوست قرار دارد. این لایه **پوستک** نامیده می‌شود. پوستک از ترکیبات لیپیدی ساخته شده است. یاخته‌های روپوستی این ترکیبات را می‌سازند. پوستک از ورود نیش حشرات و عوامل بیماری‌زا به گیاه، نیز جلوگیری می‌کند و در حفظ گیاه در برابر سرما نیز نقش دارد. بعضی گیاهان پوستک ضخیم دارند. پوستک به علت لیپیدی بودن به کاهش تبخیر آب از سطح برگ کمک می‌کند.



شکل ۱۱- سه سامانه بافتی در گیاه



شکل ۱۲- روپوست در برگ

واژه‌شناسی

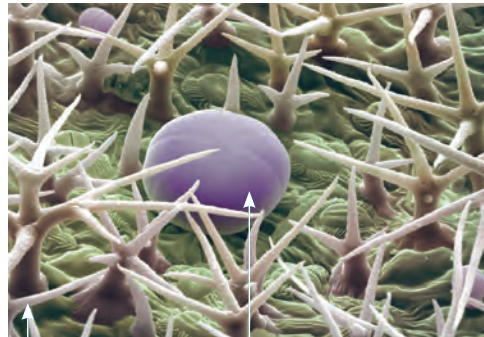
نرم آکنه

(Parenchyma / پارانشیم)

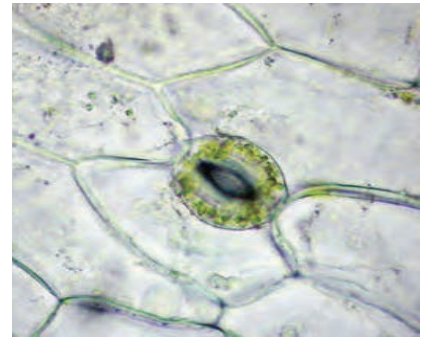
پارانشیم به بافت نرم و پُرکننده‌ای گفته می‌شود که فواصل بافت‌های دیگر را پر می‌کند. معادل نرم آکنه از صفت نرم و اسم آکنه به معنی آکنده و پرکننده تشکیل شده است یعنی بافتی پرکننده و نرم. در کنار آن کلمات سخت آکنه - چسب آکنه و هواکنه نیز معنی پیدا می‌کنند.

شکل ۱۳- الف) یاخته‌های نگهبان روزنه، ب) یاخته‌ترشچی و گُرک.

بعضی یاخته‌های روپوستی در اندام‌های هوایی گیاه، به یاخته‌های نگهبان روزنه، گُرک و یاخته‌های ترشچی، تمایز می‌یابند (شکل ۱۳). یاخته‌های نگهبان روزنه برخلاف یاخته‌های دیگر روپوست، سبزینه دارند. تار کشنده در ریشه‌های جوان، از تمایز یاخته‌های روپوست ایجاد می‌شود. روپوست ریشه، پوستک ندارد. به نظر شما این ویژگی چه فایده‌ای دارد؟



ب) یاخته‌ترشچی گُرک



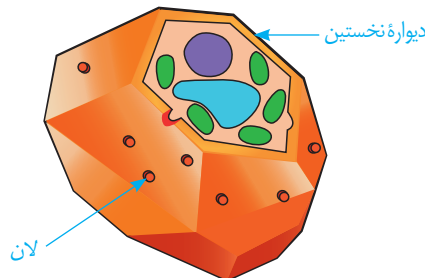
الف)

سامانه بافت زمینه‌ای

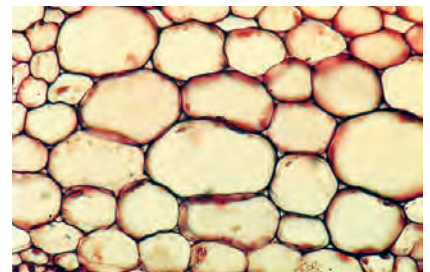
این سامانه که فضای بین روپوست و بافت آوندی را پر می‌کند از سه نوع بافت پارانشیمی (نرم آکنه)، کلانشیمی (چسب آکنه) و اسکلرانشیمی (سخت آکنه) تشکیل می‌شود.

بافت پارانشیمی رایج‌ترین بافت در این سامانه است. یاخته‌های پارانشیمی، دیواره نخستین نازک و چوبی نشده دارند؛ بنابراین نسبت به آب نفوذپذیرند (شکل ۱۴). وقتی گیاه زخمی می‌شود، یاخته‌های پارانشیمی تقسیم می‌شوند و آن را بازسازی می‌کنند. بافت پارانشیمی کارهای متفاوتی، مانند ذخیره مواد و فتوسنتز انجام می‌دهد. پارانشیم سبزینه دار به فراوانی در اندام‌های سبز گیاه، مانند برگ دیده می‌شود.

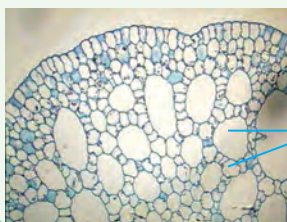
شکل ۱۴- الف) یاخته‌های پارانشیمی با دیواره نازک، ب) ترسیمی از یاخته‌های پارانشیمی



ب)



الف)


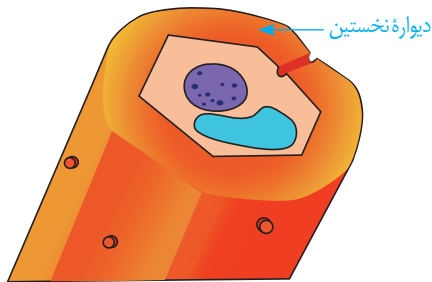


سامانه بافت زمینه‌ای در گیاهان آبی از پارانشیمی ساخته می‌شود که فاصله فراوانی بین یاخته‌های آن وجود دارد. این فاصله‌ها با هوا پر شده‌اند. این ویژگی چه اهمیتی برای گیاهی دارد که در آب زندگی می‌کند؟

حفره هوا

فعالیت

بافت کلانشیم از یاخته‌هایی با همین نام ساخته شده است. این یاخته‌ها دیوارهٔ پسین ندارند؛ اما دیوارهٔ نخستین آنها ضخیم است. به همین علت کلانشیم‌ها ضمن ایجاد استحکام، سبب انعطاف‌پذیری اندام می‌شوند. این بافت مانع رشد اندام گیاهی نمی‌شود. یاخته‌های کلانشیمی معمولاً زیر روپوست قرار می‌گیرند (شکل ۱۵).



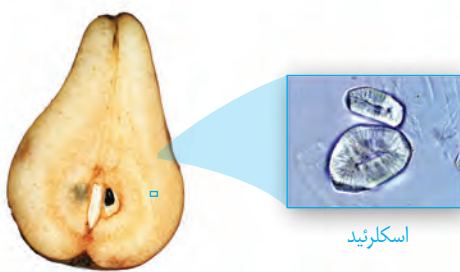
(ب)

(الف)

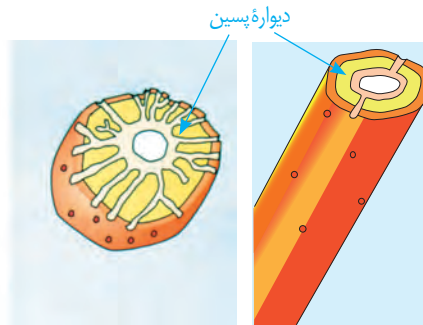
شکل ۱۵- الف) دیوارهٔ ضخیم یاخته‌های کلانشیمی به علت رنگ آمیزی تیره دیده می‌شود، ب) ترسیمی از یاخته کلانشیمی

بافت اسکلرانشیم از یاخته‌هایی با همین نام ساخته شده است. ذره‌های سختی که هنگام خوردن گلایی زیر دندان حس می‌کنیم، مجموعه‌ای از این یاخته‌هاست. یاخته‌های اسکلرانشیمی دیوارهٔ پسین ضخیم و چوبی شده دارند. چوبی شدن دیواره، سبب مرگ پروتوپلاست می‌شود. دیوارهٔ این یاخته‌ها ضخیم و به علت تشکیل ماده‌ای به نام لیگنین (چوب) چوبی شده است. چوبی شدن دیواره سبب مرگ پروتوپلاست می‌شود. این یاخته‌ها نقش استحکامی دارند. دو نوع یاختهٔ اسکلرانشیمی وجود دارد. اسکلرئیدها، یاخته‌های کوتاه و فیبرها، یاخته‌های دراز اسکلرانشیمی‌اند. از فیبرها در تولید طناب و پارچه نیز استفاده می‌کنند.

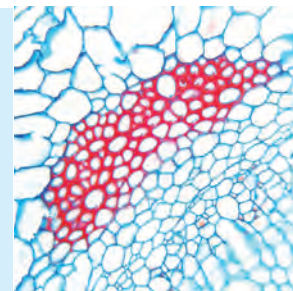
بیشتر بدانید
گُرک‌های گزنده!
بعضی کرک‌ها نقش دفاعی نیز دارند. گُرک گزنده در گیاه گزنده، اسید دارد. وقتی نوک سوزن مانندگُرک، شکسته می‌شود، اسید از آن خارج و سبب سوزش پوست می‌شود.



(ج)



(ب)



(الف)

سامانه بافت آوندی

این سامانه بافتی، ترابری مواد را در گیاه بر عهده دارد، زیرا دارای بافت آوند چوبی و بافت آوند آبکشی است. به یاد می‌آورید این دو نوع بافت چه تفاوت اساسی با هم دارند؟ اصلی‌ترین یاخته‌های این بافت‌ها، یاخته‌هایی‌اند که آوندها را می‌سازند و همان‌طور که می‌دانید

شکل ۱۶- الف) فیبر در برش عرضی و ترسیمی از آن، ب) اسکلرئید و ترسیمی از آن، ج) اسکلرئید در گلایی



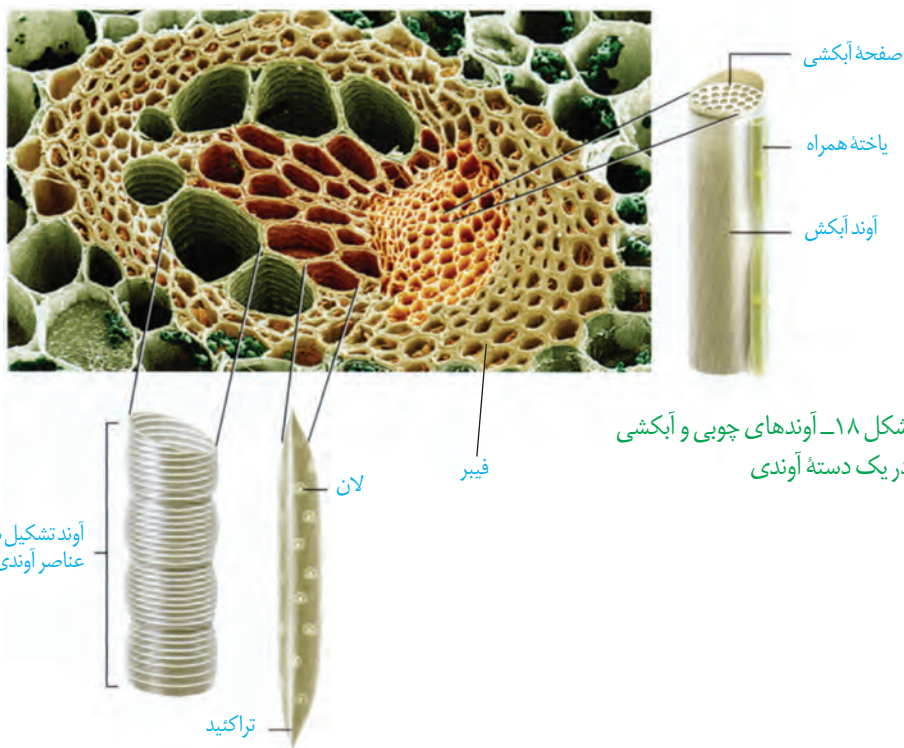
شکل ۱۷- آوندهای چوبی به شکل‌های متفاوتی دیده می‌شوند.

شیره خام و پرورده را در سراسر گیاه جابه‌جا می‌کنند. در این بافت‌ها علاوه بر آوندها، یاخته‌های دیگری مانند یاخته‌های پارانشیمی و فیبر نیز وجود دارد.

آوندهای چوبی یاخته‌های مرده‌ای‌اند که دیواره چوبی شده آنها، به جا مانده است. لیگنین در دیواره یاخته‌های آوندچوبی به شکل‌های متفاوتی قرار می‌گیرد (شکل ۱۷).

بعضی آوندهای چوبی از یاخته‌های دوکی شکل دراز به نام **تراکنید** ساخته شده‌اند. درحالی‌که بعضی دیگر، از به دنبال هم قرار گرفتن یاخته‌های کوتاهی به نام **عنصر آوندی** تشکیل می‌شوند. در عناصر آوندی دیواره عرضی از بین رفته و لوله پیوسته‌ای تشکیل شده است.

آوند آبکش از یاخته‌هایی ساخته می‌شود که دیواره نخستین سلولزی دارند. دیواره عرضی در این یاخته‌ها صفحه آبکشی دارد. این یاخته‌ها هسته ندارند، اما زنده‌اند؛ زیرا سیتوپلاسم آنها از بین نرفته است. در کنار آوندهای آبکش زنده‌انگان، **یاخته‌های همراه** قرار دارند. این یاخته‌ها به آوندهای آبکش در ترابری شیره پرورده کمک می‌کنند (شکل ۱۸). همان‌طور که در شکل ۱۸ می‌بینید، دسته‌های فیبر، آوندها را در بر گرفته‌اند.

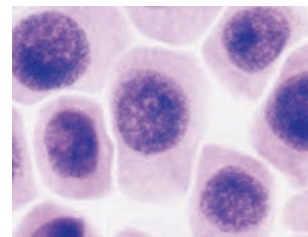


شکل ۱۸- آوندهای چوبی و آبکشی در یک دسته آوندی

فعالیت

الف) سه سامانه بافتی و انواع یاخته‌های سامانه بافت زمینه‌ای را با هم مقایسه کنید.
 ب) مقدار بافت آوندچوبی در ساقه چوبی شده، به مراتب بیشتر از بافت آوند آبکشی است. این وضع چه اهمیتی برای گیاه دارد؟

از دانه تا درخت

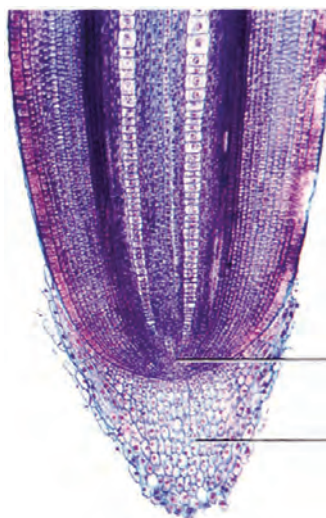


یاخته‌های مریستمی

چگونه از دانه‌ای کوچک، گیاهی چندین برابر بزرگ‌تر یا درختی با چندین متر طول ایجاد می‌شود؟ چه چیزی سبب می‌شود که گیاهان، شاخه و برگ جدید تولید کنند؟ یا چرا از شاخه یا ساقه جدا شده، گیاه کاملی ایجاد می‌شود؟

تا به اینجا دانستید که پیکر گیاه آوندی از سه سامانه بافتی ساخته می‌شود. اما منشأ این سامانه‌های بافتی چیست؟ برای پاسخ به این پرسش باید به نوک ساقه و ریشه توجه کنیم.

در نوک ساقه و ریشه، یاخته‌های مریستمی وجود دارند که دائماً تقسیم می‌شوند و یاخته‌های موردنیاز برای ساختن سامانه‌های بافتی را تولید می‌کنند. یاخته‌های مریستمی به طور فشرده قرار می‌گیرند. هسته درشت آنها که در مرکز قرار دارد، بیشتر حجم یاخته را به خود اختصاص می‌دهد. در ادامه، انواع مریستم را بررسی می‌کنیم.



مریستم نزدیک به نوک ریشه

کلاهک

مریستم نخستین ریشه: این مریستم نزدیک به انتهای ریشه قرار دارد و با بخش انگشتانه مانندی به نام **کلاهک** پوشیده می‌شود. کلاهک ترکیب پلی ساکاریدی ترشح می‌کند که سبب لزج شدن سطح آن و در نتیجه نفوذ آسان ریشه به خاک می‌شود. یاخته‌های سطح بیرونی کلاهک به طور مداوم می‌ریزند و با یاخته‌های جدید، جانشین می‌شوند. کلاهک، مریستم نزدیک به نوک ریشه را در برابر آسیب‌های محیطی، حفظ می‌کند.

مریستم نخستین ساقه: این مریستم‌ها عمدتاً در جوانه‌ها قرار دارند. جوانه‌ها مجموعه‌ای از یاخته‌های مریستمی و برگ‌های بسیار جوان اند. رشد جوانه‌ها علاوه بر افزایش طول ساقه، به ایجاد شاخه‌ها و برگ‌های جدیدی نیز می‌انجامد. جوانه‌ها را براساس محلی که قرار دارند در دو گروه جوانه رأسی (انتهایی) و جوانه جانبی قرار می‌دهند (شکل ۲۰).

مریستم نخستین علاوه بر جوانه‌ها، در فاصله بین دو گره در ساقه یا شاخه نیز وجود دارد. گره، محلی است که برگ به ساقه یا شاخه متصل است.

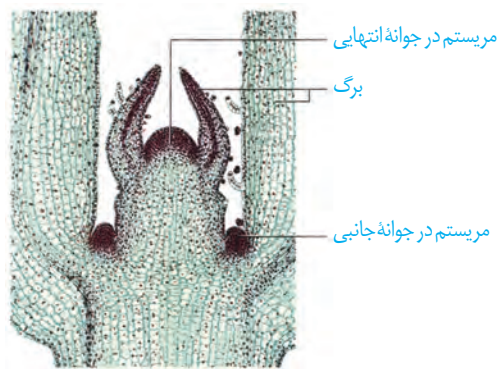
نتیجه فعالیت مریستم‌های نخستین، افزایش طول و تا حدودی عرض ساقه، شاخه و ریشه است. همچنین برگ و انشعاب‌های جدید ساقه و ریشه از فعالیت این مریستم‌ها تشکیل می‌شوند. چون با فعالیت این مریستم‌ها ساختار نخستین گیاه شکل می‌گیرد، به این مریستم‌ها، مریستم‌های **نخستین** می‌گویند.

شکل ۱۹- مریستم نزدیک به نوک ریشه در مشاهده با میکروسکوپ نوری



شکل ۲۰- الف) مریستم ساقه در مشاهده با میکروسکوپ نوری، ب) ترسیمی از ساقه و محل مریستم‌ها در آن

(ب)



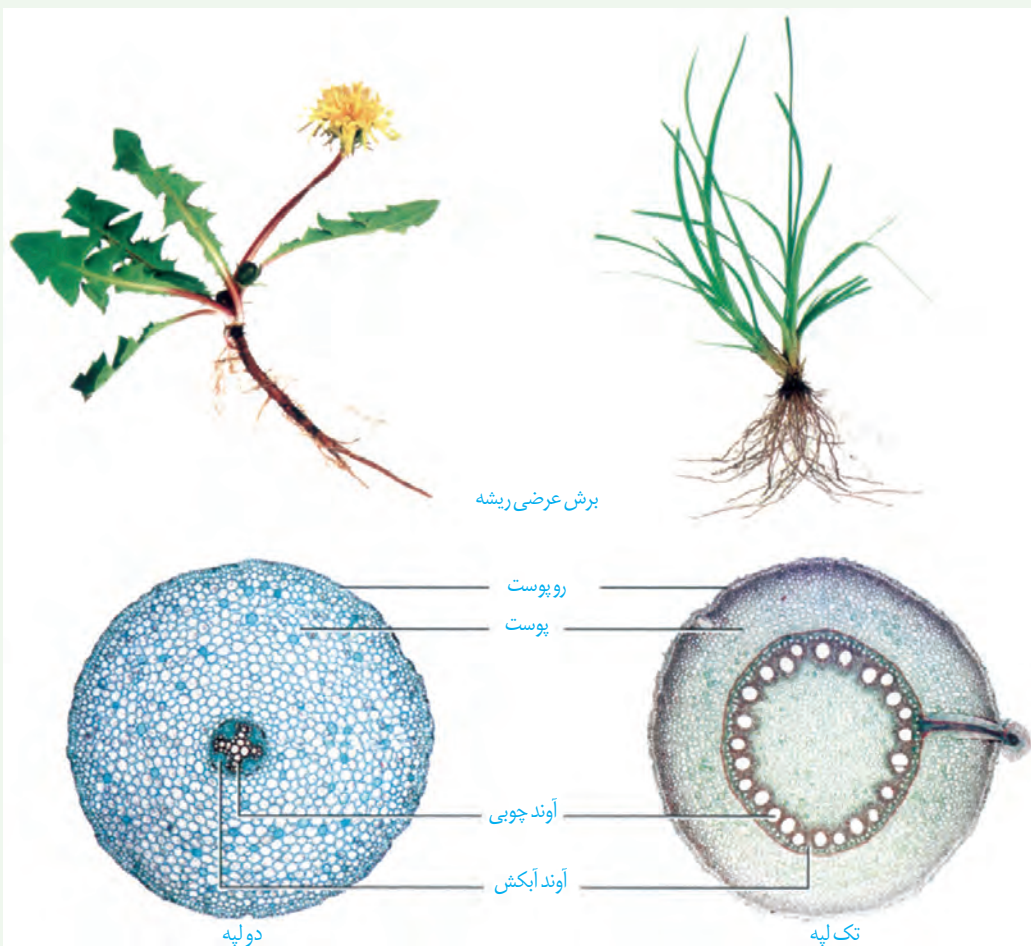
(الف)

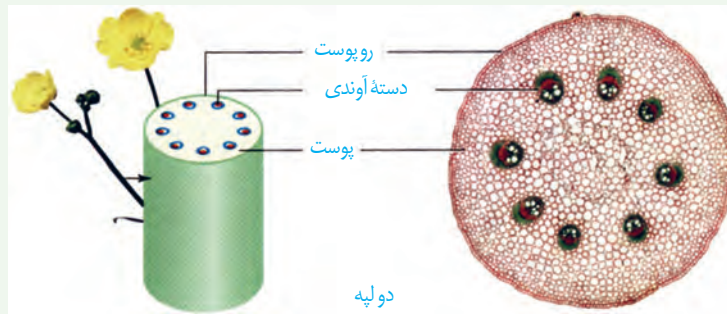
ساختار نخستین ساقه و ریشه

فعالیت

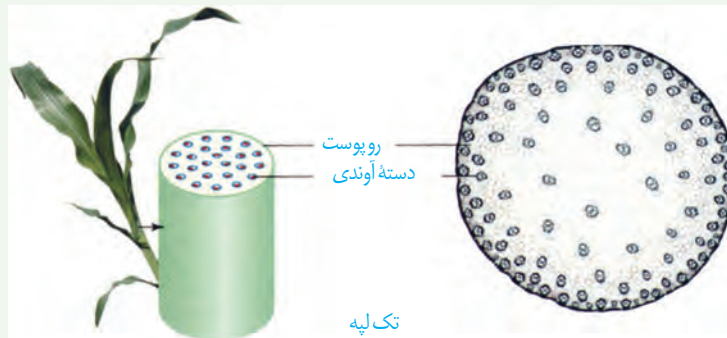
شکل‌های زیر، ساختار نخستین ساقه و ریشه را در نوعی گیاه تک لپه و نوعی گیاه دو لپه نشان می‌دهد.

برای مشاهده چگونگی قرارگیری سه سامانه بافتی در ساختار نخستین گیاه، باید از ریشه و ساقه، برش تهیه کنیم.





دولپه



تک لپه

الف) با توجه به تصاویر، ساختار نخستین این گیاهان را با هم مقایسه کنید.

ب) برای مشاهده ساختار نخستین ریشه و ساقه در گیاهان، با استفاده از میکروسکوپ نوری روش زیر را به کار بگیرید.

وسایل و مواد لازم: میکروسکوپ نوری دو چشمی، تیغه و تیغک، تیغ تیز، شیشه ساعت، آب مقطر، ساقه و ریشه گیاه.

روش کار: در شیشه ساعت مقداری آب مقطر بریزید. با استفاده از تیغ، برش های عرضی و نازک تهیه کنید و در شیشه ساعت قرار دهید. در استفاده از تیغ، نکات ایمنی را رعایت کنید!

برش ها را با میکروسکوپ مشاهده کنید. برای مشاهده، ابتدا از بزرگنمایی کم و سپس از بزرگنمایی بیشتر استفاده کنید. شکل برش عرضی را ترسیم و نام گذاری کنید.

برای مشاهده بهتر می توانید برش ها را با یک یا دو رنگ، رنگ آمیزی کنید. برای این کار به محلول رنگ بر، یا سفیدکننده، استیک اسید یک درصد (یا سرکه سفید رقیق شده)، رنگ کارمن زاجی و آبی متیل نیاز دارید. برای رنگ آمیزی، برش ها را به ترتیب در هر یک از محلول های زیر قرار دهید.

آب مقطر، محلول رنگ بر (۱۵ تا ۲۰ دقیقه)، آب مقطر، استیک اسید رقیق (۱ تا ۲ دقیقه)، آب مقطر، آبی متیل (۱ تا ۲ دقیقه)، آب مقطر، کارمن زاجی (۲۰ دقیقه)، آب مقطر.

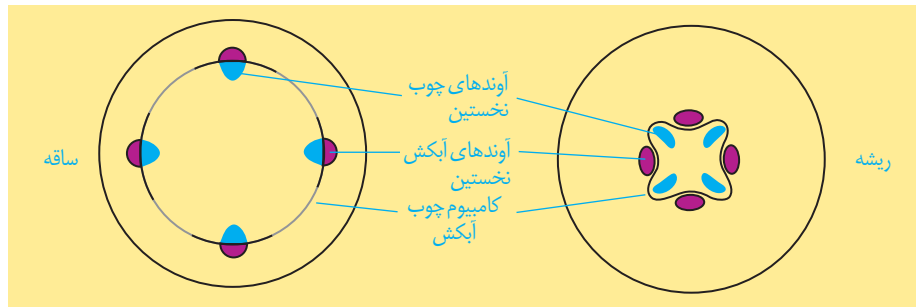
پ) هر یک از بافت های آوندی به چه رنگی در آمده اند؟

مریستم هایی که بعداً عمل می کنند

تشکیل ساقه ها و ریشه هایی با قطر بسیار در نهان دانگان دولپه ای نمی تواند حاصل فعالیت مریستم نخستین در این گیاهان باشد. بنابراین باید مریستم های دیگری باشند تا بتوانند با تولید مداوم یاخته ها، بافت های لازم برای این افزایش قطر را فراهم کنند. به این مریستم ها که در افزایش ضخامت نقش

دارند، **مریستم پسین** می گویند. دو نوع مریستم پسین در گیاهان دولپه ای وجود دارد. **کامبیوم چوب آبکش (آوندساز):** این مریستم همان طور که از نامش پیداست، منشأ بافت های آوندی چوب و آبکش است. این مریستم بین آوندهای آبکش و چوب نخستین تشکیل می شود و آوندهای چوب پسین را به سمت داخل و آوندهای آبکش پسین را به سمت بیرون تولید می کند. مقدار بافت آوند چوبی ای که این مریستم می سازد، به مراتب بیشتر از بافت آوند آبکشی است. شکل ۲۱ مراحل تشکیل کامبیوم چوب آبکش را نشان می دهد.

شکل ۲۱- کامبیوم چوب آبکش در ساقه و ریشه


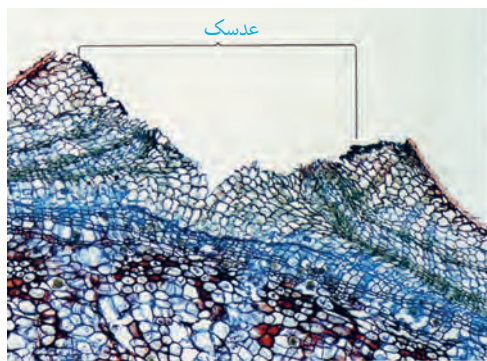


کامبیوم چوب پنبه ساز: این کامبیوم که در سامانه بافت زمینه ای ساقه و ریشه تشکیل می شود، به سمت درون، یاخته های پارانشیمی و به سمت بیرون، یاخته هایی را می سازد که دیواره آنها به تدریج چوب پنبه ای می شود و در نتیجه، بافتی به نام بافت چوب پنبه را تشکیل می دهند (شکل ۲۳). چوب پنبه از ترکیبات لیپیدی و نسبت به آب نفوذناپذیر است. بافت چوب پنبه بافت مرده ای است. کامبیوم چوب پنبه ساز و یاخته های حاصل از آن در مجموع **پیراپوست (پریدرم)** را تشکیل می دهند. پیراپوست در اندام های مسن، جانشین روپوست می شود. پیراپوست به علت داشتن یاخته های چوب پنبه ای شده، نسبت به گازها نیز نفوذناپذیر است، در حالی که بافت های زیر آن زنده اند و برای زنده ماندن به اکسیژن نیاز دارند؛ به همین علت در پیراپوست مناطقی به نام **عدسک** ایجاد می شود (شکل ۲۲). در این مناطق یاخته ها از هم فاصله دارند و امکان تبادل گازها را فراهم می کنند.

بیشتر بدانید

درخت های بدون کامبیوم!

تک لپه ای ها بر خلاف دولپه ای ها مریستم پسین ندارند. اما درختانی مانند نخل و نارگیل تک لپه ای اند. افزایش ضخامت در برخی از این گیاهان مربوط به بافت های حاصل از مریستم نخستین است.

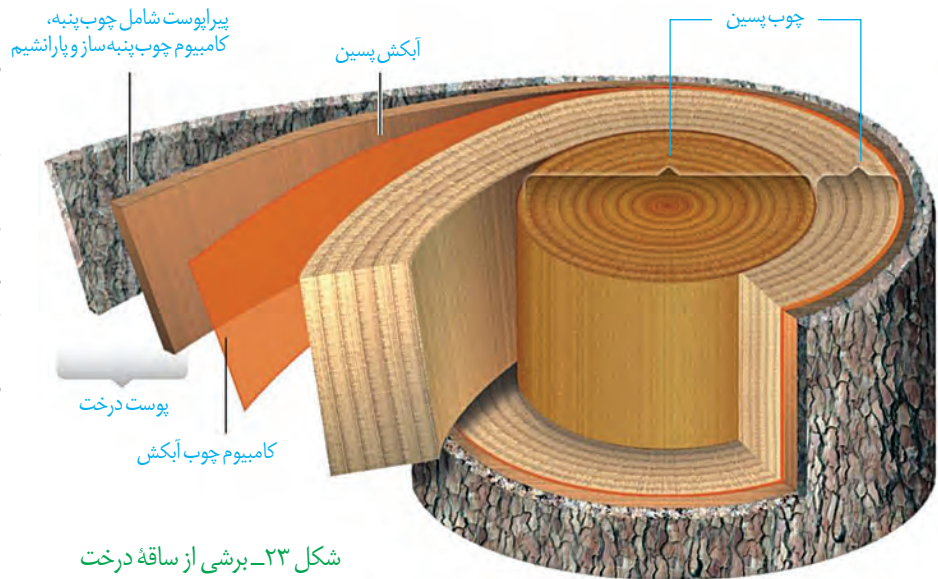


(ب)

(الف)

شکل ۲۲- الف) عدسک به صورت برآمدگی در سطح اندام مشاهده می شود، ب) عدسک در مشاهده با میکروسکوپ نوری.

آنچه به عنوان پوست درخت می‌شناسیم، مجموعه‌ای از لایه‌های بافتی است که از آوند آبکش پسین شروع می‌شود و تا سطح اندام ادامه دارد (شکل ۲۳). با کندن پوست درخت، کامبیوم آوندساز در برابر آسیب‌های محیطی قرار می‌گیرد.



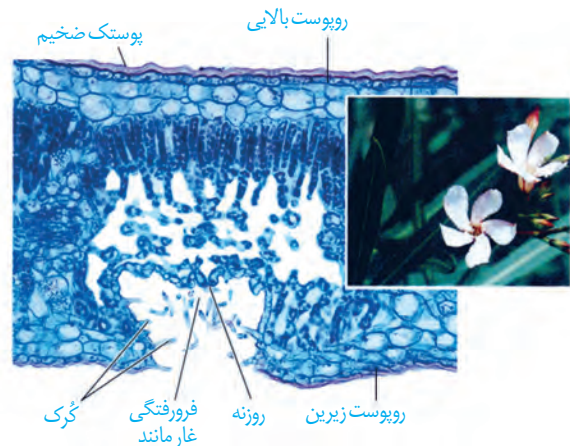
فعالیت

الف) مرستم نخستین و پسین را بر اساس محل تشکیل و عملکرد با هم مقایسه کنید.
ب) در یک پژوهش گروهی، سه گیاه علفی در منطقه محل زندگی خود، انتخاب، ساختار ظاهری و بافتی آنها را گزارش کنید.

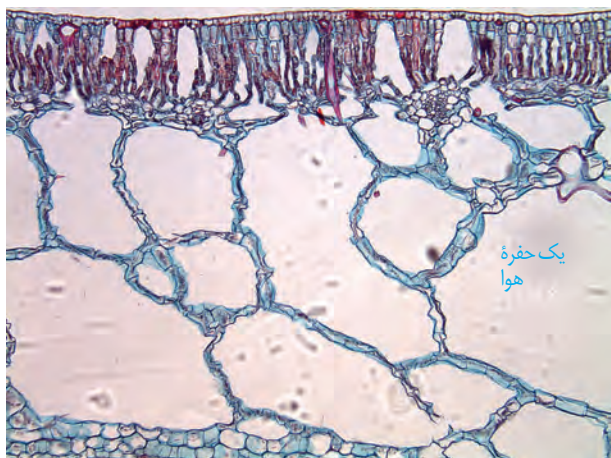
سازش با محیط

مساحت پهناوری از سرزمین ایران را مناطق خشک و کم آب تشکیل می‌دهند؛ اما در این مناطق انواعی از گیاهان زندگی می‌کنند. برای اینکه بدانیم این گیاهان چه ویژگی‌های ساختاری متناسب با محیط دارند، ابتدا باید به این موضوع توجه کنیم که این گیاهان با چه مشکلاتی مواجه اند. همان طور که از نام این مناطق پیداست، آب در این مناطق کم، و به همین علت پوشش گیاهی اندک است. تابش شدید نور خورشید و دمای بالا، به ویژه در روز، از ویژگی‌های دیگر این مناطق است. در نتیجه، گیاهانی می‌توانند در چنین مناطقی زندگی کنند که توانایی بالایی در جذب آب و نیز سازوکارهایی برای کاهش تبخیر آن داشته باشند.

روزنه‌هایی در غار: خرزهره گیاهی است که به طور خودرو در چنین مناطقی رشد می‌کند. پوستک در برگ‌های این گیاه ضخیم است و روزنه‌های آن در فرورفتگی‌های غارمانندی قرار می‌گیرند. در این فرورفتگی‌ها تعداد فراوانی کُرک وجود دارد. این کُرک‌ها با به دام انداختن رطوبت هوا، اتمسفر مرطوبی در اطراف روزنه‌ها ایجاد می‌کنند و مانع خروج بیش از حد آب از برگ می‌شوند (شکل ۲۴).



شکل ۲۴- روزنه‌ها در برگ خرزهره در فرورفتگی‌های غارمانند قرار دارند.



شکل ۲۵- برگ گیاهی آبزی. به حفره‌های بزرگ هوا توجه کنید.



شکل ۲۶- شش ریشه‌های درخت حزا در سطح آب دیده می‌شوند.

بعضی گیاهان در این مناطق ترکیب‌های پلی ساکاریدی در واکوئول‌های خود دارند. این ترکیبات مقدار فراوانی آب جذب می‌کنند و سبب می‌شوند تا آب فراوانی در واکوئول‌ها ذخیره شود. گیاه در دوره‌های کم آبی از این آب استفاده می‌کند.

شما چه ویژگی‌های دیگری می‌شناسید که به حفظ زندگی گیاهان در چنین محیط‌هایی کمک می‌کند؟ با توجه به اینکه کشور ما با مشکل کم آبی مواجه است، شناخت ساختار گیاهان، نقش مهمی در انتخاب گونه‌های گیاهی مناسب برای کشاورزی و توسعه فضای سبز دارد.

زندگی در آب: بعضی گیاهان در آبها و یا در جاهایی زندگی می‌کنند که زمان‌هایی از سال با آب پوشیده می‌شوند. این گیاهان با مشکل کمبود اکسیژن مواجه‌اند، به همین علت برای زیستن در چنین محیط‌هایی سازش‌هایی دارند. پارانشیم هوادار در ریشه، ساقه و برگ، یکی از سازش‌های گیاهان آبزی است (شکل ۲۵). جنگل‌های حزا در سواحل استان‌های هرمزگان و سیستان و بلوچستان از بوم‌سازگان‌های ارزشمند ایران‌اند. ریشه‌های درختان حزا در آب و گل قرار دارند. درختان حزا برای مقابله با کمبود اکسیژن، ریشه‌هایی دارند که از سطح آب بیرون آمده‌اند. این ریشه‌ها با جذب اکسیژن، مانع از مرگ ریشه‌ها به علت کمبود اکسیژن می‌شوند. به همین علت به این ریشه‌ها، **شش ریشه** می‌گویند (شکل ۲۶).

فعالیت

الف) با مراجعه به منابع معتبر، درباره ویژگی‌های درخت حزا، وضعیت جنگل‌های حزا در ایران، نقش این جنگل‌ها در حفظ

گونه‌های جانوری و زندگی مردم محلی، به صورت گروهی گزارشی ارائه دهید.

ب) در منطقه‌ای که زندگی می‌کنید، آیا گیاهانی وجود دارند که با شرایط خاص آن منطقه سازگاری‌هایی داشته باشند؟ در صورت وجود چنین گیاهانی، گزارشی به صورت گروهی از این سازگاری‌ها ارائه دهید.

بیشتر بدانید

زیستن در زمین‌های شور!

گیاهانی که در زمین‌های شور زندگی می‌کنند، می‌توانند با جذب فعال سدیم، فشار اسمزی خود را بالاتر از فشار اسمزی محیط نگه‌دارند. بعضی از این گیاهان نمک را از سطح برگ دفع می‌کنند.





فصل ۷

جذب و انتقال مواد در گیاهان

گرچه بیشتر گیاهان می‌توانند به وسیله فتوسنتز، بخشی از مواد مورد نیاز خود مانند کربوهیدرات و در پی آن پروتئین و لیپید را تولید کنند؛ اما همچنان به مواد مغذی مانند آب و مواد معدنی نیاز دارند. گیاهان، این مواد را به کمک اندام‌های خود، به ویژه ریشه‌ها جذب می‌کنند. گیاهان چه سازوکارهایی برای جذب مواد مورد نیاز و نیز انتقال آنها به اندام‌های خود دارند؟ مواد حاصل از فرایند فتوسنتز چگونه به سراسر گیاه منتقل می‌شوند؟ در این فصل به فرایندهای مربوط به تغذیه، جذب و انتقال گیاهان می‌پردازیم.



گیاهان، مواد مورد نیاز را از هوا، آب یا خاک اطراف خود جذب می‌کنند. کربن دی‌اکسید یکی از مهم‌ترین موادی است که گیاهان از هوا جذب می‌کنند. کربن، اساس ماده‌آلی و بنابراین یکی از عناصر مورد نیاز گیاهان است. کربن دی‌اکسید به همراه سایر گازها از طریق روزنه‌ها وارد فضاهای بین‌باخته‌ای گیاه می‌شود. مقداری از کربن دی‌اکسید هم با حل شدن در آب، به صورت بی‌کربنات درمی‌آید که می‌تواند توسط گیاه جذب شود. سایر مواد مغذی هم بیشتر از طریق خاک جذب می‌شوند.

خاک و مواد مغذی مورد نیاز گیاهان

خاک، ترکیبی از مواد آلی، غیرآلی و ریزجانداران (میکروارگانسیم‌ها) است. خاک‌های مناطق مختلف به علت تفاوت در این ترکیبات، توانایی متفاوتی در نگهداری آب، مقدار هوای خاک، pH و مواد معدنی دارند.

گیاخاک (هوموس)، لایه سطحی خاک است و به طور عمده از بقایای جانداران و به‌ویژه اجزای در حال تجزیه آنها تشکیل شده است. گیاخاک، با داشتن بارهای منفی، یون‌های مثبت را در سطح خود نگه می‌دارند و در نتیجه مانع از شست‌وشوی این یون‌ها می‌شوند. گیاخاک همچنین باعث اسفنجی شدن حالت خاک می‌شود که برای نفوذ ریشه مناسب است.

ذرات غیرآلی خاک از تخریب فیزیکی و شیمیایی سنگ‌ها در فرایندی به نام هوازدگی ایجاد می‌شوند. این ذرات از اندازه بسیار کوچک رس تا درشت شن و ماسه را شامل می‌شوند. تغییرات متناوب یخ‌زدن و ذوب شدن، که باعث خرد شدن سنگ‌ها می‌شود، نمونه‌ای از اثر هوازدگی فیزیکی است. اسیدهای تولید شده توسط جانداران و نیز ریشه گیاهان هم می‌توانند هوازدگی شیمیایی ایجاد کنند.

فعالیت

خاک‌های مختلف، ذراتی با اندازه‌های مختلف دارند. تحقیق کنید که رشد ریشه گیاهان در خاک‌های رسی و ماسه‌ای با چه چالش‌ها و فرصت‌هایی روبه‌روست؟

جذب مواد معدنی خاک

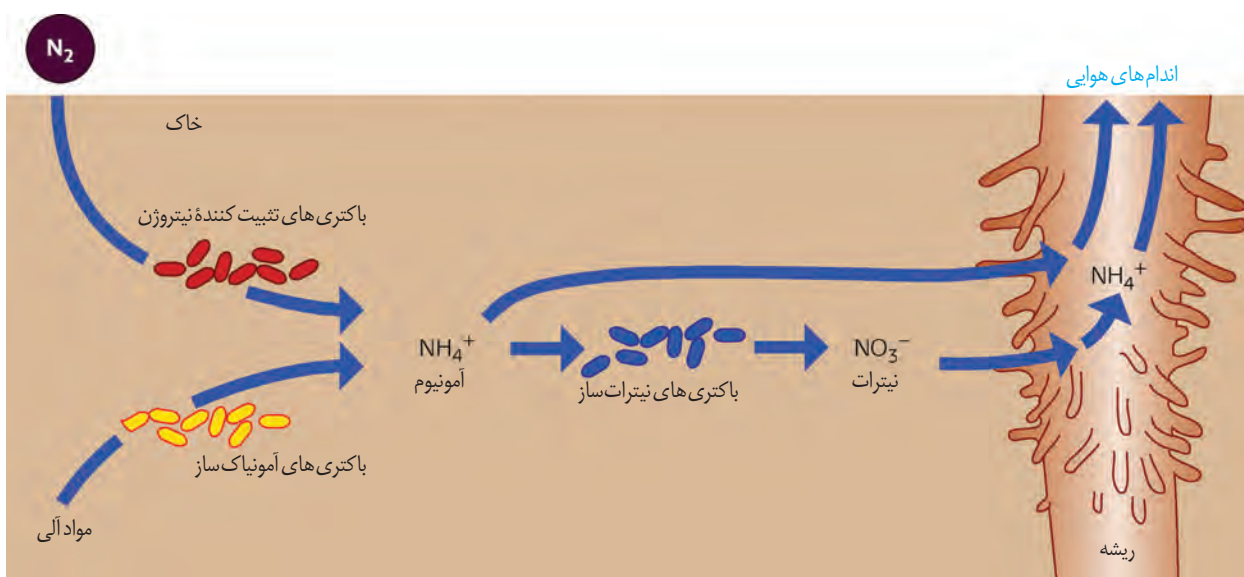
نیتروژن و فسفر دو عنصر مهمی هستند که در ساختار پروتئین‌ها و مولکول‌های وراثتی شرکت می‌کنند. گیاهان، ترکیبات این دو عنصر را بیشتر از خاک جذب می‌کنند.

جذب نیتروژن

با اینکه جو زمین دارای ۷۸ درصد نیتروژن (N_2) است، گیاهان نمی‌توانند شکل مولکولی نیتروژن را جذب کنند. بیشتر نیتروژن مورد استفاده گیاهان به صورت یون آمونیوم (NH_4^+) یا نیترات (NO_3^-) است. این ترکیبات در خاک و توسط ریزجانداران تشکیل می‌شوند. خلاصه‌ای از این فرایندها در شکل ۱ نشان داده شده است. به تبدیل نیتروژن جو به نیتروژن قابل استفاده گیاهان **تثبیت نیتروژن** گفته می‌شود. بخشی از نیتروژن تثبیت شده در خاک، حاصل عملکرد زیستی باکتری هاست. باکتری‌های تثبیت‌کننده نیتروژن، به صورت آزاد در خاک یا همزیست با گیاهان زندگی می‌کنند. نیتروژن تثبیت شده در این باکتری‌ها به مقدار قابل توجهی دفع، و یا پس از مرگ آنها برای گیاهان قابل دسترسی می‌شود. مهم‌ترین انواع تثبیت نیتروژن، در ادامه این فصل توضیح داده خواهد شد. امروزه تلاش‌های زیادی برای انتقال ژن‌های مؤثر در تثبیت نیتروژن به گیاهان در جریان است، تا بدون نیاز به این باکتری‌ها، نیتروژن مورد نیاز در اختیار گیاه قرار گیرد.

شکل ۱- تغییرات مواد نیتروژن دار و چگونگی جذب آنها از خاک

در شکل ۱ انواع دیگری از باکتری‌های خاک دیده می‌شوند. نقش هر یک از آنها در تغییر و تبدیل مواد نیتروژن دار چیست؟



جذب فسفر


فسفر (P) از دیگر عناصر معدنی است که کمبود آن، رشد گیاهان را محدود می‌کند. گیاهان، فسفر مورد نیاز خود را به صورت یون‌های فسفات از خاک به دست می‌آورند. گرچه فسفات در خاک فراوان است، اغلب برای گیاهان غیرقابل دسترسی است. یکی از دلایل، این است که فسفات به بعضی ترکیبات معدنی خاک به طور محکمی متصل می‌شود. برخی گیاهان برای جبران، شبکه گسترده‌تری از ریشه‌ها و یا ریشه‌های دارای تار کشنده بیشتر ایجاد می‌کنند که جذب را افزایش می‌دهد.

بهبود خاک

خاک مناطق مختلف ممکن است دچار کمبود برخی مواد یا فزونی مواد دیگر باشد. اصلاح این خاک‌ها می‌تواند آنها را برای گیاهان قابل کشت کند. اگر این خاک‌ها دچار کمبود باشند، با افزودن کود می‌توان حاصلخیزی آنها را افزایش داد. زیست‌شناسان برای تشخیص نیازهای تغذیه‌ای گیاهان، آنها را در محلول‌های مغذی رشد می‌دهند (شکل ۲). این محلول‌ها، آب و عناصر مغذی محلول به مقدار معین دارند. از این شیوه برای تشخیص اثرات عناصر بر رشد و نمو گیاهان نیز استفاده می‌شود.

مقدار نیتروژن، فسفر و پتاسیم قابل دسترس در اغلب خاک‌ها محدود است، به همین دلیل در بیشتر کودها این عناصر وجود دارند. کودهای مهم در انواع آلی، شیمیایی و زیستی (بیولوژیک) وجود دارند. کودهای آلی، شامل بقایای در حال تجزیه جانداران اند. این کودها مواد معدنی را به آهستگی آزاد می‌کنند و چون به نیازهای جانداران شباهت بیشتری دارند، استفادهٔ بیش از حد آنها به گیاهان آسیب کمتری می‌زند. از معایب این کودها، احتمال آلودگی به عوامل بیماری‌زاست.

کودهای شیمیایی شامل مواد معدنی هستند که به راحتی در اختیار گیاه قرار می‌گیرند؛ بنابراین می‌توانند به سرعت، کمبود مواد مغذی خاک را جبران کنند. مصرف بیش از حد کودهای شیمیایی می‌تواند آسیب‌های زیادی به خاک و محیط‌زیست وارد و بافت خاک را تخریب کند. از طرفی، با شسته شدن توسط



شکل ۲- دستگاه ساده‌ای برای کشت گیاهان در محلول‌های مغذی

بارش‌ها، این مواد به آب‌ها وارد می‌شوند. حضور این مواد باعث رشد سریع باکتری‌ها، جلبک‌ها و گیاهان آبی می‌شود. افزایش این عوامل مانع نفوذ نور و اکسیژن کافی به آب می‌شود و می‌تواند باعث مرگ و میر جانوران آبی شود.

کودهای زیستی شامل باکتری‌هایی هستند که برای خاک مفید و با فعالیت و تکثیر خود، مواد معدنی خاک را افزایش می‌دهند. استفاده از این کودها بسیار ساده‌تر و کم‌هزینه‌تر است. این کودها معمولاً به همراه کودهای شیمیایی به خاک افزوده می‌شوند و معایب دو نوع کود دیگر را ندارند.

همان‌طور که کاهش عناصر مغذی در خاک برای گیاهان زیان‌بار است، افزایش بیش از حد بعضی مواد در خاک می‌تواند مسمومیت ایجاد کند و مانع رشد گیاهان شود. بعضی گیاهان می‌توانند غلظت‌های زیادی از این مواد را درون خود به صورت ایمن نگهداری کنند؛ مثلاً نوعی سرخس می‌تواند آرسنیک را که ماده‌ای سمی برای گیاه است، در خود جمع کند. بعضی گیاهان می‌توانند آلومینیم را نیز در بافت‌ها ذخیره کنند. مثلاً گیاه گل‌ادریسی که در خاک‌های خنثی و قلیایی صورتی

بیشتر بدانید

به دلیل اینکه بیشتر کشور ما دارای اقلیم خشک و یا شور است، عناصری مانند بور و آلومینیم در خاک‌ها فراوان است که می‌تواند باعث مسمومیت در گیاهان شود. گیاهان از بور برای استحکام دیواره یاخته‌ای استفاده می‌کنند ولی افزایش آن موجب کاهش نیتروژن، فسفر، پتاسیم و کلسیم برگ‌ها می‌شود. یون آلومینیم نیز یکی از مواد فراوان خاک است و به مقدار کم می‌تواند به بافت‌های گیاهی نفوذ کند. این یون مانع جذب مواد معدنی دیگر و آب، توسط ریشه‌ها می‌شود. مقدار آلومینیم در خاک‌های اسیدی فراوان‌تر است.

رنگ هستند در خاک‌های اسیدی آبی رنگ می‌شوند. این تغییر رنگ به علت تجمع آلومینوم در گیاه است (شکل ۳). بعضی گیاهان نیز با جذب و ذخیره نمک‌ها، موجب کاهش شوری خاک می‌شوند. با کاشت و برداشت این گیاهان در چند سال پی‌درپی می‌توان باعث کاهش شوری خاک و بهبود کیفیت آن شد.



(ب)

(الف)

شکل ۳- الف) رنگ گل گیاه ادریسی در خاک‌های اسیدی، ب) قلیایی و خنثی

فعالیت

آزمایشی را طراحی کنید که به کمک آن بتوان تأثیر کاهش یا افزایش مواد معدنی را در رشد و نمو گیاهان تعیین کرد.

گفتار ۲ جانداران مؤثر در تغذیه گیاهی

گیاهان شیوه‌های شگفت‌انگیزی برای گرفتن مواد مورد نیاز خود از جانداران دیگر دارند. گیاهان با بعضی از این جانداران ارتباط همزیستی برقرار می‌کنند. از مهم‌ترین انواع این همزیست‌ها، قارچ ریشه‌ای‌ها (میکوریزا) و باکتری‌های تثبیت‌کننده نیتروژن هستند.

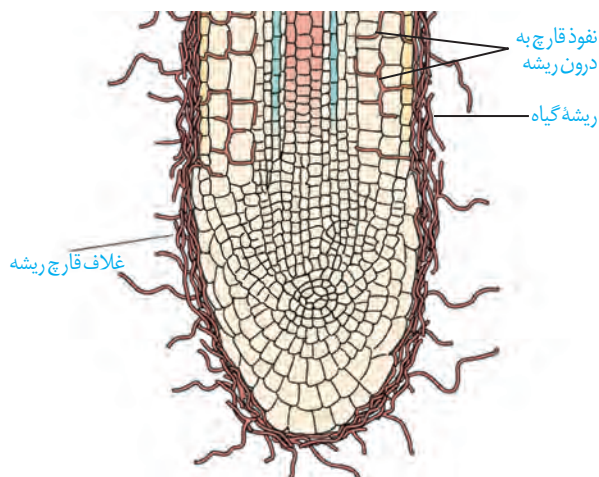
قارچ ریشه‌ای

یکی از معمول‌ترین سازگاری‌ها برای جذب آب و مواد مغذی، همزیستی ریشه گیاهان با انواعی از قارچ‌ها است که به آن قارچ ریشه‌ای گفته می‌شود (شکل ۴). حدود ۹۰ درصد گیاهان دانه‌دار با قارچ‌ها همزیستی دارند. این قارچ‌ها در سطح ریشه زندگی می‌کنند. رشته‌های ظریفی به درون ریشه می‌فرستند که تبادل مواد را با آن انجام می‌دهند.

در قارچ ریشه‌ای، قارچ، مواد آلی را از ریشه گیاه می‌گیرد و برای گیاه، مواد معدنی و به خصوص فسفات فراهم می‌کند. پیکر رشته‌ای و بسیار ظریف قارچ‌ها، نسبت به ریشه گیاه با سطح بیشتری از خاک در تماس است و می‌تواند مواد معدنی بیشتری را جذب کند.



(ب)



(الف)

شکل ۴- قارچ ریشه‌ای: الف) طرح ساده نوعی قارچ ریشه‌ای که غلافی را روی ریشه گیاه تشکیل می‌دهد. بخش کوچکی از قارچ به درون ریشه نفوذ و در تبادل مواد شرکت می‌کند. ب) مقایسه دو گیاه که یکی با کمک قارچ ریشه‌ای (چپ) و دیگری بدون آن (راست) و در وضعیت برابر محیطی رشد کرده است.

همزیستی گیاه با تثبیت کننده‌های نیتروژن

برخی گیاهان با انواعی از باکتری‌ها همزیستی دارند که این همزیستی برای به دست آوردن نیتروژن بیشتر است. دو گروه مهم این باکتری‌ها عبارت‌اند از: ریزوبیوم‌ها و سیانوباکتری‌ها.

ریزوبیوم: از گذشته برای تقویت خاک، تناوب کشت انجام می‌شد که در آن گیاهان زراعی مختلف به صورت پی‌در پی کشت می‌شد. یکی از انواع گیاهانی که در تناوب کشت مورد استفاده قرار می‌گیرد، گیاهان تیره پروانه‌واران است (دلیل این نام‌گذاری، شباهت گل‌های آنها به پروانه است). سویا، نخود و یونجه از گیاهان مهم زراعی این تیره هستند. در ریشه این گیاهان و در محل برجستگی‌هایی به نام

گرهک، نوعی باکتری تثبیت کننده نیتروژن به نام ریزوبیوم زندگی می‌کند (شکل ۵). هنگامی که این گیاهان می‌میرند یا بخش‌های هوایی آنها برداشت می‌شود، گرهک‌های آنها در خاک باقی می‌ماند و گیاهک غنی از نیتروژن ایجاد می‌کنند. ریزوبیوم‌ها با تثبیت نیتروژن، نیاز گیاه را به این عنصر برطرف می‌کنند و گیاه نیز مواد آلی مورد نیاز باکتری را برای آن فراهم می‌کند.

بیشتر بدانید

گیاه آبی آزولا، بومی ایران نیست و برای تقویت مزارع برنج به تالاب‌های شمالی وارد شد. رشد سریع این گیاه موجب کاهش اکسیژن آب و مرگ بسیاری آبیان می‌شود. این گیاه اکنون به معضلی برای این تالاب‌ها بدل شده است. چنین مواردی به ما هشدار می‌دهند که نباید بدون مطالعه و در نظر داشتن پیامدهای احتمالی، گونه‌های غیربومی را وارد محیط زیست کرد.

همزیستی با سیانوباکتری‌ها. سیانوباکتری‌ها نوعی از باکتری‌های فتوسنتز کننده هستند که بعضی از آنها می‌توانند علاوه بر فتوسنتز، تثبیت نیتروژن هم انجام دهند. آزولا گیاهی کوچک است که در تالاب‌های شمال و مزارع برنج کشور به فراوانی وجود دارد. گیاه آزولا با سیانوباکتری‌ها همزیستی دارد و نیتروژن تثبیت شده آن را دریافت می‌کند (شکل ۶- الف). گیاه گونرا نیز در نواحی فقیر از نیتروژن رشد شگفت‌انگیزی دارد. چگونه این گیاه با وجود کمبود نیتروژن چنین رشدی دارد؟ سیانوباکتری‌های همزیست درون ساقه و دمبرگ این گیاه، تثبیت نیتروژن انجام می‌دهند و از محصولات فتوسنتزی گیاه استفاده می‌کنند (شکل ۶- ب).

(ب)

(الف)



شکل ۵- گرهک‌های ریشه گیاهان تیره پروانه‌واران



شکل ۶- الف) گیاه آبی آزولا،
ب) گیاه گونرا

روش‌های دیگر به دست آوردن مواد غذایی در گیاهان

گیاهان حشره‌خوار: این گیاهان فتوسنتزکننده‌اند، ولی در مناطقی زندگی می‌کنند که از نظر نیتروژن فقیرند. در این گیاهان برخی برگ‌ها برای شکار و گوارش جانوران کوچک مانند حشرات، تغییر کرده‌است. گیاه **توبره‌واش** که از گیاهان حشره‌خوار است در تالاب‌های شمال کشور می‌روید. این گیاه حشرات و لارو آنها را به سرعت به درون بخش کوزه مانند خود می‌کشد و سپس گوارش می‌دهد. در شکل ۸، انواع دیگری از گیاهان حشره‌خوار نشان داده شده است.



شکل ۷-توبره‌واش



شکل ۸-چند نوع گیاه حشره‌خوار.

گیاهان انگل: انواعی از گیاهان انگل وجود دارند که همه یا بخشی از آب و مواد غذایی خود را از گیاهان فتوسنتزکننده دریافت می‌کنند. گیاه **سس**، نمونه‌ای از این گیاهان است. این گیاه ساقه نازکی یا زردرنگی تولید می‌کند که فاقد ریشه است. گیاه سس به دور گیاه سبز میزبان خود می‌پیچد و اندام‌های مکنده ایجاد می‌کند (شکل ۹-الف) که به درون آوندهای گیاه نفوذ، و مواد مورد نیاز انگل را جذب می‌کند. گل جالیز نمونه دیگری از این گیاهان است که با ایجاد اندام مکنده و نفوذ آن به ریشه گیاهان جالیزی، مواد مغذی را دریافت می‌کند (شکل ۹-ب).



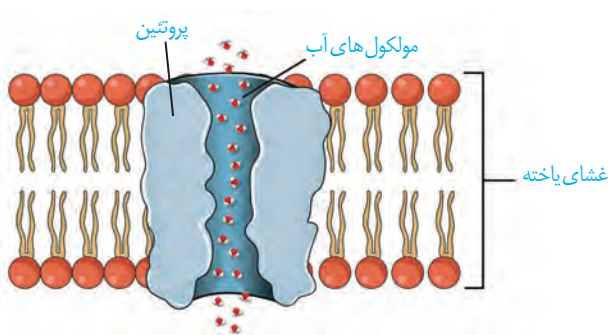
ب) گیاه گل جالیز در کنار بوته گوجه‌فرنگی



شکل ۹-گیاهان انگل: الف) گیاه سس

انتقال از خاک به برگ

آب و مواد مورد نیاز گیاهان، که از خاک اطراف ریشه‌ها جذب می‌شود و در مسیرهایی به ساقه و برگ می‌رود، بخش زیادی از آب جذب شده از سطح برگ‌ها به هوا تبخیر می‌شود. خروج آب به صورت بخار از سطح اندام‌های هوایی گیاه تعرق نامیده می‌شود. تعرق، سازوکار لازم را برای جابه‌جایی آب و مواد معدنی به برگ فراهم می‌کند. جابه‌جایی مواد در گیاهان را می‌توان در دو مسیر کوتاه و بلند بررسی کرد؛ در مسیر کوتاه، جابه‌جایی آب و مواد در سطح یاخته یا چند یاخته بررسی می‌شود. در مسیر بلند، جابه‌جایی مواد در مسیرهای طولانی‌تر بررسی می‌شود. این مسافت در بعضی درختان به بیش از صدمتر می‌رسد. در هر دوی این مسیرها آب به‌عنوان انتقال‌دهندهٔ مواد، نقش اساسی دارد که این نقش به علت ویژگی‌های آن است.



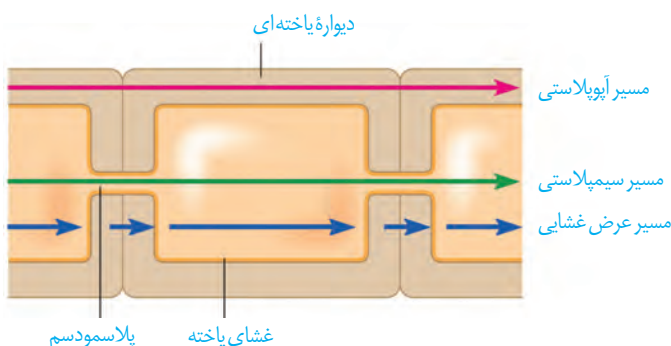
شکل ۱۰- پروتئین تسهیل‌کننده عبور آب در غشا

جابه‌جایی مواد در مسیر کوتاه

انتقال مواد در سطح یاخته‌ای: در این حالت، جابه‌جایی مواد با فرایندهای فعال و غیرفعال و در حد یاخته انجام می‌شود. با این فرایندها قبلاً آشنا شدید. شیوه‌هایی مثل انتشار و انتقال فعال، نمونه‌هایی از این روش‌هاست. برای انتقال آب در عرض غشای بعضی یاخته‌های گیاهی و جانوری و غشای واکوئول بعضی یاخته‌های گیاهی، پروتئین‌هایی دخالت دارند که سرعت جریان آب را افزایش می‌دهند. هنگام کم‌آبی، ساخت این پروتئین‌ها تشدید می‌شود (شکل ۱۰).

انتقال مواد در عرض ریشه: در عرض ریشه، انتقال آب و مواد محلول معدنی به سه روش انجام می‌شود؛ انتقال از عرض غشا، انتقال سیمپلاستی و انتقال آپوپلاستی.

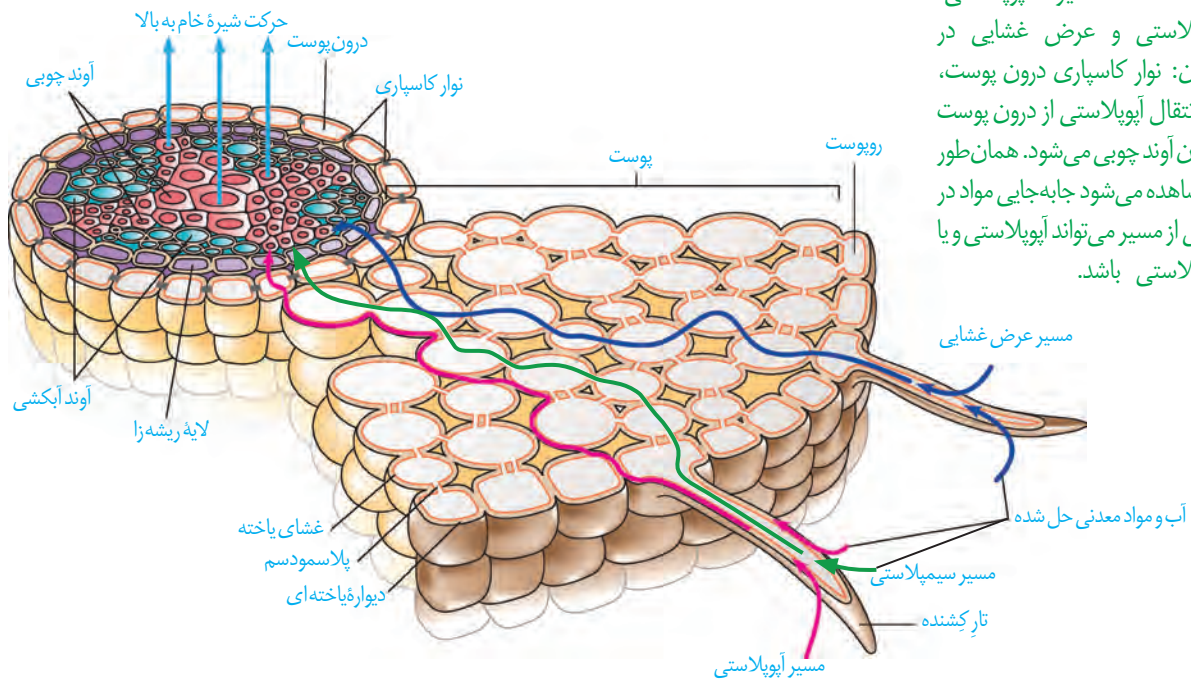
انتقال عرض غشایی شامل جابه‌جایی مواد از عرض غشای یاخته است. سیمپلاست به معنی پروتوپلاست همراه با پلاسمودسم‌ها است. انتقال سیمپلاستی حرکت



شکل ۱۱- شیوه‌های انتقال مواد در مسیرهای کوتاه

مواد از پروتوپلاست یک یاخته به یاختهٔ مجاور، از راه پلاسمودسم‌هاست. آب و بسیاری از مواد محلول می‌تواند از فضای پلاسمودسم به یاخته‌های دیگر منتقل شود (شکل ۱۱). منافذ پلاسمودسم آن قدر بزرگ است که پروتئین‌ها، نوکلئیک اسیدها و حتی ویروس‌های گیاهی از آن عبور می‌کنند. در مسیر آپوپلاستی، حرکت مواد محلول از فضاهای بین یاخته‌ای و دیوارهٔ یاخته‌ای انجام می‌شود.

آب و مواد محلول در عرض ریشه سرانجام به درونی ترین لایه پوست به نام **درون پوست (آندودرم)** می‌رسند. درون پوست استوانه‌ای ظریف از یاخته‌ها است که یاخته‌های آن کاملاً به هم چسبیده‌اند و سدی را در مقابل آب و مواد محلول ایجاد می‌کنند (شکل ۱۲). یاخته‌های درون پوست در دیواره

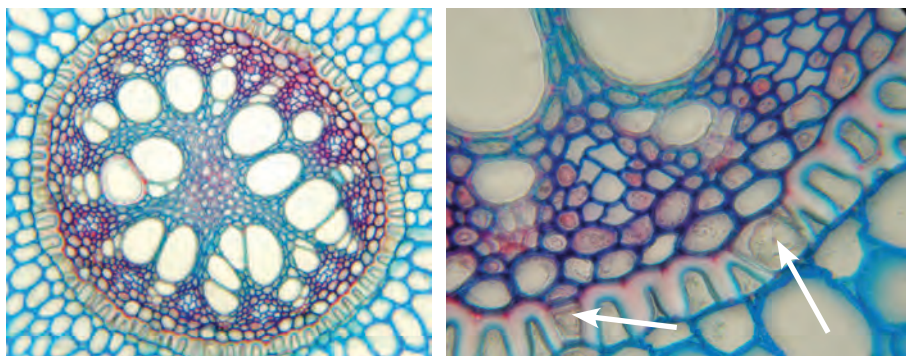


شکل ۱۲- مسیر آپوپلاستی، سیمپلاستی و عرض غشایی در گیاهان: نوار کاسپاری درون پوست مانع انتقال آپوپلاستی از درون پوست به درون آوند چوبی می‌شود. همان‌طور که مشاهده می‌شود جابه‌جایی مواد در بخشی از مسیر می‌تواند آپوپلاستی و یا سیمپلاستی باشد.

جانبی خود دارای نواری از جنس چوب پنبه (سوبرین) هستند که به آن **نوار کاسپاری** گفته می‌شود. بنابراین آب و مواد محلول آن نمی‌توانند از طریق مسیر آپوپلاستی وارد یاخته‌های درون پوست شوند. یاخته‌های درون پوست انتقال مواد را کنترل می‌کنند. این لایه در ریشه مانند صافی عمل می‌کند که مانع از ورود مواد ناخواسته یا مضر مسیر آپوپلاستی به درون گیاه می‌شوند. درون پوست، همچنین از برگشت مواد جذب شده به بیرون از ریشه جلوگیری می‌کند. بعد از درون پوست حرکت در هر سه مسیر ادامه می‌یابد. مواد به آوندهای چوبی منتقل، و آماده جابه‌جایی برای مسیرهای طولانی‌تر می‌شود که به این فرایند **بارگیری چوبی** گفته می‌شود.

در ریشه بعضی گیاهان، نوار کاسپاری علاوه بر دیواره‌های جانبی درون پوست، دیواره پستی را نیز می‌پوشاند و انتقال مواد از این یاخته‌ها را غیرممکن می‌کند. در برش عرضی و زیر میکروسکوپ نوری این یاخته‌ها ظاهر نعلی یا U شکل دارند (شکل ۱۳). در این گیاهان یاخته‌های درون پوستی ویژه‌ای، به نام **یاخته معبر** وجود دارند که فاقد نوار کاسپاری در اطراف خود هستند و انتقال مواد به آوندها از طریق این یاخته‌ها انجام می‌شود.

شکل ۱۳- تصویر میکروسکوپی مقطع عرضی ریشه نوعی گیاه. باخته‌های معبر با پیکان نشان داده شده‌اند. باخته‌های درون پوست در این ریشه‌ها به صورت نعلی شکل (U) دیده می‌شود.



انتقال آب و مواد معدنی در مسیرهای بلند


شیره خام در گیاهان، گاه تا فواصل بسیار طولانی جابه‌جا می‌شود. انتشار برای فواصل طولانی، کارآمد نیست. در گیاهان، جابه‌جایی مواد در مسیرهای طولانی توسط جریان توده‌ای انجام می‌شود. سرعت انتشار آب و مواد در گیاه، چند میلی‌متر در روز است ولی در جریان توده‌ای، این سرعت به چندین متر در روز می‌رسد. جریان توده‌ای در آوندهای چوبی تحت اثر دو عامل فشار ریشه‌ای و تعرق، و با همراهی خواص ویژه آب انجام می‌شود.

فشار ریشه‌ای: باخته‌های درون پوست و باخته‌های زنده پیرامون آوندهای ریشه، با انتقال فعال، یون‌های معدنی را به درون آوندهای چوبی منتقل می‌کنند. این عمل باعث افزایش مقدار این یون‌ها، افزایش فشار اسمزی و در نتیجه ورود آب به درون آوند چوبی می‌شود. در اثر تجمع آب و یون‌ها، فشار در آوندهای چوبی ریشه افزایش می‌یابد و فشار ریشه‌ای را ایجاد می‌کند. فشار ریشه‌ای باعث هل دادن شیره خام به سمت بالا می‌شود (شکل ۱۴). در بیشتر گیاهان، فشار ریشه‌ای در صعود شیره خام نقش کمی دارد و در بهترین حالت می‌تواند چند متر آن را به بالا بفرستد. پس چه عاملی باعث حرکت شیره خام به نوک درختان بسیار بلند می‌شود؟

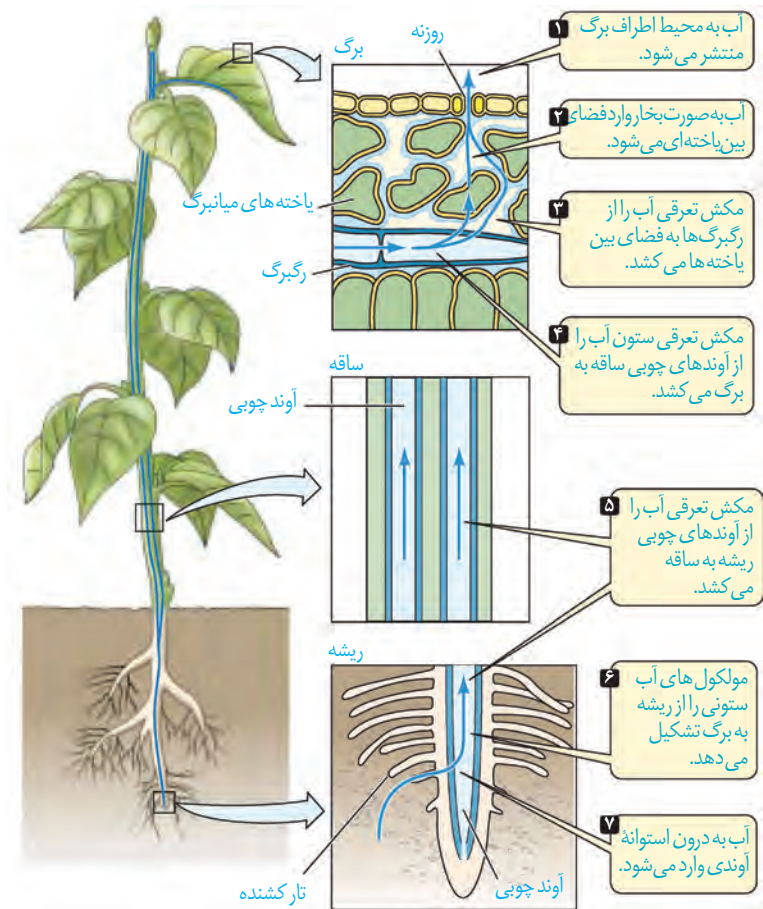
تعرق: عامل اصلی انتقال شیره خام، مکشی است که در اثر تعرق از سطح گیاه ایجاد می‌شود. علت تعرق نیز حرکت آب از محل دارای آب بیشتر به محل با آب کمتر است. ستون آب درون آوندهای چوبی پیوسته است. این پیوستگی به علت ویژگی‌های هم‌چسبی و دگرچسبی مولکول‌های آب است (شکل ۱۵).

بیشتر تعرق گیاهان از روزنه‌های برگ انجام می‌شود. نیروی مکش تعرق آن قدر زیاد است که در یک روز گرم می‌تواند باعث کاهش قطر تنه یک درخت شود؛ هرچند این کاهش اندک است. اگر دیواره آوندهای چوبی استحکام کافی نداشت به راحتی در اثر مکش تعرق، له می‌شد.

شکل ۱۴- آزمایشی برای اندازه‌گیری فشار ریشه‌ای



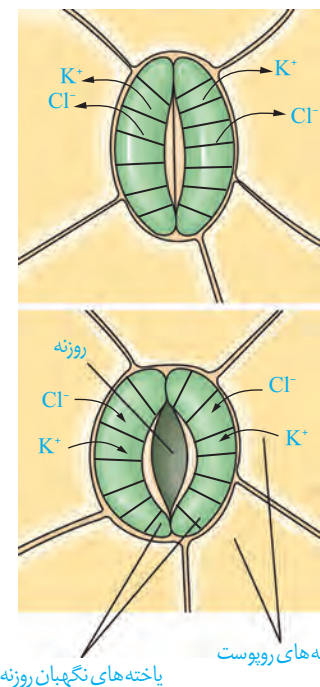
در گیاهان، تعرق می‌تواند از طریق روزنه‌های هوایی، پوستک و عدسک‌ها انجام شود. بیشتر تبادل گازها و در نتیجه تعرق برگ‌ها از منفذ (روزنه) بین یاخته‌های نگهبان روزنه هوایی انجام می‌شود. روزنه‌های هوایی می‌توانند با باز و بسته شدن، مقدار تعرق را تنظیم کنند. باز و بسته شدن روزنه به دلیل ساختار خاص یاخته‌های نگهبان روزنه و تغییر فشار تورژسانس آنها است. جذب آب به دنبال انباشت مواد محلول در یاخته‌های نگهبان روزنه انجام می‌شود. عوامل محیطی و عوامل درونی گیاه بازبسته شدن روزنه‌ها را تنظیم می‌کنند. مثلاً نور با تحریک انباشت ساکارز و یون‌های K^+ و Cl^- در یاخته نگهبان، فشار اسمزی یاخته‌ها را افزایش می‌دهد و آب از یاخته‌های مجاور به یاخته‌های نگهبان روزنه وارد می‌شود. در نتیجه، یاخته‌ها دچار تورژسانس شده و به علت ساختار ویژه آنها، روزنه باز می‌شود. بسته شدن روزنه‌ها هم، به علت خروج آب از یاخته‌های نگهبان روزنه انجام می‌شود (شکل ۱۶).



شکل ۱۵- حرکت شیره خام، تحت تأثیر مکش تعرقی

ساختار یاخته‌های نگهبان روزنه: دیواره یاخته‌های نگهبان روزنه، ساختار خاصی دارند که با جذب آب، افزایش طول پیدا می‌کنند. یکی از این عوامل، آرایش شعاعی رشته‌های سلولزی است که مانند کمربندی دور دیواره یاخته‌های نگهبان روزنه قرار دارند. این کمربندهای سلولزی، هنگام تورژسانس یاخته، مانع از گسترش عرضی یاخته شده، ولی مانع افزایش طول یاخته نمی‌شوند. عامل دیگر، اختلاف ضخامت در دیواره یاخته‌های نگهبان روزنه است. هنگام تورژسانس، به علت ضخامت کمتر، دیواره پشتی یاخته بیشتر منبسط می‌شود. این دو ویژگی باعث می‌شود هنگام جذب آب و تورژسانس، یاخته‌ها خمیدگی پیدا کند و منفذ روزنه هوایی باز شود. در این حالت امکان تبادل گازها، فراهم می‌شود (شکل ۱۶).

شکل ۱۶- چگونگی باز و بسته شدن روزنه‌های هوایی



عوامل مؤثر بر باز و بسته شدن روزنه‌ها

در گیاهان، تغییرات مقدار نور، دما، رطوبت و کربن‌دی‌اکسید از مهم‌ترین عوامل محیطی مؤثر بر حرکات روزنه‌های هوایی است. مقدار آب گیاه و نیز هورمون‌های گیاهی، از عوامل درونی مهم هستند. افزایش مقدار نور، دما و کاهش کربن‌دی‌اکسید، تا حدی معین، می‌تواند باعث باز شدن روزنه‌ها در گیاهان شود. کاهش شدید رطوبت هوا باعث بسته شدن روزنه‌ها می‌شود. رفتار روزنه‌ای برخی گیاهان نواحی خشک مانند بعضی کاکتوس‌ها، در حضور نور متفاوت است و سبب می‌شود در طول روز، روزنه‌ها بسته بمانند و از هدر رفتن آب جلوگیری شود. کاهش تعداد روزنه‌ها، کاهش تعداد یا سطح برگ‌ها نیز از سازگاری‌های گیاهان برای زندگی در محیط‌های خشک هستند. شما چه سازگاری‌های دیگری را می‌شناسید؟


فعالیت

مشاهده روزنه‌های سطح پشتی برگ

الف) یک برگ شاداب تره را انتخاب کرده و سطح پشتی و رویی آن را مشخص کنید.
ب) برگ را از محل رگبرگ میانی به بیرون شکسته ولی روپوست را پاره نکنید. هر نیمه را به نحوی به طرفین بکشید تا روپوست نازک آن از بافت‌های زیرین جدا شود. این کار اگر با دقت انجام شود روپوست غشایی و بی‌رنگ را جدا می‌کند.
پ) نمونه را در یک قطره آب، روی تیغه شیشه‌ای قرار دهید و با تیغک بیوشانید. یاخته‌های روپوست و نگهبان روزنه را در بزرگ‌نمایی‌های مختلف مشاهده کنید. آیا می‌توانید سبزدیسه‌ها را در این یاخته‌ها ببینید؟
ت) تعداد روزنه‌های موجود در میدان دید را شمارش کنید. تعداد روزنه را در واحد سطح برگ تعیین کنید.
ث) با استفاده از تیغ تیز و با احتیاط، نمونه‌های روپوست پشتی را از برگ گیاهان میخک، شمعدانی و برگ بیدی تهیه و زیر میکروسکوپ مشاهده کنید. یاخته‌های روپوست و نگهبان روزنه را در این گیاهان و تره مقایسه کنید.

تعریق

در هنگام شب یا در هوای بسیار مرطوب که شدت تعرق کاهش می‌یابد، یاخته‌های درون پوست همچنان به پمپ کردن یون‌های معدنی به درون استوائه آوندی ادامه می‌دهند. اگر مقدار آبی که در اثر فشار ریشه‌ای به برگ‌ها می‌رسد از مقدار تعرق آن از سطح برگ بیشتر باشد، آب به صورت قطراتی از انتهای یا لبه برگ‌های بعضی گیاهان علفی خارج می‌شود که به آن **تعریق** می‌گویند (شکل ۱۷). گرچه شرایط محیطی ایجادکننده تعریق مشابه شرایط ایجاد شبنم است، این دو پدیده را نباید با هم اشتباه گرفت. تعریق از ساختارهای ویژه‌ای به نام روزنه‌های آبی انجام می‌شود و نشانه فشار ریشه‌ای است. این روزنه‌ها همیشه باز هستند و محل آنها در انتهای یا لبه برگ‌هاست.



شکل ۱۷- تعریق در گیاهان

مشاهده باز و بسته شدن روزنه های هوایی

الف) همانند فعالیت قبل، روی پوست تره یا کاهو را تهیه کنید و درون محلول های ۰/۵ درصد KCl، آب خالص و آب نمک ۴ درصد در روشنایی قرار دهید. مشابه این نمونه ها را تهیه و در تاریکی قرار دهید.

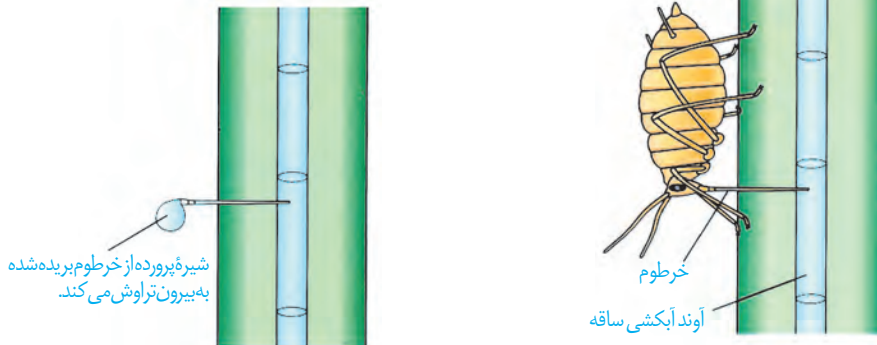
ب) پس از ۱۵ دقیقه، روی پوست را در یک قطره از همان مایعی که درون آن قرار دارد، زیر میکروسکوپ مشاهده کنید. در کدام محلول ها روزنه ها باز و در کدام بسته اند؟ آیا میزان باز یا بسته بودن روزنه ها یکسان است؟ چرا؟

پ) پس از ۱۵ دقیقه نمونه های تاریکی را به سرعت زیر میکروسکوپ مشاهده کنید. چرا باید به سرعت آنها را مشاهده کنیم؟ وضعیت روزنه ها را با مرحله قبل مقایسه کنید.

حرکت شیره پرورده

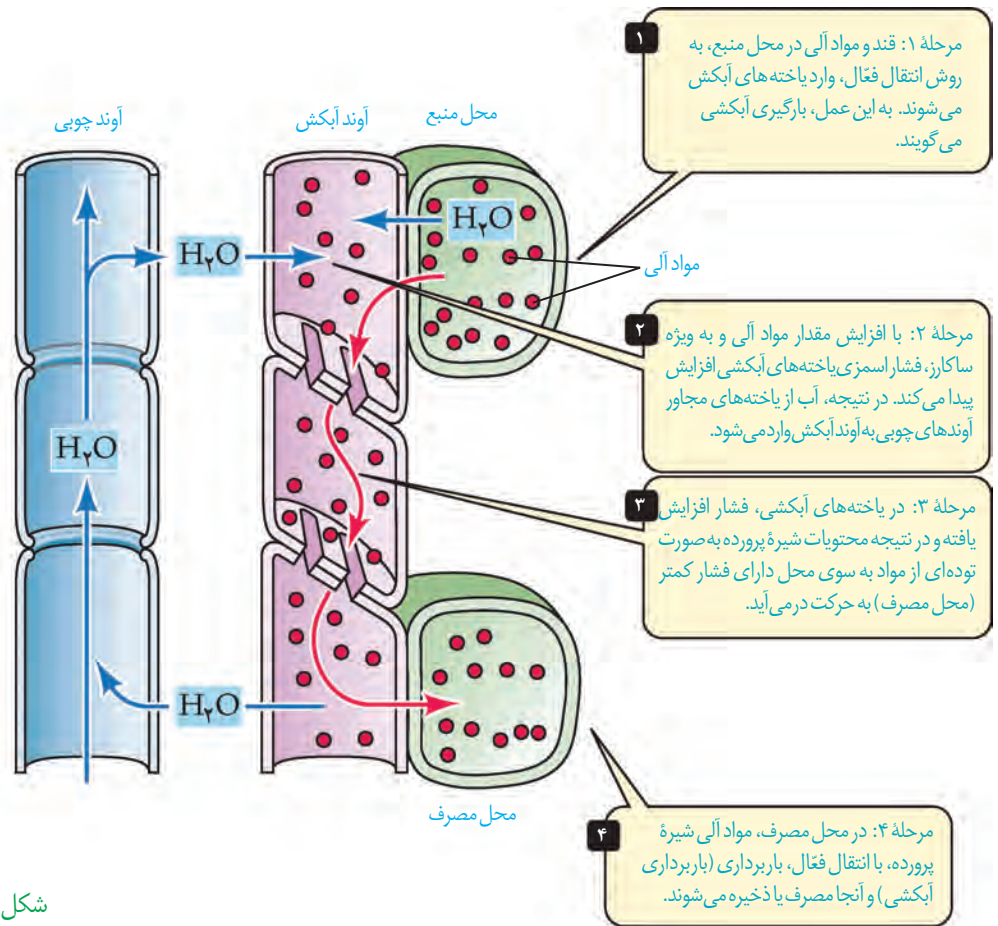
می دانید که شیره پرورده، درون آوندهای آبکشی حرکت می کند. حرکت شیره پرورده در همه جهات می تواند انجام شود. بخشی از گیاه که ترکیبات آلی مورد نیاز بخش های دیگر گیاه را تأمین می کند، محل منبع و بخشی از گیاه که ترکیبات آلی به آنجا می روند و ذخیره (مثلاً ریشه) یا مصرف (گل) می شوند، محل مصرف نامیده می شود. برگ ها از مهم ترین محل های منبع هستند. بخش های ذخیره کننده مواد آلی، هنگام ذخیره این مواد، محل مصرف و هنگام آزادسازی آن، محل منبع به شمار می آیند. برای تعیین سرعت و ترکیب شیره پرورده می توان از شته ها استفاده کرد (شکل ۱۸).

شته رابی حس می کنند و سپس خرطوم آن را می برند.



شکل ۱۸- استفاده از شته برای تعیین سرعت و ترکیب شیره پرورده

چگونگی حرکت شیره پرورده: حرکت شیره پرورده از طریق سیتوپلاسم یاخته های زنده آبکشی و از یاخته ای به یاخته دیگر انجام می شود. بنابراین حرکت شیره پرورده از شیره خام کندتر و پیچیده تر است. یک گیاه شناس آلمانی به نام ارنست مونش، الگوی جریان فشاری را برای جابه جایی شیره پرورده، ارائه داده است که در شکل ۱۹ به طور خلاصه مشاهده می کنید.



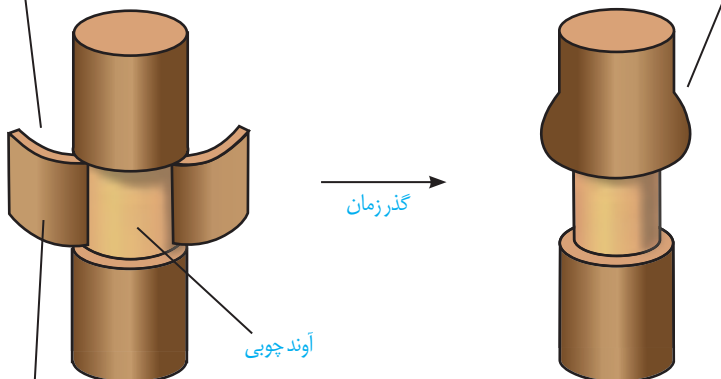
شکل ۱۹- چگونگی حرکت مواد در آوند آبکش

مواد آلی در گیاهان به صورت تنظیم شده، تولید و مصرف می‌شوند. برای مثال در گل دهی یا تولید میوه، گاهی تعداد محل‌های مصرف، بیشتر از آن است که محل‌های منبع بتوانند مواد غذایی آنها را فراهم کنند. در این موارد ممکن است گیاه به حذف بعضی گل‌ها، دانه‌ها یا میوه‌های خود اقدام کند تا مقدار کافی مواد قندی به محل‌های مصرف باقی‌مانده برسد. در باغبانی، برای داشتن میوه‌های درشت‌تر،

تعدادی از گل‌ها یا میوه‌های جوان را می‌چینند تا درختان میوه‌هایی کمتر ولی درشت‌تر به بار آورند.

حذف پوست به صورت یک حلقه از تنه درخت

مواد آلی در آوند آبکش بالای حلقه جمع شده و باعث تورم در این بخش می‌شود.



گذر زمان

شکل ۲۰- طرحی برای نشان دادن محل آوند آبکش و جهت جریان شیره پرورده. تورم در بالای حلقه نشان می‌دهد که شیره پرورده فقط در آوند آبکش و نه در آوند چوبی (بخش باقیمانده در تنه) جریان دارد.

بخش جدا شده شامل آوند آبکش

- Anthony L. Mescher, Junqueira's Basic Histology, 13th Edition, Mc GrawHill, 2013.
- Kathleen Anne Ireland, Visualizing Human Biology, 3rd Edition, Wiley & National Geographic Society, 2011.
- Eric P. Widmaier, Vander's Human Physiology, 13th Edition, Mc GrawHill, 2013.
- John E. Hall, Guyton and Hall Textbook of Medical Physiology, 13th Edition, Elsevier, 2016.
- Neil A. Campbell, Biology A Global Approach, 10th Edition, Pearson Education, 2015.
- Cecie Starr, Biology Today and Tomorrow with Physiology, Brooks/Cole, Cengage Learning, 4th Edition, 2013.
- Cleveland P. Hickman, Integrated Principles of Zoology, 14th Edition, M Graw-Hill, 2008.
- Russel Hertz Mcmillan, Biology The Dynamic Science, 2nd Edition, Brooks/Cole, Cengage Learning, 2011.
- Pijush Roy, Plant Anatomy, New Central Book Agency Ltd, 2010.
- David M. Hillis, Principles of Life, Sinauer Associates Inc. 2012.
- Robert J. Brooker, Biology, McGraw-Hill, 2008.



واژه به زبان اصلی	واژه قبلی	واژه مصوب فرهنگستان
Coronary	کرونی	اکیلی
Diastole	دیاستول	انبساط
Systole	سیستول	انقباض
Epiglottis	اپی‌گلوت	برچاکنای
Epicardium	اپی‌کارد	برون‌شامه
Exocytosis	اگزوسیتوز	برون‌رانی
Sphincter	اسفنگتر	بنداره
Antioxidant	آنتی‌اکسیدان	پاداکنده
Echocardiography	اکوکاردیوگرافی	بژواکنگاری
Periderm	پریدرم	پیراپوست
Pericardium	پری‌کارد	پیراشامه
Plasma	پلازما	خوناب
Hematocrit	هماتوکریت	خون‌نهر
Macrophage	ماکروفاژ	درشت‌خوار
Endoscopy	آندوسکوپی	درون‌بینی
Endocytosis	آندوسیتوز	درون‌بری
Endodermis	آندودرم	درون‌پوست
Spirometry	اسپیرومتر	دم‌سنج
Spirogram	اسپیروگرام	دم‌نگاره
Deoxyribonucleic acid	DNA	دنا
Endocardium	آندوکارد	درون‌شامه
Plastid	پلاست	دیسه
Mitochondrion	میتوکندری	راکیزه
Angiography	آنژیوگرافی	رگ‌نگاری
Chromoplast	کروموپلاست	رنگ‌دیسه
Probiotic	پروبیوتیک	زیست‌بار
Chlorophyll	کلروفیل	سزینه
Surfactant	سورفاکتانت	عامل سطح‌فعال
Lysosome	لیزوزوم	کافنده‌تن
Glomerulus	گلومرول	کلافک
Colonoscopy	کولونوسکوپی	کولون‌بینی
Platelet	پلاکت	گرده
Nephron	نفرن	گردیزه
Humus	هوموس	گیاخاک
Globule	گلبول	گویچه
Lobe	لوب	آپ
Myocardium	میوکارد	ماهیچه قلب
Diaphragm	دیافرام	میان‌بند
Amyloplast	آمیلوپلاست	نشادیسه
Homeostasis	هومئوستازی	هم‌ایستایی
Neuron	نورون	یاخته عصبی

معلمان محترم، صاحب نظران، دانش آموزان عزیز و اولیای آنان می توانند
نظر اصلاحی خود را درباره مطالب این کتاب از طریق نامه به نشانی تهران،
صندوق پستی ۱۵۸۷۵/۴۸۷۴، گروه درسی مربوطه یا پیام نگار (Email)
talif@talif.sch.ir ارسال نمایند.

دفتر تألیف کتاب های درسی عمومی و متوسطه نظری

بِسْمِ اللّٰهِ الرَّحْمٰنِ الرَّحِیْمِ

اللّٰهُمَّ صَلِّ عَلٰی مُحَمَّدٍ وَّآلِ مُحَمَّدٍ وَّعَجِّلْ فَرَجَهُمْ

زیست شناسی (۳)

رشته علوم تجربی

پایه دوازدهم

دوره دوم متوسطه






وزارت آموزش و پرورش
سازمان پژوهش و برنامه‌ریزی آموزشی

زیست‌شناسی (۳) - پایه دوازدهم دوره دوم متوسطه - ۱۱۲۲۱۶
سازمان پژوهش و برنامه‌ریزی آموزشی
دفتر تألیف کتاب‌های درسی عمومی و متوسطه نظری
سید علی آل محمد، محمد ابراهیمی، مریم انصاری، خدابخش بهزادی، علی هاتف سلمانیان، الهه علوی،
اعظم غلامی و بهمن فخریان (اعضای شورای برنامه‌ریزی)
سید علی آل محمد، محمد ابراهیمی، مریم انصاری، الهه علوی، اعظم غلامی و بهمن فخریان (اعضای
گروه تألیف) - بهمن فخریان (ویراستار علمی) - شیما شریفی، سهیلا عابدینی (ویراستار ادبی)
اداره کل نظارت بر نشر و توزیع مواد آموزشی
احمدرضا امینی (مدیر امور فنی و چاپ) - مجید ذاکری یونسی (مدیر هنری) - احسان رضوانی
(طراح گرافیک، طراح جلد و صفحه‌آرا) - الهه بهین، مریم دهقان زاده (تصویرگر و رسام) - فاطمه باقری مهر،
زهره ایمانی نصر، زهرا رشیدی مقدم، نوشین معصوم دوست، فاطمه پزشکی و ناهید خیام‌باشی (امور
آماده‌سازی)

تهران: خیابان ایرانشهر شمالی - ساختمان شماره ۴ آموزش و پرورش (شهید موسوی)
تلفن: ۸۸۸۳۱۱۶۱-۹، دورنگار: ۹۲۶۶-۸۸۳۰، کد پستی: ۱۵۸۴۷۴۳۵۹
وبگاه: www.chap.sch.ir و www.irtextbook.ir
شرکت چاپ و نشر کتاب‌های درسی ایران تهران: کیلومتر ۱۷ جاده مخصوص کرج - خیابان ۶۱ (داروپخش)
تلفن: ۴۴۹۸۵۱۶۱-۵، دورنگار: ۴۴۹۸۵۱۶۰، صندوق پستی: ۳۷۵۱۵-۱۳۹
شرکت چاپ و نشر کتاب‌های درسی ایران «سهامی خاص»
چاپ چهارم ۱۴۰۰

نام کتاب:
پدیدآورنده:
مدیریت برنامه‌ریزی درسی و تألیف:
شناسه افزوده برنامه‌ریزی و تألیف:
مدیریت آماده‌سازی هنری:
شناسه افزوده آماده‌سازی:
نشانی سازمان:
ناشر:
چاپخانه:
سال انتشار و نوبت چاپ:

شابک ۹۷۸-۹۶۴-۰۵-۳۱۳۲-۷
ISBN: 978-964-05-3132-7



جوان‌ها قدر جوانیشان را
بدانند و آن را در علم و تقوا
و سازندگی خودشان صرف
کنند که اشخاصی امین و
صالح بشوند. مملکت ما
با اشخاص امین می‌تواند
مستقل باشد.

امام خمینی «قَدِّسَ سِرُّهُ»

کلیه حقوق مادی و معنوی این کتاب متعلق به سازمان پژوهش و برنامه‌ریزی آموزشی وزارت آموزش و پرورش است و هرگونه استفاده از کتاب و اجزای آن به صورت چاپی و الکترونیکی و ارائه در پایگاه‌های مجازی، نمایش، اقتباس، تلخیص، تبدیل، ترجمه، عکس‌برداری، نقاشی، تهیه فیلم و تکثیر به هر شکل و نوع، بدون کسب مجوز از این سازمان ممنوع است و متخلفان تحت پیگرد قانونی قرار می‌گیرند.

فهرست

- فصل ۱- مولکول‌های اطلاعاتی** ۱
- نوکلئیک اسیدها
همانندسازی دنا
پروتئین‌ها
- فصل ۲- جریان اطلاعات در یاخته** ۲۱
- رونویسی
به سوی پروتئین
تنظیم بیان ژن
- فصل ۳- انتقال اطلاعات در نسل‌ها** ۳۷
- مفاهیم پایه
انواع صفات
- فصل ۴- تغییر در اطلاعات وراثتی** ۴۷
- تغییر در ماده وراثتی جانداران
تغییر در جمعیت‌ها
تغییر در گونه‌ها
- فصل ۵- از ماده به انرژی** ۶۳
- تامین انرژی
اکسایش بیشتر
زیستن مستقل از اکسیژن
- فصل ۶- از انرژی به ماده** ۷۷
- فتوسنتز: تبدیل انرژی نور به انرژی شیمیایی
واکنش‌های فتوسنتزی
فتوسنتز در شرایط دشوار
- فصل ۷- فناوری‌های نوین زیستی** ۹۱
- زیست فناوری و مهندسی ژنتیک
فناوری مهندسی پروتئین و بافت
کاربردهای زیست فناوری
- فصل ۸- رفتارهای جانوران** ۱۰۷
- اساس رفتار
انتخاب طبیعی و رفتار
ارتباط و زندگی گروهی

مقدمه

کتاب زیست شناسی ۳ سومین کتاب زیست شناسی دوره دوم متوسطه است که برای پایه دوازدهم رشته علوم تجربی تألیف و چاپ شده است. این کتاب ادامه اجرای برنامه ۱۲ ساله حوزه تربیت و یادگیری علوم تجربی در موضوع زیست شناسی است که از دوره ابتدایی آغاز و در سه سال اول متوسطه در قالب کتاب های علوم تجربی ادامه یافت و با کتاب زیست ۱ پایه دهم به دوره دوم متوسطه رسید. برنامه زیست شناسی براساس راهنمای برنامه حوزه تربیت و یادگیری علوم تجربی و منطبق با برنامه درسی ملی تدوین شده است. اهداف این برنامه مطابق با برنامه درسی ملی در سه عرصه ارتباطی انسان یعنی ارتباط با خود، خلق و خلقت، مبتنی بر ارتباط با خدا، تعریف شده و در جهت تقویت پنج عنصر (تفکر و تعقل، ایمان، علم، عمل و اخلاق) پیش می رود. بر این اساس مهم ترین شایستگی های مدنظر حوزه علوم تجربی که درس زیست شناسی تلاش می کند در دانش آموز تحقق یابد در زیر فهرست شده اند. انتظار می رود دانش آموز بتواند:

- نظام مندی طبیعت را براساس درک و تحلیل مفاهیم، الگوها و روابط بین پدیده های طبیعی به عنوان آیات الهی کشف و گزارش کند و نتایج آن را برای حل مسائل حال و آینده در ابعاد فردی و اجتماعی در قالب ایده یا ابزار ارائه دهد / به کار گیرد.
 - با ارزیابی رفتارهای متفاوت در ارتباط با خود و دیگران در موقعیت های گوناگون زندگی، رفتارهای سالم را انتخاب کند / گزارش کند / به کار گیرد.
 - با درک ماهیت، روش و فرایند علم تجربی، امکان به کارگیری این علم را در حل مسائل واقعی زندگی (حال و آینده)، تحلیل و محدودیت ها و توانمندی های علوم تجربی را در حل این مسائل گزارش کند.
 - با استفاده از منابع علمی معتبر و بهره گیری از علم تجربی، بتواند ایده هایی مبتنی بر تجارب شخصی، برای مشارکت در فعالیت های علمی ارائه دهد و در این فعالیت ها با حفظ ارزش ها و اخلاق علمی مشارکت کند.
- این کتاب در ادامه زیست شناسی ۱ و ۲ تألیف شده و زمینه اصلی آن تغییر، پایداری و زمان است. در این ارتباط سازوکارهای مولکولی در ارتباط با کسب ماده و انرژی، سازوکارهای انتقال صفات از نسلی به نسل دیگر و سازوکارهای تغییر گونه ها و رفتارهای جانوران در گذر زمان مطالعه می شوند. دانش آموزان با مطالعه این کتاب همچنین با فرایندها و ساختارهایی آشنا می شوند که با وجود تنوع

در دنیای زنده از اصول ثابتی پیروی می کنند. کتاب ابتدا به معرفی سازوکارهای مولکولی ذخیره و انتقال اطلاعات در یاخته می پردازد، به دنبال آن چگونگی جریان اطلاعات در یاخته و نسل ها و در آخر در مورد تغییر در اطلاعات مباحثی را مطرح می کند.

بخش دیگری از کتاب به شارش انرژی در موجودات زنده می پردازد که در آن دانش آموزان با دو مبحث از ماده به انرژی (تنفس سلولی) و از انرژی به ماده (فتوسنتز) آشنا خواهند شد.

در قسمتی از کتاب به فناوری های نوین زیستی به ویژه مهندسی ژنتیک، مهندسی بافت و پروتئین پرداخته شده است و ضمن اشاره به پایه های زیست فناوری در مورد استفاده از این فناوری ها مباحثی مطرح شده است. در انتهای کتاب بخشی به رفتارهای جانوران در موقعیت های مختلف و سازوکارهای مربوط به آنها اختصاص یافته است.

مفاهیم اساسی در این کتاب با توجه به بازخوردهای حاصل از آموزش های قبلی، اصلاح و متناسب با یافته های جدید در علم زیست شناسی، به روز شده اند.

انتخاب و سازماندهی محتوا در این کتاب مانند کتاب زیست شناسی ۱ و ۲ بر اساس آموخته های دانش آموزان در متوسطه اول بوده است. در ارائه محتوا، اولویت با آنهایی است که دانش آموز در زندگی با آنها مواجه می شود. همچنین بر اساس تجربیات به دست آمده از آموزش مفاهیم زیست شناسی، سعی شده تا حد امکان از محتواهای صرفاً دانشی پرهیز شود.

در بیشتر قسمت های کتاب بحث با طرح سؤالاتی شروع می شود. هدف از این روش درگیرکردن دانش آموز با مبحث، بارش فکری و تا حدی مفهوم سازی توسط خود دانش آموز است.

در کتاب نمونه هایی از تاریخ تحولات علمی مانند کشف ساختار دنا، سازوکارهای کسب و تبدیل انرژی، سازوکارهای زیست فناوری و روش های استفاده از آن، و شناخت رفتارهای جانوری آورده شده تا دانش آموزان علاوه بر آنکه علم را به عنوان محصول کار دانشمندان می شناسند، به فرایند تولید علم نیز توجه کنند.

آموزش این کتاب مستلزم به کارگیری ظرفیت دانش آموزان در کلاس درس و مشارکت هر چه بیشتر آنها در امر یادگیری است. معلم در این جایگاه نقش تسهیل گر آموزش و نه انتقال دهنده دانش را ایفا می کند.

سخنی با همکاران ارجمند

در تألیف این کتاب چند نکته مدنظر مؤلفان و شورای تألیف بوده که لازم است مورد توجه دبیران و اولیای محترم نیز قرار گیرد.

سعی شده حجم کتاب با ساعت اختصاص یافته به آن (۴ ساعت در هفته) متناسب باشد و با توجه به برگزاری امتحانات نهایی و کنکور در انتهای این سال تحصیلی، حجم و چگالی مطالب کتاب به گونه‌ای در نظر گرفته شده که دانش آموزان فرصت بیشتری داشته باشند تا کتاب‌های قبلی را مرور و برای شرکت در این آزمون‌ها آمادگی پیدا کنند.

با توجه به بازخوردهای دریافت شده از آموزش مباحث زیست‌شناسی در سال‌های قبل در کلاس‌های تقویتی و کنکور که اهداف اصلی کتاب را به فراموشی سپرده و کلاس به سمت حل مسائل عددی و محاسباتی هدایت می‌شد در این کتاب ممنوعیت‌هایی در خصوص برگزاری آزمون‌ها مطرح شده است، به این صورت که طراحی سؤالات عددی و محاسباتی از محتوای فصل‌های این کتاب در همه آزمون‌ها منع شده و لازم است همه دبیران، دانش‌آموزان و اولیای محترم‌شان و همچنین سازمان سنجش آموزش کشور این نکته مهم را مد نظر قرار دهند تا از فشارهای روانی به دانش‌آموزان و والدین آنها در خصوص آزمون‌ها کاسته شود.

درمقایسه این کتاب با کتاب‌های قبلی به دلایلی بعضی مطالب حذف شده است مثل آغازیان، باکتری‌ها و قارچ‌ها که بیشتر برای دانش‌آموزان حالت حفظی داشته و در کنکور و امتحانات نهایی چالش‌هایی را ایجاد می‌کرده است. دانش‌آموزان و دبیران گرامی در مورد محتواهای حذف شده دقت نمایند که این مطالب در سرفصل‌های کتاب حاضر نیست و در آزمون‌ها هم ارزشیابی نمی‌شوند. معیار کنکور و آزمون‌های آموزش و پرورش فقط محتوای کتاب درسی است.

در برنامه جدید زیست‌شناسی به‌ویژه دوره متوسطه (زیست‌شناسی ۱ و ۲ و ۳) به هر بحث یک‌بار پرداخته شده است و حد نهایی آن بر اساس آنچه در کتاب درسی آمده، تعیین می‌شود. بنابراین همکاران محترم از افزودن مطالب غیرضروری به درس و ارزشیابی از آنها اجتناب نمایند.

گروه زیست‌شناسی دفتر تألیف کتاب‌های درسی عمومی و متوسطه نظری

مطالب «بیشتر بدانید» و «پاورقی‌ها» در این کتاب، صرفاً جنبه آگاهی‌بخشی دارد و نباید در ارزشیابی، آزمون‌ها و کنکور مورد پرسش قرار گیرد.



فصل ۱

مولکول‌های اطلاعاتی

یکی از پرسش‌هایی که یافتن جوابی برای آن بیش از پنجاه سال طول کشید، این بود که ژن چیست و از چه ساخته شده است؟


پاسخ این سؤال، به ظاهر شاید ساده باشد ولی برای رسیدن به آن، پژوهش‌ها و آزمایش‌های زیادی انجام شد که در حال حاضر هم ادامه دارد.

در این فصل مطالب در قالب زنجیره‌ای از آزمایش‌ها توضیح داده می‌شود که نتایج آنها آگاهی ما را از ژن و مولکول‌های مرتبط به آن یعنی دنا (DNA)، رنا (RNA) و پروتئین بیشتر می‌کند. آشنا شدن با ساختار این مولکول‌ها مقدمه‌ای است برای فهم بهتر فصل‌های دیگر این کتاب. همچنین، در کنار این مباحث با سازوکار مولکولی و چگونگی ذخیره و انتقال اطلاعات وراثتی آشنا می‌شویم.



طرح سؤالات عددی و محاسباتی از مباحث این فصل در همهٔ آزمون‌ها از جمله کنکور سراسری ممنوع است.





دانشمندی سوئیسی به نام میشر^۱ در سال ۱۸۶۹ نوکلئیک اسیدها را کشف کرد. او ترکیبات سفید رنگی را از هسته گویچه‌های سفید انسان و اسپرم ماهی استخراج کرد که نسبت نیتروژن و فسفات در این ترکیبات با نسبت آن در ترکیبات حاصل از بخش‌های دیگر یاخته متفاوت بود. همین باعث شد که میشر این ترکیب زیستی را به عنوان ترکیب جدیدی معرفی کند. او این ماده را نوکلئیک اسید (اسید هسته‌ای) نامید؛ چون از هسته (Nucleus) استخراج شده بود و خاصیت اسیدی ضعیفی هم داشت.

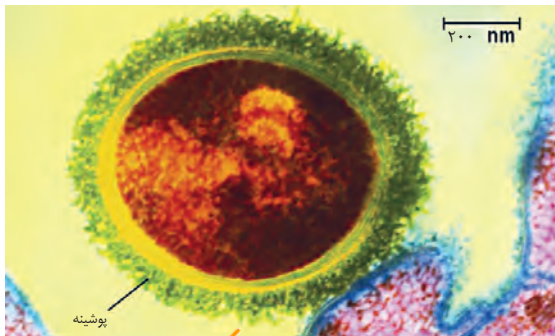
۱- Friedrich Miescher

گفتار ۱ نوکلئیک اسیدها

هریک از یاخته‌های بدن ما ویژگی‌هایی مانند شکل و اندازه دارند. این ویژگی‌ها تحت فرمان هسته هستند. دستورالعمل‌های هسته در حین تقسیم از یاخته‌ای به یاخته دیگر و در حین تولید مثل از نسلی به نسل دیگر منتقل می‌شود. اطلاعات و دستورالعمل فعالیت‌های یاخته در چه قسمتی از هسته ذخیره می‌شود؟ قبلاً آموختیم که فام‌تن‌ها در هسته قرار دارند و در ساختار آنها دنا و پروتئین مشارکت می‌کنند. کدام یک از این دو ماده، ذخیره‌کننده اطلاعات وراثتی است؟

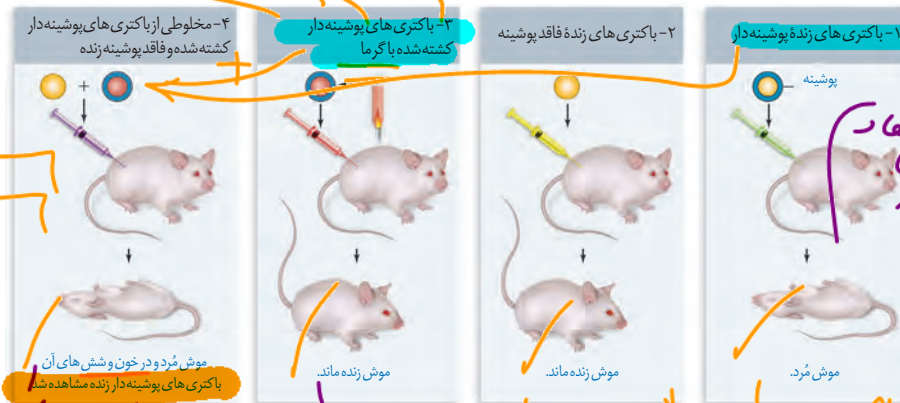
پاسخ این سؤال مشخص شده است. این ماده دنا است که به عنوان ماده ذخیره‌کننده اطلاعات وراثتی عمل می‌کند. اما دانشمندان چگونه به این پاسخ رسیده‌اند؟

اطلاعات اولیه در مورد ماده وراثتی از فعالیت‌ها و آزمایش‌های باکتری‌شناسی انگلیسی به نام گریفیت^۱ به دست آمد. او سعی داشت واکسنی برای آنفلوآنزا تولید کند. در آن زمان تصور می‌شد عامل این بیماری، نوعی باکتری به نام استرپتوکوکوس نومونیا^۲ است. گریفیت با دو نوع از این باکتری، آزمایش‌هایی را روی موش‌ها انجام داد. نوع بیماری زای آن که پوشینه‌دار (کپسول‌دار) است در موش‌ها سبب سینه‌پهلو می‌شود ولی نوع بدون پوشینه آن موش‌ها را بیمار نمی‌کند (شکل ۱).



شکل ۱- باکتری پوشینه‌دار

آزمایش‌ها و نتایج کار گریفیت را در شکل ۲ ملاحظه می‌کنید.



شکل ۲- آزمایشات گریفیت و نتایج آن

۱- Fredrick Griffith
۲- *Streptococcus Pneumoniae*

بیشتر بدانید

گرفتاری در سال ۱۹۲۸ نشان داد که خصوصیات یک باکتری به باکتری دیگر قابل انتقال است.



گرفتاری مشاهده کرد تزریق باکتری‌های پوشینه‌دار به موش باعث بروز علائم بیماری و مرگ در آنها می‌شود؛ در حالی که تزریق باکتری‌های بدون پوشینه به موش‌های مشابه، باعث بروز علائم بیماری نمی‌شود. او در آزمایش دیگری باکتری‌های پوشینه‌دار کشته شده با گرما را به موش‌ها تزریق و مشاهده کرد که موش‌ها سالم ماندند. گرفتاری نتیجه گرفت وجود پوشینه به تنهایی عامل مرگ موش‌ها نیست. سپس مخلوطی از باکتری‌های پوشینه‌دار کشته شده با گرما و زنده بدون پوشینه را به موش‌ها تزریق کرد؛ برخلاف انتظار، موش‌ها مُردند! او در بررسی خون و شش‌های موش‌های مرده، تعداد زیادی باکتری‌های پوشینه‌دار زنده مشاهده کرد. مسلماً باکتری‌های مرده، زنده نشده‌اند بلکه تعدادی از باکتری‌های بدون پوشینه به نحوی تغییر کرده و پوشینه‌دار شده‌اند. از نتایج این آزمایش‌ها مشخص شد که ماده وراثتی می‌تواند به یاخته دیگری منتقل شود ولی ماهیت این ماده و چگونگی انتقال آن مشخص نشد.

عامل اصلی انتقال صفات وراثتی، مولکول دنا است

عامل مؤثر در انتقال این صفت تا حدود ۱۶ سال بعد از گرفتاری همچنان ناشناخته ماند. تا اینکه نتایج کارهای دانشمندی به نام ایوری^۱ و همکارانش عامل مؤثر در آن را مشخص کرد. آنها ابتدا از عصاره استخراج شده از باکتری‌های کشته شده پوشینه‌دار استفاده کردند و در آن تمامی پروتئین‌های موجود را تخریب کردند. به نظر شما چگونه این کار انجام شد؟

آنها سپس باقی‌مانده محلول را به محیط کشت باکتری فاقد پوشینه اضافه کردند و دیدند که انتقال صفت صورت می‌گیرد؛ پس می‌توان نتیجه گرفت که پروتئین‌ها ماده وراثتی نیستند.

در آزمایش دیگری عصاره استخراج شده از باکتری‌های کشته شده پوشینه‌دار را در یک گریزانه (سانتریفیوژ^۲) با سرعت بالا قرار دادند و مواد آن را به صورت لایه لایه جدا کردند. با اضافه کردن هر یک از لایه‌ها به صورت جداگانه به محیط کشت باکتری فاقد پوشینه مشاهده کردند که انتقال صفت فقط با لایه‌ای که در آن دنا وجود دارد انجام می‌شود.

نتایج این آزمایش‌ها، ایوری و همکارانش را به این نتیجه رساند که عامل اصلی و مؤثر در انتقال صفات، دنا است. به عبارت ساده‌تر، دنا همان ماده وراثتی است. با این حال نتایج به دست آمده مورد قبول عده‌ای قرار نگرفت؛ چون در آن زمان بسیاری از دانشمندان بر این باور بودند که پروتئین‌ها ماده وراثتی هستند.

در آزمایش‌های دیگری عصاره باکتری‌های پوشینه‌دار را استخراج و آن را به چهار قسمت تقسیم کردند. به هر قسمت، آنزیم تخریب‌کننده یک گروه از مواد آلی (کربوهیدرات‌ها، پروتئین‌ها، لیپیدها، نوکلئیک اسیدها) را اضافه کردند. سپس هر کدام را به محیط کشت حاوی باکتری بدون پوشینه منتقل و اجازه دادند تا فرصتی برای انتقال صفت و رشد و تکثیر داشته باشند. مشاهده شد که در همه ظروف انتقال صورت می‌گیرد به جز ظرفی که حاوی آنزیم تخریب‌کننده دنا است.

بیشتر بدانید

ایوری و همکارانش برای اولین بار در سال ۱۹۴۴ نشان دادند که دنا، ماده ژنتیک است.

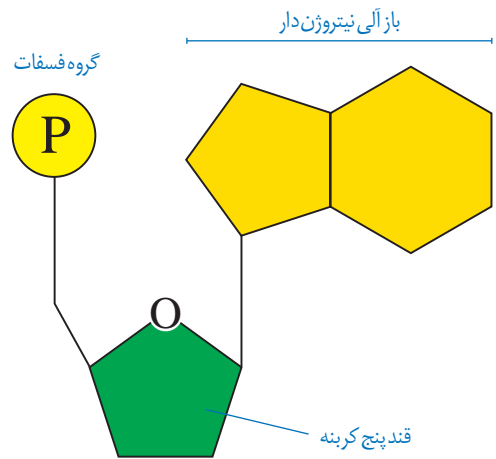


۱- Oswald Avery

۲- Centrifuge

ساختار نوکلئیک اسیدها

نوکلئیک اسیدها که شامل **دئوکسی ریبونوکلئیک اسید** (دنا) و **ریبونوکلئیک اسید** (رنا) هستند، همگی بسپارهایی (پلیمرهایی) از واحدهای تکرارشونده به نام **نوکلئوتید** هستند. با توجه به شکل ۳ هر نوکلئوتید شامل سه بخش است: یک قند پنج کربنه، یک باز آلی نیتروژن دار و یک تاسه گروه فسفات. قند پنج کربنه در دنا، **دئوکسی ریبوز** و در رنا، **ریبوز** است. دئوکسی ریبوز یک اکسیژن کمتر از ریبوز دارد. **باز آلی نیتروژن دار** می تواند **پورین** باشد که ساختار دو حلقه ای دارد؛ شامل آدنین (A) و گوانین (G) یا می تواند **پیریمیدین** باشد که ساختار تک حلقه ای دارد؛ شامل تیمین (T) سیتوزین (C) و یوراسیل (U). در دنا باز یوراسیل شرکت ندارد و به جای آن تیمین وجود دارد و در رنا به جای تیمین، باز یوراسیل وجود دارد.



شکل ۳- اجزای یک نوکلئوتید

برای تشکیل یک نوکلئوتید، باز آلی نیتروژن دار و گروه یا گروه های فسفات با پیوند اشتراکی (کووالانسی) به دو سمت قند متصل می شوند (شکل ۳).

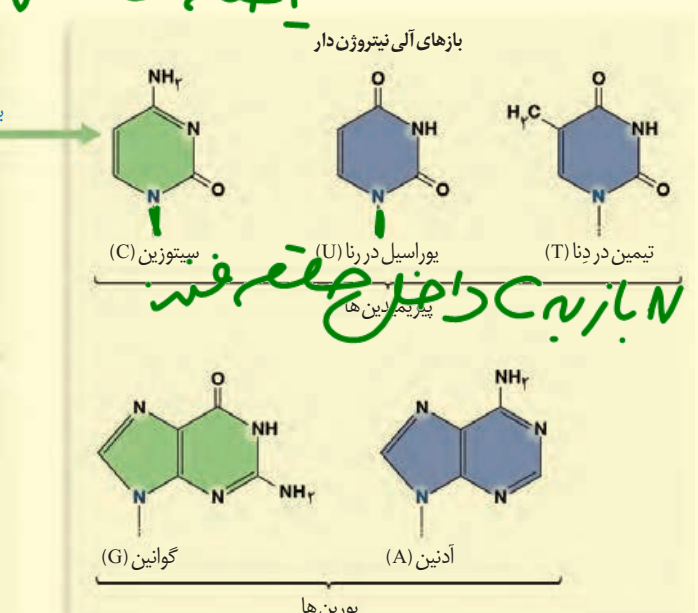
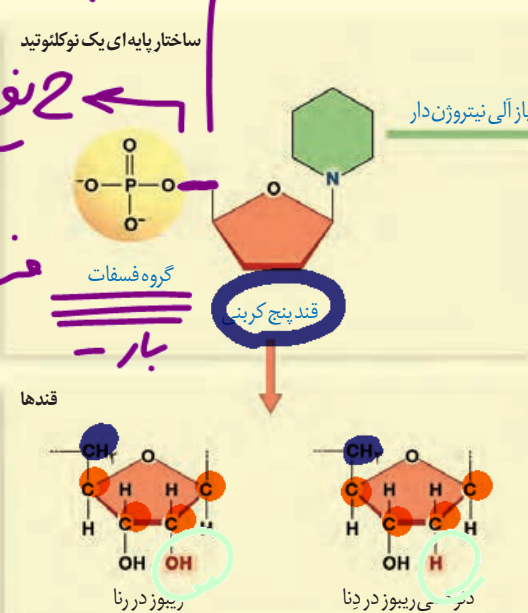
نوکلئوتیدها از نظر نوع قند، نوع باز آلی و تعداد گروه های فسفات با یکدیگر تفاوت دارند. نوکلئوتیدها با نوعی پیوند اشتراکی به نام **فسفودی استر** به هم متصل می شوند و رشته پلی نوکلئوتیدی را می سازند. در تشکیل پیوند فسفودی استر، فسفات یک نوکلئوتید به گروه هیدروکسیل (OH) از قند مربوط به نوکلئوتید دیگر متصل می شود (شکل ۵). رشته های پلی نوکلئوتیدی با به تنهایی نوکلئیک اسید را می سازند، مثل رنا، یا به صورت دوتایی مقابل هم قرار می گیرند و نوکلئیک اسیدهایی مثل دنا را می سازند.

بیشتر بدانید

انواع بازهای آلی نیتروژن دار و پنتوزها

اجزای نوکلئوتیدی

ساختار پایه ای یک نوکلئوتید
2 نوع عنصر
عنصر

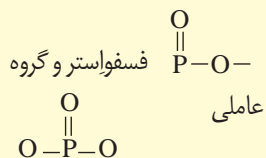


بیشتر بدانید

فسفودی استر

در درس شیمی با استرها آشنا شدید

که دارای گروه عاملی $\text{C}=\text{O}-\text{O}$ هستند این گروه عاملی در ساختار برخی مواد سازنده بدن موجودات زنده از جمله نوکلئیک اسیدها وجود دارد. با این توصیف گروه عاملی



فسفودی استر نامیده می شوند که در زیست شناسی آن را پیوند فسفودی استر می خوانند.

بنابراین مولکول های دنا از دو رشته پلی نوکلئوتید و مولکول های رنا از یک رشته پلی نوکلئوتید تشکیل می شوند (شکل ۴).



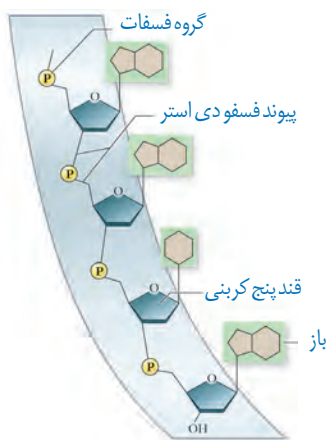
شکل ۴- دنا و رشته ای و رنا تک رشته ای

دو انتهای رشته های پلی نوکلئوتید نیز می توانند با پیوند فسفودی استر به هم متصل شوند و نوکلئیک اسید **حلقوی** را ایجاد کنند؛ برای مثال دنا در باکتری ها به صورت حلقوی است. در نوکلئیک اسیدهای **خطی** گروه فسفات در یک انتها و گروه هیدروکسیل در انتهای دیگر آزاد است؛ بنابراین هر رشته دنا و رنا خطی همیشه دو سر متفاوت دارد (شکل ۵).

تلاش برای کشف ساختار مولکولی دنا

در ابتدا تصور می شد که چهار نوع نوکلئوتید موجود در دنا به نسبت مساوی در سراسر مولکول توزیع شده اند. بر این اساس دانشمندان انتظار داشتند که مقدار ۴ نوع باز آلی در تمامی مولکول های دنا از هر جاندار که به دست آمده باشد با یکدیگر برابر باشد.

اما مشاهدات و تحقیقات چارگاف^۱ روی دناهای جانداران نشان داد که مقدار آدنین در دنا با مقدار تیمین برابر است و مقدار گوانین در آن با مقدار سیتوزین برابری می کند. تحقیقات بعدی دانشمندان دلیل این برابری نوکلئوتیدها را مشخص کرد.




شکل ۵- بخشی از رشته نوکلئیک اسید

^۱ Erwin Chargaff

بیشتر بدانید

چارگاف در سال ۱۹۵۰ نشان داد که در دِنای جانداران گوناگون $A=T$ و $G=C$ است.



بیشتر بدانید

برخی از نتایج آزمایش های چارگاف (درصد)

گونه	A	T	G	C	$\frac{A+G}{T+C}$	$\frac{A+T}{G+C}$
انسان	۳۱/۰	۳۱/۵	۱۹/۱	۱۸/۴	۱/۰۰	۱/۶۶
مگس سرکه	۲۷/۳	۲۷/۶	۲۲/۵	۲۲/۶	۰/۹۹	۱/۲۲
ذرت	۲۵/۶	۲۵/۳	۲۴/۵	۲۴/۶	۱/۰۰	۱/۰۴

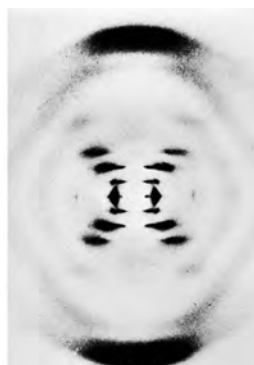
اختلاف کم درصدها به دلیل خطاهای آزمایش است.

استفاده از پرتو ایکس برای تهیه تصویر از دِنَا

ویلکینز^۱ و فرانکلین^۲ با استفاده از پرتو ایکس از مولکول های دِنَا تصاویری تهیه کردند (شکل ۶). با بررسی این تصاویر در مورد ساختار دِنَا نتایجی را به دست آوردند از جمله اینکه دِنَا حالت مارپیچی و بیش از یک رشته دارد. البته با استفاده از این روش ابعاد مولکول ها را نیز تشخیص دادند.



فرانکلین



ویلکینز

شکل ۶- تصویر تهیه شده با پرتو ایکس از مولکول دِنَا توسط ویلکینز و فرانکلین

مدل مولکولی دِنَا

واتسون^۳ و کریک^۴ با استفاده از نتایج آزمایش های چارگاف و داده های حاصل از تصاویر تهیه شده با پرتو ایکس و با استفاده از یافته های خود، مدل مولکولی نردبان مارپیچ را ساختند که باعث شد در سال ۱۹۶۲ جایزه نوبل را دریافت کنند. نتایج حاصل از این تحقیقات با پژوهش های امروزی مورد تأیید قرار گرفته اند.

شکل ۷- واتسون و کریک و مدل پیشنهادی آنها برای دِنَا



۱- Maurice Wilkins

۲- Rosalind Franklin

۳- James Watson

۴- Francis Crick

نکات کلیدی مدل واتسون و کریک

هر مولکول دنا در حقیقت از دو رشته پلی نوکلئوتیدی ساخته شده است که به دور محوری فرضی پیچیده شده و ساختار مارپیچ دو رشته‌ای را ایجاد می‌کند. این مارپیچ اغلب با یک نردبان پیچ خورده مقایسه می‌شود. ستون‌های این نردبان را قند و فسفات و پله‌ها را بازهای آلی تشکیل می‌دهند. بین قند یک نوکلئوتید و قند نوکلئوتید مجاور پیوند فسفودی‌استر، و بین بازهای روبه‌روی هم پیوند هیدروژنی برقرار است (شکل ۸).

پیوندهای هیدروژنی بین بازها، دو رشته دنا را در مقابل هم نگه می‌دارد. این پیوندها بین جفت بازها به صورت اختصاصی تشکیل می‌شوند. آدنین (A) با تیمین (T) روبه‌روی هم قرار می‌گیرند و گوانین (G) با سیتوزین (C) جفت می‌شوند. به این جفت بازها **بازهای مکمل** می‌گویند. بین C و G نسبت به A و T پیوند هیدروژنی بیشتری تشکیل می‌شود.

قرارگیری جفت بازها به این شکل باعث می‌شود که قطر مولکول دنا در سراسر آن یکسان باشد؛ زیرا یک باز تک حلقه‌ای در مقابل یک باز دو حلقه‌ای قرار می‌گیرد و باعث پایداری مولکول دنا می‌شود. نتیجه دیگر جفت شدن بازهای مکمل این است که اگرچه دو رشته یک مولکول دنا یکسان نیستند، ولی شناسایی ترتیب نوکلئوتیدهای هر کدام می‌تواند ترتیب نوکلئوتیدهای رشته دیگر را هم مشخص کند؛ مثلاً اگر ترتیب نوکلئوتیدها در یک رشته ATGC باشد ترتیب نوکلئوتیدها در رشته مکمل آن باید TACG باشد.

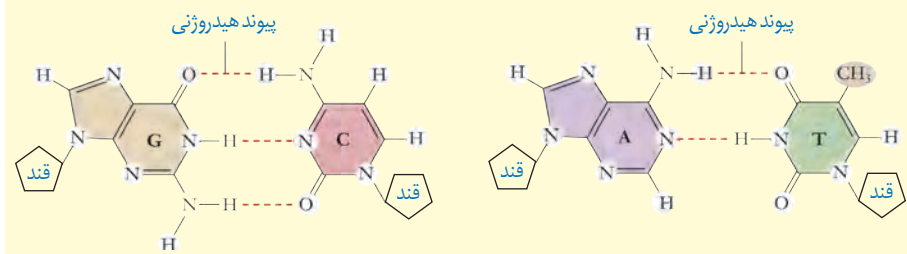
اگرچه هر پیوند هیدروژنی به تنهایی انرژی پیوند کمی دارد، ولی وجود هزاران یا میلیون‌ها نوکلئوتید و برقراری پیوند هیدروژنی بین آنها به مولکول دنا حالت پایداری می‌دهد. در عین حال، دو رشته دنا در موقع نیاز هم می‌توانند در بعضی نقاط از هم جدا شوند، بدون اینکه پایداری آنها به هم بخورد.



شکل ۸- مدل مارپیچ دورشته‌ای دنا

بیشتر بدانید

بازهای مکمل و پیوندهای هیدروژنی بین آنها



سال ۱۸۶۹م: میشر در عصارهٔ باخته‌ها به وجود اسیدهای هسته‌ای (نوکلئیک اسیدها) پی‌برد.

سال ۱۹۲۸م: گریفیت نشان داد که خصوصیات یک باکتری به باکتری دیگر قابل انتقال است.

سال ۱۹۴۴م: ایوری و همکارانش برای اولین بار نشان دادند که دنا، مادهٔ ژنتیک است.

سال ۱۹۵۰م: چارگاف نشان داد که در دنا جانداران گوناگون تعداد T مساوی تعداد A و تعداد C مساوی تعداد G است.

سال ۱۹۵۲م: فرانکلین و ویلیکینز نشان دادند که دنا ساختار مارپیچی و چندرشته‌ای دارد.

سال ۱۹۵۳م: واتسون و کریک مدل مارپیچ دورشته‌ای را برای دنا ارائه کردند.

رنا و انواع آن

گفتیم که نوع دیگری از نوکلئیک اسیدها، رنا است. مولکول رنا تک‌رشته‌ای است و از روی بخشی از یکی از رشته‌های دنا ساخته می‌شود. رناها نقش‌های متعددی دارند که به بعضی از آنها اشاره می‌کنیم:

رنا پی‌یک (mRNA^۱): اطلاعات را از دنا به رناتن‌ها می‌رساند. رناتن با استفاده از اطلاعات رنا پی‌یک، پروتئین‌سازی می‌کند که در فصل بعد با آن آشنا خواهید شد.

رنا ناقل (tRNA^۲): آمینواسیدها را برای استفاده در پروتئین‌سازی به سمت رناتن‌ها می‌برد.

رنا رناتنی (rRNA^۳): در ساختار رناتن‌ها علاوه بر پروتئین، رنا رناتنی نیز شرکت دارد.

علاوه بر این نقش‌ها، رناها نقش آنزیمی و دخالت در تنظیم بیان ژن نیز دارند.

ژن چیست؟

در طی این گفتار با ساختار دنا آشنا شدید. طبق آزمایش‌های ایوری و همکارانش، اطلاعات وراثتی در دنا قرار دارد و از نسلی به نسل دیگر منتقل می‌شوند. این اطلاعات در واحدهایی به نام ژن سازماندهی شده‌اند. ژن بخشی از مولکول دنا است که بیان آن می‌تواند به تولید رنا یا پلی‌پپتید بینجامد. اینکه رنا چگونه دستورالعمل‌های دنا را اجرا می‌کند، در فصل‌های آینده با آن آشنا خواهید شد.

دخالت نوکلئوتیدها در واکنش‌های سوخت‌وسازی^۴

نوکلئوتیدها علاوه بر شرکت در ساختار دنا و رنا نقش‌های اساسی دیگری نیز در یاخته برعهده دارند. برای مثال نوکلئوتید آدنین دار ATP (آدنوزین تری فسفات) به عنوان منبع رایج انرژی در یاخته است و یاخته در فعالیت‌های مختلف از آن استفاده می‌کند.

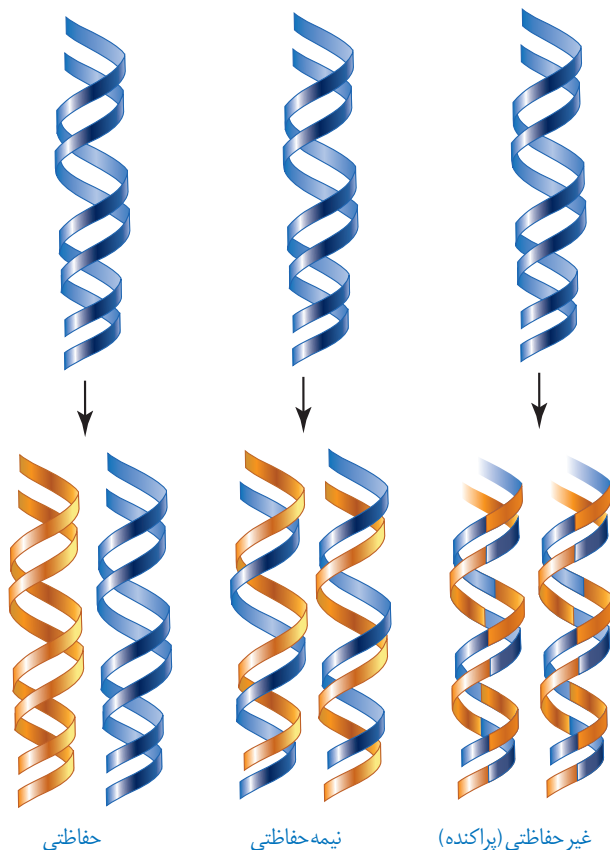
همچنین نوکلئوتیدها در ساختار مولکول‌هایی وارد می‌شوند که در فرایندهای فتوسنتز و تنفس یاخته‌ای نقش حامل الکترون را برعهده دارند. با این مولکول‌ها در فصل‌های آینده آشنا خواهید شد.

۱_messenger RNA

۲_transfer RNA

۳_ribosomal RNA

۴_Metabolism



شکل ۹- طرح‌های مختلف برای
هماندسازی

با توجه به اینکه دنا به عنوان ماده وراثتی، حاوی اطلاعات یاخته است، این پرسش مطرح می‌شود که هنگام تقسیم یاخته، این اطلاعات چگونه بدون کم و کاست به دو یاخته حاصل از تقسیم می‌رسند؟ این کار با هماندسازی دنا انجام می‌شود. به ساخته شدن مولکول دنا جدید از روی دنا قدیمی **هماندسازی^۱** می‌گویند.

با توجه به مدل واتسون و کریک و وجود رابطه مکملی بین بازها تا حد زیادی هماندسازی دنا قابل توضیح است؛ گرچه طرح‌های مختلفی برای هماندسازی دنا پیشنهاد شده بود (شکل ۹).

۱- هماندسازی حفاظتی:

در این طرح هر دو رشته دنا قبلی (اولیه) به صورت دست نخورده باقی مانده، وارد یکی از یاخته‌های حاصل از تقسیم می‌شوند، دو رشته دنا جدید هم وارد یاخته دیگر می‌شوند. چون دنا اولیه به صورت دست نخورده در یکی از یاخته‌ها حفظ شده است به آن هماندسازی حفاظتی می‌گویند.

۲- هماندسازی نیمه حفاظتی:

در این طرح در هر یاخته یکی از دو رشته دنا مربوط به دنا اولیه است و رشته دیگر با نوکلئوتیدهای جدید ساخته شده است. چون در هر یاخته حاصل، فقط یکی از دو رشته دنا قبلی وجود دارد، به آن نیمه حفاظتی می‌گویند.

۳- هماندسازی غیر حفاظتی (پراکنده):

در این طرح هر کدام از دناهای حاصل، قطعاتی از رشته‌های قبلی و رشته‌های جدید را به صورت پراکنده در خود دارند.

کدام طرح مورد تأیید قرار گرفته است؟

مزلسون^۲ و استال^۳ با به‌کارگیری روش علمی پاسخ این پرسش را به دست آوردند. آنها فرضیه‌های متعدد ارائه شده را در نظر گرفتند و با توجه به امکانات، آزمایشی را طراحی کردند تا بتوانند به پاسخ قانع‌کننده‌ای برسند. برای شروع کار، آنها باید بتوانند رشته‌های دنا نوساز را از رشته‌های قدیمی تشخیص دهند. آنها با این هدف دنا را با استفاده از نوکلئوتیدهایی که ایزوتوپ سنگین نیتروژن (^{۱۵}N) دارند، نشانه‌گذاری کردند.

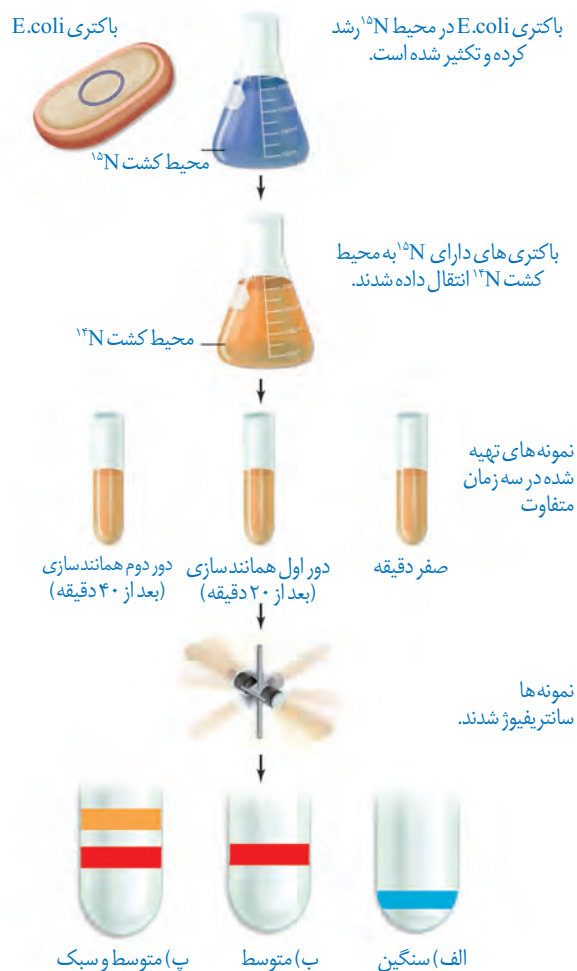
۱- Replication

۲- Meselson

۳- Stahl

دِناهایی که با ^{15}N ساخته می‌شوند نسبت به دِنای معمولی که در نوکلئوتیدهای خود ^{14}N دارد چگالی بیشتری دارند. بنابراین، به وسیلهٔ گریزانهُ با سرعت بسیار بالا^۱ می‌توان آنها را از هم جدا کرد. آنها ابتدا باکتری‌ها را در محیط دارای ^{15}N کشت دادند. در ساختار بازهای آلی نیتروژن دار که در ساخت دِنای باکتری شرکت می‌کنند، وارد شدند. پس از چندین مرحله رشد و تکثیر در این محیط، باکتری‌هایی تولید شدند که دِنای سنگین تری نسبت به باکتری‌های اولیه داشتند. سپس این باکتری‌ها را به محیط کشت دارای ^{14}N منتقل کردند. با توجه به اینکه تقسیم باکتری‌ها حدود ۲۰ دقیقه طول می‌کشد در فواصل ۲۰ دقیقه‌ای باکتری‌ها را از محیط کشت جدا و بررسی کردند. برای سنجش چگالی دِناها در هر فاصلهٔ زمانی، دِنای باکتری را استخراج و در شیبی از محلول سزیم کلرید با غلظت‌های متفاوت و در سرعتی بسیار بالا گریز دادند؛ در نتیجه مواد بر اساس چگالی در بخش‌های متفاوتی از محلول در لوله قرار گرفتند. مراحل آزمایش مزلسون و استال و نتایج آن را در شکل ۱۰ می‌بینید.

همان‌طور که مشاهده می‌کنید نتایج این آزمایش نشان داد که همانندسازی دِنا، نیمه حفاظتی است.



شکل ۱۰-۱ آزمایش‌های مزلسون و استال و نتایج به دست آمده:
 الف) دِنای باکتری‌های اولیه پس از گریز دادن، یک نوار در انتهای لوله تشکیل دادند چون هر دو رشته دِنای آنها ^{15}N و چگالی سنگینی داشت.
 ب) دِنای باکتری‌های حاصل از دور اول همانندسازی در محیط کشت حاوی ^{14}N (بعد از ۲۰ دقیقه) پس از گریز دادن، نوار در میانه لوله تشکیل دادند. پس دِنای آنها چگالی متوسط داشت.
 پ) دِنای باکتری‌های حاصل از دور دوم همانندسازی (بعد از ۴۰ دقیقه) پس از گریز دادن دو نوار، یکی در میانه و دیگری در بالای لوله تشکیل دادند. پس نیمی از آنها چگالی متوسط و نیمی چگالی سبک داشتند.
 چرا؟

^۱ Ultracentrifuge

بیشتر بدانید

گریزانۀ هم چگال

برای جدا کردن ذره هایی با چگالی متفاوت و تعیین چگالی آنها از روشی به نام گریزانۀ هم چگال استفاده می شود. در این روش محلولی از نمک یک فلز سنگین مثل سزیم کلرید را در لوله آزمایش قرار می دهند. غلظت این ماده و چگالی آن به طور یکنواخت از پایین به بالای لوله کم می شود و به اصطلاح شیب پیوسته ای از غلظت های مختلف نمک در آن وجود دارد. با ورود مولکول های مد نظر در این محلول و حرکت آنها حین سائتر فوژ، بر اساس چگالی خود در نقطه ای متوقف می شوند. چون ذره ها با چگالی یکسان در یک منطقه تجمع می یابند، نوارهایی را تشکیل می دهند که به آسانی قابل تشخیص اند. با مشخص شدن چگالی محلول در هر نقطه از لوله، می توان چگالی ذره های مورد آزمایش را معلوم کرد.

با مشخص شدن اینکه همانندسازی به صورت نیمه حفاظتی انجام می شود، سؤال دیگری مطرح شد: دو رشته دنا چگونه از یکدیگر باز می شوند؟ آیا هر دو رشته کاملاً از یکدیگر جدا می شوند و سپس همانندسازی انجام می شود یا جدا شدن دو رشته تدریجی و همراه با آن همانندسازی انجام می شود؟ تحقیقات نشان داده است در محلی که قرار است همانندسازی انجام شود دو رشته از هم باز می شوند. بقیه قسمت ها بسته هستند و به تدریج باز می شوند.

فقط X

عوامل و مراحل همانندسازی

در همانندسازی عوامل متعددی مؤثرند که مهم ترین آنها به شرح زیر است:

- 1 - مولکول دنا به عنوان الگو هر رشته
- 2 - واحدهای سازنده دنا که بتوانند در کنار هم نسخه مکمل الگو را بسازند. این واحدها نوکلئوتیدهای از راه داخل یاخته، سه فسفات هستند که در لحظه اتصال به رشته پلی نوکلئوتید در حال ساخت، دو فسفات خود را از دست می دهند.
- 3 - آنزیم های لازم برای همانندسازی که ضمن بازکردن دو رشته نوکلئوتیدها را به صورت مکمل روبه روی هم قرار می دهد و با پیوند فسفودی استر به هم وصل می کند.

مراحل همانندسازی: قبل از همانندسازی دنا باید پیچ و تاب فامنه، باز و پروتئین های همراه آن یعنی هیستون را از آن جدا شوند تا همانندسازی بتواند انجام شود. این کارها با کمک آنزیم هایی انجام می شود.

سپس آنزیم هلیکاز^۱ مارپیچ دنا و دو رشته آن را از هم باز می کند (شکل ۱۱)



حباب آنزیم ها به تباراز نوع و تباراز ۱۶

به نظر شما برای باز شدن دو رشته دنا آنزیم هلیکاز چه پیوندهایی را از هم باز می کند؟

انواع یگری از آنزیم ها با همدیگر فعالیت می کنند تا یک رشته دنا در مقابل رشته الگو ساخته شده.

یکی از مهم ترین آنها که نوکلئوتیدهای مکمل را با نوکلئوتیدهای رشته الگو جفت می کند **دنا بپاراز**^۲

(DNA پلی میراز) است. با توجه به اینکه در محل همانندسازی، همانندسازی در دو جهت انجام می شود؛

به آن همانندسازی دو جهتی نیز می گویند.

DNA پلی میراز

۱- Helicase
۲- DNA Polymerase

پیوند های دوری در DNA + رشته مبدی

دوراهی همانندسازی: در شکل ۱۱ می بینید در محلی که دو رشته دنا از هم جدا می شوند، دو

ساختار Y مانند به وجود می آید که به هریک از آنها دوراهی همانندسازی می گویند. در فاصله بین این

دو ساختار، پیوندهای هیدروژنی بین دو رشته از هم گسیخته و دو رشته از یکدیگر باز شده اند. همچنین

بسیارها، فسفودی استر جدیدی در حال تشکیل هستند. بنابراین از نوکلئوتیدها را به انتهای رشته در

حال تشکیل اضافه می کند. اضافه شدن یک نوکلئوتید به نوع بازی بستگی دارد که در نوکلئوتید رشته

الگو قرار دارد. هر نوکلئوتید باید از نوکلئوتید روی رشته الگو مکمل باشد. هنگام اضافه شدن هر نوکلئوتید

سه فسفات به انتهای رشته پلی نوکلئوتید دو تا از فسفات های آن از مولکول جدا می شوند و نوکلئوتید

به صورت تک فسفات به رشته متصل می شود (شکل ۱۲).



شکل ۱۲ - همانندسازی دنا

از این جهت...
 $(3, 2) \rightarrow 3$
 $(1) \rightarrow 1$

از این جهت... فعالیت های آنزیم دنباسپاراز

همانندسازی دنا با دقت زیادی انجام می شود؛ این دقت تا حدود زیادی مربوط به رابطه مکملی بین

نوکلئوتیدها است. اگرچه آنزیم دنباسپاراز، نوکلئوتیدها را بر اساس رابطه مکملی مقابله هم قرار می دهد

ولی گاهی در این مورد اشتباهی هم صورت می گیرد؛ بنابراین آنزیم دنباسپاراز پس از برقراری هر پیوند

فسفودی استر، برمی گردد و رابطه مکملی نوکلئوتید را بررسی می کند که رابطه آن درست است یا اشتباه؟

اگر اشتباه باشد آن را برداشته و نوکلئوتید درست را به جای آن قرار می دهد. برای حذف نوکلئوتید نادرست

باید بتواند پیوند فسفودی استر را بشکند و نوکلئوتید نادرست را از دنا جدا کند. توانایی بریدن دنا را فعالیت

نوکلئازی گویند که در آن پیوند فسفودی استر می شکند. بنابراین آنزیم دنباسپاراز، هم فعالیت بسپارازی

(پلیمرازی) دارد که در آن پیوند فسفودی استر را تشکیل می دهد و هم فعالیت نوکلئازی که در آن پیوند

فسفودی استر را برای رفع اشتباه می شکند. فعالیت نوکلئازی دنباسپاراز را که باعث رفع اشتباه ها در

همانندسازی می شود، ویرایش می گویند.

همانند سازی در پروکاریوت ها و یوکاریوت ها

در پروکاریوت ها که شاد، همه باکتری ها می شوند، مولکول های وراثتی در غشا محصور نشده

AC
 ||||
 TG

حلقه
 جاندار
 باکتری است

آبایی
 تا جایی
 گیان
 حیوان

هفته دنا

$n=f$ **نفتی** $Pr + DNA$

و فام تن اصلی دارای یک مولکول دنا حلقوی است که در سیتوپلاسم قرار دارد و به غشای یاخته متصل است. پروکاریوت ها علاوه بر دنا اصلی ممکن است مولکول هایی از دنا بی دیگر به نام **دیسک (پلازمید)** داشته باشند. اطلاعات این مولکول ها می تواند ویژگی های دیگری را به باکتری بدهد مانند

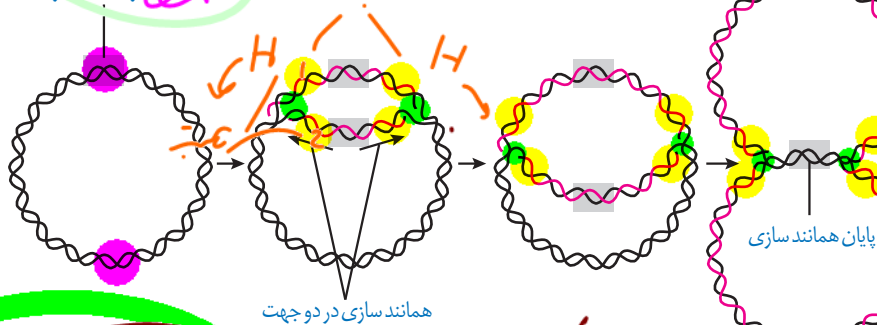
افزایش مقاومت باکتری در برابر **پادزیست (آنتی بیوتیک) ها**. **دنا**

اغلب پروکاریوت ها فقط یک جایگاه آغاز همانندسازی در دنا خود دارند. در این جایگاه دو رشته دنا از هم باز می شوند. همانند یوکاریوت ها، همانندسازی دو جهتی در باکتری ها نیز وجود دارد؛ یعنی از یک نقطه همانندسازی شروع و در دو جهت ادامه می یابد تا به همدیگر رسیده و همانندسازی پایان یابد

(شکل ۱۳).



جایگاه آغاز همانندسازی



همانندسازی در دو جهت

شکل ۱۳- همانندسازی دو جهتی دنا در پروکاریوت ها با یک نقطه آغاز

حکایاها ابتدا در بعد زدن زنده **نفتی** **اعزاز در بیرونی**

در یوکاریوت ها که بقیه موجودات زنده یعنی آغازیان، قارچ ها، گیاهان و جانوران را شامل می شوند دنا، هر فام تن به صورت خطی است و مجموعه ای از پروتئین ها که به نام **کروماتین** هستند همراه آن قرار دارند. بیشتر دنا درون هسته قرار دارد که آن **دنا هسته ای** می گویند. در یوکاریوت ها علاوه بر هسته در سیتوپلاسم نیز مقداری دنا وجود دارد که به آن **دنا سیتوپلاسمی** می گویند. این نوع از دنا در حالت حلقوی دارد در راکیزه (متوکندری) و دیسه (پلاست) دیده می شود.

یوکاریوت ها

عدد کروموزومی

بیشتر از؟

تعداد منفی

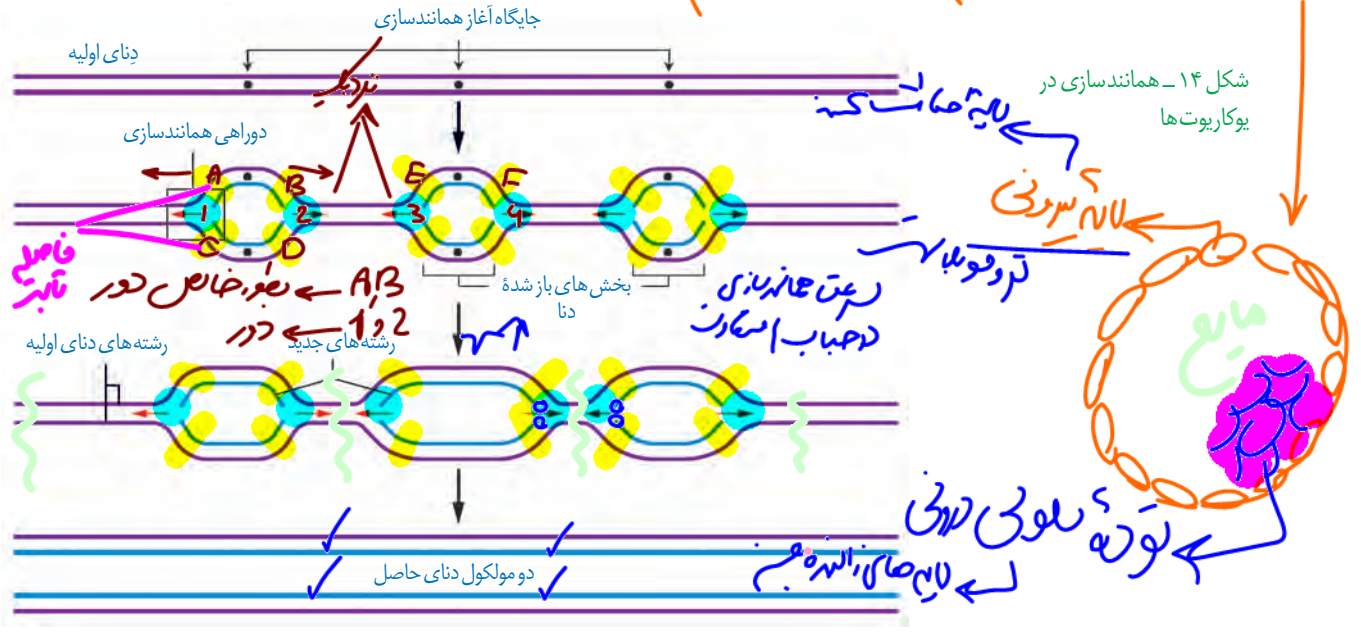
همانندسازی در یوکاریوت ها بسیار پیچیده تر از پروکاریوت ها است. علت این مسئله وجود مقدار زیاد دنا و قرار داشتن در چندین فام تن است که هر کدام از آنها چندین برابر دنا باکتری هستند. بنابراین اگر فقط یک جایگاه آغاز همانندسازی در هر فام تن داشته باشند مدت زمان زیادی برای همانندسازی لازم است. به همین علت در یوکاریوت ها، آغاز همانندسازی در چندین نقطه در هر فام تن انجام می شود (شکل ۱۴).

تعداد جایگاه های آغاز همانندسازی در یوکاریوت ها حتی می تواند بسته به مراحل رشد و نمو تنظیم شود؛ مثلاً در دوران جنینی در مراحل مورولا و بلاستولا مرحله تشکیل بلاستوسیت (ساعت تقسیم زیاد) تعداد جایگاه های آغاز همانندسازی هم زیاد است ولی پس از تشکیل اندام ها سرعت تقسیم تعداد جایگاه های آغاز کم می شوند.

تعداد زیاد در DNA

میزان DNA در هر کروموزوم **میزان DNA**

بالاترین سطح در درون افعان جابیزین



حلقه	حلقه	همانندسازى
بستر از 1	انطباقى (مهم)	تعداد جابزاه آغاز
افغان بستر	X	تقسيم
دو حلقه	تدو حلقه	جهت

بازای هر جابزاه آغاز 2 در افعان + 4 در افعان



علاوه بر دنا و رنا که در باخته ذخیره انتقال اطلاعات را بر عهده دارند مولکول‌های دیگری نیز هستند که به انجام فرایندهای مختلف یاخته‌ای کمک می‌کنند. از جمله این مولکول‌ها پروتئین‌ها هستند که نقش بسیار مهمی در فرایندهای یاخته‌ای دارند.

ساختار آمینواسیدها

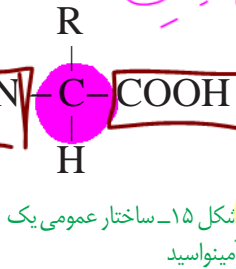
پروتئین‌ها بسپارهایی از آمینواسیدها هستند. نوع، ترتیب و تعداد آمینواسیدها در پروتئین، ساختار و عمل آنها را مشخص می‌کند. آمینواسیدها همان‌طور که از نامشان برمی‌آید یک گروه آمین ($-NH_2$) و یک گروه اسیدی کربوکسیل ($-COOH$) دارند. همان‌طور که در شکل ۱۵ می‌بینید گروه آمین و کربوکسیل به همراه یک هیدروژن و گروه R همگی به یک کربن مرکزی متصل‌اند و چهار ظرفیت آن را پر می‌کنند. گروه R در آمینو اسیدهای مختلف متفاوت است و ویژگی‌های منحصر به فرد هر آمینواسید به آن بستگی دارد.

هر آمینواسید می‌تواند در شکل دهی پروتئین مؤثر باشد و تأثیر آن به ماهیت شیمیایی گروه R بستگی دارد.

گسبون DNA
الونیزاسیون DNA
رونویسی RNA
رونویسی پرو

داخل سلول
Live

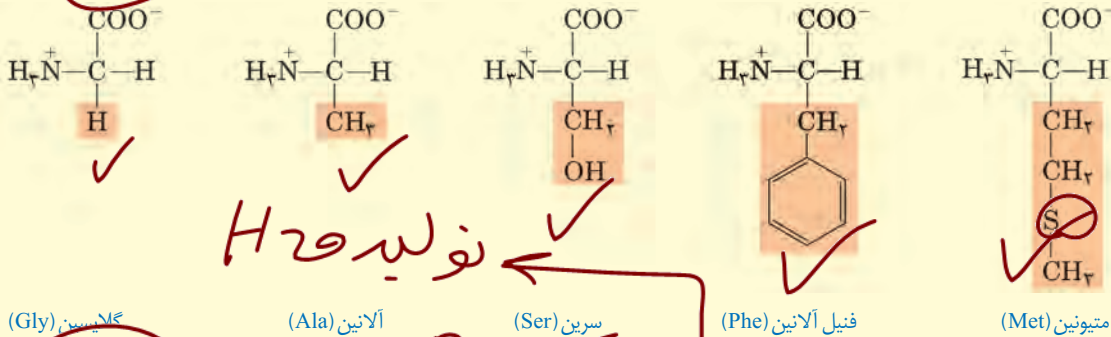
زیبی



ساختار کلی پرو
نوع
تفاوت

بیشتر بدانید

نمونه‌هایی از آمینواسیدها را در زیر می‌بینید که به دلیل تفاوت در R ویژگی‌های متفاوت دارند.



پیوند پپتیدی آمینواسیدها را به یکدیگر متصل می‌کند

آمینواسیدهای مختلف با حضور آنزیم، واکنش سنتز آبدهی را انجام می‌دهند. در این نوع واکنش با خروج یک مولکور آب، یک آمینواسید با آمینواسید دیگر پیوند اشتراکی ایجاد می‌کند. این پیوند اشتراکی بین آمینواسیدها را پیوند پپتیدی می‌گویند. شکل ۱۶ الگوی ساده‌ای از چگونگی تشکیل این پیوند را نشان می‌دهد.

✓ همه آنزیم‌ها پرو حاصل از RNA
آنزیم نوکلئاز
RNA
تولید آنزیم پرو
www.mrzist.org

المنی نیه
 وقتی تعدادی آمینواسید با پیوند پپتیدی به هم وصل شوند
 N-C

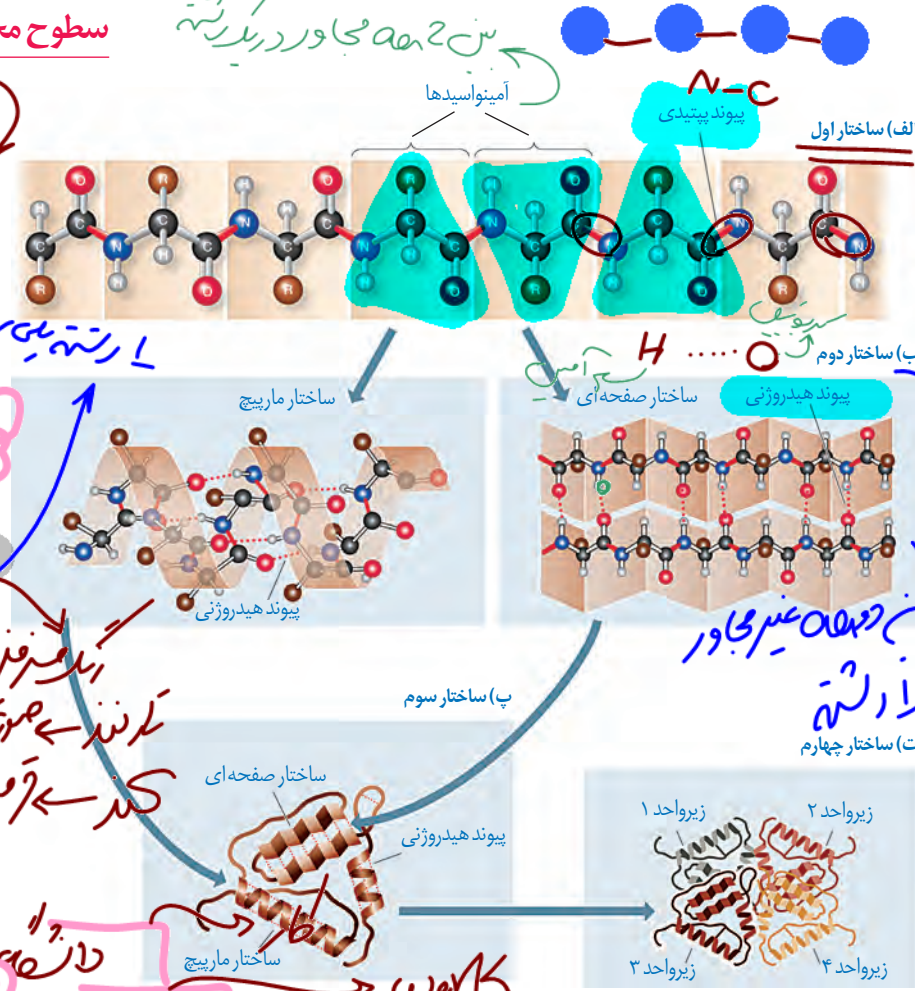


زنجیره ای از آمینواسیدها به نام پلی پپتید تشکیل می شود. پروتئین ها از یک یا چند زنجیره بلند بدون شاخه از پلی پپتیدها ساخته شده اند.
 هر نوع پروتئین، ترتیب خاصی از آمینواسیدها را دارد که با استفاده از روش های شیمیایی، آمینواسیدها را جدا از آنها شناسایی می کنند.
 اگر چه آمینواسیدها در طبیعت انواع گوناگونی دارند اما فقط ۲۰ نوع از آنها در ساختار پروتئین ها به کار می روند.
 هر نوع پلی پپتید
 هر نوع پلی پپتید
 این در ماده ایست
 دانه
 H₂O
 H آمین



سطوح مختلف ساختاری در پروتئین ها

شکل فضایی پروتئین، نوع عمل آن را مشخص می کند.
 یکی از راه های پی بردن به شکل پروتئین استفاده از پرتوهای ایکس است. با استفاده از تصاویر حاصل از آن و روش های دیگر، محققین به ساختار سه بعدی پروتئین ها پی می برند که در آن حتی جایگاه هر اتم را می توانند مشخص کنند.
 اولین پروتئینی که ساختار آن شناسایی شد میوگلوبین بود. آیا به یاد می آورید میوگلوبین در بدن چه نقشی دارد؟ این پروتئین از یک رشته پلی پپتید تشکیل شده است.
 ساختار پروتئین ها در چهار سطح بررسی می شود که هر ساختار مبنای تشکیل ساختار بالاتر است.
 (شکل ۱۷)



شکل ۱۷ - ساختار پروتئین ها در چهار ساختار بررسی می شود.

از آن و روش های دیگر، محققین به ساختار سه بعدی پروتئین ها پی می برند که در آن حتی جایگاه هر اتم را می توانند مشخص کنند.
 اولین پروتئینی که ساختار آن شناسایی شد میوگلوبین بود. آیا به یاد می آورید میوگلوبین در بدن چه نقشی دارد؟ این پروتئین از یک رشته پلی پپتید تشکیل شده است.
 ساختار پروتئین ها در چهار سطح بررسی می شود که هر ساختار مبنای تشکیل ساختار بالاتر است.
 (شکل ۱۷)

دانه
 در برشته
 اصمیان
 دلبان
 طولین

ساختار اول پروتئین - توالی آمینواسیدها: نوع، تعداد، ترتیب و تکرار آمینواسیدها، ساختار اول

پروتئین‌ها را تعیین می‌کنند. ساختار اول با ایجاد پیوندهای پپتیدی بین آمینواسیدها شکل می‌گیرد و خطی است. این پیوند در واقع نوعی پیوند اشتراکی است. تغییر آمینواسید در هر جایگاه موجب تغییر در ساختار اول پروتئین می‌شود. ممکن است فعالیت آن را تغییر دهد. با در نظر گرفتن ۲۰ نوع آمینواسید و اینکه محدودیتی در توالی آمینواسیدها در ساختار اول پروتئین‌ها وجود ندارد پروتئین‌های حاصل می‌توانند بسیار متنوع باشند. با توجه به اهمیت توالی آمینواسیدها در ساختار اول، همه سطوح دیگر ساختاری در پروتئین‌ها به این ساختار بستگی دارند (شکل ۱۷-الف).

ساختار دوم - الگوهایی از پیوندهای هیدروژنی: بین بخش‌هایی از زنجیره پلی پپتیدی

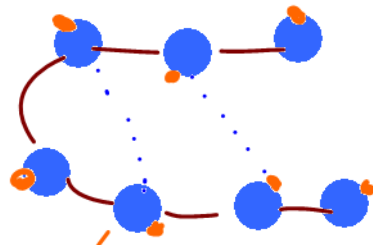
می‌تواند پیوندهای هیدروژنی برقرار شود. این پیوندها منشأ تشکیل ساختار دوم در پروتئین‌ها هستند که به چند صورت دیده می‌شوند. دو نمونه معروف آنها ساختار مارپیچ و ساختار صفحه‌ای است (شکل ۱۷-ب).

ساختار سوم - تاخورده و مختل به هم: در ساختار سوم، تاخوردگی بیشتر صفحات و مارپیچ‌ها

رخ می‌دهد و پروتئین‌ها به شکل‌های متفاوتی در می‌آیند. تشکیل این ساختار در اثر برهم کنش‌های آب‌گریز است؛ به این صورت که گروه‌های R آمینواسیدهایی که آب‌گریزند، به یکدیگر نزدیک می‌شوند تا در معرض آب نباشند. سپس با تشکیل پیوندهای دیگری مانند هیدروژنی، اشتراکی و یونی ساختار سوم پروتئین تثبیت می‌شود. مجموعه این نیروها قسمت‌های مختلف پروتئین را به صورت به هم پیچیده در کنار هم نگه می‌دارند (شکل ۱۷-پ). بنابراین با وجود این نیروها پروتئین‌های دارای ساختار سوم ثابت نسبی دارند. ایجاد تغییر در پروتئین، حتی تغییر یک آمینواسید هم می‌تواند ساختار و عملکرد آن را به شدت تغییر دهد. میوگلوبین نمونه‌ای از پروتئین‌ها با ساختار سوم است (شکل ۱۸-الف).

ساختار چهارم - آرایش زیر واحدها: بعضی پروتئین‌ها ساختار چهارم

دارند، این ساختار هنگامی شکل می‌گیرد که دو یا چند زنجیره پلی پپتید در کنار یکدیگر پروتئین را تشکیل دهند. در این ساختار هریک از زنجیره‌ها نقشی کلیدی در شکل‌گیری پروتئین دارند. نحوه آرایش این زیر واحدها در کنار هم ساختار چهارم پروتئین‌ها نامیده می‌شود (شکل ۱۷-ت). هم‌گلوبین از چهار زنجیره پلی پپتیدی تشکیل شده است. دو زنجیره از نوع آلفا و دو زنجیره از نوع بتا است. هر نوع زنجیره، ترتیب خاصی از آمینواسیدها (در ساختار اول) دارند. در ساختار دوم به شکل مارپیچ در می‌آیند. در ساختار سوم هریک از زنجیره‌ها به صورت یک زیر واحد، تاخورده و شکل خاصی پیدا می‌کند. در نهایت در ساختار چهارم، این چهار زیر واحد در کنار هم قرار گرفته و هم‌گلوبین را شکل می‌دهند (شکل ۱۸-ب).



ساختار اول

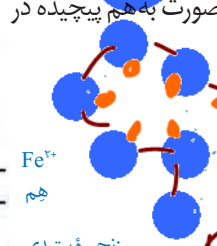


ساختار دوم



ساختار سوم

ساختار چهارم



شکل ۱۸-الف) میوگلوبین با ساختار سوم
ب) هم‌گلوبین با ساختار چهارم

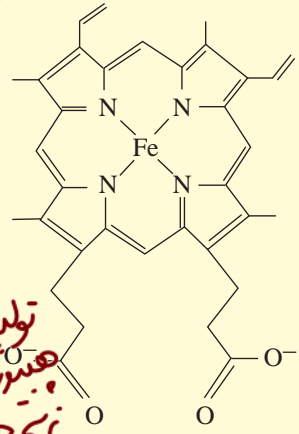
نقش پروتئین‌ها

فعالیت ۱

با استفاده از دو یا چند مفتول فلزی ساختار دوم، سوم و چهارم پروتئین‌ها را مدل سازی کنید.

بیشتر بدانید

هم (Heme) ترکیبی آهن دار و غیر پروتئینی است و در ساختار پروتئین‌هایی مانند هموگلوبین و میوگلوبین وجود دارد. هم انواع متفاوتی دارد، فرمول شیمیایی رایج‌ترین آن $C_{33}H_{34}N_4O_6Fe$ است. هر زنجیره هموگلوبین، یک گروه هم دارد که با داشتن اتم آهن می‌تواند به یک مولکول اکسیژن متصل شود؛ بنابراین مولکول هموگلوبین ظرفیت حمل چهار اکسیژن را دارد.



نقش پروتئین‌ها

پروتئین‌ها متنوع‌ترین گروه مولکول‌های زیستی از نظر ساختار شیمیایی و عملکردی هستند. پروتئین‌ها در فرایندها و فعالیت‌های متفاوتی شرکت دارند از جمله **فعالیت آنزیمی** که در آن به صورت کاتالیزورهای زیستی عمل می‌کنند و سرعت واکنش شیمیایی خاصی را زیاد می‌کنند.

↑ تولید فرآورده دروازه‌ها

بعضی دیگر از پروتئین‌ها به صورت گیرنده‌هایی در سطح یاخته‌ها قرار دارند؛ مثلاً گیرنده‌های آنتی‌ژنی در سطح لنفوسیت‌ها نمونه‌ای از این پروتئین‌ها هستند.

برخی پروتئین‌ها مثل هموگلوبین گازهای تنفسی را در خون منتقل می‌کنند. پمپ سدیم - پتاسیم نیز که با آن آشنا هستید، پروتئینی است که در غشا وجود دارد. این پمپ یون‌های سدیم و پتاسیم را در عرض غشا جابه‌جا می‌کند و فعالیت آنزیمی هم دارد آیا محل‌های فعالیت و نقش آنزیمی این پمپ را به یاد دارید؟ کلاژن پروتئینی است که باعث استحکام بافت پیوندی می‌شود. زردپی و رباط مقدار فراوانی از پروتئین کلاژن دارند.

انقباض ماهیچه‌ها نیز ناشی از حرکت لغزشی دو نوع پروتئین روی یکدیگر یعنی **اکتین** و **میوزین** است. از دیگر پروتئین‌ها می‌توان به هورمون‌ها اشاره کرد. بیشتر هورمون‌ها از جمله اکسی‌توسین و انسولین که پیام‌های بین یاخته‌ای را در بدن جانوران رد و بدل می‌کنند تا تنظیم‌های مختلف در بدن انجام شود، پروتئینی هستند. همچنین پروتئین‌هایی مثل **مهارکننده‌ها** که بعداً با آنها آشنا خواهید شد، نقش‌های تنظیمی متعددی را در فعال و غیرفعال کردن ژن‌ها بر عهده دارند.

آنزیم‌ها

واکنش‌های شیمیایی در صورتی سرعت مناسب می‌گیرند که انرژی اولیه کافی برای انجام آن وجود داشته باشد. این انرژی را انرژی فعال سازی گویند. انجام واکنش‌ها در بدن موجود زنده نیز که با عنوان کلی سوخت‌وساز مطرح می‌شوند همین‌طور هستند. این واکنش‌ها با حضور آنزیم انجام می‌شوند. آنزیم امکان برخورد مناسب مولکول‌ها را افزایش و انرژی فعال سازی واکنش را کاهش می‌دهد. همچنین با این کار سرعت واکنش‌هایی را که در بدن موجود زنده انجام شدنی هستند زیاد می‌کند. بدون آنزیم ممکن است در دمای بدن سوخت‌وساز یاخته‌ها بسیار کند انجام شود و انرژی لازم برای حیات تأمین نشود. آنزیم‌های ترشحی دستگاه گوارش مثل امیلاز بزاق و لیپاز در خارج یاخته عمل می‌کنند ولی آنزیم‌های

کلسیم از ریز...
ماده‌ها...
رشته پلی‌ساکارید...

مؤثر در تنفس یاخته ای، فتوسنتز و همانندسازی درون یاخته فعالیت می کنند. البته گروهی از آنزیم ها مثل پمپ سدیم - پتاسیم فعالیت خود را در غشا انجام می دهند.

ساختار آنزیم ها

بیشتر آنزیم ها پروتئینی هستند آنزیم ها در ساختار خود بخشی به نام جایگاه فعال^۱ دارند. جایگاه فعال بخشی اختصاصی در آنزیم است که پیش ماده^۲ در آن قرار می گیرد. ترکیباتی که آنزیم روی آنها عمل می کند، پیش ماده و ترکیباتی که حاصل فعالیت آنزیم هستند، فراورده^۳ یا محصول^۴ خوانده می شوند (شکل ۱۹).

بعضی آنزیم ها برای فعالیت به یون های فلزی مانند آهن، مس و یا مواد آلی مثل ویتامین ها نیاز دارند. به مواد آلی که به آنزیم کمک می کنند کوآنزیم^۴ می گویند. وجود بعضی از مواد سمی در محیط مثل سیانید و آرسنیک می تواند با قرار گرفتن در جایگاه فعال آنزیم، مانع فعالیت آن شود. بعضی از این مواد به همین طریق باعث مرگ می شوند.



شکل ۱۹- طرز عمل آنزیم در واکنش های سوخت و سازی (الف) تجزیه، (ب) ترکیب

- ۱- Active site
- ۲- Substrate
- ۳- Product
- ۴- Coenzyme

عملکرد اختصاصی آنزیم‌ها

هر آنزیم روی یک چند ایش ماده خاص مؤثر است. بنابراین گفته می‌شود که آنزیم‌ها عمل اختصاصی دارند. شکل آنزیم در جایگاه فعال با شکل پیش ماده یا بخشی از آن مطابقت دارد و به اصطلاح مکمل یکدیگرند.



اگرچه آنزیم‌ها عملی اختصاصی دارند ولی برخی از آنها بیش از یک نوع واکنش را سرعت می‌بخشند. آیا می‌توانید مثالی از این نوع آنزیم‌ها بساوید؟
آنزیم‌ها در همه واکنش‌های شیمیایی بدن جانداران که شرکت می‌کنند؛ سرعت واکنش را زیاد می‌کنند اما در پایان واکنش‌ها دست نخورده باقی می‌مانند تا بدن بتواند بارها از آنها استفاده کند. به همین دلیل یاخته‌ها به مقدار کم به آنزیم‌ها نیاز دارند. البته به مرور مقداری از آنها از بین می‌روند و یاخته مجبور به تولید آنزیم‌های جدید می‌شود.

عوامل مؤثر بر فعالیت آنزیم‌ها

عوامل متعددی از جمله pH، دما، غلظت آنزیم و پیش ماده بر سرعت فعالیت آنزیم‌ها تأثیر می‌گذارند.
pH محیط: pH بیشتر مایعات بدن بین ۶ و ۸ است؛ مثلاً pH خون حدود ۷/۴ است. البته pH بعضی بخش‌ها خارج از این محدوده هستند. یکی از این موارد، pH ترشحات معده است که حدود ۲ می‌باشد.

هر آنزیم در یک pH ویژه بهترین فعالیت را دارد که به آن pH بهینه می‌گویند؛ مثلاً pH بهینه پپسین حدود ۲ است در حالی که آنزیم‌هایی که از لوزالمعده به روده کوچک وارد می‌شوند pH بهینه حدود ۸ دارند. تغییر pH محیط با تأثیر بر پیوندهای شیمیایی مولکول پروتئین می‌تواند باعث تغییر شکل آنزیم شود و در نتیجه امکان اتصال آن به پیش ماده از بین برود، در نتیجه میزان فعالیت آن تغییر می‌کند.

دما: آنزیم‌های بدن انسان در دمای ۳۷ درجه سانتی گراد بهترین فعالیت را دارند. این آنزیم‌ها در دمای بالاتر ممکن است شکل غیر طبیعی یا برگشت ناپذیر پیدا کنند و غیر فعال شوند. آنزیم‌هایی که در دمای پایین غیر فعال می‌شوند با برگشت دما به حالت طبیعی، می‌توانند به حالت فعال برگردند.

غلظت آنزیم و پیش ماده: مقدار بسیار کمی از آنزیم کافی است تا مقدار زیادی از پیش ماده را در واحد زمان به فرآورده تبدیل کند. اگر مقدار آنزیم زیادتر شود تولید فرآورده در واحد زمان افزایش می‌یابد. افزایش غلظت پیش ماده در محیطی که آنزیم وجود دارد نیز می‌تواند تا حدی باعث افزایش سرعت شود ولی این افزایش تا زمانی ادامه می‌یابد که تمامی جایگاه‌های فعال آنزیم‌ها با پیش ماده اشغال شوند. در این حالت سرعت انجام واکنش ثابت می‌شود.

بیشتر بدانید

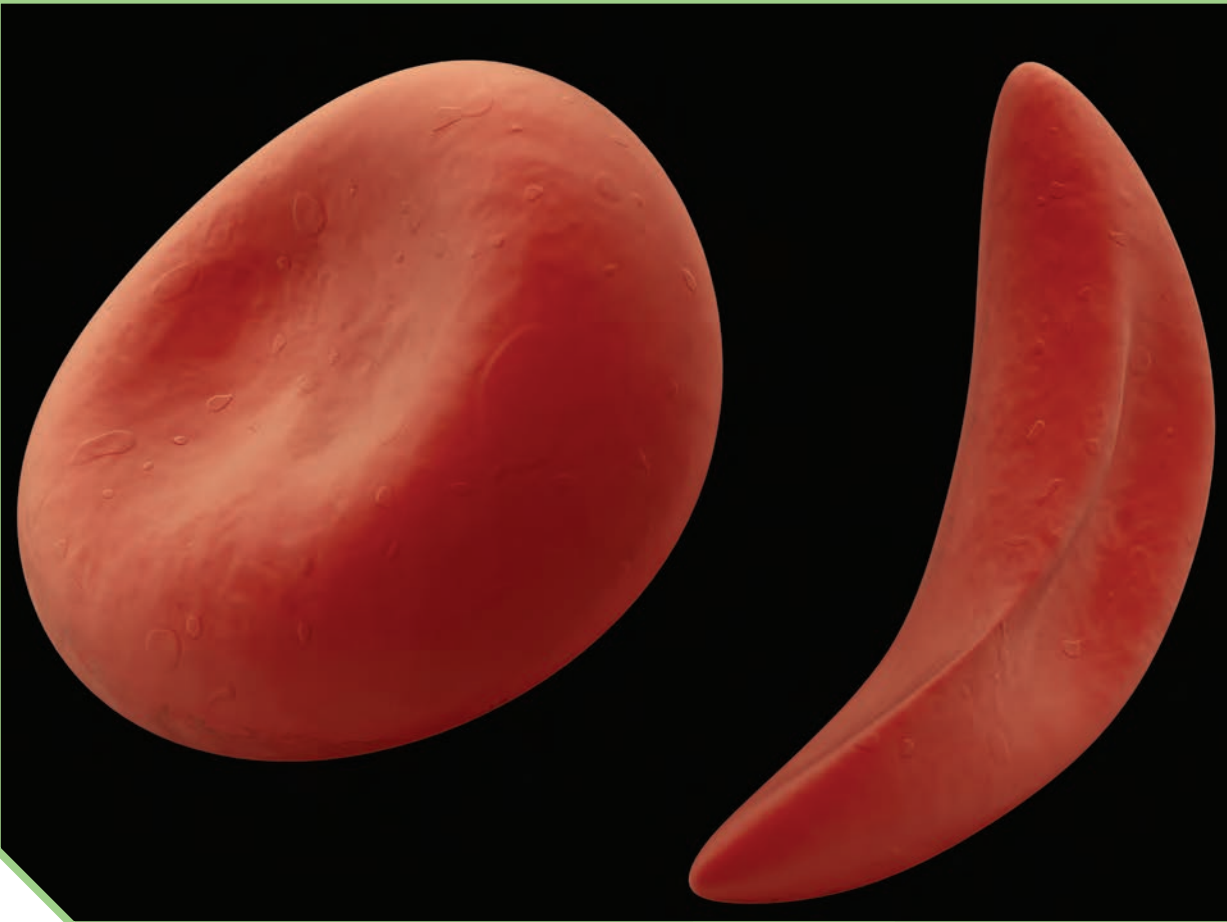
باکتری‌های مقاوم به گرما

بعضی باکتری‌ها در چشمه‌های آب گرم زندگی می‌کنند. آنزیم‌های این باکتری‌ها در دمای حدود ۸۰ درجه سانتی گراد بیشترین فعالیت را دارند. دمای آنها هم درصد زیادی باز C و G دارد تا با سه پیوند هیدروژنی استحکام و ثبات بیشتری داشته باشد.

فعالیت ۲

الف) گفته می‌شود تب بالا خطرناک است، بین این مسئله و فعالیت آنزیم‌ها چه ارتباطی می‌بینید؟
ب) با توجه به تأثیر متفاوت دمای کم و زیاد روی آنزیم‌ها، از این ویژگی آنزیم‌ها در آزمایشگاه‌ها چگونه می‌توان استفاده کرد؟

کاتالیزور پروتئین



فصل ۲

جریان اطلاعات در یاخته

تصویر بالا دو گویچه قرمز را نشان می‌دهد. گویچه سمت راست مربوط به شخصی است که دچار نوعی بیماری ارثی به نام **کم‌خونی داسی شکل** است. علت این بیماری نوعی تغییر ژنی است که باعث می‌شود پروتئین هموگلوبین حاصل از آن دچار تغییر شود که نتیجه آن تغییر شکل گویچه قرمز از حالت گرد به داسی شکل است. این تغییر ژنی، بسیار جزئی است و در آن تنها یک جفت از صدها جفت نوکلئوتید دنا در افراد بیمار تغییر یافته است. همچنین این بیماری به نوعی، رابطه بین ژن و پروتئین را نشان می‌دهد. به نظر شما اطلاعات ژن‌ها چگونه در این یاخته‌ها مورد استفاده قرار می‌گیرد؟ آیا این اطلاعات در سایر یاخته‌ها نیز وجود دارد؟ چرا بعضی ژن‌ها مانند ژن سازنده هموگلوبین فقط در گویچه‌های قرمز بروز می‌کنند و مثلاً در یاخته‌های بافت پوششی پوست بروز نمی‌کنند؟ این موارد نمونه پرسش‌هایی هستند که در این فصل به آنها پاسخ داده می‌شود.



طرح سؤالات عددی و محاسباتی از مباحث این فصل در همه آزمون‌ها از جمله کنکور سراسری ممنوع است.



گفتار ۱ رونویسی

در فصل گذشته دیدید که واحد سازنده مولکول دنا، نوکلئوتید است ولی پلی پپتیدها از آمینواسید تشکیل شده اند. چون دستورالعمل ساخت پلی پپتیدها در مولکول دنا قرار دارد، پس باید بین نوکلئوتیدهای ژن و آمینواسیدهای پلی پپتید، ارتباطی وجود داشته باشد.

دنا چگونه نوع آمینواسیدهای پلی پپتید را تعیین می کند؟

آموختید که در مولکول دنا، ۴ نوع نوکلئوتید وجود دارد که فقط در نوع بازهای آلی تفاوت دارند. در حالی که پلی پپتیدها از ۲۰ نوع آمینواسید تشکیل شده اند. پس از پژوهش هایی مشخص شد که هر توالی ۳ تایی از نوکلئوتیدهای دنا، بیانگر نوعی آمینواسید است. با ۴ نوع نوکلئوتید به کار رفته در دنا، ۶۴ توالی ۳ نوکلئوتیدی مختلف ایجاد می شود که می توانند رمز ساخت پلی پپتیدهایی با ۲۰ نوع آمینواسید را داشته باشند؛ به هر یک از این توالی های سه نوکلئوتیدی در دنا رمز می گویند.

رمز
 $4 \times 4 \times 4 = 64$
 A A A
 T T T
 C C C
 G G G

رمز
 $4 \times 4 \times 4 = 64$
 A A A
 U U U
 C C C
 G G G

رمز بیان
 UGA
 UAG
 UAA

نقش مولکول رنا به عنوان میانجی رمز
 AAA → UUU → AUG

می دانید که پلی پپتیدها بر اساس اطلاعات دنا و توسط رناتن ها در سیتوپلاسم ساخته می شوند. در یاخته های دارای هسته، چون رناتن ها درون هسته حضور ندارند، فرایند ساخت پلی پپتید در آن انجام نمی شود. با توجه به اینکه اطلاعات دنا برای ساخت پلی پپتید ضروری است و دنا هم از هسته خارج نمی شود، این سؤال پیش می آید که دستورات ساخت پلی پپتید چگونه به بیرون هسته منتقل می شود؟ پاسخ در مولکول رنا است. همان طور که دیدید انواعی از رنا در یاخته وجود دارند که در پروتئین سازی نقش دارند. این رناها از روی مولکول دنا ساخته می شوند. به ساخته شدن مولکول رنا از روی بخشی از

انواع کردن قابل ترجمه

یک رشته دنا، رونویسی گفته می شود (شکل ۱).



شکل ۱- طرح ساده ای از فرایند رونویسی

۱- Transcription

قوانین مکمل بازها

اساس رونویسی شبیه همانندسازی است. در این فرایند نیز با توجه به نوکلئوتیدهای رشته دنا، نوکلئوتیدهای مکمل در زنجیره رنا قرار می گیرند و به هم متصل می شوند. برخلاف همانندسازی که در هر چرخه یاخته ای یک بار انجام می شود، رونویسی یک ژن می تواند در هر چرخه بارها انجام شود و چندین رشته رنا ساخته شود. آیا می توانید تفاوت های دیگری برای این دو فرایند بیان کنید؟

عمل رونویسی از رنا ساخته می شود. در یاخته، انواعی از رنا ساخته می شود. عمل رونویسی از دنا به کمک آنزیم ها انجام می شود. آنزیم ها را، تحت عنوان کلی رنابسپاراز نام گذاری می کنند. در پروکاریوت ها یک نوع رنابسپاراز وظیفه ساخت انواع رنا را بر عهده دارد. در یوکاریوت ها، انواعی از رنابسپاراز، ساخت رناهای مختلف را انجام می دهند؛ مثلاً رنای پیک توسط رنابسپاراز ۲، رنای ناقل توسط رنابسپاراز ۳ و رنای رناتنی توسط رنابسپاراز ۱ ساخته می شود.

انجام مراحل رونویسی

رونویسی فرایندی پیوسته است ولی برای سادگی موضوع، آن را به سه مرحله آغاز، طویل شدن و پایان تقسیم می کنند. در این مراحل، آنزیم رنابسپاراز، عمل رونویسی را از بخشی از یک رشته دنا انجام می دهد.

مرحله آغاز: در این مرحله، رنابسپاراز به مولکول دنا متصل می شود و دو رشته آن را از هم باز می کند. به نظر شما برای باز شدن دو رشته کدام پیوندها در این ناحیه شکسته می شوند؟ برای اینکه رونویسی ژن از محل صحیح خود شروع شود توالی های نوکلئوتیدی ویژه ای در دنا، وجود دارد که رنابسپاراز آن را شناسایی می کند. به این توالی ها، راه انداز گفته می شود. راه انداز موجب می شود رنابسپاراز اولین نوکلئوتید مناسب را به طور دقیق پیدا و رونویسی را از آنجا آغاز کند. در این حالت بخش کوچکی از مولکول دنا باز و زنجیره کوتاهی از رنا ساخته می شود (شکل ۲-الف). نحوه عمل رنابسپاراز به این صورت است که آنزیم با توجه به نوع نوکلئوتید رشته الگوی دنا، نوکلئوتید مکمل را در برابر آن قرار می دهد و سپس این نوکلئوتید را به نوکلئوتید قبلی رشته رنا متصل می کند. در رونویسی، نوکلئوتید یوراسیل دار رنا به عنوان مکمل در برابر نوکلئوتید آدنین دار دنا قرار می گیرد.

مرحله طویل شدن: در این مرحله رنابسپاراز ساخت رنا را ادامه می دهد که در نتیجه آن، رنا طویل می شود. همچنان که مولکول رنابسپاراز به پیش می رود، دو رشته دنا در جلوی آن باز و در چندین نوکلئوتید عقب تر، رنا از دنا جدا می شود و دو رشته دنا مجدداً به هم می پیوندند (شکل ۲-ب).

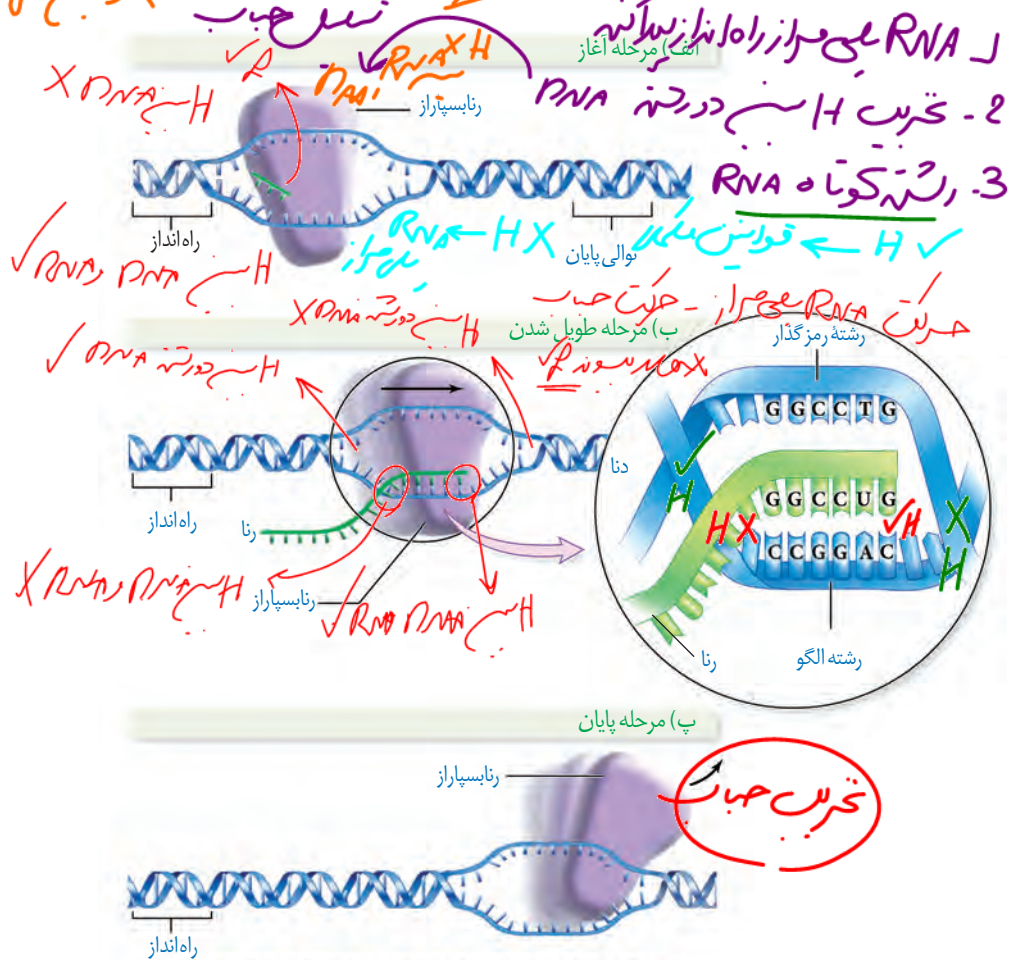
مرحله پایان: در دنا توالی های ویژه ای وجود دارد که موجب پایان رونویسی توسط آنزیم رنابسپاراز

- ۱- RNA Polymerase
- ۲- Initiation
- ۳- Promoter
- ۴- Elongation
- ۵- Termination

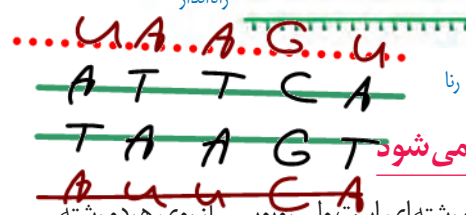
بیشترین میزان RNA تولید

تخریب نوکلئوتید در رونویسی # تخریب جاب

می شوند. در این محل ها، آنزیم از مولکول دنا و رنای تازه ساخت جدا و دو رشته دنا به هم متصل می شوند (شکل ۲- پ).



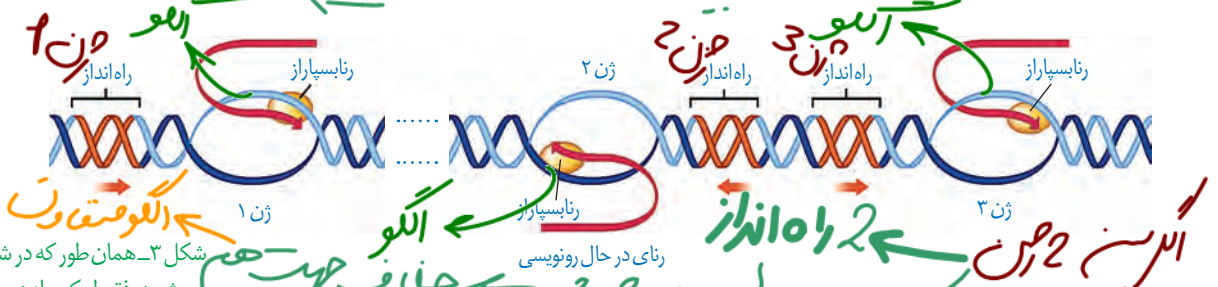
شکل ۲- مراحل مختلف رونویسی



همان طور که گفته شد، ژن بخشی از مولکول دنا و دو رشته ای است ولی رونویسی از روی هر دو رشته یک ژن انجام نمی شود. به نظر شما اگر از روی دو رشته یک ژن رونویسی انجام می شد، محصولات این دو رشته مکمل نسبت به هم چگونه می شدند؟ مسلماً رنا و پلی پپتید ساخته شده از روی دو رشته مکمل دنا بسیار متفاوت می شدند. بنابراین برای هر ژن خاص، یکی از دو رشته رونویسی می شود. به بخشی از رشته دنا که مکمل رشته رنای رونویسی شده است **رشته الگو** می گویند (شکل ۲- الف). به رشته مکمل همین بخش در مولکول دنا، **رشته رمزگذار** گفته می شود. زیرا توالی نوکلئوتیدی آن شبیه رشته رنایی است که از روی رشته الگوی آن ساخته می شود. به نظر شما رشته رنا با رشته رمزگذار چه تفاوت هایی می تواند داشته باشد؟ پاسخ در نوکلئوتیدهای مورد استفاده است؛ مثلاً به جای نوکلئوتید تیمین دار در دنا، نوکلئوتید یوراسیل دار در رنا قرار دارد.

۱- Template

رشته مورد رونویسی یک ژن ممکن است با رشته مورد رونویسی ژن های دیگر یکسان یا متفاوت باشد (شکل ۳).



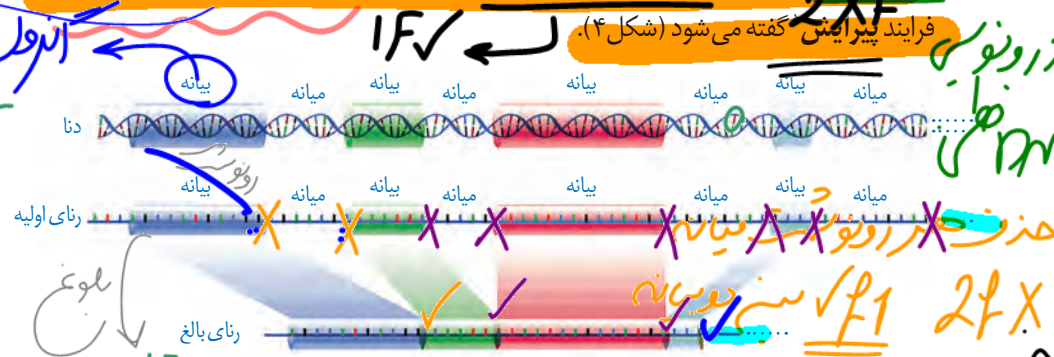
شکل ۳- همان طور که در شکل مشاهده می شود، فقط یکی از دو رشته هر ژن رونویسی می شود.

رناهای ساخته شده دچار تغییر می شوند

در چند دهه گذشته، پژوهشگران دریافته اند که در باخته های یوکاریوتی، رنای ساخته شده در رونویسی با رنای که در سنتز لاسم وجود دارد تفاوت هایی دارد. بعدها مشخص شد که این مولکول ها برای انجام کارهای خود دستخوش تغییراتی می شوند.

تغییرات رنای پیک

رنای پیک ممکن است دستخوش تغییراتی در چین رونویسی و یا پس از آن شود. یکی از این تغییرات حذف بخش هایی از مولکول رنای پیک است در بعضی ژن ها توالی های معینی از رنای ساخته شده، جدا و حذف می شود و سایر بخش ها به هم متصل می شوند و یک رنای پیک یکپارچه می سازند. به این فرایند پیرایش گفته می شود (شکل ۴).



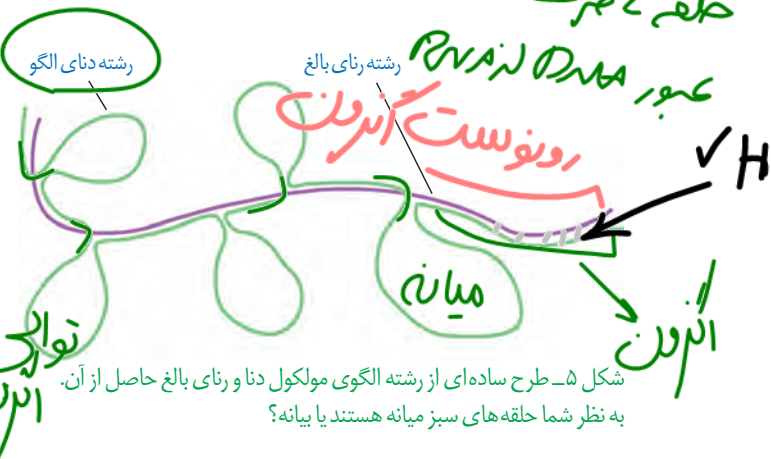
شکل ۴- پیرایش در بخشی از رنای یک ژن

این فرایند هنگامی آشکار شد که دانشمندان یک رنای پیک درون سیتوپلاسم را با رشته الگوی ژن آن در دنا مجاورت دادند. آنها دریافتند که بخش هایی از دنا الگو با رنای رونویسی شده، دورشته مکمل را تشکیل می دهند ولی بخش هایی نیز فاقد مکمل باقی می ماند. این بخش ها به صورت حلقه هایی بیرون از مولکول دو رشته ای قرار می گیرند. به این توالی که در مولکول دنا وجود دارد ولی رونویس شده آن در رنای پیک سیتوپلاسمی حذف شده میانه (اینترون) می گویند. به سایر بخش های مولکول

این فرایند هنگامی آشکار شد که دانشمندان یک رنای پیک درون سیتوپلاسم را با رشته الگوی ژن آن در دنا مجاورت دادند. آنها دریافتند که بخش هایی از دنا الگو با رنای رونویسی شده، دورشته مکمل را تشکیل می دهند ولی بخش هایی نیز فاقد مکمل باقی می ماند. این بخش ها به صورت حلقه هایی بیرون از مولکول دو رشته ای قرار می گیرند. به این توالی که در مولکول دنا وجود دارد ولی رونویس شده آن در رنای پیک سیتوپلاسمی حذف شده میانه (اینترون) می گویند. به سایر بخش های مولکول

- ۱- Splicing
- ۲- Intron

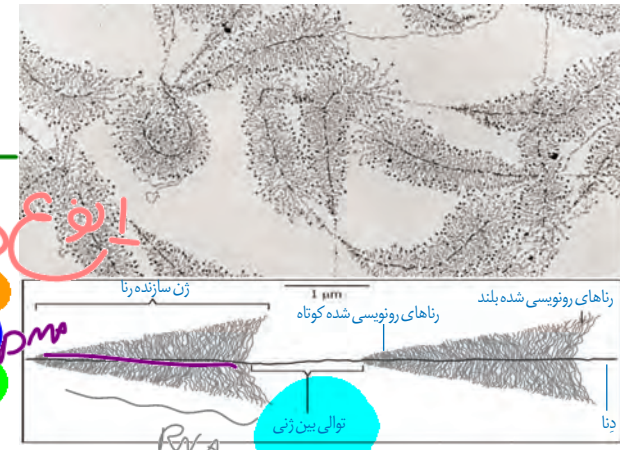
دنا، که رونوشت آنها حذف نمی شوند **بیانه (اگزون)** گفته می شود (شکل ۵). در واقع رنای رونویسی شده از رشته الگو، در ابتدا دارای رونوشت‌های میانه دنا است. به این رنا، **رنای نابالغ** یا **اولیه** گفته می شود. با حذف این رونوشت‌ها از رنای اولیه و پیوستن بخش‌های باقی‌مانده به هم، **رنای بالغ** ساخته می شود.



مجموعاً 3 پارتیه

شدت و میزان رونویسی

به طور کلی میزان رونویسی یک ژن، به مقدار نیاز یاخته به فرآورده‌های آن بستگی دارد. بعضی ژن‌ها، مانند ژن‌های سازنده رنای رناتنی در یاخته‌های تازه تقسیم شده بسیار فعال اند؛ زیرا باید تعداد زیادی از این نوع رنا را بسازند. در این نوع ژن‌ها، هم‌زمان تعداد زیادی رنابسیار از ژن رونویسی می کنند. به این دلیل که در هر زمان رنابسیار را در مراحل مختلفی از رونویسی هستند، در زیر میکروسکوپ الکترونی اندازه رناهای ساخته شده متفاوت دیده می شود. در این تصاویر رناها از اندازه کوتاه به بلند دیده می شود (شکل ۶). با توجه به شکل آیا می توانید جهت رونویسی هر ژن را مشخص کنید؟



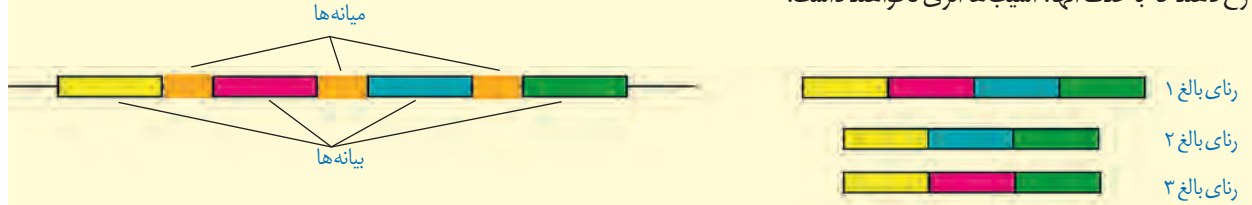
شکل ۶ - ساخته شدن هم‌زمان چندین رنا از روی ژن

بلند → کوتاه

بیشتر بدانید

نقش زیستی میانه‌ها و بیانه‌ها

اندازه میانه‌ها ممکن است بخش عمده‌ای از رنای اولیه را تشکیل دهد که در رنای بالغ حذف می شود. با توجه به اینکه یاخته برای رونویسی میانه‌ها انرژی زیادی صرف می کند، این سؤال پیش می آید که نقش زیستی این اجزا در یاخته چیست؟ به نظر می رسد یکی از نقش‌های میانه، تنظیم رونویسی و در نتیجه تعداد رونوشت‌ها است. با افزایش تعداد و اندازه میانه‌ها، رونویسی از ژن‌ها بیشتر طول می کشد و در نتیجه محصول کمتری تولید می شود. نقش دیگر میانه‌ها، ایجاد تنوع در محصول است که نتیجه پیرایش متفاوت رنای پیک است. با اینکه در بعضی ژن‌ها چسبیدن رونوشت‌های بیانه یک ژن، به طور منظم و یکنواخت انجام می شود، در بعضی دیگر از ژن‌ها، چسبیدن رونوشت‌های بیانه به صورت تصادفی انجام می شود (شکل زیر). پیرایش‌های متفاوت از یک ژن منجر به ساخته شدن رناهای مختلف می شود که می تواند پلی پپتیدهای متفاوتی را ایجاد کند. در پیرایش حتی ممکن است بخش‌های بیانه یک رونوشت به بخش‌هایی از بیانه‌های رونوشت دیگر متصل شود و بر گوناگونی محصول اضافه کند. نقش دیگری که برای میانه‌ها در نظر می گیرند، کاهش آسیب‌های مؤثر به دنا است زیرا برخی آسیب‌ها ممکن است در محل میانه‌ها رخ دهند که با حذف آنها، آسیب‌ها اثری نخواهند داشت.



پیرایش‌های متفاوت یک ژن: با کنار هم قرار گیری متفاوت بیانه‌ها، ترکیب‌های متفاوتی حاصل می شود.

- ۱- Exon
- ۲- Precursor mRNA (Pre-mRNA)
- ۳- Mature messenger RNA

فرآیند

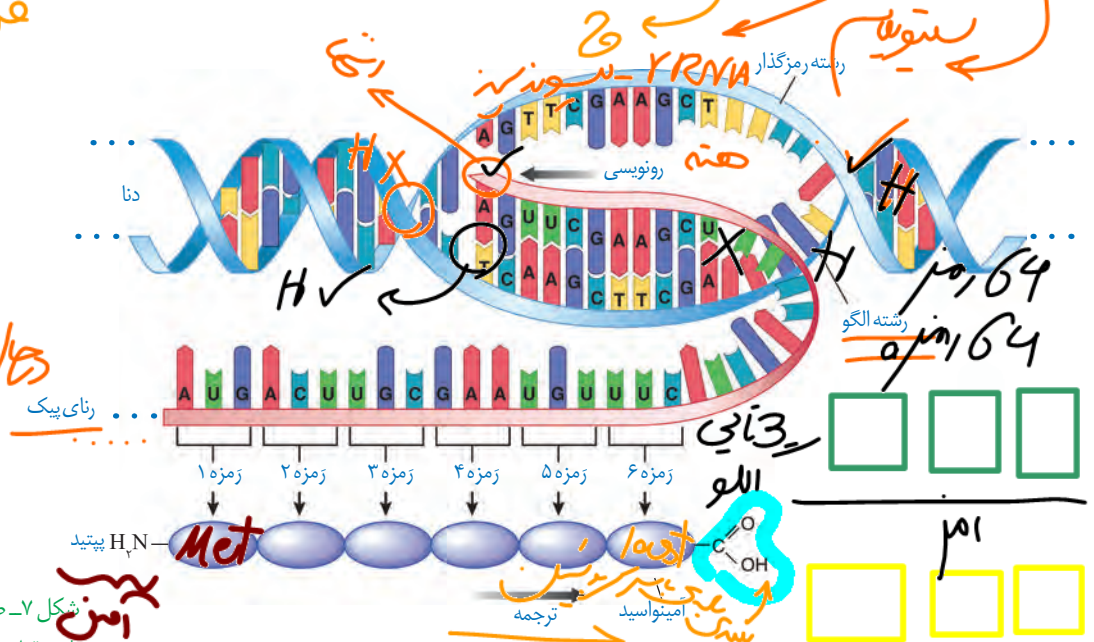
پلی پپتیدها از مهم ترین فرآورده های ژن ها هستند. پروتئین ها اعمال مختلفی را در بدن انجام می دهند که پیش از این با برخی از آنها آشنا شده اید. اینکه چگونه ژن ها و پروتئین های حاصل از آن، صفات را ایجاد می کنند در آینده مورد بحث قرار می گیرند. در این گفتار به نحوه تبدیل اطلاعات وراثتی رنا، به پروتئین می پردازیم.

DNA
RNA
ژن

تبدیل زبان نوکلئیک اسیدی رنا به زبان پلی پپتیدی

دانستید که در فرایند رونویسی از روی توالی های دنا، رنا ساخته می شود که هر دو از نوکلئوتید تشکیل شده اند. ولی در ساختار پلی پپتیدها، آمینواسید وجود دارد. به ساخته شدن پلی پپتید از روی اطلاعات رنای پیک ترجمه می گویند. طرح ساده ای از ژن تا پلی پپتید را در شکل زیر مشاهده می کنید (شکل ۷).

تفاوت در نوع قند



شکل ۷- طرح ساده ای از تشکیل شدن پلی پپتید

توالی های نوکلئوتیدی رنای پیک تعیین می کند که کدام آمینواسیدها باید در ساختار پلی پپتید قرار بگیرد. به این توالی ها، رمزه (کدون) گفته می شود. در یاخته ۶۴ نوع رمزه وجود دارد. نکته قابل توجه این است که رمزه آمینواسیدها در جانداران یکسان اند. به نظر شما این موضوع بیانگر چه واقعیتی است؟
 رمزه های UAG، UGA، UAA هیچ آمینواسیدی را رمز نمی کنند که به آنها، رمزه ناان را می گویند، زیرا حضور این رمزه ها در رنای پیک موجب پایان یافتن عمل ترجمه می شود. رمزه آغاز AUG رمزه ای است که ترجمه از آن آغاز می شود. این رمزه، معرف آمینواسید متیونین نیز است.

aa
کد ژن

۱- Translation
۲- Codon
AUG
AUG

اولین کدون ترجمه

حرف دوم

حرف اول	U	C	A	G	حرف سوم
U	UUU فنیل آلانین UUC	UCU سرین UCC UCA UCG	UAU تیروزین UAC UAA رمز به پایان UAG رمز به پایان	UGU سیستئین UGC UGA رمز به پایان UGG تریپتوفان	U C A G
C	CUU لوسین CUC CUA CUG	CCU پرولین CCC CCA CCG	CAU هیستیدین CAC CAA CAG	CGU آرژنین CGC CGA CGG	U C A G
A	AUU ایزولوسین AUC AUA AUG رمز به آغاز	ACU ترنونین ACC ACA ACG	AAU آسیارازین AAC AAA AAG لیزین	AGU سرین AGC AGA AGG آرژنین	U C A G
G	GUU والین GUC GUA GUG	GCU آلانین GCC GCA GCG	GAU آسیارتیک اسید GAC GAA GAG گلوتامیک اسید	GGU گلیسین GGC GGA GGG	U C A G

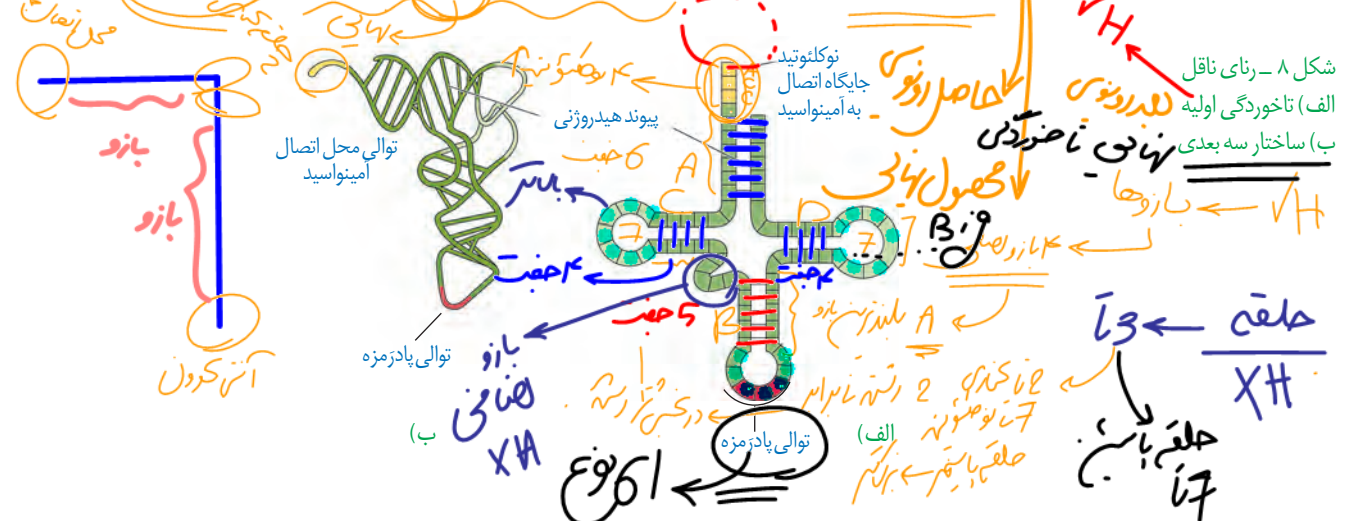
طرح پرسش از این جدول در همه آزمون‌ها از جمله کنکور سراسری ممنوع است.

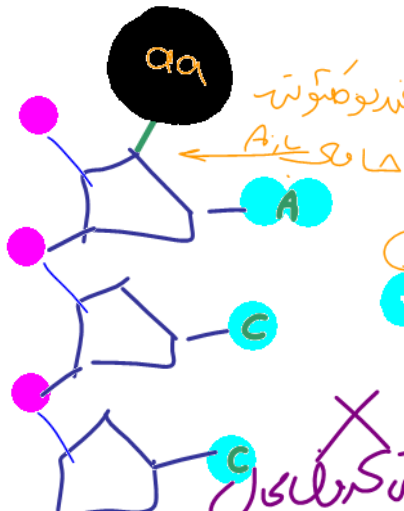
عوامل لازم در ترجمه

ترجمه نیازمند عوامل مختلفی است. ترجمه را می‌توان به یک فرایند آشپزی از روی کتاب آن تشبیه کرد. براساس دستورالعمل این کتاب، مواد اولیه به مقدار و ترتیب خاصی استفاده و غذای خاصی درست می‌شود. در ترجمه هم براساس رمزهای رنای پیک، یک پلی‌پپتید خاصی ساخته می‌شود. مواد اولیه مصرفی در ترجمه، آمینواسیدها هستند. رنای‌ها و رنای‌های ناقل از دیگر عوامل لازم در ترجمه هستند. انرژی لازم برای تهیه پلی‌پپتید هم از مولکول‌های پر انرژی مانند **ATP** به دست می‌آید.

ساختار رنای ناقل tRNA ← rRNA ← mRNA

رنای ناقل پس از رونویسی دچار تغییراتی می‌شود. در ساختار نهایی رنای ناقل، نوکلئوتیدهای مکمل می‌توانند پیوند هیدروژنی ایجاد کنند. به همین علت رنای تک رشته‌ای، بوی خود را می‌خورد (شکل ۸- الف). رنای ناقل تا خوردگی‌های مجددی پیدا می‌کند که ساختار سه بعدی را





CCA
3'

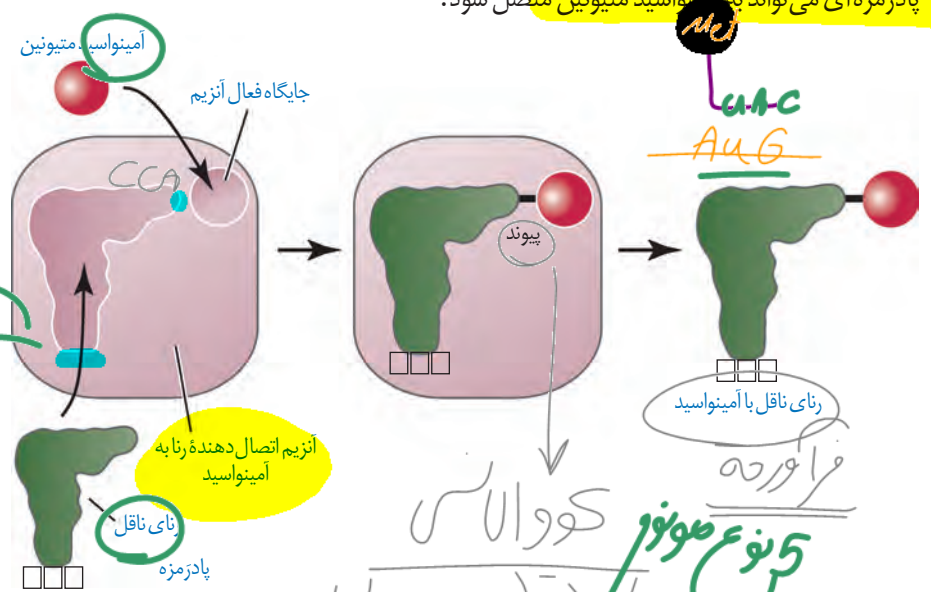
به وجود می آورد. در این ساختار یک بخش محل اتصال آمینواسید و دیگری توالی ۳ نوکلئوتیدی به نام **پادرمزه (آنتی کدون)** است (شکل ۸). به نظر شما علت این نام گذاری چیست؟ هنگام ترجمه، این توالی با توالی رمز مکمل خود پیوند هیدروژنی مناسب برقرار می کند. در همه رناهای ناقل، به جز در ناحیه پادرمزه ای، انواع توالی های مشابهی وجود دارند. انتظار این است که به تعداد انواع رمزها، پادرمزه وجود داشته باشد ولی تعداد انواع پادرمزه ها کمتر از رمزها است؛ مثلاً برای رمزهای پایان، رنای ناقل وجود ندارد.

آنتی کدون
UCA
UAG
UAA
پایان

نحوه عمل رنای ناقل: همان طور که گفته شد، آمینواسید به رنای ناقل متصل می شود. حال پرسش این است که آیا هر نوع آمینواسید به هر نوع رنای ناقل می تواند متصل شود؟ اهمیت بخش پادرمزه ای در این اتصال چیست؟
در واقع در یاخته ها، آنزیم های ویژه ای وجود دارند که بر اساس نوع توالی پادرمزه، آمینواسید مناسب را به رنای ناقل متصل می کنند. یعنی آنزیم با تشخیص پادرمزه در رنای ناقل، آمینواسید مناسب را یافته و به آن وصل می کند. این فرایند نیازمند انرژی است (شکل ۹).
حال بر اساس آنچه تاکنون درباره رمزها خوانده اید آیا می توانید حدس بزنید رنای ناقل با چه توالی

پادرمزه ای می تواند به آمینواسید متیونین متصل شود؟

شکل ۹- نحوه پیوستن آمینواسید به رنای ناقل مربوط به خود توسط آنزیم ویژه آن

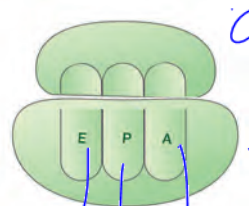


چگونه فعال می شود؟
ترتیب: آمینو اسید + RRF

5 نوع سوئوز کوالاسی
مجموع سوئوز: ۲۰
مجموع سوئوز: ۲۰
نوع RRF: ۱

ساختار رناتن

دانستید که رناتن در ساخت پلی پپتید نقش دارد. رناتن ها از دو زیر واحد تشکیل شده اند (شکل ۱۰). هر زیر واحد نیز از نام پروتئین تشکیل شده است. به یاد می آورید که رنای رناتنی به وسیله کدام رنابسیارازها ساخته می شود؟ در یاخته، پروتئین های رناتنی ساخته شده و رنای مربوط به آنها در کنار هم قرار گرفته و زیر واحد کوچک و بزرگ رناتن را می سازد. رناتن در ساختار کامل، سه جایگاه به نام E, P, A دارد که با آنها در ادامه آشنا خواهیم شد.



شکل ۱۰- ترتیب قرارگیری زیر واحدهای رناتن

Anticodon

Exit
آنتی کدون

مراحل ترجمه

ترجمه نیز فرایندی پیوسته است که برای سادگی در یادگیری آن را به سه مرحله آغاز، طول شدن و پایان تقسیم می کنند.

مرحله آغاز: در این مرحله بخش هایی از رنای پیک، زیر واحد کوچک رناتن را به سوی زمزه آغاز، هدایت می کند.

سپس در این محل برای ناقلی که مکمل زمزه آغاز است به آن متصل می شود. با افزوده شدن زیر واحد بزرگ رناتن به این مجموعه، ساختار رناتن کامل می شود.

در این مرحله جایگاه P در رناتن، محل قرارگیری رنای ناقل دارای آمینواسید است. این جایگاه در ابتدا توسط رنای ناقل متیونین اشغال می شود.

جایگاه A محل قرارگیری رنای ناقل بعدی و آمینواسید متصل به آن خواهد بود. پیوند پپتیدی در جایگاه A برقرار می شود.

جایگاه E محل خروج رنای ناقل بدون آمینواسید است. در مرحله آغاز فقط جایگاه P پر می شود و جایگاه A و E خالی می ماند (شکل ۱۱).



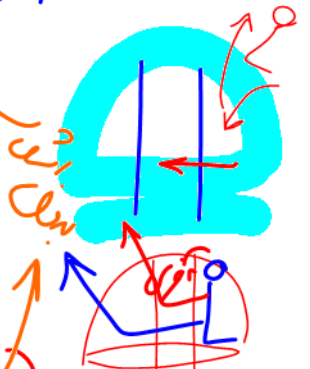
شکل ۱۱- مرحله آغاز ترجمه

مرحله طول شدن: در این مرحله ممکن است رناهای ناقل مختلفی وارد جایگاه A رناتن شوند و فقط رنایی که مکمل زمزه جایگاه A است، استقرار پیدا می کند.

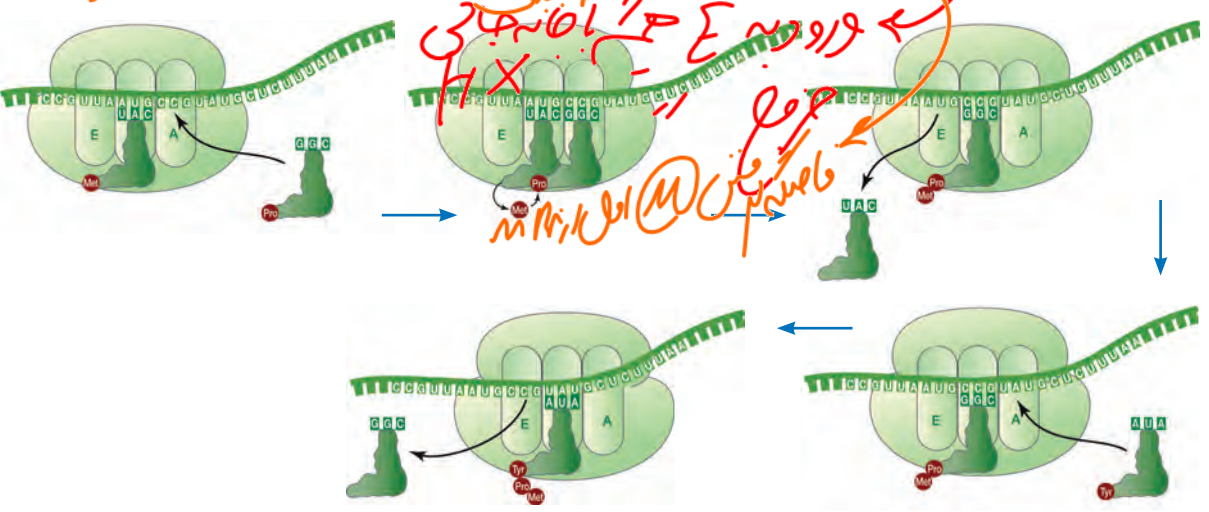
سپس آمینواسید جایگاه P از رنای ناقل خود جدا می شود و با آمینواسید جایگاه A پیوند برقرار می کند. آیا می دانید پیوند حاصل چه نام دارد؟ پس از آن رناتن به اندازه یک زمزه به سوی زمزه پایان پیش می رود.

در این موقع رنای ناقل که حامل رشته پپتیدی در حال ساخت است در جایگاه P قرار می گیرد (علت نام گذاری جایگاه P) و جایگاه A خالی می شود تا پذیرای رنای ناقل بعدی باشد.

رنای ناقل بدون آمینواسید نیز در جایگاه E قرار می گیرد و سپس از این جایگاه خارج می شود. این فرایند بارها تکرار می شود و طول زنجیره آمینواسیدی بیشتر می شود تا رناتن به یکی از زمزه های پایان برسد (شکل ۱۲).

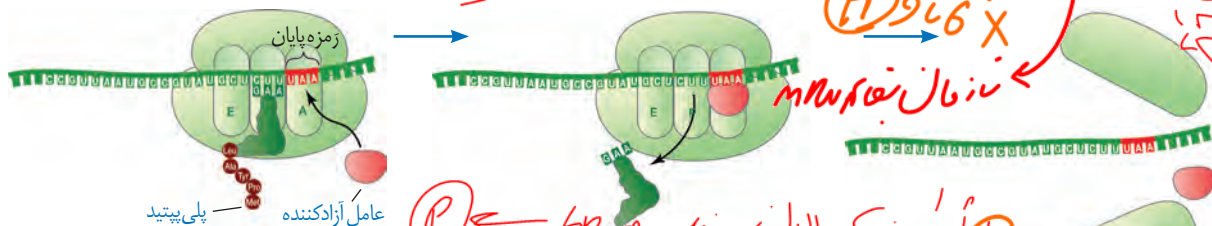


شکل ۱۲- مرحله طول شدن ترجمه



مرحله پایان: با ورود یکی از زرمه‌های پایان ترجمه در جایگاه A، چون رنای ناقل مکمل آن وجود

ندارد، این جایگاه توسط پروتئین‌هایی به نام عوامل آزادکننده اشغال می‌شود. عوامل آزادکننده باعث جدا شدن پلی‌پپتید از آخرین رنای ناقل می‌شوند؛ همچنین باعث جدا شدن زیرواحدهای رناتن از هم و آزاد شدن رنای پیک می‌شوند. زیرواحدهای رناتن‌ها می‌توانند مجدداً این مراحل را تکرار کنند تا چندین نسخه از یک پلی‌پپتید ساخته شود (شکل ۱۳).



شکل ۱۳- مرحله پایان ترجمه

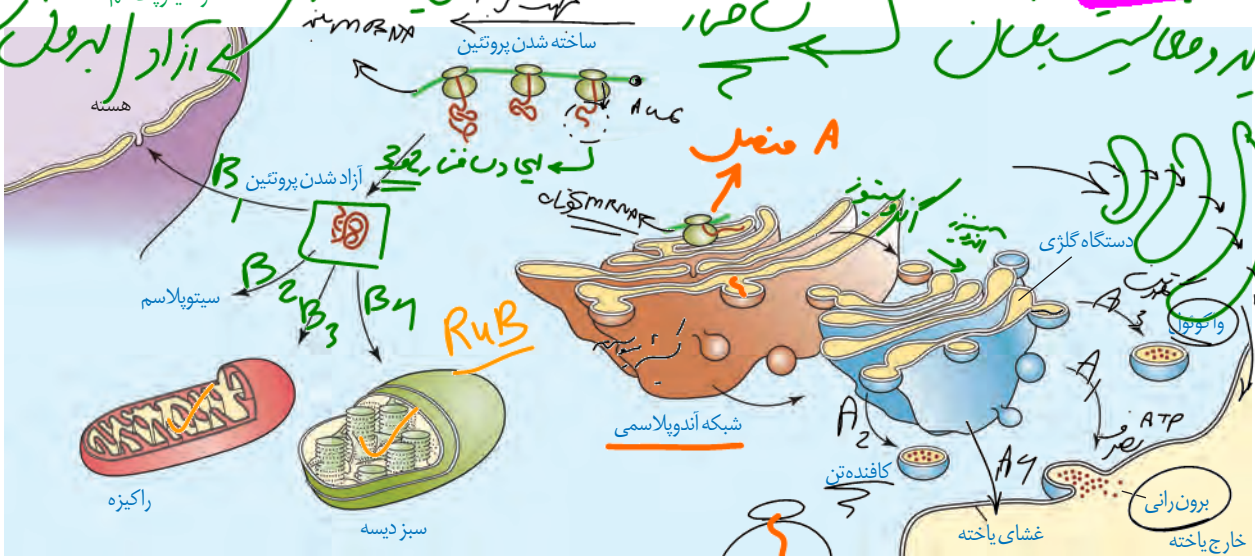
طرح سؤال از توالی‌های رمز، پادر مزه و آمینواسیدهای مربوط به آنها در همه آزمون‌ها از جمله کنکور سراسری ممنوع است.

محل پروتئین سازی و سرنوشت آنها

پروتئین‌ها در بخش‌های مختلفی از یاخته ساخته می‌شوند. به طور کلی پروتئین سازی در هر بخشی از یاخته که رناتن‌ها حضور داشته باشند می‌تواند انجام شود.

همان‌طور که در شکل ۱۴ می‌بینید، پروتئین‌های ساخته شده در سیتوپلاسم سرنوشت‌های مختلفی پیدا می‌کنند. بعضی از این پروتئین‌ها به شبکه اندوپلاسمی و دستگاه گلژی می‌روند و ممکن است برای ترشح به خارج رفته یا به بخش‌هایی مثل واکوئول (گریچه) و کافده‌تن بروند. بعضی پروتئین‌ها نیز در سیتوپلاسم می‌مانند و یا اینکه به راکیزه‌ها، هسته و یا دیسه‌ها می‌روند. در هر یک از این موارد برنامه‌اس مقصدی که پروتئین باید برود، توالی‌های آمینواسیدی در آن وجود دارد که پروتئین را به مقصد هدایت می‌کند (شکل ۱۴).

شکل ۱۴- سرنوشت پروتئین‌های ساخته شده در سیتوپلاسم



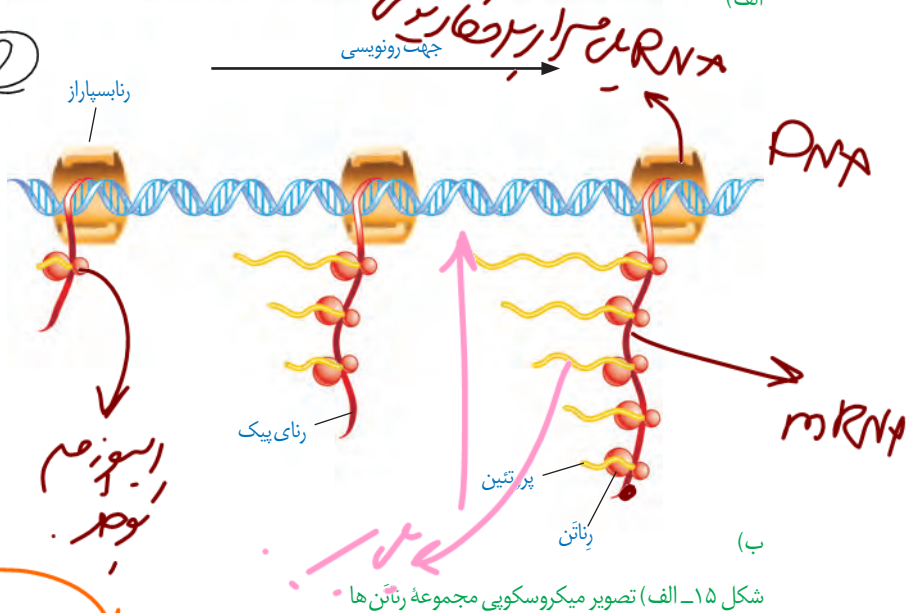
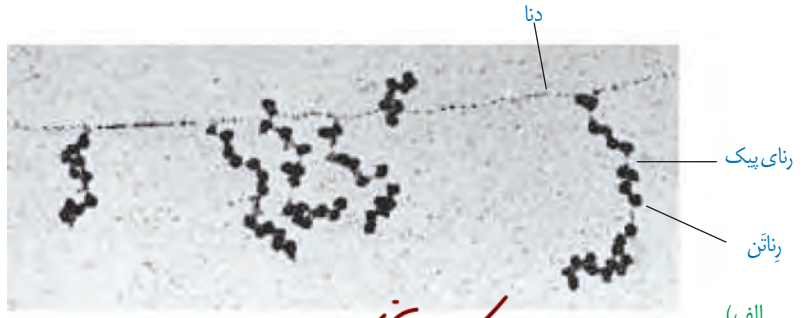
۱- Release Factors

سرعت و مقدار پروتئین سازی

به طور کلی سرعت و مقدار پروتئین سازی در یاخته ها بسته به نیاز تنظیم می شود. در پروکاریوت ها پروتئین سازی حتی ممکن است پیش از پایان رونویسی RNAی بیک آغاز شود؛ زیرا طول عمر RNAی بیک در این یاخته ها کم است. برای پروتئین هایی

که به مقدار بیشتری مورد نیازند، ساخت پروتئین ها، به طور هم زمان و پشت سر هم توسط مجموعه ای از RNAتن ها انجام می شود تا تعداد پروتئین بیشتری در واحد زمان ساخته شود (شکل ۱۵). در این مجموعه، RNAتن ها مانند دانه های تسبیح و RNAی بیک شبیه نخ است که از درون این دانه ها می گذرد. همکاری جمعی RNAتن ها به پروتئین سازی سرعت بیشتری می دهد.

تجمع RNAتن ها در یاخته های یوکاریوتی نیز دیده می شوند. البته در این یاخته ها ساروکارپلی برای حفاظت RNAی بیک در برابر تخریب وجود دارد. بنابراین، فرصت بیشتری برای پروتئین سازی هست. در مجموع، این عوامل موجب طولانی تر شدن عمر RNAی بیک پیش از تجزیه می شود.



شکل ۱۵- الف) تصویر میکروسکوپی مجموعه RNAتن ها. ب) طرحی ساده از RNAتن هایی که چند RNAی در حال رونویسی را ترجمه می کنند.

اوقات ترجمه
تولید هست

الف) چه رابطه ای بین طول عمر RNAی بیک یاخته ها با میزان پروتئین سازی آنها برقرار است؟
ب) رونویسی و ترجمه در پروکاریوت ها و یوکاریوت ها را با هم مقایسه کنید.

فعالیت ۱

مفترار ۳ تنظیم بیان ژن

2n-96

در سال گذشته آموختید که همه یاخته‌های پیکری بدن از تقسیم رشتمان (میتوز) یاخته تخم منشأ می‌گیرند. یاخته‌های حاصل، از نظر فام‌تنی و ژن‌ها یکسان‌اند. با این حال در ادامه تقسیمات و رشد جنین، یاخته‌های متفاوتی ایجاد می‌شوند که اعمال مختلفی انجام می‌دهند؛ مثلاً یاخته‌های عصبی و ماهیچه‌ای بدن یک فرد، ژن‌های یکسانی دارند ولی دارای عملکرد و شکل متفاوتی هستند. حال این سؤال مطرح می‌شود که چگونه ممکن است یاخته‌هایی با ژن‌های یکسان تا این حد متفاوت باشند؟ پاسخ این است که در هر یاخته تنها تعدادی از ژن‌ها فعال و سایر ژن‌ها غیر فعال هستند. هرگاه اطلاعات ژنی در یک یاخته مورد استفاده قرار بگیرد، می‌گوییم آن ژن بیان شده و به اصطلاح روشن است و ژنی که مورد استفاده قرار نمی‌گیرد خاموش و به اصطلاح بیان نشده است. مقدار، بازه و زمان استفاده از ژن در یاخته‌های مختلف یک جاندار ممکن است فرق داشته باشد و حتی در یک یاخته هم بسته به نیاز متفاوت باشد. به فرایندهایی که تعیین می‌کنند در چه هنگام، به چه مقدار و کدام ژن‌ها بیان شوند و یا بیان نشوند، فرایندهای تنظیم بیان ژن می‌گویند. تنظیم بیان ژن فرایندی بسیار دقیق و پیچیده است و عوامل متعددی ممکن است بر آن اثر بگذارند. تنظیم بیان ژن موجب می‌شود تا جاندار به تغییرات پاسخ دهد؛ مثلاً در گیاه، نور می‌تواند باعث فعال شدن ژن سازنده آنزیمی شود که در فتوسنتز مورد استفاده قرار می‌گیرد. در نبود نور این ژن بیان نمی‌شود. همچنین تنظیم بیان ژن می‌تواند موجب ایجاد یاخته‌های مختلفی از یک یاخته شود. یاخته‌های متفاوتی که از یاخته‌های بنیادی مغز استخوان ایجاد می‌شوند، مثالی مناسب در این مورد هستند. در مورد این یاخته‌ها در کتاب دهم مطالبی را فراگرفتید. آیا می‌توانید برخی یاخته‌های حاصل از یاخته‌های بنیادی مغز استخوان را نام ببرید؟

- 1
- 2

بیشتر بدانید

در باکتری‌ها ژن‌هایی که محصولات آنها چند فرایند مرتبط به هم را اداره می‌کند در واحدهایی به نام آپران قرار گرفته‌اند و بیان یا عدم بیان آنها به طور هماهنگ انجام می‌شود. برای مثال برای جذب و تجزیه لاکتوز در باکتری اشرشیا کلائی، ۳ آنزیم مورد نیاز است که ژن‌های سازنده آنها در کنار هم قرار دارند و توسط یک بخش تنظیمی اداره می‌شوند. به مجموعه این ژن‌ها و بخش تنظیمی آن آپران گفته می‌شود. مثال دیگر، ژن‌های مسئول ساخت آمینواسید تری‌توفان است. ۵ ژن در ساخت این آمینواسید دخالت دارند که در یک آپران قرار دارند.

تنظیم بیان ژن در پروکاریوت‌ها

محصول ژن، رنا و پروتئین است. بنابراین، تغییر در فعالیت ژن‌ها، بر ساخت این محصولات نیز اثر می‌گذارد. تنظیم بیان ژن در پروکاریوت‌ها می‌تواند در هر یک از مراحل ساخت رنا و پروتئین تأثیر بگذارد ولی به طور معمول تنظیم بیان ژن در مرحله رونویسی انجام می‌شود. در مواردی هم ممکن است یاخته با تغییر در پایداری (طول عمر) رنا یا پروتئین، فعالیت آن را تنظیم کند.

تنظیم رونویسی در پروکاریوت‌ها

در این نوع تنظیم عواملی به پیوستن رنا بسپاراز به توالی راه‌انداز کمک و یا مانع حرکت رنا بسپاراز می‌شوند. در نتیجه، رونویسی ژن تسهیل یا ممانعت می‌شود؛ مثلاً با اتصال پروتئین‌های خاصی به بخشی از دنا که سر راه رنا بسپاراز است، از انجام رونویسی جلوگیری می‌شود. نمونه این نوع تنظیم، در نوعی باکتری به نام اشرشیا کلائی^۲ شناخته شده است. قند مصرفی ترجیحی این باکتری گلوکز است.

۱- Regulation of gene expression

۲- Escherichia coli

۱- Operons

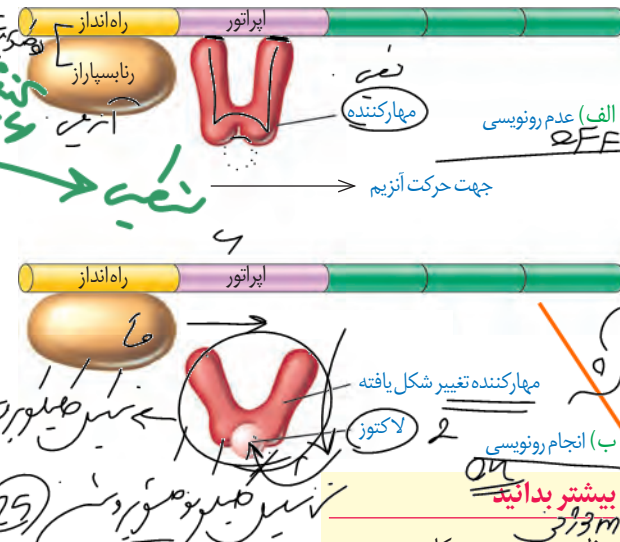
تنظیم منفی (فندکنت)

مراحل تجزیه قند گلوکز در یاخته را در فصول بعد خواهید آموخت. اگر گلوکز در محیط باکتری وجود نداشته باشد ولی قند دیگری به نام **لاکتوز** در اختیار باکتری قرار بگیرد، باکتری می تواند از این قند استفاده کند. این قند متفاوت از گلوکز بوده است و آنزیم های لازم برای مصرف آن نیز متفاوت است. بنابراین وقتی لاکتوز در محیط وجود دارد باکتری باید آنزیم های تجزیه کننده آن را بسازد و در نبود یا کاهش لاکتوز نیز ساخت آنزیم های تجزیه کننده آن متوقف یا کاهش پیدا کند. حال این پرسش پیش می آید که باکتری چگونه می تواند حضور لاکتوز را در محیط تشخیص دهد و آنزیم های تجزیه کننده آن را بسازد؟ ژن هایی که این آنزیم ها را می سازند چگونه روشن و یا خاموش می شوند؟ در پروکاریوت ها بیان ژن به دو صورت منفی و مثبت تنظیم می شود.

شکل ۱۶- الف) عدم رونویسی ژن ها در غیاب لاکتوز ب) رونویسی ژن ها در حضور لاکتوز

تنظیم منفی رونویسی: در گفتار ۱ آموختید که رونویسی با

چسبیدن رنابسپاراز به راه انداز مربوط به ژن شروع می شود. حال اگر مانعی بر سر راه رنابسپاراز وجود داشته باشد، رونویسی انجام نمی شود. به این نوع تنظیم، تنظیم منفی رونویسی گفته می شود. مانع پیش روی رونویسی را رنابسپاراز نوعی پروتئین به نام **مهارکننده** است. این پروتئین به توالی خاصی از دنا به نام **اپراتور** متصل می شود و جلوی حرکت رنابسپاراز را می گیرد (شکل ۱۶- الف). لاکتوز موجود در محیط به باکتری وارد می شود و با اتصال به مهارکننده، شکل آن را تغییر می دهد. تغییر شکل مهارکننده، آن را از اپراتور جدا می کند و نیز مانع از اتصال آن به اپراتور می شود. با برداشته شدن مانع سر راه، رنابسپاراز می تواند رونویسی ژن ها را انجام دهد (شکل ۱۶- ب). محصولات این ژن ها تجزیه لاکتوز را ممکن می کند.



تنظیم مثبت رونویسی: در این نوع تنظیم، پروتئین های خاصی به رنابسپاراز کمک می کنند تا بتواند

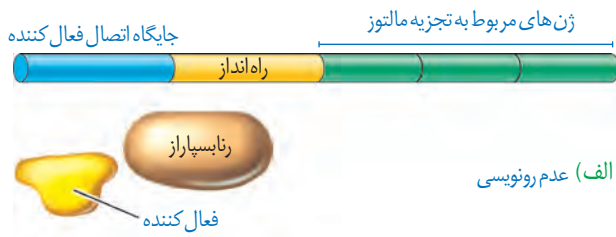
به راه انداز متصل شود و رونویسی را شروع کند. مثال این نوع تنظیم نیز در باکتری اشرشیا کلائی وجود دارد. مشخص شده که اگر در محیط باکتری، قند **مالتوز** وجود داشته باشد، درون باکتری آنزیم هایی ساخته می شوند که در تجزیه آن دخالت دارند. در عدم حضور مالتوز این آنزیم ها ساخته نمی شوند چون باکتری نیازی به آنها ندارد.

تنظیم رونویسی در مورد این ژن ها به صورت مثبت انجام می شود. در حضور قند مالتوز، انواعی از پروتئین به نام **فعال کننده** وجود دارند که به توالی های خاصی از دنا متصل می شوند. به این توالی ها **جایگاه اتصال فعال کننده** گفته می شود. (شکل ۱۷- الف) در حضور مالتوز در محیط، پروتئین فعال کننده به جایگاه خود متصل می شود و پس از اتصال به رنابسپاراز کمک می کند تا به راه انداز متصل

بیشتر بدانید
تنظیم منفی در پروکاریوت به دو صورت القایی و مهارتی انجام می شود. در حالت القایی، حضور یک ماده موجب بیان ژن ها می شود. تنظیم بیان ژن در حضور لاکتوز مثالی از تنظیم منفی از نوع القایی است. در حالت مهارتی، حضور یک ماده موجب خاموش شدن ژن و عدم بیان آنها می شود. مثال این نوع تنظیم در مورد آمینواسید تریپتوفان دیده می شود. در باکتری اشرشیا کلائی با حضور تریپتوفان، ژن هایی که در ساخت آن دخالت دارند خاموش می شوند. وقتی تریپتوفان در محیط نیست، این ژن ها روشن می شوند تا آنزیم های سازنده تریپتوفان ساخته شوند.

- ۱- Inducer
- ۲- Repressor

- ۱- Lactose
- ۲- Repressor
- ۳- Operator
- ۴- Maltose
- ۵- Activator
- ۶- Activator Binding Site



شود و رونویسی را شروع کند. چه عاملی سبب می شود که فعال کننده به جایگاه خود بچسبد؟ این عامل مالتوز است. اتصال مالتوز به فعال کننده باعث پیوستن آن به جایگاه اتصال شده و رونویسی شروع می شود (شکل ۱۷-ب).

تنظیم بیان ژن در یوکاریوت ها



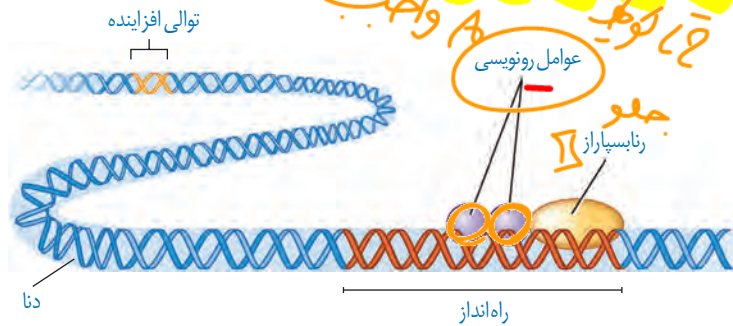
تنظیم بیان ژن در یوکاریوت ها پیچیده تر از پروکاریوت هاست و می تواند در مراحل بیشتری انجام شود. باخته های یوکاریوتی به وسیله غشاها به بخش های مختلفی تقسیم شده اند. بنابراین، برای آنکه یاخته نسبت به یک ماده واکنش نشان دهد، آن ماده باید به طریقی از غشاها عبور کند و ژن ها را تحت تأثیر قرار دهد. در یاخته های یوکاریوتی، بیشتر ژن ها در هسته و برخی در راکیزها و دیسه ها قرار دارند. در هر یک از این محل ها، یاخته می تواند بر بیان ژن نظارت داشته باشد. بنابراین تنظیم بیان ژن می تواند در مراحل متعددی انجام شود.

شکل ۱۷- تنظیم مثبت رونویسی ژن های مؤثر در تجزیه مالتوز

بجز سیم

تنظیم بیان ژن در مرحله رونویسی: در یوکاریوت ها نیز مانند پروکاریوت ها، رونویسی با پیوستن

رناسپاراز به راه انداز آغاز می شود. در یوکاریوت ها رناسپاراز نمی تواند به تنهایی راه انداز را شناسایی کند

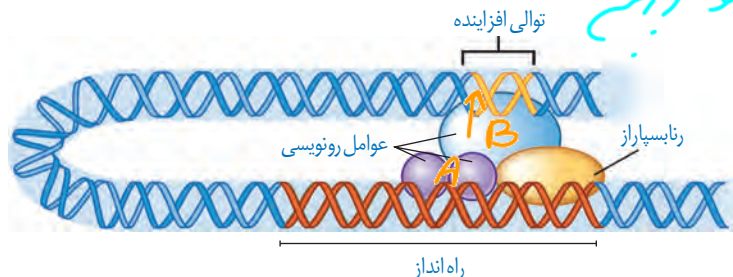


و برای پیوستن به آن نیازمند پروتئین هایی به نام **عوامل رونویسی** هستند. گروهی از این پروتئین ها با اتصال به نواحی خاصی از راه انداز، رناسپاراز را به محل راه انداز هدایت می کند، چون تمایل پیوستن این پروتئین ها به راه انداز در اثر عواملی تغییر می کنند، مقدار رونویسی ژن آن هم تغییر می کند (شکل ۱۸).

شکل ۱۸- تنظیم بیان ژن در یوکاریوت ها

در یوکاریوت ها امکان است عوامل رونویسی دیگری به بخش های خاصی از دنا به نام **توالی افزاینده**

متصل شوند. با پیوستن این پروتئین ها به توالی افزاینده و با ایجاد خمیدگی در دنا، عوامل رونویسی در کنار



هم قرار می گیرند. کنار هم قرارگیری این عوامل، سرعت رونویسی را افزایش می دهند. توالی های افزاینده متفاوت از راه انداز هستند و ممکن است در فاصله دوری از ژن قرار داشته باشند. اتصال این پروتئین ها **سرعت** مقدار رونویسی ژن مؤثر است (شکل ۱۹).

شکل ۱۹- توالی افزاینده و عوامل رونویسی متصل به آن

- ۱- Transcription Factors
- ۲- Enhancer



بیشتر بدانید

بعضی ژن‌ها در یاخته‌ها به‌طور دائم بیان می‌شوند. ژن‌های سازنده اجزای رناتن از این جمله‌اند. این ژن‌ها رنای رناتن و پروتئین‌های آن را می‌سازند. با توجه به نیاز یاخته‌های در حال تقسیم به تعداد زیادی رناتن، این ژن‌ها به‌طور دائم روشن هستند.

در سبزه‌ها، بیان ژن

تعمیر بیان ژن
از طریق این‌ها

سبزه‌ها بیان ژن

SRNS

تنظیم بیان ژن در مراحل غیررونوئوسی: در یونارپوت‌ها تنظیم بیان ژن می‌تواند پیش از رونوئوسی یا پس از آن هم انجام شود. اتصال بعضی ناهای کوچک مکمل به رنای پیک مثالی از تنظیم بیان ژن پس از رونوئوسی است. با اتصال این رناها، از کار رناتن جلوگیری می‌شود. در نتیجه، عمل ترجمه متوقف و رنای ساخته شده پس از مدتی تجزیه می‌شود.

روش تنظیم دیگر در سطح فام‌تنی است. به‌طور معمول بخش‌های فشرده فام‌تن کمتر در دسترس رنابسیارازها قرار می‌گیرند بنابراین یاخته می‌تواند با تغییر در میزان فشرده‌گی فام‌تن در بخش‌های خاصی، دسترسی رنابسیاراز را به ژن مورد نظر تنظیم کند. به نظر شما این تنظیم بیان ژن پیش از رونوئوسی است یا پس از آن؟

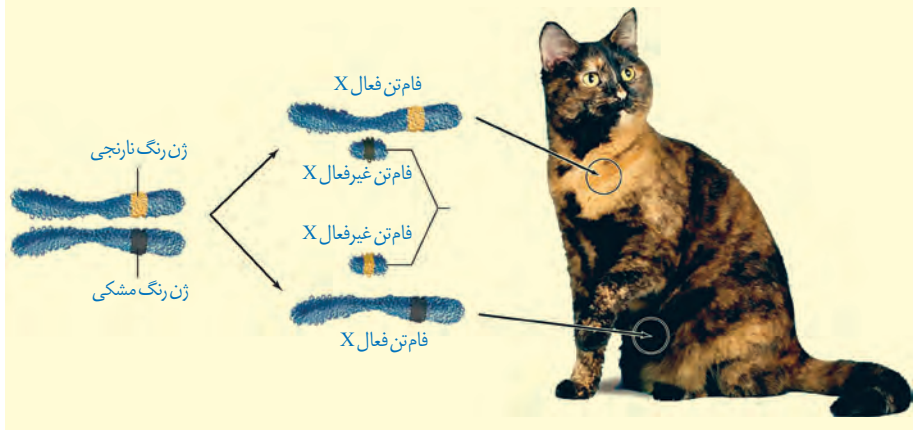
از روش‌های دیگر تنظیم بیان ژن طول عمر رنای پیک است. افزایش طول عمر رنای پیک موجب افزایش محصول می‌شود. این فرایندها در میزان پروتئین‌سازی مؤثر خواهند بود. شیوه‌های دیگری نیز در تنظیم بیان ژن مؤثرند که نحوه عمل بسیاری از آنها ناشناخته است.



بیشتر بدانید

بیان ژن به روش‌های مختلفی ممکن است کاهش یا افزایش یابد. یکی از این روش‌ها افزایش تعداد ژن‌هایی است که به محصولات آنها به مقدار زیادی نیاز است. در این موارد ممکن است یاخته چندین کپی از یک ژن داشته باشد. در نتیجه رونوئوسی از تعداد بیشتری ژن انجام شود. این حالت موجب ساخت محصول بیشتر در زمان کمتر می‌شود. نمونه این ژن‌ها، ژن‌های سازنده رنای رناتنی است. نوعی از این رنای رناتنی هزاران ژن در یک یاخته دوزیست دارد.

روش دیگر فعال یا غیرفعال کردن برخی فام‌تن‌ها مانند فام‌تن X در انسان است. چون در یاخته‌های پیکری زن، دو نسخه از فام‌تن X و در مرد یک نسخه وجود دارد، برای بیان متعادل در دو جنس، یکی از فام‌تن‌های X در یاخته‌های زن غیرفعال می‌شود تا ژن‌های آن بیان نشوند. در اثر این فرایند ژن‌های فام‌تن X در زن و مرد، به یک نسبت بیان می‌شود. مثالی از بیان ژن‌های روی فام‌تن X و اثرات آن بر صفات را در تصویر زیر مشاهده می‌کنید. در یاخته‌ها، یکی از فام‌تن‌های X به صورت تصادفی غیرفعال می‌شوند.





فصل ۳

انتقال اطلاعات در نسل ها

شبهات بین فرزندان و والدین، گویای آن است که ویژگی‌های والدین به نحوی به فرزندان منتقل می‌شود. همچنین می‌دانیم که در تولیدمثل جنسی ارتباط بین نسل‌ها را گامت‌ها برقرار می‌کنند و ویژگی‌های هر یک از والدین توسط دستورالعمل‌هایی که در دِنای موجود در گامت‌ها قرار دارد، به نسل بعد منتقل می‌شود.

پیش از کشف قوانین وراثت، تصور بر آن بود که صفات فرزندان، آمیخته‌ای از صفات والدین و حد واسطی از آنهاست. مثلاً اگر یکی از والدین بلندقد و دیگری کوتاه‌قد باشد، فرزند آنان قدی متوسط خواهد داشت. اما مشاهدات متعدد نشان داد که این تصور درست نیست.

در اواخر قرن نوزدهم، زمانی که هنوز ساختار و عمل دِنای و ژن‌ها معلوم نبود، دانشمندی به نام گریگور مندل^۱ توانست قوانین بنیادی وراثت را کشف کند. به کمک این قوانین، می‌شد صفات فرزندان را پیش‌بینی کرد. با توجه به شناخت شما از ساختار و عمل دِنای، در این فصل با مفاهیم پایه وراثت به زبان امروزی آشنا می‌شویم.

۱- Gregor Mendel



طرح سؤالات عددی و محاسباتی از مباحث این فصل در همهٔ آزمون‌ها از جمله کنکور سراسری ممنوع است.



هر یک از ما ویژگی‌هایی داریم که ما را با آنها می‌شناسند. بعضی از این ویژگی‌ها را از والدین خود دریافت کرده‌ایم؛ مثل رنگ چشم، رنگ مو یا گروه خونی. ویژگی‌هایی را هم می‌شناسیم که ارثی نیستند؛ مثل تیره شدن رنگ پوست که به علت قرارگرفتن در معرض آفتاب ایجاد شده است. در علم ژن‌شناسی، ویژگی‌های ارثی جانداران را **صفت** می‌نامند (شکل ۱). **ژن‌شناسی**، شاخه‌ای از زیست‌شناسی است که به چگونگی وراثت صفات از نسلی به نسل دیگر می‌پردازد.



شکل ۱- هر یک از افراد جمعیت، ویژگی‌هایی دارد که ممکن است این ویژگی‌ها به نسل بعد منتقل شوند.

هر یک از صفاتی که نام بردیم به شکل‌های مختلفی دیده می‌شوند. مثلاً رنگ چشم ممکن است به رنگ مشکی، قهوه‌ای، سبزی یا آبی باشد. یا حالت مو ممکن است به شکل صاف، موج‌دار یا فر دیده شود. به انواع مختلف یک صفت، **شکل‌های آن صفت** می‌گویند.

گروه‌های خونی

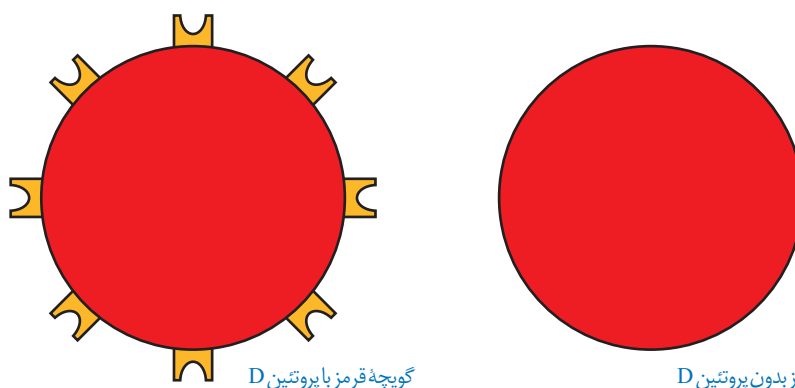
آیا شما گروه خونی خود را می‌دانید؟ آیا می‌دانید منظور از گروه خونی مثلاً A^+ چیست؟ وقتی می‌گویند گروه خونی شخصی A^+ است در واقع «دو» گروه خونی را برای او مشخص کرده‌اند. یکی گروه خونی معروف به **ABO** و دیگری گروه خونی ای به نام **Rh**. در ادامه این دو گروه خونی را بررسی می‌کنیم. توضیح Rh ساده‌تر است و با آن آغاز می‌کنیم.

گروه خونی Rh: گروه خونی Rh بر اساس بودن یا نبودن پروتئینی است که در غشای گویچه‌های قرمز جای دارد و پروتئین D نامیده می‌شود. اگر این پروتئین وجود داشته باشد، گروه خونی Rh مثبت است و اگر وجود نداشته باشد گروه خونی Rh منفی خواهد شد (شکل ۲).

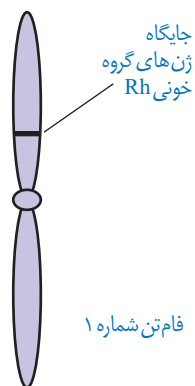
بیشتر بدانید

Rh برگرفته از نام میمونی به نام رزوس (Rhesus) است. این گروه خونی ابتدا در این میمون کشف و Rh نامیده شد.





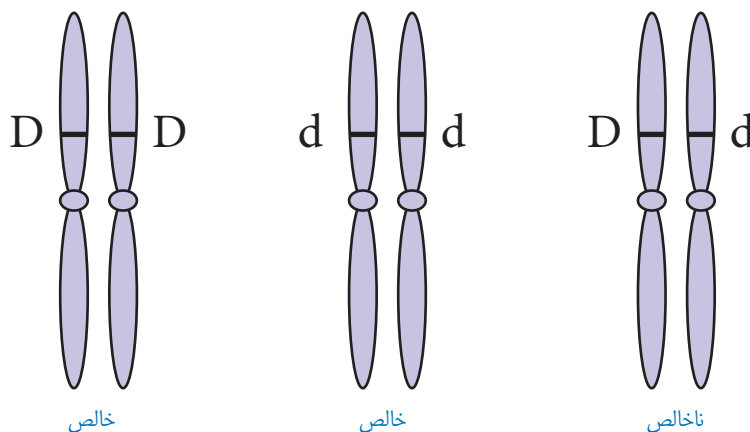
شکل ۲- مبنای گروه خونی Rh پروتئین D



شکل ۳- جایگاه ژن های Rh

بود و نبود پروتئین D به نوعی ژن بستگی دارد. دو ژن در ارتباط با این پروتئین، در میان مردم دیده می شود. ژنی که می تواند پروتئین D را بسازد و ژنی که نمی تواند پروتئین D را بسازد. این دو ژن را به ترتیب **D** و **d** می نامیم.

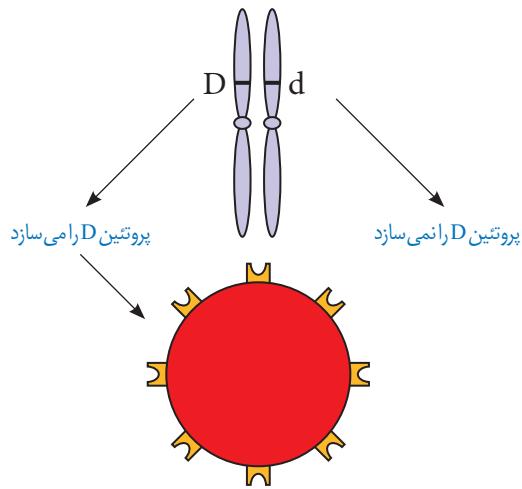
D و **d** جایگاه یکسانی در فام تن شماره ۱ دارند. توجه داشته باشید که هر فام تن شماره ۱ در این جایگاه ژن **D** یا **d** را دارد و نه هر دو را. به این جایگاه از فام تن شماره ۱، **جایگاه ژن های Rh** می گویند (شکل ۳). **D** و **d** که شکل های مختلف صفت Rh را تعیین می کنند و هر دو جایگاه ژنی یکسانی دارند؛ **دگره (الل) هم هستند**. از آنجا که هر یک از ما دو فام تن ۱ داریم، پس دو دگره هم برای Rh داریم. بنابراین ممکن است هر دو فام تن شماره ۱، **D** یا هر دو **d** را داشته باشند. در این صورت می گویند فرد برای این صفت **خالص** است. اما اگر یک فام تن **D** و دیگری **d** را داشته باشد می گویند فرد برای این صفت، **ناخالص** است (شکل ۴).



شکل ۴- ژن نمودهای خالص و ناخالص

گروه خونی فردی که **DD** است، مثبت و گروه خونی فرد **dd**، منفی است. اما گروه خونی فردی که **Dd** است؛ چگونه می شود؟ برای پاسخ به این سؤال باید رابطه بین این دو دگره را دانست. مشاهدات نشان می دهند که افراد ناخالص، گروه خونی مثبت را خواهند داشت. بنابراین اگر دو دگره **D** و **d** کنار هم قرار بگیرند، این دگره **D** است که بروز می کند. در چنین حالتی گفته می شود که دگره **D** **بارز** و دگره **d** **نهفته** است و بین دگره ها رابطه **بارز و نهفتگی** برقرار است. طبق قرارداد، دگره بارز را با حرف بزرگ و دگره نهفته را با حرف کوچک آن نشان می دهیم.

توضیح علت رابطهٔ بارز و نهفتگی دگره‌های گروه خونی Rh کار آسانی است. داشتن تنها یک دگره D کافی است تا در غشای گویچه‌های قرمز پروتئین D مشاهده شود به همین علت، گروه خونی فردی که برای این صفت ناخالص است، مثبت خواهد شد (شکل ۵).



شکل ۵- توضیح رابطهٔ بارز و نهفتگی بین دگره‌های گروه خونی Rh

ترکیب دگره‌ها را در فرد، ژن نمود (ژنوتیپ) و شکل ظاهری یا حالت بروز یافته صفت را رخ نمود (فنوتیپ) می‌نامیم. جدول ۱ انواع ژن نمود و رخ نمود را در مورد این گروه خونی نشان می‌دهد.

ژن نمود	رخ نمود
DD	گروه خونی +
Dd	گروه خونی +
dd	گروه خونی -

جدول ۱- انواع ژن نمود و رخ نمود گروه خونی Rh

نوع دیگری از رابطهٔ بین دگره‌ها را در صفت گروه خونی ABO می‌توانیم ببینیم. **گروه خونی ABO:** در گروه خونی ABO خون به چهار گروه A، B، AB و O گروه‌بندی می‌شود. این گروه‌بندی بر مبنای بودن یا نبودن دو نوع کربوهیدرات به نام‌های A و B در غشای گویچه‌های قرمز است (شکل ۶).

	گروه خونی A	گروه خونی B	گروه خونی AB	گروه خونی O
گویچه قرمز				
نوع کربوهیدرات گویچه قرمز	A	B	A و B	هیچ کدام

شکل ۶- مبنای گروه خونی ABO

برای گروه خونی ABO چه دگره‌هایی وجود دارد؟ اضافه شدن کربوهیدرات‌های A و B به غشای گلبول قرمز، یک واکنش آنزیمی است. دو نوع آنزیم وجود دارد. یکی آنزیم A، که کربوهیدرات A را به

غشا اضافه می کند و دیگری آنزیم B، که کربوهیدرات B را اضافه می کند. اگر هیچ یک از این دو آنزیم وجود نداشته باشند، آن گاه هیچ کربوهیدراتی اضافه نخواهد شد. بنابراین برای این صفت، سه دگره وجود دارد. دگره ای که آنزیم A را می سازد، دگره ای که آنزیم B را می سازد و دگره ای که هیچ آنزیمی نمی سازد. جایگاه ژن های گروه خونی ABO در فام تن شماره ۹ است.

برای سادگی، این سه دگره را به ترتیب A، B و O می نامیم. در اینجا تشخیص رخ نمود برای ژن نمودهای خالص AA، BB یا OO آسان است: گروه خونی به ترتیب A، B یا O می شود. اما، رخ نمود ژن نمودهای ناخالص چیست؟ رابطه بارز و نهفتگی بین دگره ها چگونه است؟

ژن نمودهای ناخالص برای این دگره ها عبارت اند از AO، BO و AB. آیا می توانید حدس بزنید گروه خونی فردی که AO است چیست؟ دگره A آنزیم A را می سازد اما دگره O هیچ آنزیمی نمی سازد. پس گروه خونی این فرد A خواهد شد. به همین علت گفته می شود A نسبت به O بارز است. همین استدلال را می توان برای ژن نمود BO به کار برد. دگره B نیز نسبت به دگره O بارز است. در ژن نمود AB هر دو آنزیم ساخته می شوند و به همین علت گلبول قرمز هر دو کربوهیدرات A و B را خواهد داشت. در اینجا رابطه بین دگره A و B، از نوع بارز و نهفتگی نیست. چنین رابطه ای را **هم توانی** می نامیم و می گوئیم دگره های A و B نسبت به یکدیگر **هم توان** هستند. در هم توانی، اثر دگره ها، همراه با هم ظاهر می شود. ژن شناسان دگره های A، B و O را به ترتیب با I^A ، I^B و i نشان می دهند. این نوع نام گذاری به روشنی نشان می دهد که دگره I^A و I^B نسبت به یکدیگر هم توان اما نسبت به i بارزند.

بارزیت ناقص

تا اینجا با دو نوع رابطه دگره ای آشنا شدیم: یکی بارز و نهفتگی و دیگری هم توانی. رابطه دیگری نیز بین دگره ها برقرار است و آن موقعی است که صفت در حالت ناخالص، به صورت حد واسط حالت های خالص مشاهده می شود. این بار مثالی از گیاهان بیابوریم. رنگ گل میمونی مثال خوبی است (شکل ۷). دو دگره برای رنگ گل میمونی وجود دارد که یکی قرمز و دیگری سفید است. این دو را به ترتیب با R و W نشان می دهیم. در حالت RR رنگ گل، قرمز و در حالت WW رنگ گل، سفید است. رنگ گل RW چگونه است؟ این گل، صورتی است. رنگ صورتی، حالت حد واسط قرمز و سفید است. در این حالت گفته می شود که **رابطه بارزیت ناقص** برقرار است.



گل قرمز



گل صورتی



گل سفید

شکل ۷- گل میمونی

گفتار ۲ انواع صفات

به یاد دارید که فام‌تن‌ها به دو دسته غیرجنسی و جنسی تقسیم می‌شوند. فام‌تن‌های جنسی انسان X و Y هستند. صفاتی را که جایگاه ژنی آنها در یکی از فام‌تن‌های غیرجنسی قرار داشته باشد **صفت مستقل از جنس** و صفاتی را که جایگاه ژنی آنها در یکی از دو فام‌تن جنسی قرار داشته باشد **وابسته به جنس** می‌گویند.

وراثت صفات مستقل از جنس

صفات مستقل از جنس چگونه به ارث می‌رسند؟ Rh یک صفت مستقل از جنس است. اگر پدر و مادری هر دو ژن نمود Dd داشته باشند، چه ژن نمود یا ژن نمودهایی برای فرزندان آنها مورد انتظار است؟ می‌دانیم هر یک از پدر و مادر، از هر جفت فام‌تن هم‌تا تنها یکی را از طریق گامت‌ها به نسل بعد منتقل می‌کنند. در این مثال، هم پدر و هم مادر از نظر Rh دو نوع گامت تولید می‌کنند: یکی گامتی که D دارد و دیگری گامتی که d دارد. ژن نمود فرزندان به این بستگی دارد که کدام گامت‌ها با یکدیگر لقاح پیدا کنند. ژن نمود فرزندان را می‌توان با روشی به نام **مربع پانت** به دست آورد. پانت نام دانشمندی است که این روش را پیشنهاد کرده است.

در روش مربع پانت، گامت‌های والدین را به طور جداگانه در سطر و ستون یک جدول می‌نویسیم و بعد خانه‌های جدول را با کنار هم قرار دادن گامت‌های سطر و ستون متناظر هم‌پر می‌کنیم (جدول ۲).

گامت‌ها	D	d
D	DD	Dd
d	dD	dd

جدول ۲- مربع پانت

باید توجه داشت که ژن نمودهای Dd و dD یکسان‌اند. بنابراین هر فرزندی که متولد می‌شود می‌تواند یکی از ژن نمودهای DD، Dd و dd را داشته باشد.

فعالیت ۱

پدری گروه خونی O و مادری گروه خونی AB دارد. چه ژن نمود و رخ نمودهایی برای فرزندان آنان پیش‌بینی می‌کنید؟

صفت وابسته به X

گاهی ژن صفتی که بررسی می شود در فام تن X قرار دارد. به چنین صفاتی، صفت **وابسته به X** می گویند. هموفیلی، یک بیماری وابسته به X و نهفته است یا به عبارتی دیگر، دگره این بیماری که روی فام تن X قرار دارد نهفته است. در این بیماری، فرایند لخته شدن خون دچار اختلال می شود. شایع ترین نوع هموفیلی به فقدان عامل انعقادی VIII (هشت) مربوط است.

دگره بیماری هموفیلی را h می نامیم؛ دگره سالم ژن، H نامیده می شود. برای آنکه نشان دهیم این صفت وابسته به X است، دگره ها را به صورت بالانویس X و X^h می نویسیم: X^H و X^h.

جدول ۳ انواع ژن نمودها و رخ نمودها را برای هموفیلی نشان می دهد. دقت کنید که در فام تن Y جایگاهی برای دگره های هموفیلی وجود ندارد.

	مرد	زن	رخ نمود
ژن نمود	X ^H Y	X ^H X ^H	سالم
	—	X ^H X ^h	سالم
	X ^h Y	X ^h X ^h	هموفیل

جدول ۳- انواع ژن نمودها و رخ نمودها برای هموفیلی

فرد با ژن نمود X^HX^h که سالم است؛ **ناقل** نامیده می شود؛ زیرا می تواند ژن بیماری را به نسل بعد منتقل کند.

برای پیش بینی ژن نمودها و رخ نمودهای صفات وابسته به X در نسل های بعد، می توان همچنان از مربع پانت استفاده کرد. به مثال زیر توجه کنید.

مثال: مردی هموفیل قصد دارد با زنی ازدواج کند که سالم است و ناقل هم نیست. زن می خواهد بداند آیا ممکن است فرزند حاصل از این ازدواج، هموفیل باشد؟

ژن نمود مرد هموفیل X^hY و گامت هایی که تولید می کند X^h و Y است. ژن نمود زن سالم X^HX^H است و برای این صفت فقط یک نوع گامت، یعنی X^H تولید می کند. ژن نمودها و رخ نمودهای نسل های بعد را می توان به کمک مربع پانت یافت.

گامت ها	X ^h	Y
X ^H	X ^H X ^h دختر ناقل	X ^H Y پسر سالم

جدول ۴- ژن نمود و رخ نمود نسل بعد

بنابراین براساس جدول شماره ۴، فرزندان حاصل از این ازدواج هموفیل نخواهند بود.

مردی سالم قصد دارد با زنی هموفیل ازدواج کند. چه ژن نمود و رخ نمودهایی برای فرزندان آنان پیش بینی می کنید؟

فعّالیت ۲

صفات پیوسته و گسسته

اندازهٔ قد شما چقدر است؟ اگر از هم کلاسی‌های خود اندازهٔ قدشان را بپرسید، اعداد گوناگونی را خواهید شنید. اندازهٔ قد صفتی پیوسته است. آیا می‌توان گفت که Rh هم چنین است؟ در میان انسان‌ها، صفت Rh تنها به دو شکل مثبت و منفی دیده می‌شود؛ بنابراین Rh صفتی گسسته است.

صفات تک جایگاهی و چند جایگاهی

صفاتی که تا اینجا بررسی کردیم، صفاتی هستند که یک جایگاه ژن در فام‌تن دارند. برای مثال، دگره صفت گروه‌های خونی ABO یک جایگاه مشخص از فام‌تن ۹ را به خود اختصاص داده‌اند. چنین صفاتی را **تک جایگاهی** می‌نامیم.

در مقابل، صفاتی هستند که در بروز آنها بیش از یک جایگاه ژن شرکت دارد. رنگ نوعی ذرت مثالی از صفات **چند جایگاهی** است. رنگ این ذرت طیفی از سفید تا قرمز است (شکل ۸).



شکل ۸- رنگ‌های متفاوت ذرت

صفت رنگ در این نوع ذرت صفتی با سه جایگاه ژنی است که هر کدام دو دگره دارند. برای نشان دادن ژن‌ها در این سه جایگاه، از حروف بزرگ و کوچک A، B و C استفاده می‌کنیم. برحسب نوع ترکیب دگره‌ها، رنگ‌های مختلفی ایجاد می‌شود. دگره‌های بارز، رنگ قرمز و دگره‌های نهفته رنگ سفید را به وجود می‌آورند. بنابراین رخ‌نمودهای دو آستانهٔ طیف، یعنی قرمز و سفید به ترتیب ژن‌نمودهای AABBCc و aabbcc را دارند. در رخ‌نمودهای ناخالص، هرچه تعداد دگره‌های بارز بیشتر باشد، مقدار رنگ قرمز بیشتر است.

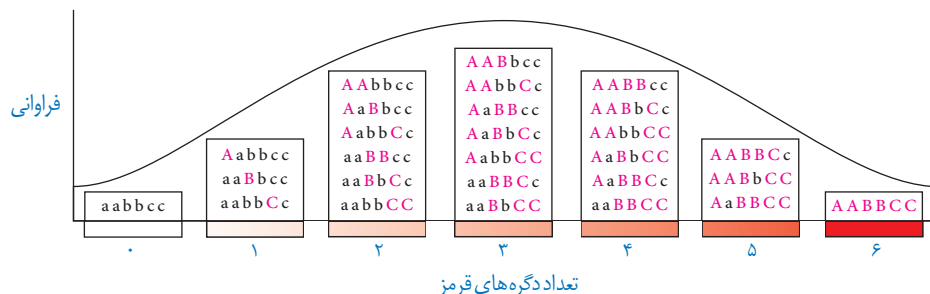
چنان که می بینیم صفات چندجایگاهی رخ نمودهای پیوسته ای دارند. یعنی افراد جمعیت این ذرت، در مجموع طیف پیوسته ای بین سفید و قرمز را به نمایش می گذارند. به همین علت، نمودار توزیع فراوانی این رخ نمودها شبیه زنگوله است.



aa bb cc



AA BB CC



شکل ۹- چگونگی تعیین رنگ در ذرت

اثر محیط

گاهی برای بروز یک رخ نمود تنها وجود ژن کافی نیست. برای مثال در گیاهان، ساخته شدن سبزینه علاوه بر ژن، به نور هم نیاز دارد. محیط انسان، شامل عوامل متعددی است. تغذیه و ورزش عواملی محیطی اند که می توانند بر ظهور رخ نمود اثر بگذارند. به عنوان مثال، قد انسان به تغذیه و ورزش هم بستگی دارد. بنابراین نمی توان تنها از روی ژن ها، علت اندازه قد یک نفر را توضیح داد.

مهار بیماری های ژنتیک

گرچه نمی توان بیماری های ژنتیک را در حال حاضر درمان کرد (مگر در موارد معدود) اما گاهی می توان با تغییر عوامل محیطی، عوارض بیماری های ژنی را مهار کرد. مثال این موضوع، بیماری فنیل کتونوری (PKU) است. در این بیماری آنزیمی که آمینواسید فنیل آلانین را می تواند تجزیه کند وجود ندارد. تجمع فنیل آلانین در بدن به ایجاد ترکیبات خطرناک منجر می شود. در این بیماری، مغز آسیب می بیند. خوشبختانه می توان از بروز این بیماری جلوگیری کرد. اما چگونه؟ علت این بیماری، تغذیه از پروتئین های حاوی فنیل آلانین است. پس با تغذیه نکردن از خوراکی هایی که فنیل آلانین دارند، می توان مانع بروز اثرات این بیماری شد.

فنیل کتونوری یک بیماری نهفته است. وقتی نوزاد متولد می شود، علائم آشکاری ندارد. در عین حال، تغذیه نوزاد مبتلا به فنیل کتونوری با شیر مادر (که حاوی فنیل آلانین است) به آسیب یاخته های مغزی او می انجامد. به همین علت، نوزادان را در بدو تولد از نظر ابتلای احتمالی به این بیماری، با انجام آزمایش

خون بررسی می کنند. در صورت ابتلا، نوزاد با شیرخشک هایی که فاقد فنیل آلانین است تغذیه می شود و در رژیم غذایی او برای آینده، از رژیم های بدون (یا کم) فنیل آلانین استفاده می شود (شکل ۱۰).



شکل ۱۰- خون گیری از نوزاد برای انجام آزمایش های بدو تولد

بیشتر بدانید

غذاهای مناسب و نامناسب برای بیماران PKU در شکل زیر نشان داده شده اند.

غذاهایی که فنیل آلانین زیاد دارند


گوشت / ماهی
شیر / لبنیات
لوییا / آجیل و حبوبات
تخم مرغ
نان گندم
غذاهای غنی از پروتئین



غذاهایی که فنیل آلانین کم دارند

انواعی از میوه ها و سبزیجات
نان و شیرینی های مخصوص





فصل ۴

تغییر در اطلاعات وراثتی

پایداری اطلاعات در سامانه‌های زنده، یکی از ویژگی‌های ماده وراثتی است اما در عین حال، ماده وراثتی به طور محدود تغییرپذیر است. این تغییرپذیری باعث ایجاد گوناگونی می‌شود و چنان که خواهیم دید توان بقای جمعیت‌ها را در شرایط متغیر محیط افزایش می‌دهد و زمینه تغییر گونه‌ها را فراهم می‌کند. در این فصل با انواع تغییرات ماده وراثتی و اثرات آن بر فرد، جمعیت و گونه آشنا خواهیم شد.



طرح سؤال‌های محاسباتی و طرح سؤال از توالی‌های رمز، رمز و آمینواسیدهای مربوط به آنها در همه آزمون‌ها از جمله کنکور سراسری ممنوع است.

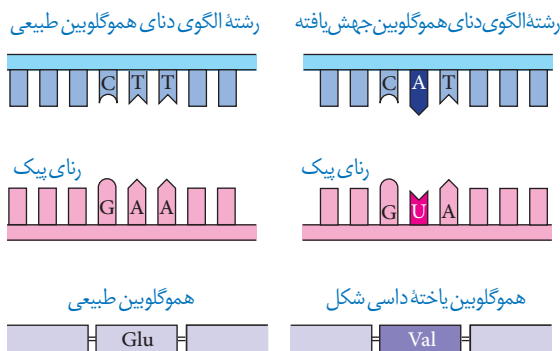


تغییرپذیری ماده وراثتی پیامدهای مختلفی دارد. تغییر، ممکن است «مفید»، «مضر» یا «خنثی» باشد. تغییر در ماده وراثتی چگونه رخ می‌دهد و چه چیزی پیامد آن را تعیین می‌کند؟ در ادامه به این سؤالات پاسخ خواهیم داد.

جهش

در فصل ۲ با کم‌خونی ناشی از گویچه‌های قرمز داسی شکل آشنا شدیم و دیدیم که علت این بیماری، تغییر شکل در مولکول‌های هموگلوبین است. علت این تغییر شکل چیست؟ دانشمندان با مقایسه آمینواسیدهای هموگلوبین‌های سالم و تغییر شکل یافته، دریافتند که این دو هموگلوبین فقط در ششمین آمینواسید از زنجیره بتا متفاوت اند.

مقایسه ژن‌های زنجیره بتای هموگلوبین در بیماران و افراد سالم نشان می‌دهد که در رمز مربوط به ششمین آمینواسید، نوکلئوتید A به جای T قرار گرفته است (شکل ۱). شگفتا که تغییر در یک نوکلئوتید از میلیون‌ها نوکلئوتید انسان، می‌تواند پیامدی این چنین وخیم را به دنبال داشته باشد. تغییر ماندگار در نوکلئوتیدهای ماده وراثتی را جهش می‌نامند.



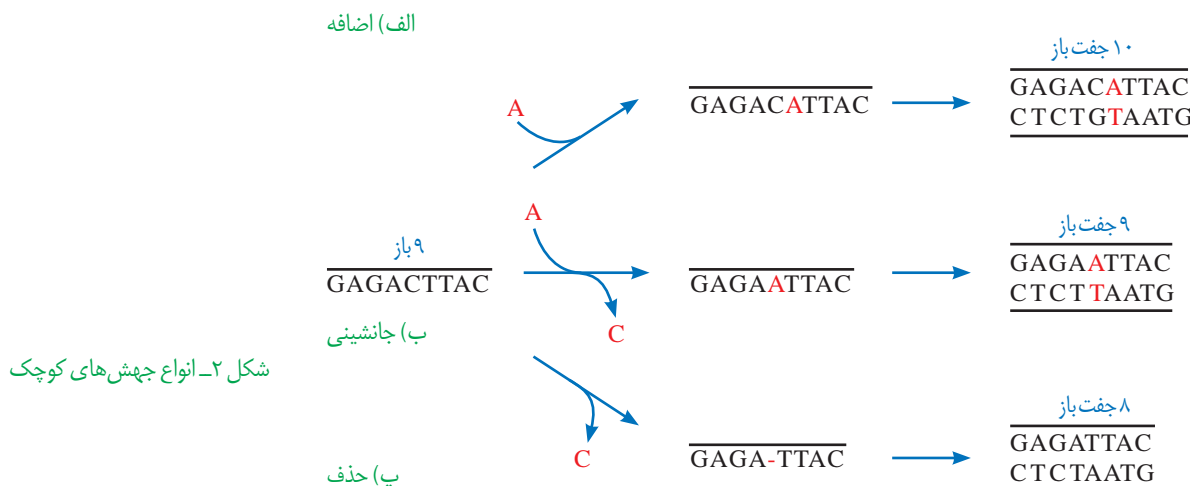
شکل ۱- مقایسه ژن‌های هموگلوبین در افراد سالم و بیمار. در این شکل فقط بخشی از ژن نشان داده شده است. Glu: گلوتامیک اسید و Val: والین

انواع جهش

در مثال بالا دیدیم که جهش در یک نوکلئوتید رخ داده است، اما جهش می‌تواند در اندازه بسیار وسیع‌تری هم رخ دهد. گاهی جهش آن قدر وسیع است که حتی ساختار یا تعداد فام‌تن را تغییر می‌دهد. بر همین اساس، جهش‌ها را به دو گروه کوچک و بزرگ تقسیم می‌کنند.

جهش‌های کوچک: این جهش‌ها یک یا چند نوکلئوتید را در برمی‌گیرند. انواع جهش‌های کوچک در شکل ۲ نشان داده شده‌اند. مثال یاخته‌های داسی شکل، نمونه‌ای از جهش کوچک است. در اینجا یک نوکلئوتید، جانشین نوکلئوتید دیگری شده است. این نوع جهش را **جانشینی** می‌نامند. از آن جایی که این جهش سبب تغییر در نوع آمینواسید در زنجیره پلی‌پپتیدی شده است؛ این نوع جهش جانشینی را **جهش دگر معنا** می‌نامند. به علت وجود رابطه مکملی بین بازها، تغییر در یک نوکلئوتید از یک رشته دنا،

نوکلئوتید مقابل آن را در رشته دیگر تغییر می دهد به همین علت، جانشینی در یک نوکلئوتید به جانشینی در یک جفت نوکلئوتید منجر می شود.



شکل ۲- انواع جهش های کوچک

نباید تصور کرد که جهش جانشینی همیشه باعث تغییر در توالی آمینواسیدها می شود. می دانید چرا؟ پاسخ این است که گاهی جهش، رمز یک آمینواسید را به رمز دیگری برای همان آمینواسید تبدیل می کند. این نوع جهش تأثیری بر توالی آمینواسیدها نخواهد گذاشت. چنین جهشی را **جهش خاموش** می نامند. این امکان وجود دارد که جهش جانشینی رمز یک آمینواسید را به رمز پایان ترجمه تبدیل کند که در این صورت پلی پپتید حاصل از آن، کوتاه خواهد شد به این جهش، **جهش بی معنا** می گویند (شکل ۳).

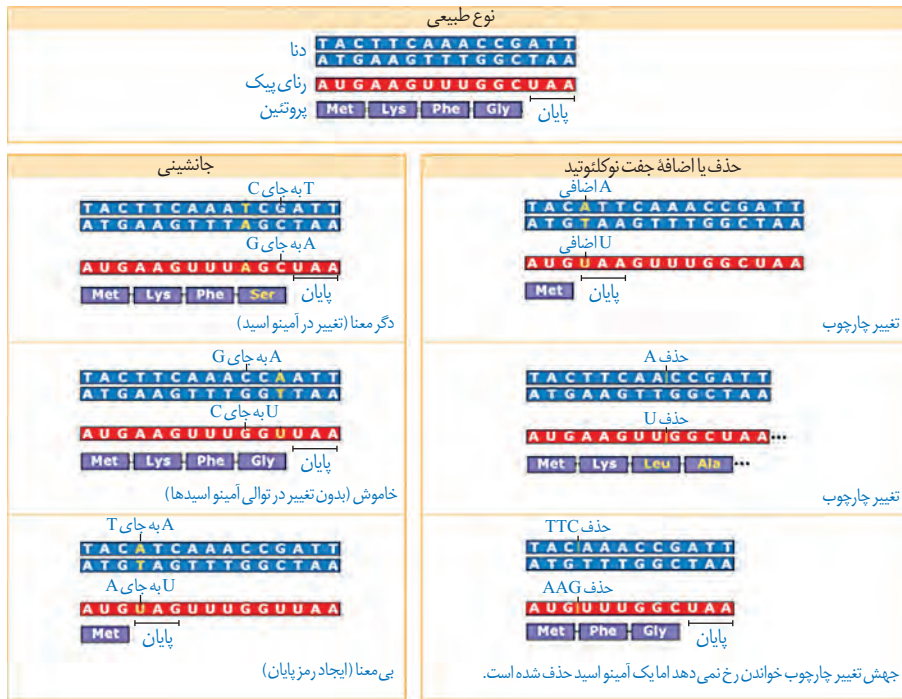
جهش های **اضافه و حذف**، انواع دیگر جهش های کوچک اند. در این جهش ها به ترتیب یک یا چند نوکلئوتید اضافه یا حذف می شود. نتیجه این جهش ها چیست؟ می دانیم که رمز دنا به صورت دسته های سه تایی از نوکلئوتیدها خوانده می شود. اگر نوکلئوتیدی اضافه یا حذف شود ممکن است پیامد وخیمی داشته باشد. برای درک بهتر موضوع، به این مثال توجه کنید. جمله «این سیب سرخ است» را که با کلمات سه حرفی نوشته شده است، به صورت زیر در نظر بگیرید:

ای ن / سی ب / سرخ / است

اگر یک حرف به جایی درون این جمله اضافه شود چگونه خوانده می شود؟ قرار است این جمله را همچنان به صورت کلمات سه حرفی بخوانیم:

ای ن / ر سی ب / سرخ / است

می بینیم که جمله معنای خود را از دست می دهد. جهش های از نوع اضافه و حذف را که باعث چنین تغییری در خواندن می شوند، **جهش تغییر چارچوب خواندن** می نامند. در شکل ۳، تأثیر این جهش بر توالی یک پروتئین فرضی نشان داده شده است. همان طور که در شکل ۳ می بینید، جهش های اضافه و حذف، الزاماً به تغییر چارچوب خواندن نمی انجامند.



شکل ۳- تأثیر جهش بر پروتئین

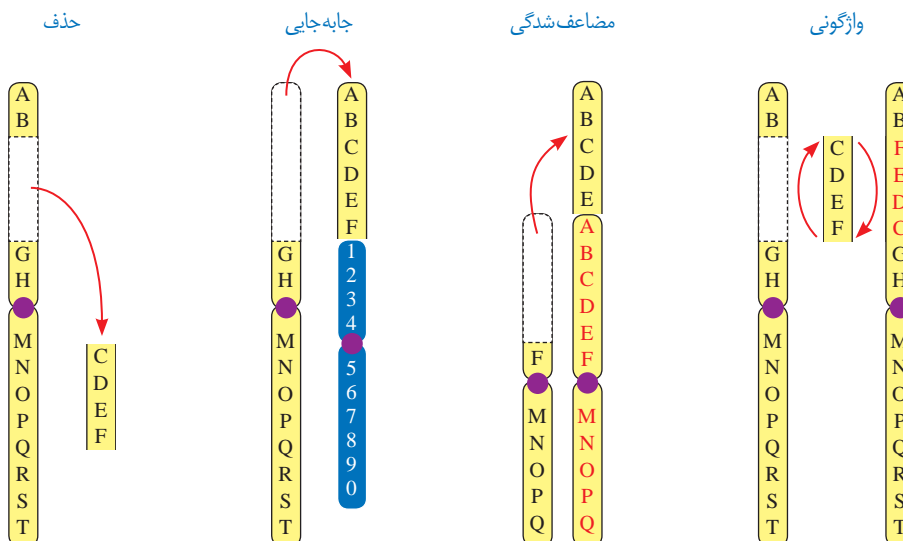
فعالیت ۱

الف) در چه صورت طول یک رشته پلی پپتیدی ممکن است افزایش یابد؟
ب) اگر تعداد نوکلئوتیدهای اضافه یا حذف شده مضر بی از سه باشد، چه پیامدی مورد انتظار است؟

جهش های بزرگ (ناهنجاری های فام تنی): جهش ممکن است در مقیاس وسیع تری رخ دهد تا جایی که به **ناهنجاری های فام تنی** منجر شود. زیست شناسان با مشاهده کاربوتیپ می توانند از وجود چنین ناهنجاری هایی آگاه شوند.

در سال گذشته با نشانگان داون آشنا شدید. می دانید که مبتلایان به این بیماری یک فام تن ۲۱ اضافی دارند. تغییر در تعداد فام تن ها را **ناهنجاری عددی** در فام تن ها می نامند.

نوع دیگری از ناهنجاری فام تنی، **ناهنجاری ساختاری** است. انواع این جهش ها در شکل ۴ نشان داده شده اند.



شکل ۴- انواع ناهنجاری های ساختاری در فام تن ها

همان طور که در شکل می بینید، ممکن است قسمتی از فام تن از دست برود که به آن **حذف** می گویند. جهش های فام تنی حذفی غالباً باعث مرگ می شوند. **جابه جایی**، نوع دیگری از ناهنجاری فام تنی است که در آن قسمتی از یک فام تن به فام تن غیرهمتا یا حتی بخش دیگری از همان فام تن منتقل می شود. اگر قسمتی از یک فام تن به فام تن همتا جابه جا شود، آن گاه در فام تن همتا، از آن قسمت دو نسخه دیده می شود. به این جهش، **مضاعف شدگی** می گویند. نوع دیگری از ناهنجاری های فام تنی، **واژگونی** است که در آن جهت قرارگیری قسمتی از یک فام تن در جای خود معکوس می شود.

پیامدهای جهش

تأثیر جهش به عوامل مختلفی بستگی دارد. یکی از این عوامل، محل وقوع جهش در **ژنگان (ژنوم)** است. ژنگان به کل محتوای ماده وراثتی گفته می شود و برابر است با مجموع محتوای ماده وراثتی هسته ای و سیتوپلاسمی. طبق قرارداد، ژنگان هسته ای را معادل مجموعه ای شامل یک نسخه از هر یک از انواع فام تن ها در نظر می گیرند. ژنگان هسته ای انسان شامل ۲۲ فام تن غیرجنسی و فام تن های جنسی X و Y است. دنا را کیزه، ژنگان سیتوپلاسمی را در ژنگان انسان تشکیل می دهد.

ژن ها فقط بخشی از ژنگان اند. ممکن است جهش در توالی های بین ژنی رخ دهد. در این صورت بر توالی محصول ژن، اثری نخواهد گذاشت. اگر جهش درون ژن رخ دهد، آن گاه پیامدهای آن مختلف خواهد بود. آنزیمی را در نظر بگیرید که در ژن آن جهش جانمایی رخ داده و رمز یک آمینواسید را به آمینواسید دیگری تبدیل کرده است. آیا این جهش باعث تغییر در عملکرد آنزیم خواهد شد؟ پاسخ این سؤال به محل وقوع تغییر در آنزیم بستگی دارد. اگر جهش باعث تغییر در جایگاه فعال آنزیم شود، آن گاه احتمال تغییر عملکرد آنزیم بسیار زیاد است. اما اگر جهش در جایی دور از جایگاه فعال رخ دهد، به طوری که بر آن اثری نگذارد، احتمال تغییر در عملکرد آنزیم کم یا حتی صفر است.

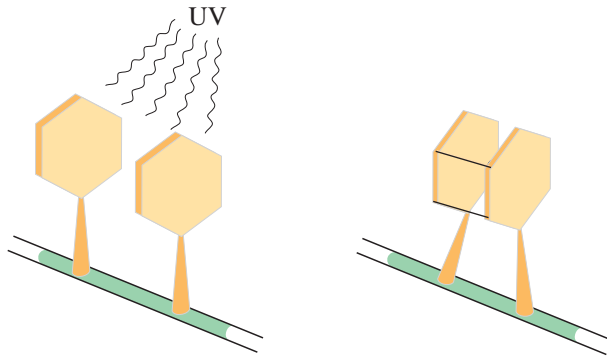
گاهی جهش در یکی از توالی های تنظیمی رخ می دهد، مثلاً در راه انداز یا افزایش دهنده. این جهش بر توالی پروتئین اثری نخواهد داشت بلکه بر «مقدار» آن تأثیر می گذارد. جهش در راه انداز، ممکن است آن را به راه اندازی قوی تر یا ضعیف تر تبدیل کند و با اثر بر میزان رونویسی از ژن، محصول آن را نیز بیشتر یا کمتر کند.

علت جهش

گرچه سازوکارهای دقیقی برای اطمینان از صحت همانندسازی دنا وجود دارد اما با وجود اینها، گاهی در همانندسازی خطاهایی رخ می دهد که باعث جهش می شوند. جهش، تحت اثر **عوامل جهش زا** هم رخ می دهد. عوامل جهش زا را می توان به دو دسته فیزیکی و شیمیایی تقسیم کرد. پرتو فرابنفش یکی از عوامل جهش زای فیزیکی است. این پرتو، که در نور خورشید وجود دارد، باعث تشکیل پیوند بین دو تیمین مجاور هم در دنا می شود که به آن **دوپار (دیمر) تیمین** می گویند (شکل ۵). دوپار تیمین با ایجاد اختلال در عملکرد آنزیم دنا بسپاراز، همانندسازی دنا را با مشکل مواجه می کند. از مواد شیمیایی جهش زا می توان به بنزوپیرن اشاره کرد که در دود سیگار وجود

دارد و جهشی ایجاد می کند که به سرطان منجر می شود.

جهش ارثی یا اکتسابی است. جهش ارثی از یک یا هر دو والد به فرزند می رسد. این جهش در گامت ها وجود دارد که پس از لقاح، جهش را به تخم منتقل می کنند. در این صورت همه یاخته های حاصل از آن تخم، دارای آن جهش اند. جهش اکتسابی از محیط کسب می شود. مثلاً سیگار کشیدن می تواند باعث ایجاد جهش در یاخته های دستگاه تنفس شود.



شکل ۵- تشکیل دوپار تیمین

سبک زندگی و تغذیه سالم نقش مهمی در پیشگیری از سرطان دارند. ورزش و وزن مناسب، از عوامل مهم در حفظ سلامت اند. در سال های قبل دیدید که غذاهای گیاهی که پاد اکسنده و الیاف دارند در پیشگیری از سرطان مؤثرند. در عین حال، شیوه فرآوری و پخت غذا بر سلامت آن اثر می گذارد. تحقیقات نشان داده است در مناطقی که مصرف غذاهای نمک سود یا دودی شده رایج است، سرطان شیوع بیشتری دارد. همچنین، ارتباط بعضی از سرطان ها با مصرف زیاد غذاهای کباب شده یا سرخ شده مشخص شده است. گزارش های متعددی در دست است که نشان می دهد ترکیبات نیتريت دار مانند سدیم نیتريت، که برای ماندگاری محصولات پروتئینی مثل سوسیس و کالباس به آنها اضافه می شود، در بدن به ترکیباتی تبدیل می شوند که تحت شرایطی قابلیت سرطان زایی دارند. بنابراین مصرف زیاد چنین مواد غذایی از عوامل ایجاد سرطان است.

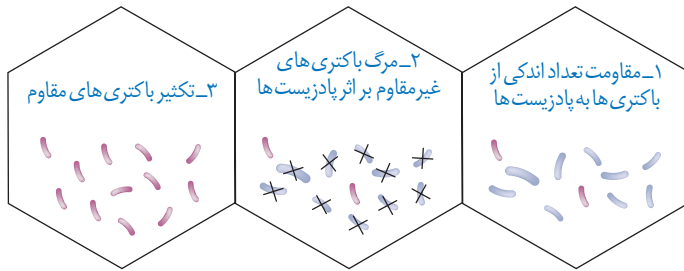
بعد از کشف پادزیست (آنتی‌بیوتیک)‌ها در نیمه قرن گذشته، آدمی به یکی از کارآمدترین ابزارهای دفاعی در برابر باکتری‌های بیماری‌زا مجهز شد و توانست در نبرد با آنها پیروز شود. با این وجود، مدتی است که از گوشه و کنار دنیا خبر می‌رسد باکتری‌ها نسبت به پادزیست‌ها مقاوم شده‌اند. گرچه دانشمندان با طراحی داروهای جدید، برتری انسان را در این نبرد همچنان حفظ کرده‌اند اما در عین حال، روند مقاوم شدن باکتری‌ها آدمی را سخت نگران کرده است. مقاوم شدن باکتری‌ها نسبت به داروها، یکی از مثال‌هایی است که نشان می‌دهد «موجودات زنده می‌توانند در گذر زمان تغییر کنند». این تغییر چگونه رخ می‌دهد؟

تغییر در گذر زمان

به انسان‌های اطراف خود نگاه کنید. همه انسان‌ها ویژگی‌های مشترکی دارند که باعث می‌شود آنان را در گروهی به نام «انسان‌ها» قرار دهیم. در عین حال، در میان انسان‌ها «تفاوت‌های فردی» نیز وجود دارد که باعث شناخت آنها از یکدیگر می‌شود. تفاوت‌های فردی منحصر به انسان نیست. در میان افراد گونه‌های دیگر هم تفاوت‌های فردی مشاهده می‌شود.

تفاوت‌های فردی چگونه می‌تواند در پایداری گونه مؤثر باشد؟ این سؤال را با ذکر مثالی پاسخ می‌دهیم. فرض کنید در نوعی از جانوران، افراد تحمل متفاوتی نسبت به سرما دارند؛ یعنی بعضی‌ها می‌توانند سرما را تحمل کنند. اگر سرمای شدیدی رخ دهد، آنان که سرما را تحمل می‌کنند شانس بیشتری برای زنده ماندن دارند. بنابراین، این افراد، بیشتر از دیگران تولیدمثل می‌کنند و در نتیجه صفت تحمل سرما، بیش از گذشته، به نسل بعد منتقل می‌شود. اگر سرما همچنان ادامه یابد، باز هم آنها که سرما را تحمل می‌کنند، شانس بیشتری برای تولیدمثل و انتقال صفت به نسل‌های بعد را خواهند داشت. بنابراین، بعد از مدتی با جمعیتی روبه‌رو خواهیم شد که در آن، تعداد افرادی که سرما را تحمل می‌کنند در مقایسه با جمعیت اول، بیشتر است و این یعنی تغییر در جمعیت.

مثال ساده‌ای که در بالا عنوان شد، نشان می‌دهد که برای تغییر، شرایطی لازم است. یکی از این شرایط، وجود تفاوت‌های فردی است. وقتی تفاوت فردی هست، این سؤال پیش می‌آید که کدام تفاوت‌ها بهترند. در مثال ما، آنها که سرما را تحمل می‌کردند، در مقایسه با بقیه، شانس بیشتری برای زنده ماندن داشتند. با کمی دقت متوجه می‌شویم که این «بهتر» بودن یک صفت همیشگی نیست؛ بلکه شرایط محیط تعیین‌کننده صفات بهتر است. اگر هوا به جای سرد شدن گرم می‌شد، آن‌گاه افراد دیگری شانس زنده ماندن داشتند. بنابراین، زیست‌شناسان از واژه «صفت بهتر» استفاده نمی‌کنند بلکه به جای آن می‌گویند «صفت سازگارتر با محیط». به روشنی دیده می‌شود این، «محیط» است که تعیین می‌کند کدام صفات با فراوانی بیشتری به نسل بعد منتقل شوند. این فرایند را که در آن افراد سازگارتر با محیط انتخاب می‌شوند، یعنی آنهایی که شانس بیشتری برای زنده ماندن و تولیدمثل دارند، **انتخاب طبیعی** می‌نامند.



شکل ۶- چگونگی مقاوم شدن باکتری‌ها به پادزیست

انتخاب طبیعی می‌تواند علت مقاوم شدن باکتری‌ها به پادزیست‌ها را نیز توضیح دهد (شکل ۶). در این مثال باکتری‌های غیرمقاوم از بین می‌روند و باکتری‌های مقاوم تکثیر می‌شوند و به تدریج همه جمعیت را به خود اختصاص می‌دهند؛ در نتیجه جمعیت از غیرمقاوم به مقاوم تغییر می‌یابد. وقتی از تفاوت‌های فردی سخن می‌گوییم در واقع در حال بررسی جمعیتی از افراد هستیم نه یک فرد. انتخاب طبیعی «جمعیت» را تغییر می‌دهد نه «فرد» را. جمعیت، به افرادی گفته می‌شود که به یک گونه تعلق دارند و در یک زمان و مکان زندگی می‌کنند.

بیشتر بدانید

ابوریحان بیرونی، در کتاب تحقیق ماللهند، نخستین دانشمندی است که تغییر گونه‌ها را توصیف می‌کند. چالرز داروین (Charles Robert Darwin) و آلفردوالاس (Alfred Russel Wallace) مستقل از یکدیگر سازوکار انتخاب طبیعی را برای تغییرگونه‌ها ارائه کردند.

خزانه ژن

قبل از کشف مفاهیم پایه ژنتیک، زیست‌شناسان جمعیت را بر اساس صفات ظاهری توصیف می‌کردند. مثل گوناگونی رنگ بدن در یک جمعیت جانوری یا گوناگونی رنگ گلبرگ در یک جمعیت گیاهی. با شناخت ژن‌ها، این امکان فراهم شد که زیست‌شناسان، جمعیت را بر اساس ژن‌های آن توصیف کنند. مجموع همهٔ دگره‌های موجود در همهٔ جایگاه‌های ژنی افراد یک جمعیت را **خزانه ژن** آن جمعیت می‌نامند.

تعادل در جمعیت

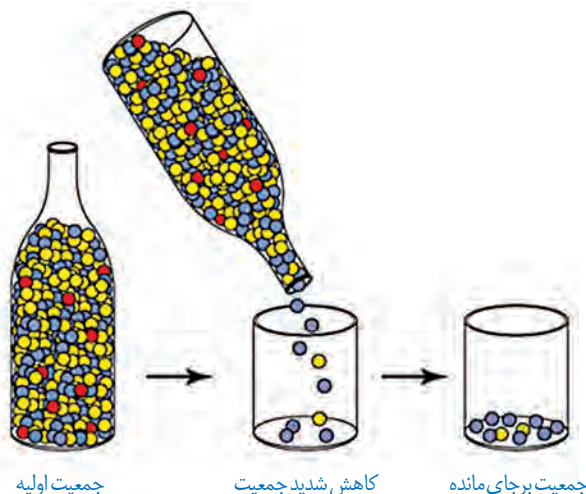
اگر در جمعیتی فراوانی نسبی دگره‌ها یا ژن‌نمودها از نسلی به نسل دیگر ثابت باشد، آن‌گاه می‌گویند جمعیت در **حال تعادل ژنی** است. تا وقتی جمعیت در حال تعادل است، تغییر در آن، مورد انتظار نیست. اگر جمعیت از تعادل خارج شود، روند تغییر را در پیش گرفته است. عوامل زیر باعث می‌شوند جمعیت از حال تعادل خارج شود.

الف) جهش: یک باکتری را در نظر بگیرید که هر ۲۰ دقیقه تقسیم می‌شود. اگر جهش رخ دهد، آن‌گاه دگره‌های جدیدی ایجاد می‌شوند که این یعنی تغییر در فراوانی نسبی دگره‌ها. جهش، با افزودن دگره‌های جدید، خزانه ژن را غنی‌تر می‌کند و گوناگونی را افزایش می‌دهد. بسیاری از جهش‌ها تأثیری فوری بر رخ نمود ندارند و بنابراین ممکن است تشخیص داده نشوند. اما با تغییر شرایط محیط ممکن است دگرهٔ جدید، سازگارتر از دگره یا دگره‌های قبلی عمل کند.

ب) رانش دگره‌ای: فرض کنید گله‌ای شامل ۱۰۰ گوسفند در حال عبور از ارتفاعات است. حین عبور، تعدادی گوسفند به پایین سقوط می‌کنند و می‌میرند. اگر این گوسفندان زاده‌ای نداشته باشند، شانس انتقال ژن‌های خود به نسل بعد را از دست داده‌اند. به فرایندی که باعث تغییر فراوانی دگره‌ای بر

اثر رویدادهای تصادفی می شود، **رانش دگره‌ای** می گویند. رانش دگره‌ای گرچه فراوانی دگره‌ها را تغییر می دهد اما برخلاف انتخاب طبیعی به سازش نمی انجامد.

به مثال دیگری توجه کنید. گاهی در حوادثی نظیر سیل، زلزله، آتش سوزی و نظایر آن، تعداد آنهایی که می میرند ممکن است بیش از آنهایی باشند که زنده می مانند. بنابراین فقط بخشی از دگره‌های جمعیت بزرگ اولیه به جمعیت کوچک باقی مانده خواهد رسید و جمعیت آینده از همین دگره‌های برجای مانده تشکیل خواهند شد (شکل ۷). در این صورت نیز فراوانی دگره‌ها تغییر می کند اما این تغییر در فراوانی، ارتباطی با سازگاری آنها با محیط و انتخاب طبیعی ندارد.



جمعیت اولیه

کاهش شدید جمعیت

جمعیت برجای مانده

شکل ۷- کاهش شدید در اندازه جمعیت باعث تغییر فراوانی‌های دگره‌ای می شود.

هرچه اندازه یک جمعیت کوچک تر باشد، رانش دگره‌ای اثر بیشتری دارد. به همین علت، برای آنکه جمعیتی در تعادل باشد، باید اندازه بزرگی داشته باشد. منظور از اندازه جمعیت، تعداد افراد آن است. **پ) شارش ژن:** وقتی افرادی از یک جمعیت به جمعیت دیگری مهاجرت می کنند، در واقع تعدادی از دگره‌های جمعیت

مبدأ را به جمعیت مقصد وارد می کنند و سبب تغییر در فراوانی نسبی دگره‌های هر دو جمعیت می شود. به این پدیده، **شارش ژن** می گویند. اگر بین دو جمعیت، شارش ژن به طور پیوسته و دوسویه ادامه یابد، سرانجام خزانه ژن دو جمعیت به هم شبیه می شود.

ت) آمیزش غیرتصادفی: برای آنکه جمعیتی در حال تعادل باشد، لازم است آمیزش‌ها در آن تصادفی باشند. آمیزش تصادفی آمیزشی است که در آن احتمال آمیزش هر فرد با افراد جنس دیگر در آن جمعیت یکسان باشد. اگر آمیزش‌ها به رخ نمود یا ژن نمود بستگی داشته باشد دیگر تصادفی نیست و فراوانی نسبی ژن نمودها را تغییر می دهد. برای مثال، جانوران جفت خود را بر اساس ویژگی‌های ظاهری و رفتاری «انتخاب» می کنند (فصل ۸).

ث) انتخاب طبیعی: انتخاب طبیعی فراوانی دگره‌ها را در خزانه ژنی تغییر می دهد. انتخاب طبیعی افراد سازگارتر با محیط را برمی گزیند و از فراوانی دیگر افراد می کاهد. به این ترتیب، خزانه ژن نسل آینده دستخوش تغییر می شود. در مثال ابتدای این گفتار، دیدیم که چگونه در نتیجه انتخاب طبیعی، بعضی از باکتری‌ها نسبت به تغییر شرایط (حضور پادزیست‌ها) سازش پیدا کرده اند.

تداوم گوناگونی در جمعیت‌ها

دانستیم که نتیجه انتخاب طبیعی، سازگاری بیشتر جمعیت با محیط است. با انتخاب شدن افراد سازگارتر، تفاوت‌های فردی و در نتیجه گوناگونی کاهش می یابد. از سوی دیگر، دیدیم که گوناگونی در میان افراد یک جمعیت، توانایی بقای جمعیت را در شرایط محیطی جدید بالا می برد. از این رو به سازوکارهایی نیاز است که با وجود انتخاب طبیعی، گوناگونی تداوم داشته باشد. در ادامه، این سازوکارها را بررسی می کنیم.

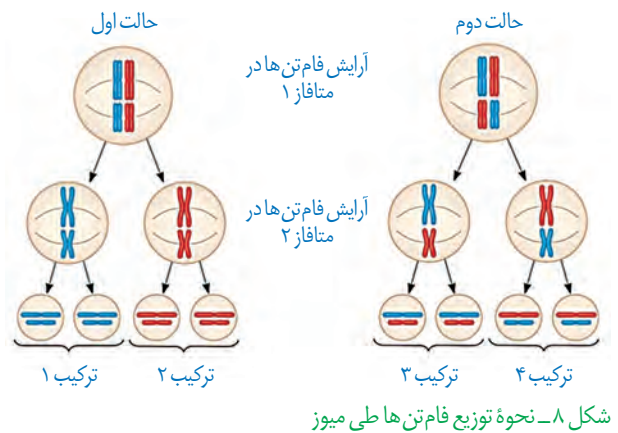
الف) گوناگونی دگره‌ای در گامت‌ها: در تولیدمثل جنسی، هر والد از طریق گامت‌هایی که می سازد، نیمی از فام تن‌های خود را به نسل بعد منتقل می کند. اینکه هر گامت کدام یک از فام تن‌ها را منتقل می کند به آرایش

چهار تابه‌ها (تتراده‌ها) در میوز ۱ بستگی دارد. در متافاز میوز ۱، فام‌تن‌ها با آرایش‌های مختلفی ممکن است در سطح میانی یاخته قرار گیرند که به ایجاد گامت‌های مختلف می‌انجامد. در شکل ۸ نحوه توزیع فام‌تن‌ها طی میوز نشان داده شده است.

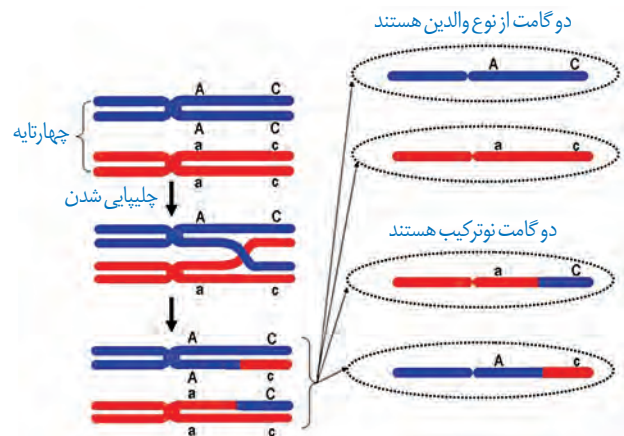
(ب) نوترکیبی: در میوز ۱، هنگام جفت شدن فام‌تن‌های هم‌تای و ایجاد چهار تابه، ممکن است قطعه‌ای از فام‌تن بین فامینک‌های غیرخواهری مبادله شود. این پدیده را **چلیپایی شدن (کراسینگ اور)** می‌گویند. اگر قطعات مبادله شده حاوی دگره‌های متفاوتی باشند، ترکیب جدیدی از دگره‌ها در این دو فامینک به وجود می‌آید و به آنها فامینک‌های **نوترکیب** می‌گویند. از میان گامت‌ها، آنهایی که فامینک‌های نوترکیب را دریافت می‌کنند، **گامت نوترکیب** نامیده می‌شوند (شکل ۹).

(پ) اهمیت ناخالص‌ها: اهمیت ناخالص‌ها در تداوم گوناگونی را می‌توان به وسیله بیماری کم‌خونی ناشی از گویچه‌های قرمز داسی‌شکل نیز نشان داد. افراد مبتلا به بیماری گویچه‌های قرمز داسی‌شکل ژن نمود $Hb^S Hb^S$ دارند و در سنین پایین معمولاً می‌میرند. ژن نمود ناخالص‌ها $Hb^A Hb^S$ است و وضع بهتری دارند. گویچه‌های قرمز آنها فقط هنگامی داسی‌شکل می‌شوند که مقدار اکسیژن محیط کم باشد.

ژن‌شناسان با مطالعه توزیع این بیماری در جهان دریافته‌اند که فراوانی دگره Hb^S در مناطقی که مالاریا شایع است، بسیار بیشتر از سایر مناطق است. بیماری مالاریا به وسیله نوعی انگل تک یاخته‌ای ایجاد می‌شود که بخشی از چرخه زندگی خود را در گویچه‌های قرمز می‌گذراند. افرادی که گویچه سالم دارند، یعنی $Hb^A Hb^A$ هستند، در معرض خطر ابتلا به مالاریا قرار دارند. این انگل نمی‌تواند در افراد $Hb^A Hb^S$ سبب بیماری شود، پس افراد $Hb^A Hb^S$ در برابر مالاریا مقاوم‌اند. بنابراین، وجود دگره Hb^S در این منطقه باعث بقای جمعیت می‌شود؛ حال آنکه این دگره در سایر مناطق، دگره مناسبی نیست. این مثال، مثال خوبی است که نشان می‌دهد شرایط محیطی، تعیین‌کننده صفتی است که حفظ می‌شود.



شکل ۸- نحوه توزیع فام‌تن‌ها طی میوز



شکل ۹- نوترکیبی بر اثر چلیپایی شدن



بیشتر بدانید

نقشه پراکنش جغرافیایی انگل مالاریا و بیماری کم‌خونی ناشی از گویچه‌های قرمز داسی در آفریقا.

گونه‌های بسیاری روی کره زمین زندگی می‌کنند. آیا این گونه‌ها در گذشته‌های دور هم وجود داشته‌اند؟ یا اینکه در طول زمان پدید آمده‌اند؟

شواهد تغییر گونه‌ها

شواهدی وجود دارند که نشان می‌دهند گونه‌ها در طول زمان تغییر کرده‌اند. در ادامه به این شواهد می‌پردازیم.

الف) سنگواره‌ها: در سال‌های قبل، با انواع سنگواره‌ها و نحوه تشکیل آنها آشنا شده‌اید. به یاد دارید که سنگواره عبارت بود از بقایای یک جاندار یا آثاری از جاننداری که در گذشته دور زندگی می‌کرده است. سنگواره معمولاً حاوی قسمت‌های سخت بدن جانداران (مثل استخوان‌ها یا اسکلت خارجی) است. گاهی ممکن است کل یک جاندار سنگواره شده باشد مثل ماموت‌های منجمد شده‌ای که همه قسمت‌های بدن آنها، حتی پوست و مو، حفظ شده‌اند یا حشراتی که در رزین‌های گیاهان به دام افتاده‌اند. سنگواره‌ها اطلاعات فراوانی به ما می‌دهند. **دیرینه‌شناسان**، که به مطالعه سنگواره‌ها می‌پردازند، دریافته‌اند که در گذشته جاندارانی زندگی می‌کرده‌اند که امروز دیگر نیستند، مثل دایناسورها. در مقابل، جاندارانی هم هستند که امروز زندگی می‌کنند، اما در گذشته زندگی نمی‌کرده‌اند مثل گل لاله یا گربه. در این میان، گونه‌هایی هم هستند که از گذشته‌های دور تا زمان حال زندگی کرده‌اند مثل درخت گیسو. شواهد سنگواره‌ای نشان می‌دهند که این درخت در ۱۷۰ میلیون سال پیش هم وجود داشته است (شکل ۱۰).

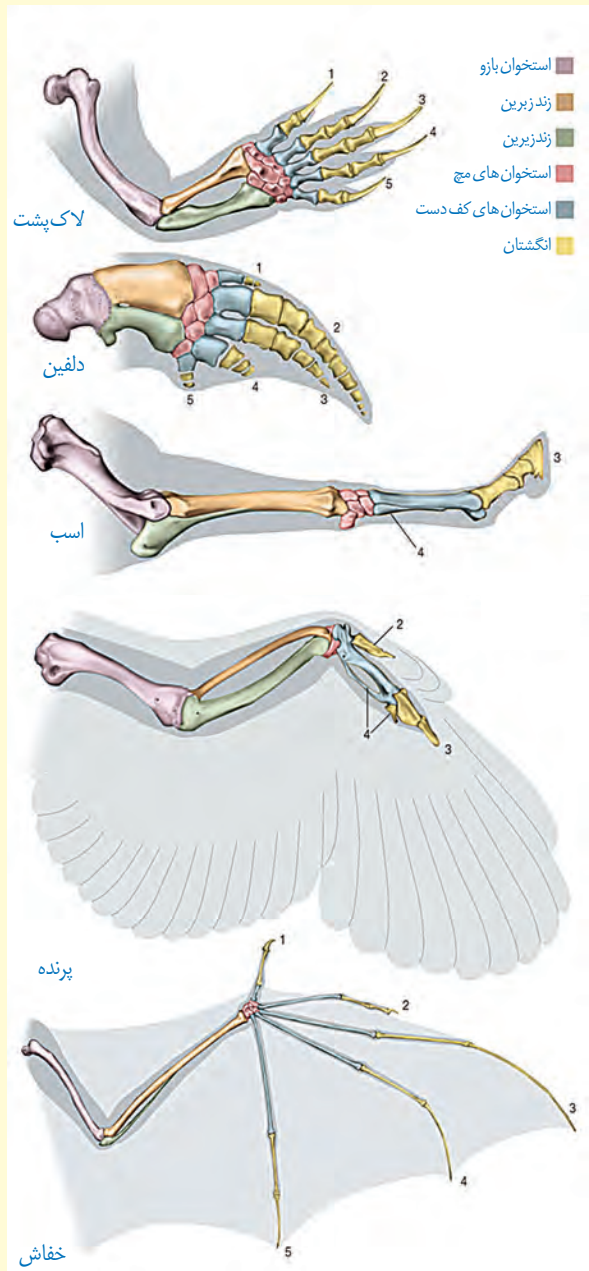


شکل ۱۰- برگ درخت گیسو و سنگواره آن

دیرینه‌شناسان قادرند عمر یک سنگواره را تعیین کنند. آنان اکنون می‌دانند که در هر زمان، چه جاندارانی وجود داشته‌اند. در مجموع، سنگواره‌ها نشان می‌دهند که در زمان‌های مختلف، زندگی به شکل‌های مختلفی جریان داشته است.

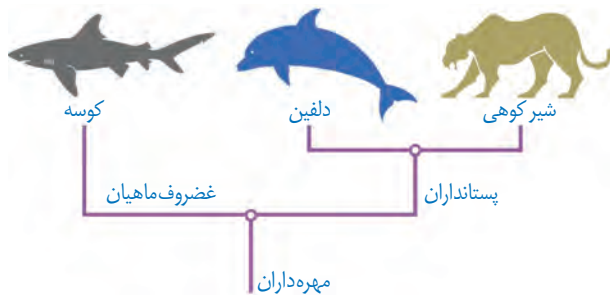
ساختارهای همتا

طرح ساختاری یکسان در اندام حرکتی جلویی بعضی از مهره‌داران



ب) تشریح مقایسه‌ای: در تشریح مقایسه‌ای اجزای پیکر جانداران گونه‌های مختلف با یکدیگر مقایسه می‌شود. این مقایسه نشان می‌دهد که ساختار بدنی بعضی گونه‌ها از طرح مشابهی برخوردار است. مقایسه اندام حرکتی جلویی در مهره‌داران مختلف، از طرح ساختاری یکسان حکایت دارد. اندام‌هایی را که طرح ساختاری آنها یکسان است، حتی اگر کار متفاوتی انجام دهند، «اندام‌ها یا ساختارهای همتا» می‌نامند. دست انسان، بال پرنده، باله دلفین و دست گربه مثال‌هایی از اندام‌های همتا هستند.

علت وجود ساختارهای همتا در گونه‌های متفاوت چیست؟ زیست‌شناسان بر این باورند که این گونه‌ها، نیای مشترکی دارند یعنی اینکه در گذشته از گونه مشترکی مشتق شده‌اند (شکل ۱۱)، به همین علت این شباهت‌ها میان آنها دیده می‌شود. گونه‌هایی را که نیای مشترکی دارند **گونه‌های خویشاوند** می‌گویند.



شکل ۱۱- نیای مشترک و گونه‌های خویشاوند. از خویشاوندی موجودات زنده در رده‌بندی هم استفاده می‌شود. دلفین با شیر کوهی خویشاوندی نزدیک‌تری دارد تا با کوسه. بنابراین دلفین و شیر کوهی در یک گروه قرار می‌گیرند.

زیست‌شناسان از ساختارهای همتا برای رده‌بندی جانداران استفاده می‌کنند و جانداران خویشاوند را در یک گروه قرار می‌دهند. ساختارهایی را که کار یکسان اما طرح ساختاری متفاوت دارند، **ساختارهای آنالوگ** می‌نامند. بال کبوتر و بال پروانه آنالوگ‌اند چون هر دو برای پرواز کردن‌اند (کار یکسان) گرچه ساختارهای متفاوتی دارند. این ساختارها نشان می‌دهند که برای پاسخ به یک نیاز، جانداران به روش‌های مختلفی سازش پیدا کرده‌اند. تشریح مقایسه‌ای علاوه بر آشکار کردن خویشاوندی گونه‌ها، اطلاعات دیگری را نیز فراهم می‌کند. وقتی گونه‌های مختلف را



شکل ۱۲- بقایای پا در مار پیتون

مقایسه می‌کنیم، گاهی به ساختارهایی برمی‌خوریم که در یک عده بسیار کارآمد هستند اما در عده دیگر، کوچک یا ساده شده و حتی ممکن است فاقد کار خاصی باشند. این ساختارهای کوچک، ساده یا ضعیف شده را ساختارهای **وستیجیال** (به معنی ردپا) می‌نامیم. مار پیتون با اینکه پا ندارد اما بقایای پا در لگن آن به صورت وستیجیال موجود است و این حاکی از وجود رابطه‌ای میان آن و دیگر مهره‌داران است (شکل ۱۲).

در واقع ساختارهای وستیجیال ردپای «تغییر گونه‌ها» هستند. شواهد متعددی در دست است که نشان می‌دهد مارها از تغییر یافتن سوسمارها پدید آمده‌اند.

(پ) مطالعات مولکولی: مقایسه گونه‌ها را می‌توان در تراز ژنگان هم انجام داد. از این مقایسه، اطلاعات ارزشمندی به دست می‌آید. مثلاً اینکه کدام ژن‌ها در بین گونه‌ها مشترک‌اند و کدام ژن‌ها ویژگی‌های خاص یک گونه را باعث می‌شوند. همچنین، زیست‌شناسان از مقایسه بین دنا‌ی جانداران مختلف برای تشخیص خویشاوندی آنها استفاده می‌کنند. هرچه بین دنا‌ی دو جاندار شباهت بیشتری وجود داشته باشد، خویشاوندی نزدیک‌تری دارند. همچنین می‌توان به تاریخچه تغییر آنها پی برد. توالی‌هایی از دنا را که در بین گونه‌های مختلف دیده می‌شوند **توالی‌های حفظ شده** می‌نامند.

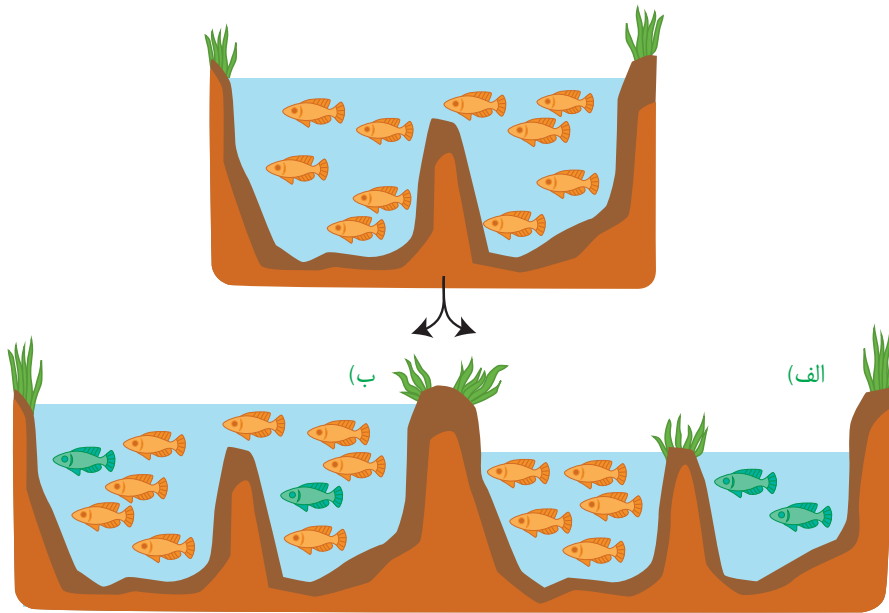
بیشتر بدانید

توالی‌های حفظ شده در ژن یکی از پروتئین‌های باکتریایی. در بخش‌های قرمز، توالی‌ها کاملاً حفظ شده‌اند اما در بخش‌های زرد، کمتر حفظ شده‌اند. زیست‌شناسان در برخورد با ساختار یا توالی‌های حفظ شده از خود می‌پرسند این ساختار یا توالی چه اهمیت ویژه‌ای داشته است که همچنان حفظ شده و تغییر نکرده است؟ مثلاً چرا همه غشاهای یاخته‌ای از دو لایه فسفولیپید تشکیل شده‌اند؟ به این ترتیب، زیست‌شناسان امروزی فقط به توصیف دنیای زنده بسنده نمی‌کنند بلکه با نگرشی چراجویانه به تجزیه و تحلیل آن نیز می‌پردازند.

<i>M. smegmatis</i> MC ² 155	GGCCGCGGCA	CGGT	AAAGAAAC	CATCA	AGGCC	CGGTT	CGCGG
<i>M. goodii</i> strain X7B	CGACGCGGCA	CGGT	AAAGAAAC	CGTCA	AGTGC	CGGTT	CACGG
<i>M. vanbaalenii</i>	GTGGCGGG	CGGT	AAAGAAAC	CGTCA	AGCGC	CAGGT	CACTC
<i>M. sp. JLS</i>	CGCCACCGCC	CGGT	AAAGAAA	CGTCA	AGACCT	CGGCA	CAACG
<i>M. sp. KMS</i>	CGCCACCGCC	CGGT	AAAGAAA	CGTCA	AGACCT	CGGCA	CAACG
<i>M. marinum</i>	GCGGCGGT	GGCGT	AAAGAAAC	CGTCA	AGCAT	GTC	CGTCAGG
<i>M. avium</i> 104	GCCGCAAGG	GGCGT	AAAGAAAC	CGTAA	AGGTG	CACTA	CGGCC
<i>M. fortuitum</i>	CGCCCGCGG	CGGT	AAAGAAAC	CGTAA	AGATG	CGGCGT	CGGCC
<i>M. chubuense</i>	GCGCCGGT	AGCGT	AAAGAGA	CGTAA	AGGCT	CTAG	CTCAG
<i>M. intracellulare</i> ATCC 13950	CACGGTAGC	CGCGT	AAAGAAAC	CGTCA	AGCA	CGACCC	CTCAC
<i>M. sp. MOTT36Y</i>	CACGGTAGC	CGCGT	AAAGAAAC	CGTCA	AGCA	CGACCC	CTCAC
<i>M. kansasii</i> 824	GCGGATGAC	CGCGT	AAAGAAAC	CGTAA	AGGCC	GCTCC	CGGCC
<i>M. neoaurum</i>	CCGCTCGCA	CGGT	AAAGAAAC	CGTCA	AGTGC	CAGCT	CAGCG
<i>M. yongonense</i>	CACGGTAGC	CGCGT	AAAGAAAC	CGTCA	AGCA	CGACCC	CGCAC
<i>M. sp. EPa45</i>	CGGCGCGGCA	CGGT	AAAGAAAC	CGTCA	AGCA	CGGCT	TGCTG
<i>M. sp. JS823</i>	CAACCGAT	GGCGT	AAAGAAA	CGTCA	AGAA	CAGT	CGCGG
<i>M. haemophilum</i>	ACGGCTCAGT	CGGT	AAAGAAAC	CGTCA	AGTGC	CGGCT	ACGTT
<i>M. vaccae</i>	CGCCGCAAGG	GGTGT	AAAGAAAC	CGTCA	AGAA	CGCGG	TAGCC
<i>M. rhodesiae</i>	GACCAACCG	CGGT	AAAGAAAC	CGTAA	AGGCC	CGCACT	AGTG
<i>M. sp. VKMAc-1817D</i>	CGCCCGCGG	CGGT	AAAGAAAC	CGTAA	AGATG	CGGCGT	CGGCC

گونه‌زایی

تعاریف مختلفی برای گونه وجود دارد که هر کدام در محدوده مشخصی کارآمدند. یکی از تعاریف رایج برای گونه، تعریفی است که ارنست مایر ارائه کرده است و برای جاندارانی کاربرد دارد که تولیدمثل جنسی دارند: «گونه در زیست‌شناسی به جاندارانی گفته می‌شود که می‌توانند در طبیعت با هم آمیزش کنند و زاده‌های زیستا و زایا به وجود آورند ولی نمی‌توانند با جانداران دیگر آمیزش موفقیت‌آمیز داشته باشند». زیستا در تعریف بالا، به جاندارانی گفته می‌شود که زنده می‌ماند و زندگی طبیعی خود را ادامه می‌دهد. همچنین، منظور از آمیزش موفقیت‌آمیز، آمیزشی است که به تولید زاده‌های زیستا و زایا منجر شود. اگر میان افراد یک گونه جدایی تولیدمثلی رخ دهد، آن‌گاه خزانه ژنی آنها از یکدیگر جدا و احتمال تشکیل گونه جدید فراهم می‌شود. منظور از جدایی تولیدمثلی، عواملی است که مانع آمیزش بعضی از افراد یک گونه با بعضی دیگر از افراد همان گونه می‌شوند. به‌طور کلی سازوکارهایی را که باعث ایجاد گونه‌ای جدید می‌شوند، به دو گروه تقسیم می‌کنند: گونه‌زایی **دگرمیهنی** که در آن جدایی جغرافیایی رخ می‌دهد و گونه‌زایی **هم‌میهنی** که در آن جدایی جغرافیایی رخ نمی‌دهد. در شکل ۱۳ این دو نوع گونه‌زایی با هم مقایسه شده‌اند.

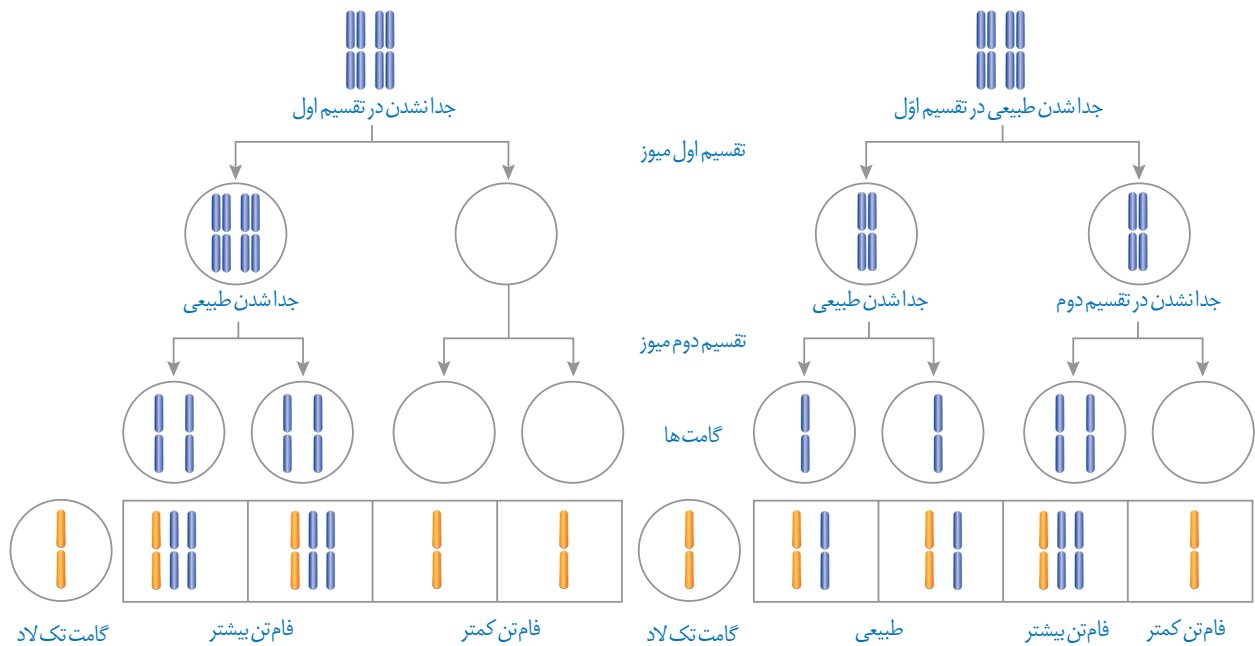


شکل ۱۳- الف) گونه‌زایی دگرمیهنی و ب) هم‌میهنی

گونه‌زایی دگرمیهنی: گاهی بر اثر وقوع رخدادهای زمین‌شناختی و سدهای جغرافیایی، یک جمعیت، به دو قسمت جداگانه تقسیم می‌شود. مثلاً در نتیجه پدیده کوه‌زایی، ممکن است در یک منطقه مثلاً کوه، دره و یا دریاچه ایجاد شود و یک جمعیت را به دو قسمت تقسیم کند. این سدهای جغرافیایی، ارتباط دو قسمت را - که قبلاً به یک جمعیت تعلق داشتند - قطع می‌کنند و بین آنها دیگر شارش ژن صورت نمی‌گیرد. بر اثر وقوع پدیده‌هایی همچون جهش، نوترکیبی و انتخاب طبیعی، به تدریج دو جمعیت یاد شده با یکدیگر متفاوت می‌شوند. از آنجا که شارش ژن میان آنها وجود ندارد، این تفاوت بیشتر و بیشتر می‌شود تا جایی که حتی اگر این دو جمعیت کنار هم باشند، آمیزشی بین آنها رخ نخواهد داد (مثلاً زمان تولیدمثل آنها فرق کند)؛ بنابراین می‌توان آنها را دو گونه مجزا به‌شمار آورد.

اگر جمعیتی که از جمعیت اصلی جدا شده است کوچک باشد، آن وقت اثر رانش ژن را نیز باید در نظر گرفت که خود بر میزان تفاوت بین دو جمعیت می افزاید.

گونه‌زایی هم‌میهنی: گاهی بین جمعیت‌هایی که در یک زیستگاه زندگی می‌کنند، جدایی تولیدمثلی اتفاق می‌افتد و در نتیجه، گونه جدیدی حاصل می‌شود. این نوع گونه‌زایی را **گونه‌زایی هم‌میهنی** می‌نامند. در گونه‌زایی هم‌میهنی، برخلاف گونه‌زایی دگرمیهنی، جدایی جغرافیایی رخ نمی‌دهد. پیدایش گیاهان **چندلادی (پلی‌پلویدی)**، مثال خوبی از گونه‌زایی هم‌میهنی است. چندلادی به تولید گیاهانی منجر می‌شود که زیستا و زایا هستند اما نمی‌توانند در نتیجه آمیزش با افراد گونه‌نیایی خود، زاده‌های زیستا و زایا پدید آورند و بنابراین گونه‌ای جدید به شمار می‌روند. گیاهان چندلادی بر اثر خطای میوزی ایجاد می‌شوند. می‌دانیم که جدانشدن فام‌تن‌ها در میوز به تشکیل گامت‌هایی با عدد فام‌تنی غیرطبیعی منجر می‌شود و اگر این گامت‌ها با گامت طبیعی لقاح کنند تخم طبیعی تشکیل نخواهد شد (شکل ۱۴).



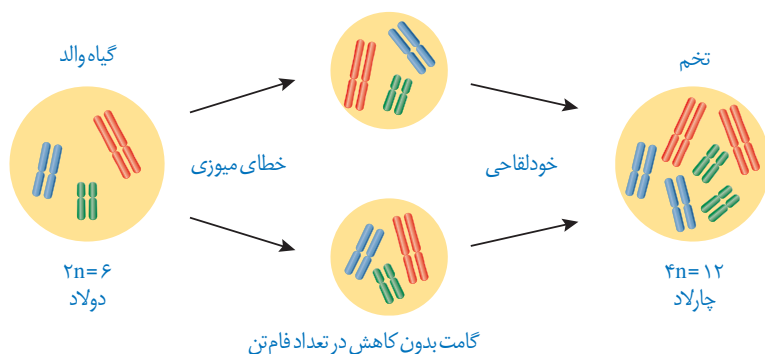
شکل ۱۴- نتیجه آمیزش گامت‌های حاصل از خطای میوزی با گامت سالم

در اوایل دهه ۱۹۰۰ دانشمندی به نام هوگو دووری که با گیاهان گل مغربی ($2n = 14$) کار می‌کرد، متوجه شد که یکی از گل‌های مغربی ظاهری متفاوت با بقیه دارد. وی با بررسی فام‌تن‌های آن دریافت که این گیاه به جای ۱۴ فام‌تن، ۲۸ فام‌تن دارد و بنابراین چارلاد (تتراپلوئید) ($4n$) است. گامت‌هایی که گیاه چارلاد ایجاد می‌کند، دولا ($2n$) اند نه تک لاد (n).

اگر گامت‌های این گیاه با گامت‌های گیاهان طبیعی، که تک‌لادند، آمیزش کنند تخم‌های حاصل سه‌لاد (تریپلوئید) ($3n$) خواهند شد. گیاه سه‌لاد حاصل از نمو این تخم، نازاست.

اما اگر گیاه چارلاد بتواند خودلقاحی انجام دهد، یا در نزدیکی آن گیاه چارلاد مشابه دیگری وجود داشته باشد، یاخته تخم $4n$ خواهد بود و گیاهی که از آن ایجاد می‌شود، قادر به میوز بوده، بنابراین زایاست. این گیاه، با جمعیت نیایی خود (که $2n$ بودند) نمی‌تواند آمیزش کند و بنابراین به گونه جدیدی

تعلق دارد که افراد آن $4n$ هستند. شکل ۱۵ این سازوکار را برای گیاهی با ۶ فام تن نشان می دهد.



شکل ۱۵- چگونگی تشکیل گیاه چارلاد از گیاه دولاد

بیشتر بدانید

مالاریا و گویچه های داسی شکل

با اینکه مقاومت افراد ناخالص ($Hb^A Hb^S$) نسبت به مالاریا در دهه ۱۹۵۰ مشخص شد، اما چگونگی آن همچنان در حال بررسی است. دانشمندان در دهه ۱۹۷۰ دریافتند که سرعت داسی شکل شدن گویچه های قرمز، پس از ورود انگل مالاریا به آنها بین ۲ تا ۸ برابر افزایش می یابد. بر این اساس با مرتبط دانستن مقاومت افراد ناخالص با شکل داسی گویچه های قرمز، این فرضیه مطرح شد که «داسی شدن» به افزایش بیگانه خواری و در نتیجه از بین رفتن انگل می انجامد.

در سال های بعد نیز فرضیه های دیگری با تأکید بر شکل «داسی» این باخته ها ارائه شد. مانند این فرضیه که می گوید با داسی شدن گویچه ها، منافذی در غشا ایجاد می شود که نتیجه آن خروج مواد مغذی از باخته و روبه رو شدن انگل با کمبود غذا است. بدین ترتیب رشد انگل کند یا متوقف می شود.

در شرایطی که تصور می شد توضیحات قابل قبولی برای علت مقاومت به مالاریا وجود دارد، بررسی های بیشتر نشان داد که کندی رشد انگل مالاریا، در همه گویچه های قرمز در افراد ناخالص رخ می دهد و منحصر به گویچه های داسی شکل نیست.

در دهه ۲۰۱۰، فرضیه ای مبنی بر رناهای کوچک مکمل (فصل ۲) ارائه شد که بر مبنای آن، گویچه قرمز در افراد ناخالص رناهای کوچکی می سازد که به رنای انگل متصل و مانع از ترجمه آن می شوند و در نتیجه در فرایند رشد انگل اختلال به وجود می آید.

در همین دهه با نگاهی متفاوت، فرضیه ای بر اساس سازوکار بیماری زایی مالاریا در افراد $Hb^A Hb^A$ ارائه شد. در این افراد، که گویچه های قرمز طبیعی دارند، مالاریا باعث چسبیدن گویچه ها به همدیگر و یا به دیواره رگ ها می شود که از نتایج آن آسیب بافتی و التهاب گسترده در رگ ها است. اما علت چسبندگی آنها چیست؟ انگل مالاریا در گویچه قرمز، پروتئینی می سازد که در غشای گویچه قرار می گیرد و باعث چسبندگی آنها می شود. در افراد ناخالص از واکنش اکسیژن با هموگلوبین جهش یافته، ماده ای تولید می شود که تلاش انگل را در فرستادن این پروتئین به سطح باخته، بی ثمر می سازد. در نتیجه گویچه های قرمز، چسبندگی نمی شوند و بیمار جان سالم به در می برد.

ارائه فرضیه های جدید همچنان ادامه دارد. شواهد جدید ممکن است فرضیه های قبل را تضعیف یا تقویت کند. باید منتظر بود تا قطعات بیشتری از این جورچین کشف شود. این ماهیت علم و نشانی از پویا بودن آن است. با بیشتر شدن دانش، پرسش های ما نیز بیشتر می شوند. پرسش های بیشتر، زمینه های اکتشاف بیشتری فراهم می کند. شاید کشف بعدی را «شما» انجام دهید.



فصل ۵

از ماده به انرژی

اکنون که در حال مطالعه این درس هستید، یاخته‌های بدنتان انرژی مصرف می‌کنند. این انرژی از کجا و چگونه تأمین می‌شود؟ چرا ورزش و فعالیت‌های بدنی شدید، سبب می‌شوند تا احساس گرما کنیم و مقداری آب به شکل عرق از دست بدهیم؟ با همه تفاوت‌هایی که بین ما و زرافه‌ای که در تصویر می‌بینید، وجود دارد؛ انرژی مورد نیاز ما به شیوهٔ یکسانی از غذایی که می‌خوریم تأمین می‌شود. در این فصل به فرایندهای آزاد شدن انرژی از مادهٔ مغذی در یاخته‌ها می‌پردازیم.



طرح سؤالات عددی و محاسباتی از مباحث این فصل در همه آزمون‌ها از جمله کنکور سراسری ممنوع است.



واژه‌شناسی

راکیزه (میتوکندری / mitochondrion) راکیزه، اندامکی کروی یا میله‌ای شکل در یاخته‌های یوکاریوتی و عهده‌دار تنفس هوازی و تولید انرژی است. «راکیزه» از دو جزء «راک» به معنی رشته و نخ (در برابر «میتو» یونانی به همین معنی) و پسوند تصغیر و شباهت «-ایزه» ساخته شده است.

تنفس یاخته‌ای

به یاد دارید چرا به اکسیژن نیاز داریم؟ در کتاب زیست‌شناسی ۱، آموختید که نیاز ما به اکسیژن به علت انجام فرایندی به نام تنفس یاخته‌ای است؛ زیرا در این فرایند ATP تولید می‌شود؛ مثلاً انرژی ذخیره شده در گلوکز در تنفس یاخته‌ای، برای تشکیل مولکول ATP به کار می‌رود (واکنش ۱).



این واکنش **تنفس یاخته‌ای هوازی** را نشان می‌دهد؛ زیرا تجزیه ماده مغذی و تولید ATP با حضور اکسیژن انجام می‌شود. تجزیه ماده مغذی و تولید ATP بدون نیاز به اکسیژن نیز انجام می‌شود که در گفتار ۳ به آن می‌پردازیم.

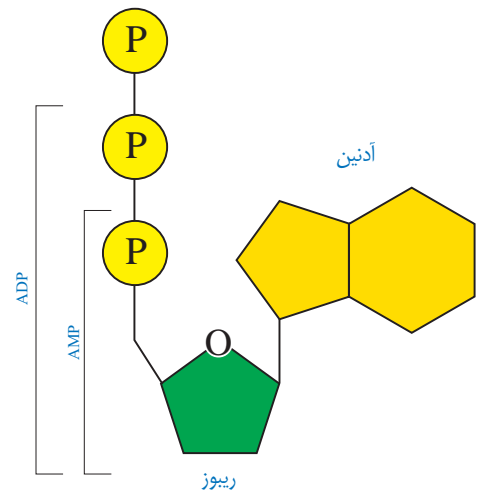
ATP مولکول پرانرژی

هیچ جاندار نمی‌تواند بدون انرژی زنده بماند، رشد و فعالیت کند. حفظ هریک از ویژگی‌های جانداران مانند رشد و نمو و تولید مثل به در اختیار داشتن ATP وابسته است.

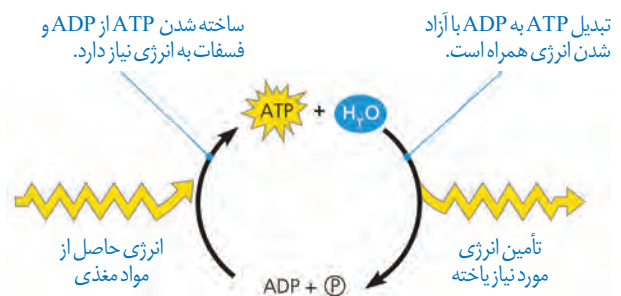
ATP یا **آدنوزین تری فسفات**، شکل رایج و قابل استفاده انرژی در یاخته‌ها است. این نوکلئوتید از باز آلی آدنین، قند پنج کربنی ریبوز (که با هم آدنوزین نامیده می‌شوند) و سه گروه فسفات تشکیل شده است. افزوده شدن فسفات به آدنوزین در سه مرحله روی می‌دهد. در نتیجه در ابتدا AMP (آدنوزین مونو فسفات)، سپس ADP (آدنوزین دی فسفات) و در نهایت ATP (آدنوزین تری فسفات) تشکیل می‌شود (شکل ۱).

در شکل ۲ تبدیل ATP و ADP را به یکدیگر می‌بینید. تشکیل ATP از ADP، با مصرف انرژی و تبدیل آن به همراه با آزاد شدن انرژی است.

روش‌های ساخته شدن ATP: دیدیم که برای ساخته شدن ATP به فسفات نیاز هست. یکی از روش‌های ساخته شدن ATP برداشته شدن گروه فسفات از یک ترکیب فسفات‌دار (پیش‌ماده) و



شکل ۱- ساخته شدن ATP



شکل ۲- تبدیل ADP و ATP به یکدیگر

بیشتر بدانید

ارتباط با شیمی

تعریف جامع و امروزی اکسایش و کاهش بر اساس داد و ستد الکترون است. از دست دادن الکترون به معنی اکسایش و گرفتن الکترون به معنی کاهش است.

افزودن آن به ADP است. به همین علت، این روش را ساخته شدن ATP در سطح پیش ماده می نامند.

در کتاب «زیست شناسی ۲» با نمونه ای از ساخته شدن ATP در سطح پیش ماده آشنا شده اید، آیا آن را به یاد دارید؟ در آنجا دانستید که ماهیچه ها برای انقباض به ATP نیاز دارند و یکی از راه های تأمین آن در ماهیچه ها، برداشت فسفات از مولکول کراتین فسفات و انتقال آن به ADP است (شکل ۳). در این مثال کراتین فسفات، پیش ماده ای است که فسفات آن برای ساخته شدن ATP به کار می رود.



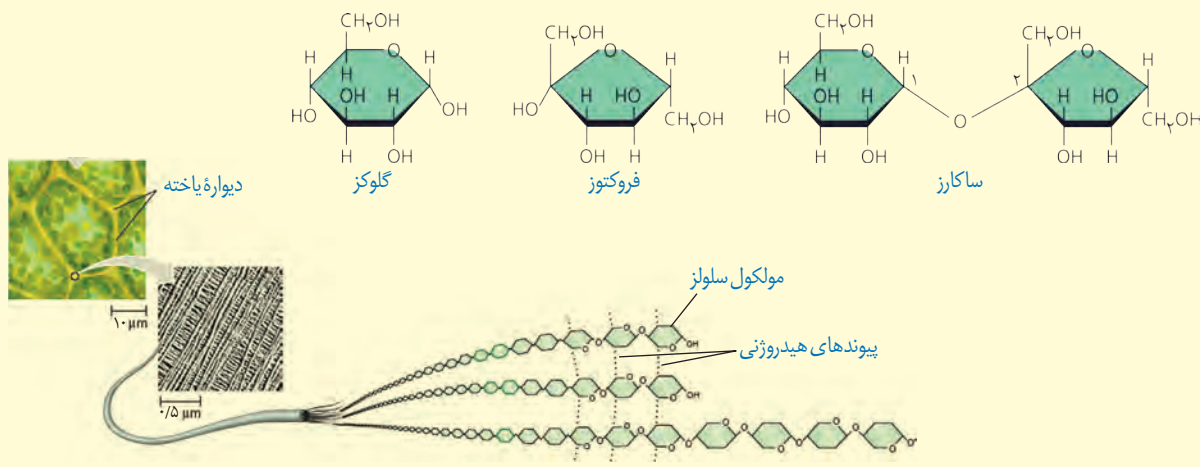
شکل ۳- ساخته شدن ATP در سطح پیش ماده

ساخته شدن اکسایشی و ساخته شدن نوری ATP، دو روش دیگرند. در ساخته شدن اکسایشی، ATP از یون فسفات و انرژی حاصل از انتقال الکترون ها در راکتیزه ساخته می شود که در ادامه این فصل با آن آشنا می شوید. روش دیگر ساخته شدن ATP، ساخته شدن نوری است که در سبز دیسه انجام می شود (فصل ۶).

بیشتر بدانید

کربوهیدرات ها

کربوهیدرات ها دارای کربن، هیدروژن و اکسیژن اند. نقش انرژی زایی کربوهیدرات ها به خوبی شناخته شده است. این ترکیبات به علت داشتن پیوندهای هیدروژن-کربن، انرژی فراوانی در خود ذخیره و هنگام اکسایش آزاد می کنند. در یک نوع تقسیم بندی، کربوهیدرات ها را در سه گروه مونوساکاریدها (مانند گلوکز و فروکتوز)، دی ساکاریدها (مانند ساکارز) و پلی ساکاریدها (مانند سلولز، نشاسته و گلیکوژن) قرار می دهند. قند و شکر از ساکارز تشکیل شده اند. این دی ساکارید از مونوساکاریدهای گلوکز و فروکتوز تشکیل شده است.



زیستن با اکسیژن

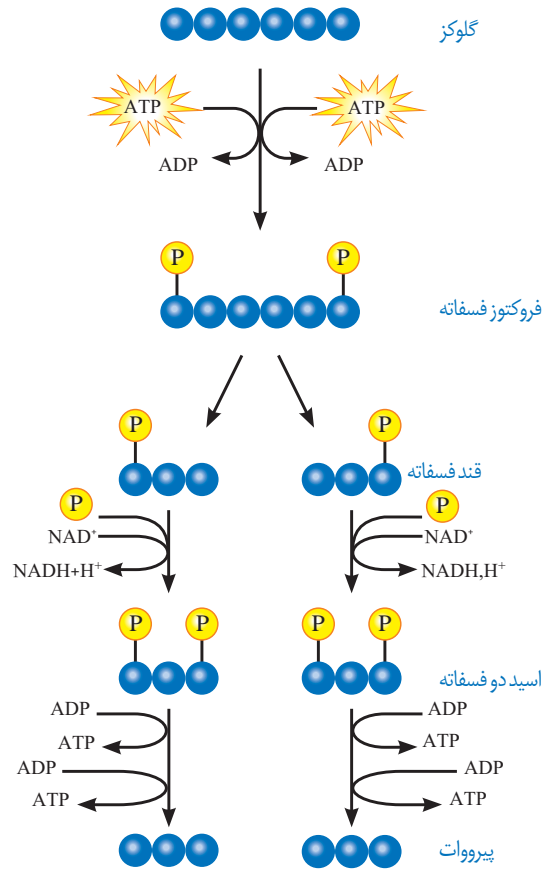
اغلب، واژه تنفس یاخته‌ای را برای تنفس یاخته‌ای هوازی به کار می‌برند. در اینجا ما نیز **تنفس یاخته‌ای** را به جای تنفس یاخته‌ای هوازی به کار می‌بریم.

قندکافت (گلیکولیز): اولین مرحله تنفس یاخته‌ای، قندکافت و به معنی تجزیه گلوکز است که در ماده زمینه سیتوپلاسم انجام می‌شود. تجزیه گلوکز در قندکافت، نه به صورت یک باره، بلکه به صورت مرحله‌ای انجام می‌شود (شکل ۴).

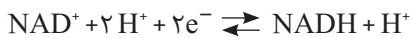
برای انجام واکنش‌های مربوط به تجزیه گلوکز انرژی فعال سازی نیاز هست. این انرژی از ATP تأمین می‌شود.

در شکل ۴ می‌بینید که از گلوکز و ATP، قند فروکتوز با دو فسفات ایجاد می‌شود. از تجزیه این قند، دو قند سه کربنی فسفات به وجود می‌آید. هر یک از این قندها با گرفتن یک گروه فسفات به اسیدی سه کربنی تبدیل می‌شود. هر یک از این مولکول‌های سه کربنی در نهایت به پیرووات (بنیان پیروویک اسید) تبدیل می‌شود. در این واکنش‌ها مولکول‌های ATP و NADH به وجود می‌آیند.

NADH حامل الکترون است. دو نوکلئوتید دارد و از NAD^+ به اضافه الکترون و پروتون تشکیل می‌شود. NAD^+ و NADH با گرفتن و از دست دادن الکترون و پروتون، به همدیگر تبدیل می‌شوند (واکنش ۲). NAD^+ با گرفتن الکترون کاهش و NADH با از دست دادن الکترون اکسایش می‌یابد.



شکل ۴- مراحل قندکافت



واکنش ۲- یک الکترون برای خنثی کردن NAD^+ به کار می‌رود. بنابراین محصول به صورت $NADH + H^+$ در واکنش نوشته می‌شود.

فعالیت ۱

گفت‌وگو کنید

همان‌طور که دیدید، در قندکافت ATP ساخته می‌شود. براساس روش‌هایی که درباره تولید ATP گفتیم، ساخته شدن ATP در قندکافت با کدام روش انجام می‌شود؟

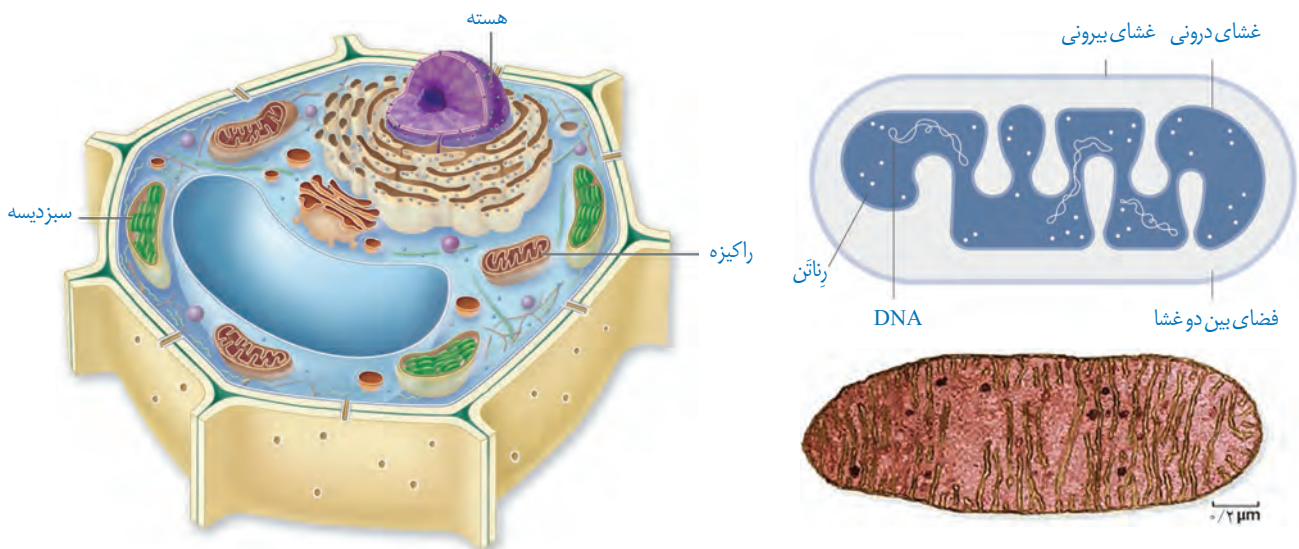
راکیزه مقصد پیرووات

مرحله دیگر تنفس یاخته‌ای به اکسیژن نیاز دارد و در یوکاریوت‌ها در راکیزه انجام می‌شود. راکیزه دو غشا دارد: غشای بیرونی صاف، و غشای درونی آن به داخل چین خورده است. در نتیجه، فضای درون آن به بخش داخلی و بخش بیرونی (فضای بین دو غشا) تقسیم می‌شود (شکل ۵).

راکیزه دناى مستقل از هسته و رناتن مخصوص به خود را دارد، بنابراین در آن پروتئين سازى انجام مى‌شود. در دناى راکيزه، ژن‌هاى مورد نیاز برای ساخته شدن انواعی از پروتئين‌هاى مورد نیاز در تنفس یاخته‌ای وجود دارند.

راکیزه همراه با یاخته و نیز مستقل از آن تقسیم می‌شود. به نظر شما مستقل بودن تقسیم راکیزه از تقسیم یاخته چه اهمیتی دارد؟

به هر حال راکیزه برای انجام نقش خود در تنفس یاخته‌ای به پروتئين‌هاى وابسته است که ژن‌هاى آنها در هسته قرار دارند و به وسیله رناتن‌هاى سيتوپلاسمی ساخته می‌شوند.

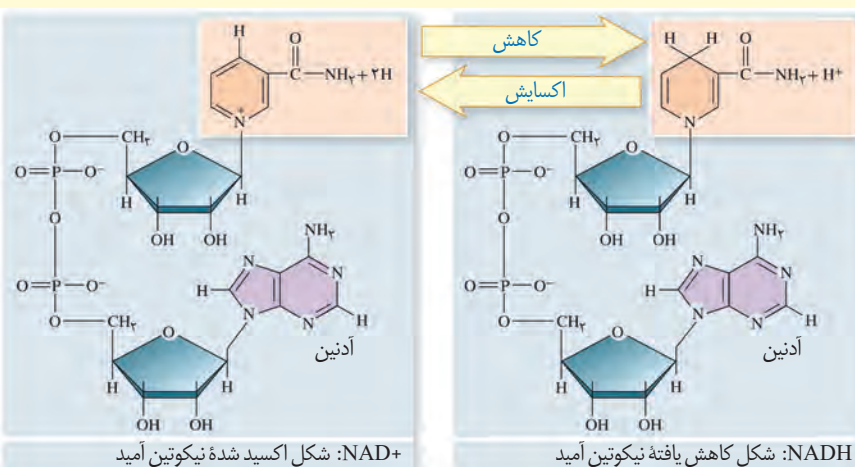


ب) راکیزه در یاخته گیاهی

شکل ۵- راکیزه. الف) راکیزه و ترسیمی از آن

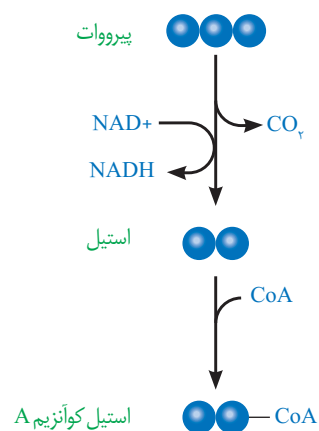
بیشتر بدانید

تبدیل NAD^+ و $NADH$ به یکدیگر



اکسایش پیرووات: گفتیم که در انتهای قندکافت، پیرووات به وجود می آید. این مولکول از طریق انتقال فعال وارد راکیزه می شود و در آنجا اکسایش می یابد. پیرووات در راکیزه یک کربن دی اکسید از دست می دهد و به بنیان استیل تبدیل می شود. استیل با اتصال به مولکولی به نام کوآنزیم A، استیل کوآنزیم A را تشکیل می دهد. در این واکنش NADH نیز به وجود می آید (شکل ۶).

اکسایش استیل کوآنزیم A در چرخه ای از واکنش های آنزیمی، به نام **چرخه کربس**، در بخش داخلی راکیزه انجام می گیرد که در گفتار بعدی به آن می پردازیم.



شکل ۶- اکسایش پیرووات و تشکیل استیل کوآنزیم A

بیشتر بدانید

دانشمند موفق

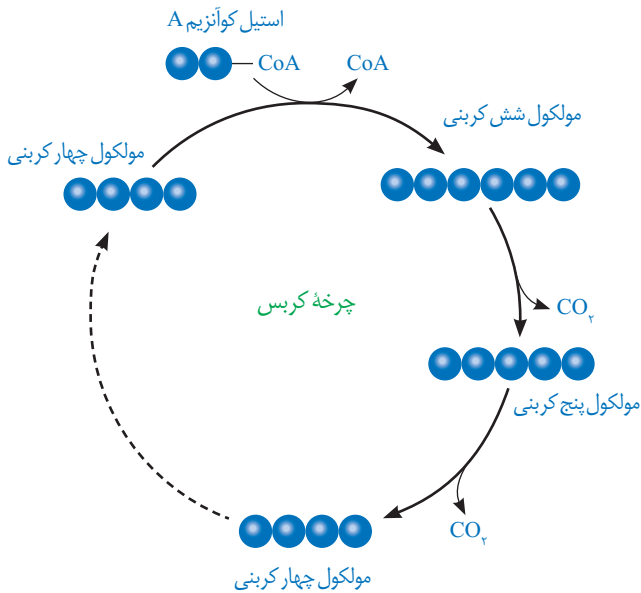


هانس آدولف کربس فیزیک دان و زیست شیمی دان آلمانی متولد بریتانیا (۱۹۰۰-۱۹۸۱) بسیاری از مراحل اکسایش پیرووات را کشف و معرفی کرد. به همین علت این چرخه، چرخه کربس نامیده شد. او در سال ۱۹۵۳ به همراه دانشمندی دیگر، موفق به دریافت جایزه نوبل در زمینه کار اندام شناسی (فیزیولوژی) و پزشکی شد.

از نظر کربس دانشمند موفق، فردی است که مهارت های فنی و علمی لازم را برای کسب موفقیت های بیشتر با استفاده از امکانات موجود داشته باشد. همچنین، در راه رسیدن به هدف، سختی ها را تحمل کند و نتایج پژوهش را به روشنی ارائه دهد.

مولکول گلوکز در تنفس هوازی باید تا حد تشکیل مولکول های CO_2 تجزیه شود. بخشی از تجزیه گلوکز در فندکافت و اکسایش پیرووات و بخش دیگر آن در چرخه کربس انجام می شود.

چرخه کربس

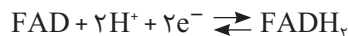


شکل ۷- طرح ساده ای از چرخه کربس

شکل ۷ ترسیم ساده ای از وقایع کلی چرخه کربس را نشان می دهد. در این چرخه، ضمن ترکیب استیل کوآنزیم A با مولکولی چهار کربنی، کوآنزیم A جدا و مولکولی شش کربنی، ایجاد می شود. پس از آن در طی واکنش های متفاوتی که در چرخه کربس رخ می دهد، دو اتم کربن به صورت CO_2 آزاد و مولکول چهار کربنی برای گرفتن استیل کوآنزیم دیگر، بازسازی می شود.

از اکسایش هر مولکول شش کربنی در واکنش های چرخه کربس، مولکول های $NADH$ ، $FADH_2$ و ATP در محل های متفاوتی از چرخه تشکیل می شوند.

$FADH_2$ ترکیبی نوکلئوتیددار و همانند $NADH$ حامل الکترون است. $FADH_2$ از FAD ساخته می شود (واکنش ۳).



(واکنش ۳)

به این ترتیب با انجام فندکافت، اکسایش پیرووات و چرخه کربس، مولکول گلوکز تا تشکیل مولکول های CO_2 تجزیه می شود. انرژی حاصل از تجزیه گلوکز صرف ساخته شدن ATP و مولکول های حامل الکترون ($NADH$ و $FADH_2$) می شود.

تشکیل ATP بیشتر

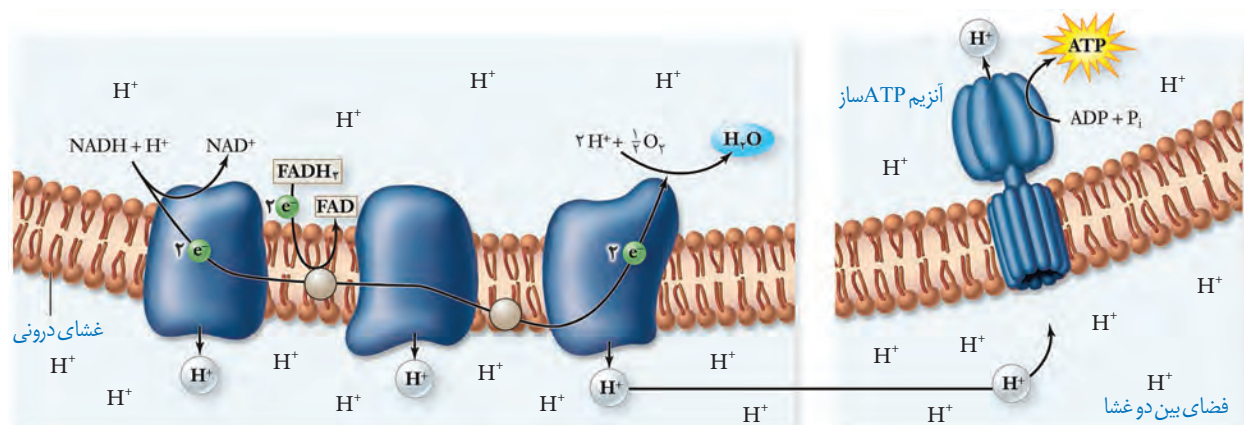
دیدیم که در تنفس یاخته ای ATP به وجود می آید. جالب است بدانیم که مولکول های $NADH$ و $FADH_2$ نیز برای تولید ATP مصرف می شوند. چگونه انرژی مولکول های حامل الکترون برای تولید ATP به کار می رود؟

همچنین براساس رابطه کلی تنفس یاخته ای می دانیم که در این فرایند آب نیز تشکیل می شود. آب چگونه در این فرایند تولید می شود؟ پاسخ این پرسش ها در **زنجیره انتقال الکترون** در غشای درونی راکیزه نهفته است.

زنجیره انتقال الکترون

این زنجیره از مولکول‌هایی تشکیل شده است که در غشای درونی راکیزه قرار دارند و می‌توانند الکترون بگیرند یا از دست دهند.

در این زنجیره می‌بینید که الکترون‌ها در نهایت به اکسیژن مولکولی می‌رسند. اکسیژن با گرفتن الکترون به یون اکسید (اتم اکسیژن با دو بار منفی) تبدیل می‌شود.



شکل ۸- زنجیره انتقال الکترون در راکیزه و تشکیل ATP

یون‌های اکسید در ترکیب با پروتون‌هایی که در بخش داخلی قرار دارند، مولکول‌های آب را تشکیل می‌دهند (واکنش ۴).

واکنش ۴- تشکیل آب



اگر به شکل ۸ توجه کنید، می‌بینید که پروتون‌ها (یون‌های H⁺) در سه محل از زنجیره انتقال الکترون از بخش داخلی به فضای بین دو غشا پمپ می‌شوند. انرژی لازم برای انتقال پروتون‌ها از الکترون‌های پُرانرژی NADH و FADH₂ فراهم می‌شود.

انتظار دارید ادامه ورود پروتون‌ها به فضای بین دو غشا چه نتیجه‌ای در پی داشته باشد؟

با ورود پروتون‌ها از بخش داخلی به فضای بین دو غشا، تراکم آنها در این فضا، نسبت به بخش داخلی افزایش می‌یابد. پروتون‌ها براساس شیب غلظت، تمایل دارند که به سمت بخش داخلی برگردند، اما تنها راه پیش‌روی پروتون‌ها برای برگشتن به این بخش، مجموعه‌ای پروتئینی به نام **آنزیم ساز ATP** است. پروتون‌ها از کانالی که در این مجموعه قرار دارد، می‌گذرند و انرژی موردنیاز برای تشکیل ATP از ADP و گروه فسفات فراهم می‌شود.

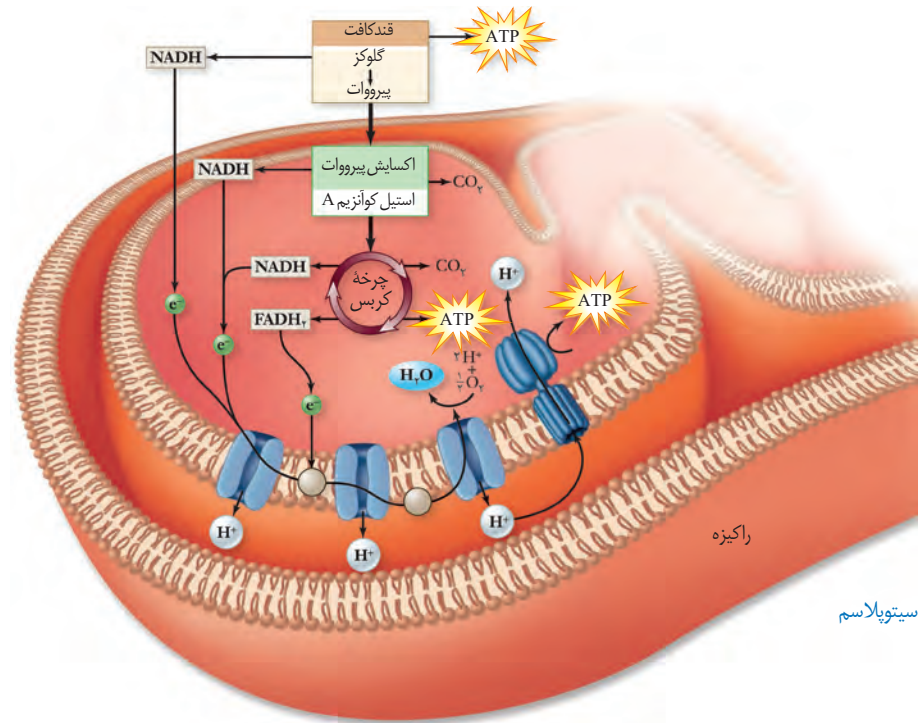
الف) توضیح دهید چرا ساخته شدن ATP در زنجیره انتقال الکترون، از نوع ساخته شدن اکسایشی ATP است؟

فعالیت ۲

ب) با توجه به نقش غشای درونی راکیزه در تنفس یاخته‌ای، چنین خورده بودن آن چه ارزشی برای یاخته دارد؟

مروری بر تنفس یاخته‌ای

خلاصه‌ای از تنفس یاخته‌ای را در شکل ۹ مشاهده می‌کنید. همان‌طور که می‌بینید در فرایند قندکافت از گلوکز پیرووات ایجاد می‌شود. پیرووات به راکیزه می‌رود و در آنجا به استیل کوآنزیم A اکسایش می‌یابد. استیل کوآنزیم A وارد چرخه کربس می‌شود. در تنفس یاخته‌ای مولکول‌های کربن دی‌اکسید، ATP، NADH، و $FADH_2$ تولید می‌شوند.



بیشتر بدانید

ویتامین‌های B و تنفس یاخته‌ای

شاید شنیده باشید که ویتامین‌های گروه B برای سلامت مغز و اعصاب ضروری‌اند. یکی از دلایل آن عملکرد انواعی از ویتامین‌های B به عنوان کوآنزیم در واکنش‌های مربوط به تنفس یاخته‌ای است. مثلاً تشکیل استیل کوآنزیم A وابسته به حضور ویتامین B_۱ (تیامین) است. جالب است که مغز حدود دو درصد از وزن بدن را تشکیل می‌دهد، اما بیش از ۲۰ درصد انرژی مصرفی در بدن را استفاده می‌کند. بنابراین تغذیه نامناسب می‌تواند بر کارکرد درست مغز از طریق تأثیر بر میزان ATP تولید شده، اثر منفی بگذارد. ویتامین B_۲ (ریبوفلاوین) و ویتامین B_۳ (نیاسین) نیز در تنفس یاخته‌ای نقش کوآنزیمی دارند.

شکل ۹- خلاصه‌ای از تنفس هوازی

فعالیت ۳

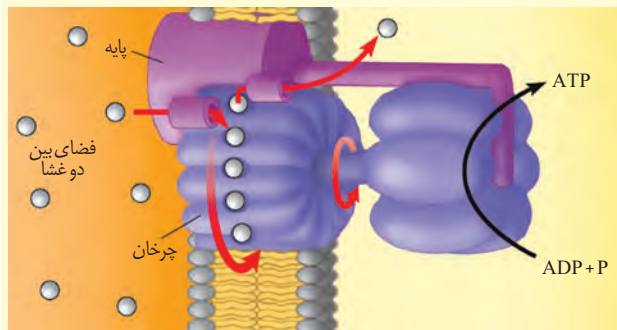
ارائه دهید

با استفاده از شکل ۹، به‌طور گروهی طرحی تصویری و نوشتاری از تنفس یاخته‌ای تولید و سعی کنید حداقل واژه‌ها را به کار ببرد. هر گروه طرح خود را در کلاس ارائه دهد. این طرح را می‌توانید با استفاده از نرم‌افزارهای رایانه‌ای، نقاشی و به صورت‌های متفاوت تولید کنید.

بیشتر بدانید

موتور چرخنده

آنزیم ATP‌ساز در واقع مجموعه‌ای پروتئینی است که مانند یک موتور چرخنده عمل می‌کند. این موتور دارای پایه، قسمت چرخان و سر است. کانالی که پروتون‌ها می‌توانند از آن عبور کنند، در پایه قرار دارد و از دو نیمه تشکیل شده است. دو نیمه کانال رو به روی هم قرار ندارند. پروتون وارد یک نیمه کانال می‌شود و سپس از یک زیر واحد به زیر واحدی دیگر از بخش چرخنده متصل و به نیمه دیگر کانال منتقل و باعث چرخش چرخنده می‌شود. این چرخش به سر، منتقل و سبب می‌شود که سر در وضعیت مناسب برای ساختن ATP قرار گیرد.



بیشتر بدانید

انرژی در دسترس

مقدار انرژی آزاد شده از اکسایش گلوکز در آزمایشگاه در شرایط استاندارد 686 Kcal/mol است. اگر در تنفس یاخته‌ای از یک مولکول گلوکز 30 ATP تولید شود، با توجه به اینکه هر ATP حدود $7/3 \text{ Kcal/mol}$ انرژی دارد، بنابراین بازده فرایند تنفس حدود 32 درصد خواهد بود که بسیار بیشتر از دستگاه‌های ساخت بشر است که در آنها تبدیل انرژی صورت می‌گیرد.

تنظیم تنفس یاخته‌ای: تولیدی اقتصادی

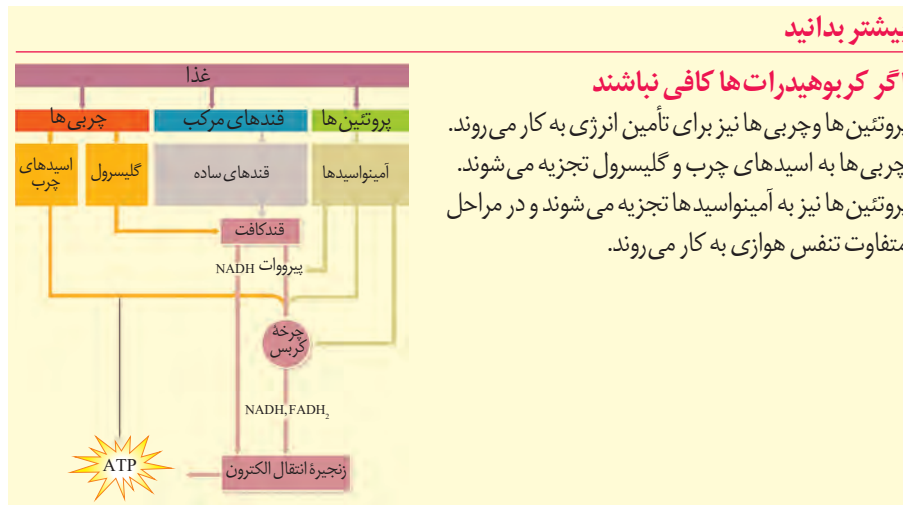
اندازه‌گیری‌های واقعی در شرایط بهینه آزمایشگاهی نشان می‌دهند که مقدار ATP تولید شده در ازای تجزیه کامل گلوکز در بهترین شرایط در یاخته یوکاریوت، حداکثر 30 ATP است. باید توجه داشت که تولید ATP در یاخته‌های متفاوت و متناسب با نیاز بدن فرق می‌کند. به نظر شما اگر مقدار ATP در یاخته زیاد باشد، واکنش‌های قندکافت و چرخه کربس، به همان میزانی انجام می‌شوند که در شرایط کمبود ATP است؟ مشخص شده که تولید ATP تحت کنترل میزان ATP و ADP است. اگر ATP زیاد باشد، آنزیم‌های درگیر در قندکافت و چرخه کربس مهار می‌شوند تا تولید ATP کم شود. در صورتی که مقدار ATP کم و ADP زیاد باشد، این آنزیم‌ها فعال و تولید ATP افزایش می‌یابد. این تنظیم مانع از هدر رفتن منابع می‌شود.

یاخته‌های بدن ما به طور معمول از گلوکز و ذخیره قندی کبد برای تأمین انرژی استفاده می‌کنند. در صورتی که این منابع کافی نباشند، آنها برای تولید ATP به سراغ تجزیه چربی‌ها و پروتئین‌ها می‌روند. به همین علت تحلیل و ضعیف شدن ماهیچه‌های اسکلتی و سیستم ایمنی از عوارض سوء تغذیه و فقر غذایی شدید و طولانی مدت در افرادی است که رژیم غذایی نامناسب دارند یا اینکه به دلایل متفاوت غذای کافی در اختیار ندارند.

بیشتر بدانید

اگر کربوهیدرات‌ها کافی نباشند

پروتئین‌ها و چربی‌ها نیز برای تأمین انرژی به کار می‌روند. چربی‌ها به اسیدهای چرب و گلیسرول تجزیه می‌شوند. پروتئین‌ها نیز به آمینواسیدها تجزیه می‌شوند و در مراحل متفاوت تنفس هوازی به کار می‌روند.



بیشتر بدانید

بیشتر ATP

باکتری‌ها را کیزه ندارند؛ در نتیجه قندکافت و چرخه کربس در سیتوپلاسم باکتری‌های هوازی انجام می‌شوند. بنابراین به ازای اکسایش هر مولکول گلوکز در تنفس یاخته‌ای در باکتری‌ها تا 32 ATP ممکن است تولید شود.

گفت‌وگو کنید

شاید دیده باشید که در دانه‌های خشک و بدون آب مانند نخود و لوبیا، حشرات و لارو آنها رشد و نمو می‌کنند. با توجه به اینکه این دانه‌ها خشک‌اند و تقریباً آبی ندارند، آب مورد نیاز این جانوران چگونه تأمین می‌شود؟

فعالیت ۴

تخمیر

بیشتر بدانید

تخمیر الکلی در پخت نان

Saccharomyces cerevisiae قارچی تک یاخته‌ای است که نشاسته را تجزیه می‌کند. در فرایند تولید نان، این قارچ به خمیر اضافه و خمیر در شرایط مناسب نگه‌داری می‌شود. CO_2 حاصل از تخمیر الکلی در خمیر حباب‌هایی ایجاد می‌کند که سبب ورآمدن یا رسیدن خمیر و در نتیجه تردی نان می‌شود. اتانول تولید شده در خمیر بر اثر حرارت، تبخیر می‌شود. قارچ، راکیزه دارد، اما می‌تواند به‌روش تخمیر انرژی مورد نیاز خود را تأمین کند.

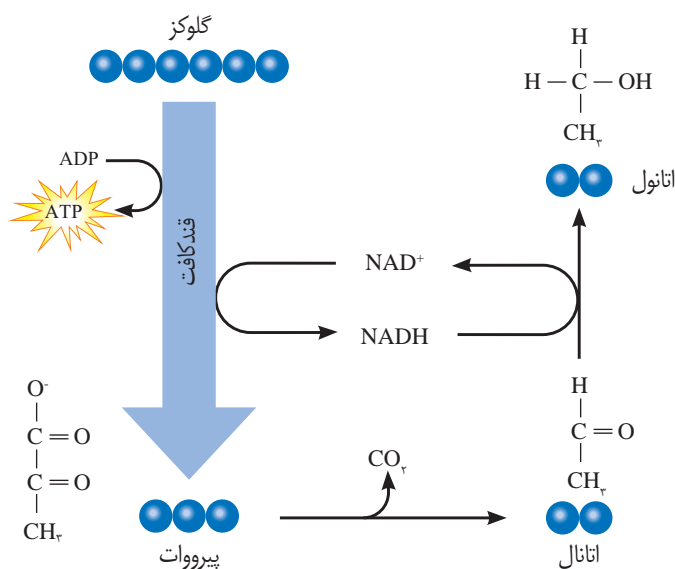


دیدیم که در تنفس یاخته‌ای، اکسیژن گیرنده نهایی الکترون است. آیا تجزیه گلوکز و تأمین انرژی، همیشه وابسته به حضور اکسیژن است؟ آیا در محیط‌هایی که اکسیژن ندارند یا اکسیژن اندکی دارند، حیات وجود ندارد؟ در این صورت ATP مورد نیاز چگونه تأمین می‌شود؟

تخمیر از روش‌های تأمین انرژی در شرایط کمبود یا نبود اکسیژن است که در انواعی از جانداران رخ می‌دهد. در فرایند تخمیر، راکیزه و در نتیجه زنجیره انتقال الکترون نقشی ندارند. **تخمیر الکلی و تخمیر لاکتیکی** انواعی از تخمیرند که در صنایع متفاوت از آنها بهره می‌بریم.

تخمیر الکلی و لاکتیکی مانند تنفس هوازی با قندکافت آغاز می‌شوند و پیرووات ایجاد می‌کنند؛ در قندکافت دیدیم که تشکیل پیرووات از قند فسفات‌ها همراه با ایجاد NADH از NAD^+ است؛ بنابراین برای تداوم قندکافت، NAD^+ ضروری است و اگر نباشد قندکافت متوقف می‌شود و در نتیجه تخمیر انجام نمی‌شود. در تخمیر، مولکول‌هایی ایجاد می‌شوند که در فرایند تشکیل آنها NAD^+ به وجود می‌آید. در ادامه با این دو نوع تخمیر بیشتر آشنا می‌شویم.

تخمیر الکلی: ورآمدن خمیر نان به علت انجام تخمیر الکلی است. شکل ۱۰ طرح ساده‌ای از مراحل این نوع تخمیر را نشان می‌دهد. در این فرایند، پیرووات حاصل از قندکافت با از دست دادن CO_2 ، به اتانال تبدیل می‌شود. اتانال با گرفتن الکترون‌های NADH اتانول ایجاد می‌کند.

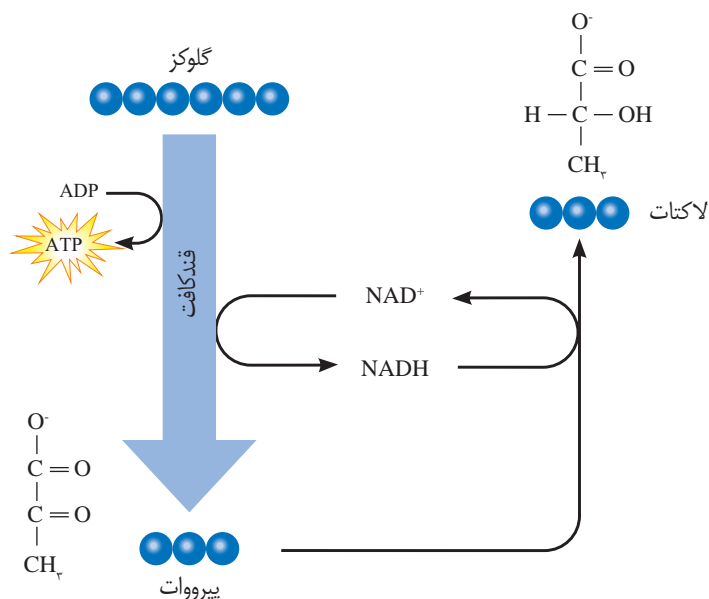


شکل ۱۰- تخمیر الکلی

طرح پرسش از فرمول ساختاری مواد شیمیایی در همهٔ آزمون‌ها از جمله کنکور سراسری ممنوع است.

تخمیر لاکتیکی: در سال گذشته خواندید، ماهیچه‌های اسکلتی برای تجزیه کامل گلوکز به اکسیژن نیاز دارند و اگر اکسیژن کافی نباشد، لاکتات در ماهیچه‌ها تجمع می‌یابد. اما لاکتات با چه سازوکاری ایجاد می‌شود؟

فعالیت شدید ماهیچه‌ها به اکسیژن فراوان نیاز دارد. اگر اکسیژن کافی نباشد، پیرووات حاصل از قند کافت‌وارد را کیزه‌هانی می‌شود، بلکه با گرفتن الکترون‌های NADH به لاکتات تبدیل می‌شود (شکل ۱۱).



شکل ۱۱- تخمیر لاکتیکی. علت ترش شدن شیر، لاکتیک اسید است.

انواعی از باکتری‌ها تخمیر لاکتیکی را انجام می‌دهند. بعضی از این باکتری‌ها، مانند آنچه در ترش شدن شیر رخ می‌دهد، سبب فساد غذا می‌شوند؛ اما انواعی از آنها در تولید فراورده‌های غذایی به کار می‌روند. تخمیر لاکتیکی در تولید فراورده‌های شیری و خوراکی‌هایی مانند خیارشور نقش دارد.

تخمیر در گیاهان: گیاهانی که به طور طبیعی در شرایط غرقابی رشد می‌کنند، سازوکارهایی برای تأمین اکسیژن مورد نیاز دارند. تشکیل بافت پارانشیمی (نرم‌آکنه‌ای) هوادار در گیاهان آبی و شش‌ریشه در درخت‌خز از سازوکارهایی است که قبلاً با آن آشنا شده‌اید. به هر حال، اگر اکسیژن به هر علتی در محیط نباشد یا کم باشد، تخمیر انجام می‌شود. هر دو نوع تخمیر الکلی و لاکتیکی در گیاهان وجود دارد. توجه داشته باشید که تجمع الکل یا لاکتیک اسید در یاخته گیاهی به مرگ آن می‌انجامد، بنابراین باید از یاخته‌ها دور شوند.

تنفس یاخته ای بی هوازی

انواعی از باکتری‌ها وجود دارند که می‌توانند در محیط‌های بدون اکسیژن زندگی کنند. این جانداران انرژی موردنیاز خود را از طریق تنفس یاخته ای بی‌هوازی به دست می‌آورند. گیرنده نهایی الکترون در این باکتری‌ها اکسیژن نیست، بلکه ماده ای معدنی مانند سولفات است.

در درس شیمی آموختید رادیکال‌های آزاد به علت داشتن الکترون‌های جفت نشده در ساختار خود، واکنش‌پذیری بالایی دارند و می‌توانند در واکنش با مولکول‌های تشکیل دهنده بافت‌های بدن، به آنها آسیب برسانند. امکان تشکیل رادیکال‌های آزاد از اکسیژن در فرایند تنفس هوازی، وجود دارد. اما چگونه؟ دیدیم اکسیژن با پذیرش الکترون در پایان زنجیره انتقال الکترون، به یون اکسید (O^{2-}) تبدیل می‌شود. یون‌های اکسید با یون‌های هیدروژن (H^+) ترکیب می‌شوند و در نتیجه مولکول آب به وجود می‌آید اما گاه پیش می‌آید که درصدی از اکسیژن‌ها وارد واکنش تشکیل آب نمی‌شوند، بلکه به صورت رادیکال‌های آزاد در می‌آیند. رادیکال‌های آزاد از عوامل ایجاد سرطان‌اند.

راکیزه‌ها برای مقابله با اثر سمی رادیکال‌های آزاد، به ترکیبات پاداکسنده وابسته‌اند. بارها شنیده‌اید که خوردن میوه‌ها و سبزیجات در حفظ سلامت بدن نقش دارند. این مواد غذایی دارای پاداکسندهایی مانند کاروتنوئیدها هستند. پاداکسندها در واکنش با رادیکال‌های آزاد مانع از اثر تخریبی آنها بر مولکول‌های زیستی و در نتیجه تخریب بافت‌های بدن می‌شوند.

تجمع رادیکال‌های آزاد: آیا مبارزه با رادیکال‌های آزاد در راکیزه‌ها همیشه با موفقیت انجام

می‌شود؟ اگر به هر علت سرعت تشکیل رادیکال‌های آزاد از سرعت مبارزه با آنها بیشتر باشد، چه اتفاقی را پیش بینی می‌کنید؟

مشخص است که در چنین شرایطی، رادیکال‌های آزاد در راکیزه تجمع می‌یابند و آن را تخریب می‌کنند؛ در نتیجه، یاخته هم تخریب می‌شود. رادیکال‌های آزاد برای جبران کمبود الکترونی خود به مولکول‌های سازنده یاخته و اجزای آن، حمله می‌کنند و باعث تخریب آنها می‌شوند.

عوامل فراوانی می‌توانند، راکیزه‌ها را در مبارزه با رادیکال‌های آزاد با مشکل روبه‌رو کنند؛ مثلاً الکل و انواعی از نقص‌های ژنی در عملکرد راکیزه در خنثی‌سازی رادیکال‌های آزاد مشکل ایجاد می‌کنند.

بیشتر بدانید

سلاح شیمیایی

دولت بعث عراق در جنگ هشت ساله علیه ایران بمب‌های شیمیایی دارای هیدروژن سیانید را به کار برد. هیدروژن سیانید با توقف زنجیره انتقال الکترون در راکیزه سبب مرگ افراد با حالتی شبیه خفگی می‌شود.

دور کردن افراد از محل حادثه، استفاده از ماسک اکسیژن و تنفس مصنوعی از اقدامات مؤثر در نجات جان این افراد است.

اثر الکل: مطالعات نشان می‌دهد که الکل سرعت تشکیل رادیکال‌های آزاد از اکسیژن را افزایش

می‌دهد و مانع از عملکرد راکیزه در جهت کاهش آنها می‌شود. رادیکال‌های آزاد با حمله به DNA راکیزه، سبب تخریب راکیزه و در نتیجه مرگ یاخته‌های کبدی و بافت مردگی (نکروز) کبد می‌شوند. به همین علت اختلال در کار کبد و ازکار افتادن آن از شایع‌ترین عوارض نوشیدن مشروبات الکلی است.

نقص ژنی: گاه نقص در ژن‌های مربوط به پروتئین‌های زنجیره انتقال الکترون، به ساخته شدن

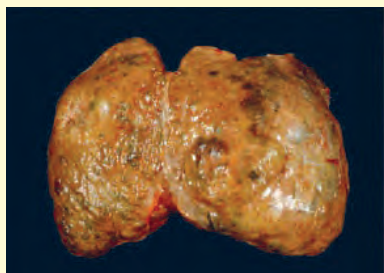
پروتئین‌های معیوب می‌انجامد. راکیزه‌ای که این پروتئین‌های معیوب را داشته باشد در مبارزه با رادیکال‌های آزاد، عملکرد مناسبی ندارد.

توقف انتقال الکترون: مواد سمی فراوانی وجود دارند که با مهار یک یا تعدادی از واکنش‌های تنفس هوازی، سبب توقف تنفس یاخته و مرگ می‌شوند. **سیانید** یکی از این ترکیب‌هاست که واکنش‌هایی مربوط به انتقال الکترون‌ها به O_2 را مهار و در نتیجه باعث توقف زنجیره انتقال الکترون می‌شود. از زیست‌شناسی سال دهم نیز به یاد دارید که گاز کربن مونواکسید با اتصال به هموگلوبین، مانع از اتصال اکسیژن به آن می‌شود و چون به آسانی از هموگلوبین جدا نمی‌شود، ظرفیت حمل اکسیژن در خون را کاهش می‌دهد. این عملکرد مونواکسید کربن، در واقع در انجام تنفس یاخته‌ای اختلال ایجاد می‌کند. مونواکسید کربن به شکل دیگری نیز بر تنفس یاخته‌ای اثر می‌گذارد؛ این گاز سبب توقف واکنش مربوط به انتقال الکترون‌ها به اکسیژن می‌شود. دود خارج شده از خودروها و سیگار، از منابع دیگر تولید مونواکسید کربن‌اند.

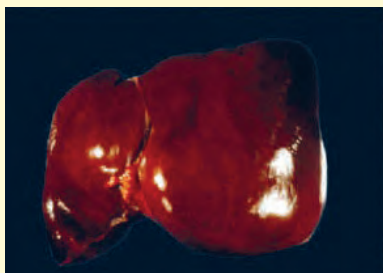
بیشتر بدانید

الکل و سرطان کبد

اثر منفی دیگر الکل بر کبد، به تجزیه چربی‌ها در کبد مربوط می‌شود. سیروز کبدی از عوارض مصرف درازمدت الکل است. این وضعیت به علت اثر منفی الکل بر تجزیه چربی‌ها ایجاد می‌شود. در این بیماری، چربی در یاخته‌های کبدی افراد الکلی تجمع می‌یابد. تجمع چربی مانع از عملکرد درست کبد می‌شود. سیروز کبدی احتمال ابتلا به سرطان کبد را افزایش می‌دهد.



کبد سیروزی



کبد سالم



فصل ۶

از انرژی به ماده

دانستیم انرژی مورد نیاز ما برای انجام فعالیت‌های حیاتی، از مواد مغذی مانند گلوکز تأمین می‌شود. اکنون پرسش این است که منشأ انرژی ذخیره شده در ترکیباتی مانند گلوکز چیست؟ چه فرایندهایی در دنیای حیات وجود دارد که با ساختن ماده آلی، انرژی را در آنها ذخیره می‌کند؟ چه جاندارانی می‌توانند این فرایندها را انجام دهند و این جانداران چه ویژگی‌هایی دارند؟



طرح سؤالات عددی و محاسباتی از مباحث این فصل در همه آزمون‌ها از جمله کنکور سراسری ممنوع است.



می‌دانید گیاهان در فرایند فتوستنتز CO_2 را با استفاده از انرژی نور خورشید به ماده آلی تبدیل و اکسیژن نیز تولید می‌کنند (واکنش ۱). بر این اساس می‌توان میزان فتوستنتز را با تعیین میزان کربن دی‌اکسید مصرف شده و یا اکسیژن تولید شده، اندازه گرفت.



واکنش ۱- واکنش کلی فتوستنتز

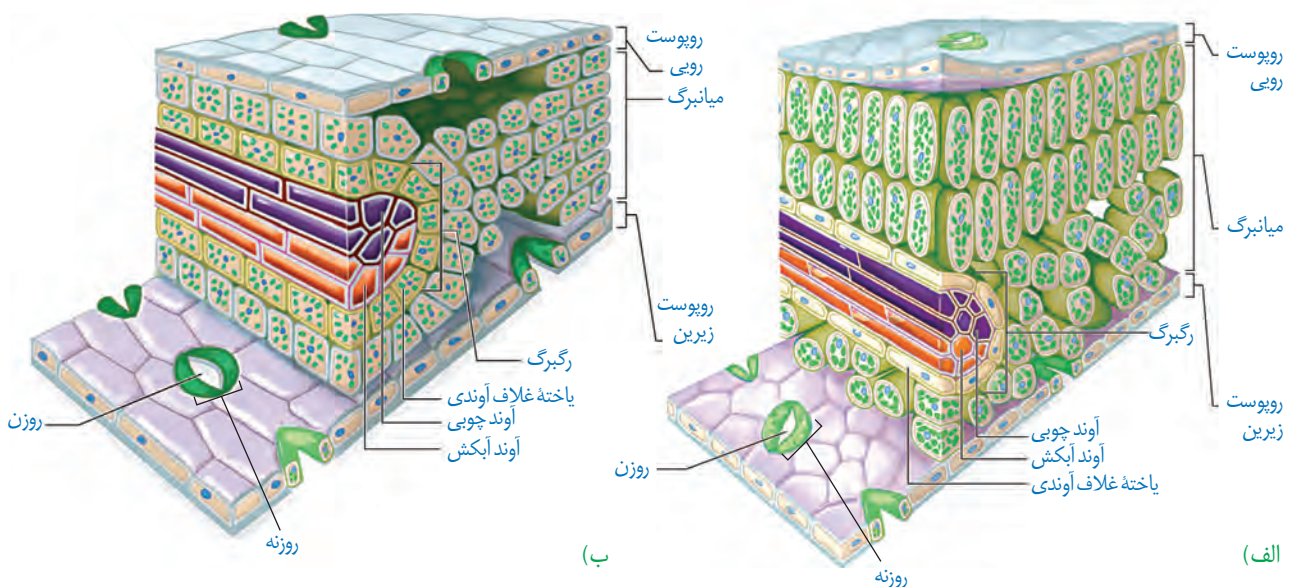
برای اینکه جاننداری بتواند فتوستنتز انجام دهد، چه ویژگی‌هایی باید داشته باشد؟ یکی از این ویژگی‌ها داشتن مولکول‌های رنگیزه‌ای است که بتوانند انرژی نور خورشید را جذب کنند. همچنین، باید سامانه‌ای برای تبدیل این انرژی به انرژی شیمیایی وجود داشته باشد. انواعی از جانداران وجود دارند که فتوستنتز می‌کنند. در ادامه به بررسی این فرایند در گیاهان می‌پردازیم.

برگ ساختار تخصص یافته برای فتوستنتز

برگ که مناسب‌ترین ساختار برای فتوستنتز در اکثر گیاهان است تعداد فراوانی سبزیسه دارد. همان‌طور که می‌دانید، فتوستنتز در سبزیسه‌ها انجام می‌شود.

برگ گیاهان دو لپه دارای پهنک و دم‌برگ است. پهنک شامل **روپوست**، **میانبرگ** و **دسته‌های آوندی** (رگبرگ) است. روپوست **روی** و **زیرین** به ترتیب در سطح رویی و زیرین پهنک برگ قرار دارند. میانبرگ شامل یاخته‌های پارانشیمی است. در شکل ۱- الف میانبرگ از یاخته‌های پارانشیمی نرده‌ای و اسفنجی تشکیل شده است. همان‌طور که در این شکل می‌بینید، یاخته‌های نرده‌ای بعد از روپوست

شکل ۱- ترسیمی از برگ
الف) نمونه‌ای گیاه دولپه
ب) نمونه‌ای گیاه تک‌لپه



بیشتر بدانید

گوناگونی شکل برگ‌ها



برگ ذرت، دم‌برگ ندارد.



برگ مرکب از تعدادی برگچه تشکیل شده است، مانند برگ درخت گردو.

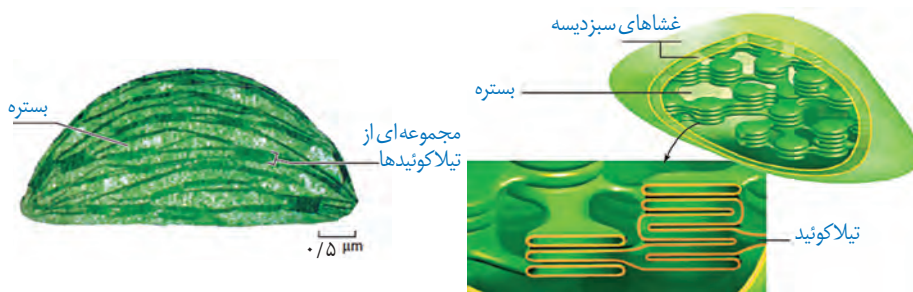


لبه برگ بعضی گیاهان کنگره دار است، مانند برگ درخت بلوط.

رویی قرار دارند و به هم فشرده‌اند، در حالی که یاخته‌های اسفنجی به سمت روپوست زیرین قرار دارند. میانبرگ در بعضی گیاهان از یاخته‌های اسفنجی تشکیل شده است (شکل ۱-ب).

سبزدیسه: سبزدیسه همانند راکیزه دارای غشای بیرونی و غشای درونی است که از هم فاصله دارند. فضای درون سبزدیسه با سامانه‌ای غشایی به نام **تیلاکوئید** به دو بخش فضای درون تیلاکوئید و **بستره** تقسیم شده است. تیلاکوئیدها ساختارهای غشایی و کیسه‌مانند و به هم متصل هستند (شکل ۲). بستره دارای دنا، رنا و رناتن است. بنابراین، سبزدیسه مانند راکیزه می‌تواند بعضی پروتئین‌های مورد نیاز خود را بسازد. سبزدیسه نیز می‌تواند به طور مستقل تقسیم شود.

شکل ۲- ساختار سبزدیسه



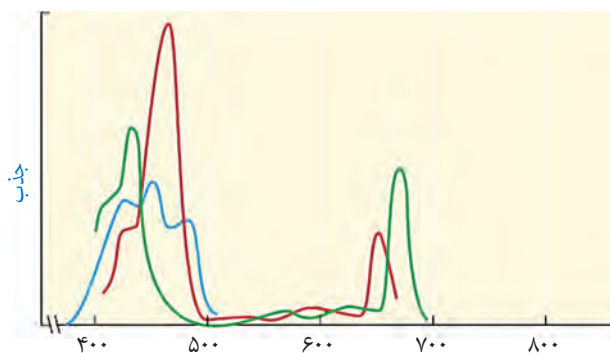
(ب) تصویر گرفته شده با میکروسکوپ الکترونی

(الف) ترسیمی

گفت‌وگو کنید

فعالیت ۱

سبزینه همان‌طور که از نامش پیداست، به رنگ سبز دیده می‌شود. با توجه به آنچه در سال گذشته درباره بینایی آموختید، توضیح دهید این رنگیزه چرا به رنگ سبز دیده می‌شود؟



طول موج (نانومتر)

شکل ۳- طیف جذبی رنگیزه‌های فتوسنتزی. سبزینه a (سبز)، سبزینه b (قرمز) و کاروتنوئیدها (آبی)

رنگیزه‌های فتوسنتزی در غشای تیلاکوئید قرار دارند. افزون بر سبزینه که بیشترین رنگیزه در سبزدیسه‌هاست، کاروتنوئیدها نیز در غشای تیلاکوئید وجود دارند. وجود رنگیزه‌های متفاوت، کارایی گیاه را در استفاده از طول موج‌های متفاوت نور افزایش می‌دهد. در گیاهان سبزینه‌های a و b وجود دارند. بیشترین جذب هر دو نوع سبزینه در محدوده‌های ۴۰۰ تا ۵۰۰ نانومتر (بنفش-آبی) و ۶۰۰ تا ۷۰۰ نانومتر (نارنجی-قرمز) است. گرچه حداکثر جذب آنها در هر یک از این محدوده‌ها با هم فرق می‌کند. کاروتنوئیدها به رنگ‌های زرد، نارنجی و قرمز دیده می‌شوند و بیشترین جذب آنها در بخش آبی و سبز نور مرئی است (شکل ۳).

فتوسیستم: سامانه تبدیل انرژی

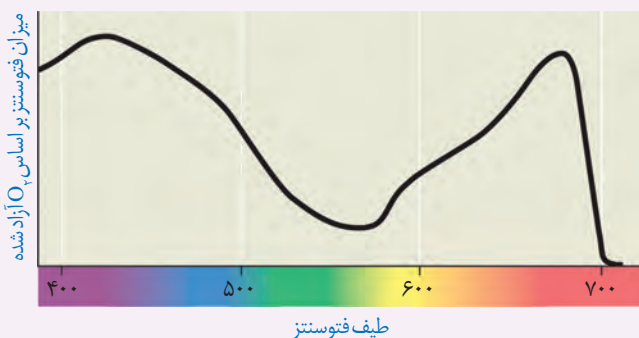
رنگیزه‌های فتوستنتزی همراه با انواعی پروتئین در سامانه‌هایی به نام **فتوسیستم ۱** و **۲** قرار دارند. هر فتوسیستم شامل **آنتن‌های گیرنده نور** و یک **مرکز واکنش** است. هر آنتن که از رنگیزه‌های متفاوت (کلروفیل‌ها و کاروتنوئیدها) و انواعی پروتئین ساخته شده است، انرژی نور را می‌گیرد و به مرکز واکنش منتقل می‌کند. مرکز واکنش، شامل مولکول‌های کلروفیل **a** است که در بستری پروتئینی قرار دارند. حداکثر جذب سبزینه **a** در مرکز واکنش فتوسیستم ۱، در طول موج ۷۰۰ نانومتر و حداکثر جذب آن در فتوسیستم ۲، در طول موج ۶۸۰ نانومتر است. بر همین اساس، به سبزینه **a** در فتوسیستم ۱، **P۷۰۰** و در فتوسیستم ۲، **P۶۸۰** می‌گویند.

فتوسیستم‌ها در غشای تیلاکوئید قرار دارند و با مولکول‌هایی به نام **ناقل الکترون** به هم مرتبط می‌شوند. این مولکول‌ها می‌توانند الکترون بگیرند یا اینکه الکترون از دست بدهند (کاهش و اکسایش).

فعالیت ۲

ارائه دلیل

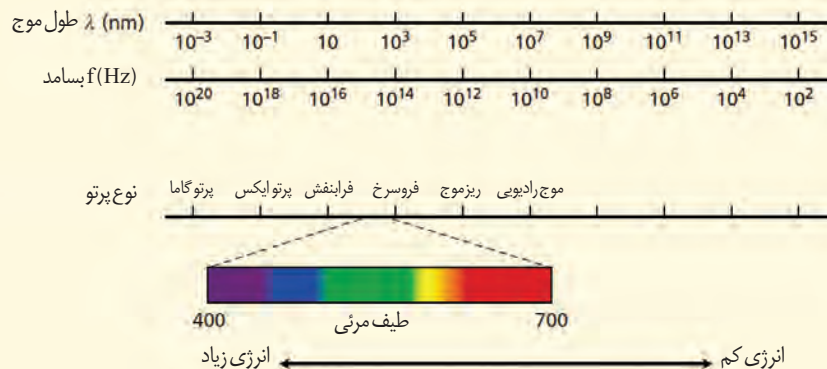
نمودار زیر میزان فتوستنتز یک گیاه را نشان می‌دهد. این نمودار را با نمودار شکل ۳ مقایسه کنید و نتایجی را که از آن به دست می‌آورید، بنویسید.



بیشتر بدانید

طیف الکترومغناطیس

بخش مرئی نور، بخش کوچکی از طیف الکترومغناطیس است. طیف الکترومغناطیس را در کتاب فیزیک ۳ مطالعه می‌کنید.



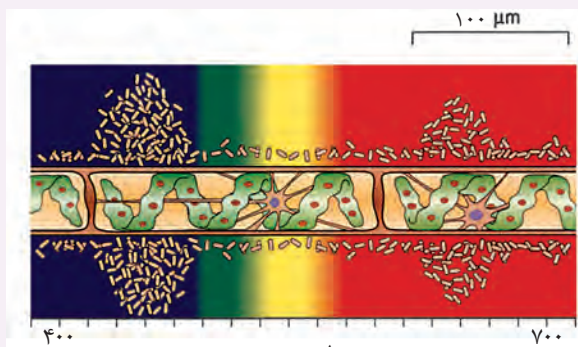
آیا همه طول موج های نور مرئی به یک اندازه در فتوسنتز نقش دارند؟ می توان با استفاده از اسپروژیر (جلبک سبز رشته ای)، نوعی باکتری هوازی، چشمه نور و منشور - برای تجزیه نور - آزمایشی را برای پاسخ به این پرسش

انجام داد.

اسپیروژیر سبز دیسه های نواری و دراز دارد (شکل الف). اگر همه طول موج های نور به یک اندازه در فتوسنتز مؤثر باشند، انتظار داریم که تراکم اکسیژن در اطراف جلبک رشته ای یکسان باشد.

در آزمایشی که برای بررسی این فرض انجام شد، جلبک را روی سطحی ثابت کردند و درون لوله آزمایشی شامل آب و باکتری های هوازی قرار دادند. لوله آزمایش در برابر نوری قرار گرفت که از منشور عبور کرده و به طیف های متفاوت تجزیه شده بود. بعد از گذشت مدتی، مشاهده شد که باکتری ها در بعضی قسمت ها تجمع یافته اند (شکل ب).

الف) چه توضیحی برای این مشاهده دارید؟ با چه آزمایشی می توانید درستی این توضیح را بررسی کنید؟
ب) آیا از این آزمایش می توان نتیجه گرفت که سبزینه، رنگزه اصلی در فتوسنتز است؟ پاسخ خود را توضیح دهید.



طیف مرئی

ب) ترسیمی از نتیجه آزمایش

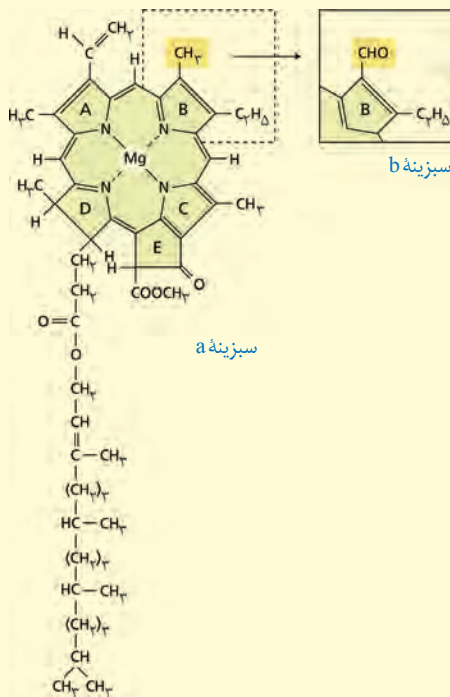


الف) اسپروژیر

بیشتر بدانید

ساختار سبزینه

مولکول سبزینه از دو بخش سر و دم تشکیل شده است. تفاوت سبزینه های a و b به اختلاف اندکی در بخش سر مربوط می شود. جالب است که ساختار بخش سر شبیه بخش هم در مولکول هموگلوبین است؛ با این تفاوت که به جای آهن، منیزیم دارد.



واکنش‌های فتوسنتزی را در دو گروه واکنش‌های وابسته به نور و مستقل از نور قرار می‌دهند. در ادامه به معرفی این دو نوع واکنش می‌پردازیم.

واکنش‌های وابسته به نور: واکنش‌های تیلاکوئیدی

وقتی نور به مولکول‌های رنگیزه می‌تابد، الکترون انرژی می‌گیرد و ممکن است از مدار خود خارج شود. به چنین الکترونی، **الکترون برانگیخته** می‌گویند، زیرا پتانسیل و از مدار خود خارج شده است. الکترون برانگیخته ممکن است با انتقال انرژی به مولکول رنگیزه بعدی، به مدار خود برگردد یا از رنگیزه خارج و به وسیله رنگیزه یا مولکولی دیگر گرفته شود (شکل ۴).

در فتوسنتز، انرژی الکترون‌های برانگیخته در رنگیزه‌های موجود در آن‌ها از رنگیزه‌ای به رنگیزه دیگر منتقل و در نهایت، به مرکز واکنش می‌رود و در آنجا سبب ایجاد الکترون برانگیخته در سبزینه a و خروج الکترون از آن می‌شود (شکل ۵).

الکترون برانگیخته از فتوسیستم ۲ بعد از عبور از زنجیره انتقال الکترون به مرکز واکنش در فتوسیستم ۱ می‌رود. همچنین، الکترون برانگیخته از فتوسیستم ۱ در نهایت به مولکول $NADP^+$ می‌رسد (شکل ۶).

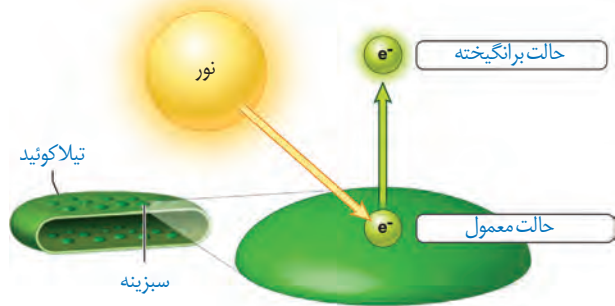
دو نوع زنجیره انتقال الکترون در غشای تیلاکوئید وجود دارد. یک زنجیره بین فتوسیستم ۲ و فتوسیستم ۱ و دیگری بین فتوسیستم ۱ و $NADP^+$ قرار دارد.

$NADP^+$ با گرفتن دو الکترون، بار منفی پیدا می‌کند و با ایجاد پیوند با پروتون به مولکول $NADPH$ تبدیل می‌شود (واکنش ۲).



با توجه به شکل ۶ درمی‌یابیم الکترونی که از سبزینه a در مرکز واکنش فتوسیستم ۲ می‌آید، کمبود الکترون سبزینه a در فتوسیستم ۱

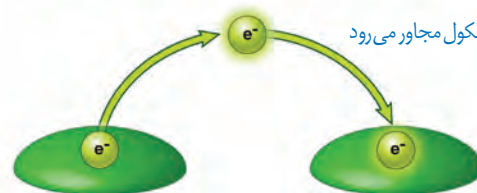
ایجاد الکترون برانگیخته بر اثر تابش نور



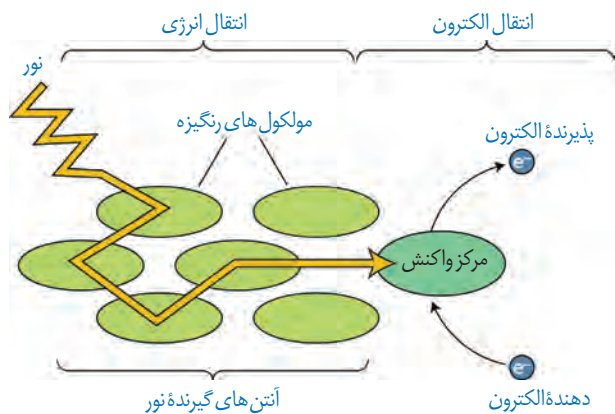
الف) الکترون برانگیخته انرژی را به مولکول مجاور منتقل می‌کند و به سطح انرژی قبلی خود برمی‌گردد.



ب) یا به مولکول مجاور می‌رود



شکل ۴- ایجاد الکترون برانگیخته و سرانجام آن



شکل ۵- انتقال انرژی به مرکز واکنش و خروج الکترون از آن

۱- Nicotinamid Adenine Dinucleotide Phosphate

بیشتر بدانید

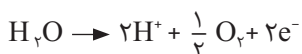
نام گذاری فتوسیستم ها

شاید انتظار داشته باشید چون فتوسیستم ۲ قبل از فتوسیستم ۱ فعالیت می کند، نام آنها برعکس باشد. اما به این دلیل که ابتدا فتوسیستم ۱ کشف شده بود، فتوسیستم بعدی را فتوسیستم ۲ نامیدند. فتوسیستم ۲ در دهه ۵۰ میلادی و چند سال بعد از فتوسیستم ۱ شناسایی شد.

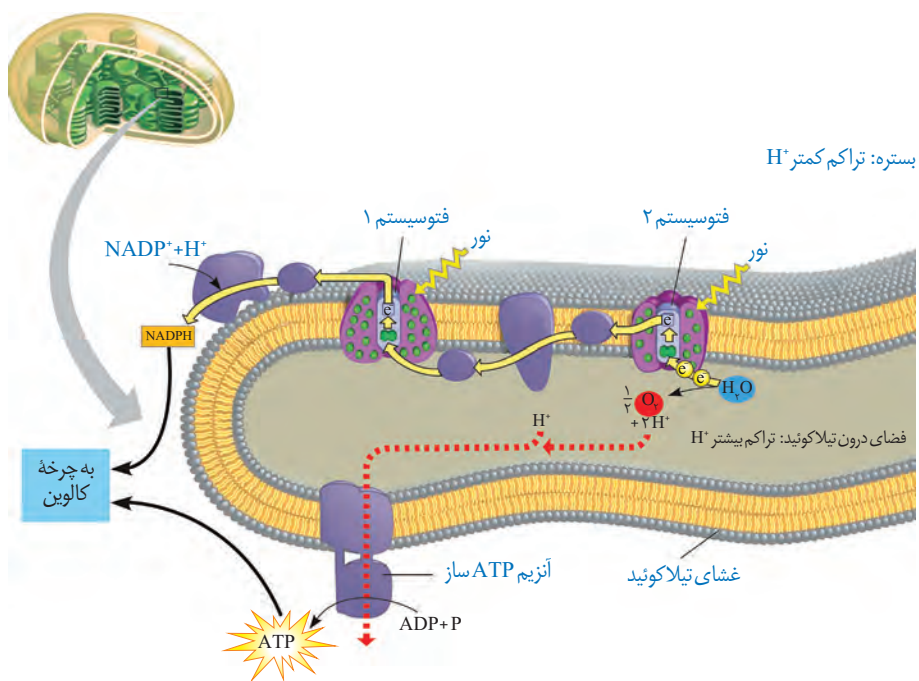
را جبران می کند، اما کمبود الکترون سبزینه a در فتوسیستم ۲ چگونه جبران می شود؟

تجزیه نوری آب: به شکل ۶ نگاه کنید: در این شکل می بینید، مولکول های آب تجزیه می شوند و الکترون های حاصل از آن به فتوسیستم ۲ می روند. تجزیه آب به علت فرایندهایی است که به اثر نور مربوط می شود. بنابراین به آن، تجزیه نوری آب می گویند.

تجزیه نوری آب در فتوسیستم ۲ و در سطح داخلی تیلاکوئید انجام می شود. حاصل تجزیه آب در فتوسیستم ۲، الکترون، پروتون و اکسیژن است (واکنش ۳). الکترون ها، کمبود الکترونی سبزینه a در مرکز واکنش فتوسیستم ۲ را جبران می کنند و پروتون ها در فضای درون تیلاکوئیدها تجمع می یابند.



واکنش ۳- تجزیه آب



شکل ۶- طرحی از فتوسیستم ها و انتقال الکترون در واکنش های نوری

ساخته شدن ATP در فتوستنز

یکی از اجزای زنجیره انتقال الکترون که بین فتوسیستم ۲ و ۱ قرار دارد، پروتئینی است که یون های H^+ را از بستره به فضای درون تیلاکوئیدها پمپ می کند. بنابراین، با گذشت زمان تعدادی پروتون از بستره به فضای درون تیلاکوئید وارد می شود.

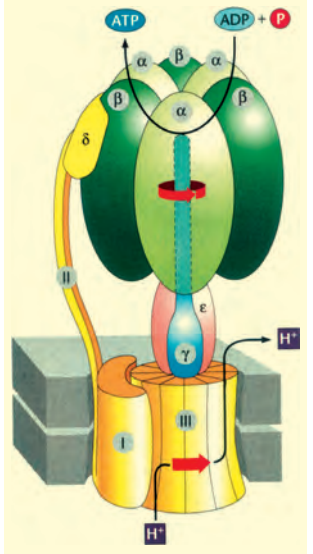
همچنین دانستیم که تعدادی پروتون از تجزیه آب، درون فضای تیلاکوئید به وجود می آید. در نتیجه، به تدریج بر تراکم پروتون ها در فضای درون تیلاکوئیدها نسبت به بستره افزوده می شود.

پروتون ها بر اساس شیب غلظت خود می خواهند از فضای درون تیلاکوئید به بستره بروند، اما نمی توانند از طریق انتشار از غشای تیلاکوئید عبور کنند. پس، پروتون ها از چه راهی به بستره می روند؟ در غشای تیلاکوئید مجموعه ای پروتئینی به نام **آنزیم ساز ATP** وجود دارد. این آنزیم مشابه آنزیم

بیشتر بدانید

آنزیم ATP ساز در سبزیسه

شکل زیر طرحی از آنزیم ATP ساز را در غشای تیلاکوئید نشان می دهد. با عبور پروتون از بخش کانال این آنزیم، سر می چرخد و در جهت مناسب برای ترکیب ADP با فسفات قرار می گیرد. در نتیجه ATP ساخته می شود.



بیشتر بدانید

ارتباط با شیمی

در کتاب شیمی ۳ با مفهوم عدد اکسایش اتم در گونه (ترکیب) و چگونگی تعیین آن آشنا شده اید.

ATP ساز در راکیزه است. پروتون ها فقط از طریق این آنزیم می توانند به بستره منتشر شوند. همانند آنچه در راکیزه رخ می دهد، همراه با عبور پروتون ها از این آنزیم، ATP ساخته می شود. به ساخته شدن ATP در واکنش های نوری، ساخته شدن نوری ATP می گویند، زیرا حاصل فرایندی است که با نور به راه می افتد.

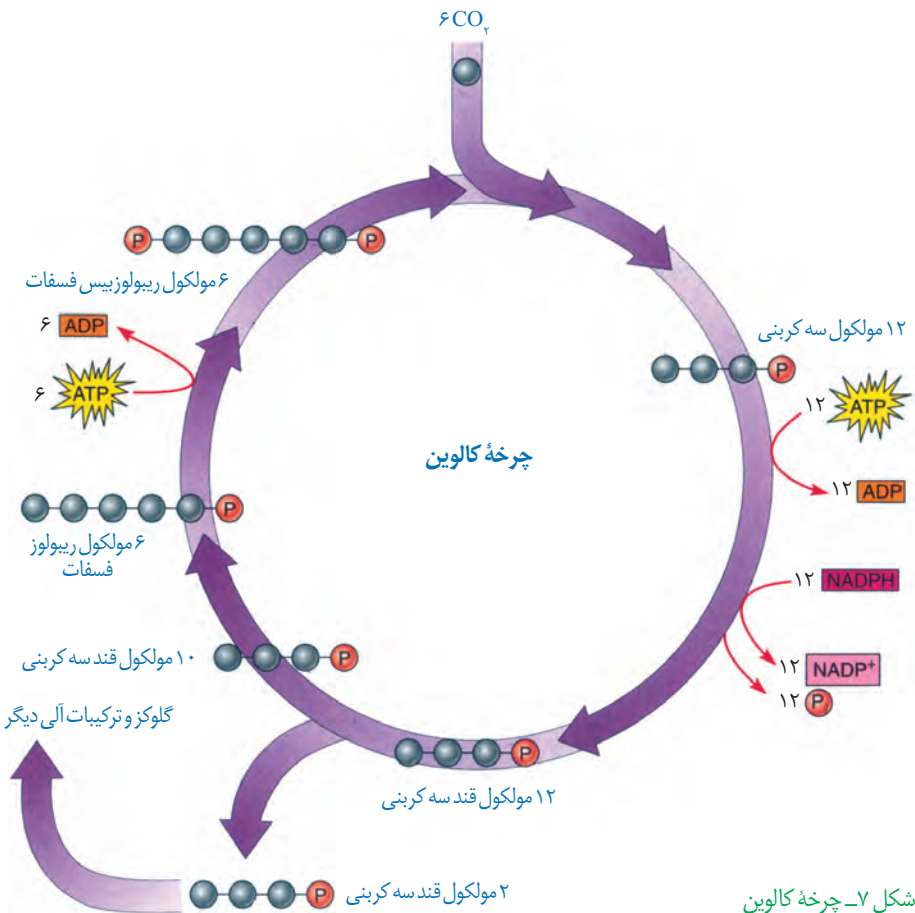
واکنش های مستقل از نور: واکنش های تثبیت کربن

می دانیم که در فتوسنتز، مولکول های CO_2 به قند تبدیل می شوند. ساخته شدن این مولکول همانند تجزیه آن به یکباره رخ نمی دهد.

عدد اکسایش اتم کربن در مولکول قند، نسبت به کربن در CO_2 ، کاهش یافته است، بنابراین گیاه برای ساختن قند، به انرژی و منبعی برای تأمین الکترون نیاز دارد که از واکنش های وابسته به نور تأمین می شوند.

ساخته شدن قند در چرخه ای از واکنش ها، به نام چرخه کالوین رخ می دهد (شکل ۷). این واکنش ها در بستره سبزیسه انجام می شوند.

در چرخه کالوین CO_2 با قندی پنج کربنی به نام ریبولوز بیس فسفات ترکیب و مولکول شش کربنی ناپایداری تشکیل می شود. افزوده شدن CO_2 به مولکول پنج کربنی، با آنزیم روبیسکو (ریبولوز بیس



شکل ۷- چرخه کالوین

بیشتر بدانید

شناسایی چرخه کالوین

کشف مواد پرتوزا این امکان را به محققان داد تا با استفاده از این مواد، فرایندهای زیستی را شناسایی کنند. یکی از این فرایندها فتوسنتز بود. ملوین ایلس کالوین و همکارانش با ردیابی ^{14}C در جلبک تک یاخته‌ای سبز، توانستند مراحل متفاوت این فرایند را شناسایی کنند. کالوین که زیست‌شیمی دان بود، از پدرمادری روس که به آمریکا مهاجرت کرده بودند در سال ۱۹۱۱ به دنیا آمد (مرگ ۱۹۹۷). کالوین در سال ۱۹۶۱ موفق به دریافت جایزه نوبل در شیمی برای تحقیقاتش در فتوسنتز شد.



فسفات کربوکسیلاز - اکسیژناز) و فعالیت کربوکسیلازی آن (تشکیل گروه کربوکسیل) انجام می‌شود. هر مولکول شش کربنی که ناپایدار است، بلافاصله تجزیه و دو مولکول اسید سه کربنی ایجاد می‌کند. این مولکول‌ها در نهایت به قندهای سه کربنی تبدیل می‌شوند.

همان طور که در شکل ۷ می‌بینید، تعدادی از این قندها برای ساخته شدن گلوکز و ترکیبات آلی دیگر و تعدادی نیز برای بازسازی ریبولوز بیس فسفات به مصرف می‌رسند.

گرچه واکنش‌های کالوین مستقل از نور انجام می‌شوند، اما انجام این واکنش‌ها وابسته به ATP و NADPH حاصل از واکنش‌های نوری است.

در چرخه کالوین دیدیم که CO_2 برای ساخته شدن ترکیب آلی به کار می‌رود. به فرایند استفاده از CO_2 برای تشکیل ترکیب‌های آلی **تثبیت کربن** می‌گویند.

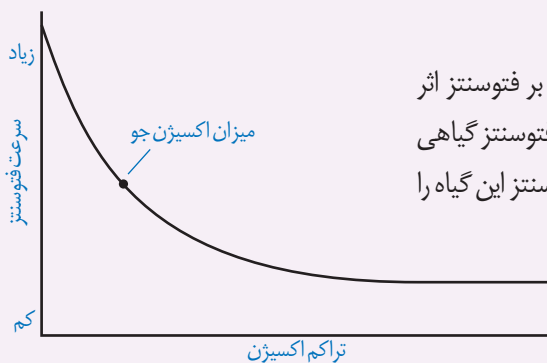
دیدیم اولین ماده آلی پایدار ساخته شده، ترکیبی سه کربنی است؛ به همین علت به گیاهانی که تثبیت کربن در آنها فقط با چرخه کالوین انجام می‌شود، **گیاهان C_3** می‌گویند. اکثر گیاهان C_3 هستند؛ گرچه انواع دیگری از تثبیت کربن در طول حیات گیاهان روی زمین نیز شکل گرفته است که در گفتار بعد به آنها می‌پردازیم.

اثر محیط بر فتوسنتز

بدیهی است فرایندی مانند فتوسنتز تحت تأثیر محیط باشد. به نظر شما چه عوامل محیطی بر فتوسنتز اثر می‌گذارند؟

با توجه به واکنش کلی فتوسنتز، انتظار داریم نور و CO_2 از عوامل مؤثر بر فتوسنتز باشند. مشاهدات نشان می‌دهد، میزان CO_2 ، طول موج، شدت و مدت زمان تابش نور بر فتوسنتز اثر می‌گذارند.

از طرفی فتوسنتز فرایندی آنزیمی است و می‌دانیم بیشترین فعالیت آنزیم‌ها در گستره دمایی خاص انجام می‌شود، بنابراین دما نیز بر فتوسنتز اثر می‌گذارد. همچنین خواهیم دید که میزان اکسیژن نیز بر فتوسنتز اثر دارد.

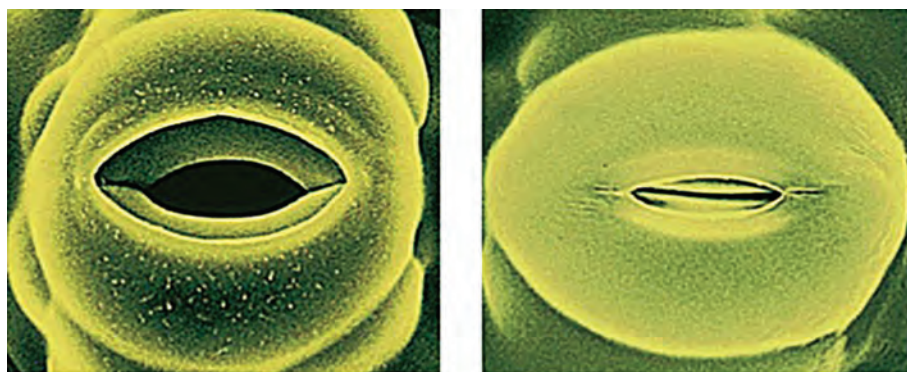


تفسیر کنید

در گفتار بعد خواهیم دید که میزان اکسیژن نیز بر فتوسنتز اثر دارد. نمودار مقابل تأثیر میزان اکسیژن بر میزان فتوسنتز گیاهی C_3 را نشان می‌دهد. با توجه به نمودار، ارتباط بین میزان اکسیژن و فتوسنتز این گیاه را توضیح دهید.

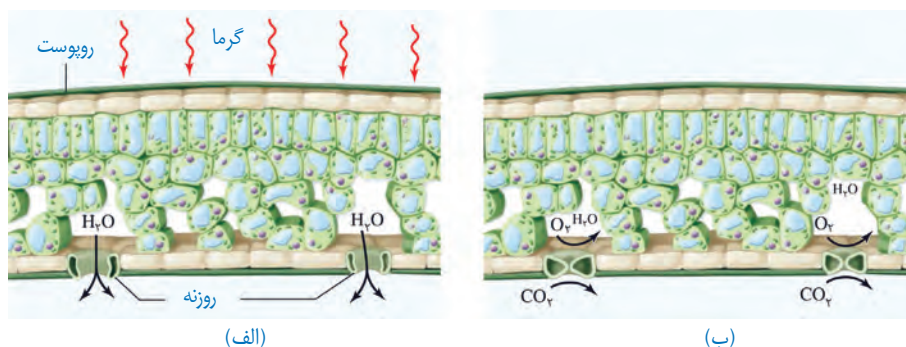
فعالیت ۴

شکل ۸ روزنه را در دو حالت باز و بسته نشان می‌دهد. چه عواملی سبب بسته شدن روزنه می‌شود؟ به یاد دارید که افزایش بیش از حد دما و نور سبب بسته شدن روزنه‌ها می‌شود. بسته شدن روزنه‌ها چه تأثیری می‌تواند بر فتوستنتز داشته باشد؟



شکل ۸- روزنه‌ها برای حفظ آب گیاه بسته می‌شوند.

در چنین شرایطی وقتی روزنه‌ها به منظور کاهش تعرق بسته می‌شوند، تبادل گازهای اکسیژن و کربن دی‌اکسید از روزنه‌ها نیز توقف می‌یابد، اما فتوستنتز همچنان ادامه دارد. بنابراین در حالی که CO_2 برگ کم می‌شود، اکسیژن در آن افزایش می‌یابد (شکل ۹).



شکل ۹- افزایش میزان اکسیژن در اطراف یاخته‌ها به علت بسته شدن روزنه‌ها. وقتی روزنه‌ها باز هستند (الف) نسبت CO_2 به O_2 بیشتر از زمانی است که روزنه‌ها برای حفظ آب گیاه بسته شده‌اند (ب).

در چنین حالتی، وضعیت برای نقش اکسیژنازی آنزیم روبیسکو مساعد می‌شود؛ زیرا نقش کربوکسیلازی یا اکسیژنازی این آنزیم به نسبت CO_2 و اکسیژن در محیط عملکرد آن ارتباط دارد. بنابراین با افزایش اکسیژن در برگ، اکسیژن با ریبولوزیسی فسفات ترکیب می‌شود. مولکول حاصل، ناپایدار است و به دو مولکول سه کربنی و دو کربنی تجزیه می‌شود. مولکول سه کربنی به مصرف بازسازی ریبولوزیسی فسفات می‌رسد.

مولکول دو کربنی از کلروپلاست خارج و در واکنش‌هایی که بخشی از آنها در راکیزه انجام می‌گیرد، از آن مولکول CO_2 آزاد می‌شود. چون این فرایند با مصرف اکسیژن، آزاد شدن CO_2 و همراه با فتوستنتز است، **تنفس نوری** نامیده می‌شود.

در تنفس نوری گرچه ماده آلی تجزیه می‌شود، اما برخلاف تنفس یاخته‌ای، ATP از آن ایجاد

بیشتر بدانید

آیا تنفس نوری بی‌فایده است؟

گرچه تنفس نوری را عامل مزاحمی برای فتوستنتز در نظر می‌گیرند، اما پژوهش‌ها نشان می‌دهد بعضی گیاهان که به علت نقص ژنی تنفس نوری ندارند، در مقایسه با هم‌نوعان خود، آسیب بیشتری از نورهای شدید می‌بینند.

بیشتر بدانید

عملکرد اختصاصی

پذیرنده CO_2 در گیاهان C_4 فسفوانول پیرووات است. این اسید با فعالیت آنزیم فسفوانول پیرووات کربوکسیلاز با CO_2 ترکیب و اسید چهار کربنی (مالات یا اگزالات) تشکیل می‌شود. جایگاه فعال آنزیم فسفوانول پیرووات کربوکسیلاز به شکلی است که فقط کربن دی‌اکسید در آن قرار می‌گیرد.

نمی‌شود. بنابراین تنفس نوری باعث کاهش فرآورده‌های فتوسنتز می‌شود.

به هر حال انواعی از گیاهان وجود دارند که در محیط‌های با دمای بالا و تابش شدید نور خورشید زندگی می‌کنند. این گیاهان با چه سازوکاری توانسته‌اند تنفس نوری خود را کاهش دهند؟

فتوسنتز در گیاهان C_4

یکی از سازوکارها برای ممانعت تنفس نوری، در گیاهانی وجود دارد که به گیاهان C_4 معروف‌اند. یاخته‌های **غلاف آوندی** در این گیاهان سبز دیسه دارند و محل انجام چرخه کالوین‌اند، در حالی که در گیاهان C_3 ، سبز دیسه ندارند (شکل ۱۰).

تثبیت کربن در این گیاهان در دو مرحله، ابتدا در یاخته‌های میانبرگ و سپس در یاخته‌های غلاف آوندی انجام می‌شود که در ادامه به آن می‌پردازیم.

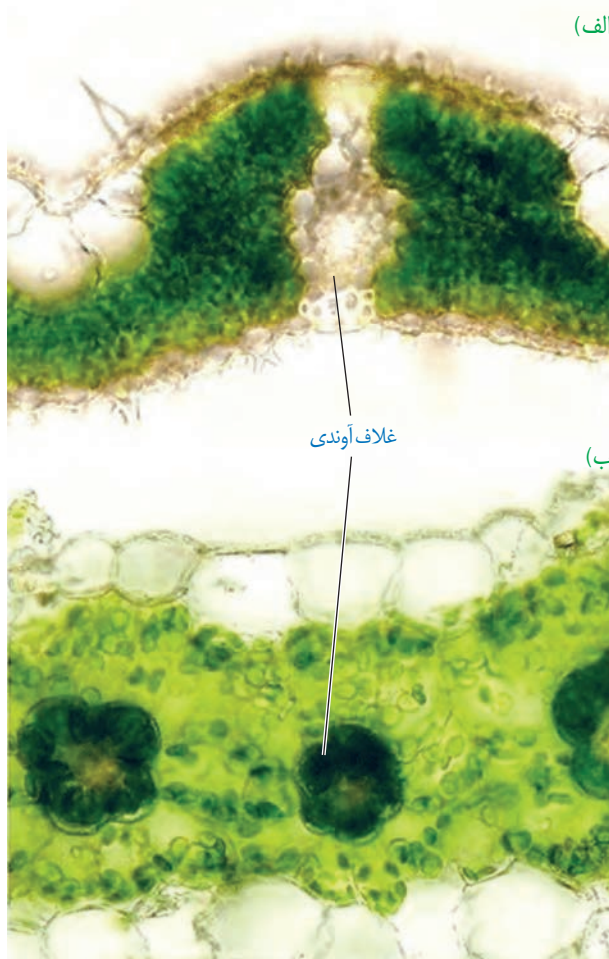
(الف) در گیاهان C_4 ، CO_2 در یاخته‌های میانبرگ با اسیدی سه کربنی ترکیب و در نتیجه اسیدی چهار کربنی ایجاد می‌شود. به همین علت به این گیاهان، گیاهان C_4 می‌گویند؛ زیرا اولین ماده پایدار حاصل از تثبیت کربن، ترکیبی چهار کربنی است.

آنزیمی که در ترکیب CO_2 با اسید سه کربنی و تشکیل اسید چهار کربنی نقش دارد، برخلاف روییسکو به طور اختصاصی با CO_2 عمل می‌کند و تمایلی به اکسیژن ندارد.

اسید چهار کربنی از یاخته‌های میانبرگ از طریق پلاسمودسم‌ها به یاخته‌های غلاف آوندی منتقل می‌شود. در این یاخته‌ها، مولکول CO_2 از اسید چهار کربنی آزاد و وارد چرخه کالوین می‌شود. اسید سه کربنی باقیمانده نیز به یاخته‌های میانبرگ برمی‌گردد.

در گیاهان C_4 با وجود عملکرد آنزیم‌های گوناگون در تثبیت کربن و تقسیم مکانی آن در دو نوع یاخته، میزان CO_2 در محل فعالیت آنزیم روییسکو، به اندازه‌ای بالا نگه داشته می‌شود که بازدارنده تنفس نوری است. بنابراین، تنفس نوری به ندرت در این گیاهان روی می‌دهد.

این گیاهان در دماهای بالا، شدت‌های زیاد نور و کمبود آب، در حالی که روزنه‌ها بسته شده‌اند تا از تبخیر آب جلوگیری شود، همچنان میزان CO_2 را در محل عملکرد آنزیم روییسکو بالا نگه می‌دارند. به همین علت کارایی آنها در چنین شرایطی بیش از گیاهان C_3 است.



شکل ۱۰- الف) برگ گیاه C_4

ب) برگ گیاه C_3

فتوسنتز در گیاهان CAM

بعضی گیاهان در مناطقی زندگی می‌کنند که با مسئله دما و نور شدید در طول روز و کمبود آب مواجه‌اند. در این گیاهان برای جلوگیری از هدر رفتن آب، روزنه‌ها در طول روز بسته و در شب بازند. برگ،

ساقه یا هردوی آنها در چنین گیاهانی گوشتی و پرآب است. این گیاهان در واکوئول‌های خود ترکیباتی دارند که آب را نگه می‌دارند.

تثبیت کربن در این گیاهان، مانند گیاهان C_4 است، با این تفاوت که تثبیت کربن در آنها در یاخته‌های متفاوت نیست و به عبارتی تقسیم‌بندی مکانی نشده، بلکه در زمان‌های متفاوت انجام می‌شود. تثبیت اولیه کربن در شب که روزنه‌ها بازند و چرخه کالوین در روز انجام می‌شود که روزنه‌ها بسته‌اند. آناناس از گیاهان CAM^۱ (گم) است.



آناناس



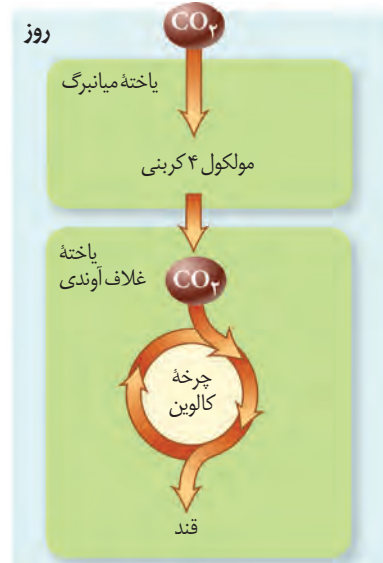
ذرت



گل‌رز



پ



ب



الف

شکل ۱-۱ مقایسه فتوسنتز در گیاهان الف (C_3 ، ب C_4 و پ) CAM

فعالیت ۵

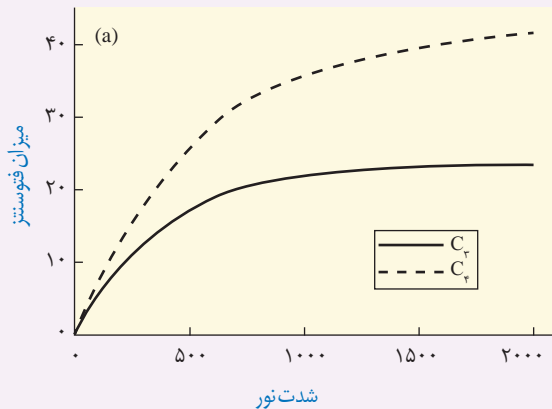
گفت‌وگو کنید

سه گیاه الف، ب و پ داریم. با فرض اینکه فتوسنتز هیچ یک از این گیاهان یکسان نباشد، به پرسش‌های زیر پاسخ دهید.

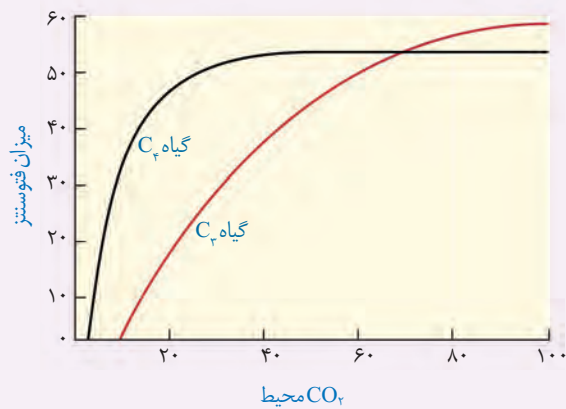
۱- الف) عصاره برگ هریک از این گیاهان در دو زمان، یکی در آغاز تاریکی (شب) و دیگری در آغاز روشنایی (صبح)

استخراج و pH آنها اندازه‌گیری شد. pH عصاره گیاه ب در آغاز روشنایی نسبت به آغاز تاریکی اسیدی‌تر بود. گیاه «ب» چه نوع فتوسنتزی دارد؟

ب) برای تشخیص نوع فتوسنتز گیاه الف و پ چه راهی پیشنهاد می‌دهید؟ آیا ساختار این گیاهان در تشخیص نوع فتوسنتز به شما کمک می‌کند؟
 ۲- نمودارهای ۱ و ۲ به ترتیب اثر کربن دی‌اکسید جو و شدت نور را بر فتوسنتز دو گیاه C_۳ و C_۴ نشان می‌دهند. چه نتیجه‌ای از این نمودارها می‌گیرید؟



نمودار ۲



نمودار ۱

بیشتر بدانید

گیاهان C_۴ سهم اندکی از گیاهان را به خود اختصاص می‌دهند. بیشتر گیاهان C_۳ تک لپه‌اند، اما انواع دولپه‌ای نیز وجود دارد. گیاه تاج خروس از دولپه‌ای‌های C_۴ است. بعضی دانشمندان پیش‌بینی می‌کنند با توجه به گرم شدن کره زمین، شاهد انواع بیشتری از گیاهان C_۴ در کره زمین باشیم.



جانداران فتوسنتزکننده دیگر

بخش عمده فتوسنتز را جاندارانی انجام می‌دهند که گیاه نیستند و در خشکی زندگی نمی‌کنند. انواعی از باکتری‌ها و آغازیان در محیط‌های متفاوت خشکی و آبی فتوسنتز می‌کنند که در ادامه به آنها می‌پردازیم.

باکتری‌ها: باکتری‌هایی که فتوسنتز می‌کنند، سبز دیسه ندارند، اما دارای رنگیزه‌های جذب‌کننده نورند.

بعضی باکتری‌ها سبزینه دارند. مثلاً سیانوباکتری‌ها سبزینه a دارند و همانند گیاهان با استفاده از CO_۲ و نور ماده آلی می‌سازند؛ و چون همانند گیاهان در فرایند فتوسنتز اکسیژن تولید می‌کنند، باکتری‌های فتوسنتزکننده اکسیژن‌زا نامیده می‌شوند.


گروهی دیگر از باکتری‌ها، فتوسنتزکننده غیراکسیژن‌زا هستند. باکتری‌های گوگردی ارغوانی و سبز از این گروه‌اند. رنگیزه فتوسنتزی این باکتری‌ها، **باکتروکلروفیل** است. این باکتری‌ها کربن دی‌اکسید را جذب می‌کنند، اما اکسیژن تولید نمی‌کنند؛ زیرا منبع تأمین الکترون در آنها ترکیبی به غیر از آب است. مثلاً در باکتری‌های گوگردی منبع تأمین الکترون H_۲S است و به جای اکسیژن، گوگرد ایجاد می‌شود. از این باکتری‌ها در تصفیه فاضلاب‌ها برای حذف هیدروژن سولفید استفاده می‌کنند. هیدروژن سولفید گازی بی‌رنگ است و بویی شبیه تخم مرغ گندیده دارد.

واکنش ۴- فتوسنتز در باکتری‌های گوگردی



شیمیوستنز در اعماق اقیانوس

در اعماق اقیانوس شکاف‌هایی وجود دارد که از آنها گاز سولفید هیدروژن خارج می‌شود. با وجود فشار و گرمای زیاد، انواعی از کرم‌های لوله‌ای در آنجا وجود دارند. در بدن این کرم‌ها، باکتری‌های شیمیوستنز کننده زندگی می‌کنند، که با اکسایش هیدروژن سولفید، انرژی مورد نیاز برای ساخت ماده آلی را به دست می‌آورند. زیست این کرم‌ها وابسته به غذایی است که این باکتری‌ها برای آنها می‌سازند.



آغازیان: آغازیان نقش مهمی در تولید ماده آلی از ماده معدنی دارند. می‌دانید که جلبک‌های سبز، قرمز و قهوه‌ای از آغازیان هستند و فتوستنز می‌کنند. اوگلنایی که در شکل ۱۲ می‌بینید، جاننداری تک‌یاخته‌ای و مثال دیگری از آغازیان فتوستنز کننده است. این جاندار در حضور نور فتوستنز می‌کند و در صورتی که نور نباشد، سبزدیسه‌های خود را از دست می‌دهد و با تغذیه از مواد آلی، ترکیبات مورد نیاز خود را به دست می‌آورد.



شکل ۱۲- اوگلنا

شیمیوستنز

آیا ساختن ماده آلی از ماده معدنی فقط محدود به فتوستنز و جاندارانی است که از انرژی نور استفاده می‌کنند؟ آیا تولیدکنندگان در اعماق تاریک وجود ندارند؟ امروزه می‌دانیم انواعی از باکتری‌ها در معادن، اعماق اقیانوس‌ها و اطراف دهانه آتشفشان‌های زیر آب وجود دارند که می‌توانند بدون نیاز به نور از کربن دی‌اکسید ماده آلی بسازند. زیستن در چنین مناطقی برای بسیاری از جانداران غیرممکن است. دانشمندان بر اساس وضعیت زمین در آغاز شکل‌گیری حیات، بر این باورند که **باکتری‌های شیمیوستنز کننده** از قدیمی‌ترین جانداران روی زمین‌اند. چنین باکتری‌هایی، انرژی مورد نیاز برای ساختن مواد آلی از مواد معدنی را از واکنش‌های اکسایش به دست می‌آورند. به این فرایند **شیمیوستنز** می‌گویند. باکتری‌های نیترات ساز که آمونیوم را به نیترات تبدیل می‌کنند، از باکتری‌های شیمیوستنز کننده‌اند.



فصل ۷

فناوری‌های نوین زیستی

آیا تاکنون دربارهٔ تولید پلاستیک‌های قابل تجزیه زیستی شنیده‌اید؟ با توجه به اهمیت محیط زیست و حفظ آن، تولید و استفاده از چنین پلاستیک‌هایی راهکار مناسبی برای پیشگیری از مصرف بی‌رویه پلاستیک‌های غیرقابل تجزیه است. امروزه به کمک روش‌های زیست فناوری، تولید پلاستیک‌های قابل تجزیه با صرف هزینه کمتر ممکن شده است. این کار با وارد کردن ژن‌های تولیدکننده بسیاری از این نوع مواد از باکتری به گیاه امکان‌پذیر است.

چگونه می‌توان از فناوری‌های زیستی برای بهبود زندگی انسان و حفظ محیط زیست استفاده کرد؟

آیا می‌توان با استفاده از آنها همه مشکلات بشر را حل کرد؟

انسان از نظر اخلاقی تا چه حد می‌تواند این فناوری‌ها را به خدمت بگیرد؟

در این فصل با این فناوری‌ها آشنا می‌شویم و می‌توانیم در آخر، به بخشی از پرسش‌های مطرح شده در مورد این فناوری‌ها پاسخ دهیم.



همان طور که می دانیم جهش در یک ژن و در نتیجه، تغییر در محصول آن می تواند به بروز بیماری منجر شود. اختلال در عملکرد و مقدار عوامل مؤثر در انعقاد خون از این دسته هستند. با توجه به افزایش افراد نیازمند به این ترکیبات، تأمین نیاز دارویی آنها با مشکل مواجه می شود.

امروزه استفاده از روش های زیست فناوری^۱ و مهندسی ژنتیک^۲ تحولات مهمی در زمینه تولید چنین فرآورده هایی فراهم آورده است. تا چندی پیش، انتقال ژن های انسان به داخل یاخته های سایر موجودات زنده و یا استفاده از باکتری ها برای ساختن پروتئین های انسانی غیر قابل تصور بود اما اکنون روش های لازم برای تحقق آن توسعه یافته و کاربرد فراوانی پیدا کرده است. آیا می دانید چگونه می توان از باکتری برای ساختن یک پروتئین انسانی استفاده کرد؟ فرض کنید می خواهیم باکتری را برای ساختن هورمون رشد انسانی تغییر دهیم، پس ضرورت دارد تمام احتیاجات این فرایند را در یاخته باکتری فراهم کنیم. در ادامه مطلب با مراحل این روش آشنا خواهیم شد.

زیست فناوری چیست؟

به طور کلی به هرگونه فعالیت هوشمندانه آدمی در تولید و بهبود محصولات گوناگون با استفاده از موجود زنده، زیست فناوری گویند.

زیست فناوری قلمروی بسیار گسترده دارد و روش هایی مانند مهندسی ژنتیک، مهندسی پروتئین و بافت را در بر می گیرد. زیست فناوری از گرایش های علمی متعددی مانند علوم زیستی، فیزیک، ریاضیات و علوم مهندسی بهره می برد. کاربردهای فراوان زیست فناوری، آن را به عنوان نشانه پیشرفت کشورها در قرن حاضر و به یکی از ابزارهای مهم برای تأمین نیازهای متنوع تبدیل کرده است.

تاریخچه زیست فناوری

برای زیست فناوری، که از سال های بسیار دور آغاز شده است، سه دوره در نظر می گیرند:

زیست فناوری سنتی: تولید محصولات تخمیری مانند سرکه، نان و فرآورده های لبنی با استفاده از فرایندهای زیستی مربوط به این دوره است.

زیست فناوری کلاسیک: با استفاده از روش های تخمیر و کشت ریز جانداران (میکروارگانیسم ها) تولید موادی مانند پادزیست ها، آنزیم ها و مواد غذایی در این دوره ممکن شد.

زیست فناوری نوین: این دوره با انتقال ژن از یک ریز جاندار به ریز جاندار دیگر آغاز شد. دانشمندان توانستند با تغییر و اصلاح خصوصیات ریز جانداران، ترکیبات جدید را با مقادیر بیشتر و کارایی بالاتر تولید کنند.

بیشتر بدانید

تاکنون تعاریف متعددی برای زیست فناوری ارائه شده است که علت آن را باید در ماهیت زیست فناوری جست و جو کرد. فرهنگستان علوم جمهوری اسلامی ایران زیست فناوری را چنین تعریف می کند: «تولید فرآورده ها از طریق فرایند زیستی که مستلزم فنون مهندسی است».

بیشتر بدانید

شاخه های زیست فناوری

امروزه متخصصان، این رشته را به شاخه های مختلفی از قبیل کشاورزی، پزشکی، دارویی، دامی، میکروبی، قضایی یا پزشکی قانونی، غذایی، صنعتی و... تقسیم بندی کرده اند.

در برخی تقسیم بندی ها به شاخه های زیست فناوری رنگ اختصاص داده اند که عبارتند از:

- سبز: زیست فناوری کشاورزی؛ بهره برداری از گیاهان دست وری شده ژنتیکی

- قرمز: زیست فناوری پزشکی؛ بهره برداری از یاخته های دست وری شده برای درمان، تولید دارو و مسائل قضایی و پزشکی قانونی

- خاکستری: زیست فناوری محیط زیست؛ جلوگیری و رفع مشکلات محیط زیست

- سفید: زیست فناوری صنعتی؛ استفاده از موجودات زنده در مسائل صنعتی مثلاً ساخت مواد شیمیایی

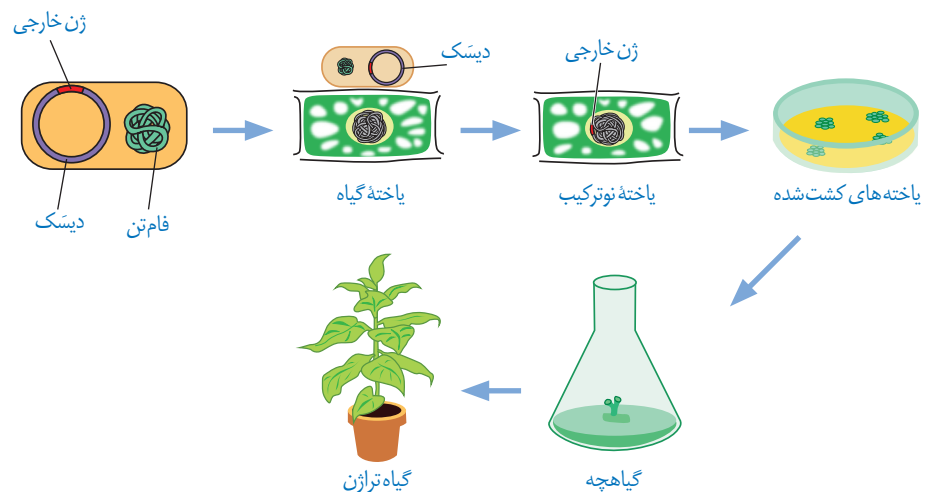
- آبی: زیست فناوری دریایی؛ بهره برداری از فرایندهای دریایی و موجودات آبی

۱- Biotechnology

۲- Genetic Engineering

یکی از روش‌های مؤثر در زیست فناوری نوین، مهندسی ژنتیک است. در مهندسی ژنتیک قطعه‌ای از دنا یا یک یاخته توسط ناقل به یاخته‌ای دیگر انتقال می‌یابد. در این حالت، یاخته دریافت‌کننده قطعه دنا دچار دست‌ورزی ژنتیکی و دارای صفت جدید می‌شود. به جاندار که از طریق مهندسی ژنتیک دارای ترکیب جدیدی از مواد ژنتیکی شده است، جاندار **تغییر یافته ژنتیکی**^۱ یا **تراژنی**^۲ می‌گویند. گرچه این روش ابتدا با باکتری‌ها شروع شد؛ اما پیشرفت‌های بعدی، امکان دست‌ورزی ژنتیکی برای سایر موجودات زنده مثل گیاهان و جانوران را نیز فراهم کرد. مثلاً مراحل ایجاد گیاهان زراعی تراژنی از طریق مهندسی ژنتیک را می‌توان به صورت زیر خلاصه کرد:

۱- تعیین صفت یا صفات مطلوب ۲- استخراج ژن یا ژن‌های صفت مورد نظر ۳- آماده‌سازی و انتقال ژن به گیاه ۴- تولید گیاه تراژنی ۵- بررسی دقیق ایمنی زیستی و اثبات بی‌خطر بودن برای سلامت انسان و محیط زیست ۶- تکثیر و کشت گیاه تراژنی با رعایت اصول ایمنی زیستی.
شکل ۱ بعضی از این مراحل را نشان می‌دهد.



شکل ۱- تولید یک گیاه تراژنی

مراحل مهندسی ژنتیک

یکی از اهداف مهندسی ژنتیک تولید انبوه ژن و فرآورده‌های آن است. تولید انبوه ژن با همسانه‌سازی دنا^۳ انجام می‌شود. جداسازی یک یا چند ژن و تکثیر آنها را **همسانه‌سازی دنا** می‌گویند. در همسانه‌سازی دنا مادهٔ وراثتی با ابزارهای مختلفی در خارج از یاخته تهیه و به وسیلهٔ یک **ناقل همسانه‌سازی**^۴ به درون ژنوم میزبان منتقل می‌شود. هدف از این کار تولید مقادیر زیادی از دنا خالص است که می‌تواند برای دست‌ورزی، تولید یک مادهٔ بخصوص و یا مطالعه مورد استفاده قرار گیرد.
برای این منظور مراحل زیر انجام می‌شود:

جداسازی قطعه‌ای از دنا: این کار به وسیلهٔ **آنزیم‌های برش دهنده**^۵ انجام می‌شود. این آنزیم‌ها در باکتری‌ها وجود دارند و قسمتی از سامانهٔ دفاعی آنها محسوب می‌شوند. اولین مرحله از همسانه‌سازی

۱- Genetically Modified Organism

۲- Transgenic Organism

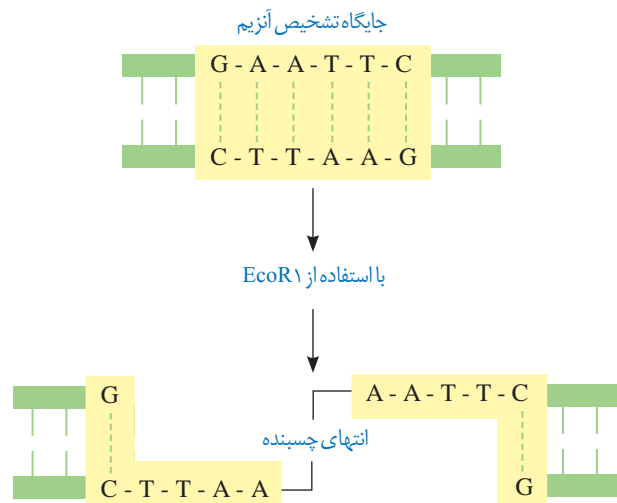
۳- DNA Cloning

۴- Cloning Vector

۵- Restriction Enzyme

که جداسازی ژن‌ها است، به وسیله این آنزیم‌ها انجام می‌شود. این آنزیم‌ها توالی‌های نوکلئوتیدی خاصی را در دنا تشخیص و برش می‌دهند. مثلاً آنزیم EcoR₁ توالی شش جفت نوکلئوتیدی GAATTC/CTTAAG را شناسایی و برش می‌دهد. به این توالی **جایگاه تشخیص آنزیم** گفته می‌شود (شکل ۲).

همان‌طور که در شکل می‌بینید در جایگاه تشخیص آنزیم EcoR₁، توالی نوکلئوتیدی هر دو رشته دنا از دو سمت مخالف یکسان خوانده می‌شود. این آنزیم پیوند فسفودی استر بین نوکلئوتید گوانین‌دار و آدنین‌دار هر دو رشته را برش می‌زند. در نتیجه، انتهای از مولکول دنا ایجاد می‌شود که یک رشته آن بلندتر از رشته مقابل است و به آن **انتهای چسبنده** می‌گویند. برای تشکیل چنین انتهایی از مولکول دنا، علاوه بر پیوندهای فسفودی استر، پیوندهای هیدروژنی بین دو رشته دنا در منطقه تشخیص نیز شکسته می‌شوند. استفاده از آنزیم‌های برش دهنده، دنا را به قطعات کوتاه‌تری تبدیل می‌کند. این قطعات را با روش‌های خاصی جدا می‌کنند و تشخیص می‌دهند.

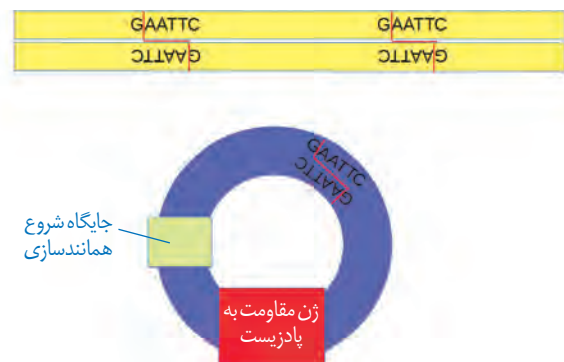


شکل ۲- برش مولکول دنا توسط آنزیم EcoR₁

اتصال قطعه دنا به ناقل و تشکیل دنا نوترکیب: مرحله

بعدی، اتصال قطعه دنا جداسازی شده به ناقل همسانه‌سازی است. این ناقلین، توالی‌های دنا هستند که در خارج از فام‌تن اصلی قرار دارند و می‌توانند مستقل از آن تکثیر شوند. یکی از این مولکول‌ها دیسک حلقوی باکتری است. این نوع دیسک یک مولکول دنا دورشته‌ای و خارج فام‌تنی است که معمولاً درون باکتری‌ها و بعضی قارچ‌ها مثل مخمرها وجود دارد و می‌تواند مستقل از ژنوم میزبان همانندسازی کند. دیسک‌ها را فام‌تن‌های کمکی نیز می‌نامند چون حاوی ژن‌هایی هستند که در فام‌تن اصلی باکتری وجود ندارند. مثلاً ژن مقاومت به پادزیست در دیسک قرار دارد. در صورت انتقال قطعه دنا مورد نظر به دیسک و ورود آن به یاخته میزبان، با هر بار همانندسازی دیسک، دنا مورد نظر نیز همانندسازی می‌شود. بهتر است از دیسکی استفاده شود که فقط یک جایگاه تشخیص برای آنزیم برش دهنده داشته باشد. به نظر شما چرا؟

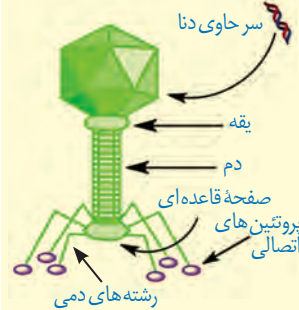
شکل ۳ طرح ساده‌ای از دیسک دارای یک جایگاه تشخیص آنزیم EcoR₁ را نشان می‌دهد، بسیاری از دیسک‌ها دارای ژن‌های مقاومت به پادزیست هستند. چنین ژن‌هایی به باکتری این توانایی را می‌دهند که پادزیست‌ها را به موادی غیرکشنده و قابل استفاده برای



شکل ۳- طرح ساده‌ای از دیسک و یک ژن خارجی

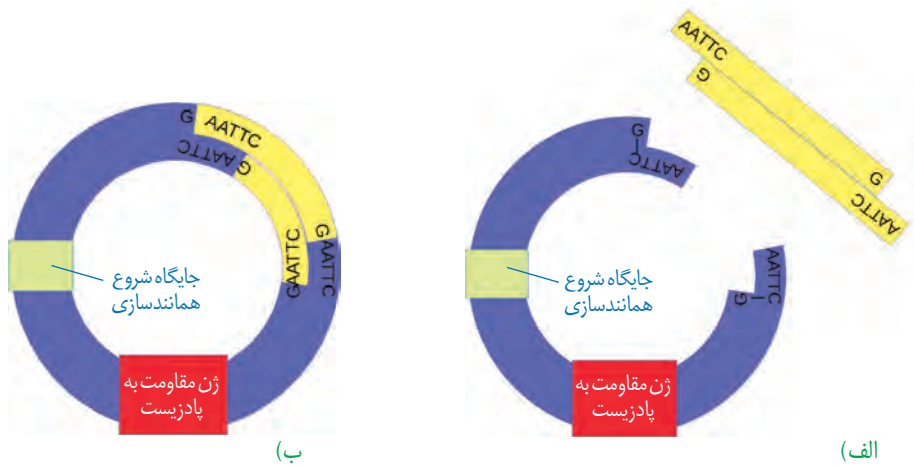
بیشتر بدانید

باکتری خوارها (باکتریوفاژها) ویروس‌های معمولاً دندار هستند که به باکتری‌ها حمله می‌کنند و آنها را از بین می‌برند. نوکلئیک اسید این فاژها از دیسک بزرگ‌تر است. مزیت دناي فاژها به عنوان ناقل همسانه‌سازی در این است که می‌توان قطعات دناي بزرگ‌تری را در آنها جاسازی کرد.



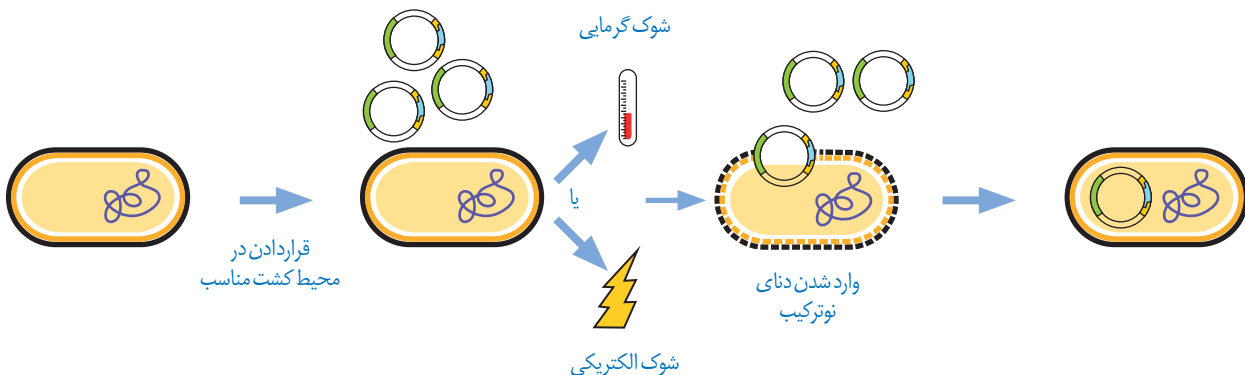
خود تبدیل کنند. این ویژگی در مهندسی ژنتیک اهمیت زیادی دارد که در مباحث بعد به آن می‌پردازیم. در ساخت یک دناي نو ترکیب، قطعه دناي حاوی توالی مورد نظر در دناي ناقل جاسازی می‌شود. دانستید که برای جداسازی قطعه دناي مورد نظر از نوعی آنزیم برش دهنده استفاده می‌شود. توجه داشته باشید آنزیم مورد استفاده برای برش دادن دیسک، باید همان آنزیمی باشد که در جداسازی دناي مورد نظر استفاده شده است. چرا؟

برش دیسک با آنزیم، آن را به یک قطعه دناي خطی تبدیل می‌کند که دارای دو انتهای چسبنده است. همچنین قطعه دناي خارجی نیز دو انتهای چسبنده دارد. برای اتصال دناي مورد نظر به دیسک از آنزیم لیگاز (اتصال دهنده) استفاده می‌شود. این آنزیم پیوند فسفودی استر بین دو انتهای مکمل را ایجاد می‌کند. به مجموعه دناي ناقل و ژن جاگذاری شده در آن، **دناي نو ترکیب** گفته می‌شود (شکل ۴).



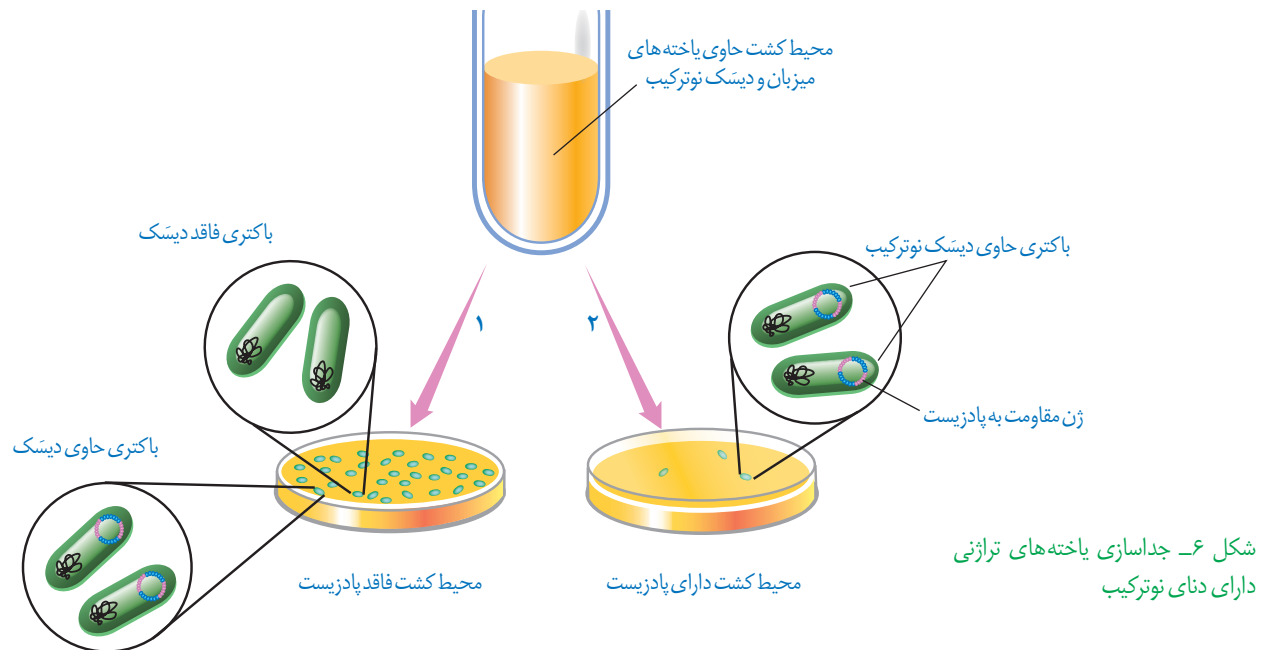
شکل ۴- تشکیل دناي نو ترکیب: الف) قبل از تأثیر لیگاز و ب) بعد از تأثیر لیگاز

وارد کردن دناي نو ترکیب به یاخته میزبان: در این مرحله، دناي نو ترکیب را به درون یاخته میزبان مثلاً باکتری منتقل می‌کنند (شکل ۵). به این منظور باید در دیواره باکتری منافذی ایجاد شود. این منافذ را می‌توان با کمک شوک الکتریکی و یا شوک حرارتی همراه با مواد شیمیایی ایجاد کرد. بر طبق اطلاعات به دست آمده، مشخص شده همه باکتری‌ها دناي نو ترکیب را دریافت نمی‌کنند. بنابراین لازم است باکتری دریافت کننده دیسک از باکتری فاقد آن تفکیک شود.



شکل ۵- وارد کردن دناي نو ترکیب به یاخته میزبان

جداسازی یاخته‌های تراژنی: برای انجام این مرحله، از روش‌های متفاوتی می‌توان استفاده کرد. یکی از این روش‌ها استفاده از دیسکی است که دارای ژن مقاومت به پادزیستی مثل آمپی‌سیلین است. اگر باکتری، دناى نوترکیب را دریافت کرده باشد، در محیط حاوی پادزیست رشد می‌کند. باکتری‌های فاقد دناى نوترکیب به دلیل حساسیت به پادزیست در چنین محیطی از بین می‌روند (شکل ۶).



در شرایط مناسب، باکتری‌های تراژنی با سرعت بالایی تکثیر می‌شوند. همچنین از دناهای نوترکیب نیز به صورت مستقل از فام‌تن اصلی یاخته، نسخه‌های متعددی ساخته می‌شود که در نتیجه آن دناى خارجی به سرعت تکثیر می‌شود. بنابراین، تعداد زیادی باکتری دارای دناى خارجی آماده خواهد شد که می‌توان از آنها برای تولید فراورده یا استخراج ژن استفاده کرد.

امروزه با پیشرفت روش‌های مهندسی ژنتیک می‌توان یاخته‌های دیگری مثل مخمرها، یاخته‌های گیاهی و حتی جانوری را با این فرایند تغییر داد. دناها و سایر مولکول‌های حاصل از دناهای تولید شده برای اهداف گوناگون علمی و کاربردی استفاده می‌شوند. در گفتارهای بعدی این فصل به برخی از این موارد اشاره شده است.

روش های جدید امکان ایجاد تغییرات دلخواه در توالی آمینواسیدهای یک پروتئین را فراهم کرده است که می توان از آنها به منظور تغییر در ویژگی های یک پروتئین و بهبود عملکرد آن بهره مند شد. انجام چنین تغییراتی که به آن **مهندسی پروتئین** گفته می شود، نیازمند شناخت کامل ساختار و عملکرد آن پروتئین است. این تغییرات می تواند جزئی یا کلی باشد.

تغییر جزئی شامل تغییر در رمز یک یا چند آمینواسید در مقایسه با پروتئین طبیعی است. تغییرات عمده، گسترده تر است و می تواند شامل برداشتن قسمتی از ژن یک پروتئین تا ترکیب بخش هایی از ژن های مربوط به پروتئین های متفاوت باشد.

می دانیم تغییر در توالی آمینواسیدها ممکن است باعث تغییر در شکل فضایی مولکول پروتئین و در نتیجه تغییر در عمل آن شود. چنین پروتئین های تغییر یافته ای با اهداف مختلف، مثلاً درمانی و تحقیقاتی ساخته می شوند.

از تغییرات و اصلاحات مفید در فرایند مهندسی پروتئین ها می توان به افزایش پایداری پروتئین در مقابل گرما و تغییر pH، افزایش حداکثری سرعت واکنش و تمایل آنزیم برای اتصال به پیش ماده اشاره کرد.

افزایش پایداری پروتئین ها

امروزه با دستیابی به روش های مهندسی پروتئین می توان پایداری آنها را در مقابل گرما افزایش داد. این موضوع اهمیت زیادی دارد زیرا در دمای بالاتر سرعت واکنش بیشتر و خطر آلودگی میکروبی در محیط واکنش کمتر می شود. همچنین، نیازی به خنک کردن محیط واکنش به خصوص در مورد واکنش های گرمازا نیست. در ادامه مثال هایی از افزایش پایداری پروتئین ها، ارائه می دهیم.

آمیلازها: این آنزیم ها که از آنزیم های پرکاربرد در صنعت هستند مولکول های نشاسته را به قطعات کوچک تری تجزیه می کنند. آمیلازها در بخش های مختلف صنعتی مانند صنایع غذایی، نساجی و تولید شوینده ها کاربرد دارند. بسیاری از مراحل تولید صنعتی در دماهای بالا انجام می شود. بنابراین، استفاده از آمیلاز پایدار در برابر گرما ضرورت دارد. امروزه به کمک روش های زیست فناوری، طراحی و تولید آمیلازهای مقاوم به گرما ممکن شده است. استفاده از این مولکول ها باعث کاهش زمان واکنش، صرفه جویی اقتصادی و در نتیجه افزایش بهره وری صنعتی می شود. مشاهده شده است که در طبیعت نیز آمیلاز مقاوم به گرما وجود دارد. مثلاً باکتری های گرمادوست در چشمه های آب گرم دارای آمیلازهایی هستند که پایداری بیشتری در مقابل گرما دارند.

اینترفرون: به یاد دارید که اینترفرون از پروتئین های دستگاه ایمنی است. وقتی این پروتئین با روش مهندسی ژنتیک ساخته می شود، فعالیتی بسیار کمتر از اینترفرون طبیعی دارد. علت این کاهش فعالیت، تشکیل پیوندهای نادرست در هنگام ساخته شدن آن در باکتری است. پیوندهای نادرست باعث تغییر در شکل مولکول و در نتیجه کاهش فعالیت آن می شوند. به کمک فرایند مهندسی پروتئین و تغییر جزئی در رمز آمینواسید، توالی آمینواسیدهای اینترفرون طوری تغییر می یابد که به جای یکی از آمینواسیدهای آن آمینواسید دیگری قرار می گیرد. این تغییر، فعالیت ضد ویروسی اینترفرون ساخته شده

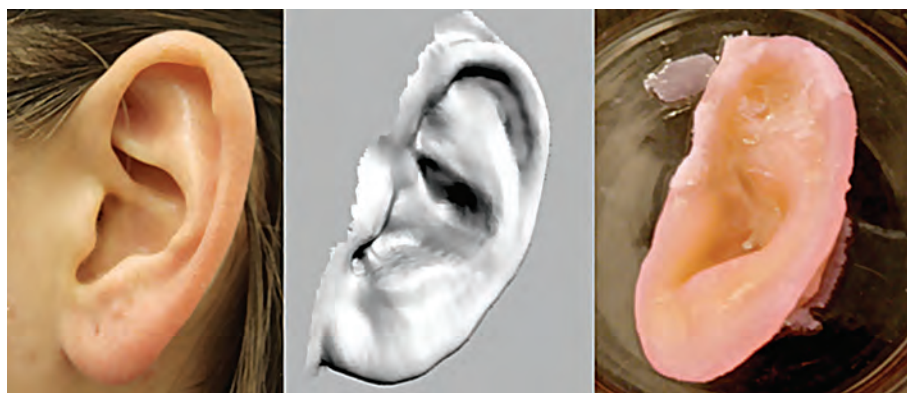
را به اندازه پروتئین طبیعی افزایش می دهد و همچنین آن را پایدارتر می کند. افزایش پایداری در نگهداری طولانی مدت پروتئین هایی که به عنوان دارو استفاده می شوند، اهمیت زیادی دارد.

پلاسمین: می دانیم تشکیل لخته، یک فرایند زیستی مهم است که از ادامه خونریزی جلوگیری می کند، اما تشکیل لخته در سرخرگ های شش، مغز و ماهیچه قلب به ترتیب منجر به بسته شدن رگ های شش، سکتة مغزی و قلبی می شود که بسیار خطرناک است و می تواند باعث مرگ شود. لخته ها به طور طبیعی در بدن توسط آنزیم پلاسمین تجزیه می شوند. پلاسمین کاربرد درمانی دارد، اما مدت اثر آن در پلاسمای خیلی کوتاه است. جانشینی یک آمینواسید پلاسمین با آمینواسید دیگری در توالی، باعث می شود که مدت زمان فعالیت پلاسمایی و اثرات درمانی آن بیشتر شود.

مهندسی بافت

از دست رفتن بافت به دلیل آسیب یا بیماری، زندگی را دشوار و هزینه بالایی اقتصادی و اجتماعی را بر فرد بیمار و خانواده او تحمیل می کند. فرض می کنیم که به علت سوختگی وسیع نیاز به پیوند پوست وجود داشته باشد. چنانچه اهداکننده پوست مناسب وجود نداشته باشد و یا به علت وسعت سوختگی، برداشت پوست از بدن بیمار ممکن نباشد، بهترین راه، کشت بافت و پیوند پوست است. ثابت شده است که در پوست یاخته هایی وجود دارد که توانایی تکثیر زیاد و تمایز به انواع یاخته های پوست را دارند. امروزه در **مهندسی بافت** از این یاخته ها، به طور موفقیت آمیزی استفاده می شود.

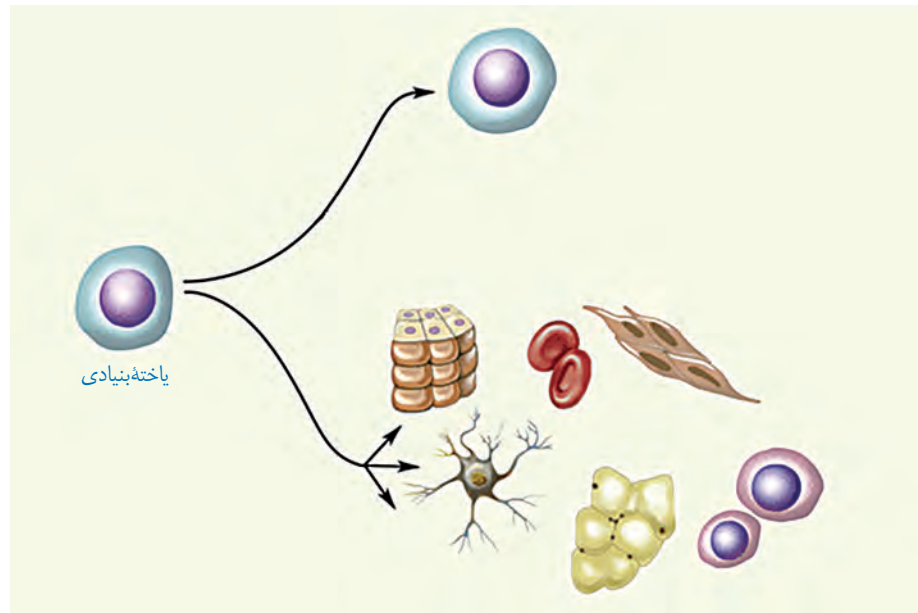
متخصصان مهندسی بافت، در زمینه تولید و پیوند اعضا نیز فعالیت می کنند. برای نمونه، جراحان بازسازی کننده چهره می توانند به کمک روش های مهندسی از بافت غضروف برای بازسازی لاله گوش و بینی استفاده کنند. در این روش، یاخته های غضروفی را در محیط کشت روی داربست مناسب تکثیر و غضروف جدید را برای بازسازی اندام آسیب دیده تولید می کنند (شکل ۷).



شکل ۷- مهندسی بافت غضروف گوش انسان: عکس گوش طبیعی (چپ) تصویر رقمی (دیجیتالی) (وسط) و غضروف گوش ساخته شده با روش مهندسی بافت بعد از دو هفته (راست)

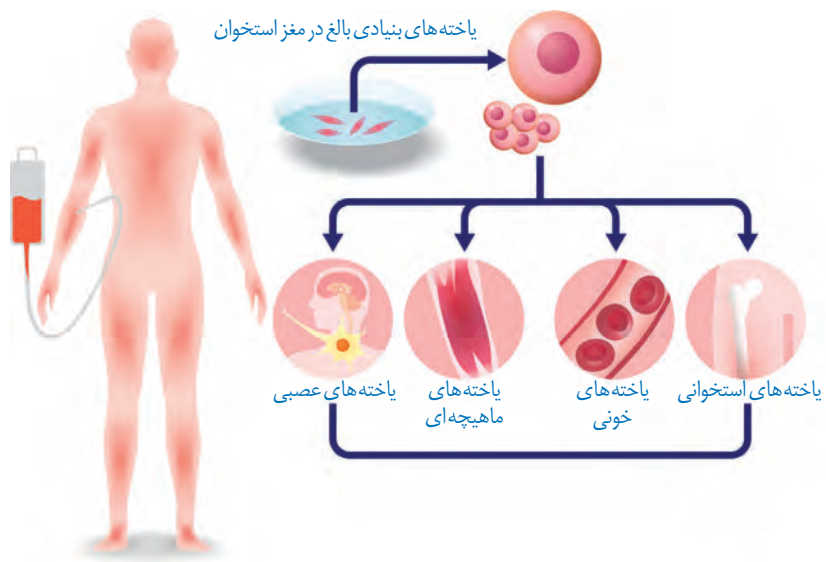
یاخته های بنیادی و مهندسی بافت: یاخته های تمایز یافته ای مانند یاخته های ماهیچه ای در محیط کشت به مقدار کم تکثیر می شوند و یا اصلاً تکثیر نمی شوند. به همین دلیل، در چنین مواردی از منابع یاخته ای که سریع تکثیر می شوند مثل یاخته های بنیادی جنینی یا یاخته های بنیادی بالغ استفاده می کنند. یاخته های بنیادی جنینی، همان توده یاخته ای درونی هستند. یاخته های بنیادی بالغ در

بافت‌ها یافت می‌شوند. یاخته‌های بنیادی می‌توانند تکثیر و به انواع متفاوت یاخته تبدیل شوند (شکل ۸).



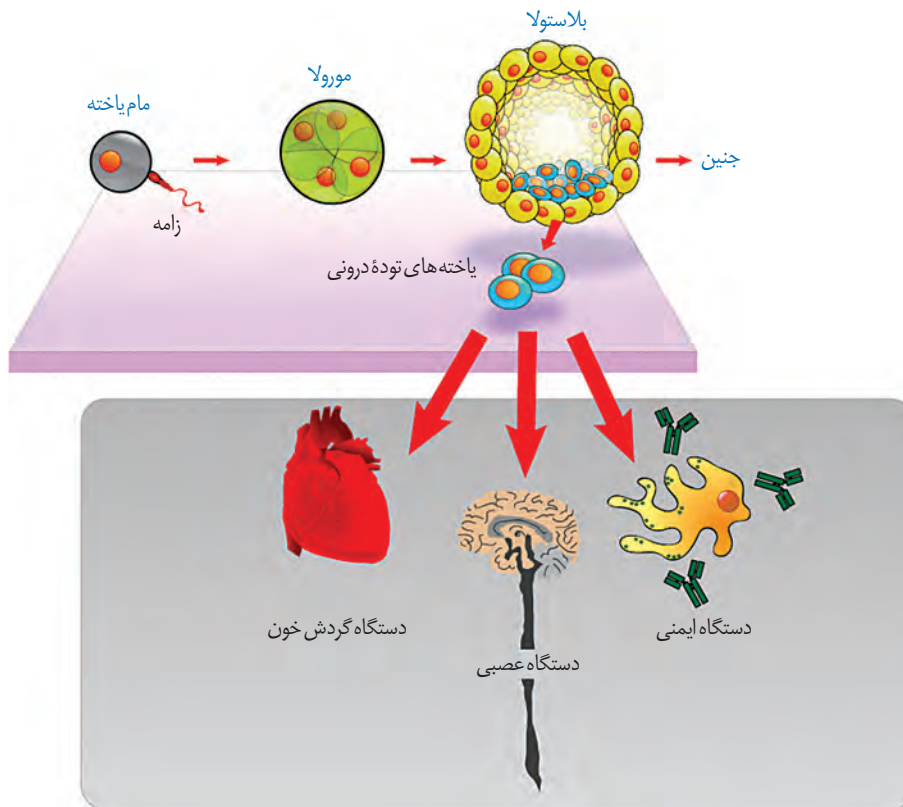
شکل ۸- یاخته‌های بنیادی توانایی تکثیر و به‌وجود آوردن یاخته‌های مشابه خود؛ و نیز توانایی تبدیل شدن به سایر یاخته‌ها را دارند.

یاخته‌های بنیادی بالغ: در بافت‌های مختلف بدن یاخته‌های بنیادی وجود دارند که در محیط کشت تکثیر می‌شوند. به‌عنوان مثال یاخته‌های بنیادی کبد می‌توانند تکثیر شوند و به یاخته کبدی یا یاخته مجرای صفراوی تمایز پیدا کنند. با دو نوع از یاخته‌های بنیادی مغز استخوان قبلاً آشنا شده‌اید. آیا آنها را به یاد دارید؟ انواع دیگری از یاخته‌های بنیادی در مغز استخوان وجود دارند که می‌توانند به رگ‌های خونی، ماهیچه اسکلتی و قلبی تمایز پیدا کنند. این یاخته‌ها از فرد بالغ برداشته و کشت داده می‌شوند (شکل ۹).



شکل ۹- یاخته‌های بنیادی مغز استخوان به انواع مختلف یاخته‌ها و بافت‌ها تمایز پیدامی‌کنند.

یاخته‌های بنیادی جنینی: چنین یاخته‌هایی نه تنها قادر به تشکیل همه بافت‌های بدن جنین هستند، بلکه اگر در مراحل اولیه جنینی جداسازی شوند، می‌توانند یک جنین کامل را تشکیل دهند. این یاخته‌ها بعد از جداسازی کشت داده و برای تشکیل بسیاری از انواع یاخته‌ها تحریک می‌شوند (شکل ۱۰). اما تمایز چنین یاخته‌هایی هنوز نمی‌تواند به گونه‌ای تنظیم شود که بتوانند همه انواع یاخته‌هایی را که در بدن جنین تولید می‌کنند در شرایط آزمایشگاهی نیز به وجود بیاورند.



شکل ۱۰- الف) یاخته‌های بنیادی مورولا به همه انواع یاخته‌های جنینی و خارج جنینی (جفت و پرده‌ها) متمایز می‌شوند.
ب) یاخته‌های بنیادی توده یاخته‌ای درونی به انواع یاخته‌های بدن جنین متمایز می‌شوند.

همان طور که در گفتار قبلی دیدید زیست فناوری در زمینه‌های متفاوتی کاربرد دارد. اکنون می‌خواهیم بدانیم چگونه می‌توان از این شاخه علمی برای بهبود کیفیت زندگی انسان و حفظ محیط زیست بهره برد.

کاربرد زیست فناوری در کشاورزی

تحول در کشاورزی نوین توانست افزایش چشمگیری در محصولات کشاورزی مانند گندم، برنج و ذرت ایجاد کند. استفاده از کودها و سموم شیمیایی، کشت انواع محصول، استفاده از ماشین‌ها در کشاورزی و افزایش سطح زیر کشت از نتایج این تحول بود. اما در کنار آن شاهد عواقب زیانباری همچون آلودگی محیط زیست، کاهش تنوع ژنی و تخریب جنگل‌ها و مراتع نیز بوده‌ایم. امروزه نمی‌توان برای افزایش محصولات به هر روشی متوسل شد. بنابراین، شاید فناوری‌های جدید زیستی بتوانند تا حدودی مشکلات بشر را در این زمینه حل کنند.

یکی از کاربردهای زیست فناوری، تولید گیاهان مقاوم در برابر بعضی آفت‌ها هستند. این روش توانسته است مصرف آفت‌کش‌ها را کاهش دهد. به عنوان مثال برخی از باکتری‌های خاکزی، پروتئین‌هایی تولید می‌کنند که حشرات مضر برای گیاهان زراعی را می‌کشند. این باکتری‌ها در مرحله‌ای از رشد خود نوعی پروتئین سمی می‌سازند که ابتدا به صورت مولکولی غیرفعال است. این مولکول در بدن حشره فعال شده، حشره را از بین می‌برد. چرا این سم نمی‌تواند خود باکتری را از بین ببرد؟

پیش‌سم غیرفعال، تحت تأثیر آنزیم‌های گوارشی موجود در لوله گوارش حشره شکسته و فعال می‌شود. سم فعال شده باعث تخریب یاخته‌های لوله گوارش و سرانجام مرگ حشره می‌شود.

برای تولید گیاه مقاوم به آفت، ابتدا ژن مربوط به این سم از ژنوم باکتری جداسازی و پس از همسانه‌سازی به گیاه مورد نظر انتقال داده می‌شود. تاکنون با این روش چند نوع گیاه مقاوم مثل ذرت، پنبه و سویا تولید شده‌اند. همان‌طور که در شکل ۱۱ می‌بینید نوزاد کرمی شکل (لارو) به درون غوزه نارس پنبه نفوذ می‌کند، بنابراین برای از بین بردن این آفت سم پاشی‌های متعدد لازم است، زیرا آفت در معرض سم قرار نمی‌گیرد. از سوی دیگر، استفاده زیاد سم برای محیط زیست مضر است. امروزه با کمک فناوری زیستی و تولید پنبه‌های مقاوم، نیاز به سم‌پاشی مزارع پنبه تا حدود زیادی کاهش پیدا کرده است. حشره در اثر خوردن گیاه مقاوم شده از بین می‌رود و فرصت ورود به درون غوزه را از دست می‌دهد. بنابراین، نیاز به سم‌پاشی مزرعه کاهش می‌یابد.

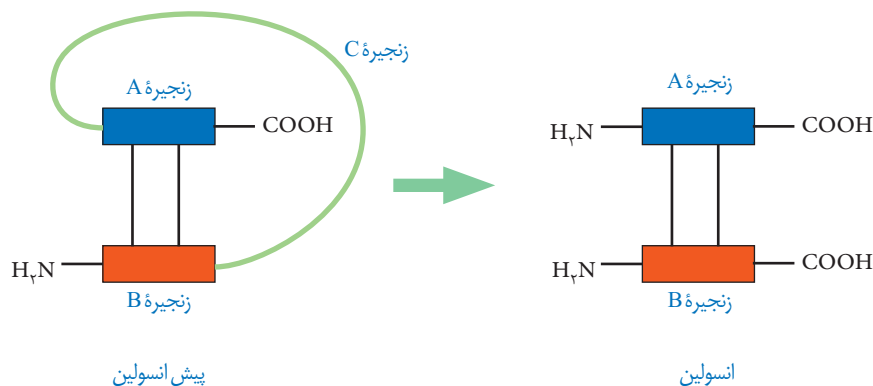
شکل ۱۱- آلوده شدن غوزه گیاه پنبه به آفت را نشان می‌دهد. گیاه سالم (سمت چپ)، ورود آفت به درون غوزه (وسط) و گیاه آلوده (سمت راست)



زیست فناوری علاوه بر تولید گیاهان مقاوم در برابر آفت‌ها، کاربردهای زیادی در زمینه کشاورزی دارد. اصلاح بذر برای تولید گیاهان مطلوب، تولید گیاهان مقاوم به خشکی و شوری، تنظیم سرعت رسیدن میوه‌ها و افزایش ارزش غذایی محصولات نیز با انجام روش‌های مهندسی ژنتیک ممکن شده است. تولید گیاهان زراعی مقاوم به علف‌کش‌ها نیز از دیگر دستاوردهای این فناوری است.

کاربرد زیست فناوری در پزشکی

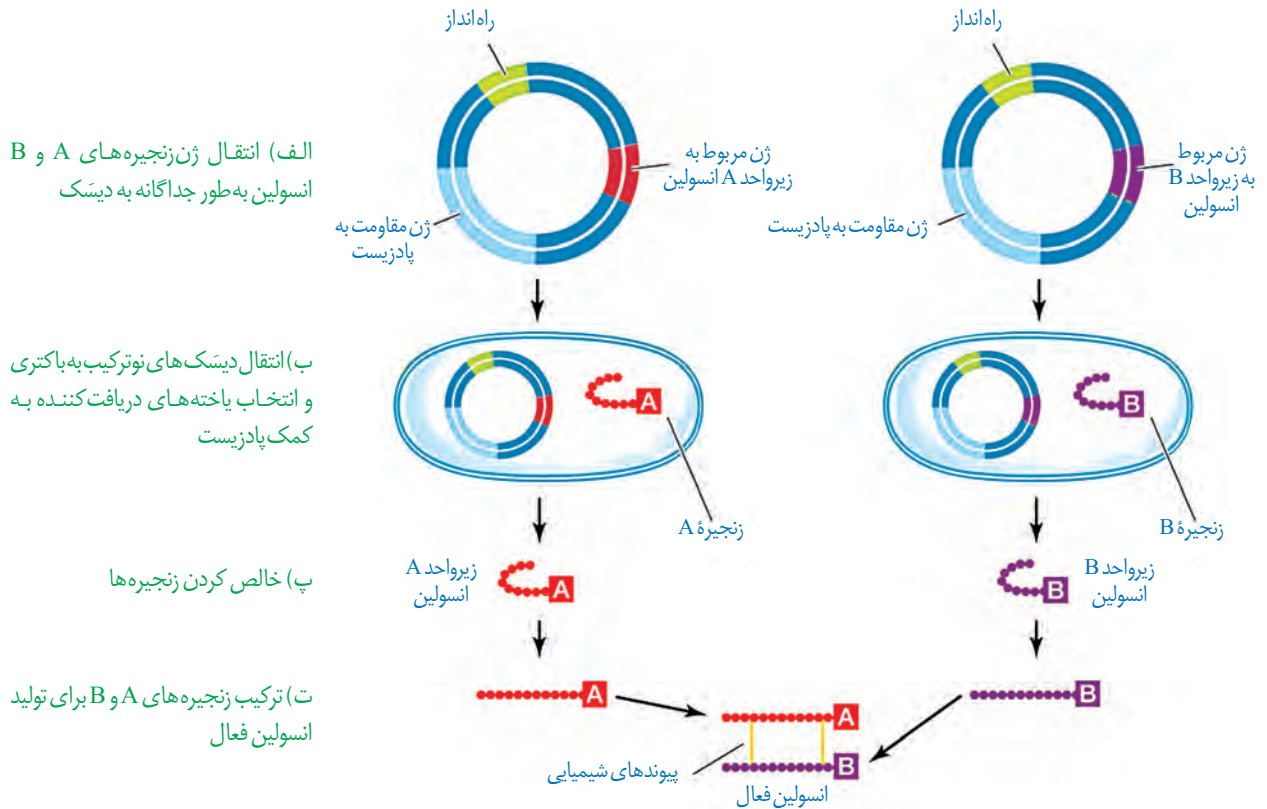
۱- تولید دارو: فناوری دنا نوترکیب به علت تولید داروهای مطمئن و مؤثر، جایگاه ویژه‌ای در صنعت داروسازی دارد. این داروها، برخلاف فرآورده‌های مشابهی که از منابع غیرانسانی تهیه می‌شوند، پاسخ‌های ایمنی ایجاد نمی‌کنند. انسولین یکی از داروهایی است که توسط این فناوری تولید می‌شود. دیابت نوع یک را می‌توان به وسیله دریافت انسولین کنترل کرد. به نظر شما چگونه می‌توان نیاز افراد نیازمند به این ماده را تأمین کرد؟ یکی از روش‌های تهیه انسولین جداسازی و خالص کردن آن از لوزالمعده جانورانی مثل گاو است. روش دیگر، استفاده از مهندسی ژنتیک است. می‌دانیم که باکتری در صورت داشتن ژن انسولین انسانی می‌تواند آن را بسازد. مولکول انسولین فعال، از دو زنجیره کوتاه پلی‌پپتیدی به نام‌های A و B تشکیل شده است که به یکدیگر متصل هستند. در پستانداران از جمله انسان انسولین به صورت یک مولکول پیش‌هورمون ساخته می‌شود.



شکل ۱۲- جدا شدن زنجیره C و تبدیل پیش‌انسولین به انسولین

همان‌طور که در شکل ۱۲ می‌بینید، پیش‌هورمون به صورت یک زنجیره پلی‌پپتیدی است و با جدا شدن بخشی از توالی به نام زنجیره C به هورمون فعال تبدیل می‌شود. مهم‌ترین مرحله در ساخت انسولین به روش مهندسی ژنتیک، تبدیل انسولین غیرفعال به انسولین فعال است، زیرا تبدیل پیش‌هورمون به هورمون در باکتری انجام نمی‌شود. در سال ۱۹۸۳ برای اولین بار دو توالی دنا به صورت جداگانه برای رمز کردن زنجیره‌های A و B انسولین تولید و توسط دیسک به نوعی

باکتری منتقل شدند. سپس، زنجیره‌های پلی‌پپتیدی ساخته شده جمع‌آوری و در آزمایشگاه به وسیله پیوندهایی به یکدیگر متصل شدند (شکل ۱۳).



شکل ۱۳- مراحل ساخت انسولین در مهندسی ژنتیک



۲- تولید واکسن: روش‌های قبلی تولید واکسن شامل ضعیف کردن میکروب‌ها، کشتن آنها و یا غیرفعال کردن سموم خالص شده آنها با روش‌هایی خاص بود. واکسن تولید شده باید بتواند دستگاه ایمنی را برای مقابله با عامل بیماری‌زا تحریک کند، اما منجر به ایجاد بیماری نشود. چنانچه در مراحل تولید واکسن خطایی رخ دهد، احتمال بروز بیماری در اثر مصرف آن وجود دارد. واکسن‌های تولید شده با روش مهندسی ژنتیک چنین خطری ندارند. در این روش، ژن مربوط به پادگین (آنتی‌ژن) سطحی عامل بیماری‌زا به یک باکتری یا ویروس غیربیماری‌زا منتقل می‌شود. واکسن نو ترکیب ضد هیپاتیت B با این روش تولید شده است.

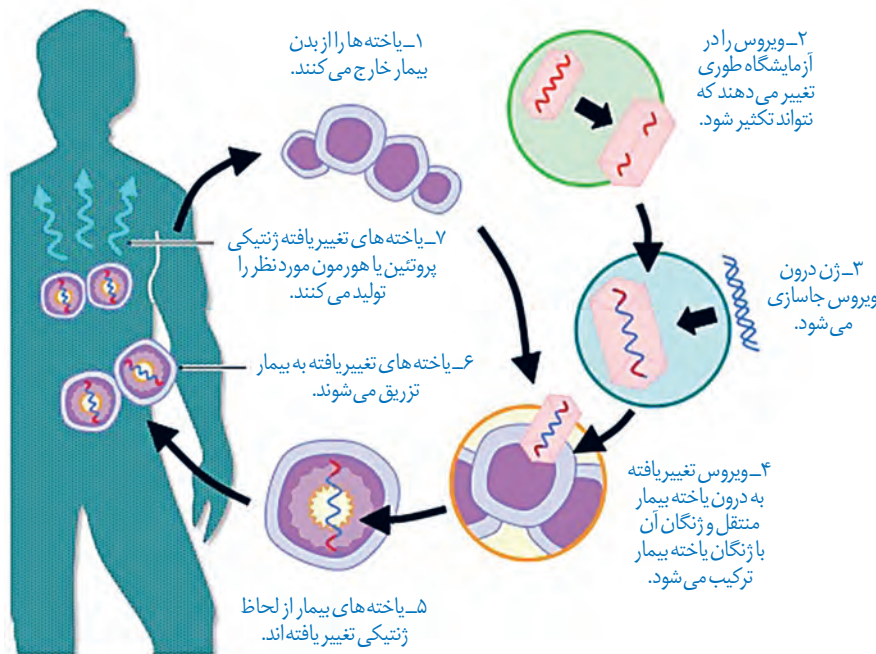
انقراض گونه‌ها و مهندسی ژنتیک

در سال ۲۰۰۸ با تعیین توالی ژنی یک ماموت، برای اولین بار ژنگان کامل یک گونه جانوری منقرض شده مشخص شد. این موفقیت پژوهشگران را به نجات گونه‌های در خطر انقراض امیدوار کرده است. یکی دیگر از کاربردهای این فناوری در جلوگیری از انقراض گونه‌ها، روش شبیه‌سازی است. در ایران نیز طرح‌های تحقیقاتی در حال انجام است و تاکنون موفقیت‌هایی در این زمینه به دست آمده است. به عنوان مثال می‌توان به موفقیت پژوهشکده رویان در شبیه‌سازی قوچ وحشی اشاره کرد.

۳- ژن درمانی: آیا می‌توان افرادی را که با بیماری ارثی متولد می‌شوند درمان کرد؟

پاسخ به این سؤال مشکل است ولی یکی از روش‌های جدید درمان بیماری‌های ژنتیکی، ژن درمانی است که خود مجموعه‌ای از روش‌هاست. ژن درمانی یعنی قرار دادن نسخه سالم یک ژن در یاخته‌های فردی که دارای نسخه‌ای ناقص از همان ژن است. در این روش یاخته‌هایی را از بدن بیمار خارج و ژن سالم را با کمک ناقل وارد آنها می‌کنند. سپس یاخته تغییر یافته را به بدن بیمار باز می‌گردانند. اولین ژن درمانی موفقیت‌آمیز در سال ۱۹۹۰ برای یک دختر بچه ۴ ساله، دارای نوعی نقص ژنی، انجام شد. این ژن جهش یافته نمی‌توانست یک آنزیم مهم دستگاه ایمنی را بسازد. برای درمان آن ابتدا لنفوسیت‌ها را از خون بیمار جدا کردند و در خارج از بدن کشت دادند. سپس نسخه‌ای از ژن کارآمد را به لنفوسیت‌ها منتقل و آنها را وارد بدن بیمار کردند. اگرچه این یاخته‌ها توانستند آنزیم مورد نیاز بدن را بسازند ولی چون قدرت بقای زیادی ندارند، لازم بود بیمار به طور متناوب لنفوسیت‌های مهندسی شده را دریافت کند (شکل ۱۴).

برای درمان این افراد می‌توان از روش‌هایی مثل پیوند مغز استخوان و یا تزریق آنزیم هم استفاده کرد.



شکل ۱۴- مراحل ژن درمانی

۴- تشخیص بیماری: برای درمان موفقیت‌آمیز یک بیماری، تشخیص اولیه و شناخت دقیق

آن بسیار مهم است. علاوه بر روش‌های تشخیصی مثل آزمایش خون و ادرار، روش‌های دیگری مثل فناوری‌های مبتنی بر دنا در تشخیص بیماری نقش مهمی دارند. تشخیص بیماری وقتی که علائم آن در بدن ظاهر شده باشد ساده است، اما وقتی که هنوز علائم ظاهر نشده‌اند و میزان عامل بیماری‌زا در بدن پایین است مشکل است. امروزه با کمک روش‌های زیست فناوری و شناسایی نوکلئیک اسید عامل بیماری‌زا می‌توان به وجود آن در بدن پی برد.

همان طور که می دانید ایدز بیماری خطرناکی است و هنوز درمان قطعی برای آن وجود ندارد. فرد مبتلا به ایدز توانایی دفاع در مقابل عوامل بیماری زار را از دست می دهد. برای تشخیص ایدز در مراحل اولیه، دمای موجود در خون فرد مشکوک را استخراج می کنند. دمای استخراج شده شامل دمای یاخته های بدن خود فرد و احتمالاً دمای ساخته شده از رنای ویروس است. سپس با استفاده از روش های زیست فناوری دمای ویروس تشخیص داده می شود. تشخیص زودهنگام آلودگی با ویروس ایدز اهمیت زیادی دارد زیرا باعث می شود که بدون اتلاف وقت اقدامات درمانی و پیشگیری لازم برای جلوگیری از انتقال ویروس به سایر افراد صورت گیرد.

زیست فناوری در تشخیص ژن های جهش یافته در بیماران مستعد به سرطان، در مسائل پزشکی قانونی و تحقیقاتی همچون مطالعه در مورد دمای فسیل ها نیز کاربرد دارد.

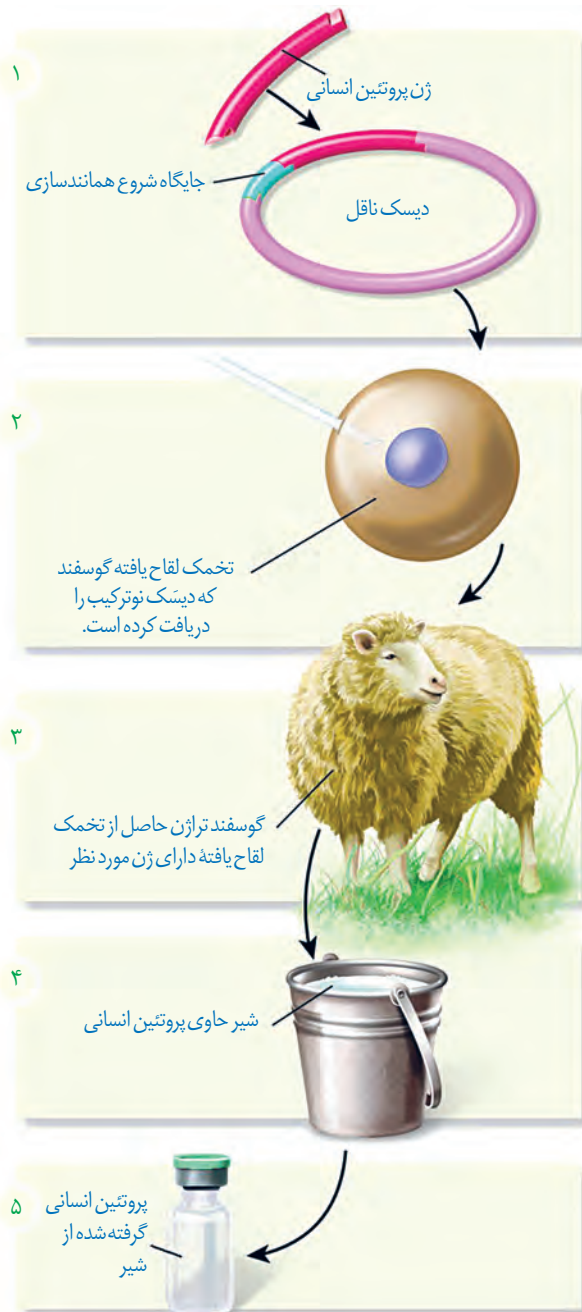
اهمیت تولید جانوران تراژنی در زیست فناوری

دلایل متعددی برای طراحی و تولید این جانوران وجود دارد که می توان به چند مورد اشاره کرد:

- مطالعه عملکرد ژن های خاص در بدن مثل ژن های عوامل رشد و نقش آنها در رشد بهتر دام ها
- کاربرد آنها به عنوان مدلی برای مطالعه بیماری های انسانی از قبیل انواع سرطان، آلزایمر و بیماری ام.اس
- تولید پروتئین های انسانی یا داروهای خاص در بدن آنها، به عنوان مثال دام های تراژنی می توانند، شیر غنی از نوعی پروتئین انسانی تولید کنند که برای انسان نسبت به شیر طبیعی دام ها مناسب تر است (شکل ۱۵).

زیست فناوری و اخلاق

مانند همه دستاوردهای بشر، استفاده از این دستاورد علمی نیز باید با ملاحظاتی همراه باشد. این ملاحظات جنبه های مختلف اخلاقی، اجتماعی و ایمنی زیستی را دربر می گیرند. ایمنی زیستی شامل مجموعه ای از تدابیر، مقررات و روش هایی برای تضمین بهره برداری از این فناوری است. قانون ایمنی زیستی به منظور استفاده مناسب از مزایای زیست فناوری و پیشگیری از خطرات احتمالی آن، در همه کشورها از جمله ایران تدوین و به تصویب رسیده است.



شکل ۱۵- تولید پروتئین های انسانی با استفاده از دام های تراژنی

همواره سؤال‌های متعددی در مورد نتایج انواع کاربردهای زیست فناوری مطرح بوده و هست. برای پاسخ به این سؤالات، پژوهش‌های زیادی در حال انجام است. نتایج به دست آمده از چنین پژوهش‌هایی از طرف مجموعه‌ای از دانشمندان با تخصص‌های مختلف داوری و صدور مجوز نهایی توسط دستگاه‌های نظارتی انجام می‌شود. تاکنون از نتایج تحقیقات انجام شده هیچ‌گونه گزارشی مبتنی بر شواهد و داده‌های علمی در مورد آثار جانبی کاربرد این فناوری، محصولات به دست آمده و خطرناک بودن آنها ارائه نشده است. لذا با توجه به حساسیت موضوع، این تحقیقات باید ادامه یابند و نتایج با دقت فراوان مورد تجزیه و تحلیل قرار گیرند.

بیشتر بدانید

ایران از جمله کشورهایی است که فناوری تولید جانوران تراژن مدل را دارد. موش‌های تراژن به عنوان مدل، کاربردهای متفاوتی در تحقیقات مربوط به ژنتیک، داروسازی و پزشکی دارند. موش سمت چپ موش تراژنی است که در پژوهشگاه ملی مهندسی ژنتیک و زیست فناوری ایران برای ایجاد مدل‌های تحقیقاتی تولید شده است. چشم‌ها و بخش‌هایی از بدن این موش به علت وجود پروتئین GFP (پروتئین با فلورسانس سبز) در برابر پرتو فرابنفش درخشش سبز دارد. این موش حاصل رشد تخمی است که ژن پروتئین GFP در زئوم تخمک آن جاگذاری شده است.



موش معمولی (راست) و موش تراژن (چپ)



پرواز گروهی سارها

فصل ۸

رفتارهای جانوران

هزاران سال است که انسان رفتارهای جانوران را مشاهده می کند و در پی یافتن علت این رفتارها و چگونگی بروز آنهاست. زندگی انسان به داشتن اطلاعات درباره رفتار جانوران وابسته است. دانستن درباره چگونگی زادآوری یک حشره آفت، می تواند به یافتن راه هایی برای مبارزه با آن منجر شود. دانستن درباره مهاجرت یا تغذیه یک جانور در معرض خطر انقراض، می تواند به راه هایی برای حفظ آن گونه و حفاظت از تنوع زیستی بینجامد. در این فصل انواعی از رفتارهای جانوران، چگونگی انجام آنها و علت این رفتارها را از دیدگاه انتخاب طبیعی بررسی می کنیم.



قمری‌های خانگی با جمع‌آوری شاخه‌های نازک درختان برای خود لانه ساخته و زادآوری می‌کنند. گوزن‌ها از شکارچی‌ها می‌گریزند. خرس‌های قطبی خواب زمستانی دارند. سارها برای زمستان‌گذرانی به مناطق گرم‌تر مهاجرت می‌کنند. اینها نمونه‌هایی از رفتارهای جانوران است. رفتار، واکنش یا مجموعه واکنش‌هایی است که جانور در پاسخ به محرک یا محرک‌ها انجام می‌دهد. محرک‌هایی مانند بو، رنگ، صدا، تغییر میزان هورمون‌ها یا گلوکز در بدن جانور، تغییر دمای محیط و تغییر طول روز موجب بروز رفتارهای گوناگون در جانوران می‌شوند.

رفتار غریزی

جوجه‌های برخی از پرندگان برای غذای مورد نیازشان به والد (یا والدین) خود متکی هستند. مثلاً جوجه کاکایی برای دریافت غذا به منقار پرنده والد نوک می‌زند و والد بخشی از غذای خورده شده را برمی‌گرداند تا جوجه آن را بخورد. دریافت غذای کافی برای بقا و رشد جوجه اهمیت دارد. جوجه پس از بیرون آمدن از تخم، می‌تواند به منقار والد نوک بزند (شکل ۱).



شکل ۱- رفتار درخواست غذا در جوجه کاکایی

منشأ رفتار جوجه کاکایی چیست؟ جوجه پرنده پس از بیرون آمدن از تخم، می‌تواند رفتار درخواست غذا را انجام دهد، پس آیا این رفتار همانند ویژگی‌های بدنی جانور ژنی است؟ برای پاسخ به این سؤال یک پژوهش را بررسی می‌کنیم.

پژوهشگران ارتباط یک ژن را با رفتار مراقبت از زاده‌ها در موش ماده بررسی کرده‌اند. این ژن را ژن **B** می‌نامیم. موش ماده طبیعی اجازه نمی‌دهد بچه موش‌ها از او دور شوند؛ اگر بچه موش‌ها دور شوند، مادر آنها را می‌گیرد و به سمت خود می‌کشد (شکل ۲). موش مادر ابتدا نوزادان را واری می‌کند و اطلاعاتی از راه حواس به مغز آن ارسال می‌شود؛ در نتیجه ژن **B** در باخته‌هایی در مغز موش مادر فعال

بیشتر بدانید

آنچه ما آن را ژن B نامیدیم به اختصار ژن FosB نام دارد. این ژن در بخشی از زیر نهنج (هیپوتالاموس) مغز موش مادر که در رفتار مادرانه آن نقش حیاتی دارد، بیان می‌شود.

می‌شود و دستور ساخت پروتئینی را می‌دهد که آنزیم‌ها و ژن‌های دیگری را فعال می‌کند. در مغز جانور فرایندهای پیچیده‌ای به راه می‌افتد که در نتیجه آنها، موش ماده رفتار مراقبت مادری را نشان می‌دهد. پژوهشگران با ایجاد جهش در ژن B آن را غیر فعال کردند. موش‌های ماده‌ای که ژن‌های جهش یافته داشتند، ابتدا بچه موش‌های تازه متولد شده را وارسی کردند ولی بعد آنها را نادیده گرفتند و رفتار مراقبت نشان ندادند. به این ترتیب، مشخص شد رفتار مراقبت مادری در موش اساس ژنی دارد.



شکل ۲- الف) مراقبت مادری موش مادر دارای ژن طبیعی

ب) نبود مراقبت مادری در موش مادر دارای ژن جهش یافته B



بیشتر بدانید

رفتارشناسی، علم مطالعه رفتارهای جانوران در آزمایشگاه و یا طبیعت است. سه دانشمند به نام‌های نیکولاس تین برگن^۱ هلندی، کُنراد لورنز^۲ و کارل فون فریش^۳ اثریسی در مشاهده رفتار جانوران در طبیعت نقش مهمی ایفا کردند. این تلاش‌ها جایزه نوبل رشته کار اندام‌شناسی (فیزیولوژی) و پزشکی سال ۱۹۷۳ را برای آنان به ارمغان آورد. در دهه‌های اخیر رویکرد اصلی زیست‌شناسان در بررسی رفتار جانوران، بوم‌شناسی رفتاری است. بوم‌شناسی رفتاری علم بررسی رفتار جانوران در محیط طبیعی و از دیدگاه انتخاب طبیعی است.

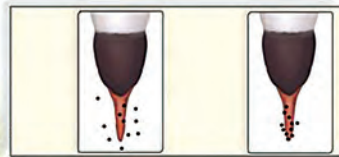
۱- Nikolaas Tinbergen
۲- Konrad Lorenz
۳- Karl Von Frisch

رفتار موش مادر در مراقبت از فرزندان رفتاری غریزی^۱ است. اساس رفتار غریزی در همه افراد یک گونه یکسان است، زیرا ژنی و ارثی است. رفتار جوجه کاکایی برای به دست آوردن غذا، لانه‌سازی پرنده‌ها و رفتار مکیدن در شیرخواران نمونه‌های دیگری از رفتارهای غریزی‌اند. خواهید دید همه رفتارهای غریزی به طور کامل هنگام تولد در جانور ایجاد نشده‌اند.

یادگیری و رفتار

در رفتار درخواست غذا، نوک زدن‌های جوجه کاکایی به منقار والد در ابتدا دقیق نیست ولی به تدریج و با تمرین، این رفتار دقیق‌تر می‌شود. هرچه جوجه دقیق‌تر نوک بزند، والد سریع‌تر به درخواست آن برای غذا پاسخ می‌دهد. به این ترتیب جوجه می‌آموزد تا دقیق‌تر نوک بزند (شکل ۳). بنابراین، جوجه کاکایی تجربه به دست می‌آورد و رفتار غریزی آن تغییر می‌کند و اصلاح می‌شود.

۱- Instinctive Behavior



نوک زدن جوجه تازه از تخم خارج شده

نوک زدن جوجه دو روزه

شکل ۳- اصلاح رفتار درخواست غذا در جوجه کاکایی: پس از دو روز جوجه می آموزد تا دقیق تر نوک بزند. نقطه های سیاه رنگ محل نوک زدن را نشان می دهند.

بیشتر بدانید

چندین گونه از خانواده کاکایی ها از جمله کاکایی پازرد (خزری) و کاکایی سر سیاه، در کشور ما زندگی می کنند. بیشتر آزمایش ها و بررسی های این فصل درباره کاکایی سرسیاه انجام شده است.



کاکایی سر سیاه (*Larus ridibundus*)



کاکایی خزری (*Larus cachinnans*)

جانوران در محیط تجربه های گوناگونی پیدا می کنند که رفتارهای آنها را تغییر می دهد. تغییر نسبتاً پایدار در رفتار که در اثر تجربه به وجود می آید **یادگیری** نام دارد. یادگیری انواع گوناگونی دارد که با آنها آشنا می شوید.


خوگیری (عادی شدن): جوجه پرندها اجسام گوناگونی مانند برگ های در حال افتادن را در بالای سر خود می بینند. در ابتدا جوجه ها با پایین آوردن سر خود و آرام ماندن به این محرک ها پاسخ می دهند، اما با دیدن مکرر اجسام در حال حرکت، یاد می گیرند آنها برایشان خطر یا فایده ای ندارند. در نتیجه، جوجه ها دیگر به این محرک ها پاسخ نمی دهند. این یادگیری را **خوگیری** می نامند. در این یادگیری، پاسخ جانور به یک محرک تکراری که سود یا زیانی برای آن ندارد، کاهش پیدا می کند و جانور می آموزد به برخی محرک ها پاسخ ندهد. جانوران در معرض محرک های متعددی قرار دارند که پاسخ به همه آنها، نیازمند صرف انرژی زیادی است. خوگیری موجب می شود جانور با چشم پوشی از محرک های بی اهمیت، انرژی خود را برای انجام فعالیت های حیاتی حفظ کند.

فعالیت ۱

الف) شکل روبه رو یادگیری خوگیری را

نشان می دهد. آن را توضیح دهید.

ب) در برخی کشتزارها قوطی های فلزی را به مترسک آویزان می کنند، این کار چه فایده ای دارد؟



(۳)



(۲)




(۱)

شرطی شدن کلاسیک: وقتی جانوری مانند سگ غذا می بیند و یا بوی آن را احساس می کند، بزاق او ترشح می شود. غذا محرک و ترشح بزاق، پاسخی غریزی و یک بازتاب طبیعی است. دانشمندی به نام پاولوف آزمایش های متعددی در این باره انجام داد. او متوجه شد بزاق سگ، با دیدن فرد غذا دهنده و قبل از دریافت غذا نیز ترشح می شود. پاولوف آزمایشی طراحی کرد و در آن هم زمان با دادن پودر گوشت به سگ گرسنه، زنگی را به صدا درآورد. با تکرار این کار، سگ بین صدای زنگ و غذا ارتباط برقرار کرد، طوری که بزاق آن با شنیدن صدای زنگ و حتی بدون دریافت غذا نیز ترشح می شد. صدای زنگ در ابتدا یک محرک بی اثر بود ولی وقتی با محرک طبیعی یعنی غذا همراه شد، سبب بروز پاسخ ترشح بزاق شد (شکل ۴). صدای زنگ یک **محرک شرطی** است زیرا در صورتی می تواند موجب بروز پاسخ شود که با یک محرک طبیعی همراه شود. این نوع یادگیری **شرطی شدن کلاسیک**^۱ نام دارد.

شکل ۴- الف) وقتی محرک شرطی (صدای زنگ) با محرک طبیعی (غذا) همراه شود.
ب) محرک شرطی به تنهایی می تواند سبب پاسخ ترشح بزاق شود.



(ب)



(الف)

بیشتر بدانید


تاریخ علم

ایوان پتروویچ پاولوف (۱۸۴۹-۱۹۳۶) کار اندام شناس (فیزیولوژیست) روسی است که در سال ۱۹۰۴ برنده جایزه نوبل کار اندام شناسی و پزشکی شد. او بیشتر به علت پژوهش درباره بازتاب شرطی مشهور است (نفر دوم از راست).



شکل ۵- موش در جعبه اسکینر

شرطی شدن فعال: نوعی دیگر از شرطی شدن، **شرطی شدن فعال**^۲ یا یادگیری با آزمون و خطا نام دارد. در نخستین آزمایش های مربوط به این نوع یادگیری، دانشمندی به نام اسکینر موش گرسنه ای را در جعبه ای قرار داد که درون آن اهرمی وجود داشت و موش می توانست آن را فشار دهد (شکل ۵). موش درون جعبه حرکت می کرد و به طور تصادفی اهرم درون جعبه را فشار می داد. در نتیجه، تکه ای




۱- Classical Conditioning

۲- Operant Conditioning

بیشتر بدانید

تاریخ علم

بوروس فردریک اسکینر (۱۹۰۴-۱۹۹۰) روان‌شناس آمریکایی و از بنیان‌گذاران یادگیری از دیدگاه رفتارگرایی است. دستگاهی را که او برای بررسی رفتار شرطی شدن فعال جانوران به کار می‌برد و جعبه اسکینر نام دارد، از اختراعات خود اوست.




غذا به درون جعبه می‌افتاد و موش غذا دریافت می‌کرد. پس از چندبار تکرار این رفتار، موش به ارتباط بین فشار دادن اهرم و پاداش یعنی به دست آوردن غذا پی برد. موش پس از آن به طور عمدی، اهرم را فشار می‌داد تا غذا به دست آورد. در شرطی شدن فعال، جانور می‌آموزد بین رفتار خود با پاداش یا تنبیهی که دریافت می‌کند، ارتباط برقرار کرده و در آینده رفتاری را تکرار یا از انجام آن خودداری می‌کند.

فعالیت ۲

پرنده‌ای که در شکل زیر می‌بینید، پروانه مونارک را بلعیده و دچار تهوع شده است. پس از چنین تجربه‌هایی پرنده می‌آموزد، این حشره را نباید بخورد. چگونگی آموختن این رفتار را بر اساس یادگیری شرطی شدن توضیح دهید.



حل مسئله: برخی از جانوران می‌توانند از تجربه‌های قبلی خود برای حل مسئله‌ای که با آن روبه‌رو شده‌اند، استفاده کنند. در یکی از آزمایش‌های مربوط به این رفتار، شامپانزه‌ای را در اتاقی گذاشتند که تعدادی موز از سقف آن آویزان بود و چند جعبه چوبی هم در اتاق وجود داشت. شامپانزه پس از چند بار بالا پریدن و تلاش ناموفق برای رسیدن به موزها، جعبه‌ها را روی هم قرار داد، از آنها بالا رفت و به موزها دست یافت (شکل ۶). در رفتار حل مسئله، جانور بین تجربه‌های گذشته و موقعیت جدید ارتباط برقرار می‌کند و با استفاده از آنها برای حل مسئله جدید، آگاهانه برنامه‌ریزی می‌کند.



شکل ۶- حل مسئله در شامپانزه



شکل ۷- حل مسئله در کلاغ: کلاغ با جمع کردن نخ تکه گوشت را بالا می کشد.

رفتارشناسان حل مسئله جانوران را در محیط طبیعی نیز بررسی کرده اند. شامپانزه ها برگ های شاخه نازک درختان را جدا می کنند و آن را درون لانه موربانه ها فرو می برند تا موربانه ها را بیرون بیاورند و بخورند. این جانوران از تکه های چوب یا سنگ به شکل سندان و چکش استفاده می کنند تا پوسته سخت میوه را بشکنند. کلاغ سیاهی که در شکل ۷ می بینید، کشف کرده است که چگونه تکه گوشت آویزان به انتهای نخ را به دست آورد. جانور هر بار بخشی از نخ را با منقار خود بالا می کشد و پنجه پای خود را روی آن قرار داده و سرانجام به گوشت دست پیدا می کند.

نقش پذیری: جوجه غازها پس از بیرون آمدن از تخم، نخستین جسم متحرکی را که می بینند، دنبال می کنند. جسم متحرک معمولاً مادر آنهاست (شکل ۸). این دنبال کردن موجب پیوند جوجه ها با مادر می شود. پیوند جوجه غازها و مادرشان در نتیجه نوعی یادگیری به نام **نقش پذیری** ایجاد می شود. نقش پذیری نوعی یادگیری است که در دوره مشخصی از زندگی جانور انجام می شود. نقش پذیری جوجه غازها طی چند ساعت پس از خروج از تخم رخ می دهد. این زمان، دوره حساسی است که در آن نقش پذیری با بیشترین موفقیت انجام می شود. جوجه غازها با نقش پذیری مادر خود را می شناسند. این شناسایی برای بقای جوجه ها حیاتی است، بدون آن جوجه ها تحت مراقبت مادر قرار نمی گیرند و ممکن است بمیرند. افزون بر آن، جوجه ها با نقش پذیری، رفتارهای اساسی مانند جست و جوی غذا را نیز از مادر یاد می گیرند. نقش پذیری در پستانداران نیز دیده می شود، مثلاً بره هایی که مادر خود را از دست داده اند و انسان آنها را پرورش داده است، دنبال او راه می افتند و تمایلی برای ارتباط با گوسفندهای دیگر نشان نمی دهند.

امروزه پژوهشگران می کوشند از نقش پذیری در حفظ گونه های جانوران در خطر انقراض استفاده کنند. مثلاً آنها برای پرورش جوجه پرنده هایی که والدین خود را از دست داده و تحت مراقبت انسان به دنیا آمده اند، صدای پرندگان همان گونه را پخش می کنند. افرادی که از این جوجه ها نگهداری می کنند، ظاهر خود را شبیه آن پرنده کرده و مانند آنها رفتار می کنند.



شکل ۸- نقش پذیری جوجه غازها نسبت به مادر خود

۱- Imprinting

بررسی نقش‌پذیری در غازها از پژوهش‌های کنراد لورنز اتریشی (۱۹۰۳-۱۹۸۹) است. لورنز در آزمایش خود جوجه‌غازهایی را در دستگاه جوجه‌کشی پرورش داد، لورنز نخستین جسمی بود که جوجه‌ها پس از بیرون آمدن از تخم دیدند. آنها او را دنبال کردند و نسبت به او نقش‌پذیر شدند.



برهم کنش غریزه و یادگیری

بیشتر رفتارهای جانوران محصول برهم کنش ژن‌ها و اثرهای محیطی است که جانور در آن زندگی می‌کند. همان‌طور که در رفتار درخواست‌غذای جوجه کاکایی دیدیم، این رفتار غریزی به‌طور کامل در جوجه‌ای که از تخم بیرون می‌آید، بروز پیدا نمی‌کند. برای شکل‌گیری کامل آن، برهم کنش جوجه و والدین و کسب تجربه لازم است. جانور اساس ژنی لازم برای انجام این رفتار را دارد و همچنان که رشد می‌کند از آموخته‌های خود از محیط تجربه به‌دست می‌آورد و آنها را برای تغییر و اصلاح رفتار قبلی به کار می‌برد. یادگیری برای بقای جانوران لازم است، زیرا محیط جانوران همواره در حال تغییر است. برای آنکه جانوران بتوانند در این شرایط در حال تغییر زندگی کنند، باید بتوانند به تغییرات پاسخ‌های مناسبی بدهند. به این ترتیب، برهم کنش ژن‌ها و یادگیری امکان‌سازگار شدن جانور با این تغییرات را فراهم می‌آورد.

فعالیت ۳

الف) شقایق دریایی با تحریک مکانیکی (تماس)، بازوهای خود را منقبض می‌کند

اما به حرکت مداوم آب پاسخی نمی‌دهد. چرا؟

ب) رام‌کنندگان جانوران چگونه انجام حرکات نمایشی در سیرک را به آنها می‌آموزند؟



پژوهشگران در بررسی یک رفتار تلاش می‌کنند به دو نوع پرسش پاسخ دهند. پرسش نوع اول اینکه جانور چگونه رفتاری را انجام می‌دهد؟ برای پاسخ به این پرسش پژوهشگران فرایندهای ژنی، رشد و نمو و عملکرد بدن جانور را بررسی می‌کنند. پرسش نوع دوم این است که چرا جانور رفتاری را انجام می‌دهد؟ پرسش دوم به دیدگاه انتخاب طبیعی مربوط است. مثال زیر را بخوانید.

پرند کاکایی پس از آنکه جوجه‌هایش از تخم بیرون می‌آیند، پوسته‌های تخم را از لانه خارج می‌کند. جوجه‌ها و تخم‌های کاکایی در میان علف‌های اطراف آشیانه به خوبی استتار می‌شوند (شکل ۹). البته رنگ سفید داخل پوسته تخم‌های شکسته بسیار مشخص است.



شکل ۹- الف) جوجه‌های کاکایی
ب) تخم‌های کاکایی



الف)

ب)

چرا کاکایی پوسته‌های تخم را از لانه خارج می‌کند؟ برای یافتن پاسخ این پرسش، پژوهشگری آزمایشی را طراحی کرد. او تخم‌های مرغ خانگی را شبیه تخم‌های کاکایی رنگ آمیزی کرد و آنها را در محل آشیانه‌سازی کاکایی‌ها، قرار داد. پژوهشگر در کنار تعدادی از این تخم‌ها، پوسته تخم‌های شکسته کاکایی را نیز قرار داد. او مشاهده کرد کلاغ‌ها بیشتر تخم مرغ‌هایی را که کنار پوسته‌های تخم کاکایی قرار داشتند، پیدا کرده و آنها را خوردند. رنگ سفید داخل پوسته تخم‌های شکسته، راهنمای کلاغ‌ها بود. پژوهشگر نتیجه گرفت کاکایی‌ها رفتار دور انداختن پوسته تخم‌های شکسته از لانه را برای کاهش احتمال شکار شدن و افزایش احتمال بقای جوجه‌ها انجام می‌دهند. کاکایی‌ها زمان بسیار کوتاهی را برای بیرون بردن پوسته تخم‌ها صرف می‌کنند اما این رفتار در بقای زاده‌های آنها نقشی حیاتی دارد. این رفتار کاکایی‌ها سازگارکننده است زیرا احتمال دسترسی شکارچی به زاده‌ها کاهش و احتمال بقای آنها را افزایش می‌دهد و به سود پرنده و زاده‌های آن است. رفتارهای سازگارکننده با سازوکار انتخاب طبیعی، برگزیده می‌شوند.

در رفتارشناسی با دیدگاه انتخاب طبیعی، پژوهشگران برای پاسخ به پرسش چرایی رفتارها و اثر انتخاب طبیعی در شکل دادن به آنها پژوهش می‌کنند. آنها نقش سازگارکنندگی رفتارهای گوناگون و به عبارتی نقش رفتارها را در بقا و زادآوری بیشتر جانوران بررسی می‌کنند. این کار با بررسی سود و هزینه رفتار برای جانور، انجام می‌شود.

در پژوهش درباره رفتار بیرون انداختن پوسته تخم در کاکایی‌ها:

الف) پژوهشگر چه فرضیه‌ای را دنبال می‌کرد؟

ب) چرا پژوهشگر فقط در کنار تعدادی از تخم مرغ‌های رنگ آمیزی شده، پوسته تخم کاکایی قرار داد؟

زادآوری (تولیدمثل)

داشتن بیشترین تعداد زاده‌های سالم، معیاری برای موفقیت زادآوری در جانوران است. جانوران برای دستیابی به موفقیت در زادآوری (تولید مثل)، رفتارهای زادآوری انجام می‌دهند. **انتخاب جفت** یکی از این رفتارهاست. در رفتار انتخاب جفت، جانور ابتدا ویژگی‌های جفت را بررسی می‌کند و بعد تصمیم می‌گیرد با آن جفت‌گیری کند یا نه. برای مثال انتخاب جفت را در طاووس بررسی می‌کنیم. ویژگی‌های ظاهری طاووس‌های نر و ماده متفاوت است. در فصل زادآوری دم طاووس نر، پرهای پرنقش و نگاری پیدا می‌کند. طاووس نر برای جلب جفت، دم خود را مانند بادبزن می‌گستراند تا بهتر در معرض دید جانور ماده قرار گیرد. طاووس ماده دم طاووس‌های نر را بررسی می‌کند و نری را به عنوان جفت انتخاب می‌کند که رنگ درخشان و لکه‌های چشم مانند بیشتری روی پرهای دم خود داشته باشد (شکل ۱۰).



بیشتر بدانید

تاریخ علم

بررسی رفتار بیرون انداختن پوسته‌های تخم در کاکایی از پژوهش‌های نیکولاس تین برگن (۱۹۰۷-۱۹۸۸) است.



شکل ۱۰- لکه‌های چشم مانند دم طاووس نر

در جانوران، ماده‌ها بیشتر از نرها رفتار انتخاب جفت را انجام می‌دهند. چرا چنین است؟ در جانوران هر یک از والدین باید انرژی و مدت زمانی را برای زادآوری و پرورش زاده‌ها صرف کنند. جانوران ماده معمولاً زمان و انرژی بیشتری صرف می‌کنند. برای مثال نگهداری از تخم‌ها و جوجه‌ها در پرندگان و بارداری و شیردادن به نوزادان در پستانداران فعالیت‌های پرهزینه‌ای هستند که جانوران ماده آنها را انجام می‌دهند. بنابراین، تولیدمثل برای آنها هزینه بیشتری دارد. پس جانوران ماده باید جفت انتخاب کنند تا موفقیت تولیدمثلی آنها تضمین شود.

شاید برای شما این پرسش مطرح شده باشد که پرهای زینتی دم طاووس نر با موفقیت زادآوری جانور ماده چه ارتباطی دارد؟ پژوهش‌ها نشان داده‌اند، جانوران ماده در انتخاب جفت به ویژگی‌های ظاهری نرها توجه می‌کنند. درخشان بودن رنگ پرنده یکی از این ویژگی‌هایی است که نشانه سلامت و

کیفیت رژیم غذایی آن است. جفت‌گیری با نری که این نشانه را دارد، سلامت جانور ماده و زاده‌هایش را تضمین می‌کند. ویژگی‌های ظاهری جانور نر نشانه‌ای از داشتن ژن‌های مربوط به صفات سازگارکننده نیز هستند؛ یعنی گرچه دم بلند و زینتی طاووس نر ممکن است حرکت جانور را دشوار و آن را در مقابل شکارچی‌ها آسیب‌پذیرتر کند و احتمال بقای آن را کاهش دهد، اما بقای جانوری با این ویژگی هنگام تولیدمثل، سازگارتر بودن آن را نشان می‌دهد. در نتیجه در صورت انتخاب آن، زاده‌ها علاوه بر ویژگی ظاهری، ژن‌های صفات سازگارتر را نیز به ارث می‌برند. ویژگی‌های ظاهری مانند دم زینتی طاووس نر یا شاخ گوزن نر از صفات ثانویه جنسی جانوران نر هستند که هنگام جفت‌یابی و رقابت با نرهای دیگر به کار می‌روند.

البته در گونه‌های مختلف جانوران، انتخاب جفت را فقط جانوران ماده انجام نمی‌دهند. در نوعی جیرجیرک، جانور نر هزینه بیشتری در تولیدمثل می‌پردازد و بنابراین جفت را انتخاب می‌کند. جیرجیرک نر زامه‌های خود را درون کیسه‌ای به همراه مقداری مواد مغذی به جانور ماده منتقل می‌کند. جانور ماده هنگام تشکیل تخم و برای رشدونمو جنین به مواد مغذی درون کیسه نیاز دارد (شکل ۱۱). این کیسه بخش قابل توجهی از وزن بدن جانور نر را تشکیل می‌دهد. جانور نر، جیرجیرک ماده‌ای را انتخاب می‌کند که بزرگ‌تر باشد، زیرا بزرگ‌تر بودن جیرجیرک ماده نشانه آن است که تخمک‌های بیشتری دارد و می‌تواند زاده‌های بیشتری تولید کند. در این جانوران جیرجیرک‌های ماده برای انتخاب شدن رقابت می‌کنند.



شکل ۱۱- جیرجیرک ماده‌ای که کیسه دارای اسپرم و مواد مغذی (بخش سفیدرنگ) را دریافت کرده است.

رفتار تولیدمثلی دیگر در جانوران، نوع **نظام جفت‌گیری** آنهاست. طاووس نر نظام جفت‌گیری **چند همسری** دارد. در این نظام یکی از والدین پرورش و نگهداری زاده‌ها را انجام می‌دهد. طاووس نر در نگهداری زاده‌ها نقشی ندارد، البته می‌تواند با نگهداری از قلمرو، منابع غذایی، محل لانه و پناهگاه ایمن از شکارچی‌ها، به طور غیرمستقیم به ماده‌ها کمک کند. در نتیجه، موفقیت تولیدمثلی هر دو جانور

نر و ماده افزایش می‌یابد. بیشتر پستانداران نظام چندهمسری دارند و بیشتر پرندگان مثل قمری خانگی تک‌همسراند. در این نظام هر دو والد هزینه‌های پرورش زاده‌ها را می‌پردازند. همچنین، در این نظام جانور نر و ماده در انتخاب جفت سهم مساوی دارند.

غذایابی

رفتار **غذایابی**^۱ مجموعه رفتارهای جانور برای جست‌وجو و به دست آوردن غذاست. غذاهایی که جانوران می‌خورند معمولاً اندازه‌های متفاوتی دارند. غذاهای بزرگ‌تر انرژی بیشتری دارند اما ممکن است فراوانی آنها کمتر و به دست آوردن آنها دشوارتر باشد. بنابراین، برای جانوران میزان سود یعنی میزان انرژی موجود در غذا و هزینه به دست آوردن غذا و مصرف آن اهمیت دارد. موازنه بین محتوای انرژی غذا و هزینه به دست آوردن آن، **غذایابی بهینه**^۲ نام دارد. براساس انتخاب طبیعی، رفتار غذایابی ای برگزیده می‌شود که از نظر میزان انرژی دریافتی کارآمدتر باشد یعنی اینکه جانور در هر بار غذایابی، بیشترین انرژی خالص را دریافت کند. برای مثال خرچنگ‌های ساحلی صدف‌های با اندازه متوسط را ترجیح می‌دهند زیرا آنها بیشترین انرژی خالص را تأمین می‌کنند. صدف‌های بزرگ‌تر انرژی بیشتری دارند اما برای شکستن آنها باید انرژی بیشتری صرف شود.

هنگام غذایابی ممکن است جانور خود در خطر شکار شدن یا آسیب دیدن قرار گیرد. بنابراین رفتار برگزیده باید موازنه‌ای بین کسب بیشترین انرژی و کمترین خطر را نیز نشان دهد. به همین علت است که هنگام وجود شکارچی یا رقیب، جانوران رفتارهای غذایابی خود را تغییر می‌دهند و در حالتی آماده و گوش به زنگ به غذایابی مشغول می‌شوند.

گاهی جانوران غذایی را مصرف می‌کنند که محتوای انرژی چندانی ندارد اما مورد نیاز آنها را تأمین می‌کند. برای مثال طوطی‌هایی که در شکل ۱۲ می‌بینید خاک رس می‌خورند تا مواد سمی حاصل از غذاهای گیاهی را در لوله گوارش آنها خنثی کند.



شکل ۱۲- تغذیه طوطی‌ها از خاک رس

۱- Foraging

۲- Optimal Foraging



شکل ۱۳- قلمروخواهی در قو، سرخورد
مازندران

قلمروخواهی: قلمرو یک جانور، بخشی از محدوده جغرافیایی است که جانور در آن زندگی می‌کند. جانوران در برابر افراد هم‌گونه یا افراد گونه‌های دیگر از قلمرو خود دفاع می‌کنند. این رفتار **قلمروخواهی** نام دارد. جانور با رفتارهایی مانند اجرای نمایش و یا تهاجم به جانوران دیگر اعلام می‌کند که قلمرو متعلق به آن است. مثلاً یک پرنده با آواز خواندن سعی می‌کند از ورود پرنده مزاحم به قلمرو خود جلوگیری کند. اگر آواز مؤثر نباشد، ممکن است پرنده صاحب قلمرو برای بیرون راندن مزاحم به آن حمله کند (شکل ۱۳). این فعالیت‌ها نیازمند صرف زمان و مصرف انرژی است. تهاجم ممکن است به آسیب دیدن پرنده صاحب قلمرو هم بینجامد. آواز خواندن ممکن است موقعیت پرنده را برای شکارچی آشکار کند. چرا پرنده هزینه‌های دفاع از قلمرو را می‌پذیرد؟ قلمروخواهی برای جانوران فایده‌هایی دارد: استفاده اختصاصی از منابع قلمرو می‌تواند غذا و انرژی دریافتی جانور را افزایش دهد. امکان جفت‌یابی جانور و دسترسی به پناهگاه برای در امان ماندن از شکارچی نیز افزایش می‌یابد.

مهاجرت: هر ساله با آغاز فصل پاییز پرنده‌گان مهاجر از سیبری و اروپا به تالاب‌ها و آبگیرهای شمال ایران مهاجرت می‌کنند. این پرنده‌ها پس از زمستان‌گذرانی، در اوایل بهار به سرزمین خود باز می‌گردند.



شکل ۱۴- پرنده‌گان مهاجر به پناهگاه
حیات وحش میانکاله مازندران

جابه‌جایی طولانی و رفت و برگشتی جانوران **مهاجرت** نام دارد. تغییر فصل و نامساعد شدن شرایط محیط و کاهش منابع مورد نیاز، جانوران را وادار می‌دارد به سوی زیستگاه‌های مناسب‌تر برای تغذیه، بقا و زادآوری مهاجرت کنند. مهاجرت رفتاری غریزی است که یادگیری نیز در آن نقش دارد. بررسی مهاجرت سارها نشان داده است سارهایی که تجربه مهاجرت دارند بهتر از آنهایی که برای نخستین بار مهاجرت می‌کنند، مسیر مهاجرت را تشخیص می‌دهند.

در مسیر مهاجرت بسیاری از جانوران از جاهایی عبور می‌کنند که قبلاً در آنجاها نبوده‌اند. پس آنها چگونه در این محیط‌های نا آشنا،

راه خود را پیدا می‌کنند؟ جانوران برای جهت‌یابی از نشانه‌های محیطی استفاده می‌کنند. مثلاً جهت‌یابی هنگام روز با استفاده از موقعیت خورشید و در شب با استفاده از موقعیت ستاره‌ها در آسمان انجام می‌شود. وقتی هوا ابری است جانوران چگونه مسیر حرکت را تشخیص می‌دهند؟ آیا میدان مغناطیسی زمین در جهت‌یابی جانوران نقش دارد؟ برای پاسخ به این پرسش، پژوهشگران در یک روز ابری آهنربای کوچکی را روی سر کبوتر خانگی قرار دادند. با وجود این آهنربا، پرنده نتوانست مسیر درست را بیابد و به لانه باز گردد. پژوهشگران نتیجه گرفتند کبوتر خانگی می‌تواند موقعیت خود را نسبت به میدان مغناطیسی زمین احساس و با استفاده از آن جهت‌یابی کند. پژوهشگران در سر بعضی از پرنده‌ها ذرات

بیشتر بدانید

آهن مغناطیسی شده نیز یافته‌اند. لاک‌پشت‌های دریایی ماده پس از طی مسافت‌های طولانی، برای تخم‌گذاری به ساحل دریا می‌آیند و پس از تخم‌گذاری دوباره به دریا باز می‌گردند. به نظر می‌رسد میدان مغناطیسی زمین در جهت‌یابی لاک‌پشت‌ها نیز نقش دارد.

خواب زمستانی و رکود تابستانی

برخی جانوران برای بقاء، در زمستان، خواب زمستانی^۱ دارند. در این حالت جانور به خواب عمیقی فرو می‌رود و یک دوره کاهش فعالیت را طی می‌کند که در آن دمای بدن، مصرف اکسیژن، تعداد تنفس جانور و نیاز جانور به انرژی کاهش می‌یابد. پیش از ورود به خواب زمستانی، جانور مقدار زیادی غذا مصرف می‌کند و در بدن آن چربی لازم به مقدار کافی ذخیره می‌شود تا هنگام خواب به مصرف برسد. رکود تابستانی^۲ نیز یک دوره کاهش فعالیت است که در آن سوخت‌وساز جانور کاهش پیدا می‌کند. رکود تابستانی در جانورانی دیده می‌شود که در جاهای به شدت گرم مانند بیابان زندگی می‌کنند. این جانوران در پاسخ به نبود غذا یا دوره‌های خشک سالی، رکود تابستانی انجام می‌دهند.

بیشتر بدانید



عکس از حسین خانمی

خرس قهوه‌ای در پناهگاه حیات وحش دودانگه و چهاردانگه مازندران

خرس قهوه‌ای (*Ursus arctos*) در ایران زندگی می‌کند. برخی از این جانوران حالتی شبیه خواب زمستانی دارند و گاهی وقتی هوا گرم‌تر است از خواب بیدار می‌شوند. این خرس‌ها معمولاً از انسان دوری می‌کنند ولی خرس‌هایی که از خواب بیدار شده‌اند، ممکن است رفتاری تهاجمی داشته باشند...

لاک‌پشت‌های دریایی منقار عقابی (*Eretmochelys imbricata*) به شدت در خطر انقراض قرار دارند. این جانوران در طول فصل زادآوری یعنی از اسفند تا تیرماه برای تخم‌گذاری به آب‌های منطقه خلیج فارس و دریای عمان مهاجرت می‌کنند. پناهگاه حیات وحش و تالاب بین‌المللی شیدور و جزیره هندورابی در استان هرمزگان و جزایر ام‌الکرم و نخیلو در استان بوشهر مهم‌ترین مناطق لانه‌سازی این جانور است.

پروژه ردیابی ماهواره‌ای مهاجرت لاک‌پشت‌های دریایی در منطقه خلیج فارس و دریای عمان به پیشنهاد و حمایت مالی دفتر منطقه‌ای صندوق جهانی حیات وحش و بنیاد تحقیقات دریایی آژانس حفاظت محیط‌زیست ابوظبی و با مشارکت کشورهای ایران، قطر، امارات و عمان در فروردین سال ۱۳۸۹ بانصب پنج ردیاب روی لاک‌پشت‌های منقار عقابی در جزیره شیدور در ایران انجام شد.



عکس از ناصر مبارکی

لاک‌پشت منقار عقابی با ردیاب رادیویی

فعالیت ۵



لاک‌پشتی که در شکل روبه‌رو می‌بینید، حتی وقتی در آزمایشگاه قرار دارد و غذا و آب کافی دریافت می‌کند، رکود تابستانی را نشان می‌دهد. چرا رکود تابستانی را رفتاری ژنی می‌دانند؟

علائم دریافتی از ردیاب ماهواره‌ای ضمن کمک در شناسایی مسیرهای مهاجرت و مکان‌های تغذیه این جانوران، اطلاعات بسیار مهمی درباره رفتارهای تولیدمثلی و مهاجرتی آنها فراهم می‌سازد.



نمای کلی از مسیر حرکت لاک‌پشت‌های ایران و نقاط تجمع و تغذیه لاک‌پشت‌های ردیابی شده

۱- Hibernation

۲- Aestivation

برخی از جانوران زندگی گروهی دارند. برای زندگی در گروه، جانوران باید بتوانند با هم ارتباط برقرار کنند.

ارتباط بین جانوران

می‌دانید بعضی جانوران مانند زنبورها با استفاده از فرمون با یکدیگر ارتباط برقرار می‌کنند. جوجه کاکایی با لمس منقار والد با او ایجاد ارتباط و غذا درخواست می‌کند. جانوران از راه‌های گوناگون مانند تولید صدا، علامت‌های دیداری، بو و لمس کردن با یکدیگر ارتباط برقرار ساخته و اطلاعات مبادله می‌کنند. در نتیجه این ارتباط، رفتار آنها تغییر می‌کند. صدای جیرجیرک نر، اطلاعاتی مانند گونه و جنسیت را به اطلاع جیرجیرک ماده می‌رساند. برقراری ارتباط برای یافتن غذا را در زنبورهای عسل بررسی می‌کنیم.

ارتباط در زنبورهای عسل: زنبورهای کارگر شهد و گرده گل‌ها را جمع‌آوری کرده و به کندو می‌آورند. وقتی زنبور کارگر منبع غذایی جدیدی پیدا می‌کند و به کندو باز می‌گردد، خیلی طول نمی‌کشد که تعداد زیادی زنبور کارگر در محل آن منبع غذایی دیده می‌شوند. چرا چنین است؟

زنبور یابنده پس از بازگشت، اطلاعات خود درباره منبع غذایی را به زنبورهای دیگر ارائه می‌کند. این زنبور با انجام حرکات ویژه‌ای اطلاعات خود را به زنبورهای دیگر نشان می‌دهد. زنبورهای کارگر با مشاهده این حرکات، فاصله تقریبی کندو تا محل منبع غذا و جهتی را که باید پرواز کنند، درمی‌یابند. برای مثال هرچه این حرکات طولانی‌تر باشد، منبع غذایی دورتر است. افزون بر آن هنگام انجام حرکات، زنبور یابنده صدای وز وز متفاوتی نیز دارد. زنبورهای کارگر با استفاده از اطلاعات کلی که از زنبور یابنده درباره منبع غذایی دریافت کرده‌اند، به سمت آن پرواز و به کمک بویایی خود، محل دقیق غذا را پیدا می‌کنند. این روش برقراری ارتباط چه مزیتی برای زنبورها دارد؟ وقتی زنبورهای کارگر قبل از جست‌وجو درباره محل منبع غذا اطلاعات داشته باشند، با صرف انرژی کمتر و در زمان کوتاه‌تری محل دقیق آن را پیدا می‌کنند.

بیشتر بدانید

کشف روش ارتباط در زنبورهای عسل از پژوهش‌های کارل فون فریش (۱۸۸۶-۱۹۸۲) است.



بیشتر بدانید

زنبور یابنده با انجام حرکات در زاویه‌ای مشخص با خط عمود، زاویه بین منبع غذا، کندو و خورشید را نشان می‌دهد. مثلاً همان‌طور که در شکل زیر می‌بینید، منبع غذا در سمت راست خورشید با زاویه‌ای ۳۰ درجه قرار دارد.



زندگی گروهی

برخی جانوران مانند مورچه و گرگ به شکل گروهی زندگی می‌کنند و با هم همکاری دارند. زندگی گروهی برای این جانوران چه فایده‌ای دارد؟ جانوران از زندگی گروهی سود می‌برند. برای مثال احتمال شکار شدن جانور در گروه کمتر است زیرا نگهبان‌های گروه، محیط اطراف را زیر نظر می‌گیرند. دسترسی به منابع غذایی نیز ممکن است افزایش یابد زیرا همان‌طور که در زنبورهای عسل دیدید، جانور می‌تواند درباره محل منبع غذا از جانوران دیگر گروه اطلاعات کسب کند. شکار گروهی نیز موفقیت بیشتری دارد زیرا افراد یک گروه می‌توانند شکار بزرگ‌تری را به دام بیندازند.

اجتماع مورچه‌ها از گروه‌هایی تشکیل شده است که در اندازه، شکل و کارهایی که انجام می‌دهند تفاوت دارند. مثلاً در اجتماع مورچه‌های برگ‌بُر، کارگرها اندازه‌های متفاوتی دارند. تعدادی از آنها برگ‌ها را برش می‌دهند و به لانه حمل می‌کنند و گروهی دیگر کار دفاع را انجام می‌دهند (شکل ۱۵). این مورچه‌ها قطعه‌های برگ را به عنوان کود برای پرورش نوعی قارچ که از آن تغذیه می‌کنند، به کار می‌برند.



شکل ۱۵- مورچه بزرگ‌تر کارگری است که برگ را به لانه حمل و مورچه‌های کوچک‌تر از آن دفاع می‌کنند.

رفتار دگرخواهی

در بین جانورانی که زندگی گروهی دارند، افراد نگهبانی هستند که با تولید صدا حضور شکارچی را به دیگران هشدار می‌دهند تا به موقع فرار کنند. البته آنها با این کار توجه شکارچی را به خود جلب کرده، احتمال بقای خود را کاهش می‌دهند (شکل ۱۶). زنبورهای عسل کارگر، نازا هستند و نگهداری و پرورش زاده‌های ملکه را انجام می‌دهند. جانوران نگهبان و زنبورهای عسل کارگر رفتار **دگرخواهی**^۱ دارند. دگرخواهی رفتاری است که در آن یک جانور بقا و موفقیت تولیدمثلی جانور دیگری را با هزینه کاسته شدن


۱- Altruism



شکل ۱۶- این دم عصایی (meerkat) در حال نگهبانی است. او در هنگام احساس وجود شکارچی دیگران را با فریاد آگاه می‌کند.

از احتمال بقا و تولیدمثل خود، افزایش می‌دهد. چرا جانوران رفتار دگرخواهی انجام می‌دهند؟ افراد نگهبان در گروه جانوران و یا زنبورهای عسل، رفتار دگرخواهی را نسبت به خویشاوندان خود انجام می‌دهند. آنها با خویشاوندانشان، ژن‌های مشترکی دارند. بنابراین اگرچه این جانوران خود زاده‌ای نخواهند داشت، ولی خویشاوندان آنها می‌توانند زادآوری کرده و ژن‌های مشترک را به نسل بعد منتقل کنند. به همین علت است که براساس انتخاب طبیعی، رفتار دگرخواهی برگزیده شده است. در نمونه‌ای دیگر از دگرخواهی جانوران با یکدیگر گروه همکاری تشکیل می‌دهند. برای

مثال خفاش‌های خون‌آشام به‌طور گروهی درون غارها یا سوراخ درختان زندگی می‌کنند. غذای آنها خون پستانداران بزرگ مثل دام‌هاست (شکل ۱۷). این خفاش‌ها خونی را که خورده‌اند با یکدیگر به اشتراک می‌گذارند. خفاشی که غذا خورده است کمی از خون خورده شده را برمی‌گرداند تا خفاش گرسنه آن را بخورد. در غیر این صورت خفاش گرسنه خواهد مرد. خفاشی که غذا دریافت کرده، کار خفاش دگرخواه را در آینده جبران می‌کند. اگر جبران انجام نشود، این خفاش از اشتراک غذا کنار گذاشته می‌شود.



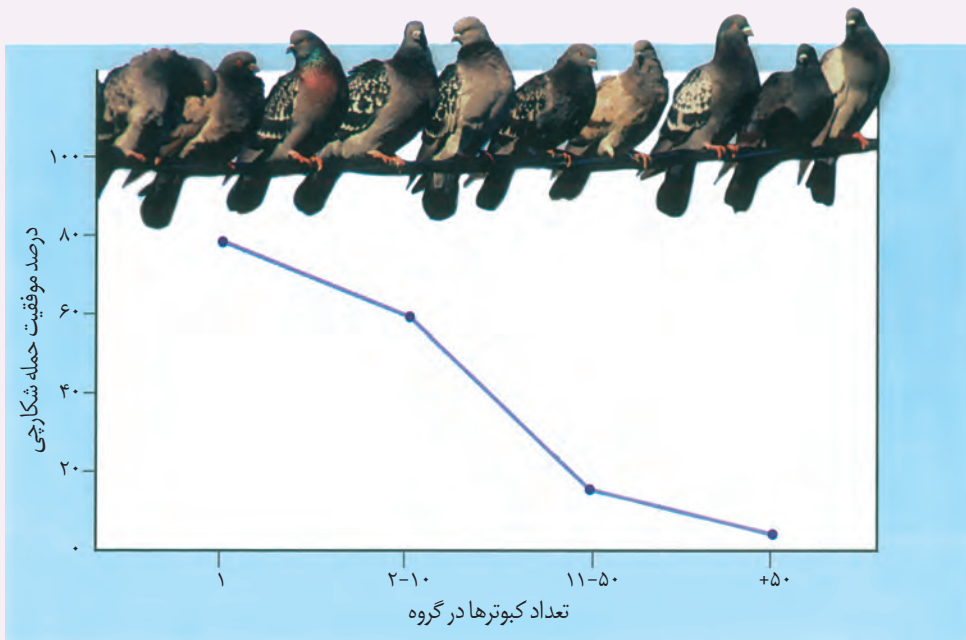
شکل ۱۷- خفاش خون‌آشام از خون پستانداران تغذیه می‌کند.

خفاش‌هایی که دگرخواهی انجام می‌دهند، لزوماً خویشاوند نیستند. در واقع، رفتار دگرخواهی که در اثر انتخاب طبیعی برگزیده شده، به بقای آنها منجر می‌شود.

گاهی دگرخواهی، رفتاری به نفع خود فرد است. در میان پرندگان، افراد یاریگری هستند که در پرورش زاده‌ها به والدین آنها یاری می‌رسانند. مشخص شده است وجود این یاریگرها احتمال بقای زاده‌ها را افزایش می‌دهد. یاریگرها اغلب پرنده‌های جوانی‌اند که با کمک به والدین صاحب لانه، تجربه کسب می‌کنند و هنگام زادآوری می‌توانند از این تجربه‌ها برای پرورش زاده‌های خود استفاده کنند یا با مرگ احتمالی جفت‌های زادآور، قلمرو آنها را تصاحب و خود زادآوری کنند.

فعالیت ۶

نمودار زیر مزیت زندگی گروهی را نشان می‌دهد، آن را تفسیر کنید.



- Mason Kenneth, Duncan Tod, Johnson George, Losos Jonathan, Singer Susan, Understanding Biology, 2end Edition, McGraw-Hill, 2018.
- Raven Peter, Mason Kenneth, Losos Jonathan, Singer Susan, Biology, 11th Edition, McGraw-Hill,2017.
- Neil. Campbell Urry Lisa , Reece Jane, Cain Michael, Wasserman Steven, Minorsky Peter, Campbell, Biology, 11 th Edition , Pearson, 2017.
- Benjamin A. Pierce , Genetics: A Conceptual Approach, 6th Edition, Freeman, W. H. & Company, 2016.
- Solomon Eldera ,Berg Linda, Martin Diana, Biology, 10 Th Edition, Thomson, 2015.
- Mader Sylvia &Windelspecht Michael, Biology,11Th Edition,McGraw-Hill, 2013.
- Russel Hertz Mcmillan, Biology The Dynamic Science, 2end Edition, Broks/Cole, Cengage Learning, 2011.
- D. Peter Snustad , Michael J. Simmons,Principles of Genetics,6 th Edition, John Wiley and Sons, 2011.
- Alison M.Smith & et.al,plant Biology,Garland Science, 2010.
- Bernard R.Glick,Jack J. Pasternak ,Cheryl L. Patten, Molecular Biotechnology Principles and Applications of Recombinant DNA, 4 Th Edition, ASM Press, 2010
- Linda Berg,Introductory Botany ,Plants , People and Environment.Thomson Brooks, 2008.
- James D. Watson, Tania A. Baker, Stephen P. Bell, Alexander Gann, Michael Levine, Richard Losick. Molecular biology of the gene, 5th Edition, Pearson/Benjamin Cummings, 2004.
- Taiz & Zeiger, Plant Physiology, 3th Edition, Sinauer Association, 2003.
- Alcock John,Animal Behavior:An Evolutionary Approach, 7th Edition, sinauer associates Inc, 2001.



واژه‌های مصوب فرهنگستان زبان و ادب فارسی در کتاب
زیست‌شناسی (۳) پایه دوازدهم

واژه بیگانه	واژه مصوب	واژه به انگلیسی
اگزون	بیانه	Exon
الل	دگره	Allele
اینترون	میانه	Intron
آنتی کدون	پادرمزه	Anticodon
پروکاریوت	پیش‌هسته‌ای	Prokaryote
پلازمید	دیسک	Plasmid
پلی پلوئیدی	چندلادی	Polyploidy
تتراد	چهارتایه	Tetrad
دیجیتال	رقمی	Digital
دایمر	دوپار	Dimer
ریبوزوم	رنتان	Ribosome
ژنوتیپ	ژن‌نمود	Genotype
ژنوم	ژنگان	Genome
سانتریفوژ	گریزانه	Centrifuge
فعالیت پلی‌مرازی	فعالیت بسپارازی	Polymerization
فنوتیپ	رخ‌نمود	Phenotype
فیزیولوژی	کاراندام‌شناسی	Physiology
کپسول	پوشینه	Capsule
کدون	رمزه	Codon
کراسینگ اور	چلیپایی شدن	Crossing over
کروموزوم	فام‌تن	Chromosome
گلیکولیز	قند کافت	Glycolysis
یوکاریوت	هوهسته‌ای	Eukaryote

سازمان پژوهش و برنامه‌ریزی آموزشی جهت ایفای نقش خطیر خود در اجرای سند تحول بنیادین در آموزش و پرورش و برنامه درسی ملی جمهوری اسلامی ایران، مشارکت معلمان را به‌عنوان یک سیاست اجرایی مهم دنبال می‌کند. برای تحقق این امر در اقدامی نوآورانه سامانه تعاملی بر خط اعتبارسنجی کتاب‌های درسی راه‌اندازی شد تا با دریافت نظرات معلمان درباره کتاب‌های درسی نونگاشت، کتاب‌های درسی را در اولین سال چاپ، با کمترین اشکال به دانش‌آموزان و معلمان ارجمند تقدیم نماید. در انجام مطلوب این فرایند، همکاران گروه تحلیل محتوای آموزشی و پرورشی استان‌ها، گروه‌های آموزشی و دبیرخانه راهبری دروس و مدیریت محترم پروژه آقای محسن باهو نقش سازنده‌ای را بر عهده داشتند. ضمن ارج نهادن به تلاش تمامی این همکاران، اسامی دبیران و هنرآموزانی که تلاش مضاعفی را در این زمینه داشته و با ارائه نظرات خود سازمان را در بهبود محتوای این کتاب یاری کرده‌اند به شرح زیر اعلام می‌شود.

اسامی دبیران و هنرآموزان شرکت کننده در اعتبارسنجی کتاب زیست شناسی ۳ - کد ۱۱۲۲۱۶

ردیف	نام و نام خانوادگی	استان محل خدمت	ردیف	نام و نام خانوادگی	استان محل خدمت
۱	بتول جلیلی	خراسان جنوبی	۳۲	علی محمد نوری	کرمانشاه
۲	حسن توانایی بلوکی	هرمزگان	۳۳	خدیجه صوفیان	مرکزی
۳	پرویز بصیری	همدان	۳۴	مجتبی سیاوشی	همدان
۴	پروین غفاری	کردستان	۳۵	مهرزاد یزدانپناه	کهگیلویه و بویراحمد
۵	علی افتخاری	قزوین	۳۶	ناهید منور	خراسان شمالی
۶	مهران داوری فر	گلستان	۳۷	ملیحه رجب پور	سیستان و بلوچستان
۷	گیتی عزیززاده مقدم	اصفهان	۳۸	حسن باقری	قم
۸	حمیده ملیخان	قزوین	۳۹	سکینه طیبی	البرز
۹	سیده سحر سلیمانیان	گلستان	۴۰	فاطمه گورکانی	سمنان
۱۰	مجید اخلاصی	چهارمحال و بختیاری	۴۱	محمدحسین محمدی آبندانشی	مازندران
۱۱	زهرا ضیاء	فارس	۴۲	آزاده اسراری	قم
۱۲	علیرضا تیموری	اصفهان	۴۳	مختار حیدری	چهارمحال و بختیاری
۱۳	فریبا زرایی	شهرتهران	۴۴	غلامحسن ویسکرمی	لرستان
۱۴	ابوالفضل یاسائی	کردستان	۴۵	عارفه منظمی	زنجان
۱۵	ابراهیم نبئی	مرکزی	۴۶	مهرانوش صفاریور	شهرستان‌های تهران
۱۶	علی اکبر رحیمولوی مرجانی	آذربایجان شرقی	۴۷	مریم قاسم زاده دهکردی	خوزستان
۱۷	علی اصغر صفدری	خوزستان	۴۸	فرهاد حیدری	اردبیل
۱۸	فرانک نصیریپور	آذربایجان شرقی	۴۹	مهرداد فرخی	کرمانشاه
۱۹	شیوا خیرجوئی	آذربایجان غربی	۵۰	سیدرضا جعفری	کرمان
۲۰	علی صدق آمیز	گیلان	۵۱	مریم خدادادی	مازندران
۲۱	علی مقدم	گیلان	۵۲	مهدیه تقدیسی سیار	یزد
۲۲	مسعود پارسامجد	قزوین	۵۳	جعفر پورااکرمی	یزد
۲۳	ملیحه نظام دوست	خراسان جنوبی	۵۴	ثریا جلیلیان	اردبیل
۲۴	راضیه دانا	بوشهر	۵۵	آرش یار محمدی	شهرتهران
۲۵	شهرام سلطانی	فارس	۵۶	مریم ستوده	کهگیلویه و بویراحمد
۲۶	نجف سزاوار	کرمانشاه	۵۷	ماشاله درویشی	بوشهر
۲۷	فاطمه مالکی	خراسان رضوی	۵۸	مهناز شفیعی زرنه	ایلام
۲۸	پریسا جاویدمهر	خوزستان	۵۹	مریم نبی زاده	هرمزگان
۲۹	مریم کاملی	شهرتهران	۶۰	الهه صفاریه	سمنان
۳۰	آیت الله رستمی	ایلام	۶۱	محمد باراج	سیستان و بلوچستان
۳۱	شبنم کیاکجوری	البرز	۶۲	علی اکبر عابدی	خراسان رضوی

معلمان محترم، صاحب نظران، دانش آموزان عزیز و اولیای آنان می توانند نظر اصلاحی خود را درباره مطالب این کتاب از طریق نامه به نشانی تهران، صندوق پستی ۱۵۸۷۵/۴۸۷۴، گروه درسی مربوطه و یا پیام نگار (Email) talif@talif.sch.ir ارسال نمایند.

دفتر تألیف کتاب های درسی عمومی و متوسطه نظری



زیست‌شناسی ۱

فصل ۴ گردش مواد در بدن

کفتار ۱: قلب

کفتار ۲: برگ ها

کفتار ۳: خون

کفتار ۴: تنوع و گردش مواد در جانداران

تست کده

مؤلف: دکتر زهرا سادات همایونی

فصل ۴ پایه دهم

گفتار ۱: قلب

← قلب + رگ + خون

دستگاه گردش مواد در

۲ دهلیز در بالا

قلب انسان ۴ حفره

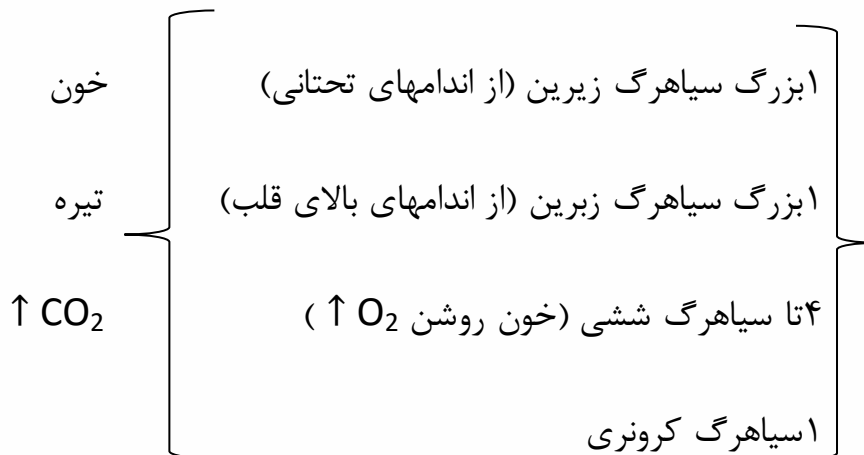
۲ بطن در پایین: بطن ها بزرگتر و از نظر ماهیچه قوی تر هستند چون

خون را پمپاژ می کنند

- مسیر جریان خون: دو بزرگ سیاهرگ زیرین و زبرین ← دهلیز راست ← بطن راست

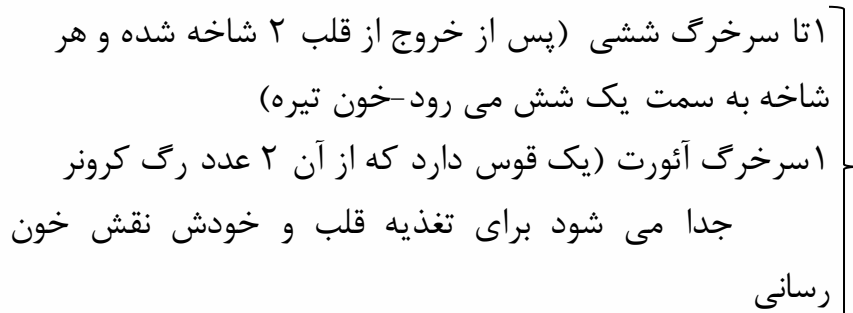
← سرخرگ ششی ← شش ها (تبادل گاز) ← ۴ سیاهرگ ششی

← دهلیز چپ ← بطن چپ ← آئورت ← اندامها



رگ های ورودی به قلب

۷ رگ



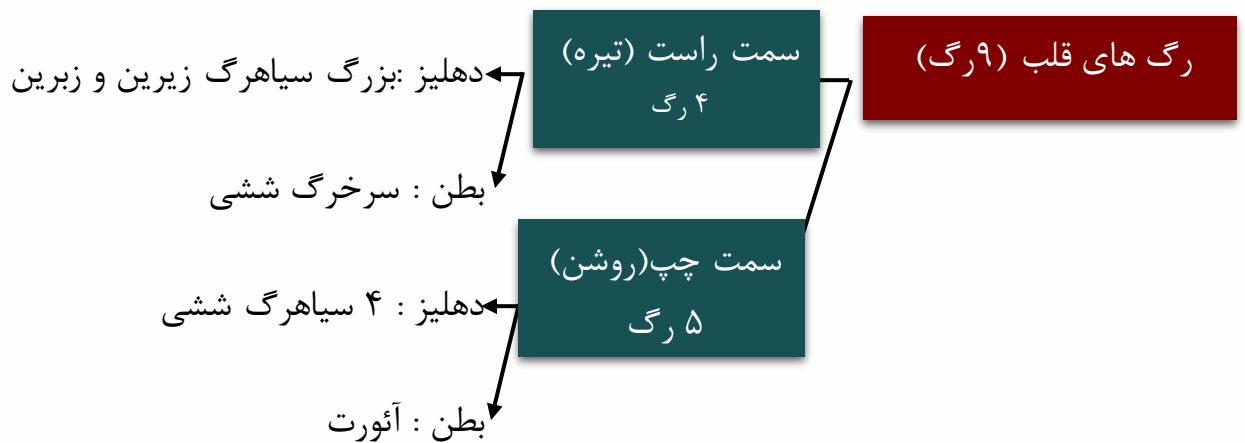
رگ های خروجی از قلب

۲ رگ

با مقاوم اندام ها را دارد - خون روشن)





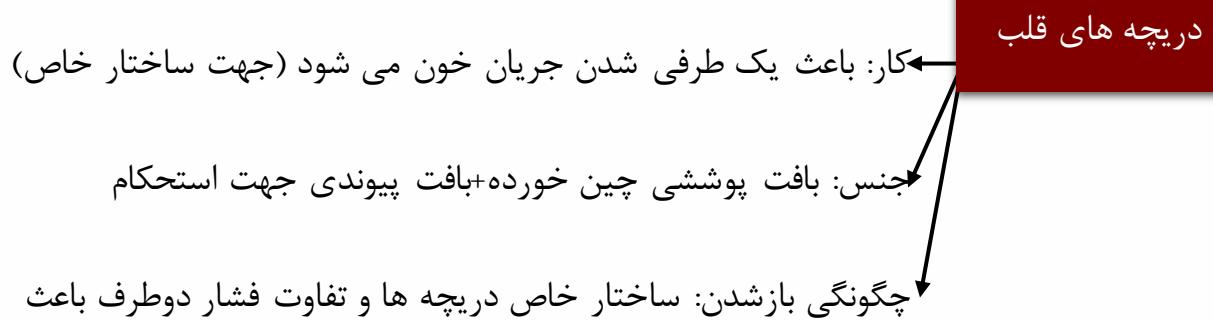


اکسیژن و مواد غذایی به قلب توسط رگ های اکلیلی (کرونر) که از قوس آئورت منشعب می شوند صورت می گیرد و پس از خون رسانی به هم پیوسته و به صورت سیاهرگ به دهلیز راست می ریزد.

بسته شدن رگ های کرونر ← سکته یا حمله ی قلبی (عدم O_2 رسانی به قلب)

بر اثر ۱-لخته شدن خون

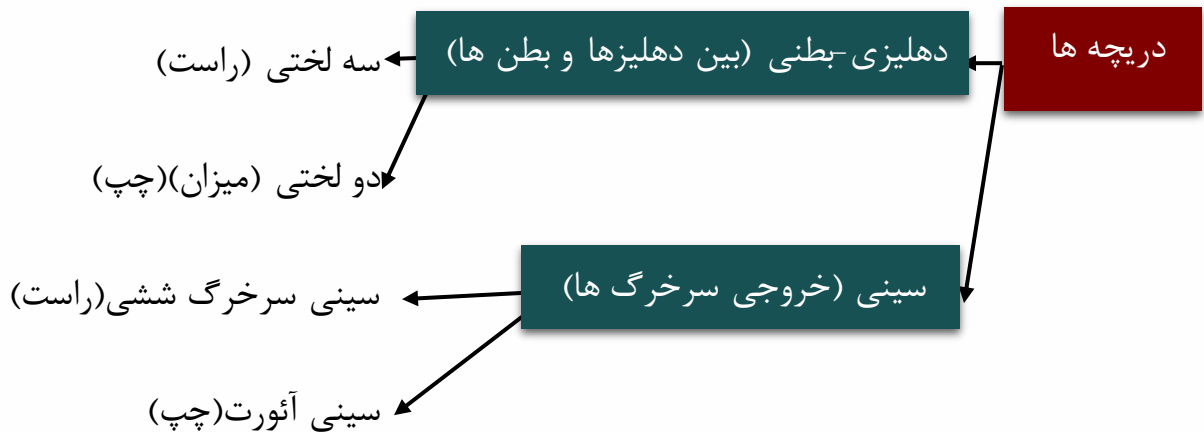
۲-سخت شدن دیواره ی رگ



باز و بسته شدن میشود.





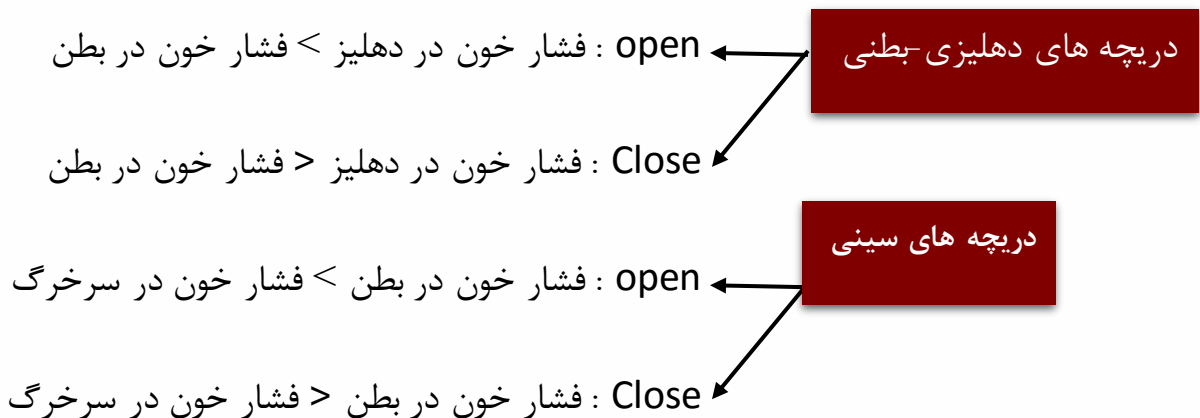


-دریچه ی سه لختی : از ۳ قطعه آویخته -بین دهلیز راست و بطن راست-مانع بازگشت خون به دهلیز راست می شود.

-دریچه ی دولختی : از ۲ قطعه آویخته -بین دهلیز چپ و بطن چپ-مانع بازگشت خون به دهلیز چپ می شود

-در سینی سرخرگ ششی : خروجی بطن راست-مانع بازگشت خون به بطن راست میشود.

-دریچه سینی آئورت : خروجی بطن چپ- مانع بازگشت خون به بطن چپ می شود.



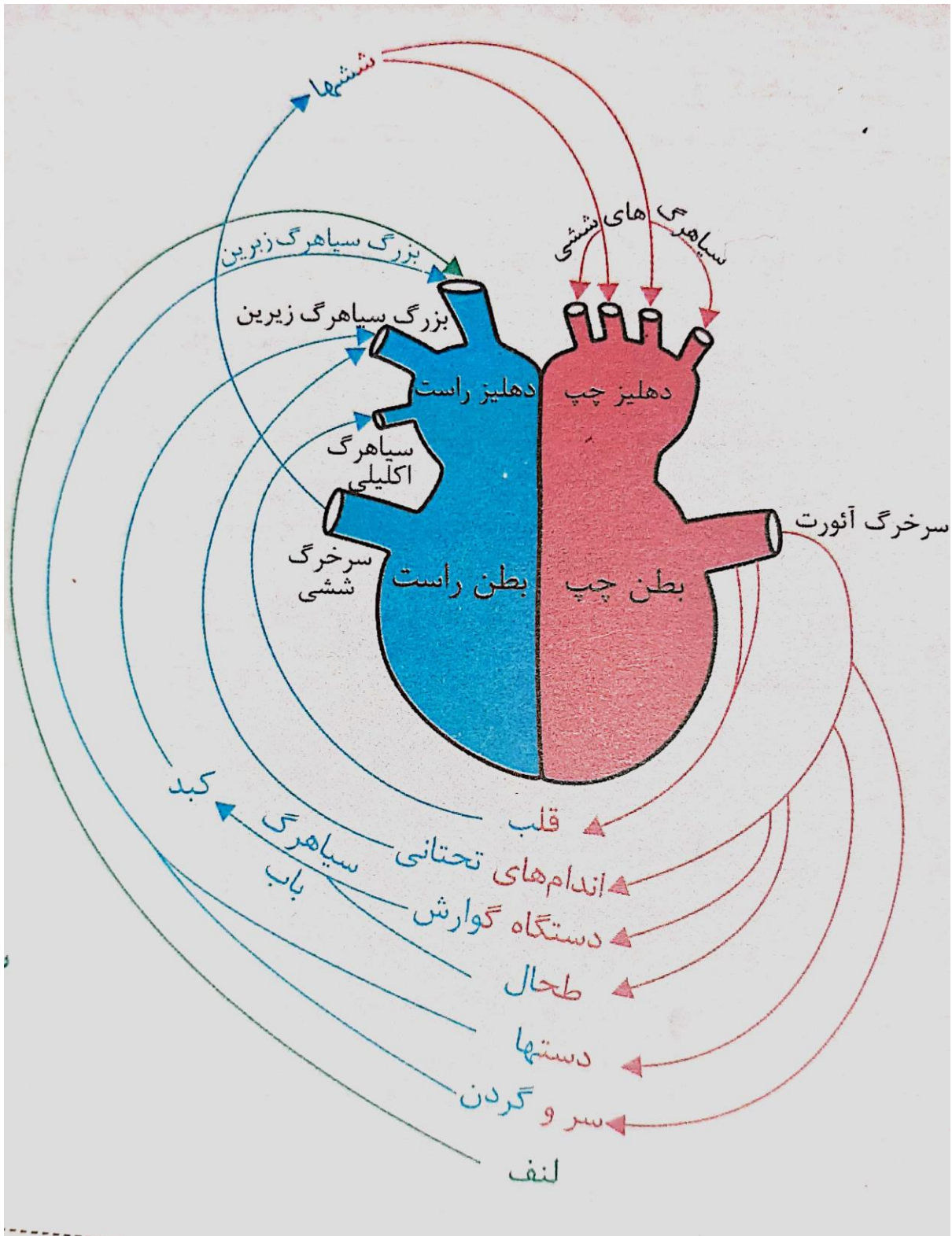
بررسی حفره های قلب


حفره شناسی	مکان	رنگ خون	دریچه	رگ های	رگ های	تعداد رگ	نقش در	نوع و میزان
قلبی		درون حفره	مرتبط	مستقیم ورودی	مستقیم خروجی	های مرتبط مستقیم	گردش خون	بافت گرهی
دهلیز چپ	حفره بالایی سمت چپ قلب	روشن	میترال	۴ سیاهرگ ششی	ندارد	۴	محل خاتمه گردش خون ششی	بافت گرهی کمی دارد
دهلیز راست	حفره بالایی سمت راست قلب	تیره	سه لختی	۲ بزرگ سیاهرگ و ۱ سیاهرگ اکلیلی	ندارد	۳	محل خاتمه گردش خون عمومی	دارای دو گره و بافت گرهی بین آنهاست
بطن چپ	حفره پایینی	روشن	میترال و	ندارد	سرخرگ	۱	محل آغاز	دارای تارهای



قطور بطنی و تارهای نازک تر دیواره جانبی بطن هاست.	گردش خون عمومی		آئورت		سینی آئورت		سمت چپ قلب	
دارای تارهای قطور بطنی و تارهای نازک تر دیواره جانبی بطن هاست.	محل آغاز گردش خون ششی	۱	سرخرگ ششی	ندارد	سه لختی و سینی ششی	تیره	حفره پایینی سمت راست قلب	بطن راست







نکته ۱: بزرگترین سرخرگ بدن آئورت است که بیشترین سرعت خون نیز مربوط به مرکز آن می باشد.

نکته ۲: سخت شدن دیواره رگها را تصلب شرایین می نامند که وقوع تصلب شرایین در رگهای اکلیلی یا بسته شدن این رگها توسط لخته، می تواند باعث سکته قلبی و کاهش ارتفاع موج QRS می شود.

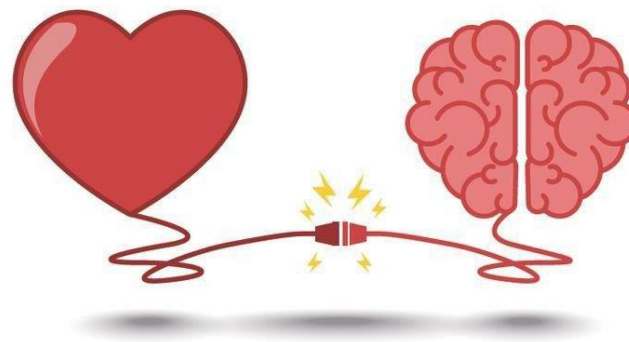
نکته ۳: قلب نمی تواند از خونی که از درون آن عبور می کند اکسیژن یا مواد غذایی دریافت کند، بنابراین تغذیه بافت ماهیچه قلب با رگهای ویژه ای به نام سرخرگهای اکلیلی (کرونری) صورت می پذیرد. این سرخرگها دو تا بوده و از ابتدای سرخرگ آئورت، در بالای دریچه سینی منشا می گیرند، اما خون خروجی و تیره قلب از طریق رگهای کوچکی که با هم یکی شده و سیاهرگ اکلیلی را می سازند به طور مستقیم و از طریق یک سیاهرگ، یعنی سیاهرگ اکلیلی به دهلیز راست می ریزد. در ضمن برای بررسی بسته بودن یا نبودن رگهای کرونری از رگ نگاری (آنژیوگرافی) استفاده میشود.

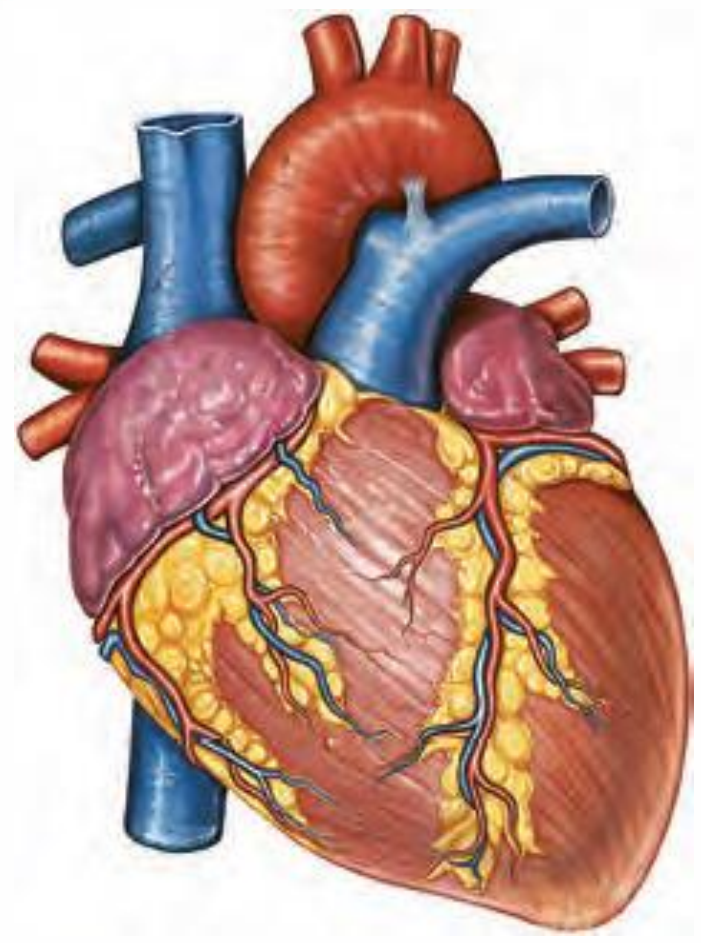


بررسی دریچه های قلب

دریچه شناسی	محل قرار گیری	بافت	اتصالات	رنگ خون عبوری	تعداد بخش ها	وظیفه	زمان بسته شدن	صدای بسته شدن
میترال (دو لختی)	بین دهلیز و بطن چپ	پوششی و پیوندی	با رشته هایی به درون بطن چپ وصل است	روشن	۲	جلوگیری از بازگشت خون به دهلیز چپ	اول انقباض بطن ها	پووم
سه لختی	بین دهلیز و بطن راست	پوششی و پیوندی	با رشته هایی به درون بطن راست وصل است	تیره	۳	جلوگیری از بازگشت خون به دهلیز راست	اول انقباض بطن ها	پووم
سینی ششی	ابتدای سرخرگ ششی	پوششی و پیوندی	ندارد	تیره	۳	جلوگیری از بازگشت خون به بطن راست	انتهای انقباض بطن ها	تاک
سینی آئورت	ابتدای سرخرگ آئورت	پوششی و پیوندی	ندارد	روشن	۳	جلوگیری از بازگشت خون به بطن چپ	انتهای انقباض بطن ها	تاک



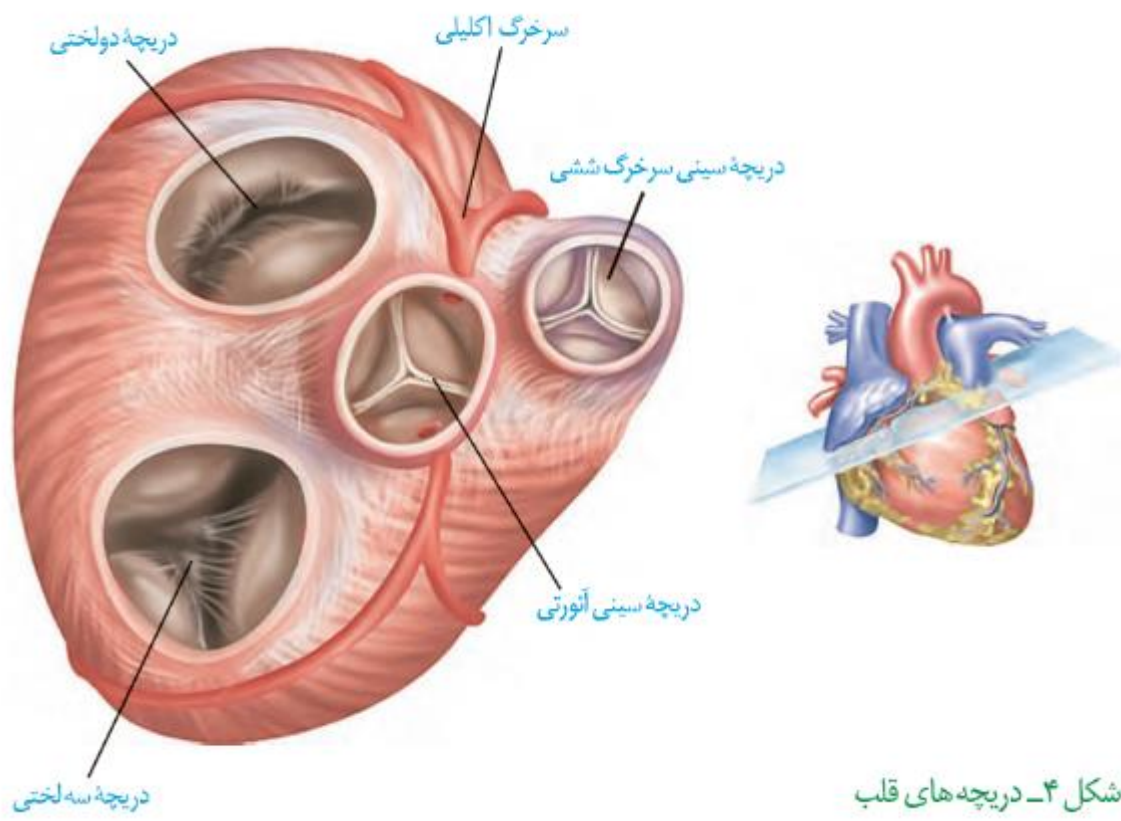




کتابت شکل

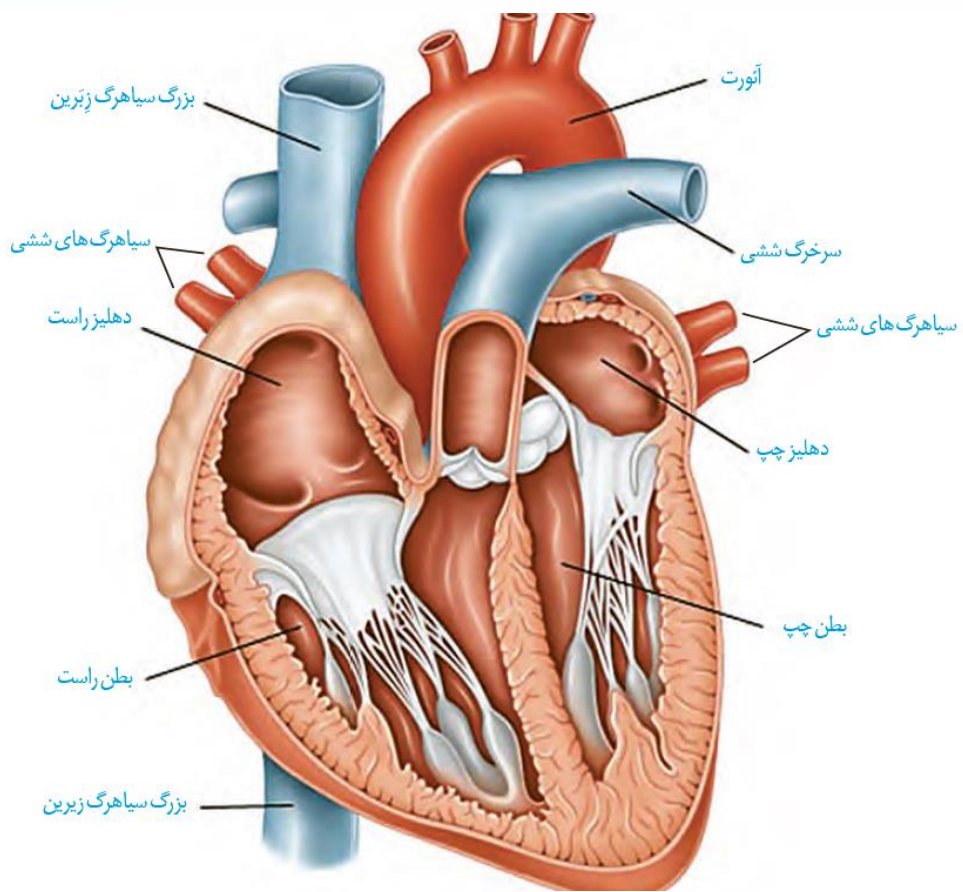
Blank area for student writing.





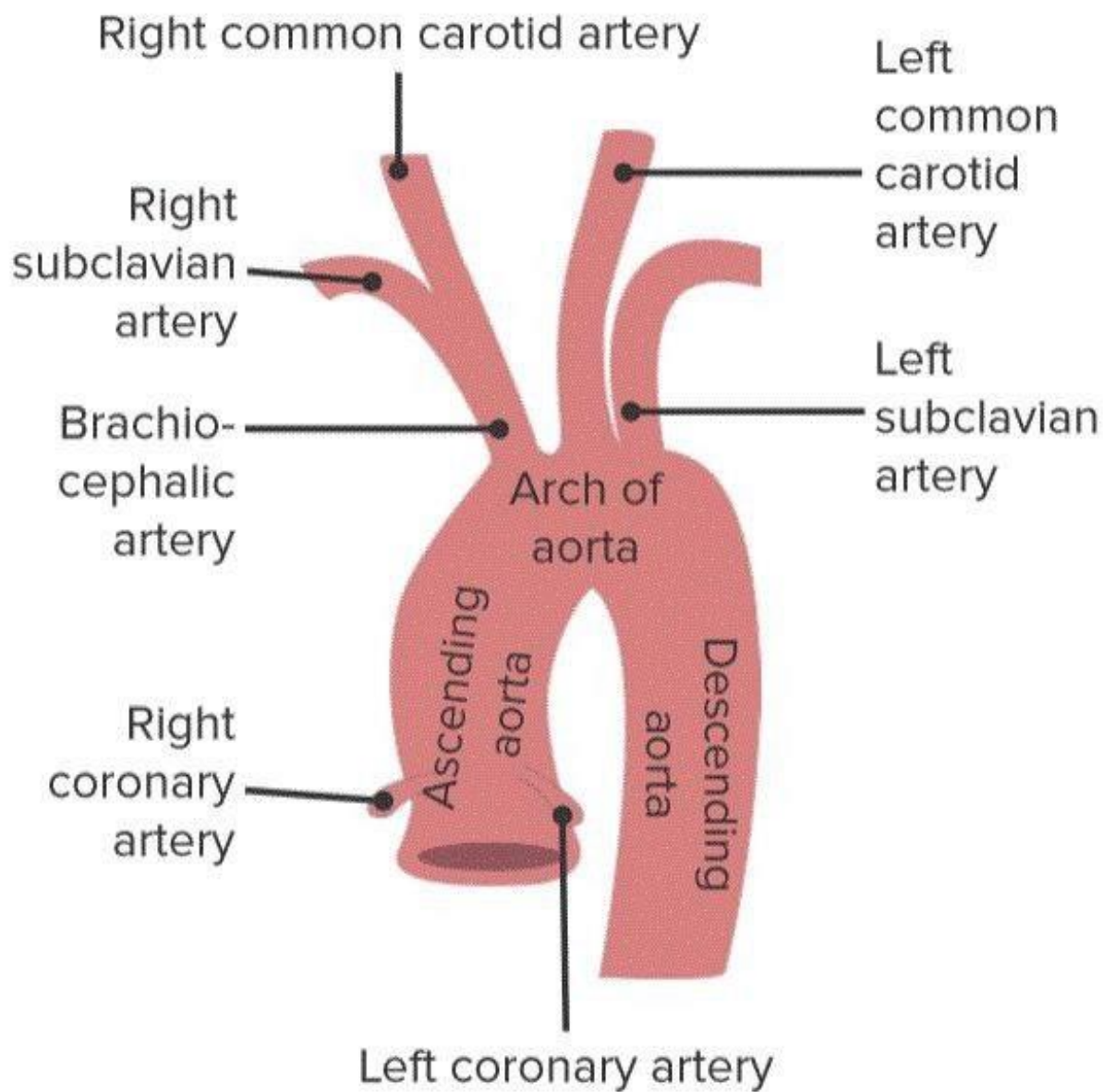
کتابخانه



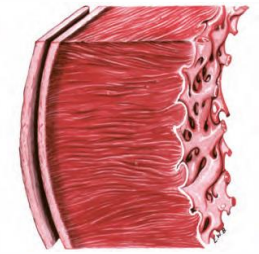


نکات شکل





ساختار بافتی در قلب



کیسه محافظت کننده از قلب (لایه خارجی)

دو لایه حاوی بافت پیوندی رشته‌ای و پوششی سنگ فرشی دارد

لایه خارجی (پیراشامه = پریکارد)

از خارج توسط بافت پیوندی رشته‌ای ضخیم به قفسه سینه متصل است. از داخل توسط بافت پوششی نازک خود با مایع آبشامه‌ای در تماس است

لایه داخلی (بدون شامه = اپی کارد)

از خارج توسط بافت پیوندی به بافت ماهیچه ای قلب متصل است. از خارج بافت پوششی سنگ فرشی خود با مایع آبشامه‌ای در تماس می‌باشد

در هر دو لایه پیراشامه و برون شامه ممکن است بافت چربی (پیوندی) نیز جمع شده باشد

بین پیراشامه و برون شامه، فضایی حاوی مایع آبکی (آبشامه‌ای) برای حفاظت و کمک به حرکت روان قلب وجود دارد

میو کارد (ماهیچه قلب)

ضخیم‌ترین لایه دیواره قلب می‌باشد بیشتر از یاخته‌های بافت ماهیچه قلبی تشکیل شده است ← اغلب تک هسته‌ای و برخی دوهسته ای به همراه صفحات بینابینی ارتباطی می‌باشند. بین یاخته‌های ماهیچه‌ای آن بافت پیوندی رشته‌ای (متراکم) به نام اسکلت فیبری وجود دارد

اسکلت فیبری

پیوندی رشته‌ای بین یاخته‌های میوکاردی است. رشته‌های کلاژن ضخیم در جهات مختلف دارد. بسیاری از یاخته‌های ماهیچه‌ای به کلاژن ضخیم این بافت چسبیده است. باعث استحکام دریچه‌های قلبی می‌شود

رشته‌های عصبی خود مختار نیز در بین یاخته‌های لایه میوکارد قرار دارد

سطح داخلی حفره‌های قلبی

لایه نازکی سنگ فرشی ساده به نام آندوکارد یا درون شامه دارد. در تماس با خون حفرات قلبی می‌باشد. در تشکیل بافت پوششی دریچه‌های قلبی مؤثر است

انواع بافت‌های اصلی در ساختار لایه‌های قلب

کیسه محافظ قلب

پیوندی رشته‌ای و پیوندی از نوع چربی دارد. پوششی سنگفرشی دارد

میو کارد (ماهیچه قلب)

بافت ماهیچه قلبی دارد. بافت پیوندی رشته‌ای دارد. بافت عصبی دارد

درون شامه (اندوکارد)


فقط بافت پوششی سنگفرشی ساده دارد



تشریح قلب گوسفند

فعالیت

با تشریح قلب گوسفند، مشاهده می‌کنیم که، بطن چپ، دیواره ضخیم‌تری دارد، رگ‌های اصلی قلب، در بالای آن و رگ‌های اکلیلی، در جلو و عقب قلب، قرار گرفته‌اند، سرخرگ‌های اکلیلی، دو تا بوده و از ابتدای سرخرگ آئورت و کمی بالاتر از دریچه سینی از آئورت منشأ می‌گیرند و به دهلیز چپ، چهار سیاهرگ ششی و به دهلیز راست، سیاهرگ‌های زیرین، زیرین و سیاهرگ اکلیلی وارد می‌شود.



تعاریف زیر را به خاطر بسپارید:

حجم ضربه‌ای

حجم خونی که در هر انقباض بطنی از یک بطن خارج و وارد سرخرگ می‌شود که حدود ۷۰ میلی لیتر است.

برونده قلبی

خونی که در مدت یک دقیقه از یک بطن خارج می‌شود و از حاصل ضرب تعداد ضربان قلب در دقیقه در حجم ضربه‌ای به دست می‌آید و به عواملی مانند سوخت و ساز پایه بدن (تیروئید)، مقدار فعالیت بدنی، سن و اندازه بدن ارتباط داشته و در افراد بزرگسال و در زمان استراحت حدود ۵ لیتر است.

ترکیب نسیم

۰/۸ ثانیه = انقباض بطنی ۰/۳ ثانیه + انقباض دهلیزی ۰/۱ ثانیه + استراحت عمومی قلب

۰/۴ ثانیه = مدت زمان هر چرخه قلب

$$\text{تعداد ضربان قلب در دقیقه} = \frac{60}{0.8S} = 75$$

$$\text{حجم ضربه‌ای} \rightarrow \text{حجم ضربه‌ای} \times \text{تعداد ضربان قلب در} \frac{5lit}{75} = 66.6 \cong 70mlit =$$

دقیقه = برون ده قلبی

الکترو قلب نگاره (ECG)

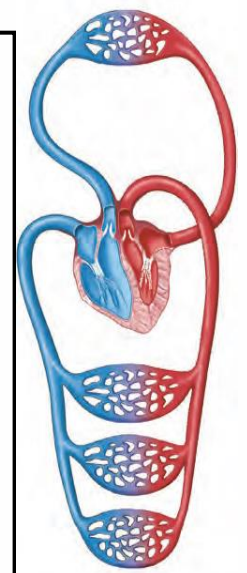
منحنی ثبت شده حاصل از پیام‌های الکتریکی قلب.

الکترو قلب نگار

دستگاه ثبت کننده منحنی قلب که دارای الکترودهایی است که آنها

را در قسمت‌های مختلف بدن روی پوست قرار می‌دهند.



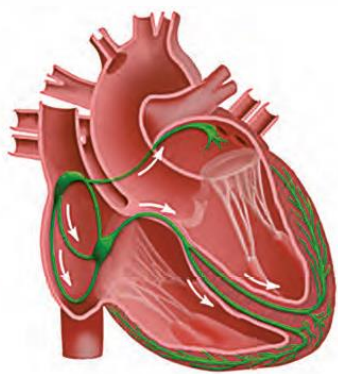


ویژگی های یاخته های ماهیچه ای در قلب

ترکیبی از ویژگی های ماهیچه صاف و اسکلتی را دارند. همانند ماهیچه اسکلتی، ظاهری منقطع با واحدهای انقباضی منظم و خطوط تیره و روشن دارند. انقباض آنها همانند ماهیچه صاف، غیر ارادی و تحت کنترل اعصاب خود مختار می باشد. یاخته های آنها بیشتر تک هسته ای و تعدادی نیز در هسته ای می باشند. بین یاخته ها، از راه صفحات بینابینی (در هم رفته) ارتباط یاخته ای وجود دارد. صفحات بینابینی سبب انتقال پیام انقباض و استراحت این یاخته ها به همدیگر می شود ← قلب مانند یک توده یاخته عمل می کند. در محل ارتباط دهلیزها به بطنها، بافت پیوندی عایقی وجود دارد تا پیام الکتریکی فقط از بافت ماهیچه ای گره ای یا شبکه هادی قلب منتقل شود.

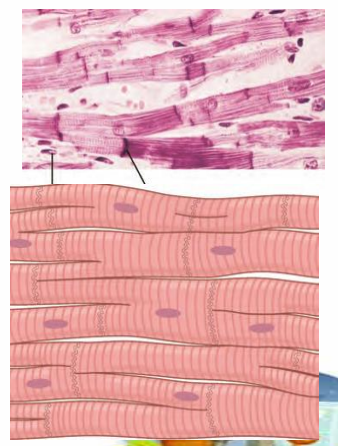
ساختار ماهیچه ای در قلب

انواع کارایی یاخته های ماهیچه ای در قلب



در بطنها

پیام الکتریکی ← ابتدا از بالا به پایین و سپس از پایین (نوک) به بالا می رود. انقباض مکانیکی ← از قسمت پایین آنها شروع می شود و به بالا ادامه می یابد. ابتدا پیام الکتریکی در دو بطن پخش می شود، سپس به انقباض در می آیند.



یاخته های انقباضی

۹۹٪ یاخته های قلب را شامل می شوند. قدرت تولید پیام الکتریکی و زنش خودکار ندارند. تحت فرمان بافت گره ای قلب، به طره، منظم منقبض می شوند.

شبکه های قلب

۱٪ از یاخته های ماهیچه ای قلب را شامل می شوند. برای تحریک طبیعی قلب، اختصاصی و تمایز یافته اند. به صورت شبکه ای از رشته ها و گره های ماهیچه ای در بین یاخته های ماهیچه ای میوکاردی معمولی قرار دارند. به کل رشته ها و گره های آنها، شبکه هادی قلب می گویند که با یاخته های دیگر ماهیچه ای در ارتباط هستند. شروع کننده ضربان قلب و جریان الکتریکی با سرعت بالا در سراسر قلب می باشند.

اجزاء

گره های قلبی

گره اول (سینوس دهلیزی)

در دیواره پشتی دهلیز راست و زیر منفذ بزرگ سیاهرگ زیرین می باشد. از گره دیگر بزرگتر و شروع کننده تکانهای قلبی می باشد.

گروه دوم (دهلیزی بطنی)

در دیواره پشتی دهلیز راست و عقب دریچه سه لختی می باشد. پیام الکتریکی را توسط مسیره ای بین گره ای از گره اول گرفته و به بطنها وارد می کند.

رشته ها یا دسته تارهای تخصص یافته گره ای

دسته تارهای دهلیزی

پیام الکتریکی را از گره پیشاهنگ به سمت دهلیز چپ بخش می کند. فقط به یک گره سینوسی دهلیزی متصلند.

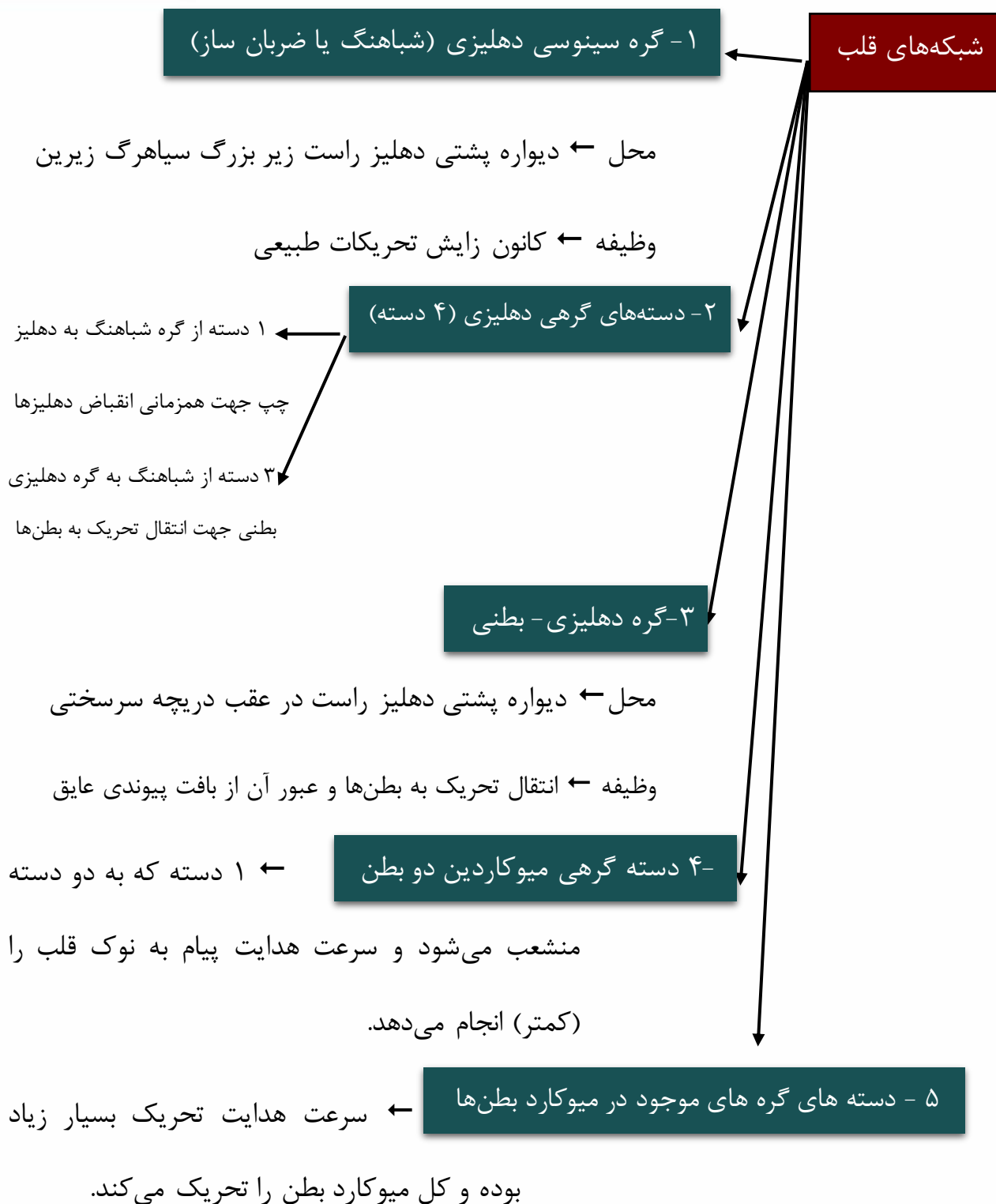
مسیره های بین گره ای

تارهایی هستند که پیام الکتریکی گره پیشاهنگ را با سرعت زیاد به گره دهلیزی بطنی می دهند. ارتباط یاخته ای آنها تنگناک می باشد و در دهلیز راست واقع

دسته تارهای بطنی

ابتدا از گره دهلیزی بطنی در دیواره بین دو بطن وجود دارند. تارهای بین بطنی در دیواره بین دو بطن، ابتدا دو شاخه می شوند هر تار پس از دو شاخه شدن، به سمت پایین و نوک قلب می رود. تارهای بطنی از نوک قلب، به سمت بالا و اطراف دو بطن آمده و تا لایه عایق بین بطنها و دهلیزها ادامه می یابند. در طی مسیر خود از نوک قلب به سمت بالا، انشعابات ریزی دارند که به درون دیواره بطنها گسترش می یابند.

تا بطنها به طور کامل پر خون شوند. ← فرستادن پیام از گره دهلیزی بطنی به درون بطن، با فاصله زمانی انجام می شود.



خب چرخه ضربان از دو نظر یا بگیریم بعد با هم قاطیش کنیم، قصه قلب در بید

تقریباً هر ثانیه، یک ضربان قلب وجود دارد ← ماهیچه قلبی برخلاف ماهیچه اسکلتی، استراحت پیوسته ندارد. استراحت (دیاستول) و انقباض (سیستول) قلب به طور متناوب صورت می‌گیرد که به آن چرخه یا دوره قلبی می‌گویند. در طی هر چرخه، قلب توسط ۷ سیاهرگ پر می‌شود و سپس با انقباض بطن‌ها، خون از طریق دو سرخرگ اصلی از قلب خارج می‌شود.

چرخه ضربان قلبی از نظر

مراحل چرخه

انبساط قلب (استراحت عمومی)

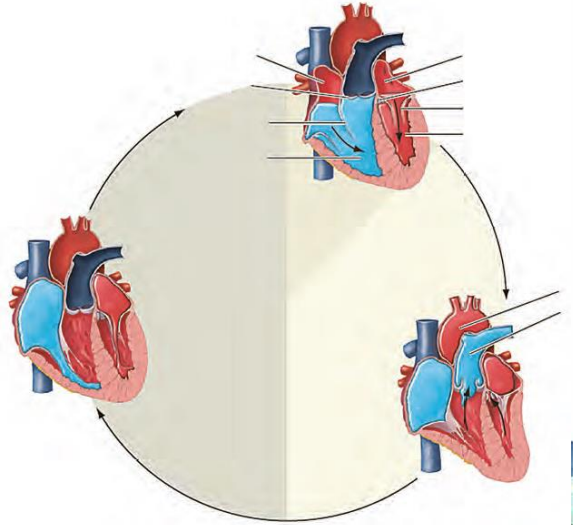
حدود ۰/۴ ثانیه می‌باشد که تمام حفرات قلب در حال استراحت یا خون‌گیری هستند. خون تیره بزرگ سیاهرگ‌ها و سیاهرگ کرونری وارد دهلیز راست و خون روشن سیاهرگ‌های ششی وارد دهلیز چپ می‌شود. طی آن دریچه‌های دهلیزی بطنی، باز و سینی‌ها بسته هستند با بسته شدن دریچه‌های سینی در ابتدای این مرحله، صدای دوم قلب شنیده می‌شود. در انتهای این مرحله، با عمل گره ضربان ساز، پیام الکتریکی وارد یاخته‌های دهلیزی شده و موج P شروع به ثبت شدن می‌کند.

انقباض دهلیزها

حدود ۰/۱ ثانیه است و بسیار زودگذر می‌باشد. با فعالیت گره پیشاهنگ، منقبض شده تا خون درون حفرات خود را وارد بطن‌ها کند و بطن‌ها به طور کامل پر خون شوند. طی آن دریچه‌های دهلیزی بطنی باز و سینی‌ها بسته هستند. خون از قلب خارج نمی‌شود. شروع این مرحله با ثبت قله موج P می‌باشد (موج P در این مرحله پایان می‌یابد). موج QRS در انتهای آن شروع به ثبت شدن می‌کند و قسمت QR آن در این مرحله ثبت می‌شود. همانند مرحله استراحت عمومی


انقباض بطن‌ها

مرحله ۰/۳ ثانیه‌ای برای خروج خون از قلب و سیستول اصلی قلب می‌باشد. دریچه‌های دهلیزی بطنی در ابتدای آن بسته می‌شود و صدای اول قلب شنیده می‌شود. دریچه‌های سینی در این مرحله باز شده و خون بطن‌ها به صورت پرفشار از طریق سرخرگ‌ها به سراسر بدن می‌رسد. قسمت RS در موج ORS در ابتدای آن ثبت می‌شود. از اواسط این مرحله شروع ثبت موج الکتریکی T صورت می‌گیرد. در ابتدای آن فشار خون در حفرات قلبی و آئورت بالا می‌رود و سپس کاهش می‌یابد. انقباض آن‌ها از قسمت پایین آن‌ها و تحت کنترل تارهای گرهی بطنی شروع شده و به سمت بالا ادامه می‌یابد.



مرحله	دهلیزها	بطن‌ها
انقباض دهلیزها	بسته می‌آیند	در استراحت می‌مانند
انقباض بطن‌ها	بسته استراحت در می‌آیند	بسته انقباض در می‌آیند
استراحت عمومی	در استراحت می‌مانند	بسته استراحت در می‌آیند

ترکیب کنیم



یاخته‌های ماهیچه قلبی، در هنگام چرخه ضربان قلب، فعالیت الکتریکی قوی دارند که می‌توان اثر آن‌ها را از روی پوست به صورت منحنی نوار قلب (ECG) ثبت کرد.
الکترودهای دستگاه ECG را در قسمت‌های مختلف بدن روی پوست قرار می‌دهند تا ECG روی کاغذ با صفحه نمایشگر ثبت شود.

فعالیت الکتریکی قلب (چرخه الکتریکی قلب)

موج‌های الکتریکی قلب

موج P

از انتهای مرحله استراحت عمومی و با عمل گره ضربان ساز به طور خودکار، شروع به ثبت شدن می‌کند. این موج برای به انقباض درآمدن ماهیچه میوکاردی دو دهلیز می‌باشد. در قله ثبت منحنی P پیام الکتریکی در دو دهلیز پخش شده است و انقباض دهلیزها آغاز می‌شود. این موج در اوایل انقباض دهلیزها به پایان می‌رسد که دو دهلیز با هم منقبض شده و خون جمع شده در دیواره خود را وارد بطن‌ها می‌کنند. در کل مراحل ثبت آن دریاچه‌های دهلیزی بطنی باز و سینه‌ها بسته می‌باشند.

موج QRS

موجی مربوط به پتانسیل عمل بطن‌ها و برای به انقباض درآمدن میوکارد بطن‌ها می‌باشد. شروع ثبت آن در قسمت QR از انتهای مرحله انقباض دهلیزها می‌باشد که دریاچه‌های سینه بسته و دهلیزی بطنی‌ها باز می‌باشند. قسمت RS آن در ابتدای انقباض بطن‌ها و نزدیک با بسته شدن دریاچه‌های دهلیزی بطنی و صدای اول قلب ثبت می‌شود. پس از ثبت کامل آن، پیام الکتریکی گره دهلیزی بطنی به طور همزمان در دو بطن پخش شده و بطن‌ها کاملاً به سمت بالا منقبض می‌شوند. در هنگام ثبت آن، بطن‌ها در پرخون‌ترین حالت خود قرار دارند.

موج T

در اثر خروج پیام الکتریکی از یاخته‌های بطنی ثبت می‌شود. موجی برای به استراحت درآمدن بطن‌ها می‌باشد. از اواسط مرحله انقباض بطن‌ها شروع به ثبت شدن می‌کند و فشار بطن با ثبت آن شروع به کاهش می‌کند. آخر ثبت آن در ابتدای مرحله استراحت عمومی می‌باشد که با صدای دوم قلب هم زمانی دارد. در طول ثبت آن، تغییری در وضعیت مکانیکی دهلیزها ایجاد نمی‌شود چون همواره در استراحت هستند.

برخی اشکالات قلبی در ECG (نوار قلب)

شکل، ارتفاع و فاصله منحنی‌ها در حالات و بیماری‌های مختلف، متفاوت می‌باشد.

افزایش ارتفاع QRS

نشانه بزرگ شدن قلب است که دو علت دارد

فشار خون مزمن
تنگی دریاچه‌ها

کاهش ارتفاع QRS ← سکته قلبی یا انفارکتوس

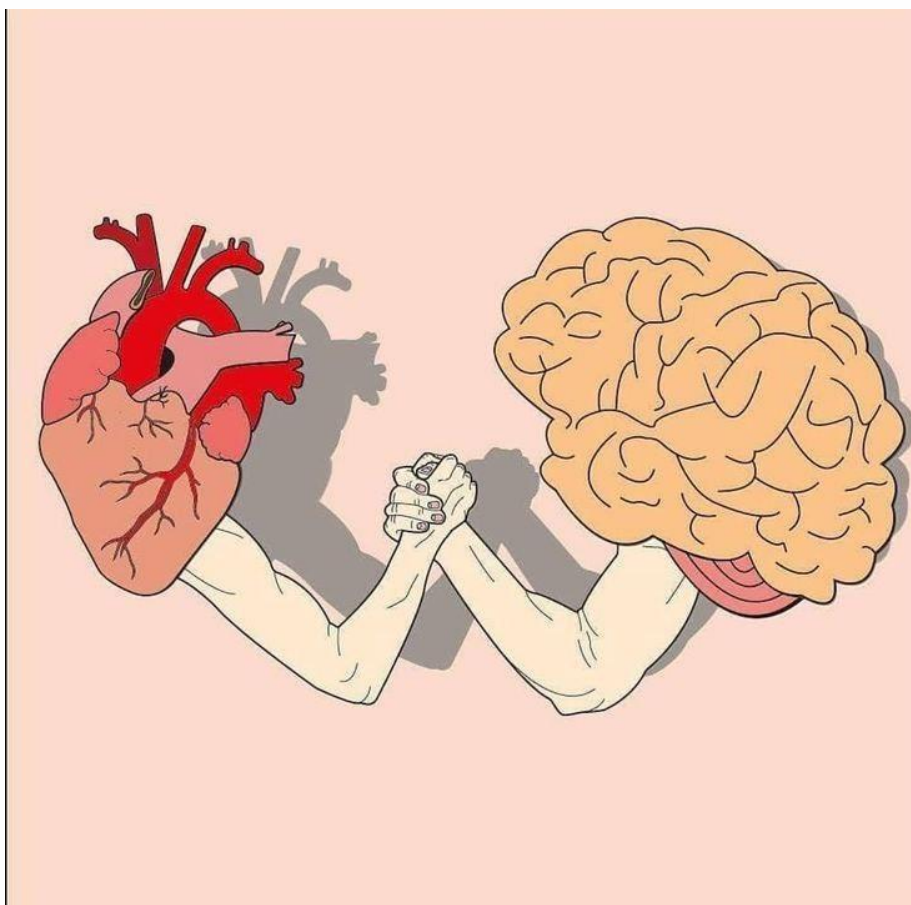
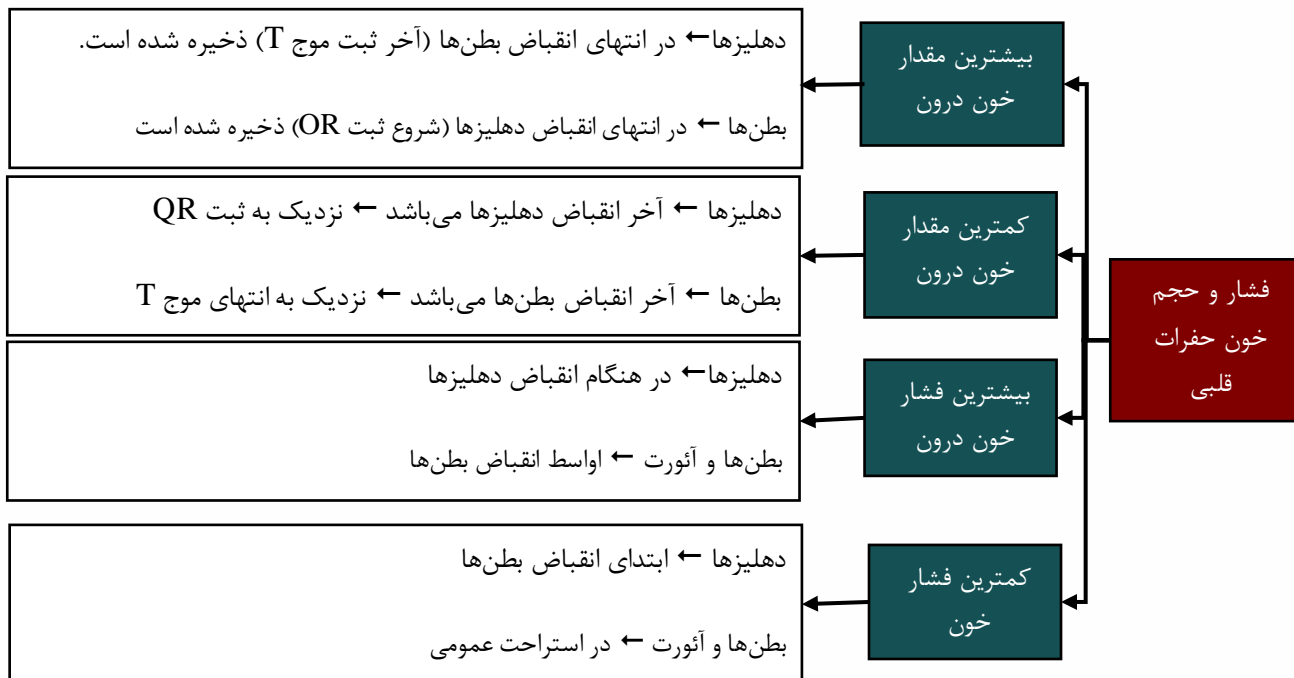
افزایش یا کاهش فاصله منحنی‌ها از هم

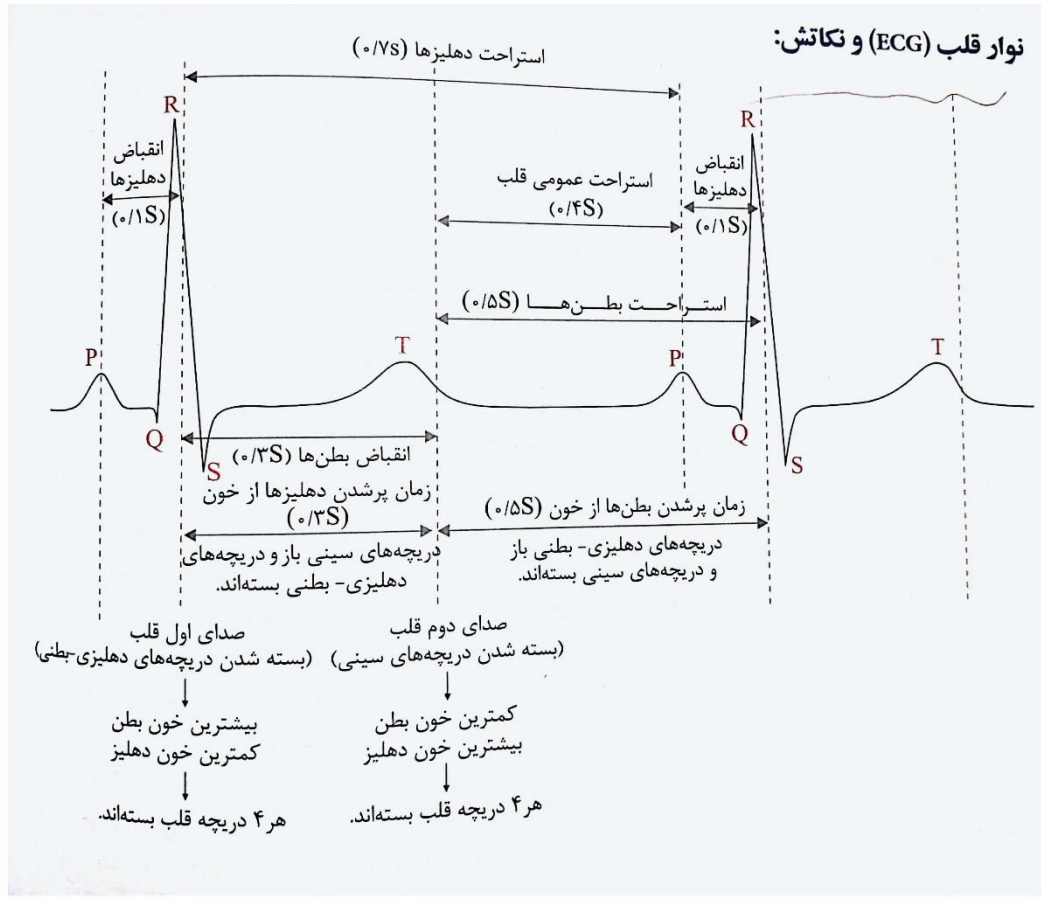
اشکال در بافت هادی قلب
اشکال در خون‌رسانی رگ‌های اکلیلی (کرونری)
آسیب به بافت قلبی (حمله یا سکته قلبی)



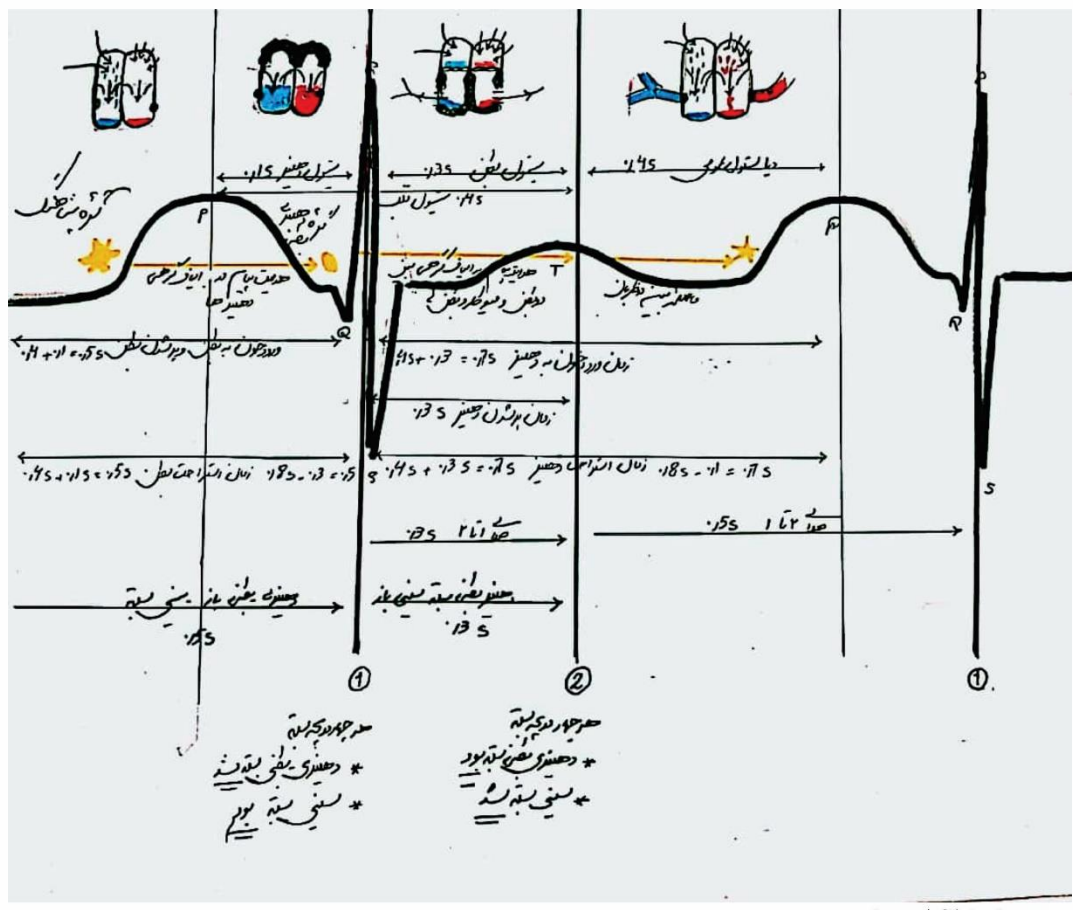


گوش کن به قصه قلب:






Scanned with CamScanner



Scanned with CamScanner



ترکیب کنیم



فصل ۴ پایه دهم

گفتار ۲: رگ ها



ساختار هر کدام از آنها متناسب با کاری است که انجام می دهند

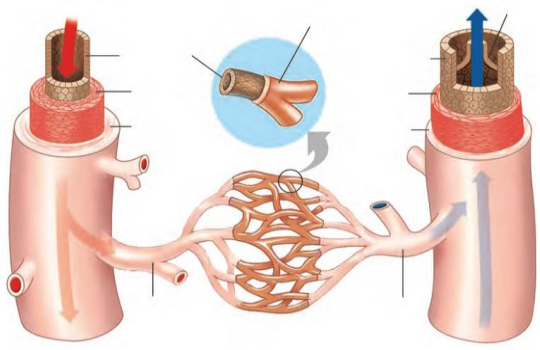
رگ	لایه بیرونی	لایه میانی	لایه درونی
سرخرگ	پیوندی	ماهیچه صاف رشته الاستیک زیاد	سنگفرشی
مویرگ	ندارد	ندارد	سنگ فرشی
سیاهرگ	پیوندی	ماهیچه صاف رشته الاستیک زیاد	سنگ فرشی

ساختار دیواره رگ ها

در زیر بافت پوششی همه رگ ها، غشای پایه وجود دارد. ضخامت لایه ماهیچه ای و پیوندی در سرخرگ ها از سیاهرگ ها بسیار بیشتر است. سرخرگ ها در برش عرضی بیشتر گرد هستند. سیاهرگ هم اندازه سرخرگ، دیواره نازک تر و حفره درونی بیشتر و گسترده تری دارد.

خون را از قلب به سوی اندام ها می برند

فشار زیاد خون خارج شده از قلب را تحمل و هدایت می کنند. سبب حفظ پیوستگی جریان خون و هدایت آن در بدن می شوند.



- با انقباض بطن ها، دیواره کشسان آن ها گشاد شده تا خون را در خود جای دهند
- در استراحت بطن ها، دیواره کشسان سرخرگ ها با خاصیت ارتجاعی جمع شده و خون را با فشار در بدن جلو می برد
- جریان خون منقطع خارج شده از قلب را در بدن به صورت پیوسته در می آورند
- تغییر حجم آنها با هر انقباض بطن (حجم ضربه ای) به صورت موجی به نام نبض، احساس می شود

سرخرگ ها

در سرخرگ های کوچک

با انقباض و انبساط ماهیچه های حلقوی دیواره خود ← عامل اصلی در تنظیم جریان خون مویرگ ها و بافت ها را ایجاد می کنند

به نسبت انواع بزرگ، میزان لایه کشسان کمتر ولی ضخامت لایه ماهیچه ای بیشتر می باشد ← این ویژگی سبب عدم تغییر زیاد در قطر این رگ ها در برابر جریان خون می شود

با وجود دهانه باریک خود

با انقباض ماهیچه حلقوی خود ← مقاومت بیشتری به عبور خون نشان می دهند ← خون کمتری در آن جریان می یابد

با استراحت ماهیچه حلقوی خود ← مقاومت کمتری به عبور خون نشان می دهند ← خون بیشتری در آن جریان می یابد.

بیشتر در بخش های عمقی بدن قرار دارند تا از عوامل جراحی محیطی در امان باشند.

در اثر انقباض بطن ها و خاصیت الاستیک و انقباضی خود سرخرگ ها ← فشار خون زیادی در این رگ ها ایجاد می شود.

فشار خون، نیرویی است که خون درون رگ به دیواره رگ وارد می کند که در سرخرگ آئورت حداکثر میزان را دارد.

فشار خون

فشار بیشینه (ماکزیمم) ← در اثر انقباض بطن ها روی سرخرگ ها ایجاد می شود. فشار کمینه (مینیمم) ← در اثر استراحت عمومی با جمع شدن سرخرگ ها ایجاد می شود. در اثر چاقی، تغذیه نامناسب، مصرف چربی و نمک زیاد، استرس، سابقه خانوادگی و دخانیات. بالا می



چون دیواره کم مقاومت و فضای داخلی وسیع دارند ← بیشتر حجم خون بدن را در خود جای داده اند بیشتر آنها که در دست ها و مناطق زیر قلب هستند، به سمت بالا و برخلاف نیروی گرانش زمین خون را به سمت قلبه می برند ← این سیاهرگ فشار خون کمی دارند و به عوامل کمکی در جریان خون نیاز دارند.
مهم ترین عامل در جریان خون سیاهرگی، باقی مانده فشار خون سرخرگی در آنهاست.

سیاهرگ ها

عوامل موثر در جریان خون سیاهرگی

تلمبه ماهیچه اسکلتی

در جریان خون سیاهرگ های عبوری از بین ماهیچه های دست ها، پاها، شکم و دیافراگم اهمیت زیادی دارد.
انقباض ماهیچه اسکلتی ← قطر شدن ماهیچه ← تنگ شدن سیاهرگ ← جریان خون به سمت بالا ← خون به سمت قلب می رود.
انقباض ماهیچه ها از پای به سمت بالا صورت می گیرد و دریچه لانه کبوتری بالایی را باز می کند.

دریچه های لانه کبوتری

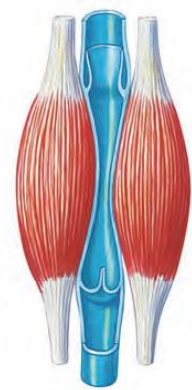
در سیاهرگ های دست ها و پاها وجود دارد و منشأ آنها از لایه داخلی با پوششی سیاهرگ ها می باشد.
با انقباض ماهیچه اسکلتی ← دریچه بالایی باز و پایینی بسته می ماند.
با استراحت ماهیچه ← دریچه بالایی نیز بسته می شود تا خون پایین بیاید.

فشار مکش قفسه سینه

در هنگام دم

دیافراگم با انقباضی پایین آمده و همسطح می شود.
قفسه سینه به سمت جلو و بالا می رود

خون به ← فشار مکش درون سیاهرگ قفسه سینه ایجاد می شود ← فشار روی سیاهرگ قفسه سینه کم می شود سمت بالا مکش



انواع مویرگ‌ها براساس نوع غشای پایه آن‌ها

مویرگ‌ها

مویرگ‌های پیوسته

شکاف ریز بین یاخته‌ای دارند. ← ارتباط تنگاتنگی بین یاخته‌ها دارند
 در ماهیچه‌ها، شش‌ها، بافت چربی و دستگاه عصبی مرکزی وجود دارد.
 ورود و خروج مواد در آنها به شدت تنظیم می‌شود

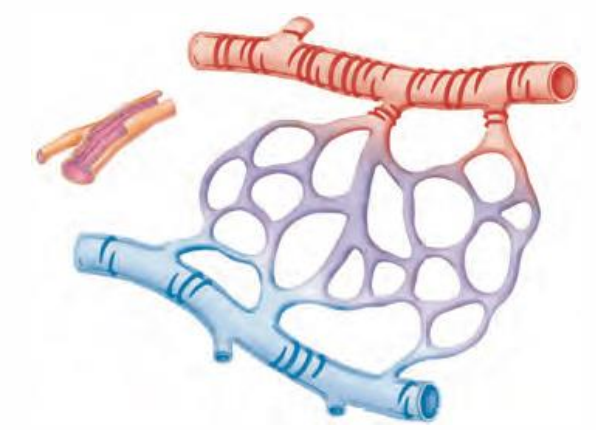
مویرگ‌های منفذدار

لایه پروتئینی محدود کننده مولکول‌های درشت دارند. ← منافذ زیاد یاخته‌ای دارند
 در کلیه‌ها، کیسه زرده و غدد درون ریز وجود دارند.
 ضخیم‌ترین غشای پایه مویرگ‌های بدن در نوع منفذدار گلومرول کپسول بومن دیده می‌شود

مویرگ‌های ناپیوسته

فاصله بین یاخته‌ای زیاد به صورت حفره‌های بین یاخته‌ای دارند.
 غشای پایه ناقص دارند.
 در جگر، طحال و مغز استخوان وجود دارند (مانند بسیاری بزرگی دارند)

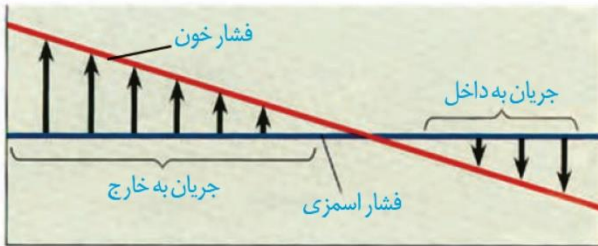
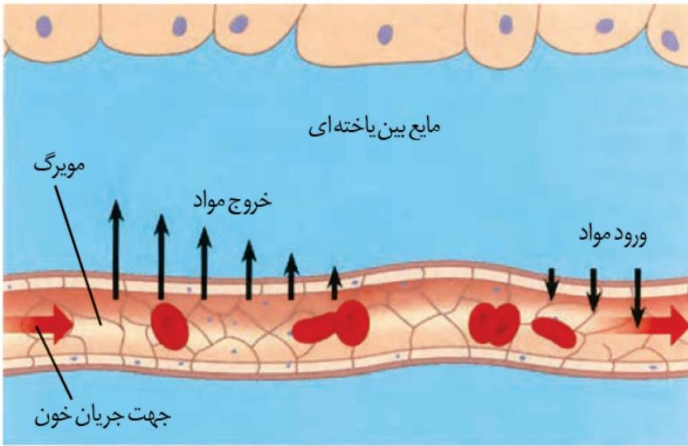
دقت کنید که این تقسیم‌بندی در مورد مویرگ‌های خونی است و مویرگ‌های لنفی همگی از نوع منفذدار می‌باشند که در سراسر بدن وجود دارند



شکل ۱۲- انواع مویرگ



تبادل مواد در مویرگ‌ها



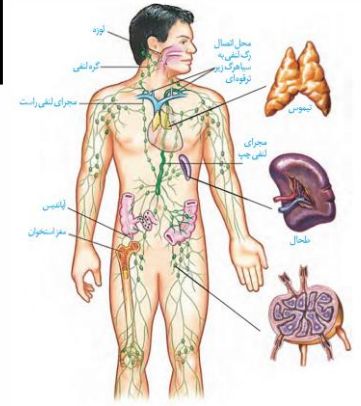
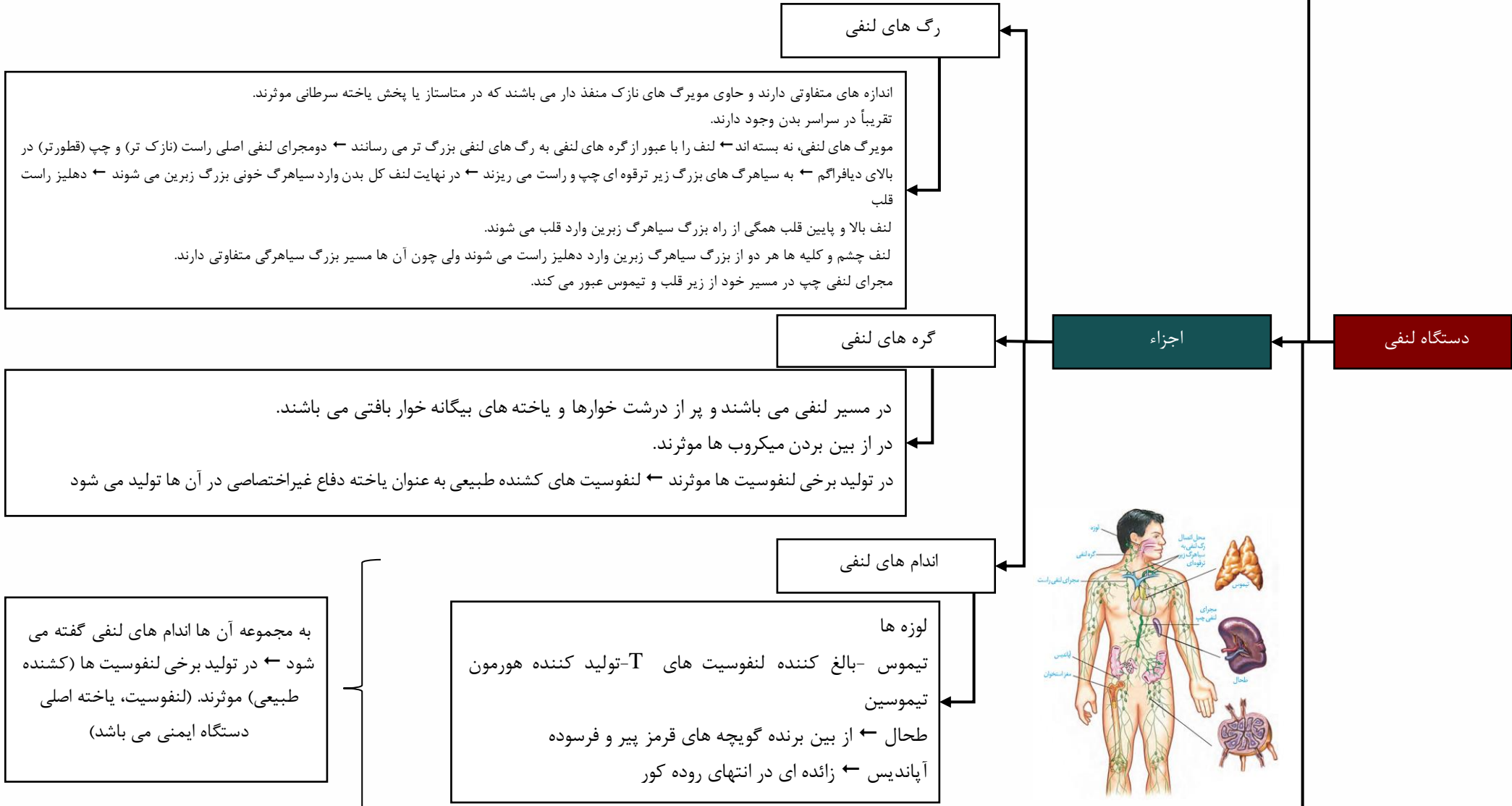
کلمات شکل



استثناء گردش خون:




شامل رگ های لنفی (با مویرگ منفذدار)، مجاری لنفی، گره های لنفی و اندام های لنفی می باشد. وظیفه اصلی آن یکی تصفیه میکروبها و دیگری برگرداندن آب و مواد دیگر به جریان خون است که بر اثر جریان توده ای به مویرگ برنگشته اند. این دستگاه در انتقال چربی ها و ویتامین های محلول در چربی جذب شده از روده و همچنین تولید و بلوغ و ذخیره لنفوسیت ها نیز موثرند.



لنف مایعی است که چربی زیاد و پروتئین کمی دارد. در حقیقت، لنف مجموعه همان مایعاتی هستند که پس از تراوش از مویرگ، دوباره به خون برنگشته اند بلکه وارد رگ لنفی ته بسته شده اند. در ورزش و برخی بیماری ها، تراوش مواد از مویرگ ها و تولید لنف زیاد می شود



نکات نخل



۳۶



در حالت عادی بدن، حجم ضربه ای و برون ده عادی قلب که حاصل عمل ماهیچه ای قلبی می باشند، نیاز O_2 و غذایی بدن را مرتفع می کنند.

تنظیم عمل دستگاه گردش خون

اندام های لنفی

نقش اعصاب خودمختار در گردش خون

سمپاتیک تعداد ضربان قلب و فشار خون را بالا می برد ← جریان خون به لب را زیاد می کند (سرخرگ کرونر را گشاد می کند).
پاراسمپاتیک ← تعداد ضربان قلب، حجم ضربه ای و فشار خون را کم می کند.
مرکز هماهنگی این اعصاب، در بصل النخاع و پل مغزی و در نزدیکی مرکز تنفسی می باشد

نقش هورمون ها

در شرایط فشار روانی (نگرانی و استرس امتحان و ...) ← افزایش ترشح هورمون های بخش مرکزی غده فوق کلیه ← ترشح اپی نفرین و نور اپی نفرین ← اثر بر قلب و کلیه ها ← فشار خون و ضربان قلب را بالا می برند ← حالت آماده باش به بدن می دهند (پاسخ آنی).

تنظیم موضعی جریان خون در بافت ها

تنظیم موضعی جریان خون در بافت ها ← مقدار زیاد CO_2 خون بدون دخالت عصب ← استراحت ماهیچه های صاف حلقوی سرخرگ کوچک ← گشادی سرخرگ کوچک - باز شدن بنداره مویرگی ← خون رسانی به بافت به صورت موضعی ↑↑
زیادی یون کلیسم در مایعات بدن ← انقباض ماهیچه سرخرگ کوچک ← خون رسانی موضعی به بافت ↓ می شود.
در این مکانیسم، گیرنده های شیمیایی دیواره به محرک های کوچک موثرند.

ساز و کارهای انعکاسی حفظ فشار سرخرگی

تحریک گیرنده فشاری سرخرگ های گردش عمومی خون (آئورت و گردنی)
تحریک گیرنده شیمیایی حساس به کمبود O_2 در این سرخرگ بزرگ
زیادی CO_2 و یون هیدروژن خون با تحریک گیرنده شیمیایی حساس در بصل النخاع
مرکز عصبی ← تنظیم فشار سرخرگی در حد طبیعی ← تأمین نیاز بدن در شرایط خاص



نکته : در ساز و کار انعکاسی سرخرگ های بزرگ به کمک مرکز عصبی تغییر قطر می دهند ولی در تنظیم موضعی، سرخرگ های کوچک بدون تاثیر مرکز عصبی واکنش می دهند

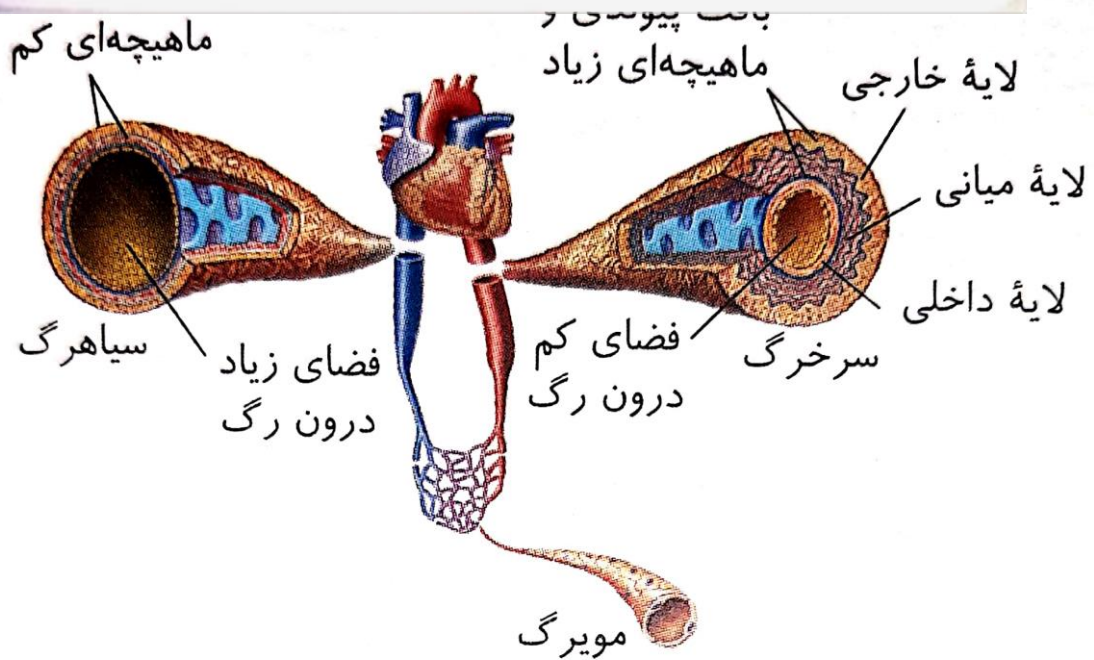
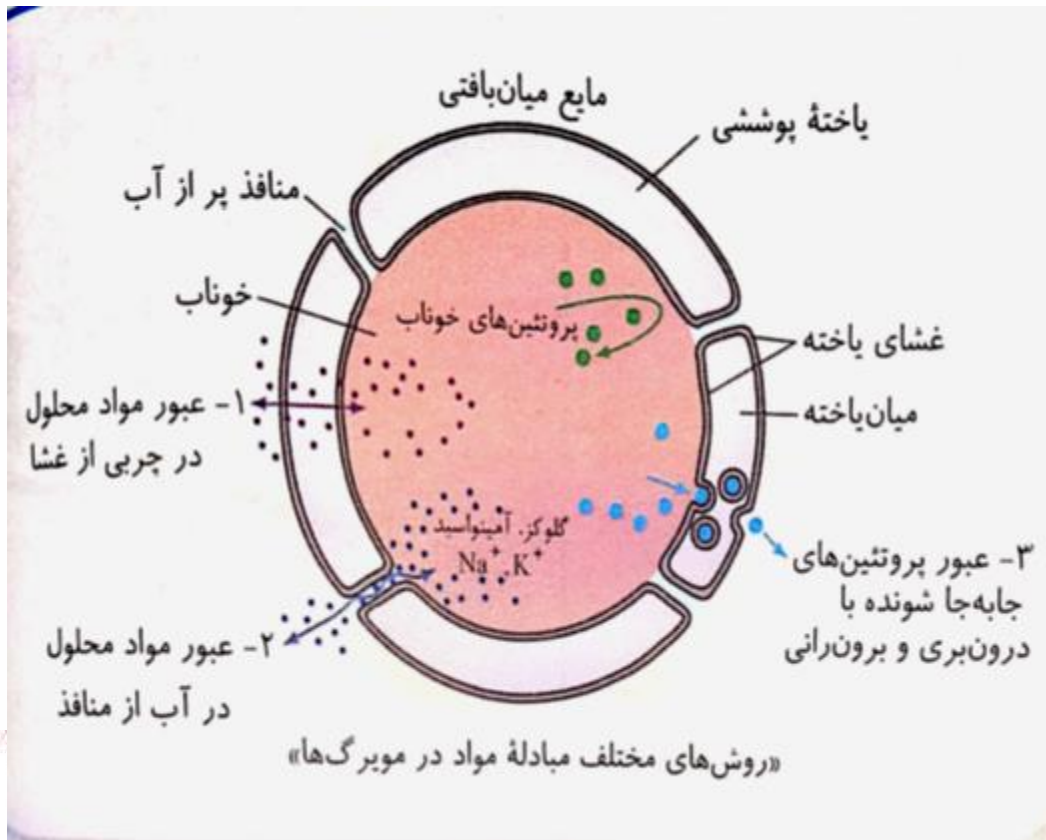
افزایش CO_2

تنظیم موضعی جریان خون بافتی ← گشادی رگ ← اثر بر ماهیچه سرخرگ کوچک
اثر بر گیرنده بصل النخاع ← افزایش تنفس و تنظیم فشار سرخرگی ← ساز و کار انعکاسی

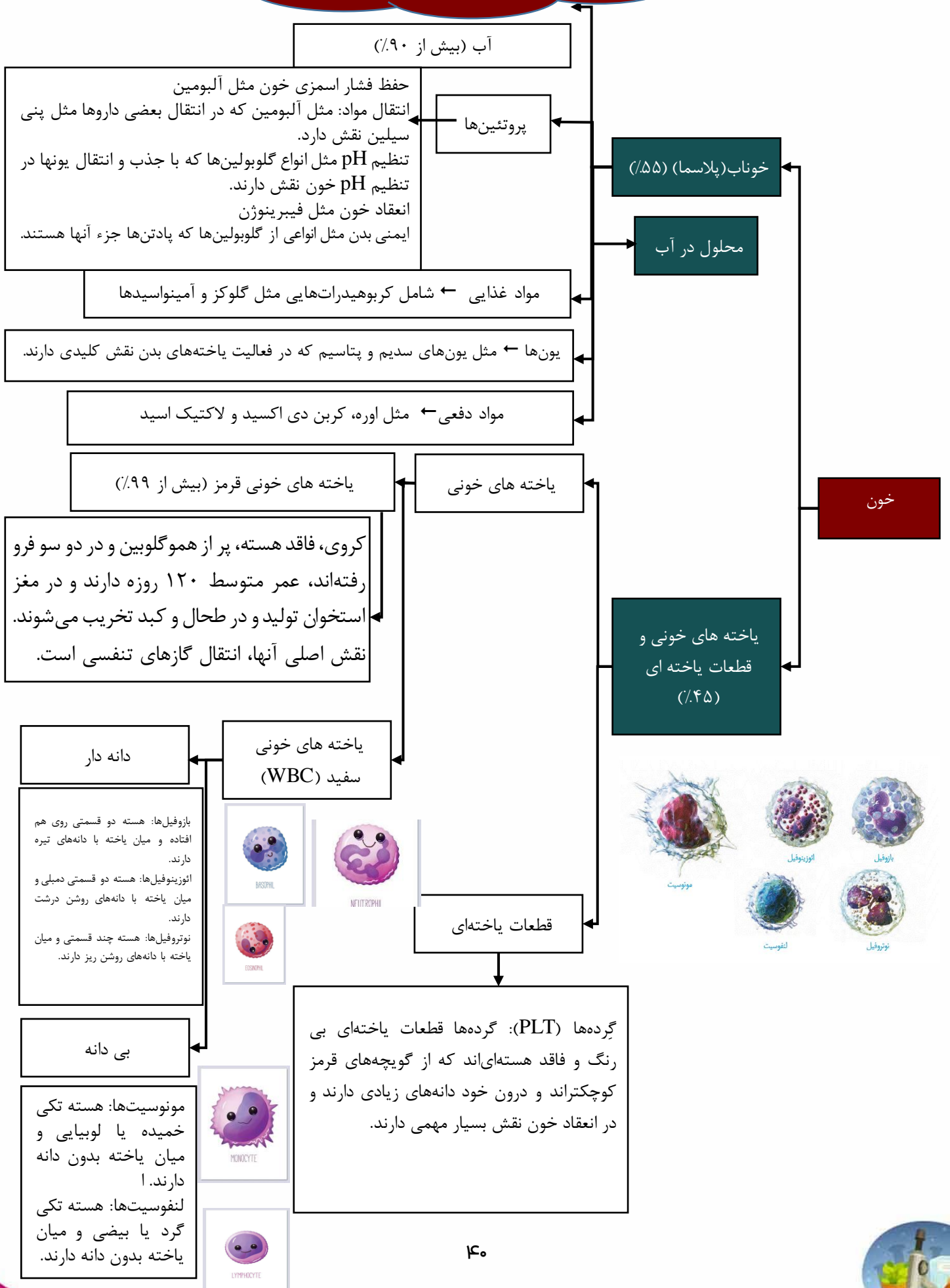



ترکیب کنیم

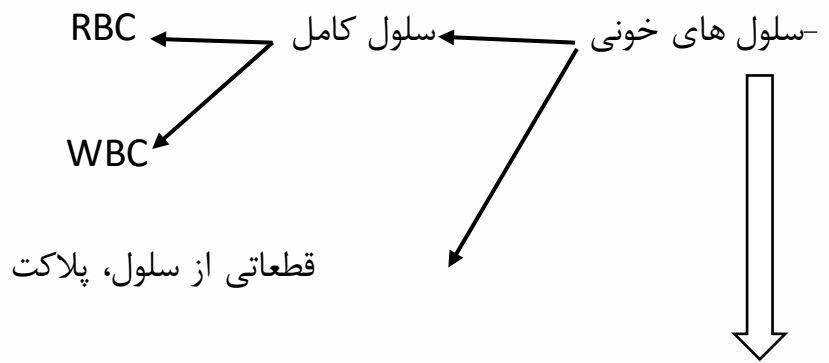




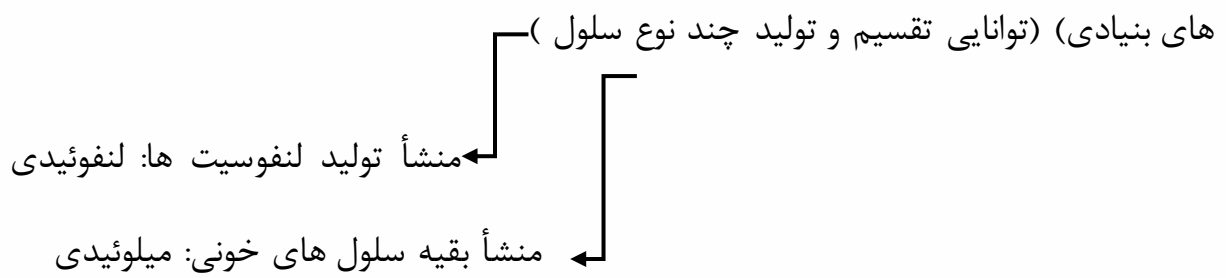
فصل ۴ پایه دهم
گفتار ۳: خون

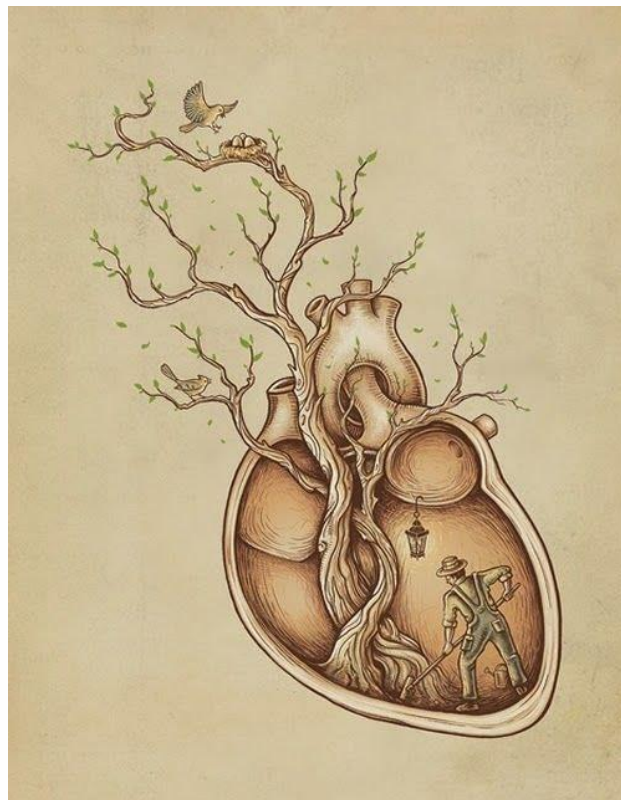
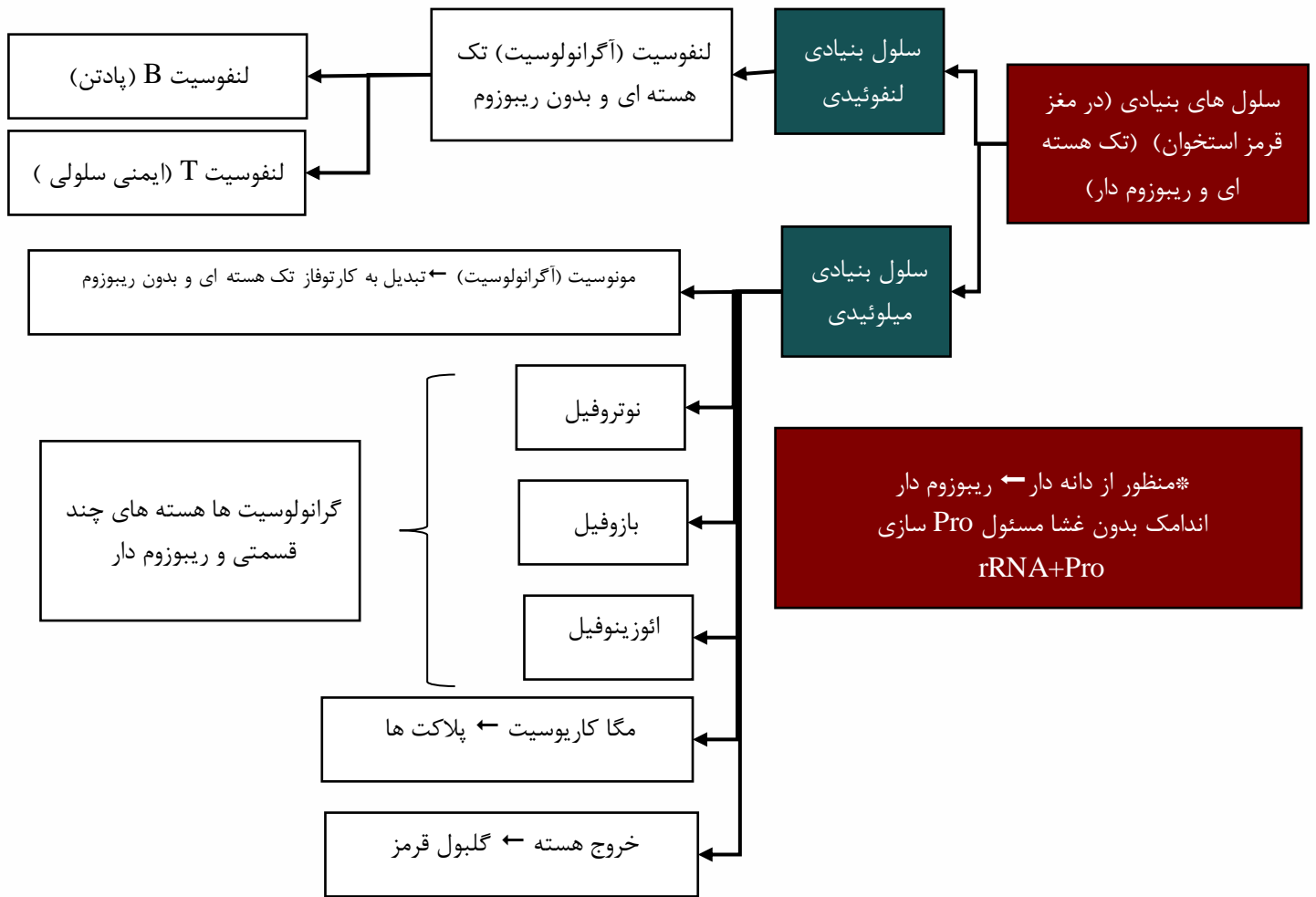


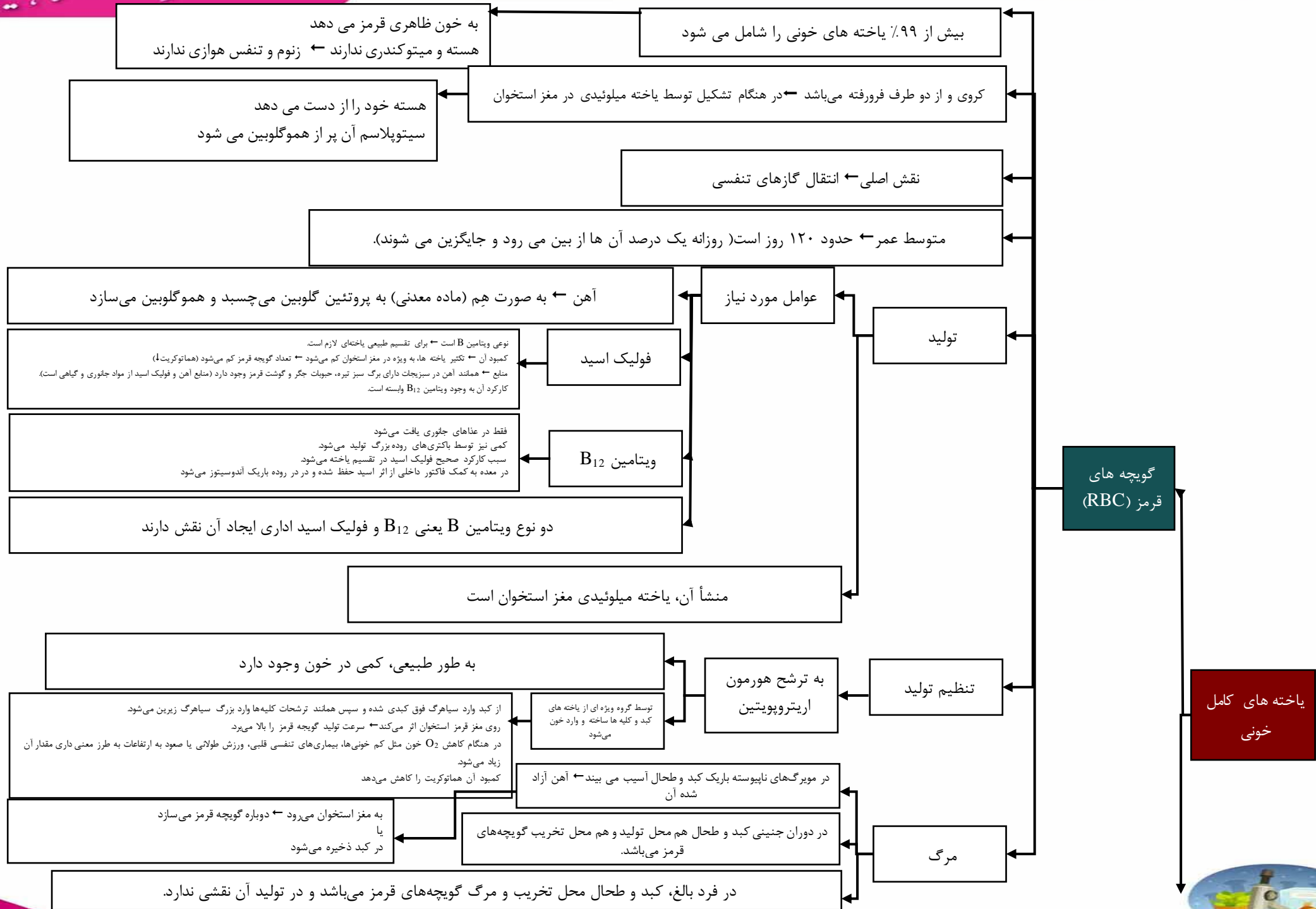


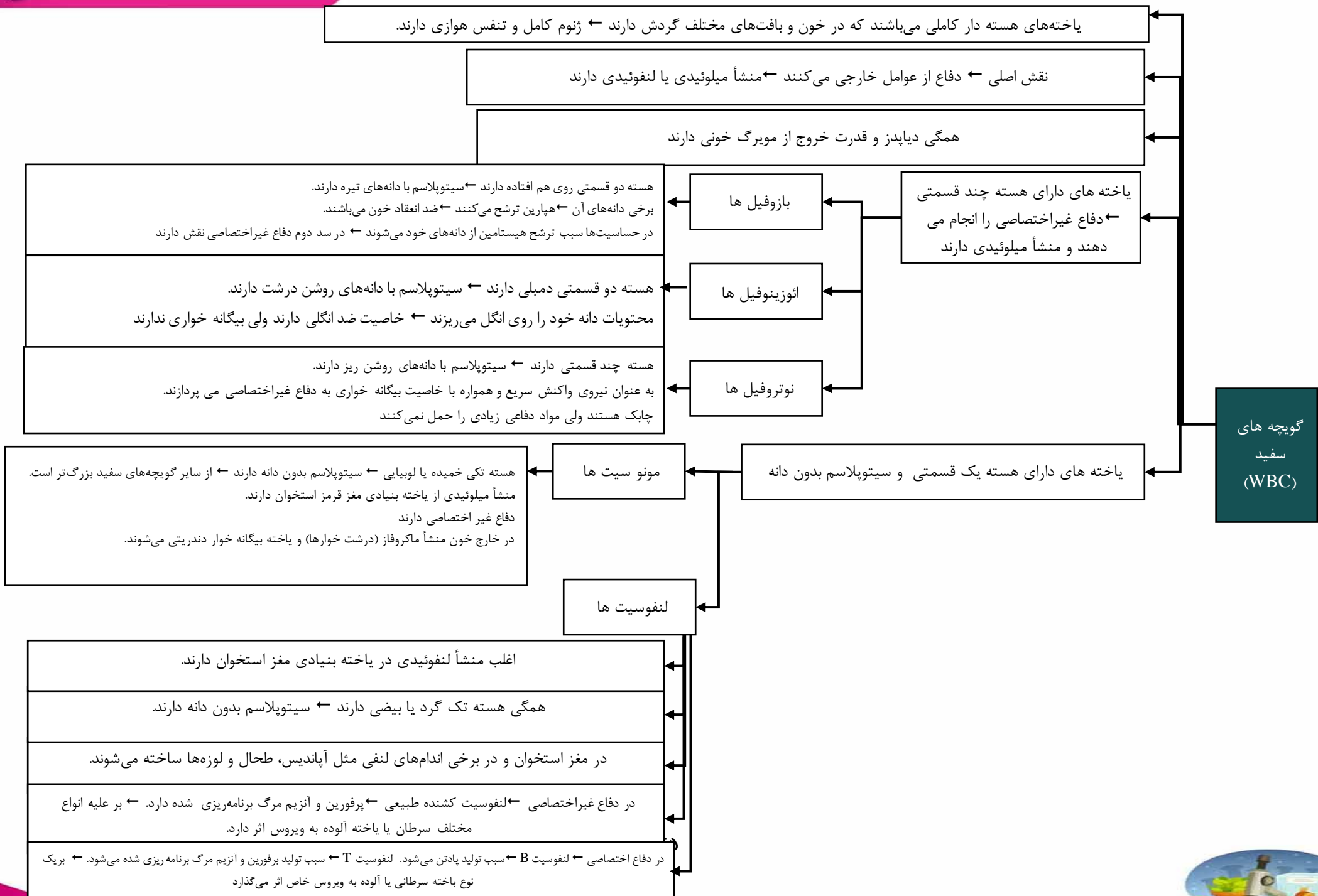


سازنده سلول های خونی: کبد و طحال (فقط در دوران جنسیتی) و مغز قرمز استخوان (سلول









ترکیب کنیم



گرده ها
(پلاکت)

ویژگی: قطعات سلولی بی رنگ و بی هسته و دانه زیاد دارد - از سلول خونی کوچکتر

مکان ساخته شدن: مغز قرمز استخوان

نحوه ساخت: بخش بین سلولی سلول های بزرگی بنام مگاکاریوسیت تکه تکه شده و وارد جریان خون می شوند.

درون هر گرده دانه های کوچک پر از ترکیبات فعال که وقتی آزاد می شوند

و وارد خوناب می ریزند ← شروع فرآیند لخته شدن



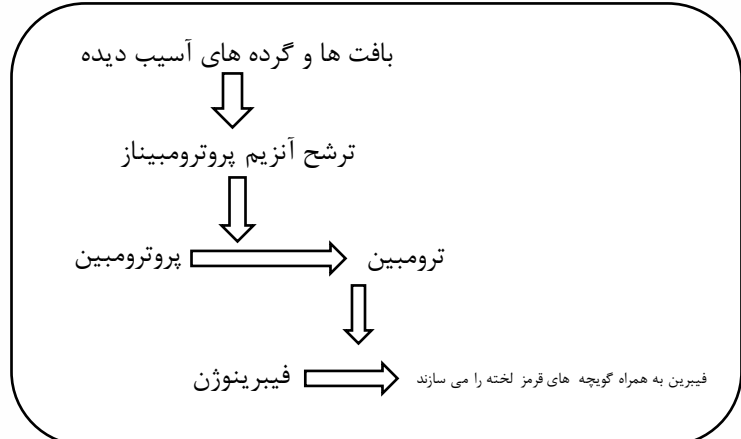
راه های جلوگیری از هدر رفتن خون در رگ آسیب دیده

در خون ریزی های محدود

دیواره رگ آسیب جزئی می بیند. در محل آسیب، پلاکت ها دور هم جمع شده و به هم می چسبند ← ایجاد درپوش می کنند ← جلوی خروج خون را می گیرند. در این خونریزی ها، خوناب و پروتئین های آن نقشی ندارند.

در خونریزی های شدید

- همانند خونریزی محدود، گرده ها (پلاکت ها) در جلوگیری از خونریزی، نقش اصلی دارند.
- بافت ها و پلاکت های آسیب دیده سبب ترشح آنزیم پروترومبیناز برای انعقاد خون می شوند.
- پروترومبین و فیبرینوژن همواره در خواب به صورت غیرفعال وجود دارند.
- آنزیم پروترومبیناز سبب تبدیل پروترومبین به ترومبین می شود.
- ترومبین به کمک ویتامین K و یون کلسیم سبب تبدیل فیبرینوژن به رشته های نامحلول فیبرین می شود.
- رشته های فیبرین به همراه گویچه های خونی (مخصوص گویچه قرمز و گرده ها)، سبب ایجاد لخته می شود ← در این حالت گویچه های قرمز پلاسمولیز می شوند.





- عوامل انعقادی که همیشه در خون وجود دارند ← فیبرینوژن، پروترومبین، ویتامین K، یون Ca^{2+} و گرده ها
- هنگام انعقاد تولید می شوند ← ترومبین، فیبرین و لخته
- مثال آنزیم پروترومبیناز
- همواره درون پلاکت ها وجود دارند. در هنگام آسیب شدید رگ خونی از پلاکت وارد پلاسما می شود



فصل ۴ پایه دهم

گفتار ۳: تنوع و گردش مواد در جانداران



اندازه کوچک ولی نسبت سطح به حجم بالایی دارند. تبادل گاز، تغذیه و دفع آن ها مستقیماً از سطح غشای یاخته با محیط انجام می شود.

تک یاخته ای

گردش مواد در جانداران

پریاخته ای ها

دستگاه گردش مواد دارند

سامانه گردش آب

حفره گوارشی

حفره عمومی (سلوم)

در ساده ترین جانوران پریاخته ای یعنی در اسفنج ها دیده می شود. بدن آنها از یاخته هایی متنوع و یک حفره میانی پر آب تشکیل شده است. در بدن آنها یاخته های تاژک دار (یقه دار) و بدون تاژک (سازنده منفذ ورود آب) وجود دارد. یاخته های یقه دار، در سطح درونی حفره بدن تاژک دارند ← وظیفه خروج آب از منافذ بزرگ تر دارد. از سوراخ های متعدد دیواره خود، از محیط بیرون آب و مواد می گیرند و گردش درونی مایعات ندارند. پس از تبادل مواد با آب ورودی ← سوراخ یا سوراخ های خروجی بزرگ تر برای دفع مواد دارند عامل حرکت آب، حرکت تاژک یاخته های یقه دار می باشد ← گردش درونی مایعات ندارند.

یک کیسه گوارشی و گردش مواد با یک منفذ مشترک دهانی و مخرجی دارند
 درون کیسه، گوارش مکانیکی و شیمیایی برون یاخته ای دارند ولی گوارش نهایی درون یاخته های درونی کیسه انجام میشود.

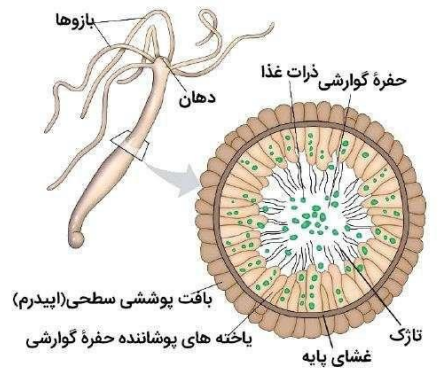
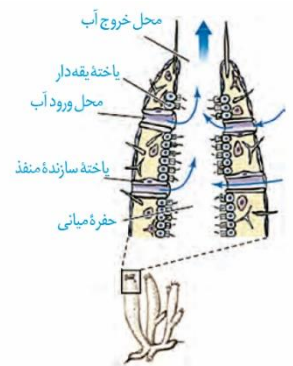
در مرجانیان (کیسه تنان)

هیدر آب شیرین ← یاخته تاژک دار درونی و کیسه گوارشی پر از مایعات برای گوارش و گردش مواد دارند

عروس دریایی ← حفره گوارشی آن ها انشعابات متعدد برای گردش مواد در چتر و بازوهای خود دارد

در کرم پهن پلاناریا
 آزادزی می باشد ← فاصله انتشار مواد تا یاخته ها، بسیار کوتاه می باشد انشعابات حفره گوارشی آن در تمام نواحی بدن پخش است. حرکات بدن آنها به جابه جایی مواد کمک می کند.

با شکل گیری لوله گوارش و ایجاد دهان و مخرج مجزا سلوم ایجاد می شود.
 به فاصله بین بخش خارجی دستگاه هایی مثل گوارش با دیواره ی بدن، فضایی به نام سلوم یا حفره عمومی می گویند
 در بی مهرگانی مثل کرم لوله ای - حفره عمومی با مایعاتی برای انتقال مواد پر می شود - بین بخش های مختلف لوله گوارش و تولید مثلی با دیواره بدن وجود دارد
 در هر جانور دارای لوله گوارشی، سلوم وجود دارد که در کرم های لوله ای با مایع پر شده است.



سامانه گردش باز

در بندبایان و بیشتر نرم تنان دیده می شود ← آب میان بافتی، خون و لنف آن‌ها مخلوط بوده و به نام همولنف می باشد. مویرگ ندارند و همولنف از انتهای باز رگهای خروجی از قلب به حفره‌ها (سینوس‌ها)ی بدن (سلوم) پمپ زده می شود. همولنف، مستقیماً با یاخته‌ها در تماس می باشد و پس از تبادل، توسط رگ‌هایی به قلب برمی گردد. قلب پشتی آن‌ها، منافذ دریچه داری دارد که در هنگام استراحت قلب، باز می شوند تا همولنف را وارد قلب کنند (سیاهرگ ندارند). در این جانوران، همولنف از راه دریچه‌هایی به قتل می رسد و از راه دریچه‌های ابتدای سرخرگی از قلب خارج می شود.

- مویرگ دارند ولی قلب آنها منفذ دریچه دار برای ورود خون ندارند.
- خون فقط در تماس مستقیم با سطح درونی قلب و رگ‌ها می باشد.
- خون و لنف جدا هستند.
- مویرگ آن‌ها در کنار یاخته‌ها و به کمک آن میان بافتی رخ می دهد.
- ساده ترین نوع ← در کرم خاکی است

سامانه گردش مواد تخصص یافته

سامانه گردش بسته

رگ پشتی آن‌ها قلب لوله‌ای اصلی است ← خون را به جلوی بدن می دهد. ۵ جفت کمان رگی در اطراف، لوله گوارش و در جلوی بدن به عنوان قلب کمکی دارند ← خون را به پایین و سپس به عقب می دهند. بین رگ پشتی و شکمی، هم مویرگ‌های متعدد و هم پنج جفت کمان رگی وجود دارد. مویرگ در همه جای بدن بین رگ‌های پشتی و شکمی وجود دارد. خون از قلب‌های کرم خاکی به سمت پوست برای تبادل گاز تنفسی رفته و سپس به اندام‌ها می رسد.

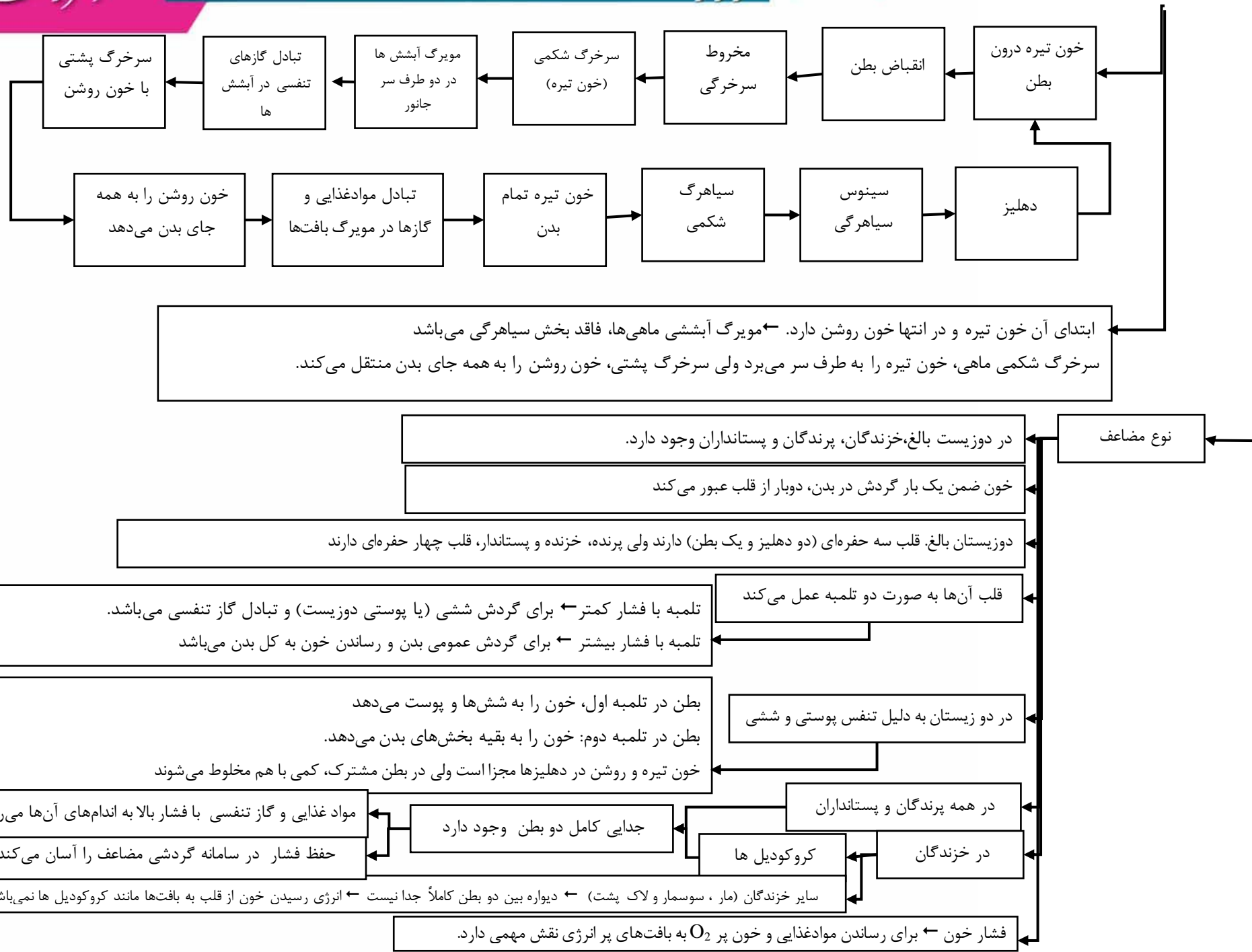
در مهره داران همگی گردش خون بسته به دو نوع ساده با مضاعف دارند

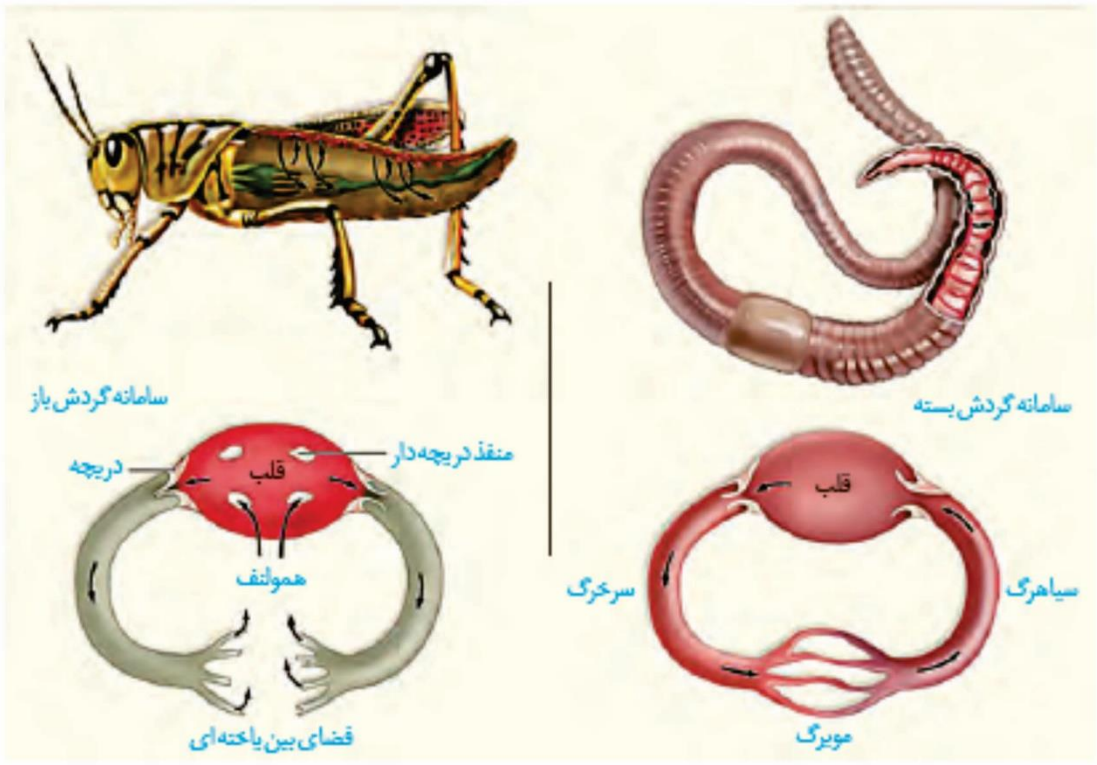
گردش خون ساده

خون ضمن یک بار گردش در بدن، یک بار از قلب دو حفره‌ای آن‌ها می گذرد. در ماهی و نوزاد دوزیست دیده می شود ← خون تیره قلب آنها ابتدا به آبشش‌ها و پوست دوزیست می رود.


گردش خون ماهی

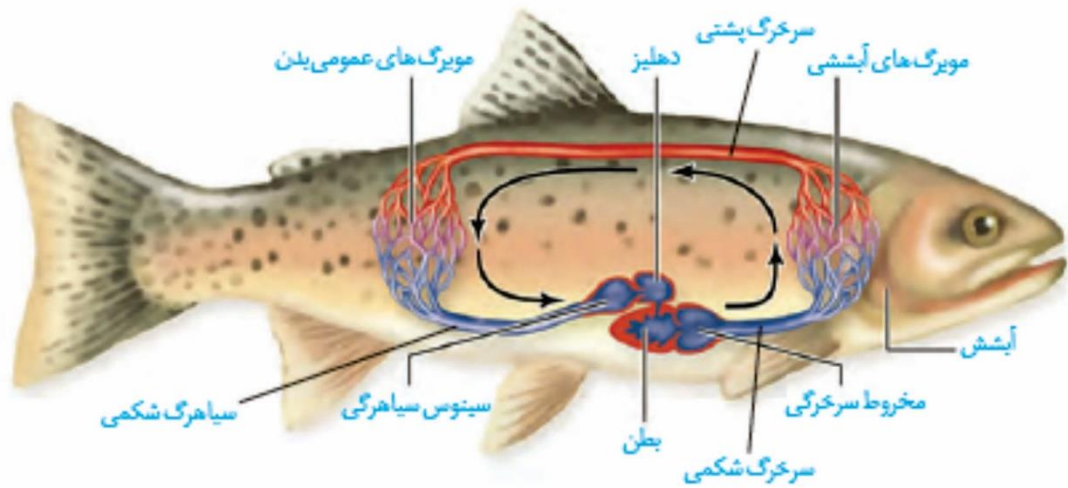
قلب دو حفره‌ای شکمی، با یک دهلیز، یک بطن و یک دریچه دهلیزی بطنی دارند ← خون درون دو حفره قلب آن‌ها از نوع تیره می باشد






نگات شکل



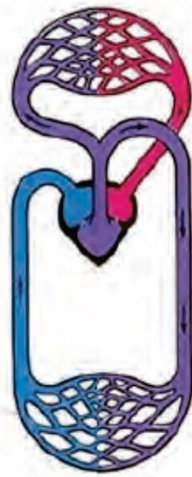


نگاهت شکل





ماهی
قلب دو حفره‌ای،
گردش خون ساده




دوزیست
قلب سه حفره‌ای،
گردش خون مضاعف



پستاندار
قلب چهار حفره‌ای،
گردش خون مضاعف

نکات شکل



از ما بگم

- (۱) دارای لوله گوارش است و غذای مصرفی را فقط به شکل برون سلولی گوارش می‌دهد.
- (۲) گردش خون بسته و مضاعف و سه نوع رگ خونی و قلب ۴ حفره‌ای دارند که در اغلب آنها، جدایی کامل بین بطن‌ها رخ نداده است و در برخی مثل کروکودیل، رخ داده است.
- (۳) طناب عصبی پشتی و مغز و نخاع و انعکاس نخاعی دارند.
- (۴) به کمک شش، تنفس می‌کنند.
- (۵) دارای پیچیده‌ترین شکل کلیه با توانمندی بالا در بازجذب آب‌اند و برخی از آنها قادر به دفع نمک اضافی از طریق غدد نمکی نزدیک چشم یا زبان‌اند.
- (۶) برخی مثل انواعی از مارها، قادر به تشخیص پرتوهای فرسرخ و تشخیص محل شکار در تاریکی‌اند.
- (۷) انواعی مثل لاک پشت‌های دریایی قادر به طی مسافت‌های طولانی و جهت یابی به کمک میدان مغناطیسی زمین، برای تخم‌گذاری در ساحل‌اند و همچنین در انواعی از لاک پشتها رکود تابستانی مشاهده می‌شود.
- (۸) دارای اسکلت داخلی استخوانی - غضروفی و ماهیچه‌های متصل به سطح خارجی اسکلت‌اند.
- (۹) دفاع اختصاصی و غیراختصاصی دارند.
- (۱۰) تک جنسی و دگرلقاح‌اند و لقاح داخلی دارند.
- (۱۱) انواعی از آنها مثل مارها، به کمک گیرنده‌های شیمیایی زبانشان، قادر به تشخیص فرمون‌های موجود در هوا و تشخیص جانوران اطراف خود‌اند.
- (۱۲) تخم‌گذارند اما روی تخم‌های خود نمی‌خوابند و در انواعی مثل لاک پشت، تخم‌ها با ماسه و خاک پوشانده می‌شوند.
- (۱۳) در نوعی مار به نام پیتون، بقایای پا به صورت وستیجیال در لگن موجود است و انواعی از آنها مثل دایناسورها در گذشته زندگی می‌کرده‌اند و امروزه وجود ندارند.



از ماهی بگم

یوکاریوت، پریاخته، هتروتروف و مهره دار

(۱) انواع غضروفی آنها مثل کوسه ماهی و سفره ماهی، علاوه بر کلیه، در حدی است غدد راست روده‌ای با قابلیت ترشح محلول نمک بسیار غلیظ به روده دارند.

(۲) دارای لوله گوارش و گوارش برون یاخته‌ای‌اند و برخی انواع مثل ماهی خاویار دارای سنگدان در دستگاه گوارش خوداند.

(۳) انواع بالغ‌شان دارای آبشش شامل کمان‌ها، رشته‌ها و خارهای آبششی‌اند.

(۴) انواع آب شیرین آنها، ماده مخاطی در سطح بدن دارند، معمولاً آب زیادی نمی‌نوشند و حجم زیادی از آب را به شکل ادرار رقیق دفع می‌کنند و جذب فعال نمک و یون‌ها را از طریق آبشش دارند.

(۵) طناب عصبی پشتی و مغز و نخاع دارند.

(۶) دفاع اختصاصی و غیراختصاصی دارند.

(۷) دلفین ماهی نیست و چون نوعی پستاندار است با شیر کوهی، خویشاوندی نزدیک‌تری دارد تا با کوسه.

(۸) قلب ۲ حفره‌ای، سینوس سیاهرگی و مخروط سرخرگی، گردش خون بسته و ساده و سه نوع رگ خونی دارند و در دستگاه گردش خون، سرخرگ با خون تیره دارند و تمام خون خروجی قلب به آبشش می‌رود و همه اعضا، خون روشن مورد نیاز خود را از آبشش دریافت می‌کنند.

(۹) انواع دریایی آنها آب زیادی می‌نوشند و برخی یون‌ها را از طریق یاخته‌های آبشش و برخی را توسط کلیه و به شکل ادرار غلیظ، دفع می‌کنند و دارای کلیه‌ای مشابه دوزیستان می‌باشند.

(۱۰) در دو سوی بدن خود دارای خط جانبی، حاوی یاخته‌های مژکدار و ماده ژلاتینی، برای آگاهی از وجود اجسام و جانوران دیگر، در اطراف خوداند.

(۱۱) اسکلت داخلی دارند که در انواعی غضروفی و در انواعی، غضروفی-استخوانی است و ماهیچه‌ها به سطح بیرونی اسکلت متصل‌اند.

(۱۲) اغلب لقاح خارجی و بعضی مثل کوسه، لقاح داخلی دارند و به دلیل کوتاه بودن دوره جنینی، همانند دوزیستان، میزان اندوخته تخمک اندک است و اغلب تخمک دیواره‌ای چسبناک و ژله‌ای دارد که پس از لقاح، تخمک‌ها را به هم می‌چسباند و ابتدا از جنین حفاظت می‌کند و بعد به عنوان غذای اولیه جنین استفاده می‌شود.

(۱۳) لوب‌های بویایی بزرگتری نسبت به انسان دارند.



فعالیت

Blank area for activity content.



فصل ۴ پایه دهم

تست کده

۱- چند مورد عبارت روبه‌رو را به طور صحیح تکمیل می‌نماید؟ «در انسان ماهی،»

(قلم‌چی)

الف) همانند - یاخته‌های قلب توسط خون روشن تغذیه می‌شوند.

ب) برخلاف - سرخرگی که خون غنی از اکسیژن را وارد مغز می‌کند، از قلب خارج می‌شود.

ج) برخلاف - تمام خونی که دستگاه تنفس را ترک می‌کند، ابتدا وارد قلب می‌شود.

د) همانند - خونی که کبد را ترک می‌کند، قبل از عبور از سطح تنفس وارد قلب می‌شود.

(۱) مورد ۱ (۲) مورد ۲ (۳) مورد ۳ (۴) مورد ۴

۲- کدام عبارت صحیح است؟ (قلم‌چی)

(۱) انتشار انقباض بطن‌ها از پایین به سمت بالا و انتشار انقباض دهلیزها از بالا به سمت پایین است.

(۲) دهلیزها بر خلاف بطن‌ها به طور فعال از خون پر می‌شوند.

(۳) مدت زمانی که خون از سیاهرگ‌ها وارد دهلیزها می‌شود کمتر از مجموع زمان استراحت عمومی و

انقباض دهلیزی است.

(۴) در مرحله انقباض قلب مانعی برای ورود خون به بطن‌ها وجود دارد.



۳- در شبکه هادی قلب انسان، (قلمچی)

- (۱) گره سینوسی دهلیزی از طرفی سه مسیر بین گرهی با گره دهلیزی- بطنی در ارتباط است.
- (۲) دسته تارهای ماهیچه‌ای تخصص یافته تنها در زیر بافت پیوندی عایق وجود دارند.
- (۳) ارتباط بین هر دو یاخته ماهیچه‌ای برخلاف یاخته‌های ماهیچه قلب معمولی قلب از طریق صفحات در هم رفته است.
- (۴) یاخته‌هایی وجود دارند که برخلاف یاخته‌های ماهیچه قلبی عموماً یک یا دو هسته‌ای‌اند.

۴- چند مورد نادرست است؟ (قلمچی)

- الف) گیرنده‌های فشاری در دیواره سرخرگ ششی برخلاف سرخرگ آئورت مشاهده نمی‌شوند.
- ب) افزایش ترشح برخی هورمون‌ها از مجرای غده فوق کلیه می‌تواند فشارخون را افزایش دهد.
- ج) گیرنده‌های شیمیایی مربوط به گازهای تنفسی، پیام عصبی را به بصل‌النخاع ارسال می‌کنند.
- د) مواد گشادکننده رگ نظیر یون هیدروژن صرفاً بر روی ماهیچه‌های صاف دیواره رگ‌ها تأثیر دارند.

(۱) مورد ۱ (۲) مورد ۲ (۳) مورد ۳ (۴) مورد ۴

۵- رشته‌های الاستیک در ساختار دیواره (قلمچی)

- (۱) همانند بنداره مویرگی- مویرگ‌های خونی دیده نمی‌شوند.
- (۲) همانند لایه ماهیچه‌ای- رگ‌هایی که وظیفه تبادل مواد را بر عهد دارند، مشاهده می‌شوند.
- (۳) برخلاف غشای پایه- رگ‌های تنظیم کننده میزان خون ورودی به مویرگ‌ها وجود ندارند.
- (۴) برخلاف بافت پیوندی- سرخرگ‌های خارج کننده خون از قلب به میزان زیادی وجود دارند.



۶- به طور معمول در مرحله‌ای از کار قلب انسان که $\frac{1}{4}$ ثانیه طول می‌کشد مرحله‌ای که

دریچه‌های قلبی بسته هستند (قلم‌چی)

- (۱) همانند- دریچه‌های ابتدای سرخرگ‌ها باز هستند.
- (۲) برخلاف- ممکن نیست خون روشنی وارد بطن‌ها شود.
- (۳) همانند- دسته تارهای بین بطنی در حال هدایت تکانه‌های قلبی هستند.
- (۴) برخلاف- دریچه‌های قلبی با افزایش فشار درون حفرات کوچک قلب نسبت به حفرات بزرگ باز می‌شوند.

۷- کدام نادرست است؟ «یاخته‌های ماهیچه‌ای که» (قلم‌چی)

- (۱) رشته‌ای و بدون انشعاب هستند، می‌توانند در گوارش مکانیکی نقش داشته باشند.
- (۲) دوکی شکل هستند، می‌توانند تحت تأثیر اعصاب خودمختار منقبض شوند.
- (۳) مخطط و غیرارادی می‌باشند، در جلوگیری از بازگشت خون از بطن‌ها به دهلیزها نقش اصلی را ندارند.
- (۴) مخطط هستند، همگی دارای صفحات بینابینی می‌باشند.

۸- کدام گزینه عبارت مقابل را به نادرستی کامل می‌کند؟ «اسکلت فیبری» (قلم‌چی)

- (۱) همانند پیراشامه، دارای رشته‌های کلاژن است.
- (۲) برخلاف درون‌شامه، در شکل‌گیری دریچه‌های قلب نقش دارند.
- (۳) همانند برون‌شامه، با بافت ماهیچه‌ای قلب در تماس است.
- (۴) برخلاف ماهیچه قلب، در ساختار دریچه‌های قلبی شرکت دارد.

۹- کدام گزینه عبارت مقابل را به درستی کامل می‌کند؟ «در فاصله از الکتروقلب نگاره در

انسان» (قلم‌چی)

- (۱) P تا Q- پیام‌های الکتریکی بافت گرهی به ماهیچه قلب بطن‌ها منتقل شده است.
- (۲) R تا انتهای T- هر دو صدای قلب به گوش می‌رسد.
- (۳) T تا ابتدای P- انقباض ماهیچه قلب دهلیزی در حال وقوع است.
- (۴) R تا S- دریچه‌های سینی قلبی، در نتیجه انقباض دهلیزها باز می‌شود.



۱۰- با فعال شدن بیش از حد آنزیم پروترومبیناز (قلم چی)

- (۱) از تشکیل اجتماع فیبرین و گویچه‌های قرمز ممانعت به عمل می‌آید.
- (۲) گرده‌ها تنها از طریق ایجاد درپوش جلوی خروج خون از رگ را می‌گیرند.
- (۳) ممکن است ارتفاع موجی QRS کاهش یابد.
- (۴) ممکن نیست پروتئین‌های خوناب به صورت نامحلول درآیند.

۱۱- گرهٔ دهلیزی بطنی گرهٔ سینوسی دهلیزی (قلم چی)

- (۱) همانند- با دسته‌ای از تارهای ماهیچه‌ای خاص که ارتباط یافته‌ای تنگاتنگ با هم دارند، در ارتباط است.
- (۲) همانند - باعث انقباض تارهای ماهیچه‌ای حفرات کوچک قلب می‌شود.
- (۳) برخلاف- در یوارهٔ دهلیز راست قرار دارد.
- (۴) برخلاف- با دسته تارهای بین بطنی ارتباط ندارد.

۱۲- در یک فرد سالم در یک دورهٔ قلبی، ممکن نیست مدت زمان (قلم چی)

- (۱) دریافت خون توسط بطن‌ها بیشتر از مدت زمان تخلیهٔ خون توسط آن‌ها باشد.
- (۲) بسته‌بودن دریچه‌های سینی بیشتر از مدت‌زمان بازبودن آن‌ها باشد.
- (۳) بازبودن دریچه‌های درون قلبی کمتر از مدت زمان بسته‌بودن دریچه‌های سینی باشد.
- (۴) ممانعت از خروج خون از دهلیزها کمتر از مدت زمان ممانعت از خروج خون از بطن‌ها باشد.

۱۳- چند مورد صحیح است؟ (قلم چی)

- (الف) در اندامی که بیلیریوبین ساخته می‌شود، مویرگ‌های خونی دارای منافذ بسیار بزرگی هستند.
- (ب) مویرگ‌هایی که به سیاهرگ باب خون می‌دهند، می‌توانند دارای منافذ یاخته‌ای باشند.
- (ج) مویرگ‌های خونی مرکز تنظیم ترشح بزاق، فاقد منافذ یاخته‌ای هستند.
- (د) در همهٔ مویرگ‌های خونی جریان توده‌ای دیده می‌شود.

(۱) مورد ۱) (۲) مورد ۲) (۳) مورد ۳) (۴) مورد ۴)



۱۴- محصولات حاصل از تجزیه پروتئین‌ها و کربوهیدرات یون‌های Na^+ و K^+ ، (قلم‌چی)

(۱) همانند- با انحلال در فسفولیپیدهای یاخته‌های پوششی مویرگ وارد یا خارج می‌شوند.

(۲) همانند- می‌توانند از منافذ مویرگ‌ها منتشر شوند.

(۳) برخلاف- با درون‌بری و برون‌رانی از یاخته‌های پوششی مویرگ‌ها عبور می‌کنند.

(۴) برخلاف- با انتقال فعال و صرف انرژی از مویرگ وارد مایع بین یاخته‌ای می‌شوند.

۱۵- کدام عبارت صحیح است؟ (قلم‌چی)

(۱) هر پروتئینی که در تنظیم PH خون نقش مهم دارد، قطعاً در خوناب وجود دارد.

(۲) درصد حجم آب در خوناب از درصد یاخته‌ها در خون بیشتر است.

(۳) هر پروتئینی که در خوناب در فرآیند انتقال مواد نقش دارد، در مبارزه با عوامل بیماری‌زا دخالت دارد.

(۴) هر ماده‌ی دفعی در خوناب، حاصل تبادل دائم ماده‌ی بین یاخته‌ای با خون است.

۱۶- در خونریزی‌های محدود خونریزی‌های شدیدتر (قلم‌چی)

(۱) برخلاف- یون پتاسیم در انجام روند تشکیل لخته نقشی ندارد.

(۲) برخلاف- بخشی که نقش اصلی را در تولید لخته دارد، دخالت ندارد.

(۳) همانند- رشته‌های پروتئینی نامحلول یاخته‌های خونی را در بر می‌گیرند.

(۴) همانند- قطعاتی از یاخته‌های مگا کاربوسیت تأثیرگذار است.

۱۷- چند مورد عبارت را به درستی کامل می‌کند؟ «در جانوران بی‌مهره دارای دستگاه گردش

مواد ...» (قلم‌چی)

(الف) در صورت داشتن حفره عمومی، قطعاً لوله گوارش دارند.

(ب) در صورت وجود همولنف، قطعاً مویرگ وجود ندارد.

(ج) با سامانه گردش خون باز، قطعاً انتقال گازهای تنفسی مستقل از دستگاه گردش مواد است.

(د) از نوع کیسه گوارشی، قطعاً حرکات بدن نقشی در گردش مواد ندارد.



۱۸- کدام عبارت در مورد مهره‌داران نادرست است؟ (قلم‌چی)

- (۱) در هر جانوری که قلب بیش از دو حفره دارد، گردش خون به صورت مضاعف است.
- (۲) هر جانوری که با پمپ فشار مثبت هوا را به شش‌ها هدایت می‌کند، قلب چهار حفره‌ای دارد.
- (۳) در جانورانی که جدایی کامل بطن‌ها در آن‌ها دیده می‌شود، قلب قطعاً چهار حفره‌ای است.
- (۴) در جانورانی که تنها خون تیره از قلب عبور می‌کند، تنفس آبششی است.

۱۹- یاخته‌های یقه‌دار ممکن نیست (قلم‌چی)

- (۱) در مجاورت با یاخته‌های سازنده منفذ قرار داشته باشند.
- (۲) به جریان آب در حفره میانی کمک کنند.
- (۳) آب را از سمت پایین به بالا جابه‌جا کنند.
- (۴) در سطح بیرونی اسفنج‌ها دیده شوند.

۲۰- چند مورد درباره خون هر سیاهرگ بدن انسان صادق است؟ (سراسری-۹۶)

- * محتویات مویرگ‌های لفنی را دریافت می‌کند.
- * مقادیر ناچیزی گلوکز و مقادیر فراوانی کربن دی‌اکسید دارد.
- * بیش از نیمی از هموگلوبین آن توسط اکسیژن اشباع شده است.
- * فقط تحت تأثیر باقی‌مانده فشار سرخرگی به سمت قلب جریان می‌یابد.

(۱) مورد ۱ (۲) مورد ۲ (۳) مورد ۳ (۴) مورد ۴

۲۱- کدام عبارت نادرست است؟ (سراسری-۹۸)

- (۱) در جنین انسان، همه یاخته‌های خونی از یاخته‌های حاوی چهار رشته پلی پپتیدی تنظیم شود.
- (۲) در یک فرد بالغ، PH خون می‌تواند توسط پروتئینی حاوی چهار رشته پلی پپتیدی تنظیم شود.
- (۳) در یک فرد بالغ، یاخته‌های بنیادی مغز استخوان می‌تواند منشأ انواع مختلف یاخته‌های خونی باشد.
- (۴) در جنین انسان، یک نوع یاخته بنیادی می‌تواند در تولید قطعات یاخته‌ای بی‌رنگ و بدون هسته‌ای مبهم باشد.



۲۲- در یک فرد بالغ، آهن آزادشده از هموگلوبین در داخل اندامی از بدن که خون لوله گوارش ابتدا به آن وارد می‌شود، ذخیره می‌گردد. چند مورد، درباره این اندام صحیح است؟
(سراسری-۹۸)

الف) در تولید کلسترول نقش دارد.

ب) بر سرعت تولید یاخته‌های قرمز خون تأثیرگذار است.

ج) از طریق یاخته‌های بنیادی خود، گویچه‌های قرمز را تولید می‌نماید.

د) فاصله یاخته‌های بافت پوششی در مویرگ‌های آن بسیار زیاد است.

۱) ۱ مورد ۲) ۲ مورد ۳) ۳ مورد ۴) ۴ مورد

۲۳- در ارتباط با تحریک‌های ایجاد شده در بخش‌های مختلف قلب انسان، چند مورد، عبارت زیر را به طور مناسب کامل می‌کند؟ (کنکور داخل-۹۹)

«به طور معمول در انسان، زمانی که موج الکتریکی به منتقل می‌شود.....»

الف) تارهای ماهیچه‌ای درون دیواره بطن‌ها- انقباض دهلیزها آغاز می‌گردد.

ب) لایه عایق بین دهلیزها و بطن‌ها- انقباض بطن‌ها پایان می‌یابد.

ج) گره دهلیزی بطنی- مرحله انقباض بطن‌ها آغاز شده است.

د) تارهای ماهیچه‌ای دیواره بین بطن‌ها- انقباض دهلیزها پایان یافته است.

۱) ۱ ۲) ۲ ۳) ۳ ۴) ۴



۲۴- چند مورد، عبارت زیر را به طور مناسب کامل می‌کند؟ (کنکور داخل-۹۹)

«به طور معمول در انسان، همه رگ‌هایی که به دهلیز راست قلب وارد می‌شوند همه رگ‌هایی که به دهلیز چپ وارد می‌شوند،»

(الف) برخلاف- ترکیب آهن‌دار یاخته‌های خون آن‌ها، سهم کمتری در حمل اکسیژن دارد.

(ب) همانند- خون اندام‌های بالاتر یا پایین‌تر از قلب را دریافت می‌کنند.

(ج) همانند- در لایه میانی دیواره، رشته‌های کشسان زیادی دارند.

(د) برخلاف- تحت تأثیر تلمبه ماهیچه اسکلتی خون در آن‌ها به جریان در می‌آید.

۱ (۱) ۲ (۲) ۳ (۳) ۴ (۴)

۲۵- کدام مورد، درباره جانوران مهره‌داری صادق است که هر دو نوع خون موجود در قلب آن‌ها،

همراه با هم وارد رگی می‌شود که ابتدا به دو شاخه تقسیم می‌گردد؟

(کنکور داخل-۹۹)

(۱) همانند پرندگان، پیچیده‌ترین شکل کلیه را دارند.

(۲) برخلاف خزندگان، ابتدایی‌ترین طناب عصبی شکمی را دارند.

(۳) برخلاف خزندگان، به کمک ساده‌ترین اندام تنفسی هم، به تبادلات گازی می‌پردازند.

(۴) همانند پرندگان، نسبت به سایر مهره‌داران، انرژی بیشتری را به هنگام حرکت مصرف می‌کنند.



پاسخنامه

۲(۱۴)	۴(۱)
۲(۱۵)	۱(۲)
۴(۱۶)	۱(۳)
۲(۱۷)	۲(۴)
۲(۱۸)	۲(۵)
۴(۱۹)	۴(۶)
۱(۲۰)	۴(۷)
۱(۲۱)	۲(۸)
۳(۲۲)	۲(۹)
۱(۲۳)	۳(۱۰)
۲(۲۴)	۱(۱۱)
۳(۲۵)	۱(۱۲)
	۳(۱۳)

