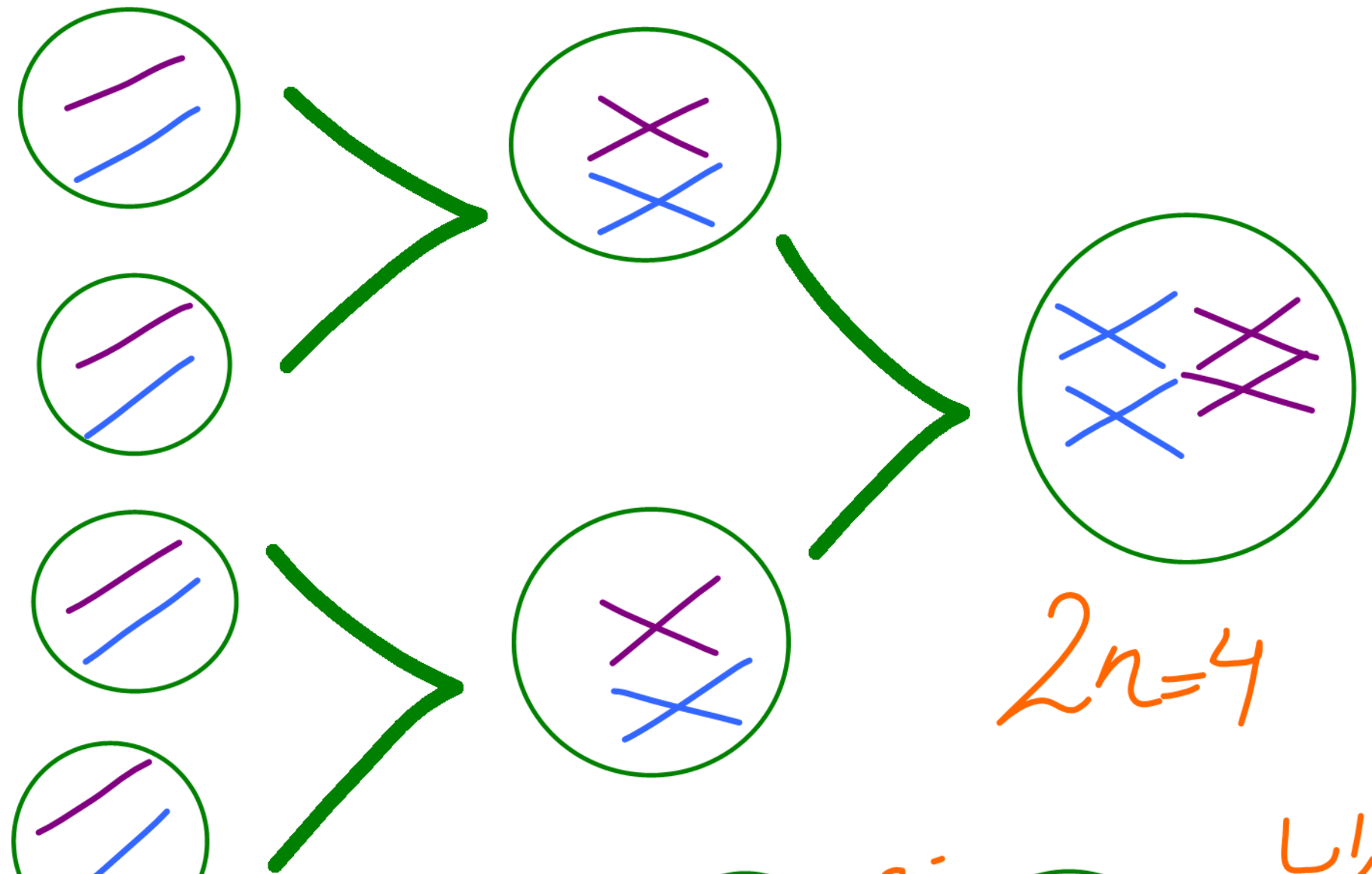
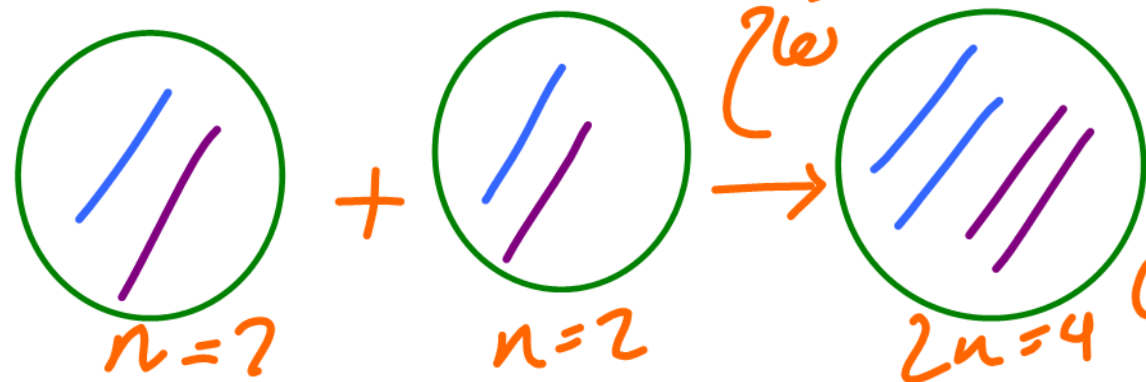


نقطه
نقطه
 $n=2$
=



$$2n=4$$



زیاد
زیاد
همگونی

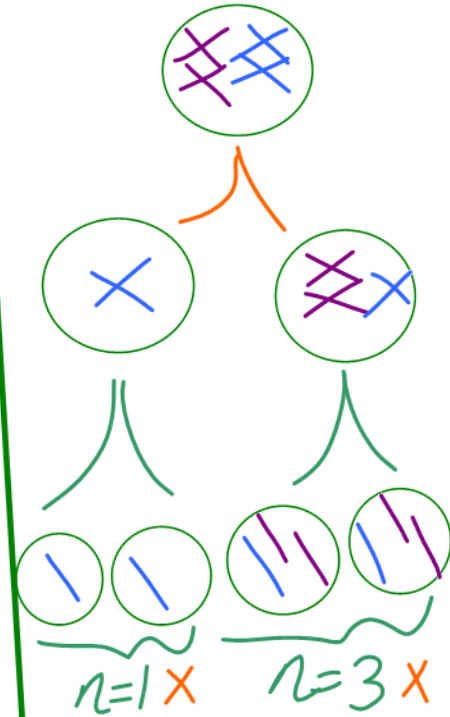
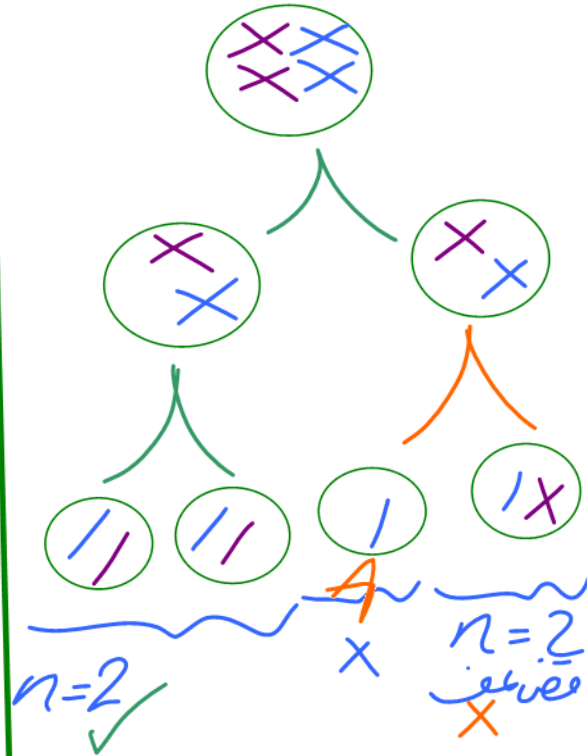
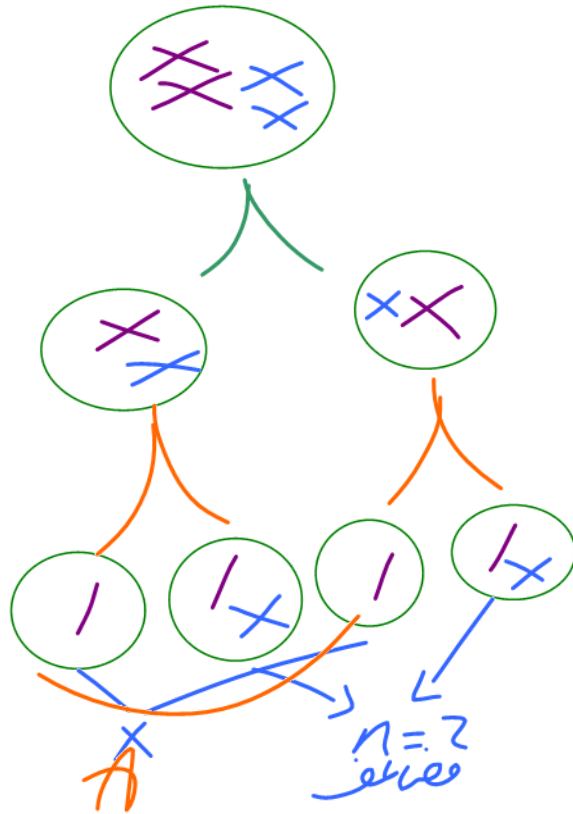
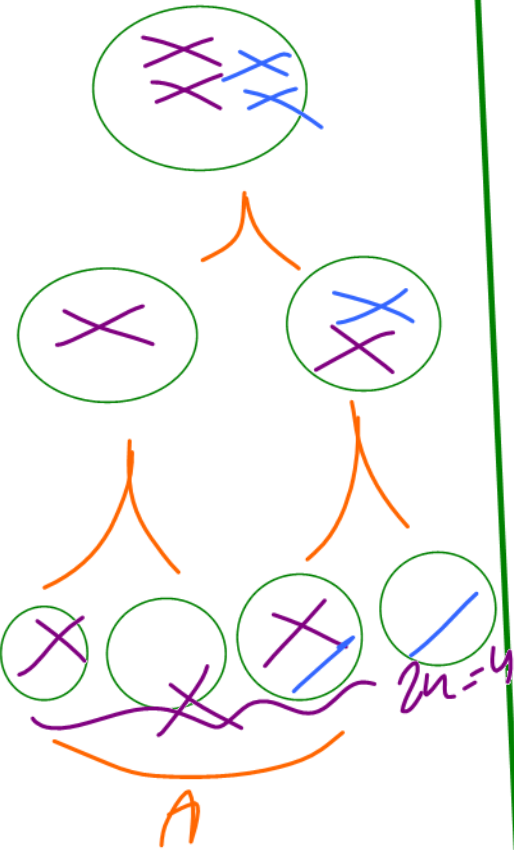
باجم مانندن

خطاهم در میوز I و هم در میوز II

خطا در هر دو میوز II

خطا در یکی از میوزها II

خطا در میوز I

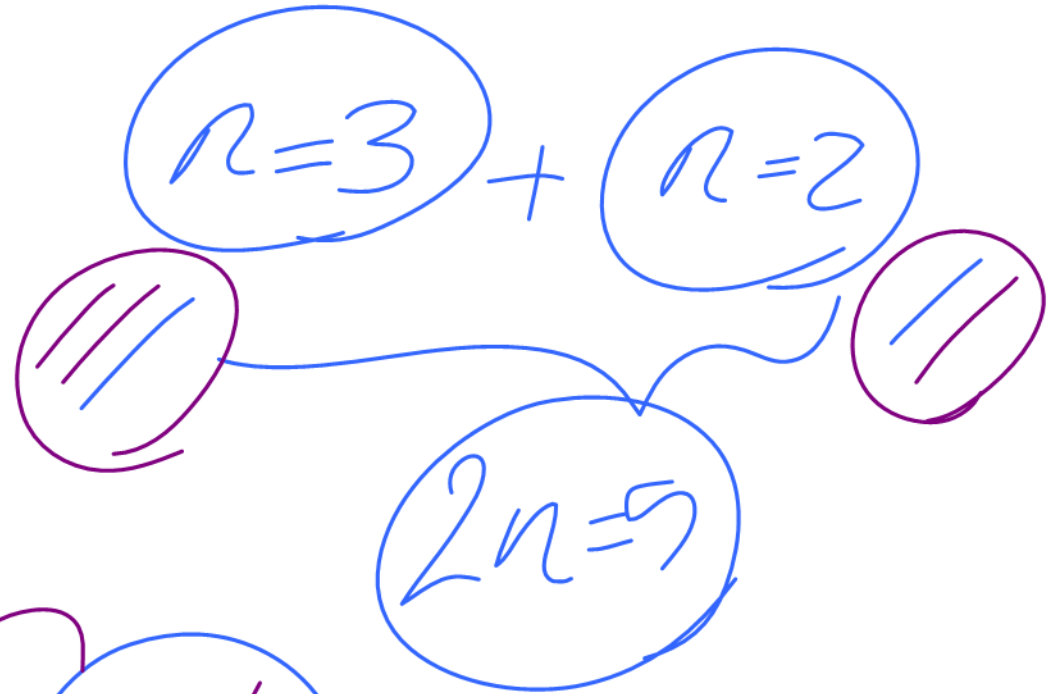
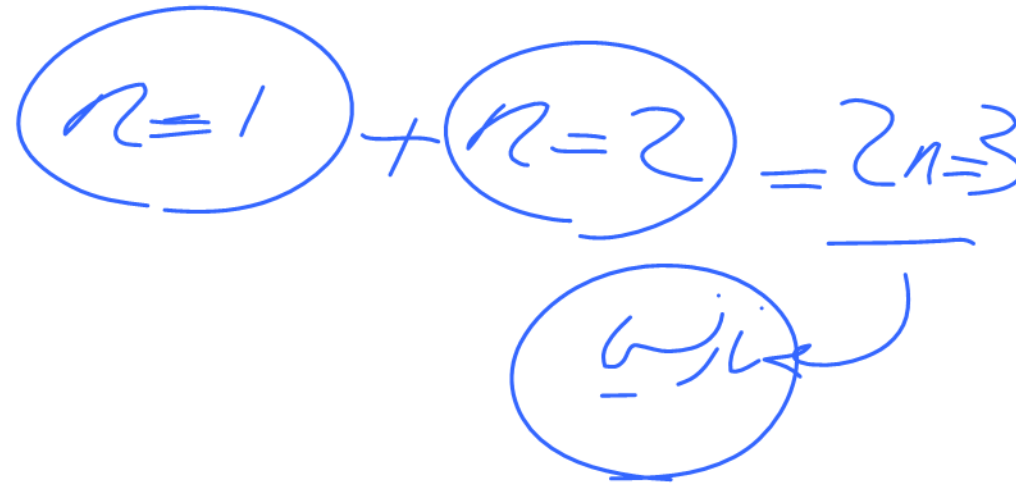


$A + \text{Normal} \rightarrow (n=0) + (n=2) = (n=2) \xrightarrow{\text{Wil}}$



$n=2$ → اصل
فصل

$2n=4$ → اصل
فصل

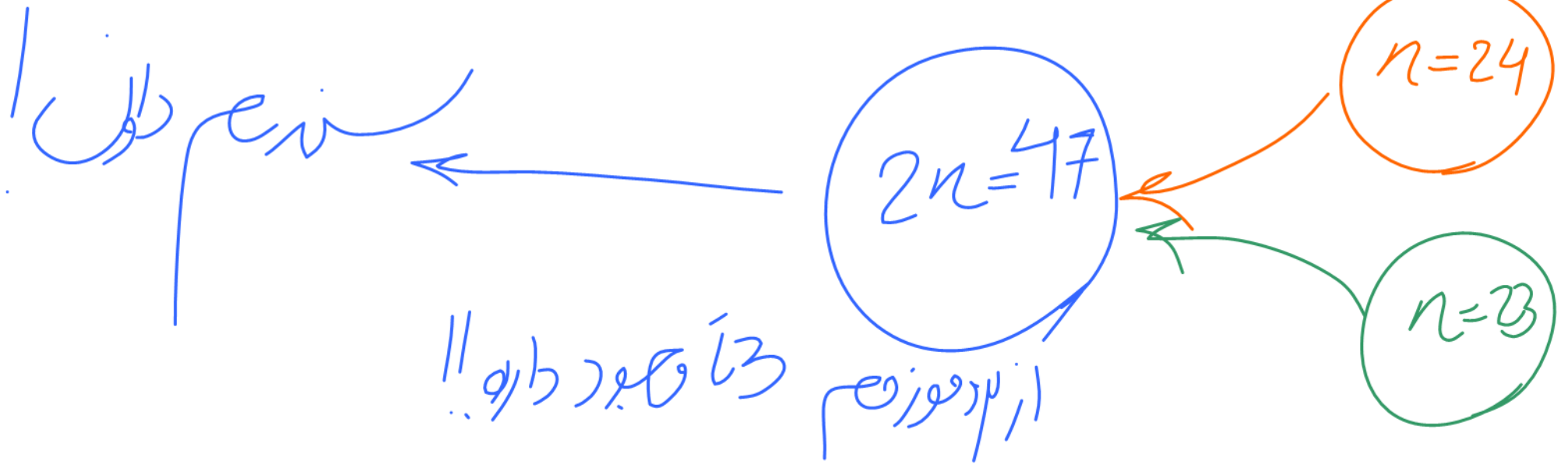


خطا گزینی در یکی والدین

خطا با هم بودن ریزومها (21)

تولدیت $n=24$

(از ریزوم 21، 2 تا داره)



لیکچر ۱۰

معمولی
یونینزایی معر
زیبایی
زیبایی

زیبایی/زیبایی

$3n=6$

$2n=4$

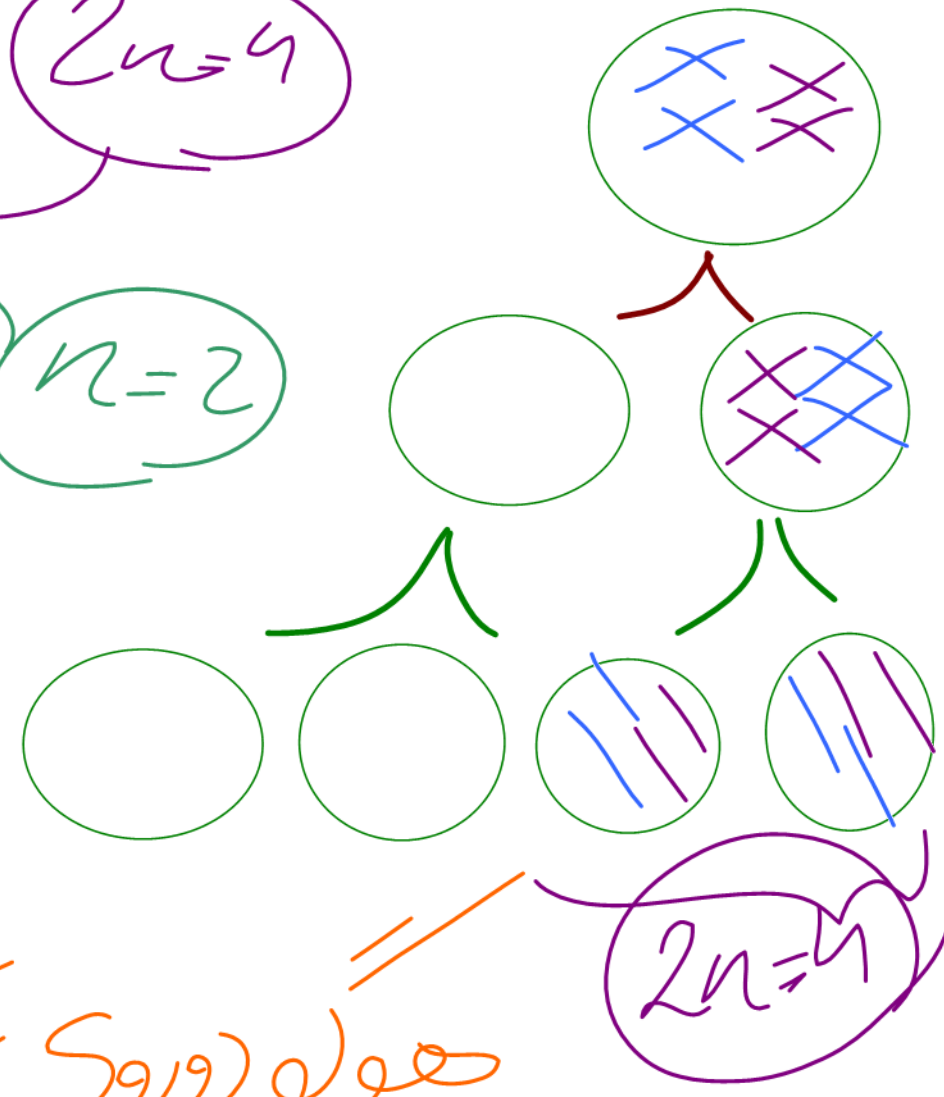
$n=2$

$4n=8$

$2n=4$

$2n=4$

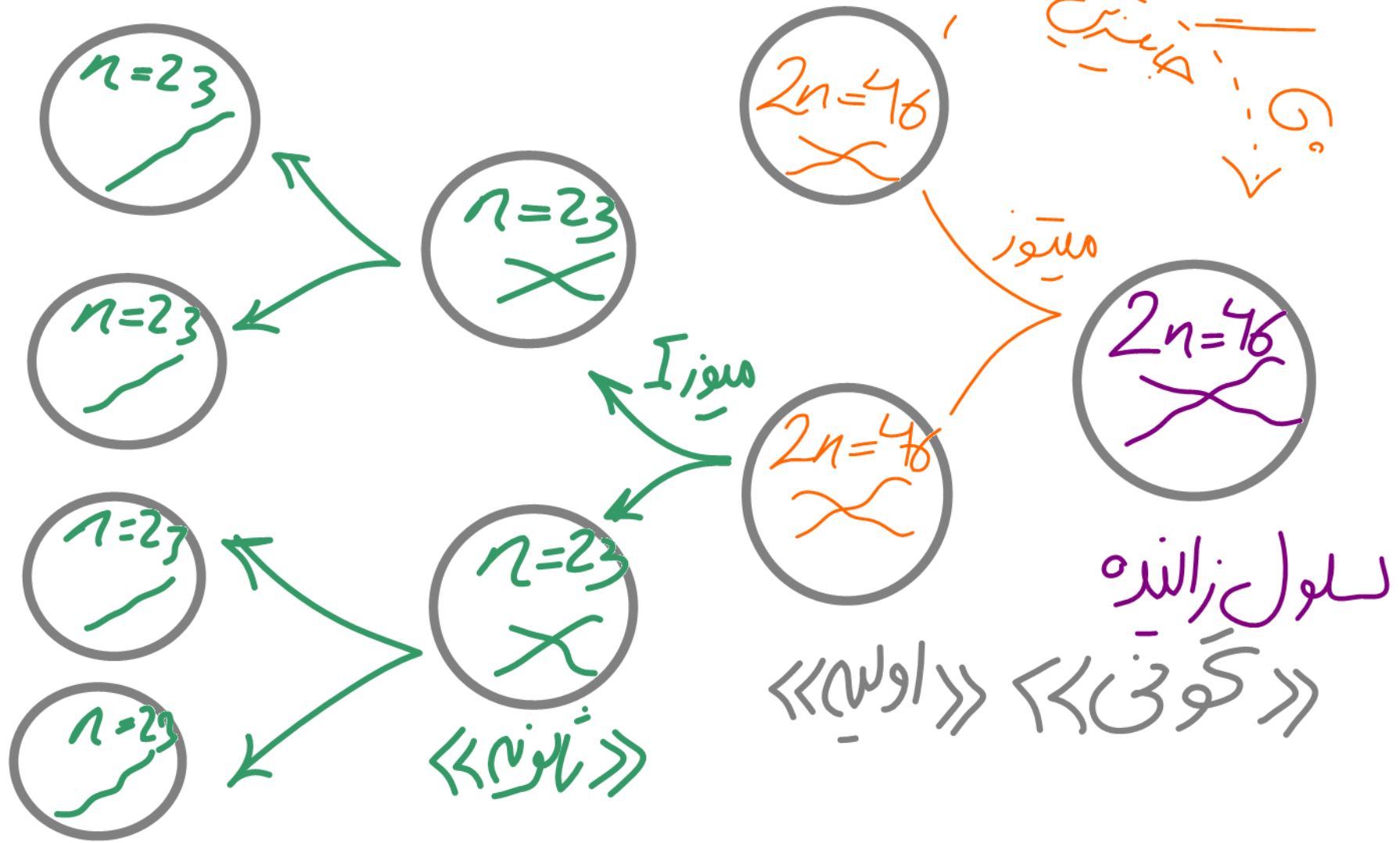
New



معمولی $2n=4$ (معمولی) (معمولی)

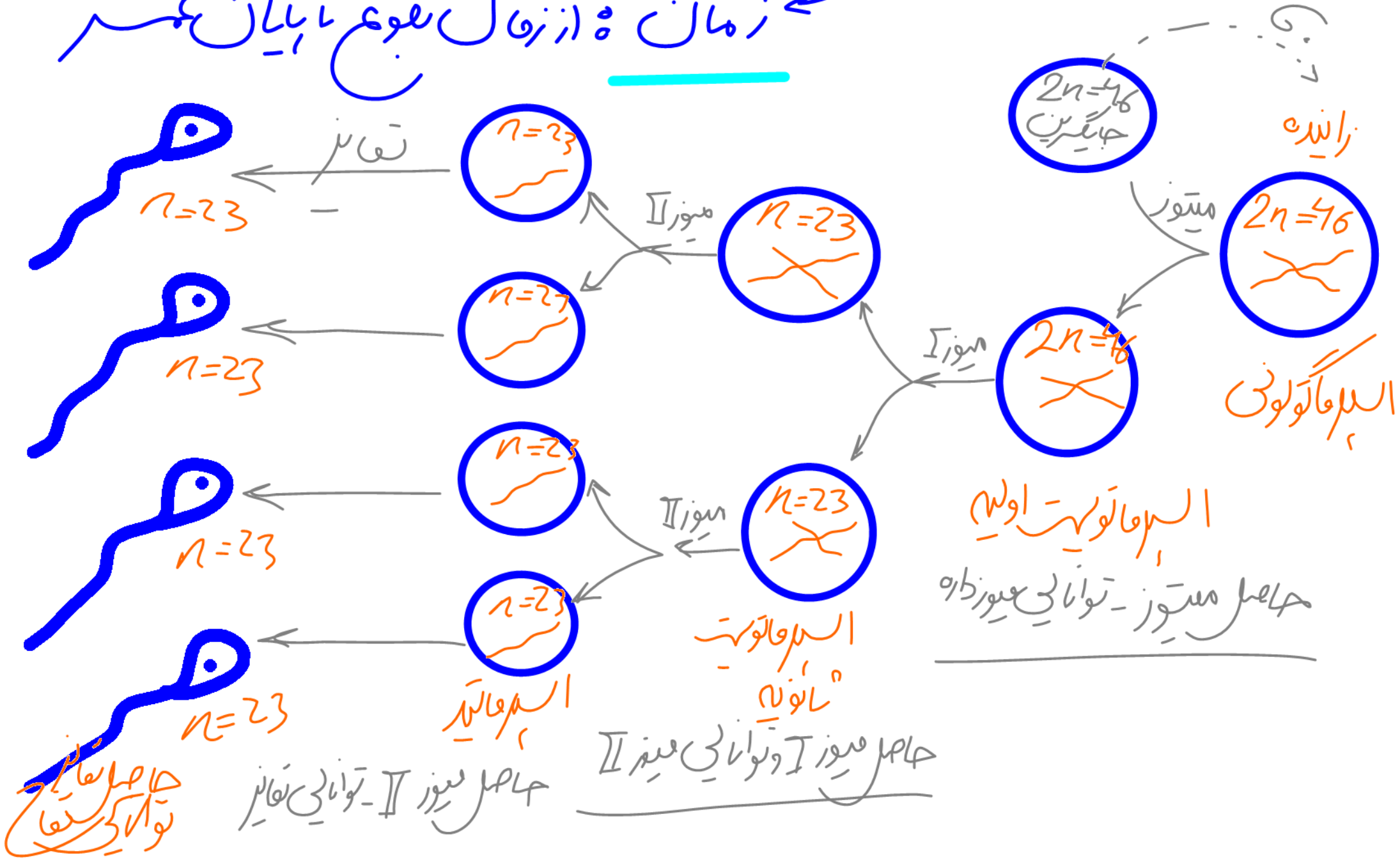
گفت زالی

استدلال



اسپرمزایی

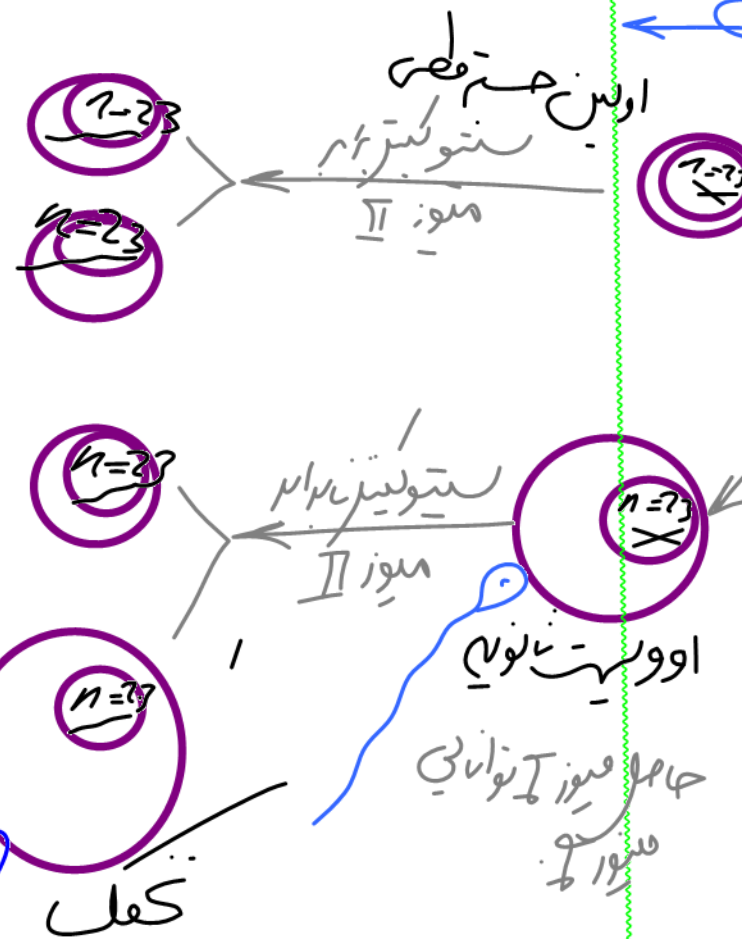
محل وقوع: در دیواره لوله اسپرم ساز
 زمان: از زمان وقوع تا پایان عمر



گند زایی

بعد از این بلوغ هر ماه یکی از این
 اوسیت این فسیل می نند
 14 بلوغ فولیکول
 روز

دو من هسته قطری
 سه صورت نفاخ
 تولید است

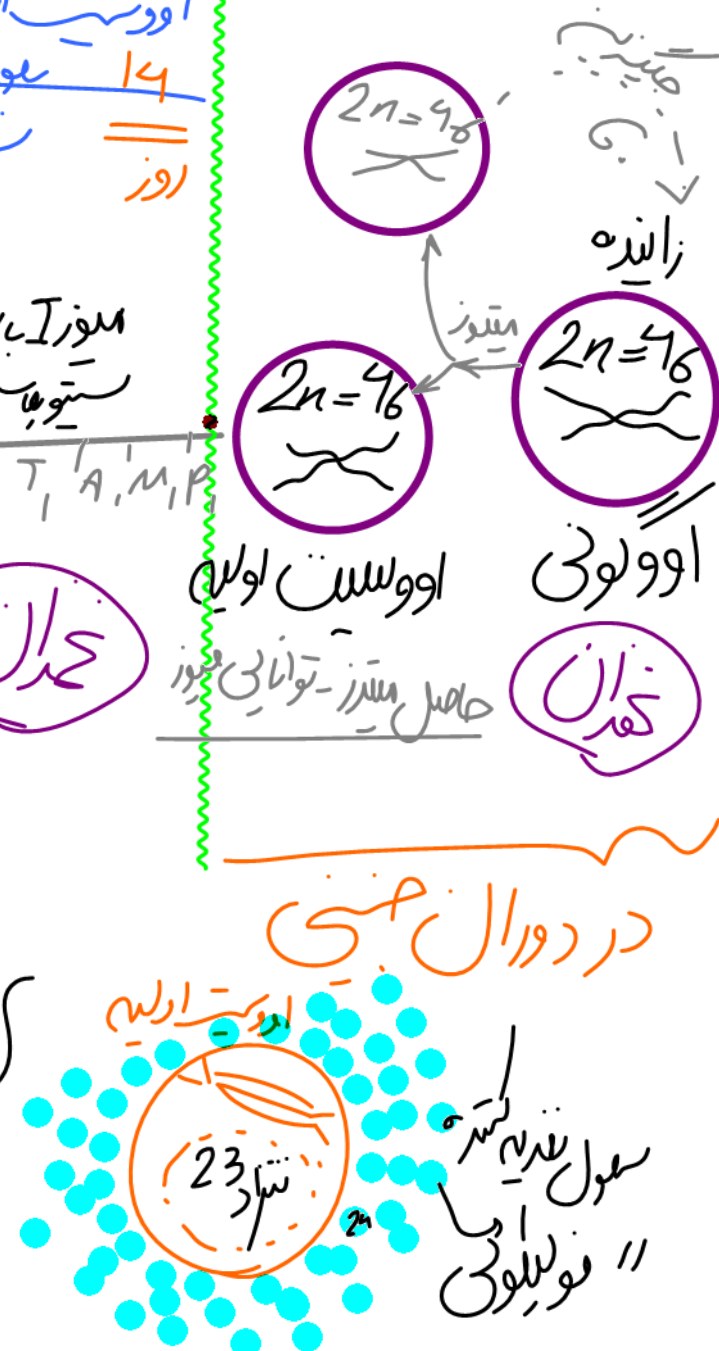


$2n=46$
 زیگلوت

لوله رحمی

خروج از کفک
 می کفک های

فولیکول



بِسْمِ اللّٰهِ الرَّحْمٰنِ الرَّحِیْمِ

اَللّٰهُمَّ صَلِّ عَلٰی مُحَمَّدٍ وَّآلِ مُحَمَّدٍ وَّعَجِّلْ فَرَجَهُمْ

زیست شناسی (۲)

رشته علوم تجربی

پایه یازدهم

دوره دوم متوسطه





وزارت آموزش و پرورش سازمان پژوهش و برنامه‌ریزی آموزشی

زیست‌شناسی (۲) - پایه یازدهم دوره دوم متوسطه - ۱۱۱۲۱۶
سازمان پژوهش و برنامه‌ریزی آموزشی
دفتر تألیف کتاب‌های درسی عمومی و متوسطه نظری
علی آل محمد، محمد ابراهیمی، مریم انصاری، علیرضا ساری، الهه علوی، اعظم غلامی و بهمن فخریان (اعضای شورای برنامه‌ریزی)
علی آل محمد، محمد ابراهیمی، مریم انصاری، الهه علوی و بهمن فخریان (اعضای گروه تألیف) - بهمن فخریان (ویراستار علمی) - محمد کاظم بهنیا (ویراستار ادبی)
اداره کل نظارت بر نشر و توزیع مواد آموزشی
احمدرضا امینی (مدیر امور فنی و چاپ) - مجید ذاکری یونسی (مدیر هنری) - احسان رضوانی (طراح گرافیک، طراح جلد و صفحه‌آرا) - عزیز عذار (عکاس تشریح اندام‌ها) - فاطمه باقری مهر، فاطمه گیتی جبین، زهرا رشیدی مقدم، فاطمه پزشکی، فاطمه رئیس‌یان فیروزآباد (امور آماده‌سازی)
تهران: خیابان ایرانشهر شمالی - ساختمان شماره ۴ آموزش و پرورش (شهید موسوی)
تلفن: ۸۸۸۳۱۱۶۱-۹، دورنگار: ۹۲۶۶۰۸۸۳، کد پستی: ۱۵۸۴۷۴۷۳۵۹
وبگاه: www.chap.sch.ir و www.irtextbook.ir
شرکت چاپ و نشر کتاب‌های درسی ایران تهران: کیلومتر ۱۷ جاده مخصوص کرج - خیابان ۶۱ (داروخش)
تلفن: ۴۴۹۸۵۱۶۱-۵، دورنگار: ۴۴۹۸۵۱۶۰، صندوق پستی: ۳۷۵۱۵-۱۳۹
شرکت چاپ و نشر کتاب‌های درسی ایران «سهامی خاص»
چاپ پنجم ۱۴۰۰

نام کتاب:
پدیدآورنده:
مدیریت برنامه‌ریزی درسی و تألیف:
شناسه افزوده برنامه‌ریزی و تألیف:
مدیریت آماده‌سازی هنری:
شناسه افزوده آماده‌سازی:
نشانی سازمان:
ناشر:
چاپخانه:
سال انتشار و نوبت چاپ:

شابک ۹۷۸-۹۶۴-۰۵-۲۷۸۵-۶
ISBN: 978-964-05-2785-6

۱	فصل ۱ - تنظیم عصبی
۲	گفتار ۱ - یاخته‌های بافت عصبی
۹	گفتار ۲ - ساختار دستگاه عصبی
۱۹	فصل ۲ - حواس
۲۰	گفتار ۱ - گیرنده‌های حسی
۲۳	گفتار ۲ - حواس ویژه
۳۳	گفتار ۳ - گیرنده‌های حسی جانوران
۳۷	فصل ۳ - دستگاه حرکتی
۳۸	گفتار ۱ - استخوان‌ها و اسکلت
۴۵	گفتار ۲ - ماهیچه و حرکت
۵۳	فصل ۴ - تنظیم شیمیایی
۵۴	گفتار ۱ - ارتباط شیمیایی
۵۶	گفتار ۲ - غده‌های درون‌ریز
۶۳	فصل ۵ - ایمنی
۶۴	گفتار ۱ - نخستین خط دفاعی: ورود ممنوع
۶۶	گفتار ۲ - دومین خط دفاعی: واکنش‌های عمومی اما سریع
۷۲	گفتار ۳ - سومین خط دفاعی: دفاع اختصاصی
۷۹	فصل ۶ - تقسیم یاخته
۸۰	گفتار ۱ - فام‌تن (کروموزوم)
۸۴	گفتار ۲ - ریشتمان (میتوز)
۹۲	گفتار ۳ - کاستمان (میوز) و تولیدمثل جنسی
۹۷	فصل ۷ - تولیدمثل
۹۸	گفتار ۱ - دستگاه تولیدمثل در مرد
۱۰۲	گفتار ۲ - دستگاه تولیدمثل در زن
۱۰۸	گفتار ۳ - رشد و نمو جنین
۱۱۵	گفتار ۴ - تولیدمثل در جانوران
۱۱۹	فصل ۸ - تولیدمثل نهان‌دانگان
۱۲۰	گفتار ۱ - تولیدمثل غیر جنسی
۱۲۴	گفتار ۲ - تولیدمثل جنسی
۱۳۰	گفتار ۳ - از یاخته تخم تا گیاه
۱۳۷	فصل ۹ - پاسخ گیاهان به محرک‌ها
۱۳۸	گفتار ۱ - تنظیم‌کننده‌های رشد در گیاهان
۱۴۶	گفتار ۲ - پاسخ به محیط
۱۵۳	فهرست منابع

کتاب زیست‌شناسی ۲ دومین کتاب زیست‌شناسی دوره دوم متوسطه است که برای پایه یازدهم رشته علوم تجربی تألیف و چاپ شده است. این کتاب ادامه اجرای برنامه ۱۲ ساله حوزه تربیت و یادگیری علوم تجربی در موضوع زیست‌شناسی است که از دوره ابتدایی آغاز و در سه سال اول متوسطه در قالب کتاب‌های علوم تجربی ادامه یافته و با کتاب زیست ۱ پایه دهم به دوره دوم متوسطه رسید.

برنامه درسی زیست‌شناسی براساس برنامه درسی حوزه تربیت و یادگیری علوم تجربی و در چارچوب برنامه درسی ملی تدوین شده است. اهداف این برنامه مطابق با برنامه درسی ملی در سه عرصه ارتباطی انسان یعنی ارتباط با خود، خلق و خلقت که بر ارتباط انسان با خداوند متعال مبتنی است، تعریف شده و در جهت تقویت پنج عنصر (تفکر و تعقل، ایمان، علم، عمل و اخلاق) پیش می‌رود. بر این اساس مهم‌ترین شایستگی‌های مدنظر حوزه علوم تجربی که درس زیست‌شناسی تلاش می‌کند در دانش‌آموز تحقق یابد در زیر فهرست شده‌اند. انتظار می‌رود دانش‌آموز بتواند:

نظام مندی طبیعت را به عنوان بخشی از خلقت، براساس درک و تحلیل مفاهیم، الگوها و روابط بین پدیده‌های طبیعی به عنوان آیات الهی کشف و گزارش کند و نتایج آن را برای حل مسائل حال و آینده در ابعاد فردی و اجتماعی در قالب ایده یا ابزار ارائه دهد و به کار گیرد.

با ارزیابی رفتارهای متفاوت در ارتباط با خود و دیگران در موقعیت‌های گوناگون زندگی، رفتارهای سالم را انتخاب کند، گزارش کند و به کار گیرد.

با درک ماهیت، روش و فرایند علم تجربی، امکان به کارگیری این علم را در حل مسائل واقعی زندگی (حال و آینده)، تحلیل و محدودیت‌ها و توانمندی‌های علوم تجربی را در حل این مسائل گزارش کند. با استفاده از منابع علمی معتبر و بهره‌گیری از علم تجربی، بتواند ایده‌هایی مبتنی بر تجارب شخصی را برای مشارکت در فعالیت‌های علمی ارائه دهد و در این فعالیت‌ها با حفظ ارزش‌ها و اخلاق علمی مشارکت فعالی داشته باشد.

کتاب زیست‌شناسی ۲ در ادامه کتاب زیست‌شناسی ۱ به معرفی سازوکارهای مهم در انسان و سایر جانداران برای تنظیم فعالیت‌های زیستی و نیز حفظ و پایداری نسل می‌پردازد. دانش‌آموزان با مطالعه این کتاب با فرایندها و ساختارهایی آشنا می‌شوند که با وجود تنوع در دنیای زنده از اصول ثابتی پیروی می‌کنند. محتوای این کتاب در تم و زمینه «تنظیم و پایداری» در نه فصل، ارائه شده است.

محتوای این نه فصل شامل تنظیم عصبی و شیمیایی، حس و حرکت، ایمنی، تقسیم یاخته ای، تولیدمثل در انسان، جانوران و گیاهان نهاندانه و پاسخ گیاهان به محرک هاست که در قالب متن، تصویر و فعالیت های گوناگون سازماندهی شده است.

مفاهیم اساسی در این کتاب با توجه به بازخوردهای حاصل از آموزش های قبلی، اصلاح و متناسب با یافته های جدید در علم زیست شناسی، به روز شده است.

انتخاب و سازماندهی محتوا در این کتاب با محور قرار دادن انسان انجام شده است. نقطه شروع ارائه محتوا در این کتاب مانند کتاب زیست شناسی ۱ آموخته های دانش آموزان در دوره اول متوسطه بوده است. در ارائه محتوا، اولویت با آنهایی است که دانش آموز در زندگی با آن مواجه می شود. همچنین بر اساس تجربیات به دست آمده از آموزش مفاهیم زیست شناسی، سعی شده تا حد امکان از محتواهای صرفاً دانشی پرهیز شود.

آموزش این کتاب مستلزم به کار گیری ظرفیت دانش آموزان در کلاس درس و مشارکت هر چه بیشتر آنها در امر یادگیری است. معلم در این جایگاه نقش تسهیل گر آموزش و نه انتقال دهنده دانش را ایفا می کند.

در تألیف این کتاب چند نکته مدنظر مؤلفان و شورای تألیف بوده است:

- حجم کتاب با ساعت اختصاص یافته به آن (۴ ساعت در هفته) متناسب باشد.
- مباحث مطرح شده در دوره اول متوسطه در این کتاب کامل تر شده و به صورت تخصصی تر به آن پرداخته شده است، البته سعی شده از تکرار مطالب دوره اول خودداری شود.
- در بعضی از قسمت های کتاب تصاویری از دوره اول متوسطه آمده است. هدف از این کار یادآوری آموخته های قبلی است.
- در بیشتر قسمت های کتاب بحث با طرح سؤالاتی شروع می شود هدف از این روش درگیر کردن دانش آموز با مبحث، بارش فکری و تا حدی مفهوم سازی توسط خود دانش آموز است.
- سعی شده مباحث گیاهی و جانوری جداگانه مطرح شوند تا دانش آموزان انگیزه بیشتری برای یادگیری داشته باشند.

گروه زیست شناسی

■ دفتر تألیف کتاب های درسی عمومی و متوسطه نظری

■ مطالب «بیشتر بدانید» و «واژه شناسی» در این کتاب، صرفاً جنبه آگاهی بخشی

دارد و نباید در ارزشیابی، آزمون ها و کنکور مورد پرسش قرار گیرد.

■ طرح پرسش ها و مسئله های عددی و محاسباتی از مطالب این کتاب در

ارزشیابی آزمون ها و کنکور ممنوع است.





فصل ۱

تنظیم عصبی

متخصصان برای بررسی فعالیت‌های مغز از نوار مغزی استفاده می‌کنند. نوار مغزی، جریان الکتریکی ثبت شده یاخته‌های عصبی (نورون‌های) مغز است. چگونه در یاخته‌های عصبی، جریان الکتریکی ایجاد می‌شود؟ جریان الکتریکی در فعالیت این یاخته‌ها چه نقشی دارد؟ برای پاسخ به این پرسش‌ها باید با ساختار یاخته‌های عصبی و دستگاه عصبی بیشتر آشنا شویم.



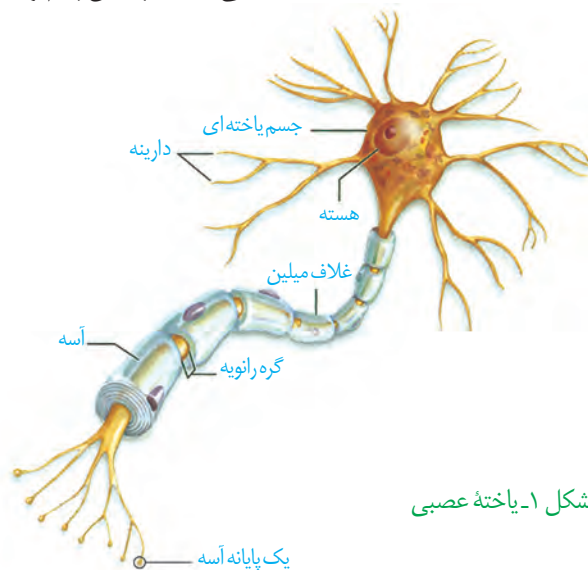
گفتار ۱

یاخته‌های بافت عصبی

می‌دانید بافت عصبی از **یاخته‌های عصبی** و **یاخته‌های پشتیبان (نوروگلیاها)** تشکیل شده است. شکل ۱، یک **یاخته عصبی** را نشان می‌دهد. این **یاخته عصبی** از چه بخش‌هایی تشکیل شده است؟

یاخته‌های عصبی سه عملکرد دارند: این **یاخته‌ها تحریک پذیرند** و **پیام عصبی** تولید می‌کنند؛ آنها این **پیام را هدایت** و به **یاخته‌های دیگر منتقل** می‌کنند.

دارینه (دندریت) رشته‌ای است که پیام‌ها را دریافت و به جسم **یاخته عصبی** وارد می‌کند. **آسه (آکسون)** رشته‌ای است که پیام عصبی را از جسم **یاخته عصبی** تا انتهای خود که **پایانه آسه** نام دارد، هدایت می‌کند. پیام عصبی از محل **پایانه آسه** یک **یاخته عصبی** به **یاخته** دیگر منتقل می‌شود. جسم **یاخته‌ای** محل قرار گرفتن هسته و انجام سوخت‌وساز **یاخته‌های عصبی** است و می‌تواند پیام نیز دریافت کند. **یاخته عصبی** که در شکل ۱ می‌بینید، پوششی به نام **غلاف میلین** دارد. **غلاف میلین**، رشته‌های آسه و دارینه بسیاری از **یاخته‌های عصبی** را می‌پوشاند و آنها را عایق‌بندی می‌کند. **غلاف میلین** پیوسته نیست و در بخش‌هایی از رشته قطع می‌شود. این بخش‌ها را **گره رانویه** می‌نامند که با نقش آنها در ادامه درس، آشنا خواهید شد.

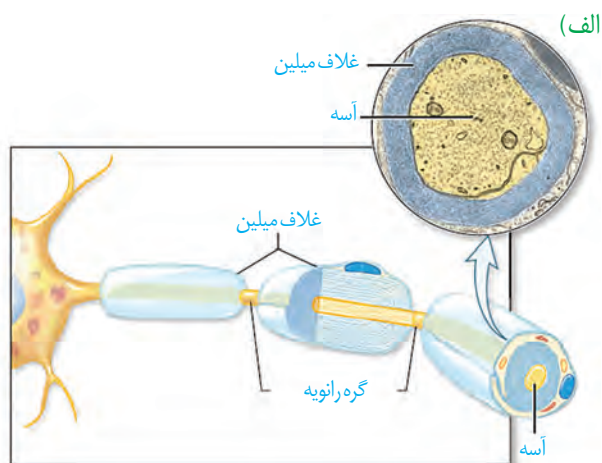
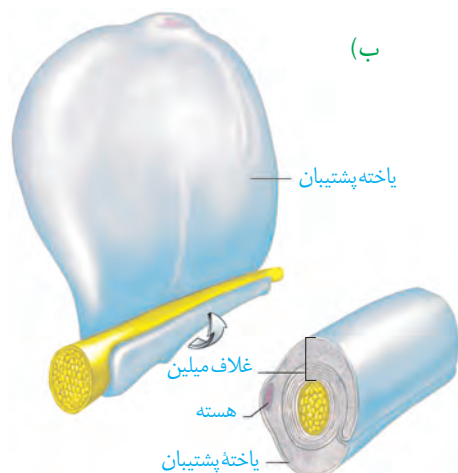


شکل ۱- یاخته عصبی

غلاف میلین را **یاخته‌های پشتیبان بافت عصبی** می‌سازند. شکل ۲ را ببینید، **یاخته پشتیبان** به دور رشته عصبی می‌پیچد و **غلاف میلین** را به وجود می‌آورد.

تعداد **یاخته‌های پشتیبان** چند برابر **یاخته‌های عصبی** است و انواع گوناگونی دارند. این **یاخته‌ها** داربست‌هایی را برای **استقرار یاخته‌های عصبی** ایجاد می‌کنند؛ آنها در دفاع از **یاخته‌های عصبی** و حفظ هم‌ایستایی مایع اطراف آنها (مثل حفظ مقدار طبیعی یون‌ها) نیز نقش دارند.

شکل ۲- الف) غلاف میلین
ب) چگونگی ساخت آن



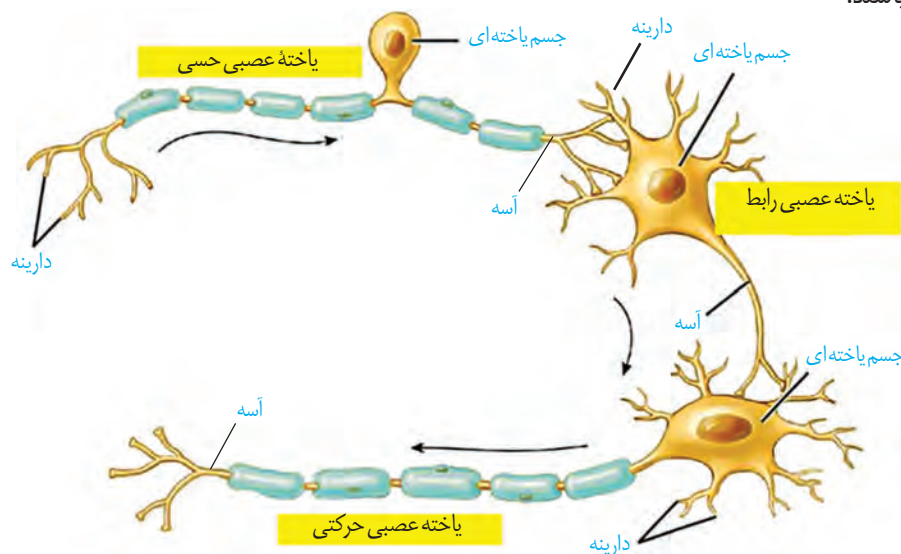
انواع یاخته‌های عصبی

واژه‌شناسی

آسه (axon / آکسون) هر دو کلمه به معنی محور است. آسه از کلمه آس گرفته شده است که به محور سنگ آسیا گفته می‌شود.

دارینه (dendrite / دندریت) هر دو کلمه به معنی درخت و درخت‌وار است. دارینه از کلمه دار به معنی درخت و (ینه) که پسوند شباهت است ساخته شده که در کل، آنچه شبیه درخت است معنی می‌دهد.

شکل ۳، انواع یاخته‌های عصبی را نشان می‌دهد. یاخته‌های عصبی پیام‌ها را به سوی بخش مرکزی دستگاه عصبی (مغز و نخاع) می‌آورند. یاخته‌های عصبی حرکتی پیام‌ها را از بخش مرکزی دستگاه عصبی به سوی اندام‌ها (مانند ماهیچه‌ها) می‌برند. نوع سوم یاخته‌های عصبی شکل ۳، یاخته‌های عصبی رابط‌اند که در مغز و نخاع قرار دارند. این یاخته‌ها ارتباط لازم بین یاخته‌های عصبی را فراهم می‌کنند. هر سه نوع یاخته عصبی می‌توانند میلیون‌ها یا بدون میلیون باشند.



شکل ۳- انواع یاخته‌های عصبی

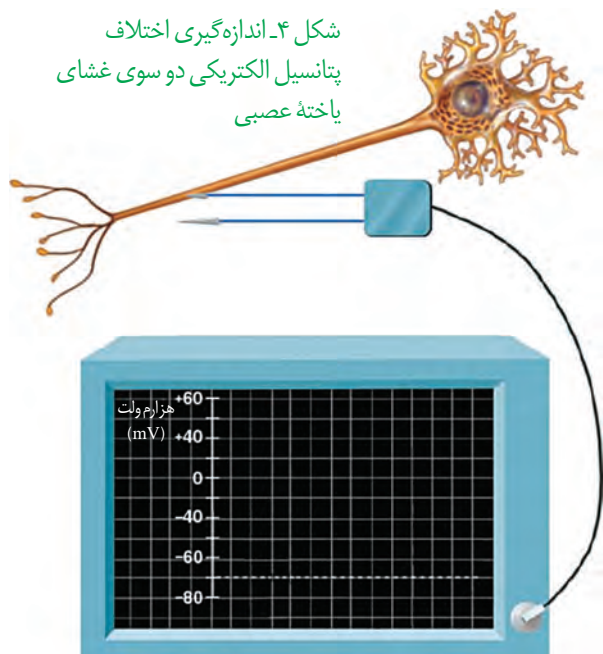
فعالیت ۱

ساختار و کار سه نوع یاخته عصبی را که در شکل ۳ می‌بینید، مقایسه کنید.

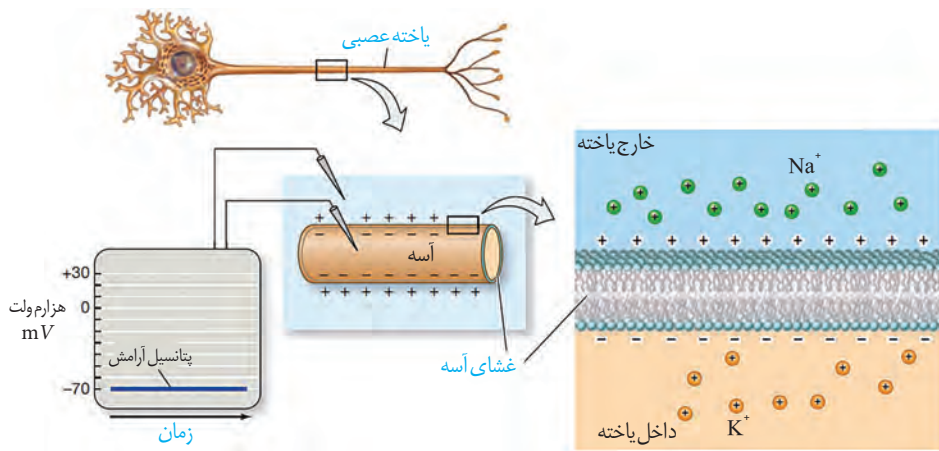
پیام عصبی چگونه ایجاد می‌شود؟

پیام عصبی در اثر تغییر مقدار یون‌ها در دو سوی غشای یاخته عصبی به وجود می‌آید. از آنجا که مقدار یون‌ها در دو سوی غشا، یکسان نیستند، بار الکتریکی دو سوی غشای یاخته عصبی، متفاوت است و در نتیجه بین دو سوی آن، اختلاف پتانسیل الکتریکی وجود دارد. شکل ۴، اندازه‌گیری این اختلاف پتانسیل را نشان می‌دهد.

شکل ۴- اندازه‌گیری اختلاف پتانسیل الکتریکی دو سوی غشای یاخته عصبی



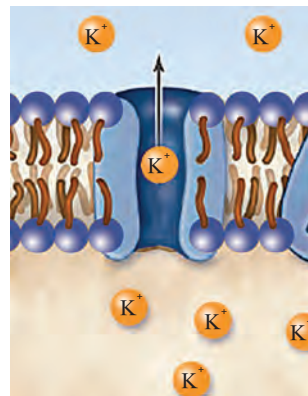
پتانسیل آرامش: وقتی یاخته عصبی فعالیت عصبی ندارد (حالت آرامش)، در دو سوی غشای آن اختلاف پتانسیلی در حدود ۷۰- میلی‌ولت برقرار است (شکل ۵). این اختلاف پتانسیل را **پتانسیل آرامش** می‌نامند. چگونه این اختلاف پتانسیل ایجاد می‌شود؟ برای پاسخ به این پرسش، درباره یاخته‌های عصبی باید بیشتر بدانیم.



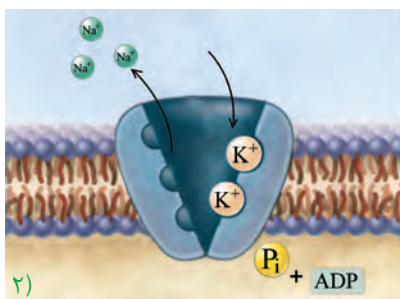
شکل ۵- پتانسیل آرامش. در شکل، یون‌های پتاسیم در بیرون و یون‌های سدیم در درون یاخته نشان داده نشده‌اند.

در حالت آرامش، مقدار یون‌های سدیم در بیرون یاخته عصبی زنده از داخل آن بیشتر است و در مقابل، مقدار یون‌های پتاسیم درون یاخته، از بیرون آن بیشتر است. در غشای یاخته‌های عصبی، مولکول‌های پروتئینی وجود دارند که به عبور یون‌های سدیم و پتاسیم از غشا کمک می‌کنند. یکی از این پروتئین‌ها، **کانال‌های نشتی** هستند که یون‌ها می‌توانند به روش انتشار تسهیل شده از آنها عبور کنند (شکل ۶- الف). از راه این کانال‌ها، یون‌های پتاسیم، خارج و یون‌های سدیم به درون یاخته عصبی وارد می‌شوند. تعداد یون‌های پتاسیم خروجی بیشتر از یون‌های سدیم ورودی است؛ زیرا غشا به این یون، نفوذپذیری بیشتری دارد.

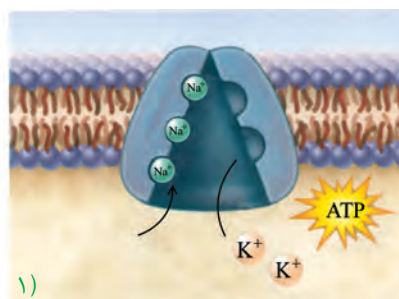
پمپ سدیم - پتاسیم، پروتئین دیگری است که در سال گذشته با آن آشنا شدید. در هر بار فعالیت این پمپ، سه یون سدیم از یاخته عصبی خارج و دو یون پتاسیم وارد آن می‌شوند. این پمپ از انرژی مولکول ATP استفاده می‌کند (شکل ۶- ب).



(الف)



۲)



۱)

شکل ۶- الف) کانال نشتی که عبور یون‌های پتاسیم از آن نشان داده شده است. ب) چگونگی کار پمپ سدیم-پتاسیم

(ب)

در گروه خود درباره پرسش‌های زیر گفت و گو و نتیجه را به کلاس گزارش کنید.

۱- کار پمپ سدیم-پتاسیم و کانال‌های نشستی را با هم مقایسه کنید.

۲- چرا در حالت آرامش، بار مثبت درون یاخته‌های عصبی از بیرون آنها کمتر است؟

بیشتر بدانید

در دهه ۱۹۵۰ دو دانشمند به نام‌های هاجکین^۱ و هاگسلی^۲ برای بررسی تغییرات الکتریکی غشای یاخته‌های عصبی از آسه قطور نرم‌تن مرکب استفاده کردند. آنان پتانسیل الکتریکی غشای آسه را اندازه‌گیری و ترکیب شیمیایی درون آسه و اثر یون‌های سدیم و پتاسیم بر فعالیت‌های الکتریکی آن را نیز بررسی کردند. حاصل کار آنها یافته‌های جدیدی درباره عملکرد غشای تحریک‌پذیر یاخته عصبی به دنیای علم عرضه و جایزه نوبل رشته فیزیولوژی - پزشکی سال ۱۹۶۳ را نصیب این دانشمندان کرد.

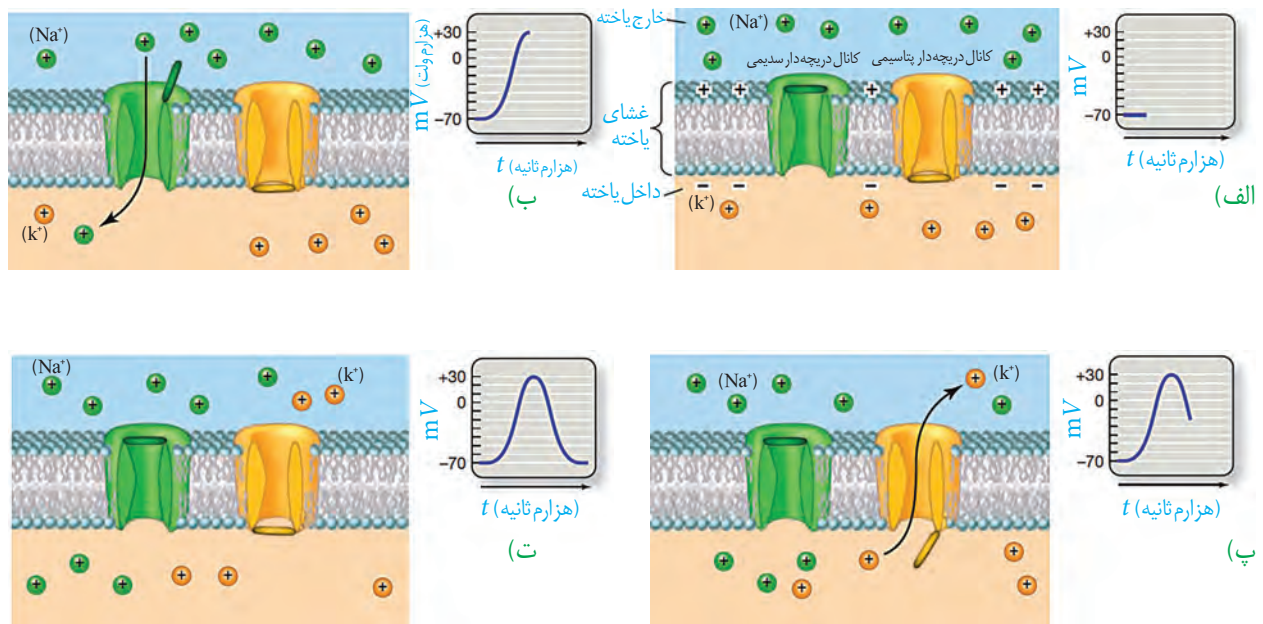
۱- Alan Lloyd Hodgkin

۲- Andrew Fielding Huxley

پتانسیل عمل: دانستید که در حالت آرامش، بار مثبت درون یاخته عصبی از بیرون آن کمتر است. وقتی یاخته عصبی تحریک می‌شود، در محل تحریک، اختلاف پتانسیل دو سوی غشای آن به طور ناگهانی تغییر می‌کند؛ داخل یاخته از بیرون آن، مثبت‌تر می‌شود و پس از زمان کوتاهی، اختلاف پتانسیل دو سوی غشا، دوباره به حالت آرامش برمی‌گردد. این تغییر را **پتانسیل عمل** می‌نامند. هنگام پتانسیل عمل، در یاخته عصبی چه اتفاقی می‌افتد؟

در غشای یاخته‌های عصبی، پروتئین‌هایی به نام **کانال‌های دریچه‌دار** وجود دارند که با تحریک یاخته عصبی باز می‌شوند و یون‌ها از آنها عبور می‌کنند. وقتی غشای یاخته تحریک می‌شود، ابتدا **کانال‌های دریچه‌دار سدیمی** باز می‌شوند و یون‌های سدیم فراوانی وارد یاخته و بار الکتریکی درون آن، مثبت‌تر می‌شود. پس از زمان کوتاهی این کانال‌ها بسته می‌شوند و **کانال‌های دریچه‌دار پتاسیمی** باز و یون‌های پتاسیم خارج می‌شوند. این کانال‌ها هم پس از مدت کوتاهی بسته می‌شوند (شکل ۷). به این ترتیب، دوباره پتانسیل غشا به پتانسیل آرامش (-۷۰) بر می‌گردد.

فعالیت بیشتر پمپ سدیم-پتاسیم موجب می‌شود غلظت یون‌های سدیم و پتاسیم در دو سوی غشا دوباره به حالت آرامش باز گردد.

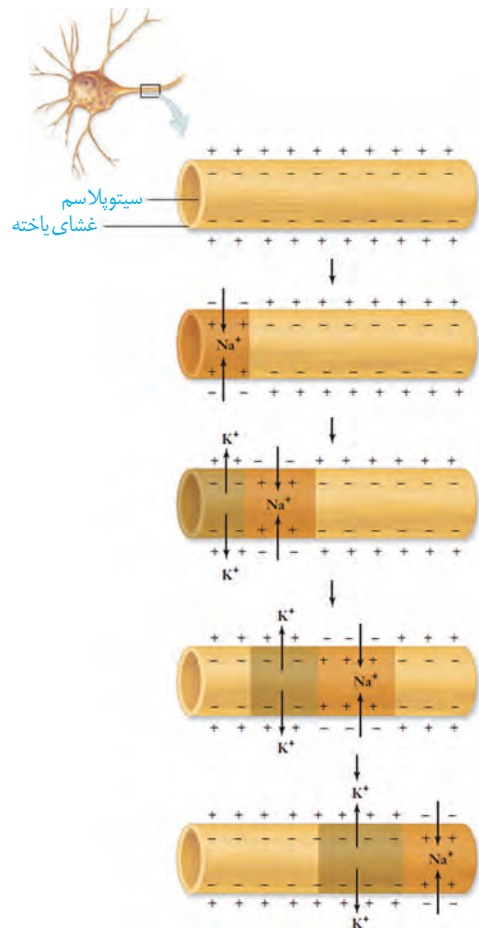


شکل ۷- چگونگی ایجاد پتانسیل عمل؛ در شکل یون‌های پتاسیم بیرون و یون‌های سدیم درون یاخته، نشان داده نشده‌اند.

وقتی پتانسیل عمل در یک نقطه از یاخته عصبی ایجاد می‌شود، نقطه به نقطه پیش می‌رود تا به انتهای رشته عصبی برسد. این جریان را پیام عصبی می‌نامند (شکل ۸). رشته عصبی آسه یا دارینه بلند است.

گره‌های رانویه چه نقشی دارند؟

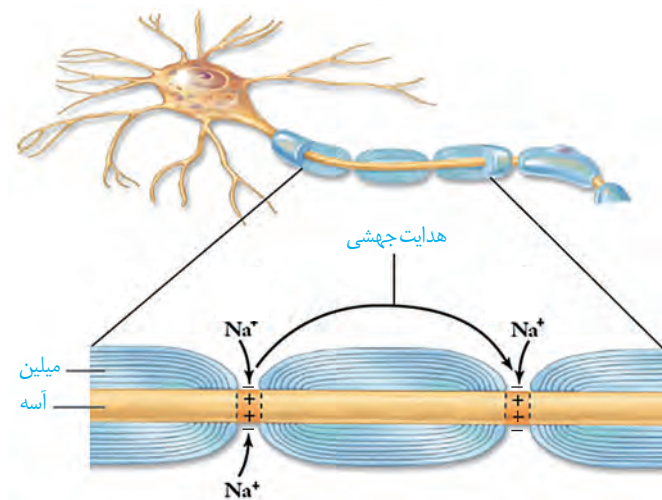
هدایت پیام عصبی در رشته‌های عصبی میلین دار از رشته‌های بدون میلین هم قطر سریع‌تر است؛ درحالی که میلین عایق است و از عبور یون‌ها از غشا جلوگیری می‌کند. دانستید در یاخته‌های عصبی میلین دار، گره‌های رانویه وجود دارد. در محل این گره‌ها، میلین وجود ندارد و رشته عصبی با محیط بیرون از یاخته ارتباط دارد. بنابراین، در این گره‌ها پتانسیل عمل ایجاد می‌شود و پیام عصبی درون رشته عصبی از یک گره به گره دیگر هدایت می‌شود. در این حالت به نظر می‌رسد پیام عصبی از یک گره به گره دیگر می‌جهد. به همین علت، این هدایت را هدایت جهشی می‌نامند (شکل ۹). در ماهیچه‌های اسکلتی سرعت ارسال پیام اهمیت زیادی دارد. بنابراین، نورون‌های حرکتی آنها میلین دار است. کاهش یا افزایش میزان میلین به بیماری منجر می‌شود؛ مثلاً در بیماری ام.اس (مالتیپل اسکلروزیس) یاخته‌های پشتیبانی که در سیستم عصبی مرکزی میلین می‌سازند، از بین می‌روند. در نتیجه ارسال پیام‌های عصبی به درستی انجام نمی‌شود. بینایی و حرکت، مختل و فرد دچار بی‌حسی و لرزش می‌شود.



شکل ۸- هدایت پیام عصبی

بیشتر بدانید

سرعت هدایت پیام در رشته‌های عصبی از 0.2 m/s در رشته‌های نازک بدون میلین تا 120 m/s در رشته‌های میلین دار قطور متفاوت است.



شکل ۹- هدایت جهشی در نورون میلین دار

پژوهشگران بر این باورند که در گره‌های رانویه، تعداد زیادی کانال دریچه‌دار وجود دارد، ولی در فاصله بین گره‌ها، این کانال‌ها وجود ندارند. این موضوع با هدایت جهشی چه ارتباطی دارد؟

یاخته‌های عصبی، پیام عصبی را منتقل می‌کنند

بیشتر بدانید

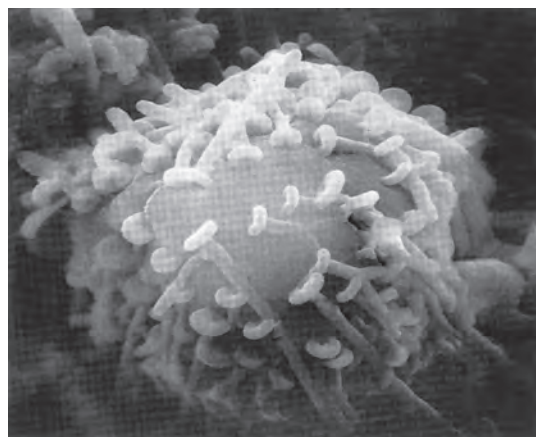
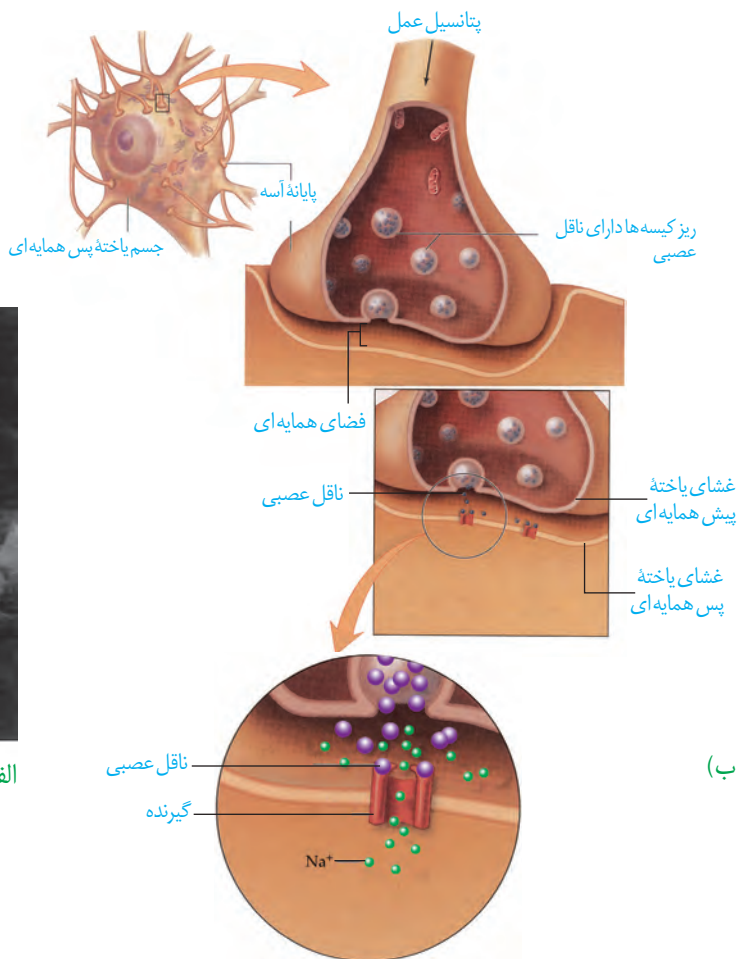
برخی موادمی‌توانند از باز شدن کانال‌های دریچه‌دار سدیمی و در نتیجه هدایت پیام عصبی، جلوگیری کنند. این مواد، بی‌حس‌کننده‌های موضعی نام‌دارند.

واژه‌شناسی

همایه (synapse / سیناپس) هر دو کلمه به معنای به هم پیوستن و به هم متصل شدن هستند. همایه از فعل به هم آمدن و در معنای به هم پیوستن ساخته شده است.

دانستید پیام عصبی در طول آسه هدایت می‌شود تا به پایانه آن برسد. همان طور که در شکل ۱۰ می‌بینید، یاخته‌های عصبی به یکدیگر نجسبیده‌اند؛ پس چگونه پیام عصبی از یک یاخته عصبی به یاخته دیگر منتقل می‌شود؟

یاخته‌های عصبی با یکدیگر ارتباط ویژه‌ای به نام **همایه (سیناپس)** برقرار می‌کنند. بین این یاخته‌ها در محل همایه، فضایی به نام **فضای همایه‌ای** وجود دارد. برای انتقال پیام از یاخته عصبی انتقال دهنده یا یاخته عصبی **پیش همایه‌ای**، ماده‌ای به نام **ناقل عصبی** در فضای همایه آزاد می‌شود. این ماده بر یاخته دریافت کننده، یعنی یاخته **پس همایه‌ای** اثر می‌کند. ناقل عصبی در یاخته‌های عصبی ساخته و درون ریز کیسه‌ها ذخیره می‌شود. این کیسه‌ها در طول آسه هدایت می‌شوند تا به پایانه آن برسند. وقتی پیام عصبی به پایانه آسه می‌رسد، این کیسه‌ها با برون رانی، ناقل را در فضای همایه آزاد می‌کنند (شکل ۱۰). یاخته‌های عصبی با یاخته‌های ماهیچه‌ای نیز همایه دارند و با ارسال پیام موجب انقباض آنها می‌شوند.



(الف)

شکل ۱۰- الف) تصویر همایه با میکروسکوپ الکترونی
ب) آزاد شدن ناقل عصبی و اثر آن بر یاخته پس همایه‌ای

بیشتر بدانید

در بخش‌های مختلف دستگاه عصبی، مواد گوناگونی به‌عنوان ناقل عصبی فعالیت می‌کنند. دوپامین، سروتونین، هیستامین، آمینو اسیدهایی مانند گاما آمینو بوتیریک اسید، گلوتامات، گلیسین و گاز نیتریک اکساید از این موادند. معمولاً گاما آمینو بوتیریک اسید و گلیسین، مهارکننده و گلوتامات تحریک‌کننده‌اند.

ناقل عصبی پس از رسیدن به غشای یاختهٔ پس‌همایه‌ای، به پروتئینی به نام گیرنده متصل می‌شود. این پروتئین همچنین کانالی است که با اتصال ناقل عصبی به آن باز می‌شود. به این ترتیب، ناقل عصبی با تغییر نفوذپذیری غشای یاختهٔ پس‌همایه‌ای به یون‌ها، پتانسیل الکتریکی این یاخته را تغییر می‌دهد. براساس اینکه ناقل عصبی تحریک‌کننده یا بازدارنده باشد، یاختهٔ پس‌همایه‌ای تحریک، یا فعالیت آن مهار می‌شود.

پس از انتقال پیام، مولکول‌های ناقل باقی‌مانده، باید از فضای همایه‌ای تخلیه شوند تا از انتقال بیش از حد پیام جلوگیری و امکان انتقال پیام‌های جدید فراهم شود. این کار با جذب دوبارهٔ ناقل به یاختهٔ پیش‌همایه‌ای انجام می‌شود، همچنین آنزیم‌هایی ناقل عصبی را تجزیه می‌کنند. تغییر در میزان طبیعی ناقل‌های عصبی از دلایل بیماری و اختلال در کار دستگاه عصبی است.

بیشتر بدانید

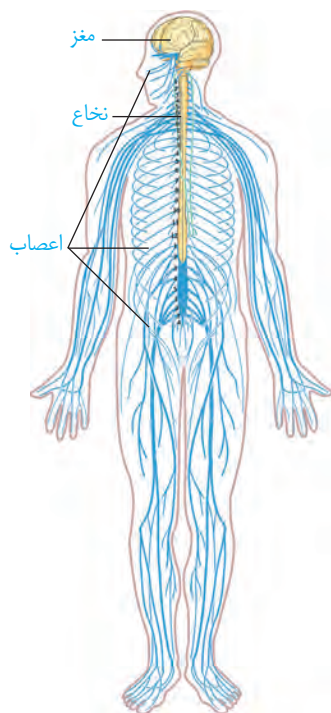
رعشه (پارکینسون): در این بیماری، یاخته‌های بخشی از مغز که ناقل عصبی دوپامین ترشح می‌کنند، تخریب می‌شوند. در نتیجه ماهیچه‌های بدن سفت و حرکات کند می‌شود؛ دست و پای فرد در حالت استراحت لرزش دارند. برای بهبود اختلال‌های حرکتی این بیماری، دارویی تجویز می‌کنند که در مغز به ناقل عصبی دوپامین تبدیل می‌شود.

آلزایمر: بیماری آلزایمر یک نوع اختلال پیش‌رونده، تحلیل‌برنده و کشندهٔ مغز است که به زوال عقل و ناتوانی فرد در انجام فعالیت‌های روزانه منجر می‌شود. در این بیماری، یاخته‌های عصبی مغز بر اثر تجمع نوعی پروتئین تخریب می‌شوند و میزان ناقل عصبی استیل‌کولین کاهش می‌یابد. فراموشی، ناتوانی در تکلم، اختلال در حس به‌ویژه در بینایی و راه رفتن، از عوارض بیماری آلزایمر است. با پیشرفت بیماری، فرد نیازمند مراقبت مداوم خواهد بود. تجویز دارو می‌تواند پیشرفت بیماری را آهسته کند. فعالیت بدنی و ورزش منظم، تغذیه سالم، معاشرت با دیگران، فعالیت‌های فکری مانند حفظ کردن شعر، آموختن یک زبان جدید به پیشگیری از بیماری آلزایمر کمک می‌کند.

ثبت نوار مغزی

(الکتروانسفالوگرافی): فعالیت الکتریکی مغز را می‌توان با دستگاه الکتروانسفالوگراف ثبت و بررسی کرد. الکترودهای دستگاه را به پوست سر متصل می‌کنند. جریان الکتریکی مغز به شکل منحنی‌های نوار مغز (الکتروانسفالوگرام) روی نوار کاغذی، یا صفحه نمایش دستگاه ثبت می‌شود. متخصصان از این منحنی‌ها برای بررسی فعالیت‌های مغز و تشخیص بیماری‌های آن استفاده می‌کنند.

۱ - Electro Encephalo Graphy (EEG)



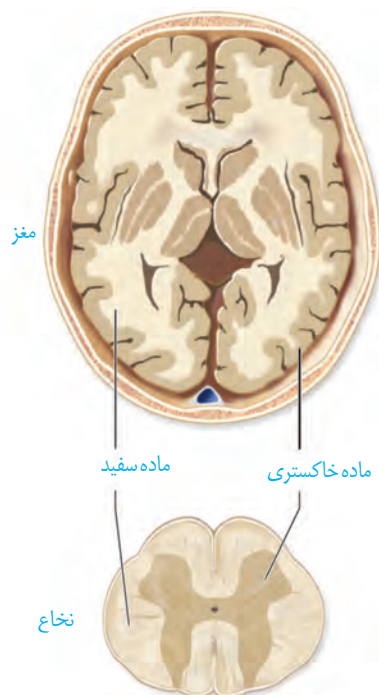
شکل ۱۱- دستگاه عصبی مرکزی
(رنگ زرد) و محیطی (رنگ آبی)

شکل ۱۲- برش عرضی مغز و نخاع

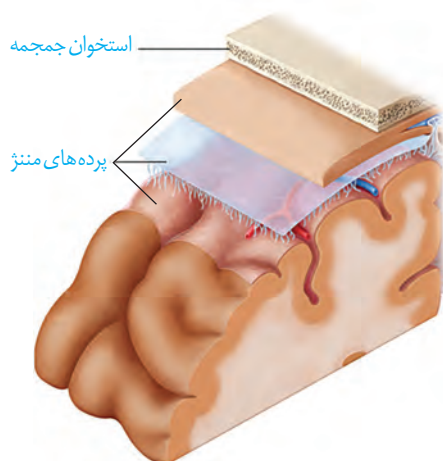
در گذشته آموختید که دستگاه عصبی دو بخش مرکزی و محیطی دارد (شکل ۱۱). به نظر شما چرا دو بخش این دستگاه را مرکزی و محیطی نامیده اند؟

دستگاه عصبی مرکزی

دستگاه عصبی مرکزی شامل مغز و نخاع است که مراکز نظارت بر فعالیت‌های بدن اند. این دستگاه، اطلاعات دریافتی از محیط و درون بدن را تفسیر می‌کند و به آنها پاسخ می‌دهد. مغز و نخاع از دو بخش **ماده خاکستری و ماده سفید** تشکیل شده‌اند. شکل ۱۲ را ببینید و محل قرار گرفتن ماده خاکستری و ماده سفید در مغز و نخاع را مقایسه کنید. ماده خاکستری شامل جسم یاخته‌های عصبی و رشته‌های عصبی بدون میلین و ماده سفید، اجتماع رشته‌های میلین دار است.



شکل ۱۳- پرده‌های مننژ



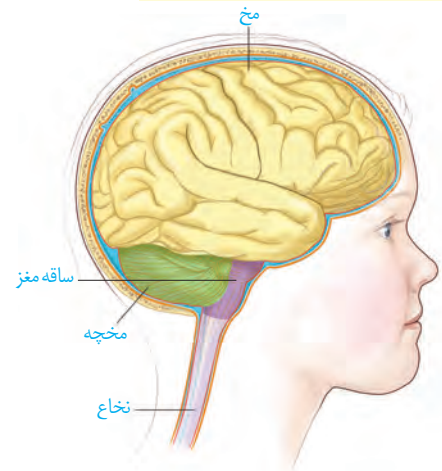
حفاظت از مغز و نخاع: علاوه بر استخوان‌های جمجمه

و ستون مهره، سه پرده از نوع بافت پیوندی به نام **پرده‌های مننژ** از مغز و نخاع حفاظت می‌کنند (شکل ۱۳). فضای بین پرده‌ها را **مایع مغزی-نخاعی** پر کرده است که مانند یک ضربه گیر، دستگاه عصبی مرکزی را در برابر ضربه حفاظت می‌کند.

در سال گذشته با انواع مویرگ‌ها آشنا شدید. مویرگ‌های دستگاه عصبی مرکزی از کدام نوع اند و چه ویژگی دارند؟ یاخته‌های بافت پوششی مویرگ‌های مغز و نخاع به یکدیگر چسبیده‌اند و بین

بیشتر بدانید

مننژیت: التهاب پرده‌های مننژ، مننژیت نام دارد و از علامت‌های آن سردرد، تب و خشکی گردن است. مننژیت در اثر عفونت‌های ویروسی یا باکتریایی ایجاد می‌شود.



شکل ۱۴ - سه بخش اصلی مغز

مغز

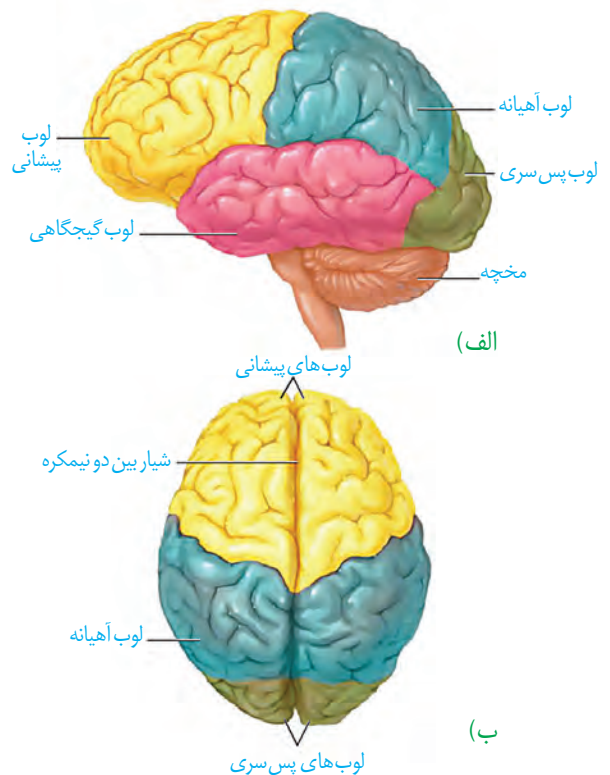
می‌دانید مغز از سه بخش اصلی مخ، مخچه و ساقه مغز تشکیل شده است (شکل ۱۴). در ادامه با ساختار و کار بخش‌های تشکیل دهنده مغز بیشتر آشنا می‌شوید.

نیمکره‌های مخ: در انسان بیشتر حجم مغز را مخ تشکیل می‌دهد. دو نیمکره مخ با رشته‌های عصبی به هم متصل‌اند. رابط‌های سفید رنگ به نام رابط پینه‌ای و سه گوش از این رشته‌های عصبی‌اند که هنگام تشریح مغز آنها را می‌بینید. دو نیمکره به طور هم‌زمان از همه بدن، اطلاعات را دریافت و پردازش می‌کنند تا بخش‌های مختلف بدن به طور هماهنگ فعالیت کنند. هر نیمکره کارهای اختصاصی نیز دارد؛ مثلاً بخش‌هایی از نیمکره چپ به توانایی در ریاضیات و استدلال مربوط‌اند و نیمکره راست در مهارت‌های هنری تخصص یافته است.

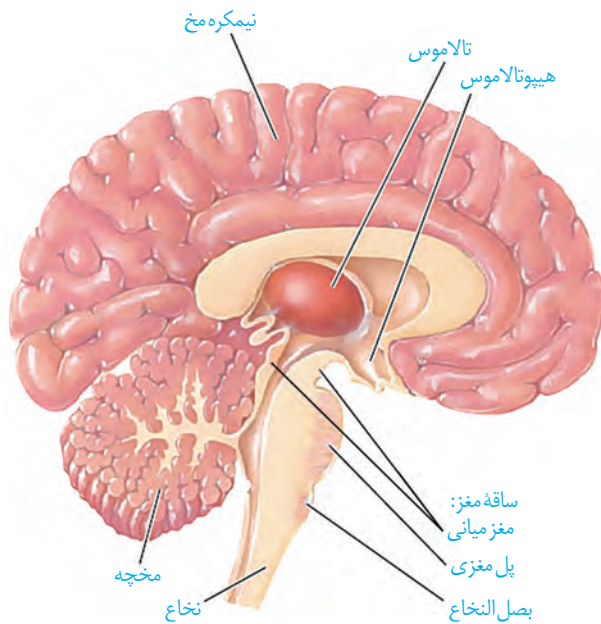
بخش خارجی نیمکره‌های مخ، یعنی قشر مخ از ماده خاکستری است و سطح وسیعی را با ضخامت چند میلی‌متر تشکیل می‌دهد. قشر مخ، چین خورده است و شیارهای متعددی دارد. شکل ۱۵ را ببینید، شیارهای عمیق هر یک از نیمکره‌های مخ را به چهار لوب پس سری، گیجگاهی، آهیانه و پیشانی تقسیم می‌کنند. قشر مخ شامل بخش‌های حسی، حرکتی و ارتباطی است. بخش‌های حسی، پیام‌های حسی را دریافت می‌کنند. بخش‌های حرکتی به ماهیچه‌ها و غده‌ها، پیام می‌فرستند. بخش‌های ارتباطی بین بخش‌های حسی و حرکتی ارتباط برقرار می‌کنند. قشر مخ، جایگاه پردازش نهایی اطلاعات ورودی به مغز است که نتیجه آن یادگیری، تفکر و عملکرد هوشمندانه است.

ساقه مغز: ساقه مغز از مغز میانی، پل مغزی و بصل النخاع تشکیل شده است (شکل ۱۶).

مغز میانی: در بالای پل مغزی قرار دارد و یاخته‌های عصبی آن، در فعالیت‌های مختلف از جمله شنوایی، بینایی و حرکت نقش دارند. برجستگی‌های چهارگانه بخشی از مغز میانی‌اند که در فعالیت تشریح مغز می‌توانید آنها را ببینید.



شکل ۱۵ - لوب‌های مخ (الف) از نیم‌رخ (ب) از بالا



شکل ۱۶ - نیمه چپ مغز

پل مغزی: در تنظیم فعالیت‌های مختلف از جمله تنفس، ترشح بزاق و اشک نقش دارد.

بصل النخاع: پایین‌ترین بخش مغز است که در بالای نخاع قرار دارد. بصل النخاع، فشار خون و ضربان قلب را تنظیم می‌کند و مرکز انعکاس‌هایی مانند عطسه، بلع، سرفه و مرکز اصلی تنظیم تنفس است. **مخچه:** مخچه در پشت ساقه مغز قرار دارد و شامل دو نیمکره و بخشی به نام **کر مینه** در وسط آنهاست. مخچه مرکز تنظیم وضعیت بدن و تعادل آن است. مخچه به طور پیوسته از بخش‌های دیگر مغز، نخاع و اندام‌های حسی، مانند گوش‌ها پیام را دریافت و بررسی می‌کند تا فعالیت ماهیچه‌ها و حرکات بدن را در حالت‌های گوناگون به کمک مغز و نخاع هماهنگ کند.

فعالیت ۵

با استفاده از آنچه آموختید در گروه خود درباره پرسش‌های زیر گفت‌وگو و پاسخ را به کلاس گزارش کنید.

- ۱- هنگام ورزش چگونه تعادل خود را حفظ می‌کنید؟
- ۲- هنگام راه رفتن با چشمان بسته، چه تغییری در راه رفتن ایجاد می‌شود؟ علت تغییر را توضیح دهید.
- ۳- چگونه ممکن است با وجود سلامت کامل چشم‌ها، فرد قادر به دیدن نباشد؟

ساختارهای دیگر مغز

بیشتر بدانید

استخراج مایع مغزی - نخاعی:

متخصصان می‌توانند با استفاده از سرنگ مقداری از مایع مغزی - نخاعی را از بین مهره‌های کمر خارج کنند و با بررسی آن بیماری‌های احتمالی دستگاه عصبی را تشخیص دهند یا از این راه، داروهای مورد نیاز را به بدن وارد کنند.

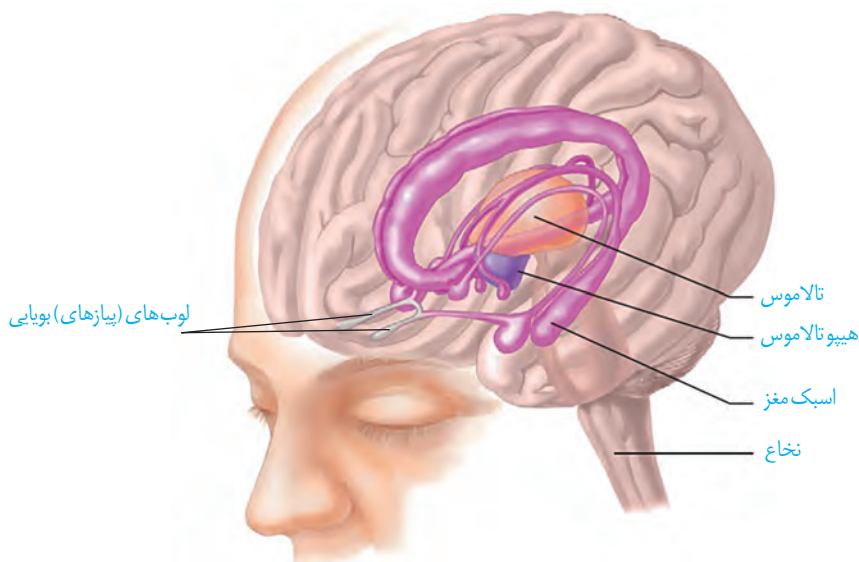
واژه‌شناسی

کناره‌ای (Limbic / لیمبیک) این کلمه از ریشه فرانسوی Limbe به معنای حاشیه و کناره گرفته شده است و واژه کناره‌ای همان معنا را می‌دهد.

تالاموس‌ها محل پردازش اولیه و تقویت اطلاعات حسی اند. اغلب پیام‌های حسی در تالاموس گرد هم می‌آیند تا به بخش‌های مربوط در قشر مخ، جهت پردازش نهایی فرستاده شوند. **هیپوتالاموس** که در زیر تالاموس قرار دارد، دمای بدن، تعداد ضربان قلب، فشار خون، تشنگی، گرسنگی و خواب را تنظیم می‌کند.

سامانه کناره‌ای (لیمبیک) که با قشر مخ، تالاموس و هیپوتالاموس ارتباط دارد. سامانه کناره‌ای در حافظه و احساساتی مانند ترس، خشم و لذت نقش ایفا می‌کند (شکل ۱۶).

اسبک مغز (هیپوکامپ) یکی از اجزای سامانه کناره‌ای است که در تشکیل حافظه و یادگیری نقش دارد. حافظه افرادی که اسبک مغز آنان آسیب دیده، یا با جراحی برداشته شده است، دچار اختلال می‌شود. این افراد نمی‌توانند نام افراد جدید را حتی اگر هر روز با آنها در تماس باشند، به خاطر بسپارند. نام‌های جدید، حداکثر فقط برای چند دقیقه در ذهن این افراد باقی می‌مانند. البته آنان برای به یاد آوردن خاطرات مربوط به قبل از آسیب دیدگی، مشکل چندانی ندارند. پژوهشگران بر این باورند که اسبک مغز در ایجاد حافظه کوتاه مدت و تبدیل آن به حافظه بلند مدت نقش دارد؛ مثلاً وقتی شماره تلفنی را می‌خوانیم، یا می‌شنویم، ممکن است پس از زمان کوتاهی آن را از یاد ببریم، ولی وقتی آن را بارها به کار ببریم، در حافظه بلند مدت ذخیره می‌شود.



بیشتر بدانید

کُما: کما حالت بیهوشی عمیق است که در آن، فرد زنده است، ولی نمی‌تواند حرکت کند و به محرک‌های محیطی پاسخ هدفمند بدهد. کُما معمولاً با آسیب وسیع مغز به ویژه بخش‌هایی از آن که با حفظ هوشیاری در ارتباط اند همراه است. فرد در حالت کما ممکن است بهبود پیدا کند، یا به حالت زندگی نباتی برود.

شکل ۱۷- سامانه کناره‌ای (بخش‌های بنفش رنگ)

بیشتر بدانید

زندگی نباتی: در زندگی نباتی بخش خودمختار مغز فعالیت دارد؛ ضربان قلب، تنفس و فشار خون تنظیم می‌شود و فرد حرکات غیرارادی نیز نشان می‌دهد؛ اما به محرک‌های محیطی پاسخ معناداری نمی‌دهد؛ صداهایی تولید می‌کند ولی نمی‌تواند سخن بگوید؛ فعالیتی انجام دهد و نیازهای خود را برآورده کند.

بیشتر بدانید

مرگ مغزی: چهار رگ اصلی به مغز خون‌رسانی می‌کنند، اگر این رگ‌ها بسته شوند، خون‌رسانی به مغز مختل می‌شود و اکسیژن‌رسانی به آن انجام نمی‌شود، در نتیجه مغز به‌طور غیر قابل برگشتی تخریب می‌شود. در نوار مغزی هیچ علامتی از فعالیت مغز دیده نمی‌شود. فرد به محرک‌ها هیچ پاسخی نمی‌دهد؛ حتی بدون دستگاه تنفس مصنوعی نمی‌تواند نفس بکشد. البته در این حالت، اندام‌های دیگر بدن مانند قلب، کبد و کلیه‌ها برای مدتی فعال اند که در صورت اهدای آنها زندگی افراد دیگری نجات پیدا می‌کند.

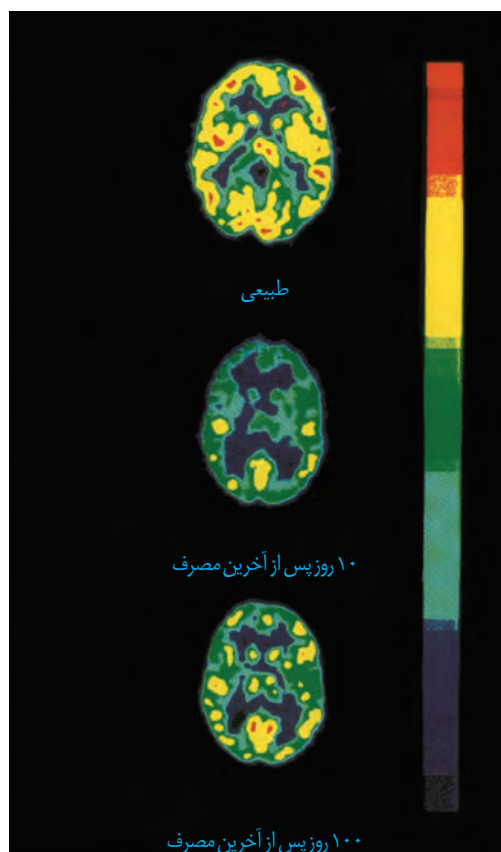
اعتیاد: اعتیاد وابستگی به مصرف یک ماده، یا انجام یک رفتار است که ترک آن مشکلات جسمی و روانی برای فرد به وجود می‌آورد. وابستگی به اینترنت یا بازی‌های رایانه‌ای نیز نمونه‌ای از اعتیاد‌های رفتاری‌اند. مواد گوناگون مانند الکل، کوکائین، نیکوتین، هروئین، مورفین و حتی کافئین قهوه اعتیادآورند.

اعتیاد نه فقط سلامت جسمی و روانی فرد مصرف‌کننده، بلکه سلامت خانواده او و نیز افراد دیگر اجتماع را به خطر می‌اندازد.

مواد اعتیادآور و مغز: نخستین تصمیم برای مصرف مواد اعتیادآور در اغلب افراد اختیاری

است، اما استفاده مکرر از این مواد، تغییراتی را در مغز ایجاد می‌کند که فرد دیگر نمی‌تواند با میل شدید برای مصرف مقابله کند. این تغییرات ممکن است دائمی باشند. به همین علت، اعتیاد را بیماری برگشت‌پذیر می‌دانند که حتی سال‌ها پس از ترک مواد، فرد در خطر مصرف دوباره قرار دارد. مواد اعتیادآور بر سامانه کناره‌ای اثر می‌گذارند و موجب آزاد شدن ناقل‌های عصبی از جمله دوپامین می‌شوند که در فرد احساس لذت و سرخوشی ایجاد می‌کند. در نتیجه فرد، میل شدیدی به مصرف دوباره آن ماده دارد. با ادامه مصرف، دوپامین کمتری آزاد می‌شود و به فرد احساس کسالت، بی‌حوصلگی و افسردگی دست می‌دهد. برای رهایی از این حالت و دستیابی به سرخوشی نخستین، فرد مجبور است، ماده اعتیادآور بیشتری مصرف کند. مواد اعتیادآور بر بخش‌هایی از قشر مخ نیز تأثیر می‌گذارند و توانایی قضاوت، تصمیم‌گیری و خودکنترلی فرد را کاهش می‌دهند. این اثرات به‌ویژه در مغز نوجوانان شدیدتر است؛ زیرا مغز آنان در حال رشد است. مصرف مواد اعتیادآور ممکن است تغییرات برگشت‌ناپذیری را در مغز ایجاد کند. شکل ۱۸ اثر یک ماده اعتیادآور بر فعالیت مغز را با بررسی مصرف‌گلوکز در آن نشان می‌دهد.

شکل ۱۸ - تصویرها مصرف گلوکز را در مغز فرد سالم و فرد مصرف کننده کوکائین نشان می دهند. رنگ های آبی تیره و روشن مصرف کم گلوکز و رنگ زرد و قرمز مصرف زیاد آن را نشان می دهند. توجه کنید بهبود فعالیت مغز به زمان طولانی نیاز دارد؛ بخش پیشین مغز بهبود کمتری را نشان می دهد.



بیشتر بدانید

مصرف الکل، زمان واکنش به محرک را افزایش می دهد؛ بنابراین، رانندگی پس از مصرف الکل، جان خود و دیگران را به خطر می اندازد. وجود الکل را در خون، ادرار و هوای بازدمی می توان سنجید.

بیشتر بدانید

در گذشته تصور می کردند تولید یاخته های عصبی فقط در دوران جنینی انجام می شود. اما نتایج پژوهش های آتمن در دهه هفتاد میلادی، این باور را تغییر داد. پژوهش روی پستانداران بالغ نشان داده است که در بخش هایی از اسبک مغز تولید یاخته های عصبی رخ می دهد. تولید یاخته های عصبی شامل تکثیر، مهاجرت و تمایز یاخته های بنیادی به یاخته های عصبی است. الکل بر تکثیر یاخته ای و بقای یاخته ها اثر نامطلوب دارد. در افراد معتاد به الکل حجم اسبک مغز کاهش پیدا می کند.

اعتیاد به الکل: مقدار الکل (اتانول) در نوشیدنی های الکلی متفاوت است؛ حتی مصرف کمترین مقدار الکل، بدن را تحت تأثیر قرار می دهد. الکل در دستگاه گوارش به سرعت جذب می شود. الکل از غشای یاخته های عصبی بخش های مختلف مغز عبور و فعالیت های آنها را مختل می کند. الکل علاوه بر دوپامین، بر فعالیت انواعی از ناقل های عصبی تحریک کننده و بازدارنده تأثیر می گذارد؛ و عامل کاهش دهنده فعالیت های بدنی، ایجاد ناهماهنگی در حرکات بدن و اختلال در گفتار است. الکل فعالیت مغز را کند می کند و در نتیجه زمان واکنش فرد به محرک های محیطی افزایش پیدا می کند. مشکلات کبدی، سکته قلبی و انواع سرطان از پیامدهای مصرف بلند مدت الکل است.

فعالیت ۶

در باره درستی یا نادرستی عبارات های زیر اطلاعاتی را جمع آوری کرده و به کلاس ارائه کنید.

● استفاده از قلیان به اندازه سیگار خطرناک نیست.

● فرد با یک بار مصرف ماده اعتیاد آور، معتاد نمی شود.

● مصرف تنباکو با سرطان دهان، حنجره و شش ارتباط مستقیم دارد.

● مصرف مواد اعتیاد آوری که از گیاهان به دست می آیند، خطر چندان ندارد.

مواد و وسایل لازم: مغز سالم گوسفند (یا گوساله)، وسایل تشریح، دستکش

با کمک معلم مغز را برای تشریح آماده کنید.

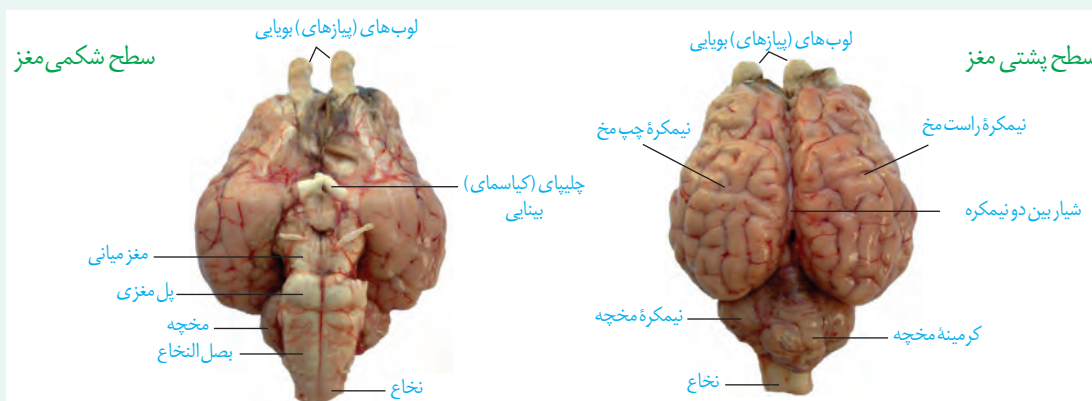
۱- بررسی بخش‌های خارجی مغز

الف) مشاهده سطح پشتی: مغز را مانند شکل در ظرف تشریح قرار دهید. روی مغز بقایای پرده مننژ وجود دارد. آنها را جدا

کنید تا شیارهای مغز بهتر دیده شوند. کدام بخش‌های مغز را با مشاهده سطح پشتی آن می‌توانید ببینید؟

ب) مشاهده سطح شکمی مغز: مغز را برگردانید، باقیمانده مننژ را به آرامی جدا کنید و بخش‌های مغز را در این سطح مشاهده

کنید.



۲- مشاهده بخش‌های درونی مغز: مغز را طوری در ظرف تشریح قرار دهید که سطح پشتی آن را ببینید. با انگشتان شست، به

آرامی دو نیمکره را از محل شیار بین آنها از یکدیگر فاصله دهید و بقایای پرده‌های مننژ را از بین دو نیمکره خارج کنید تا نوار سفید

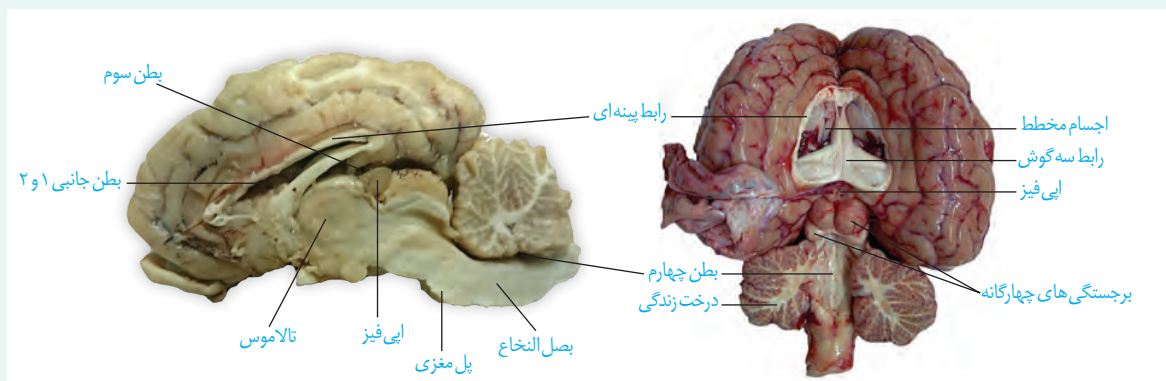
رنگ **رابط پینه‌ای** را ببینید.

در حالی که نیمکره‌های مخ از هم فاصله دارند، با نوک چاقوی جراحی، در جلوی رابط پینه‌ای، برش کم عمقی ایجاد کنید و به

آرامی فاصله نیمکره‌ها را بیشتر کنید تا **رابط سه گوش** را در زیر رابط پینه‌ای مشاهده کنید. دو طرف این رابط‌ها، فضای **بطن‌های**

۱ و ۲ مغز و داخل آنها، **اجسام مخطط** قرار دارند. شبکه‌های مویرگی که مایع مغزی-نخاعی را ترشح می‌کند نیز درون این بطن‌ها

دیده می‌شوند.



در مرحله بعد به کمک چاقوی جراحی در رابط سه گوش، برش طولی ایجاد کنید تا در زیر آن، تالاموس ها را ببینید. دو تالاموس با یک رابط به هم متصل اند و با کمترین فشار از هم جدا می شوند.

در عقب تالاموس ها، **بطن سوم** و در لبه پایین این بطن، **اپی فیز** را ببینید. در عقب اپی فیز برجستگی های چهارگانه قرار دارند.

در مرحله بعدی **کرمینه مخچه** را در امتداد شیار بین دو نیمکره برش دهید تا درخت زندگی و **بطن چهارم** مغز را ببینید.

نخاع: نخاع درون ستون مهره ها از بصل النخاع تا دومین مهره کمر کشیده شده است. نخاع، مغز را

به دستگاه عصبی محیطی متصل می کند و مسیر عبور پیام های حسی از اندام های بدن به مغز و ارسال

پیام ها از مغز به اندام ها است. علاوه بر آن،

نخاع مرکز برخی انعکاس های بدن است.

هر عصب نخاعی دو ریشه دارد

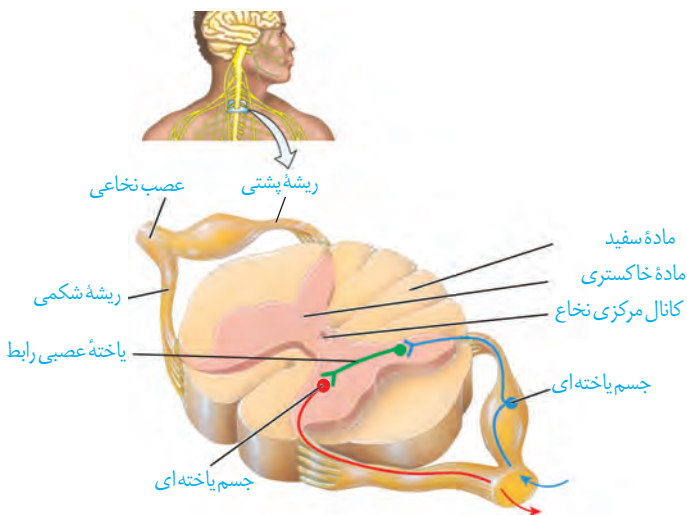
(شکل ۱۹). **ریشه پشتی** عصب نخاعی

حسی و **ریشه شکمی** آن حرکتی است.

ریشه پشتی، اطلاعات حسی را به نخاع

وارد و ریشه شکمی پیام های حرکتی را از

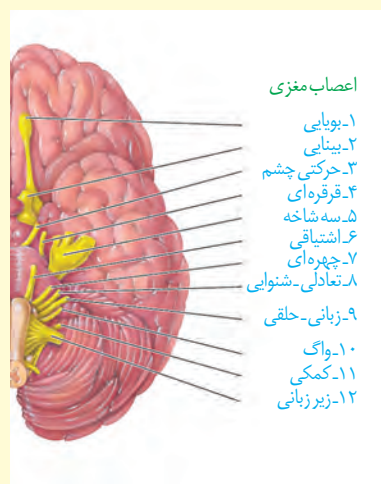
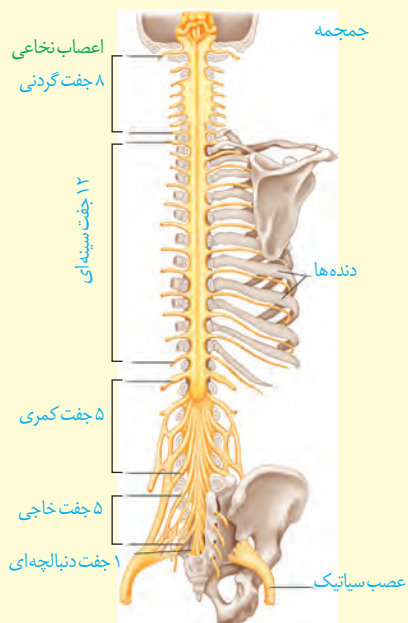
نخاع خارج می کند.



شکل ۱۹- عصب نخاعی

بیشتر بدانید

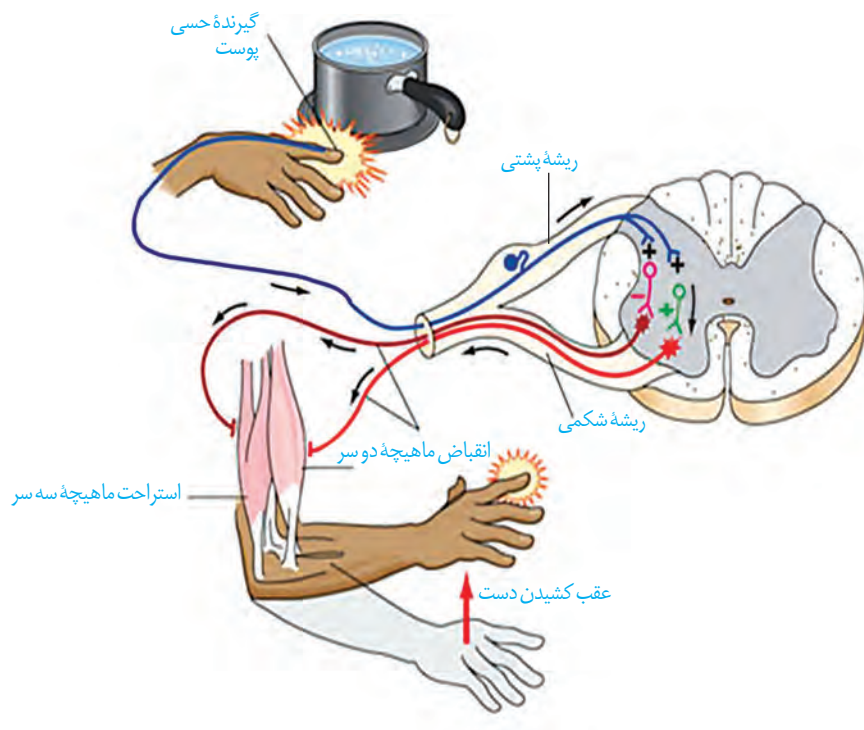
اعصاب مغزی و نخاعی را در شکل های زیر ببینید.



دستگاه عصبی محیطی

بخشی از دستگاه عصبی که مغز و نخاع را به بخش‌های دیگر مرتبط می‌کند، **دستگاه عصبی محیطی** نام دارد. ۱۲ جفت عصب مغزی و ۳۱ جفت عصب نخاعی، دستگاه عصبی مرکزی را به بخش‌های دیگر بدن، مانند اندام‌های حس و ماهیچه‌ها مرتبط می‌کنند. هر عصب مجموعه‌ای از رشته‌های عصبی است که درون بافت پیوندی قرار گرفته‌اند. دستگاه عصبی محیطی شامل دو بخش حسی و حرکتی است. با بخش حسی این دستگاه در فصل بعد آشنا خواهید شد. بخش حرکتی این دستگاه پیام عصبی را به اندام‌های اجرا کننده مانند ماهیچه‌ها می‌رساند. بخش حرکتی دستگاه عصبی محیطی، خود شامل دو بخش **پیکری و خودمختار** است.

بخش پیکری: این بخش پیام‌های عصبی را به ماهیچه‌های اسکلتی می‌رساند. فعالیت این ماهیچه‌ها به شکل ارادی و غیر ارادی تنظیم می‌شود. وقتی تصمیم می‌گیرید کتاب را از روی میز بردارید، یاخته‌های عصبی بخش پیکری، دستور مغز را به ماهیچه‌های دست می‌رسانند. فعالیت ماهیچه‌های اسکلتی به شکل انعکاسی نیز تنظیم می‌شود. می‌دانید انعکاس پاسخ سریع و غیر ارادی ماهیچه‌ها در پاسخ به محرک‌هاست. همان‌طور که در شکل ۲۰ می‌بینید، دست فرد با برخورد به جسم داغ، به عقب کشیده می‌شود. مرکز تنظیم این انعکاس نخاع است.



شکل ۲۰- انعکاس عقب کشیدن دست (اندازه‌های شکل واقعی نیستند)

فعالیت ۸

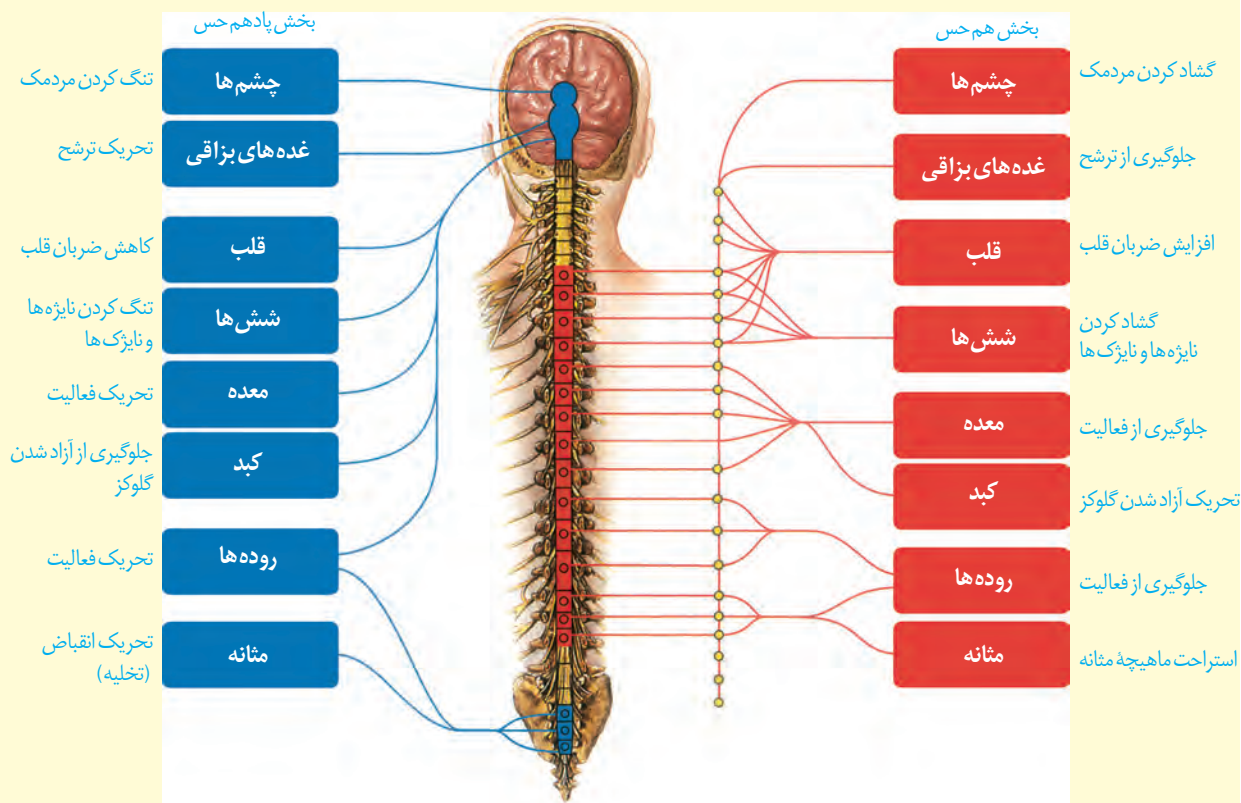
با استفاده از شکل ۲۰ به این پرسش‌ها پاسخ دهید:

- ۱- پس از احساس درد، چه رویدادهایی رخ می‌دهد تا فرد دست خود را عقب بکشد؟
- ۲- در مسیر عقب کشیدن دست، کدام سیناپس‌ها تحریک کننده و کدام مهارکننده‌اند؟

بخش خود مختار: بخش خودمختار دستگاه عصبی محیطی، کار ماهیچه‌های صاف، ماهیچه قلب و غده‌ها را به صورت ناآگاهانه تنظیم می‌کند و همیشه فعال است. این دستگاه از دو بخش **هم حس (سمپاتیک)** و **پادهم حس (پاراسمپاتیک)** تشکیل شده است که معمولاً برخلاف یکدیگر کار می‌کنند تا فعالیت‌های حیاتی بدن را در شرایط مختلف تنظیم کنند. فعالیت بخش پادهم حس باعث برقراری حالت آرامش در بدن می‌شود. در این حالت، فشار خون کاهش یافته، ضربان قلب کم می‌شود. بخش هم حس هنگام هیجان بر بخش پادهم حس غلبه دارد و بدن را در حالت آماده‌باش نگه می‌دارد. ممکن است این حالت را هنگام شرکت در مسابقه ورزشی تجربه کرده باشید. در این وضعیت، بخش هم حس سبب افزایش فشار خون، ضربان قلب و تعداد تنفس می‌شود و جریان خون را به سوی قلب و ماهیچه‌های اسکلتی هدایت می‌کند.

بیشتر بدانید

در شکل زیر، نقش دستگاه هم حس و پادهم حس را در بخش‌های مختلف بدن می‌بینید.



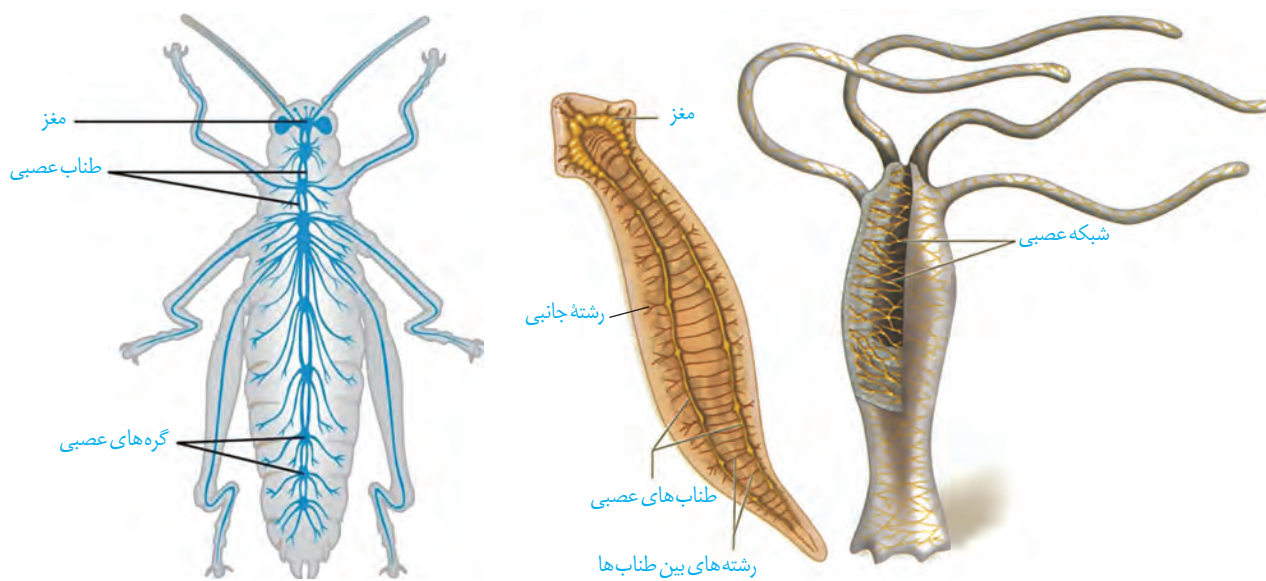
دستگاه عصبی جانوران

ساده ترین ساختار عصبی، شبکه عصبی در هیدر است. شبکه عصبی مجموعه ای از یاخته های عصبی پراکنده در دیواره بدن هیدر است که با هم ارتباط دارند. تحریک هر نقطه از بدن جانور در همه سطح آن منتشر می شود. شبکه عصبی یاخته های ماهیچه ای بدن را تحریک می کند. در پلاناریا دو گره عصبی در سر جانور، مغز را تشکیل داده اند. هر گره مجموعه ای از جسم یاخته های عصبی است. دو طناب عصبی متصل به مغز که در طول بدن جانور کشیده شده اند، با رشته هایی به هم متصل اند و ساختار نردبان مانند را ایجاد می کنند. این مجموعه بخش مرکزی دستگاه عصبی جانور است. رشته های جانبی متصل به آن نیز، بخش محیطی دستگاه عصبی را تشکیل می دهند.

مغز حشرات از چند گره به هم جوش خورده تشکیل شده است. یک طناب عصبی شکمی که در طول بدن جانور کشیده شده است، در هر بند از بدن، یک گره عصبی دارد. هر گره فعالیت ماهیچه های آن بند را تنظیم می کند (شکل ۲۱).

در مهره داران طناب عصبی پشتی است و بخش جلویی آن برجسته شده و مغز را تشکیل می دهد. طناب عصبی درون سوراخ مهره ها و مغز درون جمجمه ای غضروفی، یا استخوانی جای گرفته است. در مهره داران نیز مانند انسان، دستگاه عصبی شامل دستگاه عصبی مرکزی و محیطی است. در بین مهره داران اندازه نسبی مغز پستانداران و پرندگان نسبت به وزن بدن از بقیه بیشتر است.

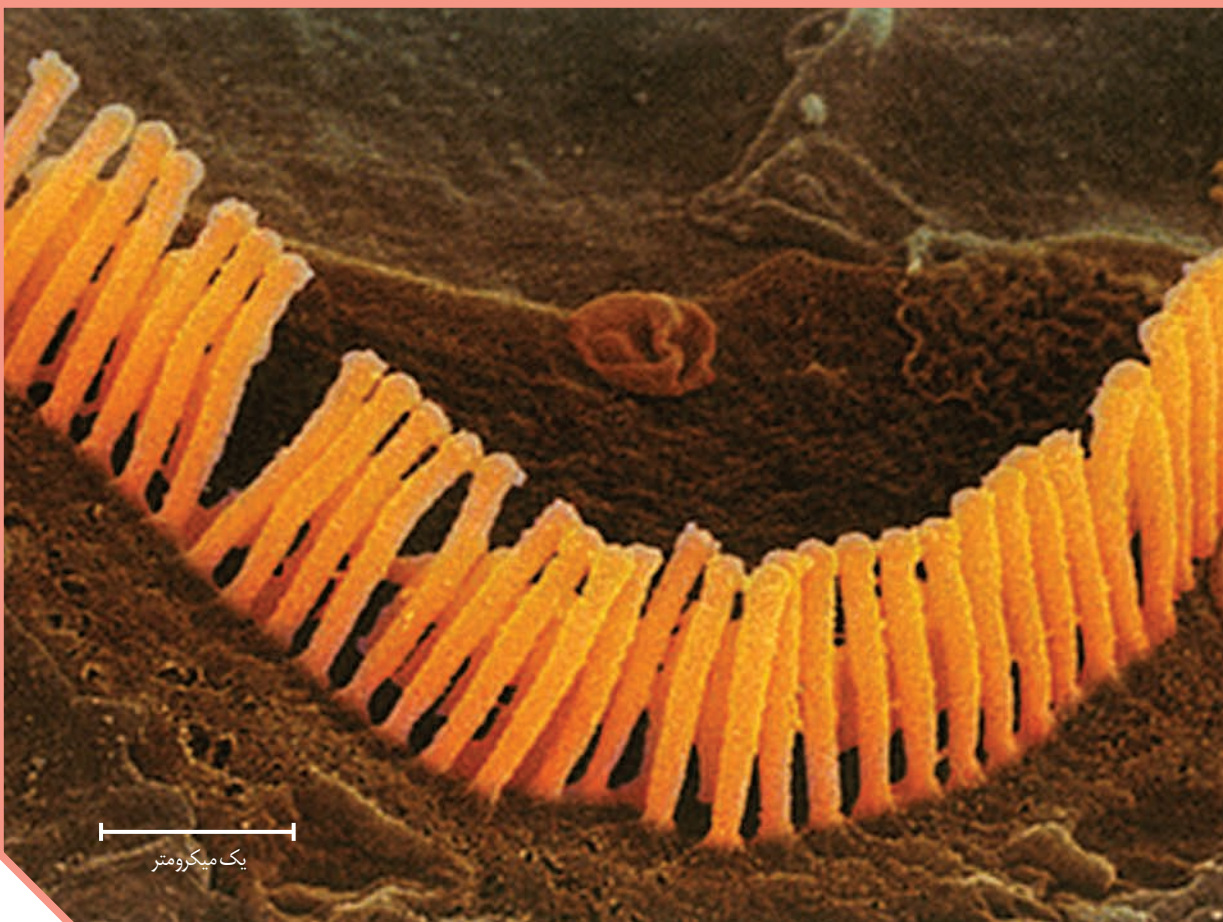
شکل ۲۱- ساختارهای عصبی چند جانور



پ) ملخ

ب) پلاناریا

الف) هیدر



یک میکرومتر

فصل ۲

حواس

اکنون که این متن را می‌خوانید، چشم‌های شما، پیام‌های بینایی را به مغز ارسال می‌کنند. وقتی به صفحه کتاب دست می‌زنید، اطلاعاتی از پوست به دستگاه عصبی مرکزی می‌رسد. در این حالت، دستگاه عصبی از وضعیت نشستن شما و میزان اکسیژن خون شما نیز آگاه است. بدن چگونه اطلاعات گوناگون را دریافت می‌کند و به آنها پاسخ می‌دهد؟ چرا گاهی تماس ساعت یا عینک با پوست خود را احساس نمی‌کنیم؟ چرا فردی که تحت عمل جراحی قرار دارد، دردی احساس نمی‌کند؟ چرا برخی جانوران می‌توانند اطلاعاتی را دریافت کنند که ما بدون استفاده از ابزار مناسب، نمی‌توانیم آنها را درک کنیم؟

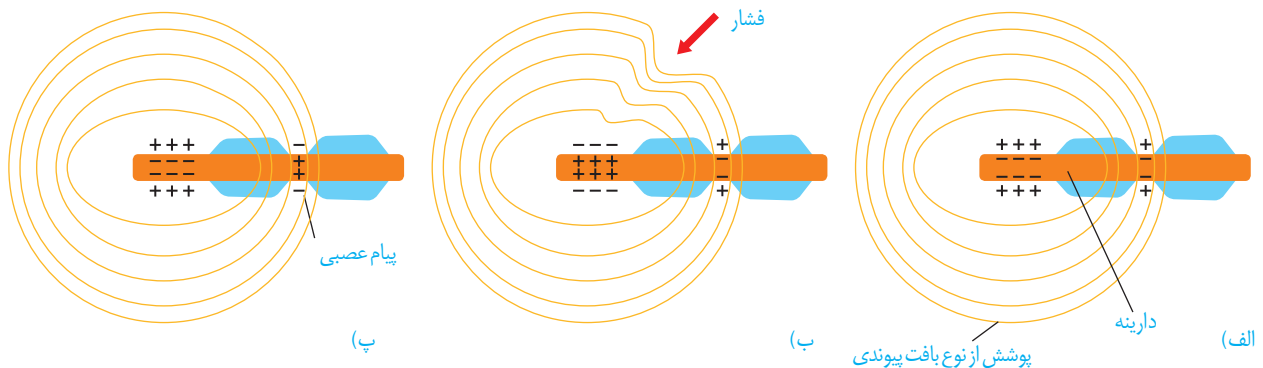
تصویر مژک‌های باخته‌گیرنده شنوایی با میکروسکوپ الکترونی



گیرنده حسی، یاخته یا بخشی از آن است که اثر محرک را دریافت می‌کند و اثر محرک در آن به پیام عصبی تبدیل می‌شود. صدا، فشار، اکسیژن، گرما و نور نمونه‌هایی از این محرک‌ها هستند که هر کدام گیرنده ویژه‌ای را در بدن تحریک می‌کنند. گیرنده‌های حسی انسان گوناگون‌اند؛ ولی می‌توان آنها را براساس نوع محرک، در پنج دسته کلی طبقه‌بندی کرد: گیرنده‌های مکانیکی، شیمیایی، دمايي، نوري و درد. در ادامه درس با این گیرنده‌ها آشنا می‌شوید.

کار گیرنده‌های حسی

گیرنده چگونه اثر محرک را دریافت و به پیام عصبی تبدیل می‌کند؟ در فصل قبل با چگونگی ایجاد پیام عصبی در یاخته‌های عصبی آشنا شدید. عوامل گوناگونی مانند تغییر شکل در اثر فشار، مواد شیمیایی و تغییر دما، نفوذپذیری غشای گیرنده به یون‌ها و در نتیجه پتانسیل غشای آن را تغییر می‌دهند. شکل ۱، یک گیرنده فشار پوست را نشان می‌دهد. این گیرنده انتهای دارینه یک نورون حسی است که درون پوششی چند لایه و انعطاف‌پذیر از نوع بافت پیوندی قرار دارد. فشرده شدن این پوشش، رشته دارینه را تحت فشار قرار می‌دهد و در آن تغییر شکل ایجاد می‌کند. در نتیجه کانال‌های یونی غشای گیرنده، باز و پتانسیل الکتریکی غشا تغییر می‌کند. به این ترتیب در دارینه، پیام عصبی ایجاد و به دستگاه عصبی مرکزی ارسال می‌شود.



شکل ۱- ایجاد پیام عصبی به وسیله گیرنده فشار.
الف) ساختار گیرنده،
ب) وارد آمدن تحریک (فشار)
پ) تبدیل اثر محرک به پیام عصبی (هدایت پیام عصبی)

گیرنده‌ها سازش پیدا می‌کنند

شاید توجه کرده باشید که بوی غذا یا عطر را پس از گذشت مدتی، دیگر احساس نمی‌کنیم. در این حالت، آیا مولکول‌های بودار در محیط کم می‌شوند، یا گیرنده‌های بو درست کار نمی‌کنند؟ وقتی گیرنده‌ها مدتی در معرض محرک ثابتی قرار گیرند، پیام عصبی کمتری ایجاد می‌کنند، یا اصلاً پیامی ارسال نمی‌کنند. این پدیده را سازش گیرنده‌ها می‌نامند. سازش گیرنده‌ها چه فایده‌ای دارد؟

پدیده‌ی سازش گیرنده‌های فشار در پوست، موجب می‌شود وجود لباس راروی بدن حس نکنیم. در این حالت، اطلاعات کمتری به مغز ارسال می‌شود. در نتیجه مغز می‌تواند اطلاعات مهم‌تری را پردازش کند. مثال‌های دیگری از سازش گیرنده‌ها را که تجربه کرده‌اید، بیان کنید.

فعالیت ۱

گیرنده‌های زیر را در پنج گروه گیرنده که با آنها آشنا شدید، طبقه‌بندی کنید.
گیرنده‌های چشایی روی زبان، گیرنده‌ی میزان اکسیژن در ائورت، گیرنده‌های شبکیه چشم، گیرنده گرم، گیرنده فشار پوست، گیرنده بویایی بینی، گیرنده فشار خون دیواره رگ‌ها

بیشتر بدانید

اندام خیالی: مغز ممکن است احساس‌ها را اشتباه درک کند. اندام خیالی حالتی است که فرد در اندام از دست رفته بدنش، درد احساس می‌کند. در گذشته پژوهشگران فکر می‌کردند این احساس از اعصاب آسیب‌دیده در اندام قطع شده، ایجاد می‌شود. اما امروز آنان بر این باورند که بخشی از قشر مخ که اطلاعات اندام از دست رفته را پردازش می‌کند، اکنون از بخش‌های دیگر بدن اطلاعاتی دریافت و این پیام‌ها را به عنوان پیام اندام از دست رفته تلقی می‌کند.

حواس را به دو گروه تقسیم می‌کنند

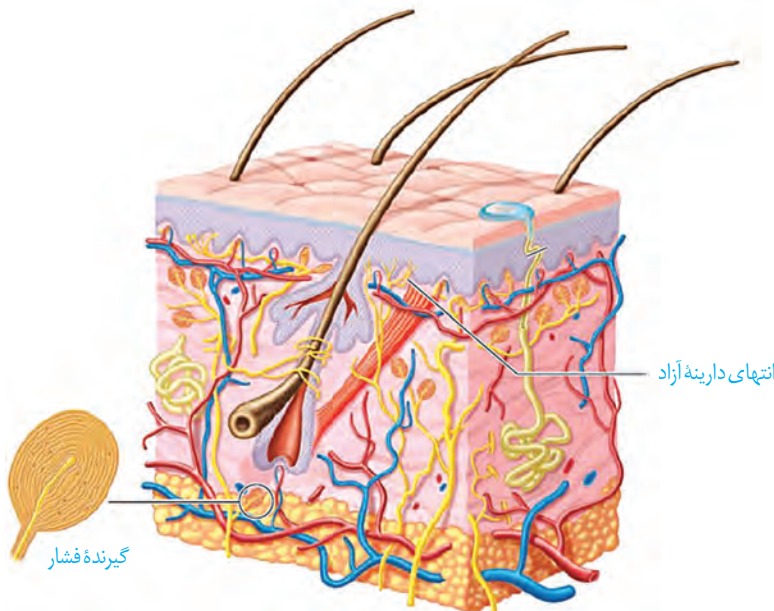
گروهی از گیرنده‌ها مانند گیرنده‌های دما در بخش‌های گوناگون بدن پراکنده‌اند و گروهی از گیرنده‌های بدن ما در اندام‌های ویژه‌ای قرار دارند؛ مانند گیرنده‌های بینایی در چشم. از این رو، حواس را به دو گروه **حواس پیکری** و **حواس ویژه** تقسیم کرده‌اند. در ادامه درس با کار هر گروه از این حواس آشنا می‌شوید.

حواس پیکری

در بخش‌های گوناگون بدن مانند پوست، ماهیچه‌های اسکلتی و زردپی‌ها، گیرنده‌هایی به نام گیرنده‌های حس‌های پیکری وجود دارند. حس‌های پیکری شامل حس **تماس**، **دما**، **وضعیت و درد**ند. انتهای داربته آزاد، مانند گیرنده‌های درد، یا انتهای داربته‌هایی درون پوششی از بافت پیوندی مانند گیرنده فشار در پوست، نمونه‌هایی از گیرنده‌های حواس پیکری‌اند (شکل ۱).

گیرنده‌های تماسی، گیرنده‌های مکانیکی‌اند که با تماس، فشار یا ارتعاش تحریک می‌شوند (شکل ۲). این گیرنده‌ها، مثلاً در پوست وجود دارند. تعداد گیرنده‌های تماس در پوست بخش‌های گوناگون بدن متفاوت است و بخش‌هایی که تعداد گیرنده‌های بیشتری دارند، مانند نوک انگشتان و لب‌ها، حساس‌ترند.

گیرنده‌های دمایی در بخش‌هایی از درون بدن، مانند برخی سیاهرگ‌های بزرگ و پوست جای دارند. گیرنده‌های دمایی درون بدن به تغییرات



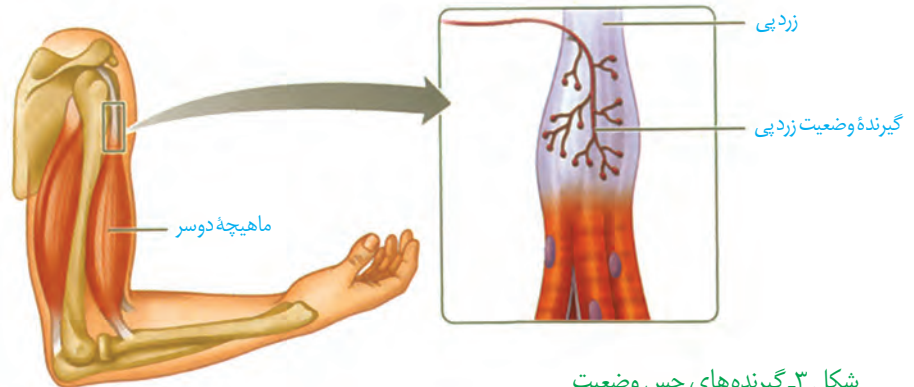
شکل ۲- گیرنده‌های پوست

بیشتر بدانید

تزریق موادی مانند هیستامین که از بافت‌های تخریب شده خارج می‌شوند، در زیر پوست، درد شدیدی را ایجاد می‌کنند. به این ترتیب، مشخص شده است که برخی موادی که در بدن تولید می‌شوند، گیرنده‌های درد را تحریک می‌کنند.

دمای درون بدن و گیرنده‌های دمایی پوست به تغییرات دمای سطح بدن حساس‌اند؛ در نتیجه سرما یا گرما را دریافت می‌کنند.

فعالیت گیرنده‌های مکانیکی **حس وضعیتی** موجب می‌شود که مغز از چگونگی قرارگیری قسمت‌های مختلف بدن نسبت به هم، هنگام سکون و حرکت اطلاع یابد. گیرنده‌های حس وضعیتی در ماهیچه‌های اسکلتی، زردپی‌ها و کپسول پوشاننده مفصل‌ها قرار دارند و به کشیده شدن حساس‌اند. مثلاً وقتی دست خود را حرکت می‌دهید، گیرنده‌های درون ماهیچه کشیده و تحریک می‌شوند.



شکل ۳- گیرنده‌های حس وضعیتی در زردپی

گیرنده‌های درد در پوست و برخی بخش‌های دیگر بدن مانند دیواره سرخرگ‌ها قرار دارند. گیرنده‌های درد به آسیب بافتی پاسخ می‌دهند. آسیب بافتی در اثر عوامل مکانیکی مثل بریدگی، سرما یا گرمای شدید و برخی مواد شیمیایی مثل لاکتیک اسید ایجاد می‌شود. گیرنده‌های درد سازش پیدا نمی‌کنند. در نتیجه، این پدیده کمک می‌کند مادامی که محرک آسیب‌رسان وجود دارد، فرد از وجود محرک اطلاع داشته باشد.

درد یک سازوکار حفاظتی است. هرگاه یاخته‌ها در معرض تخریب قرار گیرند، درد ایجاد و موجب می‌شود که فرد برای برطرف کردن عامل ایجاد درد، واکنش مناسب نشان دهد؛ مثلاً نشستن طولانی مدت ممکن است موجب آسیب دیدن پوست در محل نشیمن‌گاه شود. بنابراین، فرد به طور ناخودآگاه تغییر وضعیت می‌دهد؛ در غیر این صورت، پوست در نقاط تحت فشار تخریب می‌شود.

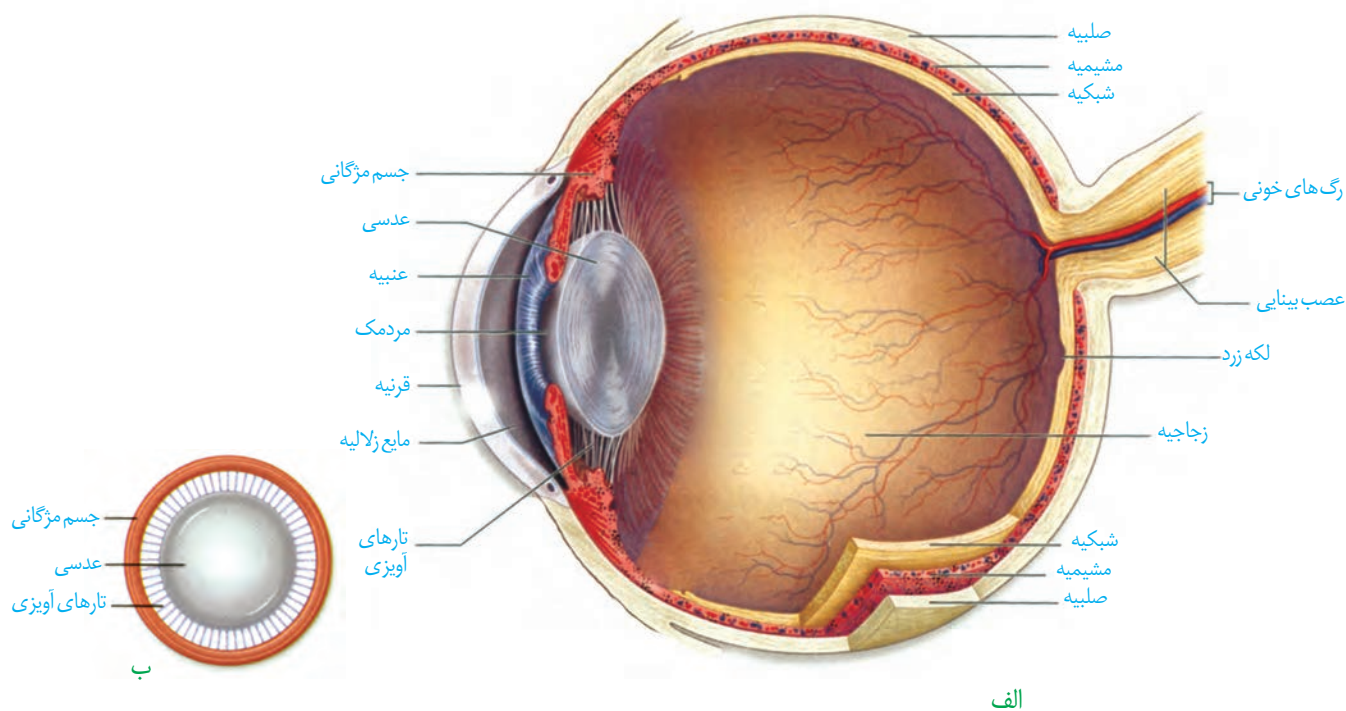
بیشتر بدانید

تحریک برخی گیرنده‌های تماسی، از انتقال پیام عصبی درد از آن بخش بدن جلوگیری می‌کند. به همین علت مالش پوست در نزدیک محل دردناک، در تسکین درد تأثیر دارد.

گیرنده‌های حواس ویژه شامل گیرنده‌های حس بینایی، شنوایی، تعادل، بویایی و چشایی اند که در اندام‌های حسی قرار دارند. این گیرنده‌ها در کدام بخش هر یک از این اندام‌ها قرار دارند؟

بینایی

بیشتر اطلاعات محیط پیرامون را از راه دیدن و به کمک اندام حس بینایی، یعنی چشم دریافت می‌کنیم. کره چشم در حفره استخوانی کاسه چشم قرار دارد. ماهیچه‌هایی که به کره چشم متصل اند، آن را حرکت می‌دهند. این ماهیچه‌ها را در فعالیت تشریح چشم می‌توانید ببینید. پلک‌ها، مژه‌ها، بافت چربی روی کره چشم و اشک از چشم حفاظت می‌کنند. در شکل ۴ ساختار کره چشم را می‌بینید.



الف

ب

شکل ۴- الف) بخش‌های تشکیل دهنده کره چشم چپ از بالا ب) عدسی چشم از روبه‌رو

می‌دانید نوری را که از اجسام بازتاب پیدا می‌کند، گیرنده‌های نوری شبکیه دریافت می‌کنند. نور برای رسیدن به این یاخته‌ها از چه مسیری عبور می‌کند؟

ساختار کره چشم: خارجی‌ترین لایه کره چشم از صلیبه و قرنیه تشکیل شده است. صلیبه پرده‌ای سفید رنگ، محکم و قرنیه پرده شفاف جلوی چشم است. لایه میانی چشم شامل مشیمیه، جسم مزگانی و عنبیه است. مشیمیه لایه‌ای رنگدانه‌دار و پر از مویرگ‌های خونی است.

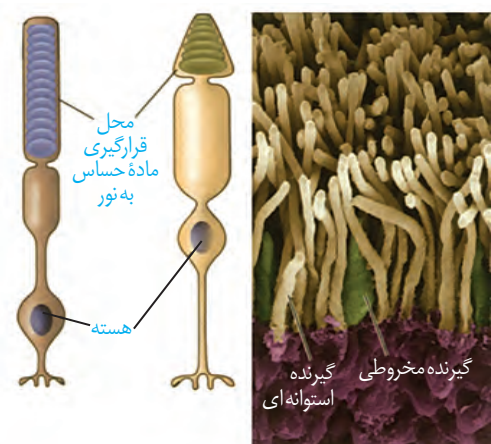
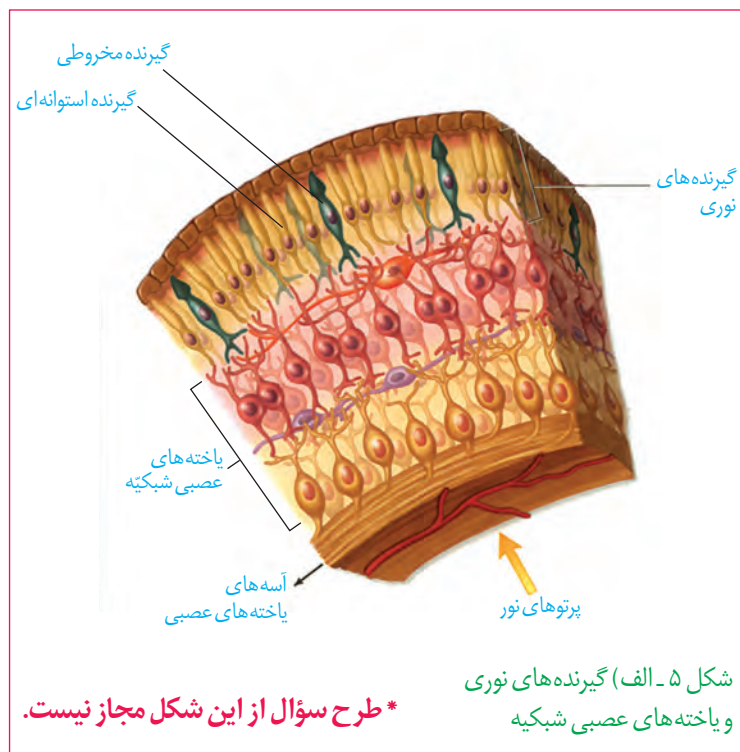
بیشتر بدانید

ابن هیثم که اروپاییان او را الحازن (Alhazan) می‌نامند، دانشمند مسلمان قرن چهارم هجری است. او کسی است که برای نخستین بار در کتاب المناظر خود، بخش‌های چشم را با نام‌های صلیبه، زجاجیه و... نام‌گذاری کرد؛ او همچنین چگونگی دیدن اجسام را توضیح داد. تا قبل از آن بر طبق نظر اقلیدس، تصور می‌کردند که نور از چشم بیننده به اجسام می‌تابد و باعث دیدن آنها می‌شود، ولی ابن هیثم با استدلال تجربی ثابت کرد نور پس از تابیدن بر اجسام و بازتاب از آنها وارد عدسی چشم می‌شود و عدسی، تصویر اجسام را روی پرده شبکیه می‌اندازد. ابن هیثم دریافت که پرده شبکیه از راه عصب بینایی با مغز ارتباط دارد. بعدها ابن سینا، ابوریحان بیرونی و دیگران نظر او را پذیرفتند. ترجمه کتاب او برای سال‌ها، یکی از کتاب‌های درسی دانشگاه‌های اروپا بود.

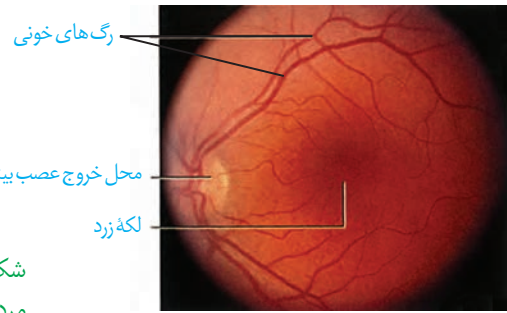
جسم مژگانی، حلقه‌ای بین مشیمیّه و عنیبّه و شامل ماهیچه‌های مژگانی است. عنیبّه بخش رنگین چشم در پشت قرنیه است که در وسط آن، سوراخ **مردمک** قرار دارد. دو گروه ماهیچه صاف عنیبّه، مردمک را (در نور زیاد) تنگ و (در نور کم) گشاد می‌کنند. ماهیچه‌های تنگ‌کننده را اعصاب پادهم حس و ماهیچه‌های گشادکننده را اعصاب هم حس عصب‌دهی می‌کنند.

عدسی چشم همگرا، انعطاف‌پذیر و با رشته‌هایی به نام **تارهای آویزی** به جسم مژگانی متصل است (شکل ۴- ب). مایعی شفاف به نام **زلالیه** فضای جلوی عدسی چشم را پر کرده است که از مویرگ‌ها ترشح می‌شود. زلالیه مواد غذایی و اکسیژن را برای عدسی و قرنیه فراهم و مواد دفعی آنها را جمع‌آوری می‌کند و به خون می‌دهد. ماده‌ای ژله‌ای و شفاف به نام **زجاجیه** در فضای پشت عدسی قرار دارد که شکل کروی چشم را حفظ می‌کند.

شبکیه داخلی‌ترین لایه چشم است که گیرنده‌های نوری، یعنی **یاخته‌های مخروطی و استوانه‌ای** و نیز یاخته‌های عصبی در آن قرار دارند (شکل ۵- الف). آسه یاخته‌های عصبی، **عصب بینایی** را تشکیل می‌دهند که پیام‌های بینایی را به مغز می‌برد. محل خروج عصب بینایی از شبکیه، **نقطه کور** نام دارد. درون گیرنده‌های نوری ماده حساس به نور وجود دارد (شکل ۵- ب).



اثر نور بر شبکیه: پرتوهای نور از قرنیه می‌گذرند و به علت انحنای آن همگرا می‌شوند. این پرتوها از زلالیه، سوراخ مردمک، عدسی و زجاجیه عبور می‌کنند. عدسی، پرتوهای نور را روی شبکیه و گیرنده‌های نوری آن متمرکز می‌کند.



شکل ۵ - پ) مشاهده شبکیه از مردمک با دستگاه ویژه

بیشتر بدانید

رنگ چشم: در عنیبه دانه‌های رنگی وجود دارد که حاوی ملانین‌اند. تراکم این دانه‌ها، رنگ چشم را تعیین می‌کند.

رنگدانه سیاه ملانین موجود در یاخته‌های مشیمی و شبکیه، برای جلوگیری از بازتاب نور و دید واضح، لازم است. افراد زال به‌طور ژنتیکی فاقد رنگدانه‌اند و پرتوهای نور درون کره چشم این افراد در جهت‌های گوناگون بازتاب پیدا می‌کنند. در نتیجه این افراد، دید واضحی ندارند.

یاخته‌های استوانه‌ای در نور کم و یاخته‌های مخروطی در نور زیاد تحریک می‌شوند. گیرنده‌های مخروطی، تشخیص رنگ و جزئیات اجسام را امکان‌پذیر می‌کنند. بخشی از شبکیه را که در امتداد محور نوری کره چشم قرار دارد، **لکه زرد** می‌نامند. این بخش در دقت و تیزبینی اهمیت دارد؛ زیرا گیرنده‌های مخروطی در آن فراوان‌ترند.

با برخورد نور به شبکیه، ماده حساس به نور، درون گیرنده‌های نوری تجزیه می‌شود و واکنش‌هایی را به راه می‌اندازد که به ایجاد پیام عصبی منجر می‌شود. ویتامین A برای ساخت ماده حساس به نور لازم است.

شکل ۶- تطابق برای دیدن اجسام (الف) نزدیک



(ب) دور



تطابق: با تغییر همگرایی عدسی چشم، می‌توان اجسام دور و نزدیک را واضح دید. هنگام دیدن اشیای نزدیک، با انقباض ماهیچه‌های جسم مژگانی، عدسی ضخیم می‌شود. وقتی به اشیای دور نگاه می‌کنیم با استراحت این ماهیچه‌ها، عدسی باریک‌تر می‌شود. به این ترتیب، تصویر در هر حالت روی شبکیه تشکیل می‌شود. این فرایندها **تطابق** نام دارد (شکل ۶).

با استفاده از شکل ۶، تغییرات چشم هنگام تطابق برای دیدن جسم دور و نزدیک را مقایسه کنید.

فعالیت ۲

بیماری‌های چشم

برای دیدن درست اجسام، قرنیه، عدسی و کره چشم باید شکل ویژه‌ای داشته باشند. تا پرتوهای نور به‌طور دقیق روی شبکیه متمرکز شوند.

نزدیک بینی و دور بینی: در افراد نزدیک بین، کره چشم بیش از اندازه بزرگ است و پرتوهای نور

اجسام دور، در جلوی شبکیه متمرکز می‌شوند. در نتیجه فرد، اجسام دور را واضح نمی‌بیند. در فرد دوربین، کره چشم از اندازه طبیعی کوچک‌تر است و پرتوهای نور اجسام نزدیک در پشت شبکیه متمرکز می‌شوند و فرد این اجسام را واضح نمی‌بیند.



الف) چشم نزدیک بین و اصلاح آن



ب) چشم دوربین و اصلاح آن

شکل ۲- اصلاح نزدیک بینی و دوربینی

فعالیت ۳

- با استفاده از شکل ۲ بگویید نزدیک بینی و دوربینی با استفاده از کدام عدسی اصلاح می‌شوند؟
- در برخی افراد، علت نزدیک بینی و دوربینی، تغییر همگرایی عدسی چشم است. با استفاده از آنچه آموختید، بگویید تغییر همگرایی عدسی در چشم، چگونه موجب نزدیک بینی و دوربینی می‌شود؟

بیشتر بدانید

عدسی (لنز) تماسی: امروز استفاده از عدسی تماسی برای اصلاح دید افراد متداول شده است. لایه نازک اشک، فضای بین عدسی تماسی و قرنیه چشم را پر می‌کند و آن را در جای خود محکم نگه می‌دارد. استفاده از عدسی تماسی به ویژه وقتی شکل غیرطبیعی قرنیه، عامل اختلال در همگرا شدن پرتوهای نور است، از عینک کارآمدتر است.

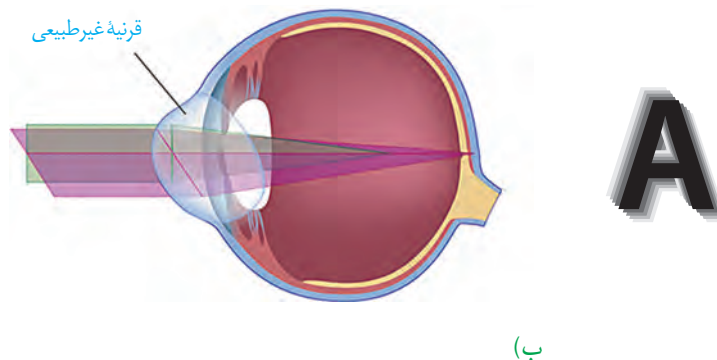
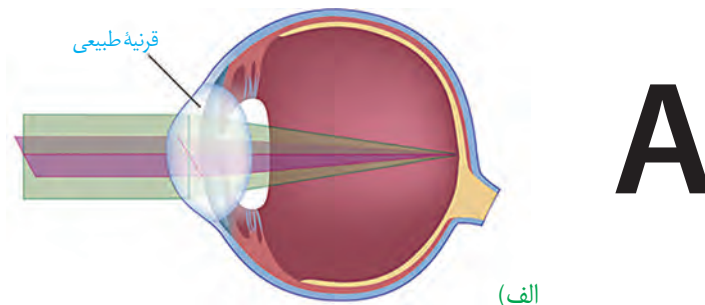
آستیگماتیسم: اگر سطح عدسی یا قرنیه کاملاً کروی و صاف نباشد، پرتوهای نور به طور نامنظم به هم می‌رسند و روی یک نقطه شبکیه متمرکز نمی‌شوند. در نتیجه تصویر واضحی تشکیل نمی‌شود. در این حالت، چشم دچار آستیگماتیسم است (شکل ۸). برای اصلاح دید این فرد از عینکی استفاده می‌کنند که عدسی آن عدم یکنواختی انحنای قرنیه یا عدسی را جبران می‌کند.
پیر چشمی: با افزایش سن، انعطاف پذیری عدسی چشم کاهش پیدا می‌کند و تطابق دشوار می‌شود. این حالت را پیر چشمی می‌گویند که به کمک عینک‌های ویژه اصلاح می‌شود.

بیشتر بدانید

آب مروارید^۱: گاهی در عدسی چشم افراد مسن رنگدانه‌های قهوه‌ای تجمع می‌یابند و شفافیت آن را کاهش می‌دهند. در این حالت، عدسی کدر شده، آب مروارید به وجود می‌آید. زیاد قرار گرفتن در معرض پرتوهای فرابنفش خورشید نیز، ممکن است به آب مروارید منجر شود.

۱- Cataract

شکل ۸- مقایسه تشکیل تصویر در
الف) چشم طبیعی
ب) چشم آستیگمات و تصویری که
هر کدام می بینند.



بیشتر بدانید

بیماری آب سیاه: مایع زلالیه به طور مرتب تولید می شود و به طور معمول از منافذ کوچک دور عنبیه به خون وارد می شود. اگر به علتی مسیر تخلیه این مایع مسدود شود، فشار مایع داخل چشم افزایش می یابد، بیماری آب سیاه ایجاد می شود. افزایش فشار داخل چشم به تحلیل عصب بینایی و کاهش بینایی منجر می شود.

۱- Glaucoma

فعالیت ۴

تشریح چشم

مواد و وسایل لازم: چشم سالم گاو به همراه ماهیچه های آن، وسایل تشریح، دستکش برای هر گروه.

برای آماده کردن چشم از دبیر خود راهنمایی بخواهید.



شکل ۱- بالا و پایین چشم



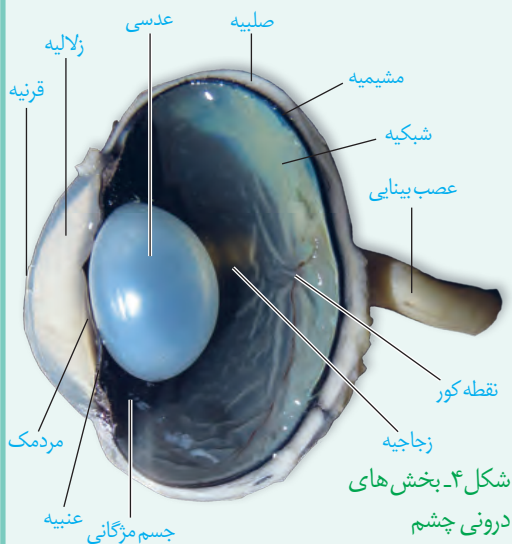
شکل ۲- چشم راست

۱- بررسی ویژگی های ظاهری چشم: برای تشخیص بالا و پایین چشم، فاصله عصب بینایی تا قرنیه را در نظر بگیرید. سطحی از کره چشم که در آن فاصله عصب تا روی قرنیه بیشتر است، سطح بالایی چشم و سطح دیگری، سطح پایینی آن است (شکل ۱). برای تشخیص چپ یا راست بودن چشم، آن را طوری در دست بگیرید که سطح بالایی آن رو به بالا باشد. قرنیه به شکل تخم مرغ دیده می شود و بخش پهن تر آن به سمت بینی و بخش باریک تر آن به سمت گوش قرار دارد (شکل ۲). راه دیگر، بررسی عصب بینایی است. این عصب پس از خروج از چشم به سمت مخالف، خم می شود. در ادامه، بافت های چربی بین ماهیچه ها و کره چشم را جدا و ماهیچه های آن را مشاهده کنید. برای مشاهده دقیق ماهیچه ها از مولژ چشم استفاده کنید.

۲- تشریح: ماهیچه ها را با قیچی از کره چشم جدا کنید. چشم را روی ظرف تشریح قرار دهید و با چاقوی جراحی، صلبیه را در فاصله یک سانتی متری از قرنیه سوراخ کنید و با قیچی دورتا دور قرنیه را در این فاصله برش دهید. دقت کنید قیچی را خیلی درون کره چشم فرو نبرید تا زجاجیه آسیب نبیند (شکل ۳). پس از برش



شکل ۳- کره چشم برش خورده



شکل ۴- بخش‌های درونی چشم

می‌توانید سه لایه چشم و بخش‌های تشکیل دهنده آنها و نقطه کور را ببینید. لایه شبکیه بسیار نازک است، دقت کنید هنگام کار جمع نشود. به طرز قرار گرفتن عدسی توجه کنید. در کنار عدسی، جسم مزگانی، و تارهای آویزی که عدسی را احاطه کرده‌اند، دیده می‌شوند. عدسی را به آرامی خارج کنید. مایع زلالیه و زجاجیه ژله‌ای را مشاهده کنید. در این حالت، زلالیه به طور کامل شفاف نیست؛ زیرا مقداری از دانه‌های سیاه ملانین از بخش‌های دیگر چشم در آن رها شده‌اند.

جسم مزگانی به شکل حلقه‌ای دور محل استقرار عدسی قرار دارد. درون این حلقه، عنبیه قرار دارد که نازک‌تر و شامل ماهیچه‌های صاف حلقوی (تنگ کننده مردمک) و شعاعی (گشادکننده مردمک) است. سوراخ وسط عنبیه همان مردمک است. جسم مزگانی و عنبیه به آسانی جدا می‌شوند و قرنیه شفاف و برآمده دیده می‌شود.

پس از انجام تشریح و با استفاده از مشاهده‌های خود، به این پرسش‌ها پاسخ دهید.

الف) ویژگی‌های هر یک از سه لایه چشم و بخش‌های تشکیل دهنده آنها را بیان کنید.

ب) زجاجیه و زلالیه را با یکدیگر مقایسه کنید. از فعالیت خود گزارش تهیه کنید و به معلم ارائه دهید.

بیشتر بدانید

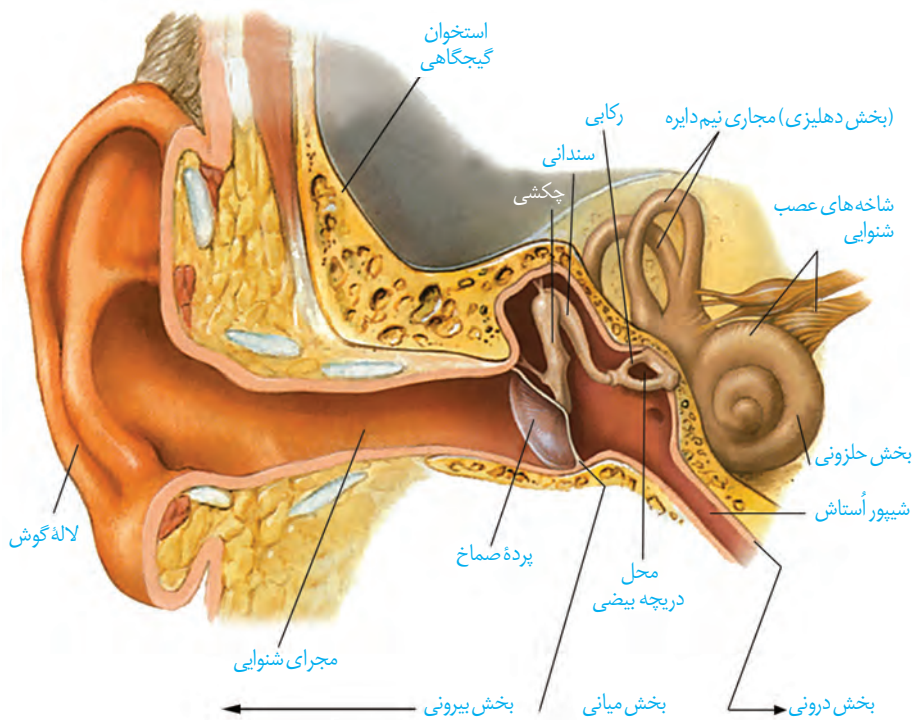
در پشت شبکیه چشم بسیاری از مهره‌داران، لایه‌ای درخشان وجود دارد که پرتوهای نور را باز می‌تاباند تا گیرنده‌ها، نور بیشتری دریافت کنند. این موضوع به دید بهتر جانور در شب کمک می‌کند. همچنین موجب درخشندگی چشم این جانوران در شب می‌شود.



لایه درخشان در چشم گاو

شنوایی و تعادل

گیرنده‌های مکانیکی درون گوش، در شنیدن و حفظ تعادل بدن نقش دارند. این گیرنده‌ها در کدام بخش‌های گوش قرار گرفته‌اند؟ همان‌طور که آموخته‌اید، گوش از سه بخش بیرونی، میانی و درونی تشکیل شده است (شکل ۹).



شکل ۹- بخش های تشکیل دهنده گوش

فعالیت ۵

با استفاده از شکل ۹ و مولاژ گوش به پرسش های زیر پاسخ دهید.

- بین بخش بیرونی و میانی گوش کدام ساختار قرار دارد؟
- استخوان های کوچک در کدام بخش گوش قرار دارند؟
- حلزون گوش در کدام بخش آن قرار دارد؟

ساختار گوش: لاله گوش و مجرای آن بخش بیرونی گوش را تشکیل می دهند. لاله گوش امواج صوتی را جمع آوری و مجرای شنوایی، آنها را به بخش میانی منتقل می کند. موهای کرک مانند درون مجرا و موادی که غده های درون مجرا ترشح می کنند، نقش حفاظتی دارند. انتهای مجرا و بخش های میانی و درونی گوش را استخوان گیجگاهی حفاظت می کند.

بیشتر بدانید

آسیب دیدن حلزون گوش، عصب شنوایی، یا اختلال در ساختارهای هدایت کننده صدا به بخش حلزونی، مانند استخوان های کوچک گوش میانی به ناشنوایی منجر می شود.

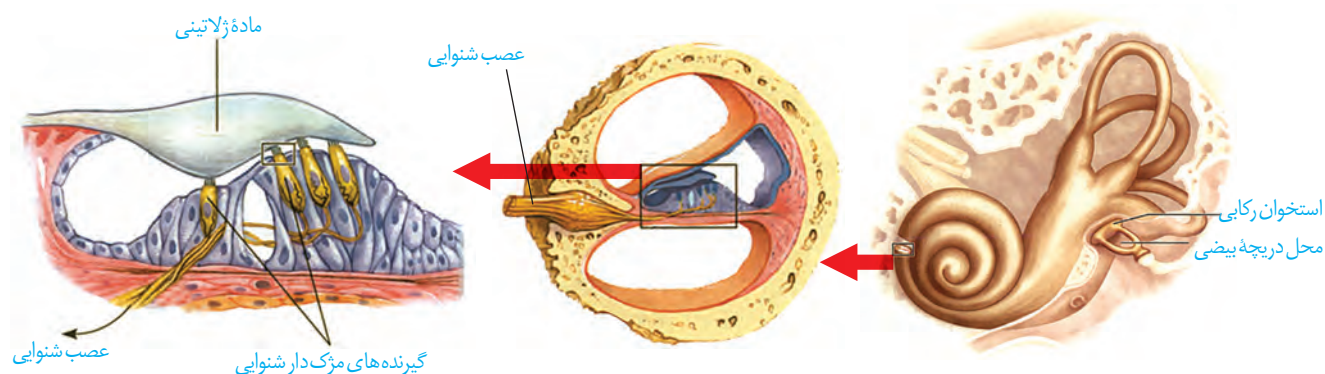
کاشت حلزون روشی برای بازگرداندن شنوایی است. این دستگاه را با جراحی در زیر پوست پشت گوش قرار می دهند. دستگاه امواج صوتی را جمع آوری کرده، به جریان الکتریکی تبدیل و الکترودهای آن عصب شنوایی را به طور مستقیم تحریک می کنند.

پرده صماخ در انتهای مجرای شنوایی و بین گوش بیرونی و میانی قرار دارد. گوش میانی محفظه استخوانی پر از هواست. درون گوش میانی و پشت پرده صماخ سه استخوان کوچک **چکشی، سندان** و **رکابی**، به ترتیب قرار دارند و به هم مفصل شده اند. همان طور که در شکل ۹ می بینید، بخشی به نام **شیپور استاش**، حلق را به گوش میانی مرتبط می کند. هوا از این مجرا به گوش میانی منتقل می شود، تا فشار آن در دو طرف پرده صماخ یکسان شود و پرده به درستی بلرزد. گوش درونی از دو **بخش حلزونی و دهلیزی** تشکیل شده است. بخش حلزونی در شنوایی و بخش دهلیزی در تعادل نقش دارد.

تبدیل صدا به پیام عصبی: امواج صوتی پس از عبور از مجرای شنوایی، به پرده صماخ برخورد می کنند و آن را به ارتعاش درمی آورند. دسته استخوان چکشی روی پرده صماخ چسبیده و با ارتعاش

آن می لرزد و استخوان های سندان و رکابی را نیز به ارتعاش درمی آورد. کف استخوان رکابی طوری روی دریچه ای به نام **دریچه بیضی** قرار گرفته است که لرزش آن، دریچه را می لرزاند. این دریچه پرده ای نازک است که در پشت آن، بخش حلزونی گوش قرار دارد. بخش حلزونی را مایعی پر کرده است. لرزش دریچه بیضی، مایع درون حلزون را به لرزش درمی آورد.

همان طور که در شکل ۱۰ می بینید، در بخش حلزونی یاخته های مژک داری قرار دارند که مژک هایشان با پوششی ژلاتینی تماس دارند. این یاخته ها، گیرنده های مکانیکی اند که با لرزش مایع درون بخش حلزونی، مژک های آنها خم می شود. در نتیجه کانال های یونی غشای آنها باز و این یاخته ها تحریک می شوند. در نتیجه بخش شنوایی عصب گوش پیام عصبی ایجاد شده را به مغز می برد (شکل ۱۰).



شکل ۱۰- یاخته های مژک دار حلزون گوش

در باره نقش حفاظتی موها و مواد ترشحاتی در مجرای شنوایی گوش اطلاعات جمع آوری و به کلاس ارائه کنید.

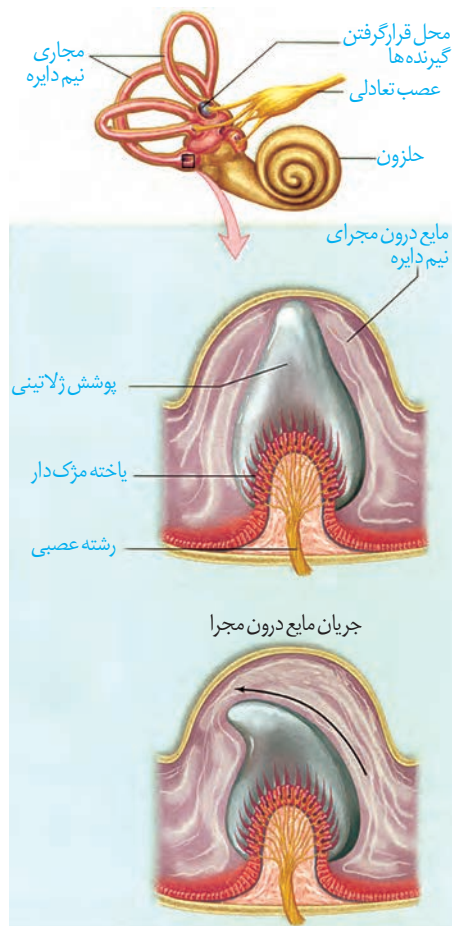
فعالیت ۶

حفظ تعادل

در بخش دهلیزی گوش داخلی سه **مجرای نیم دایره ای** شکل عمود برهم (در سه جهت فضا) وجود دارد که یاخته های مژک دار حس تعادل درون آنها قرار گرفته اند. حرکت سر، این یاخته ها را تحریک می کند. شکل ۱۱ یاخته های گیرنده تعادل در یک مجرای نیم دایره را نشان می دهد. درون مجرای نیم دایره از مایعی پر شده است و مژک های یاخته های گیرنده نیز در ماده ای ژلاتینی قرار دارند. با چرخش سر، مایع درون مجرا به حرکت درمی آید و ماده ژلاتینی را به یک طرف خم می کند. مژک های یاخته های گیرنده، خم و این گیرنده ها تحریک می شوند. آسه یاخته های عصبی حس که شاخه دهلیزی (تعادلی) عصب گوش را تشکیل می دهند، پیام را به مغز و به ویژه منحنه می برند و آن را از موقعیت سر آگاه می کنند. برای حفظ تعادل بدن، مغز از گیرنده های دیگر مانند گیرنده های وضعیت نیز پیام دریافت می کند.

بیشتر بدانید

بر اساس اعلام سازمان بهداشت جهانی در سال ۱۳۹۳ (۲۰۱۵ میلادی) ۱/۱ میلیارد نفر نوجوان و جوان در جهان در خطر از دست دادن شنوایی قرار داشته‌اند. استفاده نایمن از وسایل صوتی شخصی و یا قرارگرفتن در مکان‌های تفریحی پر سروصدا این خطر را به وجود آورده است. این سازمان توصیه کرده است برای حفظ شنوایی باید صدای وسایل صوتی شخصی و زمان استفاده از این وسایل را به کمتر از یک ساعت در روز کاهش داد. همچنین هنگام استفاده از این دستگاه‌ها، از نرم‌افزارهایی استفاده کنند که سطح ایمن شنوایی را نشان می‌دهند و معاینه شنوایی را نیز به طور منظم انجام دهند.

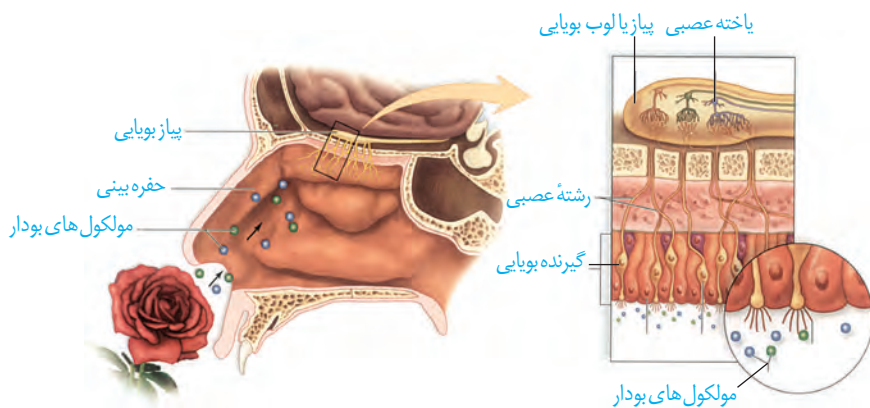


شکل ۱۱- چگونگی تحریک گیرنده‌های تعادلی در مجاری نیم دایره

فعالیت ۷

در باره شغل شنوایی سنجی و بینایی سنجی گزارشی تهیه و به کلاس ارائه کنید.

بویایی

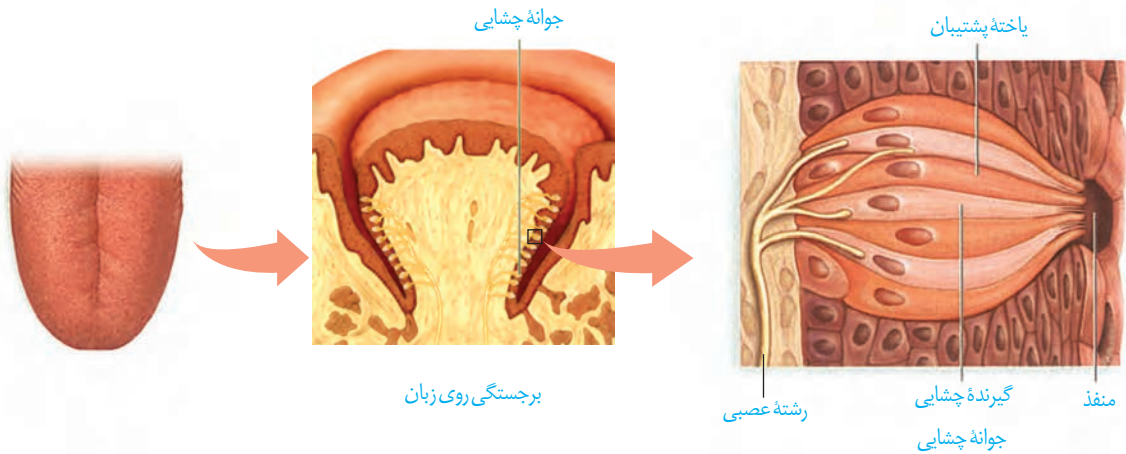


شکل ۱۲- گیرنده‌های بویایی

گیرنده‌های بویایی در سقف حفره بینی قرار دارند. مولکول‌های بودارِ هوای تنفسی این یاخته‌ها را تحریک می‌کنند. این یاخته‌ها پیام‌های بویایی را به لوب‌های (پیازهای) بویایی مغز که در تشریح مغز آنها را مشاهده کردید، می‌برند. پیام بویایی سرانجام به قشر مخ ارسال می‌شود (شکل ۱۲).

چشایی

در دهان و برجستگی‌های زبان **جوانه‌های چشایی** و درون این جوانه‌ها **گیرنده‌های چشایی** قرار گرفته‌اند. ذره‌های غذا در بزاق حل می‌شوند و یاخته‌های گیرنده‌های چشایی را تحریک می‌کنند. (شکل ۱۳).

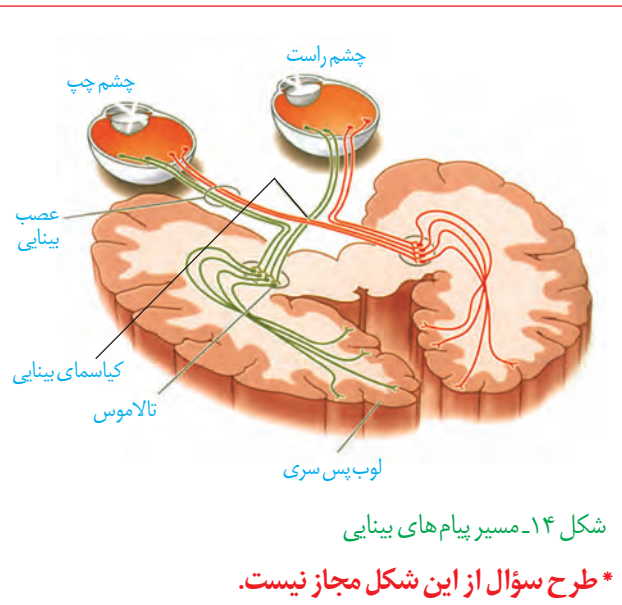


شکل ۱۳- گیرنده‌های چشایی زبان

انسان پنج مزه اصلی شیرینی، شوری، ترشی، تلخی و مزه اومامی را احساس می‌کند. **اومامی**، کلمه‌ای ژاپنی به معنای لذیذ است که برای توصیف یک مزه مطلوب که با چهار مزه دیگر تفاوت دارد، به کار می‌رود، اومامی مزه غالب غذاهایی است که آمینواسید گلوتمات دارند، مانند عصاره گوشت. حس بویایی در درک درست مزه غذا تأثیر دارد؛ مثلاً وقتی سرماخورده و دچار گرفتگی بینی شده ایم، مزه غذاها را به درستی تشخیص نمی‌دهیم.

پردازش اطلاعات حسی

با وجود یکسان بودن ماهیت پیام عصبی که از گیرنده‌های گوناگون بدن به دستگاه عصبی مرکزی می‌رسند، مغز چگونه آنها را به شکل‌های متفاوتی مانند صدا، تصویر، یا مزه تفسیر می‌کند؟ پیام‌هایی که هر نوع از گیرنده‌های حسی ارسال می‌کنند، به بخش یا بخش‌های ویژه‌ای از دستگاه عصبی مرکزی وقشر مخ وارد می‌شوند. شکل ۱۴ مسیر ارسال پیام‌های بینایی را نشان می‌دهد. **چلیبای (کیاسمای) بینایی** که در فعالیت تشریح مغز آن را مشاهده کردید، محلی است که بخشی از آسه‌های عصب بینایی یک چشم به نیمکره مخ مقابل می‌روند. پیام‌های بینایی سرانجام به **لوب‌های پس سری** قشر مخ وارد و در آنجا پردازش می‌شوند. پیام‌های بینایی قبل از رسیدن به قشر مخ از بخش‌های دیگری از مغز مانند تالاموس می‌گذرند.



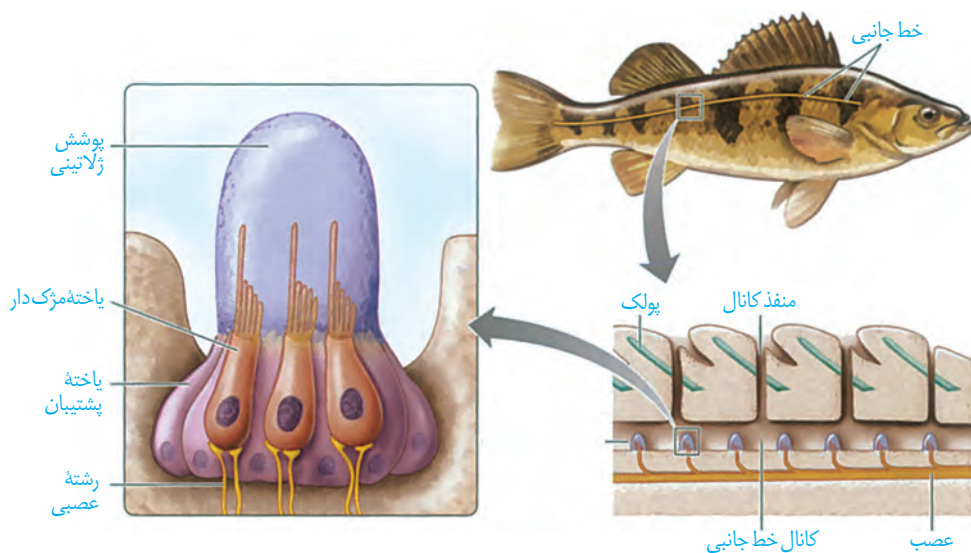
شکل ۱۴- مسیر پیام‌های بینایی

* طرح سؤال از این شکل مجاز نیست.

گیرنده‌های حسی انسان می‌توانند محرک‌های گوناگون محیط را دریافت کنند. اما محرک‌هایی مانند پرتوهای فرابنفش نیز وجود دارد که انسان به کمک دستگاه‌های ویژه‌ای می‌تواند آنها را دریافت کند؛ در حالی که برخی جانوران گیرنده‌های دریافت‌کننده آنها را دارند. در ادامه به برخی گیرنده‌های حسی در جانوران می‌پردازیم.

گیرنده‌های مکانیکی خط جانبی: در دو سوی بدن ماهی‌ها ساختاری به نام **خط جانبی** وجود دارد. این ساختار، کانالی در زیر پوست جانور است که از راه سوراخ‌هایی با محیط بیرون ارتباط دارد. درون کانال، یاخته‌های مژک‌داری قرار دارند که به ارتعاش آب حساس‌اند. مژک‌های این

یاخته‌ها در ماده‌ای ژلاتینی قرار دارند. جریان آب در کانال، ماده ژلاتینی را به حرکت در می‌آورد. حرکت ماده ژلاتینی، یاخته‌های گیرنده را تحریک می‌کند و ماهی به کمک خط جانبی از وجود اجسام و جانوران دیگر (شکار و شکارچی) در پیرامون خود آگاه می‌شود (شکل ۱۵).



شکل ۱۵- ساختار خط جانبی در ماهی




گیرنده‌های شیمیایی در پا:

در مگس، گیرنده‌های شیمیایی در موهای حسی روی پاهای آن قرار دارند. مگس‌ها به کمک این گیرنده‌ها انواع مولکول‌ها را تشخیص می‌دهند (شکل ۱۶).

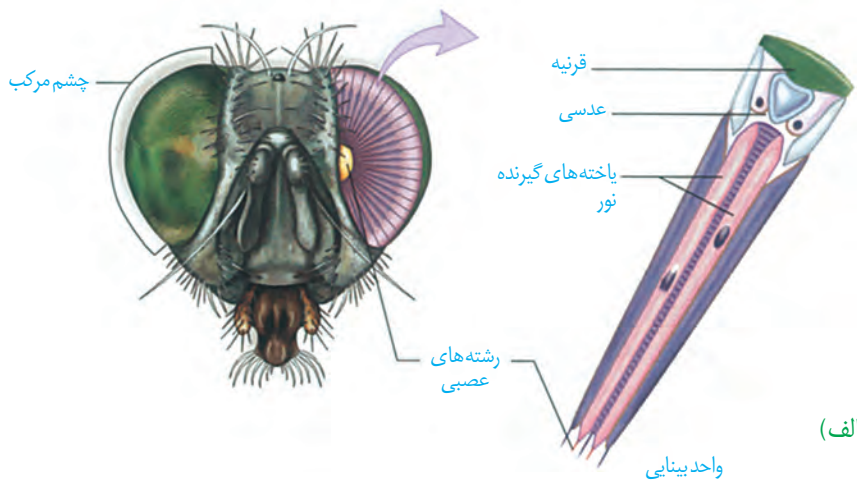

شکل ۱۶- گیرنده شیمیایی در مگس

گیرنده مکانیکی صدا در پا: روی هر یک از پاهای جلویی جیرجیرک یک محفظه هوا وجود دارد که پرده صماخ روی آن کشیده شده است. لرزش پرده در اثر امواج صوتی، گیرنده‌های مکانیکی را که در پشت پرده صماخ قرار دارند، تحریک و جانور صدا را دریافت می‌کند (شکل ۱۷).



شکل ۱۷- پرده صماخ در جیرجیرک

گیرنده‌های نوری چشم مرکب: چشم مرکب که در حشرات دیده می‌شود، از تعداد زیادی واحد بینایی تشکیل شده است. هر واحد بینایی، یک قرنیه، یک عدسی و تعدادی گیرنده نوری دارد. هر یک از این واحدها تصویر کوچکی از بخشی از میدان بینایی را ایجاد می‌کنند. دستگاه عصبی جانور، این اطلاعات را یکپارچه و تصویری موزاییکی ایجاد می‌کند (شکل ۱۸). گیرنده‌های نوری برخی حشرات مانند زنبور، پرتوهای فرابنفش را نیز دریافت می‌کنند.



(الف)

بیشتر بدانید



بیشتر حشرات سه چشم ساده روی سر خود دارند. شواهد نشان می‌دهند، زنبور عسل از چشم ساده خود برای تشخیص شدت نور و طول روز استفاده می‌کند؛ اما این چشم، تصویری ایجاد نمی‌کند.

چشم‌های ساده
چشم‌های مرکب

تصویر چشم‌های زنبور با میکروسکوپ الکترونی



(ب)

شکل ۱۸- الف) چشم مرکب حشرات و ب) تصویر موزاییکی در مقایسه با تصویری که چشم انسان می‌بیند.

بیشتر بدانید

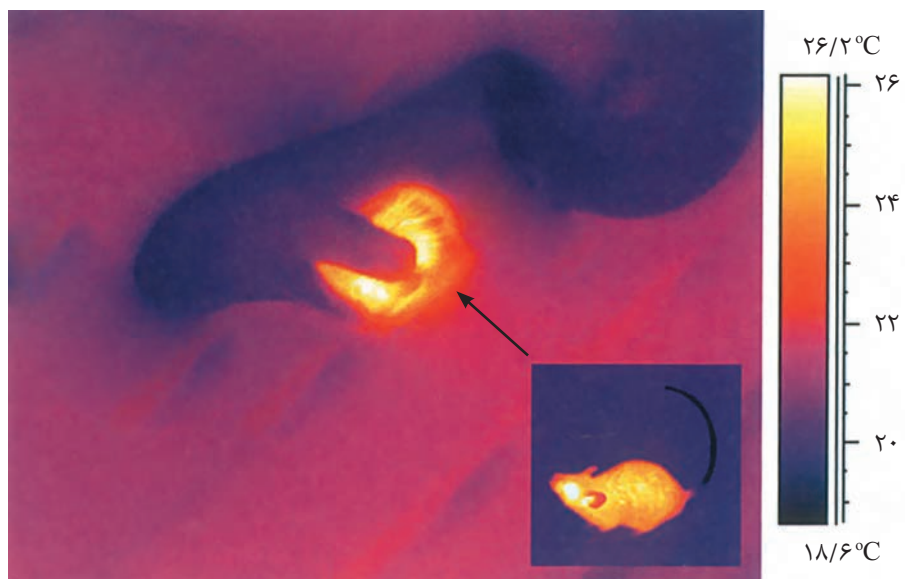
گیرنده‌های مغناطیسی:

جانورانی مانند لاک‌پشت‌های دریایی که هنگام مهاجرت مسافت‌های طولانی را می‌پیمایند، گیرنده‌های مغناطیسی دارند که به کمک آنها جهت و موقعیت خود را به درستی تشخیص می‌دهند؛ زیرا الگوی میدان مغناطیسی زمین، در نواحی مختلف کره زمین متفاوت و تقریباً در طول زمان ثابت است و با تغییر آب و هوا و شب و روز تغییر نمی‌کند.

شکل ۱۹-الف) محل گیرنده فروسرخ در مار زنگی

ب) تصویر مار در حال شکار که با دوربین حساس به پرتوهای فروسرخ گرفته شده است.

گیرنده فروسرخ مار زنگی: برخی مارها می‌توانند پرتوهای فروسرخ را تشخیص دهند. همان طور که در شکل ۱۹ می‌بینید، در جلو و زیر هر چشم مار زنگی سوراخی است که گیرنده‌های پرتوهای فروسرخ در آن قرار دارند. به کمک این گیرنده‌ها، مار پرتوهای فروسرخ تابیده از بدن شکار را دریافت می‌کند و محل آن را در تاریکی تشخیص می‌دهد.

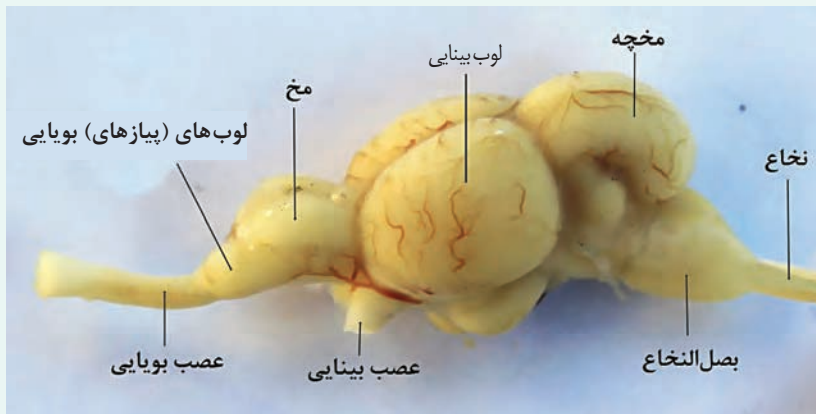


بیشتر بدانید

گیرنده‌های الکتریکی:

بسیاری از کوسه‌ها و برخی از پستانداران مانند پلاتی پوس (نوک اردکی)، گیرنده‌هایی دارند که میدان‌های الکتریکی را تشخیص می‌دهند. این جانوران از گیرنده‌های الکتریکی برای یافتن شکار و جهت‌یابی استفاده می‌کنند. برخی از ماهی‌ها برای ایجاد ارتباط با هموعان این گیرنده‌ها را به کار می‌برند.

۱- طرح زیر مغز ماهی را نشان می دهد.



- لوب های (پیازهای) بویایی ماهی نسبت به کل مغز جانور از لوب های بویایی انسان بزرگ تر است.
- این مطلب چه واقعیتی را درباره حس بویایی ماهی نشان می دهد؟
- ۲- ساختار و عملکرد چشم مرکب و چشم انسان را مقایسه کنید.
- ۳- خط جانبی در ماهی ها با کدام ساختارها در انسان شباهت دارد؟



فصل ۳

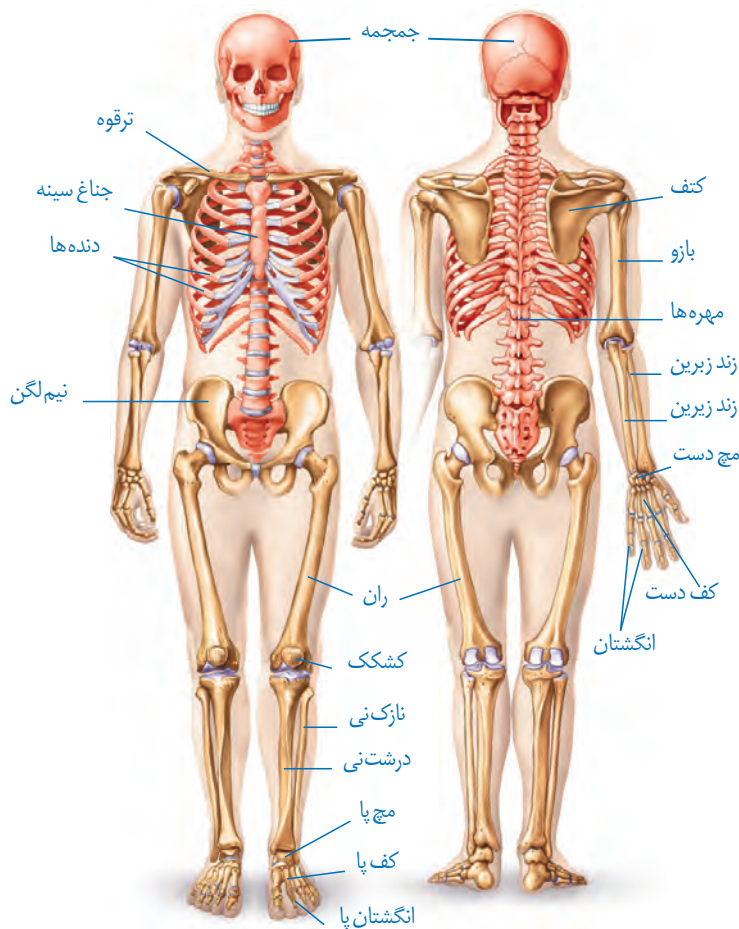
دستگاه حرکتی

استفاده ما از دست و پا به قدری است که تصور زندگی بدون آنها برایمان بسیار سخت است. خوشبختانه امروزه افراد دارای نقص عضو نیز می‌توانند با استفاده از اعضای مصنوعی تاحدودی بر محدودیت‌های حرکتی چیره شوند. مطالعات دقیق ساختار ماهیچه‌ها، مفاصل و استخوان‌ها، به همراه پیشرفت در علوم مربوط به مواد و الکترونیک، مهندسان را قادر ساخته تا اندام‌های پیچیده را جایگزین بخش‌های آسیب‌دیده یا ناقص کنند. کارآمدی بعضی اندام‌های مصنوعی آن قدر بالاست که در پارالمپیک برای جلوگیری از رقابت نابرابر، قوانین سختگیرانه‌ای برای استفاده از این اندام‌ها وضع شده است.

اندام‌های حرکتی از چه بخش‌هایی تشکیل شده‌اند؟ نحوه عملکرد این بخش‌ها چگونه است؟ چه آسیب‌های احتمالی اندام‌های حرکتی را تهدید می‌کند؟ به چه روش‌هایی می‌توان این اجزا را از آسیب حفظ کرد؟



استخوان‌ها بخشی از اسکلت انسان را تشکیل می‌دهند. اسکلت انسان شامل دو بخش **محوری** و **جانبی** است. بخش محوری همان طور که از نامش مشخص است، محور بدن را تشکیل می‌دهد و از ساختارهایی مانند مغز و قلب حفاظت می‌کند؛ گرچه بخش‌هایی از آن هم در جویدن، شنیدن، صحبت کردن و حرکات بدن نیز نقش دارند. استخوان‌های دست و پا از اجزای اسکلت جانبی‌اند. این استخوان‌ها نسبت به اسکلت محوری، نقش بیشتری در حرکت بدن دارند. بخش‌های مختلف اسکلت در شکل ۱ دیده می‌شوند.



شکل ۱- اسکلت انسان

اعمال استخوان‌ها

استخوان‌ها علاوه بر حفاظت و پشتیبانی اندام‌ها، اعمال دیگری هم انجام می‌دهند؛ مثلاً استخوان‌های کوچک گوش در شنیدن دقیق مؤثرند. همچنین استخوان‌ها به کمک ماهیچه‌ها موجب حرکت بدن می‌شوند. سایر اعمال استخوان‌ها در جدول یک خلاصه شده است.

جدول ۱-وظایف اسکلت استخوانی در انسان

وظیفه	توضیح
پشتیبانی	استخوان‌ها شکل بدن را تعیین و نیز چارچوبی را ایجاد می‌کنند تا اندام‌ها روی آنها مستقر شوند.
حرکت	اتصال ماهیچه‌های اسکلتی به استخوان‌ها و انقباض آنها باعث انتقال نیروی ماهیچه به استخوان و حرکت آن می‌شود.
حفاظت اندام‌های درونی	اسکلت استخوانی، بخش‌های حساسی، مانند نخاع، قلب، مغز و شش‌ها را حفاظت می‌کند.
تولید یاخته‌های خونی	بسیاری از استخوان‌ها مغز قرمز دارند که یاخته‌های خونی را تولید می‌کند.
ذخیره مواد معدنی	استخوان‌ها محل ذخیره مواد معدنی، مانند فسفات و کلسیم‌اند.
کمک به شنیدن، تکلم و اعمال دیگر	استخوان‌های کوچک گوش در شنیدن و استخوان‌های آرواره در تکلم و جویدن نقش دارند.



استخوان‌هایی از مجموعه



استخوان مهره



استخوان‌های مچ دست



استخوان ران

شکل ۲-انواع استخوان (از بالا به پایین): پهن، نامنظم، کوتاه، دراز (در تصاویر مقیاس رعایت نشده است).

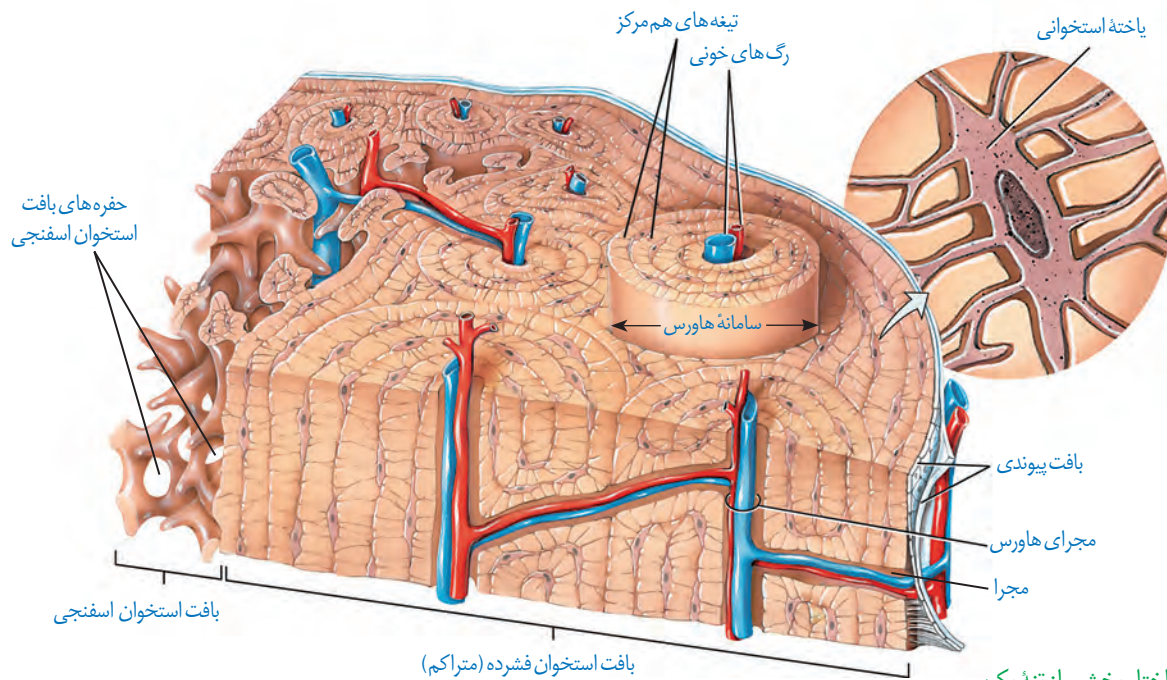
انواع استخوان

استخوان‌ها اشکال مختلفی دارند. استخوان ران و بازو از انواع استخوان‌های **درازند**، در حالی که استخوان‌های مچ از انواع استخوان‌های **کوتاه‌اند**. استخوان مجموعه از استخوان‌های **پهن** هستند. استخوان‌های ستون مهره از نوع استخوان‌های **نامنظم‌اند** (شکل ۲). استخوان‌های بدن اندازه‌های متفاوتی دارند، از استخوان‌های کوچک گوش میانی تا استخوان بزرگ لگن.

ساختار استخوان: هر استخوان از دو نوع بافت استخوانی **فشرده** و **اسفنجی** تشکیل شده است. میزان و محل قرارگیری هر نوع بافت استخوانی در استخوان‌های مختلف متفاوت است. مثلاً بافت استخوانی فشرده در طول استخوان ران، به صورت واحدهایی به نام **سامانه‌هاورس** قرار گرفته است (شکل ۳). این سامانه‌ها به صورت استوانه‌هایی هم مرکز از تیغه‌های استخوانی‌اند که از یاخته‌های استخوانی، ماده زمینه‌ای و کلاژن در اطراف آنها تشکیل شده است. ماده زمینه‌ای از پروتئین‌ها و مواد معدنی تشکیل شده است. اعصاب و رگ‌های درون مجرای مرکزی هر سامانه، ارتباط بافت زنده را با بیرون برقرار می‌کنند. سطح درونی تنه این استخوان نیز بافت اسفنجی دارد. سطح خارجی این استخوان، توسط بافت پیوندی احاطه شده است و رگ‌ها و اعصاب از راه مجراهایی به بیرون ارتباط دارند.

انتهای برآمده استخوان ران از بافت اسفنجی پر شده است. بافت استخوانی اسفنجی، از میله‌ها و صفحه‌های استخوانی تشکیل شده است که بین آنها حفره‌هایی وجود دارد که توسط رگ‌ها و مغز استخوان پر شده‌اند. مغز استخوان در دو نوع زرد و قرمز وجود دارد. مغز زرد بیشتر از چربی تشکیل

شده است و مجرای مرکزی استخوان‌های دراز را پر می‌کند. مغز قرمز استخوان در بافت استخوانی اسفنجی دیده می‌شود. در کم‌خونی‌های شدید، مغز زرد می‌تواند به مغز قرمز تبدیل شود.



شکل ۳- ساختار بخشی از تنه یک استخوان دراز و اجزای آن

فعالیت ۱

سال گذشته با ساختار بافت پیوندی و اجزای آن آشنا شدید. الف) با توجه به اطلاعات قبلی هر بافت پیوندی از چه بخش‌هایی تشکیل شده است؟ ب) مادهٔ زمینه‌ای استخوان توسط چه بخشی ساخته می‌شود؟

تشکیل و تخریب استخوان

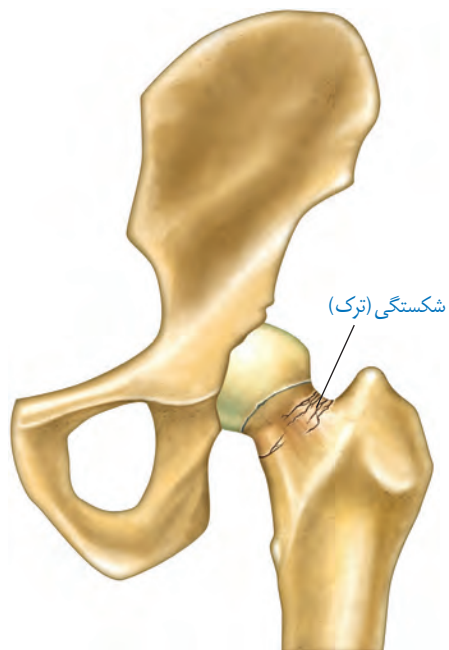
در دوران جنینی، استخوان‌ها از بافت‌های نرمی تشکیل و به تدریج با افزودن شدن نمک‌های کلسیم سخت می‌شوند. یاخته‌های استخوانی تا اواخر سن رشد، مادهٔ زمینه‌ای ترشح می‌کنند و بنابراین، تودهٔ استخوانی و تراکم آن افزایش پیدا می‌کند. با افزایش سن، یاخته‌های استخوانی کم‌کار می‌شوند و تودهٔ استخوانی به تدریج کاهش پیدا می‌کند. در همهٔ این مراحل، تغییرات استخوانی در حال انجام است. استخوان‌ها در اثر فعالیت بدنی مانند ورزش، یا با افزایش وزن ضخیم، متراکم‌تر و محکم‌تر می‌شوند و استخوان‌هایی که کمتر مورد استفاده قرار می‌گیرند، ظریف‌تر می‌شوند. مشابه این حالت، در فضاوردان دیده می‌شود که در محیط بی‌وزنی تراکم استخوانشان کاهش می‌یابد. استخوان‌های بدن به طور پیوسته دچار شکستگی‌های میکروسکوپی می‌شوند که نتیجه حرکات معمول بدن‌اند. شکستگی‌های دیگر می‌توانند ناشی از ضربه یا برخورد باشند (شکل ۴).

در این حالت، یاخته‌های نزدیک به محل شکستگی، یاخته‌های جدید استخوانی می‌سازند و پس از چند هفته آسیب بهبود پیدا می‌کنند.



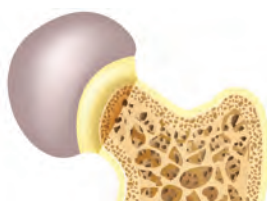
(ب)

شکل ۴- الف) شکستگی ناشی از صدمه در سر استخوان ران و ب) تصویر رادیوگرافی از استخوان شکسته ران

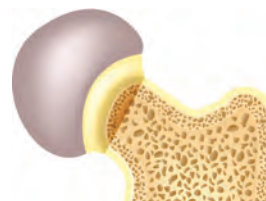


(الف)

تراکم توده استخوانی از عوامل مهم استحکام استخوان هاست و کاهش آن باعث پوکی استخوان می‌شود. در پوکی استخوان، تخریب استخوانی افزایش می‌یابد. در نتیجه استخوان‌ها ضعیف و شکننده می‌شوند (شکل ۵). کمبود ویتامین D و کلسیم غذا، نوشیدنی‌های الکلی و دخانیات با جلوگیری از رسوب کلسیم در استخوان‌ها، باعث بروز پوکی استخوان در مردان و زنان می‌شوند. اختلال در ترشح بعضی هورمون‌ها و مصرف نوشابه‌های گازدار نیز در کاهش تراکم استخوان نقش دارند.



استخوان مبتلا به پوکی



استخوان طبیعی

شکل ۵- مقایسه استخوان طبیعی با استخوان دچار پوکی

فعالیت ۲

به طور کلی تراکم توده استخوانی در زنان و مردان با هم تفاوت دارد. جدول زیر تراکم استخوانی زنان و مردان را در سنین مختلف نشان می‌دهد.

میانگین تراکم استخوان		
سن	زن	مرد
۲۰	۰/۸۹۵	۰/۹۷۹
۳۰	۰/۸۸۶	۰/۹۳۶
۴۰	۰/۸۵۰	۰/۸۹۴
۵۰	۰/۷۹۷	۰/۸۵۱
۶۰	۰/۷۳۳	۰/۸۰۹
۷۰	۰/۶۶۷	۰/۷۶۶
۸۰	۰/۶۰۷	۰/۷۲۴

طرح پرسش از اعداد جدول در همه آزمون‌ها از جمله کنکور سراسری ممنوع است.

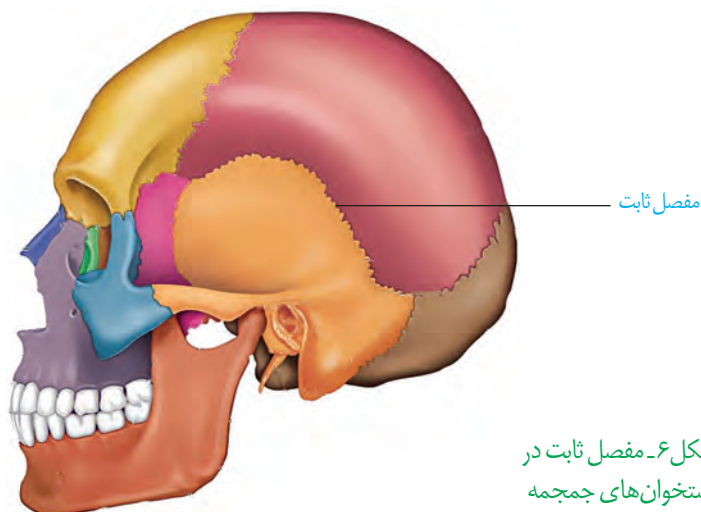
۱- منحنی تغییر تراکم توده استخوانی را در دو جنس رسم کنید.

۲- در کدام جنس تراکم استخوان بالاتر است؟

۳- بین سنین ۲۰ تا ۵۰ سالگی شدت تغییرات تراکم استخوان در مردان بیشتر است یا زنان؟

مفصل

مفصل محل اتصال استخوان‌ها با هم است. در بعضی مفصل‌ها، استخوان‌ها حرکت نمی‌کنند. نمونه آن مفصل ثابت در استخوان‌های جمجمه است. جمجمه از چندین استخوان تشکیل شده است که در محل مفصل‌های ثابت لبه‌های دنداندار آنها در هم فرو رفته و محکم شده‌اند (شکل ۶).

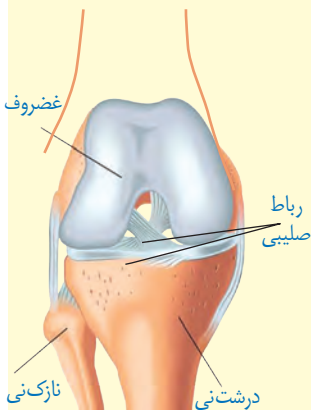


شکل ۶- مفصل ثابت در استخوان‌های جمجمه

بیشتر بدانید

پارگی رباط صلیبی یکی از موارد شایع آسیب‌دیدگی در ورزشکاران است. این رباط که به دلیل شکل ظاهر آن به این نام خوانده می‌شود سبب نگاه داشتن استخوان ران در مقابل استخوان درشت‌نی می‌شود. ممکن است فرد با پارگی رباط صلیبی سال‌ها بدون مشکل زندگی کند. تغییر ناگهانی وضعیت تنه روی زانو، ایستادن ناگهانی در حین دویدن، جهیدن و افتادن دوباره به زمین در وضعیت نامناسب و ضربات ناگهانی و شدید از جوانب زانو می‌توانند عامل ایجاد آسیب در این رباط باشد.

الف) شکل رباط صلیبی زانو و
ب) نحوه آسیب دیدن آن.



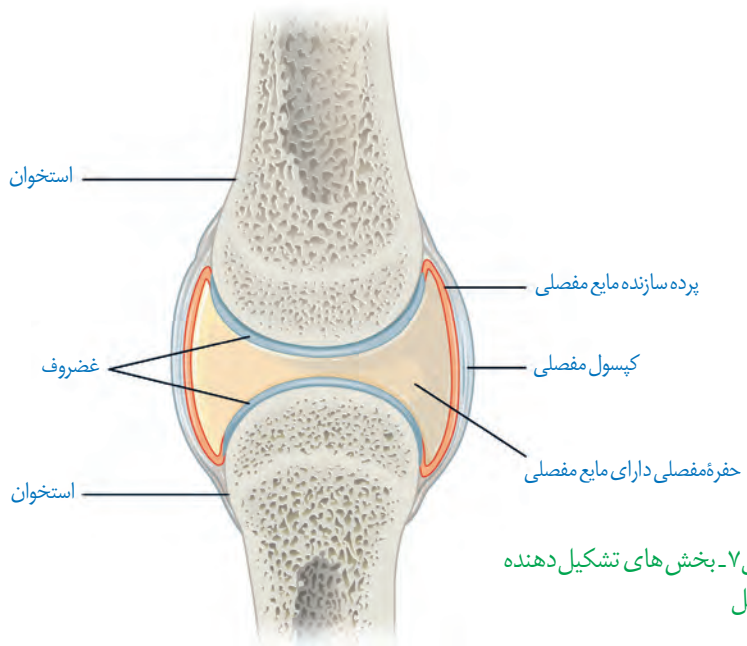
(الف)



نمای روبه‌رو

(ب)

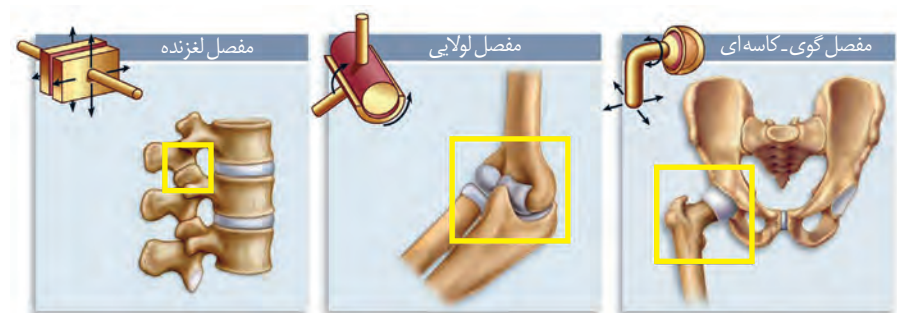
در بیشتر مفاصل‌ها، استخوان‌ها قابلیت حرکت دارند. سر استخوان‌ها در محل این مفاصل‌ها توسط بافت غضروفی پوشیده شده‌است. نمونه آن مفاصل‌های زانو، انگشتان و لگن است. استخوان‌ها در محل این نمونه‌ها توسط یک کپسول از جنس بافت پیوندی رشته‌ای احاطه شده‌اند که پر از مایع مفصلی لغزنده است. مایع مفصلی و سطح صیقلی غضروف به استخوان‌ها امکان می‌دهد که سالیان زیادی در مجاور هم لیز بخورند و اصطکاک چندانی نداشته باشند (شکل ۷).



شکل ۷- بخش‌های تشکیل دهنده مفصل

علاوه بر کپسول مفصلی، رباط‌ها و زردپی‌ها هم به کنار یکدیگر ماندن استخوان‌ها کمک می‌کنند. رباط، بافت پیوندی رشته‌ای محکمی است که استخوان‌ها را به هم متصل می‌کند. بعضی انواع مفاصل‌های متحرک را در شکل ۸ مشاهده می‌کنید. با توجه به شکل نحوه حرکت هر نوع مفصل را مقایسه کنید.

بخش صیقلی غضروف‌ها در اثر کارکرد زیاد، ضربات، آسیب‌ها و بعضی بیماری‌ها تخریب می‌شود، ولی بدن دوباره آن را ترمیم می‌کند. اگر سرعت تخریب بیش از ترمیم باشد، می‌تواند باعث بیماری‌های مفصلی شود.



(پ)

(ب)

(الف)

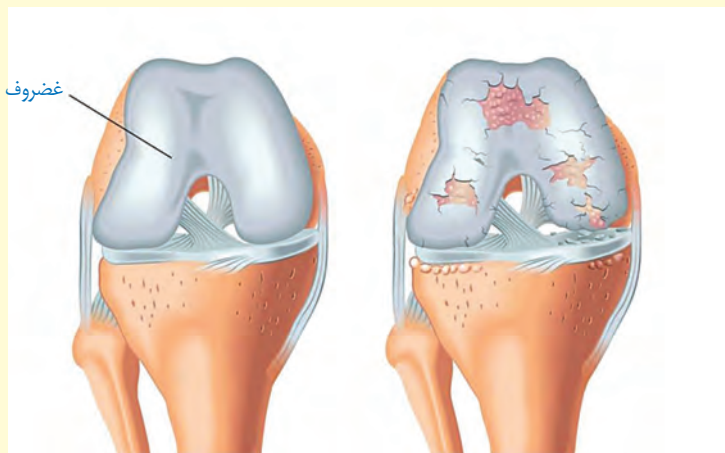
شکل ۸- انواعی از مفاصل‌های متحرک. الف) گوی-کاسه‌ای ب) لولایی پ) لغزنده.

با استفاده از مولاژهای موجود و نمونه‌های آماده میکروسکوپی آزمایشگاه مدرسه، انواع استخوان و بافت‌های استخوانی را مشاهده و با هم مقایسه کنید.

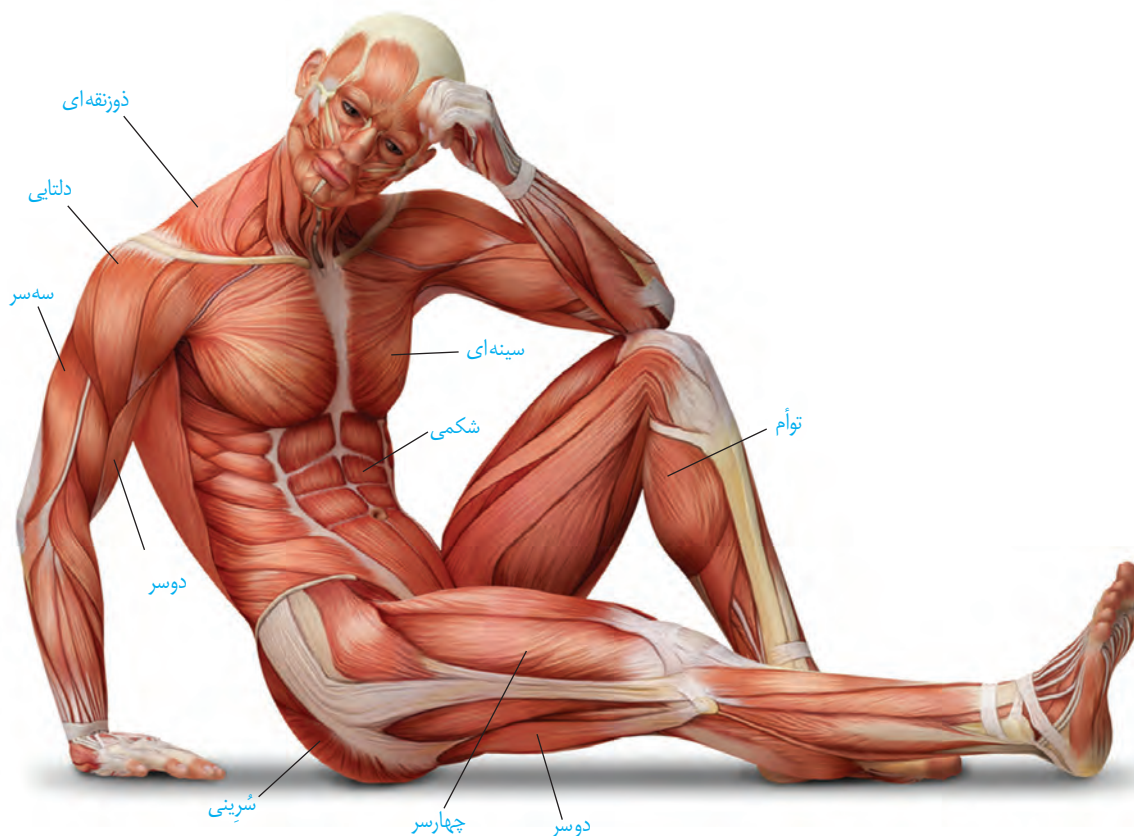
بیشتر بدانید

روماتیسم مفصلی

روماتیسم مفصلی بیماری‌ای است که در آن پرده سازنده مایع مفصلی در زیر کیسول مفصلی، دچار التهاب می‌شود. با افزایش التهاب این پرده، ترشح مایع مفصلی هم افزایش می‌یابد که موجب تورم و التهاب در محل آسیب می‌شود. با پیشرفت بیماری، غضروف‌ها آسیب می‌بینند. التهاب مفصل معمولاً در اندام‌های دوطرف بدن به صورت متقارن بروز می‌کند. تداوم این بیماری ممکن است باعث ساییدگی استخوان در محل آسیب شود. گرچه علت دقیق بروز این بیماری کاملاً شناخته شده نیست، ولی عوامل ارثی، جنسیت، محیط و بعضی بیماری‌های میکروبی در بروز این بیماری مؤثرند. این بیماری در زنان شایع‌تر از مردان است که احتمالاً به دلیل هورمون‌های جنسی زنانه است. اثر مصرف دخانیات و آلودگی هوا نیز در بروز این بیماری، اثبات شده است. به دلیل دخالت عوامل متعدد در بروز این بیماری، هنوز درمان قطعی برای آن وجود ندارد. استفاده از داروهای کاهنده التهاب مانند مشتقات هورمون کورتیزول از پیشرفت بیماری می‌کاهد و علائم آن را تا حدی کاهش می‌دهد. در موارد شدید بیماری، ممکن است مفصل آسیب‌دیده با مفصل مصنوعی جایگزین شود.



بدن انسان بیش از ۶۰۰ ماهیه‌چه اسکلتی دارد که با انقباض خود بسیاری از حرکات بدن را ایجاد می‌کنند. با این ماهیه‌چه‌ها در سال‌های قبل آشنا شدید. شکل ۹ بعضی از این ماهیه‌چه‌ها را در بدن انسان نشان می‌دهد.

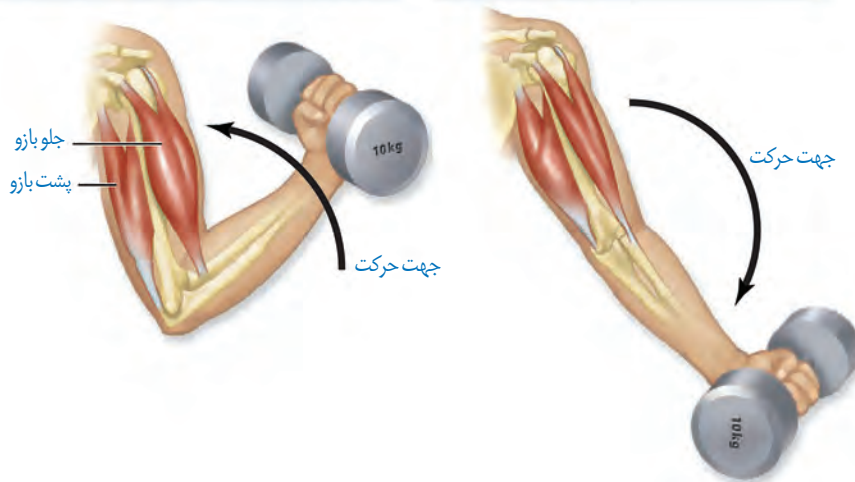


شکل ۹- ماهیه‌چه‌های اسکلتی بدن انسان

بسیاری از ماهیه‌چه‌ها به صورت جفت باعث حرکات اندام‌ها می‌شوند؛ زیرا ماهیه‌چه‌ها فقط قابلیت انقباض دارند. انقباض هر ماهیه‌چه فقط می‌تواند استخوانی را در جهتی خاص بکشد، ولی آن ماهیه‌چه نمی‌تواند استخوان را به حالت قبل برگرداند، این وظیفه بر عهده ماهیه‌چه متقابل آن است. برای مثال، ماهیه‌چه روی بازو می‌تواند ساعد را به سمت جلو یا بالا بیاورد، ولی نمی‌تواند آن را به حالت قبل برگرداند و این حرکت توسط ماهیه‌چه پشت بازو انجام می‌شود. بنابراین، هنگامی که یکی از جفت ماهیه‌چه‌های متقابل در حالت انقباض است، ماهیه‌چه دیگر در حال استراحت است (شکل ۱۰). همه ماهیه‌چه‌های اسکلتی باعث حرکت استخوان نمی‌شوند. شما چه ماهیه‌چه‌های اسکلتی را می‌شناسید که به استخوان متصل نیستند؟

ماهیچه جلوی بازو در حال انقباض و ماهیچه پشت بازو در حال استراحت

ماهیچه پشت بازو در حال انقباض و ماهیچه جلوی بازو در حال استراحت



شکل ۱۰ - عملکرد ماهیچه‌های متقابل

گرچه ماهیچه‌های اسکلتی تحت کنترل ارادی، هستند، ولی بعضی از این ماهیچه‌ها به صورت غیر ارادی هم منقبض می‌شوند. انقباض ماهیچه‌ها در اثر انعکاس نمونه‌ای از این انقباض‌هاست که با آنها در گذشته آشنا شدید. ماهیچه‌ها همچنین با انقباض خود در حفظ شکل و حالت بدن و ایجاد حرارت مؤثرند (جدول ۲).

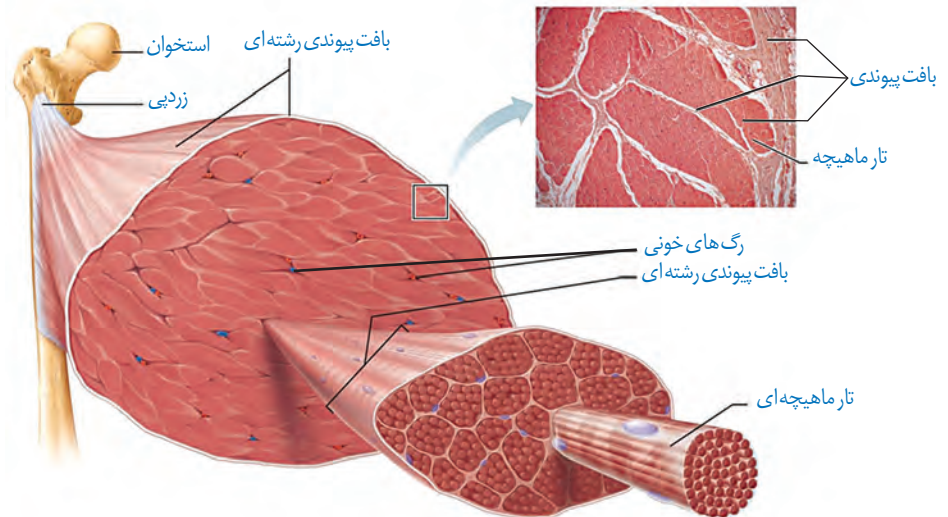
جدول ۲ - اعمال ماهیچه‌های اسکلتی

توضیح	وظیفه
ماهیچه‌ها با اتصال به استخوان‌ها باعث ایجاد حرکت ارادی می‌شوند.	حرکات ارادی
ماهیچه‌های اسکلتی نوعی کنترل ارادی برای دهان، مخرج و پلک‌ها ایجاد می‌کنند.	کنترل دریچه‌های بدن
ماهیچه‌ها با اتصال به استخوان‌ها و انقباض خود باعث اتصال استخوان‌ها به هم و نگهداری بدن به صورت قائم می‌شوند.	حفظ حالت بدن
ماهیچه‌های اسکلتی با کمک به سخن گفتن، نوشتن یا رسم شکل و ایجاد حالات مختلف چهره، در برقراری ارتباط ایفای نقش می‌کنند.	ارتباطات
فعالیت‌های سوخت و ساز در یاخته‌های ماهیچه‌ای باعث ایجاد گرمای زیادی می‌شود که می‌تواند در حفظ دمای مناسب بدن مؤثر باشد.	حفظ دمای بدن

ساختار ماهیچه اسکلتی

یک ماهیچه اسکلتی مانند آنچه که در شکل ۱۱ دیده می‌شود از چندین دسته تار ماهیچه‌ای تشکیل شده است. هر دسته تار ماهیچه‌ای از تعدادی یاخته یا تار ماهیچه‌ای تشکیل شده است.

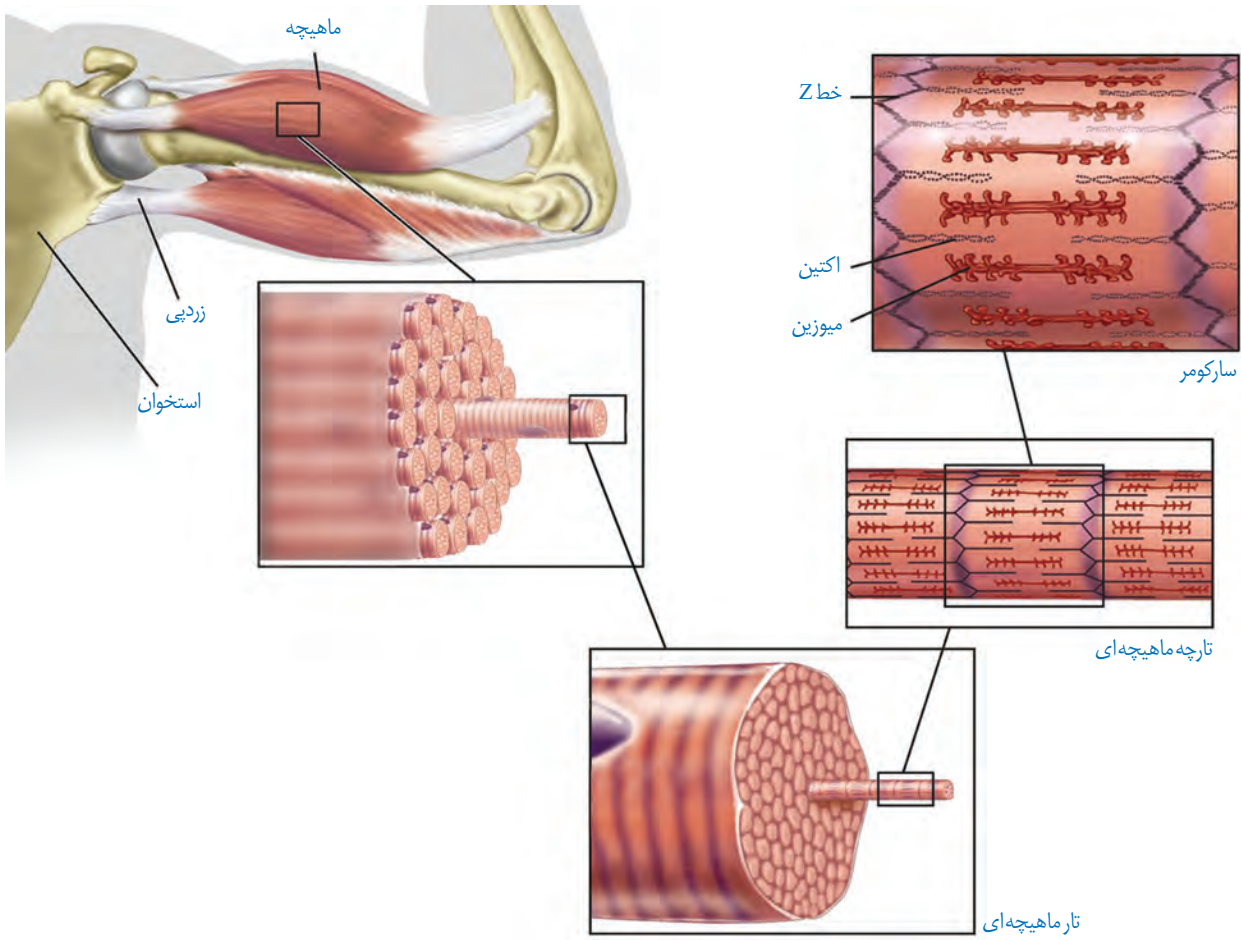
این دسته تارها با غلافی از بافت پیوندی رشته‌ای محکم احاطه شده است. این غلاف‌های پیوندی در انتها، به صورت طناب یا نواری محکم به نام **زردپی** در می‌آیند (شکل ۱۱). زردپی‌های دو انتهای ماهیچه، به استخوان‌های مختلف متصل می‌شوند. با انقباض ماهیچه، دو استخوان به طرف هم کشیده می‌شوند. نحوه اتصال ماهیچه به استخوان طوری است که معمولاً با تغییر کوتاهی در طول ماهیچه، استخوان به اندازه زیادی جابه‌جا می‌شود. مثلاً با کوتاه شدن حدود یک سانتی‌متر ماهیچه جلوی بازو، ساعد دست به اندازه زیادی حرکت می‌کند.



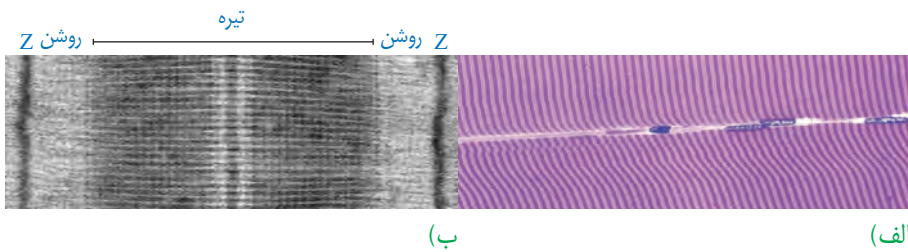
شکل ۱۱- ساختار ماهیچه اسکلتی

یاخته (تار) ماهیچه اسکلتی: در شکل ۱۲، یاخته‌های ماهیچه‌ای مانند استوانه‌ای با چندین هسته دیده می‌شوند. در واقع هر یاخته از به هم پیوستن چند یاخته در دوره جنینی ایجاد می‌شود و به همین علت چند هسته دارد. درون هر یاخته، تعداد زیادی رشته به نام **تارچه ماهیچه‌ای** وجود دارد که موازی هم در طول یاخته قرار گرفته‌اند (شکل ۱۲).

تارچه‌ها از واحدهای تکراری به نام **سارکومر** تشکیل شده‌اند که به تار ماهیچه‌ای ظاهر مخطط (خط خط) می‌دهند. دو انتهای هر سارکومر خطی به نام **خط Z** دیده می‌شود. آیا با توجه به شکل ۱۲ می‌توانید علت این نام‌گذاری را حدس بزنید؟ ظاهر مخطط این یاخته‌ها به دلیل وجود دو نوع رشته پروتئینی اکتین و میوزین است که با آرایش خاصی در کنار هم قرار گرفته‌اند. رشته‌های اکتین نازک و از یک طرف به خط Z متصل‌اند. این رشته‌ها به درون سارکومر کشیده شده‌اند. رشته‌های میوزین، ضخیم و بین رشته‌های اکتین جا گرفته‌اند. این رشته‌ها سرهایی برای اتصال به اکتین دارند. آیا می‌توانید با توجه به شکل ۱۳ و نحوه قرارگیری رشته‌های اکتین و میوزین در شکل ۱۲، علت تیره و روشن دیده شدن این تارهای ماهیچه‌ای را بیان کنید؟



شکل ۱۲- اجزای یک تار و تارچه ماهیچه‌ای



شکل ۱۳- تصویر میکروسکوپی از الف) ساختار ماهیچه مختط و ب) سارکومر



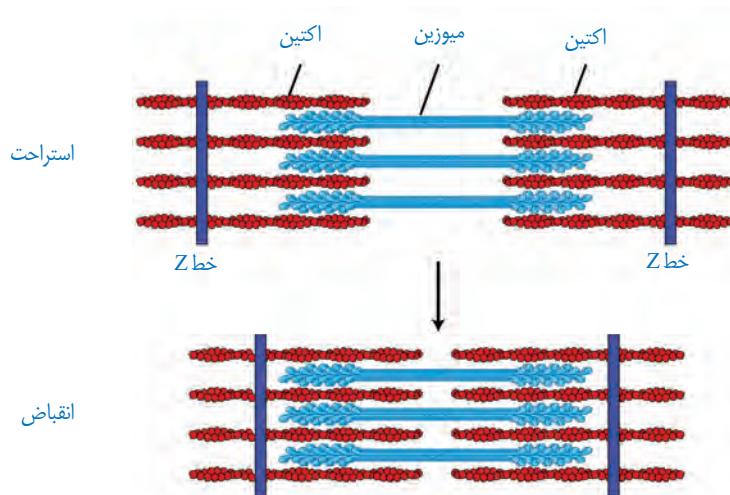
شکل ۱۴- بخش‌های مختلف مولکول میوزین

مکانیسم انقباض ماهیچه

بارسیدن پیام از مراکز عصبی، تحریک از طریق همایه ویژه‌ای از یاخته عصبی به یاخته ماهیچه‌ای می‌رسد و ناقل عصبی از پایانه یاخته عصبی آزاد می‌شود. با اتصال این ناقلین به گیرنده‌های خود در

سطح یاخته ماهیچه‌ای، یک موج تحریکی در طول غشای یاخته ایجاد می‌شود. با تحریک یاخته ماهیچه‌ای، یون‌های کلسیم از شبکه آندوپلاسمی آن آزاد می‌شود. در نتیجه این عمل، سرهای پروتئین‌های میوزین به رشته‌های اکتین متصل می‌شوند.

با اتصال پروتئین‌های میوزین به اکتین و تغییر شکل آن، خطوط Z سارکومر به هم نزدیک می‌شوند. نزدیک شدن خطوط Z باعث کوتاه شدن طول سارکومرها و در کل، کاهش طول ماهیچه می‌شود (شکل ۱۵).



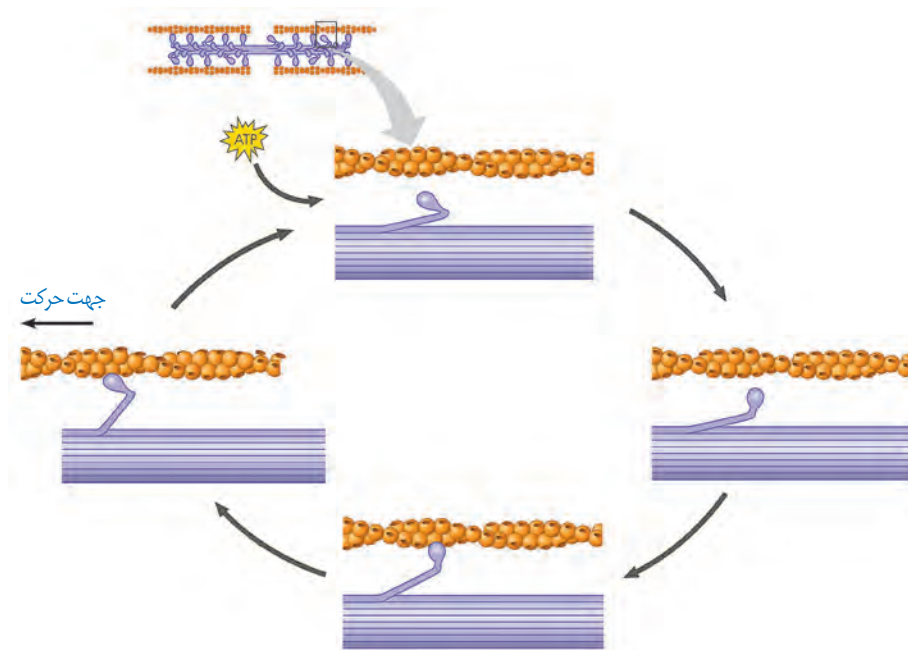
شکل ۱۵- طرح ساده‌ای از انقباض سارکومرها

بیشتر بدانید

بعضی عوامل بیماری‌زا می‌توانند در انقباض ماهیچه اختلال ایجاد کنند؛ مثلاً نوعی باکتری سمی خطرناک به نام بوتولینوم تولید می‌کند. این سم مانع از آزاد شدن استیل‌کولین از یاخته‌های عصبی حرکتی می‌شود، در نتیجه ماهیچه هیچ پیامی برای تحریک دریافت نمی‌کند. این سم که به بوتاکس نیز معروف است در مقادیر بسیار کم برای کاهش چین و چروک‌های ظاهری چهره استفاده می‌شود. تزریق مقادیر بسیار کم بوتاکس در اطراف چشم و پیشانی به طور موقت باعث فلج ماهیچه‌های چهره می‌شود و تا مدتی چروک‌های صورت رافع می‌کند، ولی از طرفی باعث بی‌حالت شدن چهره می‌شود که به چهره یخی یا بی‌روح معروف است.

لغزیدن میوزین و اکتین در مجاورت هم به انرژی نیاز دارد. برای این کار، باید پل‌های اتصال میوزین و اکتین دائماً تشکیل و با حرکتی مانند پارو زدن، خطوط Z به سمت هم کشیده شوند؛ سپس سرهای متصل جدا و به بخش جلوتر وصل شوند. این لیز خوردن، اتصال و جدا شدن سرهای میوزین صدها مرتبه در ثانیه تکرار و در نتیجه ماهیچه اسکلتی منقبض می‌شود (شکل ۱۶).

توقف انقباض: با توقف پیام عصبی انقباض، یون‌های کلسیم به سرعت با انتقال فعال به شبکه آندوپلاسمی بازگردانده و در نتیجه اکتین و میوزین از هم جدا می‌شوند. در این حال، سارکومر تا زمان رسیدن پیام عصبی بعدی در حالت استراحت می‌ماند.



شکل ۱۶- نحوه انقباض ماهیچه

تأمین انرژی انقباض

بیشتر انرژی لازم برای انقباض ماهیچه‌ها از سوختن گلوکز به دست می‌آید. در ماهیچه‌ها گلیکوژن به صورت ذخیره وجود دارد و در صورت لزوم به گلوکز تجزیه می‌شود. در صورت وجود اکسیژن، تجزیه گلوکز می‌تواند تا چند دقیقه انرژی لازم برای ساخت ATP را فراهم کند. برای انقباض طولانی‌تر، ماهیچه‌ها از اسیدهای چرب استفاده می‌کنند. ماده دیگر کراتین فسفات است که طبق واکنش زیر می‌تواند با دادن فسفات خود، مولکول ATP را به سرعت بازتولید کند.



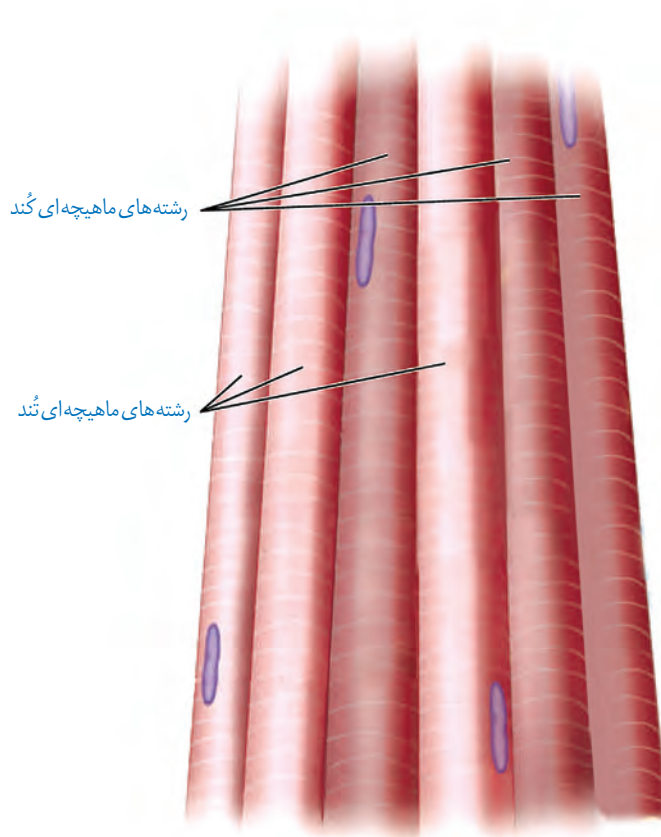
ماهیچه‌ها برای تجزیه کامل گلوکز به اکسیژن نیاز دارند. در فعالیت‌های شدید که اکسیژن کافی به ماهیچه‌ها نمی‌رسد، تجزیه گلوکز به صورت بی‌هوازی انجام می‌شود. در اثر این واکنش‌ها لاکتیک اسید تولید می‌شود که در ماهیچه انباشته می‌شود. انباشته شدن لاکتیک اسید پس از تمرینات ورزشی طولانی، باعث گرفتگی و درد ماهیچه‌ای می‌شود. لاکتیک اسید اضافی به تدریج تجزیه می‌شود و اثرات درد و گرفتگی ماهیچه‌ای کاهش می‌یابد.

انواع یاخته‌های بافت ماهیچه‌ای

یاخته‌های ماهیچه‌ای را می‌توان به دو نوع یاخته‌های تند و کند تقسیم کرد. این تقسیم‌بندی براساس سرعت انقباض است. بسیاری از ماهیچه‌های بدن هر دو نوع یاخته را دارند. تار ماهیچه‌ای نوع کند، برای حرکات استقامتی مانند شنا کردن ویژه شده‌اند. این تارها مقدار زیادی رنگ دانه قرمز به

نام **میوگلوبین** (شبيه هموگلوبين) دارند که می‌توانند مقداری اکسیژن را ذخیره کنند. این تارها بیشتر انرژی خود را به روش هوازی به دست می‌آورند (شکل ۱۷).

تارهای ماهیچه ای تند (یا سفید) سریع منقبض می‌شوند. این تارها مسئول انجام انقباضات سریع مثل دوی سرعت و بلند کردن وزنه‌اند. این تارها تعداد میتوکندری کمتری دارند و انرژی خود را بیشتر از راه تنفس بی‌هوازی به دست می‌آورند. مقدار میوگلوبین این تارها هم کمتر است. این تارها سریع انرژی خود را از دست می‌دهند و خسته می‌شوند. افراد کم‌تحرک، دارای تار ماهیچه ای تند بیشتری هستند که با ورزش، تارهای نوع تند به نوع کند تبدیل می‌شوند (شکل ۱۷).



شکل ۱۷- تارهای ماهیچه ای تند و کند

فعالیت ۴

الف) به نظر شما چه تفاوت‌هایی بین دوندگان دوی صدمتر و ماراتن از نظر تعداد و درصد تارهای ماهیچه ای تند و کند وجود دارد؟

ب) کدام گروه هنگام فعالیت ورزشی حرفه ای خود به اکسیژن نیاز بیشتری دارند؟

پ) مقدار میوگلوبین ماهیچه‌های مؤثر در ورزش حرفه ای این ورزشکاران چه تفاوتی دارد؟

حرکت در جانوران

جانوران حداقل در بخشی از زندگی خود می‌توانند از جایی به جای دیگری حرکت کنند. شیوه‌های حرکتی در جانوران بسیار متنوع است. شناکردن، پروازکردن، دویدن و خزیدن، نمونه‌هایی از این حرکات اند. با این وجود، اساس حرکت در جانوران مشابه است؛ برای حرکت در یک سو، جانور باید نیرویی در خلاف آن وارد کند. برای انجام حرکت، جانوران نیازمند ساختارهای اسکلتی و ماهیچه‌ای هستند.

ساختار اسکلت در جانوران متفاوت است، ولی می‌توان انواع اسکلت در جانوران را به سه گروه آب‌ایستایی^۱، بیرونی و درونی طبقه‌بندی کرد. اسکلت آب‌ایستایی در اثر تجمع مایع درون بدن به آن شکل می‌دهد. عروس دریایی اسکلت آب‌ایستایی دارد. ضمناً در این جانوران، با فشار جریان آب به بیرون، جانور به سمت مخالف حرکت می‌کند. این حالت مانند حرکت بادکنک هنگام خالی شدن هوای آن است و باعث رانده شدن بادکنک در خلاف جهت خروج هوا می‌شود.

حشرات و سخت‌پوستان نمونه‌هایی از جانوران دارای اسکلت بیرونی هستند. در این جانوران، اسکلت علاوه بر کمک به حرکت، وظیفه حفاظتی هم دارد. با افزایش اندازه جانور، اسکلت خارجی آن هم باید بزرگ‌تر و ضخیم‌تر شود. بزرگ بودن اسکلت خارجی، باعث سنگین‌تر شدن آن می‌شود که در حرکات جانور محدودیت ایجاد می‌کند. به همین علت، اندازه این جانوران از حد خاصی بیشتر نمی‌شود.

مهره‌داران اسکلت درونی دارند. در انواعی از ماهی‌ها مانند کوسه‌ماهی، جنس این اسکلت از نوع غضروفی است، ولی در سایر مهره‌داران استخوانی است که غضروف نیز دارد. ساختار استخوان در این جانوران بسیار شبیه ساختار استخوان انسان است.

فعالیت ۵

با استفاده از منابع علمی تحقیق کنید هر یک از انواع اسکلت درونی یا بیرونی چه مزایا و محدودیت‌هایی دارند. نتایج تحقیق خود را به صورت گزارش در کلاس ارائه کنید.



فصل ۴

تنظیم شیمیایی

تصور کنید روزی تمام وسایل ارتباطی مثل تلفن، اینترنت و رادیو در یک شهر قطع شود. آیا اداره کردن آن شهر ممکن خواهد بود؟ آیا می‌توان بخش‌های مختلف شهر را که در فواصل دور یا نزدیک قرار دارند، با یکدیگر هماهنگ کرد؟ آیا می‌توان یک خبر را به اطلاع همهٔ مردم شهر رساند؟ در پریاختگان، یاخته‌ها نمی‌توانند از یکدیگر مستقل باشند. در فصل اول دیدیم که دستگاه عصبی، یکی از دستگاه‌های ارتباطی بدن است. اما دستگاه عصبی با تک‌تک یاخته‌های بدن ارتباط ندارد. در این فصل، با ارتباطات شیمیایی آشنا می‌شویم و خواهیم دید که چگونه بخش مهمی از فرایندهای بدن توسط آن انجام می‌شود.



گفتار ۱ ارتباط شیمیایی

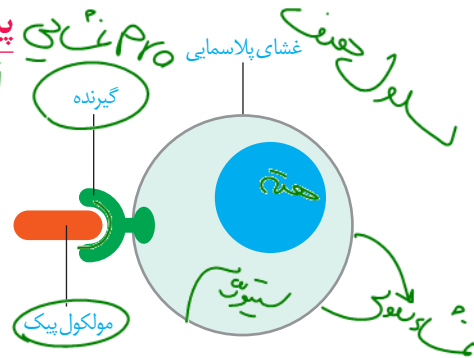
در فصل اول دیدیم که یاخته‌های عصبی ارتباط بین نقاط مختلف بدن را برقرار می‌کنند. در این گفتار، نقش مولکول‌ها را در برقراری ارتباط خواهیم دید.

سلول هدف

پیک شیمیایی مولکولی است که پیامی را منتقل می‌کند. یاخته‌ای که پیام را دریافت می‌کند **یاخته هدف** نام دارد.

پیک، چگونه یاخته هدف را از میان انبوه یاخته‌ها پیدا می‌کند و پیام را اشتباهی به یاخته دیگر نمی‌رساند؟ **یاخته هدف**، برای پیک گیرنده‌ای دارد (شکل ۱). مولکول پیک، تنها بر یاخته‌ای می‌تواند تأثیر بگذارد که گیرنده آن را داشته باشد و این یاخته، همان یاخته هدف است.

بر اساس مسافتی که پیک طی می‌کند تا به یاخته هدف برسد، پیک‌ها را به دو گروه کوتاه‌برد و دور‌برد تقسیم می‌کنند.



شکل ۱- پیک از طریق اثر برگیرنده اختصاصی خود در یاخته هدف در آن تغییر ایجاد می‌کند

پیک‌های کوتاه‌برد

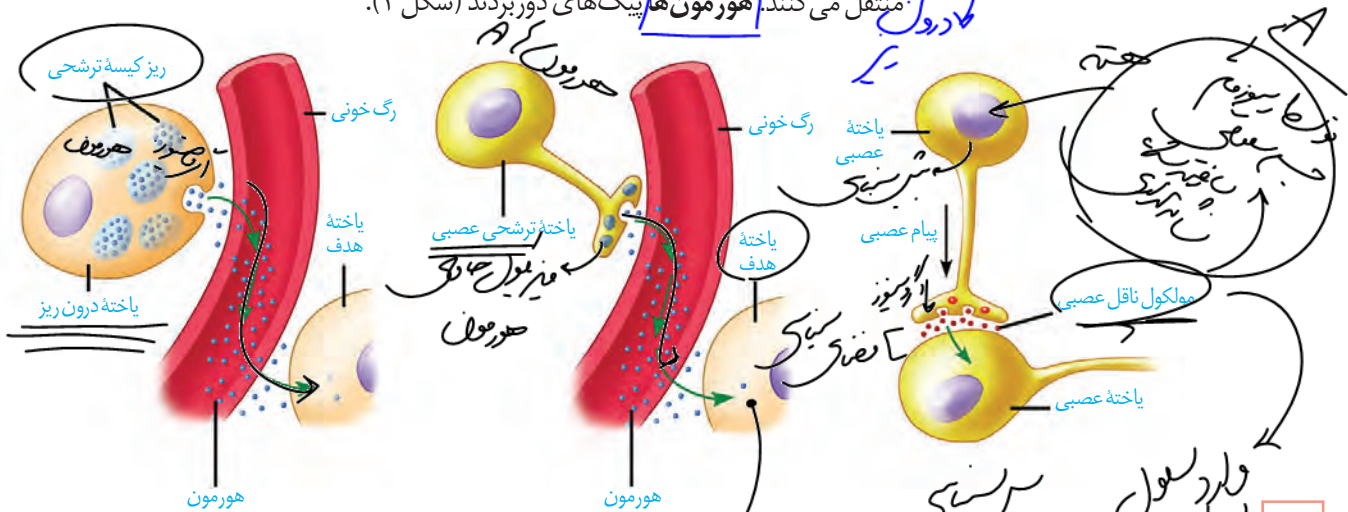
پیک کوتاه‌برد، چنان‌که از نام آن پیداست، بین یاخته‌هایی ارتباط برقرار می‌کند که در نزدیکی هم‌اند و حداکثر چند یاخته با هم فاصله دارند. ناقل عصبی یک پیک کوتاه برد است. این پیک از یاخته پیش‌همایه‌ای ترشح و بر یاخته پس‌همایه‌ای اثر می‌کند.

تغییر در پیک‌های کوتاه‌برد

پیک‌های دور‌برد

پیک‌های دور‌برد پیک‌هایی هستند که به جریان خون وارد می‌شوند و پیام را به فاصله‌ای دور منتقل می‌کنند. **هورمون‌ها** پیک‌های دور‌بردند (شکل ۲).

شکل ۲- مقایسه هورمون و ناقل عصبی



T₃, T₄

ولرد سلول، پیک‌های کوتاه‌برد

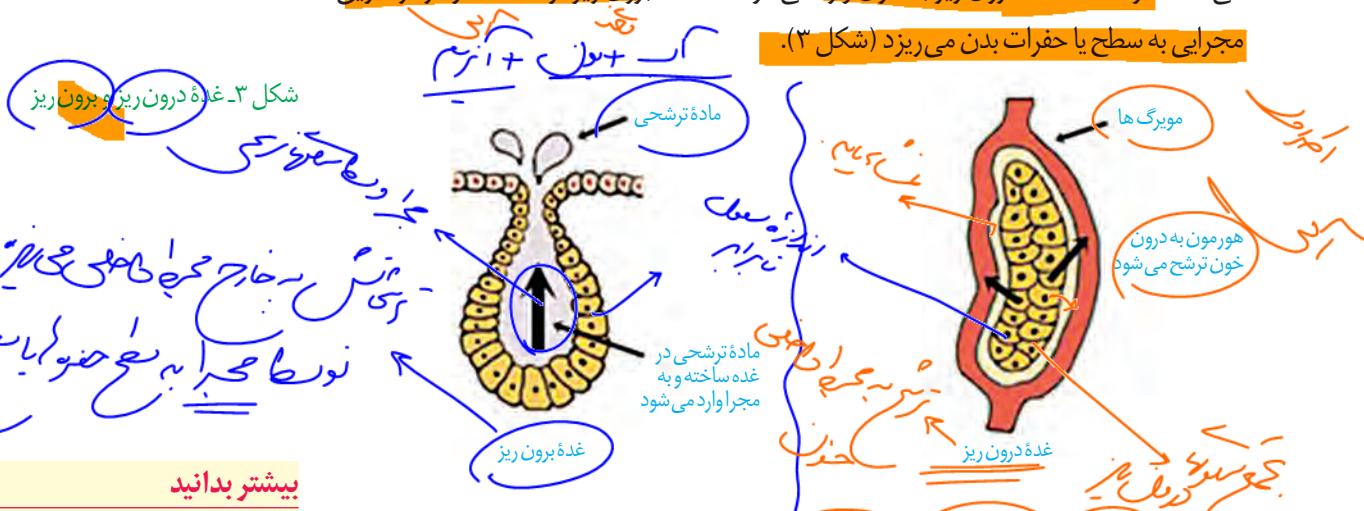
گاهی یاخته‌های عصبی پیک شیمیایی را به خون ترشح می‌کنند؛ در این صورت، این پیک یک هورمون به شمار می‌آید، نه یک ناقل عصبی.

این هورمون‌ها غده‌های درون ریزند اما لگم دارند که غده‌های درون ریزند

غده‌های بدن

هورمون‌ها از **یاخته‌های درون ریز** ترشح می‌شوند. این یاخته‌ها ممکن است به صورت پراکنده در اندام‌ها دیده شوند. مثال این یاخته‌ها را قبلاً دیده ایم. مثلاً در سال گذشته خواندیم که یاخته‌های درون ریز در معده و دوازدهه به ترتیب، هورمون گاسترین و سکرترین را ترشح می‌کنند. همچنین ممکن است یاخته‌های درون ریز را به صورت مجتمع یافت که در این صورت، **غده درون ریز** را تشکیل می‌دهند. ترشحات غده درون ریز به خون وارد می‌شود، اما غده برون ریز ترشحات خود را از طریق

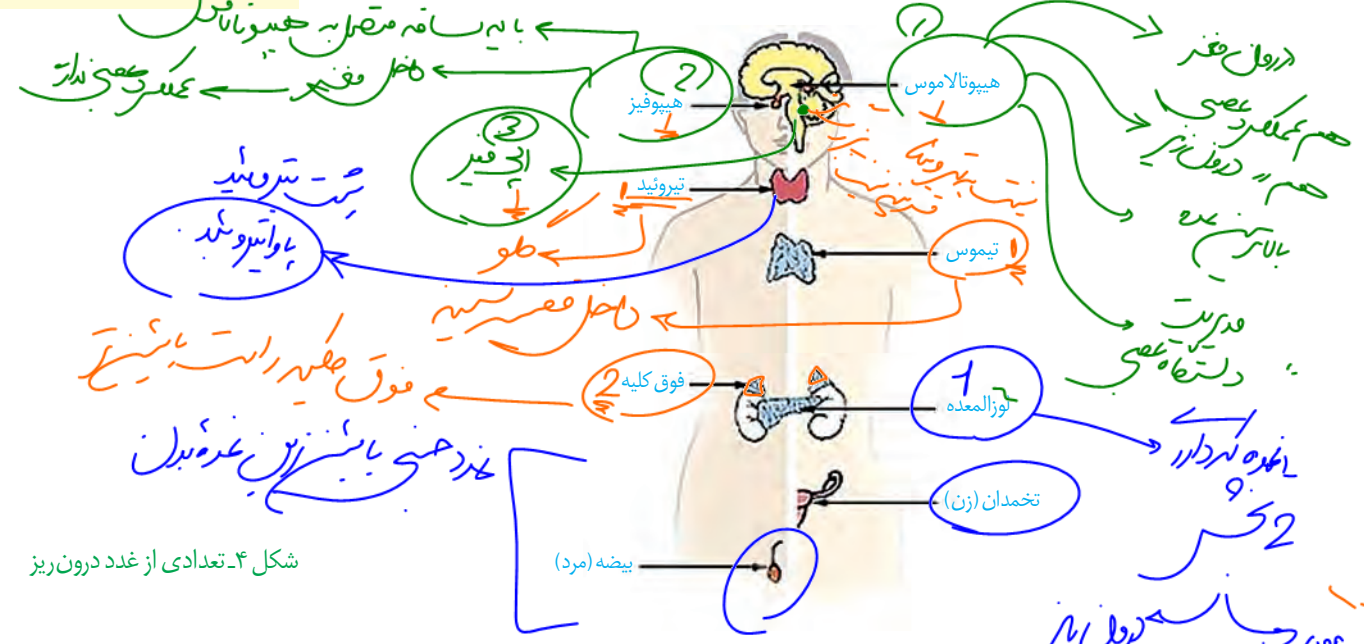
مجرای به سطح یا حفرات بدن می‌ریزد (شکل ۳).



بیشتر بدانید

جنس مولکول گیرنده از نوع پروتئین است. در واقع یکی از وظایف پروتئین‌های غشایی، عملکرد گیرنده‌ای است.

مجموع یاخته‌ها و غدد درون ریز و هورمون‌های آنها را **دستگاه درون ریز** می‌نامند. این دستگاه به همراه دستگاه عصبی، فعالیت‌های بدن را تنظیم می‌کنند و نسبت به محرک‌های درونی و بیرونی پاسخ می‌دهند. تعدادی از غدد دستگاه درون ریز را در شکل ۴ می‌بینید.

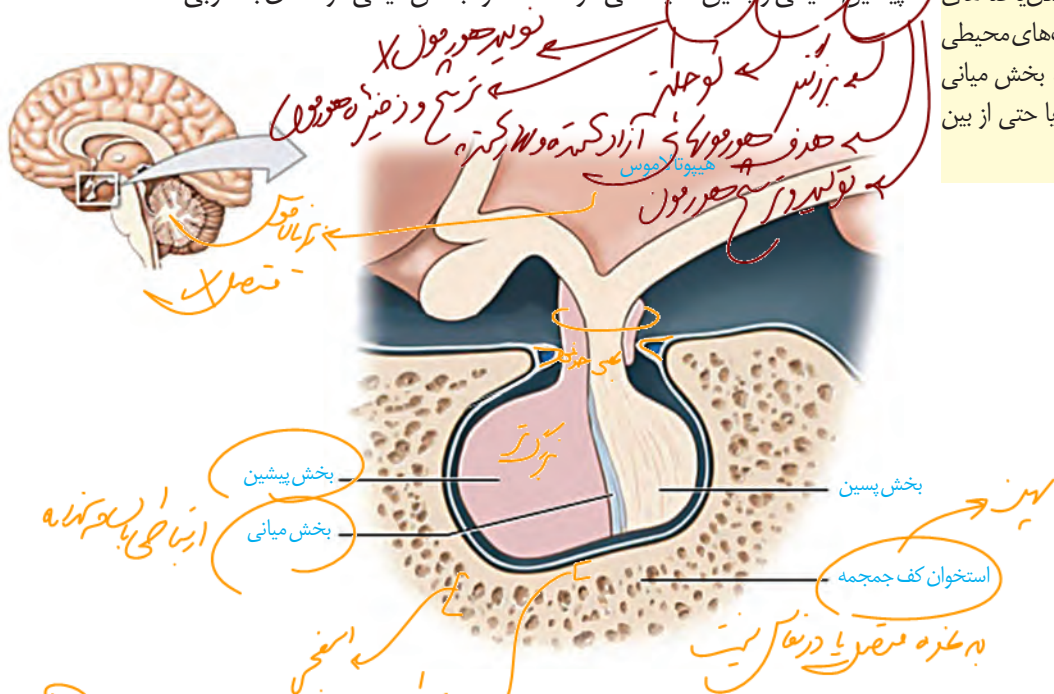


دستگاه درون ریز که غده‌ها بخش مهمی از آن اند، فعالیت‌های بدن را به وسیله هورمون‌ها تنظیم می‌کند. در این گفتار، غدد درون ریز و هورمون‌های آنها را در انسان بررسی می‌کنیم.

بیشتر بدانید

نقش بخش میانی غده هیپوفیز در ماهی‌ها و دوزیستان بهتر شناخته شده است. این بخش، هورمونی ترشح می‌کند که باعث تیره‌تر شدن یاخته‌های پوست در پاسخ به محرک‌های محیطی می‌شود. در انسان بالغ، بخش میانی بسیار کوچک می‌شود یا حتی از بین می‌رود.

هیپوفیز درون ریز
 غده هیپوفیز تقریباً به اندازه یک نخود است و با ساقه‌ای به هیپوتالاموس متصل است (شکل ۵). این غده درون یک گودی، در استخوانی از کف جمجمه جای دارد. غده هیپوفیز سه بخش دارد که پیشین، میانی و پسین نامیده می‌شوند. عملکرد بخش میانی در انسان به خوبی شناخته نشده است.



شکل ۵- غده هیپوفیز

بخش پیشین
 بخش پیشین تحت تنظیم هیپوتالاموس، شش هورمون ترشح می‌کند. هیپوتالاموس توسط رگ‌های خونی با بخش پیشین ارتباط دارد و هورمون‌هایی به نام آزادکننده و مهارکننده ترشح می‌کند که باعث می‌شوند هورمون‌های بخش پیشین ترشح شوند، یا اینکه ترشح آنها متوقف شود. به همین دلیل، غده هیپوتالاموس نقش مهمی در تنظیم ترشح سایر غده‌ها بر عهده دارد.

هورمون رشد، یکی از هورمون‌های بخش پیشین است که با رشد طولی استخوان‌های دراز، اندازه قدرافزایش می‌دهد. در نزدیکی دو سر استخوان‌های دراز، دو صفحه غضروفی وجود دارد که صفحات رشد نام دارند (شکل ۶) یاخته‌های غضروفی در این صفحات تقسیم می‌شوند. همچنان

Handwritten notes in orange and purple: 'هیپوتالاموس هیپوفیز پیشین', 'کنترل می‌کند', 'هیپوفیز ترشح', 'کنترل می‌کند', 'دو صفحه غضروفی', 'دو صفحه غضروفی', 'دو صفحه غضروفی', 'دو صفحه غضروفی'.

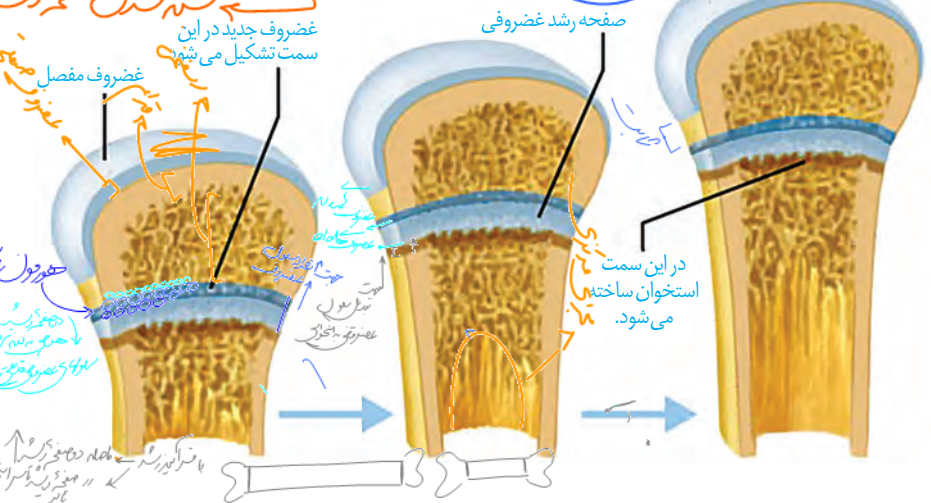
باخته‌های استخوان در سنین بلوغ

سینوفال

بیشتر بدانید
اندازه‌ی قد هر فرد علاوه بر ژنتیک به محیط هم بستگی دارد. ژن‌هایی که از والدین به فرزند می‌رسد تعیین‌کننده‌ی اندازه‌ی قد اوست. اندازه‌ی قد به نژاد هم بستگی دارد (که آن هم موردی از ژنتیک است). به عنوان مثال، میانگین قد در آسیای جنوب شرقی کمتر از ایران است. محیط تأثیر غیر قابل انکاری بر اندازه‌ی نهایی قد دارد. تغذیه، ورزش و حتی استراحت از عوامل مؤثر بر اندازه‌ی قد هستند.

که باخته‌های جدیدتر پدید می‌آیند، باخته‌های استخوانی جانشین باخته‌های غضروفی قدیمی‌تر می‌شوند و به این ترتیب، استخوان رشد می‌کند. چند سال بعد از بلوغ، صفحات رشد از حالت غضروفی به استخوانی تبدیل می‌شوند. در این حالت، رشد استخوان متوقف می‌شود و می‌گویند «صفحات رشد بسته شده‌اند». تا زمانی که این صفحات بسته نشده‌اند، هورمون رشد می‌تواند قدر افزایش دهد.

هورمون رشد می‌تواند قدر افزایش دهد. * بلوغ حاصل از بلوغ هورمونی * صفحات رشد با بسته شدن هورمون رشد * صفحات رشد با بسته شدن هورمون رشد * صفحات رشد با بسته شدن هورمون رشد



شکل ۶ - صفحات رشد در استخوان‌های دراز و چگونگی رشد استخوان

در دوران مادر

پرولاکتین هورمون دیگر بخش پیشین است. پس از تولد نوزاد، این هورمون، غدد شیری را به تولید شیر وامی دارد. تا مدت‌ها تصور می‌شد که کار پرولاکتین تنها همین است. اما اکنون شواهد روزافزونی مبنی بر نقش این هورمون در دستگاه ایمنی و حفظ تعادل آب و دست آمده است. در مردان، این هورمون در تنظیم فرایندهای دستگاه تولیدمثل نیز نقش دارد.

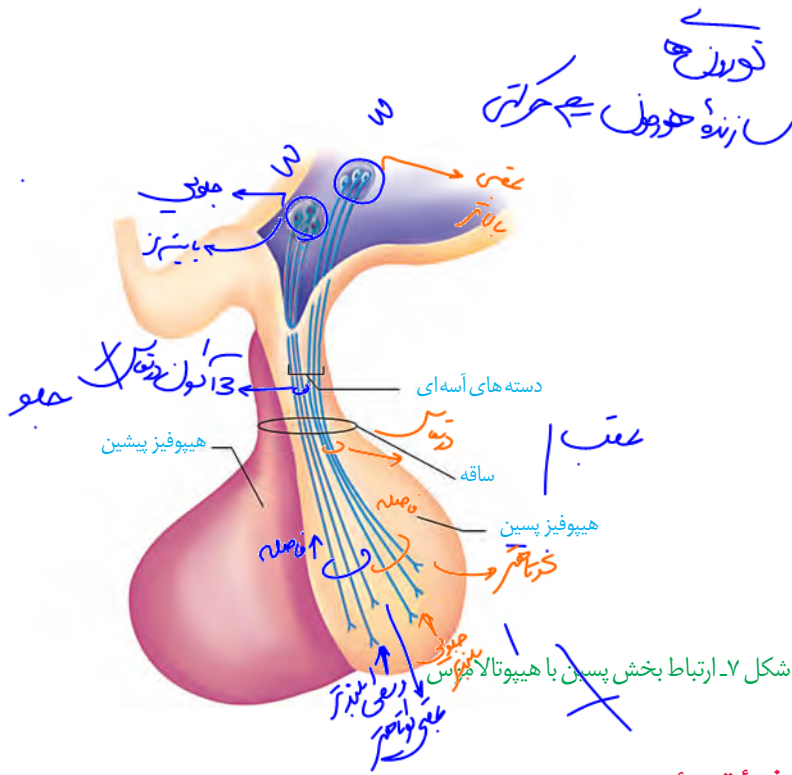
هورمون‌های محرک، چهار هورمون باقی‌مانده بخش پیشین را تشکیل می‌دهند. بخش پیشین با ترشح این هورمون‌ها فعالیت سایر غدد را تنظیم می‌کنند. هورمون محرک تیروئید، فعالیت غده سپردیس (تیروئید) را تحریک می‌کند؛ هورمون محرک فوق کلیه، وی غده فوق کلیه تأثیر می‌گذارد و هورمون‌های محرک غده‌های جنسی که LH و FSH نام دارند، کار غده‌های جنسی (تخمدان و بیضه) را تنظیم می‌کنند.

بخش پسین

بخش پسین هیچ هورمونی نمی‌سازد. هورمون‌های بخش پسین در باخته‌های عصبی هیپوتالاموس تولید می‌شوند. این هورمون‌ها که در جسم یاخته‌ای ساخته شده‌اند از طریق آسه‌ها به بخش پسین می‌رسند (شکل ۷). دو هورمون به نام‌های **حداثراری**، که در سال قبل با آن آشنا شدیم، و **اکسی‌توسین**، که در فصل ۷ با آن آشنا می‌شویم، در هیپوتالاموس ساخته و در بخش پسین، ذخیره و ترشح می‌شوند.

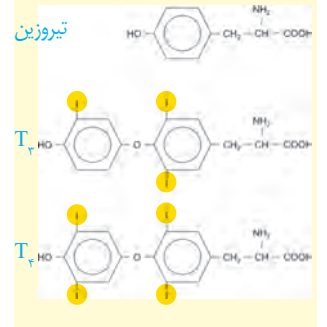


در جمع سبور نوروزها



بیشتر بدانید

هورمون‌های تیروئیدی از پیوستن دو مشتق آمینو اسید تیروزین پدید آمده‌اند. یکی از آنها سه اتم ید دارد و دیگری چهار اتم ید؛ به همین دلیل، آن دو را به ترتیب، با T_3 و T_4 نمایش می‌دهند. T_4 که تیروکسین نیز نامیده می‌شود در مجاورت یاخته‌های هدف به T_3 تبدیل می‌شود.



غده تیروئید

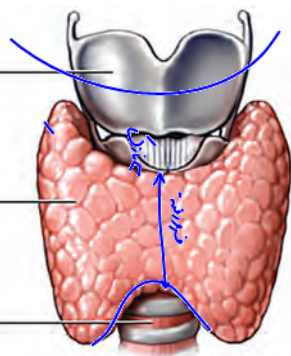
غده تیروئید شکلی شبیه به سپر دارد و در زیر حنجره واقع است (شکل ۸). هورمون‌هایی که از این غده ترشح می‌شوند، عبارت‌اند از: هورمون‌های تیروئیدی و کلسی‌تونین. هورمون‌های تیروئیدی دو هورمون ید دار به نام‌های T_3 و T_4 هستند.

هورمون‌های تیروئیدی میزان تجزیه گلوکز و انرژی در دسترس را تنظیم می‌کنند. از آنجایی که تجزیه گلوکز در همه یاخته‌های بدن رخ می‌دهد پس همگی، یاخته هدف این هورمون‌ها هستند.

در دوران جنینی و کودکی، T_3 برای نمه دستگاه عصبی مرکزی لازم است؛ بنابراین، فقدان آن به اختلالات نمو دستگاه عصبی و عقب ماندگی ذهنی و جسمی جنین می‌انجامد.

اگر ید در غذا به مقدار کافی نباشد، آن‌گاه هورمون تیروئیدی به اندازه کافی ساخته نمی‌شود. در این حالت غده هیپوفیز با ترشح هورمون محرک تیروئید، باعث رشد بیشتر غده می‌شود تا ید بیشتری جذب کند. فعالیت بیشتر غده تیروئید منجر به بزرگ شدن آن می‌شود که به آن گواتر می‌گویند.

ید در غذاهای دریایی فراوان است. مقدار ید موجود در فراورده‌های کشاورزی و دامی یک منطقه، به مقدار ید خاک بستگی دارد. با توجه به کمبود ید در خاک کشور ما، همچون بسیاری از دیگر کشورها، برنامه‌های غذایی متکی به فراورده‌های غیر دریایی نمی‌تواند فراهم کننده ید مورد نیاز بدن باشد.



شکل ۸- نمای جلویی غده تیروئید

استفاده از نمک ید دار می‌تواند ید مورد نیاز بدن را تأمین کند. تحقیق کنید که نمک‌های ید دار

در چه شرایطی خواص خود را حفظ می‌کنند و چه غذاهایی مانع جذب ید می‌شوند؟

فعالیت ۱

هورمون دیگر تیروئید، **کلسی تونین** است. زمانی که کلسیم در خون زیاد است، این هورمون

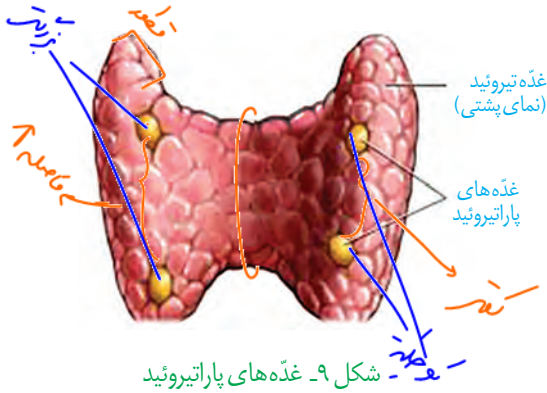
از برداشت کلسیم از استخوانها جلوگیری می کند.

غده های پاراتیروئید
 ← بافت غده ها در ماده زمینه استخوان
 ← جلوی پوسیدگی استخوان را می گیرند

غده های پاراتیروئید به تعداد چهار عدد در پشت غده تیروئید قرار دارند (شکل ۹). این غدد، **هورمون پاراتیروئیدی** ترشح می کنند.

هورمون پاراتیروئیدی در پاسخ به کاهش کلسیم خون ترشح می شود و در هم ایستایی کلسیم نقش دارد. این هورمون، کلسیم را از ماده زمینه استخوان جدا و آزاد می کند. همچنین باز جذب کلسیم را در کلیه افزایش می دهد.

یکی دیگر از کارهای هورمون پاراتیروئیدی اثر بر ویتامین D است. این هورمون، ویتامین D را به شکلی تبدیل می کند که می تواند جذب کلسیم از روده را افزایش دهد؛ بنابراین کمبود ویتامین D باعث کاهش جذب کلسیم از روده می شود.



شکل ۹ - غده های پاراتیروئید

حزب نومی ماده مغز نخاعی نومی ماده انگر

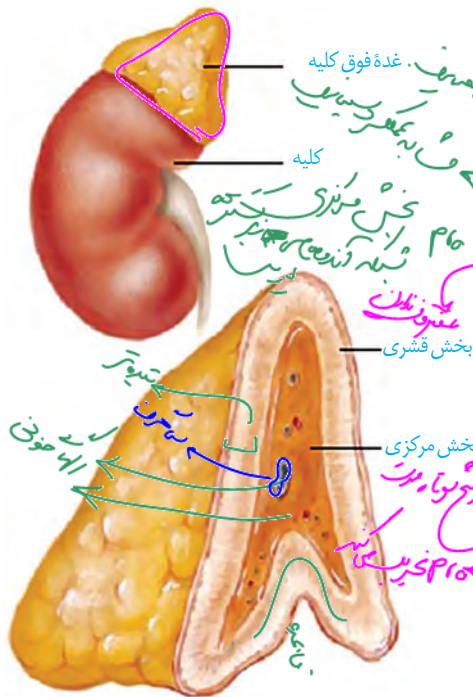
غده فوق کلیه

غده فوق کلیه روی کلیه قرار دارد و از دو بخش قشری و مرکزی تشکیل شده است که از همدیگر مستقل اند (شکل ۱۰).

بخش مرکزی ساختار عصبی دارد. وقتی فرد در شرایط تنش قرار می گیرد، این بخش دو هورمون به نام های **اپی نفرین** و **نور اپی نفرین** ترشح می کند. این هورمون ها ضربان قلب، فشار خون و گلوکز خون را افزایش می دهند و نایزک ها را در شش ها باز می کنند. چنین تغییراتی بدن را برای پاسخ های کوتاه مدت آماده می کند.

بخش قشری به تنش های طولانی مدت، مثل غم از دست دادن نزدیکان، با ترشح **کورتیزول** پاسخ دیرپا می دهد. این هورمون گلوکز خون را افزایش می دهد. اگر تنش ها به مدت زیادی ادامه یابد، کورتیزول دستگاه ایمنی را تضعیف می کند. هورمون دیگر بخش قشری **الدوسترون** است که باز جذب سدیم را از کلیه افزایش می دهد. به دنبال باز جذب سدیم، آب هم باز جذب می شود و در نتیجه فشار خون بالا می رود.

بخش قشری هورمون جنسی زنانه و مردانه را در هر دو جنس نیز ترشح می کند.

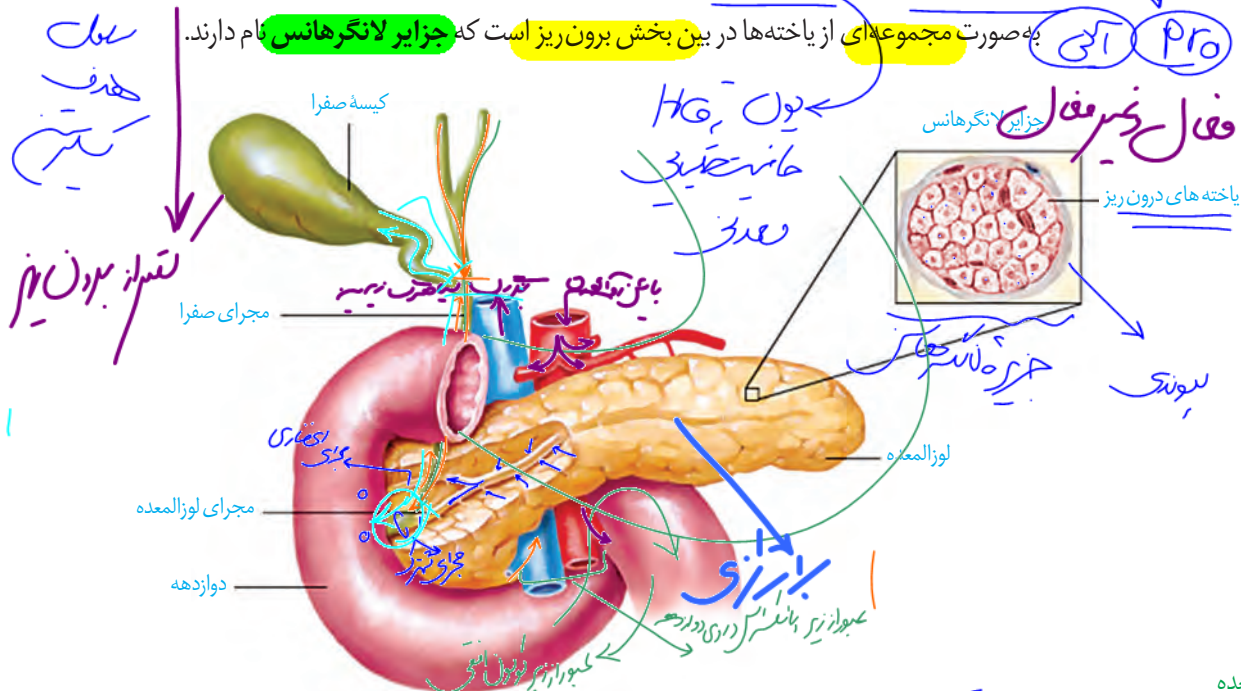


شکل ۱۰ - غده فوق کلیه

خون بالا می رود
 هورمون جنسی زنانه و مردانه را در هر دو جنس نیز ترشح می کند.
 استروژن - پروژسترون
 کورتیزول
 اپی نفرین - نور اپی نفرین
 کورتیزول
 اپی نفرین - نور اپی نفرین
 کورتیزول
 اپی نفرین - نور اپی نفرین

غده لوزالمعده

غده لوزالمعده از دو قسمت برون ریز و درون ریز تشکیل شده است (شکل ۱۱). بخش برون ریز، آنزیم‌های گوارشی و پیکربنات ترشح می‌کند که در سال گذشته با آن آشنا شدیم. بخش درون ریز به صورت مجموعه‌ای از یاخته‌ها در بین بخش برون ریز است که جزایر لانگرهانس نام دارند.



شکل ۱۱- لوزالمعده

بیشتر بدانید

در زمان بارداری نیز ممکن است دیابت رخ دهد که به آن **دیابت بارداری** می‌گویند. دیابت بارداری برای جنین خطرناک است و باید بلافاصله تشخیص داده شود تا اقدامات لازم صورت گیرد؛ در غیر این صورت، جنین آسیب می‌بیند و حتی ممکن است سقط شود.

از بخش درون ریز لوزالمعده دو هورمون به نام‌های **گلوکاجون** و **انسولین** ترشح می‌شوند. **گلوکاجون** در پاسخ به کاهش گلوکز خون ترشح شده، باعث تجزیه گلیکوژن به گلوکز می‌شود و به این ترتیب، قند خون را افزایش می‌دهد. **انسولین** در پاسخ به افزایش گلوکز خون ترشح و باعث ورود گلوکز به یاخته‌ها می‌شود و به این ترتیب قند خون را کاهش می‌دهد.

اگر یاخته‌ها نتوانند گلوکز را از خون بگیرند، غلظت گلوکز خون افزایش می‌یابد. به همین علت گلوکز و به دنبال آن آب وارد ادرار می‌شود. چنین وضعیتی به **دیابت شیرین** معروف است.

در این نوع دیابت، یاخته‌ها مجبورند انرژی مورد نیاز خود را از چربی‌ها یا حتی پروتئین‌ها به دست آورند که به کاهش وزن می‌انجامد. بر اثر تجزیه چربی‌ها، محصولات اسیدی تولید می‌شود که اگر این وضعیت درمان نشود به اگما و مرگ منجر خواهد شد. علاوه بر آن، تجزیه پروتئین‌ها، مقاومت بدن را کاهش می‌دهد. بنابراین، افراد مبتلا به دیابت باید بهداشت را بیش از پیش رعایت کنند و مراقب زخم‌ها و سوختگی‌های هرچند کوچک باشند.

دیابت بر دو نوع است. در **نوع یک**، انسولین ترشح نمی‌شود یا به اندازه کافی ترشح نمی‌شود. این بیماری، یک بیماری خود ایمنی است که در آن دستگاه ایمنی یاخته‌های ترشح کننده انسولین در جزایر لانگرهانس را از بین می‌برد. این بیماری با تزریق انسولین تحت کنترل در خواهد آمد. در دیابت **نوع دو** اشکال در تولید انسولین نیست. در نوع دو انسولین به مقدار کافی وجود دارد، اما گیرنده‌های

آن به درستی کار نمی‌کنند. این نوع دیابت با تغییر سبک زندگی و رژیم غذایی قابل کنترل است. در **نوع دو**، انسولین ترشح نمی‌شود یا به اندازه کافی ترشح نمی‌شود. این بیماری، یک بیماری خود ایمنی است که در آن دستگاه ایمنی یاخته‌های ترشح کننده انسولین در جزایر لانگرهانس را از بین می‌برد. این بیماری با تزریق انسولین تحت کنترل در خواهد آمد. در دیابت **نوع دو** اشکال در تولید انسولین نیست. در نوع دو انسولین به مقدار کافی وجود دارد، اما گیرنده‌های

آن به درستی کار نمی‌کنند. این نوع دیابت با تغییر سبک زندگی و رژیم غذایی قابل کنترل است. در **نوع دو**، انسولین ترشح نمی‌شود یا به اندازه کافی ترشح نمی‌شود. این بیماری، یک بیماری خود ایمنی است که در آن دستگاه ایمنی یاخته‌های ترشح کننده انسولین در جزایر لانگرهانس را از بین می‌برد. این بیماری با تزریق انسولین تحت کنترل در خواهد آمد. در دیابت **نوع دو** اشکال در تولید انسولین نیست. در نوع دو انسولین به مقدار کافی وجود دارد، اما گیرنده‌های

آن به درستی کار نمی‌کنند. این نوع دیابت با تغییر سبک زندگی و رژیم غذایی قابل کنترل است. در **نوع دو**، انسولین ترشح نمی‌شود یا به اندازه کافی ترشح نمی‌شود. این بیماری، یک بیماری خود ایمنی است که در آن دستگاه ایمنی یاخته‌های ترشح کننده انسولین در جزایر لانگرهانس را از بین می‌برد. این بیماری با تزریق انسولین تحت کنترل در خواهد آمد. در دیابت **نوع دو** اشکال در تولید انسولین نیست. در نوع دو انسولین به مقدار کافی وجود دارد، اما گیرنده‌های

آن به درستی کار نمی‌کنند. این نوع دیابت با تغییر سبک زندگی و رژیم غذایی قابل کنترل است. در **نوع دو**، انسولین ترشح نمی‌شود یا به اندازه کافی ترشح نمی‌شود. این بیماری، یک بیماری خود ایمنی است که در آن دستگاه ایمنی یاخته‌های ترشح کننده انسولین در جزایر لانگرهانس را از بین می‌برد. این بیماری با تزریق انسولین تحت کنترل در خواهد آمد. در دیابت **نوع دو** اشکال در تولید انسولین نیست. در نوع دو انسولین به مقدار کافی وجود دارد، اما گیرنده‌های

آن به درستی کار نمی‌کنند. این نوع دیابت با تغییر سبک زندگی و رژیم غذایی قابل کنترل است. در **نوع دو**، انسولین ترشح نمی‌شود یا به اندازه کافی ترشح نمی‌شود. این بیماری، یک بیماری خود ایمنی است که در آن دستگاه ایمنی یاخته‌های ترشح کننده انسولین در جزایر لانگرهانس را از بین می‌برد. این بیماری با تزریق انسولین تحت کنترل در خواهد آمد. در دیابت **نوع دو** اشکال در تولید انسولین نیست. در نوع دو انسولین به مقدار کافی وجود دارد، اما گیرنده‌های

آن به درستی کار نمی‌کنند. این نوع دیابت با تغییر سبک زندگی و رژیم غذایی قابل کنترل است. در **نوع دو**، انسولین ترشح نمی‌شود یا به اندازه کافی ترشح نمی‌شود. این بیماری، یک بیماری خود ایمنی است که در آن دستگاه ایمنی یاخته‌های ترشح کننده انسولین در جزایر لانگرهانس را از بین می‌برد. این بیماری با تزریق انسولین تحت کنترل در خواهد آمد. در دیابت **نوع دو** اشکال در تولید انسولین نیست. در نوع دو انسولین به مقدار کافی وجود دارد، اما گیرنده‌های

سلاطین فصل حضور انوسین!

انسولین به آن پاسخ نمی دهند. دیابت نوع دو از سن حدود چهل سالگی به بعد، در نتیجه چاقی و عدم تحرک هر افرادی که زمینه بیماری را دارند ظاهر می شود.

فعالیت ۲

تحقیق کنید که برای پیشگیری از دیابت نوع دو چه باید کرد؟

سایر غدد درون ریز

غده اپی فیز یکی دیگر از غدد درون ریز مغز است که در بالای برجستگی های چهارگانه قرار دارد (شکل ۱۲) و هورمون **ملا تونین** ترشح می کند. مقدار ترشح این هورمون در شب به حداکثر و در نزدیکی ظهر به حداقل می رسد. عملکرد این هورمون در انسان به خوبی معلوم نیست، اما به نظر می رسد در تنظیم ریتم های شبانه روزی ارتباط داشته باشد.

غده تیموس هورمون **تیموسین** ترشح می کند که در تمایز لنفوسیت ها نقش دارد. با تمایز لنفوسیت ها در فصل ۵ بیشتر آشنا خواهیم شد.

همچنین عملکرد **غده های جنسی** و هورمون های آنها را در فصل ۷ خواهید دید.

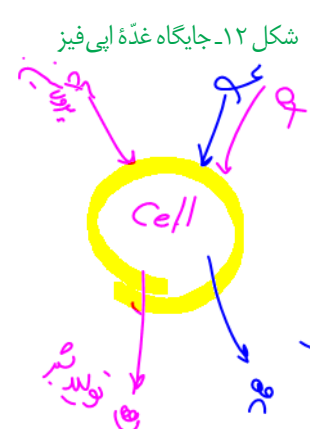
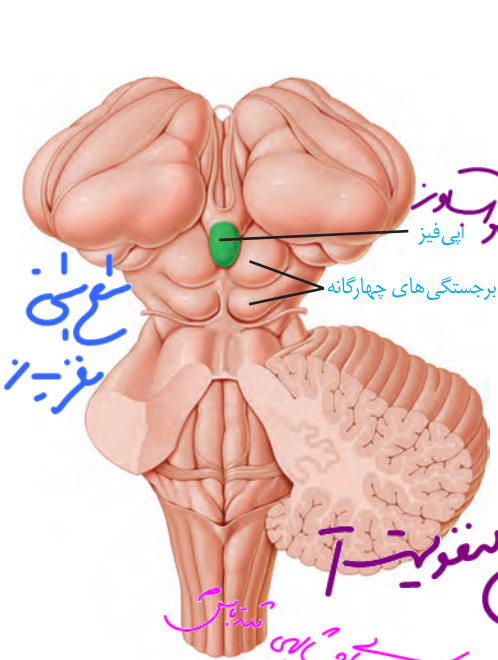
گوناگونی پاسخ های یاخته ها به هورمون ها

ممکن است یک یاخته چند هورمون را دریافت کند یا اینکه چند یاخته، یک هورمون را دریافت کنند. بر اساس نوع هورمون و نوع یاخته هدف، پیام پیک به عملکرد خاصی تفسیر می شود. مثلاً وقتی هورمون پاراتیروئیدی که کلسیم خون را افزایش می دهد به کلیه می رسد، باز جذب کلسیم را زیاد می کند، اما همان هورمون در استخوان باعث تجزیه استخوان می شود و کلسیم را آزاد می کند.

تنظیم باز خوردی ترشح هورمون ها

هورمون ها در مقادیر خیلی کم ترشح می شوند، اما با همین مقدار کم، اثرات خود را برجای می گذارند. بنابراین، تغییر هرچند کم در مقدار ترشح هورمون ها اثرات قابل ملاحظه ای در پی خواهد داشت؛ به همین علت ترشح هورمون ها باید به دقت تنظیم شود.

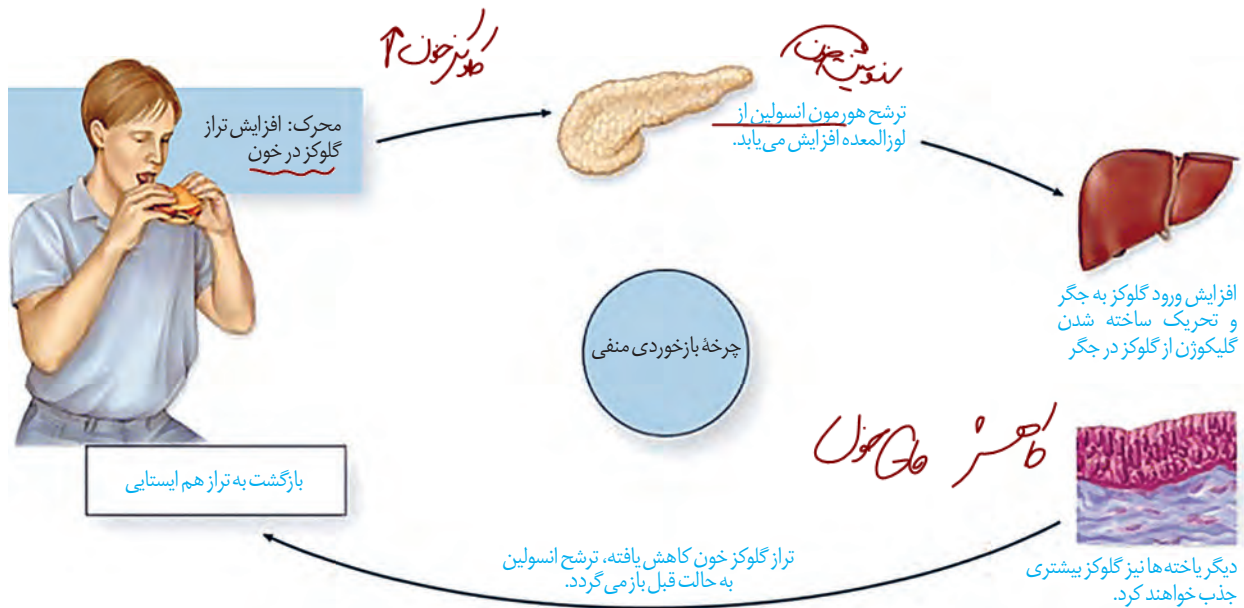
چرخه تنظیم باز خوردی پوش رایجی در تنظیم ترشح هورمون هاست که به دو صورت منفی و مثبت دیده می شود. در تنظیم **باز خوردی منفی**، افزایش مقدار یک هورمون یا تأثیرات آن، باعث کاهش ترشح همان هورمون می شود و بالعکس. بیشتر هورمون ها توسط باز خورد منفی تنظیم می شوند. تنظیم انسولین، مثالی از یک باز خورد منفی است (شکل ۱۳).



شکل ۱۲. جایگاه غده اپی فیز

تنظیم باز خورد منفی

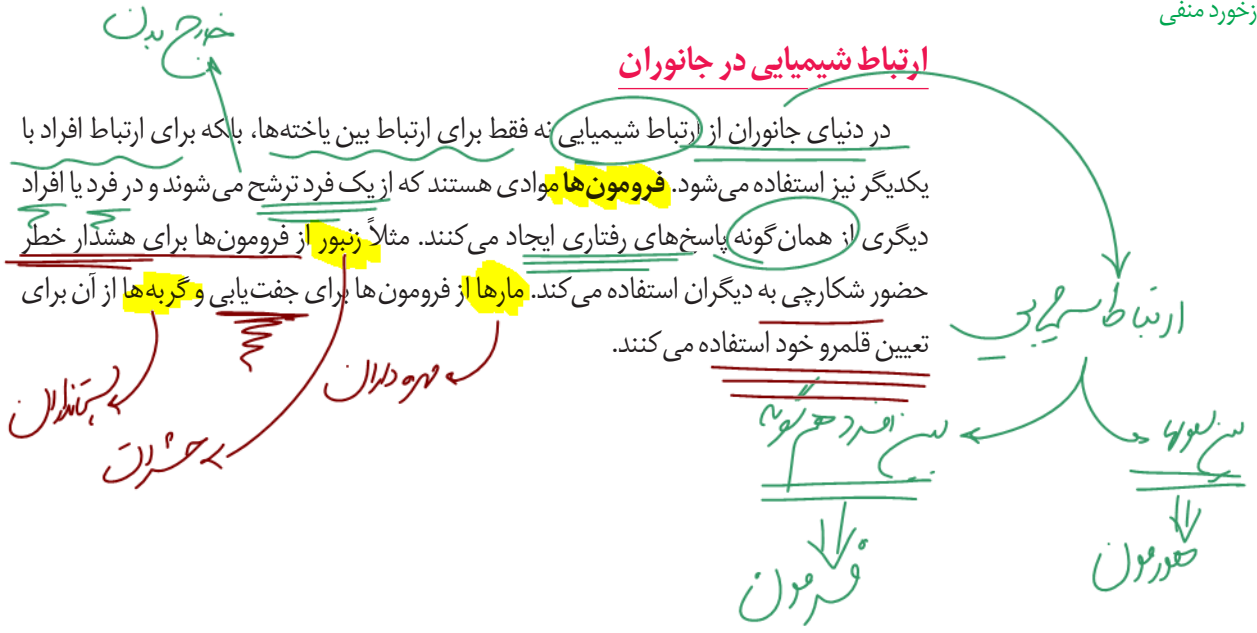
در تنظیم باز خوردی مثبت، افزایش مقدار یک هورمون یا تأثیرات آن، باعث افزایش ترشح همان هورمون می شود. عملکرد اکسی توسین توسط چرخه باز خوردی مثبت تنظیم می شود که در فصل ۷ با آن آشنا خواهید شد.



شکل ۱۳- تنظیم باز خورد گلوکز با باز خورد منفی

ارتباط شیمیایی در جانوران

در دنیای جانوران از ارتباط شیمیایی نه فقط برای ارتباط بین یاخته ها، بلکه برای ارتباط افراد با یکدیگر نیز استفاده می شود. فرومون ها موادی هستند که از یک فرد ترشح می شوند و در فرد یا افراد دیگری از همان گونه پاسخ های رفتاری ایجاد می کنند. مثلاً زنبور از فرومون ها برای هشدار خطر حضور شکارچی به دیگران استفاده می کند. مارها از فرومون ها برای جفت یابی و گریه ها از آن برای تعیین قلمرو خود استفاده می کنند.





فصل ۵

اختلال سیستم ایمنی

ایمنی

تغذیه مناسب

بهداشت

مکروب

زمانی که میکروسکوپ، دنیای ناپیدای میکروب‌ها را آشکار کرد، تصور نمی‌شد که موجوداتی به این ریزی و سادگی، بتوانند جاننداری چون انسان را بیمار کنند. اما به تدریج شواهدی به دست آمد که به ارائه «نظریه میکروبی بیماری‌ها» در قرن نوزدهم انجامید. نظریه‌ای که بیان می‌کند میکروب‌ها می‌توانند بیماری‌زا باشند.

۱) توانایی بدن انسان در بیمار نشدن یا بهبودی یافتن پس از ابتلا به بیماری‌های میکروبی نشان‌دهنده این واقعیت است که بدن می‌تواند در برابر میکروب‌ها از خود دفاع کند. بدن ما چند خط دفاعی دارد که از ورود میکروب‌ها جلوگیری، یا با میکروب‌های وارد شده مبارزه می‌کند. در این فصل، با این خطوط دفاعی آشنا می‌شویم. اگر بدن ما توانایی دفاع دارد، چرا واکسن می‌زنیم؟ دستگاه ایمنی در برابر چه چیزهای دیگری به جز میکروب‌ها، دفاع می‌کند؟ اینها سؤالاتی است که در این فصل، پاسخ آنها را خواهیم یافت.

مسیرهای مفید داریم



خطا

پوست

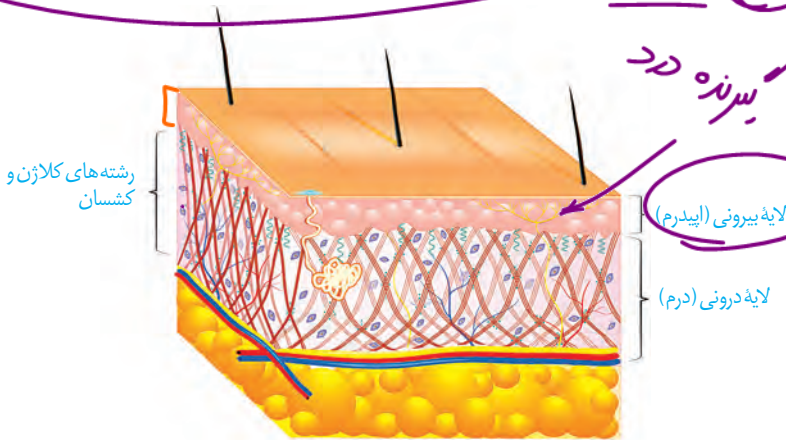
نیم

ایمی و زوزه هر
دسته

گفتار ۱ نخستین خط دفاعی: ورود ممنوع

شاید بهترین راه در امان ماندن از میکروب‌ها، جلوگیری از ورود آنها به بدن باشد. واقعیت هم همین است. همان‌گونه که با دیوار کشیدن در گرداگرد یک شهر، می‌توان سدی در برابر حمله بیگانگان ایجاد کرد، بدن ما به وسیله سدهایی در اطراف خود، محافظت می‌شود. پوست و مخاط، سد محکمی در برابر ورود میکروب‌ها ایجاد می‌کنند.

پوست یکی از اندام‌های بدن است که لایه‌های بیرونی و درونی آن در جلوگیری از ورود میکروب‌ها به بدن نقش دارند (شکل ۱). لایه بیرونی شامل چندین لایه یاخته پوششی است که خارجی‌ترین یاخته‌های آن مرده‌اند. یاخته‌های مرده به تدریج می‌ریزند و به این ترتیب، میکروب‌هایی را که به آن چسبیده‌اند، از بدن دور می‌کنند.



پسندیده

الدرم

نازک

شکل ۱- لایه‌های مختلف پوست

سد دفاعی

در لایه درونی، بافت پیوندی رشته‌ای وجود دارد که رشته‌ها در آن به طرز محکمی به هم تابیده‌اند. این لایه محکم و با دوام است. چرم که از پوست جانوران درست می‌شود مربوط به همین لایه است. لایه درونی، عملاً سدی محکم و غیر قابل نفوذ است. پوست فقط یک سد ساده نیست؛ بلکه ترشحات مختلفی هم دارد. سطح پوست را ماده‌ای چرب می‌پوشاند. این ماده به علت داشتن اسیدهای چرب، خاصیت اسیدی دارد. محیط اسیدی برای زندگی میکروب‌های بیماری‌زا مناسب نیست.

آب و بافت

پوست
الدرم
درم

بر بدن ریز

فعالیت ۱

تحقیق کنید که:

- الف) چربی سطح پوست چه فواید دیگری دارد؟
- ب) جوش‌های پوستی و شوره سر چه ارتباطی با چربی پوست دارد؟

یکی دیگر از ترشحات سطح پوست، **عرق** است که نمک دارد. نمک برای باکتری‌ها مناسب نیست. عرق، آنزیم لیزوزیم هم دارد. آیا به خاطر دارید که لیزوزیم چه نقشی داشت؟ در سطح پوست ما میکروب‌هایی زندگی می‌کنند که با شرایط پوست، از جمله اسیدی بودن، سازش یافته‌اند. این میکروب‌ها از تکثیر میکروب‌های بیماری‌زا جلوگیری می‌کنند، چون در رقابت برای کسب غذا بر آنها پیروز می‌شوند.

با اینکه پوست سد محکمی است، اما همه جای بدن را نپوشانده است. دستگاه‌های تنفس، گوارش و ادراری - تناسلی با محیط بیرون در ارتباط اند و امکان نفوذ میکروب‌ها از طریق آنها وجود دارد. سطح مجاری این دستگاه‌ها را مخاط پوشانده است. به یاد دارید که مخاط از یک بافت پوششی استری از بافت پیوندی تشکیل شده است و ماده چسبناکی، **گلیکوپروتئین** نام ماده مخاطی است که بافت پوششی باخته‌های پوششی به هم چسبیده‌اند و سدّی را ایجاد می‌کنند. همچنین ماده مخاطی، که چسبناک است، میکروب‌ها را به دام می‌اندازد و از پیش روی آنها جلوگیری می‌کند. ترشحات مخاط، با داشتن لیزوزیم موجب کشته شدن باکتری‌ها می‌شود.

علاوه بر مخاط، در هر کدام از دستگاه‌های یادشده سازوکارهای دیگری هم برای مبارزه با میکروب‌ها وجود دارد. به عنوان مثال، مخاط مزکدار در دستگاه تنفس مانع نفوذ میکروب‌ها به بخش‌های عمیق‌تر می‌شود. در دستگاه گوارش، بزاق لیزوزیم دارد. همچنین اسید معده، میکروب‌های موجود در غذا را نابود می‌سازد. ساز و کارهایی مانند عطسه، سرفه، استفراغ، مدفوع و ادرار باعث بیرون راندن میکروب‌های مجاری می‌شود. اشک با داشتن نمک و لیزوزیم از چشم محافظت می‌کند.

تجرب دوازده
آنی
نفذ
اصول بافت پوششی
ر آنزیم سوهدی
بافت ادراری
درخت عصبی
مخاط مزکدار

Pro
زیف
عصبی

مخاط مزکدار دستگاه تنفس چگونه مانع نفوذ میکروب‌ها می‌شود؟
چه عواملی به این بخش آسیب می‌زند؟

فعالیت ۲

چنان که می‌بینیم میکروب‌ها، از هر نوعی که باشند، هنگام ورود به بدن، با خط اول دفاع بدن روبه‌رو می‌شوند. پوست و مخاط، در برابر نفوذ میکروب‌ها، بدون توجه به نوع آنها، سدّی ایجاد می‌کنند. به این نوع دفاع، **دفاع غیر اختصاصی** می‌گویند. در دفاع غیر اختصاصی، روش‌هایی به کار گرفته می‌شود که در برابر طیف وسیعی از میکروب‌ها مؤثر است. در مقابل، دستگاه ایمنی می‌تواند به طور اختصاصی نیز در برابر میکروب‌ها دفاع کند. در **دفاع اختصاصی** پاسخ دستگاه ایمنی فقط بر همان نوع میکروب مؤثر است و بر میکروب‌هایی از انواع دیگر اثری ندارد.

نوع اول و دوم
بافت ادراری

دفاع غیر اختصاصی
خط ۱ بدن
خط ۲ دستگاه ایمنی
دفاع اختصاصی
خط ۳

دومین خط دفاعی: واکنش‌های عمومی اما سریع

اگر میکروبی بتواند از نخستین خط دفاعی عبور کند، آیا یاخته‌های بدن مامی توانند با آن مبارزه کنند؟

مشاهده یک دانشمند

کلید پاسخ به این سؤال، از مشاهده جانورشناسی به نام ایلیا مچنیکوف^۱ به دست آمد. او در حین مطالعه لارو ستاره دریایی، که شفاف است، به مشاهده شگفت انگیزی دست یافت. مچنیکوف برای نخستین بار، درون بدن لارو، یاخته‌هایی را دید که شبیه آمیب بودند؛ حرکت می کردند و مواد اطراف خود را می خوردند. در این هنگام فکری به ذهن او خطور کرد: شاید این یاخته‌ها میکروب‌ها و ذرات خارجی را هم می خوردند و در دفاع نقش دارند. اگر چنین باشد باید بتوانند ذره‌ای را که از خارج به بدن لارو وارد شده است نابود کنند. او برای آزمودن این فرضیه، خرده‌های ریزی از خارهای گل رز را به زیر پوست لارو وارد کرد و مشتاقانه منتظر ماند. او درست حدس زده بود. تا صبح فردا، این یاخته‌های آمیبی شکل، اثری از خرده‌ها باقی نگذاشته بودند. مچنیکوف این یاخته‌ها را بیگانه‌خوار نامید. او بقیه عمر خود را به مطالعه نحوه دفاع بدن در برابر میکروب‌ها پرداخت و سرانجام موفق شد جایزه نوبل را به دست آورد.

خارج از خط اعمد
راه حل
نورانی
فرضیه

خودری و بیگانه

خودی و بیگانه

قبل از آنکه بیگانه‌خوارهای بدن ما به میکروب حمله کند، ابتدا باید «بیگانه بودن» آن را تشخیص دهد. دستگاه ایمنی هر فرد، یاخته‌های «خودی» را می شناسد و تنها در برابر آنچه که «بیگانه» تشخیص داده می شود پاسخ می دهد. دومین خط دفاعی شامل ساز و کارهایی است که بیگانه‌ها را بر اساس ویژگی‌های عمومی آنها شناسایی می کند. بنابراین، از نوع دفاع غیر اختصاصی است. دومین خط دفاعی شامل بیگانه‌خوارها، گویچه‌های سفید، پروتئین‌ها، پاسخ التهابی و تب است.

- ۱ بیگانه‌خوارها (فاگوسیت‌ها)
- ۲
- ۳
- ۴
- ۵

در انسان انواع مختلفی از یاخته‌های بیگانه‌خوار شناسایی شده‌اند. بیگانه‌خوارها در جای جای بدن انسان حضور دارند. درشت‌خوار (ماکروفاز) یکی از بیگانه‌خوارهاست (شکل ۲).

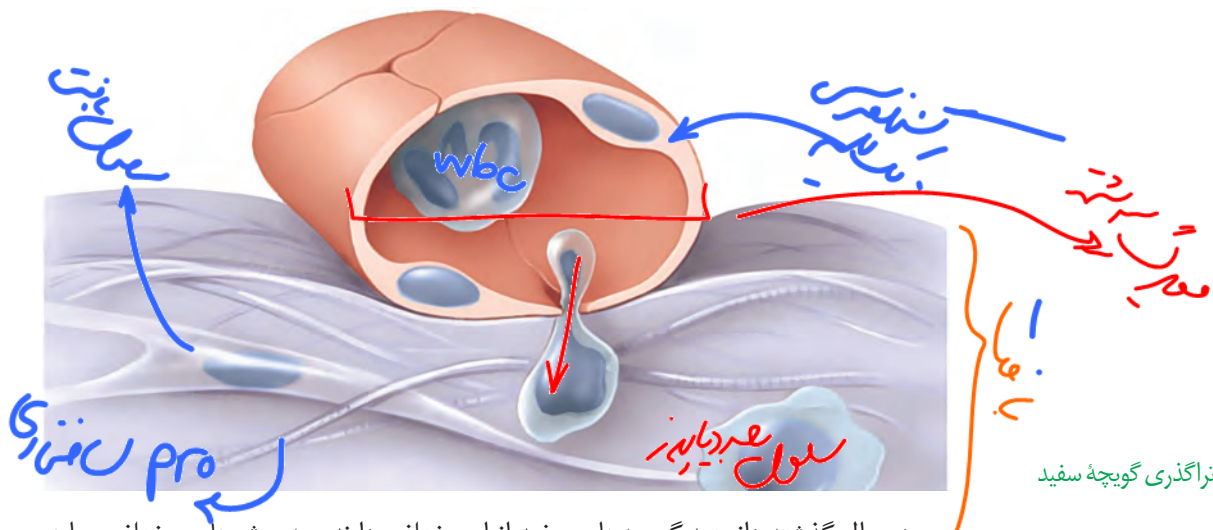
واژه درشت‌خوار برای شما آشناست. آیا درشت‌خوارهای حبابکی را در شش‌ها به یاد دارید؟ درشت‌خوارها در اندام‌های مختلف، از جمله گره‌های لنفاوی، حضور دارند



شکل ۲- درشت‌خوار در حال بیگانه‌خواری

۱ Metchnikoff (۱۸۴۵-۱۹۱۶)

فالفور

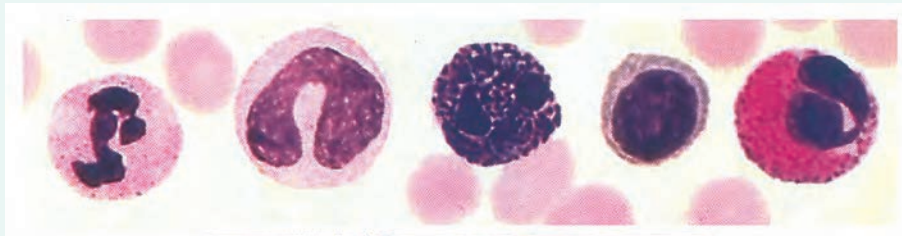


شکل ۴- تراگذری گویچه سفید

در سال گذشته دانستید گویچه‌های سفید انواع مختلفی دارند و به روش‌های مختلفی مبارزه می‌کنند. در این قسمت آنهایی را بررسی می‌کنیم که در دومین خط دفاعی نقش دارند. سایر گویچه‌های سفید را در قسمت‌های بعدی بررسی خواهیم کرد.

فعالیت ۳

در شکل زیر، انواع گویچه‌های سفید نشان داده شده است (مقیاس گویچه‌ها نسبت به هم رعایت نشده است). با توجه به آنچه که در سال قبل خوانده‌اید:



الف) نام هر یک را بیان کنید.

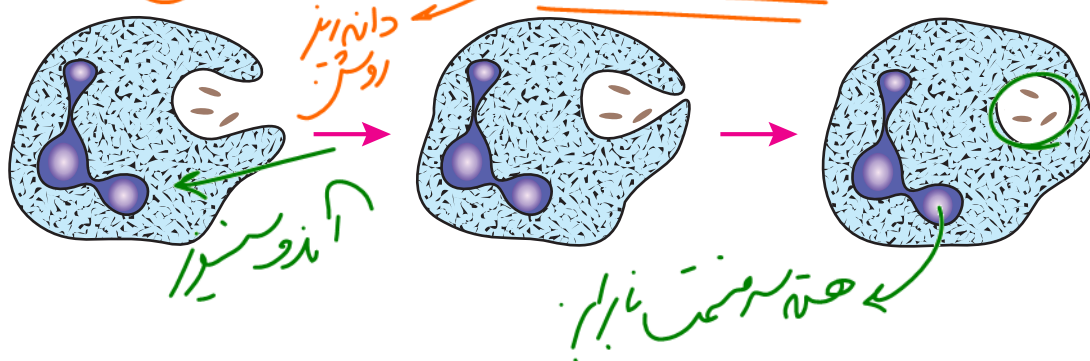
ب) سیتوپلاسم در کدام گویچه‌ها دانه دار و در کدام بدون دانه است؟

پ) تحقیق کنید که دانه‌ها از چه چیزی ساخته شده‌اند؟

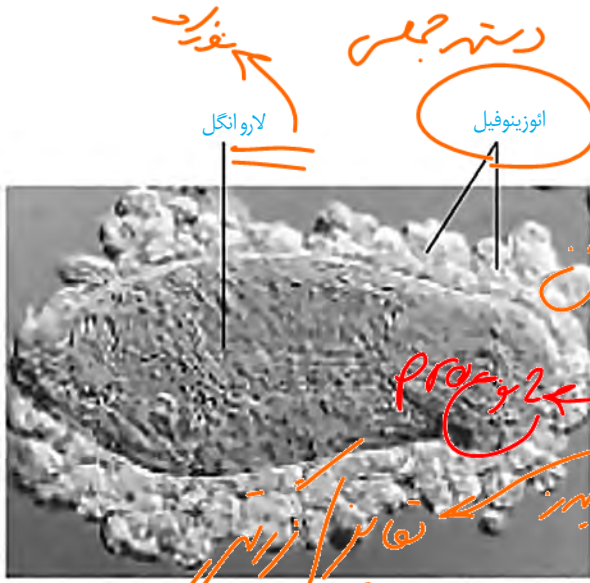
نوتروفیل‌ها را می‌توان به «نیروهای واکنش سریع» تشبیه کرد. اگر عامل بیماری‌زا در بافت وارد شود، نوتروفیل‌ها با تراگذری خود را به آنها می‌رسانند و با بیگانه‌خواری آنها را نابود می‌کنند (شکل ۵).

شکل ۵- بیگانه‌خواری نوتروفیل‌ها

نوتروفیل‌ها مواد دفاعی زیادی حمل نمی‌کنند و چابک‌اند.



دانه‌ها: سرکامی مواد



همه عوامل بیماری‌زا را نمی‌توان با بیگانه‌خواری از بین برد. در برابر عوامل بیماری‌زای بزرگ‌تری مثل کرم‌های انگل که قابل بیگانه‌خواری نیستند، **انوزینوفیل‌ها** مبارزه می‌کنند. انوزینوفیل‌ها محتویات دانه‌های خود را به روی انگل می‌ریزند (شکل ۶).

بازوفیل‌ها، به مواد حساسیت‌زا پاسخ می‌دهند. دانه‌های این یاخته‌ها هیستامین و ماده‌ای به نام **هیپارین** دارند. هیپارین ضد انعقاد خون است. **مونوسیت‌ها**، از خون خارج می‌شوند و پس از خروج، تغییر می‌کنند و به **درشت‌خوار** و یا یاخته‌های دندریتی تبدیل می‌شوند.

لنفوسیت‌ها انواع مختلفی دارند. **لنفوسیتی** را که در دفاع

غیر اختصاصی نقش دارد، **یاخته‌کشنده طبیعی** می‌نامند که یاخته‌های

سرطانی و آلوده به ویروس را نابود می‌کنند. یاخته‌کشنده طبیعی، به یاخته

سرطانی متصل می‌شود، با ترشح پروتئینی به نام **پرفورین** منفذی در

غشا ایجاد می‌کند. سپس با وارد کردن انرژی به درون یاخته، باعث مرگ برنامه‌ریزی شده یاخته می‌شود

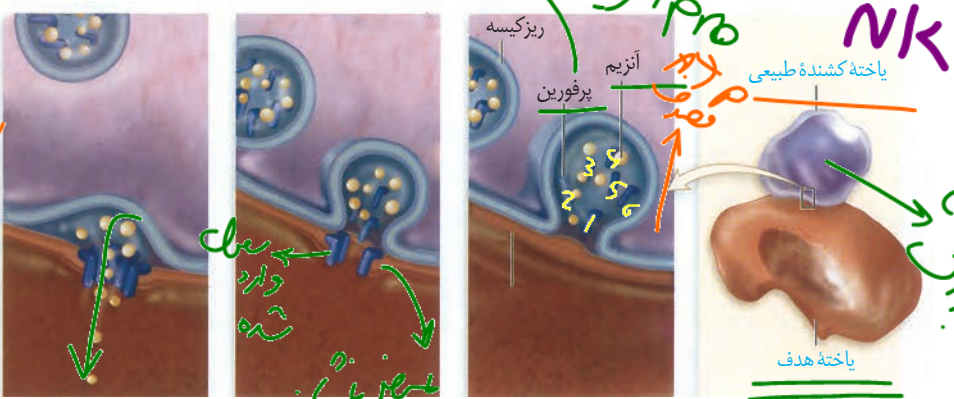
(شکل ۷). در یاخته‌ها، برنامه‌ای وجود دارد که در صورت اجرای آن، یاخته می‌میرد. این نوع مرگ را **مرگ برنامه‌ریزی شده** می‌نامند. لنفوسیت‌های دفاع اختصاصی را **لنفوسیت‌های B و T** می‌نامند و کمی بعد

با آنها آشنا خواهیم شد.

شکل ۶- انوزینوفیل‌ها لاړوانگل را احاطه کرده‌اند.

۱۵ میکرومتر

NK / TK



یاخته مرده توسط درشت‌خوار، بیگانه‌خواری می‌شود.

آنزیم از منافذ عبور کرده، به یاخته وارد می‌شود و باعث مرگ یاخته می‌شود.

پرفورین‌ها، منفذی را در غشا ایجاد می‌کند.

ریزکیسه‌های حاوی پرفورین و مولکول‌های آنزیم، محتویات خود را با برون‌رانی ترشح می‌کنند.

یاخته‌کشنده طبیعی به یاخته هدف متصل می‌شود.

توانش در کشتن سلولی

نوع ۲ پرو

مبادرت من در سلول شکل ۷- نحوه عملکرد یاخته‌کشنده طبیعی

یک گسترش آماده خون را با میکروسکوپ مشاهده و انواع گویچه‌های سفید را در آن مشاهده کنید.

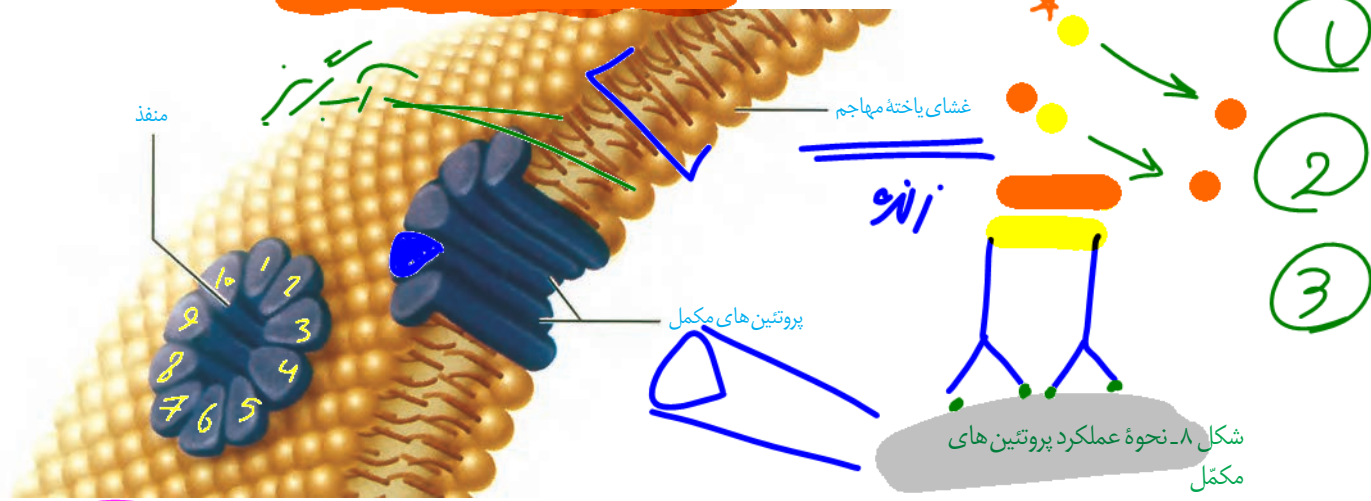
فعالیت ۴

پروتئین‌ها
 اینترفرئون
 فعال
 غیرفعال

خطه سگه‌ها
 WBS
 پرو
 لاند
 اختصار

علاوه بر یاخته‌ها، پروتئین‌ها هم در ایمنی بدن نقش دارند. پروتئین‌های مکمل، گروهی از پروتئین‌های خون (محلول در خوناب) اند. این پروتئین‌ها در فرد غیر آلوده به صورت غیرفعال اند. اما اگر میکروبی به بدن نفوذ کند، فعال می‌شوند. واکنش فعال شدن، به این صورت است که وقتی یکی از این پروتئین‌ها فعال می‌شود، دیگری را فعال می‌کند و به همین ترتیب ادامه می‌یابد. پروتئین‌های فعال شده به کمک یکدیگر، با ایجاد ساختارهای حلقه‌مانند در غشای میکروب‌ها، منافذی به وجود می‌آورند. این منافذ عملکرد غشای یاخته‌ای میکروب را در کنترل ورود و خروج مواد از بین می‌برند و سرانجام یاخته بیگانه می‌میرد (شکل ۸). علاوه بر آن، قرارگرفتن پروتئین‌های مکمل روی میکروب، باعث می‌شود که بیگانه‌خواری آن آسان‌تر انجام شود.

بستی



یکی دیگر از روش‌های دفاع، ترشح پروتئینی به نام اینترفرون است. اینترفرون نوع یک، یاخته آلوده به ویروس ترشح می‌شود و علاوه بر یاخته آلوده، بر یاخته‌های سالم مجاور هم اثر می‌کند و آنها را در برابر ویروس مقاوم می‌کند. اینترفرون نوع دو، یاخته‌های کشنده طبیعی و لنفوسیت‌های T ترشح می‌شود و درشت‌خوارها را فعال می‌کند. این نوع اینترفرون نقش مهمی در مبارزه علیه یاخته‌های سرطانی دارد.

اینترفرون
 هر سه سلولی
 پاسخ التهابی
 NK، تقویت T

هر یک از ما به نوعی تجربه زخمی شدن یا بریدگی را داشته‌ایم. در این موارد، پوست آسیب می‌بیند و میکروب‌ها فرصتی برای نفوذ پیدا می‌کنند. قرمزی، تورم، گرما و درد که در موضع آسیب دیده مشاهده می‌شوند، نشانه‌های التهاب اند. التهاب، پاسخی موضعی است که به دنبال آسیب بافتی بروز می‌کند. این پاسخ به از بین بردن میکروب‌ها، جلوگیری از انتشار میکروب‌ها و تسریع بهبودی می‌انجامد. التهاب چگونه ایجاد می‌شود؟ در التهاب، از ماستوسیت‌های آسیب دیده هیستامین رها می‌شود. به این ترتیب، گویچه‌های

پاسخ التهابی
 پاسخ موضعی
 التهاب

بافت
 دیواره عرواق

سومین خط دفاعی: دفاع اختصاصی

گفتار ۳

نوع فیض
صحت اثر

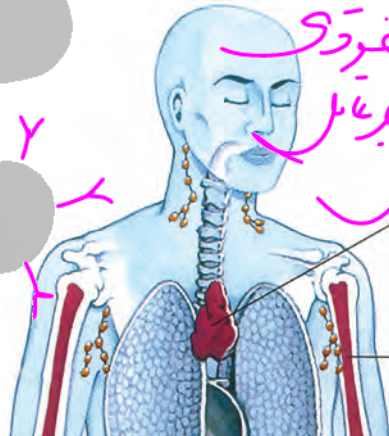
بلوغ

دفاع اختصاصی چنان که از نام آن برمی آید به نوع عامل بیگانه بستگی دارد. و تنها بر همان عامل مؤثر است. به عنوان مثال، پاسخی که علیه میکروب کزاز ایجاد می شود بر سایر میکروبها اثری ندارد. چگونه عامل غیر خودی به طور اختصاصی شناسایی می شود؟ این وظیفه برعهده لنفوسیتها است.

بالتی => عامل نزار

لنفوسیتها و شناسایی پادگن

دفاع اختصاصی به وسیله لنفوسیتهای B و T انجام می شود. هر دو نوع لنفوسیت در مغز استخوان تولید می شوند و در ابتدا نابالغ اند؛ یعنی توانایی شناسایی عامل بیگانه را ندارند. لنفوسیتهای B در همان مغز استخوان اما لنفوسیتهای T در تیموس بالغ می شوند و به این ترتیب، توانایی شناسایی عامل بیگانه را به دست می آورند (شکل ۱۰). تیموس در دوران نوزادی و کودکی فعالیت زیادی دارد اما به تدریج از فعالیت آن کاسته می شود و اندازه آن تحلیل می رود.



مغز استخوان

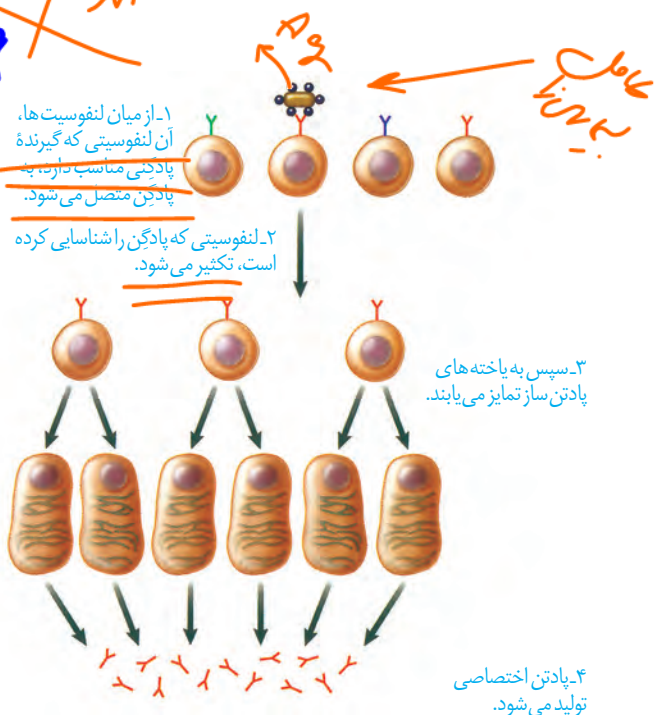
شکل ۱۰- محل بلوغ لنفوسیتها

مولکولهایی که این لنفوسیتها شناسایی می کنند پادگن (آنتی ژن) نام دارند. لنفوسیتها چگونه پادگن را شناسایی می کنند؟ هر لنفوسیت B یا T در سطح خود، گیرندههای پادگن دارد که همگی از یک نوع اند. هر گیرنده اختصاصی عمل می کند؛ یعنی فقط می تواند به یک نوع پادگن متصل شود و به این ترتیب، پادگن شناسایی می شود.

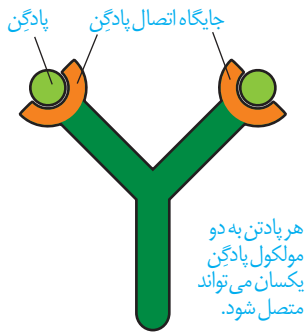
نحوه عملکرد لنفوسیت B

لنفوسیت B پادگن سطح میکروبها یا ذرات محلول مثل سم میکروبها را شناسایی می کند.

از میان لنفوسیتهای B با گیرندههای مختلف، آن لنفوسیتی که توانسته است پادگن را شناسایی کند به سرعت تکثیر می شود و یاختههایی به نام پادتن ساز (پلاسموسیت) را پدید می آورد (شکل ۱۱). یاخته پادتن ساز پادتن ترشح می کند. پادتن همراه مایعات بین یاخته ای، خون و لنف به گردش در می آید و هر جا با میکروب یا پادگنهای محلول برخورد کرد آن را نابود، یا بی اثر می سازد.

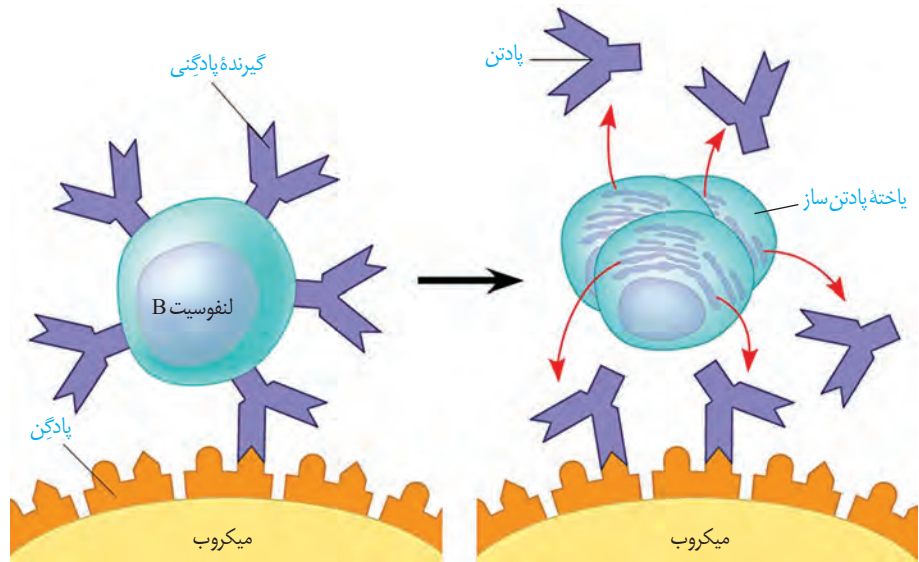


شکل ۱۱- نحوه عملکرد لنفوسیت B



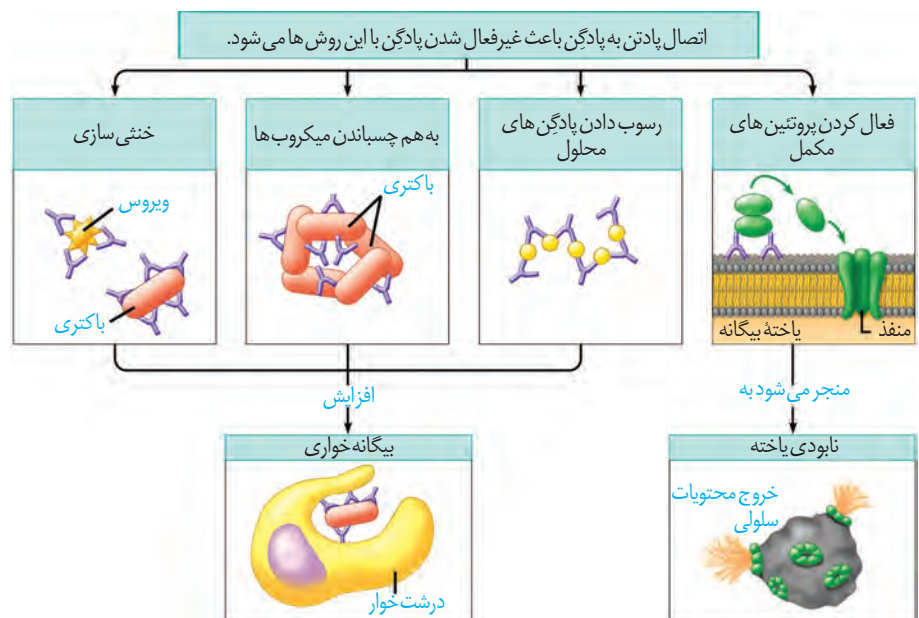
شکل ۱۲- مولکول پادتن

پادتن ها مولکول هایی Y شکل و از جنس پروتئین اند. هر پادتن دو جایگاه برای اتصال به پادگن دارد (شکل ۱۲). هر لنفوسیت B می تواند پس از تبدیل به پادتن ساز، پادتنی مشابه با گیرنده خود ترشح کند (شکل ۱۳).



شکل ۱۳- هر لنفوسیت فقط یک نوع گیرنده دارد که پس از تبدیل به پادتن ساز پادتنی مشابه با گیرنده خود را ساخته و ترشح می کند.

پادتن پادگن را با روش هایی که در شکل ۱۴ نشان داده شده است، بی اثر یا نابود می کند. از پادتن ها می توان به عنوان دارو نیز استفاده کرد. پادتن آماده را سرم می نامند. به عنوان مثال، در زخم های شدید، که احتمال فعالیت باکتری کزاز وجود دارد، از سرم ضد کزاز استفاده می شود. همچنین پادزهر سم مار که بعد از مارگزیدگی استفاده می شود، حاوی پادتن هایی است که سم مار را خنثی می کنند.



شکل ۱۴- نحوه عملکرد پادتن

نحوه عملکرد نفوسیت T

لنفوسیت T، یاخته‌های خودی را که تغییر کرده‌اند، مثلاً سرطانی، با آلوده به ویروس، شده است را نابود می‌کند. همچنین به یاخته‌های بخش پیوند شده حمله می‌کند. لنفوسیت T پس از شناسایی پادگن تکثیر می‌شود و لنفوسیت‌های T کشنده را پدید می‌آورد.

لنفوسیت‌های T کشنده به یاخته هدف متصل می‌شوند و با ترشح پرفورین و آنزیم «مرگ برنامه‌ریزی شده» را به راه می‌اندازند.

بایع نابوع

سرطان بیماری هر دو و A سطح سلول انقباضی

فعالیت ۷

انفلوانزای پرندگان را ویروسی پدید می‌آورد که می‌تواند سایر گونه‌ها، از جمله انسان را نیز آلوده کند. این ویروس به شش‌ها حمله می‌کند و سبب می‌شود دستگاه ایمنی بیش از حد معمول فعالیت کند. بدین ترتیب، به تولید انبوه و بیش از اندازه لنفوسیت‌های T می‌انجامد.

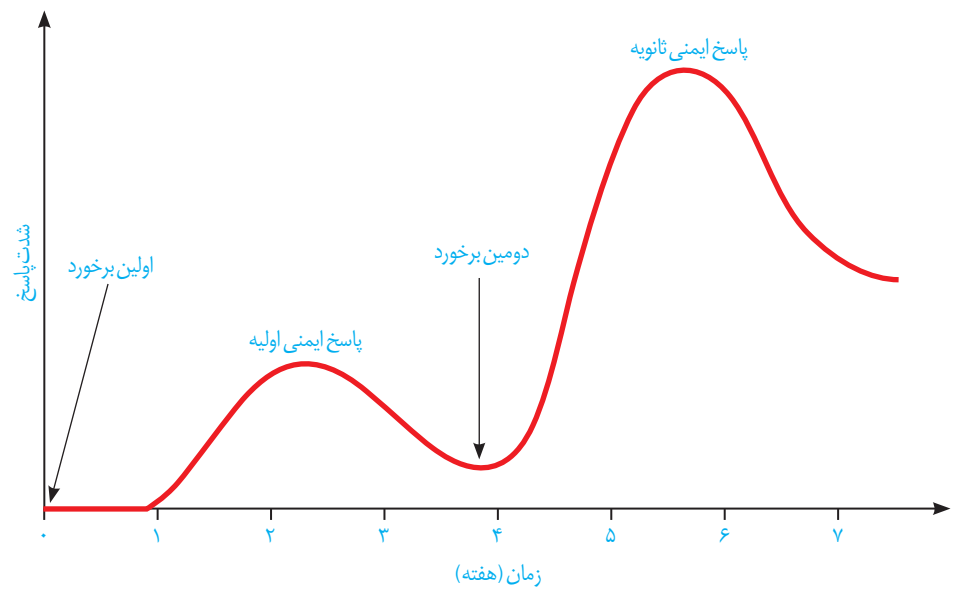
الف) علت مرگ بر اثر آلودگی با این ویروس را چگونه توجیه می‌کنید؟
ب) چه راهی را برای کنترل این بیماری در جمعیت‌ها پیشنهاد می‌کنید؟



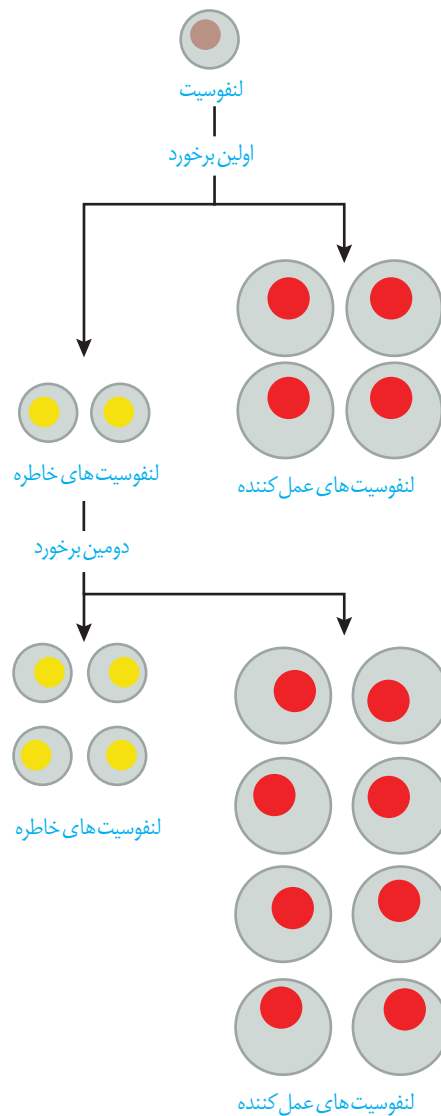
در مرحله دست‌ها امنی

پاسخ اولیه و ثانویه در ایمنی اختصاصی

دفاع اختصاصی، فرایندی است که برای شناسایی پادگن و تکثیر لنفوسیت‌ها به زمان نیاز دارد. از این رو، برخلاف دفاع غیر اختصاصی، دفاع سریعی نیست. اما اگر پادگنی که قبلاً به بدن وارد شده است دوباره به بدن وارد شود، پاسخ دفاع اختصاصی نسبت به قبل سریع‌تر و قوی‌تر است (شکل ۱۵):



شکل ۱۵- پاسخ اولیه و ثانویه



شکل ۱۶. لنفوسیت های خاطره

دستگاه ایمنی دارای «حافظه» است؛ یعنی وقتی با پادگنی برخورد کند، خاطره آن برخورد را نگه خواهد داشت. به این ترتیب، پادگنی که برای دفعات بعدی به بدن وارد می شود سریع تر شناسایی می شود. اما چگونه؟

وقتی لنفوسیت، پادگنی را شناسایی می کند تکثیر می شود و علاوه بر لنفوسیت های عمل کننده (پادتن ساز یا T کشنده) یاخته های دیگری به نام لنفوسیت های خاطره پدید می آید که تا مدت ها در خون باقی می مانند (شکل ۱۶).

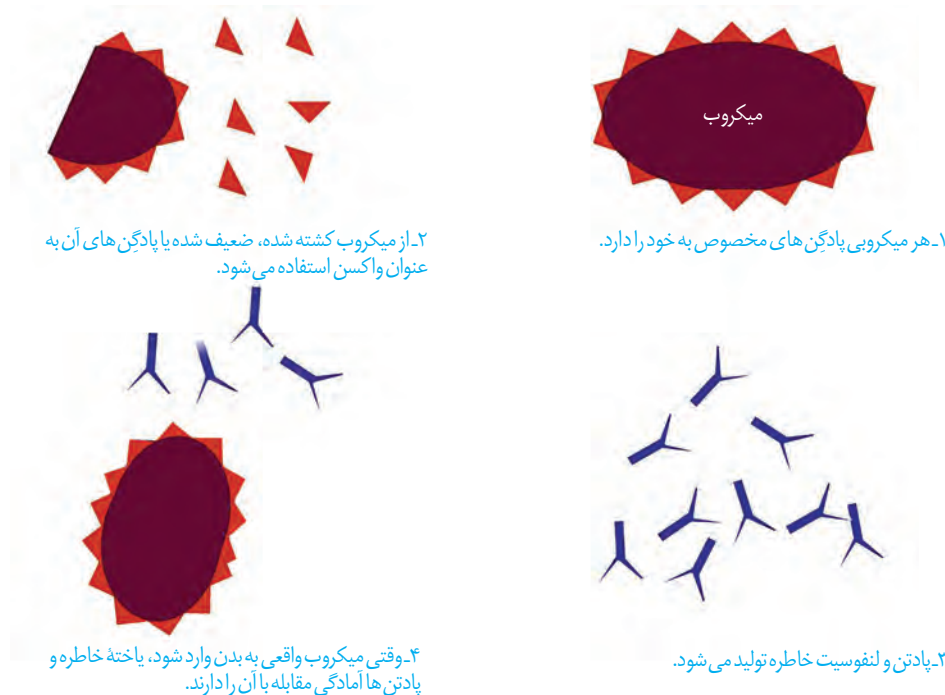
وجود تعداد زیادی لنفوسیت خاطره در خون، باعث می شود تشخیص پادگن سریع تر صورت پذیرد و برای برخوردهای بعدی، تعداد بیشتری لنفوسیت خاطره پدید آید.

فعالیت ۸

علت شدیدتر بودن پاسخ ایمنی در برخورد دوم نسبت به برخورد اول چیست؟

از خاصیت حافظه دار بودن دفاع اختصاصی، در واکسیناسیون استفاده می شود. کافی است یک بار میکروب را در شرایط کنترل شده به دستگاه ایمنی معرفی کنیم و به این طریق یاخته های خاطره را پدید آوریم. بدین ترتیب، اگر دوباره همان میکروب به بدن وارد شود، قبل از آنکه فرصت عمل پیدا کند، دستگاه ایمنی آن را از پای در می آورد.

واکسن، میکروب ضعیف شده، کشته شده، پادگن میکروب یا سم خنثی شده آن است که با وارد کردن آن به بدن، یاخته های خاطره پدید می آید (شکل ۱۷). به همین علت، ایمنی حاصل از واکسن را ایمنی فعال می نامند. در مقابل، ایمنی حاصل از سرم ایمنی غیر فعال است چون پادتن در بدن تولید نشده و یاخته خاطره ای نیز پدید نیامده است.



شکل ۱۷- نحوه عملکرد واکسن

فعالیت ۹

الف) تحقیق کنید که کودکان ایرانی چه واکسن هایی را دریافت می کنند؟ در چه زمانی؟
 ب) چرا بعضی از واکسن ها را باید تکرار کرد؟

ایدز، نگاهی دقیق تر به ایمنی اختصاصی

نقص ایمنی اکتسابی که به اختصار **ایدز (AIDS)** نامیده می شود، نوعی بیماری است که عامل آن **ویروس است**. **ویروس این بیماری HIV نام دارد**. در این بیماری عملکرد در دستگاه ایمنی فرد، دچار نقص می شود. به همین دلیل حتی ابتلا به کم خطرترین بیماری های واگیر ممکن است به مرگ منجر شود.

ویروس ایدز پس از ورود به بدن ممکن است بین ۶ ماه تا ۱۵ سال نهفته باقی بماند و بیماری ایجاد نکند. چنین فردی آلوده به HIV است، اما بیمار نیست و هیچ علامتی از ایدز را ندارد. تنها راه تشخیص آن، انجام آزمایش پزشکی است. فرد آلوده یا بیمار می تواند این ویروس را به دیگران منتقل کند. به این ترتیب، باعث انتشار ویروس شود.

HIV از طریق رابطه جنسی، خون و فرآورده های خونی آلوده و نیز استفاده از هر نوع اشیای تیز و برنده ای که به خون آلوده به ویروس آغشته باشد (مثل استفاده از سرنگ یا تیغ مشترک، خالکوبی و سوراخ کردن گوش با سوزن مشترک) و مایعات بدن منتقل می شود. مادری که آلوده به HIV است می تواند در جریان بارداری، زایمان و شیردهی، ویروس را به فرزند خود منتقل کند. دست دادن، روبوسی، نیش حشرات، آب و غذا، این ویروس را منتقل نمی کند. انتقال ویروس از طریق ترشحات

۱- Acquired Immune Deficiency Syndrome

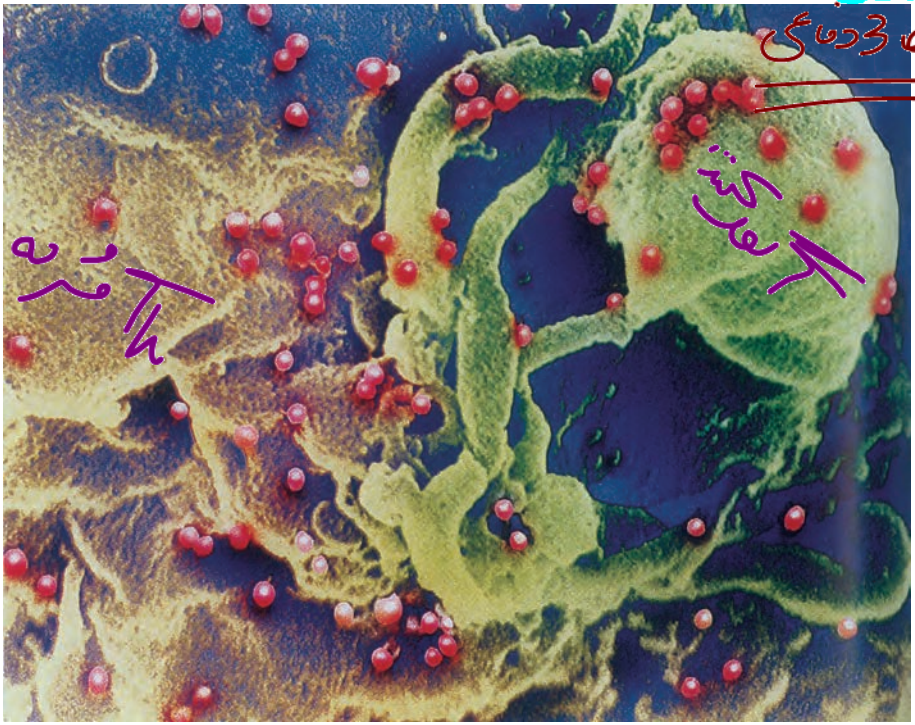


بینی بزاق، خلط، عرق و اشک، یا از طریق ادرار و مدفوع ثابت نشده است. تاکنون درمانی قطعی برای ایدز یافت نشده است و بهترین راه مقابله با آن، پیشگیری و افزایش آگاهی عمومی است.

دستگاه ایمنی چگونه در ایدز آسیب می بیند؟ زیست شناسان دریافته اند که علت بیماری ایدز، حمله ویروس به لنفوسیت های T و از پای درآوردن آنهاست (شکل ۱۸). این مشاهده بلافاصله پرسشی را مطرح می کند: چرا از بین رفتن لنفوسیت های T به تضعیف کل دستگاه ایمنی، حتی لنفوسیت های B می انجامد؟ فعالیت لنفوسیت T چه ارتباطی با لنفوسیت B دارد؟

HIV
آب خنک زدنی

تنها راه آگاهی از آلودگی به ویروس ایدز آزمایش است و هیچ علامتی را نمی توان برای آلوده بودن در نظر گرفت. آزمایش ایدز به روش های مختلفی صورت می گیرد. اگر جواب آزمایش های اولیه، وجود ویروس را نشان دهد، از آزمایش های تکمیلی برای تأیید آن استفاده می شود. آزمایش اولیه بر مبنای سنجش پادتنی است که علیه ویروس تولید می شود. بنابراین، زمانی این آزمایش انجام می شود که پادتن ساخته شده باشد. حداقل دو هفته طول می کشد تا مقدار پادتن به اندازه قابل سنجش برسد. بر مبنای روش آزمایش و دقت آن می توان سه هفته بعد از زمانی که احتمال آلودگی می رود نسبت به انجام آزمایش اقدام کرد. اما چون ممکن است در این مدت بدن هنوز به اندازه کافی پادتن نساخته باشد؛ لذا این آزمایش باید ۳ و ۶ ماه بعد دوباره انجام شود. آزمایش ایدز در شمار آزمایش های رایج نیست. بنابراین، فرد باید به طور مشخص این آزمایش را درخواست کند. انجام این آزمایش در مراکز مشاوره بیماری های رفتاری (ایدز) رایگان و نتیجه آن محرمانه است.



شکل ۱۸- HIV ویروس مسبب ایدز. در این شکل، ویروس با رنگ قرمز نشان داده شده است. ویروس ها در حال آزاد شدن از یاخته آلوده اند. این ویروس چنان ریز است که نزدیک به ۲۰۰ میلیون عدد از آنها را می توان در نقطه پایان این جمله جای داد.

پاسخ به این سؤال، به درک مدل دقیق تری از نحوه عمل دستگاه ایمنی انجامید. مشاهدات بیشتر نشان داد که HIV نه به همه لنفوسیت های T، بلکه به نوع خاصی از آنها حمله می کند. در واقع فعالیت لنفوسیت های B و دیگر لنفوسیت های T به کمک این نوع خاص انجام می شود؛ لذا آن را لنفوسیت T کمک کننده نامیدند. ویروس با از بین بردن این لنفوسیت ها، عملکرد لنفوسیت های B و T در نتیجه سیستم ایمنی را مختل می کند.

HIV
تضعیف دایره

این بخش متعین در عملکرد سیستم ایمنی

حساسیت

دستگاه ایمنی به همه مواد خارجی پاسخ نمی دهد. مثلاً دستگاه ایمنی به حضور میکروب های مفید در دستگاه گوارش پاسخ نمی دهد؛ به عدم پاسخ دستگاه ایمنی در برابر عامل های خارجی تحمل ایمنی می گویند.

بیشتر بدانید

بیماری MS

عوامل مسبب بیماری MS هنوز به طور قطع مشخص نیستند. علایم این بیماری متفاوت است اما غالباً با اختلالات دید (تاری و دوبینی) و اختلالات حسی و حرکتی (مثل اختلال در راه رفتن) همراه است.

در اطراف ما مواد گوناگونی وجود دارد که بی خطرند و دستگاه ایمنی نسبت به آنها تحمل دارد. اما در فردی ممکن است دستگاه ایمنی به این مواد بی خطر واکنش نشان دهد و پاسخ ایمنی ایجاد شود. در چنین حالتی می‌گوییم که این فرد نسبت به آن ماده حساسیت دارد. ماده‌ای را که باعث حساسیت شده است **حساسیت‌زا** می‌نامند. **حمل ایمنی** و **پاسخ ایمنی** ↑
پاسخ دستگاه ایمنی به ماده حساسیت‌زا، ترشح هیستامین از ماستوسیت‌ها و بازوفیل‌هاست. در نتیجه ترشح هیستامین علائم شایع حساسیت مثل **فرمزی** و **آبریزش** از بینی ایجاد می‌شود.

خف‌خف

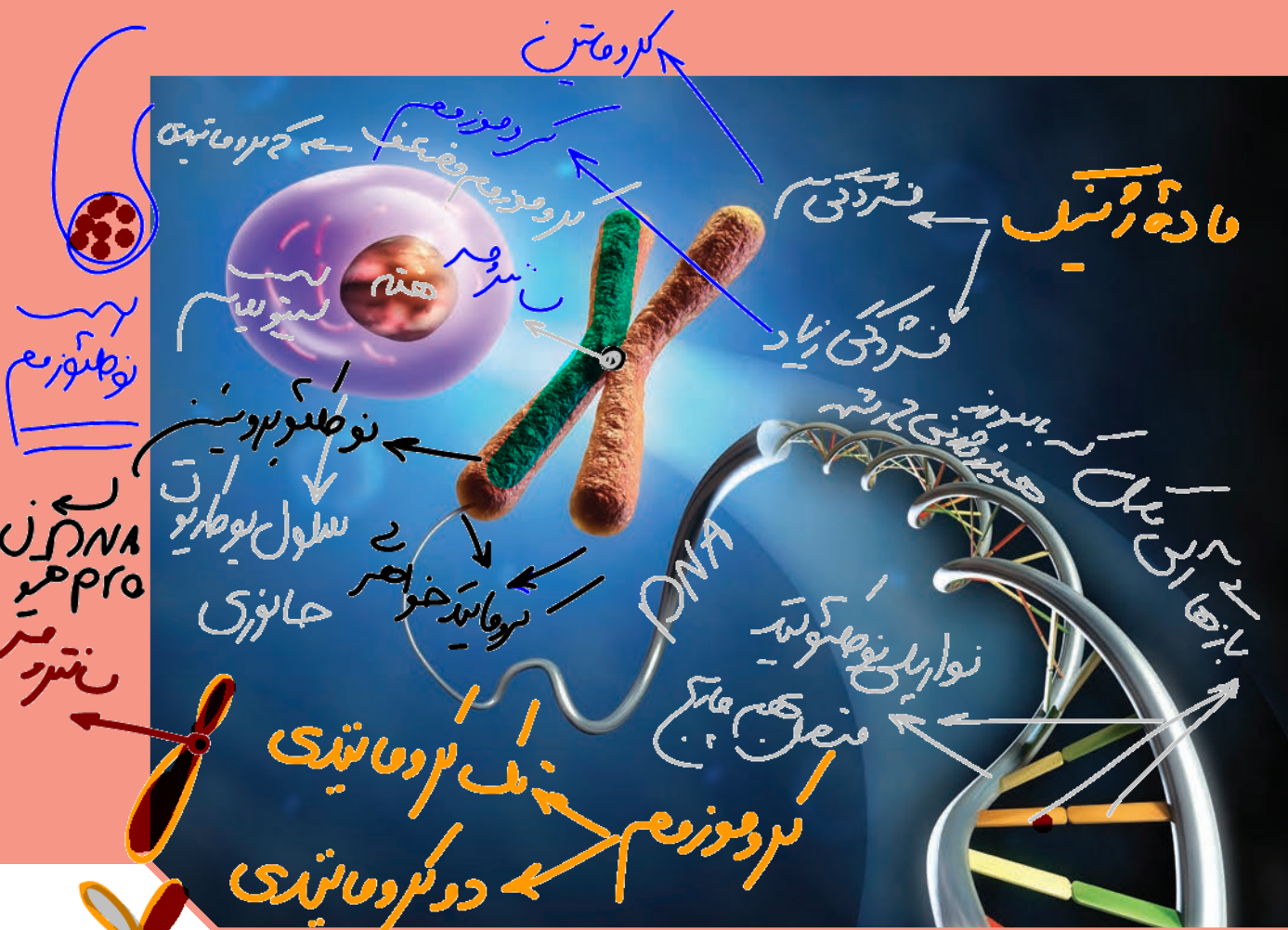
بیماری‌های خود ایمنی ← نوعی بیماری است که سیستم ایمنی بیمار با خودش درگیر می‌شود.

گاهی دستگاه ایمنی یاخته‌های خودی را به عنوان غیرخودی شناسایی و به آنها حمله می‌کند و باعث بیماری می‌شود؛ به این نوع بیماری‌ها، بیماری **خود ایمنی** می‌گویند. دیابت نوع یک، مثالی از بیماری خود ایمنی است. در این بیماری، دستگاه ایمنی به یاخته‌های تولیدکننده انسولین حمله می‌کند و آنها را از بین می‌برد. MS / ام‌اس. بیماری خود ایمنی دیگری است که در آن میلین اطراف یاخته‌های عصبی در مغز و نخاع مورد حمله دستگاه ایمنی قرار می‌گیرد و در قسمت‌هایی از بین می‌رود. بدین ترتیب، در ارتباط دستگاه عصبی مرکزی با بقیه بدن اختلال ایجاد می‌شود.

نوز و صبا ایمنی در جانوران

همه جانوران ایمنی غیر اختصاصی دارند، اما ایمنی اختصاصی اساساً در مهره‌داران دیده می‌شود. با وجود این، سازو کارهایی در بی‌مهرگان یافت شده است که مشابه ایمنی اختصاصی عمل می‌کنند. به عنوان مثال، در مگس میوه، مولکولی کشف شده است که می‌تواند به صدها شکل مختلف درآید و پادگن‌های مختلفی را شناسایی کند.

مطالعات دانشمندان درباره دستگاه ایمنی بی‌مهرگان در سال‌های اخیر، شباهت‌های بیشتری با مهره‌داران را نشان داده است. این گونه مطالعات ما را در درک بهتر نحوه پیدایش ایمنی اختصاصی یاری خواهد کرد.



فصل ۶

تقسیم یاخته

زندگی انسان، با تشکیل یاخته‌ای به نام تخم آغاز می‌شود و پس از چند ماه به نوزادی با میلیاردها یاخته تبدیل می‌شود. روند افزایش یاخته‌ها حتی بعد از این هم ادامه می‌یابد، به طوری که تعداد یاخته‌ها در بدن یک فرد بالغ به صدها میلیارد می‌رسد. این افزایش شگفت‌انگیز با تقسیمات پیاپی یاخته‌ها صورت می‌پذیرد. با توجه به مطالبی که در سال‌های گذشته فرا گرفتید، چه انواعی از تقسیم در بدن یک فرد بالغ را می‌شناسید؟ هر نوع از این تقسیم‌ها در چه نوع یاخته‌هایی، انجام می‌شود؟ نتیجه هر نوع از تقسیم چیست؟ آیا همه یاخته‌های بدن، تقسیم می‌شوند؟

داخل بدن
تقسیم می‌شود
مستور

باندی
تقسیم می‌شود

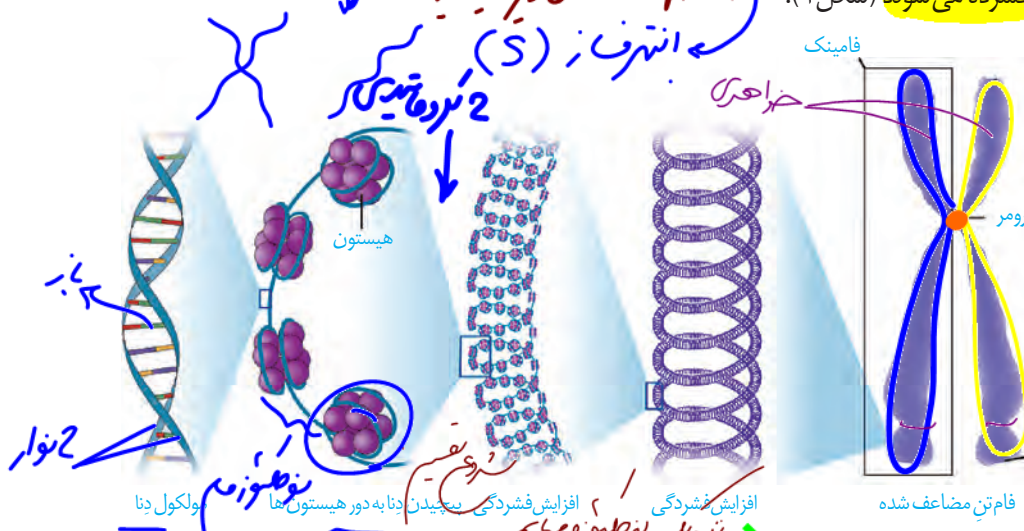
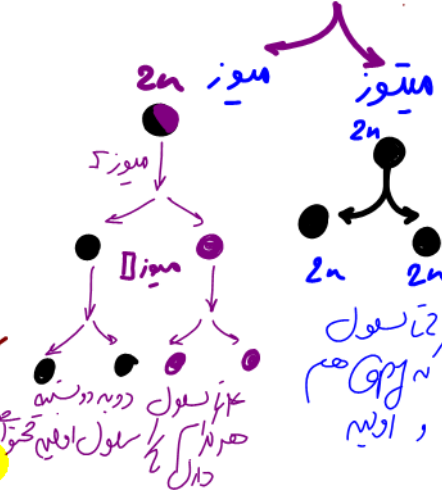


گفتار ۱

فام تن (کروموزوم)

ساختاری (هیتون)

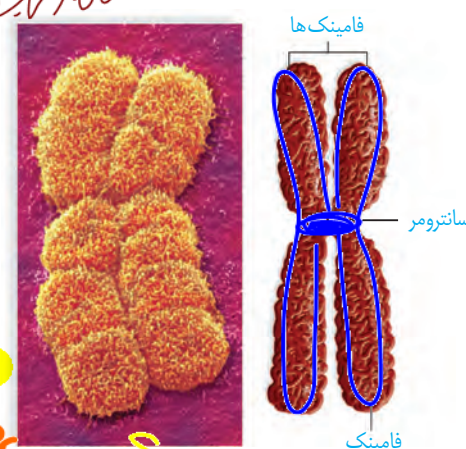
همان طور که می دانید فام تن از دنا (DNA) و پروتئین تشکیل شده است. به شکل ۱ توجه کنید. زمانی که یاخته در حال تقسیم نیست، فشردگی فام تن های هسته کمتر و به صورت توده ای از رشته های درهم است که به آن فامینه (کروماتین) می گویند. هر رشته فامینه دارای واحدهای تکراری به نام هسته تن (نوکلئوزوم) است. در هر هسته تن مولکول دنا حدود ۲ دور در اطراف ۸ مولکول پروتئینی به نام هیستون پیچیده است. ماده وراثتی هسته در تمام مراحل زندگی یاخته، به جز تقسیم، به صورت فامینه است. پیش از تقسیم یاخته، رشته های فامینه دو برابر می شود. در حین تقسیم یاخته فشرده می شوند (شکل ۱).




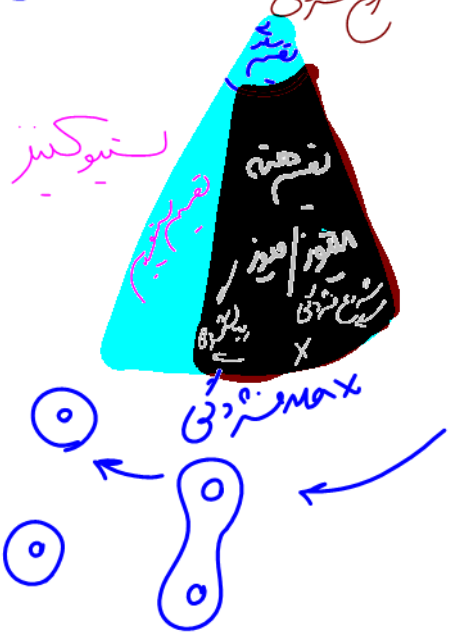
شکل ۱- مراحل فشرده شدن فام تن

تقسیم سلولی

شکل ۲ تصویر یک فام تن را در حداکثر فشردگی نشان می دهد. همان طور که در این شکل مشاهده می شود، این فام تن از دو بخش همانند به نام فامینک (کروماتید) تشکیل شده است. به این فام تن ها، فام تن های مضاعف شده می گویند. فامینک های هر فام تن مضاعف از نظر نوع ژن ها یکسان اند و به آنها فامینک های خواهری گفته می شود. فامینک های خواهری در محلی به نام سانترومر به هم متصل اند.



شکل ۲- ساختار یک فام تن مضاعف شده



کسری = اتوزوم = غیر جنسی

واژه شناسی

فامینه (chromatin/ کروماتین)
 فامینک (chromatid/ کروماتید)
 فامتن (chromosome/ کروموزوم)
 فام و کروم هر دو به معنای رنگ هستند که در کلمات متفاوتی به کار رفته، وقتی به صورت توده رنگ پذیر دیده می شوند فامینه، به صورت اجسام رنگ پذیر فامتن و جزء کوچکتر اینها همراه با پروتئینهای کوچک (ک) به کار رفته و فامینک خوانده می شود.

تعداد فامتن

هرگونه از جانداران، تعداد معینی فامتن در یاخته های پیکری خود دارند که به آن **عدد فامتنی** می گویند. یاخته های پیکری، همان یاخته های غیر جنسی جاندارند. ممکن است تعداد فامتن یاخته های پیکری بعضی از جانداران مانند هم باشد؛ مثلاً در یاخته های پیکری انسان و درخت زیتون ۴۶ فامتن وجود دارد، ولی به طور مسلم زن های آنها بسیار متفاوت اند. تعداد فامتن های جانداران مختلف (به جز باکتری ها) از ۲ تا بیش از ۱۰۰۰ عدد متغیر است.

یاخته های پیکری انسان، دولا (دیپلوئید) هستند

برای تعیین تعداد فامتن ها و تشخیص بعضی ناهنجاری های فامتنی، **کاریوتیپ** تهیه می شود. کاریوتیپ تصویری از فامتن ها با حداکثر فشردگی است که بر اساس اندازه، شکل و محل قرارگیری سانترومرها، مرتب و شماره گذاری شده اند (شکل ۳).

هر کروموزوم کنایه

بیشتر بدانید

جدول ۱- عدد فامتنی برخی جانداران

نام جاندار	تعداد فامتن
مگس خانگی	۱۲
ذرت	۲۰
گوجه فرنگی	۲۴
زرافه	۳۰
گره	۳۸
موش	۴۰
انسان	۴۶
شامپانزه	۴۸
سیب زمینی	۴۸
اسب	۶۴
سگ	۷۸
نوعی سرخس	۱۲۶۰

با توجه به جدول آیا بین ساده و پیچیده بودن جاندار و تعداد فامتن ها می تواند ارتباطی وجود داشته باشد؟

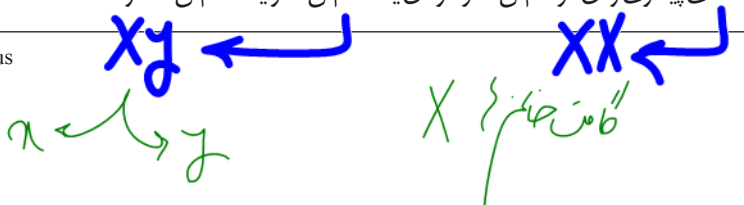


با بررسی کاریوتیپ انسان، مشاهده می شود که هر فامتن دارای یک فامتن شبیه خود است که

به این فامتن ها، **همتا** گفته می شود. به جاندارانی که یاخته های پیکری آنها از هر فامتن دو نسخه داشته باشند، **دولا** می گویند. در این یاخته ها، دو مجموعه فامتن وجود دارد که دو به دو به یکدیگر شبیه اند؛ یک مجموعه فامتن از والد مادری و یک مجموعه از والد پدری دریافت شده است. این یاخته ها را با نماد کلی « $2n$ » نشان می دهند.

در انسان و بعضی جانداران، فامتن هایی وجود دارند که در تعیین جنسیت نقش دارند. به این فامتن ها، **فامتن جنسی** گفته می شود. فامتن های جنسی ممکن است شبیه هم نباشند. نمونه این فامتن ها را در کاریوتیپ شکل ۳ مشاهده می کنید. فامتن های جنسی در انسان را با نماد X و Y نشان می دهند. هسته یاخته های پیکری زنان دو فامتن X و مردان یک فامتن X و یک فامتن Y دارند.

۱- Homologous

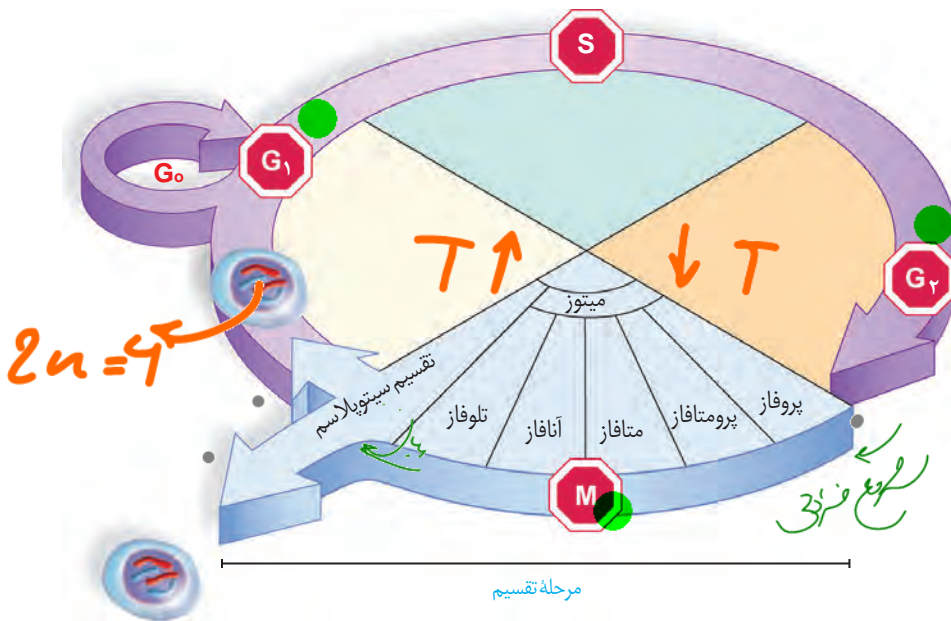


اسیرم تخمک

بعضی یاخته‌ها مانند یاخته جنسی انسان، تک‌لاد (هاپلوئید) هستند؛ یعنی یک مجموعه فام‌تن دارند. یاخته‌های تک‌لاد را با نماد کلی «n» نشان می‌دهند. «n» تعداد فام‌تن‌های یک مجموعه است؛ مثلاً در انسان $n=23$ است. در یک مجموعه فام‌تنی، هیچ فام‌تنی با فام‌تن دیگر هم‌تا نیست.

چرخه یاخته‌ای

مراحلی که یک یاخته از پایان یک تقسیم تا پایان تقسیم بعدی می‌گذراند را چرخه یاخته‌ای می‌گویند. این چرخه شامل مراحل اینترفاز و تقسیم است. در یاخته‌های مختلف، مدت این مراحل متفاوت است (شکل ۴).



شکل ۴- مراحل مختلف چرخه یاخته

اینترفاز:

یاخته‌ها بیشتر مدت زندگی خود را در این مرحله می‌گذرانند. کارهایی مانند رشد، ساخت مواد مورد نیاز و انجام کارهای معمول یاخته در این مرحله انجام می‌شود. اینترفاز شامل مراحل G_1 ، S و G_2 است.

مرحله وقفه اول یا G_1 : مرحله رشد یاخته‌هاست و یاخته‌ها مدت زمان زیادی در این مرحله می‌مانند. یاخته‌هایی که به‌طور موقت یا دائمی تقسیم نمی‌شوند، معمولاً در این مرحله متوقف می‌شوند. این یاخته‌ها به‌طور موقت یا دائم به مرحله‌ای به نام G_0 وارد می‌شوند. یاخته عصبی نمونه‌ای از این یاخته‌هاست.

DNA می‌سازد

دوره

داخل هسته

مرحله S: دو برابر شدن DNA هسته، در این مرحله انجام می‌شود که نتیجه همانندسازی است. همانندسازی DNA فرایندی است که طی آن از یک مولکول DNA، دو مولکول یکسان ایجاد می‌شود.

با

مرحله وقفه دوم یا G₂: این مرحله نسبت به مراحل قبلی اینترفاز، کوتاه‌تر است و در آن،

تغییرات انداز

یاخته‌ها آماده مرحله تقسیم می‌شوند. در این مرحله، ساخت پروتئین‌ها و عوامل مورد نیاز برای تقسیم یاخته افزایش پیدا می‌کنند و یاخته‌ها آماده تقسیم می‌شوند.

عملکرد باورزم

زمان ↑

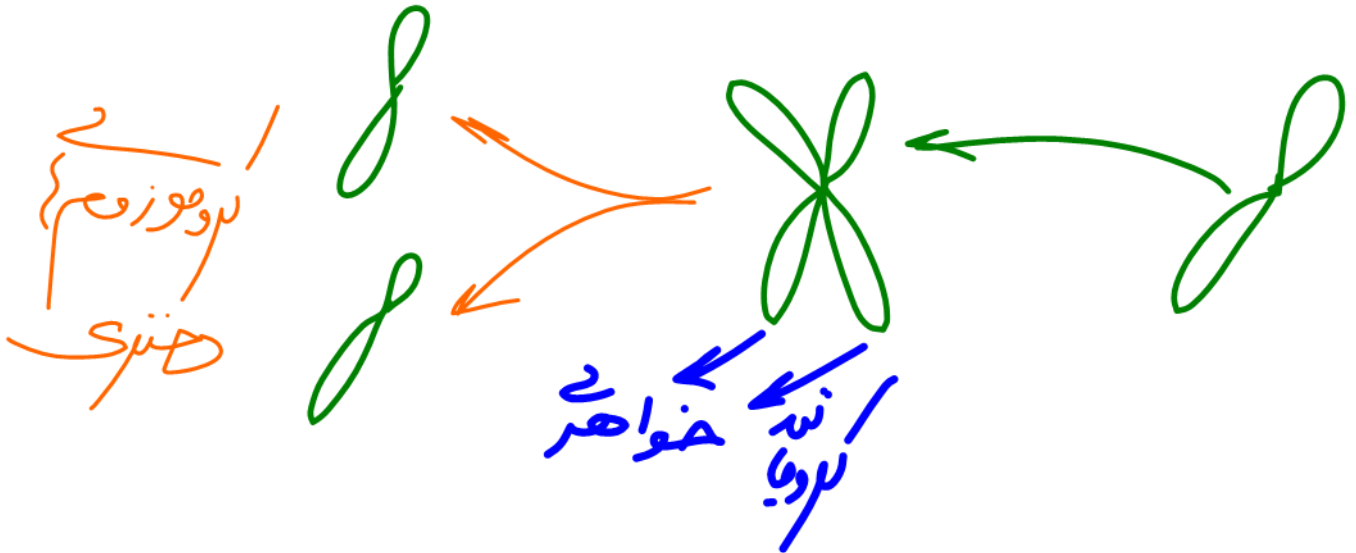
تقسیم یاخته:

در این مرحله، دو فرایند تقسیم هسته (رشته‌مان یا کاستمان) و تقسیم سیتوپلاسم انجام می‌شود.

در سال‌های گذشته تا حدودی با این فرایندها آشنا شدید. با تقسیم سیتوپلاسم، در نهایت یاخته‌های

جدید ایجاد می‌شود.

دوره



تقسیم سیتوپلاسم

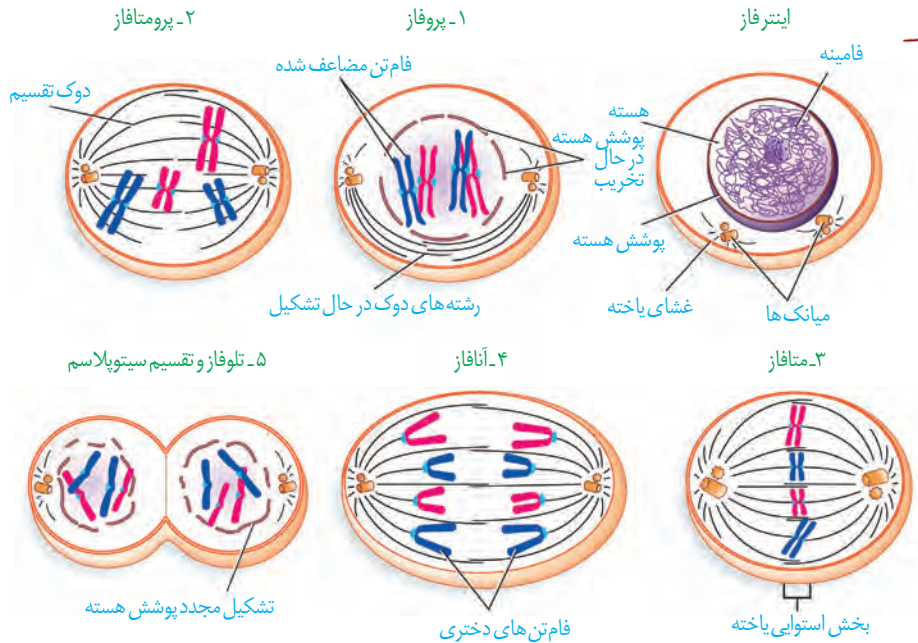
پروفاز: در این مرحله، رشته‌های فامینه فشرده، ضخیم و کوتاه‌تر می‌شوند. به طوری که به تدریج با میکروسکوپ نوری می‌توان آنها را مشاهده کرد. ضمن فشرده شدن فام تن، میانک‌ها به دو طرف یاخته حرکت می‌کنند و بین آنها دوگ تقسیم تشکیل می‌شود. در این مرحله پوشش هسته شروع به تخریب می‌کند.

پرومتافاز: در این مرحله، پوشش هسته و شبکه آندوپلاسمی تجزیه می‌شوند تا رشته‌های دوگ بتوانند به فام تن‌ها برسند. در همین حال سانترومر فام تن‌ها به رشته‌های دوگ متصل می‌شوند.

متافاز: فام تن‌ها بیشترین فشردگی را پیدا می‌کنند و در وسط (سطح استوایی) یاخته ردیف می‌شوند.

انافاز: در این مرحله، با تجزیه پروتئین اتصالی در ناحیه سانترومر، فامینک‌ها از هم جدا می‌شوند. فاصله گرفتن فامینک‌ها با کوتاه شدن رشته‌های دوگ متصل به فام تن انجام می‌شود. فام تن‌ها که اکنون تک فامینکی‌اند، به دو سوی یاخته (قطب) کشیده می‌شوند.

تلوفاز: رشته‌های دوگ تخریب شده و فام تن‌ها شروع به باز شدن می‌کنند تا به صورت فامینه درآیند. پوشش هسته نیز مجدداً تشکیل می‌شود. در پایان تلوفاز، یاخته، دو هسته مشابه دارد. مراحل تقسیم رشتمان در شکل ۷ نشان داده شده است.



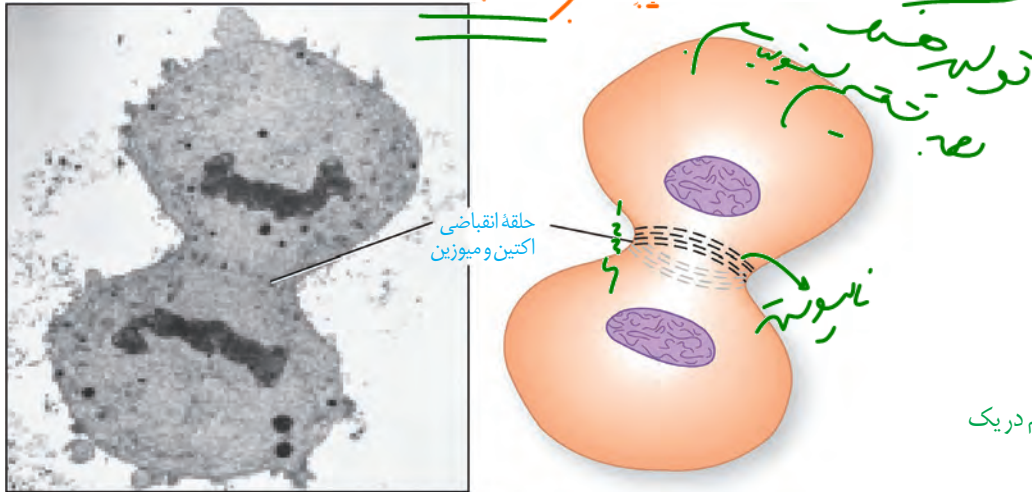
شکل ۷- طرح ساده‌ای از مراحل تقسیم رشتمان

تقسیم سیتوپلاسم

پس از رشتمان، اجزای یاخته بین دو سیتوپلاسم تقسیم می‌شوند. با تقسیم سیتوپلاسم دو یاخته جدید تشکیل می‌شود.

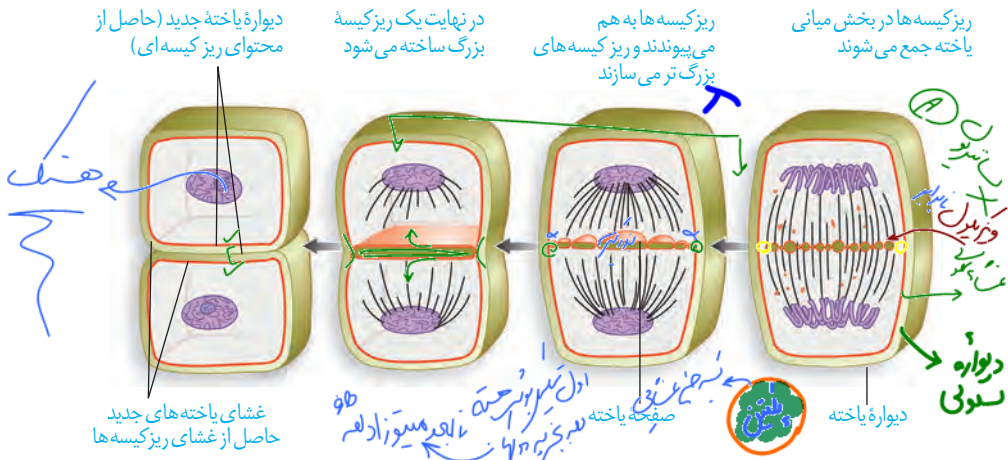
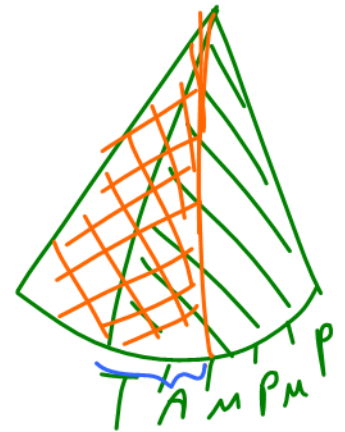
در یاخته‌های جانوری تقسیم سیتوپلاسم با ایجاد فرورفتگی در وسط آن شروع می‌شود. این فرورفتگی حاصل انقباض حلقه‌ای از جنس اکتین و میوزین است که مانند کمربندی در سیتوپلاسم قرار می‌گیرد و به غشا متصل است. با تنگ شدن این حلقه انقباضی در نهایت دو یاخته از هم جدا می‌شوند (شکل ۸).

ایجاد یاخته جدید ← انقباض حلقه



شکل ۸- تقسیم سیتوپلاسم در یک یاخته جانوری

در یاخته‌های گیاهی، حلقه انقباضی تشکیل نمی‌شود. در این یاخته‌ها نخست ساختاری به نام **صفحه یاخته‌ای** در محل تشکیل دیواره جدید، ایجاد می‌شود. این صفحه با تجمع ریزکیسه‌های دستگاه گلژی و به هم پیوستن آنها تشکیل می‌شود. این ریزکیسه‌ها، دارای پیش‌سازهای تیغه میانی و دیواره یاخته‌اند. با اتصال این صفحه به دیواره یاخته مادری دو یاخته جدید از هم جدا می‌شوند (شکل ۹). ساختارهایی مانند لان و پلاسمودسم که سال گذشته با آنها آشنا شدید در هنگام تشکیل دیواره جدید، پایه‌گذاری می‌شوند.

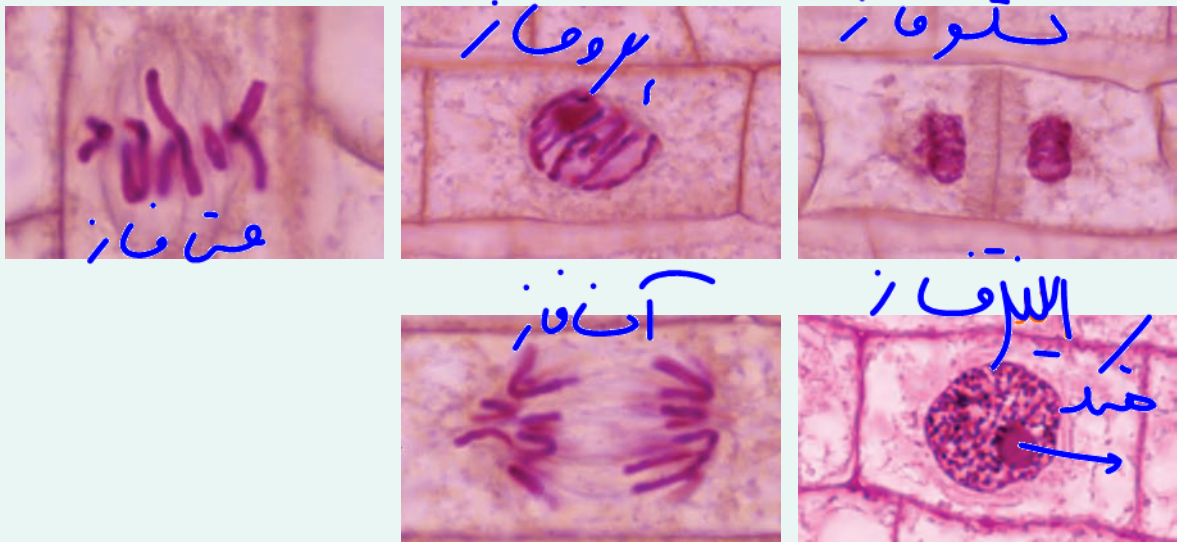


starch ← گلیکوژن

شکل ۹- تقسیم سیتوپلاسم در یاخته گیاهی

فعالیت ۱
در دنیای جانداران یاخته‌های چنددهسته‌ای به روش‌های مختلفی ایجاد می‌شوند. در سال گذشته با بعضی از این یاخته‌ها آشنا شدید. آیا می‌توانید بعضی از آنها را نام ببرید؟ در مورد نحوه تشکیل این نوع از یاخته‌ها تحقیق کنید و نتیجه آن را به کلاس ارائه دهید.

با توجه به آنچه درباره چرخه یاخته ای فراگرفته اید تصاویر میکروسکوپی زیر را بر اساس مراحل آن، با شماره گذاری مرتب کنید.



تقسیم یاخته، فرایندی تنظیم شده است ← بقول کیمی / سلول بندی

بعضی یاخته های بدن جانداران، مانند یاخته های بنیادی مغز استخوان و یاخته های مریستمی گیاهان می توانند دائماً تقسیم شوند. همین یاخته ها در شرایط خاصی، مثلاً شرایط نامساعد محیطی یا افزایش بیش از حد تعداد یاخته ها، تقسیم خود را کاهش می دهند و یا متوقف می شوند. برعکس یاخته های عصبی به ندرت تقسیم می شوند. این یاخته ها چگونه تشخیص می دهند در چه زمان یا به چه معداری باید تقسیم شوند؟ چه عواملی تنظیم کننده سرعت و تعداد تقسیم یاخته اند؟ چگونه تعداد چرخه های یاخته تنظیم می شوند و چرا این تنظیم در برخی یاخته ها به هم می خورد؟

فکر کن
حرف بزن
گوشی

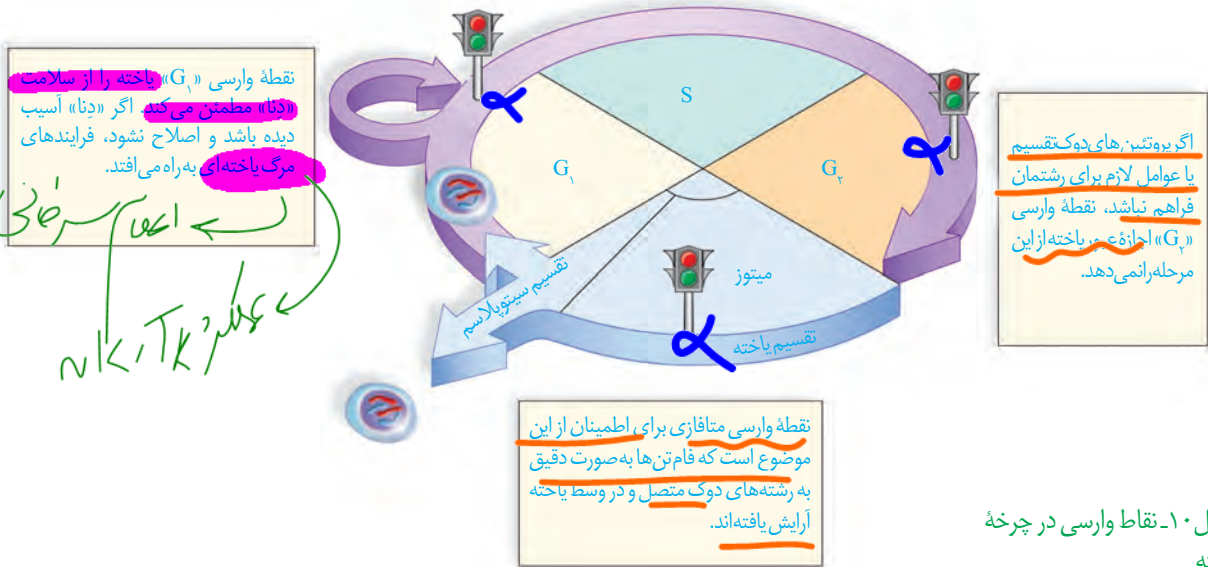
عملی در 6

عوامل تنظیم کننده تقسیم یاخته

یاخته ها در پاسخ به بعضی عوامل محیطی و مواد شیمیایی سرعت تقسیم خود را تنظیم می کنند. انواعی از پروتئین ها وجود دارند که با فرایندهایی منجر به تقسیم یاخته ای می شوند. پروتئین های دیگری نیز وجود دارند که در شرایط خاصی، مانع از تقسیم یاخته ها می شوند. این پروتئین ها در سرعت تقسیم یاخته مانند پدال گاز و ترمز عمل می کنند؛ یا در گیاهان در محل آسیب دیده، نوعی عامل رشد تولید می شوند تا با تقسیم سریع، توده یاخته ایجاد کنند. این توده یاخته مانع نفوذ میکروب ها می شود؛ یا نوعی عامل رشد، در پوست انسان زیر محل زخم تولید می شود که با افزایش سرعت تقسیم یاخته ها، سرعت بهبود زخم را افزایش می دهد. مثال دیگر این مواد، اریتروپویتین است که در سال گذشته با آن آشنا شدید. با توجه به آنچه آموختید این ماده بر کدام بخش بدن اثر می گذارد و نتیجه آن چیست؟

Pro تنظیم ← گشادی
← تحرکی

در چرخه یاخته‌ای، چند نقطه واریسی وجود دارد. نقاط واریسی مرحله‌ای از چرخه یاخته‌اند که به آن اطمینان می‌دهند که مرحله قبل کامل شده است و عوامل لازم برای مرحله بعد آماده‌اند. در شکل ۱۰ بعضی از این نقاط را می‌بینید.



شکل ۱۰- نقاط واریسی در چرخه یاخته

تقسیم بی‌رویه یاخته

واژه‌شناسی

یاخته‌ها با تقسیم، افزایش و با مرگ، کاهش می‌یابند. اگر تعادل بین تقسیم یاخته و مرگ یاخته‌ها به هم بخورد، چه وضعی پیش می‌آید؟ نتیجه می‌تواند ایجاد یک تومور باشد. تومور، توده‌ای است که در اثر تقسیمات تنظیم نشده ایجاد می‌شود. تومورها به دو نوع خوش خیم و بدخیم تقسیم می‌شوند. نوع خوش خیم رشدی کم دارد و یاخته‌های آن در جای خود می‌مانند و منتشر نمی‌شوند. این نوع تومور معمولاً آن قدر بزرگ نمی‌شوند که به بافت‌های مجاور خود آسیب بزنند. البته در مواردی که تومور بیش از اندازه بزرگ شود، می‌تواند در انجام اعمال طبیعی اندام اختلال ایجاد کند. لیپوما یکی از انواع تومورهای خوش خیم است که در افراد بالغ متداول است. در این تومور، یاخته‌های چربی تکثیر شده و توده یاخته ایجاد می‌کند (شکل ۱۱- الف).

دگر نشینی (metastasis/متاستاز) «متا» به معنی دگر و «استاز» به معنی ایستادن و تثبیت است. دگر نشینی نیز به معنای برخاستن از یک بافت یا اندام و نشستن در بافت یا اندام دیگر است.

تقسیم بی‌رویه تومور



الف

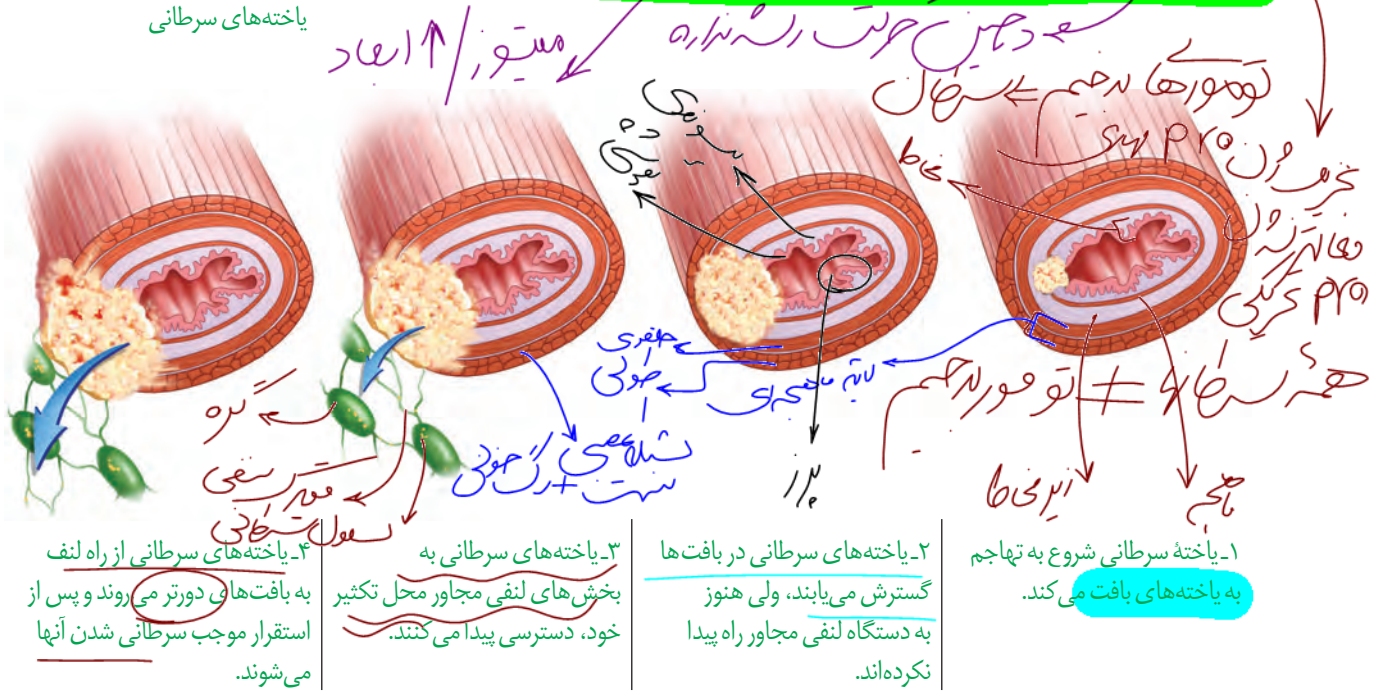


ب

تصویر ۱۱- الف) تومور خوش خیم، لیپوما در نزدیکی آرنج
ب) ملانوما: نوعی تومور بدخیم یاخته‌های رنگدانه دار پوست

تومور بدخیم یا سرطان به بافت‌های مجاور حمله می‌کند و توانایی دگرنشینی (متاستاز) دارد؛ یعنی می‌تواند یاخته‌هایی از آن جدا شده و همراه با جریان خون، یا به ویژه لنف، به نواحی دیگر بدن بروند، در آنجا مستقر شوند و رشد کنند (شکل ۱۲). علت اصلی سرطان، بعضی تغییرات در ماده ژنتیکی یاخته است که باعث می‌شود چرخه یاخته از کنترل خارج شود (شکل ۱۱-ب).

شکل ۱۲- مراحل رشد و دگرنشینی یاخته‌های سرطانی



۱- یاخته سرطانی شروع به تهاجم به یاخته‌های بافت می‌کند.

۲- یاخته‌های سرطانی در بافت‌ها گسترش می‌یابند، ولی هنوز به دستگاه لنفی مجاور راه پیدا نکرده‌اند.

۳- یاخته‌های سرطانی به بخش‌های لنفی مجاور محل تکثیر خود، دسترسی پیدا می‌کنند.

۴- یاخته‌های سرطانی از راه لنف به بافت‌های دورتر می‌روند و پس از استقرار موجب سرطانی شدن آنها می‌شوند.

تشخیص و درمان سرطان

روش‌های متعددی برای تشخیص و درمان سرطان‌ها وجود دارد و گاهی ترکیبی از این روش‌ها مورد استفاده قرار می‌گیرد. بافت‌برداری روشی است که در آن، تمام یا بخشی از بافت سرطانی یا مشکوک به سرطان برداشته می‌شود. آزمایش خون به این شناسایی کمک می‌کند.

روش‌های رایج درمان سرطان شامل جراحی، شیمی‌درمانی و پرتودرمانی است. در پرتودرمانی، یاخته‌هایی که به سرعت تقسیم می‌شوند، به طور مستقیم تحت تأثیر پرتوهای قوی قرار می‌گیرند.

شیمی‌درمانی با استفاده از داروها باعث سرکوب تقسیم یاخته‌ها در همه بدن می‌شود. این روش‌های درمانی می‌توانند به یاخته‌های مغز استخوان، پیاز مو و پوشش دستگاه گوارش نیز آسیب برسانند. مرگ این یاخته‌ها از عوارض جانبی شیمی‌درمانی است که باعث ریزش مو، تهوع و خستگی می‌شود.

حتی بعضی افراد که تحت تأثیر تابش‌های شدید یا شیمی‌درمانی قوی قرار می‌گیرند مجبور به پیوند مغز استخوان می‌شوند تا بتوانند یاخته‌های خونی مورد نیاز را بسازند.

بیشتر بدانید

یاخته‌های سرطانی در صورت وجود ماده غذایی و فضای کافی می‌توانند به طور دائم تقسیم شوند. یاخته‌های سرطانی زنی سیاه‌پوست به نام هنریتا لکس Henrietta Lacks که در سال ۱۹۵۱ در اثر همین بیماری درگذشت، همچنان در حال تقسیم در محیط آزمایشگاهی بسیاری از نقاط جهان است. محققان زیادی از یاخته‌های هلا (مخفف نام هنریتا لکس) در آزمایشگاه‌های زیست‌شناسی استفاده می‌کنند. این یاخته‌ها می‌توانند در مجاورت یاخته‌های دیگر، آنها را به حالت سرطانی در بیاورند.

عوارض

سوال مغز استخوانی

بیشتر بدانید

یاخته‌های سرطانی و یاخته‌های عادی در چند ویژگی با هم تفاوت دارند:

- ۱- یاخته‌های سرطانی، تقسیمات بدون کنترل دارند.
- ۲- شکل یاخته‌های سرطانی با یاخته‌های عادی تفاوت دارد. همچنین ممکن است یاخته‌های سرطانی، چند هسته‌ای شوند.
- ۳- بسیاری از یاخته‌های سرطانی نامیرا هستند؛ یعنی برخلاف یاخته‌های عادی بعد از چند تقسیم نمی‌میرند.
- ۴- یاخته‌های عادی در حضور عوامل، رشد تقسیمات خود را شروع می‌کنند و با اتمام آن، پایان می‌دهند. بسیاری از یاخته‌های سرطانی حتی بدون حضور عوامل رشد، می‌توانند تقسیم شوند.
- ۵- در یاخته‌های عادی در محیط کشت، با تکثیر و رسیدن لبه یاخته‌ها به هم، تقسیم متوقف می‌شود. در ضمن، یاخته‌های عادی در محیط کشت نیازمند سطح جامد برای اتصال اند. یاخته‌های سرطانی هیچ کدام از این خصوصیات را ندارند. این موضوع، علت توانایی دگرنشینی یاخته‌های سرطانی را نشان می‌دهد.
- ۶- یاخته‌های عادی در اثر آسیب دیدگی، دچار خزان یاخته‌ای می‌شوند، ولی یاخته‌های سرطانی نمی‌میرند.
- ۷- یاخته‌های سرطانی موادی را تولید می‌کنند که باعث ایجاد رگ‌های جدید خونی می‌شوند تا فرایند غذارسانی و دفع مواد زاید به راحتی انجام شود (شکل مراحل رشد و دگرنشینی یاخته‌های سرطانی).

وراثت و محیط، هر دو در ایجاد سرطان نقش دارند

پروتئین‌ها، تنظیم‌کننده چرخه یاخته و مرگ آن هستند. پروتئین‌ها عملکرد ژن‌ها هستند. بنابراین، مشخص است که در ایجاد سرطان، ژن‌ها نقش دارند. ژن‌های زیادی شناخته شده‌اند که در بروز سرطان مؤثرند. علت شیوع بیشتر بعضی سرطان‌ها در بعضی جوامع، همین مسئله است.

عوامل محیطی هم در بروز سرطان مؤثرند. پرتوهای فرابنفش، بعضی آلاینده‌های محیطی و دود خودروها به ساختار «دنا» آسیب می‌زنند. سایر پرتوها و مواد شیمیایی سرطان‌زا، مواد غذایی دودی شده مثل گوشت و ماهی دودی، بعضی ویروس‌ها فرصت‌های ضدبارداری، نوشیدنی‌های الکلی و دخانیات از عوامل مهم سرطان‌زایی‌اند.

فعالیت ۳

با استفاده از منابع علمی بررسی کنید که کدام نوع از سرطان‌ها در

کشور ما شیوع بیشتری دارند. چرا بعضی انواع سرطان در بخش‌های خاصی از کشور ما شایع‌ترند؟

بیشتر بدانید

جدول ۲- برخی عوامل مؤثر بر بروز سرطان

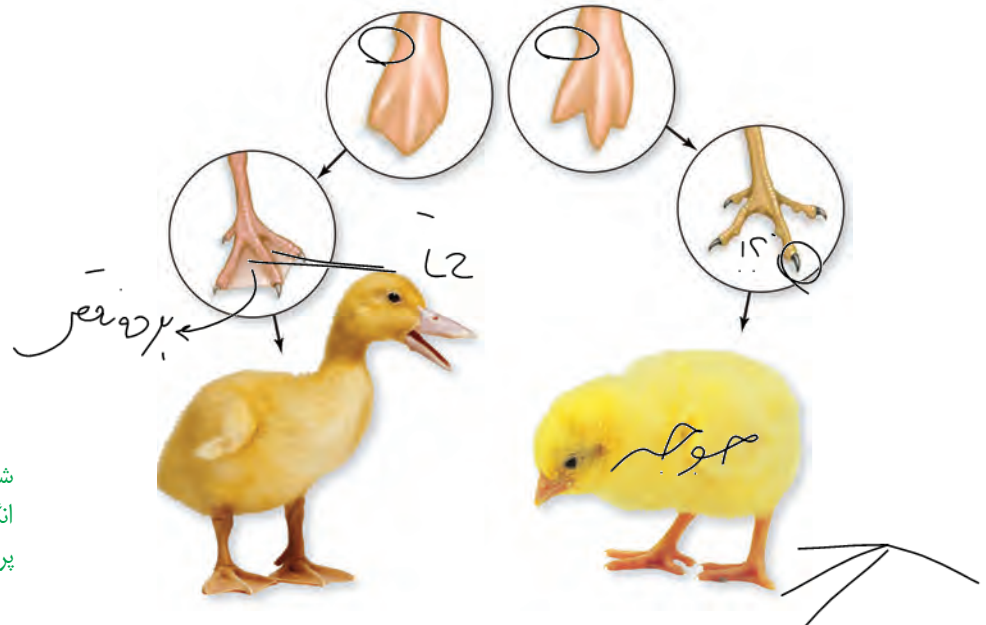
پرتوها	عوامل شیمیایی	خوراکی و آشامیدنی‌ها	ویروس‌ها	هورمون	عوامل ژنی
<ul style="list-style-type: none"> پرتو X پرتو گاما پرتو فرابنفش (سولاریوم-) آفتاب‌سوختگی 	<ul style="list-style-type: none"> دخانیات نیکل آرسنیک بنزن دیوکسین آزبست (پشم‌شیشه) اورانیوم پلی‌وینیل کلراید PVC 	<ul style="list-style-type: none"> نوشیدنی‌های الکلی گوشت و ماهی دودی غذاهای نیترات‌دار 	<ul style="list-style-type: none"> هپاتیت ب هرپس سیمپلکس پاپیلوما 	<ul style="list-style-type: none"> قرص‌های ضد بارداری 	<ul style="list-style-type: none"> ژن‌های مؤثر در بروز رتینوبلاستوما سرطان پروستات سرطان معده سرطان پوست سرطان خون سرطان رحم

مرگ برنامه ریزی شده یاخته

مرگ یاخته‌ها می‌تواند تصادفی باشد؛ مثلاً در بریدگی، یاخته‌ها آسیب می‌بینند و از بین می‌روند. به این حالت، **بافت مردگی** گفته می‌شود. ولی مرگ برنامه ریزی شده یاخته‌ای شامل یک سری فرایندهای دقیقاً برنامه ریزی شده است که در بعضی یاخته‌ها و در شرایط خاص ایجاد می‌شود. این فرایند با رسیدن علایمی به یاخته شروع می‌شود. به دنبال این رخداد، در چند ثانیه پروتئین‌های تخریب کننده در یاخته شروع به تجزیه اجزای یاخته و مرگ آن می‌کنند.

سرعت ← آنتزیم هیدرولیز

حذف یاخته‌های پیر یا آسیب دیده، مانند آنچه در **آفتاب سوختگی** اتفاق می‌افتد، مثالی از مرگ برنامه ریزی شده یاخته‌ای است؛ چون پرتوهای خورشید دارای اشعه فرابنفش اند آفتاب سوختگی می‌تواند سبب آسیب به «دنا» یاخته‌ها و بروز سرطان شود. مرگ برنامه ریزی شده یاخته‌ای، با از بین بردن یاخته‌های آسیب دیده، آنها را حذف می‌کند. مثال دیگر، حذف یاخته‌های اضافی از بخش‌های عملکردی مانند پرده‌های بین انگشتان پا در پرندگان است (شکل ۱۳).



شکل ۱۳- حذف پرده‌های میانی انگشتان در دوران جنینی برخی پرندگان در اثر مرگ برنامه ریزی شده

فعالیت ۴

با استفاده از خمیر بازی (چند رنگ) و بارعایت موارد بهداشتی، مراحل تقسیم رشتان را طراحی کنید. برای این کار، عدد فام‌تنی یاخته فرضی را ۴ یا ۶ در نظر بگیرید. هر مجموعه فام‌تن را با یک رنگ انتخاب

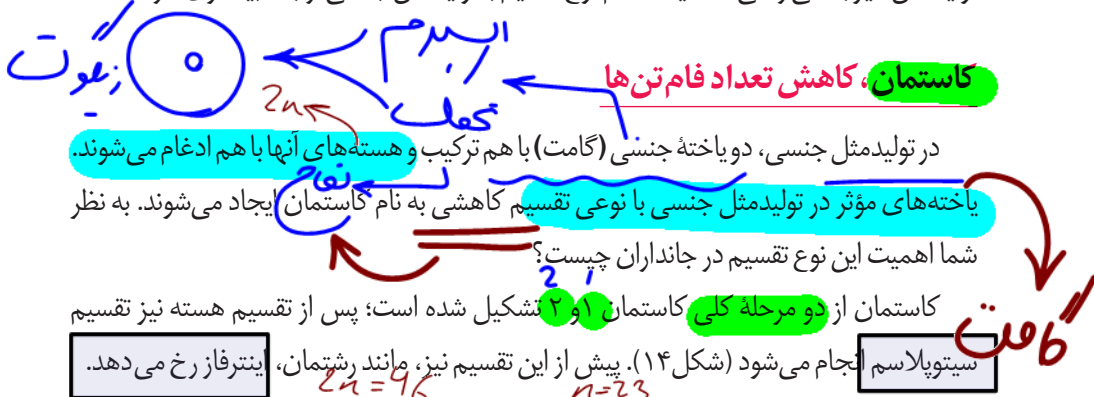
کنید و با توجه به این فعالیت به پرسش‌های زیر پاسخ دهید:

- (الف) در متافاز فام‌تن‌های همتا نسبت به هم چگونه روی رشته‌های دوک قرار می‌گیرند؟
 (ب) با توجه به عدد فام‌تنی انتخابی، تعداد فام‌تن‌ها و فامینک‌ها را قبل و بعد از رشتان تعیین کنید.

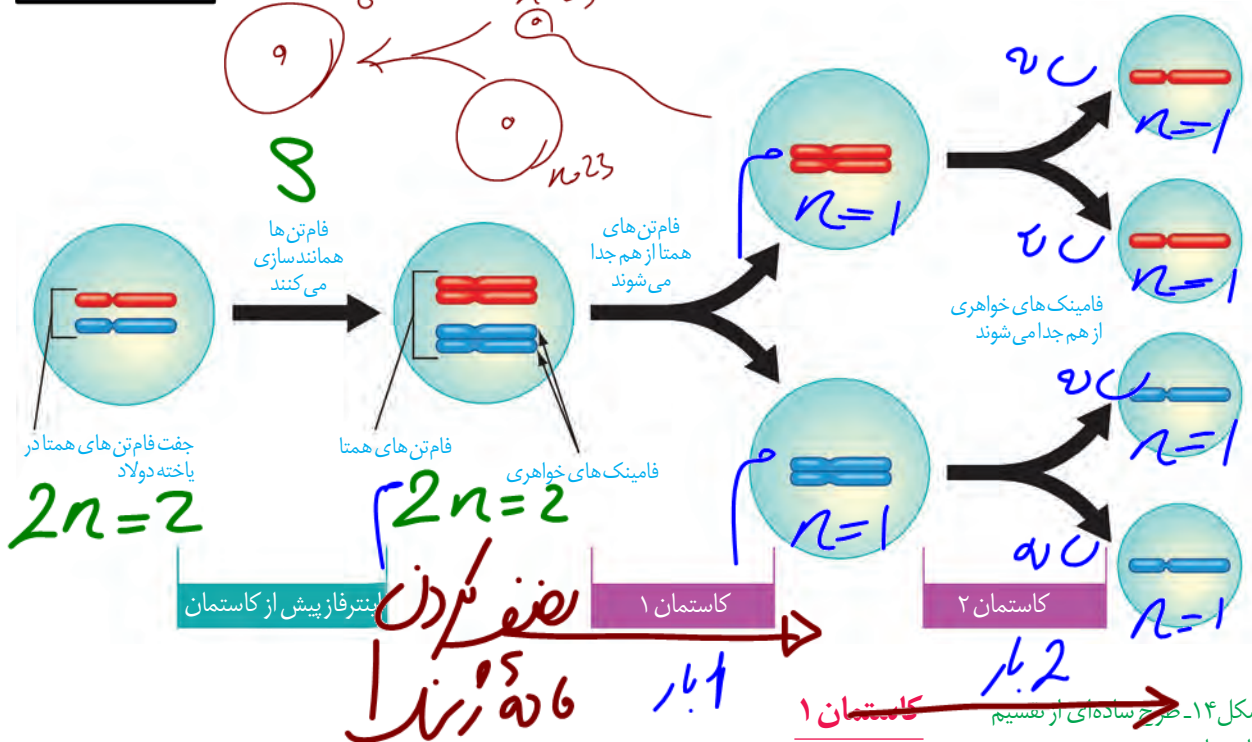
کاستمان (میوز) و تولیدمثل جنسی

کاستمان (meiosis/میوز) به معنی کاستن است. کاست از مصدر کاستن همراه با (مان) واژه کاستمان را می‌سازد که به فرایند کاسته شدن تعداد فام‌تن‌ها در حین تقسیم اشاره دارد.

در گذشته با تولیدمثل جنسی و غیرجنسی آشنا شدید. با توجه به آنچه آموخته‌اید، چه تفاوت‌های اصلی در این دو نوع تولیدمثل وجود دارد؟ هریک از این روش‌ها چه مزایایی دارد؟ چه روش‌های تولیدمثل غیرجنسی را می‌شناسید؟ کدام نوع تقسیم با تولیدمثل جنسی ارتباط بیشتری دارد؟

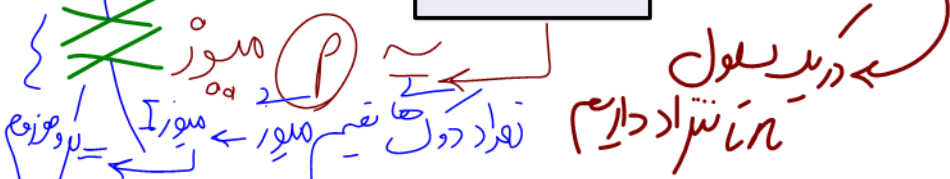


شما اهمیت این نوع تقسیم در جانداران چیست؟ کاستمان از دو مرحله کلی کاستمان ۱ و ۲ تشکیل شده است؛ پس از تقسیم هسته نیز تقسیم سیتوپلاسم انجام می‌شود (شکل ۱۴). پیش از این تقسیم نیز، مانند رشتمان، پنترفاز رخ می‌دهد.

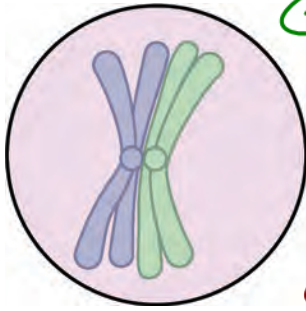


شکل ۱۴- شرح ساده‌ای از تقسیم کاستمان

در این مرحله از تقسیم کاستمان، عدد فام‌تنی نصف می‌شود. این بخش از کاستمان چهار مرحله دارد که عبارت‌اند از: پروفاز ۱، متافاز ۱، آنافاز ۱ و تلوفاز ۱ (شکل ۱۶). پروفاز ۱: فام‌تن‌های همتا از طول در کنار هم قرار می‌گیرند و فشرده می‌شوند. به این ساختار چهار فامینک (چهارتایه (تراد) گفته می‌شود. چهارتایه از ناحیه سانترومر به رشته‌های دوک متصل می‌شوند. سایر وقایع این مرحله، شبیه پروفاز و پرومتافاز رشتمان است (شکل ۱۵).



اتصال × آر اس گس نتراد صغی نرد مورومی



متافاز ۱: چهار تابه‌ها در استوای یاخته، روی رشته‌های دوک قرار می‌گیرند.

آنافاز ۱: فام‌تن‌های هم‌تا که مضاعف شده‌اند، از هم جدا می‌شوند و به سمت قطبین یاخته

حرکت می‌کنند. نحوه کوتاه شدن رشته‌های دوک، شبیه فرایند رشتمان است.

تروفاز ۱: با رسیدن فام‌تن‌ها به دو سوی یاخته، پوشش هسته دوباره تشکیل می‌شود.

معمولاً در پایان کاستمان ۱ تقسیم سیتوپلاسم انجام می‌شود. نتیجه کاستمان ۱ ایجاد دو یاخته است

2 با همانند سازی سترول

(شکل ۱۶).

با توجه به شکل ۱۶ می‌توانید بگویید عدد فام‌تنی یاخته‌های حاصل، چه تفاوتی با یاخته مادری دارد؟

شکل ۱۵ - طرح ساده‌ای از یک چهار تابه

کاستمان ۲

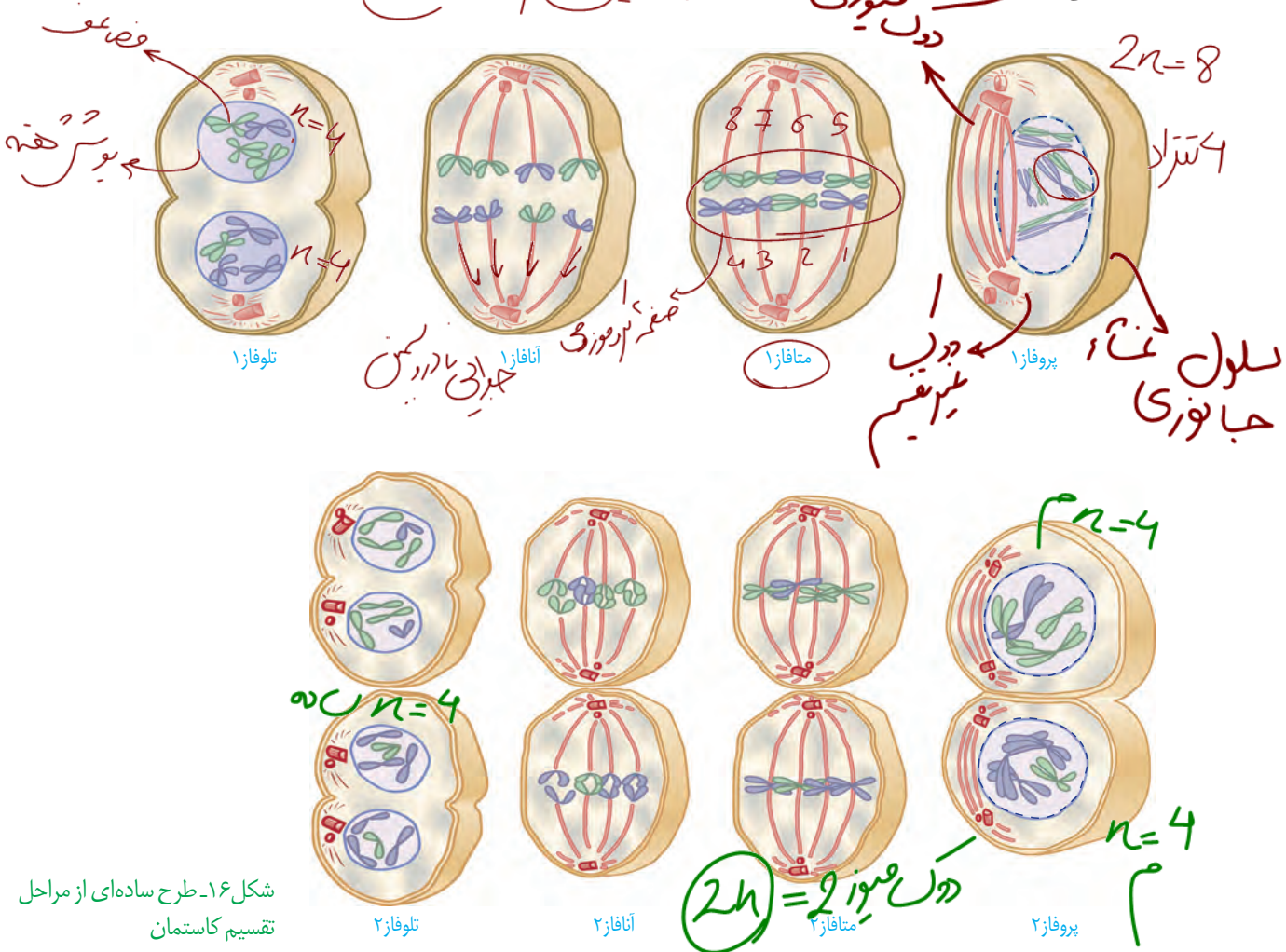
در این مرحله یاخته‌های حاصل از کاستمان ۱، مراحل پروفاز ۲، متافاز ۲، آنافاز ۲ و تروفاز ۲ را می‌گذرانند.

وقایع کاستمان ۲ بسیار شبیه رشتمان است و در پایان آن، از هر یاخته دو یاخته شبیه هم ایجاد می‌شود

که نصف فام‌تن‌های یاخته‌های مادر را دارند. این فام‌تن‌ها مضاعف نیستند. در پایان کاستمان ۲، تقسیم

سیتوپلاسم انجام می‌شود. در مجموع و با پایان تقسیم کاستمان از یک یاخته $2n$ ، چهار یاخته n فام‌تنی

حاصل می‌شود. از n نوع | ۲ نوع



شکل ۱۶ - طرح ساده‌ای از مراحل تقسیم کاستمان

فعالیت ۵

۱- تقسیم کاستمان ۱ از نظر نحوه آرایش فام‌تن‌ها و جدا شدن آنها تفاوت اساسی با تقسیم رشتمان دارد.

آیا می‌توانید با توجه به شکل‌های رشتمان و کاستمان، این تفاوت‌ها را بیان کنید؟

۲- تقسیم کاستمان ۲ را با تقسیم رشتمان مقایسه کنید. چه شباهت‌ها و تفاوت‌هایی بین این دو فرایند وجود دارد؟

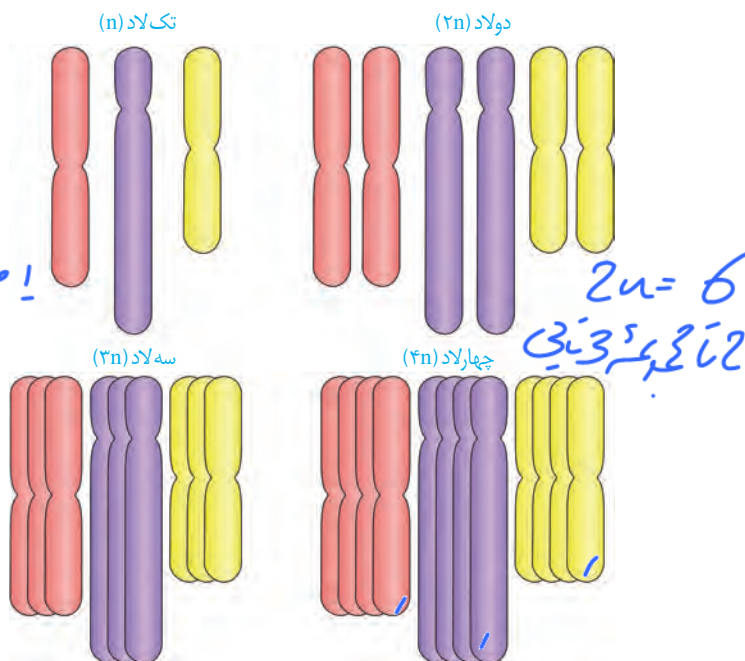
۳- با استفاده از خمیر بازی و بارعایت موارد بهداشتی، طرح ساده‌ای از مراحل تقسیم کاستمان را بسازید. برای این کار، عدد فام‌تنی یاخته فرضی را ۴، ۶ و یا ۸ در نظر بگیرید. بهتر است که هر مجموعه از فام‌تن‌ها با یک رنگ انتخاب شوند.

تغییر در تعداد فام‌تن‌ها

گرچه تقسیم یاخته‌ای با دقت زیاد انجام می‌شود، ولی به ندرت ممکن است اشتباهاتی در روند تقسیم رخ دهد. **چندلادی (پلی‌پلوئیدی) شدن** و با هم ماندن فام‌تن‌ها، نمونه‌هایی از این خطاهای کاستمانی هستند. اشتباه در تقسیم می‌تواند، هم در تقسیم رشتمان و هم در تقسیم کاستمان رخ دهد، ولی چون یاخته‌های حاصل از کاستمان در ایجاد نسل بعد دخالت مستقیم دارند، از اهمیت بیشتری برخوردارند.

چندلادی شدن: اگر در مرحله آنافاز همه فام‌تن‌ها بدون اینکه از هم جدا شوند به یک یاخته بروند، آن یاخته دو برابر فام‌تن خواهد داشت و یاخته دیگر فاقد فام‌تن خواهد بود. در آزمایشگاه می‌توان با تخریب رشته‌های دوک تقسیم این وضعیت را ایجاد کرد (شکل ۱۷).

تولید گیاه پلی‌پلوئید



شکل ۱۷- طرح ساده‌ای از تعداد فام‌تن‌ها

به یاخته یا جاننداری که یاخته‌های آن بیش از دو مجموعه فام‌تن داشته باشد، چندلاد گفته می‌شود؛ مثلاً گندم زراعی 6n و موز 2n است (شکل ۱۷).

با هم ماندن فام‌تن‌ها: در این حالت، یک یا چند فام‌تن در مرحله آنافاز (برشتمان و کاستمان)

از هم جدا نمی‌شوند. بنابراین، در یاخته‌های حاصل، کاهش یا افزایش یک یا چند فام‌تن مشاهده می‌شود (شکل ۱۸). نمونه این حالت، **نشانه‌گان داون** است. به آمیزه‌ای از نشانه‌های یک بیماری، یا

یک حالت **نشانه‌گان** می‌گویند. افراد مبتلا به داون، در یاخته‌های پیکری خود 47 فام‌تن دارند (شکل

۱۸). فام‌تن اضافی مربوط به شماره ۲۱ است؛ یعنی یاخته‌های پیکری این افراد ۳ فام‌تن شماره ۲۱

دارند. علت بروز این حالت آن است که یکی از یاخته‌های جنسی ایجادکننده فرد، به جای یک فام‌تن

شماره ۲۱، دارای دو فام‌تن ۲۱ بوده است. بالا بودن سن مادران در هنگام بارداری از عوامل مهم بروز

این بیماری است؛ زیرا با افزایش سن مادر، احتمال خطای کاستمانی در تشکیل یاخته‌های جنسی

وی بیشتر می‌شود. علت این موضوع را در فصل‌های آینده خواهید آموخت. **کتاب ارثی داون**

عوامل محیطی نیز می‌توانند موجب اختلال در تقسیم کاستمان شوند. دخانیات، الکل، سجاورت

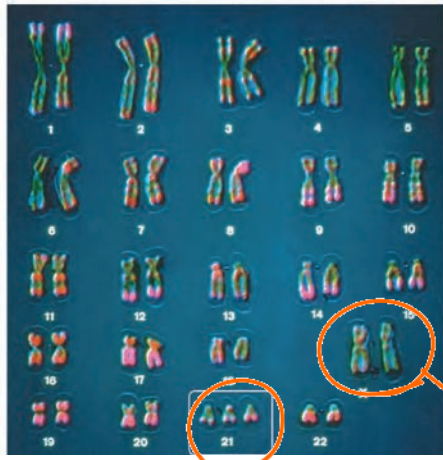
با پرتوهای مضر و آلودگی‌ها نیز می‌توانند در روند جدا شدن فام‌تن‌ها در هر دو جنس، اختلال ایجاد

کنند.

چه سندرم‌ها داون سینه‌زده؟ دادن هانوی سندرم اند

دوره نفع
جانداریت با وجود یک د
دوره نفع
فصل‌های
کتاب ارثی داون
از دوران سینه‌زده
بوجود می‌آید

زایا



دوره نفع

که ردیف 4- ۳ تون 3

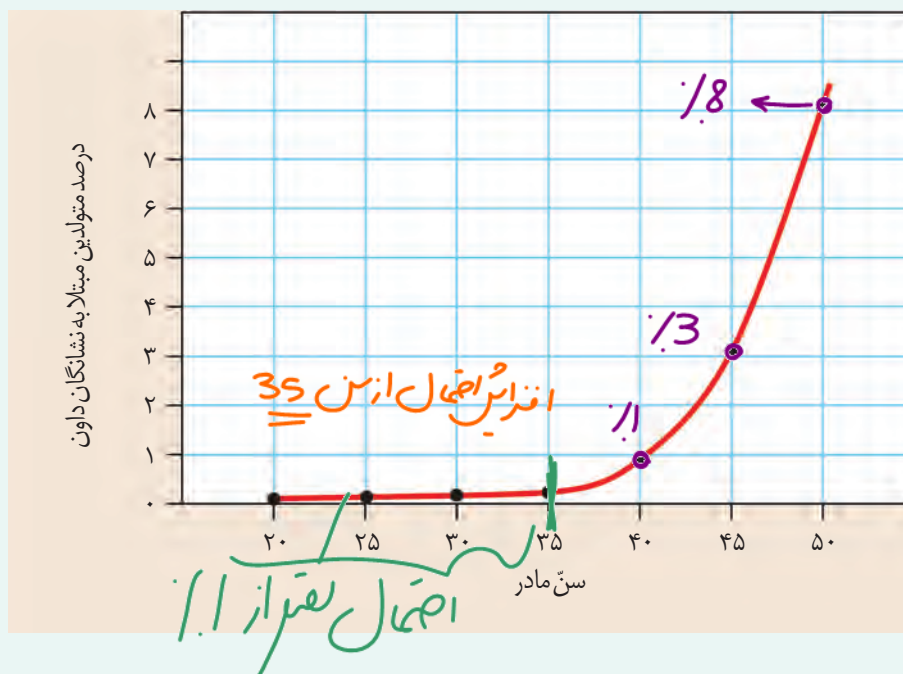
شکل ۱۸- کاریوتیپ یک فرد مبتلا به داون. آیا می‌توانید جنسیت این فرد را تشخیص دهید؟

فعالیت ۶

با استفاده از منابع علمی، با انواع دیگری از بیماری‌های ناشی از باهم ماندن فام‌تن‌ها آشنا شوید و گزارش این بررسی را در کلاس ارائه کنید.

فعالیت ۷

منحنی زیر، رابطه بین سنّ مادر در هنگام بارداری و احتمال به دنیا آمدن فرزند مبتلا به نشانگان داون را نشان می‌دهد. منحنی را تفسیر کنید.





زنده

فصل ۷

تولیدمثل

سرعت ↑ تنوع زاده‌ها ↓

سرعت ↓ تنوع زاده‌ها ↑

در سال‌های گذشته با انواع تولیدمثل غیرجنسی و جنسی آشنا شدید. فرایند تولیدمثل جنسی با تولید یاخته‌های جنسی (گامت) همراه است. در این فصل با دستگاه تولیدمثل آشنا می‌شوید که با بقیه دستگاه‌های بدن تفاوت دارد. اگر این دستگاه درست کار نکند و حتی بخشی از آن را از بدن خارج کنیم، زندگی فرد به خطر نمی‌افتد.

اغلب با میوز

- به نظر شما اهمیت تولیدمثل در چیست؟

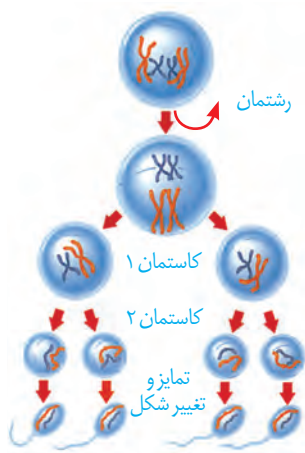
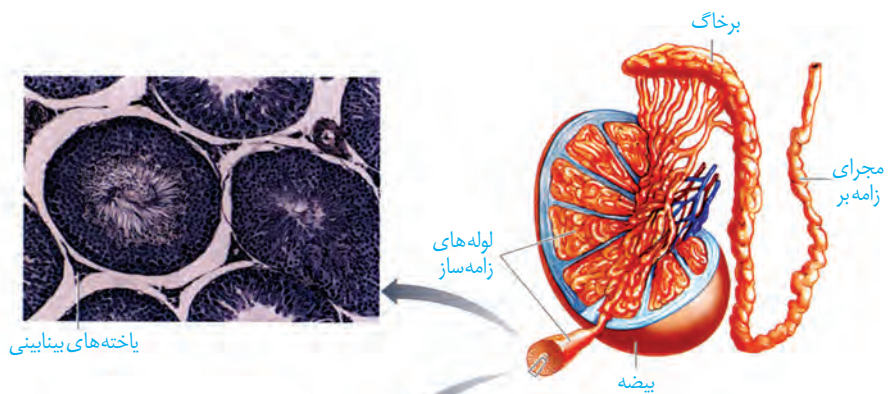
- دستگاه تولیدمثل در انسان شامل چه بخش‌هایی است و با دستگاه تولیدمثل بقیه جانوران چه

تفاوت‌هایی دارد؟

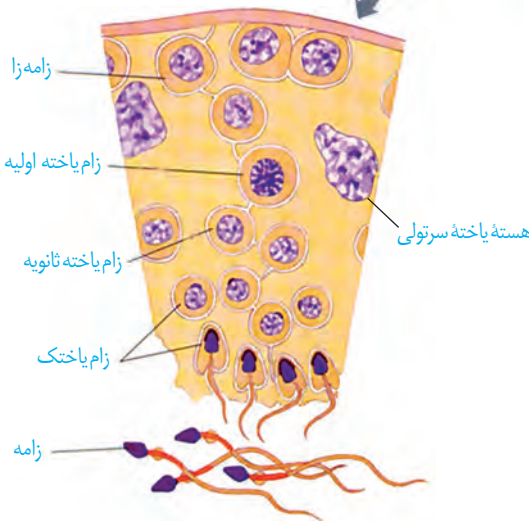
- نقش جانور نر و ماده در تولیدمثل چیست؟

اینها بخشی از پرسش‌هایی است که با مطالعه این فصل، به پاسخ آنها می‌رسیم.





شکل ۲- بیضه و مراحل تولید زامه



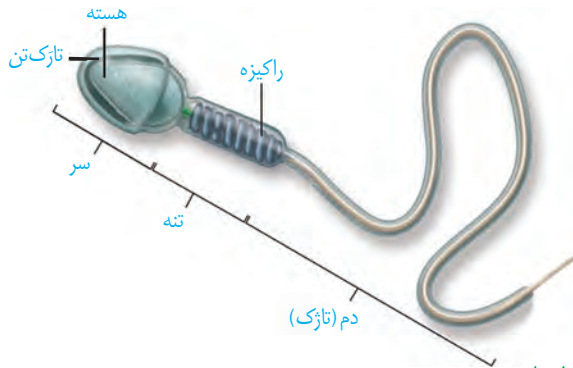
زامه (اسپرم زایی)

دیواره لوله های زامه ساز، یاخته های زاینده ای دارد که به این یاخته ها زامه زا (اسپرماتوگونی) گفته می شود. این یاخته ها که نزدیک سطح خارجی لوله ها قرار گرفته اند، ابتدا با رشتمان تقسیم می شوند. یکی از یاخته های حاصل از هر بار رشتمان در لایه زاینده می ماند که لایه زاینده حفظ شود. یاخته دیگر که زام یاخته (اسپرماتوسیت) اولیه نام دارد، با تقسیم کاستمان ۱ دو یاخته به نام زام یاخته ثانویه تولید می کند. این یاخته ها تک لادند، ولی فام تن های آن مضاعف شده اند.

هر کدام از این یاخته ها با انجام کاستمان ۲، دو زام یاختک (اسپرماتید) ایجاد می کند. این یاخته ها نیز تک لادند اما فام تن های آنها مضاعف شده نیستند. بنابراین، از یک یاخته زام یاخته اولیه، چهار زام یاختک حاصل می شود. تمایز زامه ها در دیواره لوله از خارج به سمت وسط لوله انجام می شود. همه یاخته های زاینده به همین صورت عمل می کنند تا تعداد زیادی زامه درون لوله های زامه ساز تولید شود.

در حین حرکت زام یاختک ها به سمت وسط لوله های زامه ساز تمایزی در آنها رخ می دهد تا به زامه تبدیل شوند. به این صورت که یاخته ها از هم جدا و تاژک دار می شوند؛ سپس مقدار زیادی از سیتوپلاسم خود را از دست می دهند. هسته آن فشرده شده در سر زامه به صورت مجزا قرار می گیرد و یاخته حالت کشیده پیدا می کند. یاخته های سرتولی که در دیواره لوله های زامه ساز وجود دارند با ترشحات خود تمایز زامه ها را هدایت می کنند. این یاخته ها در همه مراحل زامه زایی، پشتیبانی و تغذیه یاخته های جنسی و نیز بیگانه خواری باکتری ها را بر عهده دارند (شکل ۲).

زامه‌ها سه قسمت سر، تنه و دم دارند (شکل ۳). سر دارای یک هسته بزرگ، مقداری سیتوپلاسم و کیسه‌ای پر از آنزیم به نام **تازک تن** (آکروزوم) است. تازک تن کلاه مانند و در جلوی هسته قرار دارد. آنزیم‌ها به زامه کمک می‌کنند تا بتواند در لایه‌های حفاظت‌کننده گامت ماده (تخمک) نفوذ کند. در تنه یا قطعه میانی تعداد زیادی راکیزه (میتوکندری) وجود دارد. به نظر شما وجود راکیزه زیاد در اینجا چه اهمیتی دارد؟ دم با حرکات خود، زامه را به جلو می‌راند.



شکل ۳- ساختار زامه انسان

اندام‌های ضمیمه (کمکی)

پس از تولید زامه در لوله‌های زامه‌ساز، آنها از بیضه خارج و به درون لوله‌ای پیچیده و طولی به نام **برخاگ** (اپیدیدیم) منتقل می‌شوند. این زامه‌ها ابتدا قادر به حرکت نیستند و باید حداقل ۱۸ ساعت در آنجا بمانند تا توانایی حرکت در آنها ایجاد شود.

سپس زامه‌ها وارد مجرای طولی به نام **زامه بر** (اسپرم بر) می‌شوند. از هر بیضه یک مجرای زامه بر خارج و وارد محوطه شکمی می‌شود. هر کدام از مجراهای زامه بر در حین عبور از کنار و پشت مثانه ترشحات غده **وزیکول سمینال** را دریافت می‌کند. این غدد، مایعی غنی از فروکتوز را به زامه‌ها اضافه می‌کنند. فروکتوز انرژی لازم برای فعالیت زامه‌ها را فراهم می‌کند.

دو مجرای زامه بر در زیر مثانه وارد غده **پروستات** شده و به میزراه متصل می‌شوند. غده پروستات با ترشح مایعی شیری رنگ و قلیایی به خنثی کردن مواد اسیدی موجود در مسیر عبور زامه به سمت گامت ماده، کمک می‌کند.

بعد از پروستات، یک جفت غده به نام **پیاژی میزراهی** نیز به میزراه متصل می‌شوند. این غده‌ها ترشحات قلیایی و روان‌کننده‌ای را به مجرا اضافه می‌کنند (شکل ۴). به مجموع ترشحات سه نوع غده یاد شده که زامه‌ها را از طریق میزراه به بیرون از بدن منتقل می‌کنند، **مایع منی** گفته می‌شود.

دلایل عقیمی مردان:

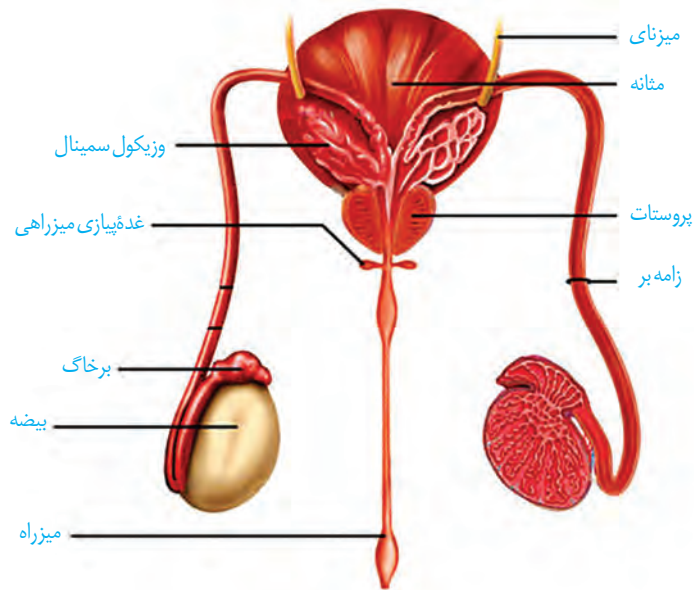
عوامل متعددی در بروز آن دخالت دارند:
- بیماری‌ها: بیماری‌های عفونی مثل سل، سوزاک و اورپون و بیماری‌های دیگر مثل بالا قرار گرفتن بیضه‌ها، کوچک بودن بیضه‌ها، واریکوسل (واریس در رگ‌های بیضه)، اختلال در هورمون‌های هیپوفیز و سپریدیس که با تغییر درجه حرارت بدن ممکن است زامه‌سازی را مختل کنند. استرس و افسردگی نیز باعث کاهش تستوسترون و کاهش تولید زامه می‌شوند.

- عوامل محیطی: داروهای هورمونی مثل تستوسترون که در باشگاه‌های ورزشی استفاده می‌شود مواد مخدر، الکل، سیگار و قلیان، اشعه‌های UV و X، استفاده زیاد از محیط‌های داغ مثل سونا و وان داغ همچنین استفاده از لباس‌های تنگ و پلاستیکی که باعث افزایش دما در اطراف بیضه‌ها می‌شود می‌تواند در روند زامه‌سازی اختلال ایجاد کند.

سرطانی شدن پروستات از بیماری‌های شایع است و از لحاظ فراوانی بعد از سرطان شش، رتبه دوم را دارد. در این بیماری، بزرگ شدن پروستات باعث بسته شدن میزراه شده و خروج ادرار و منی با مشکل مواجه می‌شود. بزرگ شدن پروستات به صورت خوش‌خیم در افراد مسن شایع است. **سرطان بیضه** که معمولاً در افراد کمتر از ۴۰ سال رخ می‌دهد کمیاب‌تر است. در این بیماری تقسیم یاخته‌ای در بیضه‌ها از کنترل خارج می‌شود و توده‌های غیرطبیعی در بیضه‌ها ایجاد می‌شود. برای پیشگیری از چنین بیماری‌هایی لازم است در مردان به‌ویژه بعد از ۴۵ سالگی کنترل دوره‌ای انجام شود.

واژه‌شناسی

برخاک (epididymis/اپیدیدیم) به معنای روی و بر روی و didymos به معنای بیضه است. برخاک برگرفته از خاک به معنای بیضه و بر به معنای روی بیضه است و به ساختاری رشته‌مانند بر روی بیضه اشاره دارد.

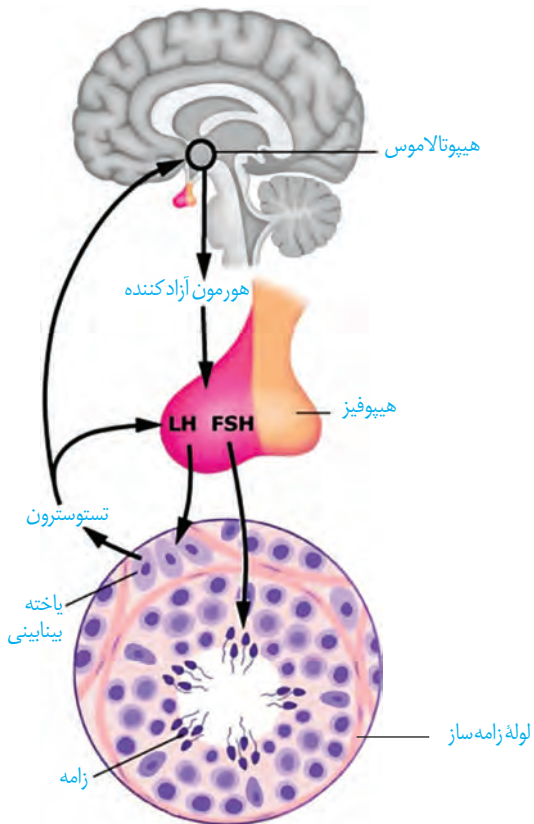


شکل ۴- مسیر عبور زامه (از نمای پشتی مئانه)

فعالیت ۲

الف) با توجه به شکل ۴ مسیر عبور زامه را مشخص کنید.
ب) با توجه به ترکیبات مایع منی و وجود تعداد زیادی زامه در آن، برای جلوگیری از بیماری‌ها مثل عفونت، یا التهاب پروستات چه نکات بهداشتی را باید رعایت کرد؟ در این رابطه اطلاعاتی را جمع‌آوری و گزارش آن را در کلاس ارائه کنید.

هورمون‌ها فعالیت دستگاه تولیدمثل در مرد را تنظیم می‌کنند.



شکل ۵- تنظیم فعالیت دستگاه تولیدمثل در مرد

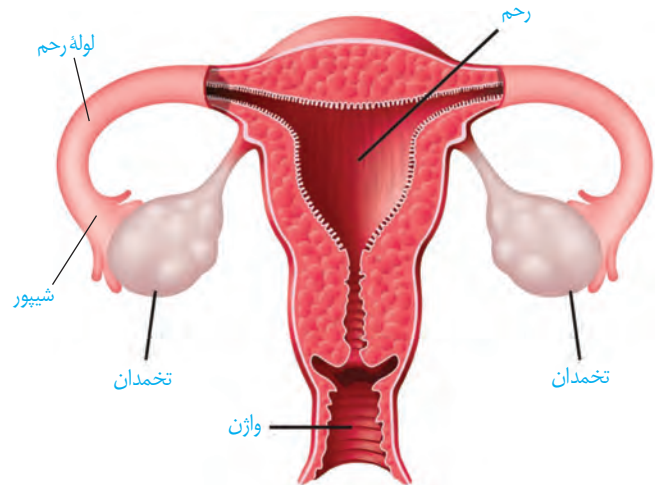
همان‌طور که در فصل‌های قبل خواندید از بخش پیشین زیر مغزی، دو هورمون محرک غدد جنسی ترشح می‌شود: «FSH» و «LH». اگرچه نام این هورمون‌ها به فعالیت آنها در جنس ماده مرتبط است، اما وجود آنها برای فعالیت دستگاه تولیدمثل در مرد نیز ضروری است. در مردان، FSH یاخته‌های سرتولی را تحریک می‌کند تا تمایز زامه را تسهیل کنند و LH، یاخته‌های بینابینی را تحریک می‌کند تا هورمون تستوسترون را ترشح کنند. همان‌طور که می‌دانید تستوسترون ضمن تحریک رشد اندام‌های جنسی و زامه‌زایی باعث بروز صفات ثانویه در مردان می‌شود؛ مثل بم شدن صدا، رویدن مو در صورت و قسمت‌های دیگر بدن، رشد ماهیچه‌ها و استخوان‌ها. تنظیم میزان ترشح این هورمون‌ها با سازوکار بازخورد منفی انجام می‌شود (شکل ۵).

۱- Follicle Stimulating Hormone

۲- Luteinizing Hormone

همان طور که در شکل ۶ می‌بینید، این دستگاه شامل اندام‌هایی است که مجموعاً نقش‌های زیر را بر عهده دارند.

- ۱- تولید یاخته جنسی ماده (تخمک)
- ۲- انتقال یاخته‌های جنسی ماده به سمت رحم
- ۳- ایجاد شرایط مناسب برای لقاح زامه و تخمک
- ۴- حفاظت و تغذیه جنین در صورت تشکیل
- ۵- تولید هورمون‌های جنسی زنانه



تخمدان‌ها: غدد جنسی ماده‌اند که درون محوطه شکم قرار دارند و با کمک طنابی پیوندی و ماهیچه‌ای به دیواره خارجی رحم متصل‌اند.

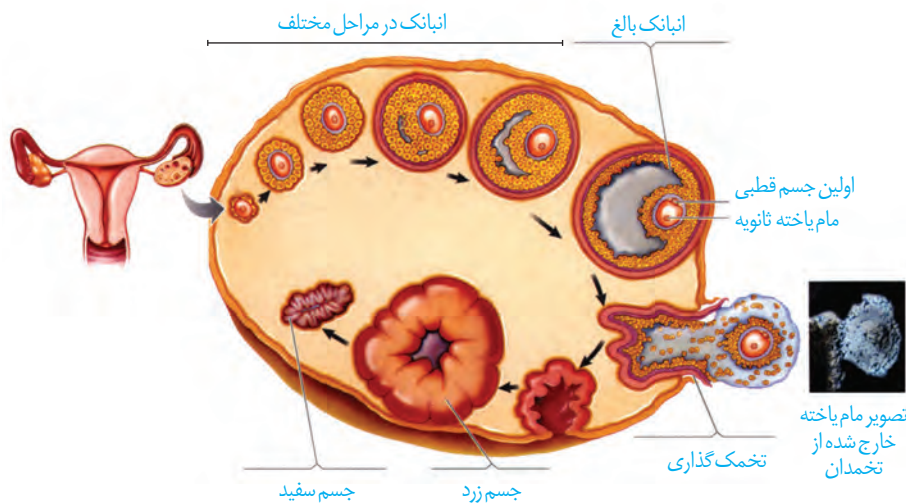
ساختار تخمدان با بیضه تفاوت دارد. درون آن لوله‌های

پیچ‌درپیچ وجود ندارد. درون هر تخمدان نوزاد دختر در حدود یک میلیون **مام یاخته (اووسیت)** اولیه وجود دارد. هر مام یاخته را یاخته‌های تغذیه‌کننده احاطه می‌کنند. به مجموعه آنها **انبانک فولیکول** گفته می‌شود. پس از تولد، تعداد انبانک افزایش نخواهد یافت و به دلایل نامعلومی تعداد زیادی از مام یاخته‌ها و یاخته‌های تغذیه‌کننده از بین می‌روند. تغییراتی را که در تخمدان رخ می‌دهد در شکل ۷ می‌بینید.

شکل ۶- دستگاه تولیدمثل در زن

واژه‌شناسی

مام یاخته (oocyte/اووسیت) مامه و مام به معنای مادر برای نشان دادن تخمک ماده به کار می‌رود. مام یاخته به معنای یاخته‌ای که پس از تقسیم کاستمانی، مامه یا تخمک ایجاد می‌کند و واژه‌هایی مثل مامه‌زایی، مام یاختک و مامه‌زا از همین کلمه ساخته می‌شود.



شکل ۷- تخمدان و تغییرات آن در دوره جنسی

بیشتر بدانید

احتمال بروز سرطان در غدد شیری سینه، گردن رحم و تخمدان‌ها زیاد است و در بین اینها سرطان سینه بیشترین فراوانی را در زنان دارد. علت این سرطان‌ها انجام تقسیم‌های یاخته‌ای غیر عادی در این قسمت‌ها است. در عین حال تقریباً همه سرطان‌های گردن رحمی به نوعی ویروس مرتبط است که با رعایت بهداشت احتمال بروز آن به شدت کاهش می‌یابد.

۱. Papillomavirus

واژه‌شناسی

انبانک (follicle/فولیکول) انبانک با معنی حفره کوچک و گرد در میان بافت یا اندام و کیسه کوچک آمده است و واژه انبانک که از انبان به معنی کیسه به همراه (ک) علامت تصغیر تشکیل شده است همان معنی را می‌دهد.

بخش‌های دیگر دستگاه تولیدمثل در زن شامل رحم، لوله‌های رحم، گردن رحم و واژن هستند. رحم، اندام کیسه‌مانند، گلابی‌شکل و ماهیچه‌ای است که جنین درون آن، رشد و نمو می‌یابد. دیواره داخلی رحم، در دوران قاعدگی و بارداری دچار تغییراتی می‌شود. بخش پهن و بالای رحم به دو لوله متصل است که به آنها **لوله‌های رحم (لوله‌های فالوپ)** می‌گویند. انتهای این لوله‌ها، شیپورمانند و دارای زواندی انگشت‌مانند است. پوشش داخل لوله‌های رحم مخاطی و مژک‌دار است. زنش مژک‌های آن، مام یاخته را به سمت رحم می‌رانند.

بخش پایین رحم، باریک‌تر شده که به آن **گردن رحم** می‌گویند. این قسمت به داخل واژن باز می‌شود. **واژن** محل ورود یاخته‌های جنسی نر، خروج خون قاعدگی و در هنگام زایمان طبیعی، محل خروج جنین است.

دوره جنسی در زنان

این دوره با قاعدگی یا عادت ماهانه شروع می‌شود که در آن دیواره داخلی رحم همراه با رگ‌های خونی تخریب و مخلوطی از خون و بافت‌های تخریب شده از بدن خارج می‌شود.

عادت ماهانه با بلوغ جنسی آغاز می‌شود ابتدا نامنظم، ولی کم‌کم منظم می‌شود. نظم آن مهم‌ترین شاخص کارکرد صحیح دستگاه تولیدمثل زن است.

معمولاً در زن‌های سالم بین ۴۵ تا ۵۰ سالگی عادت ماهانه متوقف می‌شود که این پدیده را **یائسگی** می‌نامند. علت یائسگی از کار افتادن تخمدان‌هاست که زودتر از بقیه دستگاه‌های بدن پیر می‌شوند. پس دوره باروری و تولیدمثل در زن حدود ۳۰ تا ۳۵ سال است. تغذیه نامناسب، کار زیاد و سخت، فشار روحی و جسمی به گونه‌ای چشمگیر از طول این مدت می‌کاهد.

فعالیت ۳

شروع یائسگی همراه با علائمی است. در مورد علائم این دوره و روش‌های کاهش بروز این علائم، تحقیق کرده و گزارش آن را در کلاس ارائه کنید.

تخمک‌زایی

فرایند تخمک‌زایی از یاخته دولا و زاینده‌ای به نام **مامه‌زا (اووگونی)**، قبل از تولد و از دوران جنینی شروع می‌شود. مراحل تولید تخمک در شکل ۸ دیده می‌شود.

فعالیت ۴

با توجه به شکل ۸ درباره پرسش‌های زیر با هم گفت‌وگو کنید.
در انسان مام یاخته اولیه، ثانویه و تخمک از لحاظ فام‌تن‌ها چه تفاوت‌هایی با هم دارند؟
اولین جسم قطبی با دومین اجسام قطبی چه تفاوتی دارند؟
مراحل تخمک‌زایی در این شکل را با مراحل زامه‌زایی (شکل ۲) مقایسه کنید. شباهت‌ها و تفاوت‌های آنها را بنویسید.

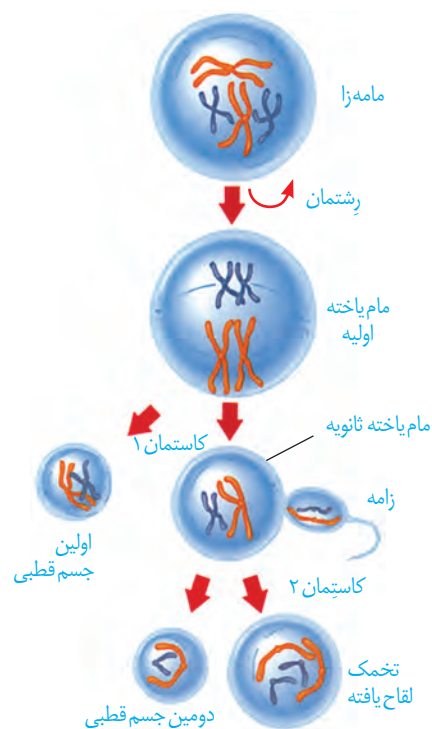
مراحل تخمک‌زایی در دوران جنینی آغاز و پس از شروع کاستمان در پروفاز ۱ متوقف می‌شود. با رسیدن به سن بلوغ هر ماه در یکی از انبانک‌ها، مام یاخته اولیه کاستمان را ادامه می‌دهد، ولی دوباره متوقف شده، یاخته حاصل به صورت مام یاخته ثانویه از تخمدان خارج می‌شود. حرکت زوائد انگشت‌مانند انتهایی لوله رحم در اطراف آن، مام یاخته ثانویه را به درون لوله رحم هدایت می‌کند. در صورتی تقسیم کاستمان کامل می‌شود که زامه به آن برخورد کند و فرایند لقاح آغاز شود. در این حالت، مام یاخته ثانویه تقسیم کاستمان را تکمیل می‌کند و تخمک ایجاد می‌کند که با زامه لقاح می‌یابد و تخم تشکیل می‌شود. اگر زامه با آن برخورد نکند یا لقاح آغاز نشود، مام یاخته ثانویه همراه با خون‌ریزی دوره‌ای از بدن دفع می‌شود.

از تفاوت‌های اساسی تخمک‌زایی با زامه‌زایی تقسیم نامساوی سیتوپلاسم است به این صورت که در تخمک‌زایی پس از هر بار تقسیم هسته در کاستمان تقسیم نامساوی سیتوپلاسم صورت می‌گیرد؛ در نتیجه یک یاخته بزرگ و یک یاخته کوچک‌تر به نام **جسم قطبی** به وجود می‌آید. این کار با هدف رسیدن مقدار بیشتری از سیتوپلاسم و اندامک‌ها به تخمک است تا بتواند در مراحل اولیه رشد و نمو جنین نیازهای آن را برآورده کند.

به ندرت ممکن است زامه با جسم قطبی نیز لقاح یابد و توده یاخته‌ای بی‌شکلی را ایجاد کند که پس از مدتی از بدن دفع می‌شود.

در جنس ماده، نوسانات هورمونی دو رویداد چرخه‌ای را پدید می‌آورد، این دو چرخه وابسته به هم در تخمدان‌ها و رحم انجام می‌شود. چرخه تخمدانی، زمان‌بندی بالغ شدن مام یاخته را در تخمدان تنظیم و چرخه رحمی، رحم را برای بارداری آماده می‌کند.

چرخه تخمدانی: پیش‌تر خواندید که در تخمدان مام یاخته به همراه یاخته‌های اطرافشان انبانک را تشکیل می‌دهند که از دوره جنینی در تخمدان‌ها وجود دارند. در هر دوره جنسی یکی از انبانک‌هایی که از همه رشد بیشتری پیدا کرده است، چرخه تخمدانی را آغاز و ادامه می‌دهد. لایه‌های یاخته‌ای این انبانک تکثیر و حجیم می‌شوند و از یک سو شرایط رشد و نمو مام یاخته درون انبانک را فراهم و از سوی دیگر هورمون استروژن را ترشح می‌کنند که با رشد انبانک میزان آن افزایش می‌یابد (شکل ۷).



شکل ۸- مراحل تخمک‌زایی



شکل ۹- الف) تخمک گذاری تخمدان

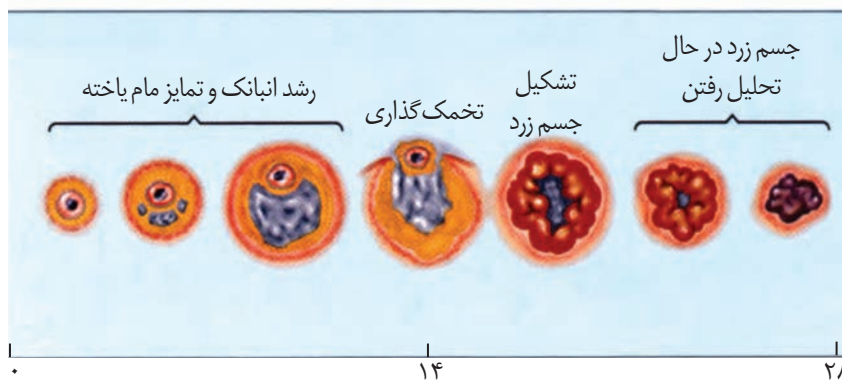


شکل ۹- ب) جسم زرد در تخمدان

چرخه تخمدانی با تأثیر هورمون های FSH و LH تنظیم و هدایت می شود. FSH سبب بزرگ و بالغ شدن انبانک می شود.

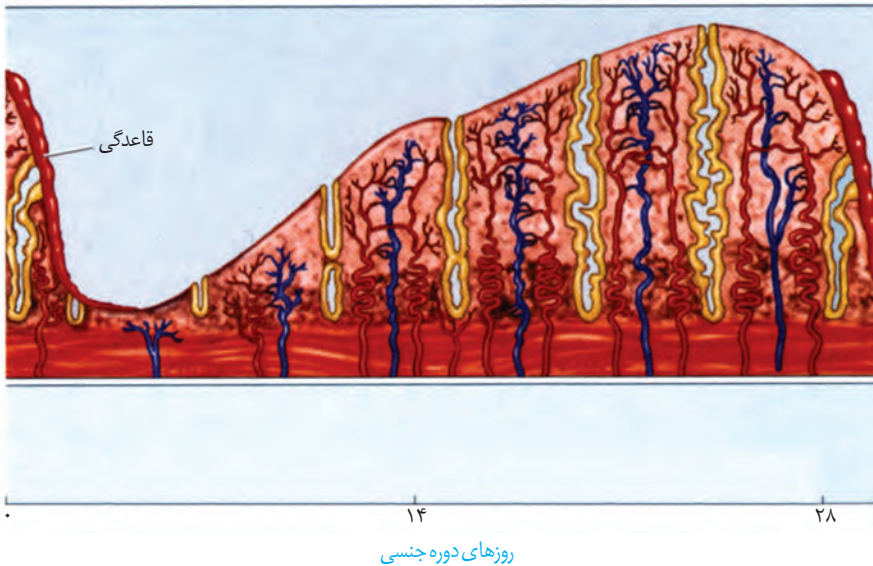
حدود روز چهاردهم دوره در انبانک بالغ شده ای که در این زمان به دیواره تخمدان چسبیده است **تخمک گذاری** انجام می شود (شکل ۹- الف). در این فرایند، مام یاخته ثانویه همراه با تعدادی از یاخته های انبانکی از سطح تخمدان خارج و وارد محوطه شکمی می شوند. یاخته های انبانکی چسبیده به مام یاخته در ادامه مسیر به تغذیه و محافظت از آن کمک می کنند. افزایش LH عامل اصلی تخمک گذاری است. به دنبال تخمک گذاری، باقی مانده انبانک در تخمدان به صورت توده یاخته ای در می آید که به آن **جسم زرد** می گویند (شکل ۹- ب). یاخته های جسم زرد با تأثیر هورمون LH فعالیت ترشخی خود را افزایش می دهند و دو هورمون استروژن و پروژسترون ترشح می کنند. اگر بارداری رخ دهد، جسم زرد به فعالیت خود تا مدتی ادامه می دهد و با این هورمون ها جدار رحم و در نتیجه جنین جایگزین شده در آن حفظ می شود. اگر بارداری رخ ندهد، جسم زرد در اواخر دوره جنسی تحلیل می رود و به جسمی غیرفعال به نام **جسم سفید** تبدیل می شود. غیر فعال شدن جسم زرد باعث کاهش استروژن و پروژسترون در خون می شود. کاهش این هورمون ها موجب ناپایداری جدار رحم و تخریب و ریزش آن می شود که علامت شروع دوره جنسی بعدی است (شکل ۱۰).

تغییرات در تخمدان



شکل ۱۰- چرخه تخمدانی

چرخه رحمی: قاعدگی در روزهای اول هر دوره رخ می دهد که به طور متوسط هفت روز طول می کشد. پس از آن، دیواره داخلی رحم مجدداً شروع به رشد و نمو می کند، ضخامت آن زیاد می شود و در آن چین خوردگی ها، حفرات و اندوخته خونی زیادی به وجود می آید. همان طور که در شکل ۱۱ می بینید، رشد و نمو دیواره داخلی تا بعد از نیمه دوره نیز ادامه می یابد. پس از آن، سرعت رشد آن کم می شود، ولی فعالیت ترشخی در آن افزایش می یابد. نتیجه این فعالیت ها آماده شدن جدار رحم برای پذیرش و پرورش جنین است.

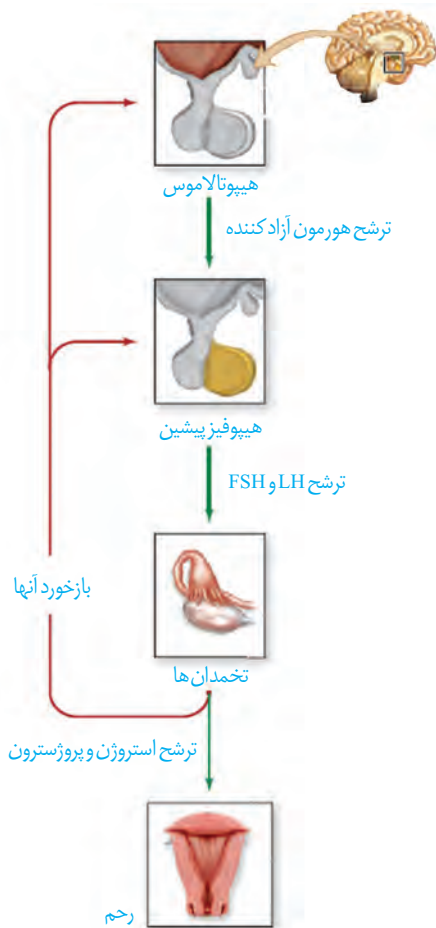


شکل ۱۱- چرخه رحمی.
ریزش و رشد دیواره رحم

اگر در حدود نیمه دوره جنسی زامه در مجاورت مام یاخته ثانویه قرار گیرد، پس از تکمیل مراحل تخمک‌زایی لقاح صورت می‌پذیرد و تخم پس از انجام تقسیماتی در لوله رحمی، در یکی از فرورفتگی‌های جدار رحم جایگزین می‌شود. جایگزینی شامل نفوذ جنین به درون جدار رحم و ایجاد رابطه خونی و تغذیه‌ای با مادر است. اگر لقاح صورت نگیرد مام یاخته ثانویه بدون جایگزینی دفع می‌شود و حدود روز بیست و هشتم، تخریب دیواره داخلی و دفع خون (قاعدگی) آغاز می‌شود که شروع دوره جنسی و چرخه رحمی بعدی را نشان می‌دهد. تمام وقایع گفته شده با تأثیر هورمون‌های جنسی زنانه (استروژن و پروژسترون) که از تخمدان‌ها ترشح می‌شوند انجام می‌گیرد.

تنظیم هورمونی دستگاه تولیدمثل در زن

هورمون‌های هیپوتالاموس، هیپوفیز پیشین و تخمدان‌ها زمان وقایع متفاوت در دستگاه تولیدمثلی زن را تنظیم می‌کنند. تنظیم میزان این هورمون‌ها به صورت بازخوردی (خودتنظیم) انجام می‌شود (شکل ۱۲). در ابتدای دوره مقدار دو هورمون جنسی استروژن و پروژسترون در خون کم است. این کمبود به هیپوتالاموس پیامی می‌دهد که هورمون آزادکننده‌ای ترشح کند. هورمون آزادکننده بخش پیشین هیپوفیز را تحریک می‌کند تا ترشح هورمون‌های FSH و LH را افزایش دهد. استروژن و پروژسترون باعث رشد دیواره داخلی رحم و ضخیم شدن آن می‌شود و با این کار، رحم را برای بارداری احتمالی آماده می‌کند. همچنین با تأثیر بر هیپوتالاموس با بازخورد منفی از ترشح هورمون آزادکننده FSH و LH می‌کاهند. این بازخورد از رشد و بالغ شدن انبانک‌های جدید در طول دوره جنسی جلوگیری می‌کند.



شکل ۱۲- غدد و هورمون‌های مؤثر در تولیدمثل زن

در انتهای دوره، کاهش میزان این هورمون‌ها در خون به‌ویژه روی دیواره داخلی رحم تأثیر می‌گذارد. استحکام دیواره داخلی رحم کاهش می‌یابد و در طول چند روز بعد، تخریب می‌شود و قاعدگی رخ می‌دهد. کاهش پروژسترون و استروژن همچنین بر هیپوتالاموس اثر و ترشح مجدد هورمون آزادکننده، FSH و LH را آغاز می‌کند که همان شروع دوره جنسی بعدی است. استروژن در واقع دو نقش متضاد را ایفا می‌کند؛ افزایش اندک آن از آزاد شدن FSH و LH ممانعت می‌کند (بازخورد منفی)، اما حدود روز چهاردهم دوره، افزایش یک‌باره آن، محرکی برای آزاد شدن مقدار زیادی FSH و LH از هیپوفیز پیشین می‌شود (بازخورد مثبت). این تغییر ناگهانی در مقدار هورمون‌ها، باعث می‌شود در تخمدان، باقی‌مانده انبانک به جسم زرد تبدیل شود.

فعالیت ۵

در بعضی منابع، دوره جنسی تخمدان‌ها را به دو قسمت انبانکی و جسم زردی (لوتئال) تقسیم‌بندی می‌کنند. به نظر شما:

- ۱- هر قسمت مربوط به چه بخشی از دوره جنسی است؟
- ۲- در هر قسمت، چه هورمون‌هایی از هیپوفیز بیشتر روی تخمدان اثر می‌گذارند؟
- ۳- در هر قسمت چه هورمون‌هایی از تخمدان ترشح می‌شوند و چه تغییری در میزان این هورمون‌ها رخ می‌دهد؟
- ۴- جداکننده این دو بخش چه مرحله‌ای است؟

نوزاد آدمی، زندگی را به صورت یک یاخته تخم آغاز می‌کند. تخم با تقسیم‌های پی‌درپی و گذر از مراحل سرانجام به جنین و نوزاد متمایز می‌شود.

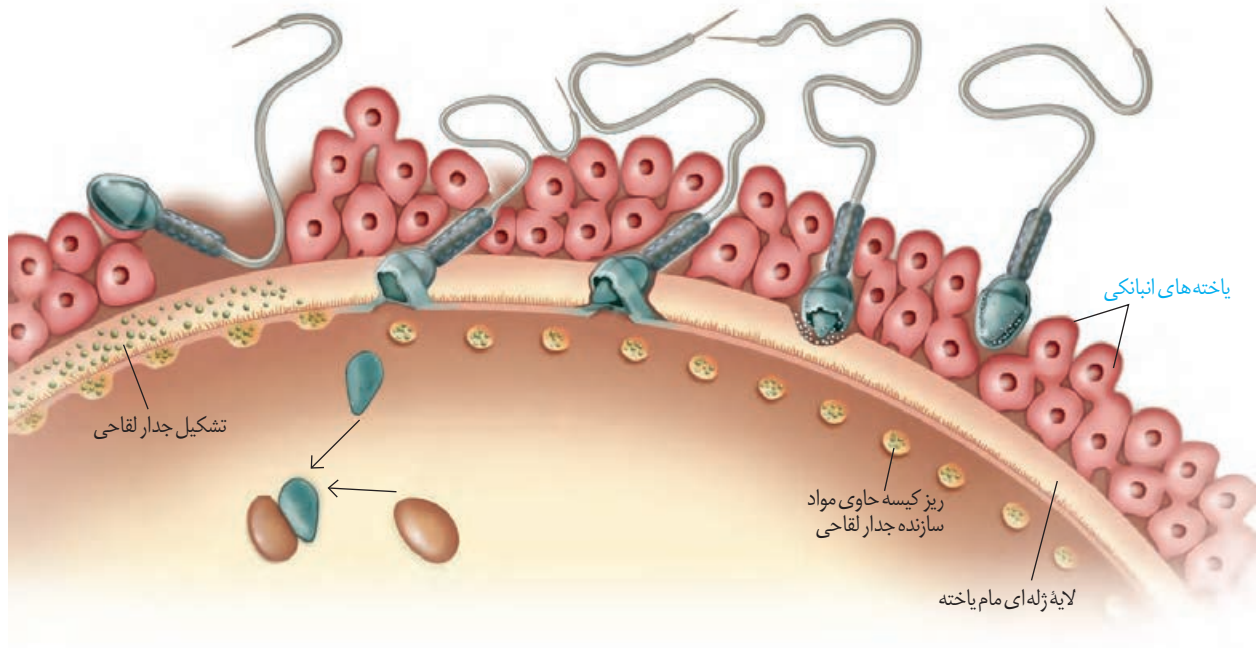
لقاح

مام یاخته ثانویه پس از تخمک‌گذاری از طریق انتهای شیپور مانند (شیپور فالوپ) وارد لوله رحم می‌شود. حرکات زوائد انگشت مانند، انقباض دیواره و زنش مزک‌های دیواره لوله رحم، مام یاخته ثانویه را به سمت رحم حرکت می‌دهند. با ورود مایع منی به رحم، میلیون‌ها زامه به سمت مام یاخته ثانویه شنا می‌کنند، ولی فقط تعداد کمی از آنها در لوله رحم به آن می‌رسند. زامه‌ها برای ورود باید از دو لایه خارجی و داخلی اطراف مام یاخته ثانویه عبور کنند. لایه خارجی، باقی مانده یاخته‌های انبانکی و لایه داخلی، شفاف و ژله‌ای است (شکل ۱۳). در حین عبور زامه از لایه خارجی، تازکتن پاره می‌شود تا آنزیم‌های آن لایه داخلی را هضم کنند.

لقاح موقعی آغاز می‌شود که غشای یک زامه و غشای مام یاخته ثانویه با همدیگر تماس پیدا کنند. در این زمان، ضمن ادغام غشای زامه با غشای مام یاخته، تغییراتی در سطح مام یاخته اتفاق می‌افتد که باعث ایجاد پوششی به نام **جدار لقاحی** می‌شود. جدار لقاحی از ورود زامه‌های دیگر به مام یاخته ثانویه جلوگیری می‌کند.

شکل ۱۳- برخورد و نفوذ زامه در مام یاخته

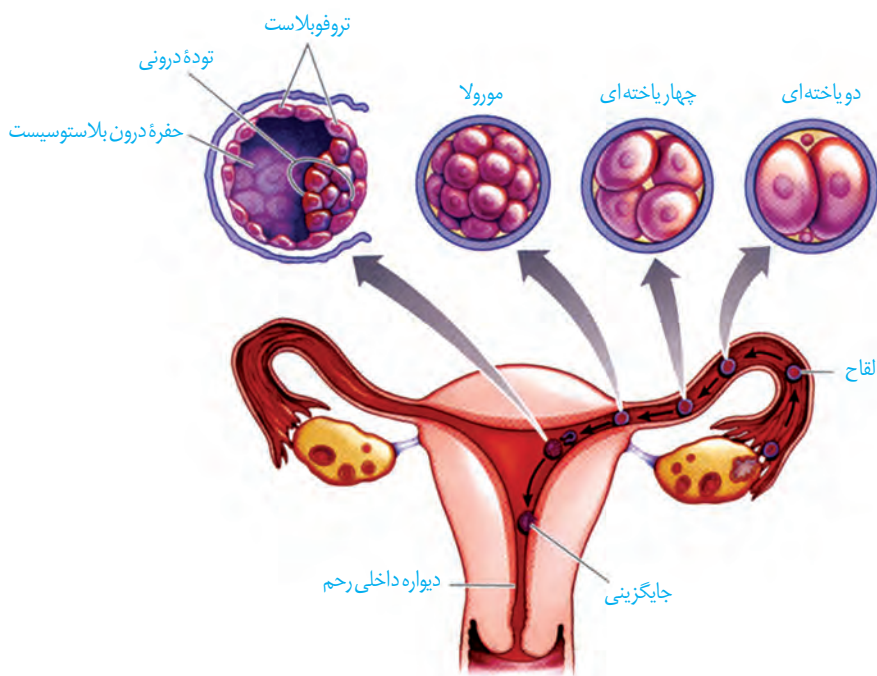
- ۱- زامه با فشار در بین یاخته‌های انبانکی وارد می‌شود تا به لایه ژله‌ای مام یاخته ثانویه برسد.
- ۲- در حین عبور زامه از لایه خارجی، تازکتن پاره شده، آنزیم‌های هضم‌کننده را آزاد تا لایه ژله‌ای را هضم کند.
- ۳- غشای زامه به غشای مام یاخته ثانویه ملحق می‌شود.
- ۴- هسته زامه وارد مام یاخته ثانویه شده با هسته آن ادغام می‌شود.
- ۵- تشکیل جدار لقاحی برای جلوگیری از ورود زامه‌های دیگر



با ورود سر زامه به مام یاخته، هسته آن به درون سیتوپلاسم وارد می‌شود. در همین حال، مام یاخته ثانویه، کاستمان را تکمیل می‌کند و به تخمک تبدیل می‌شود. هسته تخمک با هسته زامه ادغام می‌شود و یاخته تخم با ۲۳ جفت فام تن شکل می‌گیرد (شکل ۱۳).

وقایع پس از لقاح

حدود ۳۶ ساعت پس از لقاح، یاخته تخم تقسیمات رشتمانی را شروع می‌کند. نتیجه آن، ایجاد توده یاخته‌ای است که تقریباً به اندازه تخم است؛ زیرا یاخته‌های حاصل از تقسیم رشد نکرده‌اند. این توده پریاخته‌ای توپر با نام **مورولا** در لوله رحم به سمت رحم حرکت می‌کند. پس از رسیدن به رحم به شکل کره توخالی درمی‌آید و درون آن با مایعات پر می‌شود. در این مرحله، به آن **بلاستوسیست** گفته می‌شود. بلاستوسیست، یک لایه بیرونی به نام **تروفوبلاست** دارد که در مراحل بعدی **برون شامه جنین (پرده کوریون)** را می‌سازد. برون شامه جنین به همراه بخشی از دیواره رحم **جفت** را تشکیل می‌دهد (شکل ۱۴).



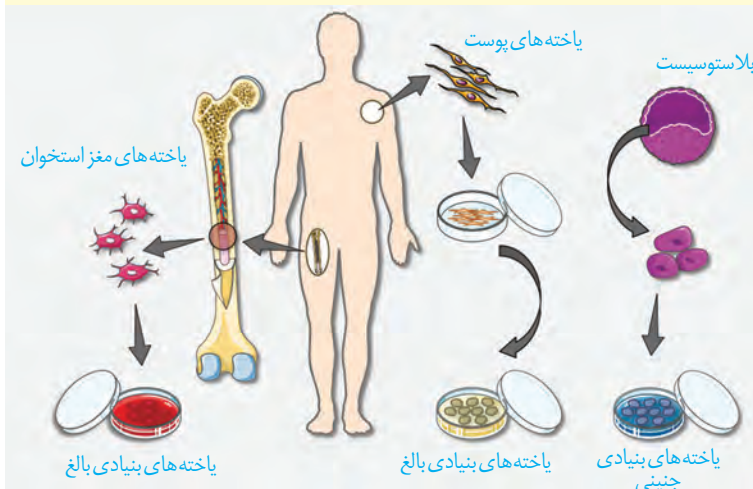
شکل ۱۴- مراحل اولیه رشد جنین

یاخته‌های درون بلاستوسیست **توده یاخته‌ای درونی** را تشکیل می‌دهند. این یاخته‌ها حالت بنیادی دارند و منشأ بافت‌های مختلف تشکیل دهنده جنین هستند. **یاخته‌های بنیادی**، یاخته‌هایی تخصص نیافته‌اند که توانایی تبدیل شدن به یاخته‌های متفاوتی را دارند. از توده درونی لایه‌های زاینده جنینی شکل می‌گیرند که هر کدام منشأ بافت‌ها و اندام‌های مختلف‌اند.

یاخته‌های بنیادی: جانوران عموماً دو دسته یاخته‌های بنیادی دارند:

جنینی و بالغ (شکل مقابل).

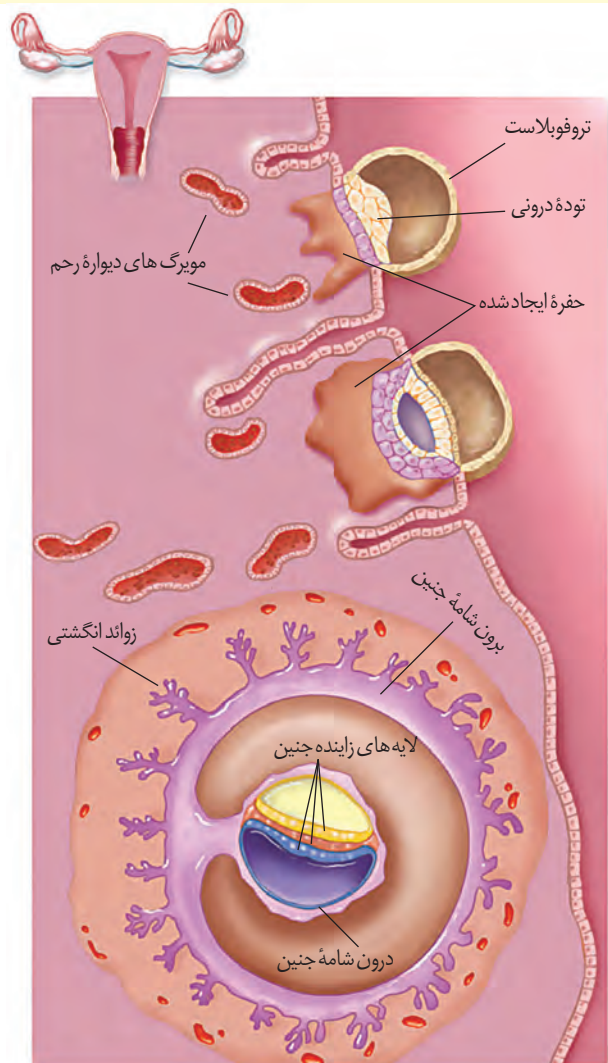
یاخته‌های بنیادی جنینی می‌توانند به تمامی یاخته‌های مورد نیاز بدن تبدیل شوند. انواع بالغ تا حدی تمایز یافته‌اند و توانایی محدودی در تولید یاخته‌های دیگر دارند. یاخته‌های بنیادی مغز استخوان و پوست از این نوع‌اند. خون موجود در رگ‌های بند ناف، منبعی سرشار از یاخته‌های بنیادی جنینی است. در حال حاضر، یاخته‌های بنیادی در پژوهش‌های پزشکی و زیست‌شناسی، اهمیت زیادی دارند و پیش‌بینی می‌شود در آینده در درمان بسیاری از بیماری‌های علاج‌ناپذیر مثل صدمات نخاعی، پارکینسون، دیابت و بیماری‌های قلبی، مؤثر واقع شوند.



در ادامه یاخته‌های لایه بیرونی بلاستوسپست، آنزیم‌های هضم‌کننده‌ای را ترشح می‌کنند که یاخته‌های جدار رحم را تخریب و حفره‌ای ایجاد می‌کنند که بلاستوسپست در آن جای می‌گیرد. به این فرایند **جایگزینی** گفته می‌شود. یاخته‌های جنین در این مرحله مواد مغذی مورد نیاز خود را از این بافت‌های هضم‌شده به دست می‌آورند (شکل ۱۵).

بعد از جایگزینی، پرده‌های محافظت‌کننده در اطراف جنین تشکیل می‌شوند که مهم‌ترین آنها **درون شامه جنین (آمنیون)** و **برون شامه جنین (کورین)** هستند. درون شامه جنین در حفاظت و تغذیه جنین نقش دارد. برون شامه جنین در تشکیل جفت و بند ناف دخالت می‌کند. جفت رابط بین بند ناف و دیواره رحم است.

برون شامه جنین، هورمونی به نام HCG^1 ترشح می‌کند که وارد خون مادر می‌شود و اساس تست‌های بارداری است. این هورمون سبب حفظ جسم زرد و تداوم ترشح هورمون پروژسترون از آن می‌شود. وجود این هورمون‌ها در خون از قاعدگی و تخمک‌گذاری مجدد جلوگیری می‌کند.



شکل ۱۵- جایگزینی جنین در رحم

۱- Human Chorionic Gonadotropin

تشکیل بیش از یک جنین

در حین تقسیمات اولیه تخم ممکن است یاخته‌های بنیادی از هم جدا شوند، یا توده درونی بلاستوسیست به دو یا چند قسمت تقسیم شود. در این حالت، بیش از یک جنین شکل می‌گیرند که این جنین‌ها همسان‌اند. اگر این جنین‌ها کاملاً از هم جدا نشوند، به هم چسبیده متولد می‌شوند. ممکن است تخمدان‌های یک فرد در یک دوره بیش از یک مام‌یاخته ثانویه آزاد کنند و دو یا چند لقاح انجام شود. در این حالت، اگر مراحل رشد و نمودر آنها کامل شود، دوقلو یا چندقلوهای ناهمسان متولد می‌شوند که ممکن است شباهتی به هم نداشته و حتی از لحاظ جنسیت هم متفاوت باشند (شکل ۱۶).

واژه‌شناسی

درون شامه جنین (amnion/آمنیون) برون شامه جنین (chorion/کورایون) شامه به معنی پرده و پوشش است، جنین توسط دو پرده محافظت می‌شود: یک پرده درونی تر به نام درون شامه و دیگری که بیرون قرار می‌گیرد به نام برون شامه.



شکل ۱۶- دوقلوهای الف (ناهمسان و ب) همسان



الف

ب

فعالیت ۶

- ۱- دوقلوهای ناهمسان از لحاظ جنسیت می‌توانند مشابه یا متفاوت باشند، به نظر شما علت چیست؟
- ۲- دوقلوهای به هم چسبیده از لحاظ جنسیت و سایر صفات ظاهری نسبت به هم چگونه‌اند؟
- ۳- در مورد اثر انگشت دوقلوهای همسان و ناهمسان اطلاعاتی را جمع‌آوری و گزارش آن را در کلاس ارائه کنید.

از طرف دیگر ممکن است در بعضی از زنان یا مردان، یاخته جنسی تولید نشود یا به دلایلی بین زامه و تخمک، لقاح موفق انجام نشود. در این صورت، موضوع ناباروری مطرح می‌شود که با روش‌ها و کمک فناوری، بعضی از آنها را برطرف می‌کنند.

کنترل ورود و خروج مواد در جفت

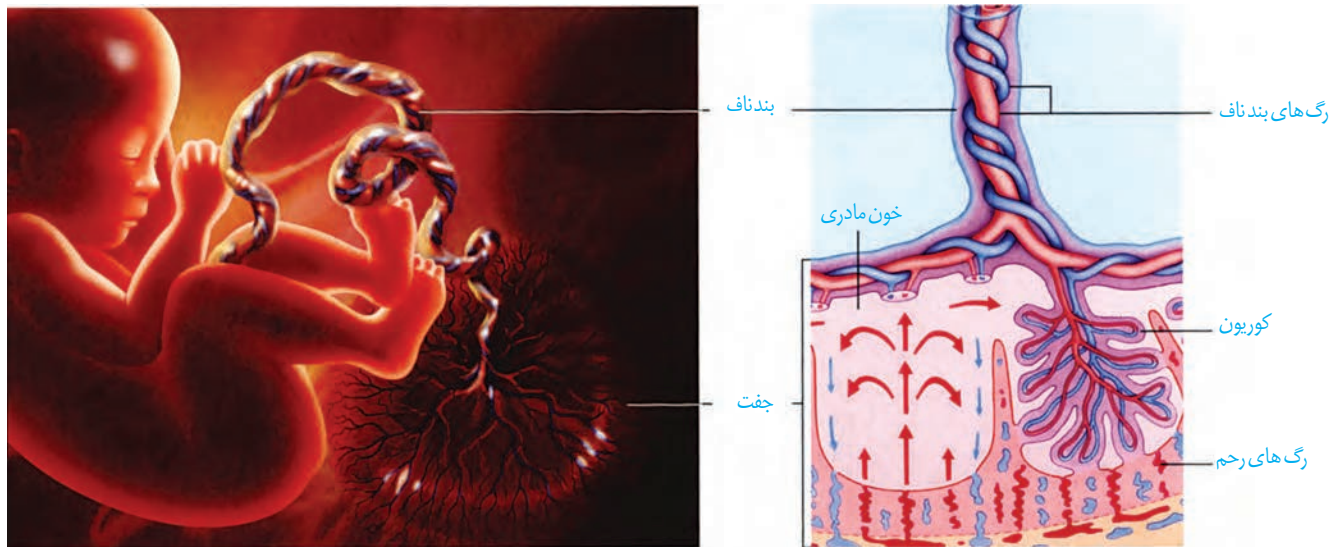
تمایز جفت از هفته دوم بعد از لقاح شروع می‌شود، ولی تا هفته دهم ادامه دارد. بند ناف رابط بین جنین و جفت است که در آن سرخرگ‌ها خون جنین را به جفت می‌برند و سیاهرگ، خون را از جفت به جنین می‌رساند. خون مادر و جنین در جفت به دلیل وجود برون شامه جنین، مخلوط نمی‌شود، ولی می‌تواند بین دو طرف این پرده مبادله مواد صورت گیرد (شکل ۱۷).

بیشتر بدانید

بیش از نیمی از زنان، بارداری را در سه ماهه اول به صورت تهوع و استفراغ صبحگاهی نشان می‌دهند که ناشی از ورود مواد دفعی جنین به داخل خون مادر است. تمایل بیشتر یا عدم تمایل به بعضی غذاها نیز در بیشتر افراد بروز می‌کند که به آن ویار گفته می‌شود. علت آن تغییر مقدار هورمون‌های بدن و تغییر در حس چشایی و بویایی است. البته افزایش نیازهای غذایی بدن به دلیل بارداری نیز در آن مؤثر است.

مواد مغذی، اکسیژن و بعضی از پادتن‌ها از طریق جفت به جنین منتقل می‌شوند تا جنین تغذیه و محافظت شود و مواد دفعی جنین نیز از همین طریق به خون مادر منتقل می‌شود. در عین حال، عوامل بیماری‌زا و موادی مانند نیکوتین، کوکائین و الکل نیز می‌توانند از جفت عبور کنند و روی رشد و نمو جنین تأثیر سوء بگذارند.

با توجه به عبور مواد از جفت و تأثیر زیان‌آور بعضی از داروها روی رشد و نمو، زنان باردار باید از مصرف هرگونه دارو در دوران بارداری، به‌جز با تجویز پزشک متخصص، خودداری کنند.



شکل ۱۷- جفت و ارتباط آن با مادر و جنین

فعالیت ۷

مادران باردار ممکن است تا پایان هفته چهارم بعد از لقاح هنوز از بارداری خود مطلع نباشند. با توجه به زمان‌های چرخه قاعدگی به نظر شما این مادران از نظر قاعدگی در چه وضعیتی هستند؟

همزمان با تشکیل جفت یاخته‌های توده درونی لایه‌های زاینده را تشکیل می‌دهند که از رشد و تمایز آنها بافت‌های مختلف جنین ساخته می‌شود. در انتهای ماه اول اندام‌های اصلی شروع به تشکیل شدن می‌کنند و ضربان قلب آغاز می‌شود. ابتدا رگ‌های خونی و روده شروع به نمو می‌کنند سپس جوانه‌های دست و پا ظاهر می‌شوند. در طی ماه دوم همه اندام‌ها شکل مشخص می‌گیرند. در انتهای سه ماه اول اندام‌های جنسی مشخص شده و جنین دارای ویژگی‌های بدنی قابل تشخیص می‌شود. در سه ماهه دوم و سوم، جنین به سرعت رشد می‌کند و اندام‌های آن شروع به عمل می‌کنند به طوری که در انتهای سه ماهه سوم قادر است در خارج از بدن مادر زندگی کند.

صوت‌نگاری (سونوگرافی)

در این روش تشخیصی، از امواج صوتی با بسامد (فرکانس) بالا استفاده می‌کنند. این امواج برخلاف اشعه X که در رادیولوژی از آن استفاده می‌شود، برای جنین ضرری ندارد. امواج را با کمک دستگاهی به درون بدن می‌فرستند و بازتاب آنها را دریافت کرده به صورت تصویر ویدئویی نشان می‌دهند. تشخیص بارداری در ماه اول، اندازه‌گیری ابعاد جنین برای تعیین سن، جنسیت جنین، سالم بودن جنین از لحاظ حرکتی و عملکرد بعضی از اندام‌ها مثل قلب از جمله مواردی است که در صوت‌نگاری، مشخص می‌شود.

بیشتر بدانید

تشخیص ناهنجاری‌های ژنتیکی پیش از تولد

بسیاری از والدین قبل از تولد فرزندشان دغدغه و نگرانی بروز ناهنجاری‌های احتمالی را در فرزندشان دارند و دوست دارند از این نگرانی خارج شوند. تشخیص پیش از تولد، می‌تواند به این افراد کمک کند. برای این آزمایش‌ها، مقداری از مایع درون شامه جنین یا بخشی از زوائد انگشت مانند برون شامه جنین را خارج می‌کنند. یاخته‌های آنها را کشت می‌دهند و از آنها، کاربوتیپ تهیه می‌کنند. چون محتوای ژنتیک این یاخته‌ها با جنین یکسان است، می‌توان ناهنجاری‌های فام‌تی مثل نشانگان داون را در کاربوتیپ آنها تشخیص داد.

فعالیت ۸

تعیین زمان تولد

متخصصان زنان و زایمان در پیش بینی زمان تولد نوزاد ۲۸۴ روز را به زمان شروع آخرین قاعدگی مادر اضافه می کنند. در این رابطه به پرسش های زیر پاسخ دهید.

- چه ارتباطی بین قاعدگی و بارداری شخص وجود دارد؟

- چرا روز شروع آخرین قاعدگی را در نظر می گیرند؟

- گفته می شود مدت زمان بارداری ۹ ماه یا ۲۷۰ روز است. چرا پزشکان ۲۸۴ روز را مطرح می کنند؟

تولد-زایمان

در ابتدا سر جنین به سمت پایین فشار وارد و کیسه درون شامه را پاره می کند. در نتیجه، مایع درون شامه ای یک مرتبه به بیرون رانده می شود. خروج این مایع، نشانه نزدیک بودن زایمان است. هورمون ها در این مرحله نقش اساسی دارند؛ از جمله اکسی توسین که ماهیچه های دیواره رحم را تحریک می کند، تا انقباض آغاز شود و در ادامه، دفعات و شدت انقباض را مرتباً بیشتر می کند. به همین دلیل، پزشکان برای سرعت دادن به زایمان اکسی توسین را به مادر تزریق می کنند. شروع انقباض ماهیچه های رحم با دردهای زایمان همراه است. دهانه رحم در هر بار انقباض، بیشتر باز می شود و سر جنین بیشتر به آن فشار می آورد. با افزایش انقباضات ترشح اکسی توسین با بازخورد مثبت افزایش یافته و باعث می شود نوزاد آسان تر و زودتر از رحم خارج شود. به طور طبیعی ابتدا سر و سپس بقیه بدن از رحم خارج می شود. در مرحله بعد با ادامه انقباض رحم، جفت و اجزای مرتبط با آن، از رحم خارج می شود.

هورمون اکسی توسین، علاوه بر تأثیر در زایمان، ماهیچه صاف غدد شیری را نیز منقبض می کند تا خروج شیر انجام شود. البته تحریک گیرنده های موجود در غدد شیری با مکیدن نوزاد، اتفاق می افتد و از طریق بازخورد مثبت، تنظیم می شود. مکیدن نوزاد باعث افزایش هورمون ها و افزایش تولید و ترشح شیر می شود.

فعالیت ۹

علاوه بر زایمان طبیعی، تولد نوزاد با عمل جراحی (سزارین)

نیز انجام می شود. پزشکان زنان و زایمان، بیشتر توصیه می کنند که

زایمان به صورت طبیعی انجام شود. در مورد جنبه های مثبت و منفی جراحی سزارین، اطلاعاتی را جمع آوری کنید و نتایج به دست آمده را به صورت گزارش در کلاس ارائه کنید.

بیشتر بدانید

فناوری های کمک به رفع

ناباروری

- تلقیح مصنوعی

(Artificial Insemination):

در این روش، زامه سالم شوهر، توسط متخصص در مجرای تولید مثلی زن، در کنار مام یاخته قرار داده می شود. زوج هایی که شوهر به دلیل تعداد کم زامه عقیم است یا زامه ناسالم زیاد دارند ممکن است متقاضی این روش باشند.

- لقاح آزمایشگاهی

(In Vitro Fertilization or IVF):

در این روش، زامه و تخمک در خارج از بدن زن، لقاح می یابند. در بعضی زنان ممکن است تخمدان و رحم سالم، ولی لوله های رحمی مسدود باشند، یا ممکن است شخصی بخواهد از تخمک اهدایی به جای تخمک خود استفاده کند. در این روش، تخمک و زامه را با محیط کشت حاوی مایعات رحم مخلوط می کنند. تخم لقاح یافته، دو یا سه بار تقسیم می شود و به همین صورت آن را وارد رحم می کنند. در این روش دوقلو زایی و بیشتر، زیاد رخ می دهد. آیا می دانید چرا؟

بیشتر بدانید

سقط جنین (پایان بارداری قبل از زایمان):

عوامل مختلفی می‌تواند باعث سقط جنین شود. در این حالت، جنین کامل نشده از دیواره رحم جدا و از بدن مادر خارج می‌شود یا به عبارتی، بارداری به اتمام می‌رسد. سقط اگر در مراحل اولیه بارداری صورت گیرد بیشتر ناشی از وجود ناهنجاری‌های فام‌تنی شدید مثل پلی‌پلوئیدی در جنین است. اما اگر در سه ماهه دوم اتفاق بیفتد، عامل آن ممکن است از طرف مادر باشد؛ مثلاً در اثر دیابت، فشار خون بالا، ناهنجاری‌های هورمونی، بیماری‌های عفونی، مشکل رحمی، یا مصرف مواد اعتیادآور ممکن است سقط رخ دهد. اما دلیل بیشتر سقط‌های جنین مشخص نیست.

بیشتر بدانید

بیماری‌های مقاربتی

همان‌طور که می‌دانید یکی از راه‌های انتقال عوامل بیماری‌زا از فردی به فرد دیگر ارتباط جنسی است. به این بیماری‌ها مقاربتی گویند. بعضی از آنها عبارت‌اند از:

بیماری	بعضی از علائم و پیامدها	عامل
عفونت کلامیدیا	خروج ترشحات چرکی، خارش، التهاب ناحیه لگن، دفع ادرار با سوزش	باکتری
سوزاک	خروج ترشحات چرکی، خارش، التهاب ناحیه لگن، دفع ادرار با سوزش	باکتری
سیفلیس	زخم سفت بدون درد و خارش در پوست و اندام تناسلی، لکه‌های قرمز رنگ در کف دست و پا، تب	باکتری
هپاتیت B	زرد شدن پوست، علائم مشابه آنفلوانزا	ویروس
ایدز	ضعف سیستم ایمنی، مستعد شدن برای ابتلا به انواع بیماری	ویروس
هرپس تناسلی	تاول‌های دردناک در ناحیه تناسلی، ران یا باسن، افزایش احتمال بروز سرطان	ویروس
زگیل‌های تناسلی	بروز زگیل‌های دردناک در ناحیه تناسلی، افزایش احتمال بروز سرطان	ویروس
تریکوموناسیس	سوزش، خارش و ترشحات چرکی	آغازی

بیشتر بدانید


جنین در هفته‌های مختلف بعد از لقاح (بارداری)



هفته دوازدهم



هفته چهارم



هفته سی و هشتم



هفته بیست و هشتم

اساس تولیدمثل جنسی در همه جانوران مشابه است، ولی در چگونگی انجام، مراحل آن و حفاظت و تغذیه جنین، تفاوت‌هایی وجود دارد که به بعضی از آنها اشاره می‌کنیم.

نحوه لقاح

در آبزیان مثل ماهی‌ها، دوزیستان و بی‌مهرگان آبزی لقاح خارجی دیده می‌شود. در این روش، والدین گامت‌های خود را در آب می‌ریزند و لقاح در آب صورت می‌گیرد. برای افزایش احتمال برخورد گامت‌ها، والدین تعداد زیادی گامت را هم‌زمان وارد آب می‌کنند. برای هم‌زمان شدن ورود یاخته‌های جنسی به آب عوامل متعددی دخالت دارد از جمله دمای محیط، طول روز، آزاد کردن مواد شیمیایی توسط نر یا ماده یا بروز بعضی رفتارها مثل رقص عروسی در ماهی‌ها (شکل ۱۸).



شکل ۱۸- رقص عروسی ماهی‌ها

لقاح داخلی در جانوران خشکی‌زی و بعضی آبزیان دیده می‌شود. در این جانوران، زامه وارد دستگاه تولیدمثلی فرد ماده می‌شود و لقاح در بدن ماده انجام می‌شود. انجام این نوع لقاح، نیازمند دستگاه‌های تولیدمثلی با اندام‌های تخصص یافته است. در اسبک ماهی جانور ماده، تخمک را به درون حفره‌ای در بدن جنس نر منتقل می‌کند. لقاح در بدن نر انجام می‌شود و جنس نر، جنین‌ها را در بدن خود نگه می‌دارد، پس از طی مراحل رشد و نمو، نوزادان متولد می‌شوند.

واژه‌شناسی

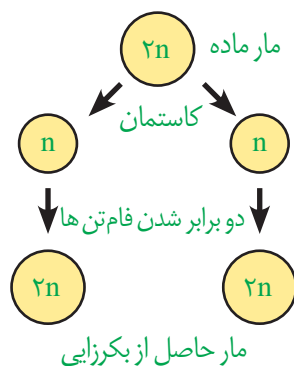
نرماده (Hermaphrodite)

هرمافرودیت

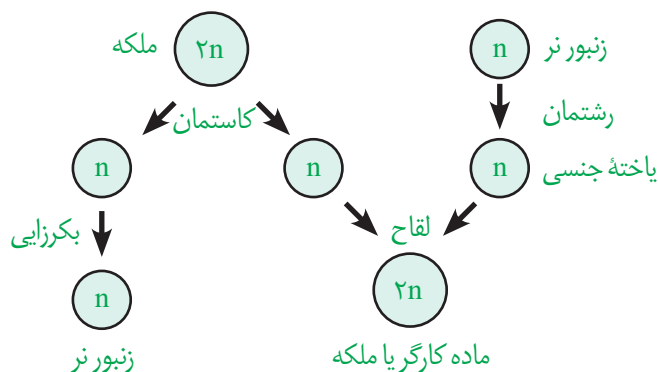
هرمافرودیت از دو کلمه Hermes به معنی مذکر و aphrodite به معنی مؤنث است و به موجودی اشاره دارد که هر دو اندام تناسلی نر و ماده را دارد. واژه نرماده نیز صورت صریح همین مفهوم است.

بکرزایی

نوعی از تولیدمثل جنسی است و برای مثال، در زنبور عسل و بعضی مارها دیده می‌شود. در این روش، فرد ماده گاهی اوقات به تنهایی تولیدمثل می‌کند. در این حالت، یا تخمک بدون لقاح شروع به تقسیم می‌کند و موجود تک لاد را به وجود می‌آورد (شکل ۱۹-الف) یا از روی فام‌تن‌های تخمک یک نسخه ساخته می‌شود تا فام‌تن‌های تخمک دو برابر شوند و سپس شروع به تقسیم می‌کند و موجود دوالاد را به وجود می‌آورد (شکل ۱۹-ب).



(ب)



(الف)

شکل ۱۹-الف و ب) انواع بکرزایی

نرماده (هرمافرودیت)

در این جانوران، یک فرد هر دو نوع دستگاه تولیدمثلی نر و ماده را دارد. در کرم‌های پهن مثل کرم کبد، هر فرد تخمک‌های خود را بارور می‌کند (شکل ۲۰-الف). در مورد کرم‌های حلقوی، مثل کرم خاکی، لقاح دو طرفی انجام می‌شود؛ یعنی وقتی دو کرم خاکی در کنار هم قرار می‌گیرند، زامه‌های هر کدام تخمک‌های دیگری را بارور می‌سازد (شکل ۲۰-ب).



(ب)



(الف)

شکل ۲۰-الف) کرم کبد، ب) کرم خاکی

تغذیه و حفاظت جنین

مواد غذایی مورد نیاز جنین تا چند روز پس از لقاح و تشکیل تخم از اندوخته غذایی تخمک تأمین می‌شود. این اندوخته مخلوطی از مواد مغذی متفاوت است. اندازه تخمک در جانوران مختلف بستگی به میزان اندوخته دارد. در جانوران تخم‌گذار اندوخته غذایی تخمک زیاد است؛ زیرا در دوران جنینی ارتباط غذایی بین مادر و جنین وجود ندارد. در پستانداران به دلیل ارتباط خونی بین مادر و جنین و در ماهی‌ها و دوزیستان به علت دوره جنینی کوتاه میزان این اندوخته کم است. در جانورانی که لقاح خارجی دارند تخمک دیواره‌ای چسبناک و ژله‌ای دارد که پس از لقاح، تخم‌ها را به هم می‌چسباند. این لایه ژله‌ای ابتدا از جنین در برابر عوامل نامساعد محیطی محافظت می‌کند و سپس به عنوان غذای اولیه مورد استفاده جنین قرار می‌گیرد (شکل ۲۱).



شکل ۲۱ - لایه ژله‌ای اطراف تخم‌های قورباغه

در جانورانی که لقاح داخلی دارند، حفاظت جنین به صورت‌های متفاوتی انجام می‌شود. در جانوران تخم‌گذار وجود پوسته ضخیم در اطراف تخم از جنین محافظت می‌کند. البته برای محافظت بیشتر در خزندگانی مثل لاک‌پشت تخم‌ها با ماسه و خاک پوشانده می‌شوند. پرندگان روی تخم‌ها می‌خوابند و پستاندار تخم‌گذاری مثل پلاتی‌پوس، تخم را در بدن خود نگه می‌دارد و چند روز مانده به تولد نوزاد، تخم‌گذاری می‌کند و روی آنها می‌خوابد تا مراحل نهایی رشد و نمو طی شود (شکل ۲۲). در پستانداران کیسه‌دار، مثل کانگورو جنین ابتدا درون رحم ابتدایی مادر رشد و نمو را آغاز می‌کند. به دلیل مهیا نبودن شرایط به صورت نارس متولد می‌شود و خود را به درون کیسه‌ای که بر روی شکم مادر است می‌رساند. در آنجا ضمن حفاظت، از غدد شیری درون آن تغذیه می‌کند تا مراحل رشد و نمو را کامل کند.

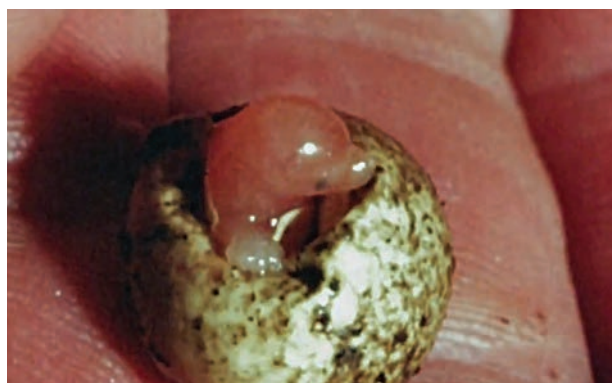
در پستانداران جفت‌دار، جنین درون رحم مادر رشد و نمو را آغاز و از طریق اندامی به نام جفت با خون مادر مرتبط می‌شود و از آن تغذیه می‌کند. نوزاد پس از تولد از غدد شیری مادر تغذیه می‌کند تا زمانی که بتواند به طور مستقل به زندگی ادامه دهد.



ب) تخم پرندۀ درآشیانه



شکل ۲۲- الف) تخم‌های لاک‌پشت



پ) تخم پلاتی‌بوس



فصل ۸

تولید مثل نهان دانگان


نهان دانگان تنها گروه از گیاهان اند که گل تولید می کنند. تولید گل برای گیاهان هزینه بر است؛ به ویژه تولید گل هایی که رنگ های گوناگون، ترکیبات معطر و شهد دارند. آیا می دانید چرا؟ با وجود این، گیاهان گل دار بیشترین گیاهان روی زمین اند و توانسته اند پهنه وسیعی از زمین را به خود اختصاص دهند. داشتن گل چه مزایایی دارد؟ چرا گوناگونی جانورانی مانند حشره ها در زیستگاهی با گیاهان گل دار بیشتر است؟ گل چه ساختاری دارد و چه فرایندهایی در آن انجام می شود؟



فرض کنید گیاهی مانند یک بوته گل سرخ یا یک درخت انگور دارید و می خواهید آن را تکثیر کنید. آیا صبر می کنید تا دانه تولید کنند و دانه های آنها را می کارید، یا روش دیگری به کار می برید؟

تکثیر با بخش های رویشی

گیاهان می توانند به روش غیر جنسی و با استفاده از بخش های رویشی، یعنی ساقه، برگ و ریشه تکثیر یابند. مثلاً روی ریشه درخت آلبالو، جوانه هایی تشکیل می شود که از رشد آنها درخت های آلبالو ایجاد می شوند. چنین تولید مثلی از نوع غیر جنسی، یا رویشی است. تولیدمثل غیرجنسی را چگونه توصیف می کنید؟



شکل ۱- تشکیل درخت های جدید از جوانه های روی ریشه.

یادآوری


گیاهان را براساس صفت های داشتن یا نداشتن آوند، دانه و گل به طور کلی گروه بندی می کنند.

معمولاً برای تکثیر گیاهان از بخش های رویشی گیاه استفاده می کنیم. شاید شما هم با گذاشتن قطعه هایی از ساقه در خاک یا آب، گیاهی را تکثیر کرده باشید. در این حالت برای تکثیر گیاه، روش قلمه زدن را به کار برده اید (شکل ۲- الف). به نظر شما قطعه ای از ساقه که گیاه جدید ایجاد می کند، چه چیزی باید داشته باشد؟

پیوند زدن یکی دیگر از روش های تکثیر رویشی است. در این روش قطعه ای از یک گیاه مانند جوانه یا شاخه به نام **پیوندک**، روی تنه گیاه دیگری که به آن **پایه** می گویند، پیوند زده می شود (شکل ۲- ب). گیاه پایه ویژگی هایی مانند مقاومت به بیماری ها، سازگار با خشکی یا شوری دارد، در حالی که گیاهی که **پیوندک** از آن گرفته می شود، مثلاً میوه مطلوب دارد.

در روش **خوابانیدن** بخشی از ساقه یا شاخه را که دارای گره است، با خاک می پوشانند. بعد از مدتی از محل گره، ریشه و ساقه برگردار ایجاد می شود که با جدا کردن از گیاه مادر، پایه جدیدی ایجاد می شود (شکل ۲- پ).

گروه بندی گیاهان			
بدون آوند	خزه ها	سرخس ها	گل دار
آوند دار	بازدانگان	تک پدای ها	دانه دار
		دو پدای ها	
نهان دانگان			



(پ)



(ب)



(ف)

شکل ۲- روش‌های متفاوت تکثیر رویشی در گیاهان. الف) قلمه زدن، ب) پیوند زدن، پ) خوابانیدن.

با مراجعه به یک مرکز پرورش گل، یا گل فروشی درباره روش تکثیر رویشی گیاهان متفاوت، گزارش تصویری تهیه و در کلاس ارائه دهید.

فعالیت ۱


تخصص یافته‌ها

انواعی از ساقه‌ها در گیاهان وجود دارند که برای تولیدمثل غیر جنسی ویژه شده‌اند. **زمین ساقه** (ریزوم^۱)، غده، پیاز و ساقه رونده، نمونه‌هایی از ساقه‌های ویژه شده برای تولیدمثل غیر جنسی‌اند. **زمین ساقه**، به طور افقی زیر خاک رشد می‌کند و همانند ساقه هوایی جوانه انتهایی و جانبی دارد. این ساقه به موازات رشد افقی خود در زیر خاک، پایه‌های جدیدی در محل جوانه‌ها تولید می‌کند. زنبق از گیاهانی است که زمین ساقه دارد (شکل ۳- الف).

غده، ساقه‌ای زیرزمینی است که به علت ذخیره ماده غذایی در آن متورم شده است. سیب زمینی چنین ساقه‌ای است. هر یک از جوانه‌های تشکیل شده در سطح غده سیب زمینی، به یک گیاه تبدیل می‌شود (شکل ۳- ب). برای تکثیر سیب زمینی، آن را به قطعه‌های جوانه‌دار تقسیم می‌کنند و در خاک می‌کارند.

پیاز، ساقه زیرزمینی کوتاه و تکمه‌مانندی دارد که برگ‌های خوراکی به آن متصل‌اند (شکل ۳- پ). پیاز خوراکی چنین ساختاری است. نرگس و لاله نیز پیاز دارند. از هر پیاز تعدادی پیاز کوچک تشکیل می‌شود که هر کدام، یک گیاه ایجاد می‌کند.

ساقه رونده، به طور افقی روی خاک رشد می‌کند (شکل ۳- ت). گیاه توت فرنگی ساقه رونده دارد. گیاهان توت فرنگی جدیدی در محل گره‌ها، ایجاد می‌شوند.



شکل ۳- ساقه‌های تخصص یافته برای تولیدمثل غیرجنسی

فعالیت ۲

(الف) نمونه‌هایی از ساقه‌های زیر زمینی را به کلاس بیاورید و در گروه خود مقایسه کنید.
 (ب) شلغم و سیب زمینی را با هم مقایسه کنید. آیا شلغم همانند سیب زمینی ساقه است؟ چه استدلالی

برای پاسخ خود دارید؟

بیشتر بدانید

تثبیت خاک

گندمیانی مانند مرغ که زمین ساقه دارند، ضمن اشغال سطح وسیعی از خاک، در تثبیت آن نیز نقش دارند.



فناوری و تکثیر گیاهان


بیشتر بدانید

گیاه در شیشه

با استفاده از فن کشت بافت می‌توان گیاهی گل‌دار را در ظرف‌های شیشه‌ای پرورش داد.



از فن کشت بافت برای تولید گیاهان با ویژگی‌های مطلوب و تولید انبوه آنها در آزمایشگاه استفاده می‌شود. در این فن، یاخته یا قطعه‌ای از بافت گیاهی در محیط کشت گذاشته می‌شود. این محیط دارای مواد مورد نیاز برای رشد و نمو گیاه است. یاخته و بافت در شرایط مناسب، با تقسیم میتوز، توده‌ای از یاخته‌های هم شکل را به وجود می‌آورند که کال نامیده می‌شود. کال می‌تواند به گیاهانی تمایز یابد که از نظر ژنی یکسان‌اند. همهٔ مراحل کشت بافت در محیطی کاملاً سترون انجام می‌شود (شکل ۴).



شکل ۴- ایجاد گیاه از کال در کشت بافت.

فعالیت ۳

فرض کنید از شما خواسته‌اند که با استفاده از یاخته‌های مجزای پارانشیمی، گیاهی را به روش کشت بافت تکثیر دهید. توضیح دهید این یاخته‌ها را از چه سامانهٔ بافتی جدا می‌کنید و چگونه این کار را انجام می‌دهید؟

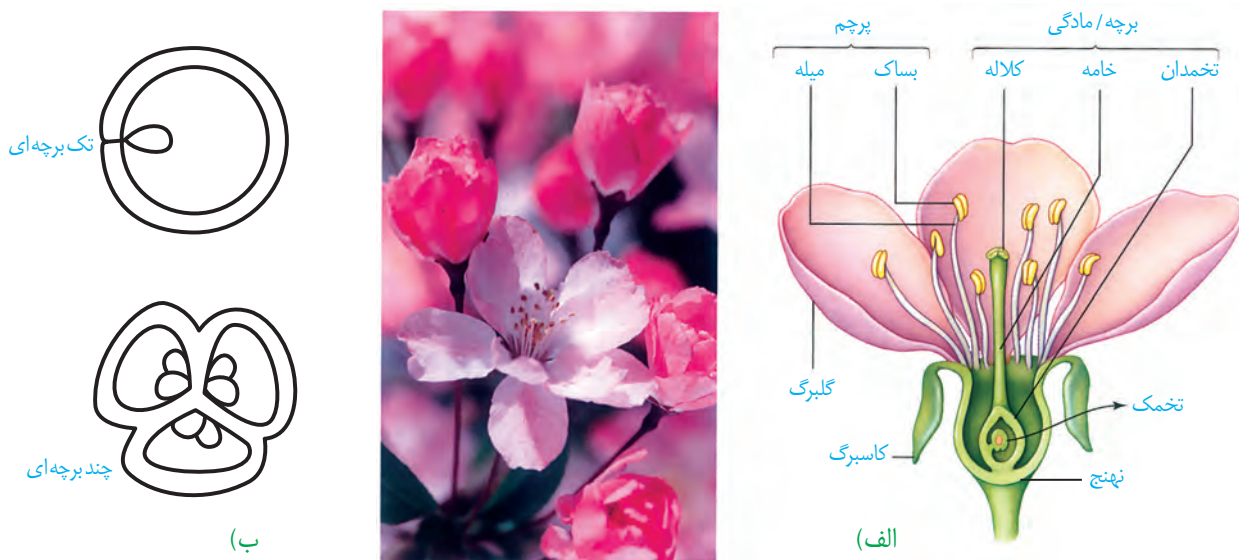
گفتار ۲ تولیدمثل جنسی

با ساختار گل در سال‌های گذشته آشنا شده‌اید. می‌دانید گل بخش‌های متفاوتی دارد. نام بخش‌هایی از گل را که به یاد دارید، بنویسید. هر یک از این بخش‌ها چه کاری انجام می‌دهد؟

هر گلی کامل نیست

گل ساختاری اختصاص یافته برای تولیدمثل جنسی است. گلی که در شکل ۵ می‌بینید دارای گلبرگ، کاسبرگ، پرچم و مادگی است که روی بخشی به نام نهنج قرار دارند. نهنج وسیع و ممکن است صاف، برآمده یا گود باشد.

اجزای گل در چهار حلقه هم مرکز تشکیل می‌شوند. کاسبرگ‌ها در خارجی‌ترین حلقه قرار می‌گیرند. گلبرگ‌ها در حلقه دوم و معمولاً به رنگ‌های متفاوت وجود دارند. آیا می‌دانید رنگی بودن گلبرگ‌ها چه اهمیتی دارد؟ پرچم‌ها در حلقه سوم و مادگی در چهارمین حلقه تشکیل می‌شوند. مادگی گل از یک یا تعدادی برچه ساخته شده است. در واقع پرچه واحد سازنده مادگی است. در مادگی‌های چند برچه‌ای، ممکن است فضای مادگی با دیواره برچه‌ها از هم جدا شوند (شکل ۵-ب).



شکل ۵- الف) گل در گیاه آلبالو، ب) مادگی تک برچه‌ای و چند برچه‌ای

فعالیت ۴

چند نوع گل را با تعداد گلبرگ‌های چهار تا شش به کلاس بیاورید.

الف) تک لپه یا دولپه‌ای بودن آنها را مشخص کنید.

ب) تعداد هر یک از اجزای دیگر گل چیست؟ (پ) گل‌ها را به دقت با ذره بین مشاهده و ویژگی‌های هر یک از اجزا را یادداشت کنید.

ت) با استفاده از تیغ برش‌های طولی و عرضی از مادگی گل، تهیه و آنچه را می‌بینید یادداشت و ترسیم کنید.

ث) با استفاده از داده‌هایی که به دست آورده‌اید، ساختار هر گل را گزارش کنید.

آیا در همه گل‌ها این چهار حلقه تشکیل می‌شوند؟ مشاهده گل در گیاهان متفاوت نشان می‌دهد، چنین چیزی نیست. بنابراین، گل‌ها را بر اساس وجود هر چهار حلقه یا نبودن بعضی حلقه‌ها در دو گروه گل‌های کامل یا ناکامل قرار می‌دهند. همچنین گل‌هایی که هر دو حلقه پرچم و مادگی را داشته باشند، گل دو جنسی و آنهایی که فقط یکی از این حلقه‌ها را دارند، گل تک جنسی می‌نامند (شکل ۶).



شکل ۶- گل‌های تک جنسی در گیاه کدو

گل نر

گل ماده

تشکیل یاخته‌های جنسی

می‌دانید که در تولیدمثل جنسی از لقاح یاخته جنسی نر با یاخته جنسی ماده، تخم ایجاد می‌شود. یاخته جنسی نر در گیاهانی مانند خزه، همانند یاخته جنسی نر در جانوران وسیله حرکتی دارد و می‌تواند در قطره‌های آب یا رطوبتی که سطح گیاه را پوشانده، شنا کند و خود را به یاخته جنسی ماده برساند. اما یاخته جنسی نر در گیاهان گل دار وسیله حرکتی ندارد. بنابراین، در این گیاهان برای انتقال یاخته جنسی نر ساختاری به نام لوله گرده تشکیل می‌شود.

بیشتر بدانید

چندین گل

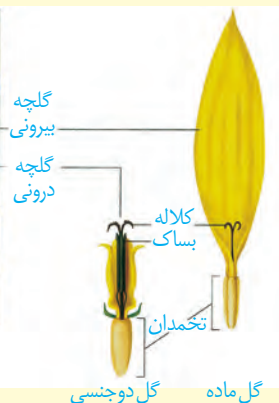
برخی گل‌ها مانند گل آفتاب‌گردان، اجتماعی از چندین گل کوچک یا گلچه‌اند. در گل آفتاب‌گردان گلچه‌های بیرونی ماده، و گلچه‌های درونی دو جنسی‌اند.



گل ژربرا

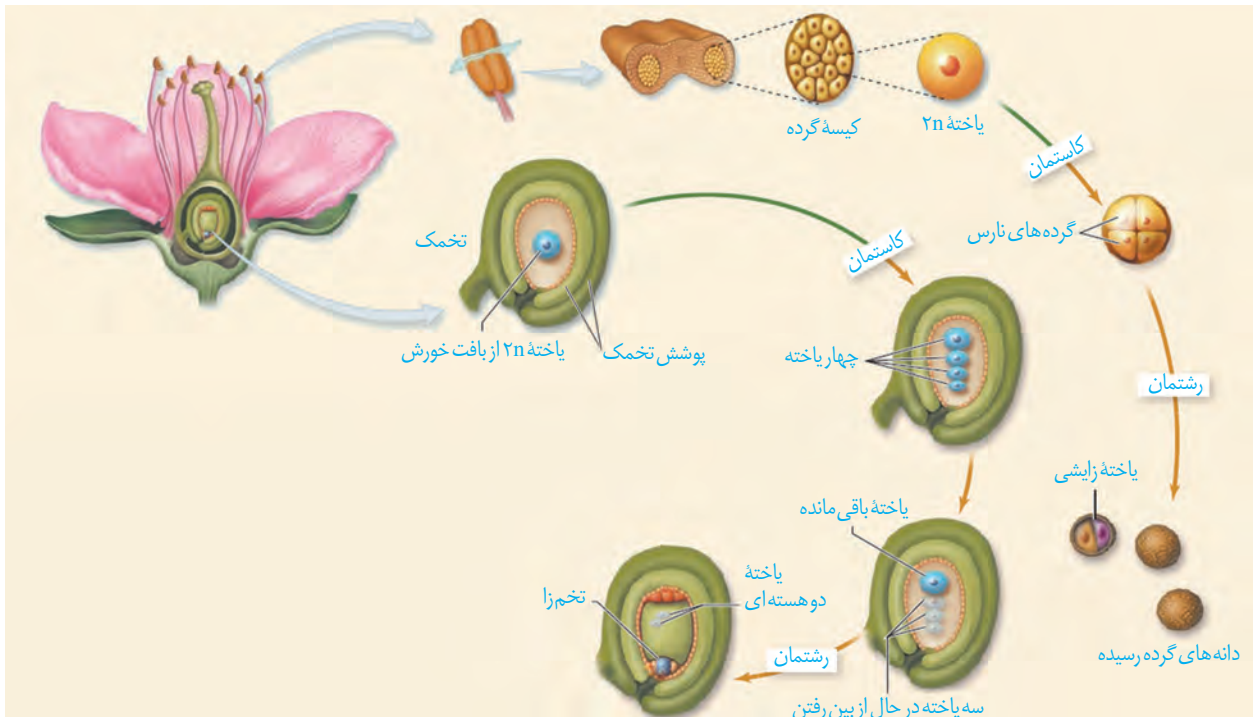


گل آفتاب‌گردان



به شکل ۷ نگاه کنید. کیسه‌های گرده در بساک تشکیل می‌شوند و یاخته‌های دولاد دارند. از تقسیم کاستمان این یاخته‌ها، چهار یاخته تک‌لاد ایجاد می‌شود که در واقع **گرده‌های نارس** اند. هریک از این یاخته‌ها با انجام دادن تقسیم رشتمان و تغییراتی در دیواره به **دانه گرده رسیده** تبدیل می‌شود. دانه گرده رسیده یک دیواره خارجی، یک دیواره داخلی، یک **یاخته زایشی** و یک **یاخته زایشی** دارد. تخمدان که به صورت بخشی متورم در گل دیده می‌شود، محل تشکیل تخمک هاست. تخمک پوششی دو لایه‌ای دارد که یاخته‌های دولادی را در بر می‌گیرد. مجموع این یاخته‌ها، بافتی به نام **بافت خورش** را می‌سازند (شکل ۷).

یکی از یاخته‌های بافت خورش بزرگ می‌شود و با تقسیم کاستمان چهار یاخته تک‌لادی ایجاد می‌کند. از این چهار یاخته فقط یکی باقی می‌ماند که با تقسیم رشتمان، ساختاری به نام **کیسه رویانی** با تعدادی یاخته ایجاد می‌کند. **تخم‌زا و یاخته دو هسته‌ای** از یاخته‌های کیسه رویانی اند که در لقاح با یاخته‌های جنسی نر شرکت می‌کنند.



شکل ۷- تشکیل دانه‌های گرده و کیسه رویانی

بیشتر بدانید

طلای سرخ

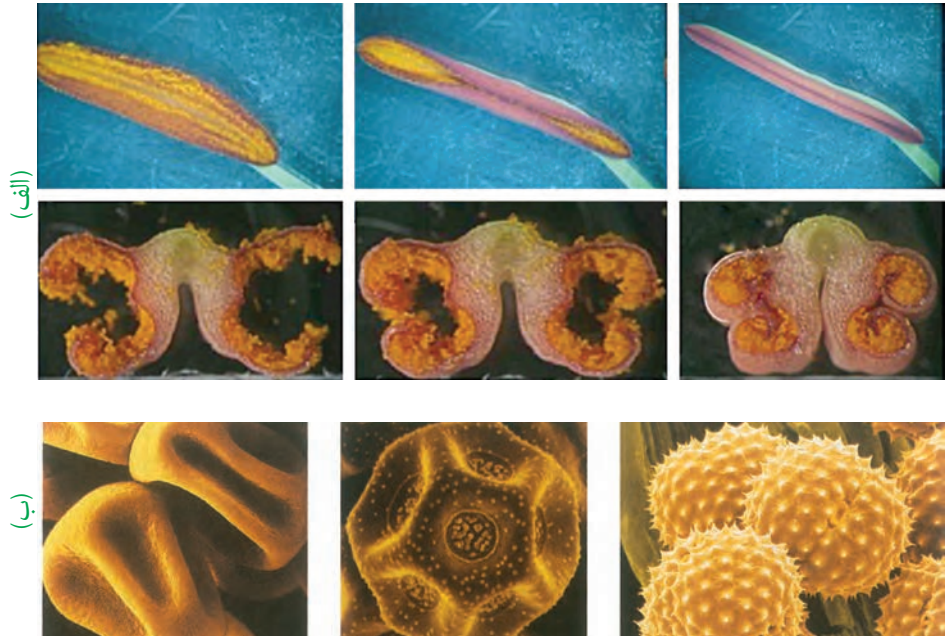
زعفران گیاهی تک لپه و چند ساله است. زعفران با نوعی ساقه زیرزمینی به نام بینه تکثیر می‌شود. در بینه برخلاف پیاز مواد غذایی در برگ‌ها ذخیره نمی‌شود؛ بلکه در ساقه تجمع می‌یابند. پوشش گل زعفران شش قسمتی است. کلاله سه‌رشته‌ای و قرمز رنگ آن برای مزه‌دار و معطر کردن خوراکی‌ها به کار می‌رود. زعفران از صادرات مهم ایران است.



گرده افشانی و لقاح

با شکافتن دیوارهٔ بساک، گرده‌ها رها می‌شوند (شکل ۸-الف). دیوارهٔ خارجی دانه‌های گرده منفذدار و ممکن است صاف یا دارای تزییناتی باشد (شکل ۸-ب).

شکل ۸-الف) شکوفایی بساک و رها شدن دانه‌های گرده؛
ب) انواعی از دانه‌های گرده در مشاهده با میکروسکوپ الکترونی



دانه‌های گرده به وسیلهٔ باد، آب و جانوران در محیط پراکنده و از گلی به گل دیگر منتقل می‌شوند. به انتقال دانهٔ گرده از بساک به کلاله **گرده افشانی** می‌گویند. در صورتی که کلاله گرده را بپذیرد، یاختهٔ رویشی رشد می‌کند و از رشد آن لولهٔ گرده تشکیل می‌شود. لولهٔ گرده به درون بافت کلاله و خامه نفوذ می‌کند و همراه با خود، دو زامه را که از تقسیم یاختهٔ زایشی در لولهٔ گرده ایجاد شده‌اند، به سمت تخمک و کیسهٔ رویانی می‌برد (شکل ۹).

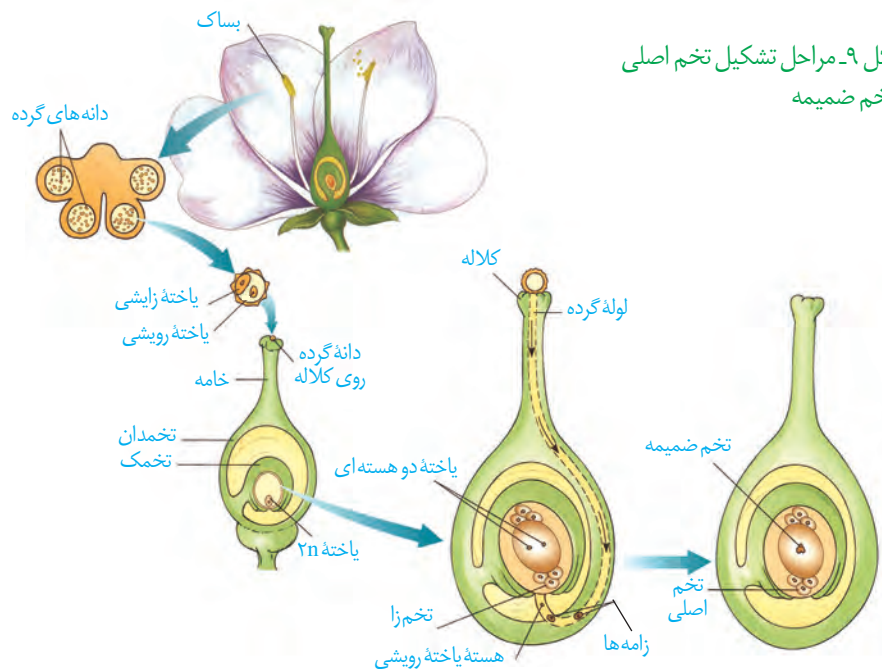
بیشتر بدانید

گرده‌ها

کاروتنوئیدها از ترکیبات دیوارهٔ گرده‌اند؛ به همین علت دانه‌های گرده به رنگ‌های متفاوت زرد، یا نارنجی دیده می‌شوند. دانه‌های گرده به علت داشتن پروتئین و چربی، منبع غذایی جانوران گرده افشان نیز هستند. امروزه یکی از زمینه‌های پژوهشی در دنیای علم، شناسایی ترکیبات دانه‌های گرده و بررسی اثر آنها بر سلامت انسان است.



شکل ۹- مراحل تشکیل تخم اصلی و تخم ضمیمه



واژه‌شناسی

درون دانه (endosperm/آندوسپرم) endo به معنای درون و sperm به معنی دانه است. بافت ذخیره‌ای درون دانه با این نام خوانده می‌شود که واژه درون دانه با تعریف علمی آن مطابقت دارد.

از آمیزش یکی از زامه‌ها با یاخته تخم‌زا، تخم اصلی تشکیل می‌شود. این تخم به رویان نمو می‌یابد. زامه دیگر با یاخته دو هسته‌ای آمیزش می‌یابد که نتیجه آن تشکیل تخم ضمیمه است. تخم ضمیمه با تقسیم‌های متوالی بافتی به نام درون دانه (آندوسپرم) را ایجاد می‌کند. این بافت از یاخته‌های پارانشیمی ساخته شده و ذخیره غذایی برای رشد رویان است (شکل ۹). همین‌طور که دیدید، دو لقاح رخ می‌دهد، به همین علت گفته می‌شود که نهاندانگان لقاح مضاعف یا دوتایی دارند. اگر هسته تخم ضمیمه تقسیم شود، اما تقسیم سیتوپلاسم انجام نگیرد، بافت درون دانه به صورت مایع دیده می‌شود. شیر نارگیل مثالی از چنین بافتی است. در حالی که بخش گوشتی و سفیدرنگ نارگیل، درون دانه‌ای است که در آن تقسیم سیتوپلاسم نیز انجام شده است (شکل ۱۰).




شکل ۱۰- درون دانه در نارگیل به حالت مایع و جامد است

گل‌ها و گرده افشان‌ها

به نظر شما گل‌ها چه ویژگی‌هایی باید داشته باشند که جانوران را به سمت خود جلب کنند؟ جانورانی که گرده‌ها را از گلی به گل دیگر منتقل می‌کنند، گرده افشان نامیده می‌شوند. بیکر این جانوران، هنگام تغذیه از گل‌ها به دانه‌های گرده آغشته می‌شود و به این ترتیب، دانه‌های گرده را از

شکل ۱۱- گرده افشانی به وسیله جانوران



گلی به گل دیگر منتقل می کنند (شکل ۱۱). رنگ های درخشان، بوهای قوی و شهد گل ها از عوامل جذب جانوران به سمت گل ها هستند.

شکل ۱۳- گل در درخت بلوط که گرده افشانی آن را باد انجام می دهد. چرا تعداد گل در چنین گیاهانی فراوان است؟



زنبورهای عسل گلهایی را گرده افشانی می کنند که شهد آنها قند فراوانی داشته باشد؛ همچنین این گل ها علائمی دارند که فقط در نور فرابنفش دیده می شوند و زنبور را به سوی شهد گل هدایت می کنند (شکل ۱۲).

گرده افشانی بعضی گیاهان وابسته به باد است. این گیاهان تعداد فراوانی گل های کوچک تولید می کنند و فاقد رنگ های درخشان، بوهای قوی و شیره اند (شکل ۱۳).

شکل ۱۲- گل قاصد آن طور که ما می بینیم (الف) آن طور که زنبور می بیند (ب).



(ب)



(الف)

الف) بعضی گرده افشان ها، مانند خفاش در شب تغذیه می کنند. به نظر شما گل هایی که به وسیله این جانوران گرده افشانی می شوند، چه ویژگی هایی دارند؟ با مراجعه به منابع معتبر درستی نظر خود را بررسی و نتیجه را گزارش کنید.

ب) با توجه به ویژگی گل ها در گیاهانی که با جانوران یا باد گرده افشانی می شوند، نوع گرده افشانی را در گیاهان محیط پیرامون خود پیش بینی و گزارش کنید.

فعالیت ۵

بیشتر بدانید

گل های فریب کار!

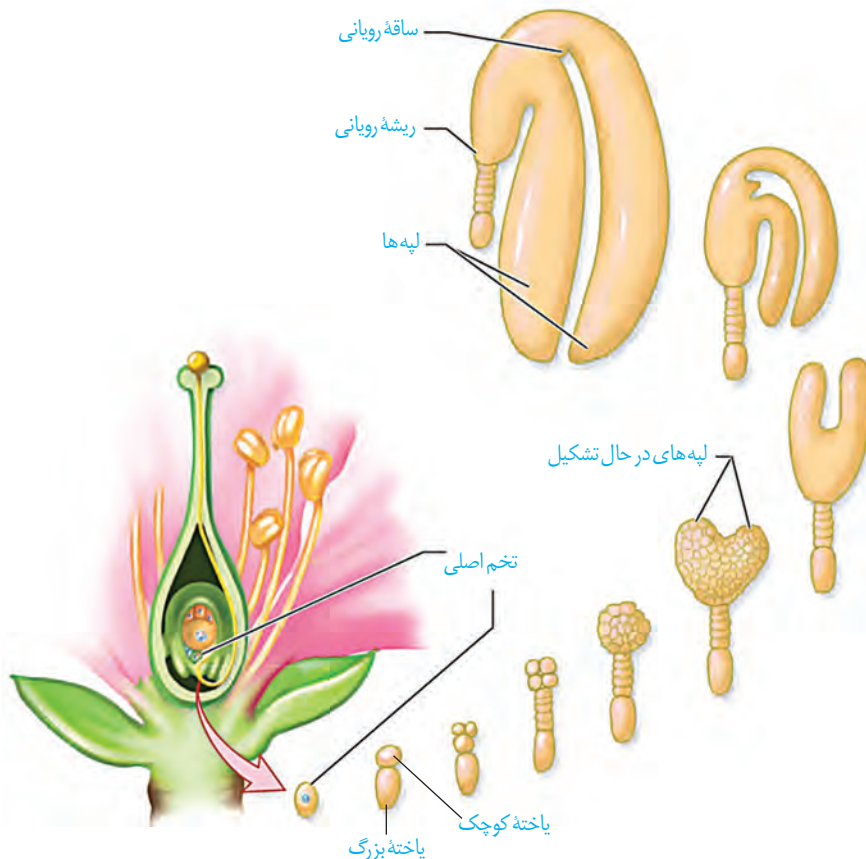
بعضی گل ها حشرات را فریب می دهند. مثلاً گل رافلزیا بوی گوشت گندیده می دهد و مگس ها را به سمت خود می کشاند. مگس ها چیزی گیرشان نمی آید، اما وقتی از روی گل بلند می شوند، گرده های آن را با خود به گل دیگر می برند.



گفتیم که تخم اصلی از لقاح یکی از زامه‌ها با یاخته تخم‌زا تشکیل می‌شود. تخم چه مرحله‌ای را طی می‌کند تا به یک گیاه جدید تبدیل شود؟ تشکیل گیاه جدید از یاخته تخم با ایجاد چه ساختارهایی همراه است؟

تخم تقسیم می‌شود

رویوان از تقسیم بی‌درپی یاخته تخم تشکیل می‌شود. در نخستین تقسیم تخم، دو یاخته بزرگ و کوچک ایجاد می‌شود (این تقسیم از چه نوعی است؟). از تقسیم یاخته بزرگ، بخشی به وجود می‌آید که ارتباط بین رویوان و گیاه مادر را ایجاد می‌کند. یاخته کوچک منشأ رویوان است. مراحل تشکیل رویوان را در شکل ۱۴ می‌بینید. لپه‌ها بخشی از رویوان اند. ساقه و ریشه رویوانی نیز در دو انتهای رویوان تشکیل می‌شوند. پوسته تخمک نیز تغییر می‌کند و به پوسته دانه تبدیل می‌شود. بنابراین، دانه شامل پوسته، رویوان و ذخیره غذایی است (شکل ۱۴). ذخیره غذایی هنگام رشد رویوان به مصرف می‌رسد. با توجه به شکل، رویوان از چه بخش‌هایی تشکیل شده است؟



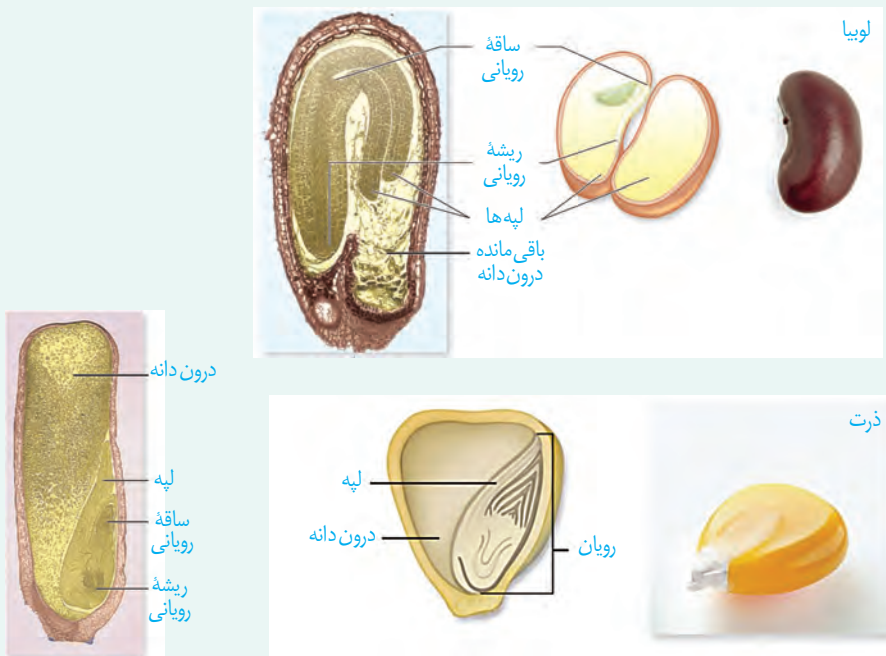
شکل ۱۴- تشکیل رویوان در دانه

ممکن است درون دانه به عنوان ذخیره دانه باقی بماند، یا اینکه جذب لپه‌ها شود؛ مثلاً درون دانه، ذخیره دانه در ذرت است و نقش لپه، انتقال مواد غذایی از درون دانه به رویان در حال رشد است. در دانه لوبیا مواد غذایی درون دانه جذب لپه‌ها و در آنجا ذخیره می‌شوند، در نتیجه لپه‌ها که بزرگ شده‌اند، بخش ذخیره‌ای دانه را تشکیل می‌دهند. به لپه‌ها **برگ‌های رویانی** نیز می‌گویند؛ زیرا در بسیاری از گیاهان گل‌دار از خاک بیرون می‌آیند و به مدت کوتاهی فتوسنتز می‌کنند.

فعالیت ۶

الف) دانه‌هایی مانند لوبیا و ذرت را در شرایط مناسب قرار دهید تا رویش یابند. این کار را چگونه انجام می‌دهید؟ با مشاهده دانه‌های در حال رویش، مشخص کنید ابتدا کدام یک از اندام‌های رویشی از دانه خارج می‌شوند. این مشاهده را برای انواعی از دانه‌های دیگر نیز انجام دهید. نتیجه را به صورت یک گزاره بنویسید.

ب) دانه‌های لوبیا و ذرت را در فواصل زمانی دو روزه، بعد از خیس خوردن از وسط نصف و با استفاده از شکل زیر آنچه را می‌بینید، نام‌گذاری کنید.



رویش دانه

پوسته دانه‌ها معمولاً سخت است. به نظر شما پوسته دانه از چه نوع یاخته‌هایی تشکیل شده است؟ پوسته دانه، رویان را در برابر شرایط نامساعد محیط و صدمه‌های فیزیکی یا شیمیایی حفظ می‌کند و با جلوگیری از ورود آب و اکسیژن به دانه مانع از رشد سریع رویان می‌شود. بعد از تشکیل رویان، رشد آن تا مدتی متوقف می‌شود. رویان در شرایط مناسب رشد خود را از سر می‌گیرد و به صورت گیاهی کوچک که به آن **دانه‌رست** می‌گویند از دانه خارج می‌شود. در این حالت گفته می‌شود که دانه رویش یافته است.

دانه برای رویش به آب، اکسیژن و دمای مناسب نیاز دارد. دانه‌ها با جذب آب متورم می‌شوند و پوسته آنها شکاف برمی‌دارد. در نتیجه اکسیژن کافی به رویان می‌رسد. رویان با استفاده از ذخایر غذایی، رشد و نمو خود را از سر می‌گیرد.

تقسیم سریع یاخته‌های مریستمی به طول ساقه و ریشه می‌افزاید. سه سامانه بافتی نیز در ساقه و ریشه شکل می‌گیرند (آیا سه سامانه بافتی را به یاد دارید؟). در نهان دانگان بر اساس اینکه لپه‌ها درون خاک بمانند یا همراه با ساقه از خاک خارج شوند، به ترتیب **رویش زیر زمینی** و **رویش روزمینی** تعریف شده است (شکل ۱۵).

گیاهان گل دار بعد از مدت زمانی رشد رویشی، یعنی تولید برگ، شاخه و ریشه‌های جدید، گل، میوه و دانه تولید می‌کنند.



(پ)

(ب)

(الف)

شکل ۱۵- الف) رویش دانه ذرت زیرزمینی، ب) رویش دانه لوبیا و پیاز از نوع روزمینی است و پ) باقی مانده دانه پیاز در شکل دیده می‌شود.

میوه

گفتیم که تخمک‌ها به دانه تبدیل می‌شوند. میوه از رشد و نمو بقیه قسمت‌های گل تشکیل می‌شود. میوه‌ای که از رشد تخمدان ایجاد شده، **میوه حقیقی** نامیده می‌شود (شکل ۱۶)؛ اگر در تشکیل میوه قسمت‌های دیگر گل نقش داشته باشند، **میوه کاذب** است. مانند میوه سیب که حاصل رشد نهنج است.



(ب)



(الف)

شکل ۱۶- الف) میوه درخت هلو حاصل رشد تخمدان و ب) میوه درخت سیب حاصل رشد نهنج است.



میوه سیب

رشد نهج

ریزش گلبرگ‌ها

گرده افشانی

فعالیت ۷

برچه‌ها را در میوه‌ها نیز می‌توانیم تشخیص دهیم. در شکل زیر تعدادی میوه از عرض برش خورده‌اند. تعدادی میوه را انتخاب و به طور عرضی برش دهید. در کدام میوه فضای تخمدان با دیواره برچه‌ها به طور کامل تقسیم شده است؟



پراکنش میوه‌ها: میوه‌ها علاوه بر حفظ دانه‌ها در پراکنش آنها نقش دارند. بعضی میوه‌ها به پیکر جانوران می‌چسبند و با آنها جابه‌جا می‌شوند (شکل ۱۷). باد و آب نیز میوه‌ها و دانه‌ها را جابه‌جا می‌کنند. میوه‌های نارس معمولاً مزه ناخوشایندی دارند. در نتیجه دانه‌های نارس تا زمان رسیدگی میوه از خورده شدن به وسیله جانوران حفظ می‌شوند. از طرفی جانوران با خوردن میوه‌های رسیده، در پراکنش دانه‌ها نقش دارند. پوسته بعضی دانه‌ها چنان سخت و محکم است که حتی در برابر شیره‌های گوارشی جانوران سالم می‌مانند. رنگ‌های درخشان میوه‌های رسیده جانوران را به خود جذب می‌کنند.

شکل ۱۷. پراکنش میوه‌ها.



شکل زیر انواعی میوه را نشان می‌دهد. ویژگی‌های هر یک از این میوه‌ها را فهرست و براساس این ویژگی‌ها پیش‌بینی کنید که پراکنش آنها با کمک چه عاملی (باد / جانور) انجام می‌شود. با مراجعه به منابع معتبر درستی نظر گروه را بررسی و نتیجه را گزارش کنید.



میوه‌های بدون دانه: شاید میوه بدون دانه را به میوه‌ای که دانه دارد، ترجیح دهید. اما چگونه میوه بدون دانه ایجاد می‌شود؟ آیا هر میوه‌ای که به آن بدون دانه می‌گوییم، واقعاً بدون دانه است؟ دانستیم بعد از لقاح تخم‌زا و زامه، دانه از رشد و نمو تخمک ایجاد می‌شود؛ بنابراین اگر لقاح انجام نشود، دانه‌ای نیز تشکیل نخواهد شد. پرتقال‌های بدون دانه به این روش ایجاد می‌شوند. برای تشکیل چنین میوه‌ای به تنظیم‌کننده‌های رشد نیاز داریم که در فصل بعد با آنها آشنا می‌شوید. حال اگر لقاح انجام شود، امارویان قبل از تکمیل مراحل رشد و نمو از بین برود، دانه‌های نارس تشکیل می‌شوند که ریزند و پوسته‌ای نازک دارند. به چنین میوه‌هایی نیز، میوه بدون دانه می‌گویند. موزهای بدون دانه از این نوع‌اند. به نظر شما تشکیل میوه‌های بدون دانه در طبیعت، پدیده‌ای رایج است؟



شکل ۱۸- در بعضی موزها دانه‌های ریز و نارس دیده می‌شوند.

عمر گیاهان چقدر است؟

طول عمر گونه‌های متفاوت گیاهی فرق می‌کند و ممکن است از چند روز تا چند قرن باشد. معمولاً طول عمر درخت‌ها که مریستم‌پسین دارند از گیاهان علفی (غیر درختی) بیشتر است. گیاهان را بر اساس طول عمر به چندگروه تقسیم می‌کنند.

گیاهان یک‌ساله: این گیاهان در مدت یک سال یا کمتر، رشد و تولیدمثل می‌کنند و سپس از بین می‌روند. گیاه گندم و خیار از گیاهان یک‌ساله‌اند (شکل ۱۹- الف).

بیشتر بدانید

درختان کهنسال

در مناطق متفاوت ایران درختان کهنسالی زندگی می کنند که طول عمر بعضی از آنها به هزاران سال هم می رسد. چنار ۱۵۰۰ ساله روستای نصرآباد در اطراف شهرستان تفت از استان یزد و گردوی ۱۴۰۰ ساله در روستای کدوکه از توابع فیروزکوه از این درختان اند.

گیاهان دو ساله: این گیاهان در سال اول رشد رویشی دارند و در سال دوم علاوه بر رشد رویشی با تولید گل و دانه رشد زایشی دارند؛ مثلاً گیاهانی مانند شلغم و چغندر قند در سال اول رشد رویشی دارند و مواد حاصل از فتوسنتز در ریشه آنها ذخیره می شوند. در سال دوم ساقه گل دهنده ایجاد می شود و مواد ذخیره شده در ریشه برای تشکیل گل و دانه به مصرف می رسند (شکل ۱۹-ب).

گیاهان چند ساله: این گیاهان سال ها به رشد رویشی خود ادامه می دهند. بعضی از آنها هر ساله می توانند گل، دانه و میوه تولید کنند. درخت ها و درختچه ها از گیاهان چند ساله اند که ممکن است حتی تا چند قرن نیز زندگی کنند. گیاهان علفی چندساله نیز وجود دارد. زنبق مثالی از چنین گیاهانی و دارای زمین ساقه است که در خاک باقی می ماند (شکل ۱۹-پ).



(ت)

(پ)

(ب)

(الف)

شکل ۱۹-الف) خیار، ب) شلغم، پ و ت) زنبق. از رشد جوانه های رویش یافته از زمین ساقه، گیاهان جدیدی ایجاد می شوند.

بیشتر بدانید

انواع میوه

میوه ها در دو گروه کلی آبدار و خشک قرار می گیرند. میوه های آبدار از گوشتی و آبدار شدن بافت های تشکیل دهنده میوه، ایجاد می شوند. مثلاً زردآلو میوه ای آبدار است. در میوه های خشک مانند فندق این اتفاق نمی افتد.



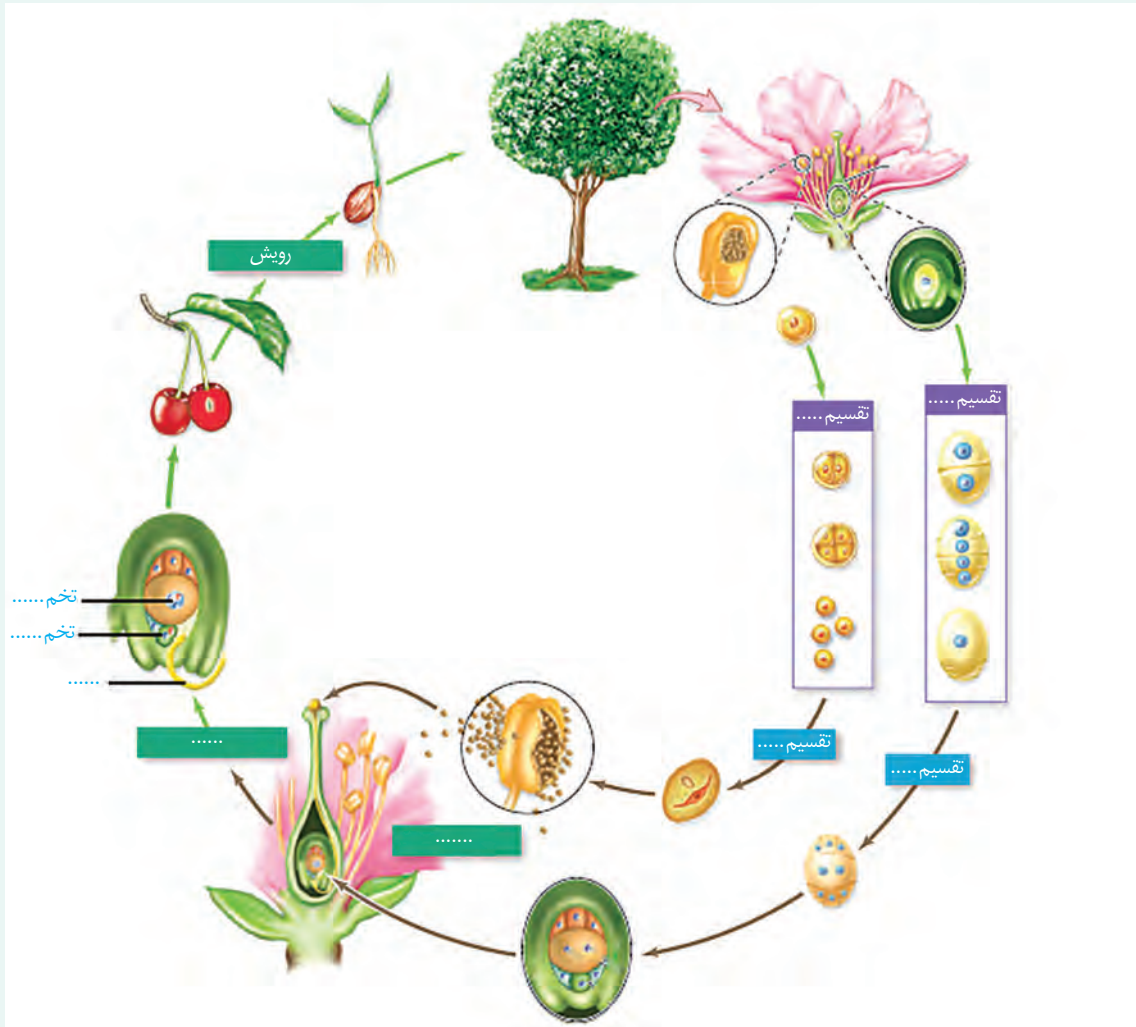
بیشتر بدانید

میوه های مرکب

- آنچه به عنوان میوه توت فرنگی می شناسیم در واقع اجتماعی از میوه های کوچکی است که از رشد برچه های مجزای یک گل ایجاد شده اند. این میوه ها به صورت ذراتی سخت در نهنج آبدار توت فرنگی قرار دارند.
- انجیر تعدادی میوه کوچک است که از رشد مادگی گل های جداگانه ای تشکیل شده است که روی نهنجی مشترک قرار دارند.
- میوه آناناس از آبدار شدن محوری تشکیل شده است که گل ها روی آن قرار دارند.



الف) اکثر گرده افشان ها، حشره اند و گرده افشانی بسیاری از گیاهان کشاورزی و درختان میوه به کمک آنها انجام می شود. درباره عواملی که زندگی حشره های گرده افشان را تهدید می کند، تحقیق و نتیجه را گزارش کنید.
 ب) شکل زیر چرخه زندگی یک گیاه نهان دانه را نشان می دهد. جاهای خالی را با کلمه های مناسب پر کنید.





فصل ۹

پاسخ گیاهان به محرک‌ها

شاید دیده باشید که ساقه به سمت نور و ریشه به سمت زمین رشد می‌کند. گیاهان با تغییر فصل و در نتیجه تغییر دما و طول روز گل می‌دهند، برگ‌های جدید به وجود می‌آورند یا اینکه برگ‌هایشان می‌ریزند. چه عواملی در این پدیده‌ها نقش دارند؟ آیا رشد و نمو گیاهان نیز همانند جانوران تنظیم می‌شود؟

آیا گیاهان به علائمی که از محیط دریافت می‌کنند، پاسخ می‌دهند؟ اگر چنین است، به چه عوامل محیطی واکنش نشان می‌دهند؟



به شکل ۱ نگاه کنید؛ احتمالاً وضعیتی مشابه این شکل را در پیرامون خود دیده‌اید. به نظر شما علت خم شدن گیاه به سمت نور چیست؟ در این حالت چگونه می‌توانیم مانع خم شدن ساقه‌ها شویم؟ آیا طول ساقه در بخش رو به نور با طول ساقه در بخش دور از نور یکسان است؟ خم شدن گیاه به سمت نور، چه تأثیری در ماندگاری گیاه دارد؟

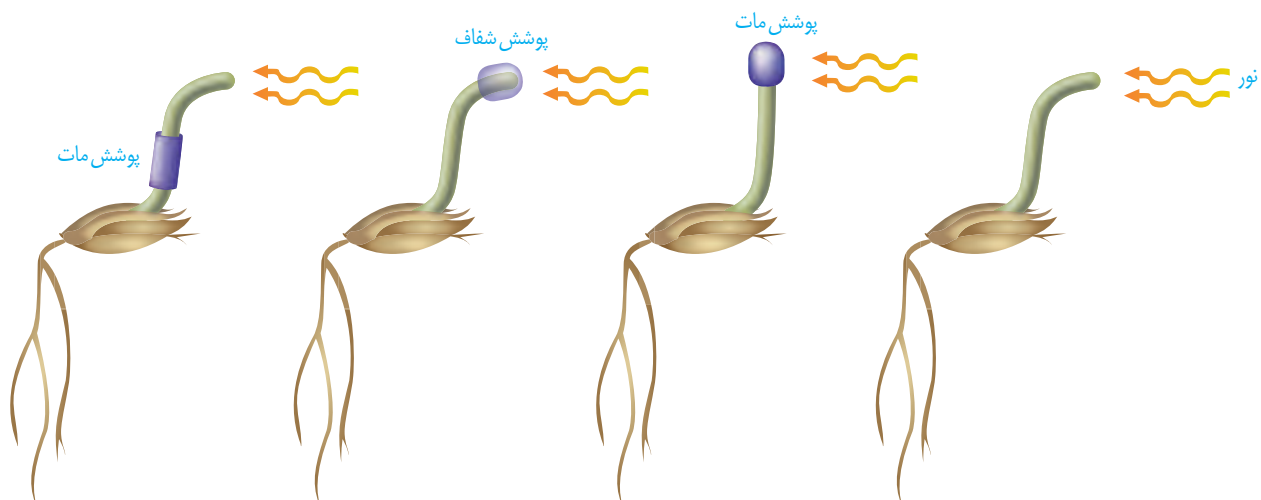


شکل ۱- خم شدن گیاهان به سمت نور.

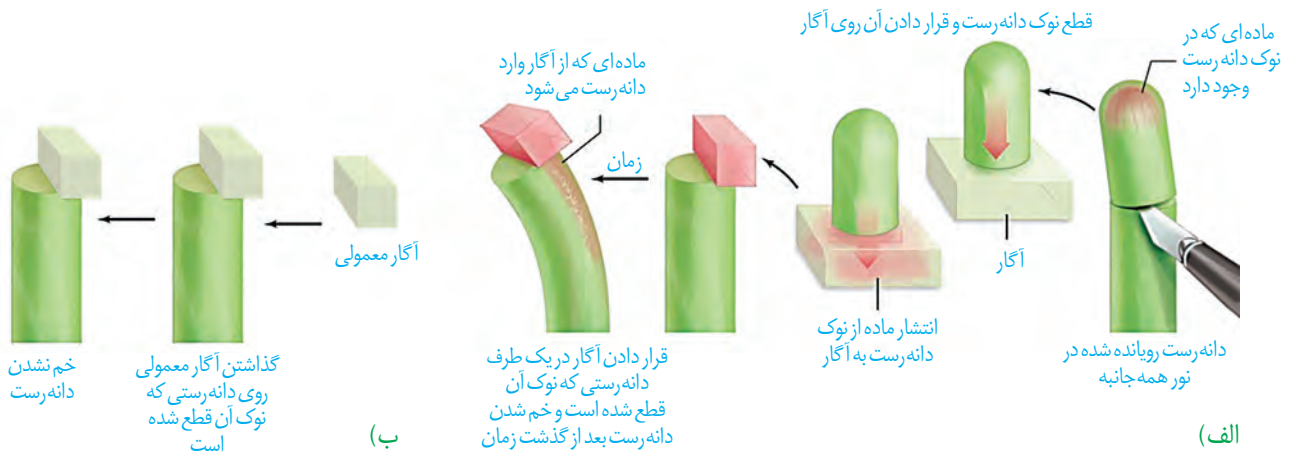
اولین آزمایش

خم شدن گیاهان به سمت نور پدیده‌ای رایج در طبیعت است. چارلز داروین که به مطالعه پدیده حرکت در گیاهان علاقه‌مند بود، برای بررسی این موضوع، همراه با پسرش آزمایش‌هایی را با استفاده از دانه‌رُستِ نوعی گیاه از گندمیان، طراحی و اجرا کرد (شکل ۲). آنها دریافتند دانه‌رُست در صورتی به سمت نور یک جانبه (نوری که از یک طرف به گیاه می‌تابد)، خم می‌شود که نوک آن در برابر نور باشد. با توجه به خم شدن دانه‌رُست به سمت نور یک طرفه، به نظر شما کدام یک از سطوح داخلی یا بیرونی آن رشد بیشتری دارد؟

شکل ۲- آزمایش داروین‌ها با دانه‌رُست چمن. دانه‌رُست در نور همه جانبه به طور مستقیم رشد می‌کند.



بعدها محققان دیگری با انجام آزمایش هایی، نشان دادند که عامل خم شدن دانه رُست به سمت نور، ماده ای است که در نوک آن وجود دارد. به شکل ۳ توجه کنید! در این آزمایش، نوک دانه رُستی را که در نور همه جانبه رشد کرده است، بُریده و برای مدتی روی قطعه ای از آگار قرار داده اند. بعد از مدتی این قطعه آگار را روی لبه دانه رُستی قرار می دهند که نوک آن بریده شده؛ همین طور که می بینید دانه رُست خم شده است (شکل ۳- الف)، در حالی که قرار دادن آگار معمولی روی دانه رُست بدون نوک، سبب خم شدن آن نمی شود (شکل ۳- ب).

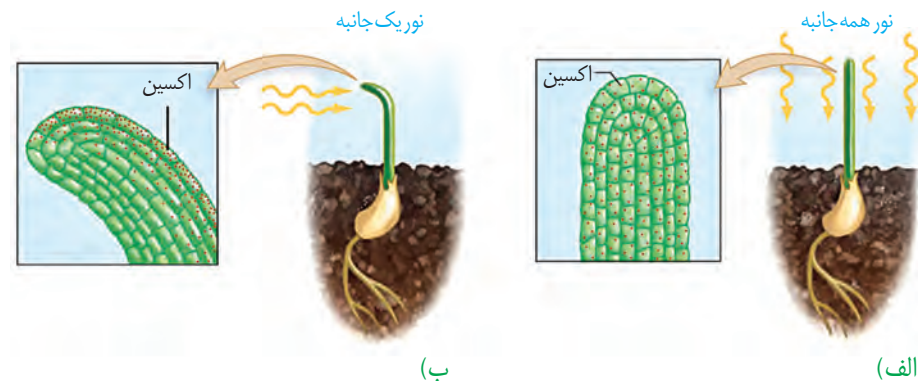


شکل ۳- ماده ای در نوک دانه رُست وجود دارد که عامل خم شدن آن در برابر نور یک جانبه است.

خم شدن دانه رُست به معنای اختلاف اندازه یاخته های دو طرف آن است. مشاهده های میکروسکوپی نیز نشان داد که رشد طولی یاخته ها در سمت سایه بیشتر از یاخته هایی است که در سمت رو به نور قرار دارند. نور یک جانبه باعث جابه جایی این ماده از سمت مقابل نور به سمت سایه (دور از نور) می شود. در نتیجه به علت تجمع این ماده در سمت سایه، رشد طولی یاخته ها در این سمت بیشتر از سمت رو به نور است و در نتیجه دانه رُست خم می شود (شکل ۴). رشد جهت دار اندام های گیاه در پاسخ به نور یک جانبه را **نورگرایی** نامیدند. سرانجام ترکیب شیمیایی این ماده شناسایی و **اکسین**، به معنای «رشد کردن» نامیده شد. پژوهش های بیشتر نشان داد که انواعی از ترکیبات مشابه اکسین در گیاهان متفاوت ساخته می شوند که اثرات مشابه دارند؛ بنابراین، نام اکسین ها را به این گروه از ترکیبات دادند.

بیشتر بدانید

آگار ترکیبی است که از جلبک های قرمز به دست می آید و در ترکیب با آب، زله ایجاد می کند. از آگار در صنایع غذایی، دارویی، کشت بافت و یاخته و بسیاری صنایع دیگر استفاده می شود.



شکل ۴- تابش نور سبب تجمع اکسین در سمت سایه می شود.

بیشتر بدانید

کاربرد اکسین

دانه‌های در حال نمو اکسین تولید می‌کنند؛ بنابراین، در رشد میوه و درشت شدن آن نقش دارند. بعضی گوجه‌فرنگی‌های گلخانه‌ای، دانه‌های فراوانی تولید نمی‌کنند، در نتیجه میوه رشد چندانی ندارد. به همین علت با افشانه کردن اکسین روی گوجه‌فرنگی‌ها، رشد مطلوب را در آنها ایجاد می‌کنند.


کشف اکسین سرآغازی برای شناسایی ترکیبات دیگری بود که رشد و فعالیت‌های گیاهان را تنظیم می‌کنند. این ترکیبات را **تنظیم‌کننده‌های رشد** یا **هورمون‌های گیاهی** نامیدند. انواعی از تنظیم‌کننده‌های رشد در گیاهان تولید می‌شوند. اکسین‌ها، سیتوکینین‌ها، جیبرلین‌ها، اتیلن و آبسیزیک اسید پنج تنظیم‌کننده رشد هستند که در ادامه با آنها آشنا می‌شوید.

محرك‌های رشد

اکسین‌ها، سیتوکینین‌ها و جیبرلین‌ها در فرایندهای رشد مانند تحریک تقسیم یاخته، رشد طولی یاخته‌ها، ایجاد و حفظ اندام‌ها نقش دارند. گرچه این تنظیم‌کننده‌ها را به عنوان محرک رشد می‌شناسیم؛ اما بر اساس مقدار و محل اثر ممکن است نقش باز دارندگی نیز داشته باشند. در ادامه به عملکرد هر یک از این تنظیم‌کننده‌ها می‌پردازیم.

اکسین‌ها

اکسین با افزایش رشد طولی یاخته‌ها، سبب افزایش طول ساقه می‌شود. اکسین ریشه‌زایی را تحریک می‌کند؛ بنابراین، برای تکثیر روبشی گیاهان با استفاده از قلمه به کار می‌رود (شکل ۵). اکسین‌ها را برای تشکیل میوه‌های بدون دانه و درشت کردن میوه‌ها نیز به کار می‌برند.



شکل ۵- تأثیر اکسین بر ایجاد ریشه

بعد از کشف ساختار شیمیایی اکسین‌ها، این ترکیبات به طور مصنوعی ساخته و پژوهش‌هایی برای شناسایی اثر آنها بر گیاهان انجام شدند. محققان دریافتند که بعضی از این ترکیبات، گیاهان دو لپه‌ای را از بین می‌برند؛ بنابراین، آنها را برای ساختن سموم کشاورزی به منظور از بین بردن گیاهان خودرو در مزارعی مانند مزرعه گندم، به کار بردند. **عامل نارنجی** که مخلوطی از اکسین‌ها بود، چنین اثری داشت. ایالات متحده آمریکا در جنگ با ویتنام به مدت ده سال عامل نارنجی را به کار برد. در نتیجه بخشی از جنگل‌های ویتنام که مخفی‌گاه مبارزان بود و نیز زمین‌های کشاورزی آنها از بین

بیشتر بدانید

بعضی بر این باورند که نباید واژه هورمون را برای تنظیم کننده های رشد به کار بریم؛ زیرا معمولاً هورمون در یک محل تولید و بر محلی دیگر تأثیر می گذارد، در حالی که ممکن است محل تولید و تأثیر تنظیم کننده های رشد در گیاهان یکی باشد. همچنین تنظیم کننده های گیاهی در غلظت های متفاوت می توانند یک فرایند را در اندامی مهار یا تحریک کنند. با این حال واژه هورمون گیاهی (Phytohormone) همچنان به کار می رود.

رفت. تولید عامل نارنجی با اتمام این جنگ، ممنوع شد؛ اما چند دهه طول کشید تا جنگل ها احیا شوند. سرطان و تولد نوزادان با نقص های مادرزادی از اثرهای این ماده بود.

سیتوکینین ها: هورمون جوانی

سیتوکینین ها با تحریک تقسیم یاخته ای و در نتیجه ایجاد یاخته های جدید، پیر شدن اندام های هوایی گیاه را به تأخیر می اندازند. به همین علت با افشانه کردن سیتوکینین روی برگ و گل ها آنها را تازه نگه می دارند. سیتوکینین ها هورمون ساقه زایی نیز نامیده می شوند. به کارگیری این هورمون در کشت بافت، سبب ایجاد ساقه از یاخته های تمایز نیافته می شود.

شاخه و برگ های بیشتر: برهم کنش دو تنظیم کننده

اگر بخواهید گیاهی پر شاخ و برگ تر داشته باشید، چه کار می کنید؟ احتمالاً سرشاخه ها را که محل جوانه های رأسی (انتهایی) اند، قطع می کنید. همان طور که در شکل ۶-ب می بینید با قطع جوانه رأسی، جوانه های جانبی رشد، و شاخه و برگ جدید ایجاد کرده اند. به اثر بازدارندگی جوانه رأسی بر رشد جوانه های جانبی، چیرگی رأسی می گویند. با قطع جوانه رأسی مقدار سیتوکینین در جوانه های جانبی افزایش و مقدار اکسین آنها کاهش می یابد، در نتیجه جوانه های جانبی رشد می کنند. اگر بعد از قطع جوانه رأسی، در محل برش، اکسین قرار دهیم؛ جوانه های جانبی رشد نمی کنند (شکل ۶-پ). این آزمایش نشان می دهد که اکسین از جوانه رأسی به جوانه های جانبی می رود و مانع از رشد آنها می شود.



شکل ۶- جوانه رأسی مانع از رشد جوانه های جانبی می شود.

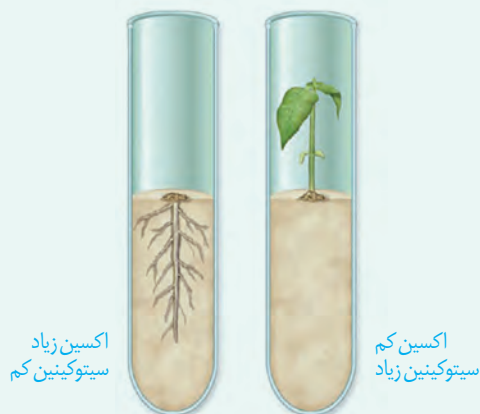
پ) حذف جوانه انتهایی

ب) ایجاد شاخه های جدید

الف) رشد کم جوانه های جانبی

فعالیت ۱

شکل روبه‌رو تمایز ریشه و ساقه را از یک توده یاخته تمایز نیافته یا همان کال در حضور مقدار متفاوت اکسین و سیتوکینین، در محیط کشت نشان می‌دهد. از این شکل چه نتیجه‌ای می‌گیرید؟



جیبرلین‌ها: تلاش برای رفع مشکل

کشف جیبرلین‌ها حاصل تلاش دانشمندان ژاپنی در بررسی نوعی بیماری قارچی بود که دانه‌زست‌های برنج به آن مبتلا می‌شدند. آلودگی دانه‌زست‌ها به قارچ جیبرلا سبب می‌شد تا به سرعت رشد کنند. این دانه‌زست‌ها باریک و دراز بودند و بافت استحکامی کافی نداشتند، در نتیجه خم می‌شدند و روی زمین می‌افتادند. مسلماً چنین بیماری سبب کاهش محصول برنج و در نتیجه زیان‌های فراوان بود. دانشمندان با استخراج و شناسایی ترکیبات به دست آمده از قارچ جیبرلا، توانستند جیبرلین‌ها را شناسایی و معرفی کنند. پس از آن مشخص شد که جیبرلین‌ها در گیاهان نیز تولید می‌شوند و رشد و فعالیت‌های آنها را کنترل می‌کنند. این تنظیم‌کننده‌های رشد در افزایش طول ساقه از طریق تحریک رشد طولی یاخته و تقسیم آن، رشد میوه و رویش دانه‌ها نقش دارند؛ این هورمون گیاهی را برای تولید میوه‌های بدون دانه و درشت کردن میوه‌ها به کار می‌برند (شکل ۷).



ب) درشت شدن میوه

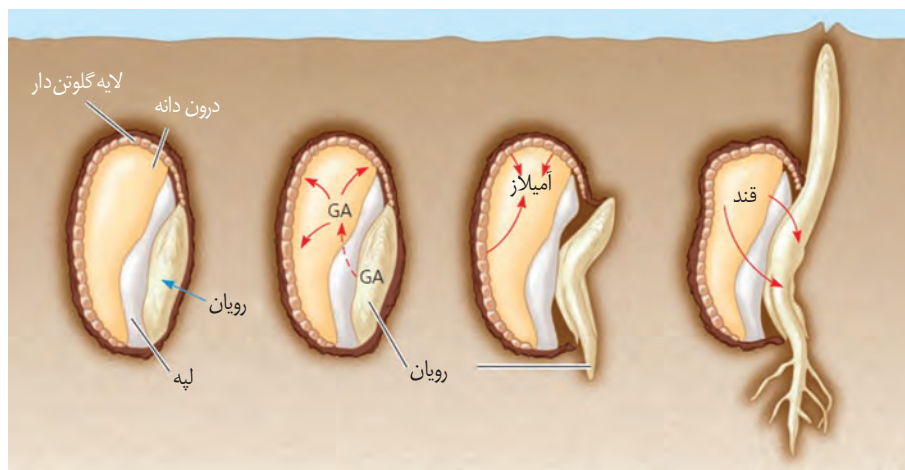


الف) افزایش طول ساقه

شکل ۷- اثر جیبرلین بر گیاهان
بوته‌ای (الف) و میوه‌ها (ب).

جیبرلین ها و رویش بذر غلات: رویان غلات در هنگام رویش دانه، مقدار فراوانی جیبرلین می سازند. این هورمون بر خارجی ترین لایه درون دانه (لایه گلوتن دار) اثر می گذارد و سبب تولید و رهاسدن آنزیم های گوارشی در دانه می شود (شکل ۸). این آنزیم ها دیواره یاخته ها و ذخایر درون دانه را تجزیه می کنند. نشاسته یکی از این ذخایر است که بر اثر آنزیم آمیلاز تجزیه می شود.

شکل ۸- جیبرلین ها در تجزیه ذخایر رویان غلات نقش دارند. GA: جیبرلیک اسید



بیشتر بدانید

نام گذاری نادرست

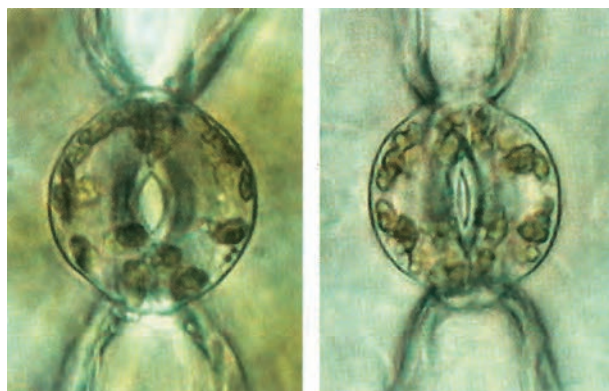
آبسیزیک اسید از واژه Abscission به معنای ریزش گرفته شده است. پژوهشگران ابتدا بر این باور بودند که این ماده عامل ریزش برگ هاست. پژوهش های بیشتر نشان داد که این ترکیب نقشی در ریزش برگ ها ندارد؛ اما نام آبسیزیک اسید برای این تنظیم کننده رشد باقی ماند.

بازدارنده های رشد

آبسیزیک اسید و اتیلن دو تنظیم کننده رشدند که در فرایندهای متفاوتی مانند مقاومت گیاه در شرایط سخت، رسیدگی میوه ها، ریزش برگ و میوه نقش دارند.

آبسیزیک اسید: مقابله با شرایط نامساعد

فرض کنید محیط رطوبت کافی برای تأمین آب مورد نیاز برای رشد دانه رُست را نداشته باشد. اگر دانه در این شرایط رویش یابد، چه بر سر دانه رُست می آید؟ اگر گیاه در شرایط خشکی قرار گیرد و روزنه ها همچنان باز بمانند چه چیزی رُخ می دهد؟ شرایط نامساعد محیط مانند خشکی، تولید آبسیزیک اسید را در گیاهان تحریک می کند. آبسیزیک اسید سبب بسته شدن روزنه ها و در نتیجه حفظ آب گیاه و همچنین مانع رویش دانه و رشد جوانه ها در شرایط نامساعد می شود. به طور کلی این تنظیم کننده، رشد گیاهان را در پاسخ به شرایط نامساعد، کاهش می دهد (شکل ۹).



روزنه باز

روزنه بسته

شکل ۹- حفظ آب گیاه با بسته شدن روزنه ها.

اتیلن: رسیدن میوه ها

شاید شما هم شنیده باشید که برای رسیدن میوه های نارس می توانید در پاکت میوه ها، یک سیب یا

بیشتر بدانید

تغییر در ژن‌ها

این گل‌های اطلسی در یک زمان چیده شده و به مدت ۱۸ ساعت در محیط اتیلن‌دار قرار گرفته‌اند. همان‌طور که می‌بینید بعضی پژمرده و بعضی همچنان شاداب‌اند. گل‌های شاداب متعلق به گیاهی است که با دستکاری ژنی، نسبت به اتیلن غیرحساس شده‌اند.



شکل ۱۰- گوجه فرنگی‌های هر دو جعبه در یک زمان چیده شده، اما گوجه فرنگی‌های سمت راست، سه روز در محیط اتیلن‌دار بوده‌اند.

موز رسیده قرار دهید. از میوه رسیده چه چیزی خارج می‌شود که باعث رسیدگی میوه‌های نارس می‌شود؟ دانشمندان در پژوهش‌های خود دریافتند که از میوه‌های رسیده اتیلن آزاد می‌شود و مقدار اتیلن با رسیدن میوه افزایش می‌یابد. اتیلن گازی است که از سوخت‌های فسیلی نیز رها می‌شود. سال‌ها قبل از آنکه دانشمندان بدانند گیاهان اتیلن تولید می‌کنند، معلوم شده بود که اتیلن حاصل از سوخت‌های فسیلی باعث ریزش برگ درختان می‌شود. اتیلن در ریزش میوه نیز نقش دارد. بافت‌های آسیب دیده گیاهان نیز اتیلن تولید می‌کنند. گاهی میوه‌ها را نارس می‌چینند و زمانی که می‌خواهند آنها را در بازار پخش کنند، به مدت مشخصی، در محیط اتیلن‌دار قرار می‌دهند تا رسیده شوند (شکل ۱۰).



ردپای اتیلن در چیرگی رأسی

دیدید که اکسین، عامل چیرگی رأسی است و مانع رشد جوانه‌های جانبی در حضور جوانه رأسی یا انتهایی می‌شود. اکسین جوانه رأسی، تولید اتیلن در جوانه‌های جانبی را تحریک می‌کند و در نتیجه با افزایش اتیلن در جوانه‌های جانبی، رشد آنها متوقف می‌شود.

ریزش برگ

برگ هنگامی می‌ریزد که ارتباط آن با شاخه قطع شده باشد. با توجه به شناختی که از ساختار یاخته‌ها و بافت‌های گیاهی دارید آیا می‌توانید تغییراتی را که در ساختار برگ رخ می‌دهد، پیش‌بینی کنید؟ اگر بنا باشد که ارتباط برگ با شاخه قطع شود باید یاخته‌ها از هم جدا شوند. مشاهدات میکروسکوپی نشان می‌دهد که در قاعده دم‌برگ در محل اتصال به شاخه، لایه جداکننده تشکیل می‌شود. یاخته‌ها در این منطقه به علت فعالیت آنزیم‌های تجزیه‌کننده از هم جدا می‌شوند و به تدریج از بین می‌روند، در

بیشتر بدانید

تنظیم‌کننده‌های دیگر

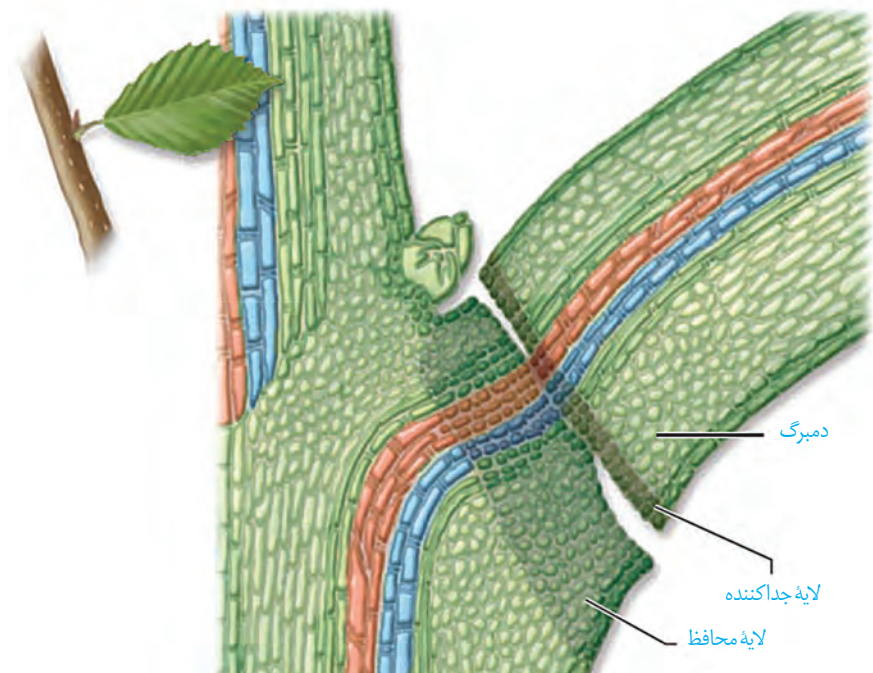
انواع دیگری از ترکیبات تنظیم‌کننده در گیاهان وجود دارد. براسینوستروئیدها، جاسمونات‌ها و سالیسیلیک اسید از این ترکیبات‌اند.

بیشتر بدانید

ترکیباتی مشابه هورمون‌های جانوری

ترکیباتی در سویا وجود دارد که شبیه هورمون‌های جنسی‌اند. یکی از آنها ترکیبات شبه استروژنی است. پژوهش‌ها نشان می‌دهد که سرطان پروستات در کشورهای شرق دور که استفاده فراوانی از فرآورده‌های غذایی سویا (لوبیای روغنی) دارند، کمتر از کشورهای دیگر است. همچنین از فرآورده‌های سویا داروهایی برای کاهش علائم یائسگی ساخته می‌شود.

نتیجه برگ از شاخه جدا می‌شود. با چوب پنبه‌ای شدن یاخته‌هایی از شاخه که در محل اتصال به دم‌برگ قرار دارند، لایه محافظی در برابر محیط بیرون ایجاد می‌شود (شکل ۱۱). مشخص شده است که برگ در پاسخ به افزایش نسبت اتیلن به اکسین، آنزیم‌های تجزیه‌کننده دیواره را تولید می‌کند.



شکل ۱۱- ریزش برگ با تشکیل لایه جداکننده.

فعالیت ۲

یکی از دلایل خراب شدن میوه‌ها هنگام ذخیره یا انتقال، تولید اتیلن در آنهاست. برای رفع این مشکل، ترکیباتی به کار می‌برند که با اتصال به گیرنده‌های اتیلن که در یاخته وجود دارند، سبب توقف فرایند رسیدگی می‌شوند. اکنون زیست‌شناسان در تلاش‌اند با تغییر در ژن، گیاهان را نسبت به اتیلن غیر حساس کنند. به نظر شما این ایده برای گیاهان میوه‌دار مناسب است؟ برای پاسخ خود دلیل ارائه دهید.

فعالیت ۳

با توجه به اینکه فرمول شیمیایی تنظیم‌کننده‌های رشد گیاهی شناخته شده است، این ترکیبات به طور مصنوعی ساخته می‌شوند و برای تولید و نگهداری محصولات کشاورزی به کار می‌روند. به نظر شما آیا این ترکیبات می‌توانند سلامت انسان و محیط زیست را تهدید کنند؟

شاید توجه کرده باشید که درختان با کاهش سرما گل می‌دهند، یا اینکه گلبرگ‌های بعضی گیاهان در شب بسته می‌شوند. آیا می‌توانید مثال‌های دیگری نیز دربارهٔ پاسخ گیاهان به شرایط محیطی ارائه دهید؟ در ادامه انواعی از این پاسخ‌ها را بررسی می‌کنیم.

پاسخ به نور

دیدیم که ساقه به سمت نور یک جنبه خم می‌شود. آیا پاسخ ریشه به نور یک جنبه، همانند ساقه است؟ می‌دانید که نقش نور در گیاهان، حیاتی است؛ اما نور افزون بر نقشی که در فتوسنتز دارد، فرایندهای متفاوتی را در گیاهان تنظیم می‌کند. گل‌دهی یکی از این فرایندهاست که در ادامه به آن می‌پردازیم.

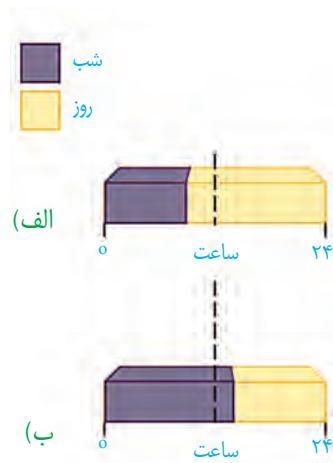
فعالیت ۴

الف) پیش‌بینی می‌کنید که پاسخ ریشه به نور یک جنبه چه باشد؟
 ب) برای بررسی درستی پیش‌بینی خود، آزمایشی طراحی کنید.
 پ) آزمایشی را که طراحی کرده‌اید با چند گیاه انجام و نتیجه را گزارش دهید.

گل‌دهی در گیاهان

گیاهانی که در محل زندگی خود می‌بینید، در چه فصل یا فصل‌هایی گل می‌دهند؟ چرا بعضی گیاهان در فصلی خاص و بعضی در همهٔ فصل‌ها گل می‌دهند؟ اگر بخواهیم گیاهی را که در تابستان گل می‌دهد، مثلاً در پاییز و آذر به گل‌دهی کنیم، آن را باید در چه شرایطی قرار دهیم؟ گیاه هنگامی گل می‌دهد که مریستم رویشی که در جوانه قرار دارد، به مریستم گل یا زایشی تبدیل شود. این تبدیل به شرایط محیطی مانند دما و طول روز و شب وابسته است. گیاهان را براساس نیاز به نور، برای گل‌دهی در سه دستهٔ **روز کوتاه، روز بلند و بی‌تفاوت** قرار می‌دهند. گیاه داوودی در روزهای کوتاه پاییز گل می‌دهد. در واقع این گیاه برای گل دادن به شب‌های طولانی نیاز دارد و زمانی گل می‌دهد که طول شب از حدی کمتر نباشد. شبدر که در تابستان گل می‌دهد، روز بلند است. این گیاه برای گل دادن به شب‌های کوتاه نیاز دارد و زمانی گل می‌دهد که طول شب از حدی بیشتر نباشد (شکل ۱۲). آگاهی از تأثیر نور بر گل‌دهی به پرورش‌دهندگان گل امکان داد تا با ایجاد شرایط نوری مصنوعی بتوانند در همهٔ فصل‌ها، گل‌هایی با نیازهای نوری متفاوت پرورش دهند.

به هر حال گل دادن بعضی گیاهان وابسته به طول شب و روز نیست. چنین گیاهانی را **بی‌تفاوت** می‌نامند؛ گیاه گوجه فرنگی از این گروه است.



شکل ۱۲- گل دهی در گیاه روز بلند و روز کوتاه.

فعالیت ۵

با توجه به شکل مقابل و شکل ۱۲-ب

توضیح دهید که شکستن شب با یک

جرعه نوری چه تأثیری بر گل دهی گیاه روز کوتاه دارد.




پاسخ به دما

گیاهان هر دمایی را نمی‌توانند تحمل کنند. مثلاً سرمای شدید می‌تواند مانع از رویش دانه‌ها و جوانه‌ها شود. برگ بعضی درختان با کاهش دما در فصل پاییز می‌ریزد و جوانه‌ها با برگ‌های پولک ماندنی حفظ می‌شوند.

دیدیم که گیاهان برای گل دادن نیازهای نوری متفاوتی دارند. بعضی گیاهان برای گل دادن نیاز به گذراندن یک دوره سرما نیز دارند. مثلاً برای نوعی گیاه گندم مشاهده شده است که اگر بذر آن را مرطوب کنیم و در سرما قرار دهیم، دوره رویشی آن کوتاه می‌شود و زودتر گل می‌دهد. کشف این ویژگی در گیاهان، امکان بهره‌برداری از زمین‌هایی را فراهم کرد که اکثر سال با برف و یخ پوشیده شده‌اند.

پاسخ به گرانش زمین

آیا گرانش زمین بر جهت رشد ساقه و ریشه اثر دارد؟ به شکل ۱۳ نگاه کنید. همان‌طور که می‌بینید ساقه در خلاف جهت گرانش و ریشه در جهت گرانش زمین رشد می‌کند. رشد جهت‌دار اندام‌های گیاه به گرانش زمین، **زمین‌گرایی** نامیده می‌شود. می‌توانید با طراحی و اجرای آزمایش‌هایی، زمین‌گرایی را در انواعی از دانه‌رست‌ها بررسی کنید.



شکل ۱۳- تأثیر گرانش زمین بر جهت رشد ریشه و ساقه.

پاسخ به تماس

در شکل ۱۴ مثال هایی از پاسخ گیاهان به تماس را مشاهده می کنید. شاید بعضی گیاهان را دیده باشید که به دور گیاهان دیگر یا یک پایه می پیچند. مثلاً ساقه درخت مو در تماس با درختی دیگر و یا پایه، به دور آن می پیچد. پیچش به علت تفاوت رشد ساقه در بخش قرار گرفته روی تکیه گاه و سمت مقابل آن ایجاد می شود؛ به طوری که رشد یاخته ها در محل تماس کاهش می یابد. ضربه زدن به برگ گیاه حساس، باعث تا شدن برگ می شود. این پاسخ به علت تغییر فشار تورژسانس در یاخته هایی رخ می دهد که در قاعده برگ قرار دارند. برگ تله مانند گیاه گوشتخوار کرک هایی دارد که با برخورد حشره به آنها تحریک و پیام هایی را به راه می اندازند که سبب بسته شدن برگ و در نتیجه به دام افتادن حشره می شود.



(الف)



(ب)

(ب)

شکل ۱۴- الف) پیچش ساقه مو،
ب) روی هم تا شدن برگچه های
گیاه حساس،
پ) بسته شدن برگ گیاه گوشت خوار
با برخورد حشره.

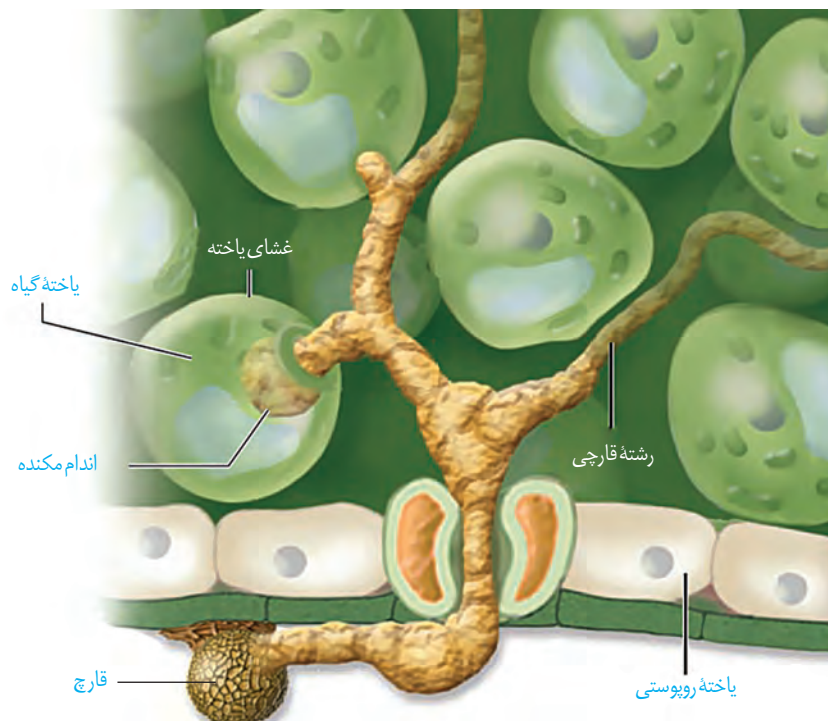
پاسخ هایی از جنس دفاع

گیاهان در معرض هجوم عوامل بیماری زا و جانوران گیاهخوار قرار دارند. شاید نام بیماری هایی مانند زنگ گندم یا سیاهک گندم را شنیده باشید. این عوامل سبب تخریب محصولات کشاورزی می شوند. به هر حال گیاهان در برابر آنها بی دفاع نیستند. به نظر شما گیاهان چگونه از خود دفاع می کنند؟

تلاش برای جلوگیری از ورود

می دانید روپوست، خارجی ترین سامانه بافتی در بخش های جوان گیاه است و در بخش های هوایی گیاه با پوستک پوشیده شده است. نقش پوستک را به یاد دارید؟ پوستک تا حدودی مانع از نفوذ عوامل بیماری زا به گیاه می شود. همچنین دیواره یاخته ای محکم است و عبور از آن کار آسانی نیست. وجود ترکیباتی مانند لیگنین یا سیلیس در دیواره به سخت شدن آن و در نتیجه افزایش توان

این سد فیزیکی کمک می‌کند. با این حال عوامل بیماری‌زایی می‌توانند با عبور از منفذ روزنه‌ها یا فضای بین یاخته‌ها از این سد بگذرند (شکل ۱۵).



شکل ۱۵- پوستک، سدی در برابر ورود عوامل بیماری‌زاست.

بافت چوب پنبه نیز در اندام‌های مسن گیاهان، علاوه بر حفظ آب، مانعی در برابر عوامل آسیب‌رسان است.

شکل ۱۶- الف) خارها گیاهان را از خورده شدن به وسیله گیاهخواران حفظ می‌کنند. ب) مواد چسبناک در سطح گیاه که به حشره چسبیده‌اند.

کرک و خار نیز در دفاع از گیاهان نقش دارند (شکل ۱۶). مثلاً حشره‌های کوچک نمی‌توانند روی برگ‌های کرک‌دار به راحتی حرکت کنند؛ همچنین اگر گیاه مواد چسبناک ترشح کند، حرکت حشره دشوارتر و گاه غیرممکن می‌شود.



(ب)



(الف)

بعضی گیاهان در پاسخ به زخم، ترکیباتی ترشح می کنند که در محافظت از آنها نقش دارند. گاه حجم این ترکیبات آن قدر زیاد است که حشره در آن به دام می افتد. با سخت شدن این ترکیبات، سنگواره هایی ایجاد می شود که حشره در آن حفظ شده است (شکل ۱۷).



شکل ۱۷- سنگواره تشکیل شده از ترشحات گیاه و حشره

دفاع شیمیایی: گیاهان ترکیباتی تولید می کنند که سبب مرگ یا بیماری گیاه خواران می شوند. ترکیبات سیانید دار از این گروه اند که در تعدادی از گونه های گیاهی ساخته می شوند. سیانید تنفس یاخته ای را متوقف می کند.

آلکالوئیدها در دور کردن گیاهخواران نقش دارند. نیکوتین که از آلکالوئیدهاست، چنین نقشی در گیاه تنباکو دارد.

اگر ترکیباتی که گیاه می سازد، جانور را نکشد، آن را مسموم می کند و جانور از خوردن دوباره آن پرهیز می کند. جالب است که چنین ترکیباتی برای خود گیاه مرگبار نیستند؛ به نظر شما گیاه با چه سازوکاری خود را در برابر این ترکیبات حفظ می کند؟

مشخص شده است که گیاهان سازوکارهای متفاوتی برای جلوگیری از اثر این مواد بر فرایندهای یاخته ای خود دارند. یکی از این سازوکارها تولید ترکیباتی است که در خود گیاه سمی نیستند؛ بلکه در لوله گوارش جانوران تجزیه و به ماده سمی تبدیل می شوند. مثلاً گیاه ترکیب سیانید داری می سازد که تأثیری بر تنفس یاخته ای ندارد؛ اما وقتی جانور گیاه را می خورد، این ترکیب تجزیه و سیانید که سمی است از آن جدا می شود.

بیشتر بدانید

گون سمی

گون ها گیاهانی بوته ای اند و در مراتع می رویند. نوعی گون که به گون سمی مشهور است، ترکیبات آلکالوئیدی دارد که بر دستگاه عصبی تأثیر می گذارد. اگر دام ها از این گیاه تغذیه کنند، سست می شوند و از غذا خوردن باز می مانند.



بعضی گیاهان با تولید موادی که برای گیاهان دیگر سمی اند، از رویش دانه یا رشد گیاهان دیگر در اطراف خود جلوگیری می کنند. به نظر شما این ویژگی چه نقشی در ماندگاری چنین گیاهانی دارد؟

فعالیت ۶

مرگ یاخته‌ای

مرگ یاخته‌ای یکی دیگر از پاسخ‌های دفاعی در گیاهان است. فرض کنید نوعی ویروس بیماری‌زا توانسته است به گیاه نفوذ کند. ورود ویروس در گیاه فرایندهایی را به راه می‌اندازد که نتیجه آن، مرگ یاخته‌های آلوده و قطع ارتباط آنها با بافت‌های سالم است. در نتیجه ویروس نمی‌تواند در بافت‌های سالم گیاه تکثیر یابد و گیاه فرصت پیدا می‌کند تا با سازوکارهای دیگری مانند تولید ترکیبات ضد ویروس با آن مقابله کند (شکل ۱۸). در مرگ یاخته‌ای، یاخته به وسیله آنزیم‌های خود گوارش می‌شود. سالیسیلیک اسید که از تنظیم‌کننده‌های رشد در گیاهان است در مرگ یاخته‌ای نقش دارد. یاخته گیاهی آلوده، این ترکیب را رها و مرگ یاخته‌ای را القا می‌کند.



بیشتر بدانید

گیاه کاساوا

این گیاه بومی آمریکای جنوبی است و پوست ریشه آن سرشار از ترکیب سیانیددار است. این ریشه نشاسته فراوان دارد و یکی از منابع غذایی است. مقدار اندکی ترکیب‌های سیانیددار در مغز دانه زردآلو نیز وجود دارد.



شکل ۱۸- با مرگ یاخته‌ها ارتباط یاخته‌های آلوده با سالم قطع می‌شود.

جانوران از گیاهان حفاظت می‌کنند

به شکل ۱۹ نگاه کنید! انبوهی از مورچه‌ها به حشره‌ای که قصد خوردن برگ‌های درخت آکاسیا را دارد، هجوم برده‌اند. بعید است که حشره بتواند از حمله‌های مرگبار این مورچه‌ها جان سالم به در برد. دیده شده است که این مورچه‌ها حتی به پستانداران کوچک و گیاهان دارزی نیز حمله می‌کنند. گیاهان دارزی، گیاهانی‌اند که روی درختان رشد می‌کنند. جالب است که گرده‌افشانی درخت

آکاسیا وابسته به زنبورهاست. چه چیزی مانع از حمله مورچه‌ها به زنبورهای گرده‌افشان می‌شود؟ مشخص شده است وقتی گل‌های آکاسیا باز می‌شوند، نوعی ترکیب شیمیایی تولید و منتشر می‌کنند که با فراری دادن مورچه‌ها مانع از حمله آنها به زنبورهای گرده‌افشان می‌شود.




شکل ۱۹- این مورچه‌ها در حقیقت از محل زندگی خود محافظت می‌کنند.

بعضی گیاهان در برابر حمله گیاه خواران، مواد فراری تولید و در هوا پخش می کنند که سبب جلب جانوران دیگر می شود. همین طور که در شکل ۲۰-الف می بینید، نوزاد کرمی شکلی حشره در حال خوردن برگ تنباکو است. از یاخته های آسیب دیده برگ، ترکیب فراری متصاعد می شود که نوعی زنبور وحشی آن را شناسایی می کند. زنبور ماده ای که در آن اطراف زندگی می کند، با ردیابی این مواد، خود را به نوزاد کرمی شکل می رساند و روی آن تخم می گذارد. نوزادان زنبور بعد از خروج از تخم از نوزاد کرمی شکل تغذیه می کنند و در نتیجه آن را می کشند. نتیجه این رویداد کاهش جمعیت حشره آفت است.



شکل ۲۰- چه روابطی بین این سه جاندار وجود دارد؟



ث) زنبور وحشی در حال تخم گذاری روی نوزاد کرمی شکل حشره

بیشتر بدانید

سم در گیاهان

ترکیبی به نام ریسین در پوسته دانه کرچک وجود دارد که از سیانید و سم مار کبری کشنده تر است. روغن کرچک از دانه بدون پوسته گرفته می شود.




فعالیت ۷

الف) فردی بر این باور است که امواج صوتی بر رشد و میزان محصول گیاهان تأثیر دارد. آیا شما با این نظر موافق اید؟ برای تأیید یا

ردّ این نظر چه آزمایشی طراحی می کنید؟

ب) نمونه هایی از سازوکارهای دفاعی در گیاهان محل زندگی خود و نیز ارتباط هایی که بین آنها و جانوران وجود دارد گزارش کنید.



فهرست منابع

- Raven Peter, Mason Kenneth, Losos Jonathan, Singer Susan, Biology, 11th Edition, McGraw-Hill, 2017.
- John E. Hall, Guyton and Hall Textbook of Medical Physiology , 13th Edition, Elsevier, 2016.
- Bruce Alberts, Alexander Johnson, Julian Lewis, David Morgan, Martin Ra, Keith Roberts, and Peter Walter, Molecular Biology of The Cell ,6th Edition, Garland Science, 2015.
- Neil A.Campbell,Biology A Global Approach,10 th Edition, Pearson Education,2015.
- Abul Abbas Andrew H.Lichtman, Shiv Pillai, Basic Immunology ,Functions and Disorders of the Immune System, 5th Edition, Elsevier, 2015.
- Solomon Eldera ,Berg Linda, Martin Diana, Biology, 10 Th Edition, Thomson, 2015.
- Hoefnagels Marielle, Biology, Concepts and Investigations, 3th Edition, McGraw-Hill, 2015.
- Abul Abbas, Andrew H.Lichtman, Shiv Pillai, Cellular and Molecular Immunology, 8th Edition, Elsevier, 2014.
- L. Mescher, Junqueira's Basic Histology Anthony,13th Edition, Mc GrawHill ,2013.
- Eric P. Widmaier, Vander's Human Physiology, 13th Edition, Mc GrawHill, 2013.
- Cecie Starr, Bilogy Today and Tomorrow with Physiology ,Broks/Cole,Cengage Learning, 4th Edition, 2013.
- Mader Sylvia &Windelspecht Michael, Biology,11Th Edition,McGraw-Hill, 2013.
- Russel Hertz Mcmillan, Biology The Dynamic Science, 2end Edition, Broks/Cole, Cengage Learning, 2011.
- Cleveland P. Hickman, Integrated Principles of Zoology, 14th Edition, M Graw-Hill, 2008.
- Linda Berg, Introductory Botany, Plants, People, and Environment, Thomson Brooks, 2008.



واژه‌های مصوب فرهنگستان زبان و ادب فارسی در
کتاب زیست‌شناسی ۲ پایه یازدهم

واژه به انگلیسی	واژه مصوب	واژه بیگانه	
Axon	آسه	اکسون	فصل ۱
Parasympathetic	پادهم حس	پاراسمپاتیک	
Dendrite	دارینه	دندریت	
Sympathetic	هم حس	سمپاتیک	
Synapse	همایه	سیناپس	
Limbic	کناره‌ای	لیمبیک	
Chiasma	چلیپا	کیاسما	
Thyroid	سپردیس	تیروئید	فصل ۴
Antigen	پادگن	آنتی ژن	فصل ۵
Diapedesis	تراگذری	دی‌اپدز	
Polyploid	چندلاد	پلی‌پلوئید	فصل ۶
Tetrad	چهار تابه	تتراد	
Diploid	دولاد	دیپلوئید	
Centriole	میانک	سانتریول	
Chromatid	فامینک	کروماتید	
Chromatin	فامینه	کروماتین	
Chromosome	فام‌تن	کروموزوم	
Mitosis	رشتمان	میتوز	
Meiosis	کاستمان	میوز	
Nucleosome	هسته‌تن	نوکلئوزوم	
Haploid	تک‌لاد	هاپلوئید	

Acrosome	تازکتن	آکروزوم	فصل ۷
Amnion	درون شامه رویان	آمنیون	
Epididymis	برخاگ	اپیدیدیم	
Spermatocyte	زام یاخته	اسپرماتوسیت	
Spermatogonium	زامه‌زا	اسپرماتوگون	
Spermatid	زام یاختک	اسپرماتید	
Spermatogenesis	زامه‌زایی	اسپرم‌زایی (اسپرماتوژنز)	
Oocyte	مام یاخته	اووسیت	
Oogonium	مامه‌زا	اووگون	
Sonography	صوت‌نگاری	سونوگرافی	
Follicle	انبانک	فولیکول	
Chorion	برون شامه رویان	کورین	
Sperm	زامه	گامت نر (اسپرم)	
Hermaphrodite	نرماده	هرمافرودیت	
Endosperm	درون‌دانه	آندوسپرم	فصل ۸

سازمان پژوهش و برنامه‌ریزی آموزشی جهت ایفای نقش خطیر خود در اجرای سند تحول بنیادین در آموزش و پرورش و برنامه درسی ملی جمهوری اسلامی ایران، مشارکت معلمان را به‌عنوان یک سیاست اجرایی مهم دنبال می‌کند. برای تحقق این امر در اقدامی نوآورانه سامانه تعاملی بر خط اعتبارسنجی کتاب‌های درسی راه‌اندازی شد تا با دریافت نظرات معلمان درباره کتاب‌های درسی نونگاشت، کتاب‌های درسی را در اولین سال چاپ، با کمترین اشکال به دانش‌آموزان و معلمان ارجمند تقدیم نماید. در انجام مطلوب این فرایند، همکاران گروه تحلیل محتوای آموزشی و پرورشی استان‌ها، گروه‌های آموزشی، دبیرخانه راهبری دروس و مدیریت محترم پروژه آقای محسن باهو نقش سازنده‌ای را بر عهده داشتند. ضمن ارج نهادن به تلاش تمامی این همکاران، اسامی دبیران و هنرآموزانی که تلاش مضاعفی را در این زمینه داشته و با ارائه نظرات خود سازمان را در بهبود محتوای این کتاب یاری کرده‌اند به شرح زیر اعلام می‌شود.

کتاب زیست شناسی ۲ - کد ۱۱۱۲۱۶

ردیف	نام و نام خانوادگی	استان محل خدمت
۱	مهران داوری فر	گلستان
۲	مجید بقایی	شهر تهران
۳	مسعود خانمحمدی	آذربایجان شرقی
۴	فهیمه حاجی محمد سمیعی	البرز
۵	غلامرضا زمردی	همدان
۶	ملیحه نظام دوست	خراسان جنوبی
۷	مزگان نظری	کرمانشاه
۸	وحید لطفی	آذربایجان غربی
۹	سکینه طیبی	البرز
۱۰	شیوا خیرجوئی	آذربایجان غربی
۱۱	گیتی بلالی دهکردی	چهارمحال و بختیاری
۱۲	فرانک نصیرپور	آذربایجان شرقی
۱۳	گیتی علیزاده	اصفهان
۱۴	بتول جلیلی	خراسان جنوبی
۱۵	محبوبه فردوسی مکان	خراسان رضوی
۱۶	عفت نخعی سرودانی	کرمان
۱۷	زهرا جزایری	فارس
۱۸	علی مقدم	گیلان
۱۹	ماشالله درویشی	بوشهر
۲۰	منصوره ربیسی دانا	شهر تهران
۲۱	مهناز هجران	شهر تهران

قم	منصوره بیان	۲۲
بوشهر	راضیه دانا	۲۳
فارس	خدابخش بهزادی	۲۴
کرمان	سیدرضا جعفری	۲۵
شهرستان‌های تهران	مهرانوش صفاریور	۲۶
قم	حمیدرضا قلیچ‌خانی	۲۷
آذربایجان شرقی	محسن هادی	۲۸
گیلان	علی صدق‌آمیز	۲۹
ایلام	صفا رشیدی	۳۰
همدان	سکینه حاجی‌ولیئی	۳۱
خراسان شمالی	ناهید منور	۳۲
چهارمحال و بختیاری	مختار حیدری	۳۳
سمنان	الهه صفاریه	۳۴
کردستان	ابوالفضل یاسائی	۳۵
قزوین	مسعود پارسامجد	۳۶
سمنان	فاطمه نبوی چاشمی	۳۷
مازندران	قدیر فتاحی کیاسری	۳۸
اصفهان	علیرضا شمس‌آبادی	۳۹
کهگیلویه و بویراحمد	مریم ستوده	۴۰
سیستان و بلوچستان	بهمن هرمزی	۴۱
لرستان	غلامحسین ویسکرمی	۴۲
خراسان شمالی	علیرضا حسین‌زاده	۴۳
هرمزگان	فخرالسادات قریشی	۴۴
زنجان	عارفه منظمی	۴۵
اردبیل	ثریا جلیلیان	۴۶
کردستان	ثریا کریمی	۴۷
ایلام	مهناز جابروند	۴۸
کرمانشاه	مهرداد فرخی	۴۹
یزد	مهدیه تقدیسی‌سیار	۵۰
یزد	جعفر پوراگرمی	۵۱
خوزستان	مریم قاسم‌زاده دهکردی	۵۲
خراسان رضوی	علیرضا لطفی	۵۳
مازندران	فاطمه یحیی‌زاده ساروی	۵۴

زیست‌شناسی ۲

• فصل ۴ (تنظیم شیمیایی)

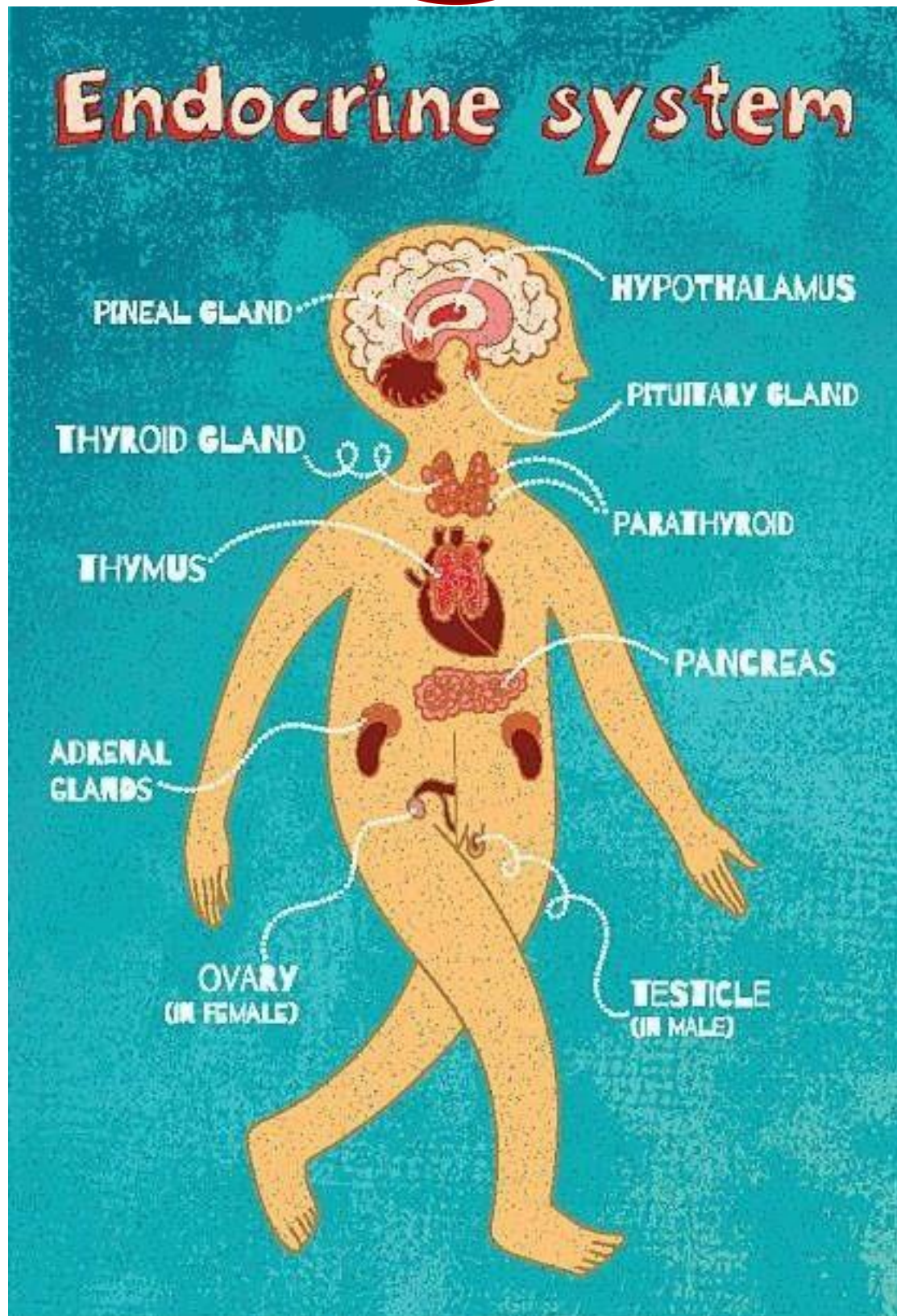
• گفتار ۱: ارتباط شیمیایی

• گفتار ۲: خدودرون ریز

• تست کده

مولف: دکتر زهرا اسادات‌هایونی

فصل ۴
گفتار ۱: ارتباط شیمیایی





* غدد اصلی دستگاه درون‌ریز:

تعدادشان یا زوج به صورت قرینه است در بدن یا فرد است و در مرکز بدن!

- ۱- هیپوتالاموس ← هم فعالیت در دستگاه عصبی و هم درون‌ریز - کنترل بخش درون‌ریز - در مغز - ۱ عدد
- ۲- هیپوفیز ← در مغز در زیر هیپوتالاموس - در زیر دستگاه عصبی - ۱ عدد
- ۳- تیروئید ← در گلو - ۱ عدد
- ۴- تیموس ← پشت جناغ و جلوی نای - ۱ عدد
- ۵- فوق کلیه ← دارای ۲ بخش قشری و مرکزی - دقیقاً بالا و روی کلیه - ۲ عدد
- ۶- لوزالمعده ← موازی و زیر معده - دارای بخش درون‌ریز و برون‌ریز - ۱ عدد
- ۷- تخمدان ← در زنان - ۲ عدد
- ۸- بیضه ← در مردان - ۲ عدد

نوع پیک شیمیایی	از نظر مسافت	سلول سازنده	سلول هدف	فضایی که به آن ترشح می‌شود	سرعت اثر	طول اثر	محل گیرنده
هورمون	دوربرد	سلول درون‌ریز	انواعی از سلول‌ها که دارای گیرنده آن هورمون‌اند.	به فضای بین سلولی ترشح شده و از آن - جا وارد خون می - شود.	کم‌تر	بیشتر	سلول هدف (سطح یا داخل سلول)
ناقل عصبی	کوتاه‌برد	نورون و گیرنده حس غیرنورونی	ماهیچه، غده، نورون	به فضای بین سلولی به نام فضای سیناپسی ترشح می - شود	بیشتر	کم‌تر	سلول هدف (سطح سلول پس‌سیناپسی)

فصل ۴ گفتار ۲: غده درون ریز

غده‌ای از بافت عصبی در زیر تالاموس است که در تنظیم خواب و بیداری، فشار اسمزی، گرسنگی و تشنگی مؤثر است.

هورمون‌های آزاد و مهارکننده می‌سازد ← از راه خون به هیپوفیز پیشین می‌رسد.

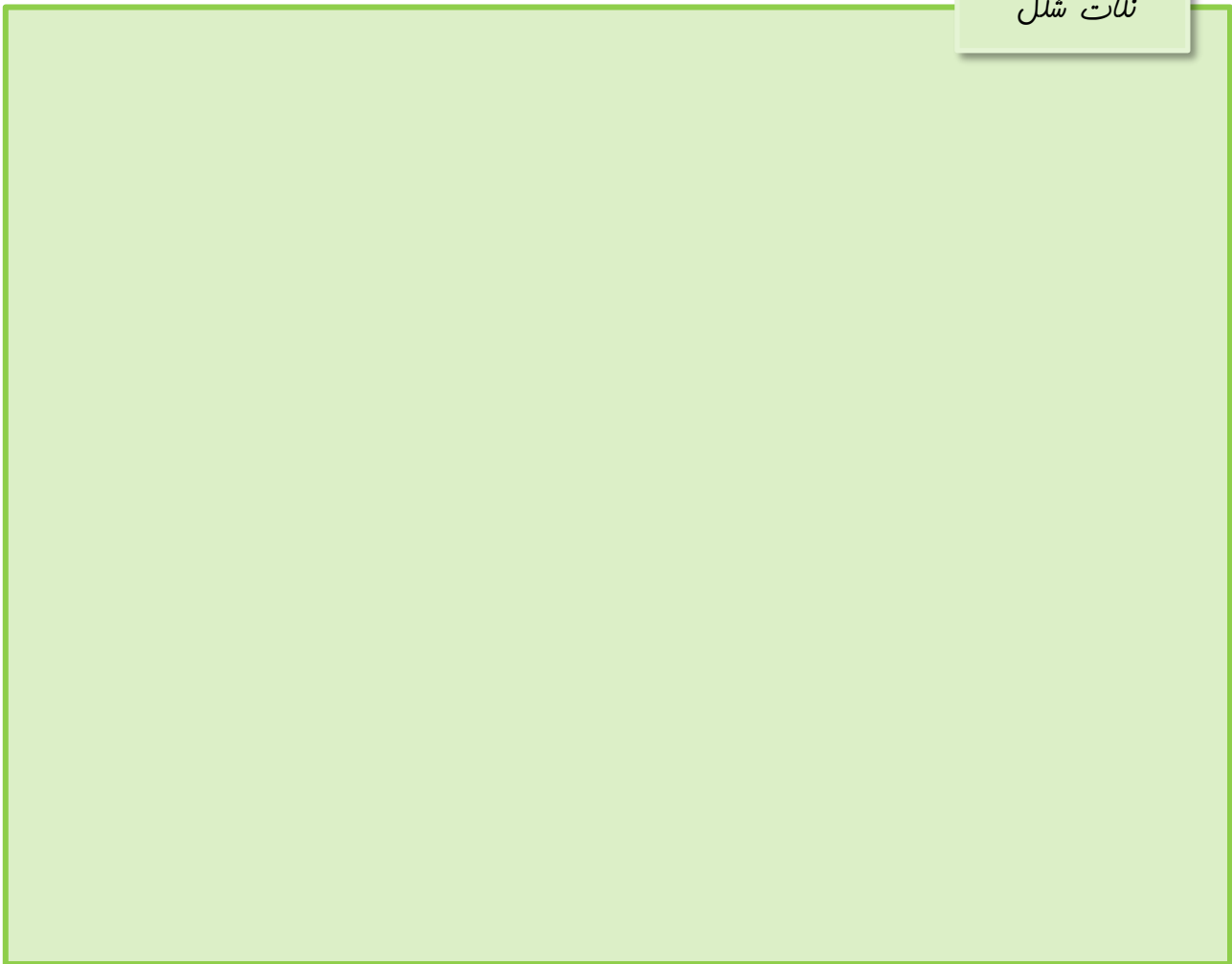
هورمون اکسی‌توسین می‌سازد ← از راه نورون در هیپوفیز پسین ذخیره می‌شود و سپس به خون می‌ریزد.

از راه نورون در هیپوفیز پسین ذخیره می‌شود ← تنظیم بازجذب آب در کلیه می‌کند.

هورمون ضد ادراری می‌سازد ← عدم تولید آن سبب بیماری دیابت بی‌مزه می‌شود.



مولف: دکتر زهرا سادات هایونی



نکته

توجه به این نکته ضروری است که اولاً بخش پیشین غده هیپوفیز، حجیم‌تر از بخش پسین آن است و ثانیاً یاخته‌های هیپوفیز پیشین برخلاف یاخته‌های هیپوفیز پسین، هورمون تولید می‌کنند. در واقع هیپوفیز پسین ساختار غده‌ای ندارد و شامل اجتماعی از آکسون‌ها و پایانه‌های آکسونی است.

نکته

بافتی که غده هیپوفیز درون یک گودی در آن قرار گرفته است نوعی بافت پیوندی است که حاوی تیغه‌های استخوانی و یاخته‌های بنیادی است و بافت هدف هورمون اریتروپویتین محسوب می‌شود.

نکته

توجه داشته باشید که همواره غضروف‌سازی در سمت مجاور به سرصفحات رشد و تبدیل غضروف به استخوان، در سمت مجاور به تنه صفحات رشد صورت می‌پذیرد.

نکته

در افراد نابالغ و تا چند سال پس از بلوغ در هر استخوان دراز، هر سر استخوانی، در حد فاصل بین دو بخش غضروفی [غضروف مفصل و صفحات غضروفی رشد] قرار گرفته است

نکته

هورمون پرولاکتین پس از زایمان و تولد نوزاد، غدد شیری را به تولید شیر وامی‌دارد و در خروج شیر از بدن مادر که به دنبال مکیدن نوزاد صورت می‌پذیرد، اثری ندارد.

نکته

اعمال پرولاکتین در خانم‌ها تولید شیر، حفظ تعادل آب و اثرگذاری در فعالیت دستگاه ایمنی می‌باشد. اما عملکرد این هورمون در آقایان حفظ تعادل آب، تنظیم فرآیندهای دستگاه تولیدمثل و نقش در عملکرد دستگاه ایمنی می‌باشد. اعمال پرولاکتین در مورد زنان و مردان، در حفظ تعادل آب در بدن و عملکرد صحیح دستگاه ایمنی می‌باشد و در مردان نیز در تنظیم فرایندهای تولید مثلی نقش دارد

اکسی توسین، هورمونی است که در تنظیم ترشح غدد برون ریز در زنان بالغ [غدد شیری مادران] دارای نقش است. علاوه بر اکسی توسین، هورمون‌های پرولاکتین، سکرترین و گاسترین نیز روی غدد و یاخته‌های برون ریز اثر گذارند.

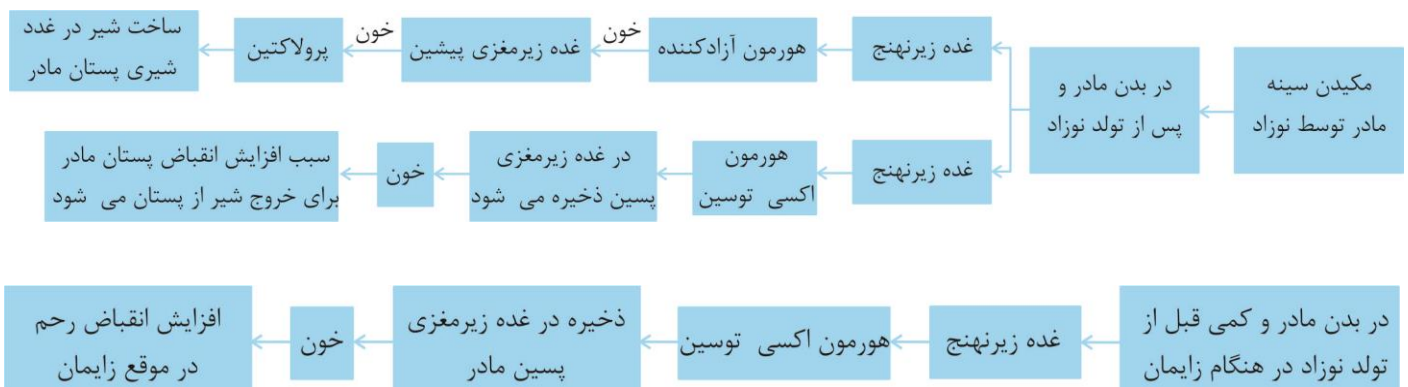
هورمون‌های ضدادراری و اکسی توسین در بخش پسین هیپوفیز ساخته نمی‌شوند. در واقع بخش پسین هیپوفیز هیچ هورمونی نمی‌سازد و هورمون‌های ضدادراری و اکسی توسین در جسم یاخته‌ای نوروون‌های هیپوتالاموس ساخته می‌شوند و از طریق آکسون‌های بلند این یاخته‌ها به بخش پسین هیپوفیز آمده و در آنجا ذخیره می‌شوند. سپس از آنجا به خون ترشح می‌شوند. به عبارت دیگر توجه داشته باشید دو هورمون ضدادراری و اکسی توسین از محلی به جز محل تولید خود به جریان خون وارد می‌شوند. به علاوه این هورمون‌ها، تحت تأثیر هورمون‌های آزادکننده و مهارکننده قرار نمی‌گیرند.

هورمون اکسی توسین دارای بافت‌های هدف مختلفی است که به طور ناهمزمان بر آن‌ها اثر می‌گذارد. در واقع این هورمون از یک سو در زمان زایمان با تحریک ماهیچه‌های دیواره رحم سبب آغاز انقباضات رحمی شده و در ادامه، دفعات و شدت انقباض را مرتباً بیشتر می‌کند. دهانه رحم در هر بار انقباض، بیشتر باز می‌شود و سرجنین بیشتر به آن فشار می‌آورد. با افزایش انقباضات، ترشح اکسی توسین با باز خورد مثبت افزایش یافته و سبب زایمان می‌شود. هورمون اکسی توسین از سوی دیگر با انقباض ماهیچه صاف غدد شیری، سبب خروج شیر می‌شود. تحریک گیرنده‌های موجود در غدد شیری با مکیدن نوزاد، اتفاق می‌افتد و از طریق باز خورد مثبت تنظیم می‌شود.

مکیدن نوزاد باعث افزایش هورمون‌های پرولاکتین و اکسی‌توسین و افزایش تولید و ترشح شیر می‌شود. دقت کنید که تولید و ترشح شیر به ترتیب تحت تأثیر هورمون‌های هیپوفیز پیشین و پسین صورت می‌پذیرد.



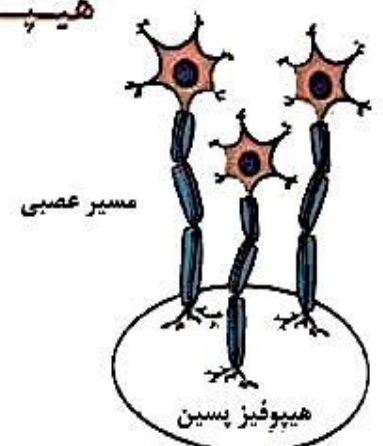
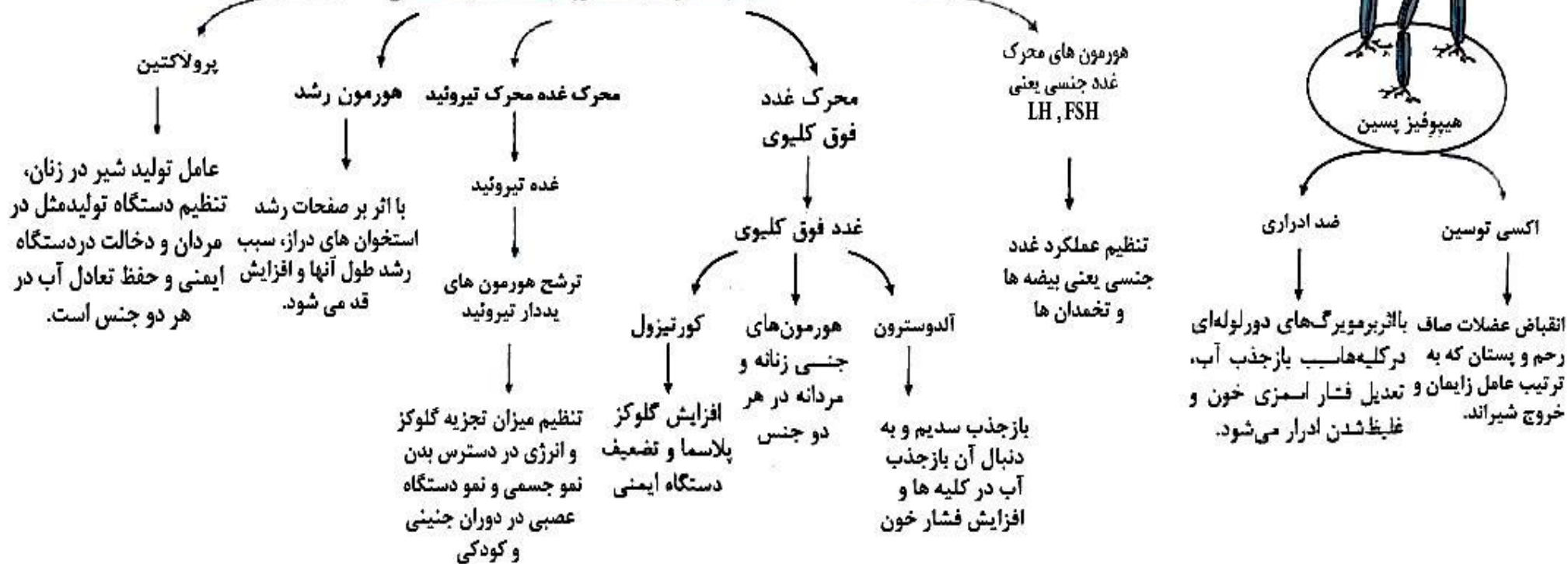
هورمون پرولاکتین سبب شیرسازی و ورود شیر به غدد شیری پستان می‌شود ولی هورمون اکسی‌توسین با افزایش انقباض پستان سبب خروج شیر از پستان‌ها می‌شود. دقت کنید که مکانیسم ترشح هر دوی این هورمون‌ها در اثر مکیدن نوزاد، نوعی بازخوردی یا خودتنظیمی مثبت می‌باشد.



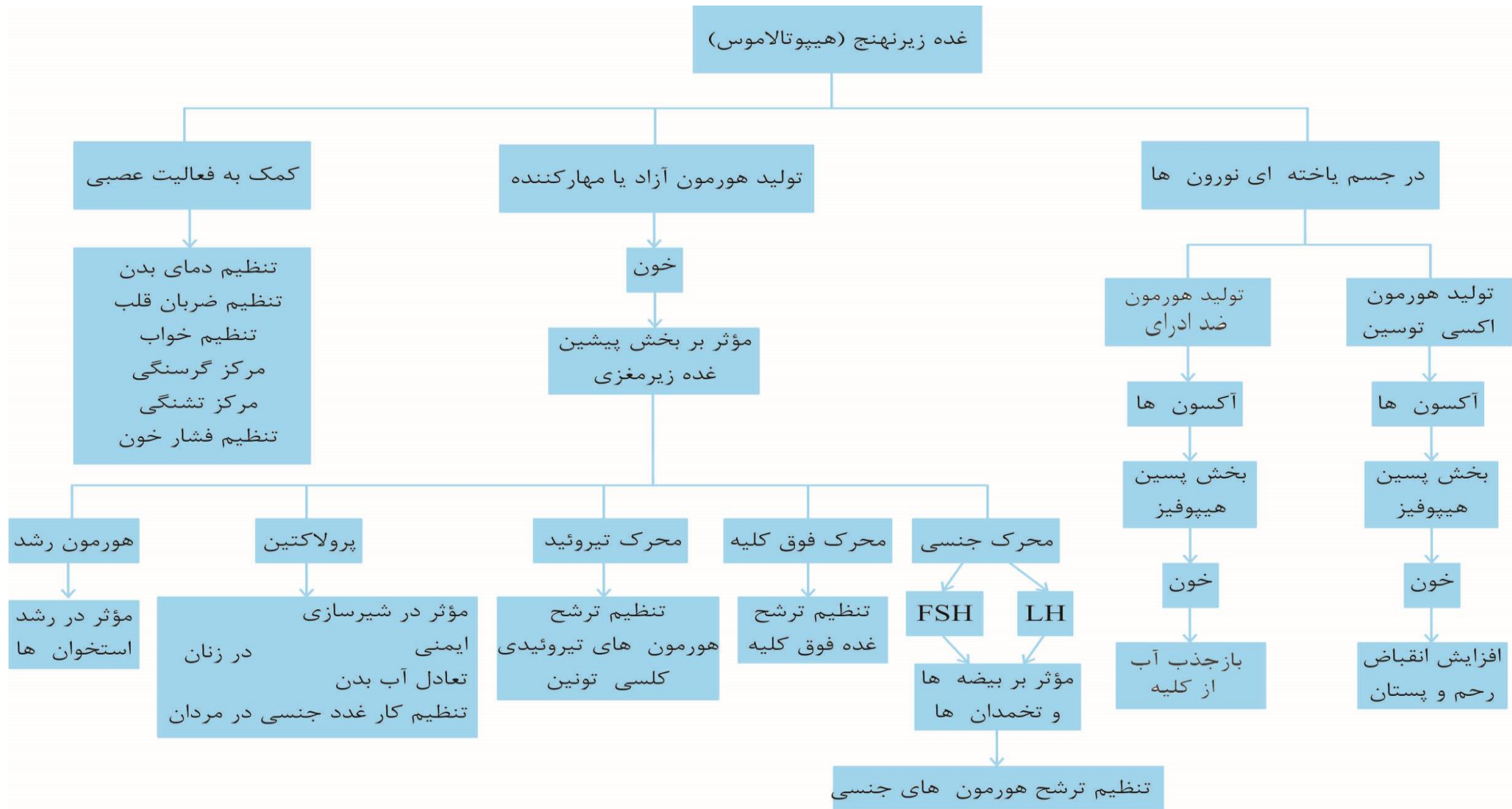
هیپوتالاموس

هورمون‌های آزادکننده و مهارکننده

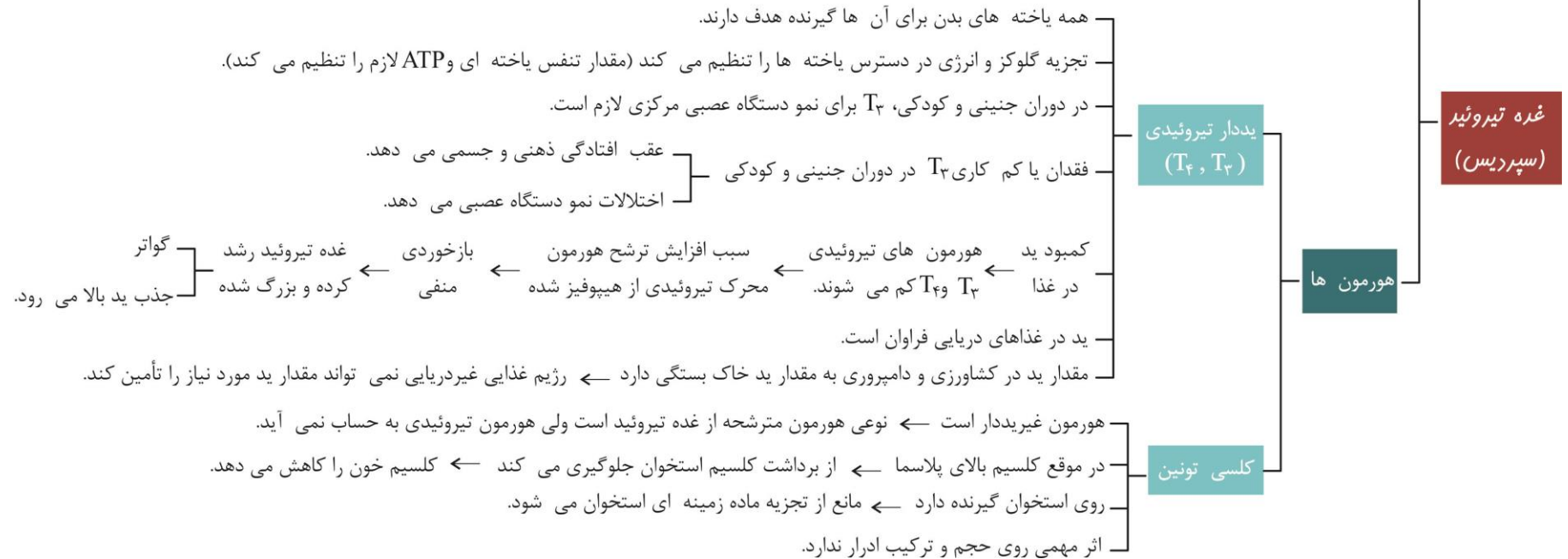
هیپوفیز پیشین



خلاصه فعالیت غده زیرمغزی (هیپوفیز) و زیرنهج (هیپوتالاموس)



یک غده سپرمانند در جلوی نای و زیر حنجره می باشد که هورمون های یددار تیروئیدی و غیریددار کلسی تونین می سازد.



- ۱- گواتر: اگر ید در غذا کافی نباشد ← کافی ساخته نشدن هورمون های تیروئیدی ← هیپوفیز هورمون محرک تیروئید را ترشح می کند ← رشد تیروئید (برای جذب بیشتر ید) ← فعالیت بیشتر تیروئید ← گواتر
- ۲- پرکاری تیروئید (هایپر تیروئید) ← هنگام ترشح هورمون های تیروئیدی ↑
- ۳- کم کاری تیروئید (هیپو تیروئید) ← هنگام ترشح هورمون های تیروئیدی ↓

۳ بیماری مربوط به افتلال ترشمی تیروئید

نکته

غده تیروئید در جلوی نای و در زیر حنجره قرار گرفته، شکلی شبیه به سپر دارد و در سطح پشتی آن غدد پاراتیروئید قرار گرفته‌اند.

نکته

یاخته‌های زنده بدن می‌توانند یاخته هدف هورمون‌های تیروئیدی محسوب شوند، اما یاخته‌های هدف هورمون کلسی‌تونین، یاخته‌های استخوانی می‌باشند. بنابراین می‌توان گفت یاخته‌های استخوانی یاخته هدف همه هورمون‌هایی که از غده تیروئید ترشح می‌شوند، محسوب می‌گردند

نکته

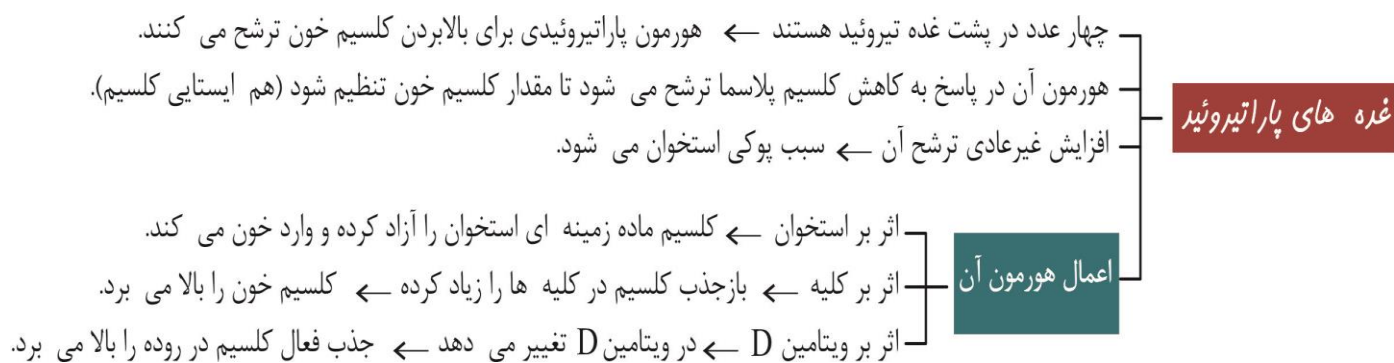
استفاده از ید تنها به منظور پیشگیری از ابتلا به بیماری گواتر صورت می‌گیرد نه درمان آن! در واقع درمان گواتر با جراحی و پیشگیری از آن با مصرف ید است.

نکته

اگر فعالیت غده تیروئید افزایش یابد، میزان تجزیه گلوکز و میزان تولید کربن‌دی‌اکسید در بدن افزایش می‌یابد. در نتیجه فعالیت آنزیم کربنیک‌انیدراز در غشای گویچه‌های قرمز افزایش یافته و به دنبال این امر، غلظت بی‌کربنات خون نیز افزایش می‌یابد.

توجه داشته باشید هر چند کلسی تونین، هورمونی است که توسط غده تیروئید ترشح می‌شود اما:

- ۱- هورمون تیروئیدی محسوب نمی‌شود.
- ۲- در ساختار خود ید ندارد.
- ۳- روی سوخت و ساز یاخته‌ها اثر ندارد.
- ۴- برخلاف T_3 و T_4 در تنظیم غلظت کلسیم خوناب و میزان برداشت کلسیم از استخوان‌ها اثرگذار است.
- ۵- تحت تأثیر هورمون محرک تیروئید که از غده هیپوفیز ترشح می‌شود قرار نمی‌گیرد.



فعالیت غدد تیروئید و پاراتیروئید با تنظیم کلسیم خون در انقباض عضلات بدن، تنظیم قطر رگ‌ها و انعقاد خون مؤثر است.

نکته

هورمون پاراتیروئیدی و کلسی‌تونین در هم‌ایستایی کلسیم، نقش دارند و به ترتیب سبب افزایش و کاهش کلسیم خون می‌شوند.

نکته

برای درمان پوکی استخوان از ویتامین D، کلسیم و کلسی‌تونین استفاده شود.

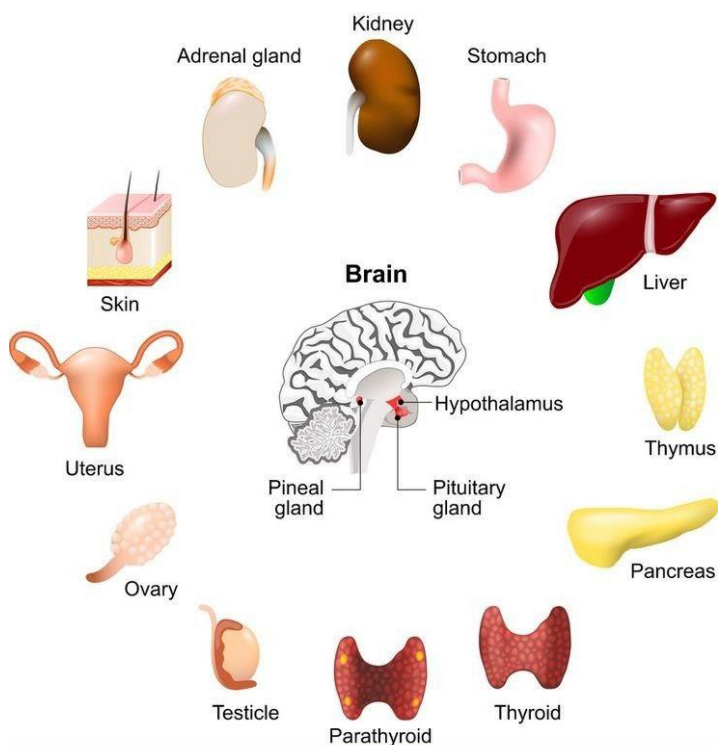
نکته

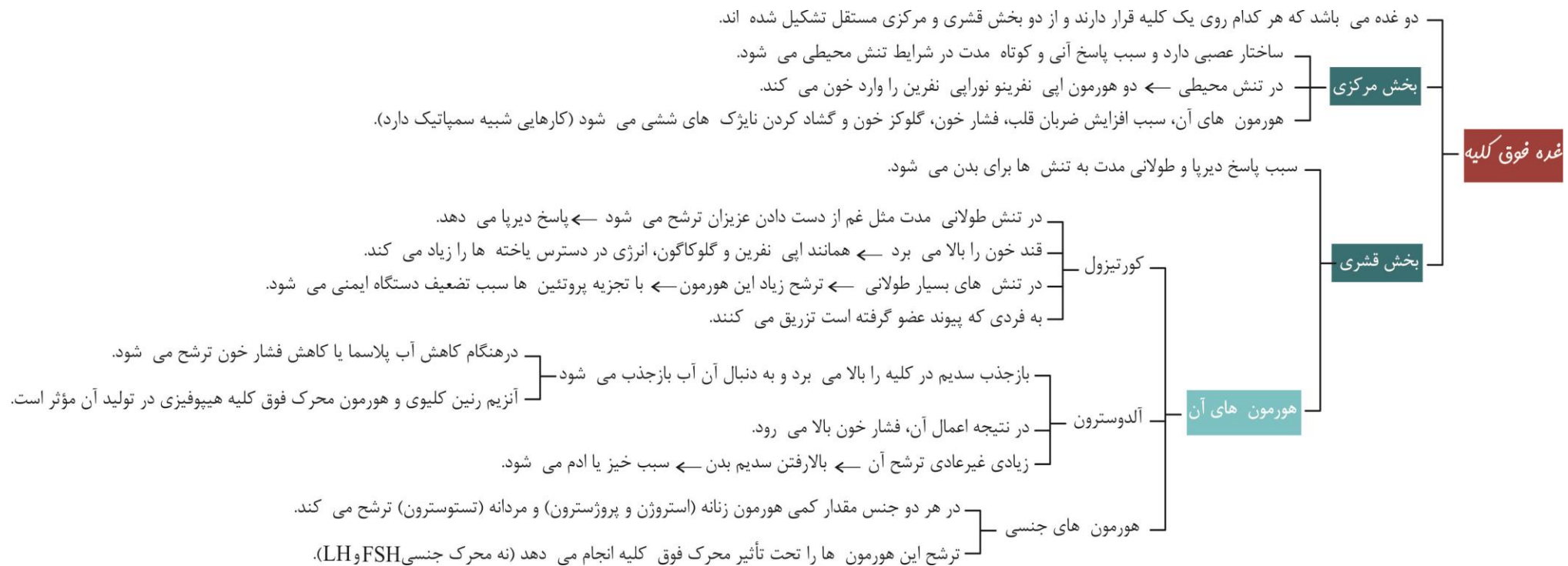
ترشح بیش از حد هورمون پاراتیروئیدی، سبب جدا شدن مقادیر بیشتری از کلسیم از ماده زمینه‌ای استخوان و باعث بروز پوکی استخوان می‌شود، به علاوه این هورمون سبب جذب بیشتر کلسیم از روده و باز جذب بیشتر کلسیم از کلیه می‌شود. در نتیجه می‌توان گفت ترشح هورمون پاراتیروئیدی سبب کاهش غلظت کلسیم در مدفوع و ادرار می‌شود.

از آنجا که یون کلسیم در انقباض ماهیچه‌ها و انعقاد خون نقش دارد، می‌توان گفت که اختلال در ترشح هورمون‌های کلسی‌تونین و پاراتیروئیدی و همچنین کمبود ویتامین D می‌تواند روی انقباضات ماهیچه‌ای و انعقاد خون اثرگذار باشد.

هورمون‌های ضدادراری، آلدوسترون، کلسی‌تونین، پاراتیروئیدی و پرولاکتین در تنظیم تعادل آب بدن و فشار اسمزی خوناب نقش دارند.

ENDOCRINE SYSTEM





هورمون‌های اپی‌نفرین و نوراپی‌نفرین در شرایط تنش‌زا ترشح شده، سبب افزایش ضربان قلب، فشار خون و غلظت گلوکز خوناب شده و نایژک‌ها را باز می‌کنند و چون آلدوسترون نیز سبب افزایش فشار خون می‌شود می‌توان گفت، سه هورمون اپی‌نفرین، نوراپی‌نفرین و آلدوسترون سبب افزایش فشار خون می‌شوند.

توجه داشته باشید که تنش‌های طولانی مدت می‌تواند بدن را در برابر ابتلا به بیماری‌های مختلف، آسیب پذیر کند. چون در این حالت کورتیزول به میزان بیشتری تولید می‌شود و تحت تأثیر کورتیزول، دستگاه ایمنی تضعیف می‌شود.

از بخش قشری غدد فوق کلیوی در زنان و مردان علاوه بر کورتیزول و آلدوسترون هورمون‌های جنسی هر دو جنس یعنی تستوسترون، استروژن و پروژسترون نیز ترشح می‌شود. بنابراین می‌توان گفت در یک دختر بالغ، دو غده در تولید تستوسترون و ۴ غده در تولید استروژن و پروژسترون نقش دارد و در یک پسر بالغ ۲ غده در تولید استروژن و پروژسترون و ۴ غده در تولید تستوسترون نقش دارد.

نکته

از کورتیزول برای درمان بیماری‌های خودایمنی مثل ام‌اس و همچنین برای جلوگیری از رد شدن عضو پیوندی، استفاده می‌شود.

نکته

اگر فشار خون در کلیه کاهش یابد، از کلیه آنزیمی، به نام رنین به خون ترشح می‌شود. رنین با اثر بر یکی از پروتئین‌های خوناب و راه‌اندازی مجموعه‌ای از واکنش‌ها، باعث ترشح هورمون آلدوسترون از غده فوق کلیه می‌شود و این هورمون نیز با اثر بر کلیه‌ها، بازجذب سدیم و به دنبال آن بازجذب آب را سبب می‌شود.

نکته

رنین و اریتروپویتین، پس از ترشح به خون وارد می‌شوند، رنین توسط کلیه‌ها ساخته می‌شود و اریتروپویتین نیز می‌تواند توسط کلیه‌ها تولید شود و هر دو ماده، دارای آمینواسید و پیوندهای پپتیدی‌اند. البته باید توجه داشت که اریتروپویتین هورمون است اما رنین آنزیمی است که به طور غیرمستقیم، سبب ترشح نوعی هورمون می‌شود.

آلدوسترون:

- ۱- نوعی هورمون یا پیک شیمیایی دوربرد است.
- ۲- توسط بخش قشری غدد فوق کلیوی ترشح می‌شود.
- ۳- کاهش فشار خون، محرک ترشح آن است.
- ۴- تحت تأثیر غیرمستقیم آنزیم رنین ترشح می‌شود.
- ۵- عامل بازجذب سدیم توسط شبکه مویرگی دور لوله‌ای است.
- ۶- محل ترشح [غده فوق کلیوی] بالاتر از بافت هدف خود [کلیه‌ها] دارد.
- ۷- با بازجذب سدیم و به دنبال آن آب، فشار خون را افزایش می‌دهد.
- ۸- عامل افزایش غلظت سدیم خون است.
- ۹- عامل کاهش غلظت سدیم ادرار است.
- ۱۰- در مقادیر زیاد، خیز یا ادم ایجاد می‌کند.

لوزالمعره
(پانکراس)

بخش برون ریز

آنزیم های گوارشی و بیکربنات را وارد دوازدهه می کند.
در گوارش نهایی غذا و ایجاد محیط قلیایی در دوازدهه مؤثر است.

بخش درون ریز
(جزایر لانگرهانس)

مجموعه ای از یاخته های متمرکز درون ریز دارد که در بین بخش برون ریز قرار دارد ← به آن ها جزایر لانگرهانس می گویند.

هورمون گلوکاگون

در هنگام کاهش گلوکز خون ترشح می شود.
با تجزیه گلیکوژن درون یاخته ای کبد به گلوکز ← قند خون و انرژی در دسترس یاخته های بدن را افزایش می دهد.

هورمون انسولین

در پاسخ به افزایش گلوکز خون ترشح می شود.
سبب ورود گلوکز به یاخته ها و کاهش قند خون می شود.
تولید گلیکوژن را در کبد و ماهیچه زیاد می کند.
همانند هورمون تیروئیدی در هر یاخته زنده بدن گیرنده دارد.

دیابت شیرین

اگر یاخته ها نتوانند گلوکز را از خون بگیرند ← غلظت گلوکز خون بالا می رود

قند وارد ادرار می شود (پیدایش قند در ادرار).
حجم ادرار زیاد می شود.
دیابت شیرین ایجاد می شود.

در این بیماری، یاخته ها مجبورند به جای گلوکز، از چربی ها و یا حتی از پروتئین انرژی بگیرند ← سبب کاهش وزن و ایمنی بدن می شود.
این بیماری در اثر اشکال در هم ایستایی بدن پدیدار می شود ← سبب نابینایی، آسیب کلیوی و قلبی می شود.

در اثر تجزیه زیاد مواد چربی ← محصولات اسیدی تولید می شود ← عدم درمان ← pH خون اسیدی می شود ← کار آنزیم ها مختل می شود ← سبب اغما و مرگ می شود.

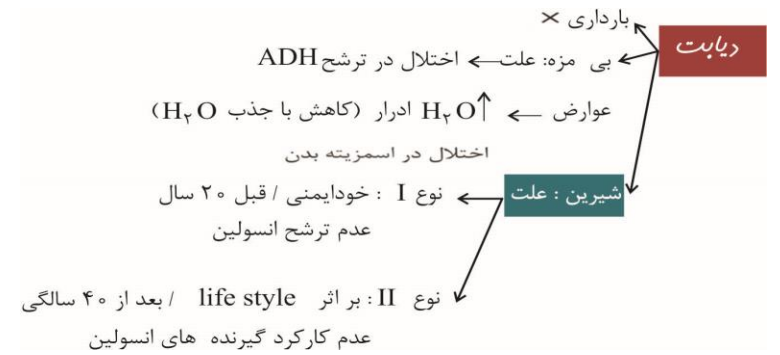
تجزیه زیاد پروتئین ها ← مقاومت بدن را با کمبود پروتئین دفاعی، کاهش می دهد.
افراد مبتلا باید رعایت زیادی در بهداشت خود کنند و مراقب سوختگی ها و زخم های هرچند کوچک نیز باشند.

انواع دیابت شیرین — نوع ۱

انسولین ترشح نمی شود یا به اندازه کافی ترشح نمی شود.
بیماری خودایمنی است.
دستگاه ایمنی یاخته های درون ریز انسولین ساز را از بین می برد.
با تزریق انسولین، تحت کنترل در خواهد آمد.

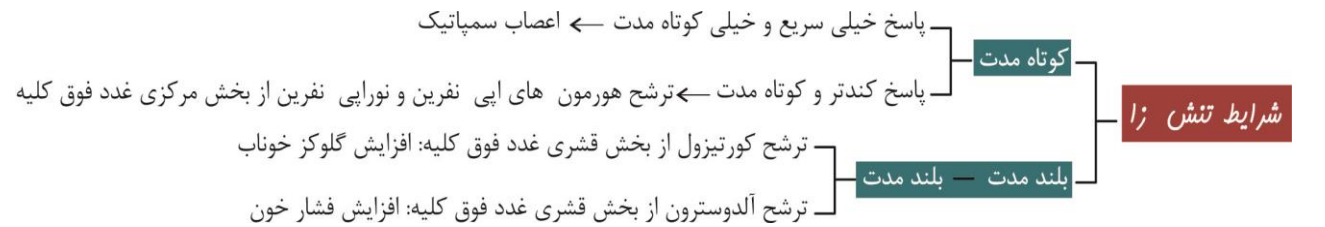
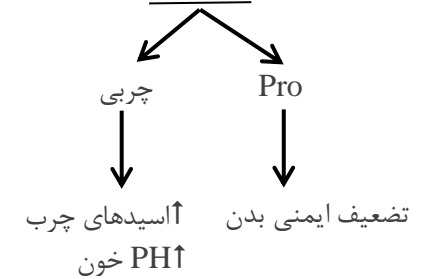
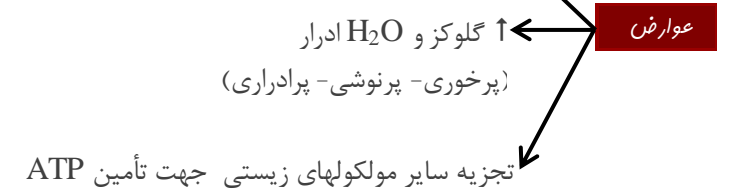
نوع ۲

مقدار انسولین و تولید آن ها در فرد، طبیعی می باشد و به مقدار کافی وجود دارد.
گیرنده های انسولین، به این هورمون پاسخ نمی دهند.
از حدود ۴۰ سالگی به بعد در اثر چاقی و کم تحرکی ظاهر می شود.
با کاهش وزن و رژیم غذایی کنترل می شود.



عدم کارکرد گیرنده های انسولین

عدم توانایی جذب گلوکز خون توسط سلولها





مکانیسم بازخوردی یا خودتنظیمی هورمون ها

مقدار ترشح هورمون ها بسیار کم می باشد و تنظیم آن ها بسیار مهم است که اغلب از راه رایج بازخوردی و یا کمی نیز از راه عصبی تنظیم می شود. تغییر کم در مقدار هورمون ها ← سبب اثرات قابل ملاحظه ای می شود.

تنظیم بازخوردی منفی (خودتنظیمی منفی)

مقدار بیشتر هورمون ها با این مکانیسم در خون تنظیم می شود. افزایش مقدار یک هورمون یا تأثیرات آن، باعث کاهش ترشح همان هورمون می شود. کاهش مقدار یک هورمون یا تأثیرات آن، باعث افزایش ترشح همان هورمون می شود.

مثال ← افزایش گلوکز پلاسما ← افزایش انسولین خون ← کاهش گلوکز خون ← سبب کاهش ترشح انسولین خون می شود. ← سبب افزایش انسولین خون می شود.

تنظیم بازخوردی مثبت (خودتنظیمی مثبت)

این حالت در بیماری ها یا در شرایط خاص از دوران زندگی رخ می دهد. افزایش مقدار یک هورمون یا تأثیرات آن ← سبب افزایش ترشح همان هورمون می شود (یا برعکس).

مثال ها ← در موقع زایمان ← با اینکه انقباضات عضلات صاف رحم زیاد می شود ← ولی با بازخوردی مثبت سبب افزایش ترشح اکسی توسین ← سبب افزایش بیشتر انقباضات رحم شده ← پایان سریع تر زایمان رخ ← افزایش تولید و خروج شیر از غدد شیری ← با بازخوردی مثبت سبب ترشح پرولاکتین و اکسی توسین بیشتر ← تولید و خروج بیشتر شیر از پستان مادر ← افزایش ترشح LH و FSH در نزدیکی تخمک گذاری زنان ← افزایش استروژن ← ترشح بیشتر FSH و LH ← سبب پایان میوز ۱ و انجام تخمک گذاری می شود.

ارتباط شیمیایی در سایر پانوران

علاوه بر ارتباط بین یاخته ها در ارتباط بین افراد نیز از مواد شیمیایی استفاده می کنند. فرومون در یک فرد ترشح شده و در فرد یا افراد دیگر همان گونه پاسخ های رفتاری ایجاد می کند. زنبور از فرومون ها برای هشدار دادن خبر حضور شکارچی برای مطلع کردن سایر زنبورهای هم گونه استفاده می کند. مارها می توانند فرومون های هوا را تشخیص داده و در جفت یابی از آن استفاده کنند. گربه ها از فرومون برای اطلاع هم گونه های خود در رفتار تعیین قلمرو استفاده می کنند که رفتاری غریزی می باشد.

نام هورمون	جنس	مکانیسم تنظیمی	فرد تولیدکننده	فرد هدف	محل تولید	محل ترشح	بافت ناقل	بافت هدف	دستگاه هدف	اندام هدف	بافت هدف	سلول هدف	زمان ترشح	اثر
آزادکننده														
مهارکننده														
اکسی توسین														
ضد ادراری														
پرولاکتین														
رشد														
محرك تيروئيد														
محرك فوق كليہ														

نام هورمون	جنس	مکانیسم تنظیمی	فرد تولیدکننده	فرد هدف	محل تولید	محل ترشح	بافت ناقل	بافت هدف	دستگاه هدف	اندام هدف	بافت هدف	سلول هدف	زمان ترشح	اثر
LH,FSH														
کلسی تونین														
T ₄ , T ₃														
ملاتونین														
تیموسین														
پاراتورمون														
انسولین														
گلوکاگون														

نام هورمون	جنس	مکانیسم تنظیمی	فرد تولیدکننده	فرد هدف	محل تولید	محل ترشح	بافت ناقل	بافت هدف	دستگاه هدف	اندام هدف	بافت هدف	سلول هدف	زمان ترشح	اثر
کورتیزول														
آلدوسترون														
استروژن														
پروژسترون														
تسترون														
گاسترین														
سکرتین														
اریتروپویتین														

نام هورمون	جنس	مکانیسم تنظیمی	فرد تولیدکننده	فرد هدف	محل تولید	محل ترشح	بافت ناقل	بافت	دستگاه هدف	اندام هدف	بافت هدف	سلول هدف	زمان ترشح	اثر
HCG														
اپی نفرین														
نوراپی نفرین														
رنین														

هورمون	محل تولید	اندام هدف	محرک تولید	اثر در بدن
آزادکننده	هیپوتالاموس	هیپوفیزی پیشین	کاهش هورمون‌های غده هیپوفیزی پیشین با اثر آن‌ها	زیادی ترشح هورمون‌های هیپوفیزی پیشین
مهارکننده	هیپوتالاموس	هیپوفیزی پیشین	افزایش هورمون‌های هیپوفیزی پیشین یا اثر آن‌ها	کم کردن ترشح هورمون‌های هیپوفیزی پیشین
اکسی‌توسین	هیپوتالاموس	رحم یا پستان	شروع زایمان یا مکیدن نوزاد	افزایش انقباضات رحم - خروج شیر از پستان
ضد ادراری (ADH)	هیپوتالاموس	کلیه‌ها	کاهش آب پلاسما	افزایش بازجذب آب از کلیه‌ها
هورمون رشد	هیپوفیزی پیشین	استخوان‌ها	نیاز بدن به رشد	رشد استخوان‌ها و قد انسان تا چند سال پس از بلوغ
پرولاکتین	هیپوفیزی پیشین	در زنان غده پستان، سیستم ایمنی و تنظیم آب بدن در مردان سیستم تولید مثلی	نیاز به تولید شیر در زنان	تولید شیر در پستان زنان تنظیم فعالیت تولید مثلی در مردان حفظ تعادل آب و ایمنی بدن در زنان

افزایش هورمون‌های غده تیروئید	کمبود کلسی‌تونین و T_4, T_3	غده تیروئید	هیپوفیز پیشین	محرک تیروئیدی
زیادی ترشح هورمون‌های غده فوق کلیه	کمبود هورمون‌های غده فوق کلیه یا اثر آنها	غده‌های فوق کلیه	هیپوفیز پیشین	محرک فوق کلیه
محرک ترشح هورمون‌های جنسی	کمبود هورمون‌های جنسی	بیضه‌ها یا تخمدان‌ها	هیپوفیز پیشین	محرک جنسی FSH, LH
افزایش سوخت و ساز و تنفس یاخته‌ای بدن	کمبود سوخت و ساز بدن	کل یاخته‌های بدن	غده تیروئید	هورمون‌های تیروئیدی T_4, T_3
مانع از تجزیه استخوان می‌شود و کلسیم خون را کم می‌کند.	افزایش کلسیم پلاسما	استخوان	غده تیروئید	کلسی‌تونین
↑ کلسیم خون ←	افزایش برداشت کلسیم ماده زمینه‌ای استخوان افزایش بازجذب کلسیم از کلیه‌ها تغییر ویتامین D برای جذب کلسیم در روده	کاهش کلسیم پلاسما	غده پاراتیروئید	هورمون‌های پاراتیروئیدی
افزایش ضربان قلب و فشار خون ↑ و قندخون ↑	تنش محیطی کوتاه مدت	اثر عمومی در بدن	مرکز غده فوق کلیه	اپی نفرین و نوراپی نفرین

هورمون	محل تولید	اندام هدف	محرک تولید	اثر در بدن
آلدوسترون	قشر غده فوق کلیه	کلیه‌ها	کمبود سدیم پلاسما	افزایش بازجذب سدیم و افزایش فشار خون
کورتیزول	قشر غده فوق کلیه	اثر عمومی بر کل بدن	تنش‌های محیطی طولانی و مهم	افزایش قند خون و کاهش عمل سیستم ایمنی
هورمون‌های جنسی هر دو جنس	قشر فوق کلیه	اثر عمومی	نیاز به هورمون جنسی	متابولیسم بدن را زیاد می‌کنند
گلوکاگون	(جزایر لانگرهانس) پانکراس (لوزالمعده)	کبد	قند خون پایین	تجزیه گلیکوژن کبد به گلوکز را زیاد می‌کند و قند خون را بالا می‌برد. (انرژی در دسترس بدن را زیاد می‌کند).
انسولین	پانکراس (جزایر لانگرهانس)	کل بدن	افزایش قند خون	نفوذپذیری یاخته‌ها به گلوکز را بالا می‌برد و گلوکز خون یا انرژی در دسترس بدن را کم می‌کند.
ملاتونین	غده رومغزی (اپی‌فیز)	معلوم نیست	تاریکی	تنظیم ریتم شبانه‌روزی
تیموسین	غده تیموس	سیستم ایمنی	نیاز به بلوغ لنفوسیت‌ها	بلوغ و تمایز لنفوسیت‌های T
گاسترین	یاخته درون ریز معده نزدیک پیلور	غدد معده	نیاز به اسید و آنزیم معده	محرک ترشح اسید معده و آنزیم پپسینوژن
سکرتین	یاخته‌های درون ریز دوازدهه	بخش برون ریز پانکراس	کاهش آنزیم‌ها و بیکربنات روده باریک	محرک ترشح آنزیم‌ها و بیکربنات از لوزالمعده به روده باریک
اریتروپویتین	کبد و کلیه‌ها	مغز قرمز استخوان	کاهش گویچه قرمز	محرک تولید هموگلوبین و گویچه قرمز

تست کده

۱- کدام عبارت نادرست است؟ «در انسان هورمون مترشح از به طور مستقیم

بر تولید و ترشح اثر دارد.» (سراسری - ۸۹)

(۱) هیپوفیز پیشین - کورتیزول

(۲) هیپوتالاموس - تستوسترون

(۳) هیپوتالاموس - هورمون محرک فولیکولی

(۴) هیپوفیز پیشین - هورمون تخمدان

۲- کدام عبارت به درستی بیان شده است؟ (سراسری - ۹۰)

(۱) از وظایف پیک‌های شیمیایی دستگاه درون‌ریز جانوران پریاخته‌ای، برقراری هومئوستازی است.

(۲) هورمون‌های آزادکننده و مهارکننده‌های هیپوتالاموس، ترشحات هیپوفیز پیشین و پسین را تنظیم می‌کنند.

(۳) گیرنده برخی هورمون‌ها برخلاف گیرنده‌های پیک‌های عصبی در غشای یاخته هدف قرار دارند.

(۴) اپی‌فیز که توسط ساقه کوتاه از هیپوتالاموس آویزان به نظر می‌رسد، احتمالاً در تنظیم ریتم‌های شبانه‌روزی نقش دارد.

۳- چند مورد از موارد زیر می‌تواند جمله زیر را تکمیل کند؟ (سراسری - ۹۱)

«به طور معمول، انتقال‌دهنده‌های عصبی»

(الف) در مقایسه با هورمون‌ها، مسافت کوتاه‌تری را در خون طی می‌کنند.

(ب) در پاسخ به محرک‌های متفاوتی ساخت و آزاد می‌شوند.

(ج) پاسخ‌های سریع و کوتاه‌مدتی را سبب می‌شوند.

(د) متنوع می‌باشند و در هماهنگ کردن فعالیت‌های بدن نقش دارند.

(۴) ۴ مورد

(۳) ۳ مورد

(۲) ۲ مورد

(۱) ۱ مورد

۴- در یک فرد بالغ می تواند ناشی از افزایش باشد. (سراسری - ۹۲)

(۱) کاهش استحکام زردپی آشیل - هورمون کورتیزول

(۲) کاهش میزان آب خون - هورمون ضد ادراری

(۳) افزایش دفع سدیم از کلیه - فشارهای روحی - جسمی

(۴) افزایش خون‌رسانی به ماهیچه‌های توأم - تحریک اعصاب پاراسمپاتیک

۵- مصرف مقادیر زیاد و طولانی مدت کورتیزول در یک فرد، می تواند به کاهش

..... و افزایش منجر شود. (سراسری خارج از کشور - ۹۲)

(۱) علائم دیابت شیرین - بیگانه‌خواری درشت‌خوارها

(۲) مقدار آمینواسیدهای خون - دیپدز نوتروفیل‌ها

(۳) قدرت انقباض ماهیچه‌های اسکلتی - میزان گلوکز خون

(۴) سرکوب لنفوسیت‌های T - استحکام زردپی آشیل

۶- در انسان، (سراسری خارج از کشور - ۹۲)

(۱) هر ترکیب خارج شده از پایانه آکسون، عمل سریع و عمر کوتاهی دارد.

(۲) یا کاهش مقدار کلسیم خون، میزان ترشح غده تیروئید افزایش می‌یابد.

(۳) هر ترکیبی که از یاخته‌های سازنده به درون خون وارد می‌شود، هورمون نام دارد.

(۴) ماهیچه‌های اسکلتی و ماهیچه‌های اندام‌های داخلی، توسط اعصاب حرکتی متفاوتی تحریک می‌شوند.

۷- هر هورمونی که مصرف گلوکز را در یاخته‌های بدن افزایش می‌دهد، قطعاً

(سراسری - ۹۳)

(۱) از غده‌ای در بالای تیموس ترشح می‌شود.

(۲) از غده‌ای در زیر معده به خون وارد می‌شود.

(۳) گیرنده‌هایی بر روی غشای پلاسمایی هر یاخته‌ای دارد.

(۴) فعالیت نوعی آنزیم موجود در غشای گویچه‌های قرمز را نیز بالا می‌برد.

۸- کدام عبارت در مورد انسان درست است؟ (سراسری خارج از کشور - ۹۳)

(۱) به طور معمول، گلوکاگون با تأثیر بر گلیکوژن ماهیچه‌ها، مقدار گلوکز خون را افزایش می‌دهد.

(۲) در پی اتصال یک هورمون مترشحه از تیروئید به گیرنده‌های خود، میزان کلسیم خون افزایش می‌یابد.

(۳) به دنبال افزایش بیش از حد هورمون‌های T_4, T_3 در خون، انرژی‌زایی بدن کاهش می‌یابد.

(۴) در پی اتصال هورمون‌های تیروئیدی به گیرنده‌های خود، فعالیت نوعی آنزیم در غشای گویچه قرمز، افزایش می‌یابد.

۹- کدام موارد، در یک فرد مبتلا به پرکاری تیروئید در اثر فعالیت هورمون‌های

تیروئیدی افزایش خواهد یافت؟ (سراسری - ۹۴)

(۱) ذخیره گلیکوژن ماهیچه‌ها و اندازه یاخته‌های چربی

(۲) نیاز به مصرف بعضی ویتامین‌ها و میزان انرژی ذخیره بدن

(۳) فعالیت بعضی غدد درون‌ریز بدن و تحریک بافت گرهی قلب

(۴) میزان ترکیب دی‌اکسید کربن با هموگلوبین و میزان کلسیم استخوان‌ها

۱۰- کدام گزینه، عبارت زیر را به طور مناسب کامل می‌کند؟ (سراسری - ۹۵)

«در یک فرد، کاهش شدید هورمون‌های سبب می‌شود تا

کاهش یابد و بر میزان افزوده شود.»

(۱) موجود در هیپوفیز پسین - ترشح هورمون آزادکننده - غلظت ادرار

(۲) هیپوفیزی محرک تخمدان - مقدار تستوسترون - ترشح هورمون‌های جنسی

(۳) تیروئیدی تنظیم‌کننده سوخت و ساز - رسوب کلسیم در بافت استخوانی - برون‌ده قلبی

(۴) بخش قشری غدد فوق کلیه - پاسخ دیرپا به فشارهای روحی - جسمی - دفع سدیم توسط

کلیه‌ها

۱۱- چند مورد، عبارت زیر را به طور مناسب کامل می کند؟ (سراسری خارج از کشور - ۹۵ با تغییر)

«به دنبال افزایش ترشح انسولین در خون هر فرد،»

الف) بر میزان تولید انرژی یاخته های بدن افزوده می شود.

ب) ورود گلوکز به اغلب یاخته های بدن تسهیل می گردد.

ج) گیرنده های موجود در فضای سیناپسی این هورمون فعال می گردند.

د) میزان واکنش های سنتز آبدهی در ماهیچه های بدن افزایش می یابد.

(۱) مورد ۱ (۲) مورد ۲ (۳) مورد ۳ (۴) مورد ۴

۱۲- در یک دختر بالغ، افزایش شدیدی در میزان ترشح هورمون های رخ داده است. در این فرد، به ترتیب افزایش و کاهش می یابد. (سراسری - خارج از کشور - ۹۵)

(۱) یددار تیروئید - میزان کلسیم خون و مقدار ذخیره چربی بدن

(۲) موجود در هیپوفیز پسین - ترشح هورمون آزادکننده و غلظت ادرار

(۳) هیپوفیزی مؤثر بر تخمدان - ترشح هورمون های جنسی و ضخامت دیواره رحم

(۴) بخش قشری غدد فوق کلیه - فشار خون و میزان رشته های کلاژن در بافت زیر پوست

۱۳- کدام موارد، برای تکمیل عبارت زیر مناسب است؟ (سراسری خارج از کشور - ۹۶)

«در یک دختر جوان، همه هورمون هایی که توسط ساخته می شوند،»

الف) تیروئید - بر بافت استخوانی اثر می گذارند.

ب) تخمدان - بر فعالیت ترشحی یکی از مراکز مغزی تأثیر می گذارند.

ج) هیپوتالاموس - فعالیت ترشحی غده هیپوفیز را افزایش می دهند.

د) لوله گوارش - در حفظ ویتامین B₁₂ نقش اصلی را دارند.

(۱) الف و ب (۲) الف و د (۳) ب و ج (۴) ج و د

۱۴- در یاخته‌های غده تیروئید انسان، پس از آماده شدن و بسته‌بندی کامل مولکول‌های

کلسی‌تونین برای ترشح، کدام اتفاق روی می‌دهد؟ (سراسری خارج از کشور-۹۶)

- ۱) زنجیره‌های کوچکی از مولکول‌های قند به آن‌ها اضافه می‌شود.
- ۲) کیسه‌چه‌های انتقالی به سوی غشاهای پلاسمایی حرکت می‌نمایند.
- ۳) محتویات وزیکول‌های انتقالی به دستگاه‌های گلژی منتقل می‌گردند.
- ۴) وزیکول‌هایی از غشای شبکه‌های آندوپلاسمی به بیرون جوانه می‌زنند.

۱۵- چند مورد، درباره انسان، درست است؟ (سراسری خارج از کشور- ۹۶)

- * نوعی بیماری وراثتی می‌تواند اختلالی در تولید هورمون‌های تیروئیدی ایجاد کند.
- * نوعی بیماری گوارشی می‌تواند در کاهش اکسیژن‌رسانی به یاخته‌ها مؤثر باشد.
- * نوعی بیماری خودایمنی می‌تواند باعث تغییر در فشار اسمزی خون شود.
- * نوعی بیماری غدد درون‌ریز می‌تواند سبب ناتوانی در انعقاد خون شود.

۱) ۱ مورد ۲) ۲ مورد ۳) ۳ مورد ۴) ۴ مورد

۱۶- کدام عبارت، در ارتباط با انسان درست است؟ (سراسری - خارج از کشور - ۹۸)

- ۱) همه یاخته‌های درون‌ریز، به صورت پراکنده در اندام‌ها یافت می‌شوند.
- ۲) همه پیک‌های شیمیایی خون، از یاخته‌های غدد درون‌ریز ترشح می‌شوند.
- ۳) همه پیک‌های تولیدشده توسط یاخته‌های عصبی، از نوع کوتاه‌بُردند.
- ۴) همه یاخته‌های سازنده پیک‌های شیمیایی، با روش مشابهی مولکول‌های پیک را خارج می‌سازند.

۱۷- در یک مرد بالغ، کدام مورد ویژگی غده منفردی است که در زیر معده قرار دارد و باعث

خنثی نمودن محیط اسیدی ابتدای روده‌ی باریک می‌شود؟ (سراسری خارج از کشور - ۹۸)

- ۱) برخلاف غدد دیوار معده، یاخته‌هایی با اندازه متفاوت دارد.
- ۲) همانند غدد پیازی- میزراهی، ترشحات درون‌ریز و برون‌ریز دارد.
- ۳) همانند غده فوق کلیه، تحت تأثیر عوامل هورمونی و عصبی قرار می‌گیرد.
- ۴) برخلاف غدد دیواره روده باریک، مایعی نمکی و محتوی آنزیم ترشح می‌کند.

۱۸- کدام گزینه عبارت زیر را به طور مناسب کامل می‌کند؟ (سراسری - ۹۹)

«در فردی که تازه وارد مرحله پس از زایمان شده و به نوعی مبتلا گردیده است،»

(۱) کم کاری غده پاراتیروئید - عمل عضلات مختل می‌شود و با افزایش تولید ترومبین، روند انعقاد خون دچار مشکل می‌شود.

(۲) کم ترشحی بخش پسین غده زیرمغزی (هیپوفیز) - ترشح شیر کاهش می‌یابد و بر غلظت ادرار افزوده می‌شود.

(۳) پرکاری قشر غده فوق کلیه - فعالیت مغز استخوان‌ها ضعیف می‌شود و علائمی از خیز مشاهده می‌گردد.

(۴) پرکاری غده سپردیس (تیروئید) - ضربان قلب کاهش می‌یابد و عضلات ضعیف می‌شود.

۱۹- چند مورد در ارتباط با انسان صحیح است؟ (سراسری - ۹۹)

(الف) در نوعی بیماری کلیوی، میزان فشار اسمزی خون کاهش و بخش‌هایی از بدن متورم می‌گردد.

(ب) در نوعی بیماری مربوط به کم کاری کبد، میزان اوره خون پایین و میزان آمونیاک خون بالا می‌رود.

(ج) در نوعی بیماری مفصلی، میزان رسوب ماده دفعی نیتروژن دار در مجاورت نوعی بافت پیوندی افزایش می‌یابد.

(د) در نوعی بیماری مربوط به کم کاری غده فوق کلیه، مقدار زیادی از آب نوشیده شده، دفع می‌گردد.

(۴) ۴ مورد

(۳) ۳ مورد

(۲) ۲ مورد

(۱) ۱ مورد

۲۰- چند مورد در ارتباط با انسان صحیح است؟ (سراسری - ۹۹)

- الف) به دنبال تحلیل لایه مخاطی معده، فرد به نوعی کم‌خونی مبتلا می‌شود.
ب) به دنبال تنش‌های مداوم و طولانی‌مدت، گلوکز خوناب (پلازما) افزایش می‌یابد.
ج) به دنبال انسداد مجرای صفراوی، در روند انعقاد خون اختلال ایجاد می‌شود.
د) به دنبال هر اختلال در بخش‌های درون‌ریز لوزالمعده، تراکم Na^+ در یاخته‌های عصبی کاهش می‌یابد.

۱) مورد ۱ (۲) مورد ۲ (۳) مورد ۳ (۴) مورد ۴

۲۱- کدام گزینه، برای تکمیل عبارت زیر مناسب است؟ (سراسری - ۱۴۰۰)

«در یک پسر بالغ مبتلا به پرکاری غده بیشتر می‌شود و در یک دختر بالغ مبتلا به کم‌کاری این غده، افزایش می‌یابد.»

۱) تیروئید - میزان ترشح انسولین - دمای بدن

۲) فوق کلیه، احتمال ابتلا به بیماری‌های عفونی - فشار خون

۳) پاراتیروئید - احتمال بیماری‌های قلبی - احتمال مشکلات تنفسی

۴) سازنده هورمون رشد، تراکم توده استخوانی - تکثیر یاخته‌های استخوانی

۲۲- در ارتباط با همه اندام‌هایی که با تولید پیک شیمیایی دوربرد یکسان، تعداد فراوان‌ترین یاخته‌های خونی انسان را تنظیم می‌کنند، کدام مورد نادرست است؟ (سراسری - ۱۴۰۰)

۱) به دفع بعضی مولکول‌های آلی بدن کمک می‌نمایند.

۲) فشار اسمزی خون را در حد مناسبی نگه می‌دارند.

۳) بر فرآیند انعقاد خون در محل خون‌ریزی نقش مؤثری دارند.

۴) هر یک می‌توانند با تغییر در مقادیر چشم‌گیری از نوعی ماده دفعی نیتروژن‌دار، از میزان سمیت آن بکاهند.

پاسخنامه

۴ (۱۲)

۱ (۱۳)

۲ (۱۴)

۴ (۱۵)

۴ (۱۶)

۳ (۱۷)

۳ (۱۸)

۴ (۱۹)

۳ (۲۰)

۳ (۲۱)

۴ (۲۲)

۲ (۱)

۱ (۲)

۳ (۳)

۱ (۴)

۳ (۵)

۴ (۶)

۷ (۷)

۴ (۸)

۳ (۹)

۴ (۱۰)

۱ (۱۱)



تغایر در سیکل

کوتاه برد ← طی سیکل فاصله بین سیکل (کوتاه)
استراک و متصل به سیکل در سیکل خود

تغییر عصبی
Pro → نزدیک سلول عصبی تولید می شود
در سلول بدن تولید می شود
به فضای سیناپس

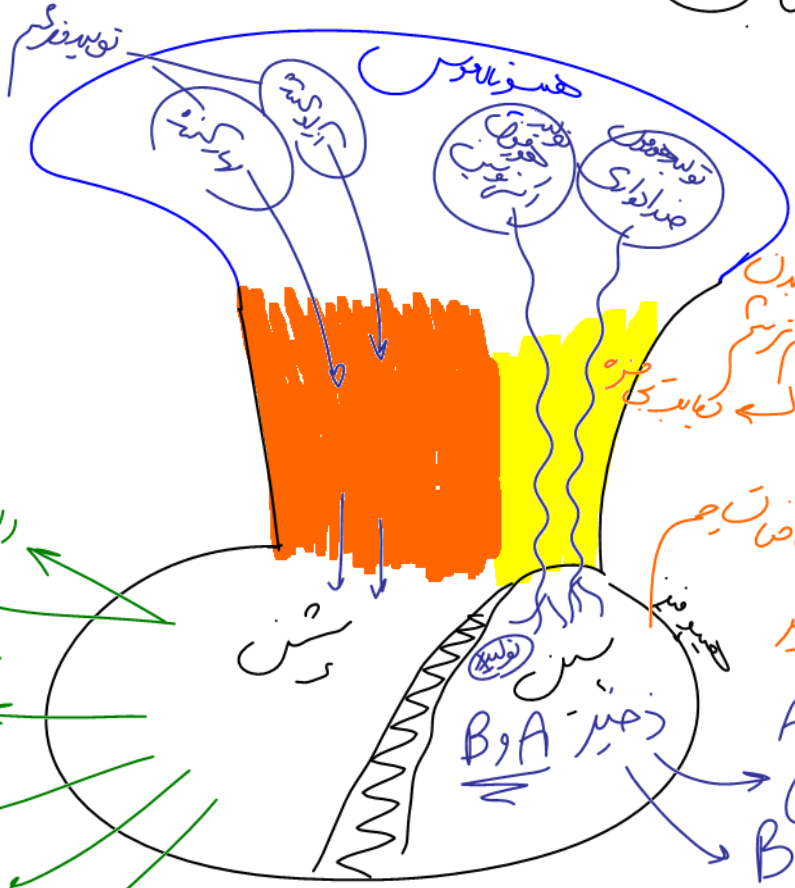
دفعه برد

جابجایی سطح سطح کشته خورد
توتاه خون
هورمون ← به خون
سلول عصبی
تغییر عصبی ← به فضای سیناپس

Ex هورمون

Pro 100, استروئیدی

همه توسط سلول عصبی هم مقید
همه سلولها تولید هورمون در بدن
صفا به خون از این



ضد ادای
ADH (X)
بعد از باز جذب در بدن
هورمون استروئیدی
OX

در رگ A
در رگ B
در رگ C
در رگ D
در رگ E
در رگ F
در رگ G
در رگ H
در رگ I
در رگ J
در رگ K
در رگ L
در رگ M
در رگ N
در رگ O
در رگ P
در رگ Q
در رگ R
در رگ S
در رگ T
در رگ U
در رگ V
در رگ W
در رگ X
در رگ Y
در رگ Z

پرولاکتین
محرک تیروئید
محرک فوق کلیه
LH
FSH
محرک بی

به هورمون یا اثرش ↑ ترشح ↓
به هورمون یا اثرش ↓ ترشح ↑

کاتسپس تنظیم
+
ex
-

هدف ایجاد تعادل
هدف هورمون سازی

نوعی سینه‌ای
تسمم استخوانی

T3
T4

غده تیروئید
هورمون تیروئید

طرس توئین

اثر توئین ≠ طرس توئین

کبود مریضا

کاهش تولید هورمون تیروئید

استرین ترشح محل تیروئید از خون

فشار ↓ سینه غده تیروئید ← در غده تیروئید ← جذب و تپش

طرس توئین ← دریاخ ↓ خون

جذب در استخوان (بوسه)

پارالورمول

جذب ← پیروستیم
باز جذب ← مستیم

استخوان ← پیروستیم
زیست‌زی و آزاد کردن پیروستیم

↑ خون خون
↑ خون خون
↑ خون خون
↑ خون خون

کلسیم
↑ باز جذب ← در ادرار (باز ادرار)
↑ جذب ← در روده باریک

Vit D

گفتگی

هورمون تیروئید
فوق کلسیم

هورمون تیروئید
کلسیم مریزی
فوق کلسیم

سپاس

قدت این طولانی
سرعت اثر کم

بیماری‌ها
کمبود تیروئید
میزان تیروئید زیاد
قنایوسم ↑
بیماری‌ها
کمبود تیروئید
قنایوسم ↓
جای خرابی
کلسیم

زیست‌شناسی ۲

فصل ۶ (تقسیم یاخته)

❖ گفتار ۱: فام تن (کروموزوم)

❖ گفتار ۲: رشتان (میوز)

❖ گفتار ۳: کاستان (میوز) و تولید مثل جنسی

❖ تست‌کده

مؤلف: دکتر زهرا سادات همایونی



homayouni_zis

فهرست فصل ۶ یازدهم

❖ کفتار ۳: کاستمان (میوز) و تولید مثل جنسی

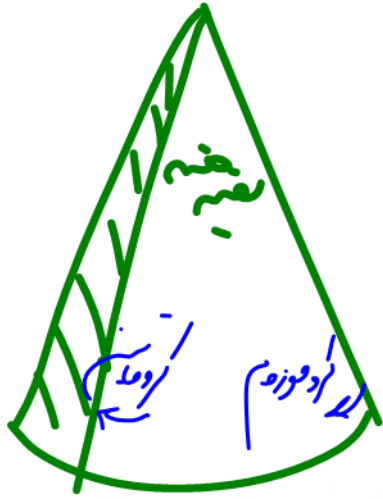
- میوز
- یاخته های حاصل
- میوز در انسان
- پلی پلوئیدی شدن
- باهم ماندن کروموزوم ها
- تشاگان داون
- نکته سازی
- چارت جمع بندی

❖ کفتار ۲: رشتان (میوز)

- میوز
- دوک تقسیم
- ساتریول
- سیتوکیتر جازری
- سیتوکیتر گیاهی

❖ کفتار ۱: فام تن (کروموزوم)

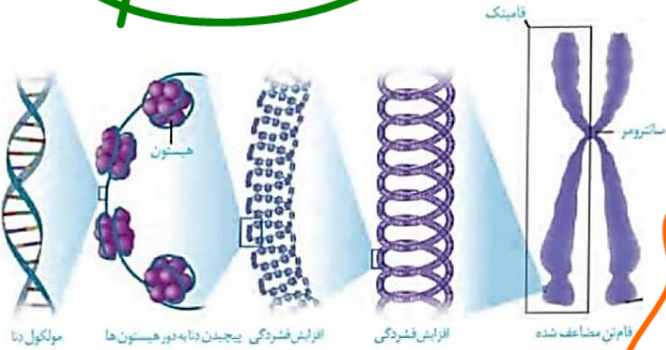
- ماده وراثتی
- انواع کروموزوم
- کاریوتیپ
- عدد کروموزومی
- چرخه یاخته ای
- تنظیم تقسیم
- نقاط واری
- تومور
- سرطان
- مرک یاخته ای



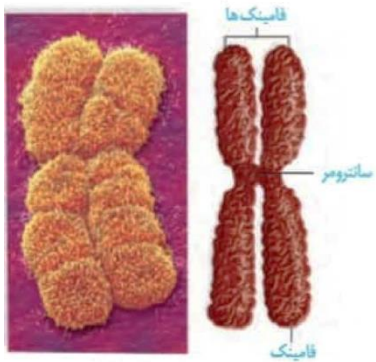
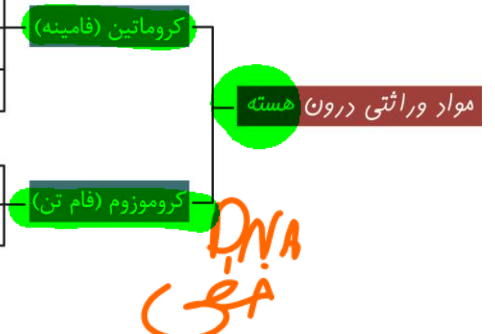
فصل ۶

گفتار ۱: فام تن (کروموزوم)

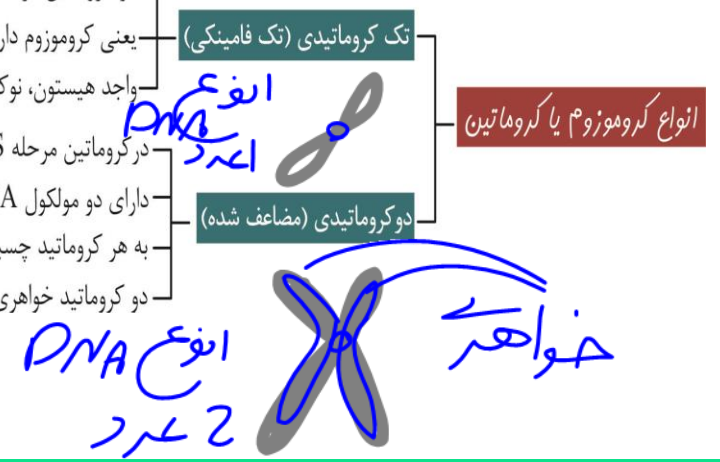
* این تعاریف رو یاد بگیر و مفاهیم را بفهم:



واحد وراثتی جانداران در موقع استراحت یاخته ای می باشد.
 از DNA و پروتئین ایجاد شده است.
 فشردگی کمی دارد و توده ای از رشته های در هم بافته است.
 در مراحل اینترفاز، اول پروفاز و آخر تلوفاز دیده می شود.
 قبل از شروع تقسیم یاخته، رشته های کروماتینی DNA آن دو برابر می شود.
 از DNA و پروتئین ایجاد شده است.
 با فشردگی تر شدن رشته های کروماتینی از مرحله پروفاز ایجاد می شود.
 در مرحله تلوفاز، به تدریج دوباره به صورت کروماتین در هم رفته بر می آید.



در کروماتین مرحله G_1 و کروموزوم مرحله آنافاز، تلوفاز و تقسیم سیتوپلاسم نهایی دیده می شود.
 یعنی کروموزوم دارای یک مولکول DNA می باشد.
 واحد هیستون، نوکلئوزوم و یک سانترومر می باشد.
 در کروماتین مرحله G_1 و S در کروموزوم های مراحل قبل از آنافاز تقسیم دیده می شوند.
 دارای دو مولکول DNA بوده که در محلی به نام سانترومر به هم متصلند ← واحد هیستون، نوکلئوزوم و یک سانترومر می باشد.
 به هر کروماتید چسبیده به کروماتید دیگر، یک کروماتید خواهری می گویند.
 دو کروماتید خواهری ژن های یکسان دارند و در سانترومر به دیگری متصل هستند.



مؤلف: دکتر زهرا سادات همایونی

تعداد کروموزوم

به تعداد کروموزوم های هر گونه از جانداران در هر هسته یاخته های پیکری آنها، عدد کروموزومی می گویند که تعداد معینی می باشد ← در انسان و درخت زیتون، عدد کروموزومی ۴۶ می باشد. به جز در باکتری ها، در سایر جانداران عدد کروموزومی از ۲ تا بیش از ۱۰۰۰ عدد متغیر است. معمولاً جانوران در یاخته های پیکری و جنسی خود دارای کروموزوم های غیرجنسی و کروموزوم های جنسی می باشند. ممکن است در گونه های مختلف، تعداد کروموزوم یا عدد کروموزومی یکسان باشد ولی نوع و فعالیت ژن های آن ها بسیار متفاوت است. (انسان و درخت زیتون، عدد کروموزومی ۴۶ دارند).



انواع یافته های بدن جانداران

یاخته پیکری (غیرجنسی) → یاخته های غیرجنسی موجود زنده است که مستقیماً در تولید مثل جنسی شرکت نمی کنند. دارای کروموزوم های غیرجنسی و جنسی می باشند.

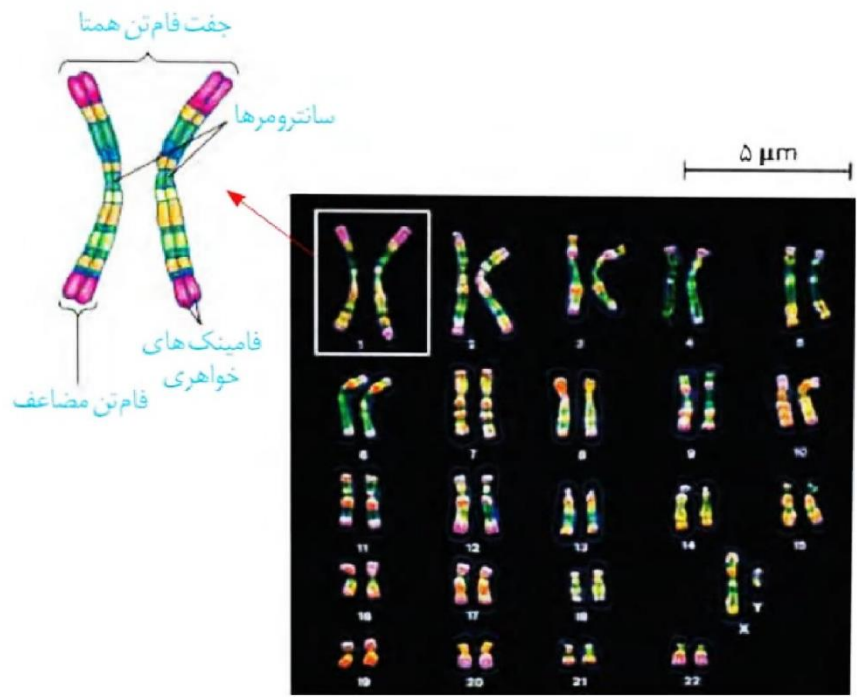
یاخته جنسی → در تولید مثل جنسی موجود نقش دارند و معمولاً نصف یاخته پیکری جاندار، کروموزوم دارند. معمولاً دارای کروموزوم های غیرجنسی و جنسی می باشند. در زنبور نر، تعداد کروموزوم اسپرم و والد نر یکسان است و هر دو $2n$ کروموزومی هستند.



کاریوتیپ

تصویری از کروموزوم های مضاعف جاندار در حداکثر فشردگی مرحله متافاز است. کروموزوم ها را برحسب اندازه، شکل، محتوای ژنتیکی و محل قرارگیری آنها از کروموزوم بزرگتر به کوچک تر مرتب و شماره گذاری می کنند. برای تعیین تعداد کروموزوم ها (عدد کروموزومی) و تشخیص برخی ناهنجاری کروموزومی (جهش های بزرگ ساختاری و عددی) تهیه می شود.





تکات شکل:

دو کروماتید به هم متصل در سانترومر یک کروموزوم مضاعف می باشند.
 از نظر دستورالعمل ژنی، مشابه هم می باشند.
 برای هر جایگاه ژنی، دو ژن با دستورالعمل یکسان دارند که مجموعاً یک الل به حساب می آید.

کروماتیدهای خواهری

به دو کروماتید خواهری وقتی از هم جدا شوند، دو کروموزوم دختری گفته می شود.
 دو کروموزوم مجزا با دو سانترومر مجزا هستند که برای هر جایگاه ژنی، دو ژن و دو الل دارند.

دو کروموزوم دختری

سه تعریف مهم

دو یاخته جدا شده پس از تقسیم سیتوپلاسم می باشد که بعد از میتوز ایجاد شده اند.
 از نظر هسته و تعداد کروموزوم ها، ژن ها و الل ها مشابه هم می باشند.
 حاوی کروموزوم های تک کروماتیدی جنسی و غیرجنسی می باشند.

دو یاخته دختری

سلول دختری

مستقیماً در تعیین جنسیت فرد تأثیر ندارد ← در دو جنس یک گونه ساختار مشابهی دارند.
 در یاخته جنسی و غیرجنسی وجود دارد.
 از نوع کروموزوم X یا Y نمی باشند.

کروموزوم غیرجنسی

انواع کروموزوم های یک یاخته

مستقیماً در تعیین جنسیت نقش دارند.
 در انسان و برخی جانداران وجود دارند.
 در یاخته جنسی و غیرجنسی وجود دارند.

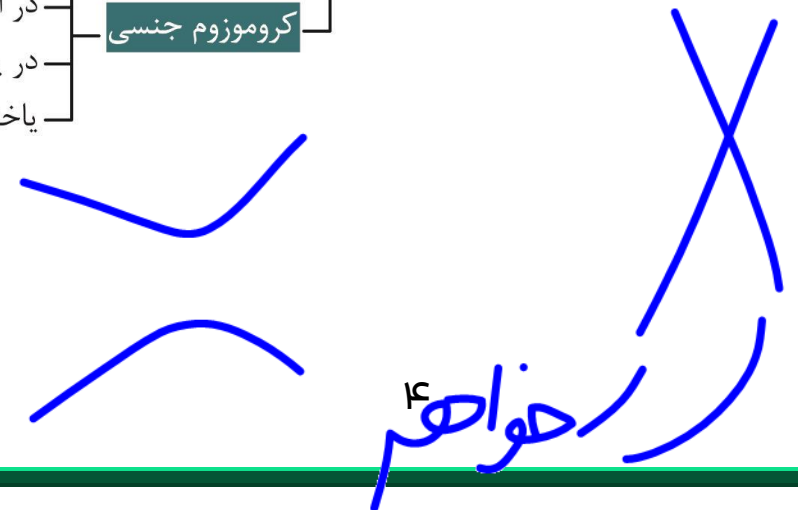

کروموزوم جنسی

یاخته پیکری زنان دو کروموزوم جنسی X هم ساختار و مردان یک X بزرگ و یک Y کوچک تر دارند.

کرر مرزوم دهنری

مولف: دکتر زهرا سادات همایونی

خواهری



یاخته‌هایی با یک مجموعه کروموزوم می‌باشند (مثل یاخته‌های جنسی انسان یا یاخته پیکری زنبور نر).

با نماد n کروموزومی نشان می‌دهند و فاقد کروموزوم‌های همتا می‌باشند.

در یک مجموعه خود دارای n کروموزوم غیر همتا می‌باشند.

در اغلب جانوران حاصل میوز ولی در گیاهان طی میوز و میتوز ایجاد می‌شوند (اسپرم زنبور نر حاصل میتوز است).

یاخته‌هایی با دو مجموعه کروموزومی می‌باشند.

یاخته‌های پیکری جانوران (به جز زنبور نر) و مراحل از زندگی گیاهان می‌باشند.

هر کروموزوم آن‌ها دارای یک کروموزوم هم ساختار و هم اندازه به نام کروموزوم همتا می‌باشد.

$2n$ کروموزومی می‌باشند که به جز خوددلفاحی هر مجموعه را از یک والد خود گرفته‌اند ← کروموزوم‌های هر مجموعه آن، با هم غیر همتا می‌باشند.

یاخته‌هایی با چند مجموعه کروموزوم می‌باشند ← کروموزوم‌های هر مجموعه، با هم غیر همتا می‌باشند.

مثلاً در $3n$ ‌ها دارای کروموزوم‌هایی هستند که سه تا سه تا با هم همتا می‌باشند.

در آندوسپرم $3n$ ذخیره‌ای دانه نهادانگان و در یاخته پیکری موز $3n$ یا گندم زراعی $6n$ دیده می‌شوند.

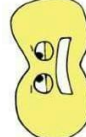
Mm.



Hm?



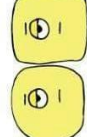
Wha?



Ow!



....



Mitosis is a nuisance.

انواع یافته‌ها از نظر تعداد مجموعه کروموزومی

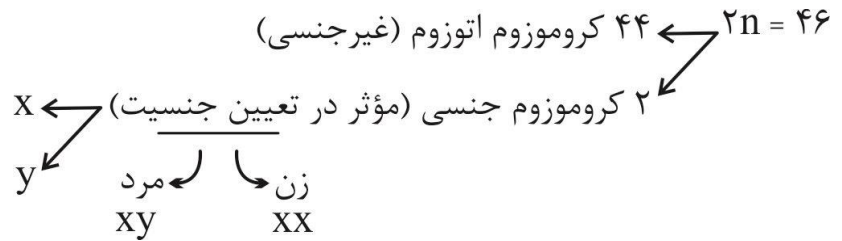
هاپلوئید (نک لاد)

دپلوئید (دولا)


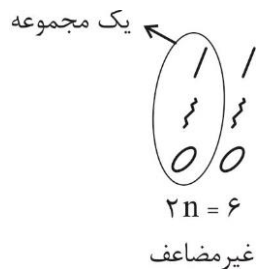
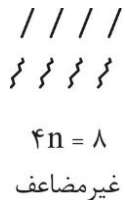
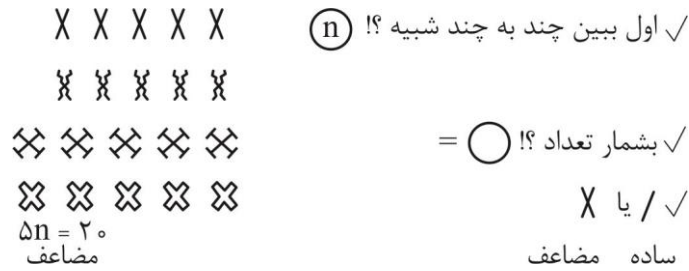
پلی پلوئید

مولف: دکتر مرزا سادات پاپونی

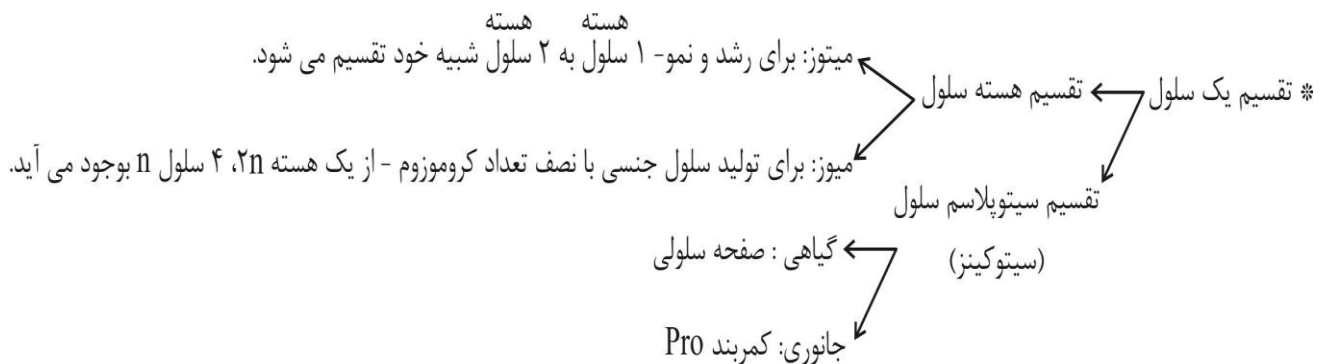
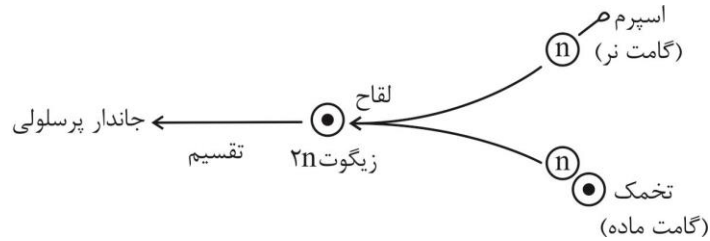
عدد کروموزومی انسان



✓ راه مشخص کردن عدد کروموزومی:



زندگی انسان



در یافته $Xn=Y$

X بیانگر تعداد مجموعه هر کروموزوم می باشد ← کروموزوم ها X تا X تا با هم همتا می باشند.

n برابر تعداد کروموزوم هر مجموعه می باشد که با هم غیرهمتا می باشند.

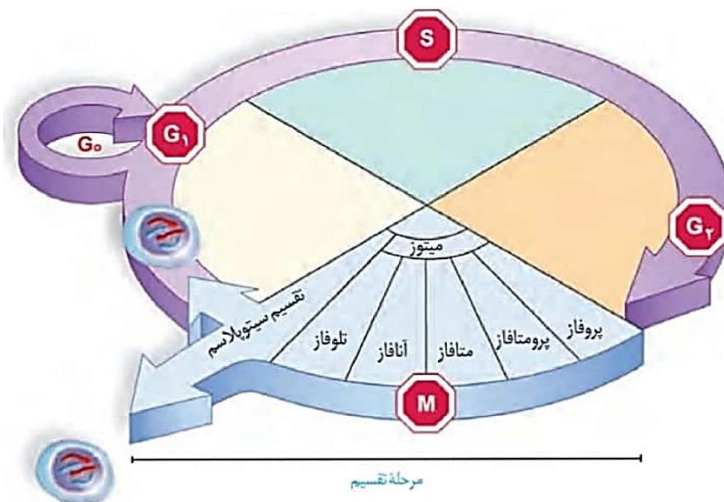
Y بیانگر تعداد کروموزوم یا عدد کروموزومی یاخته می باشد.


پرفه سلولی

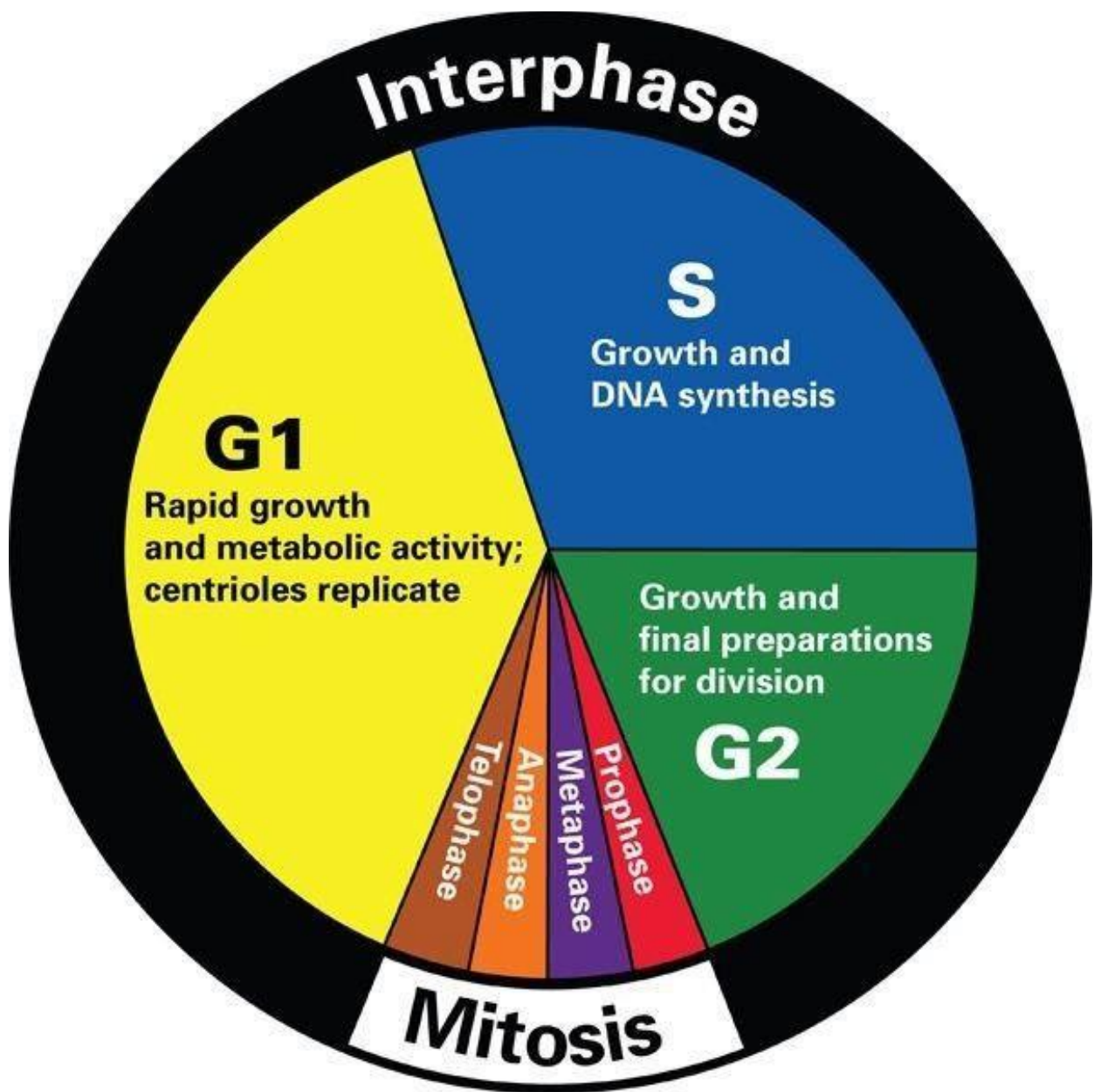
مراحل زندگی یک یاخته، از پایان یک تقسیم تا پایان تقسیم بعدی را چرخه یاخته ای می نامند.

در یاخته های مختلف، مدت زمان مراحل چرخه یاخته ای متفاوت می باشد.

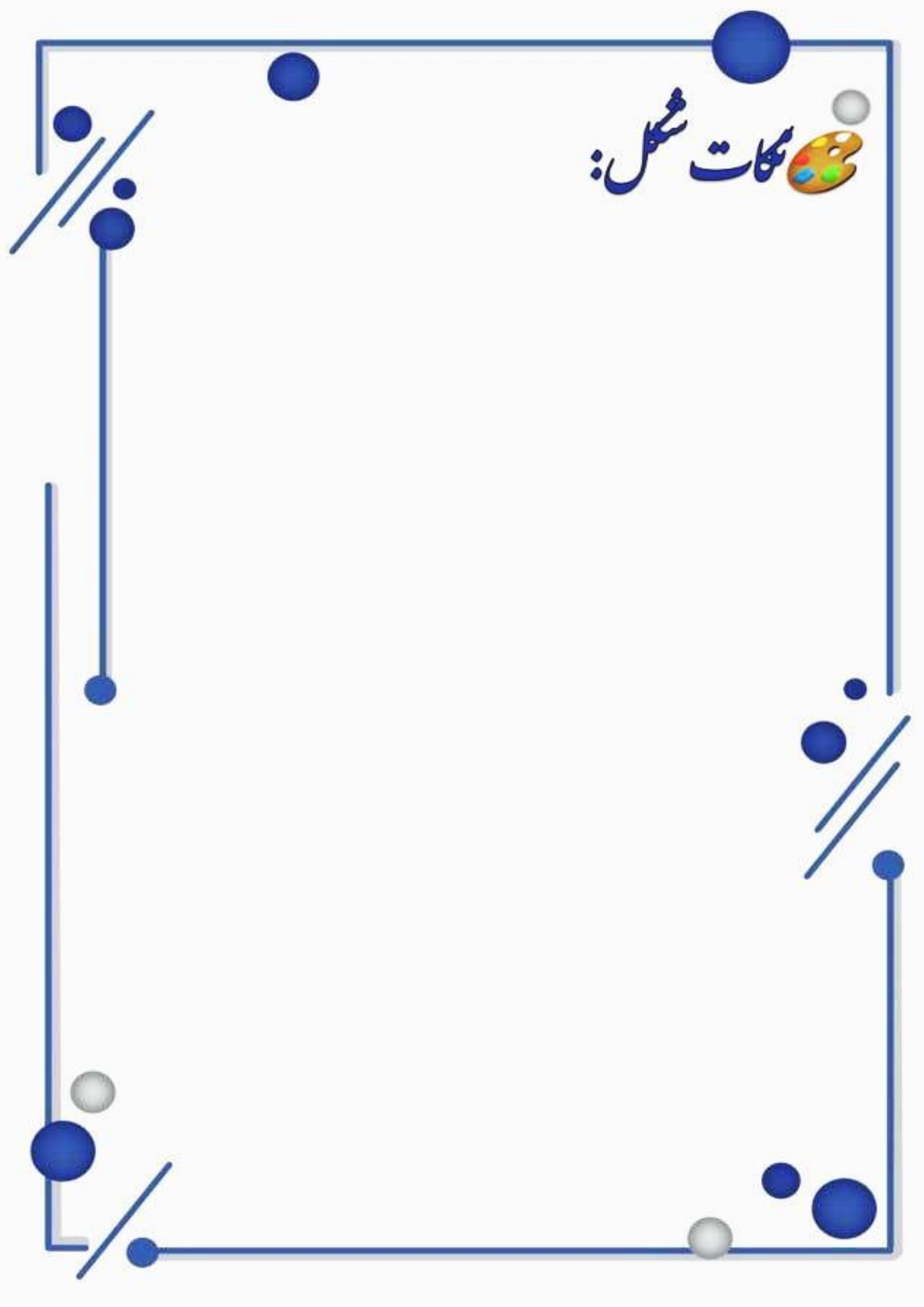
چرخه یاخته ای، دو مرحله اینترفاز و تقسیم دارد.



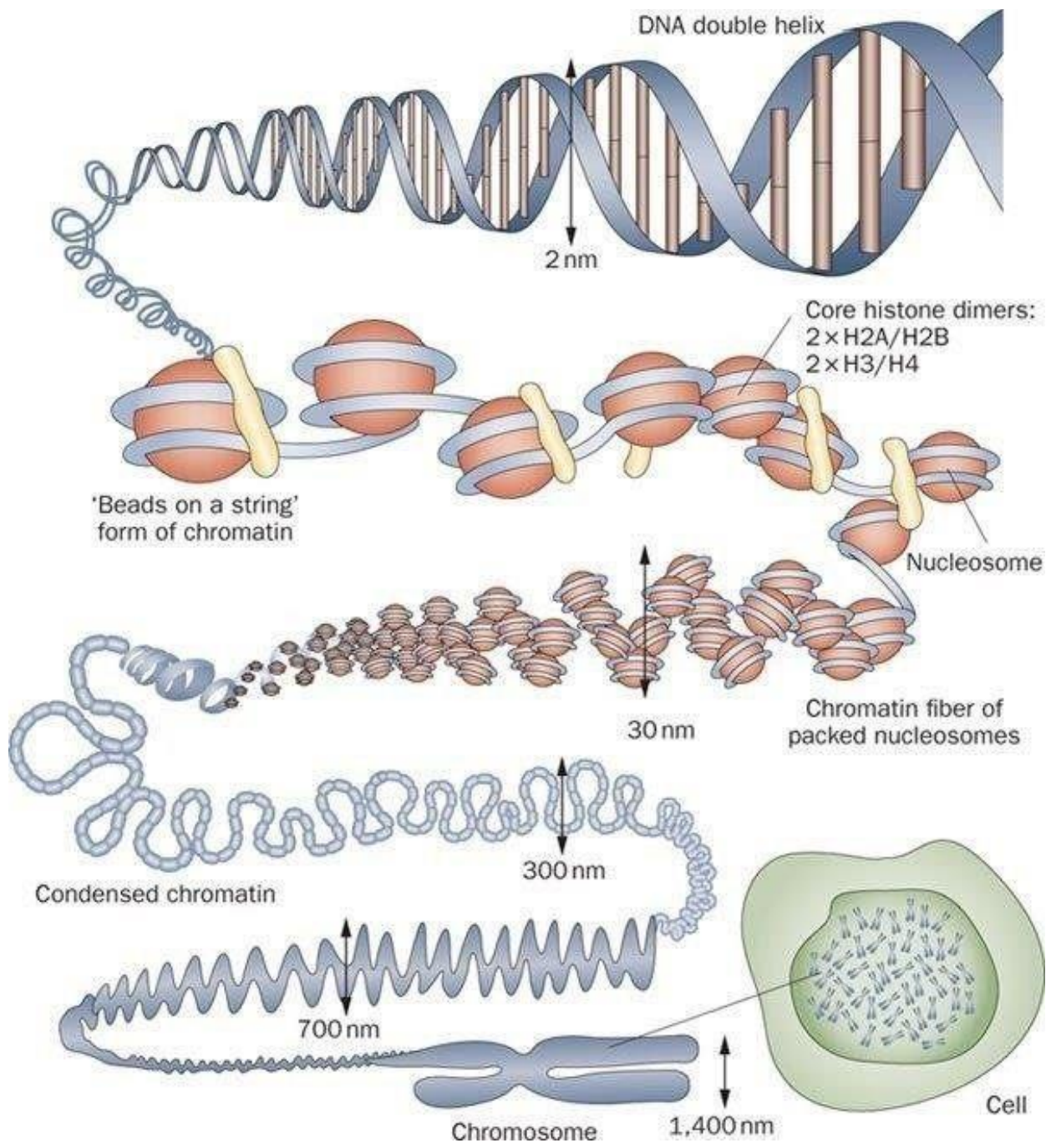




تصاميم و نماذج:







اینجا!

* سلول های بدن پانداران

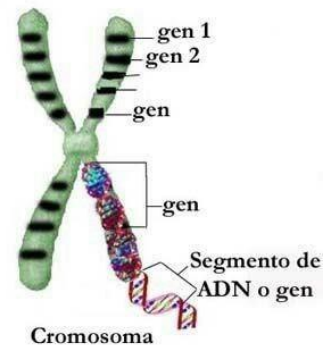
دائماً در حال تقسیم هستند
 (سلولهای بنیادی مغز استخوان و سلول های سرلادی گیاهان)
 در شرایط خاص (شرایط نامساعد محیطی یا افزایش بیش از حد سلولها)
 تقسیم کاهش یا متوقف
 به ندرت تقسیم می شوند (وارد G_0) مثل نورون

* تنظیم سرعت تقسیم یافته

در پاسخ به بعضی عوامل محیطی و مواد شیمیایی
 تنظیم توسط ۲ نوع Pro
 Proهایی که محرک تقسیم (گاز)
 Proهایی که مانع تقسیم (ترمز)

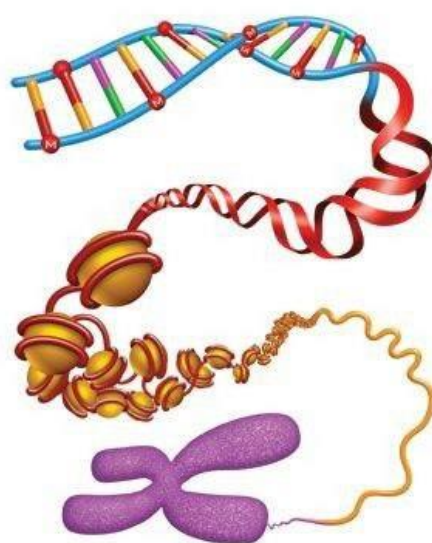
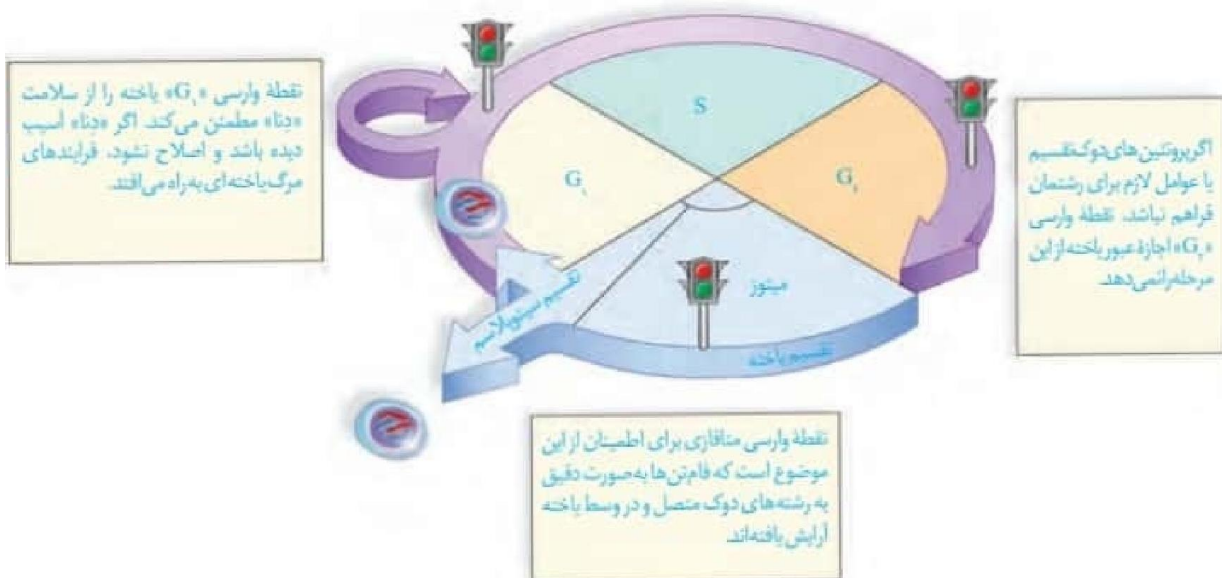
Example

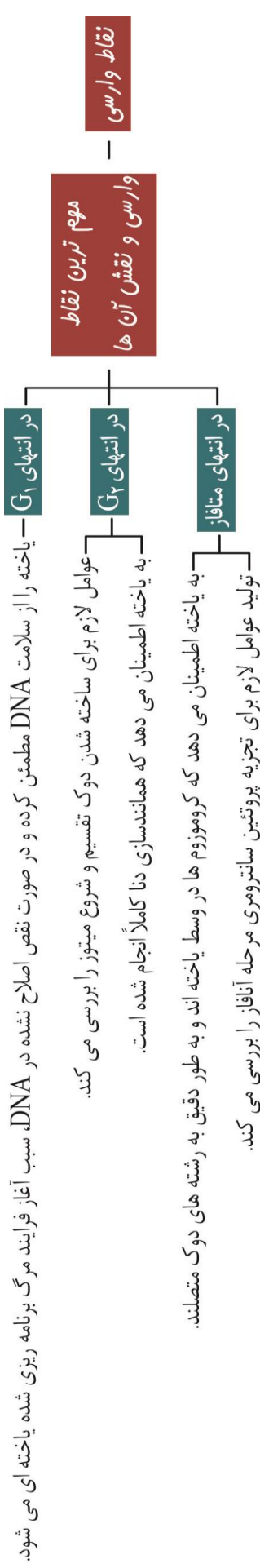
- (۱) هورمون رشد: در گیاهان در محل آسیب دیده باعث سرعت تقسیم و ایجاد توده سلول (مانع نفوذ میکروب)
 - (۲) عامل رشد: در زیر پوست انسان با \uparrow سرعت تقسیم \uparrow سرعت بهبود زخم
 - (۳) اریتروپوتین: هنگام $\downarrow O_2$ ، اریتروپوتین از کلیه ترشح و بر مغز هورمون
- مز استخوان اثر گذاشته و تولید سلولهای خونی را \uparrow



ویژه چرخه یاخته ای در یوکاریوت هاست. تنظیم تقسیم یاخته ای توسط این نقاط انجام می شود. پروتئین هایی تنظیمی در انتهای G_1 ، G_2 و متافاز تقسیم می باشند. این نقاط به یاخته اطمینان می دهند که مرحله قبل کامل شده است. عوامل لازم مرحله بعد، آماده و تولید شده است.

نقاط واری





اگر تعادل این دو بهم بخورد و تقسیم < مرگ ⇔ تومور

* تعداد سلول تقسیم ↑ مرگ ↓

تومور

در اثر برهم خوردن تعادل بین تقسیم یاخته و مرگ یاخته صورت می گیرد.

توده ای است که در اثر تقسیمات تنظیم نشده ایجاد می شود.

انواع تومور

خوش خیم

بدخیم (سرطان)

توموری با رشد کم بوده که یاخته‌های آن در جای خود مانده و منتشر نمی‌شوند.
معمولاً آن قدر بزرگ نمی‌شوند و به بافت‌های مجاور خود آسیب نمی‌رسانند.
در مواردی که بیش از حد بزرگ شود ← می‌تواند در انجام عمل طبیعی اندام اختلال ایجاد شود.
نوع لیپومای آن، یاخته‌های چربی (بافت پیوندی) تکثیر شده و توده‌ای ایجاد می‌کند که در بالغین متداول است.

رشد آن زیاد است ← یاخته‌هایی از آن جدا شده ← همراه با خون یا به ویژه لنف به نواحی دیگر بدن می‌رود ← در آنجا مستقر شده و رشد می‌کند.
به بافت‌های مجاور حمله می‌کند و توانایی دگرنشینی (متاستاز) دارد ← یعنی با ورود به محیط داخلی در بدن پخش می‌شود.
علت اصلی آن، برخی تغییرات در ماده ژنتیکی یاخته‌ها است ← چرخه یاخته از کنترل خارج می‌شود.
نوعی از آن به نام ملانوما، سبب بدخیمی در یاخته‌های رنگدانه دار پوست می‌شود.

مراحل رشد و متاستاز سرطان

- ابتدا یاخته‌های سرطانی شروع به تهاجم به یاخته‌های همان بافت می‌کنند.
- یاخته‌های سرطانی در بافت گسترش می‌یابند ولی هنوز به لنف کنار آن نرسیده است.
- یاخته‌های سرطانی به لنف مجاور محل تکثیر خود وارد می‌شوند.
- یاخته‌های سرطانی به بافت‌ها و اندام‌های دور دست تر رفته و پس از استقرار، آن‌ها را سرطانی می‌کنند.



(ب)



(الف)

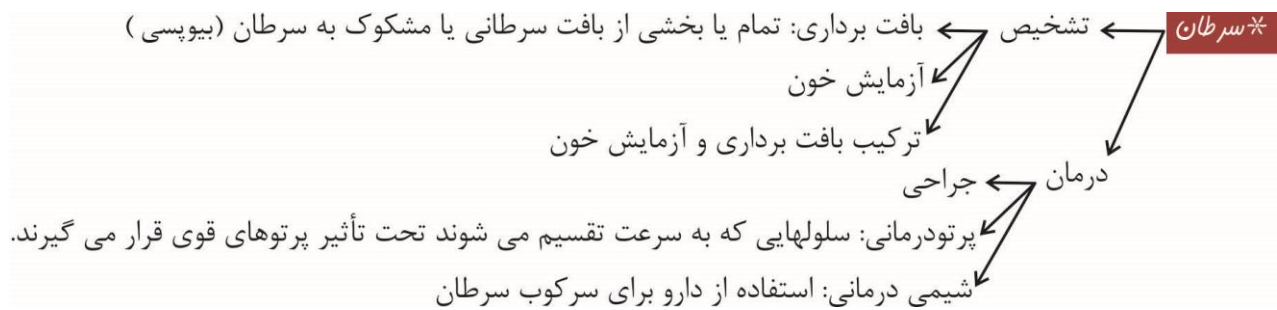
الف) تومور خوش خیم لیپوما، در نزدیکی آرنج
ب) ملانوما نوعی تومور بدخیم یاخته‌های
رنگدانه دار پوست

مولف: دکتر مرزا سادات هایونی

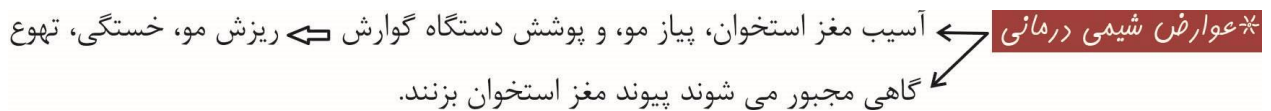
بیماریات منحل:



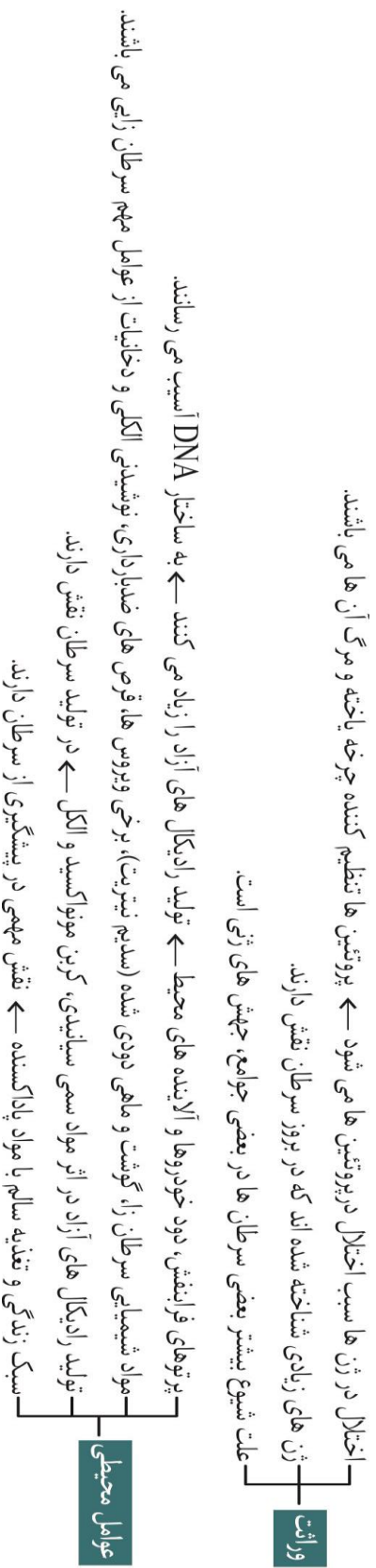
* سرطان



* عوارض شیمی درمانی



عوامل مؤثر در ابتلا به سرطان



در حالاتی مثل بریدگی ها ← سبب بافت مردگی می شود.

تجمع رادیکال های آزاد در اثر مصرف زیاد الکل ← تخریب دئای راکیزه کبدی ← نکروز یا بافت مردگی کبدی می دهد.

یک سری فرایندهای دقیقاً برنامه ریزی شده در برخی یاخته ها و در شرایط خاص می باشد.

رسیدن علائمی به یاخته ها ← پروتئین تخریب کننده یاخته ← در چند ثانیه شروع به تجزیه یاخته و مرگ آن می کند.

حذف یاخته پیر یا آسیب دیده در آفتاب زدگی از آن مدل است ← یاخته هایی که دئای آسیب دیده در اثر پرتو فرابنفش دارند، می توانند سرطانی شوند.


حذف یاخته های اضافی مثل پرده بین انگشتان پای برخی پرندهگان

ورود آنزیم های مرگ برنامه ریزی شده به همراه پرفورین از یاخته های لنفوسیت کشنده طبیعی و نوع T در برخورد با سرطان ها یا یاخته آلوده به ویروس.

مرگ یافته ای

تصادفی

مرگ برنامه ریزی شده





توجه داشته باشید اختلال در عملکرد نقاط واریسی می تواند سبب تقسیم بی رویه یاخته و ایجاد تومور شود.



در ایجاد هر دو نوع تومور خوش خیم و بدخیم، اختلالات نقاط واریسی دارای نقش است.



هر نوع توموری که در آن یاخته ها در جای خود باقی مانده و امکان انتشار ندارند، معمولاً رشد کمی دارد، بیش از اندازه بزرگ نمی شود و به بافت های مجاور آسیب نمی رساند.

نکته ۴

هر نوع توموری که می‌تواند به بافت‌های مجاور حمله کند، توانایی دگرنشینی (متاستاز) دارد، می‌تواند یاخته‌هایی را همراه با جریان خون یا لنف به نواحی دیگر بدن گسیل دهد و به بافت‌های مجاور خود آسیب رساند.

نکته ۵

لیپوما نوعی تومور خوش خیم از یاخته‌های چربی و ملانوم نوعی تومور بدخیم از یاخته‌های رنگدانه‌دار پوست می‌باشد.

نکته ۶

شرط بروز متاستاز توسط یاخته‌هایی که جزء بافت پوششی بوده و سرطانی شده‌اند، عبور این یاخته‌ها از غشای پایه است.

نکته ۷

متاستاز با عبور یاخته‌ها از مسیر لنفی متداول تر از متاستاز با عبور یاخته‌ها از مسیر خونی است.

نکته ۸


آزمایش خون و بافت‌برداری به تشخیص سرطان و جراحی، شیمی‌درمانی و پرتودرمانی به درمان این بیماری کمک می‌کند.

نکته ۹

. توجه داشته باشید که در پرتو درمانی تعداد محدودی از یاخته‌های بدن یعنی به طور عمده یاخته‌های سرطانی تحت تأثیر قرار می‌گیرند. اما شیمی‌درمانی سبب سرکوب تقسیم یاخته‌ها در همه بدن می‌شود، به همین علت می‌تواند به یاخته‌های مغز استخوان، پیاز مو و پوشش دستگاه گوارش نیز آسیب برساند و سبب مرگ یاخته‌ها شده و عوارضی مانند ریزش مو، تهوع و خستگی ایجاد کند.

نکته ۱۰

هم پرتو درمانی به هم شیمی‌درمانی به شرط شدید بودن می‌توانند با اثرگذاری منفی در مغز استخوان سبب نیاز بیمار سرطانی به پیوند مغز استخوان برای تامین یاخته‌های خونی مورد نیاز خود بشوند.



جنم برات بکھ 

✨ خلاصه نویسی به روش فلوجارت و #گذاری:



SCIENCE
144 OBJECTS
EPS, AI, PNG

CLICK to see ALL



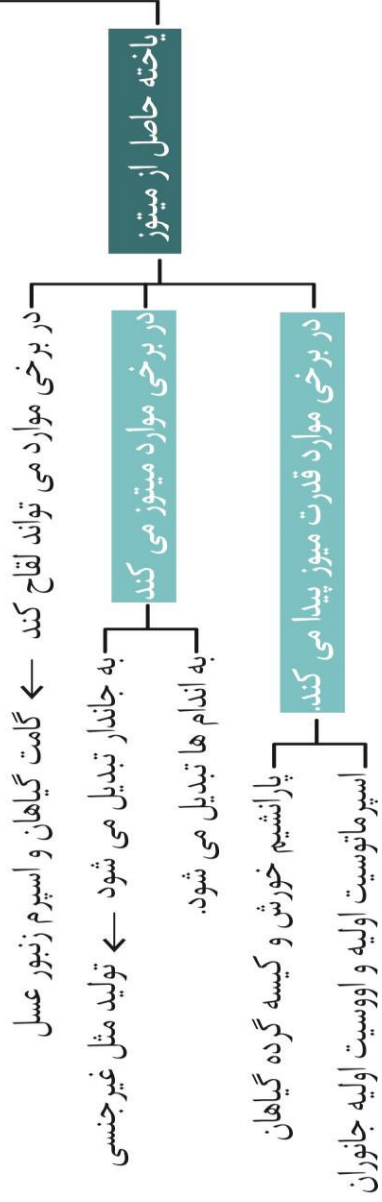


تقسیمی ویژه هسته یوکاریوت ها است که ماده ژنتیکی مضاعف شده در مرحله S اینترفاز، تقسیم می شود تا به طور مساوی به یاخته های جدید برسند. طی این تقسیم، کروموزوم های پراکنده در هسته ← به طور دقیق به وسط یاخته می آیند ← سپس به طور مساوی بین یاخته های دختری تقسیم می شوند.

در هر یاخته ای از نظر عدد کروموزومی مثلاً هاپلوئید، دیپلوئید یا پلی پلوئید صورت می گیرد ← دو یاخته با تعداد کروموزوم مادی مشابه می سازد.

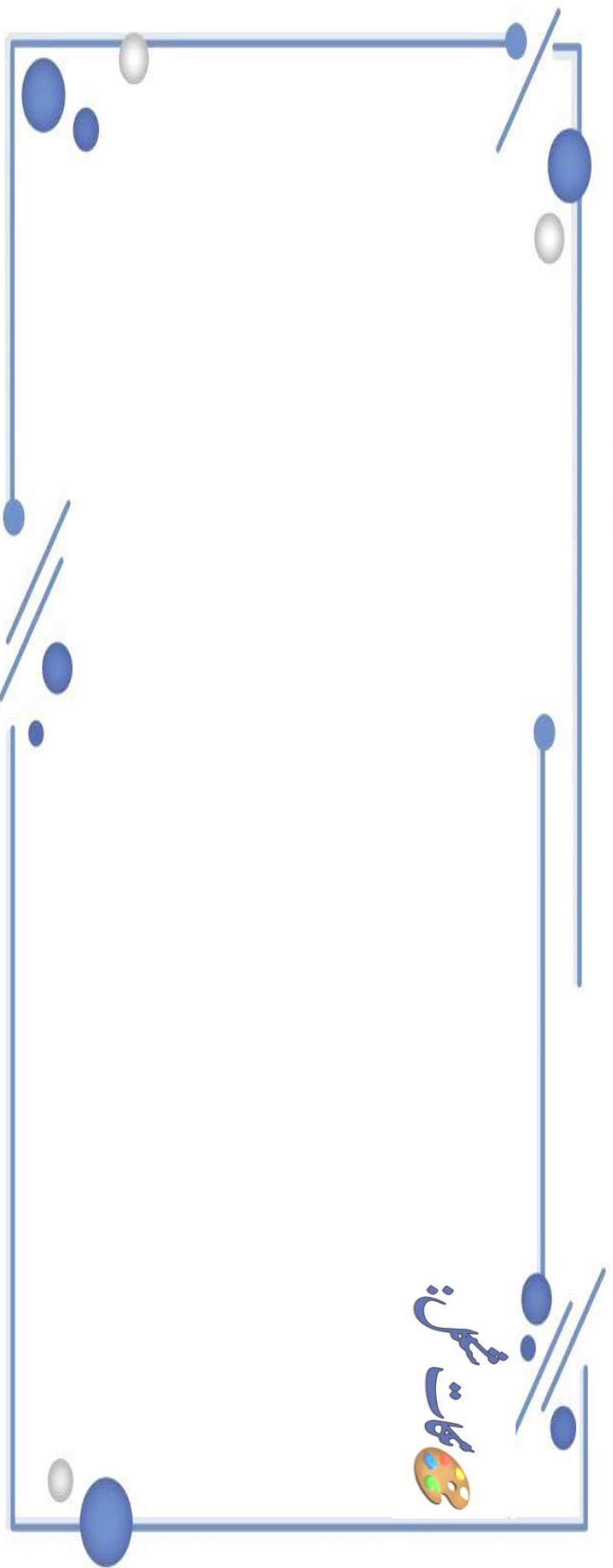
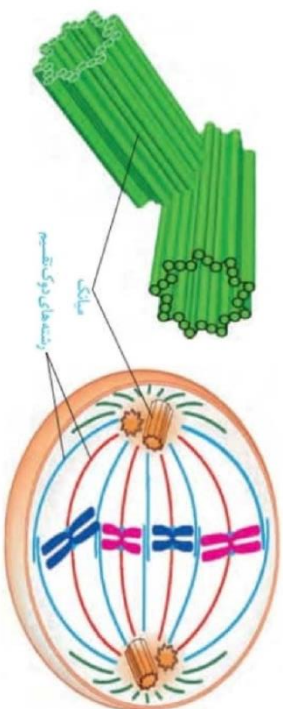
فرایند پیوسته است که برای سادگی فهم، آن را مرحله بندی می کنیم (به دو کروموزوم تک کروماتیدی حاصل از جدا شدن کروماتیدهای خواهری ← کروموزوم های دختری می گویند).

میوز:



مؤلف: دکتر مرزا سادات هاپونی

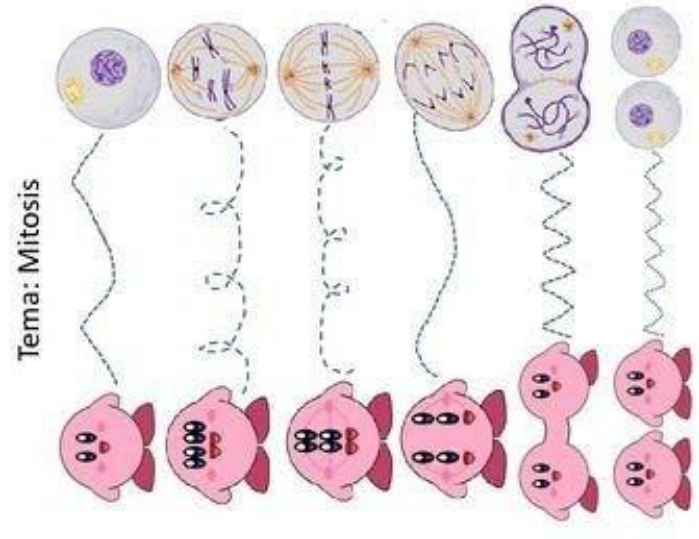
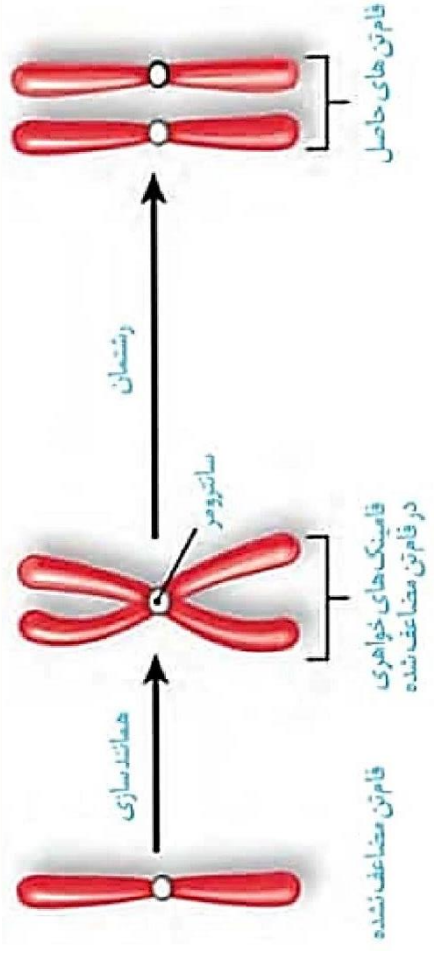
مجموعه ای از ریزلوله های پروتئینی (رشته های ریزپروتئینی) است که برای حرکت و جدا شدن کروموزوم ها لازم است. در هنگام تقسیم یاخته، پدیدار می شوند و برخی از آن ها به سانترومر کروموزوم ها متصل می شوند. با کوتاه شدن رشته های دوک متصل به سانترومرها ← کروماتیدهای خواهری از هم جدا شده و به عنوان کروموزوم های دختری به قطبین می روند. در هر تقسیم یاخته یوکاریوتی در مرحله بروفاز، تشکیل شده، در مرحله آنافاز کوتاه شده و در مرحله تلوفاز تخریب و ناپدید می شوند.

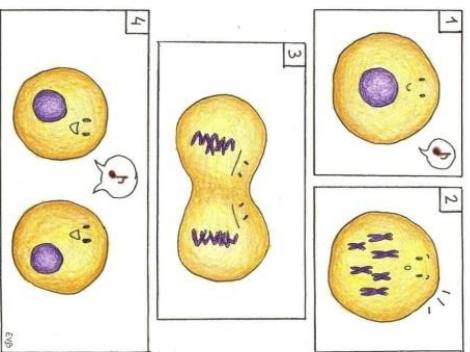


در یاخته های جانوری وجود دارد و ساخته شدن رشته های دوک را سازماندهی می کند.
هر کدام یک جسم استوانه ای است که از ۹ دسته ریزولوله پروتئینی کوچک تر از دوک ایجاد شده است ← دسته ریزولوله های سه تایی مجاور به هم متصلند.
در اینترفاز و در مرحله G_۲، دوبرابر می شوند ولی در مرحله تقسیم فعالیت می کند.

سانتریول (میانگ)

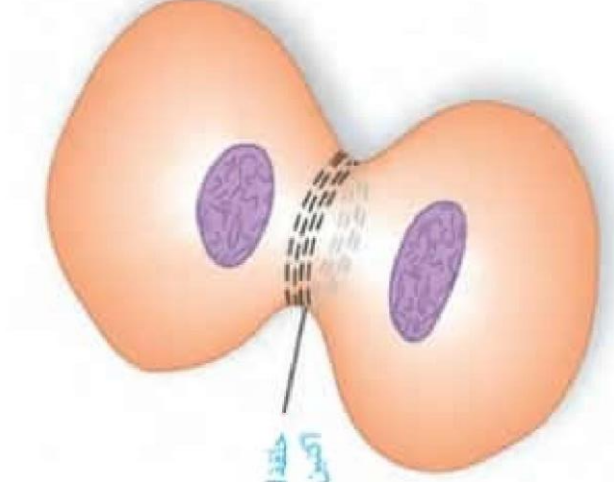
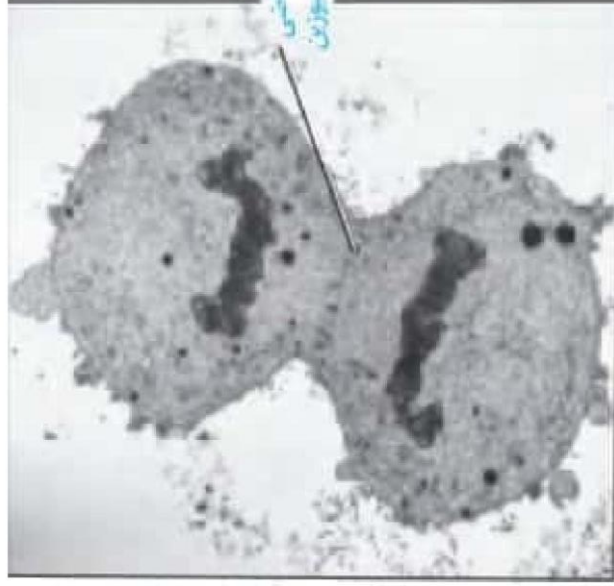
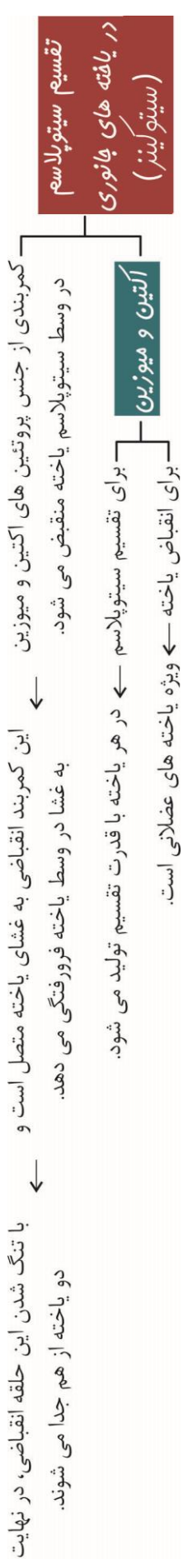
در شروع تقسیم، یاخته جانوری دارای دو جفت یا ۴ سانتریول است.
در اطراف آنها رشته های کوتاه لوله ای پروتئینی ایجاد می شود.





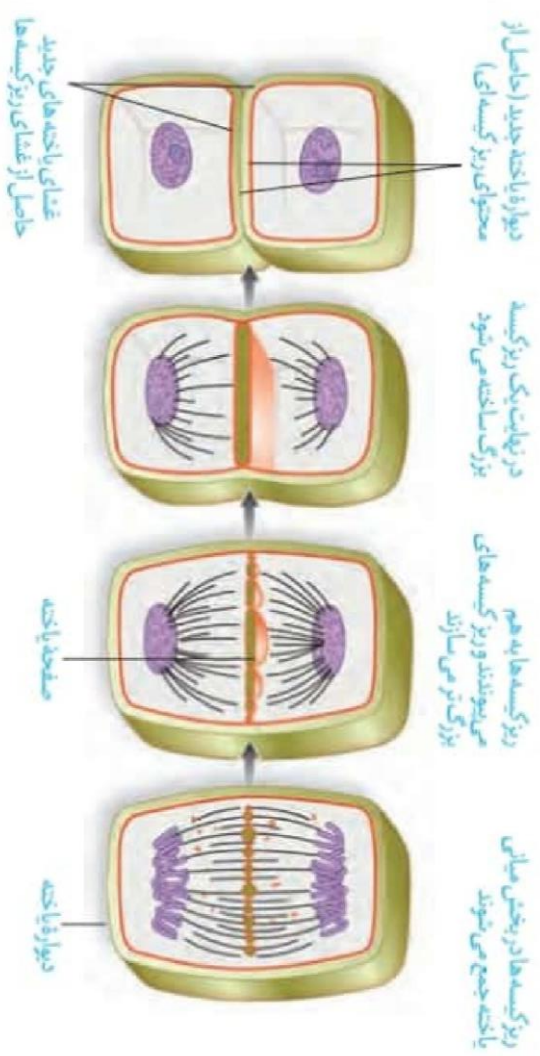
تقسیم سیتوپلاسم (سیتوکینز): بعد از تقسیم هسته (میتوز)، ابتدا اجزای یاخته بین دو سیتوپلاسم تقسیم شده و با تقسیم سیتوپلاسم، دو یاخته

جدید با ژن‌های مشابه ایجاد می‌شود.



تقسیم سیتوپلاسم در یافته های گیاهی

- حلقه انقباضی تشکیل نمی شود.
- ابتدا با تجمع ریزکیسه های دستگاه گلری و پیوستن آن ها به هم صفحه یاخته ای در وسط یاخته (محل ایجاد دیواره) ایجاد می شود.
- ریزکیسه های حاصل از گلری حاوی پیش سازهای تیغه میانی و دیواره یاخته اند.
- صفحه یاخته ای به دیوار یاخته مادری متصل شده و سپس دو یاخته جدید از هم جدا می شوند.
- اطراف صفحه دیوار جدید، غشای وزیکول یا غشای یاخته وجود دارد.
- لان و پلاسمودسم نیز هنگام دیواره جدید پایه گذاری می شوند.
- به ترتیب: ریزکیسه ها ← صفحه یاخته ای ← یک ریزکیسه بزرگ ← دیواره یاخته
- در یاخته هایی مثل گرده رسیده یا اولین تقسیم تخم 2n نهادانگام، سیتوپلاسم به صورت نامساوی تقسیم می شود.
- تشکیل دیواره در گیاهان از آغاز آغاز می شود که هنوز دوک تقسیم وجود دارد.



مؤلف: دکتر زهرا سادات باولونی


«مقایسه ی سیتویکترا»

تقسیم سیتوپلاسم		تقسیم هسته (میتوز)				اینترفاز		
مرحله وقفه اولیه یا G_1	مرحله وقفه دوم یا G_2	مرحله کوتاه تر نسبت به بقیه مراحل اینترفاز	مرحله کوتاه تر نسبت به بقیه مراحل اینترفاز	مرحله کوتاه تر نسبت به بقیه مراحل اینترفاز	مرحله S	مرحله وقفه اولیه یا G_1	سیتوکینز	تولفاز
<p>2n = 4 غیر مضاعف</p> <p>- سلول در حالت زندگی عادی</p> <p>- در حال رشد است و مدت زیادی در این مرحله است.</p>	<p>2n = 4 مضاعف</p> <p>- با روش همانندسازی DNA کروموزوم های تک کروماتییدی به صورت ۲ کروماتییدی می شود (همانند سازی DNA خطی هستند)</p>	<p>2n = 4 مضاعف</p> <p>مرحله کوتاه تر نسبت به بقیه مراحل اینترفاز</p> <p>- سلول با ساخت پروتئین و همانندسازی اندامک برای تقسیم سلولی آماده می شوند.</p> <p>(همانندسازی DNA حلقوی اندامک میتوکندری و کلروپلاست)</p>	<p>2n = 4 مضاعف</p> <p>- فشرده شدن کروماتین و ضخیم و کوتاه شدن کروماتین ها</p> <p>- با جدا شدن ۲ جفت سانتیبول به دو طرف سلول، دوک میتوزی ساخته شد.</p> <p>- ناپدید شدن پوشش اندامک و هسته شروع می شود.</p>	<p>2n = 4 مضاعف</p> <p>- شروع این مرحله بلافاصله بعد از تولید دوک غشاء - تخریب شده اتصال - کروموزوم ها از سانترومر به دوک</p>	<p>2n = 4 مضاعف</p> <p>- بیشترین فشردگی ماده ژنتیک قرارگیری کروموزوم ها در استوای سلول (صفحه کروموزومی)</p>	<p>هر قطب: 2n = 4 غیر مضاعف</p> <p>- تجزیه پروتئین اتصال در سانترومر و کوتاهی نوک باعث جدا شدن کروماتیدهای کروموزوم و کروماتیدی های تک کروماتییدی تولید می شوند در هر قطب (جدا شدن کروموزوم های دختری)</p>	<p>2n = 4 غیر مضاعف</p> <p>- تخریب دوک و کاهش فشردگی کروموزوم ها و تبدیل به کروماتین - تشکیل پوشش هسته</p>	<p>جدا شدن سیتوپلاسم و تولید ۲ سلول که دقیقاً مشابه سلول اولیه می باشد.</p>

* در اثر میتوز که در جهت تکثیر و رشد و ترمیم رخ می دهد ← از یک سلول ۲۰ سلول دقیقاً مشابه خودش تولید می کند.

مولف: دکتر هراسادات پایونی

مقایسه ی میوز و میوز؟!!!



جو نعم برات بگہ

✨ خلاصه نویسی به روش فلوجارت و #گذاری:

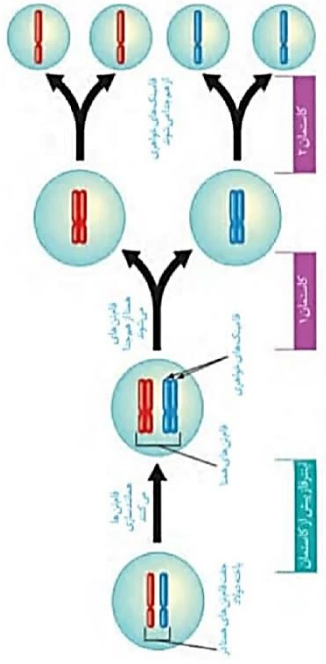




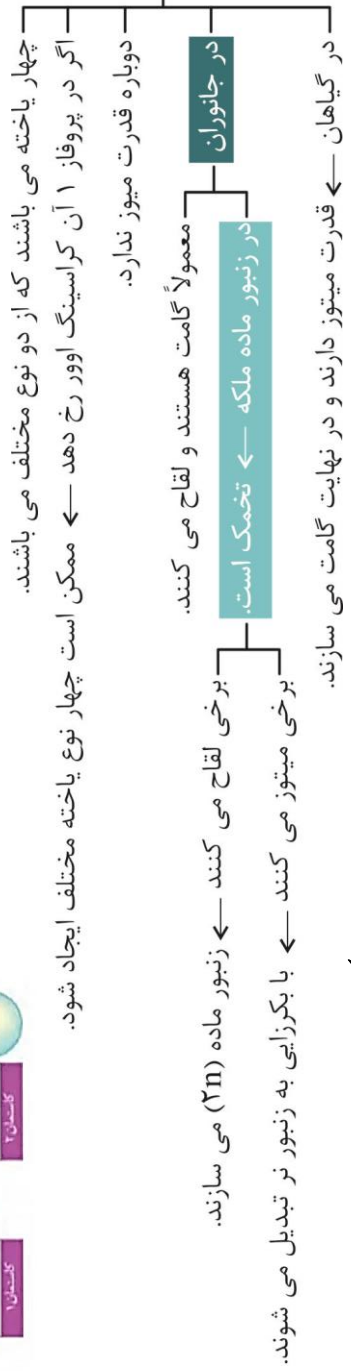
صل ۶ کفتار ۳: عدد کروموزومی انسان

تقسیمی ویژه تولید مثل جنسی در یوکاریوت ها می باشد که دو مرحله تقسیم متوالی دارد و مرحله اول آن با کاهش عدد کروموزومی همراه می باشد. یک مرحله اینترفاز به همراه دو مرحله کلی میوز ۱ و میوز ۲ دارد که در هر مرحله پس از تقسیم هسته، تقسیم سیتوپلاسم هم رخ می دهد.

میوز ۱ با کاهش عدد کروموزومی همراه است ولی میوز ۲ همانند میوز ۱ یاخته می باشد و با کاهش عدد کروموزومی همراه نیست. میوز بر خلاف میوز فاقد مرحله پرومتافاز می باشد ولی تفاوت میوز و میوز، اغلب در مراحل میوز ۱ صورت می گیرد.



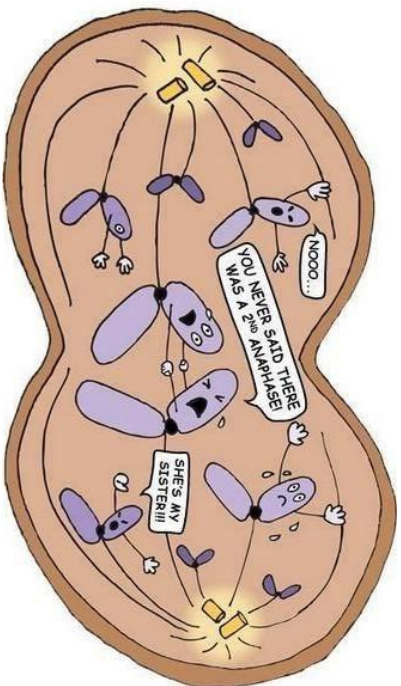
یافته های حاصل از میوز



مولف: دکتر مرزا سادات پهلوانی

زنگنه ۱۱

در جانوران فقط اسپرماتوسیت اولیه و اووسیت اولیه قادر به شروع آن می باشند. (میوز).



سانتریول ها جدا شده و بین آنها دوک ایجاد می شود.

کروموزوم ها فشرده تر می شوند.

فشای هسته از بین می رود.

کروموزوم های هممتای مضاعف از طول در کنار هم قرار گرفته و ساختار ۴ کروماتیدی یا تتراد تشکیل می دهند (مهم ترین تفاوت با میوز).

هر تتراد حاوی دو سانترومر است که به یک طرف هر سانترومر رشته های دوک متصل می شود.

تترادها در استوای باخته قرار گرفته و توسط رشته های دوک از دو طرف با قطبین یاخته در ارتباط هستند.

رشته های دوک کوتاه شده و کروموزوم های هممتای مضاعف از یکدیگر جدا می شوند.

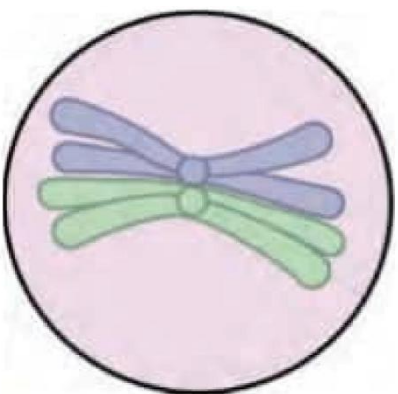
در هر قطب، نصف تعداد کروموزوم یاخته اولیه، کروموزوم وجود دارد.

در این مرحله دو الل هر جایگاه زنی از هم جدا می شوند.

در این مرحله پروتئین های اتصالی در ناحیه سانترومری تجزیه نمی شوند.

در این مرحله کروموزوم دختری ایجاد نمی شود.

با تشکیل هسته به دور کروموزوم های هر قطب یاخته، ابتدا یک یاخته دوهسته ای ایجاد می شود. هر هسته نصف یاخته اولیه، کروموزوم دارد و سپس با تقسیم سیتوپلاسم، دو یاخته ایجاد می شود. معمولاً در پایان آن تقسیم سیتوپلاسم انجام و عدد کروموزومی نصف می شود.

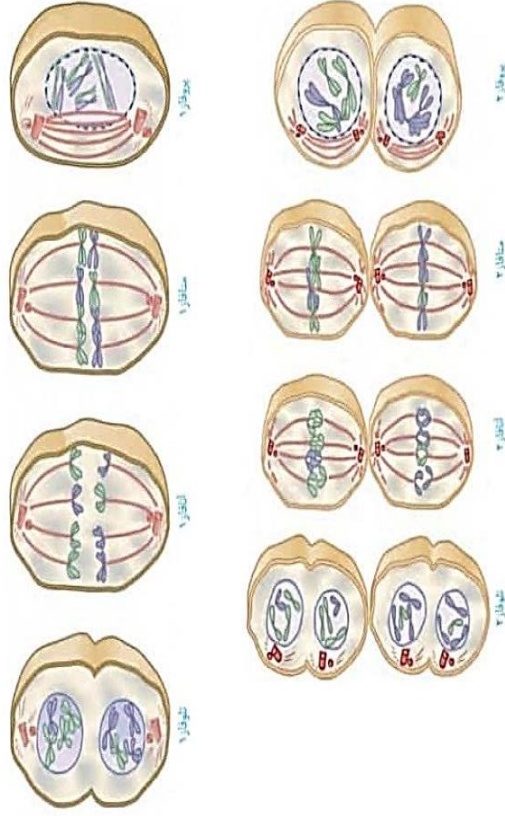


مراحل میوز ۱

- ۱ پروفاز ۱
- ۱ متافاز ۱
- ۱ آنافاز ۱
- ۱ تلوفاز ۱

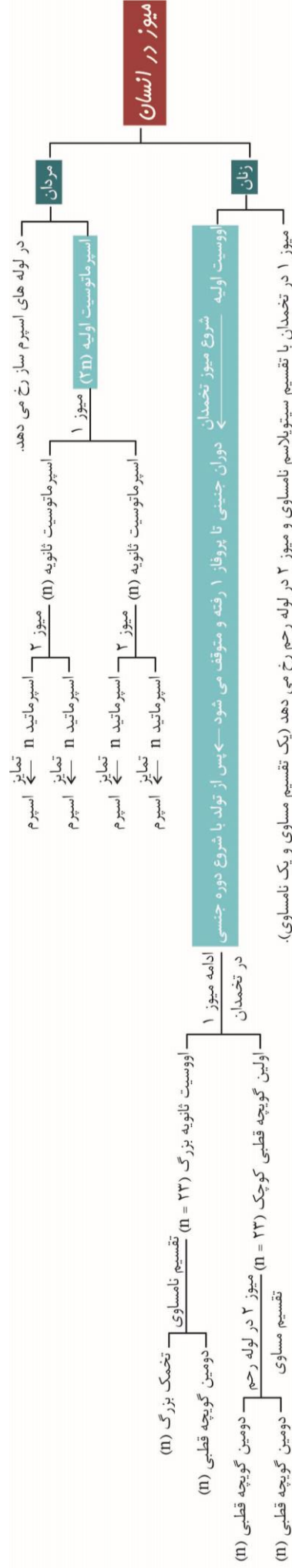
بین آن ها اینتر فاز و مضاعف شدن کروموزوم ها وجود ندارد.
در یاخته های جانوری، سانتزیول ها همانندسازی کرده و دوباره هر یاخته دارای چهار سانتزیول می شود.

بین میوز ۱ و ۲





تمام وقایع میوز در مراحل پروفاز ۲ تا تلوفاز ۲ رخ می دهد.
در پایان آن چهار یاخته ایجاد شده است که دو به دو به هم شبیه می باشند
یاخته های حاصله کروموزوم های تک کروماتییدی و به تعداد نصف کروموزوم یاخته مادری دارند.
در پایان تقسیم آن با تقسیم سیتوپلاسم، چهار یاخته ایجاد می شود که قدرت لقاح یا میتوز دارند ولی دوباره نمی توانند میوز کنند.

وقایع میوز ۲



مولف: دکتر زهرا سادات هاپونی

سیتوکینز II				میتوز I				اینترفاز					
تلفاز II	آنافاز II	متافاز II	پروفاز II	تلفاز I	آنافاز I	متافاز I	پروفاز I	G ₂	S	G ₁			
 n = 2 غیر مضاعف	 n = 2 غیر مضاعف	 n = 2 مضاعف	 n = 2 مضاعف	 مضاعف n = 2 - تشکیل	 هر قطب n = 2 - با کوتاه شدن دوک	 مضاعف 2n = 4 - قرار گرفتن تترادهای روی دوک در استوای سلول (صفحه کروموزومی)	 مضاعف 2n = 4 - تولید ساختار ۴ کروماتیدی تتراد و اتصال تترادها از سانترومر به دوک و ناپدید شدن غشا هسته	 ۲n = ۲ مضاعف - همانندسازی اندامک ها و پروتئین سازی و آمادگی برای تقسیم سلولی (زمان کوتاه)	 2n = 4 مضاعف - همانندسازی DNA هسته و ۲ کروماتیدی شدن کروموزوم	 2n = 4 غیر مضاعف - سلول در حالت عادی در حال رشد (مدت طولانی)			
سیتوکینز و همانندسازی سانتریول ۲ بار													
 جدا شدن سیتوپلاسم ها و تولید گامت	 تشکیل پوشش هسته	 جدا شدن کروماتید خاوهری و رفتن به قطب	 قرار گرفتن کروموزوم در استوای سلول	 ناپدید شدن پوشش هسته									

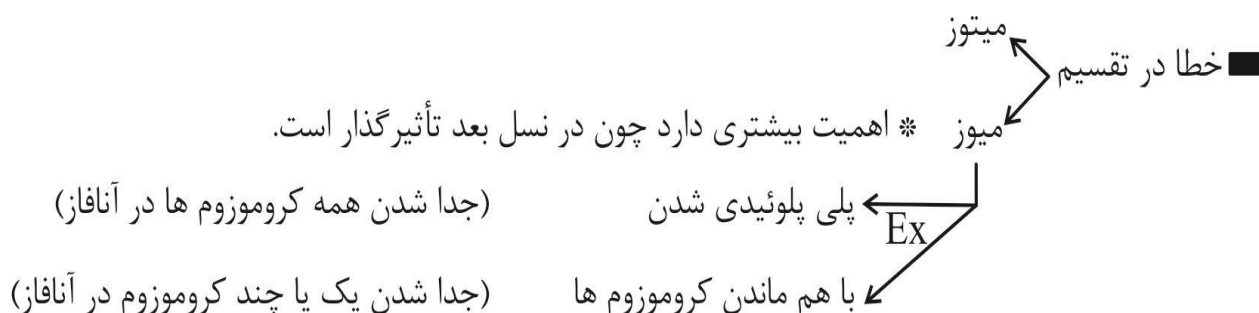
مولف: دکتر زهرا سادات پاپونی

* تتراد: ساختار ۲ کروموزوم که کروموزوم‌های همتا هستند که از طول در کنار همدی و فشرده می‌شوند.

۴ کروماتید - ۲ سانترومر - ۴ DNA - ۸ نوار پلی نوکلئوتید.

* طی میوز (برای تولید گامت) از یک سلول $2n$ ، ۴ سلول n تولید می‌شود ← نوعی تقسیم کاهشی

- (جدا شدن کروموزوم‌های همتا) ✓ طی میوز I ← ۱ سلول دیپلوئید مضاعف ← ۲ سلول هاپلوئید مضاعف
- (جدا شدن کروماتید خواهری) طی میوز ✓ ۲ سلول هاپلوئید مضاعف ← ۴ سلول هاپلوئید غیرمضاعف



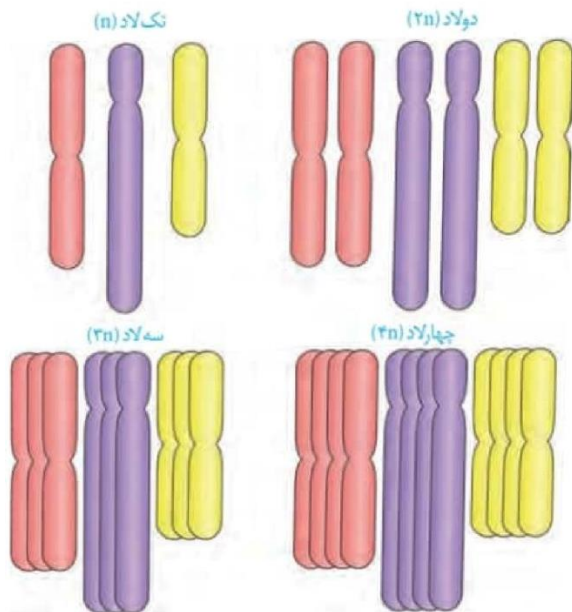
• پلی پلوئیدی شدن:

دلیل ← در مرحله آنافاز همه کروموزوم‌ها بدون اینکه جدا شوند به یک سلول بروند.
نتیجه ← یکسلول ۲ برابر کروموزوم دارد و سلول دیگر فاقد کروموزوم است.


- با تخریب رشته‌های دوک تقسیم این وضعیت ایجاد می‌شود!

به یاخته یا جاننداری که بیش از دو ردیف کروموزوم داشته باشد. ← پلی پلوئید می گوئیم.
 در اثر جدا نشدن همه کروموزوم ها در مرحله آنافاز میتوز یا میوز رخ می دهد.
 یاخته حاصل دو برابر یاخته اولیه کروموزوم دارد و یاخته دیگر فاقد کروموزوم است.
 در آزمایشگاه با تخریب رشته های دوک، این وضعیت ایجاد می شود.
 در ایجاد گندم زراعی $6n$ و موز $3n$ دیده می شود.

پلی پلوئیدی شدن (پندلاری شدن)



ترکیب کنیم



در اثر جدانشدن یک یا چند جفت از کروموزوم ها در آنافاز میتوز یا میوز رخ می دهد ← در یاخته ها، تعدادی کروموزوم کم یا زیاد می شود.

با هم مانند کروموزوم ها


نشانه داون

شایع ترین با هم مانند کروموزومی در طبیعت است که بیماری حاوی نشانه های متعددی می باشد.

سه عدد کروموزوم ۲۱ دارند، یعنی یاخته های پیکری آن ها ۴۷ کروموزوم دارند.

در اسپرم یا تخمک ایجادکننده آن به جای یک کروموزوم ۲۱ دارای دو کروموزوم ۲۱ بوده است.

بالا بودن سن مادر از عوامل ایجاد تخمک غیرعادی ایجادکننده آن هاست.



مؤلف: دکتر زهرا سادات هایونی



شما تک یک شمیم

نشانگان داون: آمیزه‌ای از نشانه‌های یک بیماری یا یک حالت را نشانگان می‌گویند.

✓ افراد داون: در سلول‌های پیکری خود (غیرجنسی) به جای ۴۶ کروموزوم، ۴۷ کروموزوم دارند.
✓ افراد مبتلا به نشانگان داون، در سلول‌های پیکری به جای ۲ کروموزوم، ۳ کروموزوم شماره ۲۱ دارند. ←

علت: یکی از گامت‌های ایجادکننده‌اش به جای اینکه ۱ کروموزوم ۲۱ داشته باشد، ۲ کروموزوم ۲۱ دارد (به علت خطای میوزی)

علت

(۱) بالا بودن سن مادران هنگام بارداری (زیرا با افزایش سن مادر احتمال خطای میوزی در تشکیل گامت بیشتر می‌شود. زیرا تمام گامت‌های زنان سلول سازندشان از ابتدا در تخمدانها وجود دارد)

(۲) مصرف دخانیات

(۳) نوشیدنی الکلی

(۴) مجاورت با پرتوهای مضر

(۵) آلودگی‌ها

نکته سازی با عدد ولی با خوشمکنی های زیست

- ۱- تعریف چرخه سلولی باید شامل تمامی مراحل G_2, S, G_1 و تقسیم سلولی باشد ولی از یک تصمیم سلولی عبور نکند.
- ۲- علامت پایان هر مرحله نشانه آغاز مرحله بعد است.
- ۳- زوج یا فرد بودن کروموزومها نمی تواند دلیلی بر هاپلوئید و دیپلوئید بودن آنها باشد. مهم اغلب آنهاست.
- ۴- فشردگی کروموزوم: ● Start ← پروفاز ● max ← متافاز ● min ● ← تلوفاز
- ۵- سانتیریولها: همانندسازی ● G_2 ● و بین میوز I و II ● جدا شدن ← پروفاز max ● فاصله: متافاز
- ۶- سانترومرها: تقسیم ← آنافاز میتوز - آنافاز میوز II
- ۷- پوشش هسته: ● شروع تحریک: پروفاز ● تشکیل: متافاز
- ۸- وجود تتراد: پروفاز I، متافاز I
- ۹- وجود کروموزوم مضاعف: پروفاز I، متافاز I، آنافاز I، پروفاز II، متافاز II، پروفاز و متافاز میتوز
- ۱۰- وجود کروموزوم غیرمضاعف: آنافاز II، تلوفاز II، آنافاز و تلوفاز میتوز
- ۱۱- وجود ۳ دسته رشته های دوک:
 - (۱) به سمت بیرونی یاخته کشیده شده و کوتاه
 - (۲) متصل به سانترومر کروموزومها
 - (۳) کشیده شده تا بخش استوایی و کنار هم به صورت مماس قرار گرفته اند.
- ۱۲- تقسیم هسته حتماً توسط دوک انجام می شود اما لزوماً دوک توسط سانتیریول ساخته نمی شه.

۱۳- با کوچک شدن سلول نسبت سطح به حجم افزایش و با بزرگ شدن سلول نسبت سطح به حجم کاهش می‌یابد.

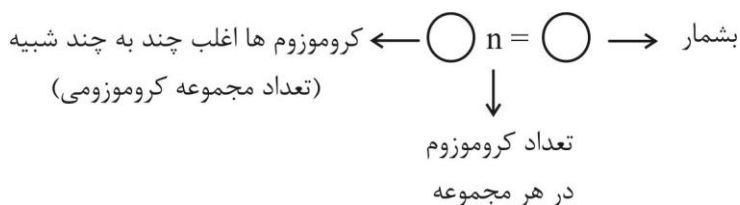
۱۴- مضاعف‌سازی سانتیریولها: ● میتوز ← ۱ بار در G_2 ● میوز ← ۱ بار $G_2 + ۲$ بار
بین دو مرحله

۱۵- هر یاخته $2n$ در مرحله پروفاز I توانایی تولید n تتراد را دارد.

۱۶- تمام یاخته‌ها قابلیت میتوز دارند اما فقط زوج x ها میوز می‌کنند.

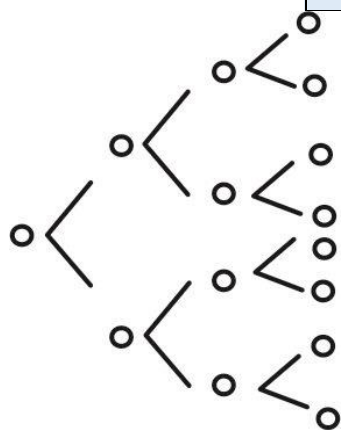
۱۷- جدایی دو آلل مربوط به یک صفت: آنافاز I

A- مشخص کردن عدد کروموزومی



B- یک یاخته:


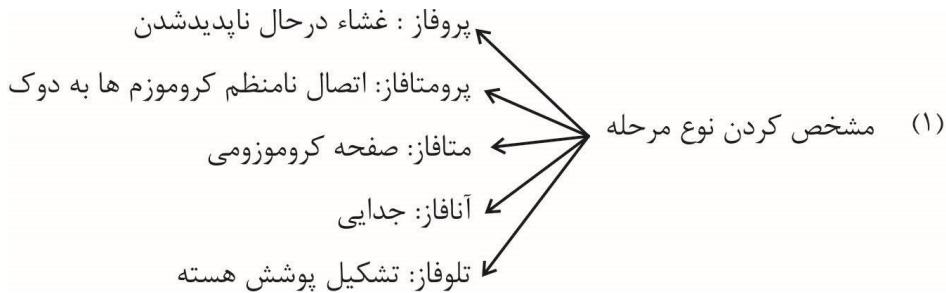
تعداد سلول	تعداد کروموزوم	
$\times 2$	ثابت	<u>طی میتوز</u>
$\times 6$	$\times \frac{1}{2}$	<u>طی میوز</u>
$\times \frac{1}{2}$	$\times 2$	<u>طی لقاح</u>



C- مرحله تقسیم با تعداد تقسیم فرق دارد!

$2^n - 1 =$ تعداد تقسیم $2^n =$ تعداد سلول حاصل از n مرحله $= n$ مرحله تقسیم میتوز

D- تست‌های شکلی



(۳) همواره میتوز هر یاخته معادل میوز ۲ برابر آن است.

E- محاسبه انواع گامت

E_1 ← سلول خالص (هموزیگوت) ← ۱ نوع

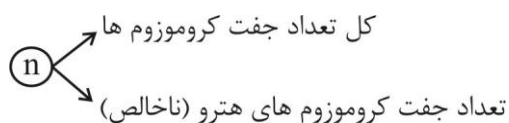
E_2 ← سلول زاینده زن ← ۱ نوع

(می‌تواند، نمی‌کند)

E_3 ← به دنبال میوز ← ۲ نوع

E_4 ← فرمول ژنتیکی بدن ← ● به ازای هر ناخالص $\times 2$ ● به ازای هر خالص $\times 1$

E_5 ← عدد کروموزومی بدن ← 2^n



E₆ ← هم فرمول ژنتیکی و هم عدد کروموزومی ← کمتر

E₇ ← شکل بدن ← بستگی به نوع مرحله:

✓ پروفاز I ← 2ⁿ

✓ متافاز I، آنافاز I ← ۲ نوع

✓ تلوفاز I، پروفاز II، متافاز II، آنافاز II ← ۱ نوع

✓ تلوفاز II ← خودش گامته دکترا!

E₈ ← انواع گامت روی هم؟ گامت‌های مشترک - انواع کل گامت‌ها

F- انواع آرایش دوک متافازی یا تترادی = $\frac{\text{انواع گامت}}{2}$

G- ماجرای پیوستگی و شیوه نمایش در فرمول ژنتیکی $\frac{AB}{AB}$ خالص $\frac{AB}{ab}$ ناخالص

H- گامت‌نویسی

I- محاسبه تعداد گامت:

* وابسته به جنسیت: زن ۱ مرد ۴

* شکل بدن: بستگی به نوع مرحله:

✓ پروفاز I، متافاز I، آنافاز I ← ۴ تا

✓ تلوفاز I، پروفاز II، متافاز II، آنافاز II ← ۲ تا

✓ تلوفاز II ← خودش ...

J- کراسینگ دور - نوترکیبی

✓ انواع گامت نوترکیب:

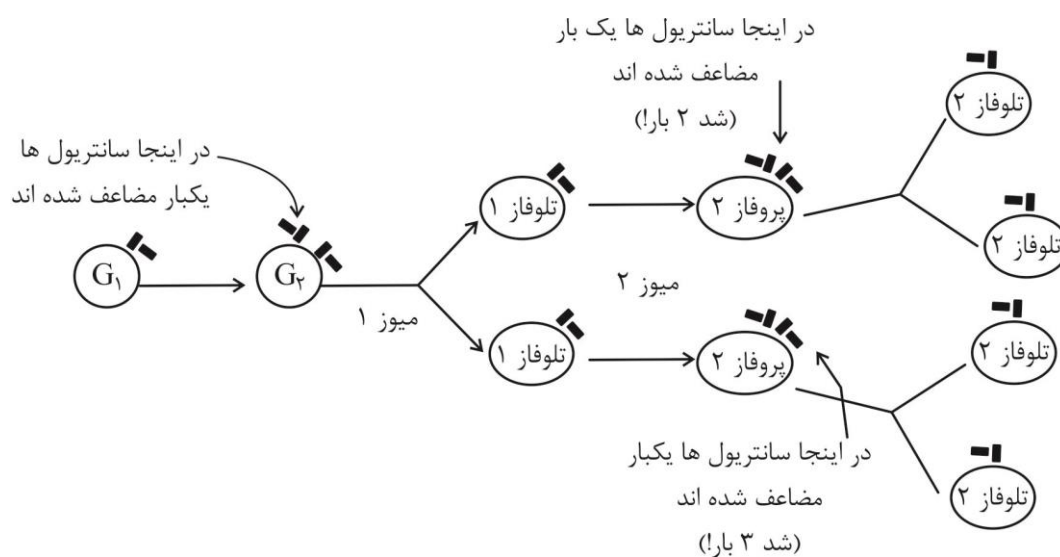
تعداد گامت در صورت عدم وقوع کراسینگ دور - انواع گامت در صورت وقوع کراسینگ دور

K- اطلاعات از یه مرحله بدن از یه مرحله دیگه بخوان

قدم به قدم جلو می‌ریم.

شکل فام‌تن‌ها	هاپلوئید یا دیپلوئید بودن	تعداد یاخته حاصل	
غیرمضاعف	دیپلوئید	۲	میتوز
مضاعف	هاپلوئید	۲	میوز ۱
غیرمضاعف	هاپلوئید	۲	میوز ۲

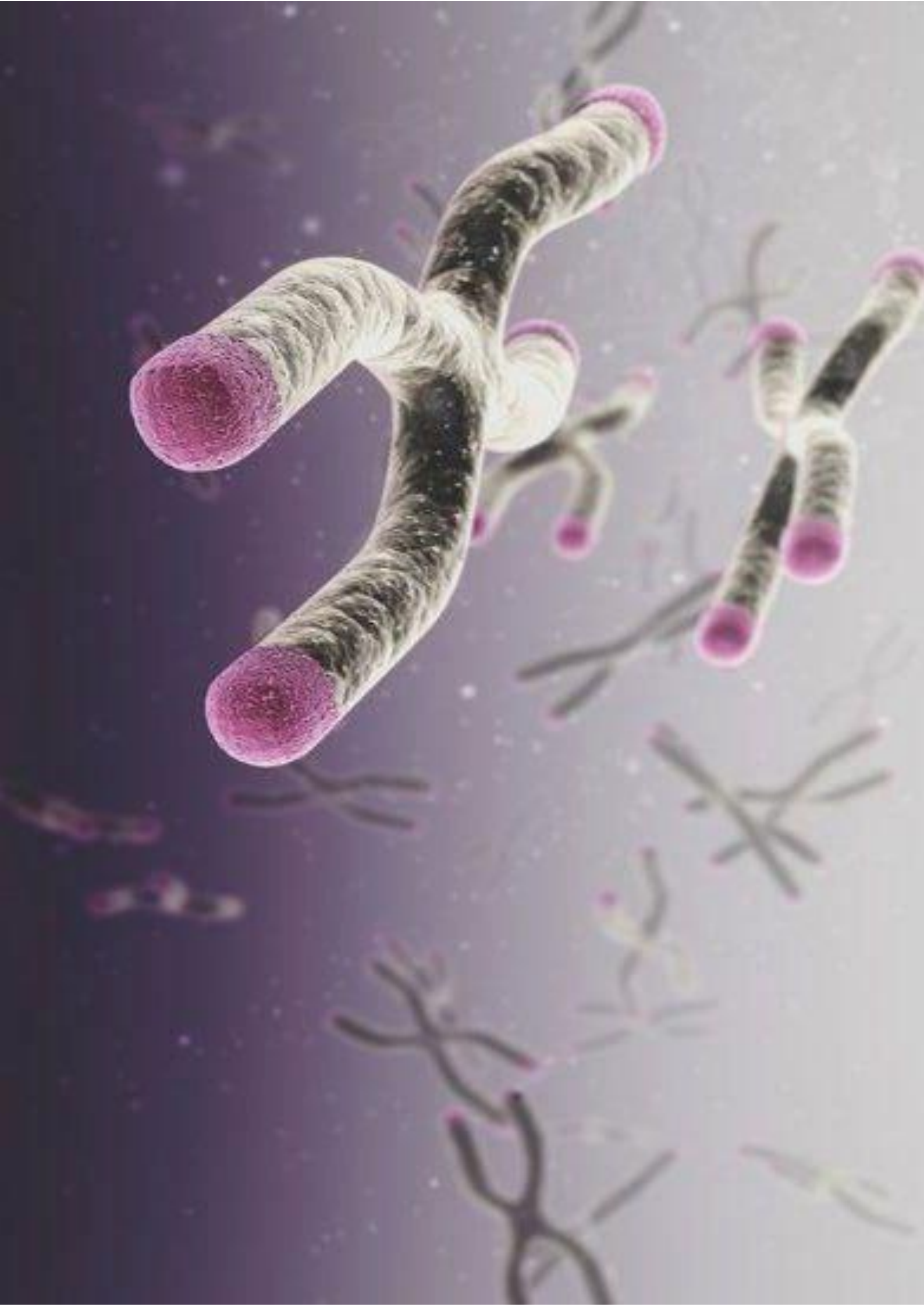
● مضاعف‌سازی سانتروبیول‌ها: سانتروبیول‌ها برای ورود به میتوز و میوز ۱، یک بار در مرحله G_2 از اینترفاز چرخه یاخته‌ای و برای ورود به میوز ۲ هم، دوبار در دو یاخته حاصل از میوز ۱ در فاصله بین تروفاز ۱ و پروفاز ۲ مضاعف می‌شوند. به عبارت دیگر مضاعف‌سازی سانتروبیول‌ها برای وقوع تقسیم میتوز ۱ بار و برای وقوع تقسیم میوز ۳ بار طی دو مرحله صورت می‌گیرد. برای درک بهتر این نکته به شکل زیر که خلاصه‌ای از تقسیم میوز را نشان می‌دهد دقت کنید:




جو نم برات بکھ 

✨ خلاصه نویسی به روش فلوجارت و #گذاری:







۱- تعیین کنید به ترتیب نو ترکیبی و دو برابر شدن تعداد کروموزومها در کدام مراحل

از میوز اتفاق می افتند؟

(۱) متافاز ۱- آنافاز ۱

(۲) متافاز ۱- آنافاز ۲

(۳) آنافاز ۱- آنافاز ۲

(۴) تلوفاز ۱- متافاز ۱

☑ پاسخ:

بنابراین نو ترکیبی در متافاز ۱ و دو برابر شدن کروموزومها در آنافاز ۲ صورت می گیرد و پاسخ صحیح گزینه ۲ می باشد.

۲- ویژگی عمده تقسیم میوز کدام است؟

(۱) جفت شدن طولی کروموزومهای همتا در پروفاز ۲

(۲) جفت شدن طولی کروموزومهای همتا در پروفاز ۱

(۳) جدا شدن کروماتیدهای خواهری در آنافاز ۱


(۴) جدا شدن کروماتیدهای تترادی در آنافاز ۲

☑ پاسخ:

ویژگی های عمده تقسیم میوز، تشکیل ساختارهای تتراد در پروفاز ۱ و یا جدایی کروموزومهای همتا در آنافاز ۱ است و حالا اگر خوب گزینه ها را بگردیم می بینیم که گزینه سه و چهار نادرست است، زیرا به جایواژه های کروماتیدی خواهری و کروماتیدهای تترادی باید به ترتیب از واژه های کروموزومهای همتا و کروماتیدهای خواهری استفاده می شود گزینه یک نیز نادرست است زیرا

ساختارهای تتراد در پروفاز ۱ تشکیل می‌شوند نه پروفاز ۲. اما گمشده ما! گزینه دو است که به تشکیل تتراد در پروفاز ۱ اشاره می‌کند.

۳- شکل مقابل را در یاخته اولیه نشان می‌دهد.

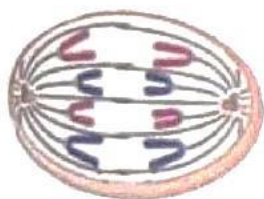


- (۱) آنافاز ۲ میوز - $n = 3$
 (۲) پرومتافاز - $2n = 6$
 (۳) پرومتافاز - $n = 3$
 (۴) متافاز ۱ میوز - $2n = 6$

پاسخ:

ابتدا با دیدن وضعیت کروموزوم‌ها در این شکل که در استوای یاخته قرار نگرفته‌اند اما به دوک متصل می‌باشند متوجه می‌شویم که مرحله شکل ما، پرومتافاز است، بنابراین شکل مربوط به میوز نیست. پس گزینه یک و چهار رد می‌شود. همچنین گزینه دو نیز صحیح نیست زیرا یاخته تک‌لاد می‌باشد. بنابراین پاسخ صحیح گزینه سه می‌باشد.

۴- شکل مقابل را در یاخته اولیه نشان می‌دهد.




- (۱) آنافاز میتوز - $2n = 4$
 (۲) آنافاز میتوز - $n = 8$
 (۳) آنافاز ۱ میوز - $2n = 4$
 (۴) تلوفاز میتوز - $2n = 4$

پاسخ:

ابتدا با دیدن وضعیت کروموزوم‌ها در این شکل که کروماتیدهای آنها در حال جدا شدن از یکدیگر هستند متوجه می‌شویم که مرحله شکل ما، آنافاز است و چون کروموزوم‌ها دو کروماتیدی

نیستند، شکل مربوط به آنافاز میوز ۱ نیست و با دیدن کروموزوم‌های هم‌تا پی می‌بریم شکل مربوط به آنافاز میتوز $2n = 4$ یا آنافاز میوز ۲، $4n = 8$ است و پاسخ صحیح گزینه یک است. به عنوان یک جوجه نکته! (که اهمیت آن از بچه نکته بیشتر از خود نکته کمتر است!!) توجه داشته باشید که برای یافتن کروموزوم‌های هم‌تا در آنافاز فقط و فقط به هر قطب نگاه می‌کنیم (چون کروموزوم‌هایی که در مقابل هم قرار دارند دختری محسوب می‌شوند نه هم‌تا!)

۵- شکل مقابل را در یاخته اولیه نشان می‌دهد.



(۲) متافاز ۱ میوز - $2n = 6$

(۱) آنافاز میتوز - $2n = 6$


(۴) متافاز میتوز - $n = 3$

(۳) متافاز میتوز - $2n = 6$

☑ پاسخ:

ابتدا با دیدن وضعیت کروموزوم‌ها در این شکل که در استوای یاخته قرار گرفته‌اند متوجه می‌شویم که مرحله شکل ما، متافاز است و چون در شکل تتراد را می‌بینیم شکل مربوط به متافاز میوز ۱، $2n = 6$ است. یعنی پاسخ صحیح گزینه دو است.

۶- شکل مقابل را در یاخته اولیه نشان می‌دهد.



(۲) آنافاز ۱ میوز - $2n = 6$

(۱) متافاز ۲ میوز - $2n = 6$

(۴) آنافاز میتوز - $n = 3$

(۳) آنافاز میتوز - $2n = 6$

✓ پاسخ:

ابتدا با دیدن وضعیت کروموزوم‌ها در این شکل که کروماتیدهای آنها در حال جدا شدن از یکدیگر هستند متوجه می‌شویم که مرحله شکل ما، آنافاز است و چون کروموزوم‌ها مضاعف نیستند، شکل مربوط به میوز ۱ نیست و با نگاه کردن به هر قطب می‌بینیم که از کروموزوم‌های همتا نیز خبری نیست! پس شکل مربوط به آنافاز میتوز $n=3$ یا آنافاز میوز ۲ یاخته $2n=6$ است و پاسخ صحیح گزینه چهارم است.

۷- یاخته‌ای با ژن نمود $AaBbEeFFGg$ توانایی تولید چند نوع کامه را دارد؟

- ۳۲ (۱) ۱۶ (۲) ۸ (۳) ۴ (۴)

✓ پاسخ:

تعداد انواع کامه‌ای که این یاخته توانایی تولید آن را دارد برابر است با:

Aa	Bb	Ee	FF	Gg		
↓	×	↓	×	↓	×	↓
2		2		1		2=16

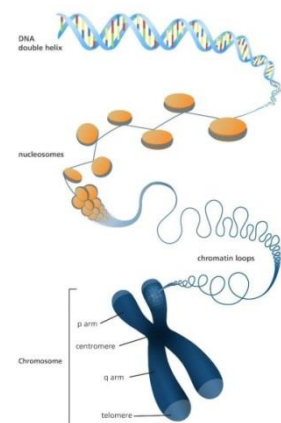
۸- یاخته‌ای با ژن نمود $AaBbFFRWee$ توانایی تولید چند نوع کامه را دارد؟

- ۱۶ (۱) ۳۲ (۲) ۸ (۳) ۴ (۴)

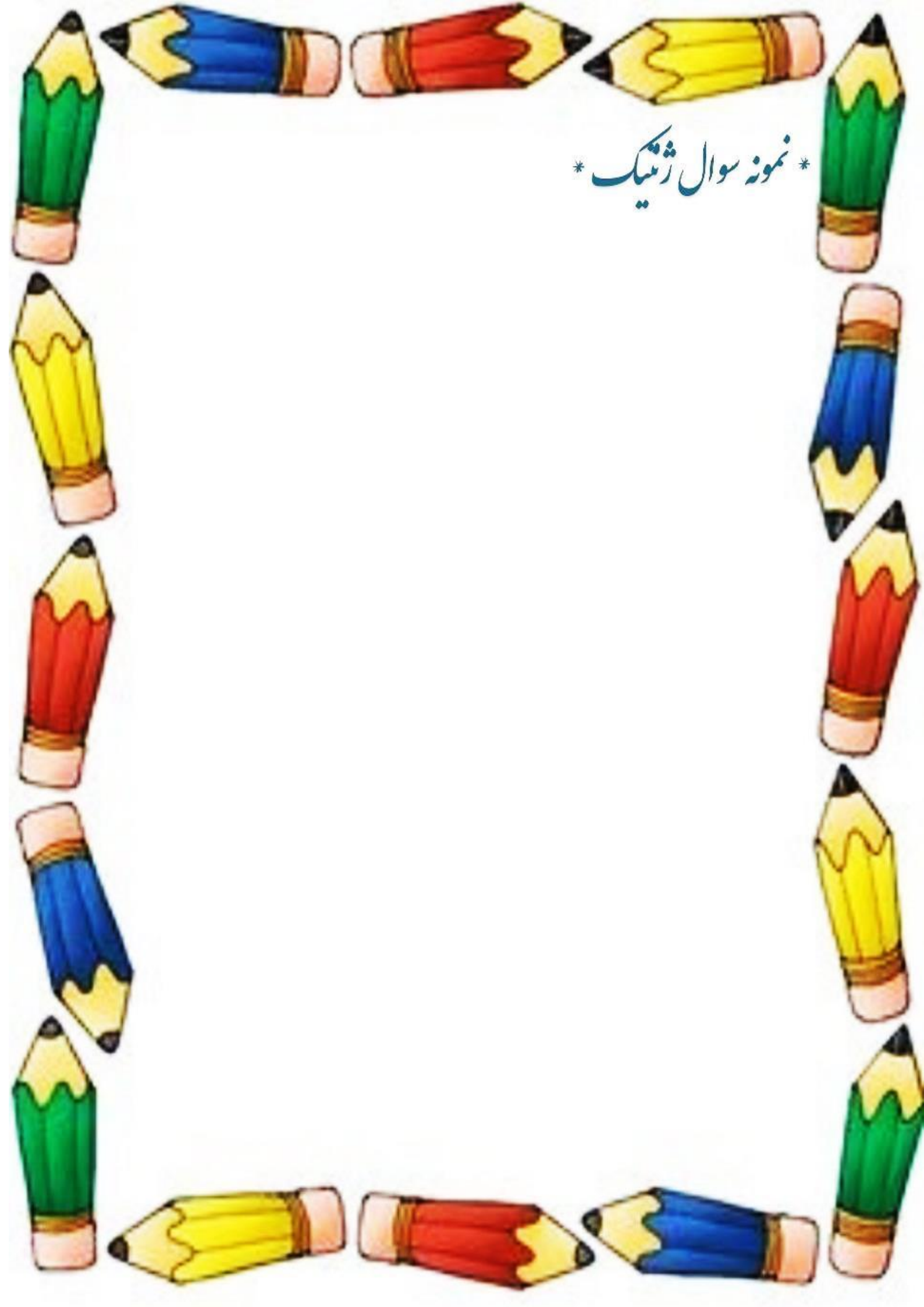
✓ پاسخ:

تعداد انواع کامه‌ای که این یاخته توانایی تولید آن را دارد برابر است با:

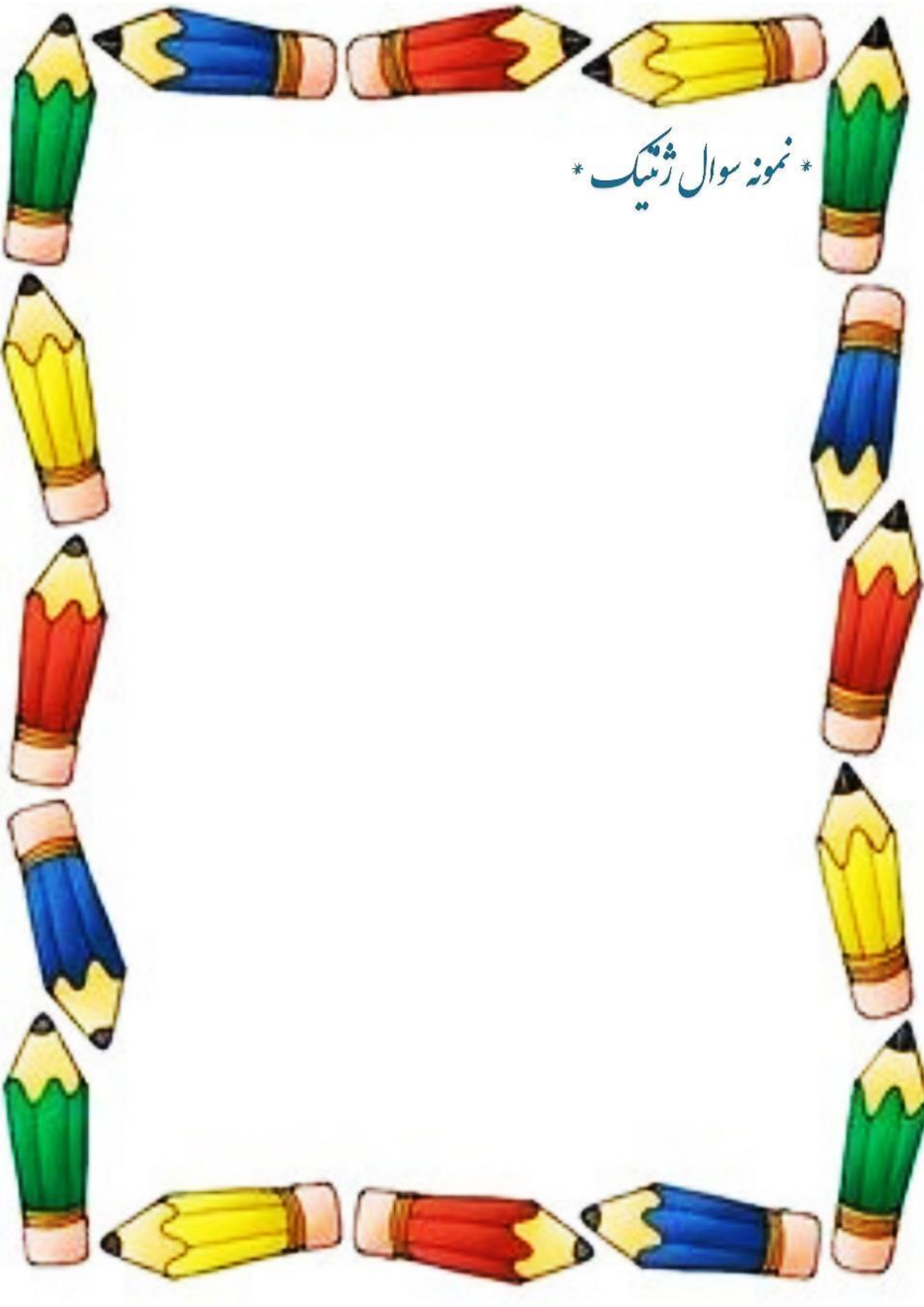
Aa	Bb	FF	RW	ee		
↓	×	↓	×	↓	×	↓
2		1		2		1=8



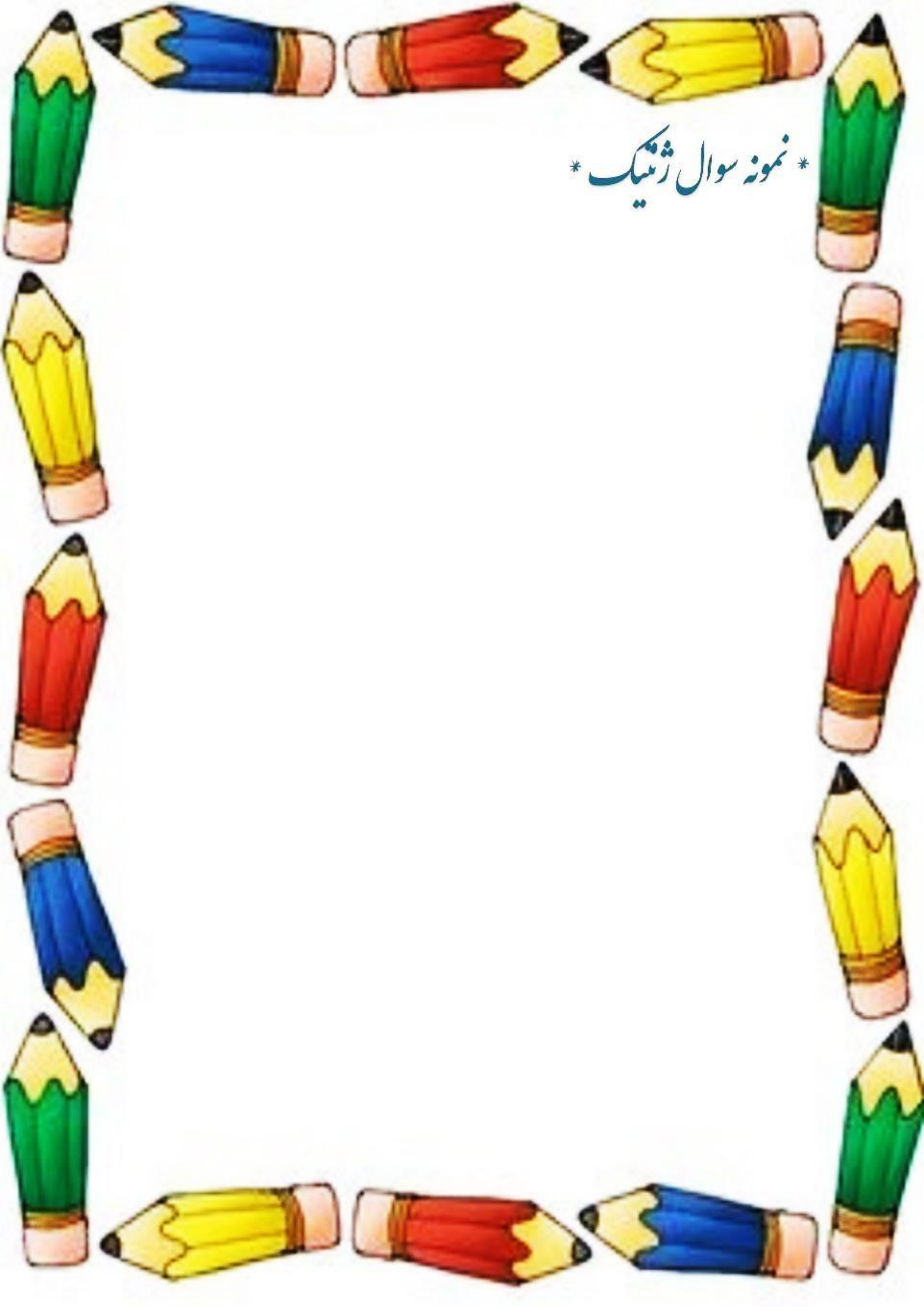
* نمونہ سوال ژٹیک *



* نمونه سوال ژتیک *



* نمونه سوال ژئیک *



نقطه واریسی	تعداد رشته DNA	تعداد کروماتید DNA	تعداد مولکول DNA	تعداد کروموزوم	تعداد سانترومر	فشرده‌گی کروموزوم	سانتریول	وضعیت کروموزومی	ژنوتیپ	عدد کروموزومی	یاخته $2n = 4$ (AaBb)
دارد	۸	۴	۴	۴	کم	کم	۲	کروماتین	AaBb	$2n = 4$	G_1, G_0
ندارد	۱۶	۸	۴	۴	کم	کم	۲	کروماتین	AaBb	$2n = 4$	S
دارد	۱۶	۸	۴	۴	کم	کم	۴	کروماتین	AaBb	$2n = 4$	G_2
ندارد	۱۶	۸	۴	۴	دارد	دارد	۴	کروموزوم	AaBb	$2n = 4$	پروفاز
ندارد	۱۶	۸	۴	۴	دارد	دارد	۴	کروموزوم	AaBb	$2n = 4$	پرومتافاز
دارد	۱۶	۸	۴	۴	حداکثر فشرده‌گی دارد	حداکثر	۴	کروموزوم	AaBb	$2n = 4$	متافاز
ندارد	۱۶	۸	۸	۸	دارد	دارد	۴	کروموزوم	AaBb	$4n = 8$	آنافاز
ندارد	۱۶	۸	۸	۸	ابتدا دارد در انتها کم می‌شود	ابتدا دارد در انتها کم می‌شود	۴	در آخر کروماتین	هر قطب AaBb کل یاخته AAaaBBbb	$2n = 4$	کل یاخته تلوفازی
ندارد	۸	۴	۴	۴	ابتدا دارد در انتها کم می‌شود	ابتدا دارد در انتها کم می‌شود	۲	در آخر کروماتین	AaBb	$2n = 4$	هر هسته تلوفاز
ندارد	۸	۴	۴	۴	بسیار کم	بسیار کم	۲	کروماتین	AaBb	$2n = 4$	هر یاخته دختر

جدول مراحل چرخه یاخته‌ای



فشرده‌گی کروموزومی	رشته نوکلئوتیددار DNA	کروماتید = مولکول DNA	کروموزوم = سانترومر	یاخته $2n$
زیاده‌ی ندارد	$4n$	$2n$	$2n$ تک کروماتیدی	G_1
ندارد	$8n$	$4n$	$2n$ مضاعف	S
ندارد	$8n$	$4n$	$2n$ مضاعف	G_2
دارد	$8n$	$4n$	$2n$ مضاعف	پروفاز ۱
دارد	$8n$	$4n$	$2n$ مضاعف	متافاز ۱
دارد	$8n$	$4n$	$2n$ مضاعف	آنافاز ۱
دارد	$4n$	$2n$	n مضاعف	هر هسته تلوفاز ۱ (اسپرماتوسیت و اووسیت ثانویه یا اولین گویچه قطبی)
دارد	$4n$	$2n$	n مضاعف	هر یاخته پروفاز ۲
دارد	$4n$	$2n$	$2n$ تک کروماتیدی	هر یاخته آنافاز ۲
در آخر فشرده‌گی کمی دارد.	$2n$	n	n تک کروماتیدی	هر یاخته تلوفاز ۲ (اسپرماتید یا تخمک یا دومین گویچه قطبی) (گرده نارس گیاهان)

انواع یاخته حاصل از آن	عدد کروموزومی یاخته مادر	مرحله تقسیم	ژنوتیپ	عدد کروموزومی	گیاه جانور	شکل یاخته
۱ نوع (دو قطب مشابه) ۱ نوع	$2n = 4$ $4n = 8$	متافاز میتوز ۲ متافاز میوز	AaBb	$2n = 4$	جانور سانتیریول دار	
۱ نوع (دو قطب مشابه) ۱ نوع	$2n = 5$ $4n = 10$	متافاز میتوز ۲ متافاز میوز	AaBbD	$2n = 5$	جانور سانتیریول دار	
۱ نوع (دو قطب مشابه) ۱ نوع	$n = 3$ $2n = 6$	آنافاز میتوز ۲ آنافاز میوز	AbD قطب (AAabbDD)	$2n = 6$ $n = 3$ هر قطب	جانور سانتیریول دار	
توانایی ایجاد $2^3 = 8$ نوع گامت را دارد ولی در هر تقسیم ۲ نوع یاخته می دهد.	$2n = 6$	پروفاز میوز ۱ (تتراد دارد) ولی کروموزومها در وسط یاخته نیستند	AaBbDd	$2n = 6$	گیاه بدون سانتیریول	


فعالیت‌ها


ترکیب سمی
با این فصل؟

زیست‌شناسی

کلمتہ بازی  

@madebyBrookeJicole



خلاصہ می فصل: 



من اگر طراح بودم 

نمونہ سوال تشریحی



قلمی کننیم!!!

میوز هسته ای:

تقسیم دو تایی:

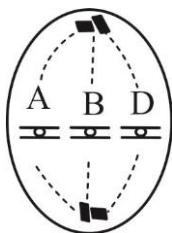
تست کده

۱- اولین متافاز میوز و متافاز میتوز را از روی کدام نشانه راحت تر تشخیص می دهند؟ (سراسری -

(۷۵)

- (۱) محل استقرار کروموزومها روی دوک
 (۲) طرز اتصال کروماتیدها به سانترومرها
 (۳) تعداد کروموزومهای دوکروماتیدی
 (۴) طرز استقرار کروموزومها در روی دوک

۲- در مورد تتراد کروموزومی، کدام جمله صحیح است؟ (سراسری - ۷۸)



- (۱) یک کروموزوم که چهار سانترومر دارد.
 (۲) چهار کروموزوم همتا که مجاور هم قرار دارند.
 (۳) دو جفت کروموزوم همتا و دو کروماتیدی که از طول مجاور و متصل اند.
 (۴) یک جفت کروموزوم همتا و مضاعف که از طول مجاور و متصل اند.

۳- شکل مقابل، کدام نمی تواند باشد؟ (سراسری خارج از کشور - ۸۴)

- (۱) مرحله‌ای از میتوز یک یاخته هاپلوئید
 (۲) متافاز ۲ در یک یاخته اولیه دیپلوئید
 (۳) متافاز ۲ در یک یاخته اولیه هاپلوئید
 (۴) مرحله‌ای از میوز یک یاخته اولیه دیپلوئید
- ۴- کدام گزینه در نخستین گویچه قطبی مگس سرکه (محصول میوز ۱) $(2n = 8)$ وجود دارد؟

(سراسری خارج از کشور - ۸۵)

- (۱) ۴ کروموزوم مضاعف
 (۲) ۴ کروموزوم تک کروماتیدی
 (۳) ۸ کروموزوم مضاعف
 (۴) ۸ کروموزوم تک کروماتیدی

۵- برای یک تقسیم میوز در چرخه یاخته‌ای، DNA همانندسازی می کند. (سراسری - ۸۶)

- (۱) در اینترفاز قبل از میوز ۲
 (۲) در اینترفاز قبل از میوز ۱
 (۳) قبل از میوز ۱ و قبل از میوز ۲
 (۴) در پروفاز میوز ۱

۶- در یاخته‌های جنسی حاصل از میوز عادی یک فرد تتراپلوئید ۱۲ کروموزومی که والدینش به یک گونه تعلق داشته‌اند (سراسری - ۸۶)

- (۱) کروموزوم‌های همتا وجود ندارد.
(۲) تعداد کروموزوم‌ها ۳ عدد می‌باشد.
(۳) کروموزوم‌ها دو به دو همتا هستند.
(۴) سه مجموعه کروموزوم وجود دارد.

۷- تقسیم یاخته حاصل از میوز در سرخس، بدون وجود کدام، انجام می‌گیرد؟ (سراسری - ۸۶)

- (۱) کمربندی از رشته‌های پروتئینی در میانه یاخته
(۲) لوله‌های ریزپروتئینی
(۳) جدا شدن کروموزوم‌ها
(۴) ریزکیسه‌های حاصل از جسم گلژی در میانه یاخته

۸- طی تقسیم سیتوپلاسم در یاخته، کمربندی از رشته‌های پروتئینی در میانه یاخته

ایجاد می‌شود. (سراسری خارج از کشور - ۸۶ با تغییر)

- (۱) لنفوسیت T
(۲) ریزوبیوم
(۳) پارانشیم پیاز
(۴) آندوسپرم سیبزمینی

۹- کدام عبارت، تعریف درستی از مراحل پرخه یاخته کرم لوله‌ای ندارد؟ (سراسری - ۸۸)

- (۱) در مرحله پروفاز، دو جفت سانتیریول وجود دارد.
(۲) در متافاز، کروماتیدها حداکثر فشردگی را پیدا می‌کنند.
(۳) در پروفاز، کروموزوم‌ها مضاعف و قابل رؤیت می‌گردند.
(۴) حرکت کروموزوم‌ها به قطبین با کوتاه شدن رشته‌های دوک همراه است.

۱۰- کدام عبارت نادرست است؟ (سراسری خارج از کشور - ۸۸)

- (۱) هر سانتیریول از ۲۷ ریزلوله چه تشکیل یافته است.
(۲) رشته‌های دوک تقسیم از ریزلوله ساخته شده‌اند.
(۳) هر یاخته جانوری در مرحله متافاز میوز ۱، دو سانتیریول دارد.
(۴) هر یاخته جانوری در مرحله پروفاز میتوز، دارای دو جفت سانتیریول است.

۱۱- کدام عبارت صحیح است؟ (سراسری - ۸۹)

- (۱) در تلوفاز همه تقسیم‌ها، کروموزوم‌ها تک کروماتیدی هستند.
(۲) در پروفاز همه تقسیم‌ها، سانتیریول‌ها مسئول تولید رشته‌های دوک هستند.
(۳) در آنافاز همه تقسیم‌ها، کروماتیدهای خواهری از یکدیگر جدا می‌شوند.
(۴) در متافاز همه تقسیم‌ها، رشته‌های دوک به کروموزوم‌های دوکروماتیدی متصل می‌شوند.

۱۲- در چرخه یاخته‌ای درخت انجیر، در مرحله (سراسری - ۹۰)

(۱) G_2 ، یک جفت سانتیریول شروع به همانندسازی می‌کنند.

(۲) S ، کروماتین حداکثر فشردگی و تراکم را پیدا نکرده است.

(۳) تقسیم سیتوپلاسم، صفحه جداکننده، دیواره یاخته‌ای است که غشا ندارد.

(۴) پروفاز، کروموزوم‌های قابل رؤیت و رشته‌های دوک، درون هسته شکل می‌گیرند.

۱۳- در یاخته‌های بافت پوششی پوست انسان، عاملی که بتواند چرخه یاخته‌ای را در پایان مرحله

G_2 متوقف کند، مانع خواهد شد. (سراسری خارج از کشور - ۹۰)

(۱) همانندسازی سانتیریول‌ها

(۲) تشکیل رشته‌های دوک

(۳) تکثیر میتوکندری‌ها

(۴) مضاعف شدن کروموزوم‌ها

۱۴- در گیاه اطلسی، پس از آنکه کروماتیدهای تخم (زیگوت)، حداکثر فشردگی را پیدا نمودند،

..... (سراسری - ۹۲)

(۱) غشای هسته شروع به محو شدن می‌نماید.

(۲) جفت سانتیریول‌ها در قطبین یاخته مستقر می‌شوند.

(۳) کروموزوم‌های همتا از یکدیگر جدا می‌گردند.

(۴) کوتاه شدن رشته‌هایی ریز پروتئینی ممکن می‌شود.

۱۵- کدام عبارت، درباره همه رشته‌های دوک موجود در یک یاخته مریستمی گیاه داوودی، درست

است؟ (سراسری - ۹۴)

(۱) تا صفحه میانی یاخته ادامه می‌یابد.

(۲) به سانترومر کروموزوم‌ها متصل می‌گیرند.

(۳) در پی حرکت جفت سانتیریول‌ها شکل می‌گیرند.

(۴) در پی تغییر شکل موقت برخی پروتئین‌ها، ایجاد می‌شوند.

۱۶- کدام عبارت، در مورد همه گویچه‌های خونی یک فرد بالغ درست است؟ (سراسری - ۹۶)

(۱) ریزلوله چه، طی مرحله G_2 چرخه یاخته‌ای مضاعف می‌گردند.

(۲) پروتئین‌ها، با پروتئین‌های سطح داخلی غشا تماس دارند.

(۳) ریزلوله چه، در بخش مرکزی سانتیریول‌ها وجود دارند.

(۴) پروتئین‌ها، باعث پایداری پوشش هسته‌ای می‌شوند.

۱۷- چند مورد در ارتباط با همه یاخته‌های بدن یک فرد بالغ که توانایی هیدرولیز گلیکوژن را دارند، درست است؟ (سراسری خارج از کشور - ۹۷)

تجزیه گلوکز را همواره در ماده زمینه‌ای سیتوپلاسم شروع می‌نمایند.

تنظیم چرخه یاخته‌ای آن‌ها، در سه زمان اصلی رخ می‌دهد.

قادر به تولید پیک شیمیایی دوربرد نمی‌باشند.

گلوکز به طور مستقیم از انشعابات سرخرگ‌ها دریافت می‌کنند.

(۱) مورد ۱ (۲) مورد ۲ (۳) مورد ۳ (۴) مورد ۴

۱۸- در یک یاخته گیاهی در حال تقسیم برگ، کدام مورد قبل از شروع مراحل مربوط به تقسیم سیتوپلاسم رخ می‌دهد؟ (سراسری - ۹۹)

(۱) پوشش هسته ای در اطراف هر مجموعه کروموزومی بازسازی می‌شود.

(۲) فام تن (کروموزوم)های کوتاه و فشرده شده، شروع به باز شدن می‌نمایند.

(۳) فام تن (کروموزوم)های تک کروماتیدی در دو قطب یاخته تجمع می‌یابند.

(۴) فام تن (کروموزوم)های غیر هم‌ساخت در وسط یاخته، به صورت ردیف درمی‌آیند.



۲ (۱۰)
 ۲ (۱۱)
 ۳ (۱۲)
 ۴ (۱۳)
 ۲ (۱۴)
 ۱ (۱۵)
 ۳ (۱۶)
 ۱ (۱۷)
 ۲ (۱۸)

۱ (۱)
 ۴ (۲)
 ۳ (۳)
 ۴ (۴)
 ۴ (۵)
 ۴ (۶)
 ۲ (۷)
 ۱ (۸)
 ۲ (۹)

درصدها حین مطالعه



✓ اوضاع تست زنی

منبع:

مهم ها:

باقی مانده ها:

تست آموزشی:

تست زمان بندی:

✓ درصد های آزمون



چندبار دوره کردی ؟

