

کارتنامه خرد

فصل اول

الکتریسیته ساکن

۱- چگونه توسط یک الکتروسکوپ می‌توانیم تشخیص دهیم که:

الف) یک میله باردار است یا نه؟

جواب: میله را به تیغه یک الکتروسکوپ خنثی نزدیک می‌کنیم. اگر ورقه‌های الکتروسکوپ از یکدیگر دور شدند، میله باردار است؛ در غیر اینصورت میله خنثی است.

ب) میله رساناست یا عایق؟

جواب: میله را به تیغه یک الکتروسکوپ باردار تماس می‌دهیم. اگر بار الکتروسکوپ تخلیه شد (ورقه‌ها به هم چسبیدند) میله رسانا و در غیر این صورت میله عایق است.

پ) نوع بار میله باردار چیست؟

جواب: میله را به تیغه الکتروسکوپ باردار نزدیک می‌کنیم. اگر ورقه‌های الکتروسکوپ بیشتر از قبل از هم فاصله گرفتند بار میله موافق با بار الکتروسکوپ و اگر ورقه‌ها به هم نزدیک شدند بار میله مخالف بار الکتروسکوپ است.



۲- یک میله پلاستیکی را با پارچه پشمی مالش می‌دهیم. پس از مالش، بار الکتریکی میله پلاستیکی $-۱۲/۸nC$ می‌شود.

الف) بار الکتریکی ایجاد شده در پارچه پشمی چقدر است؟

جواب: به همان اندازه و مثبت، یعنی:

$$+۱۲/۸nC$$

ب) تعداد الکترون‌های منتقل شده از پارچه پشمی به میله پلاستیکی را محاسبه کنید. $1.6 \times 10^{-19} \rightarrow n e \rightarrow q = 12.8$

جواب: تعداد الکترون‌ها به صورت زیر به دست می‌آید:

$$n = \frac{q}{e} = \frac{12/8 \times 10^{-9}}{1/6 \times 10^{-19}} = 8 \times 10^{10}$$

کارنامه خرد ~~Pe~~ گام به گام فیزیک یازدهم



۳- الف) بار الکتریکی اتم و هسته اتم کربن ($^{12}_6C$) چند کولن است؟

جواب: بار الکتریکی خالص اتم کربن صفر بوده و بار هسته به صورت زیر به دست می‌آید:

$$q = +ne = +6 \times 1/6 \times 10^{-19} = 9/6 \times 10^{-19} C$$

~~Pe~~



ب) بار الکتریکی اتم کربن یک بار یونیده ($^{12}_6C^+$) چقدر است؟

جواب: بار الکتریکی اتم کربن یک بار یونیده مثبت برابر است با:

$$q = +1/6 \times 10^{-19} C$$

آیون مثبت

$$F = \frac{9 \times 10^9 \times 19 \times 19}{R^2}$$

کنش

نیروی جاذبه

$$F = k \frac{19 \times 19}{R^2}$$

املی

۳-۱ قانون کولن

۴- دو گوی رسانا، کوچک و یکسان به بارهای $q_1 = 4 \times 10^{-8} C$ و $q_2 = -6 \times 10^{-8} C$ را با هم تماس می‌دهیم و سپس تا فاصله

$r = 30 \text{ cm}$ از هم دور می‌کنیم. نیروی برهم کنش الکتریکی بین دو گوی را محاسبه کنید. این نیرو رانشی است یا ربایشی؟

جواب: گر دو گوی هم اندازه با بارهای مختلف را به هم تماس دهیم بار هر گوی پس از تماس به صورت زیر بدست می‌آید:



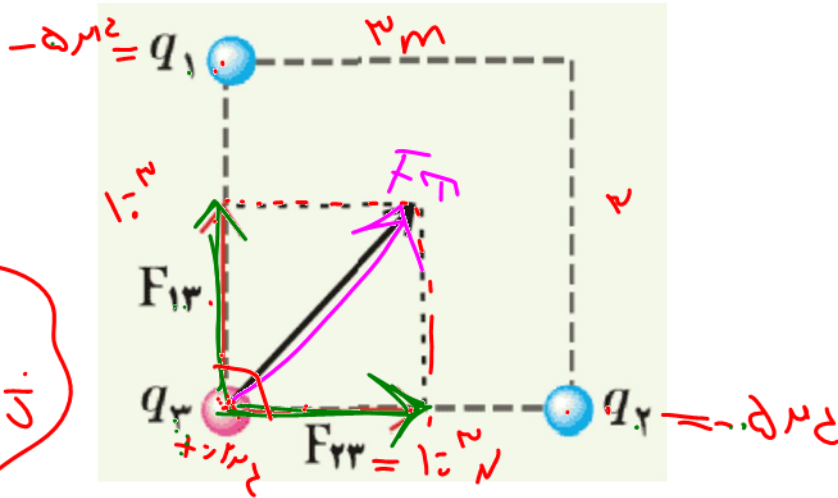
$$q = \frac{q_1 + q_2}{2} = \frac{4 + (-6)}{2} = -1 \text{ nC}$$

پس بار هر گوی برابر منفی یک کولن می‌شود که نیروی رانشی به یکدیگر وارد خواهند کرد:

$$F = k \frac{|q_1| |q_2|}{r^2} = 9 \times 10^9 \times \frac{|-1 \times 10^{-9}| |-1 \times 10^{-9}|}{(0.3)^2} = 1 \times 10^{-7} \text{ N}$$

همانطور که گفتیم، پس از تماس، بار گوی‌ها یکسان می‌شود و بنابراین همدیگر را دفع می‌کنند. یعنی نیرو، رانشی است.

۵- سه ذره باردار q_1 و q_2 و q_3 مطابق شکل در سه رأس مربعی به ضلع 3m ثابت شده‌اند. اگر $q_1=q_2=-5\mu\text{C}$ و $q_3=+0.2\mu\text{C}$ باشد، نیروی خالص الکتریکی وارد بر بار q_3 را بر حسب بردارهای یکه i و j تعیین کنید. نیروهای وارده را محاسبه می‌کرده در نهایت جمع می‌نماییم:



$F = 10^{-3} i + 10^{-3} j$

جواب: چون بارهای q_1 و q_2 برابر و فاصله آنها از بار q_3 یکسان است؛ بنابراین $F_{13}=F_{23}$ در نتیجه:

$$F_{13} = F_{23} = k \frac{|q_1||q_3|}{r^2} = 9 \times 10^9 \times \frac{5 \times 10^{-6} \times 0.2 \times 10^{-6}}{3^2} = 1 \times 10^{-3} N$$

$$\rightarrow \begin{cases} \vec{F}_{23} = (1 \times 10^{-3} N) \vec{i} \\ \vec{F}_{13} = (1 \times 10^{-3} N) \vec{j} \end{cases}$$

$$\vec{F} = \vec{F}_{23} + \vec{F}_{13} = (1 \times 10^{-3} N) \vec{i} + (1 \times 10^{-3} N) \vec{j}$$

۶- بارهای الکتریکی نقطه‌ای $q_1 = -4 \times 10^{-9} \text{C}$ ، $q_2 = +5 \times 10^{-9} \text{C}$ و $q_3 = -4 \times 10^{-9} \text{C}$ مطابق شکل، در جای خود ثابت شده‌اند. نیروی خالص الکتریکی وارد بر هر یک از بارهای q_2 و q_3 را محاسبه کنید.

جواب: نیروی خالص وارد بر بار q_2 صفر است زیرا وسط خط واصل دو بار هم اندازه قرار دارد. برای پیدا کردن نیروی خالص وارد بر بار q_3 نیروهایی که از طرف بارهای q_1 و q_2 بر این بار وارد می‌شود را بدست می‌آوریم:

$$F_{13} = k \frac{|q_1||q_3|}{r^2} =$$

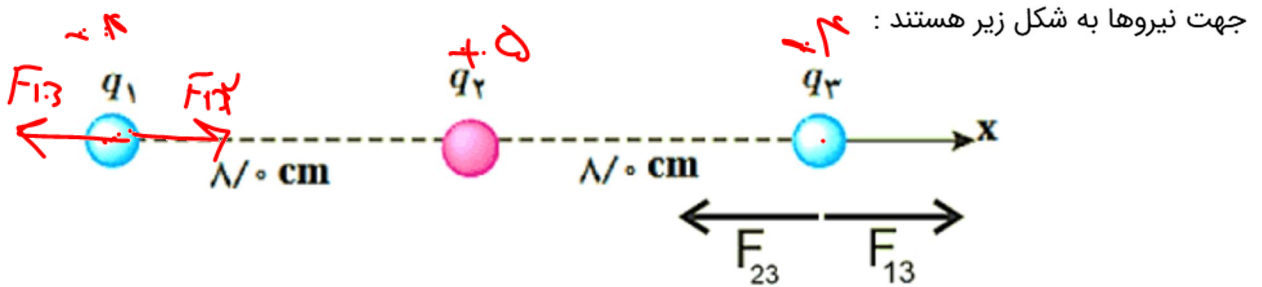
$$9 \times 10^9 \times \frac{|-4 \times 10^{-9}| |-4 \times 10^{-9}|}{0.16^2} =$$

$$5/62 \times 10^{-6} \text{N}$$

$$F_{23} = k \frac{|q_2||q_3|}{r^2} =$$

$$9 \times 10^9 \times \frac{|+5 \times 10^{-9}| |-4 \times 10^{-9}|}{0.08^2} =$$

$$= 2/81 \times 10^{-6} \text{N}$$



۷- در شکل روبه رو، دو گوی مشابه به جرم $2/5g$ و بار یکسان مثبت q در فاصله $1.0cm$ از هم قرار دارند، به طوری که گوی بالایی به حالت معلق مانده است. الف) اندازه بار q را به دست آورید.

جواب: برای اینکه گوی معلق بماند باید نیروی وزن و نیروی الکتریکی یکسان باشد:

$$F_E = F_w$$

$$k \frac{|q||q|}{r^2} = mg \rightarrow$$

$$\frac{9 \times 10^9 \times q^2}{(10^{-2})^2} = 2/5 \times 10^{-3} \times 9/8$$

$$q = \sqrt{\frac{24/5 \times 10^{-7}}{9 \times 10^9}} =$$

$$\sqrt{2/72 \times 10^{-16}} = 1/64 \times 10^{-8} C$$

$$q = ne \rightarrow 1/6 \times 10^{-19}$$

ب) تعداد الکترون‌های کنده شده از هر گوی چقدر است؟

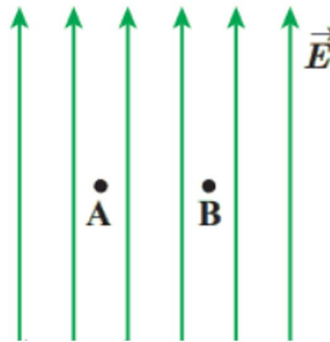
جواب: تعداد الکترون کنده شده :

$$n = \frac{q}{e} = \frac{1/64 \times 10^{-8} C}{1/6 \times 10^{-19} C} = 10^{11}$$

۴-۱، ۵-۱ و ۶-۱ میدان الکتریکی، میدان الکتریکی حاصل از یم ذره باردار و خطوط میدان الکتریکی

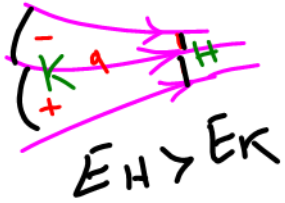
۸- یک ذره باردار را یک بار در نقطه A و بار دیگر در نقطه B قرار می‌دهیم. نیرویی که از طرف میدان الکتریکی بر این ذره باردار در این دو نقطه وارد می‌شود را مقایسه کنید.

جواب: با توجه به رابطه $F = qE$ نیروی الکتریکی در هر دو نقطه یکسان است.



$$E_A = E_B$$

$$F_A = F_B$$



$$E_H > E_K$$

$$F = E q \quad F_H > F_K$$

$$V_H < V_K$$

$U \uparrow$ به زود

$U \downarrow$ خودی

۹- هسته آهن شعاعی در حدود $4/0 \times 10^{-15} \text{ m}$ دارد و تعداد پروتون‌های آن ۲۶ عدد است.

الف) بزرگی نیروی دافعه بین دو پروتون این هسته که به فاصله $4/0 \times 10^{-15} \text{ m}$ از هم قرار دارند چقدر است؟

جواب: بزرگی نیروی دو پروتون از رابطه زیر بدست می آید:

$$F = k \frac{|q_p| |q_p|}{r^2} = 9 \times 10^9 \times \frac{|1/6 \times 10^{-19}| |1/6 \times 10^{-19}|}{(4 \times 10^{-15})^2} = 14/4 \text{ N}$$

ب) اندازه میدان الکتریکی ناشی از هسته در فاصله $1/0 \times 10^{-10} \text{ m}$ از مرکز هسته چقدر است؟

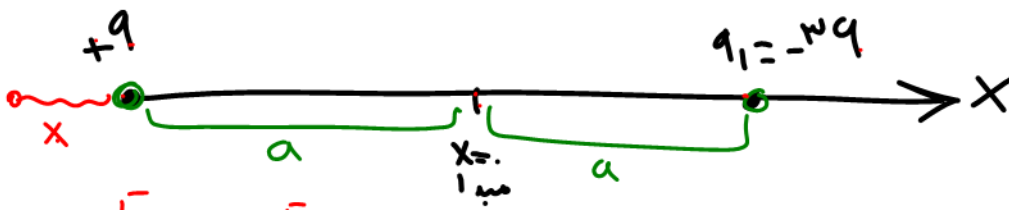
جواب: ۲۶ پروتون داخل هسته است پس بار هسته برابر است با:

$$q_p = ne = 26 \times 1/6 \times 10^{-19} \text{ C} = 41/6 \times 10^{-19} \text{ C}$$

$$E = k \frac{|q|}{r^2} = 9 \times 10^9 \times \frac{41/6 \times 10^{-19}}{(1 \times 10^{-10})^2} = 3/74 \times 10^{12} \text{ N/C}$$

۱۰- شکل زیر، دو ذره باردار را نشان می‌دهد که در جای خود روی محور X ثابت شده‌اند. بارها در فاصله یکسان a از مبدأ مختصات (نقطه 0) قرار دارند.

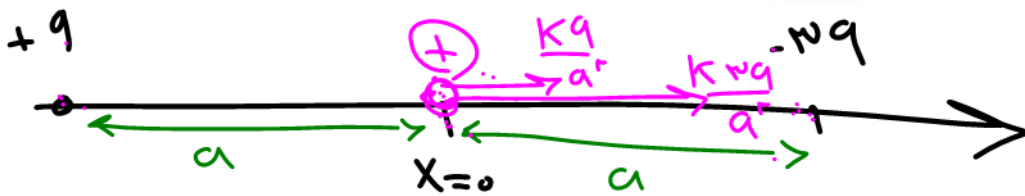
(الف) در کجای این محور (غیر از بی نهایت) نقطه‌ای وجود دارد که در آنجا میدان الکتریکی برابری با صفر است؟



$|q| < |-3q|$
 بار کوچکتر \downarrow بار بزرگتر

$E_1 = E_2$
 $\frac{kq}{x^2} = \frac{k(3q)}{(2a+x)^2}$
 $\frac{1}{x^2} = \frac{3}{(2a+x)^2}$
 $x = \frac{2a}{\sqrt{3}-1}$ $x = 2a$ $x = 2a+x$

(ب) بزرگی و جهت میدان الکتریکی برابری در مبدأ مختصات را بیابید. جواب:



$E_{\Sigma} = E_1 + E_2$
 $\frac{kq}{a^2} + \frac{3kq}{a^2} = \frac{4kq}{a^2}$

۱۱- در یک میدان الکتریکی یکنواخت به بزرگی $5/0 \times 10^5 \text{ N/C}$ که جهت آن قائم و رو به پایین است، ذره بارداری به جرم

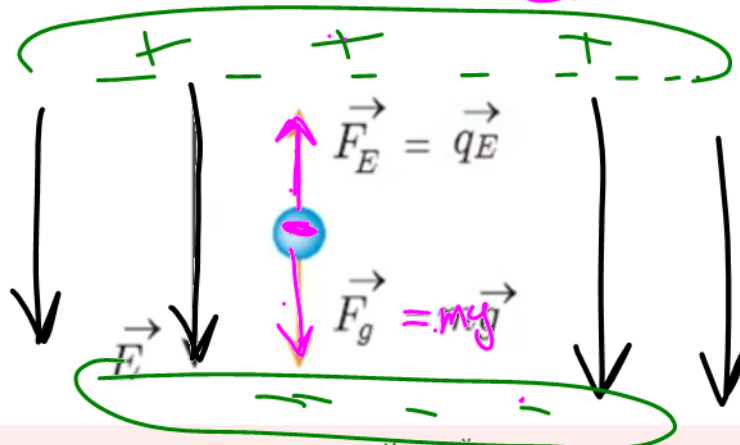
$2/0 \text{ g}$ معلق و به حال سکون قرار دارد. اگر $g = 10 \text{ N/kg}$ باشد، اندازه و نوع بار الکتریکی ذره را مشخص کنید.

جواب: میدان رو به پایین است برای معلق ماندن نیرو رو به بالاست پس بار الکتریکی منفی میباشد. و نیروی وزن و میدان

یکسان است. پس:

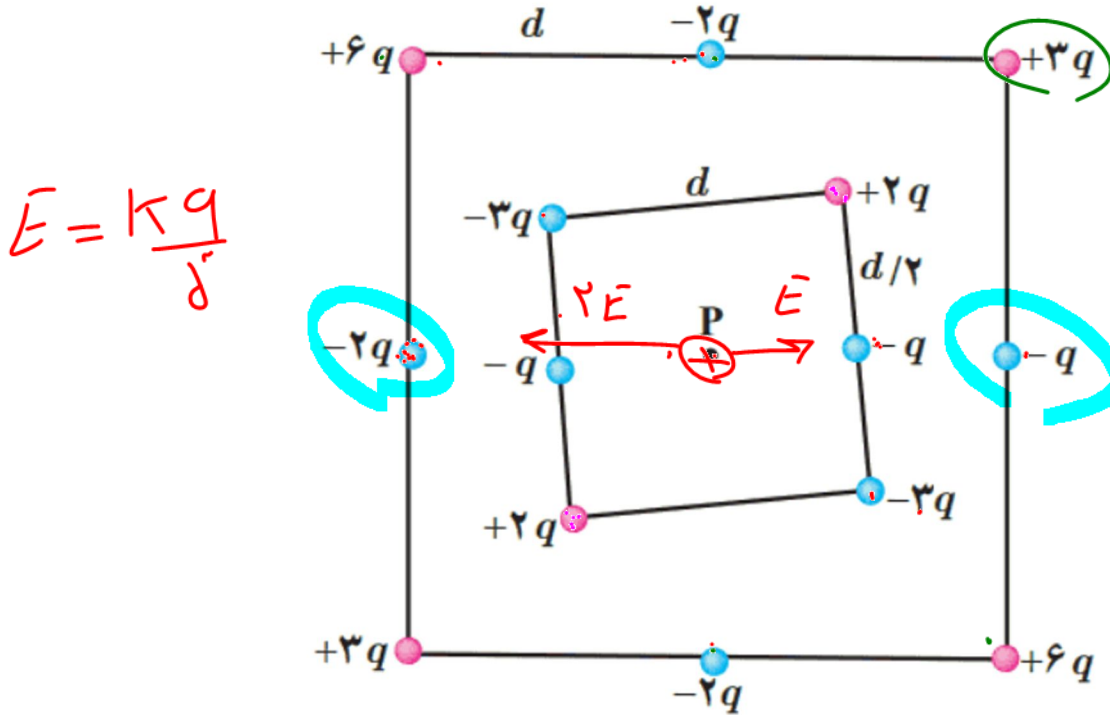
$$Mg = Eq$$

$$(2 \times 10^{-3}) (10) = 5 \times 10^5 \cdot q$$



$$F_E = F_{mg} \Rightarrow qE = mg \Rightarrow q \times 5 \times 10^5 = 2 \times 10^{-3} \times 10 \Rightarrow q = \frac{2 \times 10^{-3}}{5 \times 10^5} = 4 \times 10^{-8} \text{ C}$$

۱۲- شکل زیر دو آرایه مربعی از ذرات باردار را نشان می‌دهد. مربع‌ها که در نقطه P هم مرکزند، همدیگر نیستند. ذره‌ها روی محیط مربع به فاصله d یا d/۲ از هم قرار گرفته‌اند. بزرگی و جهت میدان الکتریکی برآیند در نقطه P چیست؟



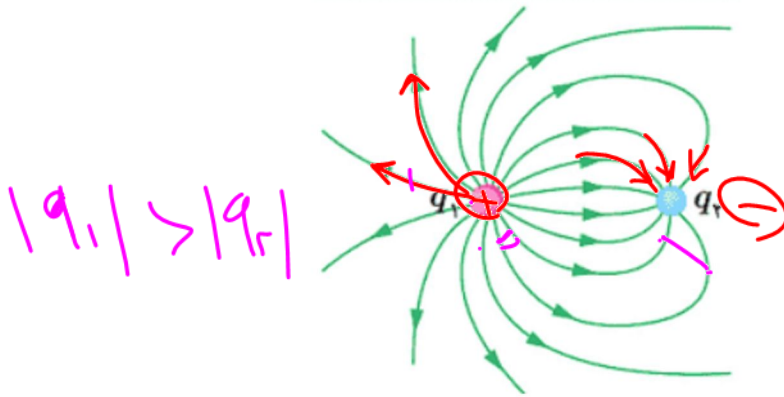
جواب:

$$\left. \begin{aligned} E_1 &= k \frac{|-q|}{d^2} = \frac{kq}{d^2} \rightarrow \vec{E}_1 = \left(\frac{kq}{d^2}\right) \vec{i} \\ E_2 &= k \frac{|-2q|}{d^2} = \frac{2kq}{d^2} \rightarrow \vec{E}_2 = \left(\frac{2kq}{d^2}\right) \vec{i} \end{aligned} \right\}$$

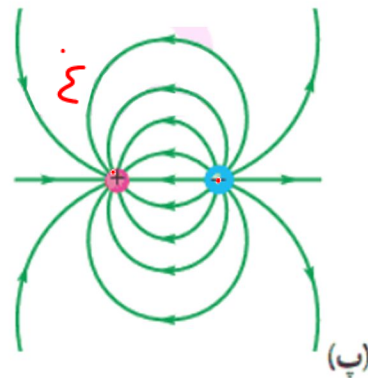
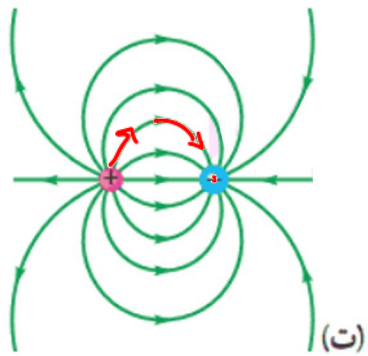
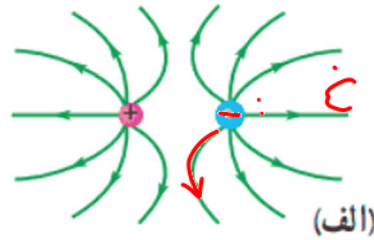
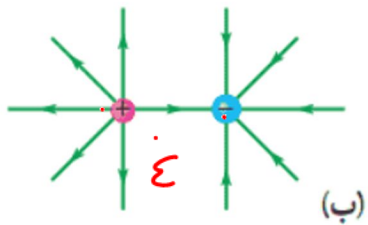
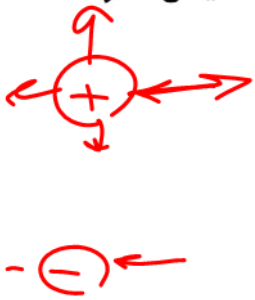
$$\rightarrow \vec{E}_T = \vec{E}_1 + \vec{E}_2 \rightarrow \vec{E}_T = \left(-\frac{kq}{d^2}\right) \vec{i}$$

۱۳- خطوط میدان الکتریکی برای دو کره رسانای باردار کوچک در شکل روبه رو نشان داده شده است. نوع بار هر کره را تعیین کرده و اندازه آنها را مقایسه کنید.

جواب: بار q_1 مثبت است و بار q_2 منفی است. اندازه بار q_1 بیشتر است زیرا خطوط میدان بیشتری در اطراف آن قرار دارد.



۱۴- در شکل‌های زیر، اندازه دو بار، یکسان ولی علامت آنها مخالف هم است. کدام آرایش‌های خطوط میدان نادرست است؟ دلیل آن را توضیح دهید.



(الف) نادرست است خطوط میدان به سمت داخل بار منفی می شود.

(ب) جهت خطوط درست است اما خطوط بین دو بار به طور کامل رسم نشده است.

(پ) نادرست ، جهت خطوط درست رسم نشده است .

(ت) صحیح است .

E

۱۵- دو بار الکتریکی نقطه‌ای غیرهمنام $q_1 = +1.0 \text{ nC}$ و $q_2 = -1.0 \text{ nC}$ مطابق شکل زیر به فاصله 6.0 cm از یکدیگر قرار دارند.

الف) جهت و اندازه میدان الکتریکی را در نقطه‌های O و A به دست آورید. **جواب:** در نقطه O میدانی که هر دو بار ایجاد می‌کنند هم اندازه و هم جهت (به سمت راست) می‌باشد پس میدان خالص جمع میدان‌های ناشی از این دو بار است:

$$E_1 = k \frac{|q_1|}{r^2} \vec{i} = 9 \times 10^9 \times \frac{1 \times 10^{-9}}{(3 \times 10^{-2})^2} \vec{i} = 1 \times 10^4 \text{ N/C } \vec{i}$$

$$E_2 = k \frac{|q_2|}{r^2} \vec{i} = 9 \times 10^9 \times \frac{1 \times 10^{-9}}{(3 \times 10^{-2})^2} \vec{i} = 1 \times 10^4 \text{ N/C } \vec{i}$$

$$E_{\text{کل}} = E_1 + E_2 = 2 \times 10^4 \text{ N/C } \vec{i}$$

در نقطه A جهت میدان الکتریکی بار q_1 به سمت راست و جهت میدان بار q_2 به سمت چپ می‌باشد پس داریم:

$$E_1 = k \frac{|q_1|}{r^2} \vec{i} = 9 \times 10^9 \times \frac{1 \times 10^{-9}}{(9 \times 10^{-2})^2} \vec{i} = 1/9 \times 10^4 \text{ N/C } \vec{i}$$

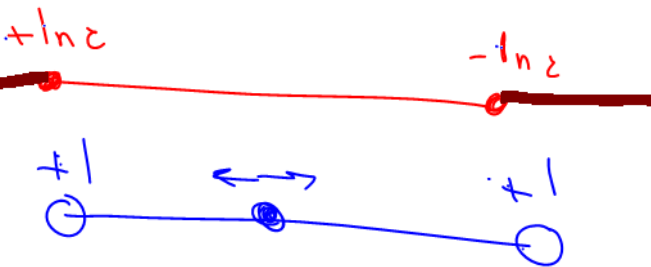
$$E_2 = -k \frac{|q_2|}{r^2} \vec{i} = -9 \times 10^9 \times \frac{1 \times 10^{-9}}{(3 \times 10^{-2})^2} \vec{i} = -1 \times 10^4 \text{ N/C } \vec{i}$$

$$E_{\text{کل}} = E_1 + E_2 = 1/9 \times 10^4 \text{ N/C } \vec{i} - 1 \times 10^4 \text{ N/C } \vec{i} = -8/9 \times 10^4 \text{ N/C } \vec{i}$$

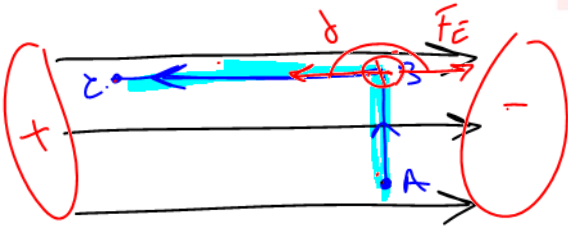
ب) آیا بر روی محور، نقطه‌ای وجود دارد که میدان خالص در آن صفر شود؟

جواب: زمانی میدان خالص صفر می‌شود که اندازه میدان ناشی از هر دو بار هم اندازه و خلاف جهت هم باشند که فقط در وسط دو بار هم اندازه هستند اما در این نقطه هم جهت می‌باشند پس در هیچ کجای خط واصل دو بار میدان الکتریکی خالص صفر نمی‌شود.

۷-۱ و ۸-۱ انرژی پتانسیل الکتریکی و پتانسیل الکتریکی



۱۶- مطابق شکل زیر، بار $q = +5.0 \text{ nC}$ در میدان الکتریکی یکنواخت $8.0 \times 10^5 \text{ N/C}$ نخست از نقطه A تا نقطه B و سپس تا



نقطه C جابه جا می‌کنیم. اگر $AB = 0.20 \text{ m}$ و $BC = 0.40 \text{ m}$ باشد، مطلوب است:

$$F = Eq$$

الف) نیروی الکتریکی وارد بر بار q،

جواب: نیروی الکتریکی در میدان یکنواخت در تمام نقاط یکسان است:

$$F = |q|E = 5.0 \times 10^{-9} \times 8.0 \times 10^5 = 4.0 \times 10^{-2} \text{ N}$$

ب) کاری که نیروی الکتریکی در این جابه جایی انجام می‌دهد،

جواب: در دو مرحله جابجایی صورت می‌گیرد که کار در جابجایی AB به دلیل اینکه عمود بر راستای میدان الکتریکی است صفر

می‌باشد. پس فقط کار میدان الکتریکی در جابجایی BC را بدست می‌آوریم:

$$W_{AB} = Eqd \cos 90^\circ = 0$$

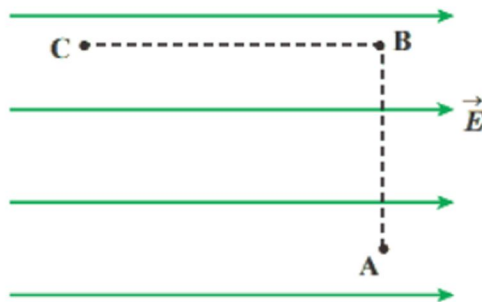
$$W_{BC} = |q|Ed \cos \theta = 4.0 \times 10^{-2} \times \cos 180^\circ = -4.0 \times 10^{-2} \text{ J}$$

پ) تغییر انرژی پتانسیل الکتریکی بار q در این جابه جایی.

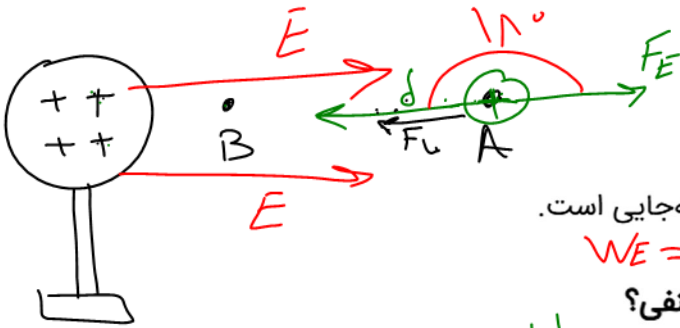
جواب: تغییر انرژی پتانسیل الکتریکی برابر با منفی کار انجام شده است پس

$$\Delta U = -W_{BC} = +4.0 \times 10^{-2} \text{ J}$$

$$\Delta U = -W_{BC} = +4.0 \times 10^{-2} \text{ J}$$



۱۷- در شکل زیر ذره باردار مثبت و کوچکی را از حالت سکون، از نقطه A به سمت کره باردار که روی پایه عایقی قرار دارد، نزدیک می‌کنیم و در نقطه B قرار می‌دهیم.



(الف) در این جابه جایی، کار نیروی الکتریکی مثبت است یا منفی؟

جواب: منفی، زیرا نیروی الکتریکی وارد بر ذره باردار در خلاف جهت جابه‌جایی است.

$$W_E = E \cdot d \cdot \cos 180^\circ = -$$

(ب) کاری که ما در این جابه جایی انجام می‌دهیم مثبت است یا منفی؟

جواب: مثبت، زیرا نیروی ما در جهت جابه‌جایی ذره باردار است.

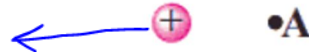
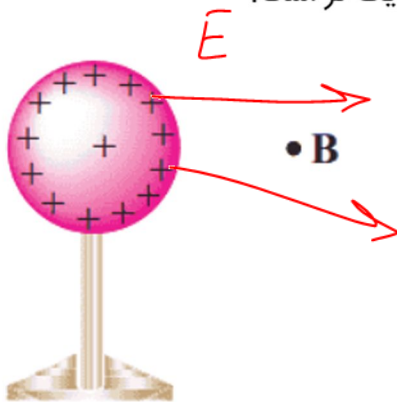
$$W_F = F \cdot d \cdot \cos 0^\circ = +$$

(پ) انرژی پتانسیل ذره باردار در این جابه جایی چگونه تغییر می‌کند؟

جواب: تغییر انرژی پتانسیل الکتریکی برابر با منفی کار نیروی الکتریکی است از آنجایی که کار منفی است پس انرژی پتانسیل الکتریکی افزایش می‌یابد.

(ت) پتانسیل نقطه‌های A و B را با هم مقایسه کنید.

جواب: پتانسیل نقطه B بیشتر است زیرا به کره با بار مثبت نزدیک تر است.



$$V_B > V_A$$

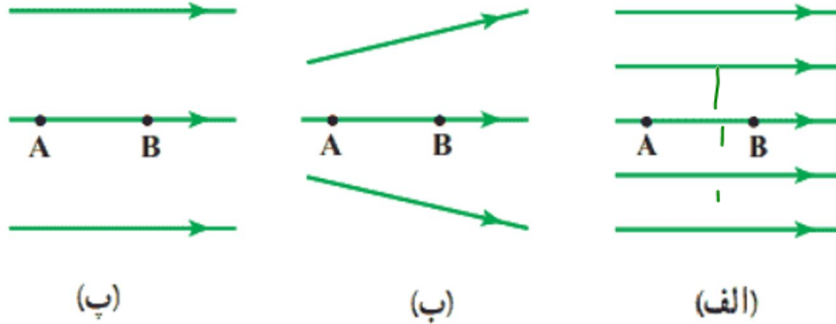


۱۸- شکل زیر سه آرایش خطوط میدان الکتریکی را نشان می‌دهد. در هر آرایش، یک پروتون از حالت سکون در نقطه A رها می‌شود و سپس توسط میدان الکتریکی تا نقطه B شتاب می‌گیرد. نقطه‌های A و B در هر سه آرایش در فاصله‌های یکسانی از هم قرار دارند. در کدام شکل سرعت پروتون در نقطه B بیشتر است؟ توضیح دهید.

$$W_T = \frac{1}{2} m v^2 - \frac{1}{2} m v_i^2$$

$$mgh + E|q|d \cos \alpha + W_{TK}$$

$$E|q|d \cos \alpha = \frac{1}{2} m v^2$$

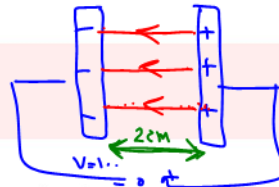


جواب: در قسمت الف بیشتر میشود زیرا نیروی الکتریکی وارد بر ذره توسط میدان بیشتر و قویتر است.

۱۹- دو صفحه رسانا با فاصله ۲/۰۰cm را موازی یکدیگر قرار می‌دهیم و آنها را به اختلاف پتانسیل ۱۰۰V وصل می‌کنیم. در نتیجه، یکی از صفحه‌ها به طور منفی و دیگری به طور مثبت باردار می‌شوند و میان دو صفحه میدان الکتریکی یکنواختی به وجود می‌آید. اندازه این میدان الکتریکی را حساب کنید و با توجه به جهت خطوط میدان الکتریکی در فضای بین دو صفحه توضیح دهید که کدام یک از دو صفحه پتانسیل الکتریکی بیشتری دارند.

جواب: میدان الکتریکی دو صفحه رسانا (خازن) از رابطه زیر بدست می‌آید :

$$E = \frac{V}{d} = \frac{100V}{0.02m} = 5000 N/C$$



چون جهت خطوط میدان از صفحه مثبت به منفی است و با حرکت در جهت میدان، پتانسیل الکتریکی کاهش می‌یابد، بنابراین صفحه با بار مثبت پتانسیل بیشتری دارد.

۲۰- بار الکتریکی $q = -4.0 \text{ nC}$ از نقطه‌ای با پتانسیل الکتریکی $V_1 = -40$ تا نقطه‌ای با پتانسیل $V_2 = -10$ آزادانه جابه‌جا می‌شود.

الف) انرژی پتانسیل الکتریکی بار q چه اندازه و چگونه تغییر می‌کند؟ **جواب به روش اول:**

$$\Delta V = V_2 - V_1 = \frac{\Delta U_E}{q} \rightarrow \Delta U_E = q\Delta V = -4.0 \times 10^{-9}(-10 - (-40)) = -1.2 \times 10^{-6} \text{ J}$$

(Handwritten notes: $-10 - (-40)$ with arrows pointing to -10 and -40 ; -4.0×10^{-9} with an arrow pointing to the coefficient)

انرژی پتانسیل الکتریکی $1.2 \times 10^{-6} \text{ J}$ کاهش می‌یابد.

$$W_0 = \frac{\Delta U}{-4.0 \times 10^{-9}} \rightarrow \Delta U = 1.2 \times 10^{-6} = -1.2 \times 10^{-6}$$

جواب به روش دوم:

$$\Delta U = q(V_2 - V_1)$$

$$\Delta U = -4.0 \times 10^{-9}(-10 + 40)$$

$$\Delta U = -1.2 \times 10^{-6} \text{ J}$$

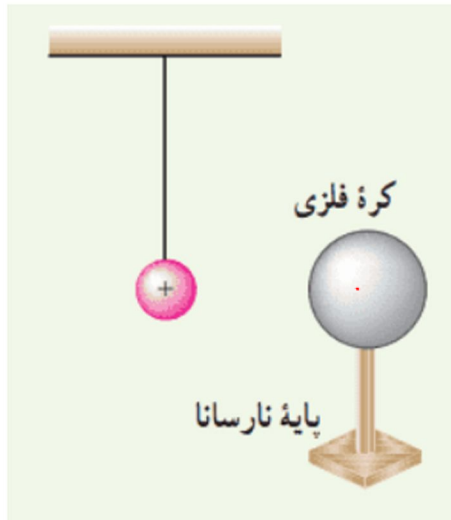
چون تغییرات انرژی پتانسیل بار منفی است پس انرژی پتانسیل الکتریکی آن کاهش یافته است.

ب) با توجه به قانون پایستگی انرژی، در مورد چگونگی تبدیل انرژی بار q در این جابه‌جایی توضیح دهید.

جواب: در اینجا انرژی پتانسیل ذخیره شده در بار الکتریکی به انرژی جنبشی تبدیل می‌شود و سرعت می‌گیرد.

۹-۱ میدان الکتریکی در داخل رساناها

۲۱- یک کره فلزی بدون بار الکتریکی را که روی پایه نارسانایی قرار دارد، به آونگ الکتریکی بارداری نزدیک می‌کنیم. با ذکر دلیل توضیح دهید که چه اتفاقی می‌افتد.



جواب: در اثر نزدیک شدن به آونگ بار مثبت، بارهای منفی به سمت آونگ متمایل می‌شوند (مانند شکل زیر) و چون بارهای ناهم نام به هم نزدیک میشوند آونگ جذب کره می‌گردد.

۲۲- یک صفحه پلاستیکی باردار (تلق یا ورق باردار) را به براده‌های ریز آلومینیمی بدون بار نزدیک می‌کنیم. مشاهده می‌شود که براده‌ها به طرف صفحه پلاستیکی، جذب می‌شوند. علت این پدیده را توضیح دهید.
با نزدیک کردن صفحه‌ی پلاستیکی به براده‌ها در صفحه پلاستیکی و براده‌ها القا صورت می‌گیرد و در نتیجه‌ی القا براده‌ها جذب صفحه‌ی پلاستیکی میشوند.

۲۳- وقتی ماهواره‌ای به دور زمین می‌چرخد بر اثر عبور از فضای اطراف زمین باردار می‌شود. این بارها ممکن است موجب آسیب رساندن به قطعات الکترونیکی ماهواره شود. فرض کنید ماهواره‌ای در اثر عبور از یکی از لایه‌های جو دارای بار الکتریکی $q = 2/0 \times 10^{-9} \text{C}$ شود. این ماهواره، مکعبی به ضلع 40cm است. چگالی سطحی بار الکتریکی روی سطح این ماهواره را محاسبه کنید. (از تجمع بار بر روی لبه‌ها چشم پوشی شود).

$$A = 6 \times (0/4)^2 = 0/96$$

$$\sigma = \frac{Q}{A} = \frac{2 \times 10^{-9}}{96 \times 10^{-2}} \approx 0/02 \times 10^{-7} = 2 \times 10^{-9} \frac{\text{C}}{\text{m}^2}$$

$$\sigma = \frac{q}{A} \rightarrow 6 \times (0/4)^2$$

۱۰-۱ خازن

۲۴- اگر ساختمان یک خازن را تغییر ندهیم، در هر یک از شرایط زیر ظرفیت خازن چگونه تغییر می‌کند؟

الف) بار آن دو برابر شود.

ب) اختلاف پتانسیل میان صفحه‌های آن سه برابر شود.

جواب: ظرفیت خازن فقط وابسته به ساختمان آن می‌باشد پس در هر دو حالت الف و ب ظرفیت خازن تغییری نمی‌کند.

$$C = \frac{q}{V}$$

$$C = \frac{\kappa \epsilon_0 A}{d}$$

$$\Delta q = 15 \times 10^{-6} \text{ C}$$

$$\Delta V = 40 - 28 = 12$$

۲۵- اختلاف پتانسیل بین دو صفحه یک خازن را از ۲۸ ولت به ۴۰ ولت افزایش می‌دهیم. اگر با این کار ۱۵ میکروکولن بر بار ذخیره شده در خازن افزوده شود، ظرفیت خازن را حساب کنید.

جواب به روش اول:

$$C = \frac{\Delta q}{\Delta V} = \frac{15 \times 10^{-6}}{12} \text{ F}$$

$$V_1 = 28 \text{ V}$$

$$V_2 = 40 \text{ V}$$

$$\Delta q = 15 \mu\text{C}$$

$$C = ?$$

$$C = \frac{15}{(40 - 28)} = \frac{15}{12} \mu\text{F}$$

$$C = 1/25 \mu\text{F}$$

جواب به روش دوم:

در حالت اول ظرفیت خازن C_1 اختلاف پتانسیل $V_1 = 28$ بار اولیه Q_1 می باشد، با تغییر بار و ولتاژ، میزان ظرفیت خازن تغییر نمی کند

$$\Delta Q = C \Delta V = C(V_2 - V_1)$$

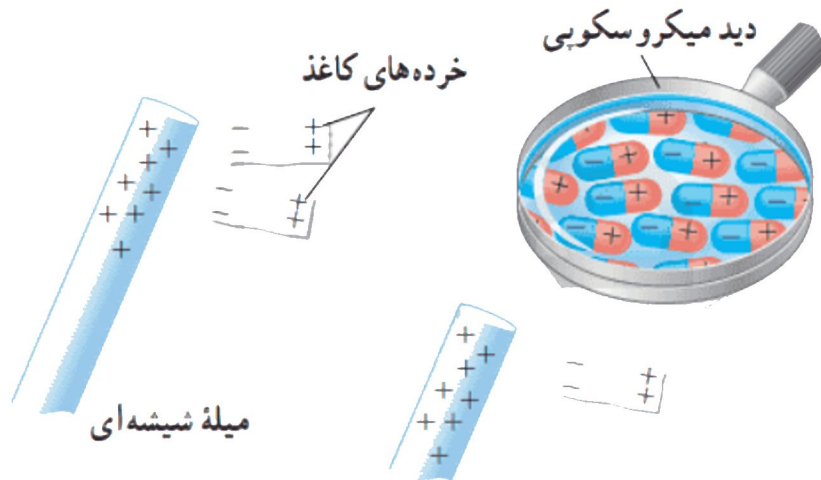
$$C = \frac{\Delta Q}{V_2 - V_1} = \frac{15 \times 10^{-6} \text{ C}}{40 \text{ V} - 28 \text{ V}} = 1/25 \times 10^{-6} \text{ F} \approx \mu\text{F}$$

۱۱-۱ خازن با دی الکتریک

۲۶- بادکنک باردار شکل زیر را به آب نزدیک کرده‌ایم. توضیح دهید چرا آب به جای اینکه به طور قائم فرو ریزد، خمیده می‌شود؟

جواب: یک سر مولکول‌های قطبی آب که باری مخالف بار بادکنک دارند به سمت بادکنک کشیده شده و سبب انحراف مسیر آب می‌شوند.

۲۷- با توجه به شکل زیر توضیح دهید چرا یک میله باردار، خرده‌های کاغذ را می‌رباید؟



جواب: میله باردار باعث القای بار مخالف در یک سمت خرده‌های کاغذ شده و جاذبه بین بارهای ناهمنام سبب اتصال خرده‌های کاغذ به میله باردار می‌شود.

۲۸- ظرفیت یک خازن تخت با فاصله صفحات $1/0\text{mm}$ که بین صفحه‌های آن هوا قرار دارد، برابر $1/0\text{F}$ است. مساحت صفحه‌های این خازن چقدر است؟ از این مسئله چه نتیجه‌ای می‌گیرید؟

جواب به روش اول:

با استفاده از رابطه ظرفیت خازن :

$$C = \epsilon \cdot \frac{A}{d} \rightarrow A = \frac{Cd}{\epsilon} = \frac{1 \times 1 \times 10^{-3}}{8/85 \times 10^{-12}} = 1/12 \times 10^9 \text{m}^2$$

می‌بینیم که برای تهیه خازنی با ظرفیت یک فاراد باید صفحه‌هایی به مساحت صد میلیون متر مربع فراهم کرد ، در نتیجه در می‌یابیم که یک فاراد (ظرفیت خازن) واحد بسیار بزرگی است.

جواب به روش دوم:

$$\begin{cases} d = 1 \times 10^{-3} \text{m} \\ C = 1\text{F} \\ \kappa = 1 \\ A = ? \\ \epsilon = 8/85 \times 10^{-12} \frac{\text{F}}{\text{m}} \end{cases} \quad C = \kappa \epsilon \cdot \frac{A}{d}$$

$$A = \frac{Cd}{\kappa \epsilon} = \frac{1 \times 10^{-3}}{1 \times 8/85 \times 10^{-12}}$$

$$A = 1/1 \times 10^9 \text{m}^2$$

از حل این مسئله نتیجه می‌گیریم که برای ساخت چنین خازنی نیاز به صفحاتی با مساحت بسیار زیاد داریم که عملاً امکان پذیر نمی‌باشد.

$$\epsilon = k \epsilon_0 \frac{A}{2d}$$

۲۹- یک خازن تخت به یک باتری بسته شده است تا بردار شود. پس از مدتی، درحالی که باتری همچنان به خازن

متصل است، فاصله بین صفحه‌های خازن را دو برابر می‌کنیم. کدام یک از موارد زیر درست است؟

- $\frac{1}{2}$ C
- ثابت V
- $\frac{1}{2}$ q
- $\frac{1}{2}$ U

الف) میدان الکتریکی میان صفحه‌ها نصف می‌شود.

جواب: با توجه به رابطه $E = \frac{V}{d}$ چون ولتاژ خازن به باتری متصل است و ولتاژ ثابت است و با دو برابر شده فاصله، میدان نصف

$$E = \frac{V}{2d}$$

می‌شود.

ب) اختلاف پتانسیل میان صفحه‌ها نصف می‌شود.

جواب: نادرست

اختلاف پتانسیل میان صفحه‌ها تغییر نمی‌کند زیرا همچنان به باتری متصل است و اختلاف پتانسیل خازن همان اختلاف پتانسیل باتری می‌باشد

پ) ظرفیت خازن دو برابر می‌شود.

جواب: نادرست،

با توجه به رابطه $C = \epsilon \frac{A}{d}$ با دو برابر شدن d ظرفیت خازن نصف می‌شود.

ت) بار روی صفحه‌ها تغییر نمی‌کند.

جواب: نادرست،

با توجه به رابطه $C = \frac{Q}{V}$ چون C نصف شده و V ثابت است پس Q باید نصف شود تا رابطه درست باشد.

۳۰- مساحت هر یک از صفحه‌های خازن تختی، $1/00\text{m}^2$ و فاصله دو صفحه از هم $0/500\text{mm}$ است. عایقی با ثابت دی‌الکتریک $4/9$ بین دو صفحه قرار داده شده است. ظرفیت خازن را تعیین کنید.

$$\begin{cases} A = 1\text{m}^2 \\ d = 0/5 \times 10^{-3}\text{m} \\ \kappa = 4/9 \\ C = ? \\ \epsilon_0 = 8/85 \times 10^{-12} \frac{\text{F}}{\text{m}} \end{cases}$$

$$C = \kappa \frac{A\epsilon_0}{d}$$

$\rightarrow 8/85 \times 10^{-12}$
 $\rightarrow 1/5 \times 10^{-3}$

$$C = 4/9 \times 8/85 \times 10^{-12} \times \frac{1}{0/5 \times 10^{-3}}$$

$$C = 86/7 \times 10^{-9}\text{F} = 86/7\text{nF}$$

۱۲-۱ انرژی خازن

۳۱- دو صفحه خازن تخت بارداری را به هم وصل می‌کنیم. در نتیجه جرقه‌ای زده می‌شود. حال اگر دوباره صفحات را به همان اندازه باردار کنیم ولی فاصله آنها را دو برابر کنیم و سپس دو صفحه را به هم وصل کنیم، آیا جرقه حاصل بزرگ‌تر از قبل می‌شود، یا کوچک‌تر و یا تغییری نمی‌کند؟ توضیح دهید.

جواب: هر قدر انرژی ذخیره شده در خازن بیشتر باشد، در زمان اتصال صفحات جرقه بزرگ‌تری پدید می‌آید. اگر فاصله صفحات

را دو برابر کنیم ظرفیت خازن نصف می‌شود. با توجه به رابطه $U = \frac{1}{2} \frac{Q^2}{C}$ و ثابت بودن بار روی صفحات (Q) انرژی ذخیره

$$C = \kappa \epsilon_0 \frac{A}{2d} = \frac{1}{2} C$$

شده در خازن دو برابر می‌شود. بنابراین در زمان اتصال صفحات جرقه بزرگ‌تری پدید می‌آید.

$$U = \frac{Q^2}{2C}$$

ثابت Q

$$C = \kappa \epsilon_0 \frac{A}{d}$$

پس انرژی جرقه

چون (Q) ثابت است:

جواب به روش دوم: میدانیم

بیشتر میشود.

۳۲- ظرفیت خازن تختی 20 nF و بار الکتریکی ذخیره شده در آن 180 nC است:

الف) انرژی ذخیره شده در این خازن چقدر است؟

$$U = \frac{1}{2} \times \frac{q^2}{C} = \frac{1}{2} \times \frac{(180 \times 10^{-9})^2}{20 \times 10^{-9}} = 8.1 \times 10^{-7} \text{ J}$$

جواب به روش دوم:

$$U = \frac{q^2}{2C} = \frac{180 \times 180 \times 10^{-18}}{2 \times 20 \times 10^{-9}} = 8.1 \times 10^{-7} \text{ J}$$

ب) بین صفحات خازن هواست. خازن را از باتری جدا و بین صفحه های آن را دو برابر میکنیم. انرژی ذخیره شده در

خازن چقدر افزایش مییابد؟

نکته 1- باتری را از خازن جدا کرده ایم بنابراین بار خازن ثابت می ماند. نکته

2- فاصله ی صفحات خازن را دو برابر کرده ایم بنابراین ظرفیت خازن در حالت دوم نصف می شود.

$$q_1 = q_2 = 180\text{ nC} \quad C_2 = 10\text{ nF}$$

بنابراین داریم:

$$\text{در صفحه اول} \left\{ U_1 = \frac{1}{2} \frac{q_1^2}{C_1} \rightarrow U_1 = \frac{1}{2} \times \frac{(180\text{ nC})^2}{20\text{ nF}} = \frac{1}{2} \times \frac{180\text{ nC} \times 180\text{ nC}}{20\text{ nF}} = 810\text{ nJ}$$

$$\text{حالت جدید} \left\{ \frac{1}{2} \frac{q_2^2}{C_2} \rightarrow U_2 = \frac{1}{2} \times \frac{(180\text{ nC})^2}{10\text{ nF}} = \frac{1}{2} \times \frac{180\text{ nC} \times 180\text{ nC}}{10\text{ nF}} = 1620\text{ nJ}$$

$$U_2 - U_1 = 1620 - 810 = +810\text{ nJ}$$

سوال در چاپ جدید حذف شده: ظرفیت خازنی 12 میکروفاراد و بار الکتریکی آن q است. اگر $3/0\text{ mC}$ بار الکتریکی را از صفحه منفی جدا کرده و به صفحه مثبت منتقل کنیم، انرژی ذخیره شده در خازن به اندازه $8/0$ زیاد می شود. q را محاسبه کنید.

جواب:

$$\Delta U = \frac{Q^2}{2C} \Rightarrow$$

$$\Delta U = \frac{((q + 3) \times 10^{-3})^2}{2C} - \frac{(q \times 10^{-3})^2}{2C} = \frac{(q^2 + 6q + 9 - q^2) \times 10^{-6}}{2C} = 8$$

$$\Rightarrow \frac{(6q + 9)}{2C} \times 10^{-6} = 8 \Rightarrow$$

$$6q + 9 = 2C \times 10^{-6} \times 8 = 16C \times 10^{-6} = 16 \times 12 \times 10^{-6} \times 10^6 = 192$$

$$\Rightarrow 6q = 183 \Rightarrow q = 30.5$$